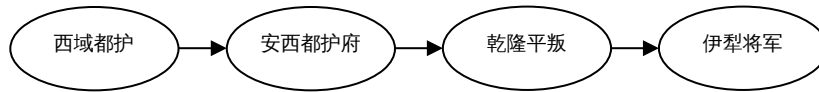


2010 全国中考整理选择题部分——中国古代史


1. 【2010 安徽中考】文物是鲜活的历史。下列文物中最能反映商朝社会生活的是……
 ……………【 】



- A. 兵马俑 B. 司母戊鼎 C. 竹木简 D. 青花瓷
2. 【2010 安徽中考】电视剧《三国》的热播引起了人们对曹操的关注。下列与曹操有关的史实是……【 】
- ① 招贤纳士 ② 官渡之战 ③ 赤壁之战 ④ 自立为帝
- A. ①②③ B. ①③④ C. ①②④ D. ②③④
3. 【2010 安徽中考】我国历史重视对边疆地区的有效管辖。依据下列管辖措施判断该边疆地区应是…【 】



- A. 台湾 B. 东北 C. 西藏 D. 新疆
4. 【2010 芜湖】据考证，“南海 1 号”古沉船是一艘明代晚期的商船，船上发现了大量当时瓷窑烧制的瓷器，其中最容易找到的瓷器应该是
- A. 越窑的青瓷 B. 邢窑的白瓷
- C. 哥窑的冰裂纹瓷器 D. 景德镇的青花瓷
5. 【2010 芜湖】一位旅游者在内蒙古呼和浩特市郊区纪念地拍摄了一幅纪念雕像（如右图）。你认为雕像中的两位人物是
- A. 冒顿单于，王昭君
- B. 呼韩邪单于，王昭君
- C. 汉元帝，王昭君
- D. 冒顿单于，吕后
6. 【2010 福州中考】小榕参加旅行社组织的“昙石山遗址博物馆 + 采草莓一日游”，在馆中他感受到浓厚的



- A. 长江流域文化色彩 B. 闽文化色彩
- C. 黄河流域文化色彩 D. 珠江流域文化色彩
7. 【2010 福州中考】战国时期有一户人家：老大因作战有功获得爵位，老二在家勤于耕作免除徭役，老三则被国君派往小县为吏。据此判断这户人家最有可能生活在
- A. 齐国 B. 楚国 C. 燕国 D. 秦国
8. 【2010 福州中考】中国经济重心南移是一个漫长的历史过程，最后完成于
- A. 东晋 B. 隋朝 C. 南宋 D. 明朝
9. 【2010 福州中考】弗兰西斯·培根说：“这三种东西改变了整个世界的面貌和状态，第

一种是在文字方面，第二种是在战争上，第三种是在航海上。”这里的“第三种”指

A. 指南针 B. 造纸术 C. 印刷术 D. 火药


10. 【2010 龙岩中考】汉朝时，派使臣出使大秦，他从长安出发，沿丝绸之路西行，先后要经过的地点是

① 今新疆境内 ② 河西走廊 ③ 西亚 ④ 大秦
A. ①②③④ B. ②①③④ C. ①②④③ D. ②①④③

11. 【2010 龙岩中考】史书记载“水激轮转，众筒兜水，次底下倾于岸上……以灌稻田，日夜不息，绝胜人

力。”如右图，这种提水灌溉工具最早出现于

A. 东汉
B. 曹魏
C. 唐朝
D. 北宋



12. 【2010 龙岩中考】与郑和一起出使西洋的著名的闽西籍航海家是

A. 王景弘 B. 张騫 C. 郑成功 D. 文天祥

13. 【2010 东莞中考】诸侯争霸是春秋时期的时代特征。最早“霸诸侯，一匡天下”的是

A. 齐桓公 B. 晋文公 C. 秦穆公 D. 楚庄王

14. 【2010 东莞中考】战国时期，各诸侯国竞相改革成为时代风潮。推动这一风潮出现的根本原因是

A. 铁器 B. 个体小农的出现 C. 百家争鸣的影响 D. 新兴地主阶级的推动

15. 【2010 东莞中考】《论语》是大思想家孔子的语录，宋代宰相赵普有“半部论语治天下”之说。孔子思想的核心主张是

A. “仁”和“礼” B. “因材施教” C. “为政以德” D. “有教无类”

16. 【2010 东莞中考】春秋战国时期出现了百家争鸣的局面，不同政治派别对各种问题提出不同的见解。在治理国家方面，道家的主张是

A. 以“礼”治国 B. 以“法”治国 C. “兼爱”“非攻” D. “无为而治”

17. 【2010 东莞中考】公元前 230 年——前 221 年，秦王采用远交近攻策略“扫六合”。秦王最后“扫”的是

A. 楚国 B. 燕国 C. 齐国 D. 魏国

18. 【2010 东莞中考】毛泽东有诗云：“劝君少骂秦始皇……百代犹行秦法政。”“秦法政”不包括

A. 分封制 B. 中央集权制 C. 郡县制 D. 皇帝制

19. 【2010 东莞中考】唐元和年间（806 年——820 年），主管财政的宰相奏请减少内外官俸，诏书下达后被大臣崔祐驳回，皇帝最终采纳了崔祐的意见。崔祐所属的机构是

A. 中书省 B. 门下省 C. 尚书省 D. 吏部

19. 【2010 东莞中考】王谔在《唐语林》中写到“开元初，上留心理道，革去弊讹，不六七年，天下大理。河清海晏，物殷俗阜”。“留心理道”的皇帝是

A. 唐高祖 B. 唐太宗 C. 唐中宗 D. 唐玄宗

20. 【2010 东莞中考】郑和下西洋是世界航海史上的壮举。关于这一壮举的历史意义说法正确的是

A. 一种民间经济文化友好交流 B. 使明朝获得良好经济效益

C. 加强了明朝与亚非国家往来 D. 促进了明朝手工业的发展

21. 【2010 东莞中考】从明太祖朱元璋废除宰相到清雍正帝设置军机处，所反映出的历史

发展趋势是

A. 社会秩序动荡 B. 边疆防御巩固 C. 军政实现合一 **D. 皇权高度膨胀**

22、【2010 广东中考省题】下列最能够体现河姆渡原始农耕文化成就的是

A. 粟的种植 **B. 水稻的种植** C. 玉米的种植 D. 小麦的种植

23、【2010 广东中考省题】在历史课上，同学们畅所欲言，内容涉及：立木为信、国家承认土地私有和奖励耕战等。据此判断同学们所谈论的是

A. 商鞅变法 B. 北魏孝文帝改革 C. 贞观之治 D. 开元盛世

24、【2010 广东中考省题】2010 年是中印建交 60 周年。早在唐代，就有一位杰出的历史人物为中印两国的文化交流作出了重大贡献。他是

A. 鉴真 B. 张骞 **C. 玄奘** D. 郑和

25、【2010 广东中考省题】有西方学者认为“近代世界赖以建立的种种发明与发现可能有一半来源于中国。”古代中国为西方国家开辟新航路提供重要条件的发明是

A. 指南针 B. 火药 C. 造纸术 D. 活字印刷术

26、【2010 广东中考省题】从文物中获取信息是我们学习历史的方法之一。当我们研究中国古代中央政府与少数民族地区关系时，可以从下列哪件文物中获得有效信息



A. 司母戊鼎 B. 开元通宝钱 C. 锦衣卫印 **D. 金奔巴瓶**

27. 某中外学生交流团游览北京。如果你以导游身份讲解当地名胜古迹，正确的讲解是

- ① 隋朝大运河北抵涿郡，是贯通南北的大动脉
- ② 北京故宫是我国现存规模最大、最完整的古建筑群
- ③ 万里长城是世界建筑史上的一个奇迹
- ④ 北京大学是创办于洋务运动时期的一所百年名校

A. ①②③ B. ②③④ C. ①③④ D. ①②④

28.【2010 汕头中考】孔子是我国古代伟大的教育家。他对教育作出的重要贡献之一是 (C)

- A. 主张“为政以德” B. 按出身贵贱招收门徒
- C. 主张“因材施教”** D. 以《论语》作为教材

29.【2010 汕头中考】秦灭六国后，统一了度量衡。右图是秦朝测量重量的工具之一“秦权”，

他上面文字的文体是 (B)

- A. 大篆 B. 小篆 C. 楷书 D. 行书

30.【2010 汕头中考】“贞观之治”为唐朝的强盛奠定了坚实的基础。下面有关“贞观之治”

出现的原因的叙述，不正确的是 (D)

- A. 重视纳谏 B. 吸取隋亡教训
- C. 轻徭薄赋 D. 任用姚崇为相



31.【2010 汕头中考】唐玄宗统治前期，唐朝进入全盛时期，史称“开元盛世”。如果你生活在当时，可以看到 (D)

- ① 各种肤色的外国人在长安城内经商 ②农民用曲辕犁在农田里耕地
 ③ 农民在长安的坊里出售农产品 ④筒车不分昼夜地灌溉田地
 A.①③④ B.①②③ C.②③④ D.①②④

32.【2010 汕头中考】北宋统治者衣饰由开国初期的简约朴素，转变为后来的精丽华丽。导致这一转变的主要原因是 (B)

- A.北方少数民族的影响 B.奢侈之风的盛行
 C.市民阶层的不断壮大 D.大众审美观的变化

33.【2010 河南省中考】安阳历史悠久，文化遗存丰富。关于下列图片的表述，不正确的一项是【 】



图一：司母戊鼎 图二：甲骨文 图三：殷墟宫殿复原图

- A. 图一反映了商朝的冶铁业十分发达
 B. 图二说明商朝已有了比较成熟的文字
 C. 图三表明安阳曾经是商朝统治的中心
 D. 上述三幅图支持了安阳是我国著名古都的观点

34.【2010 河南省中考】鸦片战争前，一位中国文人这样描述西方人：“他们的长腿不能弯曲，因而他们不能奔跑和跳跃；他们碧蓝的眼睛畏惧阳光，甚至在中午不敢睁开。”就连林则徐也相信“只要断绝了对西方人茶叶和大黄的供应，他们就会因为消化不良而死”。造成这种认识的根源是【 】

- A. 中西方文化差异 B. 长期实行的闭关政策
 C. 中西方人种差异 D. 中国文人的偏见

35.【2010 黄冈中考】中华文明源远流长，绵延不止，成就辉煌，有文字可考的历史从_____开始的。

- A. 夏朝 B. 商朝 C. 西周 D. 战国

36.【2010 黄冈中考】在 2010 年的上海世博会上，中国馆内有一幅巨大的电子屏幕，显示的是北宋画家的《清明上河图》。利用高新技术使画中的景物动起来，再现北宋首都汴京的繁华景象。其作品原作者是

- A. 赵孟頫 B. 吴道子 C. 阎立本 D. 张择端

37.【2010 黄冈中考】1905 年清政府宣布废除科举考试，至此，历经 1300 多年的科举制度终于退出了历史舞台。科举制逐渐完善于

- A. 隋朝 B. 唐朝 C. 宋朝 D. 明朝

38.【2010 十郾中考】战国时期是中国古代大变革时期，秦国进行了以“以法治国”为主要特征的商鞅变法，下面商鞅的言论和采取的主要措施中最能体现“以法治国”思想的是

- A. 建立县制 B. 鼓励农民开垦荒地
 C. “法之不行，自上犯之” D. “治国不一道，便国不法古”

39.【2010 十郾中考】今年，中央政府采取一系列措施加快新疆的建设和发展步伐。早在西汉时期，中央政府就设置官员管辖新疆，其最高军政长官名称为

- A. 西域都护 B. 安西都护 C. 北庭都护 D. 伊利将军

40.【2010 十郾中考】我国由隋代开创直至清末才被废除的通过考试选拔官员的制度是

- A. 禅让制 B. 世袭制 C. 科举制 D. 推举制

41. 【2010 襄樊中考】《论语》中所记载的是我国古代思想家_____的言论。
A. 孔子 B. 老子 C. 韩非子 D. 董仲舒
42. 【2010 襄樊中考】我国四的大发明中在北宋时候发明的是
A. 造纸术和火药 B. 指南针和造纸术
C. 指南针和火药 D. 活字印刷术和指南针
43. 【2010 襄樊中考】光耀千古的唐朝文化，最为光彩夺目的是
A. 词 B. 小说 C. 诗歌 D. 戏剧
44. 【2010 长沙中考】今年是中国与印度建交 60 周年。中印交流源远流长，唐朝时期玄奘西游为中印文化交流作出了巨大贡献。下列说法表述正确的是
A. 唐朝时称印度为波斯
B. 玄奘游学的大昭寺是印度佛学的最高学府
C. 玄奘回国后，佛教开始传入中国
D. 玄奘以亲身见闻写成的《大唐西域记》成为研究中亚、印度半岛以及我国新疆地区历史和佛学的重要典籍
45. 【2010 长沙中考】下列哪几项措施有利于我国古代封建专制主义中央集权的加强
①西周行分封制 ②汉武帝“罢黜百家，独尊儒术”
③明朝设厂卫特务机构 ④清朝设军机处
A. ①②③④ B. ②③④ C. ①③④ D. ①②
46. 【2010 娄底中考】某外国朋友想考察我国境内最早的人类遗址，他应该去
A. 云南元谋 B. 浙江河姆渡 C. 北京周口店 D. 湖南道县
47. 【2010 娄底中考】被鲁迅称之为“史家之绝唱，无韵之离骚”的我国第一部纪传体通史著作是



A B C D

48. 【2010 娄底中考】秦朝是我国历史上第一个统一的多民族的中央集权国家，下列史实与其不符的是
A. 推行郡县制 B. 罢黜百家 C. 修筑长城 D. 统一文字
49. 【2010 娄底中考】七年级（一）班本月负责学校文化长廊的黑板报设计，他们选定的主题是“唐代的中外交往”，并拟定了如下四个标题，请你帮他们指出哪一项是不恰当的
A. 文成公主与松赞干布成亲 B. 鉴真东渡宣扬中国文化
C. 玄奘西游天竺取经 D. 日本派遣唐使来华
50. 【2010 娄底中考】学习宋元历史后，某班四位同学作了如下主题演讲，你认为能准确概括这段历史的基本特征的是
A. 国家产生和社会变革 B. 政权分立和民族融合
C. 繁荣与开放的社会 D. 经济重心的南移和民族关系的发展
51. 【2010 娄底中考】“封侯非我意，但愿海波平”表明了他为驱逐倭患，保卫海防，拯救百姓于水火，而并非追求个人功名的崇高品质。文中的“他”是
A. 戚继光 B. 郑和 C. 郑成功 D. 岳飞

52. 【2010 邵阳中考】我国境内已知的最早人类是 ()

A.元谋人 B.北京人 C.半坡人 D.河姆渡人

53. 【2010 邵阳中考】张仲景被后人尊称为 ()

A.“画圣” B.“书圣” C.“诗圣” D.“医圣”

54. 【2010 邵阳中考】下列关于科举制的说法中，正确的是 ()

A.开创于唐初，废除于清末 B.通过分科考试选拔官员的制度
C.毫无公平公正性可言 D.看重门第，不利于选拔人才

55. 【2010 邵阳中考】藏族的祖先是 ()

A.吐蕃 B.契丹 C.女真 D.党项

56. 【2010 邵阳中考】下列选项中，不符合史实的是 ()

A.战国时期修建的都江堰，至今仍发挥着巨大的作用
B.汉朝时，我国就有了纸币——交子
C.北方人民多次大规模的南迁，极大地推动了我国古代经济重心的南移
D.我国古代统治者大多强调以农为本，推行重农抑商政策

57 【2010 岳阳中考】你认为下列原始人类中距离我们最为久远的是：

A、元谋人 B、北京人 C、河姆渡人 D、半坡人

58 【2010 岳阳中考】战国时期的商鞅变法在秦国确立了：

A、禅让制 B、土地私有制 C、王位世袭制 D、科举制

60、【2010 岳阳中考】观察秦朝疆域图（见下图）结合所学地理知识，请你判断秦朝疆域最西到达今天我国哪个省或自治区？



A、新疆维吾尔自治区、B陕西省 C、西藏自治区 D、甘肃省

61、【2010 岳阳中考】“贞观之治”局面的出现与下列哪位皇帝有关：

A、唐太宗 B、汉武帝 C、武则天 D、唐玄宗

62、【2010 岳阳中考】你认为下列历史事件中能体现我国对外友好交往传统的是：

A、雅克萨之战 B、戚继光抗倭 C、郑和下西洋 D、郑成功收复台湾

63、【2010 岳阳中考】上海世博园中国馆这样一幅作品：它以动漫的形式向中外游客展示了我国古代都市的繁华。请你判断这幅作品是：

A、赵孟頫的《秋郊饮马图》 B、顾恺之的《洛神赋图》
C、张择端的《清明上图》 D、敦煌莫高窟的敦煌壁画

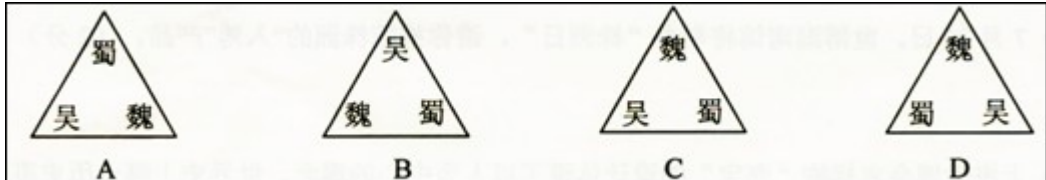
64 . 【2010 株洲中考】商、周时期的青铜器，造型雄伟，纹饰古朴。下列青铜器中哪件是目前我国已发现的最大的青铜器 A



65【2010 株洲中考】提出“仁”的学说，要求统治者实行“仁政德治”的是

- A 老子 B 孔子 c 孟子 D . 韩非子

66 . 【2010 株洲中考】图示法是学习历史的一种好方法 . 它能将复杂的历史较直观形象的展示出来。下面哪幅图直观反映了三国鼎立的形势 D



67
·
【
20

10 株洲中考】“魏主引见朝臣，诏断北语，一从正音……年三十以上，习性已久，容或不可卒革。三

十以下，见在朝廷之人，语音不听仍旧。若有故为，当降爵黜官……”4 这段材料反映了北魏孝文帝改革中的哪项措施

- A . 迁都洛阳 B 实行官吏俸禄制 c . 颁布均田令 D . 讲汉语

68 . 【2010 株洲中考】我国是一个多民族国家。要了解回族形成的历史，最早应追溯到

- A 汉朝 B . 唐朝
c 元朝 D . 明朝

69. 【2010 江苏淮安中考】农业是我国两千多年封建社会的立国之本，农业生产技术的革新历来受到重视。下列哪一幅图片反映了我国农业发展史上的一次革命



- A.筒车 B.铁农具 C.都江堰水利工程 D.牛耕

70. 【2010 江苏淮安中考】唐朝是我国诗歌创作的黄金时代，唐诗的繁荣与科举考试进士科重视考诗赋有密切关系。诗赋成为进士科考试内容下列哪位皇帝有关。

- A.隋炀帝 B.唐太宗 C.武则天 D.唐玄宗

71. 【2010 江苏淮安中考】秦朝实行“焚书坑儒”，明朝实行“八股取士”，清朝大兴“文字狱”的共同目的是

- A.加强思想控制 B.大力发展传统文化
C.鼓励读书人参政议政 D.选拔听命于皇帝的官吏

72. 【2010 江苏南京中考】相传，造出衣裳、舟车、宫室等，为后世的衣食住行奠定基础的“人文初祖”是

- A.黄帝 B.尧 C.舜 D.禹



73. 【2010 江苏南京中考】战国时期，商鞅变法为统一大业的实现奠定了基础。读右图。该变法发生在何处

- A.① B.② C.③ D.④

74. 【2010 江苏南京中考】秦始皇和汉武帝为安定北边，都曾派兵大举反击啊一游牧民族的进扰

- A.突厥 B.女真 C.契丹 D.匈奴

75. 【2010 江苏南京中考】有一书法作品，全篇 324 字，凡重复的字，写法各不相同，笔法之玄妙，似有神助，有“天下第一行书”的美誉，该作品是

- A.《兰亭序》 B.《九成宫碑》
C.《颜氏家庙碑》 D.《玄秘塔碑》

76. 【2010江苏南京中考】一位唐朝官员说：“国家取士，远法前代，进士之科，得人为盛。”材料反映的选官制度正式创立于

- A.隋文帝 B.隋炀帝 C.唐太宗 D.唐玄宗

77. 【2010江苏南京中考】下列措施与明成祖加强君主专制统治有关的是

- A.废除丞相 B.大兴文字狱
C.执行削藩政策 D.设立军机处

78. 【2010 江苏南京中考】清政府规定：“外国商船只准在广州一口通商贸易；对中国出海的商民限制返回，如逾期不归则不准回国。该规定说明清朝

- A.禁止对外贸易 B.实行闭关锁国
C.加强思想控制 D.鼓励商业发展

79. 【2010 江苏苏州中考】2009 年 11 月，被确认为我国发现的最早人工栽培水稻地区之一的苏州草鞋山遗址又有新的考古发现，进一步丰富了其文化内涵。在下列远古人类中，也已经种植水稻的是

- A.元谋人
B.山顶洞人
C.半坡人
D.河姆渡人



80. 【2010 江苏苏州中考】“周幽王烽火戏诸侯”、“孔子周游列国”，与“诸侯”“列国”的产生相关的制度是

- A.禅让制 B.世袭制 C.分封制 D.郡县制

81. 【2010 江苏苏州中考】英国作家培根说：“这三种东西，改变了世界面貌。第一种在文学上，第二种在战争上，第三种在航海上，由此引起了无数的变化。这种变化如此之大，以致没有一个帝国、一个宗教派别、一个赫赫有名的人物能比这三种发明在人类的事业中产生更大的力量和影响。”他说的“这三种东西”不包括

- A.“麻沸散” B.印刷术 C.火药 D.指南针

82. 【2010 江苏苏州中考】搜集和整理历史资料，从中提取有效信息是学习历史的重要方法。刘明同学从图书馆借来了《康雍乾三朝实录》、《论军机处与极权政治》、《“文字狱”的研究》等书，准备写一篇历史小论文，下列论文题目最符合他想法的是

- A.浅议“焚书坑德” B.叙说清朝的对外交往
C.简论“闭关锁国” D.略谈清朝的君主专制

83. 【2010 江苏泰州中考】“秦王扫六合，虎视何雄哉！挥剑决浮云，诸侯尽西来。”这首诗中赞颂的历史人物是

- A. 秦始皇 B. 汉武帝 C. 唐太宗 D. 宋太祖

84. 【2010 江苏泰州中考】贞观初年，西行前往佛教圣地天竺求取佛经精义的唐朝高僧是

- A. 鉴真 B. 玄奘 C. 晁衡 D. 郑和

85. 【2010 江苏泰州中考】下列货币中，哪个是世界上最早的纸币



- 交子 会子 美元 英镑
A B C D

86. 【2010 江苏泰州中考】元朝的疆域“北逾阴山，西及流沙，东尽辽东，南越海表”“汉唐极盛之际不及焉”。元世祖忽必烈为了有效地统治全国，建立了

- A. 分封制 B. 郡县制 C. 行省制 D. 军机处

87. 【2010 江苏无锡中考】前天是我国的传统节日——端午节。在上海世博园的中华美食街上，挂着“中国味，世界享”特色招牌的五芳斋店铺里的粽子散发着阵阵诱人的清香。请问端午节是为了纪念我国历史上的哪位文化名人？

- A. 文天祥 B. 司马迁 C. 孔子 D. 屈原

88. 【2010 江苏无锡中考】2010年5月17日至19日，新疆工作会议座谈会在北京举行，胡锦涛书记提出了新形势下新疆工作的目标任务，推进新疆跨越式发展，你知道新疆地区最早隶属于中央政府管辖，成为我国领土不可分割的一部分开始于哪个朝代？

- A. 秦朝 B. 西汉 C. 唐朝 D. 元朝

89. 【2010 江苏无锡中考】无锡是京杭大运河唯一穿城而过的城市，古运河在清名桥历史文化街区留下了一段“运河版、江南水弄堂”，堪称古运河听精华绝品。“水弄堂”两岸粉墙黛瓦，鳞次栉比，码头石埠，错落有致，构画出江南“人家尽枕河”的水乡风貌，让无数中外游客如痴如醉，你知道京杭大运河最早是谁统治时期开凿的？

- A. 隋文帝 B. 隋炀帝 C. 唐太宗 D. 唐玄宗

90. 【2010 江苏无锡中考】上海世博园中国馆的镇馆之宝是“活”的《清明上河图》。高科技让画上的人物全部活动起来，熙来攘往，昼现夜隐，12世纪中国多刺的城市画卷被生动演绎出来。请问《清明上河图》是哪位画家的传世名作？

- A. 王羲之 B. 顾恺之 C. 吴道子 D. 张择端

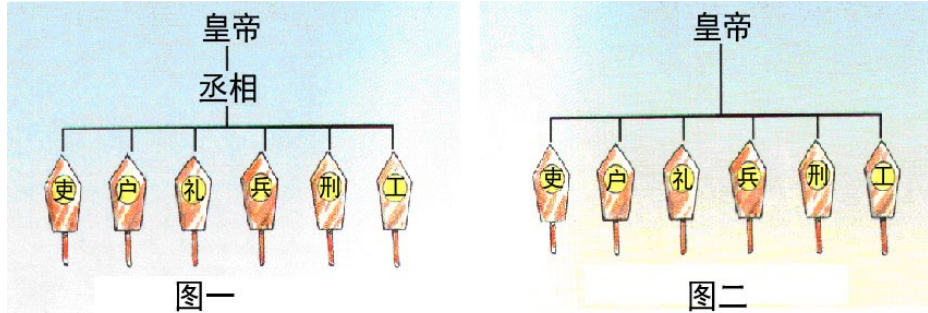
91. 【2010 江苏无锡中考】有尚未普及电视和电影的二十世纪七八十年代拥有一本精美的连环画是很多孩子的梦想，很多人就是在童年时通过连环画来阅读名著的。试试你的眼力看看下面哪一组搭配是错误的？

C



A. 大闹天宫—《西游记》 B. 三顾茅庐—《三国演义》 C. 黛玉葬花—《西厢记》 D. 武松打虎—《水浒传》

92. 【2010 江苏徐州】如右图所示，从图一到图二政治制度的变革发生在



- A. 秦朝 B. 汉朝 C. 唐朝 D. 明朝

93. 【2010 江苏徐州】北宋沈括在《梦溪笔谈》中写道：“若止印三二张，未为简易；若印数十百千本，则极为神速。”材料中的“极为神速”主要得益于

- A. 北宋城市商业的繁荣 B. 造纸术的重大改进
C. “瓦子”“瓦舍”的出现 D. 活字印刷术的发明

94. 【2010 江苏盐城】水稻是盐城地区的主要粮食作物之一。下列最早大量种植这种作物的原始农耕居民是

- A. 元谋人 B. 北京人 C. 河姆渡居民 D. 半坡居民

95. 【2010 江苏盐城】学习需要“温故而知新”。明确提出这一学习方法的古代教育家是

- A. 孔子 B. 墨子 C. 韩非子 D. 孟子

96. 【2010 江苏盐城】陆上“丝绸之路”是连接亚欧的古代重要商路，对开通此商路功劳巨大的是

- A. 董仲舒 B. 张骞 C. 玄奘 D. 鉴真

97. 【2010 江苏盐城】日本有蔡伦宫，法国有蔡伦博物馆……，蔡伦受到世界如此尊敬，是因为他

- A. 发明了印刷术 B. 改进了造纸术 C. 发明了火药 D. 制成了罗盘针

98. 【2010 江苏盐城】小明以“繁荣与开放的唐朝”为主题进行探究，下列他整理的内容中不符合史实的是

- A. 已使用世界上最早的纸币“交子” B. 唐太宗时出现“贞观之治”局面
C. 唐玄宗时出现“开元盛世”局面 D. 都城长安是国际性的大都市

99. 【2010 江苏盐城】右图是 20 世纪 20 年代被美国人华尔纳从敦煌莫高窟盗走的珍贵文物，它体现了高超的雕塑技艺与宗教文化的完美结合。这里的“宗教”是指

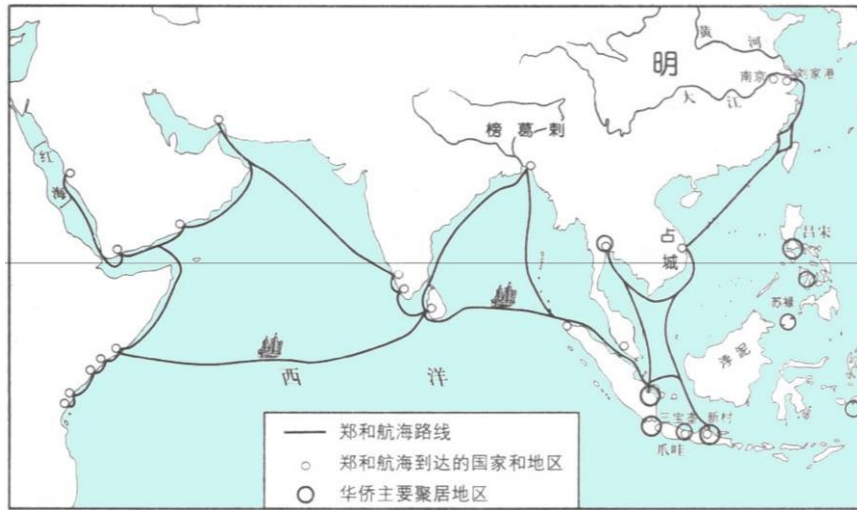
- A. 道教 B. 基督教 C. 伊斯兰教 D. 佛教

100. 【2010 江苏盐城】南宋时，政府的财政收入主要来自南方。这最能说明南方



- A.自然资源十分丰富 B.地理位置重要
C.已成为全国经济重心 D.交通十分发达

101. 【2010 江苏盐城】下面是古代某船队远洋航行的路线图，该航行壮举最远到达的地区应是



- A.红海沿岸和非洲东海岸**
 B.地中海沿岸和非洲西海岸
 C.印度洋沿岸和好望角
 D.大西洋沿岸

102. 【2010 江苏扬州】“封建亲戚，以藩屏周”反映的是西周时期实行的
 A.禅让制 **B.分封制** C.郡县制 D.行省制

103. 【2010 江苏扬州】孔子思想中，体现和谐社会要求的是
A.仁者爱人 B.等级观念 C.举一反三 D.温故知新

104. 【2010 江苏扬州】秦朝是我国历史上第一个统一的多民族的中央集权国家。当时通行于全国各地的货币是 **C**



105. 【2010 江苏扬州】目前世界上已知最早的纸出现在我国
 A.战国时期 B.秦朝时期 **C.西汉时期** D.东汉时期

106. 【2010 江苏扬州】“天皇皇，地皇皇，莫惊我家小儿郎。倭倭来，不要慌，我有戚爷来抵挡”。歌谣中的“戚爷”

- A.统一了女真各部 **B.肃清了东南沿海的倭寇**
 C.赶走了荷兰殖民者 D.打败了沙俄侵略军

107. 【2010 山西省卷】战国初期，三国分晋的卿大夫是
 ①韩 ②赵 ③楚 ④魏

- A.①②③ **B.①②④** C.①③④ D.②③④

108. 【2010 山西省卷】魏晋时期，官员大多数从高门权贵子弟中选拔，到了唐玄宗开元年间，科举出身的宰相占到了三分之二。这种变化说明

- A.唐政府不任用权贵子弟 **B.唐政府力求以才学选官**
 C.唐朝社会文学艺术繁荣 D.唐朝重视教育事业的发展

109. 【2010 山西省卷】元朝以前，就有许多汾州人、并州人迁至今新疆地区，与蒙古族、维吾尔族共同劳动生活。这说明

- A.北方战乱导致山西人迁往边疆 **B.蒙古族、维吾尔族人民非常友善**

C.元朝以前新疆与中原地区联系紧密 **D. 维吾尔族、蒙古族、汉族共同开发了边疆**

110. 【2010 成都卷】下列成都金沙遗址出土的文物中，被国家文物局定为“中国文化遗产标志”的是



A

B

C

D

111. 【2010 成都卷】作家余秋雨曾经写到：“就在秦始皇下令修建长城的数十年前，四川成都平原上已经完成了一个了不起的工程……它至今还为无数民众输送涓涓清流。”下列历史人物中，主导修筑这个“了不起的工程”的是

A. 禹

B. 李冰

C. 商鞅

D. 李春

112. 【2010 成都卷】汉武帝是中国历史上一位有雄才大略的皇帝，他统治期间颁布的“推恩令”，主要是针对西汉前期出现的

A. 王国问题

B. 货币不统一的问题

C. 社会贫困的问题

D. 思想混乱的问题

113. 【2010 成都卷】“政由己出，明察善断，故当时英贤亦竟为之用”，这是《资治通鉴》对唐朝哪一位最高统治者的评价？

A. 唐太宗

B. 唐高宗

C. 武则天

D. 唐玄宗

114. 【2010 成都卷】唐朝诗歌繁盛，诗人众多。下列哪一位诗人赞美成都“九天开出一成都，万户千门入画图”？

A. 李白

B. 杜甫

C. 白居易

D. 薛涛

115. 【2010 成都卷】唐太宗时，某地发生灾荒。假如你是当时的一名中书令，秉承皇帝的旨意起草了一份救灾计划，接下来你应该交给

A. 尚书省裁决

B. 门下省审议

C. 尚书省执行

D. 门下省执行

116. 【2010 成都卷】印度尼西亚的爪哇有三宝瓏，泰国有三宝港，马来西亚的马六甲有三宝城。上述国家以“三宝”为地名是为了纪念中国古代历史上

A. 高僧鉴真出使日本

B. 戚继光抗击倭寇

C. 华侨对南洋的开发

D. 郑和下西洋的壮举

117. 【2010 四川眉山卷】三国两晋南北朝时期，我国北方和西方的少数民族陆续内迁，其中，至今还存在的少数民族是

A. 匈奴族

B. 羌族

C. 鲜卑族

D. 氐族

118. 【2010 四川眉山卷】三峡是我国著名的景点之一。古代有人曾对三峡两岸的猿声作这表的描写：“巴东三峡巫峡长，猿鸣三声泪沾裳。”你知道这个人是谁吗？

A. 罗贯中

B. 郦道元

C. 吴承恩

D. 施耐庵

119. 【2010 四川眉山卷】《苏州府风俗考》中记载：“郡城之东，皆习机业。……工匠各有专能。匠有常主。计日受值。……无主者黎明立桥头以待。……若机房工减，此辈衣食无所矣。”此则材料反映了明代苏州出现了资本主义生产关系的萌芽。作出这一判断的主

要依据是

- A.使用机器生产 B.手工业生产规模扩大
C.行业分工精细，生产有序 D.存在着雇佣与被雇佣的关系

120.【2010 四川眉山卷】台湾自古以来就是中国的领土，在台湾驾照祖国清军进入台湾后，清朝设置台湾府加强对台湾的管理。当时台湾府是隶属于

- A.浙江省 B.江苏省 C.福建省 D.广东省


121.【2010 四川宜宾卷】中国自古以来就是一个多民族国家，中央政权历来重视对边疆少数民族地区的管辖。右图反映的是（ ）

- A.秦朝对今西北地区的管辖
B.西汉对今新疆地区的管辖
C.唐朝对今西北地区的管辖
D.清朝对今天山南北地区的管辖

122.【2010 四川宜宾卷】下列史实，可以通过右图所示著作了解的有（ ）

- ① 秦始皇统一货币、文字
② 汉武帝在长安举办太学
③ 宦官蔡伦改进造纸技术
④ 李春设计并主持修建赵州桥


- A.①② B.②③ C.①③ D.②④



123.【2010 四川宜宾卷】右图所示为位于青海省玉树藏族自治州的文成公主庙。该庙始建于 1300 多年前，系当地人民为纪念文成公主入吐蕃路经此地，向当地人民传播中原文化，造福于当地而建。下列相关表述，正确的是（ ）

- ① 派文成公主入吐蕃的统治者是武则天 ② 文成公主入吐蕃的最终目的地是罗些 ③ 当时吐蕃的赞普是松赞干布 ④ 文成公主入吐蕃增强了汉藏两族的友好关系

- A.①②③ B.①②④ C.①③④ D.②③④



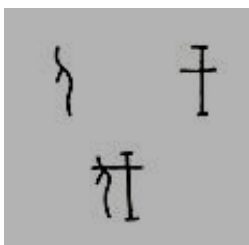
124.【2010 四川宜宾卷】“开辟荆榛逐荷夷”，我国古代立下的这一伟大功绩的民族英雄是（ ）

- A.张骞 B.魏征 C.郑成功 D.渥巴锡

125.【2010 四川资阳卷】下列朝代与建立者的搭配，正确的是

- A.西汉——刘 邦 B.唐朝——李世民
C.北宋——赵光义 D.明朝——朱 棣

126.【2010 四川资阳卷】下列图片所示字体最早出现的是 A



A



B



C



D

127.【2010 四川资阳卷】2010 年 5 月由朝鲜国家级艺术团——血海歌剧团潜心 50 载创作的大型歌舞剧《红楼梦》登陆北京电视台大剧院，就此开始该剧在中国为期一个月的巡回演出。血海歌剧团之所以选择《红楼梦》创作大型歌舞剧，主要是因为这部小说

- A. 情节曲折离奇 B. 反映了中韩友谊
C. 具有高度的思想性和艺术性 D. 是中国最早的小说

128.【2010 重庆市卷】“贞观之治”是我国封建社会的盛世之一。当时，经济发展、政治清明、人民安居乐业。贞观年间在位的皇帝是

- A. 唐太宗 B. 唐高宗 C. 武则天 D. 唐玄宗

129.【2010 重庆市卷】我国的科举制度对西方近代文官考试制度的形成产生了较大影响，有人称它为中国古代的“第五大发明”。科举制度正式创立于

- A. 隋朝 B. 唐朝 C. 明朝 D. 清朝

130.【2010 重庆市卷】今年 4 月，青海玉树藏族自治州发生地震后，全国各族人民纷纷伸出援助之手，谱写了一曲曲民族团结互助的赞歌。翻开历史画卷，不乏讴歌民族团结的光辉篇章。下列人物中，为民族团结做出贡献的

- A. 玄奘 B. 文成公主 C. 郑和 D. 戚继光

131.【2010 重庆市卷】右图是我国改造的一枚纪念明代科学家宋应星的邮票。宋应星的重要成就是

- A. 发明指南针 B. 发明活字印刷术
C. 编著《本草纲目》 D. 编著《天工开物》



132.【2010重庆市卷】唐朝是我国诗歌创作的黄金时代，那时，诗人辈出。其中被称为“诗仙”的是

- A. 白居易 B. 杜甫 C. 李白 D. 苏轼

133.【2010重庆市卷】同学们耳熟能详的唐僖取经、孙悟空智降妖怪等故事出自于我国古代一部浪漫主义长篇神话小说。这部小说是

- A. 《三国演义》 B. 《水浒》

134.【2010 重庆綦江卷】唐朝是我国封建社会的繁荣时期，其中唐太宗在位时出现的盛世局面是

- A. 开皇之治 B. 贞观之治 C. 开元盛世 D. 康乾盛世

135.【2010 重庆綦江卷】重视对外交流是唐朝社会繁荣的原因之一。右图人物曾为中日两国文化交流作出了突出贡献，他是

- A. 阿倍仲麻吕 B. 玄奘
C. 吉备真备 D. 鉴真



136【2010 重庆綦江卷】“开辟荆榛逐荷夷，十年始克复先基”反映的历史事件是

- A. 戚继光抗倭 B. 郑成功收复台湾
C. 雅克萨之战 D. 定噶尔丹叛乱

137.【2010 重庆綦江卷】正在热播的电视连续剧《三国》是根据历史小说《三国演义》改编的，《三国演义》的作者是

- A. 罗贯中 B. 曹雪芹 C. 施耐庵 D. 吴承恩