

# 2019年山东省日照市中考历史试题

吴涛整理

## 第I卷（选择题共50分）

一、选择题：本大题共25个小题，每个小题2分，共50分。在每个小题给出的四个选项中，只有一项是正确的。

1.中国古代某位思想家曾经提出“民为贵，社稷次之，君为轻”的思想，他还认为“富贵不能淫，贫贱不能移，威武不能屈。此之为大丈夫”。这位思想家应该属于哪一学派？

- A. 法家
- B. 道家
- C. 儒家
- D. 墨家

2.中华文化博大精深，源远流长，缤纷多彩的文化符号承载着丰富的历史内涵。下列中华文化符号中对中国文字的形成与发展有深远影响的是

- A. 青铜器
- B. 瓷器
- C. 丝绸
- D. 甲骨文

3.唐代前期政治开明，经济发展，在民族关系、对外关系、科技文化等方面都有很大建树，呈现出繁荣、富强的盛唐气象。下列图片中反映盛唐气象的是



- A. 清明上河图
- B. 货郎图
- C. 敦煌莫高窟壁画《雨中耕作图》
- D. 《前门街市图》局部

4.五千年中华文明发展史也是各民族交往交流交融的历史。史料记载，“明朝建立后，留在中原的少数民族

大多改用汉姓，促进了新的融合”。历史上，曾通过改革要求本民族改用汉姓的帝王是

- A. 孝文帝
- B. 金太祖
- C. 康熙帝
- D. 元世祖

5.古代中国科技发展长期走在世界前列。下列科技成就与下图人物相关的是



- A. 发明了活字印刷术
- B. 写出科技著作《天工开物》
- C. 开创了中医临床理论体系
- D. 创制最先进历法《大明历》

6.弘扬英雄人物的优秀品质，有利于实现历史教育的真正价值。下列诗句抒发的思想情怀和抱负与英雄人物对应正确的是

- A. 冻死不拆尾，饿死不掳掠（文天祥）
- B. 封侯非我意，但愿海波平（岳飞）
- C. 人生自古谁无死，留取丹心照汗青（戚继光）
- D. 有心杀贼，无力回天，死得其所，快哉，快哉（谭嗣同）

7.1918年陈独秀曾撰文严厉指责义和团野蛮、保守、盲目排外和传播迷信；1924年，他又认为义和团是反对帝国主义的爱国者。促成这一转变的主要因素是

- A. 马克思主义的传播
- B. 反帝反封建的大革命兴起
- C. 民主与科学的潮流
- D. 近代中国社会性质的变化

8.1937年11月28日伦敦《泰晤士报》报道：“此次两军作战，双方伤亡惨重，但十周之英勇抵抗，已造成中国堪称军事国家之荣誉，此前所未闻者……上海一隅之抵抗，对于整个中国均有极大之影响。”报道反映的是正面战场上的哪次战役？

- A. 淞沪会战
- B. 徐州会战
- C. 武汉会战
- D. 长沙会战

9.中国近代化的进程中，不同阶级、阶层的代表人物先后提出了自强求富、君主立宪、民主共和、实业救国、民主与科学等口号和主张，体现了时代的变化和发展。下列人物中，积极倡导和实践实业救国的是

- A. 孙中山
- B. 李鸿章
- C. 梁启超
- D. 张謇

10.“深入割据地区的土地革命，是在罗霄山脉中段建立巩固的革命根据地的基本条件。因为获得土地是贫苦农民最强烈的渴望。而没有土地革命，不满足贫苦农民的要求，红军队伍难以扩大，军事斗争难以坚持，根据地也难以巩固和发展”。材料陈述了

- A. 国民大革命轰轰烈烈地开展起来
- B. 打土豪分田地，创造“工农武装割据”局面
- C. 全民族的抗战局面开始形成
- D. 各解放区连成一片，人民解放战争胜利在望

11.毛泽东提出“一切反动派都是纸老虎”的著名论断是在

- A. 北伐战争时期
- B. 国共对峙时期
- C. 抗日战争时期
- D. 解放战争时期

12.莫言在小说《生死疲劳》中有这样一段描写：“住在东厢房里的另一户人家，在这段时间里的一个狂风暴雨日，生了一对双胞胎女婴。这两个女孩，长名互助，幼名合作。”小说情节反映的历史背景是

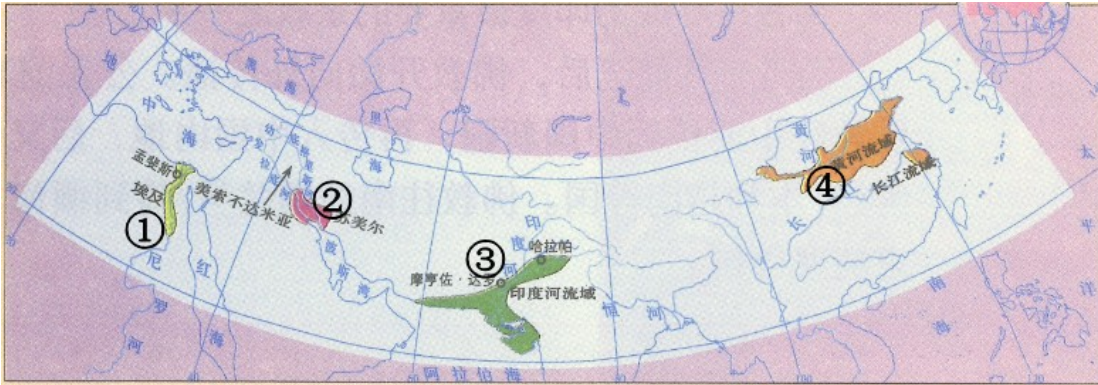
- A. 土地改革
- B. 三大改造
- C. 艰辛探索
- D. 改革开放

13.在2018年12月18日举行的庆祝改革开放40周年大会上，屠呦呦被授予100名“改革先锋”之一。这源于她在哪一领域的突出贡献？

- A. 农业科技

- B. 航天科技
- C. 文艺创作
- D. 医疗卫生

14. 以下是一幅关于公元前 2500 年左右的亚非文明地图，其中，制定了较为系统和完整法典的国家位于



- A. ①
- B. ②
- C. ③
- D. ④

15. 把雅典奴隶制民主政治发展到顶峰的是

- A. 伯里克利
- B. 屋大维
- C. 亚历山大
- D. 克洛维

16. 德国的一位法学家说：“罗马曾经三次征服世界：第一次以武力，第二次以宗教，第三次则以法律。而这第三次征服也许是其中最为平和、最为持久的一次。”“最为平和、最为持久”说明罗马法

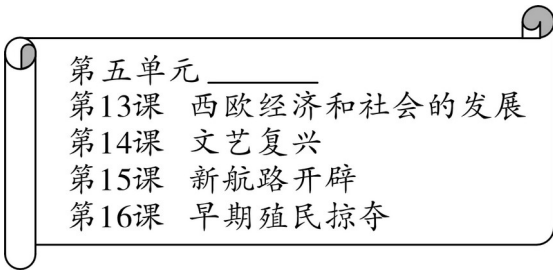
- A. 维持了罗马帝国统一
- B. 巩固了皇帝 独尊地位
- C. 成为欧洲法学的渊源
- D. 维护了庄园的公共秩序

17. 12 世纪，西欧的教育与学术出现了新的气象。其中，被认为是中世纪教育“最美的花朵”的是

- A. 欧洲大学兴起
- B. 英国实行免费义务教育

- C. 德国开始推行教育改革
- D. 法国开设政府自助中等学校

18. 阅读历史书籍需要关注目录检索，通过检索目录，可以明确历史阶段特征，把握内容主旨。读下图，你认为第五单元的目录应该是

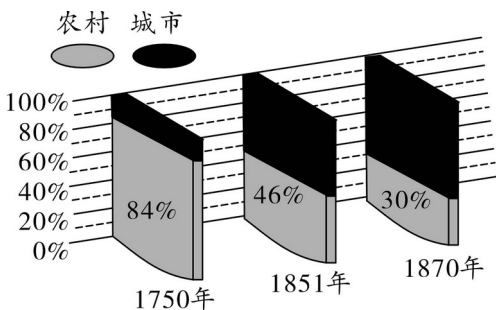


- A. 步入近代
- B. 资本主义制度的初步确立
- C. 封建时代的欧洲
- D. 资本主义制度的扩展

19. 法国大革命摧毁了法国的君主统治，传播了资产阶级自由民主思想，具有世界影响。下列对法国革命进程中的大事评述正确的是

- A. 颁布《人权宣言》，成为当今很多国家民法典的参照蓝本
- B. 制定 1791 年宪法，废除了旧制度，确立了新制度的基本框架
- C. 处死路易十六，引发了全国城乡的暴动，法国大革命开始
- D. 颁布《拿破仑法典》，是第一个以国家名义明确表述资产阶级政治要求的文献

20. 下图反映了某时期英国城市人口和农村人口的比例变化。导致这一变化的主要原因是英国城市人口与农村人口的比例的变化



- A. 新航路的开辟
- B. 君主立宪制的确立

- C. 工业革命的发展
- D. 海外殖民地的扩大

21. 牛顿的科学发现，使人类对客观世界的探索向前迈了一大步。标志着牛顿成为近代自然科学奠基人的科学巨著是

- A. 《地理学指南》
- B. 《自然哲学的数学原理》
- C. 《医学集成》
- D. 《物种起源》

22. 苏联模式是在特定历史条件下形成的，对这一模式表述正确的是

- A. 排斥市场和商品经济的发展
- B. 尊重经济规律并与生产力发展相适应
- C. 为夺取十月革命胜利发挥了重要作用
- D. 新经济政策的实施标志着苏联模式形成

23. 下表是对两次世界大战相关事件的表述，其中错误的是

序号	历史大事	时间	空间	历史解释
①	萨拉热窝事件	1914年	萨拉热窝	一战爆发的导火线
②	凡尔登战役	1916年	凡尔登	一战的“绞肉机”“屠场”
③	签署《联合国宣言》	1945年	纽约	第二次世界大战的转折点
④	雅尔塔会议	1945年	雅尔塔	协调盟军行动，加速二战结束

- A. ①
- B. ②
- C. ③
- D. ④

24. 在拉美人民维护国家主权的斗争中，领导本国人民挫败美国支持的独裁政权，走上社会主义发展道路的是

- A. 玻利瓦尔

- B. 卡斯特罗
- C. 章西女王
- D. 圣马丁

25. 二战后，为了缓和社会矛盾，主要资本主义国家纷纷调整政策，建立社会保障制度，下列说法不正确的是

- A. 1948年，英国宣布建成“福利国家”
- B. 20世纪50年代，美国几次修订《社会保障法》，扩大受益群体
- C. 20世纪六七十年代，西方资本主义国家的社会保障制度进一步发展
- D. 社会保障制度最终解决了资本主义制度的基本矛盾

### 第II卷（非选择题共50分）

二、非选择题：本大题共3个小题，第26题16分，第27题18分，第28题16分，共50分。

26. 阅读材料，完成下列要求

材料一 在中国长达数千年的历史中，曾有过三次从根本上改变了中国政治和社会结构的大变革：第一次发生在公元前221年，它结束了领主封建制……公元前207年，也就是秦始皇去世才四年，秦王朝就覆灭了。不过，尽管秦朝的统治是如此的短命，它却给中国留下了深刻而持久的烙印。

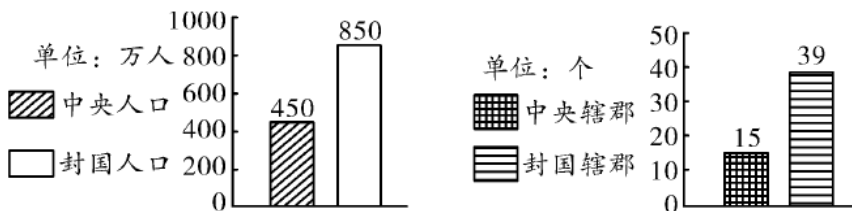
——斯塔夫里阿诺斯《全球通史》

(1) 据材料一，结合所学知识回答，材料中“深刻而持久的烙印”主要指什么？

材料二 西汉初，朝廷对地方的控制很弱，统治者奉行“无为而治”的政策，诸子百家的学说在社会上很流行，诸侯王门下聚集许多宾客，常常批评皇帝的政策。汉武帝时，“府库并虚”，富商大贾们“财或累万金，而不佐公家之急”。甚至“因其富厚，交通（勾结）王侯”。

——白寿彝《中国通史》

西汉初期中央和封国力量对比



(2) 材料二反映出西汉前期存在着一系列社会问题。结合所学知识，概括指出汉武帝的解决措施。这一系列措施产生了什么影响？

材料三 宋代儿童启蒙教育《神童诗》开篇就说，“万般皆下品，惟有读书高”。宋时有谚语：“做人莫

做军，做铁莫做针。”这表明宋朝读书风气盛行，当时的人不以从军为荣。

(3) 据材料三，结合所学知识回答，宋人社会观念的变化与宋代采取的什么治国之策相关？谈谈你对这一政策的认识。

27. 阅读材料，完成下列要求。

材料一 由辛亥革命所唤起的中国社会的希望，同民国初年中国社会的黑暗之间形成一种巨大的落差，巨大的落差产生了巨大的浪潮，于是而有新文化运动。

——陈旭麓《近代中国社会的新陈代谢》

出席巴黎和会的中国代表顾维钧曾回忆道：“以前我们也曾想过最终方案可能不会太好，但却不曾料到结果竟是如此之惨。”中国人民彻底清醒地认识到“公理难伸，强权未已”，爱国风暴汹涌而至。

习近平总书记指出，“五四运动，孕育了以爱国、进步、民主、科学为主要内容的伟大五四精神，其核心是爱国主义精神”。

——钟轩理《五四精神与中国道路》

(1) 据材料一，结合所学知识回答，材料中“巨大浪潮”和“结果竟是如此之惨”分别指什么？据材料，阐明五四运动的时代价值。

材料二 马克思主义与工人运动相结合，直接推动了 1921 年中国共产党的成立。中国共产党的诞生不是偶然的。自从有了中国共产党，中国革命的面貌就焕然一新，中国革命就有了新的领导核心力量，这是中国新民主主义革命区别于旧民主主义革命最根本的特征。

——钟轩理《五四精神与中国道路》

(2) 历史学习中，常常需要认识历史事件的因果联系，以揭示历史发展的进程。请你结合上述材料，写一段 180 字左右的短文，包含“辛亥革命”“新文化运动”“五四运动”“中国共产党的成立”四个事件，体现中国革命由旧民主主义革命转变为新民主主义革命的过程。

材料三 实现中国梦必须走中国道路。这就是中国特色社会主义道路。这条道路来之不易，它是在改革开放 30 多年的伟大实践中走出来的，是在中华人民共和国成立 60 多年的持续探索中走出来的，是在对近代以来 170 多年民族发展历程的深刻总结中走出来的，是在对中华民族 5000 多年悠久文明的传承中走出来的，具有深厚的历史渊源和广泛的现实基础。

——习近平《在第十二届全国人民代表大会第一次会议上的讲话》

(3) 举出在改革开放的伟大实践中，我国在经济、科技和国防领域取得的巨大成就各一例。

(4) 综合上述材料，你得出怎样的历史结论或认识？

28.阅读材料，完成下列要求。

材料一 德黑兰会议前，美、英、中三国政府首脑于1943年11月22日至26日在开罗举行会议，签署了《开罗宣言》。《开罗宣言》于12月1日德黑兰会议结束时公布于世，庄严宣告：日本所窃取于中国之领土，例如：满洲、台湾、澎湖群岛等归还给中国。中国收复领土的神圣权利得到国际公认，这是中国人民坚持抗战的结果。宣言还规定了战后“使朝鲜自由独立”。

——吴于廑、齐世荣《现代史编·世界史》

(1) 根据材料一，说明《开罗宣言》的重要意义。

材料二 1950年6月25日，朝鲜战争爆发。最初这只是南北朝鲜之间的内战，但当天美国利用苏联抵制安理会之机，操纵联合国通过决议，指责北朝鲜是侵略者。第三天，美国又宣布武装援助南朝鲜，直接干涉朝鲜内政。同时，令其海军第七舰队开进台湾海峡，插足中国的领土台湾。

——吴于廑、齐世荣《现代史编·世界史》

我们不出兵让敌人压至鸭绿江边，国内国际反动气焰增高，则对各方都不利，首先是对东北更不利，整个东北边防军将被吸住，南满电力将被控制……总之，我们认为应当参战，必须参战。参战利益极大，不参战损害极大。

——毛泽东《中国人民志愿军应当和必须入朝作战》



中国人民举行声讨美国侵略罪行支持抗美援朝的示威游行

(2) 根据材料二，简要回答中国人民志愿军抗美援朝的必要性。抗美援朝的胜利有什么重要意义？

材料三 美国霸权行径大事记

1999年，以美国为首的北约绕过联合国安理会，对南联盟进行了78天的轰炸；中国驻南大使馆遭到北约导弹袭击。

2003年，绕开联合国安理会，发动战争，占领伊拉克。

2018年，对中国发起贸易战。打压中兴等中国高科技企业的发展。

2019年，编造话题，打压华为。

2019年，美国出尔反尔，在中美经贸磋商的同时，发起新一轮贸易摩擦。

中国推动国际合作大事记

2001年，承办上海APEC会议，加入世界贸易组织，上合组织诞生。  
2012年，提出“要倡导人类命运共同体意识，在追求本国利益时兼顾他国合理关切”。  
2013年，提出“一带一路”倡议。  
2014年，在北京举办APEC会议。  
2016年，举办杭州G20峰会。  
2018年，举办上合组织青岛峰会。  
2019年，举办第二届“一带一路”国际合作高峰论坛。

(3) 以世界眼光观察并理解上述材料。你怎样看待世界多极化趋势下中美两国所扮演的不同角色？

## 反盗版维权声明

北京凤凰学易科技有限公司（学科网：[www.zxxk.com](http://www.zxxk.com)）郑重发表如下声明：

一、本网站原创内容，由本网站依照运营规划，安排专项经费，组织名校名师创作完成，本公司拥有著作权。

二、本网站刊登的试卷、教案、课件、学案等内容，经著作权人授权，本公司享有独家信息网络传播权。

三、任何个人、企事业单位（含教育网站）或者其他组织，未经本公司许可，不得以复制、发行、表演、广播、信息网络传播、改编、汇编、翻译等任何方式使用本网站任何作品及作品的组成部分。

四、一旦发现侵犯本网站作品著作权的行为，欢迎予以举报。

举报电话：010-58425260。

举报内容对查实侵权行为确有幫助的，一经确认，将给予所获得奖励。

五、我们将联合全国各地文化执法机关和相关司法机构，并结合广大用户和网友的举报，严肃清理侵权盗版行为，依法追究侵权者的民事、行政和刑事责任！

特此声明！

北京凤凰学易科技有限公司