


**2016年三明市初中毕业暨高级中等学校招生统一考试**  
**历史试题**

一、选择题(每小题2分,共40分。每小题只有一个选项符合题意)

- 1.长江流域原始农耕时代的居民是  
A.北京人      B.山顶洞人      C.河姆渡原始居民      D.半坡原始居民
- 2.为丝绸之路的开通作出最大贡献的是  
A.张骞      B.班超      C.卫青      D.霍去病
- 3.小宋同学以“宋代经济的发展”为主题进行研究性学习。不属于该主题的是

- 4.“开辟荆榛逐荷夷,十年始克复先基。”这句诗反映的重大历史事件是  
A.郑和下西洋      B.戚继光抗倭      C.郑成功收复台湾      D.雅克萨之战
- 5.《马关条约》中,有利于列强直接利用中国廉价劳力和原料剥削中国人民的条款是  
A.割辽东半岛、台湾及附属岛屿、澎湖列岛给日本  
B.赔偿日本军费白银二亿两  
C.允许日本在中国开设工厂  
D.增辟通商口岸
- 6.某校八年级(1)班历史学习小组收集了下列一组图片。适合作为这组图片标题的是



- A.“自强”“求富”      B.“民主”“科学”      C.实业救国      D.“三民主义”
- 7.能体现中国军民团结抵御外侮的战役有  
①血染卢沟桥      ②台儿庄战役      ③渡江战役      ④百团大战  
A.①②③      B.①②④      C.①③④      D.②③④
- 8.在1900年北京的街头,人们见面时可能谈及的话题是  
A.关于军警在街头为行人剪辫子的情形      B.关于废除科举制的诏书  
C.关于京师大学堂开设的课程      D.关于废止缠足的法令
- 9.1956年国庆阅兵仪式上,毛泽东在天安门城楼上指着飞过去的飞机,高兴地对外宾说“我们野我们自己制造的飞机飞过去了!”毛泽东说的“飞机”制造于  
A.土地改革时期      B.第一个五年计划时期  
C.“大跃进”和人民公社化运动时期      D.“文化大革命”时期
- 10.中共十一届三中全会是建国以来党的历史上具有深远意义的转折。能够支持这一结论的有  
①提出“两个凡是”的方针②作出把党的工作重心转移到经济建设上来的决策  
③重新确立实事求是的思想路线④实际上形成了以邓小平为核心的党中央领导集体  
A.①②③      B.①②④      C.①③④      D.②③④
- 11.关键词“边陲小镇”“一夜崛起”“开放窗口”,描述的城市是  
A.深圳      B.珠海      C.厦门      D.汕头
- 12.图9是小莲同学的课堂笔记,横线上应该补充的内容是

构想: \_\_\_\_\_  
时间: 改革开放后  
提出: 邓小平  
实践: 香港、澳门  
意义: 为实现祖国统一大业指明前景

- A.家庭联产承包责任制
- B.经济特区
- C.民族区域自治
- D.一国两制

13.照片承载着历史。图10照片记录的历史事件是

- A.中国提出和平共处五项原则
- B.中国代表团参加万隆会议
- C.中国和美国正式建立外交关系
- D.中国恢复在联合国的合法席位



五星红旗第一次在联合国总部升起

图 10

14.对改革开放后出现的生活新景象，描述不正确的是

- A.人们买衣服要凭布票
- B.绿色食品等科学卫生的概念日益深入人心
- C.住房的室内装修和居住环境有明显改善
- D.开私家车出行的人越来越多

15.有一个旅游团想了解欧洲最久远的文明，他们最佳旅游的目的地是

- A.英国
- B.希腊
- C.法国
- D.西班牙

16.与“圣诞节”的由来有关的宗教是

- A.佛教
- B.道教
- C.伊斯兰教
- D.基督教

17.“第一条在权利方面，人们生来是而且始终是自由平等的……”“第十七条财产是神圣不可侵犯的权利……”上述条文均出自

- A.《权利法案》
- B.《独立宣言》
- C.《人权宣言》
- D.1787年宪法

18.杰出人物对社会进步起到一定的推动作用。下列搭配正确的是

- A.贝多芬——人文主义
- B.马克思、恩格斯——科学社会主义
- C.爱因斯坦——进化论
- D.达尔文——相对论

19.以下是德国和奥匈帝国皇帝对1914年某个突发事件的看法。这个突发事件指的是

塞尔维亚作为一个政治因素，  
必须从巴尔干抹掉。



奥匈帝国皇帝

这是千载难逢的机会。



德国皇帝

- A.三国同盟的形成
- B.三国协约的形成
- C.萨拉热窝事件
- D.第一次世界大战

20.1947年印度和巴基斯坦分别独立。独立前对他们实行殖民统治的国家是

- A.英国
- B.法国
- C.西班牙
- D.葡萄牙

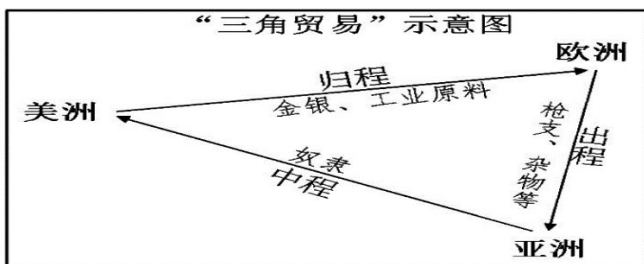
## 二、改错辨析题(共16分)

(一)改错题(每小题只有一处是错误的，请找出并订正。12分)

21.北魏迁都以后，秦孝公进一步实行了学习汉族文化的改革。

22.根据李鸿章的建议，1884年清政府在新疆设立行省。

23.



24.华盛顿会议上签署的《凡尔赛和约》，使中国回复到几个帝国主义国家共同支配的局面。

(二)辨析题(4分)

25.以下是两位同学对新中国初期土地改革的讨论。哪位同学的表述是错误的？请简要说明理由。

三、材料解析题(共22分)

26.(12分)人们常常通过各种形式来纪念重大历史事件。阅读材料，回答问题。

材料一



图11中共一大会址图12八一起义纪念馆

(1) 你要参观图11、图12中的纪念馆，应该到哪两座城市？(4分)

材料二图13是南通科技职业学院某大三学生为纪念红军长征胜利80周年设计、制作的《长征》系列主题微景观之一。它以微缩精致的造景方式，再现红军战士不畏牺牲、勇往直前的典型场景。

(2) 图13中的微景观，再现的是长征中的哪个事件？红军在这个事件中克服了什么困难？(4分)



图 13

材料三这一伟大胜利，重新确立了中国在世界上的大国地位，使中国人民赢得了世界爱好和平人民的尊敬。这一伟大胜利，开辟了中华民族伟大复兴的光明前景，开启了古老中国凤凰涅槃、浴火重生的新征程。

——习近平主席在抗战胜利70周年纪念大会上的讲话

(3)从材料三中，找出抗日战争的胜利使中国国际地位发生的变化。(2分)

(4)上述三则材料中,纪念重大历史事件的形式有哪些？(2分)

27.(10分)科技的进步改变着人们的生活。阅读材料，回答问题。

材料一科技的进步不断为经济发展开拓广阔的前景。自工业革命以来，新的行业不断涌现，催生了许多新的职业，如火车司机、汽车司机、飞行员、轮船修理工、网络工程师和航天工程师等。

材料二它是魔幻的第七大洲，在这里，每个人只需敲几下键盘就可以了解到世界上所有的知识。  
——英特尔公司副总裁肖恩·马洛克

材料三 陆路交通工具的变化



图 14 古代马车



图 15 近代汽车




图 16 现代高铁

- (1) 材料一中,因第一次、第二次工业革命而催生的新职业分别有哪些?(4分)
- (2) 材料二中的“它”指的是哪一项科技成果?这项成果使人类进入什么时代?(4分)
- (3) 材料三中,近现代交通工具与古代交通工具相比,有什么进步之处?(2分)

四、综合题(共22分)

28.(10分)小筑计划在活动课上展出一组关于中国古代建筑的邮票。请你一起来准备。



图 17



图 18



图 19



图 20

(1)小筑设计了如下的邮票知识卡片,请你帮他他将卡片中的知识补充完整。(6分)

<p style="text-align: center;"><b>都江堰</b></p> <ul style="list-style-type: none"> <li>★修建时期:战国</li> <li>★设计者:李冰</li> <li>★作用: ①</li> <li>★地位: 世界年代最久、唯一留存、以无坝引水为特征的水利工程</li> <li>★2000年列入世界文化遗产名录</li> </ul>	<p style="text-align: center;"><b>赵州桥</b></p> <ul style="list-style-type: none"> <li>★修建时期:隋朝</li> <li>★设计者:李春</li> <li>★建筑结构:敞肩式石拱桥,当时最先进的一种石拱桥结构</li> <li>★至今未列入世界文化遗产名录</li> </ul>	<p style="text-align: center;"><b>长城</b></p> <ul style="list-style-type: none"> <li>★修建时期:明朝</li> <li>★起止点:东起 ②,西至嘉峪关</li> <li>★作用:中国古代的军事防御工程</li> <li>★1987年列入世界文化遗产名录</li> </ul>	<p style="text-align: center;">③</p> <ul style="list-style-type: none"> <li>★修建时期:明清</li> <li>★设计者:蒯祥</li> <li>★地位:世界上现存规模最大、保存最完整的木构建筑群</li> <li>★1987年列入世界文化遗产名录</li> </ul>
---	---	---	---

(2)从小筑设计的卡片中,你发现赵州桥未被列入世界文化遗产名录。请你从历史角度为赵州桥申报世界文化遗产说出一个理由。(2分)

(3)邮票中的建筑体现了古代劳动人民的智慧和创造力。为了更好的保护这些文化遗产,我们应该怎么做?(2分)

29.(12分)美俄两个大国之间的关系,对世界的和平与发展有着重大影响。结合所学知识,回答问题。

【寻道图强】

★为人占有而做奴隶的人们都应在那时及以后永远获得自由。  
——《解放黑人奴隶宣言》

★农奴在法律上是“自由人”;地主再也不许买卖农奴和干涉他们的生活。  
——废除农奴制法令

(1)美俄在发展过程中都遇到过严重的社会问题。结合以上两份文件,完成下表。(4分)

时间	国家	障碍	解决方式
1861 年前夕	美国	①	战争
	俄国	农奴制	②

**【强国结盟】**

1942 年 1 月,美、英、苏、中等 26 个国家在华盛顿签署《联合国家宣言》,保证使用自己的全部军事和经济资源,共同反对德、意、日等法西斯国家,不单独同敌人缔结停战协定或和约。

——摘自中华书局版《世界历史》九年级下册

(2)1942年1月,美苏共同加入哪个国际组织?两国的结盟对世界反法西斯战争有什么影响?(4分)

**【盟友成仇】**

美国负有领导“自由世界”的使命,以防止共产主义的渗入……

——1947 年 3 月 12 日杜鲁门在国会的咨文

(3)杜鲁门的国会咨文表明美苏两国的关系发生了什么变化?(2分)

**【学以致用】**

(4)从美俄关系对世界和平与发展的影响中,你获得了什么启示?(2分)

2016年三明市初中毕业暨高级中等学校招生统一考试  
历史试题参考答案及评分说明

一、单项选择题（每小题2分，共40分）

题号	1	2	3	4	5	6	7	8	9	10
答案	C	A	D	C	C	A	B	C	B	D
题号	11	12	13	14	15	16	17	18	19	20
答案	A	D	D	A	B	D	C	B	C	A

二、改错辨析题（共16分）

（一）改错题（指出错误1分，订正2分）

21. 错误：秦孝公 订正：孝文帝  
22. 错误：李鸿章 订正：左宗棠  
23. 错误：亚洲 订正：非洲  
24. 错误：《凡尔赛和约》 订正：《九国公约》

（二）辨析题（判断2分，理由2分）

25. 错误：小地同学的表述是错误的。（2分）

理由：表述一：土地改革(废除了封建剥削的土地制度)，实行的是农民的土地所有制，(土地属于农民私有，不是公有制)。(括号内文字没写到也可得2分)

表述二：土地公有制是在1956年三大改造后建立起来的。（2分）

三、材料解析题（第26小题12分，第27小题10分，共22分。）

26. (1) 上海（2分）；南昌（2分）。

(2) 飞夺泸定桥（2分）(如果只写强渡大渡河给1分)；困难：敌人的围追堵截（2分）。

(3) 重新确立了中国在世界上的大国地位，使中国人民赢得了世界爱好和平人民的尊敬（2分）。

(4) 参观(或建立)纪念馆、制作微景观、举办纪念活动（任答一点1分，共2分）。

27. (1) 第一次工业革命：火车司机、轮船修理工（2分）；

第二次工业革命：汽车司机、飞行员（2分）。

(2) 计算机网络技术(或国际互联网)（2分）；人类进入信息化时代。（2分）

(3) ①使人们出行更便利、更快捷、更安全；②载重量提高，增强生产能力；③扩大人们的活动范围，加强人与人之间的交流。（任答一点1分，共2分，其它意思相近也可得分）

四、综合题（第28小题10分，第29小题12分，共22分）

28. (1) ①防洪灌溉(或消除了岷江水患，灌溉了大片农田)（2分）； ②鸭绿江（2分）；  
③北京故宫（或紫禁城）（2分）。

(2) 理由：赵州桥是世界上现存最古老的一座石拱桥。（2分）

(3) 做法：①思想层面：增强文物保护意识；②行动层面：保护文物从我做起；积极支持国家申遗；③国家层面：投入人力、物力合理对文化遗产进行保护。（任答一点2分，其它意思相近也可得分）

29. (1) ①黑人奴隶制（2分）；②改革（2分）。

(2) 国际组织：国际反法西斯联盟（2分）；

影响：反法西斯国家相互支援，协同作战，战斗力大大增强，逐渐扭转了战争形势（2分，其它意思相近也可得分）。

(3) 变化：从战时同盟走向敌对（对抗、冷战）（2分）。

(4) 启示：①合作方面：国与国之间求同存异，合作共赢，能共同推动世界的和平与发展；

- ② 对抗方面：国与国对抗，两败俱伤，会严重威胁着世界的和平与安全；
  - ③ 本国方面：努力发展经济，增强综合国力，力求在国际事务中发挥更大的作用。
- (任答一点 2 分，其它意思相近也可得分)