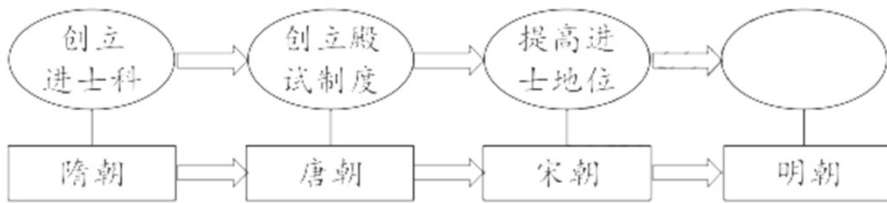


历史

一、单项选择题（本大题共 20 小题，每小题 2 分，共 40 分。在每小题列出的四个选项中，

只有一项符合题目要求。请将答案按要求填涂在答题卡的相应位置）

- 根据半坡遗址出土的骨针、骨锥，陶制和石制的纺轮，可推断出半坡人
A. 会制作玉器
B. 会简单的纺织和制衣
C. 主要种植粟
D. 会建造半地穴式房屋
- 老子主张“无为而治”孔子提倡“为政以德”，墨子主张“兼爱”“非攻”，韩非强调“以法治国”。他们提出这些主张的共同目的是
A. 推崇西周制度
B. 支持兼并战争
C. 解决社会问题
D. 追求精神自由
- 支持商鞅变法的秦孝公死后，商鞅被害，然而新法并没有被废止。这说明商鞅变法
A. 得到了旧贵族势力的支持
B. 顺应了历史发展潮流
C. 维护了旧的政治经济秩序
D. 遏制了地主阶级势力
- 汉武帝元朔二年（公元前 127 年）至汉成帝永始三年（公元前 14 年），梁国按朝廷命令共分出十七个侯国。朝廷的这种做法
A. 废除了郡县制度
B. 增强了地方势力
C. 导致了西汉灭亡
D. 削弱了诸侯实力
- 假如你是《清明上河图》所描绘场景中的一位市民，你向能做的事情是
A. 欣赏蹴鞠表演
B. 观看京剧演出
C. 购买《红楼梦》
D. 品尝烤红薯
- 下列选项中，对应正确的是
A. 张仲景—“医圣”——创编出了“五禽戏”
B. 杜甫—“诗仙”—诗歌反映了历史的真情实况
C. 毕昇—发明活字印刷术——推动人类作战方式的巨大变化
D. 宋应星——《天工开物》——“中国 17 世纪的工艺百科全书”
- 郑和船队到达各国，先会见当地国王，表达明朝与他们通好的意愿，然后与当地居民和平贸易。郑和航海期间，许多国家的首脑和使臣，搭乘中国宝船来华访问。材料表明郑和远航
A. 规模浩大
B. 发展了与各国之间友好关系
C. 时间跨度长
D. 使世界开始连为一个整体
- 按下面图示的编制思路，其空白处应为



- A. 废除丞相制度 B. 设立“三司” C. 设立锦衣卫 D. 实行“八股取士”

9. “6月3日，实行销毁，先于i门海滩，掘池引水，撒盐成卤，将鸦片剖切抛人泡浸……然后放入大洋，历时二十二日。”材料描述的历史事件是

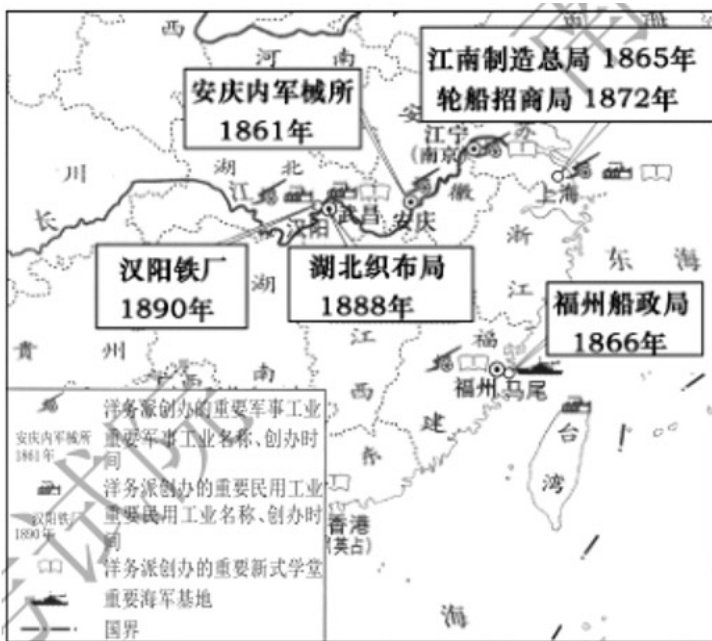
- A. 虎门销烟 B. 太平天国运动 C. 甲午中日战争 D. 新文化运动

10. 阅读下列清军兵力调动表，分析与此相关的历史事件是

命调时间	调出地	调入地	兵数（名）
1858年4月	京师	大沽	2000
1858年12月	吉林	大沽	1000
1859年4月	黑龙江	天津	1000
1860年5月	宣化镇	大沽	1000

- A. 第二次鸦片战争 B. 戊戌变法 C. 八国联军侵华战争 D. 辛亥革命

11. 下列是历史兴趣小组给下图拟定的标题，合适的是



- A 洋务运动示意图

- B. 沙俄侵占我国领土示意图.

C. 义和团运动形势示意图

D. 列强在华势力范围”示意图

12. 蒋介石说：“（朱毛红军）窜川南时，对人民毫无骚扰，有因饿取食土中萝卜者，每取一头，必置铜元一枚于土中。”据此推断

A. 中国共产党从幼年走向成熟

B. 红军纪律严明有利于赢得民心

C. 中国人民开始艰苦卓绝的抗战

D. 抗日民族统一战线正式建立

13. “没有这场深刻 社会大变动，不把占中国人口绝大多数的农民从长期的封建压迫下解放出来，中国的民主化、工业化和现代化是根本谈不上的。”这场“社会大变动”是

A. 土地改革运动

B. 农业合作化运动

C. 人民公社化运动

D. 实行家庭联产承包责任制

14. 下图反映了 2013—2017 年全国居民人均可支配收入的变化情况，这体现了我国



A. 民主政治制度不断完善

B. 外交事业取得巨大成就

C. 人民生活水平不断提高

D. 国防和军队建设发展迅速

15. 胡夫金字塔修建时至少有 10 万人参加，花费了 20 年时间，意味着要对全国的人力物力资源进行大规模的组织和调用。这说明古埃及

A. 文明走向衰落

B. 成为强大封建帝国

C. 外族入侵严重

D. 国王权力至高无上

16. 古巴比伦王国与拜占庭帝国的相同点是

A. 实行森严的种姓制度

B. 统治中心位于地中海中部

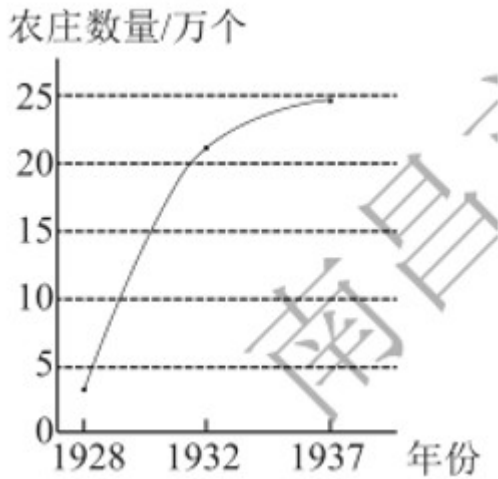
C. 疆域跨欧亚非三大洲

D. 颁布维护统治 成文法典

17. 共产主义者同盟第二次代表大会--致赞同了马克思、恩格斯所阐述的原理，并委托他俩起草宣言，1848年宣言正式出版。该宣言

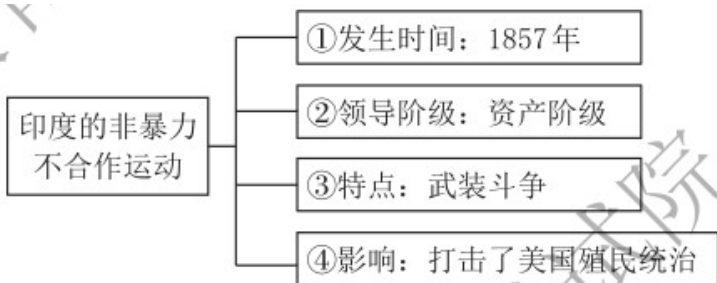
- A. 推动了欧美资产阶级革命
- B. 导致社会分裂成两大对立阶级
- C. 揭示了人类社会发展规律
- D. 标志着第一个无产阶级政权的建立

18. 下图是苏联 1928—1937 年集体农庄数量变化图。出现这一变化 主要原因是




- A. 新经济政策实施
- B. 农业集体化运动
- C. 经济大危机影响
- D. 戈尔巴乔夫改革

19. 下面是“印度的非暴力不合作运动”知识结构图，其中内容正确的是



- A. ①
- B. ②
- C. ③
- D. ④

20. 漫画反映了



- A. 德国分裂
- B. 欧洲联合
- C. 东欧剧变
- D. 苏联解体

二、综合题（本大题共4小题，共40分）>

21. 阅读下列材料，回答问题。

小宋同学学习中国古代史后，对七个主题单元知识进行了整理，以下是他的学习笔记：

笔记一	笔记二
时期：三国两晋南北朝时期	时期：
时代特征：政权分立与民族交融	时代特征：
内容：	内容：
1. 赤壁之战	1.
2.	2.
3. 北魏孝文帝改革	3.
4. 北方地区民族交融	4.

(1) 请补全笔记一内容。

(2) 请从下列提供的学习内容中选取四个，参照笔记一完成笔记二。

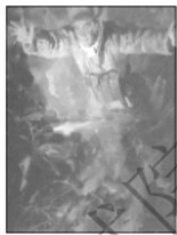
夏朝的建立、开通大运河、辽与北宋的和战、经济重心南移完成
元朝的建立与统一、春秋时期的经济发展、“贞观之治”
诸侯争霸、鉴真东渡、宋词元曲、战国七雄、开放的社会风气

22. 阅读下列材料，回答问题。

历史兴趣小组开展以“中外历史人物”为主题的探究活动，以下是他们收集的人物图片所组成的人物图谱：



①赵登禹



②黄继光



③雷锋



④但丁



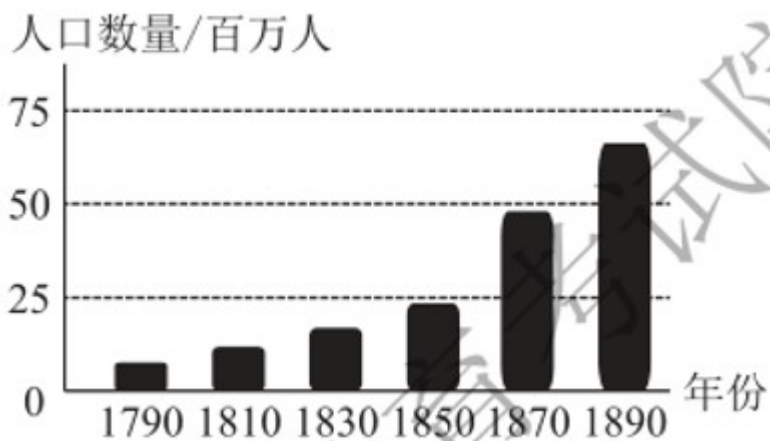
⑤贝多芬

(1) 请从图中任选两位历史人物，分别简述其突出贡献或主要事迹。

(2) 请在上面人物图谱中增加两位为我国“两弹一星”事业作出突出贡献的科学家（只写人名），并结合所学知识概括“两弹一星”精神。

23. 阅读下列材料，回答问题。

材料一



(1) 根据材料一并结合所学知识，写出与美国人口增长相关的历史事件。

材料二 1913-1920年欧洲部分国家的总人口（单位：百万人）

国家	1913年	1920年
俄国	175.1	126.6
德国	66.9	42.8
奥匈帝国	52.1	—
法国	39.7	39.0
英国	45.6	44.4

—摘编自【英】保罗·肯尼迪《大国的兴衰》

(2) 请从材料二中提取一项历史信息，并运用所学知识加以说明。

材料三 20世纪50年代以后，世界人口进入了有史以来的第三次加快增长时期。1950-1975年，世界人口增长了15亿，其中12亿在发展中国家。这与发展中国家新独立后政治、经济、社会条件的改善医疗水平的提高有关。

——摘编自吴于廑、齐世荣《世界史·现代史编》

(3) 根据材料三，概括1950-1975年世界人口增长的特点。

(4) 综合上述材料，归纳影响人口变化的因素。

24. 利用多种课程资源，有助于我们学习和感悟历史 X 阅读下列材料，回答问题。

【历史报刊】

材料一

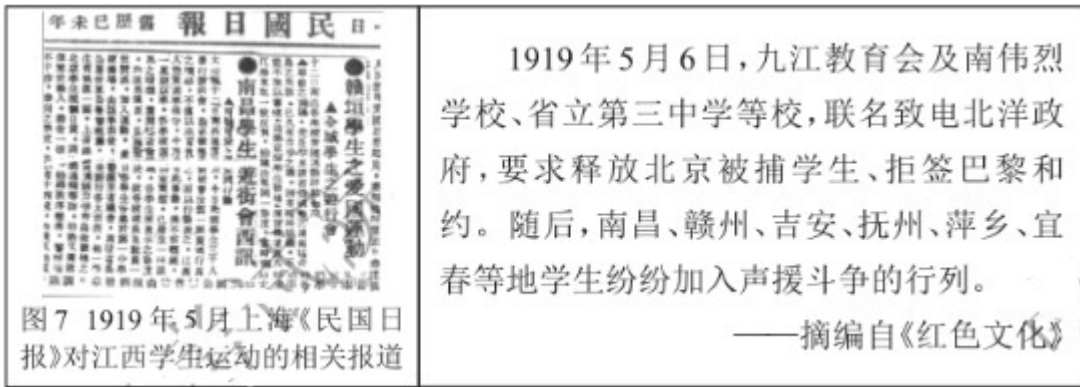


图7 1919年5月上海《民国日报》对江西学生运动的相关报道

1919年5月6日，九江教育会及南伟烈学校、省立第三中学等校，联名致电北洋政府，要求释放北京被捕学生、拒签巴黎和约。随后，南昌、赣州、吉安、抚州、萍乡、宜春等地学生纷纷加入声援斗争的行列。

——摘编自《红色文化》

(1) 结合所学知识，指出材料一中江西学生运动声援的历史事件，并谈谈你对江西学生运动的认识。

【历史文献】

材料二 这次北伐入湘、入赣，得民众之援助极大，尤其是江西方面，农民参战更为踊跃。如攻新喻（今新余）时，北伐军已不支，农民（约二百人）用土炮逐走敌人，北伐军遂得冲上……攻入南昌，退出南昌，皆得农民之助力不小，不然，北伐军之损失更大。此外，如一路之送茶送饭，觅渡肩挑，或代觅米粮等，则到处如是，给北伐军以种种便利。

——摘自《中央局报告》（1926年12月5日）

(2) 根据材料二，概述江西农民在北伐战争中所起的作用。

【历史绘画】

材料三



何孔德《井冈山会师》(油画)

(3) 请结合史实，简述图中反映的历史故事。（要求：语言简洁，观点正确，思想健康）

【历史年表】

材料四

时间	事件
----	----

1954年7月	国营320厂制造的第一架“雅克-18型”飞机升空飞行
1954年12月	南昌柴油机厂试制成功我国第一分（30匹马力）移动式空气压缩机
1955年7月	江西省内第一个重点火电工程——南昌发电厂开工建设
1955年11月	江西省重点工程——乐平钟家山煤矿新建的竖井正式投入生产

(4) 根据材料四并结合所学知识，分析取得这些成就的主要原因。

(5) 综合上述材料，谈谈你的历史感悟。

