


历史部分

一、单项选择题：本大题共 20 小题，每小题 2 分，共 40 分。每小题的四个选项中，只有一个选项最符合题意。请在答题卡上填涂你认为正确的选项。

1. 如图中的言论来自（ ）



A. 老子 B. 孔子 C. 孟子 D. 墨子

2. “古之贵者不乘牛车，汉武帝推恩之末，诸侯寡弱，贫者至乘牛车” 材料说明推恩令（ ）

A. 打击了豪强地主。 B. 削弱了诸侯国的实力
C. 解除了封国威胁 D. 强化中央对经济控制

3. 唐朝前期的中外交流达到了 20 世纪之前中国对外交流的最高峰。下列对如图反映的历史事件解读正确的是（ ）



A. 促进了中日文化交流 B. 开辟了通往西域之路
C. 对中国佛教的发展做出重大贡献 D. 增进了中国同亚非国家友好往来

4. 五代十国时期，南方经济恢复顺利，而北方战乱不休，故南北经济差异继续扩大。至“靖康之难”，北方再遭战火蹂躏，大批人口南渡，则又一次促使南北经济差异扩大。该材料主要反映了（ ）

A. 江南地区的开发 B. 金与南宋的对峙
C. 宋代商贸的繁荣 D. 经济重心的南移

5. 某校历史兴趣小组在一次探究活动中，搜集了以下相关材料：“文成公主入藏”“宣政院”“郑成功收复台湾和台湾府的设立”“顺治册封达赖喇嘛”。其探究主题可能是（ ）

A. 政权分立与民族交融 B. 统一多民族国家的发展
C. 君主专制统治的强化 D. 明清抗击外来侵略斗争

6. 以“恰当地利用自然规律和‘人工’来开发和利用自然”为指导思想所编著的，后传到国外被誉为“中国 17 世

纪的工艺百科全书”的科技巨著是（ ）

- A. 《齐民要术》 B. 《本草纲目》 C. 《天工开物》 D. 《农政全书》

7. “县城（上海）坐落在南方，东浦西郊道里长。美界独居河以北，法前英后处中央。”这一现象的出现，可能始于哪一条约签订之后（ ）

- A. 《南京条约》 B. 《天津条约》 C. 《北京条约》 D. 《辛丑条约》

8. 下图可以用来说明（ ）



- A. 北伐战争 迅速推进 B. 农村革命根据地的发展
C. 敌后抗日根据地壮大 D. 解放战争在全国的胜利

9. “20世纪50年代中国农村的变化是组织和心理上的。捐税和地租的重担从穷人的背上移开了；拥有土地不再意味着拥有支配别人的权力。”这种变化出现的原因是（ ）

- A. 土地改革的完成 B. 农业合作化高潮的到来
C. 人民公社的成立 D. 家庭联产承包责任制的推广

10. 如图照片是周恩来总理在万隆会议上发言的场景。该照片可以用来说明（ ）



- A. 中国首次提出和平共处五项原则 B. 中国力争恢复在联合国合法席位
C. 中国加强同亚非各国的团结合作 D. 改善中美关系成为两国共同要求

11. 在地冻天寒的白山黑水间，面对着日寇的疯狂“围剿”，杨靖宇孤身战斗到生命的最后一刻；为甩掉中国“贫油国”的帽子，“铁人”王进喜“宁可少活二十年，拼命也要拿下大油田”；“两弹一星”功臣钱学森放弃在美国的体面生活，克服重重阻挠回到祖国怀抱。这些事迹共同体现了（ ）

- A. 艰苦创业精神 B. 自力更生精神

C. 团结协作精神

D. 爱国主义精神

12. 西方曾有人断言：社会主义和市场经济不可能兼容，社会主义不可能搞市场经济。党的十一届三中全会以来的改革开放实践和理论总结，有力而响亮打破了这个谶言。明确建立社会主义市场经济体制改革目标的是（ ）

A. 中共十二大

B. 中共十四大

C. 中共十五大

D. 中共十九大

13. 《汉谟拉比法典》规定：拐带奴隶、帮助奴隶逃跑或窝藏奴隶者，都要被处以死刑。拥有公民权的自由民的地位要高于无公民权的自由民。据此可知，它（ ）

A. 维护奴隶主利益

B. 主张君权神授

C. 提倡自由与平等

D. 是欧洲民法的基础

14. 地理知识不再囿于一个地区或一个大陆，整个地球的外形弄清楚了，接近真实的世界地图也制成了。这说明新航路开辟（ ）

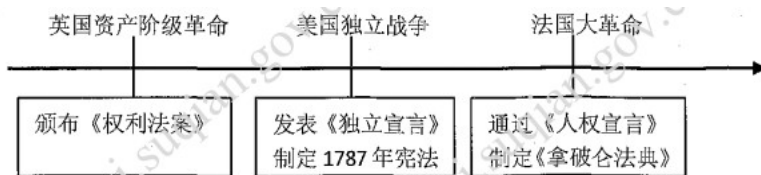
A. 有助于世界市场的形成

B. 促进了西欧资本主义发展

C. 加剧了殖民扩张与掠夺

D. 使世界观念逐步确立起来

15. 对下图反映的学习主题概括最准确的是（ ）



A. 欧洲迈入近代社会

B. 资本主义制度的初步确立

C. 殖民地人民的反抗

D. 资本主义制度的巩固扩展

16. 工业革命之初，修筑公路为解决交通问题发挥了重大作用，但四轮马车等落后的交通工具，已不能满足工业飞速发展的需求。下列发明较早解决这一问题的是（ ）

A. 蒸汽机车

B. 汽船

C. 内燃机

D. 汽车

17. 19 世纪晚期，英国哲学家斯宾塞用“适者生存”来解释社会历史；法国哲学家孔德提出了社会有机体论；英国生物学家赫胥黎发表了《进化与伦理》。这说明进化论（ ）

A. 打破了“上帝创造万物”的神创论

B. 成为欧洲自然科学的绝对权威

C. 在社会科学领域产生了广泛的影响

D. 奠定了科学的人类起源说的基础

18. 手工工场迅速发展，为解决劳动力问题，政府颁令准许商人将整个村庄连同农奴一起买去，让农奴一边种田一边做工，但农奴和土地不准分开买卖。材料主要表明俄国（ ）

A. 开启了近代化 进程

B. 农奴制得到进一步强化

C. 走上了资本主义道路

D. 农奴制的残余仍然存在

19. 1927年至1928年，苏联发生了严重的粮食收购危机，斯大林认为危机出现的原因是富农阶级的蓄意破坏，其思想根源是对私有经济和个体经济的否定。为此，斯大林（ ）

- A. 推行战时共产主义政策
- B. 完善经济管理体制
- C. 发动玉米种植运动
- D. 加快农业集体化进程

20. 如图壁画是美国艺术家威廉·格罗柏创作的《修建大坝》（局部），是典型的1930年代赞颂工人的作品。该作品体现了罗斯福新政的哪项内容（ ）



- A. 调整农业政策
- B. 推行“以工代赈”
- C. 建立社会保障制度
- D. 加强对工业的计划指导

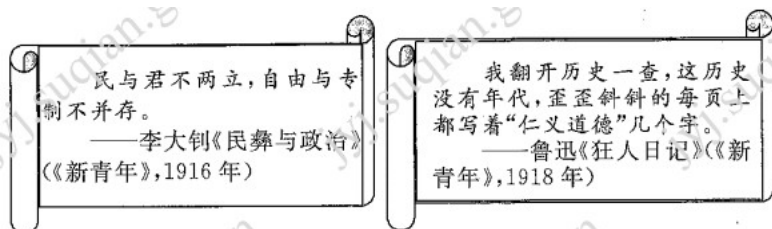
二、非选择题：共4题，第21题8分，第22题7分，第23题7分，第24题8分，共30分。请把每题答案写在答题卡对应位置上。

21. 一百多年前，陈独秀创办《青年杂志》（从第二卷起，改名为《新青年》），拉开了波澜壮阔的新文化运动的大幕。阅读下列材料，回答问题。

材料一 袁世凯推行独裁统治，从1912年到1914年公布了一系列法律和命令，规定总统或地方督军可以宣布“戒严”警察有权监控社会团体和出版物。特别是1915年帝制运动期间，当局大量查封反对派报刊，北京的日报减少到20家左右，上海的减少到5家，汉口则只剩下2家了。袁世凯政府与日本签订“二十一条”后，陈独秀受到很大刺激。他认为中国进行政治革命意义不大，中华民国不过是一块招牌。中国必须“从思想革命开始”。要做到这一点，就办杂志宣传新思想。

——摘编自刘统《火种——寻找中国复兴之路》

材料二



材料三 1920年6月，陈独秀、李汉俊等人在《新青年》编辑部成立了中国共产党的第一个组织，即后人所称的“中共上海发起组”。其后，《新青年》成为党的刊物，陈独秀邀请早期党员陈望道、李汉俊、李达等先后加入编辑部。9月，《新青年》第八卷第一号出版，内容突出了无产阶级革命，发表了陈独秀的《谈政治》和《对于时局的我见》，运用马克思主义解剖中国社会、政治。1921年中国共产党第一次

全国代表大会正式宣告中国共产党成立后,《新青年》就顺理成章地成为中共中央的机关刊物。

——摘编自田子渝、徐方平、马建强《马克思主义在中国早期传播的历史背景、演进历程和著作回顾》

- (1) 据材料一概括《青年杂志》创办的原因。
- (2) 据材料二,分别指出李大钊、鲁迅批判的矛头指向什么?
- (3) 综合上述材料并结合所学知识,简析新文化运动 意义。

22. 工业化是近代以来中国人的不懈追求,也是富强之梦的必经之路。阅读下列材料,回答问题。

材料一 1872年,李鸿章提出改“土车为铁路”的主张,在当时遭到一片反对。奕诉深知会遭到顽固派的强烈反对,认为此事“无人敢主持”。反对者提出修筑铁路将“有碍民间车马及往来行人,徒滋骚扰”,还有人上奏说铁路会惹怒神灵,招来巨大灾难。洋务派重要人物刘坤一以圆滑著称,知道反对修铁路者力量强大,所以上奏时模棱两可,认为修与不修各有利弊。最后修筑铁路的争论以洋务派失败告终。

——摘编自雷颐《李鸿章与晚清四十年》


材料二 20世纪30年代外资企业在中国采煤、冶铁。石油和电力工业的总产量分别占到了56.8%,95%、100%和77.1%,在自来水、电车和煤气中的产量份额也分别高达50.7%、82.8%和100%。外资企业凭借自己在资本、经营乃至政治上的优势,常打压和兼并民族资本竞争对手,在1917-1931年间,有18家中资纱厂,被外国资本以借款抵押等方式吞并。

——许涂新、吴承明主编《中国资本主义发展史》

材料三 中国主要工业产品产量指数(以1978年为100)

	1952	1958	1970	1977	1980	1990	2000	2010	2016	2020
钢	4.3	25.2	56.0	75.0	116.8	208.8	404.3	2005.1	2541.3	3350.4
原煤	10.7	43.7	57.3	89.0	100.3	174.8	161.5	523.5	551.9	631.1
原油	0.4	2.2	29.5	90.0	101.8	132.9	156.7	195.1	191.9	187.2
发电量	2.8	10.7	45.2	87.1	117.2	242.1	528.3	1639.6	2393.8	3031.6

——资料来源:对应年份《中国统计年鉴》和《中华人民共和国2020年国民经济和社会发展统计公报》



——资料来源：根据联合国统计局数据绘制

- (1) 据材料一，归纳“修筑铁路的争论以洋务派失败告终”的原因。
- (2) 据材料二，概括制约中国近代民族经济发展的重要因素。
- (3) 据材料三，概括指出我国工业成就的主要表现。
- (4) 综合上述材料从中国工业化的历程中，你得到什么启示？

23. 阅读下列材料，回答问题。

材料一 在1870—1871年，西方服饰、太阳历法，以及星期天节假日就已经被采用了。1872年11月，一项法令确定西方服饰作为官方礼服，西服于是成为政府官员的规定服饰。1876年又颁布法令，规定双排扣长礼服为正式场合的标准盛装。

1803年时，日本只有550所学校，到了明治维新时期已经有了超过1.1万所学校，用以满足大部分人口的教育需求。1872年，一份国民教育计划要求建立一个全国性的三级公共学校网络。

——马里乌斯·B·詹森主编《剑桥日本史（第5卷）19世纪》

材料二 由于明治维新的不彻底性，政治上掌握统治大权的多是封建武士出身者，武士道精神被继承和发展，一批资产阶级化的“新武士”（士族）活跃在各领域且成为主导力量。至1880年代，中央及地方官吏的74%仍是士族，昭和时代军部法西斯魁首东条英机等也是武士出身。日本实现民族独立，摆脱沦为殖民地半殖民地危机后，很快就对东亚弱小邻国进行领土扩张。正是将自己迅速转化为压迫民族才使得日本迅速崛起。东条英机一上台就发动了太平洋战争，日本法西斯统治到达了顶点。也正是太平洋战争加速了其军事扩张走向了终结。日本法西斯最终走向了灭亡。

——摘编自朱东来《大国崛起》

- (1) 据材料一概括指出明治维新改革措施。
- (2) 据材料二，概括日本明治维新的积极影响和消极影响。
- (3) 综合上述材料，从日本的发展中，我们得到的经验和教训分别是什么？

24. 阅读下列材料，回答问题。

材料一 巴黎和会的决策者经过几个月激烈的讨价还价，最后拟定了对德和约，以最后通牒的方式迫使德国无条件接受和约。《凡尔赛和约》对德国的惩治非常苛刻。阿尔萨斯—洛林归还法国，萨尔煤矿归还法国开采；德国承认奥地利、波兰等国独立。剥夺德国在非洲和太平洋的全部海外殖民地，由主要战胜国英国、法国、比利时和日本以“委任统治”形式予以瓜分。

——摘编自《世界现代史（第二版）上册》。

材料二 第二次世界大战结束时，美国雄厚的经济和军事实力为其全球扩张创造了条件。杜鲁门上台后曾一再声称，“全世界应该采取美国制度”“不管我们喜欢与否，未来（国际）经济格局将取决于我们！”美国当局认为，共产主义“成为世界上一切邪恶的根源。”二战后，苏联经济虽然在第二次世界大战期间遭到严重破坏，但它的军事力量却大大增强，军队人数近 1140 万。

——摘编自吴于廑、齐世荣《世界史现代史编（下卷）》

材料三

1999 年二十国集团成立，成员国除西方七国以外，包括中、俄、印、巴西、南非等新兴国家。

2000 年，欧盟国内生产总值已大体与美国相当，成为在经济领域唯一能与美国抗衡的经济体。

2003 年，美国发动伊拉克战争，遭到传统盟友法、德等国的坚决反对。

2008 年，美元已无法再占据二战后唯一世界货币的地位。

2011 年，中国国内生产总值位列世界第二位。

——摘编自《世界现代史（第二版）下册》

- (1) 据材料一概括巴黎和会的实质。“一战”结束后，帝国主义在全球范围内建立的新秩序名称是什么？
- (2) 据材料二归纳冷战爆发的原因。结合所学知识，指出美国遏制苏联的军事手段是什么？
- (3) 材料三反映了世界发展的主要趋势是什么？对美国有何影响？
- (4) 综合上述材料，概括影响世界格局演变的关键因素。

