

2010年全国中考按课标汇编——中国古代史部分

一、中国古代史

(一)中华文明的起源

【内容标准】

(1) 以元谋人、北京人等早期人类为例，了解中国境内原始人类的文化遗产。

1. (2010年威海市) 小华在阅读一本有关我国境内远古居民生活情况的历史书时，了解到有一群距今约三万年的远古人类，模样与现代人基本相同，已掌握磨光和钻孔技术，并已会人工取火。你认为这群远古人类应是 (C)
- A. 元谋人 B. 北京人 C. 山顶洞人 D. 半坡原始居民
1. (2010年娄底市) 某外国朋友想考察我国境内最早的人类遗址，他应该去 (A)
- A. 云南元谋 B. 浙江河姆渡 C. 北京周口店 D. 湖南道县
- (2010年岳阳市) 你认为下列原始人类中距离我们最为久远的是：(A)
- A. 元谋人 B. 北京人 C. 河姆渡人 D. 半坡人
10. (2010年深圳市) 火的使用是人类利用自然力的一个重大进步。迄今为止的考古证明，我国最早使用天然火的原始人类是 (B)
- A. 元谋人 B. 北京人 C. 河姆渡人 D. 半坡人
- () 1. (2010年湘潭市) 据报道，安徽发现的繁昌人距今大约有180万年。如果这一结论确凿的话，可以把中国已知最早人类的历史向前推进(A)
- A. 10万年 B. 20万年 C. 100万年 D. 110万年
- 1 (2010年邵阳市) 我国境内已知的最早人类是 (A)
- A. 元谋人 B. 北京人 C. 半坡人 D. 河姆渡人
- (2) 简述河姆渡遗址、半坡遗址等原始农耕文化的特征。
1. (2010年山东聊城市) “春种一粒粟，秋收万颗籽。”据考古发现，使用磨制石器、种植粟的是 (D)
- A. 北京人 B. 山顶洞人 C. 河姆渡居民 D. 半坡居民
1. (2010年盐城市) 水稻是盐城地区的主要粮食作物之一。下列最早大量种植这种作物的原始农耕居民是 (C)
- A. 元谋人 B. 北京人 C. 河姆渡居民 D. 半坡居民
- 1 (2010年滨州市) .河姆渡和半坡原始居民过上定居生活的最主要原因是 (A)
- A. 农业生产的出现 B. 火的使用 C. 建造房屋 D. 使用陶器
1. (2010年衡阳市) 某历史纪录片《半坡原始居民》，介绍了半坡人生活的历史信息。其中介绍错误的是 A
- A. 生活在长江流域 B. 住着半地穴式房屋
C. 种植粮食作物粟 D. 使用磨制石器生产
1. (2010年苏州市) 2009年11月，被确认为我国发现的最早人工栽培水稻地区之一的苏州草鞋山遗址又有新的考古发现，进一步丰富了其文化内涵。在下列远古人类中，也已经种植水稻的是 (D)
- A. 元谋人
B. 山顶洞人
C. 半坡人
D. 河姆渡人



1. (2010年福建莆田市) 我国较早种植水稻的是 D

A. 元谋人 B. 北京人 C. 半坡居民 D. 河姆渡居民

1. (2010年菏泽市) 黄河流域是中华文明的发祥地之一, 最能体现该地区原始农耕文化成就的应该是 (A)

A. 种植粟 B. 种植水稻 C. 人工取火 D. 住干栏式房子

19 (2010年连云港市) . 较早种植水稻并居住于长江流域干栏式房屋的是 (D)

A. 元谋人 B. 北京人
C. 半坡居民 D. 河姆渡居民

1. (2010年广东省) 下列最能够体现河姆渡原始农耕文化成就的是 (B)

A. 粟的种植 B. 水稻的种植 C. 玉米的种植 D. 小麦的种植

(3) 知道炎帝、黄帝和尧、舜、禹的传说, 了解传说和史实的区别。

1. (2010年南京市) 相传, 造出衣裳、舟车、宫室等, 为后世的衣食住行奠定基础的“人文初祖”是 (A)

A. 黄帝 B. 尧 C. 舜 D. 禹

1. (2010年湖北省宜昌市) 右图是宜昌市西陵山的螺祖庙, 庙内供奉的是民间称为“蚕母娘娘”的螺祖。相传, 她的丈夫就是被后人尊称为“人文初祖”的 (D)

A. 尧 B. 舜
C. 炎帝 D. 黄帝

21. (2010年湛江市) 中国是世界四大文明古国之一, 她的第一个王朝的建立者是 (D)

A. 秦始皇 B. 齐桓公 C. 启 D. 禹

1. (2010年青岛市) 在古希腊神话中, 众神经常参加人间战争。传说在中国古代, 也有一场“风伯御风, 雨师行雨”的战役, 在这场战役中, 炎帝、黄帝部落大败蚩尤部落。该战役发生在 (B)

A. 牧野 B. 涿鹿 C. 长平 D. 城濮

1. (2010年三明市) 中国台湾某旅游团要去祭拜中华民族的“人文初祖”, 他们应该去 (B)

A. 大禹陵 B. 黄帝陵 C. 秦始皇 D. 孙中山陵


(二) 国家的产生和社会变革

【内容标准】

(1) 简述夏朝建立的史实, 知道禅让制到王位世袭制的演变。

(2) 了解夏、商、西周三代的更替。

1. (2010年河南省) 安阳历史悠久, 文化遗存丰富。关于下列图片的表述, 不正确的一项是 (A)



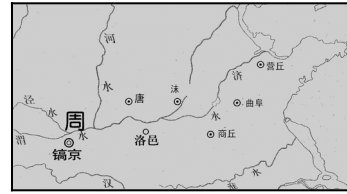
图一: 司母戊鼎 图二: 甲骨文 图三: 殷墟宫殿复原图

A. 图一反映了商朝的冶铁业十分发达
B. 图二说明商朝已有了比较成熟的文字

- C. 图三表明安阳曾经是商朝统治的中心
D. 上述三幅图支持了安阳是我国著名古都的观点

1 (2010年佛山市) . 如右图, 镐京与曲阜的关系是 (A)

- A. 王都与封国都邑 B. 均为封国都邑
C. 王都与郡府 D. 均为郡府



(3) 说出西周分封制的主要内容。

1. (2010年泰安市) “退避三舍”、“纸上谈兵”等成语故事均出自春秋战国时期各诸侯国间发生的著名战役。诸侯国出现源于西周的 (D)

- A. 世袭制 B. 奴隶制 C. 禅让制 D. 分封制

2 (2010年滨州市) 史书记载, 西周建立后“封建亲戚, 以蕃屏周”“兼制天下, 立七十一国”。这反映出西周实行的政治制度是 (C)

- A. 世袭制 B. 郡县制 C. 分封制 D. 宗法制

1 (2010年东营市) . 第十一届全运会于2009年10月在山东省举行, “和谐齐鲁风, 精彩全运情”等是本届全运会的宣传口号。那么, 用齐鲁代表山东应追溯于古代的什么制度 (B)

- A. 禅让制 B. 分封制 C. 世袭制 D. 郡县制

2. (2010年苏州市) “周幽王烽火戏诸侯”、“孔子周游列国”, 与“诸侯”“列国”的产生相关的制度是 (C)

- A. 禅让制 B. 世袭制 C. 分封制 D. 郡县制

1. (2010年扬州市) “封建亲戚, 以藩屏周”反映的是西周时期实行的 (B)

- A. 禅让制 B. 分封制 C. 郡县制 D. 行省制

1. (2010年泉州市) 制度创新是政治文明的体现。下列制度创建于西周时期的是 () A

- A. 分封制 B. 郡县制 C. 科举制 D. 行省制度

(4) 知道春秋争霸和战国七雄的史实。

2 (2010年山东聊城市) 战国时期社会大变革的最主要表现是 (C)

- A. 争霸战争频繁 B. 铁器、牛耕使用 C. 封建制度确立 D. 诸子百家争鸣

1 (2010年山西省) . 战国初期, 三国分晋的卿大夫是 (B)

- ①韩 ②赵 ③楚 ④魏

- A. ①②③ B. ①②④ C. ①③④ D. ②③④

2. (2010年衡阳市) “他对内整顿朝政, 对外‘尊王攘夷’, 终于九合诸侯, 一匡天下, 成就了春秋五霸之首的伟业。”这里的“他”是 B

- A. 周武王 B. 齐桓公 C. 晋文公 D. 楚庄王

29 (2010年连云港市) “对内整顿朝政, 对外‘尊王攘夷’. 终于成就了春秋之首的伟业。”材料中的这位历史人物就是 (A)

- A. 齐桓公 B. 晋文公 C. 宋襄公 D. 楚庄王

20. (2010年十堰市) 战国时期是中国古代大变革时期, 秦国进行了以“以法治国”为主要特征的商鞅变法, 下面商鞅的言论和采取的主要措施中最能体现“以法治国”思想的是 (C)

- A. 建立县制 B. 鼓励农民开垦荒地
C. “法之不行, 自上犯之” D. “治国不一道, 便国不法古”

1. (2010年呼和浩特市) 战国末期, 使东方六国再也无力抵挡秦国强大攻势的战役是 (D)

- A. 城濮之战 B. 桂陵之战 C. 马陵之战 D. 长平之战

(5) 通过商鞅变法等史实, 认识战国时期的社会变革。

2 (2010年广东省) 在历史课上, 同学们畅所欲言, 内容涉及: 立木为信、国家承认土地私有和奖励耕战等。据此判断同学们所谈论的是 (A)

- A. 商鞅变法 B. 北魏孝文帝改革 C. 贞观之治 D. 开元盛世

2 (2010年青岛市) 在我国古代, 人们常以“牛”、“耕”作为名、字, 如孔子的弟子司马耕, 字子牛; 晋国有位大力士姓牛字子耕, 这反映了牛耕技术在当时备受人们推崇。牛耕的使用开始于 (A)

- A. 春秋战国时期 B. 秦汉时期
C. 隋唐时期 D. 宋元时期

(2010年岳阳市) 战国时期的商鞅变法在秦国确立了: (B)

禅让制 B. 土地私有制 C. 王位世袭制 D. 科举制

2. (2010年南京市) 战国时期, 商鞅变法为统一大业的实现奠定了基础。读右图。该变法发生在何处 (C)

- A. ① B. ② C. ③ D. ④



13. (2010年淮安市) 农业是我国两千多年封建社会的立国之本,

农业生产技术的革新历来受到重视。下列哪一幅图片反映了我国农业发展史上的一次革命 (D)



- A. 筒车 B. 铁农具 C. 都江堰水利工程 D. 牛耕

1. (2010年黄石市) 商鞅变法是战国时期效果最显著的变法。下列选项属于该变法内容的是 (B)

- A. 把土地分给天子亲属 B. 国家承认土地私有
C. 扩充国学规模 D. 设立直属中央的三司

2. (2010年湖北省宜昌市) “千耦其耘”记载于《诗经》, 描述了西周时期大规模二人并耕 (人力) 的集体耕作场景, 春秋时期可以看到一种新的耕作场景是 (B)

- A. 使用耒耜 B. 牛耕 C. 使用耨车 D. 使用曲辕犁

1 (2010年东莞市) . 诸侯争霸是春秋时期的时代特征。最早“霸诸侯, 一匡天下”的是 (A)

- A. 齐桓公 B. 晋文公 C. 秦穆公 D. 楚庄王

2 (2010年东莞市) 战国时期, 各诸侯国竞相改革成为时代风潮。推动这一风潮出现的根本原因是 (A)

- A. 铁器 B. 个体小农的出现 C. 百家争鸣的影响 D. 新兴地主阶级的推动

2 (2010年福州市) 战国时期有一户人家: 老大因作战有功获得爵位, 老二在家勤于耕作免除徭役, 老三则被国君派往小县为吏。据此判断这户人家最有可能生活在 (D)

- A. 齐国 B. 楚国 C. 燕国 D. 秦国

(三)统一国家的建立

【内容标准】

(1) 了解秦兼并六国和秦始皇加强中央集权的史实, 探讨统一国家建立的意义。

3. (2010年福建莆田市) 我国历史上第一个统一的多民族的中央集权国家是 D

- A. 夏朝 B. 商朝 C. 西周 D. 秦朝

(2 (2010年龙岩市) 统一是历史发展的主流。我国第一个统一的中央集权的封建国家是 C
A. 夏朝 B. 商朝 C. 秦朝 D. 唐朝

3. (2010年娄底市) 秦朝是我国历史上第一个统一的多民族的中央集权国家, 下列史实与其不符的是 (B)

A. 推行郡县制 B. 罢黜百家 C. 修筑长城 D. 统一文字

10. (2010年浙江省丽水市) “地方推行郡县制, 小篆成为规范字, 焚书坑儒满专制。”这一顺口溜反映的是 实行的统治政策。 () A

A. 秦始皇 B. 汉武帝 C. 唐太宗 D. 宋太祖

2 (2010年莱芜市) 如你生活在秦朝时期, 遇上了当时的一个官吏, 你认为这位官吏说的哪些话是可信的 ①我刚刚拜会了我县的县令 ②官府用小篆字体发布了一个告示 ③朋友送给我一部《伤寒杂病论》 ④我下个月送儿子去太学读书 (A)

A. ①② B. ①③ C. ③④ D. ②④

3 (2010年山东聊城市) 郭沫若说: “春秋末年以来, 蓬蓬勃勃的自由思索的那种精神, 事实上因此而遭受了一次致命的打击。”“致命的打击”缘于 (B)

A. 商鞅变法 B. 秦始皇“焚书坑儒”

C. 陈胜吴广起义 D. 汉武帝削弱封国

1. (2010年泰州市) “秦王扫六合, 虎视何雄哉! 挥剑决浮云, 诸侯尽西来。”这首诗中赞颂的历史人物是

A. 秦始皇 B. 汉武帝 C. 唐太宗 D. 宋太祖

解析: “秦王扫六合”“诸侯尽西来”, 讲述的是秦灭六国。答案: A

3 (2010年南京市) .秦始皇和汉武帝为安定北边, 都曾派兵大举反击啊一游牧民族的进扰 (D)

A. 突厥 B. 女真 C. 契丹 D. 匈奴

3 (2010年扬州市) 秦朝是我国历史上第一个统一的多民族的中央集权国家。当时通行于全国各地的货币是 (C)



A



B



C



D

2. (2010年黄石市) 秦朝御史大夫分管的是 (C)

A. 行政 B. 军事 C. 监察 D. 县令任命

5 (2010年东莞市) 公元前 230 年——前 221 年, 秦王采用远交近攻策略“扫六合”。秦王最后“扫”的是 C

A. 楚国 B. 燕国 C. 齐国 D. 魏国

6 (2010年东莞市) 毛泽东有诗云: “劝君少骂秦始皇……百代犹行秦法政。”“秦法政”不包括 A

A. 分封制 B. 中央集权制 C. 郡县制 D. 皇帝制

12. (2010年深圳市) 开创了君主专制中央集权政治制度的皇帝是 (C)

A 夏禹 B 汉武帝 C 秦始皇 D 唐太宗

12. (2010年深圳市) 开创了君主专制中央集权政治制度的皇帝是 () C

A 夏禹 B 汉武帝

C 秦始皇 D 唐太宗

3. (2010年梅州市) 秦始皇是我国第一个统一的封建王朝的皇帝。他所采取的下列措施

中，就其对历史发展的作用而言，不具进步意义的是 (D)

- A. 实行郡县制
- B. 统一文字、货币和度量衡
- C. 修筑万里长城
- D. 焚书坑儒

3 (2010年岳阳市) 观察秦朝疆域图 (见下图) 结合所学地理知识, 请你判断秦朝疆域最西到达今天我国哪个省或自治区? (D)

- A、新疆维吾尔自治区、B 陕西省 C、西藏自治区 D、甘肃省



(2) 知道陈胜吴广起义。

(3) 列举汉武帝大一统的主要史实, 评价汉武帝。

3. (2010年黄石市) 汉武帝为解决诸侯国势力过大问题, 曾下令允许诸王将自己的封地分给子弟, 建立较小的侯国。汉武帝是接受了哪位大臣的建议采取这项措施的? (B)

- A. 董仲舒 B. 主父偃 C. 卫青 D. 司马相如

21. (2010年十堰市) 今年, 中央政府采取一系列措施加快新疆的建设和发展步伐。早在西汉时期, 中央政府就设置官员管辖新疆, 其最高军政长官名称为 (A)

- A. 西域都护 B. 安西都护 C. 北庭都护 D. 伊利将军

3 (2010年滨州市) 《大汉天子》是近几年的一部热播电视剧, “大汉天子”为推进我国首次大一统格局做出了重要贡献。在加强中央对地方的控制方面, 他采取的最重要一项措施是 (B)

- A. 设司隶校尉 B. 实行“推恩令” C. 北击匈奴 D. “罢黜百家, 独尊儒术”

3. (2010年盐城市) 陆上“丝绸之路”是连接亚欧的古代重要商路, 对开通此商路功劳巨大的是 (B)

- A. 董仲舒 B. 张骞 C. 玄奘 D. 鉴真

4. (2010年泰安市) 一年一度的高考圆了许多莘莘学子进入国家高等学府深造的梦。汉武帝时, 学生要进入全国的最高学府接受儒学教育, 必须到 (A)

- A. 长安 B. 洛阳 C. 咸阳 D. 开封

2 (2010年潍坊市) 观察右图, 其反映的信息包括 (A)

- ① 罢黜百家, 独尊儒术
- ② 击败匈奴, 安定边疆
- ③ 铸造钱币, 兴修水利
- ④ 奖励耕战, 变法图强

- A. ①②③ B. ②③④ C. ①③④ D. ①②④

4 (2010年山东聊城市) 右图是“单于天降”瓦当。单于是我国古代一少数民族最高首领的称号? (A)

- A. 匈奴 B. 契丹
- C. 女真 D. 蒙古

5 (2010年青岛市) 有学者认为, 匈奴曾是北方各游牧民族部落联的总称。秦汉之际, 第一次统一蒙古草原, 使匈奴成为横跨大漠万里的草原主人, 建立起强大国家的杰出首领是 (C)

- A. 铁木真 B. 松赞干布 C. 冒顿单于 D. 呼韩邪单于



“汉并天下”瓦当

哪



盟
数

31 (2010年威海市) 阅读下列材料:

材料一: 秦汉帝国实行中央集权制, 建立起一套官僚机构, 负责管理行政、军事、财政、司法、监察各方面的工作。地方上也设立各级行政机构, 由中央委派有俸禄的官员主持。这一套官僚系统在当时世界上是最先进、最有效的系统。

——马克壶主编《世界文明史》

请回答:

(1)根据材料一并结合所学知识指出，秦朝为加强中央集权在中央设立了哪些官职?在地方上推行了什么制度?汉武帝为加强中央集权在政治上采取了怎样的措施?(3分)

31. (1)丞相、太尉、御史大夫(各0.5分) 郡县制(0.5分)

允许诸王将自己的封地分给子弟，建立较小的侯国(或推恩令)。(1分)

4. (2010年盐城市)日本有蔡伦宫，法国有蔡伦博物馆……，蔡伦受到世界如此尊敬，是因为他(B)

A.发明了印刷术 B.改进了造纸术 C.发明了火药 D.制成了罗盘针

3 (2010年四川省成都市)汉武帝是中国历史上一位有雄才大略的皇帝，他统治期间颁布的“推恩令”，主要是针对西汉前期出现的

A.王国问题 B.货币不统一的问题
C.社会贫困的问题 D.思想混乱的问题

2. (2010年芜湖)一位旅游者在内蒙古呼和浩特市郊区纪念地拍摄了一幅纪念雕像(如右图)。你认为雕像中的两位人物是(B)

A.冒顿单于，王昭君 B.呼韩邪单于，王昭君

C.汉元帝，王昭君 D.冒顿单于，吕后



(4)讲述张骞通西域等史实;认识丝绸之路在中外交流中的作用。

1. (2010年乌鲁木齐市)细君和解忧公主的故事在新疆广为流传。下列史实与她们有关的是

A.张骞出使西域 B.班超经营西域 C.乌孙与汉朝联姻 D.回鹘与唐朝和亲

23. (2010年浙江省义乌市) 【材料一】《汉书西域传》记载：“鄯善国，本名楼兰，去阳关千六百里，去长安六千一百里。户千五百七十，口四万四千一百。”专家指出：作为南北两条丝绸之路的交汇点，楼兰城当时充分吸纳了来自东西各方交通和商业资源潜力，加之邻近孔雀河，河道密布而水量充盈，楼兰城曾经在丝绸之路上辉煌一时。

——2001年1月17日《南方都市报》

【材料二】楼兰曾有积粟百万，威服外国的壮举，曾有挟制丝路，左右西域的辉煌。然而人类活动的加剧以及水系的变化和战争的破坏，使原本脆弱的生态环境进一步恶化，最终导致楼兰地区由绿洲变成了荒漠。

——2001年1月18日《华声报》

日《华声报》

阅读材料，结合所学知识回答：(8分)

(1)途经楼兰王国商路的东方起点是哪一城市?(1分)

往西方贩运的货物主要有什么?(1分)

(2)根据材料二，指出楼兰王国消失的原因。(3分)

(3)要避免楼兰的悲剧重演，走可持续发展道路，我们应该遵循哪些原则?(3分)

23. (1)长安(1分) 丝绸、陶瓷、铁器、漆器等(写出其中的一点即给1分)

(2)人类活动的加剧，水系的变化，战争的破坏(每点1分，共3分)

(3)公平性原则。持续性原则。共同性原则(每点1分，共3分)

1. (2010年四川省宜宾市)中国自古以来就是一个多民族国家，中央政权历来重视对边疆少数民族地区的管辖。右图反映的是(B)



A.秦朝对今西北地区的管辖

B.西汉对今新疆地区的管辖

C.唐朝对今西北地区的管辖


D.清朝对今天山南北地区的管辖

3 (2010年威海市) 2010年5月17日,中央新疆工作座谈会在北京召开,会议指出:要加强民族团结,维护祖国统一,确保边疆长治久安。新疆开始隶属中央政府管辖,成为我国领土不可分割的一部分的事件是 (C)

- A. 张骞出使西域 B. 开辟丝绸之路
C. 西汉政府设立西域都护 D. 昭君出塞

11. (2010年山东省济宁市) 右图是当代史学研究者对汉代开辟的“丝绸之路”的评价,你认为材料中所提到的这一“主轴”的起点应该是 (B)

- A. 西汉的洛阳
B. 西汉的长安
C. 西汉的成都
D. 西汉的河西走廊



31 (2010年株洲市) (10分)阅读下列材料,结合所学知识回答问题。

材料一 2008年10月,中国与中亚五国政府展开“丝绸之路跨国联合中遗行动计划”,发

起组织“丝绸之路复兴之旅”大型采访考察活动。2010年中国将与中亚五国联合跨国申报“丝绸之路”,中的“沙漠之路”为世界文化遗产。——《中国新闻网》

材料二

人首马身纹裤图

新疆汉墓出土,图案中人首是西方人形象和希腊艺术风格,马身则是中国画法。

材料三 新中国成立后,党和政府高度重视新疆的发展。2010年5月17、19日,中央新疆

工作座谈会在北京召开,政府将举全国之力援助和推动新疆实现大发展。国家批准设立喀什

经济特区。——据《人民网》报道

请回答:

- (1)材料一中“丝绸之路复兴之旅”大型采访考察活动的起点和终点在哪里?(2分)根据材料二“人首马身纹裤”图案分析丝绸之路的作用。(2分)
(2)丝绸之路经过的新疆地区自古以来就是中国的领土。古代中央政府注重加强对新疆地区的管辖,试举一例说明。(2分)
(3)根据材料三,结合所学知识分析国家批准设立喀什经济特区的作用。(4分)



3. (2010年湖北省宜昌市) 电视剧《昭君出塞》,再现了两千多年前,王昭君远离家乡出塞的情景。昭君出塞为汉与某一少数民族的友好相处和文化交流做出了重大贡献。这里的少数民族指的是 (C)

- A. 鲜卑族 B. 氐族 C. 匈奴族 D. 羌族

22 (2010年湛江市) 有人说:“2000年前,丝绸是中国的名片;1000年前,瓷器是中国的名片;500年前,茶叶是中国的名片……”,其中与“丝绸是中国的名片”有关的历史事件是 (A)

- A. 张骞通西域 B. 商鞅变法 C. 秦始皇加强中央集权 D. 百家争鸣

(四)政权分立与民族融合

【内容标准】

(1) 了解三国鼎立形成的史实。

9. (2010年咸宁市) 曹操军队以少胜多、大败袁绍军队的官渡之战发生于哪一年? (A)
 A. 200年 B. 208年 C. 220年 D. 222年

4 (2010年莱芜市) 4世纪时, 发生在东晋与前秦之间的著名战役是 (D)

A. 长平之战 B. 官渡之战 C. 赤壁之战 D. 淝水之战

4 (2010年滨州市) 观察下图, 政权“魏”的建立者是 (D)

A. 曹操 B. 刘备 C. 孝文帝 D. 曹丕



12. (2010年山东省济宁市) 下列事件不是发生在三国时期的是 (A)

①官渡之战 ②赤壁之战 ③淝水之战
 ④刘备称帝 ⑤孝文帝改革 ⑥三顾茅庐

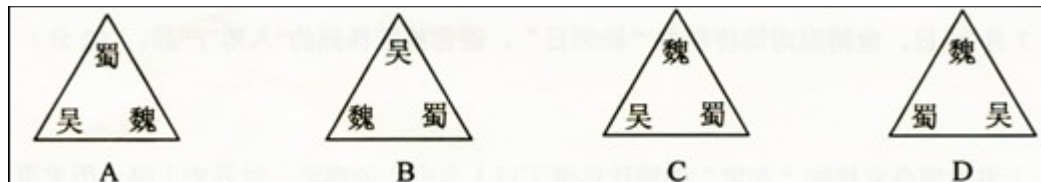
A. ①②③⑤⑥ B. ①②④⑤⑥

C. ①②③④⑤ D. ①③④⑤⑥

4. (2010年衡阳市) 2009年12月28日, 河南省文物考古研究所在安阳县发掘一座东汉大墓, 经考证, 确定为曹操高陵。下列事情中, 曹操所做的是 B

A. 淝水之战 B. 赤壁之战 C. 三顾茅庐 D. 建立魏国

3 (2010年株洲市) 图示法是学习历史的一种好方法. 它能将复杂的历史较直观形象的展示出来。下面哪幅图直观反映了三国鼎立的形势 D



20. (2010年杭州市) 2010年1月13日, 中国社会科学院在北京举办年度考古学论坛, “河南安阳曹操高陵”被列为2009年中国考古六大新发现之一, 引起了社会各个层面的普遍关注。下列关于曹操事迹的表述, 不正确的是 (D)

A. “挟天子以令诸侯”, 取得政治优势 B. 与刘备、孙权联军在赤壁展开激战

C. 完成北方的统一 D. 废掉汉献帝, 建立魏国

1 (2010年贵港市) .200年曹操在官渡之战中打败了哪一个军阀? (B)

A. 刘备 B. 袁绍 C. 孙权 D. 刘禅

2 (2010年安徽) .电视剧《三国》的热播引起了人们对曹操的关注。下列与曹操有关的史实是……【A】

①招贤纳士 ②官渡之战 ③赤壁之战 ④自立为帝

A. ①②③ B. ①③④ C. ①②④ D. ②③④

(2) 说出人口南迁和民族交往促进了江南开发的史实。

2. (2010年泉州市) 魏晋南北朝时期, 晋江流域得以开发的最主要原因是 () C

A. 统治者施行仁政 B. 社会比较稳定

C. 北方农民南迁带来先进工具和技术 D. 自然条件优越

(3) 概述北魏孝文帝促进民族融合的措施。

1. (2010年四川省眉山市) 三国两晋南北朝时期, 我国北方和西方的少数民族陆续内迁, 其中, 至今还存在的少数民族是

A. 匈奴族 B. 羌族 C. 鲜卑族 D. 氐族

2. (2010年呼和浩特市) (孝文帝) “诏不得以北俗之语言于朝廷, 若有违者, 免所居官。”对于诏令内容理解准确的是 (A)

- A. 在朝廷必须说汉语，违反者免其官职
- B. 采用汉族的法律，惩治违法的官员
- C. 朝廷令所有的鲜卑人都说汉语
- D. 朝廷有权惩处违法官员

11. (2010年深圳市) 实行向汉族学习的政策，促进了北方民族融合的是 (B)

- A 商鞅 B 北魏孝文帝 C 齐桓公 D 成吉思汗

23 (2010年湛江市) 改革是兴利除弊、振兴国家的重要手段。以下属于北魏孝文帝改革的内容是 (B)

- A. 颁布“推恩令”，加强监察制度 B. 鲜卑族改穿汉族服装
- C. 统一度量衡 D. 禁止鲜卑贵族与汉族贵族通婚

2. (2010年贵港市) 北魏孝文帝改革的重要意义是 (A)

- A. 加速了黄河流域民族大融合的过程 B. 学习汉族文化风俗
- C. 借鉴汉族政治和经济制度 D. 加强对经济和官吏的管理)

4 (2010年株洲市) “魏主引见朝臣，诏断北语，一从正音……年三十以上，习性已久，容或不可卒革。三十以下，见在朝廷之人，语音不听仍旧。若有故为，当降爵黜官……”这段材料反映了 北魏孝文帝改革中的哪项措施 D

- A. 迁都洛阳 B 实行官吏俸禄制 c. 颁布均田令 D. 讲汉语

3 (2010年东营市) 以下图片反映出的历史现象是 (A)



北魏文官俑



汉人胡食图

- A. 民族融合 B. 中外交往 C. 国统一 D. 经济发展

7 (2010年青岛市) “对于历史上任何一个闯入并扎根于农耕文化圈的游牧民族来说，接受同化是他们的终极命运”。北魏孝文帝顺应时代潮流，毅然进行改革。下列不属于孝文帝改革内容的是 (D)

- A. 说汉语 B. 穿汉服 C. 改汉姓 D. 以法治国

(五)繁荣与开放的社会

【内容标准】

(1) 了解隋唐科举制度的主要内容。

11. (2010年芜湖) 成语是我国语言文化的精华，很多成语都来源于历史故事。请将以下成语与相关的历史故事用线连起来。(5分)

- | | |
|-----------|------|
| 卧薪尝胆 | 城濮之战 |
| 破釜沉舟 | 巨鹿之战 |
| 退避三舍 | 吴越争霸 |
| 项庄舞剑，意在沛公 | 淝水之战 |
| 风声鹤唳，草木皆兵 | 鸿门宴 |

5. (2010年杭州市) 我国著名史学家钱穆在《中国历代政治得失》一书中讲到：“汉宰相是采用领袖制的，而唐代宰相则采用委员制。”这里的委员制是指 (C)

A.三分九卿制 B.科举制 C.三省六部制 D.内阁制

22. (2010年十堰市)我国由隋代开创直至清末才被废除的通过考试选拔官员的制度是 (C)

A.禅让制 B.世袭制 C.科举制 D.推举制

9. (2010年黄冈市)1905年清政府宣布废除科举考试,至此,历经1300多年的科举制度终于退出了历史舞台。科举制逐渐完善于 (B)

A.隋朝 B.唐朝 C.宋朝 D.明朝

30 (2010年苏州市)民族的强弱、国力的大小取决于人才的数量和质量。公开、公平地选拔人才是人们美好的愿望。阅读下列材料:

材料一 “虽有农与工肆之人,有能则举之,高予之爵,重予之禄,任之以事……故官无常贵,而民无终贱,有能则举之,无能则下之。”

——《墨子》

材料二 (唐太宗)尝私幸端门,见新进士缀行而出,喜曰:“天下英雄入吾彀中(原指箭射出去所能达到的范围,后用以比喻牢笼,圈套)矣。”……正所谓“太宗皇帝真长策,赚得英雄尽白头。”

——《唐摭言》

材料三 科举弊政乎,科举法之最善者也。古者世卿,《春秋》讥之。讥世卿,所以立科举也。世卿之弊,世家之子,不必读书,不必知学,虽呆愚淫佚,齐循例入政。则求读书求学者必少,如是故上无才。齐民之裔,虽复读书,虽复知学,而格于品第,未从得官,则求读书求知学者亦少,如是故下无才。上下无才,国之大惠也。科举立,斯二弊革矣。

——梁启超《变法通议·论科举》

请回答:

(1)根据材料一,墨子有关官员选拔的观点是什么?(1分)

(2)材料二、三都涉及到历史上的什么选官制度?(1分)试依据这两则材料并结合所学知识简述其影响。(2分)

(3)概括指出上述选官制度的实质是什么?(1分)并援引材料二中的某一句话加以印证。(1分)

30. (1)不论贵贱,选贤用能(或尚贤)。

(2)科举制度。改善了用人制度;扩大了官吏来源;促进了教育事业的发展;推动了文学艺术的繁荣;选拔官吏的权力从地方集中到中央,加强了中央集权;打破了特权垄断,具有一定的公平公正的合理性。

(3)维护封建统治秩序;“天下英雄入吾彀中矣”。

14 (2010年淮安市)唐朝是我国诗歌创作的黄金时代,唐诗的繁荣与科举考试进士科重视考诗赋有密切关系。诗赋成为进士科考试内容下列哪位皇帝有关。(B)

A.隋炀帝 B.唐太宗 C.武则天 D.唐玄宗

5 (2010年南京市).一位唐朝官员说:“国家取士,远法前代,进士之科,得人为盛。”材料反映的选官制度正式创立于 (B)

A.隋文帝 B.隋炀帝 C.唐太宗 D.唐玄宗

3. (2010年邵阳市)下列关于科举制的说法中,正确的是 (B)

A.开创于唐初,废除于清末 B.通过分科考试选拔官员的制度
C.毫无公平公正性可言 D.看重门第,不利于选拔人才

5 (2010年滨州市)“水国寒消春日长,燕莺催促花枝忙。风吹金榜落凡世,三十三人名字香。”这首《及第谣》与下列哪一制度直接相关 (C)

A.行省制度 B.三省六部制度 C.科举制度 D.中央集权制度

2 (2010年山西省) 魏晋时期, 官员大多数从高门权贵子弟中选拔, 到了唐玄宗开元年间, 科举出身的宰相占到了三分之二。这种变化说明 (B)

- A. 唐政府不任用权贵子弟 B. 唐政府力求以才学选官
C. 唐朝社会文学艺术繁荣 D. 唐朝重视教育事业的发展

5 (2010年山东聊城市) “风吹金榜落凡世, 三十三人名字香。”“十年寒窗无人问, 一举成名天下知。”诗句反映的现象与下列哪一制度的推行直接相关? (C)

- A. 分封制 B. 郡县制 C. 科举制 D. 行省制

2. (2010年重庆市) 我国的科举制度对西方近代文官考试制度的形成产生了较大影响, 有人称它为中国古代的“第五大发明”。科举制度正式创立于 (A)

- A. 隋朝 B. 康朝 C. 明朝 D. 清朝

3 (2010年菏泽市) 古代“状元、榜眼、探花”的称号取得的方式是 (C)

- A. 皇帝御赐 B. 九品中正制度 C. 科举考试制度 D. 察举制度

(2) 列举“贞观之治”的主要内容, 评价唐太宗。

3. “贞观之治”为唐朝的强盛奠定了坚实的基础。下面有关“贞观之治”出现的原因的叙述, 不正确的是 (D)

- A. 重视纳谏 B. 吸取隋亡教训
C. 轻徭薄赋 D. 任用姚崇为相

4 (2010年岳阳市) “贞观之治”局面的出现与下列哪位皇帝有关: (A)

- A. 唐太宗 B. 汉武帝 C. 武则天 D. 唐玄宗

27. (2010年衡阳市) (14分) 在推进现代化和实现民族复兴的伟大进程中, 实行科学协调发展, 正确处理各种矛盾, 构建和谐社会, 是一个重要的政治保证。阅读材料, 结合所学知识, 回答有关问题:

[古代经验教训]

材料一 《汉书·食货志》记载: “至于始皇, 遂并天下……收泰半之赋, 发闾左之戍 (戍: 服兵役), 男子力耕不足粮饷, 女子纺织不足衣服。”董仲舒也说: 秦朝“田租口赋……二十倍于古”。

(1) 秦朝建立了中国历史上第一个大一统王朝, 但它统治残暴, 因而二世而亡, 十分短命。

材料一反映了秦朝暴政哪些方面的表现? (4分)

材料二 唐太宗曰: “夫以铜为镜, 可以正衣冠; 以古为镜, 可以见兴替; 以人为镜, 可以知得失。我常保此三镜, 以防己过。”

(2) 唐朝是一个长治久安的朝代并创造了中国古代文明的辉煌, 一个重要的原因是, 调整政策, 理顺关系, 协调发展。材料二“以人为镜, 可以知得失”反映了唐初贞观政策哪一内容? 此外, 贞观政策在经济方面有何措施? (4分)

(14分) (1) 赋税沉重; 兵役、徭役繁重。 (4分)

(2) 知人善任, 重视纳谏。提倡节俭, 轻徭薄赋。 (4分)

26 (2010年东营市) (10分) 阅读下列材料, 结合所学知识回答问题。

材料一

(1) 上图反映了汉武帝时期哪一重大历史事件? (2分)

材料二 唐太宗说: “自古皆贵中华, 贱夷狄, 朕独爱之如一。”

(2) 材料二体现了唐太宗怎样的民族政策? (2分)
试举一例说明 (2分)



(3) 结合材料一、材料二，指出唐太宗与汉武帝在处理民族关系方式上的主要不同之处。(4分)

(1) 汉武帝派卫青、霍去病北击匈奴。(2分)

(2) 平等、开明的民族政策。(2分) 把文成公主嫁给松赞干布，唐蕃“合同为一家”。(2分)

(3) 汉武帝以战争征服为主；唐太宗以安抚(收服民心、和好)为主。(4分)

3 (2010年龙岩市) 俗话说“忠言逆耳，良药苦口”。下列能“以人为镜”、采纳魏征忠言的帝王是 C

A. 汉武帝 B. 隋炀帝 C. 唐太宗 D. 武则天

21、(2010年嘉兴市) [历史天空] (10分)

民以食为天，中国古代历朝重视农业生产。新中国成立后，我国在实践中明确提出农业是国民经济的基础。阅读材料，回答问题。

人民智慧 在我国农耕文明史上，集中了无数劳动人民的智慧。生产工具的重要发明和生产技术的发展推动了古代生产力的发展。

(1) 请列举两种我国古代劳动人民发明的农业生产工具。(2分)

帝王之道 “民，水也；君，舟也。水能载舟，亦能覆舟。”-----唐太宗

(2) 请说出唐太宗的这一治国思想在农业政策上的具体体现及其影响。(4分)

21、(1) 春秋时期铁农具；唐朝曲辕犁、筒车；宋朝秧马。(答出两种即可)

(2) 轻徭薄赋，不误农时。经济得到恢复和发展，社会安定。

1. (2010年重庆市) “贞观之治”是我国封建社会的盛世之一。当时，经济发展、政治清明、人民安居乐业。贞观年间在位的皇帝是 (A)

A. 唐太宗 B. 唐高宗 C. 武则天 D. 唐玄宗

1 (2010年綦江县) .唐朝是我国封建社会的繁荣时期，其中唐太宗在位时出现的盛世局面是 (B)

A.开皇之治 B.贞观之治 C.开元盛世 D.康乾盛世

22 (2010年浙江省义乌市) .阅读材料，结合所学知识回答：(9分)

义乌位于浙江中部，目前实有人口 180 多万，以汉族为主，有回、苗、壮等 23 个少数民族。秦王政二十五年(前 222 年)置乌伤县，属会稽郡。唐武德四年于乌伤置稠州，六年分设乌孝、华川两县，七年(624 年)废稠州，合两县称义乌县。1988 年 5 月撤县设市。

(1) 在秦王政设乌伤县前，义乌实行的是什么行政管理制度？(1分)

(2) 唐武德七年(624 年)设“义乌县”，三年后的义乌人迎来了一个历史上著名的封建“治世”，这一“治世”的名称是什么？(1分) 它主要表现在哪些方面？(2分)

(3) 义乌撤县设市时中国最鲜明的时代特点是什么？(2分)

(4) 开放的义乌吸引了大量少数民族群众，作为义乌人，在日常交往中应如何维护民族团结？(2分)

22. (1) 分封制 (1分) 圆形方孔钱 (1分)

(2) 贞观之治 (1分)

政治比较清明，经济得到恢复与发展，民族关系融洽，社会安定，国力增强。(从不同角度写出两点即给 2 分，共 2 分)

(3) 改革开放 (2分) (只写改革或对外开放给 1 分)

(4) 尊重各民族的宗教信仰、风俗习惯、语言文字(写出两点即给 2 分，共 2 分。答出其它符合题意的要点，也可酌情给分)

- 6 (2010年四川省成都市) 唐太宗时,某地发生灾荒。假如你是当时的一名中书令,秉承皇帝的旨意起草了一份救灾计划,接下来你应该交给
- A. 尚书省裁决 B. 门下省审议
C. 尚书省执行 D. 门下省执行
- 4 (2010年四川省成都市) “政由己出,明察善断,故当时英贤亦竟为之用”,这是《资治通鉴》对唐朝哪一位最高统治者的评价?
- A. 唐太宗 B. 唐高宗 C. 武则天 D. 唐玄宗

(3) 知道武则天和“开元盛世”的基本史实。

- 7 (2010年东莞市) 唐元和年间(806年——820年),主管财政的宰相奏请减少内外官俸,诏书下达后被大臣崔祐驳回,皇帝最终采纳了崔祐的意见。崔祐所属的机构是 B
- A. 中书省 B. 门下省 C. 尚书省 D. 吏部
- 8 (2010年东莞市) 王谔在《唐语林》中写到“开元初,上留心理道,革去弊讹,不六七年,天下大理。河清海晏,物殷俗阜”。“留心理道”的皇帝是 D
- A. 唐高祖 B. 唐太宗 C. 唐中宗 D. 唐玄宗
- 4.唐玄宗统治前期,唐朝进入全盛时期,史称“开元盛世”。如果你生活在当时,可以看到 (D)
- ① 各种肤色的外国人在长安城内经商 ② 农民用曲辕犁在农田里耕地
③ 农民在长安的坊里出售农产品 ④ 筒车不分昼夜地灌溉田地
- A. ①③④ B. ①②③ C. ②③④ D. ①②④
- 4 (2010年潍坊市) “开元初……天下大理,河清海晏,物殷俗阜。”出现上述局面的原因不包括 (D)
- A. 重用贤人 B. 重视生产 C. 提倡节俭 D. 强化皇权
- 7 (2010年山东聊城市) “开元初,上留心理道,革去弊讹,不六七年,天下大理。”“天下大理”的局面被誉为 (C)
- A. 文景之治 B. 贞观之治 C. 开元盛世 D. 靖难之役
- 3 (2010年菏泽市) 古代“状元、榜眼、探花”的称号取得的方式是 (C)
- A. 皇帝御赐 B. 九品中正制度 C. 科举考试制度 D. 察举制度

(4) 了解唐与吐蕃等民族交往的史实。

5. (2010年湖北省宜昌市) 2010年4月14日,青海省玉树县发生7.1级地震,境内的文物古迹不同程度地受损,其中文成公主庙在地震中受损程度较低。此庙是1300多年前,文成公主远嫁逻些时途经此地,给当地群众传授纺织、开垦、耕种等技艺,当地群众为怀念文成公主的功德而修建的。玉树文成公主庙蕴含的历史信息是 (A)
- A. 唐与吐蕃的关系 B. 唐与回纥的关系 C. 唐与渤海的关系 D. 唐与南诏的关系
- 8 (2010年青岛市) “年少从军不为苦,长戟短刀气如虎。男儿志在立功名,青海西头擒赞普”。诗中“赞普”是对我国古代哪一少数民族首领的称呼 (D)
- A. 回纥 B. 南诏 C. 靺鞨 D. 吐蕃
3. (2010年重庆市) 今年4月,青海玉树藏族自治州发生地震后,全国各族人民纷纷伸出援助之手,谱写了一曲曲民族团结互助的赞歌。翻开历史画卷,不乏讴歌民族团结的光辉篇章。下列人物中,为民族团结做出贡献的是 (B)
- A. 玄奘 B. 文成公主 C. 郑和 D. 戚继光

2. (2010年乌鲁木齐市)唐朝时期,管辖今伊犁地区的最高统治机构是

A.西域都护府 B.北庭大都护府 C.安西大都护府 D.伊犁将军府

3. (2010年四川省宜宾市)右图所示为位于青海省玉树藏族自治州的文成公主庙。该庙始建于1300多年前,系当地人民为纪念文成公主入吐蕃路经此地,向当地人民传播中原文化,造福于当地而建。下列相关表述,正确的是 (D)



①派文成公主入吐蕃的统治者是武则天②文成公主入吐蕃的最终目的是罗些③当时吐蕃的赞普是松赞干布④文成公主入吐蕃增强了汉藏两族的友好关系

A.①②③ B.①②④ C.①③④ D.②③④

4. (2010年娄底市)七年级(一)班本月负责学校文化长廊的黑板报设计,他们选定的主题是“唐代的中外交往”,并拟定了如下四个标题,请你帮他们指出哪一项是不恰当的 (A)

A.文成公主与松赞干布成亲 B.鉴真东渡宣扬中国文化
C.玄奘西游天竺取经 D.日本派遣唐使来华

25 (2010年滨州市)文物是历史文化的重要遗存,传达了远古的信息,探究关于文物的故事,会给我们许多启迪。

材料一:



图一



图二

材料二:据不完全统计,在全球47个国家的218个博物馆中,中国文物就有163万余件,然而,该数目充其量中是世界所有私人收藏的十分之一。

2003年7月,国宝工程启动仪式在北京举行,将广开国宝回归之路,进一步促成国宝的回归。

2005年,八国联军侵华时被作为战利品运到英国的塘沽大钟回归天津。

请回答:

(1)材料一中图一属商代文物,是目前世界上已发现的最大的青铜器,请写出它的名称。

(2)材料一中图二是哪一朝的壁画?出自何处?仔细观察这幅壁画,它向我们传达了哪些历史信息?

(3)根据材料二分析,近代我国文物大量流失的原因是什么?从近代我国文物流失到当代追索文物回归,说明了什么问题?

(1) 司母戊鼎 (1分)

(2) 唐朝 (1分)。敦煌莫高窟 (1分)。反映出唐朝社会的经济繁荣,社会稳定,文化昌盛,中外文化的结合,绘画艺术高超,宗教政策宽松,审美情趣的特点等(信息由材料中来,符合题意,回答出两点即可得2分)。

(3) 国家落后,列强侵略 (2分)。国家强大了 (2分)。

10 (2010年咸宁市)吐蕃人是我哪一少数民族的祖先? (B)

A. 维吾尔族 B. 藏族 C. 彝族 D. 白族

(5) 以遣唐使、玄奘西行、鉴真东渡等史实为例，说明唐代中外文化交流的发展。

5. (2010年福建莆田市) 第一个系统地把天竺佛教、历史、地理、风土人情等记录下来并介绍到中国的人物是 D

A. 李冰 B. 李春 C. 鉴真 D. 玄奘

3. (2010年三明市) 图片是历史学习的重要资料，小丽在自主学习中搜集到以下一组图片，她要为这组图片拟定一个共同的标题。最恰当的应是 (C)



张骞通西域 鉴真东渡 玄奘西游 郑和下西洋

A. 祖国统一 B. 民族团结 C. 中外交往 D. 抵抗侵略

3. (2010年广东省) 2010年是中印建交60周年。早在唐代，就有一位杰出的历史人物为中印两国的文化交流作出了重大贡献。他是 (C)

A. 鉴真 B. 张骞 C. 玄奘 D. 郑和

2. (2010年长沙市) 今年是中国与印度建交60周年。中印交流源远流长，唐朝时期玄奘西游为中印文化交流作出了巨大贡献。下列说法表述正确的是 (D)

- A. 唐朝时称印度为波斯
- B. 玄奘游学的大昭寺是印度佛学的最高学府
- C. 玄奘回国后，佛教开始传入中国
- D. 玄奘以亲身见闻写成的《大唐西域记》成为研究中亚、印度半岛以及我国新疆地区历史和佛学的重要典籍

5. (2010年盐城市) 小明以“繁荣与开放的唐朝”为主题进行探究，下列他整理的内容中不符合史实的是 (A)

- A. 已使用世界上最早的纸币“交子”
- B. 唐太宗时出现“贞观之治”局面
- C. 唐玄宗时出现“开元盛世”局面
- D. 都城长安是国际性的大都市

2 (2010年泰州市) 贞观初年，西行前往佛教圣地天竺求取佛经精义的唐朝高僧是

A. 鉴真 B. 玄奘 C. 晁衡 D. 郑和



解析：由关键词“贞观初年、天竺、求取佛经、高僧”得知玄奘。答案：B

5. (2010年泰安市) 假如你穿越时空隧道，回到唐朝，作为一名朝廷重要官员，不可能经历的事情是 (D)

- A. 从长安去洛阳乘船，经大运河到江南余杭体察民情
- B. 上朝时，见到魏征向太宗皇帝进谏
- C. 和太宗皇帝一齐讨论合并州县的事宜
- D. 经常诵读苏东坡写的词

5 (2010年威海市) 隋朝，犹如一颗流星划过历史的天空，时间虽然短暂，却光芒四射。下列有关隋朝历史贡献的叙述，不正确的是 (D)

- A. 实现了南北重新统一 B. 开通了纵贯南北的大运河
C. 创设了科举制度 D. 开创了“贞观之治”的局面

6 (2010年威海市) 假如你能够穿越时空隧道, 来到唐朝, 不可能经历到的事情是 (D)

- A. 到赵州桥上散步 B. 阅读《金刚经》
C. 看阎立本作画 D. 到东京城内的“勾栏”看演出

6 (2010年山东聊城市) 某同学举办主题为“中国古代农业发展”的图片展览。下列图片应该入选“盛唐篇”的是 (D)



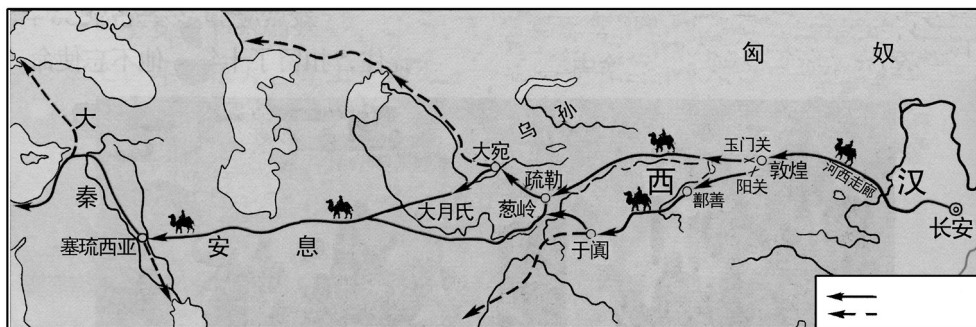
地动仪模型 曲辕犁 筒车模型 罗盘针模型

- ① ② ③ ④
A. ①② B. ③④ C. ①④ D. ②③

21 (2010年莱芜市) 阅读材料, 回答问题。(7分)

材料一

(1) 下图所示是古代沟通中西交通的陆上要道, 请写出其名称。(1分)



材料二

国别	人物	内容	结果
唐	→天竺 玄奘	西行取经	游历16年, 带回许多佛经
唐	→日本 鉴真	6次东渡	对日本文化的影响很大

(2) 根据材料二说明唐朝在对外交往中实行了什么政策? 上表中玄奘的著作是什么? (2分)

材料三 从对外关系上说, 隋唐宋元都居于主动地位, 明清时期的对外关系显然逆转了……倭寇沿海骚扰, 为南方各地带来了极大的破坏。明清之际, 西方资本主义已在兴起, 而中国的……专制者对于世界形势一无所知。

(3) 是什么政策导致了清朝政府“对于世界形势一无所知”? 该政策产生了什么影响? (3分)

(4) 综合以上材料, 联系明清时期对外关系逆转带来的巨大变化, 你得到了什么启示? (1分)

21. (1) 丝绸之路。(1分)

(2) 对外开放。(1分) 《大唐西域记》。(1分),

(3) 闭关锁国政策。(1分)影响:对西方的侵略起过一定的自卫作用;与世隔绝,使中国
在世界上逐渐落伍。(2分)

(4) 闭关锁国导致国家落后;对外开放使国家繁荣富强。(1分,言之有理即可得分)

2 (2010年綦江县) .重视对外交流是唐朝社会繁荣的原因之一。右图人物曾为中日两国文化
交流作出了突出贡献,他是 (D)

- A.阿倍仲麻吕 B.玄奘
C.吉备真备 D.鉴真

3. (2010年泉州市)下面两幅图片人物的对外文化交流充
分体现了唐朝对外交往的特点是 () B

- A. 高度繁荣 共享太平
B. 对外开放 双向交流
C. 世界领先 求同存异
D. 源远流长 泽被东西



玄奘

鉴真

4. (2010年梅州市)学习隋唐史后,你认为能准确地概括这段历史的基本特征的是 (B)

- A. 文明初露曙光 B. 繁荣与开放
C. 由分裂走向统一 D. 封建国家陷入危机

(六)经济重心的南移和民族关系的发展

【内容标准】

(1) 列举宋代南方生产发展和商业繁荣的史实,了解中国古代经济重心的南移。

3 (2010年福州市)中国经济重心南移是一个漫长的历史过程,最后完成于 (C)

- A. 东晋 B. 隋朝 C. 南宋 D. 明朝

4. (2010年三明市)世界上最早的纸币——交子出现在 (B)

- A.唐朝关中地区 B.北宋四川地区 C.南宋江南地区 D.元朝中原地区

3 (2010年佛山市) 某班历史课堂就我国“经济重心南移”展开讨论,支持宋代已完成南移的
史实是 (C)

- ①南方人口占全国户口数的62.9% ②东京是当时最大城市,商业繁荣
③水稻种植扩大,产量跃居粮食首位 ④煤的开采量居世界第一
⑤扬州、临安、广州、成都等城市商业发达。

- A. ①②③④⑤ B. ①②④⑤ C. ①③⑤ D. ②③④

6. (2010年泰安市)我国从唐朝中后期开始的经济重心南移最后完成于 (B)

- A. 北宋 B. 南宋 C. 元朝 D. 清朝

1

7. (2010年重庆市)宋代重庆地区农业经济发展的重要标志是 (A)

- A. 梯田的大量修建 B. 蔬菜的广泛种植
C. 茶叶的生产地区扩大 D. 粮食作物的种类更加丰富

5.北宋统治者衣饰由开国初期的简约朴素,转变为后来的精美华丽。导致这一转变的主要原因是 (B)

- A.北方少数民族的影响 B.奢侈之风的盛行
C.市民阶层的不断壮大 D.大众审美观的变化

5. (2010年邵阳市) 下列选项中, 不符合史实的是 (B)
- A. 战国时期修建的都江堰, 至今仍发挥着巨大的作用
- B. 汉朝时, 我国就有了纸币——交子
- C. 北方人民多次大规模的南迁, 极大地推动了我国古代经济重心的南移
- D. 我国古代统治者大多强调以农为本, 推行重农抑商政策
7. (2010年盐城市) 南宋时, 政府的财政收入主要来自南方。这最能说明南方 (C)
- A. 自然资源十分丰富 B. 地理位置重要
- C. 已成为全国经济重心 D. 交通十分发达
- 3 (2010年泰州市) 下列货币中, 哪个是世界上最早的纸币




- 交子 会子 美元 英镑
- A B C D

解析: 北宋前期, 四川地区出现了“交子”, 这是世界上最早的纸币; 纸币的产生, 有利于商业的发展。

答案: A

- 9 (2010年青岛市) 我国古代的经济重心经历了一个由北向南转移的过程, 至南宋时期最终完成。以下关于这一时期南方经济发展的原因, 说法不正确的是 (A)
- A. 南方为少数民族政权, 政治清明 B. 南方战乱相对较少
- C. 北方人南迁带来了先进的生产技术 D. 南方自然条件优越
- 8 (2010年山东聊城市) 某同学选用如下图片进行研究性学习。他确立的研究主题应是 (A)



- 宋代针铺商标 清明上河图 交子 南宋海船
- A. 宋代商业繁荣 B. 民族政权并立 C. 元朝国家统一 D. 大都闻名世界

(2) 了解宋代的社会生活。

1. (2010年芜湖) 据考证, “南海1号”古沉船是一艘明代晚期的商船, 船上发现了大量当时瓷窑烧制的瓷器, 其中最容易找到的瓷器应该是 (D)
- A. 越窑的青瓷 B. 邢窑的白瓷
- C. 哥窑的冰裂纹瓷器 D. 景德镇的青花瓷
- 24 (2010年湛江市) 据报道: 从古沉船“南澳1号”中打捞出的瓷器, 很多都是出自于“瓷都”, 请问我国 哪个地方被称为“瓷都”? (C)
- A. 河北曲阳 B. 河南汝州 C. 江西景德镇 D. 河南开封
- 31 (2010年南京市). (8分) 上海世博会把《清明上河图》制作成多媒体长卷, 用北宋繁华的都市风貌, 辉映其“城市, 让生活更美好”的主题。结合所学知识, 请回答:

(1) 《清明上河图》是北宋哪位画家的不朽作品？

(1分) 描绘了哪一城市的繁荣景

(2) 当时该城内有许多娱乐兼营商业的场所，称为什么？(1分) 有很多供来往客人住宿的地方，叫做什么？(1分) 达官贵人出行乘坐哪一种交通工具？(1分)



(3) 北宋时，四川地区出现的世界最早的纸币

是什么？(1分) 政府在广州等主要港口设立什么机构管理海外贸易？(1分)

(4) 结合上述问题，谈谈你对北宋城市经济生活的认识。(1分)

(1) 张择端(1分)；东京(开封)(1分)

(2) 瓦子(1分)；邸店(1分)；轿子(1分)

(3) 交子(1分)；市舶司(1分)

(4) 商品经济繁荣；市民生活丰富多彩(任答一点，其它答案言之有理亦可得分)(1分)

4 (2010年东营市)“市井经纪之家……夜市直至三更尽，才五更又复开张。如耍闹去处，通晓不绝……”。材料反映的现象发生在(D)

A. 秦都咸阳 B. 汉都长安 C. 隋都长安 D. 宋都东京

18 (2010年山西省)材料一：北宋都城开封买卖通宵达旦，金、银、彩、帛等“每一交易，动辄千万”。南

宋临安城“自大街及诸坊巷，大小铺席，连门俱是，无空虚之屋”。政府鼓励海外贸易，在主要港口设置世舶机构管理贸易。高宗末年，世舶收入岁达二百万贯，超过北宋治平年间岁入的两倍多。

《宋史》曰：“国家根本，仰给东南”。

材料二：十一、二世纪，西欧城市市民展开了与封建主的斗争。法国琅城市民争取自治权的斗争是一个典型的例子。起初，琅城市民用巨款向城主赎买了自治权，但城主挥霍掉赎金后，背信弃义地取消了城市自治权。被激怒的市民拿起武器，进行斗争，最后取得胜利。后来，从市民阶层中分化出富裕市民和银行家，这些人发展成早期的资产阶级。

依据材料，回答问题。

(1) 材料一中哪句话反映了开封城的发达？(1分)

(2) “自大街及诸坊巷，大小铺席，连门俱是，无空虚之屋”。说的是什么现象？(1分)

(3) 宋朝海外贸易空前活跃的主要原因是什么？(1分)

(4) 《宋史》曰：“国家根本，仰给东南”。说明了什么？(1分)

(5) 材料二叙述的是哪一历史事件？(1分)

(6) 早期资产阶级的出现，产生了什么作用？(1分)

18. (1) 每一交易，动辄千万。(1分) (2) 城内店铺林立，贸易兴盛(商业繁荣，买卖行升等)。(1分) (3) 政府重视(政府鼓励海外贸易)。(1分) (4) 国家的经济重心移至南方(国家财政依赖于南方)。(1分) (5) 琅城起义(法国琅城市民争取城市自治权的斗争)。(1分) (6) 为资本主义兴起准备了条件。(1分)

34 (2010年临沂市)阅读下面材料，结合所学知识，回答问题。(10分)

材料一 2010年开封市“大宋年文化节”新闻发布会，今天上午在郑州举行，为进一步弘扬优秀传统文化，活跃春节期间广大群众的旅游生活，……中共开封市委，市政府……努力打造年文化品牌，……确定于2010年春节至正月十五期间，正式推出开封市“大宋年文化节”……届时将举办规模盛大，多姿多彩的宋文化民俗庙会、灯会、展演等系列活动。——

—2010年2月9日豫台网讯

(1) 根据材料一，指出开封市“大宋年文化节”举办的目的和主要内容。(4分)

(2) 材料一中的“大宋”在定都开封期间，出现过哪些与之并立的少数民族政权？(2分)

材料二 北宋东京城内人口稠密，居民超过百万，是中国最大的城市，城里买卖和居住的地方已经分不清，随处可开设商店，……商品可以在白天、夜间交易，三鼓以后还可夜市，通晓不绝。

——大河网——河南日报

(3) 从材料二中可以看出，北宋东京的商业繁荣有哪些特点？(2分) 北宋大画家张择端在他的一幅美术作品中对东京的繁华景象进行了描绘，这幅著名的绘画作品是什么？(2分)

(1) 目的：弘扬传统文化，活跃群众生活，打造文化品牌。(2分) 内容：举办宋文化民俗庙会、灯会、展演等系列活动。(2分)

(2) 辽、西夏、金。(2分，答出2个即可)

(3) 特点：人口稠密；最大的都市；买卖区与居住区分不清，商品交易时间长等。(2分，答出2点即可，意思相近即可) 作品：《清明上河图》。(2分)

3 (2010年湘潭市) 2009年，青年历史学者袁腾飞在央视《百家讲坛》节目中主讲《两宋风云》。下列有关两宋历史说法不正确的一项是(C)

A. 北宋与契丹族建立的辽和党项族建立的西夏并立

B. 两宋时期，我国经济重心从黄河流域转移到长江流域

C. 北宋史学家司马光主编的《资治通鉴》是我国第一部纪传体通史

D. 北宋大画家张择端的《清明上河图》是风俗画的代表作

(3) 知道辽、宋、西夏、金等政权的并立。

4 (2010年贵港市) 1038年少数民族首领元昊建立的政权在右图

A、B、C、D中的哪一处？(C)

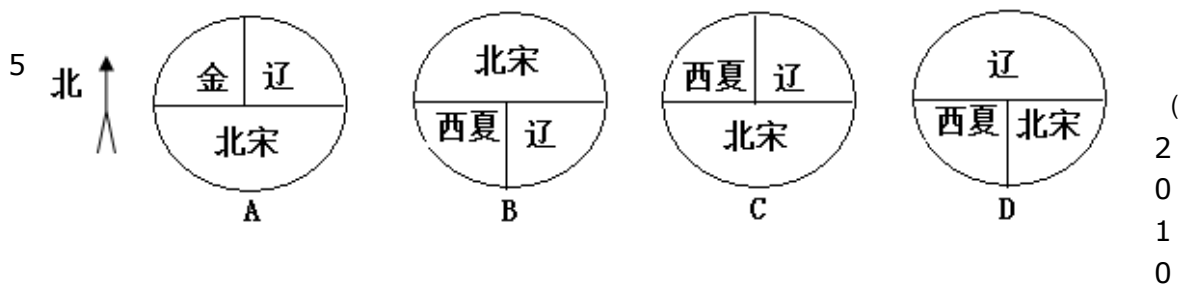
6. (2010年湖北省宜昌市) 与北宋签订澶渊之盟的少数民族政权是 (C)

A. 西夏 B. 金 C. 辽 D. 元

8. (2010年黄冈市) 在2010年的上海世博会上，中国馆内有一幅巨大的电子屏幕，显示的是北宋画家的《清明上河图》。利用高新技术使画中的景物动起来，再现北宋首都汴京的繁华景象。其作品原作者是 (D)

A. 赵孟頫 B. 吴道子 C. 阎立本 D. 张择端

21 (2010年连云港市) 下列能正确反映北宋与少数民族政权并立的示意图是 (C)



年株洲市) 我国是一个多民族国家。要了解回族形成的历史，最早应追溯到C

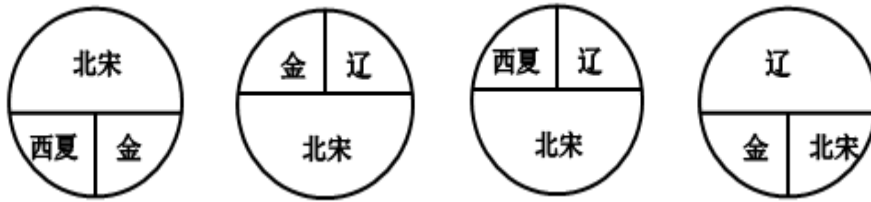
A 汉朝 B. 唐朝 C 元朝 D. 明朝

5 (2010年莱芜市) “大宋皇帝谨致誓书于大契丹皇帝阙下：共遵成信，虔奉欢盟，以风土之宜，助军旅之费，每岁以绢二十万匹，银一十万两……差人搬送至雄州交割。”下列史实哪一项与此盟约无关 (D)

A. 辽军攻宋发生澶州之战 B. 北宋应允给辽岁币

C. 以后辽宋之间保持和平局面 D. 宋辽以淮水到大散关为界

11. (2010年浙江省丽水市) 下列能大致反映北宋与少数民族政权兵力的示意图是 () C



A B C D

(4) 简述成吉思汗统一蒙古和忽必烈建立元朝的史实, 说明民族关系的发展。

4 (2010年湘潭市) 元朝是一个少数民族建立的统一王朝, 其建立者是(B)

A. 成吉思汗 B. 忽必烈 C. 努尔哈赤 D. 皇太极

4. (2010年黄石市) 小明发现了一张破损的古地图, 依稀能看出“辽阳行、岭北行省”等字。

绘制这张地图的朝代不早于 (C)

A. 汉朝 B. 唐朝 C. 元朝 D. 明朝

21 (2010年宿迁市) 在某朝代的疆域示意图中, 我们宿迁地区位于“河南江北行省”。这一朝代是 (D)

A. 秦朝 B. 汉朝 C. 唐朝 D. 元朝

5. (2010年娄底市) 学习宋元历史后, 某班四位同学作了如下主题演讲, 你认为能准确概括这段历史的基本特征的是 (B)

A. 国家产生和社会变革 B. 政权分立和民族融合
C. 繁荣与开放的社会 D. 经济重心的南移和民族关系的发展

11 (2010年青岛市) “自封建变为郡县, 有天下者, 汉、隋、唐、宋为盛, 然幅员之广, 咸不逮元”。元朝疆域空前辽阔, 为对全国进行有效的统治, 元朝主要实行 (D)

A. 分封制 B. 宗法制 C. 内阁制 D. 行省制

3 (2010年山西省) 元朝以前, 就有许多汾州人、并州人迁至今新疆地区, 与蒙古族、维吾尔族共同劳动生活。这说明 (D)

A. 北方战乱导致山西人迁往边疆 B. 蒙古族、维吾尔族人民非常友善
C. 元朝以前新疆与中原地区联系紧密 D. 维吾尔族、蒙古族、汉族共同开发了边疆

10 (2010年青岛市) 2010年4月20日, 在“情系玉树 大爱无疆”抗震救灾大型募捐晚会上, 汉藏两族著名歌手同台演唱: “藏族和汉族是一个妈妈的女儿, 我们的妈妈叫中国!” 西藏自古以来就是中国领土不可分割的一部分, 它成为我国正式的行政区始于 (B)

A. 唐朝 B. 元朝 C. 明朝 D. 清朝

4 (2010年泰州市) 元朝的疆域“北逾阴山, 西及流沙, 东尽辽东, 南越海表”“汉唐极盛之际不及焉”。元世祖忽必烈为了有效地统治全国, 建立了

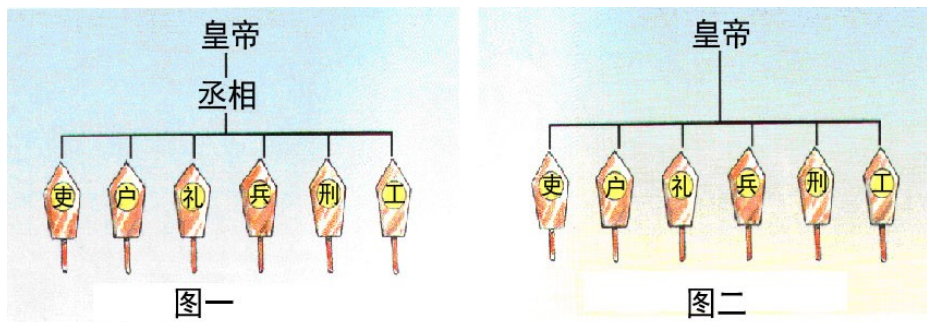
A. 分封制 B. 郡县制 C. 行省制 D. 军机处

解析: 元朝疆域空前辽阔, 为了对全国实行有效的统治, 元政府在中央设中书省, 地方设行中书省, 简称“行省”。答案: C

2. (2010年无锡市) 2010年5月17日至19日, 新疆工作会议座谈会在北京举行, 胡锦涛书记提出了新形势下新疆工作的目标任务, 推进新疆跨越式发展, 你知道新疆地区最早隶属于中央政府管辖, 成为我国领土不可分割的一部分开始于哪个朝代? (D)

A. 秦朝 B. 西汉 C. 唐朝 D. 元朝

1. (2010年徐州市) 如右图所示, 从图一到图二政治制度的变革发生在 (D)



- A. 秦朝 B. 汉朝 C. 唐朝 D. 明朝

7 (2010年龙岩市) 下列搭配错误的是 B

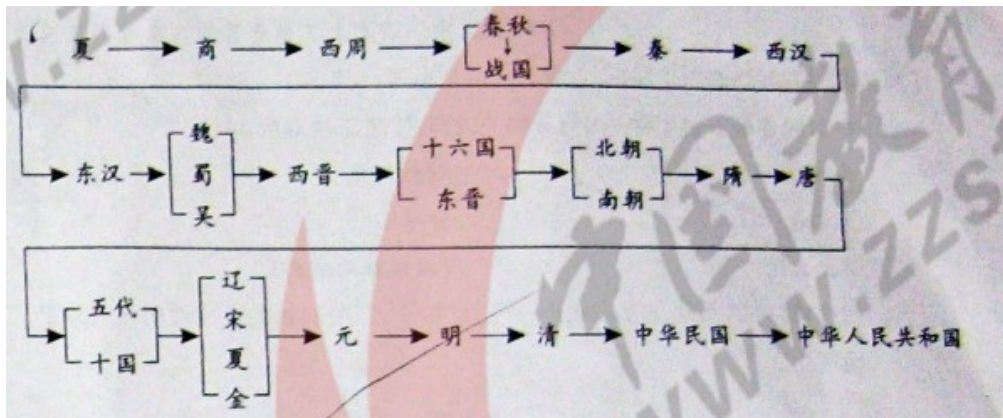
- A. 西汉——张骞通西域
 B. 宋朝——回族形成
 C. 清朝——册封达赖、班禅
 D. 新中国——民族区域自治制度

5. (2010年衡阳市) “蓝蓝的天空, 清清的湖水, 绿绿的草原, 这是我家。奔驰的骏马, 洁白的羊群……”蒙古族歌手腾格尔的这首经典名曲《天堂》, 我们经常吟唱。在我国历史上, 蒙古族曾建立一个疆域空前辽阔的元王朝, 其建立者是 B

- A. 成吉思汗 B. 忽必烈 C. 完颜阿骨打 D. 耶律阿保机

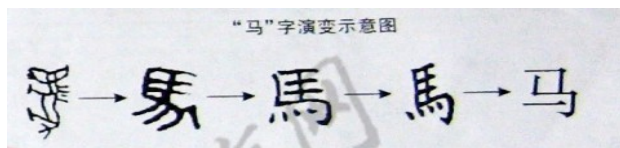
21. (2010年邵阳市) (17分) 阅读下列材料, 回答问题。

材料一 中国历代政权更替示意图



(1) 依据材料一并结合所学知识, 指出我国古代史上结束了分裂割据局面的统一的封建王朝名称。

材料二: 民族语言文字是民族文化的一个重要组成部分, 是民族存在的重要因素。汉字自古至今一脉相承, 经历了甲骨文、小篆、隶书、楷书、简化字等演变过程。



(2) 依据材料二并结合所学知识, 完成下列两个小题。(4分)

① 材料二中的



字是 ()

A.甲骨文 B.小篆 C.隶书 D.楷书

② 我国汉字演变的总趋势是什么？

材料三 除古代中国外，全球其他地区的王朝覆灭后往往意味着人种、文化、宗教的更替，古埃及、古巴比伦、古印度等都是如此。但中国的王朝却仅仅意味着坐天下者不同，其他一切照旧。这使中国文明获得了使西方史学家十分称奇的连续性。使中国文明连续不断的原因是很的，有制度、文字、宗教等方面的因素……

——缪人凤《中国历史上王朝更替的内在原因及启示》

② 归纳材料三中作者的基本观点，并用材料一、二中的相关史实说明其观点的正确性。

21. (1) 秦朝、西晋、隋朝和元朝。(2) ① D ② 由繁到简，汉字字形字体逐步规范化、稳定化。

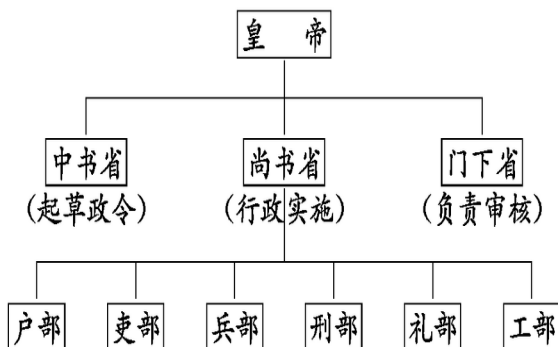
28. (2010年黄冈市) (6分) 制度创新是人类社会发展进步的一个重要表现。阅读下列有关我国古代政治制度的材料，结合所学知识，回答下列问题。

材料一 丞相王绾等言：“诸侯初破，燕、齐、荆地远，不为置王，毋以填之，请立诸子，唯上幸许。”廷尉李斯议曰：“周文、武所封子弟同姓甚众，然后属疏远，相攻击如仇讎（仇敌），诸侯更相诛伐，周天子弗能禁止。今海内赖陛下神灵一统，皆为郡县，诸子功臣以公赋税重赏赐之，甚足易制。天下无异议，则安宁之术也，置诸侯不便。”始皇曰：“天下共苦战斗不休，以有侯王。赖宗庙，天下初定，又复立国，是树兵也，而求其宁息，岂不难哉！廷尉议是。”

——《史记·秦始皇本纪》

材料二 唐朝中央行政机构

材料三 元朝疆域图



——摘自《岳麓出版社·中国历史七年级下册》

(1) 材料一中反映了西周和秦朝各实行什么制度？(2分)

(2) 材料二反映了唐朝的什么制度？有何积极作用？(2分)

(3) 材料三中反映了元朝的什么行政制度？实施的原因是什么？(2分)

- (1)西周：分封制（1分） 秦朝：郡县制（1分）
 (2)唐朝：三省六部制（1分）作用：既有利于防止宰相专权，又能集思广益，减少政策失误。（1分）
 (3)元朝：行省制度（1分）原因：元朝疆域辽阔，为了加强对全国的统治（1分）
- 7.（2010年湖北省宜昌市）目前中国有34个省级行政区，即23个省、5个自治区、4个直辖市、2个特别行政区。我国建立省级行政区制度最早在（ B ）
 A. 秦朝 B. 元朝 C. 明朝 D. 清朝
- 5（2010年贵港市）元朝在地方设立的最高行政机构是（A）
 A. 中书省 B. 宣政院 C. 澎湖巡检司 D. 行中书省

(七)统一多民族国家的巩固和社会的危机

【内容标准】

(1) 了解明清两朝加强专制统治的主要措施。

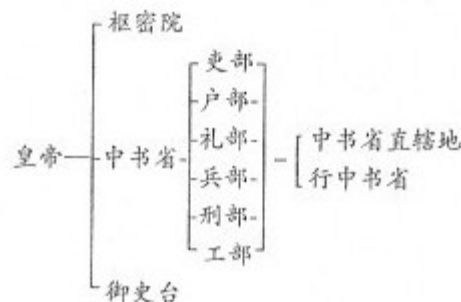
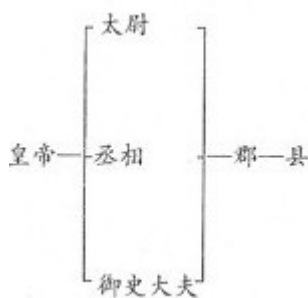
- 5（2010年湘潭市）“今我朝罢（废除）丞相，设五府、六部分理天下庶务，彼此颉颃（牵制）不敢相压。事皆朝廷总之，所以稳当。”这里的“我朝”应该是(C)
 A.唐朝 B.宋朝 C.明朝 D.清朝
- 6（2010年莱芜市）在我国东南沿海一带广为流传一首民谣：“天皇皇，地皇皇，莫惊我家小儿郎；倭寇来，不要慌，我有戚爷会抵挡。”这首民谣反映的是哪一历史时期的史实（C）
 A. 隋朝 B. 元朝 C. 明朝 D. 清朝
- 9（2010年山东聊城市）“军国大计，罔不总揽。自雍乾后百八十年……盖隐然执政之府也。”这里的“执政之府”是（D）
 A. 市舶司 B. 中书省 C. 锦衣卫 D. 军机处
- 5（2010年潍坊市）电视剧《宰相刘罗锅》讲述了清朝名相刘墉的故事。他擅长书法，其书法作品集是（）A
 A. 《清爱堂石刻》 B. 《四库全书》 C. 《潍县竹枝词》 D. 《晏子春秋》
- 9（2010年威海市）清朝时，我国封建君主集权进一步强化的标志是（D）
 A. 废行省，设三司 B. 八股取士
 C. 保留议政王大臣会议 D. 设立军机处

- 7.（2010年泰安市）某校历史兴趣小组准备以“古代封建统治者加强思想控制的措施”为主题办一期黑板报，同学们纷纷投稿。其中无法通过小组长审核的是（C）
 A. 漫话“焚书坑儒” B. 汉武帝与“罢黜百家，独尊儒术”
 C. 张骞与丝绸之路 D. 清朝“文字狱”之我见

- 31.（2010年泰安市）中国封建社会历代统治者都注重通过加强中央集权和地方管理等措施来巩固统治。阅读下列材料，回答问题。

材料一

材料二



材料三 在地方，废除行中书省，设立直属中央的三司，分管民政、刑狱和军政。在中央，废除丞相，撤消中书省，由吏、户、礼、兵、刑、工六部分理朝政，直接对皇帝负责——选自人教版义务教育课程标准实验教科书《中国历史》七年级下

- (1) 材料一图示反映的是我国历史上哪个朝代开创的政治体制？(1分) 该朝代为巩固统治采取的经济措施是什么？(1分)
- (2) 我国省级行政区的设立源于材料二图示反映的元朝首创的哪一制度？(1分) 为实行有效统治，元朝还注重加强对边疆地区的管辖。请写出元朝突出加强管理的两处边疆地区的名称。(2分)
- (3) 材料三记载的是哪朝的官制变化？(1分) 这一变化出现在哪一皇帝统治时期？(1分)
- (4) 从材料一到材料三官制的演变可以看出皇权和相权发生了怎样的变化？(2分)

31.(1) 秦朝；(1分) 统一货币、度量衡 (1分)

(2) 行省制度；(1分) 西藏、台湾 (或琉球) (2分)

(3) 明朝；(1分) 明太祖 (或朱元璋) (1分)

(4) 皇权不断加强，相权不断削弱。(2分)

6 (2010年龙岩市) 明朝航海家郑和七下西洋，最远到达 D

- A. 美洲 B. 印度洋沿岸
C. 大西洋沿岸 D. 红海沿岸和非洲东海岸

15. (2010年山东省济宁市) 右边是明末清初思想家顾炎武对八股取士的评价，你认为八股取士与焚书坑儒的相同之处是 (D)

- ① 为了加强思想统治 ② 强化了中央集权统治
③ 有利于文化的发展 ④ 摧残了文化控制了思想

A. ①②③ B. ①③④

C. ②③④ D. ①②④

6 (2010年南京市) . 下列措施与明成祖加强君主专制统治有关的是 (C)

- A. 废除丞相 B. 大兴文字狱
C. 执行削藩政策 D. 设立军机处

15 (2010年淮安市) 秦朝实行“焚书坑儒”，明朝实行“八股取士”，清朝大兴“文字狱”的共同目的是 (A)

- A. 加强思想控制 B. 大力发展传统文化
C. 鼓励读书人参政议政 D. 选拔听命于皇帝的官吏

4 (2010年苏州市) 搜集和整理历史资料，从中提取有效信息是学习历史的重要方法。刘明同学从图书馆借来了《康雍乾三朝实录》、《论军机处与极权政治》、《“文字狱”的研究》等书，准备写一篇历史小论文，下列论文题目最符合他想法的是 (D)

- A. 浅议“焚书坑儒” B. 叙说清朝的对外交往
C. 简论“闭关锁国” D. 略谈清朝的君主专制

5. (2010年黄石市) 右边是清朝军机处的照片，它的设立，标志着我国封建君主集权的进一步强化。设立该机构的皇帝是 (C)

- A. 顺治 B. 康熙 C. 雍正 D. 乾隆

3. (2010年长沙市) 下列哪几项措施有利于我国古代封建专制主义中央集权的加强 (B)

- ① 西周行分封制 ② 汉武帝“罢黜百家，独尊儒术”
③ 明朝设厂卫特务机构 ④ 清朝设军机处

A. ①②③④ B. ②③④ C. ①③④ D. ①②

8 (2010年贵港市) 下列历史事件叙述错误的是 ()

A.1616年努尔哈赤统一女真，建立金国 B.1636年皇太极在上京称帝，改国号为清
C.康熙帝册封了喇嘛教首领五世班禅 D.清朝设置乌里雅苏台将军管理北部边疆

26. (2010年福建莆田市) 阅读下列材料并回答问题：

材料一 科第之设，草泽望之起家，簪纓(zān fú)望之继世。孤寒失之，族馁矣；世禄失之，其族绝矣。

——王定保《唐摭(zhí)言》

材料二 唐太宗在端门看见新科进士鱼贯而出，高兴地说：“天下英雄入吾彀(gòu)中矣”。

——王定保《唐摭言》

材料三 故吾以为明太祖制义取士，与秦焚书无异，特明巧而秦拙耳，其欲愚天下之心则一也。

——廖燕《明太祖论》

(1) 材料一中“科第之设”是指哪一制度的创立？何时创立？(4分)

(2) 结合材料一、二和所学知识，简述“科第之设”的历史作用。(4分)

(3) 根据材料三和所学知识，指出明代八股取士的消极影响。(2分)

26. (1) 科举制度；隋唐时期。(4分)

(2) 创造了相对平等的竞争机会；有利于选拔人才，扩大了中央政权的社会基础；增强了国家机构的活力和办事效率；给社会带来了革新气象和创新精神。(4分，答出其中2点即可)

(3) 脱离现实生活，无法培养实际能力；钳制了人们的思想，阻碍了历史的发展；“愚天下之心”。(2分。答出其中一条即可，其他言之有理也可)

10 (2010年东莞市) 从明太祖朱元璋废除宰相到清雍正帝设置军机处，所反映出的历史发展趋势是 D

A. 社会秩序动荡 B. 边疆防御巩固 C. 军政实现合一 D. 皇权高度膨胀

6 (2010年贵港市) 明朝建立是在 ()

A.13世纪60年代 B.13世纪80年代 C.14世纪60年代 D.14世纪80年代

5 (2010年东营市) 明朝丞相的废除和清朝军机处的设立，说明了 (A)

A. 君主集权强化 B. 地方权力的扩大 C. 监察职能的增强 D. 中央机构的膨胀

27 (2010年东营市) (12分) 阅读材料，结合做学知识回答问题。

(2) 概述郑和下西洋的史实。

5 (2010年菏泽市) 近期央视新闻频道多次对“南澳一号”沉船考古进行现场直播。发现明代古沉船的广东汕头市南澳岛县在明朝有“海上互市之地”之美誉，史载：“郑和七下西洋，五经南澳”。郑和下西洋成功实现的条件不包括 (D)

A. 国力强盛 B. 造船业发达
C. 指南针的应用 D. 蒸汽机的应用

5 (2010年菏泽市) 近期央视新闻频道多次对“南澳一号”沉船考古进行现场直播。发现明代古沉船的广东汕头市南澳岛县在明朝有“海上互市之地”之美誉，史载：“郑和七下西洋，五经南澳”。郑和下西洋成功实现的条件不包括 (D)

A. 国力强盛 B. 造船业发达
C. 指南针的应用 D. 蒸汽机的应用

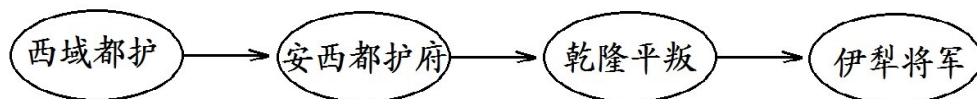
- 7 (2010年贵港市) 明朝时率军抗击倭寇侵略的是 (A)
A. 戚继光 B. 郑成功 C. 岳飞 D. 文天祥
- 5 (2010年扬州市) “天皇皇，地皇皇，莫惊我家小儿郎。倭倭来，不要慌，我有戚爷来抵挡”。
歌谣中的“戚爷” (B)
A. 统一了女真各部 B. 肃清了东南沿海的倭寇
C. 赶走了荷兰殖民者 D. 打败了沙俄侵略军
- 22 (2010年宿迁市) 一学习小组开展以“明清时期反抗外来侵略”为主题的历史探究活动，其
收集的资料中不恰当的是 (B)
A. 戚继光抗倭 B. 岳飞抗金
C. 郑成功收复台湾 D. 雅克萨之战
- 17 (2010年青岛市) 清朝的乾隆皇帝晚年自称“十全老人”，并将自己一生的主要政绩概括为
“十全武功”。结合所学知识指出，下列哪项应包括在其“十全武功”之内 (D)
A. 荡平东南沿海的倭寇 B. 驱逐荷兰殖民者出台湾
C. 组织雅克萨自卫反击战 D. 平定大小和卓叛乱
- 10 (2010年山东聊城市) “封侯非我意，但愿海波平。”诗句中戚继光表明志向是 (A)
A. 荡平倭寇 B. 赶走荷兰殖民者
C. 击退沙俄侵略者 D. 平定大小和卓叛乱
- 3 (2010年綦江县) “开辟荆榛逐荷夷，十年始克复先基”反映的历史事件是 (B)
A. 戚继光抗倭 B. 郑成功收复台湾
C. 雅克萨之战 D. 定噶尔丹叛乱
4. (2010年四川省宜宾市) “开辟荆榛逐荷夷”，我国古代立下的这一伟大功绩的民族英雄是
(C)
A. 张骞 B. 魏征 C. 郑成功 D. 渥巴锡
- 6 (2010年株洲市) 小明班上有位同学自我介绍：“我的祖先曾驱逐过荷兰殖民者，抗击过日
本的侵略，经历了与亲人的离别。我现在盼望回到祖国母亲的怀抱。”这位同学来自 A
A. 台湾 B. 西藏 C. 香港 D. 澳门
- 6 (2010年滨州市) 当年明月的一部《明朝那些事儿》吸引了大批青少年读者。下列史实不
可能出现在这部作品中的一项是 (A)
A. 废分封立郡县 B. 设特务机构锦衣卫 C. 郑和下西洋 D. 戚继光抗倭
6. (2010年娄底市) “封侯非我意，但愿海波平”表明了他为驱逐倭患，保卫海防，拯救百
姓于水火，而并非追求个人功名的崇高品质。文中的“他”是 (A)
A. 戚继光 B. 郑和 C. 郑成功 D. 岳飞
5. (2010年梅州市) “开辟荆榛，千秋功业；驱逐荷虏，一代英雄”是郭沫若所写的挽联。
这幅挽联称颂的是 (B)
A. 戚继光抗倭 B. 郑成功收复台湾 C. 岳飞抗金 D. 文天祥抗元
16. (2010年资阳市) 下列朝代与建立者的搭配，正确的是 (A)
A. 西汉——刘 邦 B. 唐朝——李世民
C. 北宋——赵光义 D. 明朝——朱 棣

(4) 列举清朝设置驻藏大臣和平定大小和卓叛乱等史实，了解清朝加强对边疆地区管辖和维护国家统一的主要措施。

25 (2010年湛江市) 新疆自古以来就是中国的领土, 清朝政府加强对新疆地区管理的措施是 (D)

- A. 设置西域都护 B. 设置宣政院 C. 设置驻藏大臣 D. 设置伊犁将军

3 (2010年安徽) .我国历史重视对边疆地区的有效管辖。依据下列管辖措施判断该边疆地区应是……【 D 】



- A.台湾 B.东北 C.西藏 D.新疆

5 (2010年佛山市) 18世纪中期, 清朝政府平定回部大小和卓兄弟叛乱 (B)

- A. 重新统一了蒙古 B. 维护了多民族国家的统一
C. 稳定了西藏政局 D. 加强了对黑龙江地区的管辖

5. (2010年广东省) 从文物中获取信息是我们学习历史的方法之一。当我们研究中国古代中央政府与少数民族地区关系时, 可以从下列哪件文物中获得有效信息 (D)



- A. 司母戊鼎 B. 开元通宝钱 C. 锦衣卫印 D. 金奔巴瓶

2 (2010年汕头市) 阅读下列材料:

材料一: “外甥是先皇帝舅宿亲, 又蒙降金城公主, 遂和同为一家。天下百姓, 普皆安乐。”
——《旧唐书·吐蕃传》

材料二: 右图是清政府颁赐的金本巴瓶和五支如意象牙签。为改变大活佛转世被蒙藏贵族所操纵的积弊, 清政府规定了确定转世灵童的具体程序: 达赖或班禅转世时, 都要将找到的几个灵童的名字写在象牙签上, 装入瓶中, 由驻藏大臣监督掣签确定。然后报朝廷批准, 再由驻藏大臣主持坐床, 才能成为合法的继承人。此项制度被称为“金瓶掣签”

材料三: “各少数民族聚居的地方实行区域自治。各民族自治地方都是中华人民共和国不可分割的部分。”

——一九五四年《中华人民共和国宪法》

请回答:

- (1) 材料一中的外甥指的是谁? (1分) 如何理解材料中的“和同为一家”? (2分)

尺带珠丹 (或吐蕃赞普), 唐与吐蕃关系日益密切。

- (2) 根据材料二, 并结合所学知识回答: 清政府为加强对西藏的管辖采取了哪些措施? (3分)

- ① 历世达赖和班禅, 都必须经过中央政府的册封。
- ② 1727年设驻藏大臣, 代表中央政府, 与达赖、班禅共同管理西藏事务。
- ③ 达赖和班禅的继承, 必须报请中央政府批准。



④驻藏大臣监督掣签。然后报朝廷批准，再由驻藏大臣主持坐床，才能成为合法的继承人。

(3) 材料三规定，我国在少数民族聚居地区实行什么制度？(1分) 谈谈实行这一制度的意义。(5分)

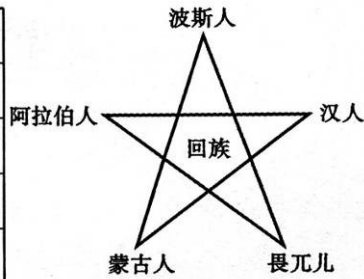
民族区域自治制度。意义：民族区域自治对祖国统一、民族平等、民族团结和地区发展具有重大意义，成为我国的一项基本国策和基本政治制度

27 (2010年福州市) (10分) 阅读下列材料，回答问题：

材料一

鲜卑姓氏改为汉姓			
鲜卑姓	汉姓	鲜卑姓	汉姓
拓跋	元	贺赖	贺
丘穆陵	穆	独孤	刘
步六孤	陆	贺楼	楼

材料二



材料三



请回答：

(1) 材料一中姓氏改变与什么事件有关？(2分) 再举一例该事件中的措施。(2分)

(2) 材料二体现元朝哪一历史趋势？(2分) 当时还有哪些现象反映这种趋势？(举一例即可，2分)

(3) 材料三反映清朝土尔扈特部回归祖国的壮举，清政府对东归英雄们的态度如何？(2分)

27. (1) 北魏孝文帝改革；迁都洛阳、讲汉话、穿汉服、与汉人通婚、用汉制、学汉礼、尊崇孔子等。(回答一例即可)

(2) 民族融合的趋势。

汉族人开发边疆；边疆各族内迁，同汉族人杂居相处；进入黄河流域的契丹、女真等族，经过长期共同生活，已同汉族没有什么差别等。(回答一例即可)

(3) 妥善安置。

28. (2010年三明市) 维护国家统一和加强民族团结是中华民族永恒不变的追求，也是历史发展的必然趋势。某校拟举办一次专题活动，请你运用所学知识参与策划。

(1) 设计活动主题_____。

(2) 开展专题讲座，完成资料卡片。(5分)

唐朝有两位女生谱写了民族团结的佳话，他们是_____、_____ (2分)

西汉、清朝中央政府为加强对今新疆地区的管辖而设置的机构分别是_____、_____ (2分)

新中国在少数民族聚居的地区实行的基本政治制度是_____ (1分)

(3) 举办图片展，填写图片说明。



图 6

人物：_____ 人物：郑成功 人物：_____

事迹：抗击倭寇

事迹：_____

事迹：组织雅克萨自卫反击战

28. (1) 采意给分。

(2) 文成公主、金城公主；西域都护、伊犁将军；民族区域自治。

(3) 戚继光；收复台湾；康熙帝。

32. (2010年襄樊市) 【高唱民族团结的颂歌】 (7分)

中华民族是一个由 56 个民族组成的统一的多民族国家。在长期的历史发展中，各民族在政治、经济、文化上相互依存、不可分离。请你回答：

(1) 从什么时期开始，今新疆地区成为了我国不可分割的一部分？(1分) 19 世纪 70 年代，率领清军收复新疆的是谁？(1分)

(2) 为唐蕃“和同为一家”作出了突出贡献的有哪些人？(不少于 2 人) (2分)

(3) 列举一项清朝前期中央政府加强对西藏管理的措施。(1分)

(4) 新中国成立后，我国制定了什么制度作为处理民族关系的一项基本国策？(1分) 请你为各民族的团结写一句祝福的话。(1分)

(1) 西汉时期。(1分) 左宗棠。(1分)

(2) 唐太宗 (李世民)、文成公主、松赞干布、金城公主、尺带珠丹等。(评分说明：答对其中的两个即可，一个 1 分，共 2 分。)

(3) 西藏历世达赖和班禅，都必须经过清朝中央政府的册封；设置驻藏大臣；驻藏大臣和达赖、班禅共同管理西藏事务；顺治帝正式赐予“达赖喇嘛”封号；康熙帝赐予另一位西藏佛教领袖“班禅额尔德尼”的封号。(答对其中的一项即可得 1 分。)

(4) 民族区域自治制度。(1分) 民族大团结万岁；各民族共同繁荣；56 个民族是一家；爱我中华等。(答对其中一条即可，答出相近的意思也可，1 分。)

31 (2010年扬州市) 某校九年级 (1) 班正在进行有关我国“古代民族融合”的探究活动，请你参加。

【史料呈现】

材料一 魏主 (即北魏孝文帝) 下诏，以为“北人谓土为拓，后为跋。魏之先出于黄帝，以土德王，故为拓跋氏。夫土者，贵中之色，万物元也，宜改姓元氏。”——《资治通鉴》

材料二 元朝时期，有许多信仰伊斯兰教的波斯人、阿拉伯人迁入中国，他们同汉、蒙等族互相融合，形成一个新的民族，即回族。

材料三 清朝，西藏与中央政府联系更加紧密。
——北师大版七下《历史》教材

【问题探究】

(1) 据材料一指出北魏孝文帝进行姓氏改革的理由。(1分)

(2) 据材料二并结合所学知识指出，回族作为一个新民族形成的最重要条件是什么？(1分)

(3) 试举一例说明材料三所说的“西藏与中央政府联系更加紧密”。(1分)

【活动总结】

(4) 综合上述材料，谈谈你的认识。

31 (2010年连云港市) 右表反映了我国中央政府有效管辖的地区是 (C)

- A. 台湾
- B. 新疆
- C. 西藏
- D. 海南

朝代	相关史实
元朝	设宣政院
清朝	册封达赖、班禅
	设置……

31 (2010年岳阳市) 自古以来，民族团结、国家统一是我国历史发展的主流。结合所学知识，回答下列问题：

- (1) 我国历史上第一个统一的多民族的中央集权的封建国家是_____朝。(2分)
- (2) 在我国统一的多民族国家的发展历程中，各民族都做出了重大的贡献。请要概述鲜卑族孝文帝改革为我国民族关系的发展做出的重大贡献。(3分)
- (3) 元朝时期出现了民族大融合的盛况。你认为出现这一盛况的前提条件是什么？(3分)
- (4) 清朝前期是我国统一的多民族国家巩固时期。请你举出清朝前期为加强对新疆地区的统治而采取的重大措施。(4分)

31、(1) 秦

- (2) 北魏孝文帝的改革，有利于北方经济的恢复和发展，促进了北方各族社会的进步，加快了北方民族大融合的进程
- (3) 国家统一，经济发展
- (4) 平定大小和卓叛乱，设伊犁将军

14. (2010年山东省济宁市) 纵观中华民族五千年历史，民族团结、民族友好是我国历史发展的主流，下列事件反映这一主题的是 (C)

- ① 郑和下西洋
- ② 文成公主和金城公主入藏
- ③ 鉴真和尚东渡日本
- ④ 清朝设驻藏大臣，协同达赖、班禅共同管理西藏事务

- A. ①④
- B. ②③
- C. ②④
- D. ③④

1. (2010年山东省济宁市) 2010年5月17—19日，中共中央、国务院在北京召开新疆工作座谈会，这充分体现了党和国家对新疆地区的重视，必将对新疆的全面发展产生深远影响。然而，少数“疆独”分子却一再挑起事端(如右图)，企图破坏民族团结，制造国家分裂。他们的这些行径遭到全国和全世界爱好和平人民的一致谴责。新疆自古就是中国的领土，公元前60年，西汉政府设立_____，从此，巴尔喀什湖以东、以南地区，包括今新疆地区在内，开始隶属



2009年热比亚等“疆独”分子制造的7·5事件现场

中央政府的管辖，成为我国不可分割的一部分。唐朝时期，新疆维吾尔族祖先回纥与唐政府关系友好，_____封其首领为怀仁可汗。清朝乾隆年间，新疆回部大小和卓兄弟叛乱，清军经过两年战斗平定叛乱，之后清政府设置_____，管辖包括巴尔喀什湖在内的整个新疆地区。鸦片战争以后，新疆地区曾遭到英、俄等国的侵略，面临危机，清政府派遣_____为钦差大臣收复新疆。1884年，清政府在新疆设立行省，加强了对新疆的统治。新中国成立后，党和政府在新疆等少数民族聚居的地方实行_____，少数民族地区的政治经济得到迅速发展。

1. 西域都护 唐玄宗 伊犁将军 左宗棠 民族区域自治
 2. 公元前 221 年，秦王 嬴政 完成统一，建立起我国历史上第一个统一的多民族的中央集权国家。1368 年，朱元璋在应天称帝，建立明朝，年号洪武。1636 年，皇太极改国号为清，建立了清朝。1644 年顺治帝迁都 北京，逐渐建立起在全国的统治。

2. 嬴政 1368 年 北京

7 (2010 年滨州市) 自古以来，西藏就是中国领土不可分割的一部分，下列史实能够有力证明的是 (C)

- ① 唐蕃和亲，和同为一家
- ② 元朝时把西藏置于中央政府管辖之下
- ③ 清朝修建承德避暑山庄
- ④ 清政府设置驻藏大臣，代表中央政府与达赖、班禅共管西藏事务

A. ①②③④ B. ②③④ C. ①②④ D. ③④

16 (2010 年徐州市) (8 分) 国家统一，民族融合是中国历史发展的主流。阅读下列材料，结合所学知识回答问题：

材料一 骞始开通西域道也。

——引自《汉书·张骞传》

材料二 高祖曰：“……今欲断诸北语，一从正音……三十以下，见在朝廷之人，语音不听仍旧。若有故为，当降爵黜官，各宜深戒。”

——引自《魏书·献文六王传·咸阳王禧传》

材料三 各少数民族聚居的地方，……按照民族聚居的人口多少和区域的大小，分别建立各族自治县。在各民族杂居的地方及民族自治区内，各民族在当地政权机关中均应有相当名额的代表。

——引自《中国人民政治协商会议共同纲领》

- (1) 材料一中的“西域”狭义上是指今天我国的什么地方?(1 分) 该地正式归属中央政权管辖的标志是什么?(1 分)
- (2) 材料二是中国古代哪次改革的内容?(1 分) 这次改革对于中华民族的发展有何积极意义?(2 分)
- (3) 材料三表明新中国成立后我国在少数民族聚居地区主要实行的政治制度是什么?(1 分) 结合所学知识说明实行这一制度的意义。(2 分)

16 . (1) 新疆天山南北地区(答新疆也对)。(1 分) 西域都护的设置。(1 分)

(2) 北魏孝文帝改革。(1 分) 加速了黄河流域民族大融合的过程。(2 分)(符合题意、言之成理即可适当给分)

(3) 民族区域自治制度。(1 分) 保障了少数民族当家做主的政治权利(或保障了少数民族平等管理国家事务和自主管理本民族事务的政治权利); 有利于民族团结、社会稳定和少数民族地区的发展; 维护了国家的统一; 维护了中华民族大家庭的根本利益。(1 点 1 分, 答出 2 点即给 2 分。符合题意、言之成理即可给分)

6 (2010 年潍坊市) 研究下列表格，最符合其内容的学习主题是 (C)

序号	历史事件
1	清政府册封达赖、班禅; 设置驻藏大臣
2	清朝平定准噶尔叛乱及大小和卓叛乱
3	雍正帝在西南少数民族聚居区实行“改土归流”

A . 清朝民族关系的发展 B . 边疆商业贸易的繁荣

C. 统一多民族国家巩固 D. 民族地区经济的发展

7 (2010年威海市) 我国经济重心的南移是从唐朝中后期开始的, 最终完成于 (B)

A. 北宋 B. 南宋 C. 元朝 D. 清朝

8 (2010年威海市) 英国著名学者李约瑟博士曾说: “每当人们在中国文献中查找任何一个具体的科技史料时, 往往会发现它的主要焦点就在宋代。”我国宋代重大的科技成就是 (D)

①造纸术的发明 ②活字印刷术的发明 ③指南针的广泛使用 ④火药的广泛使用

A. ①② B. ①③ C. ①②③ D. ②③④

3. (2010年乌鲁木齐市) 从西汉开始新疆就成为祖国领土不可分割的一部分。下列对新疆历史上几个重大事件的表述, 不正确的是

A. 公元前60年, 西汉政府任命郑吉为西域都护
B. 《高昌乐》通过丝绸之路从西域传入中原地区
C. 1759年, 清朝平定大小和卓叛乱, 统一了天山北路
D. 1771年, 土尔扈特部在首领渥巴锡的率领下, 不远万里回归祖国

4. (2010年四川省眉山市) 台湾自古以来就是中国的领土, 在台湾驾照祖国清军进入台湾后, 清朝设置台湾府加强对台湾的管理。当时台湾府是隶属于

A. 浙江省 B. 江苏省 C. 福建省 D. 广东省

2009年7月5日, 新疆乌鲁木齐市发生严重暴力犯罪事件。这是一起境外指挥, 境内行动, 有预谋、有组织的打砸抢烧事件。其目的就是要破坏民族团结, 挑起民族独立, 破坏安定团结的社会局面。我国政府以强有力的措施和手段, 严厉打击这一暴力犯罪行为, 维护了社会稳定。

请回答:

(1) 清朝前期, 在今新疆地区发生过一声反清叛乱, 这场叛乱的发动者是谁? 清朝哪位皇帝领导平定了这场叛乱? 之后, 清政府设置什么机构加强对这一地区的管辖? (3分)

(2) 清朝后期, 外来势力侵入并控制了新疆, 清政府任命谁为钦差大臣收复了新疆? 之后, 为加强西北边疆的管理和防务, 清政府在新疆又设置了什么机构? (2分)

40 (2010年宿迁市) (本题8分) 新疆, 以她迷人的西域风情、悠久的文明历史, 令人神往和遐想。让我们走进新疆, 追溯历史、憧憬明天。

(1) 从西汉到隋唐的千余年间, 一条商路穿越新疆、蜿蜒西行, 把古老的中国文化与印度、波斯、阿拉伯以及古希腊、罗马文化连接起来。请写出这条商路的名称。(2分)

(2) 清朝前期, 为维护国家统一, 清政府在新疆地区采取了哪些平叛行动和加强管辖措施? 针对19世纪60、70年代阿古柏侵入新疆, 清政府又采取了什么重大行动? (3分)

(3) 新中国建立后, 1955年设立新疆维吾尔自治区、2010年中央安排19个省市对口援建新疆, 你认为这些举措有何意义? (3分, 不少于3点)

40. (1) 丝绸之路 (2分)

(2) 平定准噶尔部及大、小和卓木叛乱 (1分, 答出1点即可); 设 (派驻) 伊犁将军 (1分); 派左宗棠收复新疆 (1分)。

(3) 有利于少数民族当家作主, 有利于经济的快速发展, 有利于促进民族团结, 有利于维护国家统一, 有利于把国家政策同少数民族地区具体实际结合起来, 有利于把国家的发展和少数民族的发展结合起来, 有利于推进“西部大开发”战略等。(3分, 答出3点即可,

4 (2010年菏泽市) “国家统一, 民族融合”是中国历史发展的主流, 有关这一主题下列说法不正确的是 (C)

A. 唐太宗把文成公主嫁给吐着赞普松赞干布

B. 元朝时我国形成一个新的民族“回族”

C. 明朝设驻藏大臣加强对西藏的有效管辖

D. 清朝平定大小和卓叛乱巩固对新疆地区的统治

21(2010年重庆市).明清是我国统一的多民族国家进行进一步巩固与发展,封建专制空前强化的时期,请结合所学知识回答下列问题:

(1) 简述明朝加强中央集权的措施。(2分)

(2) 清明军民为巩固多民族国家的统一和发展,在平定国内叛乱和抗击外来侵略、维护国家领土主权方面都做了大量的努力,请各举一例。(2分)

(3) 清政府推行闭关锁国政策近200年,这一政策给中国带来了怎样的影响?(2分)

21. (1) 废除丞相制和中书省,把朝廷的政务分别交给六部处理,六部直接对皇帝负责;利用厂卫制度实行恐怖专政;设立内阁;执行削藩政策;实行八股取士和文字狱。(每点1分,任答其中两点即可得满分,但总分不超过2分。)

(2) 平定国内叛乱;平定噶尔丹叛乱,平定大小和卓叛乱等。(1分,任答其中一例即可,符合题意的答案可同等给分,但总分不超过1分。)

(3) 闭关锁国政策虽曾在抵御外国侵略方面起了一定的作用但它的长期推行影响了中国吸收世界先进的文化和科学技术,阻碍了中国经济文化的发展,是中国近代落伍的重要原因之一。(2分,其它符合题意的答案可同等给分,但总分不超过2分。)

16. (2010年浙江省义乌市)下列属于清政府采取的巩固统一的多民族国家的措施是(C)

A. 在西南率先改土归派

B. 在北方修筑长城

C. 设驻藏大臣

D. 派郑和下西洋

12. (2010年浙江省丽水市)清朝政府为巩固和发展统一的多民族国家,采取的措施有() B

① 实行三省六部制

② 在西南少数民族地区推行改土归流

③ 设立驻藏大臣

④ 平定准噶尔、回部贵族叛乱

A. ①②③

B. ②③④

C. ①②④

D. ①③④

(5) 简述“闭关锁国”的主要表现,分析其历史影响。

26 (2010年贵港市) 阅读下列材料:

材料一 三国时期,南方得到初步开发。在江南的手工业中,最重要的织造麻布,当时有一地方出产的越布是著名特产。

材料二 随着南方经济的发展,我国地区地区出现了世界上最早的纸币—交子。

材料三 明朝初年,他率领当时世界上最大的船队七次下西洋,扩大了中国和亚非国家的经济文化交流。

材料四 清朝初年,清政府实行严厉的“海禁”政策,到乾隆年间,只准开放一处地方作为对外开放的港口。

——《中国历史》七年级上、下册(有改动)

请回答:

(1) 材料一的越布是当时哪一地方的著名特产?(1分)

(2) 材料二的纸币出现在我国哪一时期?(1分)

(3) 材料三的“他”是谁?(1分)

(4) 材料四的“地方”是指哪里?(1分)

28 (2010年淮安市) (7分)中国古代的对外交往,历史悠久,源远流长。从汉朝丝绸之路的开辟到明朝前期的郑和下西洋。我国一直实行和平、开放的对外政策。但到了清朝,这种政策发生了重大变化。

据此并结合所学知识，回答下列问题

- (1) 丝绸之路的开通与哪个历史事件有关？
- (2) 请你写出唐朝与日本、天竺交往中最有影响的两位使者的名字。
- (3) 南宋时海外贸易发达，商船远达阿拉伯半岛和非洲东海岸，航海中广泛使用了我国古代四大发明中的哪一项成就？
- (4) 清朝前期实行了什么对外政策？有何影响？

7 (2010年南京市) .清政府规定：“外国商船只准在广州一口通商贸易；对中国出海的商民限制返回，如逾期不归则不准回国。该规定说明清朝 (B)

- A.禁止对外贸易 B.实行闭关锁国
C.加强思想控制 D.鼓励商业发展

材料一

- (1) 根据材料一，指出当时社会生产关系方面出现的新现象。(2分)



施夏夫妇经营丝织业的机房

材料二 1757年，清朝乾隆皇帝诏告天下，规定只开广州一处对外通商，封闭其它港口，并规定由政府特许的广州“十三行”统一经营管理和对外贸易。

- (2) 材料二表明清朝统治者实行什么对外政策？(2分) 这种政策对中国社会经济的发展产生了怎样的影响？(4分)

材料三 1914-1918年，(中国)五年间注册设厂183家，平均每年近37个，其中钢铁冶炼厂9家。……我国进口货物价值1915年比1913年减少20.3%，出口每年比1913年增加14.8%至20.5%

——《中国近代经济史统计资料选辑》

- (3) 材料三反映出一战期间中国民族资本主义发展进入了一个什么时代？(2分) 指出这一“时代”出现的主要原因。(2分)

- (1) 资本主义生产关系(或雇佣关系)。(2分)
- (2) 政策：闭关锁国(或海禁政策)。(2分)
- (3) 不能适时地向西方学习先进的科学知识和生产技术，使中国在上世界上逐渐落伍了。(或阻碍资本主义生产关系的发展，造成了中国的封闭落后)。(4分)
- (4) 时代：黄金时代(2分)

原因：帝国主义国家忙于战争，暂时放松了对中国的经济侵略。(2分)

18 (2010年山西省) 材料一：北宋都城开封买卖通宵达旦，金、银、彩、帛等“每一交易，动辄千万”。南

宋临安城“自大街及诸坊巷，大小铺席，连门俱是，无空虚之屋”。政府鼓励海外贸易，在主要港口设置市舶机构管理贸易。高宗末年，市舶收入岁达二百万贯，超过北宋治平年间岁入的两倍多。《宋史》曰：“国家根本，仰给东南”。

材料二：十一、二世纪，西欧城市市民展开了与封建主的斗争。法国琅城市民争取自治权的斗争是一个典型的例子。起初，琅城市民用巨款向城主赎买了自治权，但城主挥霍掉赎金后，背信弃义地取消了城市自治权。被激怒的市民拿起武器，进行斗争，最后取得胜利。后来，从市民阶层中分化出富裕市民和银行家，这些人发展成早期的资产阶级。

依据材料，回答问题。

- (1) 材料一中哪句话反映了开封城的发达？(1分)
- (2) “自大街及诸坊巷，大小铺席，连门俱是，无空虚之屋”。说的是什么现象？(1分)

- (3) 宋朝海外贸易空前活跃的主要原因是什么？（1分）
 (4) 《宋史》曰：“国家根本，仰给东南”。说明了什么？（1分）
 (5) 材料二叙述的是哪一历史事件？（1分）
 (6) 早期资产阶级的出现，产生了什么作用？（1分）
18. (1) 每一交易，动辄千万。（1分） (2) 城内店铺林立，贸易兴盛（商业繁荣，买卖行升等）。（1分） (3) 政府重视（政府鼓励海外贸易）。（1分） (4) 国家的经济重心移至南方（国家财政依赖于南方）。（1分） (5) 琅城起义（法国琅城市民争取城市自治权的斗争）。（1分） (6) 为资本主义兴起准备了条件。（1分）
3. (2010年四川省眉山市)《苏州府风俗考》中记载：“郡城之东，皆习机业。……工匠各有专能。匠有常主。计日受值。……无主者黎明立桥头以待。……若机房工减，此辈衣食无所矣。”此则材料反映了明代苏州出现了资本主义生产关系的萌芽。作出这一判断的主要依据是
- A.使用机器生产 B.手工业生产规模扩大
 C.行业分工精细，生产有序 D.存在着雇佣与被雇佣的关系

(八)科学技术

【内容标准】

(1) 以司母戊鼎等为例，了解中国古代青铜工艺的成就。

1. (2010年安徽)文物是鲜活的历史。下列文物中最能反映商朝社会生活的是……
 ……【 B】



- A. 兵马俑 B. 司母戊鼎 C. 竹木简 D. 青花瓷

1. (2010年株洲市)商、周时期的青铜器，造型雄伟，纹饰古朴。下列青铜器中哪件是目前我国已发现的最大的青铜器 A



1. (2010年潍坊市)《周礼》载“金有六齐(配方)，六分其金而锡居一，谓之钟鼎之齐。”这反映了(B)
- A. 甲骨文的雕刻技巧 B. 青铜器的铸造工艺
 C. 金文的形成与发展 D. 铁农具的制造技术
6. (2010年浙江省宁波市)2010年4月1日起，为期三个月的“国家宝藏——中国国家博物馆典藏珍宝展”在宁波博物馆举行。其中右图的展品出自中国的A
- A. 商周时期 B. 隋唐时期 C. 宋元时期 D. 明清时期



2. (2010年四川省宜宾市) 下列史实, 可以通过右图所示著作了解的有 (A)

①秦始皇统一货币、文字②汉武帝在长安举办太学③宦官蔡伦改进造纸技术④李春设计并主持修建赵州桥

A. ①② B. ②③ C. ①③ D. ②④

3. (2010年衡阳市) 中国古代有一部史学巨著, 其内容“究天人之际, 通古今之变, 成一家之言”, 其作者“功业追尼父, 千秋太史公”, 其体例则开纪传体史书之先河。它是 A

A. 《史记》 B. 《汉书》 C. 《通典》 D. 《资治通鉴》

2. (2010年娄底市) 被鲁迅称之为“史家之绝唱, 无韵之离骚”的我国第一部纪传体通史著作是 (D)



A B C D

4 (2010年南京市). 有一书法作品, 全篇 324 字, 凡重复的字, 写法各不相同, 笔法之玄妙, 似有神助, 有“天下第一行书”的美誉, 该作品是 (A)

A. 《兰亭序》 B. 《九成宫碑》
C. 《颜氏家庙碑》 D. 《玄秘塔碑》

17 (2010年常州市) 《资治通鉴》是我国第一部编年体通史, 此书内容包括 (B)

①夏商西周三代的更替 ②战国七雄 ③三国鼎立局面的形成 ④宋金南北对峙

A. ①②④ B. ②③ C. ①②③ D. ③④

(2) 知道《九章算术》, 讲述祖冲之推算圆周率的史实, 了解中国古代的数学成就。

4 (2010年威海市) 月球上有一座环形山是以我国著名科学家祖冲之的名字命名的, 因为他在世界上第一次把圆周率的数值, 计算到小数点以后的第 7 位数字。这项成果领先世界

(C)

A. 近五百年 B. 近七百年 C. 近一千年 D. 近两千年

(3) 知道华佗、张仲景和《伤寒杂病论》、李时珍和《本草纲目》等名医名著。

4. (2010年福建莆田市) 下列关于秦汉科学技术成就的叙述, 不正确的是 A

A. 蔡伦发明了造纸术
B. 华佗制成了“麻沸散”
C. 《伤寒杂病论》奠定了中医医疗学的基础
D. 《九章算术》总结了周秦到汉代的数学成就

2 (2010年淄博市) 中华民族传统文化的瑰宝中医药, 越来越受到世界各国的重视和欢迎。

下列人物中, 对中国古代医学做出重大贡献的是 () D

A. 张衡 屈原 B. 宋应星 李时珍
C. 蔡伦 张仲景 D. 张仲景 李时珍

2. (2010年邵阳市)张仲景被后人尊称为(D)
A.“画圣” B.“书圣” C.“诗圣” D.“医圣”

(4) 知道《水经注》《齐民要术》《天工开物》等重要著作。

- 3 (2010年潍坊市)北魏时期,潍坊大地上一位农学家提出:“农业生产必须遵循自然规律”。他是(C)
A.公冶长 B.郑板桥 C.贾思勰 D.陈介祺



- 3 (2010年贵港市)下列关联错误的是(C)

- A. 华佗—医生 B. 李冰—都江堰
C. 郦道元—农学家 D. 小篆—秦朝通用的标准字体

4. (2010年湖北省宜昌市)“自三峡七百里中,两岸连山,略无阙处。”...空谷传响,哀转久绝。故渔者歌曰:“巴东三峡巫峡长,猿鸣三声泪沾裳!”这是《水经注》中对三峡的描述,它的作者是(A)

- A.郦道元 B.张衡 C.张仲景 D.贾思勰

- 11 (2010年咸宁市)被外国学者称为“中国17世纪的工艺百科全书”的《天工开物》的作者是(C)

- A.贾思勰 B.李时珍 C.宋应星 D.徐光启

- 10 (2010年威海市)下列我国古代科技著作中,两项同属于一个领域的一组是(A)

- A.《伤寒杂病论》与《本草纲目》 B.《天工开物》与《九章算术》
C.《齐民要术》与《水经注》 D.《天工开物》与《水经注》

4. (2010年重庆市)右图是我国发行的一枚纪念明代科学家应星的邮票。宋应星的重要成就是(D)

- A.发明指南针 B.发明活字印刷术
C.编著《本草纲目》 D.编著《天工开物》



宋
出。

5. (2010年重庆市)唐朝是我国诗歌创作的黄金时代,那时,诗人辈
其中被称为“诗仙”的是(C)

- A.白居易 B.杜甫 C.李白 D.苏轼

6. (2010年重庆市)同学们耳熟能详的唐僧取经、孙悟空智降妖怪等故事出自于我国古代一部浪漫主义长篇神话小说。这部小说是(C)

- A.《三国演义》 B.《水浒传》
C.《西游记》 D.《红楼梦》

4. (2010年泉州市)被誉为“东方医学巨典”的明朝药物学著作《本草纲目》的作者是(C)

- A.华佗 B.张仲景 C.李时珍 D.李春

2. (2010年四川省眉山市)三峡是我国著名的景点之一。古代有人曾对三峡两岸的猿声作这表的描写:“巴东三峡巫峡长,猿鸣三声泪沾裳。”你知道这个人是谁吗?

- A.罗贯中 B.郦道元 C.吴承恩 D.施耐庵

(5) 以都江堰、长城、大运河、赵州桥、北京故宫等为例,体会中国古代劳动人民的智慧和创造力。

13. (2010年深圳市)如图2,大运河在古代中国起着贯通南北交通的重要作用。大运河连接淮河与长江的一段是(D)

- A 通济渠 B 永济渠

C 江南河 D 邗沟

2 (2010年佛山市) 从通行的便利性看,隋朝赵州桥在造桥技术上的创新设计采用 (B)
A. 单孔石拱 B. 平拱 C. 多索斜拉 D. 多孔曲拱

17. (2010年长沙市) 观察下列两图,根据图片及所学知识回答问题:



图一 秦朝疆域图

图二 明长城

- (1)图一中秦的统一是由谁完成的?哪次改革为秦的统一奠定了基础?(3分)
- (2)图一和图二中长城的修建分别是为了抵御哪一少数民族的进攻?依据图二指出明长城的起止点。(4分)
- (3)秦长城和明长城的修建都是为了抵御少数民族的进攻,有人由此认为中国古代民族关系的主流是战争与冲突。你认为中国古代民族关系的主流是什么?举一例并加以说明。(4分)

21 (2010年潍坊市) (16分) 在2000多年的漫长岁月里,长城犹如一条巨龙在中华大地上腾起,纵横万里。如今,长城已被列入《世界遗产名录》。阅读材料,回答问题。

材料一 秦朝“北筑长城而守藩篱,却匈奴七百余里。”……明长城“塞息五十年之烽燧,……(长城沿线)田野日辟,商贾日通,边民始知有生之乐。”

(1) 据材料一,概括长城的历史作用。(6分)

材料二 1935年4月,田汉、聂耳创作的《义勇军进行曲》:“起来!不愿做奴隶的人们!把我们的血肉筑成我们新的长城!”极大地鼓舞了人们的斗志。《义勇军进行曲》后来被定为中华人民共和国国歌。今天我们仍然高唱:“把我们的血肉筑成我们新的长城!”

(2) 材料二中两次“新的长城”分别有什么含义?(4分)

材料三 约公元前220年,一统天下的秦始皇,将修建于早些时候的一些断续的防御工事连成一个完整的防御系统;……在明代,又继续加以修筑,使长城成为世界上最长的军事设施。它在文化艺术上的价值,足以与其在历史和战略上的重要性相媲美。

——世界遗产委员会关于长城的描述

(3) 据材料三,指出长城入选《世界遗产名录》的依据。(6分)

(1) 作用:抵御了少数民族入侵;保证了边疆地区和平;有利于沿线经济发展。(6分)

(2) 含义:全民族团结抗战;中华民族团结一致,实现民族伟大复兴。(4分)

(3) 依据:悠久的历史;世界上最长的军事设施;很高的文化、艺术价值。(6分)

1 (2010年莱芜市) (2010年莱芜市) 战国时期修建的著名水利工程都江堰位于哪一诸侯国境内 (C)

A. 齐国 B. 楚国 C. 秦国 D. 赵国

1. (2010年临沂市) 2010年5月, 发生在南方的洪涝灾害牵动了全国人民的心, 也引起了人们对水利工程的关注。战国时期, 秦国修建的闻名世界的防洪灌溉的水利工程是 (B)

A. 灵渠 B. 都江堰 C. 大运河 D. 会通河

3. (2010年泰安市) 假如你给李冰画像, 可以选择的历史场景是 (C)

A. 上书秦孝公请求变法 B. 奉乾隆旨意领兵平定大小和卓叛乱

C. 主持修建都江堰 D. 陪唐玄宗考核县令的政绩

2. (2010年四川省成都市) 作家余秋雨曾经写到: “就在秦始皇下令修建长城的数十年前, 四川成都平原上已经完成了一个了不起的工程……它至今还为无数民众输送涓涓清流。”下列历史人物中, 主导修筑这个“了不起的工程”的是

A. 禹 B. 李冰 C. 商鞅 D. 李春


26 (2010年湛江市) 湛江人民所建造的雷州青年运河, 不仅保证了雷州半岛农田的灌溉用水, 还解决了九洲江下游的洪涝灾害。战国时期, 既能防洪又能灌溉的著名水利工程是 (B)

A. 大运河 B. 都江堰 C. 长城 D. 三峡大坝

2. (2010年湘潭市) 2010年春, 西南地区遭遇了百年不遇的大旱, 凸显水利工程的重要性。著名的水利工程都江堰修建于(B)

A. 春秋时期 B. 战国时期 C. 秦朝 D. 汉朝

21. (2010年河南省) (5分) 南水北调工程从提出、论证到勘探, 历经数十年, 中线工程河南段终于2009年全面开共。这是一项规模浩大的民生工程, 建成后将有效缓解京津地区用水紧张局面。我国古代也修建了大量的水利工程, 泽被后世, 但对当时的政权却产生了不同的影响。读图, 回答下列问题。



图一：都江堰

图二：隋朝大运河

(1) 简述图一、图二工程的主要功能。(2分)

(2) 两人工程分别对当时的政权产生了什么影响?(2分)

(3) 结合上述材料, 分析国家在建设大型公共工程时应注意什么?(1分)

(1) 图一：防洪灌溉；(1分) 图二：运输。(沟通南北交通或南粮北运也可, 1分)

(2) 都江堰的修建, 促进了秦国经济的发展, 为秦的统一奠定了基础。(只要答出对秦国的积极影响即可, 1分) 为修建大运河, 隋炀帝过度役使人民”, 遭到人民反抗, 加速了隋朝的灭亡。(意思相近即可, 1分)

(3) 要从国情出发; 要经过充分、科学的论证; 要以改善民生、促进社会发展为目的。(一条即可, 其他符合题意也可, 1分)

3. (2010年无锡市) 无锡是京杭大运河唯一穿城而过的城市, 古运河在清名桥历史文化街区留下了一段“运河版、江南水弄堂”, 堪称古运河听精华绝品。“水弄堂”两岸粉墙黛瓦, 鳞

宛马自不必说，还有地毯、毛织物、宝石、金银器、玻璃制品……。另外，中国产的丝织品、瓷器、漆器也传到了西方。

——摘自丝博网

(1) 材料一中的“这条通商道路”后来被称作什么？根据材料一，概括指出它的开辟有什么积极影响？

材料二 诏不得以北俗之语言于朝廷，若有违者，免所居官。

——摘自《魏书》

(2) 民族大融合，也是不同文明之间互相交流的一种形式。材料二中的“诏”是谁下达的？这一改革措施的目的是什么？

(3) 英国哲学家培根对印刷术、指南针和火药传入欧洲曾经这样评价：“它们都改变了世界的面貌和状态。”简述指南针传入欧洲后带来的重要影响。

4 (2010年福州市) 弗兰西斯·培根说：“这三种东西改变了整个世界的面貌和状态，第一种是在文字方面，第二种是在战争上，第三种是在航海上。”这里的“第三种”指 (A)

A. 指南针 B. 造纸术 C. 印刷术 D. 火药

4 (2010年佛山市) 《金史》有“声如雷震，……人与牛皮皆碎迸无迹，甲铁皆透”的战争场景描绘，对此解释不正确的是 () C

A. 战争场面惨烈 B. 火药已应用于军事战争
C. 火药的使用改变了战争结局 D. 火药威力巨大

4. (2010年广东省) 有西方学者认为“近代世界赖以建立的种种发明与发现可能有一半来源于中国。”古代中国为西方国家开辟新航路提供重要条件的发明是 (A)

A. 指南针 B. 火药 C. 造纸术 D. 活字印刷术

12 (2010年襄樊市) 我国四的大发明中在北宋时候发明的是 (D)

A. 造纸术和火药 B. 指南针和造纸术
C. 指南针和火药 D. 活字印刷术和指南针

3 (2010年苏州市) 英国作家培根说：“这三种东西，改变了世界面貌。第一种在文学上，第二种在战争上，第三种在航海上，由此引起了无数的变化。这种变化如此之大，以致没有一个帝国、一个宗教派别、一个赫赫有名的人物能比这三种发明在人类的事业中产生更大的力量和影响。”他说的“这三种东西”不包括 (A)

A. “麻沸散” B. 印刷术 C. 火药 D. 指南针

4 (2010年扬州市) 目前世界上已知最早的纸出现在我国 ()

A. 战国时期 B. 秦朝时期 C. 西汉时期 D. 东汉时期

4 (2010年龙岩市) 下列四大发明中，由北宋毕升发明的是 D

A. 造纸术 B. 火药 C. 指南针 D. 活字印刷术

12 (2010年青岛市) “大师西去悲难禁，毕升功德世长流”。北宋时期，毕升发明的 ，在科技史上是一个划时代的技术创新，大大促进了文化的传播 (C)

A. 造纸术 B. 雕版印刷术
C. 活字印刷术 D. 指南针

26. (2010年日照市) (10分) 古代历史上，不同文明之间的互相交流促进了人类社会的进步。阅读材料，回答问题。

材料一 经过张骞等所开辟的这条通商道路传来了各种各样的东西。汉武帝所喜爱的大宛马自不必说，还有地毯、毛织物、宝石、金银器、玻璃制品……。另外，中国产的丝织品、瓷器、漆器也传到了西方。

——摘自丝博网

(1) 材料一中的“这条通商道路”后来被称作什么？根据材料一，概括指出它的开辟有什么积极影响？

材料二 诏不得以北俗之语言于朝廷，若有违者，免所居官。

——摘自《魏书》

(2) 民族大融合，也是不同文明之间互相交流的一种形式。材料二中的“诏”是谁下达的？这一改革措施的目的是什么？

(3) 英国哲学家培根对印刷术、指南针和火药传入欧洲曾经这样评价：“它们都改变了世界的面貌和状态。”简述指南针传入欧洲后带来的重要影响。

4. (2010年綦江县) 正在热播的电视连续剧《三国》是根据历史小说《三国演义》改编的，《三国演义》的作者是 (A)

A. 罗贯中 B. 曹雪芹 C. 施耐庵 D. 吴承恩

19 (2010年綦江县) 阅读下列材料：

材料一



图一



图二



图三

材料二“……这是预兆资产阶级社会到来的三大发明。……把骑士阶层炸得粉碎，……打开了世界市场并建立了殖民地，……却变为新教的工具，并且一般地说变为科学复兴的手段，变成创新精神发展的必要前提的最重要的推动力。”——马克思

请回答：

(1) 材料一中的三幅图片分别代表了我国古代的哪三大发明？(3分)

图一：_____

图二：_____

图三：_____

(2) 根据材料二，并结合所学知识，概括指出这三大发明有何重大影响？(2分)

(3) 综合上述材料，谈谈你对科学技术的认识。(1分)

19(1) 图一：活字印刷术 (或印刷术) 图二：指南针 图三：火药 (各1分，共3分)

(2) 预兆了资产阶级社会的到来；推功了科学的发展和创造；是我国为世界文化的发展作出的卓越贡献。(任意答两点即可) (2分)

(3) 科学技术是第一生产力；科学技术是推动社会发展的动力等。(言之成理即可) (1分)

35 (2010年湘潭市) 英国学者李约瑟在《中国古代科学技术史》中写道：“从3世纪到13世纪，中国一直处于西方望尘莫及的科学地位，明清以后逐渐落后了。”据此回答：

(1) 四大发明是我国古代科技的标志性成就，请写出四大发明的名称。(4分)

(2) 试从政治制度、文化政策和对外政策等方面分析明清时期中国科技落后的主要原因。(3分)

(3) 你认为我国应如何做才能进一步缩小与发达国家的科技差距？(3分)

35、(1) 造纸术、印刷术、火药、指南针。(每点1分，共4分)

(2)政治制度：君主专制中央集权制度空前强化。文化政策：实行八股取士，束缚了知识分子的思想。对外政策：闭关锁国政策阻碍了中外正当的经济文化交流（每点1分，共3分）

(3)发展经济，进一步增强国力；坚持科教兴国战略，尊重知识，尊重人才；坚持改革开放政策等（每点1分，共3分，其它答案言之有理亦可给分）

(九)思想文化

【内容标准】

(1) 知道甲骨文、金文、小篆、隶书等字体，知道汉字的演变。

4 (2010年南京市) . 有一书法作品，全篇324字，凡重复的字，写法各不相同，笔法之玄妙，似有神助，有“天下第一行书”的美誉，该作品是 (A)

A. 《兰亭序》 B. 《九成宫碑》

C. 《颜氏家庙碑》 D. 《玄秘塔碑》

7. (2010年黄冈市) 中华文明源远流长，绵延不止，成就辉煌，有文字可考的历史从_____开始的。(B)

A. 夏朝 B. 商朝 C. 西周 D. 战国

2 (2010年菏泽市) 山东泰山、峯山、琅琊台等地都有秦始皇巡行天下时的碑刻遗存，这些石碑上的文字应该是 (C)

A. 甲骨文 B. 金文 C. 小篆 D. 楷书

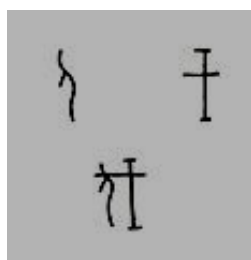
2. 秦灭六国后，统一了度量衡。右图是秦朝测量重量的工具之一“秦权”，他上面文字的文体是 (B)

A. 大篆 B. 小篆 C. 楷书 D. 行书

1. (2010年龙岩市) 商朝人刻写在龟甲或兽骨上的文字是 B

A. 金文 B. 甲骨文 C. 小篆 D. 隶书

17. (2010年资阳市) 下列图片所示字体最早出现的是 (A)



A



B



C



D

2. (2010年三明市) 中央电视台《百家讲坛》播出的“王立群读《史记》”节目，吸引了众多观众，《史记》的作者是 (C)

A. 孔子 B. 屈原 C. 司马迁 D. 司马光

(2) 知道孔子，了解“百家争鸣”的主要史实。

2. (2010年福建莆田市) 春秋战国时期是中国历史上思想文化空前繁荣的时代，思想领域出现了“百家争鸣”的活跃局面。其中强调用“刑罚”加强统治的学派是 C

A. 儒家 B. 道家 C. 法家 D. 墨家

- 3 (2010年青岛市)“参差荇菜，左右芼之。窈窕淑女，钟鼓乐之”。(《诗经·关雎》)春秋战国时期盛行“钟鼓之乐”，在湖北随州出土的钟鼓乐器中，最为珍贵的是(D)
- A.编磬 B.鼓 C.瑟 D.编钟
- 2 (2010年威海市)右图为正在上海举办的世博会会徽，它以中国汉字“世”字书法创意为形，突显了上海世博会以人为本的理念。“以人为本，关注民生”是古往今来治国兴邦的基本经验，我国古代思想家最早提出“仁”的学说，主张“爱人”、“为政以德”的是(B)
- A.老子 B.孔子 C.孟子 D.墨子
- 14 (2010年浙江省义乌市).在美国西点军校，一个2000多年前的中国人提出的“知己知彼，百战不殆”的军事思想受到了学员的追捧。这个人(D)
- A.孙臆 B.孔子 C.韩非子 D.孙武
- 四、改错题 以下各题表述中各有两处不符合历史事实，请找出错误之处写在答题卡相应位置上，并在答题卡改正处写上正确的内容。(本大题共3小题，每小题1分，共3分)
33. (2010年无锡市)2009年是孔子诞辰2560周年。大型电视连续剧《孔子》和百集动漫《孔子》在此之际连续播放，盛况空前的孔子文化节在孔子的故乡山东曲阜隆重举行，2010年又上映《孔子》电影。孔子是儒家学说的创始人，他主张以爱人之心调解、和谐社会人际关系，他的主要言论记载在《春秋》一书中。以后，为了加强统治，秦始皇推行“罢黜百家，独尊儒术”，使儒家学说成为封建社会的正统思想。
1. (2010年无锡市)前天是我国的传统节日——端午节。在上海世博园的中华美食街上，挂着“中国味，世界享”特色招牌的五芳斋店铺里的粽子散发着阵阵诱人的清香。请问端午节是为了纪念我国历史上的哪位文化名人?(D)
- A.文天祥 B.司马迁 c.孔子 D.屈原
- 2 (2010年盐城市)学习需要“温故而知新”。明确提出这一学习方法的古代教育家是(A)
- A.孔子 B.墨子 C.韩非子 D.孟子
1. (2010年淄博市)在第十一届全国运动会开幕式上，艺术地再现了山东“一山一水一圣人”的文化特色。其中“圣人”指的是(A)
- A.孔子 B.老子 C.墨子 D.韩非子
2. (2010年泰安市)开心辞典的主持人王小丫出了这样一道题：他是我国春秋晚期的鲁国人；他提出了“仁”的学说；他最早创办私学。他是(B)
- A.老子 B.孔子 C.孟子 D.墨子
- 2 (2010年东营市)战国时期，主张“兼爱”、“非攻”的是(C)
- A.儒家 B.法家 C.墨家 D.兵家
- 4 (2010年青岛市)近年在汉堡发现了一本1691年出版的《论语》英译本，该书的前言说：“这位哲学家的道德是无限辉煌的。”请问这位哲学家的道德核心是(A)
- A.“仁” B.“无为而治” C.“兼爱”、“非攻” D.“法治”
3. (2010年呼和浩特市)环境保护是当今世界发展不可忽视的一个问题，我国古代一位思想家在战国时期就曾主张，不要过分捕捞鱼鳖，要按时令进山伐树，使自然资源可持续利用。这位思想家是(B)
- A.孔子 B.孟子 C.荀子 D.墨子
- 2 (2010年扬州市)孔子思想中，体现和谐社会要求的是(A)
- A.仁者爱人 B.等级观念 C.举一反三 D.温故知新
11. (2010年襄樊市)《论语》中所记载的是我国古代思想家_____的言论。
- (A)
- A.孔子 B.老子 C.韩非子 D.董仲舒

4 (2010年东莞市) 春秋战国时期出现了百家争鸣的局面, 不同政治派别对各种问题提出不同的见解。在治理国家方面, 道家的主张是 D

A. 以“礼”治国 B. 以“法”治国 C. “兼爱”“非攻” D. “无为而治”

1. (2010年汕头市) 孔子是我国古代伟大的教育家。他对教育作出的重要贡献之一是 (C)

A. 主张“为政以德” B. 按出身贵贱招收门徒
C. 主张“因材施教” D. 以《论语》作为教材

2 (2010年株洲市) 提出“仁”的学说, 要求统治者实行“仁政德治”的是 B

A 老子 B 孔子 c 孟子 D. 韩非子

19. (2010年宿迁市) “知足常乐”源于古代“无为而治”思想, 提出这一思想的学派是 (C)

A. 儒家 B. 法家 C. 道家 D. 墨家

3 (2010年东莞市) 《论语》是大思想家孔子的语录, 宋代宰相赵普有“半部论语治天下”之说。孔子思想的核心主张是 (A)

A. “仁”和“礼” B. “因材施教” C. “为政以德” D. “有教无类”

19. (2010年宿迁市) “知足常乐”源于古代“无为而治”思想, 提出这一思想的学派是 (C)

A. 儒家 B. 法家 C. 道家 D. 墨家

2 (2010年株洲市) 提出“仁”的学说, 要求统治者实行“仁政德治”的是 B

A 老子 B 孔子 c 孟子 D. 韩非子

(3) 了解佛教传入和道教兴起的主要史实。6. (2010年盐城市)

右图是 20 世纪 20 年代被美国人华尔纳从敦煌莫高窟盗走的珍贵文物, 它体现了高超的雕塑技艺与宗教文化的完美结合。

这里的“宗教”是指 (D)

A. 道教 B. 基督教 C. 伊斯兰教 D. 佛教

6 (2010年青岛市) 俗语“家家观世音, 人人阿弥陀”一定程度上反映了佛教在中国民间的盛行。请问佛教传入我国是在 (B)

A. 秦朝时期 B. 西汉时期 C. 魏晋时期 D. 隋唐时期



(4) 以唐诗、宋词和明清小说为例, 了解中国古代的文学成就。

5. (2010年三明市) 某校文学长廊中悬挂着以下一组图片, 他们取材于 (A)



舌战群儒 蒋干盗书 单刀赴会 挥泪斩马谲

A. 《三国演义》 B. 《西游记》 C. 《水浒传》 D. 《红楼梦》

4. (2010年无锡市) 上海世博园中国馆的镇馆之宝是“活”的《清明上河图》。高科技让画上的人物全部活动起来, 熙来攘往, 昼现夜隐, 12 世纪中国多刺的城市画卷被生动演绎出来。

请问《清明上河图》是哪位画家的传世名作? (D)

A. 王羲之 B. 顾恺之 C. 吴道子 D. 张择端

5. (2010年无锡市) 有尚未普及电视和电影的二十世纪七八十年代拥有一本精美的连环画是很多孩子的梦想, 很多人就是在童年时通过连环画来阅读名著的。试试你的眼力看看下面哪一组搭配是错误的? (C)



- A. 大闹天宫-《西游记》 B. 三顾茅庐-《三国演义》 C. 黛玉葬花-《西厢记》 D. 武松打虎-《水浒传》

- 13 (2010年青岛市) 辛弃疾(如右图)是两宋时期“豪放派”词风的重要代表, 他的词气势豪迈, 雄健奔放。下列各项中, 属于辛弃疾词作的是 (C)

- A. “长太息以掩涕兮, 哀民生之多艰”
B. “朱门酒肉臭, 路有冻死骨”
C. “醉里挑灯看剑, 梦回吹角连营”
D. “和羞走, 倚门回首, 却把青梅嗅”



- 14 (2010年青岛市) 元朝是我国古代戏剧发展的黄金时期, 名家辈出, 名作迭是其中的一位。他和白朴、马致远、郑光祖一起, 被人们称作“元曲四大家”。

表作是 (A)

- A. 《窦娥冤》 B. 《西厢记》 C. 《牡丹亭》 D. 《桃花扇》

- 15 (2010年青岛市) 在某校组织的一次历史人物竞猜活动中, 当主持人说道: “元代著名的书画家、书法劲秀雄健, 功力深厚、画作被誉为‘神品’。”茗茗同学立即作出了正确的回答: 他是 (D)

- A. 张择端 B. 顾恺之 C. 颜真卿 D. 赵孟頫

- 5 (2010年四川省成都市) 唐朝诗歌繁盛, 诗人众多。下列哪一位诗人赞美成都“九天开出一成都, 万户千门入画图”?

- A. 李白 B. 杜甫 C. 白居易 D. 薛涛

14. (2010年深圳市) 唐朝社会经济的繁荣和科举制度的完善, 推动了文学艺术的发展。这一时期, 处于发展的黄金时代的是 (A)

- A 诗歌 B 散文 C 史学 D 戏曲

4. (2010年泉州市) 被誉为“东方医学巨典”的明朝药理学著作《本草纲目》的作者是 (C)

- A. 华佗 B. 张仲景 C. 李时珍 D. 李春

13. (2010年深圳市) 如图2, 大运河在古代中国起着贯通南北交通的重要作用。大运河连接淮河与长江的一段是 (D)

- A 通济渠 B 永济渠
C 江南河 D 邗沟

18. (2010年资阳市) 2010年5月由朝鲜国家级艺术团——血海歌剧团潜心50载创作的大型歌舞剧《红楼梦》登陆北京电视台大剧院, 就此开始该剧在中国为期一个月的巡回演出。血海歌剧团之所以选择《红楼梦》创作大型歌舞剧, 主要是因为这部小说 (C)

- A. 情节曲折离奇 B. 反映了中韩友谊
C. 具有高度的思想性和艺术性 D. 是中国最早的小说

21 (2010年泰州市) 中华文明源远流长, 绵延不绝, 成就辉煌, 对人类进步做出了伟大贡献。阅读有关材料, 回答问题。(7分)

材料一 春秋战国时期, 针对社会急剧的变化和发展, 有识之士纷纷发表各自的看法和主张, 逐渐形成儒家、法家、道家、墨家、兵家等许多学派, 史称“诸子百家”。

(1)材料一中, 各个学派间相互争论和批判, 又相互影响, 形成了什么样的学术繁荣局面?其中儒家学说从哪一时期开始被确立为封建专制王朝的正统思想?(2分)

解析: 百家争鸣的局面形成于春秋战国时期, 是中国历史上第一次思想解放运动, 形成了中国传统文化。诸子百家的代表人物有: 道家学派的老子和庄子; 儒家学派的孔子、孟子和荀子; 墨家学派的墨子, 法家学派的韩非子。汉武帝接受董仲舒的建议, “罢黜百家, 独尊儒术”, 把儒家思想作为封建统治的正统思想, 加强思想控制, 巩固中央集权;

参考答案: ①百家争鸣; ②汉朝;

材料二 有西方学者认为“近代世界赖以建立的种种文明与发展可能有一半来源于中国”。尤其是公元1000年后的宋元时期的几项重大发明对促进世界文明的发展与进步作出了极其重要的贡献。

(2)列举传入欧洲并对近代世界产生深刻影响的两项宋代科技成就。(2分)

解析: 造纸术: 公元前2世纪的西汉早期, 出现和使用麻纸。东汉时, 蔡伦改进了造纸术, 造出了植物纤维纸, 被称为“蔡侯纸”。活字印刷术: 北宋毕生发明活字印刷术; 指南针: 北宋时, 制成指南针, 并开始用于航海事业; 火药: 宋元时期, 火药武器(突火枪、火箭、火炮等) 广泛用于战争。

参考答案: 活字印刷术、指南针

材料三 清朝赵翼说: “李杜诗篇万口传, 至今已觉不新鲜。江山代有才人出, 各领风骚数百年。”

(3)材料三中提及“李杜诗篇万口传”, 其中被称为“诗圣”的诗人是谁?明清时期独领风骚的文学形式(体裁)是什么?(2分)

解析: “李杜诗篇万口传”中的“李杜”指的是李白和杜甫。李白的诗雄奇飘逸, 想象丰富, 激昂奔放, 富有浪漫主义精神, 人称“诗仙”。杜甫的诗沉郁顿挫, 语言精炼细腻, 感情真挚动人, 富有现实主义精神。诗的内容多反映社会现实生活。后人称他为“诗圣”, 称他的诗为“诗史”。

参考答案: ①杜甫; ②小说

材料四 孔子学院在全球开设的速度, 引发了世人包括中国人自己的惊奇。在不到两年的时间里, 全球新增100多所孔子学院, 覆盖了50多个国家和地区。“现在已经不是我们要推广, 而是各国的大学争着要办, 挡都挡不住。”

——中国国家汉语国际推广领导小组办公室

(4)根据材料四并结合所学知识, 简要回答: 弘扬中华优秀传统文化有怎样的现实意义?(不超过20字)(1分)

解析: 关键词是“弘扬中华优秀传统文化”“现实意义”, 此题可结合思想品德学科的有关知识回答。

参考答案: 有利于建设社会主义先进文化; 有利于全面建设小康社会; 有利于构建社会主义和谐社会等等。答到一点即给1分。其他答案言之成理即可。

6. (2010年衡阳市) “北京王麻子剪刀”是享誉海内外几百年的中华老字号, 其生产技术曾在“中国17世纪工艺百科全书”中被详细介绍。该书是 C

A. 《齐民要术》 B. 《本草纲目》 C. 《天工开物》 D. 《徐霞客游记》

6 (2010年岳阳市) 上海世博园中国馆这样一幅作品: 它以动漫的形式向中外游客展示了我国古代都市的繁华。请你判断这幅作品是: (C)

- A、赵孟頫的《秋郊饮马图》 B、顾恺之的《洛神赋图》
C、张择端的《清明上图》 D、敦煌莫高窟的敦煌壁画

20 (2010年连云港市) 右图书法作品有“飘若浮云，矫若惊龙”美称。这一作品的首书者是 (A)

- A . 王羲之 B . 顾恺之 C . 李白 D . 苏轼

14 . (2010年深圳市) 唐朝社会经济的繁荣和科举制度的完善，推动了文学艺术的发展。这一时期，处于发展的黄金时代的是 (A)

- A 诗歌 B 散文 C 史学 D 戏曲

27 (2010年湛江市) 有一首歌这样唱道：“……不知今宵是何时的云烟，也不知今夕是何夕的睡莲，但愿能够化作唐宋诗篇”，那么在“唐宋诗篇”中被称为“诗仙”的唐朝诗人是 (A)

- A . 李白 B . 杜甫 C . 白居易 D . 苏轼

13 . (2010年襄樊市) 光耀千古的唐朝文化，最为光彩夺目的是 (C)

- A . 词 B . 小说 C . 诗歌 D . 戏剧