


湖南省娄底市 2019 年初中学业水平考试历史试题卷文科综合（历史）

四、选择题（本大题共 25 小题，每小题 2 分，共 50 分。）

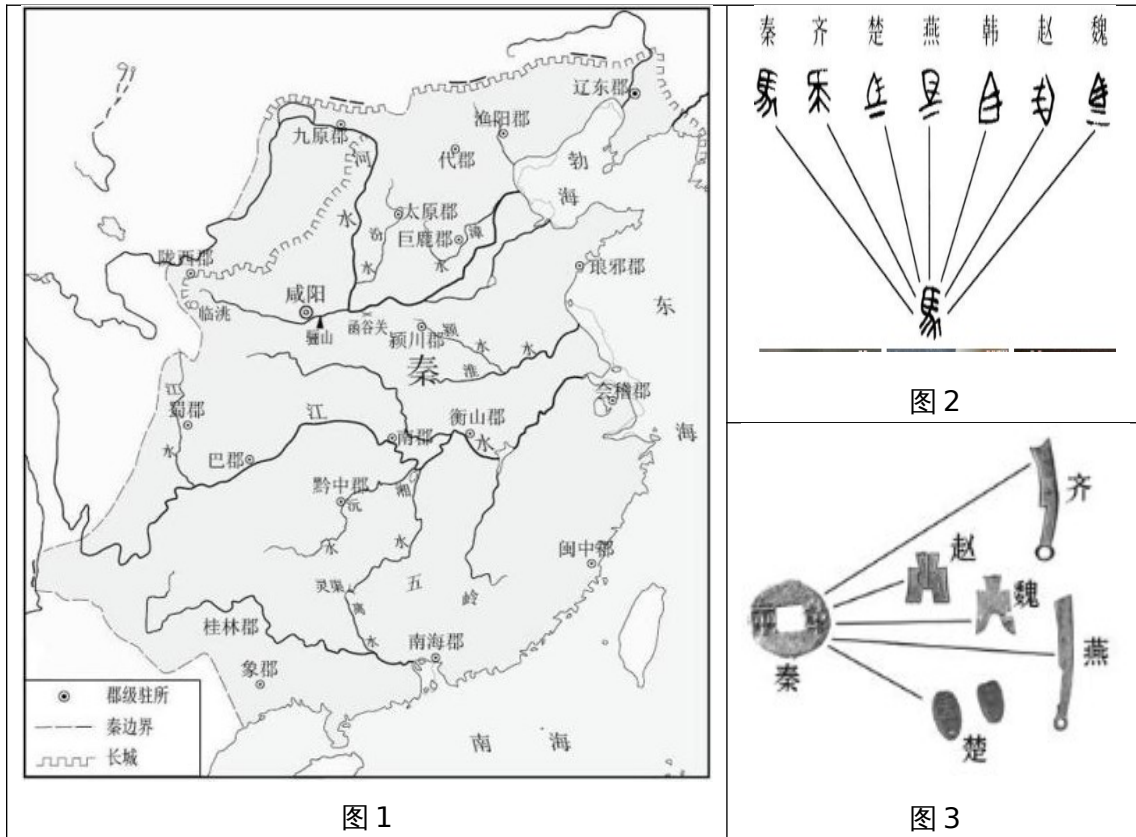
30. 我们一直对“人从哪里来”充满好奇。要探寻人类起源，最为可信的依据是（ ）
- A. 考古发现 B. 文献记载
C. 神话传说 D. 调查问卷
31. 孔子是儒家学派创始人。他主张（ ）
- A. “自然无为” B. “仁者”“爱人”
C. “以法治国” D. “兼爱”“非攻”
32. 某皇帝深知“水能载舟。亦能覆舟”的古训，在治国过程中轻徭薄赋，广纳贤才，虚心纳谏，开创了政治清明、社会稳定、经济发展的盛世局面，史称（ ）
- A. 文景之治 B. 光武中兴
C. 贞观之治 D. 开元盛世
33. 对如下绘画作品解读正确的是（ ）



《清明上河图》（局部）

- A. 作者是南宋画家张择端 B. 取材于清朝南京秦淮河沿岸风光
C. 折射出贵族文化的高雅 D. 描绘了北宋东京汴河沿岸的繁荣
34. 明清时期，通俗文学形式的小说蓬勃发展，涌现出了一批优秀长篇小说，现多被改编为影视剧。20 世纪 80 年代，某部神魔小说改编的电视剧就在冷水江市波月洞取景拍摄，洞内“猴王宝座，水帘洞”等成为最佳取景点。该小说应是（ ）
- A. 《三国演义》 B. 《西游记》
C. 《水浒传》 D. 《红楼梦》
35. 1838 年，道光皇帝派钦差大臣前往广东禁烟。钦差大臣软硬兼施，迫使外国烟商上缴鸦片 237 万斤，并于 1839 年 6 月在虎门海滩当众销毁，大快人心。这位钦差大臣是（ ）
- A. 林则徐 B. 邓世昌
C. 左宗棠 D. 关天培

- C. 林肯 D. 华盛顿
46. 某校九年级学生在学完俄国 1861 年农奴制改革和日本明治维新后，将二者进行了比较，概括出两次改革运动的相同点。其中正确的是 ()
- A. 改革前两国都遭到西方侵略 B. 都是资产阶级性质的改革
C. 改革都注重教育，提倡“文明开化” D. 改革后都建立了民主共和政体
47. 如果从近代科学的角度看，正是牛顿开启了工业革命的大门。下列属于他的科学发现是 ()
- A. 生物进化论 B. 相对论
C. 地圆说 D. 万有引力定律
48. “人生来是而且始终是自由平等的；自由、财产、安全和反抗压迫是人不可剥夺的自然权利。”引文出自的文献是 ()
- A. 《权利法案》 B. 《独立宣言》
C. 《1787 年宪法》 D. 《人权宣言》
49. 以“狮子”和“狐狸”见称的罗斯福，面对经济危机审时度势。进行大胆突破，实行以“3R 工程”（复兴、救济、改革）为核心的新政。新政“大胆突破”体现任 ()
- A. 坚持自由放任 B. 优先发展重工业
C. 国家干预经济 D. 转向社会主义
50. 1943 年 2 月，罗斯福在致斯大林贺信中高度评价说：“（这次战役）制止了侵略浪潮，成了盟军反侵略战争的转折点。”这次战役是 ()
- A. 诺曼底登陆战 B. 斯大林格勒战
C. 斯科保卫战 D. 柏林战役
51. 二战后，美国为了称霸世界、对抗苏联等社会主义国家，采取了除战争以外的一切手段，以遏制共产主义，稳定资本主义的外交新政策。这一政策开始的标志是 ()
- A. 杜鲁门主义的提出 B. 北约和华约的建立
C. 马歇尔计划的实施 D. 丘吉尔的铁幕演说
52. “二战后仅 25 年，一个崭新的世界格局开始出现。头几年还十分盛行的世界两极开始消失，一股新力量在萌动，他们以自己的力量，自己的声音，震荡着世界，改变着世界。”材料中“一个崭新的世界格局”指的是 ()
- A. 政治多极化 B. 经济全球化
C. 文化多元化 D. 信息化
53. 湘中地区的居民自古以来称为“梅山蛮”。1073 年，梅山地区正式归附北宋中央王朝，设置两邑（县）。其中在上梅山的邑（县）被命名为 ()
- A. 安化 B. 新化
C. 湘乡 D. 蓝田
54. 明代以来，湖南人常称江西人为“老表”（表兄弟姐妹，或老乡），是因为 ()
- A. 江西是湖南的地理近邻 B. 湖南人和江西人都来自同一个地方
C. 江西人和湖南人互相通婚多 D. 大多数湖南人是江西移民的后代
- 五、非选择题**（本大题共四小题，第 55、57、58 题各 14 分，第 56 题 8 分，共 50 分）
55. （14 分）我国古代历朝历代在国家治理方面各有举措，阅读下列材料，回答问题：
- 材料一



材料二 公元前 127 年，汉皇帝又下了一道法令，规定嫡长子只可继承封地的一半，余下的封地分给其他子弟。于是，封地不断缩小，其重要性也不断下降，仅仅成为大地产。
——斯塔夫里阿诺斯《全球通史》

材料三 宋朝初，宋太祖吸取了唐朝中期以来的地方节度使权力过大的历史教训，选用文官到地方任知府、知州等职，代替节度使管理地方政事，用以压制武将的权力。同时，文官可以担任统兵的将帅，武将却往往只是副帅，受文官的监督和管束，因此，宋代文官的地位和待遇都高于武将。

——斯摘编自岳麓版书社七年级《中国历史》下册

材料四

大事年表

时间	事件
1653 年	顺治帝赐予西藏佛教首领达赖五世金册、金印和“达赖喇嘛”封号
17 世纪后期	康熙帝三次亲征，平定蒙古族准噶尔叛乱势力
1713 年	康熙帝册封西藏另一位佛教首领“班禅额尔德尼”封号
1727 年	设置驻藏大臣，监督西藏地方政务
18 世纪中期	乾隆帝平定大、小和卓叛乱，设置伊犁将军管辖新疆地区
1793 年	清朝颁布《钦定藏内善后章程》29 条，确定了金瓶掣签制度

(1) 观察材料一，图 1 反映了秦朝的什么地方管理制度？图 2、图 3 分别反映秦朝采取的什么措施？（3 分）

(2) 根据材料二并结合所学知识，分析“汉皇帝”颁布此法令的原因。（2 分）

(3) 材料三中，“唐朝中期以来地方节度使权力过大的历史教训”主要是指什么？为此，宋

太祖采取了什么政策？（3分）

（4）根据材料四，归纳清朝对边疆地区管理的主要方式。它们的共同作用是什么？（4分）（5）综合上述材料和所学知识，概括我国古代国家治理的总体特点。（2分）

56.（8分）阅读下列材料，回答问题。

材料一 五四运动，爆发于民族危难之际，是一场以先进青年知识分子为先锋、广大人民群众参加彻底反帝反封建的伟大爱国革命运动，……是一场传播新思想新文化新知识的伟大思想启蒙运动和新文化运动，……五四运动，以彻底反帝反封建的革命性、追求救国强国真理的进步性、各族各界群众积极参与的广泛性，推动了中国社会进步，……在近代以来中华民族追求民族独立和发展进步的历史进程中具有里程碑意义。

——习近平《在纪念五四运动100周年大会上的讲话》（2019年4月30日）

（1）结合所学知识指出五四运动爆发的导火线。（1分）（2）材料认为五四运动有哪些重要特点？（2分）

（3）结合所学知识说明五四运动“在近代以来中华民族追求民族独立和发展进步的历史进程中具有里程碑意义”。（3分）

（4）五四运动有哪些精神值得继承和发扬？（2分）

57.（14分）近代以来，科学技术日益成为影响大国兴衰的重要因素。阅读材料，回答问题。

材料一 英国的优越地位在十八世纪归功于优越的政治制度……在十九世纪初期则几乎完全归功于机械技术，纺织业、冶金业、采矿业等行业大量采取机器生产。……到1830年，英国已成为“工业欧洲的老师”

——C.W.克劳利《新编剑桥世界近代史》第九卷

材料二

国家	1860年	1913年
英国	34%	14%
美国	19%	36%

1862年，颁布《解放黑人奴隶宣言》
1876年，贝尔发明电话
1879年，爱迪生发明电灯
1903年，莱特兄弟发明飞机
1913年，福特建成标准化汽车流水装配线

材料三 二战后，日本政府采取了一系列措施，如国民经济非军事化，政府把主要投资放在发展经济上等。……紧紧抓住科技革命的有利时机，大量引进技术……教育经费在政府的预算中所占比重已超过20%，名列资本主义世界各国之首。美国又从“特需”订货等方面给予经济扶植，1968年，日本的国民生产总值跃居资本主义世界第二位，成为仅次于美国的经济大国。

——摘自九年级下册《世界历史》教学参考书

材料四 20世纪六七十年代，我国制定了高科技发展规划。……经过不懈努力，在核技术、空间技术以及基因工程等方面取得了重大进步。……2015年，我国发布了《中国制造2025》，指出未来要重点在“新一代信息技术产业”等10个领域里取得突破性发展，其中5G技术是“新一代信息技术产业”领域发展的重点。最近，在5G技术方面领跑世界的华为公司被美国列入贸易禁令“实体名单”，遭到打压。……中美贸易战愈演愈烈。

（1）根据材料一，英国优越的政治制度是什么？英国在“机械技术”领域最关键的发明

是什么？为什么英国能成为“工业欧洲的老师”？（4分）

（2）根据材料二表一，与英国相比，美国的工业产值发生了什么变化？根据表二并联系所学知识，从政治和科技发展角度分析造成这一变化的原因。（3分）

（3）根据材料三，概括二战后日本跃居资本主义世界第二经济强国的原因。（3分）

（4）根据材料四，列举我国 20 世纪六七十年代在高科技领域取得的重大成就（至少二项）。面对美国发动的贸易战，我们该如何应对？（4分）

58.（14分）某学校组织“湖湘名人故居游”研学旅行。让我们跟随他们的行程，一起去探究吧。

【研学目的地之一】：双峰县荷叶镇，参观曾国藩故居“富厚堂”



曾国藩，湖南湘乡人（今双峰县人），晚清重臣。故居内有如下事迹记载：

1851 年，洪秀全发动起义，太平天国运动爆发

1853 年，奉旨办湖南团练，创建湘军


1856 年，英法发动第二次鸦片战争

1861 年，创办安庆内军械所

1865 年，与李鸿章在上海创办江南制造总局

（1）根据材料并结合所学知识，简要分析曾国藩创办洋务企业的历史背景。洋务运动对中国近代化起了哪些作用？（4分）

【研学目的地之二】：韶山市，参观毛泽东故居和纪念馆



在纪念馆内，发现有如下几幅图：



(2) 1921 年，28 岁的毛泽东在图 1 建筑物里参加了哪一次重要会议？这次会议有何历史意义？（3 分）

(3) 观察图 2，与毛泽东会师握手的领导人是谁？在井冈山革命斗争中，毛泽东创造性为中国革命探索出一条什么道路？（2 分）

(4) 在图 3 开国大典上，毛泽东在天安门城楼庄严宣告“中国人民从此站立起来了”。你如何理解？（3 分）

(5) 在湖湘大地上，还有许多名人故居，记载了他们可歌可泣的英雄事迹。如开眼看世界的魏源、再造民国第一人蔡锷、辛亥革命先驱黄兴、人民公仆刘少奇、横刀立马的彭德怀等，得我们去研学。这些湖湘名人哪些优秀品质值得学习？（2 分）

参考答案

30-34ABCDB 35-39ACCBC 40-44DDCBA 45—49DBDDC 50-54BAABD

55 . (1) 郡县制、统一货币、统一文字。

(2) 王国对中央的威胁很大。

(3) 安史之乱、重文轻武。

(4) 武力平叛、册封宗教领袖、设置管理机构等；巩固边疆，维护国家统一。

(5) 加强中央集权，重视中央对地方的管理，维护国家统一。

56 . (1) 中国在“巴黎和会”的外交失败。

(2) 是一场以青年学生为主力军的广大群众爱国运动，具有彻底反帝反封建的革命性，追求救国、强国真理的进步性。

(3) 五四运动是一场彻底的反帝反封建的爱国运动，促进了马克思主义在中国的传播及其与中国工人运动的结合，在思想上和干部上为中国共产党的成立准备了条件，是中国新民主主义革命的开端。

(4) 关心国家和民族命运的爱国主义精神；敢于斗争不怕牺牲的革命精神。

57 . (1) 君主立宪制度、资本主义制度；蒸汽机的发明；因为工业革命最早在英国发生和完成。

(2) 美国工业产值在世界所占比重在 1861 年远远落后于英国，到 1913 却大大超过了英国。美国内战，维护了国家统一，废除黑人奴隶制度巩固了资本主义制度，解放了生产力；美国第二次科技革命处于领先地位。

(3) 日本采取一系列措施，实行国民经济非军事化，重视科学技术，重视教育，美国的扶持。

(4) 1964 年，第一颗原子弹爆炸成功；1970 年第一颗人造卫星“东方红一号”发射成功。我国要增强综合国力，制定贸易防范预警机制，必要时采取必要的反制措施。

58 . (1) 背景：第二次鸦片战争和太平天国运动严重威胁清政府的统治。

洋务运动刺激了中国民族资本主义的产生和发展，启动了中国近代化进程，在一定程度上抑制了外国经济势力的扩张。

(2) 中共一大，宣告了中国共产党的成立，它的成立是中国历史上开天辟地的大事。

自从有了中国共产党，中国革命的面貌就焕然一新了。

(3) 朱德。农村包围城市，武装夺取政权。

(4) 开辟中国历史新纪元，标志着中国新民主主义革命的胜利，结束了中国百年来遭受侵略和奴役的屈辱历史，国家赢得了独立，人民当家作了主人。

(5) 敢为人先，无私奉献，爱国忧民，敢于斗争等。

积分超值换

活动时间：2019年4月23日-6月30日
活动对象：中小学一线教师以及教育工作者



扫一扫 换礼啦

积 分 兑 换 更 超 值



会员升级服务第一拨 · 清北季



神马，有清华北大学霸方法论课；还有清华学霸向所有的父母亲述自己求学之路；
衡水名校试卷悄悄的上线了；
扫qq领取官网不首发课程，很多人我没告诉他啊！
会员qq专享等你来撩.....