

2022年湖南省张家界市中考历史试卷

一、选择题（本大题 24 个小题，每小题 1 分，共 24 分。每小题只有一个正确答案，请将每
小题正确答案的英文字母代号填涂在答题卡相应位置上。）

1. “工匠精神”是中华民族精神谱系中的重要内容，它追求极致、追求品质。如图是湖南宁乡出土的商代青铜器中最精美的物品，该物品是（ ）



- A. 司母戊鼎 B. 四羊方尊 C. 利簋 D. 毛公鼎
2. 山东省简称“鲁”，山西省简称“晋”，这些简称源于西周实行的（ ）
- A. 禅让制 B. 分封制 C. 世袭制 D. 郡县制
3. 它集堤防、分洪、排沙、控流等功效于一体，充分发挥防洪、灌溉、水运等多方面作用，使成都平原成为“天府之国”；2200 多年来，一直发挥着巨大作用，这在世界水利史上绝无仅有。该水利工程是（ ）
- A. 灵渠 B. 都江堰 C. 大运河 D. 三峡工程
4. 中华文化源远流长，其中文字起到了重要纽带作用。秦统一后，颁行全国的通用文字是（ ）
- A. 甲骨文 B. 小篆 C. 楷书 D. 草书
5. “江雨霏霏江草齐，六朝如梦鸟空啼。”该诗是唐朝诗人韦庄对曾为“六朝”（吴、东晋、宋、齐、梁、陈）古都的感慨。该古都是今天的（ ）
- A. 北京 B. 西安 C. 洛阳 D. 南京
6. “昔日齷齪不足夸，今朝放荡思无涯。春风得意马蹄疾，一日看尽长安花。”该诗表达了唐朝诗人孟郊进士及第后的喜悦心情。他进士及第得益于哪一考试制度（ ）
- A. 刺史制 B. 三省六部制 C. 科举制 D. 行省制
7. 宋朝海上丝绸之路发达，明朝郑和下西洋，16 世纪前后新航路开辟，都得益于我国古代四大发明中的（ ）
- A. 造纸术 B. 印刷术 C. 火药 D. 指南针
8. 我国是一个统一的多民族国家，疆域辽阔，清朝奠定了我国现在疆域的基础。下列四幅地图中属于清朝疆域图的是（ ）



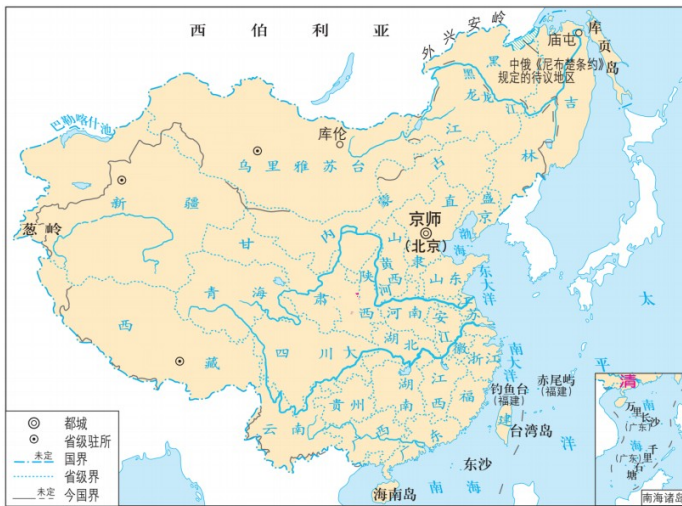
A.

B.





D.



9. 某历史兴趣小组准备在该校举办“台湾自古以来就是中国领土”的专题讲座，需要搜集相关史料。下列能够选用的是（ ）

- ① 西汉设置西域都护
- ② 元朝设置澎湖巡检司
- ③ 郑成功收复台湾
- ④ 清朝设置台湾府
- ⑤ 1885年清朝设置台湾省

A. ①②③④

B. ②③④⑤

C. ①②③⑤

D. ①③④⑤

10. “外争主权，内除国贼”“誓死力争，还我青岛”“拒绝在和约上签字”这些口号体现了彻底的反帝反封建的革命性质。上述口号出现在中国近代史上的（ ）

- A. 五四运动
- B. 一二·九运动
- C. 西安事变
- D. 重庆谈判

11. 张家界是一块红色的热土。1935年11月19日，遵照中央指示，贺龙、任弼时率领一支红军主力从桑植出发开始长征。这支红军主力是（ ）

- A. 红一方面军
- B. 红四方面军
- C. 红二、六军团
- D. 红二十五军

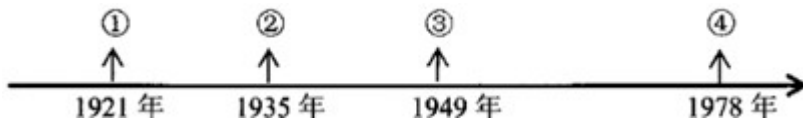
12. 淮海战役结束后，陈毅感慨地说：“淮海战役的胜利是人民群众用小推车推出来的。”下列所述人民解放战争胜利的原因，与材料相符的是（ ）

- A. 人民群众的大力支持
- B. 党中央的正确领导
- C. 人民解放军的英勇作战
- D. 正确的战略战术

13. 新中国成立后，外交成就突出。其中，在国际上产生深远影响，被世界上越来越多的国家接受，成为处理国与国之间关系基本准则的是（ ）

- A. 求同存异
- B. 不结盟运动
- C. 全方位外交
- D. 和平共处五项原则

14. 在中国共产党的百年奋斗历程中，发生了许多值得我们铭记的重大事件。下列时间轴中与①②③④对应正确的是（ ）



- A. 中华人民共和国成立、中国共产党成立、十一届三中全会、遵义会议
- B. 中国共产党成立、中华人民共和国成立、十一届三中全会、遵义会议
- C. 遵义会议、中华人民共和国成立、中国共产党成立、十一届三中全会
- D. 中国共产党成立、遵义会议、中华人民共和国成立、十一届三中全会

15. 如图是古代亚非文明的地图，其代表性的四大文明古国按从右至左的顺序排列正确的是（ ）



- A. 古中国、古印度、古巴比伦、古埃及
 B. 古印度、古中国、古巴比伦、古埃及
 C. 古中国、古巴比伦、古印度、古埃及
 D. 古埃及、古印度、古巴比伦、古中国

16. 宗教是人类文化的重要组成部分，它对人类社会的发展产生了深远的影响。某同学用引擎搜索关键词“1 世纪”“耶稣”“救世主”等，他查找到的宗教是（ ）

- A. 佛教
 B. 基督教
 C. 道教
 D. 伊斯兰教

17. 但丁是文艺复兴的先驱，他的长篇诗作借梦游三界描写现实生活中的各色人物，抨击教会的贪婪腐化。该诗作是（ ）

- A. 《天方夜谭》
 B. 《神曲》
 C. 《罗密欧与朱丽叶》
 D. 《战争与和平》

18. 编制表格是历史学习的重要方法之一。下面是某同学学习世界近代史编制的知识表格。该表格反映的学习主题是（ ）

时间	重要文献
1689 年	《权利法案》
1787 年	1787 年宪法
1789 年	《人权宣言》
1804 年	《拿破仑法典》

- A. 近代西方民主法制建设的进程
 B. 国际工人运动的发展历程
 C. 殖民地人民 反抗历程
 D. 西欧封建专制强化的过程

19. 某电视剧需要设置第二次工业革命的一个场景。下列与之相符的是（ ）

- A. 斯蒂芬森在电灯下绘制火车图纸
B. 牛顿在电脑前推演万有引力定律
C. 本茨试驾自己制造 第一辆汽车
D. 达尔文在野外用手机与家人联系

20. 今天的俄罗斯是由 13 世纪莫斯科公国发展而来，在其发展进程中改革产生了重要影响。1921 年春苏维埃政府决定以征收粮食税代替余粮征集制，允许私人经营中小企业……这次改革是（ ）

- A. 彼得一世改革
B. 亚历山大二世改革
C. 新经济政策
D. 赫鲁晓夫改革

21. 18 世纪以来的两百年间，亚非拉民族解放运动蓬勃发展。下列搭配正确的是（ ）

- A. 甘地——非暴力不合作运动
B. 玻利瓦尔——纳米比亚独立
C. 章西女王——委内瑞拉独立
D. 卡德纳斯——华夫脱运动

22. 1941 年 12 月 8 日，美国对日宣战。导致美国宣战的直接事件是（ ）

- A. 萨拉热窝事件
B. 德国突袭波兰
C. 日本偷袭珍珠港
D. 诺曼底登陆

23. 1945 年，联合国正式成立，它是当今世界影响最大的国际组织。下列表述与联合国相符的是（ ）

- A. 首要宗旨是维持国际和平及安全
B. 朝鲜、越南都是安理会常任理事国
C. 其职能是解决贸易争端
D. 1951 年新中国恢复在联合国的合法席位

24. 某军事组织公约规定：任何一个成员国如果受到武装攻击，缔约国将作出集体反应；各缔约国决心维护共同的社会制度和文化遗产。该组织一经成立，即成为美国称霸世界的工具。该组织是（ ）

- A. 三国同盟
B. 三国协约
C. 北约组织
D. 华约组织

二、非选择题（本大题 3 个小题，25 题 12 分，26 题 12 分，27 题 12 分，共 36 分。请将每小

题正确答案填写在答题卡指定的位置上。）

25. 习近平总书记多次强调“中国人的饭碗任何时候都要牢牢端在自己手上。”阅读下列材料，回答问题。

材料一：



图1 玉蟾岩遗址出土的稻谷
(距今约12000多年至10000年)



图2 宋朝秧马



图3 袁隆平在田间观察水稻

(1) 图1反映了我国水稻栽培在世界历史上怎样的地位？图2的秧马大大提高了水稻种植效率。请另举一例宋朝水稻种植的成就。图3袁隆平在杂交水稻方面获得了什么称号？

材料二：夫农，天下之本也。

——汉文帝

夫农者，国之本，本立然后可以议太平。若不由兹，而云太平者，谬矣。

——《旧唐书》

(2) 材料二体现了什么共同思想？汉唐多数统治者贯彻这一思想，出现了诸多“治世”。请举三例。

材料三：



图4 《中华人民共和国土地改革法》
受到广大农民的热烈拥护



图5 农民中请加入农业生产合作社



图6 凤阳农民打花鼓庆丰收

(3) 分别指出材料三图4、图5、图6所反映的农村土地制度发生了怎样的变化？

(4) 为保证粮食安全，把饭碗牢牢端在自己手上，请你提出几点合理化建议。

26. 在中国近代史上，中华民族的爱国行为不仅表现在反侵略反封建的英勇斗争上，而且表现在对中国出路的艰辛探索上。阅读下列材料，回答问题。

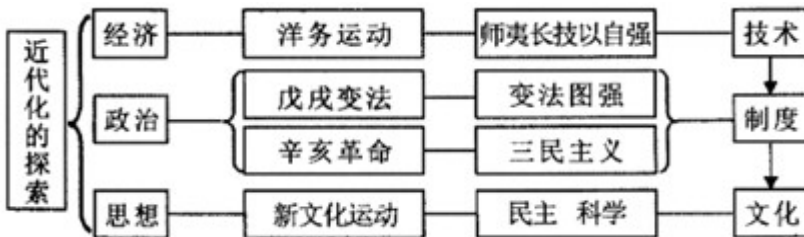
材料一：列强侵华战争和中国人民不屈斗争简表

列强侵华战争	中国人民不屈斗争
鸦片战争	关天培在虎门、陈化成在吴淞壮烈殉国

第二次鸦片战争	太平军抗击洋枪队，击毙洋枪队头目华尔
甲午中日战争	北洋舰队致远舰管带 (①) 在黄海海战中壮烈殉国
八国联军侵华战争	义和团英勇抗击八国联军的侵略
日本全面侵华战争	枣宜会战中，国民党第三十三集团军总司令 (②) 壮烈殉国。反“扫荡”作战中，八路军副参谋长 (③) 血洒疆场

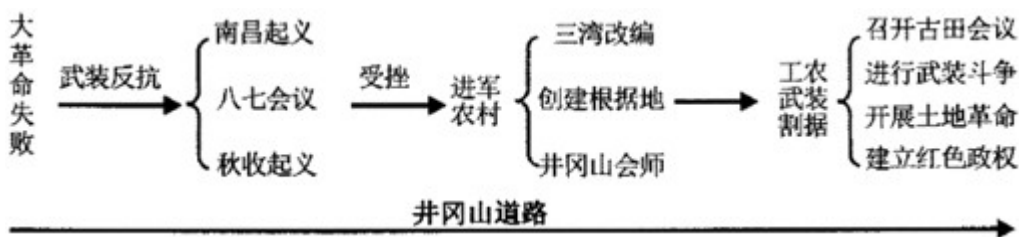
(1) 请写出表格中①②③分别对应的英雄人物。中华民族是一个英雄辈出的民族，对待英雄，我们应当提倡怎样的社会风尚？

材料二：“中国近代化的探索”思维导图



(2) 请指出思维导图中 中国历史上第一次近代化运动的名称。孙中山领导的辛亥革命主张建立怎样的政治制度？根据思维导图，指出中国早期近代化探索的特点。

材料三：某教师对“毛泽东开辟井冈山道路”一课的课堂小结



(3) 请指出“井冈山道路”的含义。根据材料一、二、三，结合所学知识，谈谈中国近代化道路探索给我们哪些启示？

27. 阅读下列材料，回答问题。

材料一：资本的残酷剥削和列强疯狂的殖民扩张，使资产阶级和无产阶级的阶级矛盾、资本主义列强与殖民地半殖民地国家的民族矛盾空前激化，工人运动、社会主义运动和民族解放运动蓬勃发展。19世纪中叶马克思主义的诞生为国际共产主义运动指明了方向。

- - 摘自《义务教育历史课程标准（2022年版）》

材料二：资本来到世间，从头到脚，每个毛孔都滴着血和肮脏的东西。

- - 摘自《资本论》

材料三：资本是社会主义市场经济的重要生产要素，在社会主义市场经济条件下规范和引导资本发展……必须认识到，资本具有逐利本性，如不加以规范和约束，就会给经济社会发展带来不可估量的危害。我国社会主义的国家性质决定了我们必须坚持按劳分配为主体、多种分配方式并存，在社会分配中体现人民至上。

- - 摘自 2022 年 4 月习近平总书记主持中共中央政治局第三十八次集体学习的讲话

(1) 材料一中“19 世纪中叶马克思主义诞生”的标志是什么？其诞生有何重要意义？材料三反映了对资本认识的新发展，请从中提取信息予以说明。

(2) 根据上述材料，结合所学知识，围绕“资本”问题，自拟论题并予以论述。（要求：观点明确，史论结合，条理清晰，字数在 200 字以内）

