

2021年重庆市中考历史试题 A 卷

(开卷，满分 50 分，与道德与法治学科共用 90 分钟)

一、选择题：本大题共 15 小题，每小题 1 分，共 15 分。在备选答案中只有一项是符合题目要求的。请按答题卡的要求作答。

(2021·重庆 A 卷)

1. 传说蚕丛是蜀地首先称王 人，他的眼睛向前突出。下图所示文物与蚕丛形象吻合。由此可见 ()



1986 年四川三星堆出土的双目面具

- A. 传说与神话都是真实的历史
B. 考古是了解历史真相唯一途径
C. 传说中蕴含着一定的历史信息
D. 传说的历史价值远超考古发现

【答案】 C

【解析】

【详解】据题意可知，图示文物与传说中蚕丛的形象吻合，二者能够相互印证，说明传说中蕴含着一定的历史信息，故选 C；传说和神话不一定是真实的历史，排除 A；B 项说法过于绝对，排除；传说的价值不一定超过考古发现，排除 D。

(2021·重庆 A 卷)

2. 他一改王朝之初“无为而治”的政策，加强集权和对经济的控制，确立儒家学说的正统思想地位。他是 ()

- A. 秦始皇 B. 汉武帝 C. 隋炀帝 D. 唐太宗


【答案】 B

【解析】

【详解】依据题干信息并结合所学可知，汉武帝采纳董仲舒的“罢黜百家，独尊儒术”建议，确立儒家学说的正统思想地位，故 B 正确；秦始皇时期“焚书坑儒”，故 A 错误；隋炀帝和唐太宗时期，儒家已经是封建统治的正统思想，故 C、D 错误。综上故选 B。

(2021·重庆 A 卷)

3. 下图所示，是公元 443 年鲜卑族祖先在嘎仙洞石壁上所留石刻的拓片。它可以来说明 ()



- A. 甲骨文的造字特点
- B. 小篆成为全国通用文字
- C. 王羲之的行书冠绝天下
- D. 鲜卑族受汉族文化影响

【答案】D

【解析】

【详解】据材料内容和所学可知，鲜卑族祖先在嘎仙洞石壁上所留石刻的拓片内容都用汉字书写，明显是受到汉族文化的影响，故选D；该拓片的文字不是甲骨文、小篆和行书，排除ABC。

(2021·重庆A卷)

4. 有学者认为，某石刻题材中底层社会劳动妇女形象的出现。既是佛教的世俗化，又是五代两宋时期川渝地区社会生活的反映。据此推断该石刻可能是（ ）

- A. 云冈石窟
- B. 龙门石窟
- C. 大足石刻
- D. 潼南大佛

【答案】C

【解析】

【详解】根据“既是佛教的世俗化，又是五代两宋时期川渝地区社会生活的反映”可知与题意描述的特征相符的是大足石刻，故选C；云冈石窟位于山西，龙门石窟位于河南，潼南大佛始建于唐代，都与题意描述的特征不符，排除ABD。

(2021·重庆A卷)

5. 南宋临安大街小巷商铺密布；元朝的大都有来自于全国各地的各种货物。这表明宋元时期（ ）

- A. 都市商业较为发达
- B. 多个民族政权并存
- C. 北方经济远超南方
- D. 统治疆域空前辽阔

【答案】A

【解析】

【详解】根据材料结合所学可知，临安大街小巷商铺密布和大都有来自于全国各地的各种货物，这表明，临安和大都的商业繁荣，故A符合题意；材料中未涉及政权问题，故B不符合题意；材料中未比较北方与南方的经济发展程度，故C不符合题意；统治疆域与题干无关，故D不符合题意；故选A。

(2021·重庆A卷)

6. 下列是某学习小组开展研究性学习时收集的地图，它们反映的共同主题是（ ）



丝绸之路线路图



玄奘西行与回国路线图



元朝交通路线图

- A. 海上交通的繁盛 B. 中外交流的发展 C. 世界市场的形成 D. 丝织技术的进步

【答案】 B

【解析】

【详解】 根据所学知识，丝绸之路促进了亚欧各国与中国之间的友好往来。玄奘西行促进了中国与印度的文化交流。从元朝交通路线图可以看出，元朝陆路和海外交通发达，使中外经济、文化和科技的交流进一步发展，所以三幅图片共同反映的主题是中外交流发展，B 正确；“玄奘西行与回国路线图”、“丝绸之路路线图”为陆上交流排除 A；三幅图片与世界市场形成、丝织技术的无关，排除 CD。故选 B。

(2021·重庆 A 卷)

7. 1943 年，罗斯福总统在《致重庆市民的纪念状》卷轴中写到：余谨代表敝国人民向重庆市敬赠斯轴，以表吾人钦佩该市英勇之男女市民。这表明罗斯福（ ）

- A. 支持重庆人民的反特抗暴 B. 赞颂重庆市民的抗日斗争
C. 努力推动中美 文化交流 D. 祝贺中国接受日军投降书

【答案】 B

【解析】

【分析】

【详解】 1943 年，罗斯福总统向重庆市民赠送《致重庆市民的纪念状》卷轴，以表达钦佩之情。这表明罗斯福赞颂重庆市民的抗日斗争，故 B 正确；1945 年 2 月 20 日“胡世合惨案”导致重庆人民的反特抗暴以反击国民党独裁统治，故 A 错误；材料不是强调中美的文化交流，故 C 错误；此时日本还未投降，故 D 错误。

(2021·重庆 A 卷)

8. 中共中央南方局在重庆成立后，与国民党中的进步人士、民主党派人士、知识分子和民族工商界人士等广交朋友。这是为了（ ）

- A. 组织工农推翻北洋军阀的统治 B. 打破国民党的军事“围剿”
C. 巩固和发展抗日民族统一战线 D. 确立重庆的金融中心地位

【答案】 C

长春第一汽车制造厂建成投产;中国试飞成功第一架喷气式飞机;沈阳第一机床厂建成投产;1957年,武汉长江大桥建成;川藏、青藏、新藏公路建成;形成了以鞍山钢铁公司为中心的东北工业基地,沿海地区原有的工业基地得到加强,在华北、西北建立了一批新工业基地。从此,我国开始改变了工业落后的面貌,向社会主义工业化迈进。故B符合题意;1956年底,三大改造基本完成,标志着社会主义制度在中国基本建立,故A不符合题意;以贯彻落实党的十二届三中全会决定为标志,国企改革经历了实行两步利改税、落实厂长(经理)负责制,推行承包经营责任制,转换企业经营机制等一系列以放权让利为主要特征的改革过程。在材料中未涉及,故C不符合题意;我国全方位对外开放形成的新格局是经济特区——沿海开放城市——沿海经济开放区——内陆省会城市,呈现出全方位、多层次的对外开放的格局,与题干无关,故D不符合题意;故选B。

(2021·重庆A卷)

11. 2021年3月,意大利各地举行了纪念某位著名人物逝世200周年的系列活动。其中有演员在线朗诵了其代表作品《神曲》片段。这位人物是()

- A. 但丁 B. 薄伽丘 C. 彼特拉克 D. 莎士比亚

【答案】A

【解析】

【分析】

【详解】依据所学知识可知,文艺复兴代表人物但丁的代表作品是《神曲》,故A正确;薄伽丘的作品是《十日谈》,彼特拉克的作品是《歌集》,莎士比亚的作品是《哈姆雷特》等,故BCD错误。

(2021·重庆A卷)

12. 某法律文件的问世与颁布,在法国乃至欧洲的法律史上起了一个分水岭的作用,它“总括了革命的全部法规”,为世界上很多国家效仿。该法律文件是()

- A. 《大宪章》 B. 《权利法案》 C. 《独立宣言》 D. 《拿破仑法典》

【答案】D

【解析】

【详解】《拿破仑法典》是资本主义国家最早的一部民法法典。破除了封建的立法原则,成为欧美各国资产阶级的立法规范,推动了资本主义的发展,故D符合题意;《大宪章》也称《自由大宪章》,它是英国封建时期的限制王权的主要文件之一,排除A;1689年英国议会颁布《权利法案》,奠定了英国君主立宪制的基础,排除B;1976年7月4日第二届大陆会议通过的《独立宣言》是北美洲十三个英属殖民地宣告自大不列颠王国独立的文告,排除C。故选D。

(2021·重庆A卷)

13. 1918年,面对国内外敌人的勾结,苏联红军唱着“一起去参军,勇敢地去作战,为苏维埃政权……”,

纷纷奔向杀敌战场。红军战士积极参战是为了（ ）

- A. 抵御普奥联军进攻
- B. 推翻沙皇专制统治
- C. 反抗临时政府镇压
- D. 捍卫十月革命成果


【答案】D

【解析】

【详解】1918年是俄国十月革命以后，俄国十月革命建立了世界上第一个社会主义国家，所以红军战士积极参战是为了捍卫十月革命的成果，故选D；结合所学内容可知红军战士积极参战是为了捍卫十月革命的成果，而非抵御普奥联军进攻和反抗临时政府镇压，排除AC；推翻沙皇专制的是二月革命，与题意不符，排除B。

(2021·重庆A卷)

14. 下图所示是1942年26国代表联合签署的宣言书。它标志着（ ）



- A. 世界反法西斯联盟建立
- B. 雅尔塔会议的召开
- C. 《波茨坦公告》的发表
- D. 世界贸易组织的成立

【答案】A

【解析】

【详解】根据材料“1942年26国代表联合签署的宣言书”，结合所学知识可知：1942年1月1日，26个国家的代表在华盛顿签署了《联合国家共同宣言》。此宣言标志着世界反法西斯联盟正式形成。故选项A符合题意；雅尔塔会议召开于1945年，故选项B不符合题意；《波茨坦公告》发表于1945年7月26日，故选项C不符合题意；世界贸易组织成立于1995年，故选项D不符合题意。故答案为A。

(2021·重庆A卷)

15. 1980~2010年，全球贸易额从1.8万亿美元增至15万亿美元；1988年全球跨国公司2万家，2006年达到7.7万家。这反映了20世纪八九十年代以来（ ）

- A. 世界贫富分化的加剧
- B. 多极化趋势不断发展
- C. 经济全球化趋势加强
- D. 发展中国家地位提高

【答案】C

【解析】

【详解】结合所学内容可知，跨国公司是推动全球化的重要力量，跨国公司数目的激增说明经济全球化的趋势增强，故选 C；材料反映的是经济全球化的发展，ABD 都不符合这一主旨，排除。

二、非选择题：本大题共 5 小题，第 16 题 5 分，第 17 题 5 分，第 18 题 9 分，第 19 题 8 分。第 20 题 8 分，共 35 分。请按答题卡要求作答。

(2021·重庆 A 卷)

16. 阅读以下材料后判断。

新中国成立后，中国第一代领导人确立了独立自主的和平外交政策，提出“和平共处五项原则”，受到国际社会的普遍认同……1971 年 10 月，中华人民共和国恢复了在联合国的合法席位。此后，中国政府成功地促成了中日、中美建交……1978 年以后，我国实行全方位外交，推进中国特色大国外交，成就显著。截至 2019 年，我国已经同 180 个国家建立了正式的外交关系。

当前，世界多极化、经济全球化深入发展，也面临着恐怖主义等全球性问题的威胁。中国领导人在继承和发展新中国各个时期重要外交思想的基础上，借鉴国际关系理论和实践成果，提出人类命运共同体。共建“一带一路”等新理念。引领全球治理体系变革。体现了全人类共同价值的追求，指明了国际社会的前进方向。

——整编自阎德学、华桂萍《新时代中国外交理论的创新性发展》等

以下表述是从以上材料中得出的，请在答题卡对应题号后填“正确”；违背了以上材料所表述的意思，请在答题卡对应题号后填“错误”；是以上材料没有涉及的。请在答题卡对应题号后填“未涉及”。

- (1) 新中国成立以来，我国已同世界上绝大部分国家建交。
- (2) 中国在万隆会议期间加强了与亚非各国的团结与合作。
- (3) 中日、中美建交推动了我国在联合国合法席位的恢复。
- (4) 恐怖主义等全球性问题严重威胁当今世界的和平与发展。
- (5) 与时俱进的中国外交理论为世界贡献了中国智慧。

【答案】(1) 正确

(2) 未涉及

(3) 错误

(4) 正确

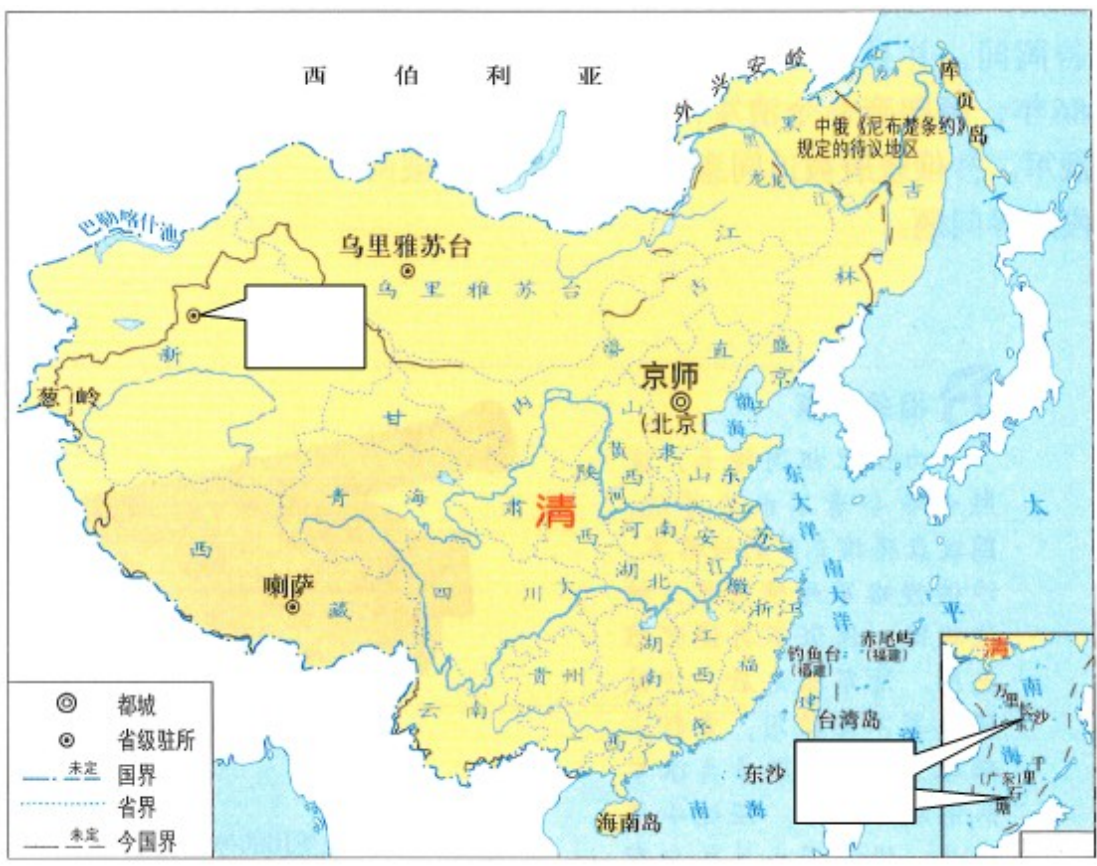
(5) 正确

【解析】

【详解】(1) 根据“…1978 年以后，我国实行全方位外交，推进中国特色大国外交，成就显著。截至 2019 年，我国已经同 180 个国家建立了正式的外交关系”可知，新中国成立以来，我国已同世界上绝大部分国家建交。题意说法正确。

- (2) 综合材料内容可知，国在万隆会议期间加强了与亚非各国的团结与合作的说法未涉及。
 - (3) 根据“1971年10月，中华人民共和国恢复了在联合国的合法席位。此后，中国政府成功地促成了中日、中美建交”可知中美、中日建交是在中国恢复联合国合法席位以后，题意说法错误。
 - (4) 根据“世界多极化、经济全球化深入发展，也面临着恐怖主义等全球性问题的威胁”可知题意说法正确。
 - (5) 根据“提出人类命运共同体。共建‘一带一路’等新理念。引领全球治理体系变革。体现了全人类共同价值的追求，指明了国际社会的前进方向”可知题意说法正确
- (2021·重庆 A 卷)

17. 观察下图，回答问题。



清朝疆域图（1820年）

- 请将下列地点的英文字母代号填入答题卡图中相应的方框内。
A . 伊犁 B . 南海诸岛
 - 根据地图并结合所学知识。写出当时清政府分别管理西藏地区和台湾地区的省级行政机构名称。
 - 根据地图，你能得出什么历史结论？
- 【答案】** (1) 上框：A；下框：B。
- (2) 驻藏大臣；福建省。
- (3) 台湾及其附属岛屿自古以来就是中国的领土；清朝疆域辽阔，是一个统一的多民族国家。（其他符合圆意的答案可同等得分）

【解析】

【详解】（1）根据材料结合所学可知，伊犁地处新疆西部天山北部的伊犁河谷内，位于内陆，故上框的位置是 A；南海诸岛，为南海中中国许多岛礁的总称，位于大陆的东南位置，故下框位置是 B。

（2）结合所学可知，1727 年，清政府在西藏设驻藏大臣，办理西藏事务；驻藏大臣代表中央政府，与达赖和班禅共同管理西藏；驻藏大臣的设置，标志着中央政府对西藏管辖的加强。清朝时期，台湾地区的省级行政机构是福建省。

（3）根据材料“清朝疆域图”观察分析并结合所学知识可知，清朝前期疆域西北至巴勒喀什池，东南到台湾及其附属岛屿，包括钓鱼岛、赤尾屿等。可见，清朝疆域辽阔，是一个统一的多民族国家；台湾及其附属岛屿自古以来就是中国的领土。

（2021·重庆 A 卷）

18. 阅读下列材料：

材料一 贞观元年至三年（627～629 年），饥、蝗、水灾连续不断，唐太宗迁关中灾民至其他诸州就食。唐高宗时，灾害时有发生，除多次令灾民迁移它地外，也曾转运河东、山东、江南、淮南米粟至关中救饥。

——摘编自高建国、夏明方、么振华《中国灾害志》

材料二 面对庞大的失业大军和贫穷者，罗斯福政府先后成立了公共工程管理署、国民工程管理署等机构，兴办了许多公共工程，为数以万计的失业者提供了就业机会。1935 年，国会又通过了《社会保障法》，该法包括养老金制度、失业保险制度和对无依无靠者提供救济三部分。

——摘编自齐涛《世界通史教程》

材料三 中华人民共和国脱贫攻坚纪实（部分）

时间	概况	结果
1949—1978 年	① 完成三大改造，建立社会主义制度； ② 开展社会主义建设，探索建立农村初级社会保障体系。	为从根本上解决贫困问题提供了最基本制度保证。
1978—2012 年	① 完成一系列农业农村重大改革； ② 国务院印发《国家八七扶贫攻坚计划》《中国农村扶贫开发纲要》等，	农村贫困人口由 1978 年的 2.5 亿减少到 2010 年的 2688 万。

	推进大规模扶贫开发国家行动。	
2012—2021年	将脱贫攻坚纳入“五位一体”总体布局 and “四个全面”战略布局，加快贫困地区脱贫致富的进程。	完全消除绝对贫困的艰巨任务，提前10年实现《联合国2030年可持续发展议程》减贫目标。

——整编自国新办《人类减贫的中国实践》等

请回答：

(1) 根据材料一，概括唐朝政府救荒赈灾的方式。结合所学知识，指出唐朝前期巴地（今重庆）在救急赈饥方面的贡献，并分析巴地能做出贡献的原因。

(2) 根据材料二并结合所学知识，归纳罗斯福政府为解决失业和贫困问题采取的措施，指出这些措施的本质。

(3) 根据材料三，概括中华人民共和国成立以来脱贫攻坚进程的特点及成效。

【答案】 (1) 方式：迁移灾民；转运粮食救灾。贡献：巴地粮米多次被调运至中原等地区。原因：当时重庆地区粮食作物的种植面积扩大，产量提高，成为唐朝中央调运粮食的基地。

(2) 措施：以工代赈；建立社会保障制度。（其他符合题意的答案可同等得分）本质：是在维护资本主义制度前提下作出的政策调整。

(3) 特点：国家主导；制度保障；有步骤、有计划进行；把改革作为消除贫困的推动力；脱贫进展迅速；由脱贫到致富，实现共同富裕。（其他符合题意的答案可同等得分）成效：消除了绝对贫困，为世界减贫事业做出突出贡献。

【解析】

【详解】 (1) 根据材料一“唐太宗迁关中灾民至其他诸州就食”“除多次令灾民迁移它地外，也曾转运河东、山东、江南、淮南米粟至关中救饥”，概括可知：唐朝政府救荒赈灾的方式有：迁移灾民；转运粮食救灾。结合所学知识可知：唐朝前期巴地（今重庆）在救急赈饥方面的贡献有：巴地粮米多次被调运至中原等地区；巴地能做出贡献的原因是：当时重庆地区粮食作物的种植面积扩大，产量提高，成为唐朝中央调运粮食的基地。

(2) 根据材料二“罗斯福政府先后成立了公共工程管理署、国民工程管理署等机构，兴办了许多公共工程，为数以万计的失业者提供了就业机会。1935年，国会又通过了《社会保障法》，该法包括养老金制度、失业保险制度和对无依无靠者提供救济三部分”并结合所学知识归纳可知：罗斯福政府为解决失业和贫困问题采取的措施有：以工代赈；建立社会保障制度。结合所学知识可知：罗斯福新政是在维护资本主义制度前提下作出的政策调整。

(3) 根据材料三“开展社会主义建设，探索建立农村初级社会保障体系。”“国务院印发《国家八七扶贫攻坚计划》《中国农村扶贫开发纲要》等，推进大规模扶贫开发国家行动。”“将脱贫攻坚纳入“五位一体”总体布局和“四个全面”战略布局，加快贫困地区脱贫致富的进程。”，结合所学概括可知：中华人民共和国成立以来脱贫攻坚进程的特点有：国家主导；制度保障；有步骤、有计划进行；把改革作为消除贫困的推动力；脱贫进展迅速；由脱贫到致富，实现共同富裕。根据材料三“完全消除绝对贫困的艰巨任务，提前 10 年实现《联合国 2030 年可持续发展议程》减贫目标。”可知：中华人民共和国成立以来脱贫攻坚消除了绝对贫困，为世界减贫事业做出突出贡献。

(2021·重庆 A 卷)

19. 阅读下列材料：

材料一 五四运动时期，先进的中国人开始把马克思主义当作新的思想武器去拯救中国。“五四”后，他们翻译出版《共产党宣言》《马克思资本论入门》等，创办劳动补习学校、工人夜校，到工人中去，宣传马克思主义。在这个过程中，这些先进的中国人思想感情进一步转变到工人阶级方面来，一部分工人也提高了阶级觉悟。

——据张小平《马克思主义在中国的早期传播论析》等

材料二 农村包围城市，武装夺取政权思想的提出，标志着中国化的马克思主义初步形成……在中国，农民是民主革命的主要力量。开展敌后游击战争，首先和主要的，就是发动和组织广大的农民，打击敌人……中国共产党把工作重点放在敌后农村，就是在新的抗日民族解放战争条件下，继续走农村包围城市、武装夺取政权的道路。

——中共中央党史研究室《中国共产党的九十年》

材料三 新中国成立之初，面对严峻国情……中国共产党人在马克思主义中国化的实践中艰辛探索，取得了新民主主义社会理论、《论十大关系》及《关于正确处理人民内部矛盾的问题》等理论成果……使我国实现了由新民主主义社会向社会主义社会的转变，人民群众对马克思主义中国化的认同感越来越强。

——摘编自霍豫《新中国成立以来马克思主义中国化进程、特征和启示》

请回答：

(1) 材料一中“新的思想武器”指的是什么？根据材料一并结合所学知识，分析“五四”后先进的中国人宣传该思想产生的影响。”

(2) 根据材料二，回答中国共产党在抗战时期把工作重点放在敌后农村的原因。

(3) 根据材料三，归纳新中国成立之初，中国共产党在马克思主义中国化实践探索中取得的成绩。结合所学知识，任举一例改革开放以来马克思主义中国化的理论成果。

【答案】 (1) 思想：马克思主义。影响：提高了工人阶级的觉悟；促使先进的中国人思想感情向工人阶级转变；促进马克思主义和中国工人运动相结合；为中国共产党的诞生准备了条件。

(2) 农民是民主革命的主要力量；农村包围城市、武装夺取政权思想的指导。

(3) 成绩：取得了一系列理论成果；实现了向社会主义的过渡；提升了人民群众对马克思主义中国化的认同。

理论成果：邓小平理论、“三个代表”重要思想、科学发展观、习近平新时代中国特色社会主义思想。（任举一例即可）

【解析】

【详解】（1）思想：根据“五四运动时期，先进的中国人开始把马克思主义当作新的思想武器去拯救中国”得出是马克思主义。影响：根据“些先进的中国人思想感情进一步转变到工人阶级方面来，一部分工人也提高了阶级觉悟”得出提高了工人阶级的觉悟；促使先进的中国人思想感情向工人阶级转变；促进马克思主义和中国工人运动相结合；为中国共产党的诞生准备了条件。

（2）根据“在中国，农民是民主革命的主要力量。开展敌后游击战争，首先和主要的，就是发动和组织广大的农民，打击敌人”得出农民是民主革命的主要力量；根据“在新的抗日民族解放战争条件下，继续走农村包围城市、武装夺取政权的道路”得出农村包围城市、武装夺取政权思想的指导。

（3）成绩：根据“取得了新民主主义社会理论、《论十大关系》及《关于正确处理人民内部矛盾的问题》等理论成果”得出取得了一系列理论成果；根据“使我国实现了由新民主主义社会向社会主义社会的转变，人民群众对马克思主义中国化的认同感越来越强”得出实现了向社会主义的过渡；提升了人民群众对马克思主义中国化的认同。理论成果：改革开放以来马克思主义中国化的理论成果包括邓小平理论、“三个代表”重要思想、科学发展观、习近平新时代中国特色社会主义思想。任举一例即可。

（2021·重庆 A 卷）

20. 科技是国家强盛之基，创新是民族进步之魂。探究回答以下问题：

【探究一】科技推动进步

（1）2016 年，中国科学院推选出影响文明进程的“中国古代重要科技发明创造”88 项，其中本草学作为研究药物名称、性质、效能。产地、入药部位、主治病症等的一门传统学科，因《神农本草经》《唐本草》《本草纲目》等著作取得的成就，成功入围。请以《本草纲目》为例概述本草学入围的理由。

【探究二】科技改变世界

（2）1933 年，美国芝加哥举办的世博会对第二次工业革命的科技成果进行了展示。请你列举一例当时的参观者可能看到的相关展品，并简要说明其怎样改变了世界。

【探究三】科技增强国力

（3）新中国成立以来。我国科技建设取得了“两弹一星”、杂交水稻技术、青蒿素、神舟飞船系列、北斗卫星等航系统、“天问一号”等巨大成就，请分析取得这些成就的原因。

【答案】（1）《本草纲目》收录了多种药物、药方及多幅药物形态图；对药物进行了新的分类；总结了

我国古代的药物学成就，在世界医药史上占有重要地位。

(2) 示例：内燃机。以内燃机为发动机 汽车、轮船、飞机等出现，为人们的生产和生活带来了极大的便利；促进了新兴工业的发展；使世界的联系更加密切。

(3) 党和国家 正确领导；社会主义制度的优越；经济的发展，国力增强；科学家自力更生，艰苦奋斗，无私奉献。

【解析】

【分析】

【详解】 (1) 《本草纲目》全书约 192 万字，收集药物 1892 种，载入药方 11096 年，附图 1160 幅，其规模超过过去任何一部本草书。《本草纲目》的成就首先在于打破了以往的药物分类法(上、中下三品)，采取了“析族区类，振纲分目”的科学分类法。它把药物分为矿物药、植物药、动物药三大类。《本草纲目》不愧是十六世纪以前中国本草学大成的著作。

(2) 第二次工业革命著名的发明有发电机、电动机和内燃机等，以内燃机为例，他解决了汽车、轮船、飞机的动力问题，引发了新的交通革命，促进了新兴工业的发展；密切了世界的联系。

(3) 本题设问开放，言之成理即可。可以从党的领导、社会主义制度、经济状况和科学家因素等角度作答。

【点睛】