

# 泰州市二〇二二年初中学业水平考试历史试题

## 第一部分选择题 (共 24 分)

请注意：在下列各题的四个选项中，只有一项是最符合题意的。(每小题 1 分)

1. “周人以西方一个小国代商而有天下，苦于兵力单薄，不足以镇压东方各族人民，于是大封同姓、异姓及古代帝王之后于东方，以为周室的“藩屏。”材料描述的是

- A. 禅让制                      B. 分封制                      C. 郡县制                      D. 行省制

【答案】 B

【解析】

【详解】根据材料“于是大封同姓、异姓及古代帝王之后于东方，以为周室的“藩屏”可得出西周为稳定周初的政治形式，周王根据血缘关系远近和功劳大小，将宗亲和功臣等分封到各地，确立了分封制，B 项正确；禅让制是在尧舜禹的远古时代，排除 A 项；郡县制是秦始皇颁布的措施，排除 C 项；行省制是元朝的制度，排除 D 项。故选 B 项。

2. 《中国经济史》在评述古代中国农业生产技术发展时说：“耕用牛型，使用铁器。是农业耕作技术的革命性突破，是划时代的进步。”这一“革命性突破”发生在

- A. 春秋后期                      B. 秦朝                      C. 西汉                      D. 唐朝

【答案】 A

【解析】

【详解】根据材料“耕用牛型，使用铁器。是农业耕作技术的革命性突破，是划时代的进步。”再结合所学，春秋时期，社会经济有很大的发展，尤其是春秋后期，铁制农具和牛耕的出现，促进了农业上的深耕细作，成为春秋时期农业生产水平提高的重要标志，A 项正确；其余三项都是春秋之后的朝代，排除 BCD 项。故选 A 项。

3. 汉武帝采用主父偃“令诸侯以私恩自裂地，分其子弟”和董仲舒“罢黜百家，独尊儒术”的建议并付诸实施。汉武帝的目的是

- A. 巩固大一统                      B. 繁荣思想文化                      C. 扩大地方权力                      D. 发展小农经济

【答案】 A

【解析】

【详解】结合所学知识分析,汉武帝颁布“推恩令”,削弱诸侯国实力,加强了中央集权;实行“罢黜百家,独尊儒术”,把儒家学说立为封建社会的正统思想,加强思想控制,进一步加强了专制主义中央集权,从而巩固

了多民族国家的大一统,A项正确;繁荣思想文化与“推恩令”不符,排除B项;“推恩令”削弱了地方权力,排除C项;“罢黜百家,独尊儒术”,与小农经济没有直接关系,排除D项。故选A项。

4. 下图为中国古代时间轴图,其中阶段③的特征是



- A. 繁荣与开放的时代
- B. 民族关系发展和社会变化
- C. 政权分立与民族交融
- D. 统一多民族国家的建立和巩固

【答案】A

【解析】

【详解】根据时间轴再结合所学,581年到907年,581年,北周外戚杨坚夺取北周政权,建立隋朝,唐朝末年,统治腐败,农民起义不断发生。907年,原为农民起义军将领朱温,建立了后梁政权,唐朝至此灭亡。故阶段③是隋唐时期。隋朝统一了南北,唐朝政治开明,经济发展,实行对外政策,与世界各国交流频繁,科技、艺术方面都有很大建树。隋唐是中国历史上繁荣与开放的时代,A项正确;民族关系发展和社会变化对应④,是宋元时期,排除B项;政权分立与民族交融对应②,是三国两晋南北朝时期,排除C项;统一多民族国家的建立和巩固对应①,是秦汉时期,排除D项。故选A项。

5. 唐宋之前,中国图书只有手抄本,同一种图书的复本相当少,但唐宋以后市面上的图书数量逐渐增多,图书出版业慢慢兴盛起来。引起这一变化的最主要原因是

- A. 造纸术的推广
- B. 印刷术的革新
- C. 对外往来密切
- D. 文化交流频繁

【答案】B

【解析】

【详解】根据材料“但唐宋以后市面上的图书数量逐渐增多,图书出版业慢慢兴盛起来”可得出北宋时期毕昇发明了活字印刷术,可以重复使用,便利了文化的传播,B项正确;东汉时期蔡伦改进了造纸术,魏晋南北朝得到进一步推广,排除A项;对外往来密切、文化交流频繁与材料不符,排除CD项。故选B项。

6. 宋代经济较前代发达,农业发展,手工业兴盛,商业繁荣。下列描述不能佐证这一观点的是

- A. 城市经商时间不再受到限制
- B. 长江下游和太湖流域成为丰饶粮仓
- C. 广州、泉州造船业世界领先
- D. 河北定窑发展成为我国著名的瓷都

【答案】D

【解析】

【详解】根据所学知识可知,江西景德镇是我国著名瓷都,D项说法错误,D项符合题意;A项是宋代商业繁荣的原因;B项是农业发展的表现;C项是手工业兴盛的表现;排除ABC项。故选D项。

7. 1333年，元朝开科取士，在所取进士百人中，有蒙古、回回、畏兀儿等民族50名，有58%的人的母亲为汉人，已婚者中有近70%的人娶汉人为妻。这说明了元朝

- A. 奉行民族歧视政策
- B. 已经完全实现汉化
- C. 科举考试更加公平
- D. 民族交融趋势加强

【答案】D

【解析】

【详解】元朝时期民族融合进一步加强。“有58%的人的母亲为汉人，已婚者中有近70%的人娶汉人为妻。”说明民族融合的趋势加强，故D符合题意；材料说明的是民族融合趋势加强，不是民族歧视，排除A；少数民族与汉族融合，并不是完全实现汉化，排除B；元代废除了科举考试制度，排除C。故选D。

8. 从设置宣政院到澎湖巡检司，从戚继光荡平倭寇到郑成功驱逐荷兰殖民者，从册封达赖、班禅到设置驻藏大臣。如果给上述史实提炼一个主题，较为合理的是

- A. 政治的成熟与稳定
- B. 文化的碰撞与交流
- C. 国家的巩固与发展
- D. 外交的开放与危机

【答案】C

【解析】

【详解】依据所学可知，元朝进一步加强对台湾的管理，在台湾（琉球）设澎湖巡检司，以加强对那里的管辖，这是中央政府首次在台湾地区设置机构进行管理，使台湾开始纳入中央政府的统治范围之内。元朝时，西藏成为我国正式行政区，元政府设宣政院管理西藏；戚继光等荡平东南沿海倭寇、郑成功收复被荷兰殖民者占领的台湾都是抗击外国侵略的史实；清朝时期，为了加强对西藏地区的管理，顺治皇帝接见五世达赖，授予五世达赖“达赖喇嘛”的封号，康熙接见五世班禅，授予五世班禅“班禅额尔德尼”的封号；确立了历代达赖和班禅都要经过中央册封的制度，1727年，雍正帝设驻藏大臣。所以上述史实都属于国家的巩固与发展，C项符合题意。由此分析ABD三项均不符合题意，排除，故选C。

9. 清政府规定：“出海商人必须于三年之内回国，否则不许入籍；严禁米粮、铁器的出……这体现了清政府的政策是

- A. 重文轻武
- B. 闭关锁国
- C. 重农抑商
- D. 鼓励贸易

【答案】B

【解析】

【详解】根据材料清政府的规定，再结合所学可知，这是清政府闭关锁国政策。清朝前期，为巩固清王朝的统治，清政府实行闭关锁国政策，严格限制对外贸易，又限制商民出海，开广州一处为对外通商口岸，政府特许设立了广东十三行统一经营管理对外贸易，闭关锁国对西方殖民者的入侵起过一定的积极作用，但最终阻碍了中国社会的进步，使中国失去对外贸易的主动权和机遇，使中国在世界上逐步落伍，导致近

代中国大大落后于西方，造成近代中国落后挨打的局面，B项正确；重文轻武是宋朝的特点，排除A项；重农抑商和鼓励贸易与材料无关，排除CD项；故选B项。

10. 观察下图，该战争结束后，清政府被迫签订的不平等条约是



- A. 《南京条约》            B. 《北京条约》            C. 《马关条约》            D. 《辛丑条约》

【答案】C

【解析】

【详解】根据材料图中的“平壤”“威海卫”“旅顺”等信息结合所学知识可知这是甲午中日战争，甲午战争中有平壤战役、威海卫之战、旅顺大屠杀等事件，战后，清政府被迫和日本签订《马关条约》，C项正确；鸦片战争后，中英签订《南京条约》、第二次鸦片战争后，清政府被迫签订《北京条约》、八国联军侵华后，清政府被迫签订《辛丑条约》，排除ABD项。故选C项。

11. 口号往往反映一场运动的目的和诉求，具有鲜明的时代特征。下列口号体现了中国近代化的发展历程，其先后顺序是

① 自强求富 ② 三民主义 ③ 变法图强 ④ 民主与科学

- A. ①②③④            B. ②①③④            C. ③①②④            D. ①③②④

【答案】D

【解析】

【详解】根据所学知识可得出①自强求富是19世纪60到90年代洋务运动时期的口号，③变法图强是1898年戊戌变法时期的口号，②三民主义是孙中山在1905年《民报》发刊词，是孙中山领导辛亥革命的指导思想，④民主与科学是1915年新文化运动时期的口号，按顺序排序，应是①③②④，D项正确；ABC项不符合题意，排除ABC项。故选D项。

12. 下图为1953年创作的宣传画《把更多的钢铁送到祖国建设的最前线》。该宣传画体现了我国



- A. 人民打败美帝国主义的坚定信念  
B. 土地改革后农民支持工业的决心  
C. 一五计划时期工人建设祖国的热情  
D. 全面建设社会主义时期工人的愿望

【答案】 C

【解析】

【详解】 根据材料“1953年”“《把更多的钢铁送到祖国建设的最前线》”，结合所学知识可知，1953年，第一个五年计划开始执行，基本任务中有一条是集中主要力量发展重工业，建立国家工业化和国防现代化的初步基础，此时是向工业化迈进的过渡期，C项正确；1953年抗美援朝战争取得胜利，材料没有体现人民打败美帝国主义的坚定信念，排除A项；土地改革是在1950-1952年进行，排除B项；全面建设社会主义时期是1956-1966年，排除D项。故选C项。

13. 《人民日报》真实记录了新中国的发展历程。下列文章刊登在20世纪70年代《人民日报》上的是

- A. 《决胜全面小康迈向新的征程》  
B. 《我国首次载人航天飞行圆满成功》  
C. 《第一届全国人民代表大会第一次会议闭幕》  
D. 《中华人民共和国代表团出席第二十六届联大会议受到热烈欢迎》

【答案】 D

【解析】

【详解】 根据所学知识可得出中华人民共和国代表团1971年11月15日出席了联合国大会第二十六届会议的全体会议，受到热烈欢迎，D项正确；2020年决胜全面小康，迈向新的征程，排除A项；2003年10月15日，我国“神舟五号”宇宙飞船在酒泉卫星发射中心成功发射，把中国首位航天员杨利伟送入太空，排除B项；1954年第一届全国人民代表大会第一次会议闭幕，排除C项。故选D项。

14. 近年来，驻澳军队广泛开展“中国故事”系列文化联谊活动，创作了《可爱的中国》《澳门同胞的中国心》《吉祥澳门》等作品，受到澳门民众的热烈欢迎。这些举措

- A. 是对“九二共识”的认同  
B. 促进了内地与澳门的经贸联系

C. 彰显了澳门的高度自治权

D. 增强了澳门民众的祖国认同感

【答案】D

【解析】

【详解】根据材料“近年来，驻澳军队广泛开展“中国故事”系列文化联谊活动，创作了《可爱的中国》《澳门同胞的中国心》《吉祥澳门》等作品，受到澳门民众的热烈欢迎”可得出多措并举，增进澳门民众归属感认同感，D项正确；“九二共识”是大陆与台湾各自以口头方式表述海峡两岸均坚持一个中国原则的共识，排除A项；材料与经贸联系、澳门的高度自治权无关，排除BC项。故选D项。

15. 东罗马帝国的“黄金时代”有一位皇帝叫查士丁尼，他组织编纂了一系列法律文献，奠定了欧洲民法的基础。它们被统称为

A. 《汉谟拉比法典》

B. 《罗马民法大全》

C. 《权利法案》

D. 《拿破仑法典》

【答案】B

【解析】

【详解】根据材料“东罗马帝国的“黄金时代”有一位皇帝叫查士丁尼，他组织编纂了一系列法律文献”再结合所可知，查士丁尼在位时期，编撰了《查士丁尼法典》《法学汇纂》《法理概要》《新法典》，这四部法律被统称为《罗马民法大全》，B项正确；《汉谟拉比法典》是古巴比伦王国的，排除A项；《权利法案》是英国的法案，排除C项；《拿破仑法典》是法国的，排除D项。故选B项。

16. 1522年，船队完成了环球航行。这无疑是划时代的壮举，它的意义甚至可以和人类离开地球登上月球相比。”率领这支船队的是

A. 迪亚士

B. 达·伽马

C. 哥伦布

D. 麦哲伦

【答案】D

【解析】

【详解】根据材料“1522年，船队完成了环球航行”可得出1519年麦哲伦率领船队开始横渡大西洋、太平洋、印度洋，1522年回到西班牙，完成首次环球航行，D项正确；迪亚士第一次航行时间是1487年，最远到达非洲好望角，排除A项；达·伽马1497年航行，最远到达印度，排除B项；哥伦布于1492年受西班牙王室的资助，率船队横渡大西洋，到达今天的美洲的海地和古巴等地，排除C项。故选D项。

17. 打破了千百年来“上帝创造万物”的神创论，在生物科学领域掀起了一场伟大革命的是

A. 牛顿

B. 达尔文

C. 爱迪生

D. 斯蒂芬森

【答案】B

【解析】

【详解】根据材料“打破了千百年来“上帝创造万物”的神创论，在生物科学领域掀起了一场伟大革命”可得出是达尔文提出生物进化论学说，从而摧毁了各种唯心的神造论以及物种不变论，B项正确；牛顿提出万有

引力定律，是物理学家，排除 A 项；爱迪生发明了电灯等电器，是发明大王，排除 C 项；乔治·斯蒂芬森在，第一次工业革命期间发明火车机车，被誉为“铁路机车之父”，排除 D 项。故选 B 项。

18. 以下是《大国崛起》丛书中美国篇的部分目录。其中“兄弟阋墙”介绍的是

一、殖民时代.....	2
二、独立风云.....	10
三、宪法立国.....	28
四、兄弟阋墙.....	44

- A. 光荣革命                      B. 独立战争                      C. 南北战争                      D. 1861 年改革

【答案】 C

【解析】

【详解】根据材料的目录再结合美国的历史发展，北美 13 个州被英国殖民统治，对应殖民时代；华盛顿领导了 1775 年至 1783 年的美国独立战争，推翻了英国殖民统治，对应独立风云；颁布了《1787 年宪法》，促进了资本主义发展，对应宪法立国；林肯领导的 1861--1865 年的美国南北战争是美国历史上的第二次资产阶级革命，经过南北战争，美国废除了奴隶制度，维护了国家统一，扫除了资本主义发展的又一大障碍，为以后经济的发展创造了条件，南北方为了奴隶制度产生矛盾这里对应兄弟阋墙，C 项正确；光荣革命是英国的，排除 A 项；独立战争对应独立风云，排除 B 项；1861 年改革在俄国，排除 D 项。故选 C 项。

19. 19 世纪 70 年代起，在日本过去认为是脏物的牛肉、牛奶开始被列为上等食品，东京、大阪、横滨、神户各地出现许多牛肉菜馆。士农工商、男女老少、贤愚贫富等都以不吃牛肉为不开化。上述变化源于明治政府

- A. 实行政治改革                      B. 实施殖产兴业                      C. 提倡文明开化                      D. 推动教育发展

【答案】 C

【解析】

【详解】根据材料的时间 19 世纪 70 年代，再结合所学可知，1868 年日本进行明治维新，政治方面，废藩置县，加强中央集权；经济方面，允许土地买卖，引进西方技术，鼓励发展近代工业；社会生活方面，提倡文明开化，向西方学习，改造日本的教育、文化和生活方式，材料上的吃牛肉属于生活方式的改变，C 项正确；其余三项与材料无关，排除 ABD 项。故选 C 项。

20. 1908 年，美国的福特汽车公司开始生产 T 型汽车。T 型汽车因使用 T 型发动机而得名。这种发动机是

- A. 蒸汽机                      B. 电动机                      C. 发电机                      D. 内燃机

【答案】 D

【解析】

【详解】根据材料的时间和福特汽车公司，再结合所学，内燃机的发明是第二次工业革命中应用技术领域的重大成就，解决了交通运输工具的发动机问题，19世纪80年代，德国人本次制造出一辆由内燃机驱动的汽车，1913年，美国的福特汽车公司使用流水线生产汽车，带来了汽车制造业的革命，据此可知，这里福特公司的汽车是内燃机驱动，D项正确；蒸汽机是第一次工业革命的成果，第二次工业革命已经更新，排除A项；电动机和发电机不是第二次工业革命中的汽车的发动机，排除BC项。故选D项。

21. 列宁多次指出，彼得格勒武装起义胜利后的几年内，俄国农村的灾难并不是由于资本主义发展，而是由于资本主义发展不够所引起的。这一认识推动了苏俄（联）

- A. 实施新经济政策
- B. 实行战时共产主义政策
- C. 推行农业集体化
- D. 建设社会主义的工业化

【答案】A

【解析】

【详解】从材料中可知，列宁认为，农村的困难是因为资本主义发展不足，按照逻辑，要解决困难，就要发展资本主义，根据所学知识，新经济政策中有发展国家资本主义的内容，A项正确；战时共产主义，是在帝国主义武装干涉和国内战争爆发时期，为适应战争需要而采取的临时措施，为集中国内一切人力、物力粉碎外国武装干涉、从而赢得国内战争胜利，起了重要作用，排除B项；斯大林统治后优先发展重工业、推行农业集体化，排除C项；苏联社会主义工业化是指苏联在社会主义建设中由农业国向工业国的转变过程，是斯大林格勒时期的五年计划，排除D项。故选A项。

22. 有观点认为：“21世纪全球将出现‘大国群体体系’：美国支配下的北美、一体化的欧洲、日本和中国居突出地位的东亚、印度称雄的南亚、横跨北非和中东的新月形地带，其中北美、欧洲、东亚三大群体将起决定性作用。”对此理解正确的是（ ）

- A. 世界多极化趋势日趋明显
- B. 大国群体体系消除了各国矛盾
- C. 国际政治新秩序已经建立
- D. 世界政治格局出现新三足鼎立

【答案】A

【解析】

【分析】

【详解】根据材料“大国群体体系”指政治领域的多极化，故A项正确；B与实际不符；C错误，国际政治新秩序至今尚未建立；D在材料中未体现。

23. “越是面临挑战，越要加强合作。”下列历史事件不能体现这一观点的是

- A. 马歇尔计划的提出
- B. 《联合国宣言》的签署
- C. 欧洲共同体的建立
- D. “一带一路”建设的实施

【答案】A

**【解析】**

**【详解】**根据所学知识可得出马歇尔计划从表面上看是在经济上援助欧洲，但实质上是为了加强对欧洲的控制，而控制欧洲的最根本目的则是把欧洲作为反共反苏的基地，为了遏制共产主义，遏制苏联，A项符合题意，选择A项；《联合国宣言》的签署标志着国际反法西斯联盟正式形成，B项不符合题意，排除B项；欧共体促进了整个欧洲的政治与经济的稳定发展，C项不符合题意，排除C项；“一带一路”建设的实施对于开创我国全方位开放新格局、促进各国经济繁荣和区域经济合作、推动世界和平发展、互利共赢具有划时代的重大意义，D项不符合题意，排除D项。故选A项。

24. 学习历史要基于史实得出客观的结论。下表中结论与史实相符的是

	史实	结论
A	1919年，协约国与德国签订《凡尔赛条约》	实现了日本独霸中国的企图
B	1945年，联合国正式成立	为维护国际和平与安全发挥积极作用
C	1949年，德国分裂	标志着两极格局的形成
D	1995年，世界贸易组织正式成立	不利于全球贸易和世界经济的发展

A. A

B. B

C. C

D. D

**【答案】** B

**【解析】**

**【详解】**根据所学知识可知，联合国成立以后为维护国际和平与安全发挥积极作用，B项正确；一战期间形成了日本独霸中国的局面，排除A项；北约和华约的成立标志着两极格局的形成，排除C项；世界贸易组织的成立有利于全球贸易和世界经济的发展，排除D项。故选B项。

## 第二部分非选择题 (共 26 分)


25. 讴歌青春力量，礼赞青春人物。某校九年级（1）班在五四青年节开展了下列活动

活动一 图片展



(1) 观察上面两幅图片，回答图一学生们哪一口号最能反映五四运动反帝反封建的性质？说明图二画作“启航”的寓意。

### 活动二歌咏赛



(2) 由《国民革命歌》歌词指出国民革命的重要任务。《义勇军进行曲》的旋律里发出的时代最强音是什么？

### 活动三 故事会

#### 故事一真正的少年英雄

1933年8月5日，少共国际师宣告成立。全师由1万多名青年组成，党团员占70%以上，战士平均年龄18岁左右，还有不少十四五岁的红小鬼。全师指战员宣誓“我们是工农的儿子，准备以最后一滴血，为着苏维埃奋斗到底！”当十几岁的孩子扛枪战斗在 frontline 时，这些少年义无反顾，甘愿流尽最后一滴血，他们是真正的少年英雄。

#### 故事二舍身炸碉堡的战斗英雄

董存瑞（1929-1948），1945年7月参加八路军。1948年5月25日，参加隆化战斗，身为爆破组长的他率领全班连续炸掉4座炮楼、5座碉堡。部队在冲锋时遇到一座隐蔽的桥型暗堡中的机枪猛烈火力的封锁。他抱着炸药包冲到桥下，发现无处安置炸药，而总攻时间已到，于是毅然托起炸药包抵住桥身炸毁暗堡，以自己的生命为部队开辟了前进道路。

(3) 故事一中少共师孩子们心中怀着怎样的信念甘愿流尽最后滴血？根据故事二说出董存瑞军旅生涯经历的两个历史时期。作为革命英雄，他们具有怎样共同的优秀品质？

(4) 通过以上活动，请青春的你写下对青春的寄语。

**【答案】** (1) “外争主权，内除国贼”；中国共产党的诞生，是中国历史上开天辟地的大事。自从有了中国共产党，中国革命的面貌就焕然一新了。

(2) 重要任务：打倒列强，除军阀；抗日救亡，反抗日本帝国主义侵略。

(3) 为着苏维埃奋斗到底；抗日战争时期和解放战争时期；不怕牺牲，为理想而奋斗到底，爱国主义将神等。（言之有理即可）

(4) 树立远大的理想和目标，并为之奋斗到底；少年强则国强等。

## 【解析】

### 【小问1详解】

依据所学知识可知，五四运动的口号是“外争国权，内除国贼”，“外争国权”指的是反对帝国主义国家破坏中国主权，内“除国贼”指的是反对代表大地主大资产阶级利益的北洋军阀的反动统治，所以能体现反帝反封建性质；依据图片并结合所学知识可知，1921年，中共一大在上海召开，标志着中国共产党诞生，中国共产党的诞生，是中国历史上开天辟地的大事。自从有了中国共产党，中国革命的面貌就焕然一新了。

### 【小问2详解】

依据《国民革命歌》歌词“打倒列强，打倒列强，除军阀，除军阀。努力国民革命，努力国民革命，齐奋斗，齐奋斗。工农学兵，工农学兵，大联合，大联合。打倒帝国主义，打倒帝国主义，齐奋斗，齐奋斗。打倒列强，打倒列强，除军阀，除军阀。国民革命成功，国民革命成功，齐欢唱，齐欢唱。”分析可知，国民革命的重要任务是打倒列强，除军阀；依据所学知识可知，在抗日救亡的洪流中，聂耳创作了《义勇军进行曲》，号召大家抗日救亡，反抗日本帝国主义侵略，谱写了时代最强音。

### 【小问3详解】

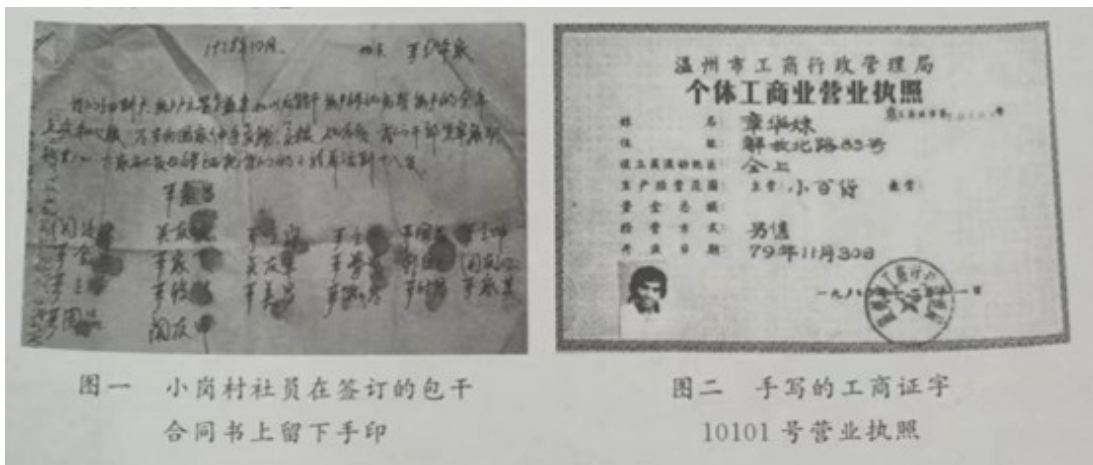
依据故事一中材料“我们是工农的儿子，准备以最后一滴血，为着苏维埃奋斗到底！”分析可知，孩子们心中怀着的信念是“为着苏维埃奋斗到底”；依据材料“1945年7月参加八路军”分析可知，抗日战争时期董存瑞参军，依据材料“1948年5月25日，参加隆化战斗，身为爆破组长的他率领全班连续炸掉4座炮楼、5座碉堡。”分析可知，解放战争时期董存瑞参加隆化战斗；他们都是革命英雄，为国家牺牲，有崇高的爱国主义精神，更是不怕牺牲，为理想、为国家而奋斗到底，直至牺牲。

### 【小问4详解】

综合上述材料并结合所学知识可知，青少年应该树立远大的理想和目标，并为之奋斗到底，具有爱国主义精神，少年强则国强等。

26. 史料承载着历史信息，记录了历史进程，对于建构历史解释具有重要价值。

### 【实物史料——见证历史】



图一 小岗村社员在签订的包干合同书上留下手印

图二 手写的工商证字  
10101号营业执照

(1) 图一反映了当年安徽凤阳小岗村农民率先进行了怎样的探索？图二表明我国出现了哪种经济现象？

**【文献史料印证历史】**

在经济体制上形成了一种同社会生产力发展要求不相适应的僵化模式。这种模式……造成了企业缺乏应有的自主权，企业吃国家“大锅饭”，职工吃企业“大锅饭”的局面，严重压抑了企业和广大职工群众的积极性、主动性、创造性，使本来应该生机盎然的社会主义经济在很大程度上失去了活力。

——《中共中央关于经济体制改革的决定》

(2) 根据材料，说明这种“僵化模式”的弊端及城市经济体制改革的中心环节。随着改革深入，我国经济体制发生了怎样的转型？

**【口述史料——回忆历史】**

调查人：澎湃新闻记者

陆德兴（上海第三钢铁厂退休职工）

口述内容：

我叫陆德兴。不要浦东一月年，今年71岁，是土生土长的滴东人。“宁要浦西一张床。片小渔村。在九十年代开发开放之前，从外滩看过来。滴东就是一1990年，浦东的交通、生活设施都很不方便，老百姓的居位条件也很差。国务院正式宣布开发开放浦东、随之而来的，是交通越来越便利、生活越来越方便。5 高楼大厦一幢幢建起来。一些省份和国企也在浦东投责建造了自己的高楼。那时从滴西看浦东，是一派热间的建设景象。犹这样，浦东越来越繁华。

(3) 依据口述内容。概括上海浦东前后的巨变及原因。

(4) 综合以上史料研读，你能得出怎样的史论？

**【答案】** (1) 探索：家庭联产承包责任制。经济现象：单一所有制经济结构已被突破。

(2) 弊端：国家对企业统得过多过死，企业没有经营自主权，从原料采购到产品生产、销售都按照国家统一计划进行，不能适应复杂多变的社会需要。中心环节：增强企业活力，把企业搞活。转型：社会主义市场经济体制。

(3) 巨变：前：浦东的交通、生活设施不方便，老百姓的居位条件差；后：交通便利、生活方便、商业繁华。原因：在邓小平的积极推动下，1990年4月18日，国务院正式宣布开发开放浦东，在浦东实行经济技术开发区和某些经济特区的政策。

(4) 改革一切从实际出发，立足国情；只有不断的坚持改革才能不断提高经济发展水平。

### 【解析】

#### 【小问1详解】

探索：根据所学知识可得出当年安徽凤阳小岗村农民率先进行了家庭联产承包责任制。经济现象：根据题干信息，结合所学知识可知，个体工商业属于私营经济，改革开放后允许它的发展说明单一所有制经济结构已被突破。

#### 【小问2详解】

弊端：根据材料“造成了企业缺乏应有的自主权，企业吃国家“大锅饭”，职工吃企业“大锅饭”的局面，严重压抑了企业和广大职工群众的积极性、主动性、创造性，使本来应该生机盎然的社会主义经济在很大程度上失去了活力”可得出国家对企业统得过多过死，企业没有经营自主权，从原料采购到产品生产、销售都按照国家统一计划进行，不能适应复杂多变的社会需要。中心环节：根据所学知识可得出城市经济体制改革的中心环节是增强企业活力，把企业搞活。转型：根据所学知识可得出社会主义市场经济体制是中国改革开放所建立的市场经济体制。

#### 【小问3详解】

巨变：根据材料“浦东就是一 1990 年，浦东的交通、生活设施都很不方便，老百姓的居位条件也很差”可得出前：浦东的交通、生活设施不方便，老百姓的居位条件差；后：根据材料“国务院正式宣布开发开放浦东，随之而来的，是交通越来越便利、生活越来越方便。5 高楼大厦一幢幢建起来。一些省份和国企也在浦东投资建造了自己的高楼。那时从滴西看浦东，是一派热间的建设景象”可得出交通便利、生活方便、商业繁华。原因：根据所学知识可得出在邓小平的积极推动下，1990年4月18日，国务院正式宣布开发开放浦东，在浦东实行经济技术开发区和某些经济特区的政策。

#### 【小问4详解】

开放性设问，言之有理即可。如改革一切从实际出发，立足国情；只有不断 坚持改革才能不断提高经济发展水平。

27. 东西方的思想智慧共同促进了人类文明的进步。阅读材料，完成下列要求。

材料一 来自各诸侯国活跃了一百余年的儒家王者师、道家传人、法家骨干、朗阳家领袖，他们互相对立、互相争鸣、互相吸收、互相促进，共同培养了特殊的理想人格民采、留下了示范后世的良言淑行。

——摘编自王立《百家争鸣与大一统》

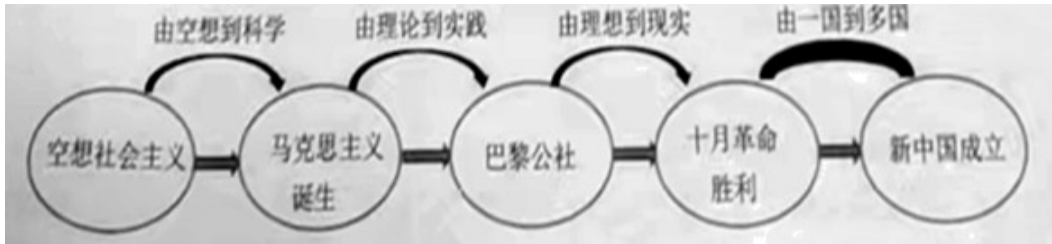
(1) 根据材料说明各思想流派之间的关系。写出儒家代表范后世的一句良言。

材料二 (它)并非对于古典文化的“亦步亦趋”的简单模仿……是新兴资产阶级反封建斗争在意识形态上的反映……新生的资产阶级为了求得自身的发展,必须首先在思想上从中世纪的宗教神学的程格下解放出来……这个时期产生的文学、艺术作品及政治、哲学著作都鲜明地表现出断的时代精神。

——摘编自关于廛、齐世荣主编《世界史·近代史编》(上卷)

(2) 材料中“新的时代精神”指什么?根据材料指出这一运动的实质。以上两场运动有什么共同作用?

材料三 马克思主义又不是教条,而是行动的指南。



(3) 阅读上面示意图,回答马克思主义诞生的标志及在俄国的革命实践活动。马克思主义哪些特点使其富有强大的生命力?

**【答案】** (1) 互相对立、互相争鸣、互相吸收、互相促进;“己所不欲,勿施于人。”

(2) 人文主义;资产阶级的新文化运动;促进人们思想的解放,有利于社会进步。

(3) 《共产党宣言》的发表;俄国十月革命成功,实践了马克思主义;科学性、先进性、辩证性、实践性。

**【解析】**

**【小问1详解】**

根据材料“他们互相对立、互相争鸣、互相吸收、互相促进,共同培养了特殊的理想人格民采、留下了示范后世的良言淑行。”可知,各思想流派之间互相对立、互相争鸣、互相吸收、互相促进;儒家代表名言如“己所不欲,勿施于人”、“学而时习之,不亦说乎”、“温故而知新,可以为师也”等等。

**【小问2详解】**

根据材料“必须首先在思想上从中世纪的宗教神学的程格下解放出来”可知这是文艺复兴运动,14世纪开始的文艺复兴运动,反对封建神学,文艺复兴的核心思想是人文主义,“新的时代精神”指的就是人文主义;文艺复兴以复兴古希腊罗马文化的方式,实质是一场资产阶级反对教会“神权至上”和提倡人文主义的新文化运动;不管是百家争鸣还是文艺复兴都属于思想领域的变革,他们宣传的进步思想,都促进了思想的解放和社会进步。

**【小问3详解】**

根据材料示意图,再结合所学可知,1848年《共产党宣言》的发表,标志着马克思主义诞生,无产阶级的斗争有了科学指导;根据材料在俄国的革命实践活动指的是十月革命的胜利;马克思主义理论的科学性是

指，从实际出发，运用科学的态度和手段，对社会历史领域最基本的问题、社会发展的客观规律等进行研究所得到的科学结论；马克思主义最大的先进性，在于它揭示了人尤其是工人的经济、社会地位，指出了私有制的本质，明白无误的确定了资本主义的掘墓人——无产阶级；马克思主义的辩证性在于它是科学性与革命性的统一；马克思主义哲学的实践性在于以实践为基础，从根本上克服了旧唯物主义的机械性、形而上学性和不彻底性。

