

# 历史试题

一、选择题：本题共 30 小题，每小题 2 分，共 60 分。在每小题给出的四个选项中，只有一项是符合题目要求的。

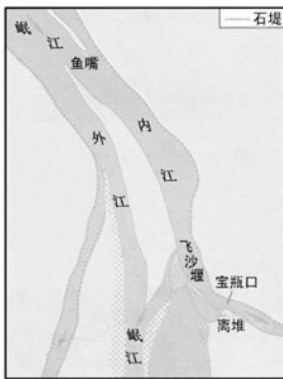
1. 考古工作者在河姆渡遗址发现多处稻谷、稻草的堆积层，层厚 20--50 厘米，最厚处超过 1 米，若折算成稻谷，可达 12 吨以上。这可用于印证河姆渡居民

- A. 已经从事农业生产
- B. 初步产生物品交换
- C. 广泛使用青铜工具
- D. 开始推广“牛耕技术”

2. 通过分封制度，“周人终于建立了一个拥有广袤领土的强大国家”，使西周王朝的统治触角伸向了遥远的地方。据此可知，分封制

- A. 强化了诸侯权力
- B. 扩大了统治范围
- C. 加速了西周灭亡
- D. 确立了君主专制

3. 图 1 至图 2 所示内容体现了都江堰



都江堰示意图

图 1



今都江堰灌区

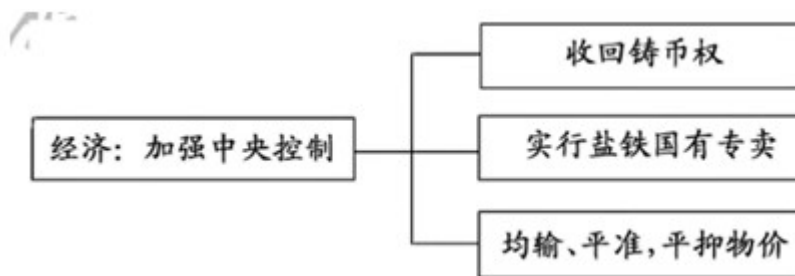
图 2

- A. 造福千秋
- B. 控流发电
- C. 沟通水系
- D. 方便航运

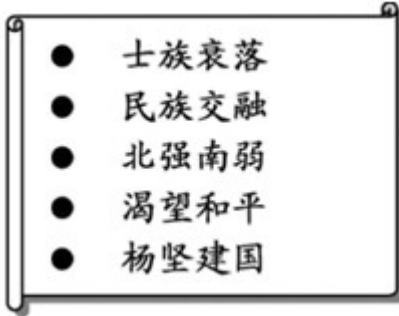
4. 秦始皇下令全国“车同轨”并修建由咸阳向北延伸的直道，全长约 700 千米，仅用两年半时间即修通。这主要得益于

- A. 人口数量的增长
- B. 铁制工具的出现
- C. 国家体制的作用
- D. 筑路技术的提高

5. 下图所示为汉武帝巩固大一统王朝采取的经济措施这一举措



- A. 改善了人民生活水平  
B. 提升商人的经济地位  
C. 提高了军队战斗能力  
D. 增强中央政府的财力
6. 谚语是我国传统文化的组成部分，“雨洒清明节，麦子豌豆满地结”反映了
- A. 饮食文化丰富生活  
B. 农历节气指导农耕  
C. 祭祀礼仪追思先祖  
D. 种植技术推陈出新
7. 下图所示为某同学研究性学习的关键内容。据此可知，其研究的主题是



- A. 南方经济发展原因  
B. 孝文帝的汉化政策  
C. 隋统一全国的背景  
D. 科举制的深远影响
8. 宋代瓷器美学达到新高度。景德镇青白瓷色质如玉，钧窑的海棠红艳如晚霞。由此可见，宋代制瓷业
- A. 私营作坊为主，  
B. 产品行销世界  
C. 遍布沿海地区  
D. 工艺水平高超
9. 《经世大典》载：海运时，惟凭针路定向行船，仰观天象以卜明晦。这体现了宋元时期
- A. 指南针已运用于航海  
B. 造船技术适应远航  
C. 地理知识有长足进步  
D. 对外贸易繁荣昌盛
10. 明代长城的修建因地制宜，就地取材，挖壕筑墙省工省料，以一道或多道绵延伸展的墙体为干线，构建了多层次、纵深的防御体系。这体现了长城是
- A. 商品贸易的主要场所  
B. 地区交流的重要通道  
C. 完备的军事防御体系  
D. 劳动人民的智慧结晶
11. 下表所示纳税田亩数的变化反映了当时

时 间	纳税田亩数比 1683 年增加的数量(%)
康熙五十一年(1712 年)	23
雍正四年(1726 年)	60
	此时耕地面积已超过明末耕地面积百分之二十点六

- A. 精耕细作的推广  
B. 手工业技术提高  
C. 农业经济的发展  
D. 水利工程的兴修
12. 乾隆时颁布的《钦定藏内善后章程》规定：驻藏大臣督办藏内事务，地位与达赖、班禅平等。这体现

了清朝

- A. 设置宣政院统辖西藏
- B. 完成对全国的统一
- C. 创设了金瓶掣签制度
- D. 加强对西藏的管辖


13. 到 19 世纪 80 年代，清政府初步建成北洋、南洋福建等海军。南洋水师起步较早但发展缓慢，北洋水师连续多年无法添置新 舰船。这说明了当时

- A. 洋务运动成效显著
- B. 自强求富已经实现
- C. 海军建设步履艰难
- D. 军队改制全盘西化

14. 它以暴力推翻了帝制，代之以民国，为 2000 多年历史打上用铁和血铸成的句号。这反映的历史事件是

- A. 戊戌变法
- B. 辛亥革命
- C. 护国战争
- D. 护法运动

15. 对联是民族文化的结晶，蕴含着丰富的政治、经济和文化等时代气息。下图所示对联纪念的是

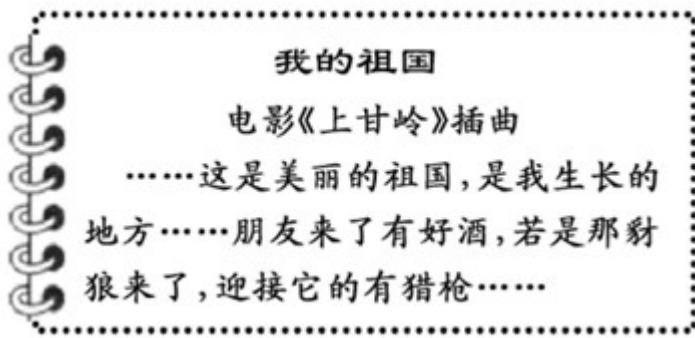


- A. 新文化运动兴起
- B. 五四运动的爆发
- C. 中国共产党成立
- D. 北伐战争的胜利

16. 历史解释是在史事的叙述和理解的基础上，对历史事物进行的理性分析和客观评判。下列对古田会议的表述中，属于历史解释的是

- A. 1929 年，红四军党的第九次代表大会在福建省上杭县古田召开
- B. 会议选举毛泽东为红四军前敌委员会书记
- C. 会议确立了思想建党、政治建军的原则
- D. 人民军队永远不变 军魂是指中国共产党对军队的绝对领导

17. 下图所示体现了 20 世纪 50 年代中国人民



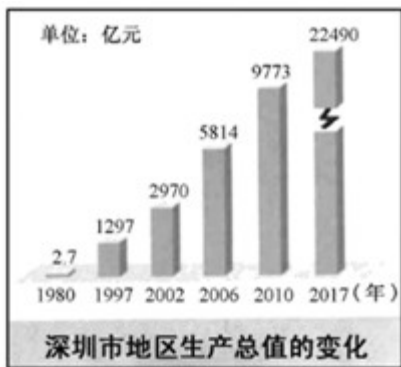
- A. 热情好客，彰显礼仪风范
- B. 爱好和平，打击侵略者
- C. 士气旺盛，武器装备精良
- D. 努力生产，踊跃支援前线

18. 1971年11月1日，中华人民共和国五星红旗第一次在联合国升起，这是中国外交战线的重大胜利。

这体现当时中国

- A. 提出了和平共处五项原则
- B. 推动亚非会议的圆满成功
- C. 恢复在联合国的合法席位
- D. 改善了与美国之间的关系

19. 下图所示为深圳市地区生产总值的变化，其主要原因是



- A. 家庭联产承包责任制实行
- B. 对外开放实行及不断深化
- C. 国有企业改革的持续推行
- D. 相对优越的区域地理位置

20. 袁隆平发明的“三系法”籼型杂交水稻技术，使中国杂交水稻研究水平始终处于世界领先地位；91岁高龄的他，还坚持在三亚基地开展科研工作。据此可知，他

- A. 致力创新、崇尚劳动
- B. 诚实守信、乐于助人
- C. 艰苦朴素、乐观自信
- D. 勤政爱民、廉洁奉公

21. 下图所示体现了古希腊人



古希腊运动场入口



古希腊画瓶上跑步的运动员

- A. 重视体育活动      B. 追求思想自由      C. 培养公民意识      D. 提倡男女平等

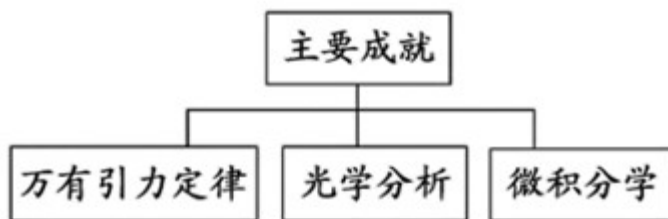
22. 阿拉伯人将古印度人的数字改造为阿拉伯数字，并传播到世界各地。这折射出阿拉伯人致力于

- A. 创新与交流      B. 冒险与挑战      C. 征服与重建      D. 统一与扩张

23. 近代西方国家贩卖奴隶的过程中，奴隶死亡率一般为 30%，最高达 50%。幸存者被卖到美洲后，其劳动寿命平均仅 7 年左右。据此可知，奴隶贸易具有

- A. 长期性      B. 广泛性      C. 复杂性      D. 血腥性

24. 下图所示成就--定程度上推动了近代科学的发展。取得这些成就的人物是



- A. 牛顿      B. 达尔文      C. 诺贝尔      D. 爱迪生

25. 1689 年，英国《权利法案》明确限制王权。1701 年，议会通过《王位继承法》，规定国家一切法律与条例非经议会通过，均属无效。这表明，英国逐步形成

- A. 三权分立原则      B. 君主立宪制度      C. 民主共和制度      D. 联邦制度

26. 下图所示内容反映了当时法国



《装饰战》

法国执政府时期(1799-1804年)的“新富翁”耻笑那些仍然穿着老式贵族服装的人

- A. 自然简洁的服饰受到推崇
- B. 强化自由平等的人权理念
- C. 人们的审美观念发生变化
- D. 大革命引发社会生活变迁

27. 下列对表所示第一次世界大战爆发原因的解读，最准确的是

第一次世界大战爆发的历史渊源(部分)

观点 1	资本主义政治经济发展的不平衡
观点 2	欧洲两大军事对抗组织的出现
观点 3	德国的崛起与欧洲各国的军备竞赛
观点 4	巴尔干危机埋下战争祸根

- A. 三国同盟和三国协约的军事对抗
- B. 英国与德国矛盾的激化
- C. 政治经济军事等因素的共同作用
- D. 欧洲各国开展军备竞赛

28. 下图所示历史事件发生在 1945 年 5 月，其作用是



苏军攻克柏林

- A. 粉碎德军不可战胜的神话
- B. 成为二战的转折点
- C. 开辟欧洲第二战场
- D. 加速德国无条件投降

29. 苏联和美国以及它们各自同盟 地缘政治和意识形态之间的敌对关系持续了五十多年，波及世界的每一个角落。这叙述了冷战的

- A. 背景                      B. 目的                      C. 措施                      D. 影响

30. 2001年，中国加入世界贸易组织。到2011年，中国外贸进出口总额已从2001年的5098亿美元，增加到超过3.6万亿美元，成为世界第一大出口国和第二大进口国。这直接佐证了世界贸易组织的作用是

- A. 推动了成员国经济发展                      B. 提高了科技的创新水平  
C. 维护了世界和平与安全                      D. 加快了亚太一体化进程

**二、非选择题：共4题，共40分。**

31. 阅读材料，完成下列要求。

材料唐代进士科的考试着重于文学写作，也要考帖经（注：儒家经典基础知识测验）。唐玄宗统治时期，采取“作诗赎帖”的通融办法，允许考生不考帖经，而以作诗代替。这样一来，更加提高了诗词在科考中的地位。唐诗在中国诗歌发展道路上达到了空前的成熟和繁荣。

——摘编自阴法鲁《中国古代文化史》

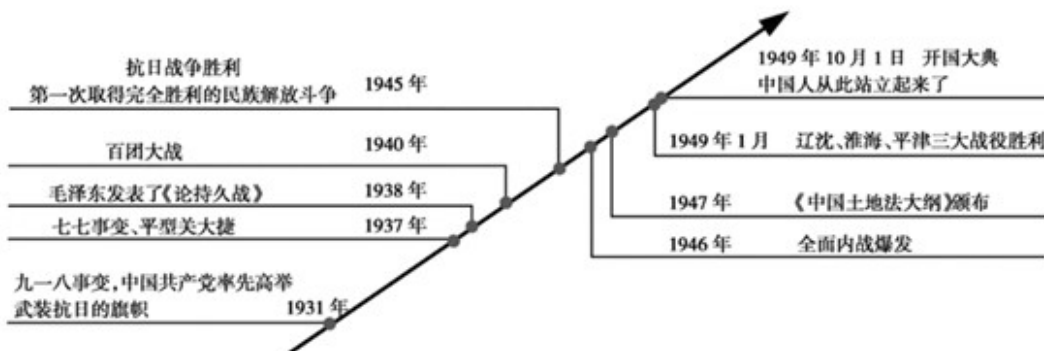
- (1) 根据材料并结合所学知识，简述唐玄宗统治前期出现鼎盛局面的名称。  
(2) 小历认为，唐代科举考试“作诗赎帖”的做法，推动了唐诗的成熟和繁荣。你是否同意这一观点？结合所学知识，简要说明理由。

32. 阅读材料，完成下列要求。

材料一鸦片战争后，英国政府强迫清政府签订了近代第一个不平等条约。尽管表面上清王朝仍继续维持其统治地位，但实际上中国已经不再像以往那样拥有独立完整的国家主权，在许多方面不得不受制于西方资本主义国家的摆布，成为西方诸列强掠夺和奴役的对象。

——摘编自朱英《中国近代史十五讲》

**材料二**



——张海鹏主编《中国近代通史》编制

(1) 根据材料一并结合所学知识, 简述中国近代第一个不平等条约的名称, 概括其对近代中国社会性质的影响。

(2) 根据材料二, 概括 1931-1945 年中国社会的时代特征, 并结合所学知识, 简析人民解放战争迅速胜利的原因。

(3) 综合上述材料并结合所学相关史实, 说明 1921-1949 年中国共产党完成的历史使命。

### 33. 阅读材料, 完成下列要求。

材料一

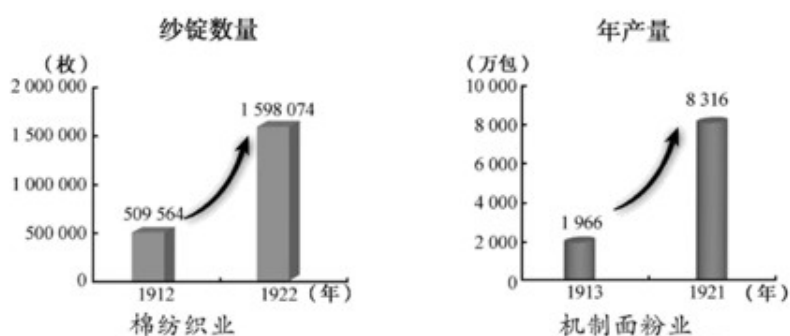


图 第一次世界大战前后, 我国棉纺织业和机制面粉业的发展  
——摘自中国地图出版社《中国历史地图册》

材料二

表 1952-1957 年我国工业年增长率 (部分)

种类	年增长率(%)
钢	31
电力	21
煤	14
机械制造	31
铁路通车里程	22

2009 年, 我国在信息通讯、新建装备制造、新材料、新能源和高端生产性产业等战略性新兴产业异军突起。中国铁路依托重大工程项目, 坚持原始创新和引进消化吸收再创新, 在高速铁路等方面取得了系列科技成果。至 2012 年 10 月底, 中国投入运营的高速铁路总里程达到 7735 公里, 居世界第一。

——摘编自郭大钧《中国当代史》

(1) 根据材料一, 简述第一次世界大战前后, 我国棉纺织业和机制面粉业的发展状况。

(2) 根据材料二, 概括 1952-1957 年我国工业发展的领域, 并结合所学知识, 概括 20 世纪 50 年代-21 世纪初我国铁路建设发生的变化。

(3) 根据材料一、二并结合所学相关史实, 说明 1949 年以来我国工业发展的主要原因。

### 34. 阅读材料, 完成下列要求。

材料表 世界近代史大事记 (部分)

时 间	事 件
18 世纪中期	英国工业革命开始
1848 年	《共产党宣言》发表
1861 年	俄国农奴制改革实施
	美国内战爆发
1864 年	第一国际成立
1868 年	日本明治维新开始
19 世纪 60-70 年代	第二次工业革命开始
1871 年	巴黎公社革命爆发

——据吴于廑、齐世荣主编《世界史》编制

- (1) 根据材料，以世纪、年代的呈现方式，简述《共产党宣言》发表的时间。
- (2) 阅读以上材料，提取两个历史事件，确定观点，并结合材料和所学世界近现代史知识加以论述。  
(要求：观点明确，根据材料中的两个历史事件，并结合所学世界近现代史一个历史事件，加以论述，史论结合，条理清楚)