

广西河池市 2018 年中考历史真题试题

注意：1．本试题卷分第 I 卷和第 II 卷，试卷满分为 60 分，考试用时 60 分钟

2．考生必须在答题卡上作答，在试题卷上作答无效。考试结束，将本试题卷和答题卡一并交回。

第 I 卷 选择题

一、单项选择题（共 15 小题，每小题 2 分，共 30 分。各小题的备选项中，只有一个最符合题意，请你用 2B 铅笔在答题卡上将选定的答案标号涂黑。）

1．“这把火腾空燃烧的时候，一个拥有黄河和长江滚滚波涛的民族……眼睁睁的看着这座万园之园化为一片灰烬。”与这则材料有关的历史事件是（ C ）

- A．鸦片战争 B．甲午中日战争
C．第二次鸦片战争 D．八国联军侵华战争

【解析】由材料“这把火腾空燃烧的时候，一个拥有黄河和长江滚滚波涛的民族，……眼睁睁的看着这座万园之园化为一片灰烬。”可知，这反映的是第二次鸦片战争中英法联军火烧圆明园的史实。故选 C。

2．下列维新变法的措施中，有利于资产阶级思想和西方科学技术的传播是（ B ）

- A．训练新式军队 B．开办新式学堂，培养人才
C．鼓励私人兴办工矿企业 D．裁撤冗官，任用维新人士

【解析】戊戌变法开办新式学堂，培养人才的措施，有利于资产阶级思想和西方科学技术的传播。故选：B。

3．标志着中国全面抗战开始的历史事件是（ A ）

- A．七七事变 B．九一八事变

C . 西安事变 . D . 八一三事变

【解析】1937年7月7日，卢沟桥事变即七七事变爆发，标志着中国全面抗战开始。故选A。

4 . 邱吉尔在谈到中国远征军入缅作战时说；“如果日本进军西印度洋，必然会导致我方在中东的全部阵地崩溃，能防止上述局势出现的只有中国。”这材料直接反映了（ D ）

A . 全民族抗战是中国抗日战争胜利的根本保证

B . 中国抗日战争得到了世界人民的大力支持

C . 中国人民取得了反帝斗争的第一次完全胜利

D . 中国的抗日战争是世界反法西斯战争的重要组成部分

【解析】材料邱吉尔反映了中国抗日战争对世界反法西斯战争的重要作用，这说明中国的抗日战争是世界反法西斯战争的重要组成部分。故选D。

5 . “精准扶贫”是当前党和国家的一项重要任务，它体现了党和政府始终重视“三农”的一贯原则。这一原则在建国初期最典型的表现是（ C ）

A . 和平解放西藏 B . 进行抗美援朝

C . 实行土地改革 D . 开展第一个五年计划

【解析】四个选项中，只有土地改革与“三农”问题有直接关系。故选C。

6 . 20世纪50年代，中国为了巩固新生的人民政权、维护朝鲜半岛的和平而出兵抗击侵略者的军事行动是（ B ）

A . 甲午中日战争 . B . 抗美援朝

C . 第二次鸦片战争 D . 抗日战争

【解析】根据材料中的“20世纪50年代”“朝鲜半岛”再结合所学知识可知，这一军事行动是指抗美援朝。故选：B。

7. 中国人民解放军在中国特色强军之路上迈出坚定步伐。以下属于中国20世纪60年代的国防建设成就是（ C ）

- A. 组建北洋舰队 B. 研制导弹驱逐舰
C. 组建战略导弹部队 D. 仿制歼5型歼击机

【解析】解答本题的关键在于扣住“20世纪60年代”这一时间。组建北洋舰队是在洋务运动中；1971年，我国自行研制了导弹驱逐舰，接着海军又陆续装备了我国自己制造的核潜艇；1966年，我国组建了战略导弹部队；1956年，我国仿制成功歼5型歼击机。故选C。

8. 美、法、美三国在资产阶级革命期间分别颁布了《权利法案》、《独立宣言》、《人权宣言》等法律文件。这些法律文件所体现的共同法治精神是（ A ）

- A. 法治取代人治 B. 限制王权
C. 否定封建专制制度 D. 反对殖民统治

【解析】结合所学知识可知，《权利法案》《独立宣言》《人权宣言》这些法律文件的内容三项均与资产阶级建立民主政治相关，体现了法治取代人治的基本精神，A符合题意；只有《独立宣言》体现了反对殖民统治，只有《人权宣言》体现了否定封建专制制度；只有《权利法案》限制王权。故选：A。

9. 拿破仑是一个备受争议的人物，某校历史兴趣小组编写的拿破仑历史剧本有下列内容。其中与史实相符的是（ D ）

- A. 拿破仑加冕时使用电灯照明
B. 拿破仑的办公桌上放有《物种起源》

- C . 拿破仑坐火车去视察法国的工厂
- D . 拿破仑听取大臣汇报《法典》起草进程

【解析】 本题实际考查时空观念。依据所学知识可知，拿破仑当政期间（1804-1814）颁布了《法典》。其他选项在时间上与拿破仑当政的时间不匹配。故选：D。

10 . 世界大战给人类带来巨大的灾难。下面关于两次世界大战的一些内容，其搭配正确的是（ B ）

- A . 攻占柏林——第二次世界大战结束
- B . 萨拉热窝事件——第一次世界大战的导火线
- C . 斯大林格勒战役——第二次世界大战全面爆发
- D . 德国投降——第一次世界大战以协约国失败而告终

【解析】 德国正式签署投降书，第二次世界大战的欧洲战争结束， A 项错误。1939 年德国突袭波兰，英法对德宣战，标志着第二次世界大战全面爆发， C 项错误。第一次世界大战，最终以协约国胜利，同盟国失败而告终， D 项错误。故选：B。

11 . 科技改变了世界面貌，改变了人们的生活。爱因斯坦的研究成果（ D ）

- A . 使人类进入信息社会
- B . 打击了神权统治的根基
- C . 为近代自然科学的发展奠定了基础
- D . 为原子能技术的开发提供了理论依据

【解析】 爱因斯坦的主要贡献是提出相对论，这一理论的创立推动了整个物理学理论的革命，为原子弹的发明和原子能的应用提供了理论基础。故选：D。


12. 1943年发表的一份国际文件明确要求：日本所窃据的中国领土，如中国东北、台湾和澎湖列岛等，必须归还中国。这份国际文件是（ C ）

- A. 《凡尔赛和约》
- B. 《独立宣言》
- C. 《开罗宣言》
- D. 《联合国宣言》

【解析】1943年11月，中美英三国首脑会晤，发表《开罗宣言》，明确要求：日本所窃据的中国领土，如中国东北、台湾、澎湖列岛等，必须归还中国。故选：C。

13. 右图图文材料表明了欧洲国家走上联合的主要原因是（ D ）

- A. 面临美苏争霸的威胁
- B. 战后初期欧洲国家经济萧条
- C. 提高欧洲国家的国际地位
- D. 促进欧洲国家经济的发展



【解析】根据题干给出的示意图中时间为“1950年”及数据信息可知欧洲国家走上联合的主要原因是战后初期欧洲国家经济萧条，为加快经济发展步伐，西欧国家必须密切联系加强合作。故选：D。

14. 经济全球化过程中，许多著名的汽车厂家，在全世界采购零配件，价格低，质量高，不仅大大降低了汽车的生产成本，而且也促进了汽车配件的生产。这材料表明了（ A ）

- A. 经济全球化使各国经济相互依存、相互竞争
- B. 当今世界政治格局正朝着多极化的方向发展
- C. 经济全球化使发展中国家的经济处于不利地位
- D. 国际经济风险对发展中国家经济发展的影响增大

【解析】这材料表明了经济全球化使各国经济相互依存、相互竞争。第三次科技革命推动了世界经济的发展，当今世界经济发展的趋势是经济全球化。B、C、D说法材料均没有体现。故选：A。

15. 2017年年底,世界上第一个体细胞克隆猴“中中”和第二个体细胞克隆猴“华华”相继在中科院神经科学研究所诞生,为人研制脑疾病模型猴奠定了基础。这项科研成就属于第三次科技革命中的(D)

- A. 计算机领域 B. 航天技术领域
C. 原子能领域 D. 生物工程领域

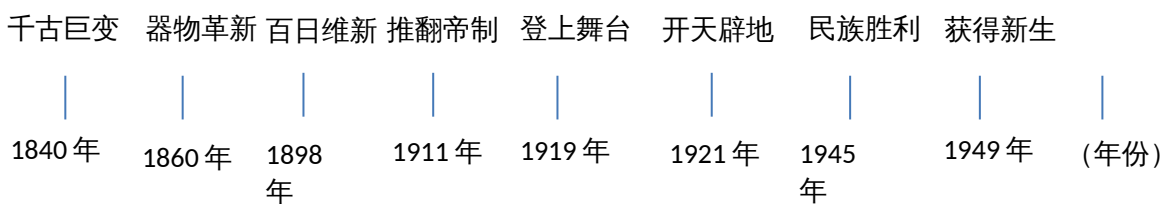
【解析】2017年年底,世界上第一个体细胞克隆猴“中中”和第二个体细胞克隆猴“华华”相继在中科院神经科学研究所诞生,为人类研制脑疾病模型猴奠定了基础。这项科研成就属于第三次科技革命中的生物工程领域。故选:D。

第II卷 非选择题

二、非选择题(本大题3小题,每小题10分,共30分。)

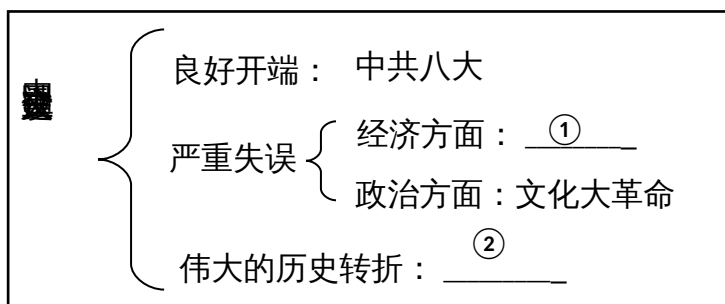
16. (10分)请你阅读下列材料,并运用所掌握的历史基本技能,完成下面主题为“中华民族的复兴之路”的探究任务。

材料一【年代尺示意图——了解中国近代史的发展历程】



(1) 根据上面“年代尺示意图”提供的信息,写出“千古巨变”对中国社会的影响和“获得新生”的历史事件。(2分)

材料二【知识结构示意图——系统掌握中国社会主义建设的历史知识】

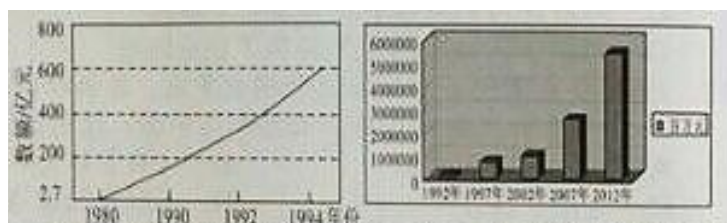


(2) 依据以上的“知知识结构示意图”补充填写①②的历史事件。(2分)

材料三【分析数据—解释中国现代化经济建设的历史现象】

凤阳县农业生产三年三大步
1980 年产粮：5.02 亿千克
1981 年产粮：6.76 亿千克
1982 年产粮：7.15 亿千克

图一 凤阳县农业生产三年三大步



图二 深圳市国民生产总值示意图 图三 1992-2012 某县 GDP 增长示意图

(3) 根据材料三中图一、图二的数据变化，分别体现了 1978 年以来中国的什么政策的尝试？指出图三中 1992 年以来经济迅速增长的主要推动因素有哪些？(4分)

材料四【看中国数据—关注中国现代化建设的辉煌成果】

二、中国农民人均可支配收入： 1978 年：133.6 元 1990 年：686.3 元 2010 年：2253.4 元 2016 年：12363.4 元

(4) 依据材料四的两组数据，归纳中国进行现代化建设的作用。(2分)

【解析】(1) 本题考查了时空观念，依据所学知识不难得出答案。

(2) 本题考查对所学知识的运用能力。据材料二“中国社会主义建设的知识结构示意图”中的“严重失误、经济方面”可知，①处的历史事件是大跃进和人民公社化运动。据“伟大的历史转折”可知，②处的历史事件是中共十一届三中全会。

(3) 本题考查对材料的解读和运用所学知识解决问题的能力。据材料三图一“凤阳县农业生产三年三大步”“深圳市国民生产总值示意图”可知，材料三中图一、图二的数据变化，分别体现了 1978 年以来中国的家庭联产承包责任制和经济特区的设立政策的尝试。据图三及所学知识可知，图三中 1992 年以来经济迅速增长的主要推动因素有：1992 年，中共十四大召开，在中共十四大上，明确提出我国经济体制改革的目标就是要建立社会主义市场经济体制。之后社会主义市场经济体制的建立和改革开放的深入都推到了 1992 年以来经济迅速增长。

(4) 本题考查归纳概括能力。据材料四“中国现代化建设的中国数据”中的“中国国民生产总值”和“中国农民人均可支配收入”可知，材料四的两组数据说明，中国进行的现代化建设提高了我国的国民生产总值，促进了我国经济的发展；提高了农民的收入和生活水平。

【答案】(1) “千古巨变”对中国社会的影响：使中国开始沦为半殖民地半封建社会，是中国近代史的开端。“获得新生”的历史事件：中华人民共和国的成立。

(2) ①：大跃进和人民公社化运动；②中共十一届三中全会。

(3) 图一：家庭联产承包责任制。图二：经济特区的设立。主要推动因素：中共十四大召开，社会主义市场经济体制的建立；改革开放政策的深入。

(4) 作用：提高了我国的国民生产总值；提高了农民的收入和生活水平。（符合题意即可）

17. (10 分) 读下列材料

材料一 习近平指出，《共产党宣言》一经问世，就在实践上推动了世界社会主义发展，深刻改变了人类历史进程。

——习近平在中共中央政治局第五次集体学习讲话（2018 年 4 月 23 日）

材料二 1918年，正值马克思诞生100周年，北大红楼落成。不久，这里即成为中国最早传播马克思主义的地方。在那个风雨如晦的年代，马克思主义的传无异于一盏明灯，给苦苦探寻救亡图存出路的中国人民指明了前进方向、提供了全新选择。

——摘自新华网《永恒的真理时代的篇章》（2018年5月5日）

材料三 中国共产党领导近四十年改革开放、六十八年国家建设和近百年党的建设成就，体现了马克思主义普遍原理和中国的具体实践、中华五千年文明的有机结合，为党在新的历史条件下理论创新提供了不竭动力。

——摘自人民网《十九大开辟了马克思主义中国化新境界》

结合所学的知识，回答下列问题：

(1) 写出材料一中《共产党宣言》问世的时间和1917年发生在俄国“深刻改变了人类历史进程”的史实。（3分）

(2) 联系所学的知识，列举马克思主义理论主要的三个组成部分。（3分）

(3) 材料二中“中国最早宣传马克思主义”的先进知识分子是谁？在中共十五大上被确立为党的指导思想的哪一理论，进一步发展了马克思主义？（3分）

(4) 综合上述问题并结合材料三，谈谈你的认识。（1分）

【解析】 (1) 考查马克思主义的诞生和十月革命。1848年，马克思和恩格斯起草了《共产党宣言》，它的发表标志着马克思主义的诞生。1917年，列宁领导起义。建立了苏维埃政权--人民委员会，第一个社会主义国家诞生。

(2) 本题考查马克思主义的构成。《共产党宣言》发表，第一次全面系统地阐述了科学社会主义理论，成为马克思主义诞生的标志。马克思和恩格斯创立的马克思主义是由马克思主义哲学、政治经济学和科学社会主义三部分组成的。

(3) 本题考查马克思主义在中国的传播和发展。1917年，俄国十月社会主义革命的胜利，使中国先进知识分子看到了“新世纪的曙光”。1918年，为了扩大宣传马克思主义，李大钊等在北京创办了《每周评论》，李大钊在《新青年》上连续发表了《庶民的胜利》和《布尔什维主义的胜利》两篇论文，

颂扬十月革命，是最早宣传马克思主义的先进知识分子。1997年，在中共十五大上，邓小平理论被确立为党的指导思想。邓小平理论的对马克思主义的进一步发展。

(4) 本题是开放型题目，考查学生开放性思维的能力。只要符合题意，言之有理即可。【答案】

(1) 1848年；俄国十月革命的胜利。

(2) 马克思主义哲学、政治经济学和科学社会主义。

(3) 李大钊；邓小平理论。

(4) 要有正确理论的指导，坚持中国共产党的领导，坚持走有中国特色的社会主义道路。

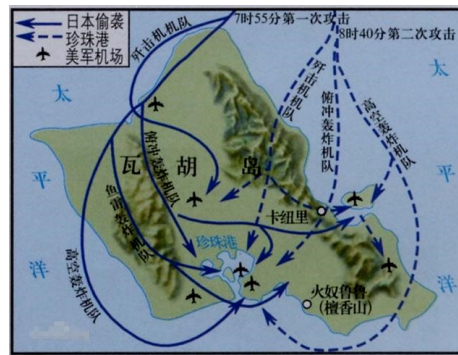
18. (10分) 近代以来，中美日三国的外交关系风云变幻，造成亚太地区局势紧张，引起世界关注。阅读下列材料，回答问题。

【地图回放】

材料一 战争示意图



图一



图二

(1) 写出材料一中的图一、图二事件发起者和图一战争所签订的条约名称。列举图二事件对第二次世界大战的影响。(3分)

【史实再现】

材料二 它在名义上“尊重中国的主权与独立及领土和行政的完整”，实际上是几个帝国主义国家共同染指中国的协议。美国……打破了日本在第一次世界大战中取得的暂时独霸中国的局面。

——《世界历史》

(2) 材料二中的“协议”是指哪一条约？根据材料二，并结合所学知识归纳该“协议”的签署对美的影响。(3分)

材料三 1972年尼克松访华时周恩来说：“你把手伸过最辽阔的海洋和我握手，25年没有交往了。”

(3) 材料三中提到的“中美25年没有交往”，主要原因是当时美国对苏联、中国等社会主义国家推行什么政策？促成材料三中这次“握手”的主要因素有哪些？(3分)

【时政分析】

材料四 亚太的和平、稳定、繁荣属于全体亚太人民，亚太的未来要靠亚太人民携手创造。互信、包容、合作、共赢的伙伴关系，是亚太大家庭的精神纽带，是确保亚太合作处在正确轨道上的重要保障。让我们脚踏实地推进合作，扎扎实实采取行动，共同建设亚太更加美好的明天！

——习近平主席在亚太经合组织工商领导人峰会上的主旨演讲

(4) 综合上述问题并结合材料四回答，为“共同建设亚太更加美好的明天”，中美日三国应构建一种怎样的外交关系？(1分)

【解析】(1) 本题考查读图能力。结合所学知识不难判断，图一反映的是甲午中日战争，图二反映的是珍珠港事件，其发动者都是日本。

(2) 本题考查解读材料的能力。结合所学知识可知，材料二中的“协议”是指《九国公约》。《九国公约》的签署打破了日本在一战中独霸中国的局面，实际上为美国在中国的扩张提供了方便，使中国回到多个帝国主义国家控制的境地。

(3) 本题考查运用所学知识解决问题的能力。材料三中提到的“中美 25 年没有交往”，主要原因是当时美国对社会主义国家推行冷战政策。促成材料三中这次“握手”的主要因素有中国综合国力的提高和国际形势的变化。

(4) 本题属于开放性题目，言之有理即可。

【答案】 (1) 日本；《马关条约》；太平洋战争爆发，二战达到最大规模。

(2) 《九国公约》；打破了日本在一战中独霸中国的局面，实际上为美国在中国的扩张提供了方便。

(3) 冷战政策；中国综合国力的提高和国际形势的变化。

(4) 和平共处，共同发展，友好互助，加强国际间的合作等。