

## 浙江省宁波市 2018 年中考历史与社会思品真题试题

考生须知：

- 1.全卷分试题卷 I、试题卷 II 和答题卷。试题卷共 4 页，有两个大题，20 个小题。满分为 80 分，考试时间为 90 分钟。
- 2.请将姓名、准考证号分别填写在试题卷和答题卷的规定位置上。
- 3.答题时，把试题卷 I 的答案在答题卷 I 对应的选项位置用 2B 铅笔涂黑、涂满。将试题卷 II 答案用黑色字迹的钢笔或签字笔书写，答案必须按照题号顺序在答题卷 II 各题目规定区域内作答，做在试题卷上或超出答题区域书写的答案无效。

### 试题卷 I

一、选择题（本大题有 15 小题，每小题 2 分，共 30 分。请选出各题中一个符合题意的正确选项，不选、多选、错选均不给分）

1.2018 年 1 月 8 日，国家科学技术奖励大会在京举行。获得 2017 年度国家最高科学技术奖的是（ ）

- A.程开甲 张存浩      B.赵忠贤 屠呦呦      C.于敏 郑哲敏      D.王泽山 侯云德

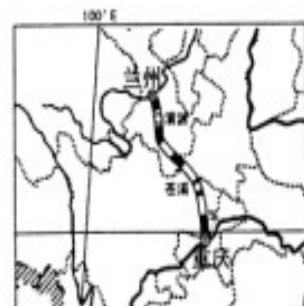
2017 年 9 月 29 日，兰渝铁路全线开通客运。读图，回答 2-3 题。

2.该铁路起止点所在的省级行政区的简称是（ ）

- A.蜀、渝      B.川、陕      C.陇、渝      D.甘、秦

3.下列有关该铁路信息的描述正确的是

- A.全线位于我国的非季风区      B.全线位于我国地势的第一级阶梯  
C.连接黄河上游与长江中游      D.途经黄土高原、秦岭、四川盆地



(第 2、3 题图)

4.习近平总书记在庆祝海南建省办经济特区 30 周年大会上说：“海南经济特区取得的成就是改革开放以来我国实现历史性变革、取得历史性成就的一个生动缩影。”这说明（ ）

- ①我国初级阶段的基本国情发生了变化      ②经济特区是我国改革开放的重要窗口  
③十一届三中全会以来党的政策是正确的      ④改革开放是我国发展进步的活力源泉

- A.①②③      B.①②④      C.①③④      D.②③④

5.公平是社会稳定的“天平”。下列举措能体现公平的有（ ）

- ①实施乡村振兴战略      ②改革收入制度，实现均等分配  
③加强生态文明建设      ④外来务工人员随迁子女在流入地接受义务教育

- A.①②      B.①④      C.②③      D.②④

6.对右边漫画《伸与缩》理解正确的是（ ）

- ①割裂了权利与义务的关系，      ②某些人义务意识淡薄



(第 6 题图)

③公民权利具有广泛性、真实性 ④享受权利是为了更好地履行义务

A.①② B.①③ C.②③ D.③④

十三届全国人大一次会议表决通过了《中华人民共和国宪法修正案》。新修正的《宪法》第二十七条增加一款“国家工作人员就职时应当依照法律规定公开进行宪法宣誓”。回答7-8题。

7.表决通过《中华人民共和国宪法修正案》，这说明全国人大有（ ）

A.监督权 B.立法权 C.决定权 D.任免权

8.《宪法》增加这一条款说明（ ）

①宪法具有最高的法律地位 ②宪法是公民意志利益的体现  
③国家工作人员要依法行政 ④政府的管理和服务要符合法律规定

A.①②③ B.①②④ C.①③④ D.②③④

9.2017年度宁波市上规模小微企业新增数量达881家，平均一天约2.4家小微企业跻身“规模以上企业”行列，创历年新高。这说明（ ）

A.小微企业体现了共同富裕的原则 B.非公有制经济充满生机与活力  
C.公有制经济是我国经济制度的基础 D.小微企业是推动经济发展的主导力量

10.2018年3月1日，习近平总书记给浙江省余姚市梁弄镇横坎头村全体党员回信，勉励他们传承红色基因，努力建设富裕、文明、宜居的美丽乡村。这有利于（ ）

①实现共同富裕 ②践行社会主义核心价值观  
③弘扬民族精神 ④建立平等互助的民族关系

A.①②③ B.①②④ C.①③④ D.②③④

11.历史地图是展现前人活动与地理空间结合的重要资料。对右边历史地图反映的历史事件理解正确的是（ ）



(第11题图)

A.1940年，德国突袭法国，法国兵败国降  
B.1940年，敦刻尔克大撤退，英法为反攻保存力量  
C.1940年，不列颠之战，英军痛击德军  
D.1944年，诺曼底登陆，盟军开辟欧洲第二战场

12.“及至始皇……吞二周而亡诸侯，履至尊而制六合”。秦始皇为“制六合”采取的措施是（ ）

A.确立皇帝制、实行三省六部制 B.建立刺史制、统一文字

C.实行郡县制、统一度量衡和货币

D.推行内阁制、颁布严苛律令

	史实	结论
①	西汉设置西域都护府	标志丝绸之路开辟
②	新航路的开辟	世界开始走向整体
③	议会通过《权利法案》	君主立宪制在英国确立
④	南昌起义	开辟了中国特色革命道路

13.中国历史上有许多处理民族关系的成功

举措。下列属于清朝的举措有（ ）

①册封达赖和班禅 ②设立宣政院 ③大规模推行“改土归流”④设置伊犁将军

A.①②③                      B.①②④                      C.①③④                      D.②③④

14. 右边表格中由史实推出的结论合理的是 ( )

	史实	结论
①	西汉设置西域都护府	标志丝绸之路开辟
②	新航路的开辟	世界开始走向整体
③	议会通过《权利法案》	君主立宪制在英国确立
④	南昌起义	开辟了中国特色革命道路

A.①②                      B.②③

C.①④                      D.②④

15. G20峰会、APEC会议、金砖国家领导人会晤、上海合作组织峰会……这些活动反映了 ( )

①和平与发展是当今世界的时代主题      ②国际社会合作不断加强

③各国消除了矛盾并形成利益共同体      ④世界多极化格局已经形成

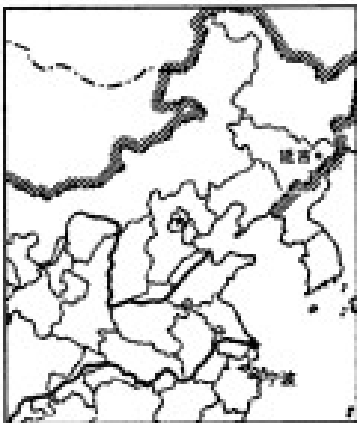
A.①②                      B.①④                      C.②③                      D.②④

### 试题卷 II

二、非选择题 (本大题有 5 小题, 共 50 分)

16. (10 分) 根据中共中央和浙江省委统一部署, 宁波市和吉林省延边朝鲜族自治州 (州行政中心驻地延吉市) 建立对口扶贫协作关系, 进行精准扶贫。阅读材料, 回答问题。

材料一: 中国局部政区图



材料二: 宁波土地为丘陵山地与平原面积约各占一半, 农作物种植以水稻为主; 延边土地为“八山一水半草半分田”, 农作物种植以玉米、大豆等旱作物为主。

材料三: 2017 年, 宁波投入对口帮扶资金 5000 万元, 用于延边的教育、医疗等民生设施项目建设; 谋划推进共建产业示范园项目, 建成人参深加工等健康产业集聚区; 开通与延吉的直航航线; 为延边开办培训班, 培训扶贫干部、致富带头人。

(1) 延吉位于宁波的什么方向? 你判断的方法是什么? (2 分)

(2) 结合材料一、二, 从自然条件的角度, 分析宁波与延边种植农作物差异的主要原因。 (4 分)

(3) 根据材料三, 归纳宁波对延边精准扶贫的举措。 (2 分)

(4) 你认为宁波对延边进行扶贫有什么意义? (2 分)

17. (10 分) 历史认识是人们对历史事物的描述、看法和评价。阅读材料, 回答问题。

【看图说史】洋务运动部分图片资料




江南制造总局



轮船招商局



京师同文馆



赴美留学幼童

(1) 根据图片提示的信息阐述洋务运动的目的。(2分)

【读文析史】洋务运动后，一些有识之士认识到，学习西方并不是引进“坚船利炮”那么简单，他们开始寻求新的强国之道……

(2) 列举 19 世纪末 20 世纪初有识之士寻求“新的强国之道”的历史事件及主张。(4分)

【综合评史】有人说洋务运动是失败的，也有人说洋务运动是成功的。

(3) 你的观点是什么？请说明理由。(4分)

18. (10分) 历史发展可以从不同角度进行概述、划分、标识。阅读材料，回答问题。

中国近现代史大事年表(部分)			
1840—1842年	鸦片战争	1931年	“九一八”事变
1894—1895年	甲午中日战争	1945年	日本宣布无条件投降
1900年	八国联军侵华	1949年	中华人民共和国成立
1911年	武昌起义	1956年	三大改造基本完成
1919年	“五四”运动爆发	1978年	中国共产党十一届三中全会召开
1921年	中国共产党成立	2017年	中国共产党第十九次全国代表大会召开

(1) 依据所提供的年表，从“屈辱史”的角度，概述中国近代久经磨难的历史。(4分)

(2) 从中华民族独立、复兴的角度，可以将中国近现代史划分为若干历史阶段。依据所提供的年表，请写出其中一个历史阶段的名称、开始的标志性事件及该阶段主要特征。(4分)

(3) 结合中国近代以来历史发展的脉络，谈谈你的感想。(2分)

19. (10分) 2018年1月5日，安徽合肥发生一起“女子罗某扒门阻拦高铁发车”事件，罗某因涉嫌“非法拦截列车、阻断铁路运输”，最终被公安机关处以2000元罚款。某校901班就此事在班内组织了一次讨论，以下是三位同学的发言。阅读材料，回答问题。



- (1) 你认同王丽的说法吗？说明理由。（4分）
- (2) 材料中部分网友的行为有何危害？针对这一行为，分析《网络安全法》的法律作用。（4分）
- (3) 结合上述材料，我们青少年应该如何加强自律？（2分）

20. (10分) 阅读材料，回答问题。

材料一：2017年10月18日，党的十九大在北京召开。报告指出，中国特色社会主义进入了新时代，这是我国发展新的历史方位。新矛盾、新目标、新思想……十九大报告“新意”盎然。

- (1) 材料一中的“新矛盾”、“新目标”分别是什么？（3分）

材料二：1962年，国家林业部经过充分调研论证和科学的规划设计，建立河北塞罕坝林场，组织数百名务林人开始种植树木。经过三代塞罕坝人的努力，运用覆膜保水、人工林大径级材培育等方式，营造出112万亩的世界上面积最大的一片人工林，将森林覆盖率从12%提高到80%。创造了荒原变林海的绿色奇迹。2017年12月5日，中国塞罕坝林场建设者获得2017年联合国环保最高荣誉——“地球卫士奖”。

- (2) 根据材料二，分析塞罕坝创造绿色奇迹的原因，完成下面图示内容。（3分）

- (3) 塞罕坝创造绿色奇迹给我们实现“新目标”有哪些启示？并从协调人口、资源、环境与发展关系的角度加以分析。（4分）

历史与社会 思想品德

一、选择题（本大题有 15 小题，每小题 2 分，共 30 分。请选出各题中一个符合题意的正确选项，不选、多选、错选均不给分）

题号	1	2	3	4	5	6	7	8	9	10	11	12	13	14	15
答案	D	C	D	D	B	A	B	C	B	A	D	C	C	B	A

二、非选择题（本大题有 5 小题，共 50 分）

16. (1) 东北。面向地图，上北下南，左西右东（或一般定向法）。（2分）

(2) 宁波属亚热带季风气候区，年降水量和热量充足，有大面积平原水田，以种植水稻为主；延边属温带季风气候区，年降水量和热量相对偏少，多山地丘陵，以种植玉米、大豆等旱作物为主。（4分）

(3) 从资金扶贫、产业扶贫、人才扶贫等方面归纳。（2分）

(4) 有利于实现共同富裕；有利于区域优势互补；有利于促进民族团结等。（2分）

17. (1) 利用西方先进的科技，维护清朝统治。（2分）

(2) 戊戌变法，主张实行君主立宪制；辛亥革命，主张实行民主共和制；新文化运动，向西方学习民主科学的思想。（4分）

(3) 观点 1：洋务运动是失败的。（1分）理由：洋务运动没有挽救清政府在甲午中日战争中惨败的命运；没有使中国走上富国强兵的道路。（3分）观点 2：洋务运动是成功的。（1分）理由：引进西方科技促进了中国近代工业的产生和发展；对外国的经济侵略起到了一些抵制作用；培养了一批对西方事务认识较为深刻的人才。（3分）观点 3：既有成功的一面又有失败的一面。（1分）可整合上述理由。（3分）

18. (1) 鸦片战争后《南京条约》签订，中国开始沦为半殖民地半封建社会；甲午中日战争后《马关条约》签订，大大加深了中国半殖民地化程度；八国联军侵华战争后《辛丑条约》签订，中国完全沦为半殖民地半封建社会；1931-1945 年日本侵华战争给中国带来了巨大灾难。（4分）

(2) 例 1：新民主主义革命时期；1919 年“五四”运动；中国共产党领导反帝反封建斗争并取得胜利。例 2：社会主义初级阶段；1956 年三大改造完成；确立社会主义基本制度。例 3：社会主义现代化建设新时期；1978 年十一届三中全会召开；改革开放。（4分）

(3) 中华民族迎来了从站起来、富起来到强起来的伟大飞跃；只有中国共产党才能救中国，只有社会主义才能发展中国等。（从中华民族独立、富强、复兴等角度发表感想，2分）

19. (1) 不认同，罗某的行为是一般违法行为。（1分）她的行为社会危害程度较轻，违反了行政管理法律法规，受到了行政处罚。（3分）

(2) 部分网友的行为侵犯了他人的隐私权，影响了社会的稳定等。（2分）法律具有规范和保护作用，

《网络安全法》规范了公民网络行为，同时也保护了公民个人信息。（2分）

（3）加强道德修养，提高辨别是非的能力，做一个有道德的人；树立法律意识，依法自律，做一个守法的人。（2分）

20.（1）人民日益增长的美好生活需要与不平衡不充分的发展之间的矛盾。到 2035 年，基本实现社会主义现代化；到本世纪中叶，把我国建设成富强民主文明和谐美丽的社会主义现代化强国。（3分）

（2）国家的组织与支持；科学的论证与规划；三代人的艰苦创业；林业新科技的运用等。（3分）

（3）坚持可持续发展理念，人口、资源、环境与发展问题，是一个相互作用、相互依赖的统一整体，绿水青山就是金山银山；坚持科教兴国战略，科学技术是第一生产力，运用现代科技，合理开发利用资源有效保护环境；坚持艰苦奋斗的精神，撸起袖子加油干，幸福是靠奋斗出来的，增强我们建设美丽中国的使命感和责任感。（4分）