

## 选择题——统一国家的建立（七上）

### 第9课 秦朝的统一

1、（2009·山东济宁）右图反映的是（ ）

- A.西周疆域
- B.秦朝疆域
- C.西汉疆域
- D.西晋疆域

答案：B



2、（2009·福建龙岩）秦始皇堪称“千古

对中国历史最大的贡献是（ ）

- A.统一文字、货币和度量衡
- B.统一全国车辆两轮间的距离
- C.修建了雄伟的万里长城
- D.建立起我国第一个统一的中央集权国家

答案：D

3、（2009·成都）观察右图，秦朝规定的全国通行的统一货币应是

（ ）

- A.“半两”钱
- B.“五铢”钱
- C.开圆通宝
- D.布币

答案：A



4、（2009·苏州）我国自古就有“三皇五帝”的传说，后来皇帝成为了封建国家最高统治者的称谓。请问它的出现与谁有直接关系？（ ）

- A.秦始皇嬴政
- B.汉武帝刘彻
- C.唐太宗李世民
- D.元世祖忽必烈

答案：A

5、（2009·山东威海）山东琅琊台刻石是始皇二十八年丞相李斯为秦始皇歌功颂德而作，刻石上的文字为秦统一全国后使用的文字。该文字为（ ）

- A.甲骨文
- B.金文
- C.小篆
- D.大篆

答案：C

6、（2009·湖南衡阳市）右图的秦代砖文为“海内皆臣，岁登成熟，道毋饥人，践此万岁”。其中“海内皆臣”所反映的历史信息



主要是（ ）

- A．疆域辽阔，人口众多
- B．国家一统，中央集权
- C．法律严苛，覆盖全国
- D．交通发达，经贸昌盛

答案：B

7、（2009·湖北宜昌）“六合之内，皇帝之土。西涉流沙，南尽北户。东有东海，北过大夏。人迹所至，无不臣者。”这是秦始皇于公元前 219 年东巡所作琅邪石刻中的一段文字。

这段文字表达的信息是（ ）

- A．统一度量衡
- B．统一思想
- C．统一文字
- D．统一六国

答案：D

8、（2009·汕头）对于秦统一六国这段历史的认识，错误的是（ ）

- A．秦的统一顺应了历史发展的潮流，但其过程也不无血腥与残暴
- B．对秦国来说，其对外战争既是不断扩张、兼并的过程，也是逐渐统一的过程
- C．在统一的过程中，秦王嬴政的个人素质具有重要作用
- D．秦国主要依靠嬴政的雄才大略取胜，完成统一大业的历史功绩首先应归功于嬴政

答案：D

9、（2009·长沙）中国历史上的第一个皇帝是（ ）

- A．黄帝
- B．禹
- C．秦孝公
- D．秦始皇

答案：D

10、（2009·佛山市）“分天下以为三十六郡，郡置守、尉、监。”《史记》所载这项措施的颁布者是（ ）

- A．商鞅
- B．秦始皇
- C．汉武帝
- D．北魏孝文帝

答案：B

11、（2009·福建莆田）秦始皇规定以秦国货币为标准样式，统一全国货币，其货币的样式是（ ）



A

B

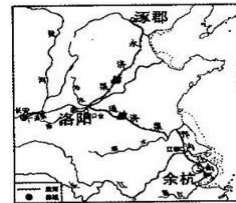
C

D

答案：A

12、（2009·福州市）小刚在收集历史资料时发现了右图，与该图信息密切相关的是

- A、长城 B、都江堰  
C、赵州桥 D、隋朝大运河



答案：D

### 第10课 秦末农民起义


1、（2009·福建泉州安溪）秦始皇统治时期。市场上鞋子没人买，拐杖却是抢手货，这说明（ ）

- A.秦朝统一全国，生活安定 B.秦朝法律残暴  
C.当时市场竞争激烈 D.日常生活提倡文明礼貌

答案：B

2、（2009·重庆綦江县）仔细观察右图，它所代表的历史事件是（ ）

- A．城濮之战 B．巨鹿之战  
C．大泽乡起义 D．牧野之战



答案：C

3、（2009·河南）经典诵读已成为当今中国人传承历史文化的重要方式。《三字经》中“嬴秦氏，始兼并。传二世，楚汉争。高祖兴，汉业建”所包含的朝代顺序是（ ）

- A．秦---->西汉 B．西汉---->东汉 C．东汉---->三国 D．三国---->西晋

答案：A

4、（2009·辽宁锦州）我国历史上第一次农民大起义是（ ）

A. 陈胜、吴广起义      B. 黄巾起义      C. 李自成起义      D. 太平天国运动

答案：A

### 第 11 课 汉武帝的文治武功

1、（2009·浙江义乌）汉武帝加强中央集权统治（ ）

A. 直接任免地方官员      B. 让地方举荐人才选用官员  
C. 以人为镜 重用官员      D. 采用科学制度选拔官员

答案：B

2、（2009·江苏淮安）汉武帝雄才大略，他在位时期，颁布“推恩令”，实行“罢黜百家，独尊儒术”的主要目的是（ ）

A. 加强中央集权      B. 排斥异己      C. 放权于侯国      D. 平定叛乱

答案：A

3、（2009·长沙）为了实现大一统，汉武帝在思想上采取的措施是（ ）

A. 大兴文字狱      B. “罢黜百家，独尊儒术”  
C. 削弱诸侯国的势力      D. 将铸币权和盐铁经营权收归中央

答案：B

4、（2009·福建莆田）小华同学出生于 1994 年，该年所属的世纪和年代是（ ）

A. 19 世纪 80 年代      B. 19 世纪 90 年代      C. 20 世纪 80 年代      D. 20 世纪 90 年代

答案：D

5、（2009·湖南常德）电视连续剧《汉武大帝》热播后，很多人对汉武帝的文韬武略有了基本了解，其治国核心思想源于（ ）

A. 法家思想      B. 道家思想      C. 儒家思想      D. 墨家思想

答案：C

6、（2009·扬州）汉武帝是我国历史上一位杰出的皇帝，下列史实与汉武帝有关的是（ ）

① 推行“罢黜百家，独尊儒术”政策      ② 颁布“推恩令”

③ 强化监察制度      ④ 设置西域都护

A. ①③④      B. ①②④      C. ①②③      D. ②③④

答案：C

7、（2009·湖北黄冈）汉武帝为实行“大一统”采取了许多措施，其中整理财政的措施是（ ）

- A.断绝研读儒家以外学说的人求取功名利禄之路 B.招收“弟子员”、铲除“异姓王”  
C.国家统一铸币，盐铁官营 D.颁布推恩令，设河西四郡

答案：C

8、（2009·福建惠安）秦始皇、汉武帝都是杰出的封建帝王。但他们在处理以下某方面问题时态度截然相反，这个问题是（ ）

- A.国家统一 B.外族骚扰 C.中央集权 D.儒家思想

答案：D

## 第12课 张骞通西域

1、（2009·黔东南州）西汉后期人们的餐桌上可以享用的蔬菜有（ ）

- ①胡萝卜 ②大蒜 ③番茄 ④黄瓜 ⑤马铃薯

- A.①②③ B.④⑤ C.①②④ D.③⑤

答案：C

北京奥运会开幕式呈现给世界一场精彩绝伦的视觉盛宴。书画汉字、丝绸之路等“中国元素”淋漓尽致地展现了中国深厚的文化。为此，张艺谋奥运导演团队荣获2008年CCTV感动中国人物。

2、（2009·浙江湖州）材料中的丝绸之路最早开辟于（ ）

- A.秦朝 B.汉朝 C.唐朝 D.宋朝

答案：B

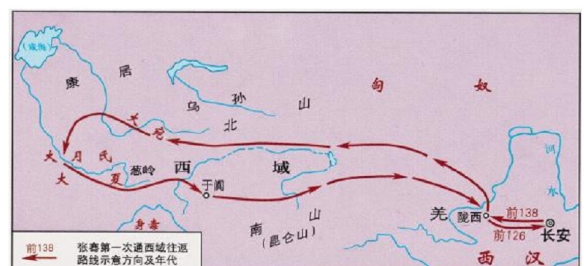
3、（2009·成都）当代史学研究者评价汉代开辟的“丝绸之路”时称“在长达一千多年的时间里，它把黄河文明、恒河文明、两河文明和希腊文明等诸多人类文明最重要的起源地串联在了一起，被喻为世界历史展开的主轴。”指出这一“主轴”的起点是（ ）

- A.东汉的洛阳 B.西汉的长安 C.汉代的成都 D.元朝的大都

答案：B

4、（2009·重庆綦江县）右图是张骞出使西域示意图，今天我国的哪一地区在古代完全属于西域地区？（ ）

- A.西藏地区 B.新疆地区  
C.内蒙古地区 D.东北地区



答案：B

5、（2009·南京）下列历史事件与汉武帝有关的是（ ）

A. 昭君出塞 B. 张骞出使西域 C. 文成公主入藏 D. 蒙恬负责修筑长城

答案：B

6、（2009·江苏宿迁市）“张骞说：我通；班超说：我也通。卫青说：我打；霍去病说：我也打。”这句诙谐有趣的话所反映的史实是（ ）

A. 通西域，北击匈奴 B. 通吐蕃，南击南蛮  
C. 通夷洲，西击党项 D. 通南中，东击东胡

答案：A

7、（2009·湖南衡阳市）由右面的历史短剧台

词片断，可知他们正在学习（ ）

A. 张骞出使西域 B. 郑和下西洋  
C. 清军出兵雅克萨 D. 玄奘印度取经

小华：送人千里，终有一别。陛下请回吧！

小明：爱卿，此去西域凶险异常。然匈奴一日未了，则国无宁日。望卿不辱使命，早去早回。

答案：A

8、（2009·湖南娄底）古诗有云：“羌笛何须怨杨柳，春风不度玉门关。”可西汉张骞不畏雄关险阻，为丝绸之路的开辟作出了重要贡献，丝绸之路的正确路线是（ ）

A. 长安→河西走廊→今新疆境内→安息→大秦  
B. 长安→河西走廊→安息→今新疆境内→大秦  
C. 洛阳→安息→河西走廊→今新疆境内→大秦  
D. 洛阳→河西走廊→今新疆境内→安息→大秦

答案：A

9、（2009·安徽）安徽萧县、怀远和宁国分别有葡萄、石榴和核桃等特产。这些物种最先由西域传入中原是在（ ）

A. 秦朝 B. 汉朝 C. 唐朝 D. 宋朝

答案：B

10、（2009·山东泰安）公元前后，在右图中这条要道的东西两端各有一个重要的文明古国，它们分别是（ ）



- A. 大汉帝国和罗马帝国                      B. 西周王朝和罗马共和国  
 C. 大汉帝国和古代希腊                      D. 东周王朝和雅典

答案：A

11、（2009·山东滨州）下图是中国古代的东西方文化交流路线图，19世纪德国地理学家希霍芬称之为“丝绸之路”。这一路线最早出现于（ ）



- A. 秦朝                      B. 西汉                      C. 东汉                      D. 唐朝

答案：B

12、（2009·湖南耒阳）汉武帝两次派谁出使西域？（ ）

- A. 霍去病                      B. 班超                      C. 张骞                      D. 张謇

答案：C

### 第13课 两汉时期的对外交流

1、（2009·江苏宿迁市）宗教是对社会现实虚幻的反映，也是一种信仰和文化。下列哪一现象反映了佛教传入后对中国的影响？（ ）

- A. 使用公元纪年法                      B. 在洛阳建造白马寺  
 C. 端午节吃粽子、划龙舟                      D. 圣诞节前人们互赠圣诞贺卡

答案：B

2、（2009·福建晋江）下列图片，与产生于我国的宗教相关的是（ ）



- A．开元寺      B．清净寺      C．老君岩      D．灵山圣墓

答案：C

3、（2009·湖北黄冈）中学生丁恣和丁澄为完成老师布置的“学习与探究”活动开展了历史考察，他俩考察了下列四大建筑，其中属佛教建筑的是（ ）

- A.陕西韩城太史祠      B.河南洛阳白马寺  
C.四川成都青城山      D.福建泉州老君像

答案：B