

湖南省郴州市 2017 年中考历史真题试题

本试卷共 8 页，有四道大题，共 34 题，满分 100 分，考试时间 90 分钟。

一、选择题（本大题共 20 道小题每小题 2 分，共 40 分。每小题只有一个正确的答案）

1. 商鞅变法废除了旧制度，促进了农业生产，提高了军队战斗力，为秦国以后兼并六国、统一中国打下了坚实基础。下列措施中对战斗力提升帮助最大的是

A. 承认土地私有，允许自由买卖 B. 奖励耕战 C. 推行县制 D. 重农抑商

2. 下列物品出现在中国不同的时期。按时间顺序排列正确的是


①筒车 ②司母戊鼎 ③《天工开物》 ④“交子” ⑤麻沸散

A. ⑤②①④③ B. ②⑤①③④ C. ②⑤①④③ D. ⑤②①③④


3. 颜直卿是唐朝著名书法家，他的书法字体饱满，用笔肥厚粗拙，内含筋力。下列属于颜真卿的作品是



A.



B.



C.



D.

4. 由于参加科举考试需要巨大的投入，一些家族常常聚资支持子弟读书，以求光宗耀祖。到明朝时南方人在科举考试中逐渐占有优势。造成这种南北不平衡的原因是

A. 朝廷有意打压北方读书人 B. 北方人重视务农，对科举考试热情不高
C. 经济重心南移 D. 南方人更聪明，更容易考中

5. 李鸿章在上海联合洋枪队镇压太平军时，感叹西方国家“大炮之精纯，子药之细巧，器械之最明……实非中国所能及。”材料反映洋务派主张学习西方的

A. 民主思想 B. 政治制度 C. 军事技术 D. 风俗习惯

6. 1901 年清政府被迫与帝国主义国家签订了《辛丑条约》。该条约

A. 使中国开始沦为半殖民地半封建社会 B. 使中国的半殖民地程度加深了
C. 使中国的半殖民地程度大大加深了 D. 使中国完全沦为半殖民地半封建社会

7. 1923 年，陈独秀说：“五四运动虽然未能达到理想的成功，而在此运动中努力的革命青年，遂接受世界的革命思想，由空想而实际行动，开始了中国革命之新的方向。”材料中所说的“世界的革命思想”指的是

A. 维新思想 B. 三民主义 C. 马克思主义 D. 毛泽东思想

8. 1934年11月6日的晚上，三位女红军借宿在湖南省郴州市汝城县沙洲村的徐解秀家，四个人盖着她床上的一块烂棉絮和一条女红军自带的棉被。第二天红军要开拔了，三位女红军把她们仅有的一条棉被剪了一半给徐解秀……”这感人的故事发生在

A. 北伐战争时期 B. 长征时期 C. 抗日战争时期 D. 解放战争时期

9. 郴州市的苏仙岭被誉为“天下第十八福地”，是远近闻名的旅游景点。在1938年曾有一位发动了西安事变的爱国将领被软禁于此，他是

A. 张学良 B. 张治中 C. 张自忠 D. 李宗仁

10. 胡老师上历史活动课，准备了如下四副图，你觉得活动课的主题应该是



图一 杨靖宇（东北抗日联军第1军军长兼政委）



图二 八路军与民兵配合 摧毁正太铁路



图三 卢沟桥和守卫卢沟桥的中国第29军士兵



图四 侵华日军代表在南京向何应钦（右）递交投降书

A. 八年抗战 B. 十四年抗战 C. 正面战场 D. 敌后战场

11. 下表从一个方面反映了中国民族资本主义的发展状况，造成这种状况的主要原因是

中国轮船统计表

年份	船只	吨位	其中千吨以上轮船	
			船只	吨位
1928	1352	290 791	117	213 482
1930	2792	415 447	138	247 969
1932	3456	577 257	178	342 211
1935	3895	675 173	208	461 812

A. 辛亥革命推翻了清朝的统治 B. 一战期间，帝国主义放松了对中国的经济侵略

C. 国民政府推行了一系列发展经济的措施 D. 全面抗战时期运输物资的需要

12. 托马斯·卡伦德曾写道：“在历史的某个时刻，在欧洲狭窄的一隅，生活着五百万陆地和海岛居民，他们所拥有的自然资源极其匮乏，却创造了最原创、最绚丽的文化、商业、社会秩序和政治……成为西方文明的摇篮。”材料反映的是

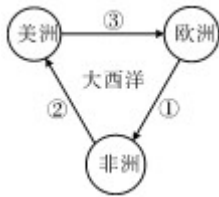
A. 古希腊文明 B. 古罗马文明 C. 不列颠文明 D. 阿拉伯文明

13. 十四世纪发源于意大利的文艺复兴，“是一场人类相信自己有能力驾驭自然并通过自己的努力完善自身的世俗运动”。该运动均背景是

A. 启蒙运动的兴起 B. 欧洲资本主义萌芽的出现

- C. 新航路的开辟 D. 工业革命的爆发

14. 右图是三角贸易示意图，其中②处船上运输的应该是



- A. 廉价商品和枪支弹药 B. 黄金白银 C. 生产原料 D. 黑人奴隶
15. 英国资产阶级革命、美国独立战争和法国大革命的共同历史影响是
- A. 都推翻了本国的封建专制制度 B. 都促进了本国的资本主义发展
- C. 都推翻了外国的殖民统治 D. 都沉重打击了欧洲封建势力
16. 2016年8月31日，国务院、中央军委批准新建郴州民用机场。机场建成后郴州人远行将有一种更高速、便捷的选择，请问人们能乘坐飞机出行得益于
- A. 莱特兄弟 B. 卡尔·本茨 C. 富尔敦 D. 史蒂芬孙
17. 世界上已知的最古老的水稻田位于被称为“中国第一古城”的遗址中，该遗址是
- A. 彭头山遗址 B. 城头山遗址 C. 玉蟾岩遗址 D. 高庙遗址
18. 湖湘文化的开启者是
- A. 屈原、贾谊 B. 刘发、吴芮 C. 马殷、马希 D. 刘备、孙权
19. 被誉为“再造民国第一人”的是
- A. 宋教仁 B. 黄兴 C. 蔡锷 D. 左宗棠
20. 沈从文是我国著名的文学家，他的代表作品是
- A. 《山乡巨变》 B. 《太阳照在桑干河上》 C. 《暴风骤雨》 D. 《边城》

二、判断题（对的打“√”，错的打“×”。本大题共 10 小题，每小题 1 分，共 10 分）

21. “封侯非我意，但愿海波平”是明朝抗倭英雄戚继光的豪迈诗句。
22. 三大战役中，解放华北全境的战役是辽沈战役。
23. 1997年7月1日，香港顺利回归祖国。
21. 日本的大化改新，标志着日本从奴隶社会开始向封建社会过渡。
25. 殖民扩张和掠夺是英国最早成为资本主义工业强国的重要条件之一。
26. 1861年，沙俄政府在废除农奴制的法令中规定，农奴在获得“解放”时，可以无偿得到一块土地。
27. 萨拉热窝事件是第二次世界大战的导火线。
28. 1942年1月，美、英、苏、中等 26 个国家在华盛顿签署了《联合国家宣言》，标志着世界反法西斯同盟正式建立。

29.湘南起义的主要领导人是朱德、陈毅。

30.湖南的地方剧种丰富多彩，有湘剧、花鼓戏、祁剧、豫剧等。

三、材料解析题（本大题共2小题，其中第31题12分，2每3么题12分，共24分）

31.（12分）小兰有记学习笔记的好习惯，她常在笔记中记载一些学习生活中碰到的问题，请你帮她解答。

材料一 今天学校进行学籍注册，我的籍贯填的是湖南省郴州市，而同桌乌兰雅的籍贯填的是内蒙古自治区阿拉善左旗。为什么湖南是省而内蒙古却是自治区呢？

(1)自治区设立的依据是什么？（2分），

材料二 乌兰雅成天把“成吉思汗”这个名字挂在嘴边，总在我们面前炫耀自己是成吉思汗的后代，并以此为荣！成吉思汗是谁呀？乌兰雅为什么这么崇拜他？

(2)请你简要介绍成吉思汗。（4分）

材料三 由于乌兰雅的到来，班主任决定在班上召开一次以民族团结为主题的班会。安排我定言，我该说些什么呢？

(3)请你帮小兰找出中国古代有关民族团结的史实。（6分）

32.（12分）法制建设随着时代进步不断完善，是人类文明的标志之一。阅读下列材料，回答问题。

材料一 右图中的石柱记载了古代两河流域地区的一部法典。它严格保护奴隶主的利益，把奴隶看做主人的工具和财产，不属于人的范围，因而不给予保护。如：杀死或伤害奴隶，不算犯罪，只须向主人赔偿损失；拐带、帮助奴隶逃跑或窝藏奴隶者，都要处以死刑等。

——摘编自岳麓版《世界历史》九年级上册



(1)根据材料一并结合所学知识，写出这部法典的名称。（2分）

材料二 第一条凡未经议会同意，以国王权威停止法律或停止法律实施之僭越权力，为非法权力。…

第四条 凡未经议会准许，借口国王特权，为国王而征收，或供国王使用而征收金钱，超出议会准许之时限或方式者，皆为非法。……

第六条 除经议会同意外，平时在本王国内征募或维持常备军，皆属非法。……

——摘编自《权利法案》

(2)根据材料二归纳出英国《权利法案》的内容。(4分,不能照抄原文)

材料三 1979年我国颁布了一部法律,1997年又对它作了较大的修订。该法律明确规定了罪刑法定、法律面前人人平等和罪刑相当等三个基本原则。针对改革开放以来的新情况,新法律对经济领域中的犯罪、黑社会和恐怖活动的犯罪作了明确的规定,加大了打击力度。这就有效地保证了社会主义现代化建设的顺利进行。

——摘编自岳麓版《中国历史》八年级下册

(3)根据材料三写出这部法律完整的名称。这部法律对社会主义现代化建设起了什么作用?(4分)

(4)上述三则材料反映了人类法制建设的一个什么趋势?(2分)

四、探究题(本大题共两小题,其中第33题14分,第34题12分,共26分)

33.(14分)在波澜壮阔的历史长河中,总会有一些伟大人物推动着社会向前发展。九年级(1)班的历史兴趣小组搜集了以下资料,请你一同进行探究。

材料一 秦朝初年,丞相王绾和廷尉李斯在实行何种地方行政制度问题上,形成了两种不同的意见。丞相王绾言:“诸侯初破,燕、齐、荆地远,不为置王,毋以填之。请立诸子,唯上幸许。”廷尉李商议曰:“周文武所封子弟同姓甚众,然后属疏远,相攻击如仇讎(chóu),诸侯更相诛伐,周天子弗能禁止。今海内赖陛下神灵一统,皆力郡县,诸子功臣以公赋税重赏赐之,甚足易制。天下无异意,则安宁之术也。”

——摘编自《文记·秦始皇本纪》

(1)假如你穿越时空来到秦朝,请你实地考察秦始皇在地方!推行了什么行政制度?并作简要评价。(4分)

材料二 1927年,毛泽东在湘赣边界地区发动了秋收起义。在进攻长沙途中,损失巨大。于是毛泽东决定放弃攻打长沙,转向农村进军。1928年初,井冈山革命根据地初步形成。

——摘编自岳麓版《中国历史》八年级上册

(2)历史兴趣小组的同学把中国革命道路的探索与俄国十月革命道路进行了联系和比较,制作了如下表格,请亿、参与到该历史兴趣小组中来,写出①所代表的革命道路。(2分)

革命名称	实际情况	革命道路
十月革命	城市工人阶级力量强大。	城市中心论
新民主主义革命	城市是反动统治的中心，敌人力量强大； 农村广阔，广大农民有革命要求，便于发展革命力量。	①

材料三 美国经济危机中，一方面是银行停业，农产品和工业产品大量过剩，另一方面是广大劳动人民失业，过着饥寒交迫的生活。面对危机，罗斯福开始推行新政。1933年3月，国会通过《紧急银行法案》，让有偿付能力的银行尽快开业，对缺乏资金的银行进行改组。接着成立联邦储蓄保险公司，保证5000美元以下存款的安全。不到一周，全国有314的银行复业，银行存款迅速增加。1933年，政府与农场主签订合同，犁掉小麦、棉花各1000多万英亩、以及玉米900多万英亩，政府购买和屠宰了2300多万头牛、600多万头生猪，将其当作肥料。这些措施对控制农产品产量、恢复农产品价格和复苏农业起了一定作用。

——摘编自岳麓版《世界历史》九年级下册

(3)请你协助兴趣小组的同学们做一个关于罗斯福新政的成果展示。(6分)

改革领域	改革内容	新政特点

(4)综合上述材料，你认为秦始皇、毛泽东和罗斯福在决策上有什么共同点？(2分)

34. (12分) 经济全球化是指商品、技术、信息、服务、货币、人员等生产要素跨国跨地区的流动，是当代世界经济的重要特征之一，也是世界经济发展的重要趋势。

材料一 随着工商业的发展和资本主义萌芽的成长，西欧各国的统治者和形成中的资产阶级都渴望从东方获取黄金、白银和贵重商品。而这时，东西方之间的交通要道被奥斯曼土耳其控制，贸易受阻，西欧人开始寻找通往东方的新航路。

新航路的开辟使孤立、分散的世界走向整体发展，经济全球化的雏形开始出现。

——摘编自岳麓版《世界历史》九年级上册

(1)根据材料一，归纳新航路开辟的原因是什么？(4分)

材料二 现代科学技术的发展，在世界范围形成了巨大的生产力，随着信息时代的到来，世界各国的经济联系日益密切，经济全球化的趋势日益加强。

1998年世界贸易组织的成员已从最初的76个增加到132个，几乎所有发达国家和大多数发展中国家都已经加入了该组织……随着跨国公司的扩张，“麦当劳化”、“好莱坞化”、“迪斯尼化”、“商业连锁”

等风行世界。

——摘编自岳麓版《世界历史》九年级下册

材料三



英国首相特雷莎·梅



美国总统特朗普

困扰欧洲的难民危机和财政危机使英国人为自保而决定退出欧盟；美国总统特朗普竞选时为争取选民支持提出“美国优先”的贸易保护主义口号，一时间使“逆全球化”言论甚嚣尘上，经济全球化的前景令人堪忧。

——培漏自《人民日报》

(2)根据材料二和材料三并结合所学知识，说明经济全球化趋势不可逆转。(4分)

材料四 2013年，习近平主席在哈萨克斯坦和印度尼西亚提出共建丝绸之路经济带和21世纪海上丝绸之路，即“一带一路”倡议。穿越千年、绵延万里的古老丝路因习近平主席的倡议而重返全球视野。4年来，全球100多个国家和国际组织积极支持和参与“一带一路”建设，联合国大会和联合国安理会等重要决议也纳入“一带一路”建设内容。2017年5月14日——15日召开的“一带一路”国际合作高峰论坛有包括29位外国元首和政府首脑在内的来自130多个国家和70多个国际组织的1500多人参会，达成多项共识，成果丰硕。

——摘编自《人民日报》2017年5月16日

(3)我国现在推行的“一带一路”建设有何意义？(4分)

郴州市 2017 年初中毕业学业考试试卷历史试题

参考答案及评分标准

一、选择题（本大题共 20 小题，每小题 2 分，共 40 分）

1-5:BCACC 6-10:DCBAB 11-15:CABDB 16-20:ABACD

二、判断题（对的打“√”，错的打“×”。共 10 小题，每小题 1 分，共 10 分）

21.√ 22.× 23.√ 24.√ 25.√ 26.× 27.× 28.√ 29.√ 30. ×

三、材料解析（本大题共 2 小题，第 31 题 12 分，第 32 题 12 分，共 24 分）

31. (12 分) (1)民族区域自治制度 (2 分)

(2)成吉思汗是蒙古族的部落首领，13 世纪初他统一了蒙古各部。（4 分，或答 1206 年蒙古各部推举他为大汗，尊称为成吉思汗，蒙古汗国建立）

(3)唐朝：唐太宗时，文成公主入藏嫁给松赞干布；唐中宗时金城公主入藏嫁给尺带珠丹；821 年吐蕃与唐朝会盟；唐太宗赦免突厥首领颉利可汗；唐太宗开明的民族政策受到北方各族的拥护，被尊为“天可汗”；

元朝：形成一个新的民族——回族；

清朝：顺治册封达赖五世为“达赖喇嘛”；康熙册封班禅五世为“班禅额尔德尼”；雍正正在拉萨设驻藏大臣；
(任答出一点给 2 分，满分 6 分。其他答案符合题意，言之有理可酌情给分)

32. (12 分) (1)《汉莫拉比法典》 (2 分)。

(2)内容：未经议会同意，国王无权废除法律或停止法律的执行；未经议会准许，国王不能征税；国王不能在和平时期招募军队或维持常备军。（任答出一点给 2 分，满分 4 分）

(3)《中华人民共和国刑法》 (2 分)。作用：有效地保证了社会主义现代化建设的顺利进行。（2 分，其他答案符合题意、言之有理可酌情给分）

(4)法制建设随着时代进步不断完善（或奴隶不受法律保护→国王权力受到制约→法律面前人人平等）；法制建设的长期性和艰巨性；依法治国。（2 分，其他答案符合题意、言之有理可酌情给分）

四、探究题（本大题共 2 小题，第 33 题 14 分，第 34 题 12 分，共 26 分）

33. (14 分) (1)制度：郡县制 (2 分)。评价：有利于秦朝加强中央集权；有利于维护国家统一和稳定。

(任答出一点给 2 分，其他答案言之有理可酌情给分)

(2)农村包围城市，最后夺取全国胜利的道路。（或答“工农武装割据”，2 分）

(3)

改革领域	改革内容	新政特点
------	------	------

金融业（银行）	改革银行制度，恢复银行信用。	国家干预经济。（或政府加强对经济的干预）
农业	整顿农业。（政府限制主要农产品的生产，销毁过剩的农产品，由政府给予补偿）	

金融业（银行） 改革银行制度，恢复银行信用。（2分）

农业整顿农业。（政府限制主要农产品的生产，销毁过剩的农产品，由政府给予补偿）（2分）

新政特点：国家干预经济。（或政府加强对经济的干预，2分）

(4)实事求是；从实际出发。（任答出一点给2分，其他答案言之有理可酌情给分）

34 .（12分）(1)资本主义的萌芽；西欧各国的统治者和资产阶级对黄金白银的渴望；奥斯曼土耳其帝国

控制了东西方的陆路交通。（任答对一点给2分，满分4分）

(2)世界各国的经济联系日益密切；以轮船、飞机为代表的交通工具的发明和使用，使人员、物资的流通更加便利；通讯技术的发明和改进，使世界联系越来越紧密；计算机的发明和使用，使人类进入信息时代；互联网的广泛使用，使人类进入网络时代；跨国公司的实力日益增强。（任答出一点给2分，满分4分，其他答案言之有理可酌情给分）

(3)有利于世界经济全球化的健康发展；为世界发展提供中国机会；有利于相关国家基础设施的建设与完善，也有利于相关国家经济的发展；互利共赢；互惠互利等等。（任答出一点给2分，满分4分，其他答案言之有理可酌情给分）