

# 黑龙江省龙东地区 2015 年初中毕业学业统一考试



## 历史试题

一、单项选择题（每小题只有一个正确选项，每题 2 分，共 40 分）

1. 过上农耕生活的原始居民已经会建造房屋。右图所示，居住在該样式房屋中的原始居民分别是（ ）



- A. 元谋人和半坡人                      B. 元谋人和北京人  
C. 河姆渡人和北京人                    D. 河姆渡人和半坡人
2. 2015 年 3 月，国务院发布《推动共建丝绸之路经济带和 21 世纪海上丝绸之路的愿景与行动》，建设“一带一路”。西汉时期为开辟丝绸之路作出重要贡献的是（ ）  
A. 张骞                      B. 卫青                      C. 蒙恬                      D. 霍去病
3. 近年来穿越剧受到青少年的青睐。穿越时空，回到隋朝，你可能看到和听到（ ）  
① 家住余杭的张兄坐船游大运河来到涿郡 ② 寒门书生王某通过科举考试获得官职  
③ 松赞干布与文成公主成婚 ④ 东京商业区内，人们用交子购买生活用品  
A. ①②③④                      B. ①②                      C. ③④                      D. ②③④
4. “五年一小庆，十年一大庆。”今年是下列哪些历史事件 110 周年纪念（ ）  
① 废除科举制 ② 京张铁路的修建 ③ 中国同盟会成立 ④ 陈独秀在上海创办《青年杂志》  
A. ①②③④                      B. ①②③                      C. ①②                      D. ③④
5. 我国化学工业的主要奠基人之一，被称为“世界制碱权威”（ ）  
A. 侯德榜                      B. 李四光                      C. 冯如                      D. 詹天佑
6. 以往人们穿着长袍马褂，梳着长辫子，相互交谈和通信多称呼对方为大人、老爷。易服饰、剪发辫、改称呼等礼节出现在（ ）  
A. 太平天国运动期间                      B. 洋务运动期间  
C. 辛亥革命期间                      D. 戊戌变法期间
7. 毛泽东是一位划时代的伟人，是一代伟大的革命领导人中出类拔萃的一位。下列与毛泽东有关的历史事件（ ）  
① 建立新中国 ② 遵义会议 ③ 带领中国人民走上社会主义道路  
④ 中国共产党成立 ⑤ 重庆谈判 ⑥ 中共七大。  
A. ①②③④⑤⑥                      B. ②③④⑤⑥                      C. ①③④⑤⑥                      D. ①②④⑤⑥
8. 不同时代的宣传画体现了不同的时代风貌。下面两幅宣传画出现在哪一运动时期（ ）



- A. 农业合作化运动                      B. 农业集体化运动                      C. 文化大革命运动                      D. “大跃进”运动
9. 为了加快少数民族地区的发展，缩小东西部地区之间的贫富差距，扩大内需，党中央实行


( )

A.可持续发展战略      B.西部大开发战略      C.放宽政策      D.搞活经济政策  
 10.改革开放后，我国逐渐形成了一个全方位、多层次、宽领域的对外开放格局。下列表述正确的是（ ）

- A.经济特区--沿海开放城市--沿海经济开放区--内地
- B.经济特区--沿海开放城市--经济三角洲--内地
- C.沿海经济开放城市--经济特区--沿海经济开放区--内地
- D.经济三角洲--经济特区--沿海经济开放区--内地

11.“跳槽”、“打破铁饭碗”、“人才招聘会”、“上岗资格制度”等流行语突出反映了改革开放以来我国（ ）

- A.人民生活水平的提高      B.医保制度的建立
- C.就业制度的变化      D.综合国力的提升



12.右图文化成就的发明创造者是古代（ ）

- A.中国人    B.印度人    C.波斯人    D.阿拉伯人

13.阿拉伯民间的一部故事集，生动描绘了阿拉伯帝国丰富的社会生活

- A.《俄狄浦斯王》      B.《天方夜谭》      C.《伊利亚特》      D.《奥德赛》

14.1992年，联合国教科文组织主张以“两个大陆相遇500年”为主题的纪念活动，以纪念（ ）

- A.哥伦布到达美洲      B.达·伽马到达亚洲
- C.迪亚士到达非洲      D.麦哲伦船队环球航行

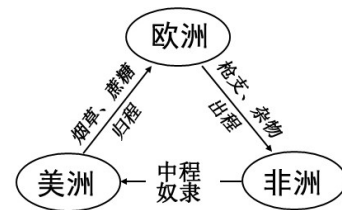
15.沪宁城际、京津城际、京沪等高铁运营通畅，标志着我国步入高速铁路时代。饮水思源，火车的发明者是（ ）

- A.史蒂芬孙      B.瓦特      C.哈格里夫斯

D.富尔顿

16.马克思说：“在欧洲以外直接靠掠夺、奴役和杀人越货而夺取的财宝，源源流入宗主国，在这里转化为资本。”观察右图，最能体现这一内容的（ ）

- A.丝绸之路      B.佛教传播
- C.新航路开辟      D.“三角贸易”



17.欧仁·鲍狄埃创作的《国际歌》是全世界无产阶级的革命战歌，它鼓舞全世界无产阶级为自己的解放继续战斗。这首歌创作的背景是（ ）

- A.马克思主义诞生      B.巴黎公社失败      C.英国宪章运动      D.法国大革命

18.他的作品反映了19世纪俄国的社会现象，被列宁称为“俄国革命的镜子”，他是（ ）

- A.列夫·托尔斯泰      B.莎士比亚      C.伏尔泰      D.贝多芬

19.马克思说：“南北之间的矛盾不是别的，而是两种社会制度之间的斗争。”仔细观察右图，美国南北矛盾的焦点（ ）

- A.国内市场问题      B.关税问题
- C.奴隶制存废问题      D.生产原料问题



20.抓住关键词，从材料中提取有效信息是学习历史的有效方法之一。与“列宁”“斯莫尔尼宫”“阿芙乐尔号巡洋舰”“冬宫”有关的历史事件是（ ）

- A.彼得格勒武装起义    B.“五月流血周”    C.俄国二月革命      D.苏联成立

二、组合列举题（每小题1分，共7分）

21.根据提示写出相应的历史人物。（4分）

(1)世界上第一次把圆周率的数值精确到小数点后7位数的科学家\_\_\_\_\_

(2)洋务派在中央的代表\_\_\_\_\_

(3)“解放军的好战士”\_\_\_\_\_

(4)被称为“发明大王”\_\_\_\_\_

22.根据提示写出相应的历史事件。(3分)

(1)思想性和艺术性结合得相当完美,代表了明清小说的最高成就\_\_\_\_\_

(2)我国独立自主外交政策的完整体现,标志着中国外交政策的成熟\_\_\_\_\_

(3)标志着日本从奴隶社会向封建社会的过渡\_\_\_\_\_

三、辨析改错题(每小题2分,共8分)

23.指出下列表述中的错误,并加以改正。

(1)《南京条约》从法律上肯定了黑龙江和乌苏里江流域,包括库页岛在内的广大地区都是中国领土。

错误:\_\_\_\_\_改正:\_\_\_\_\_

(2)中国近代最早的一所体制完备的高等学府是京师同文馆。

错误:\_\_\_\_\_改正:\_\_\_\_\_

(3)粉碎林彪反革命集团,标志着“文化大革命”的结束。

错误:\_\_\_\_\_改正:\_\_\_\_\_


(4)《权利法案》是法国大革命的纲领性文件,核心内容是人权与法制。

错误:\_\_\_\_\_改正:\_\_\_\_\_

四、史料解析题(24题5分,25题5分,26题10分,27题5分,共25分)

24.材料一:鸦片“危害甚巨,法当从严”,若放任自流,数十年后“中国几无可以御敌之兵,且无可以充饷之银”。人民痛感鸦片危害,强烈要求禁烟。

材料二:北京西郊,青山绿水,风景优美。清朝几代帝王调集全国的能工巧匠,历时150年,在这里建造起中西结合、豪华壮观的皇家园林。这座皇家园林却在第二次鸦片战争中被洗劫一空(见右图)。



材料三:钓鱼岛问题的由来始于近代史上日本对中国领土的侵略。1895年1月14日,日本政府不等战争结束便迫不及待地通过“内阁决议”,单方面决定将钓鱼岛划归日本。

材料四:中国赔偿白银4.5亿两;拆毁北京至大沽的炮台,准许各国派兵驻守北京至山海关铁路沿线要地;划定东交民巷为“使馆界”,界内不许中国人居住,由各国派兵保护,清政府保证严禁人民参加反帝活动。

阅后请回答:

(1)依据材料一,禁烟运动的领导人是谁?(1分)

(2)标志着中国近代史开端的历史事件是什么?(1分)

(3)根据材料二,这座皇家园林名称是什么?(1分)

(4)追根溯源,根据材料三,钓鱼岛问题源于哪场战争?(1分)

(5)材料四是哪一条约的内容?(1分)

25.材料一:“这是一次人类从来没有经历过的最伟大的、进步的变革,是一个需要巨人而且产生了巨人——在思维能力、热情和性格方面,在多才多艺和学识渊博方面的巨人的时代。”

材料二:十八世纪的法国,人民还处于黑暗之中。一些人著书立说,激烈地批判专制主义和宗教愚昧,宣传自由、平等和民主。这是一场反封建、反教会的思想文化解放运动它为资产阶级革命作了思想准备和舆论宣传。

材料三:提倡民主,反对专制;提倡科学,反对迷信;提倡新道德,反对旧道德。提

倡新文学，反对旧文学。斗争锋芒集中指向封建正统思想——孔孟之道。

阅后请回答：

- (1)根据材料一，这场“最伟大的、进步的变革”是指什么运动？这场运动的先驱是谁？(2分)
- (2)材料三是哪场运动的内容？这场运动的主要阵地是什么？(2分)

26. 材料一：某市少年宫举办以“铭记历史”为主题的爱国影片展播。根据海报，你可选择观看下列影片（将代表影片的字母填在相应内容的横线上）。



A B C D

材料二：法西斯国家的侵略对人类的和平构成了严重威胁。在二战中，为应对这一威胁，反法西斯力量联合起来，组建了世界反法西斯同盟。

阅后请回答：

- (1)日军炮轰宛平城，中国军队奋起抵抗。抗日战争全面爆发\_\_\_\_\_。(1分)
- (2)十年内战基本结束，抗日民族统一战线初步形成\_\_\_\_\_。(1分)
- (3)十二届全国人大常委会决定将12月13日设立为国家公祭日。日军在六周之内屠杀三十多万中国军民\_\_\_\_\_。(1分)
- (4)我国每年都在这一天鸣响防空警报。东北三省沦陷\_\_\_\_\_。(1分)
- (5)抗日战争中，中国军队主动出击日军规模最大的一次战役是什么？(1分)
- (6)在抗日救亡运动中，冼星海的哪部作品谱写了时代的最强音？(1分)
- (7)材料二中的世界反法西斯同盟成立的标志是什么？(1分)
- (8)第二次世界大战的转折点？(1分)
- (9)今年是抗日战争及世界反法西斯战争胜利多少周年？(1分)
- (10)抗日战争是近代中国人民第一次取得完全胜利的民族解放战争，它给你留下了什么启示？(1分)

27. 歌曲谱写了时代的最强音：

材料一：“滚滚长江东逝水，浪花淘尽英雄，是非成败转头空，青山依旧在，几度夕阳红”

材料二：“雄赳赳，气昂昂，跨过鸭绿江！保和平，卫祖国，就是保家乡！……”

材料三：“五十六个民族，五十六枝花，五十六个兄弟姐妹是一家.五十六种语言，汇成一句话，爱我中华！爱我中华！爱我中华！”

材料四：“社会主义好，社会主义好，社会主义国家人民地位高，反动派被打倒，帝国主义夹着尾巴逃跑了……”

材料五：“我们唱着东方红，当家做主站起来；我们讲着春天的故事.改革开放富起来”

阅读上述材料请回答：

- (1)奠定三国鼎立基础的著名战役是什么？(1分)
- (2)材料二反映的是哪一历史事件？(1分)
- (3)我国在少数民族地区实行的一项基本国策是什么？(1分)

(4)哪一历史事件的完成，标志着社会主义经济制度在我国的基本建立？（1分）

(5)哪次会议提出了改革开放的总方针？（1分）

五、活动探究题(28题 7分，29题 7分，30题 6分，共 20分)

28.惜秦皇汉武,略输文采；唐宗宋祖，稍逊风骚；一代天骄，成吉思汗，只识弯弓射大雕。俱往矣，数风流人物，还看今朝！

阅后请回答：

(1)“秦皇”和“汉武”为维护封建统治，在思想上分别有什么举措？（2分）

(2)举出唐代两个盛世局面？（2分）

(3)列举宋代居于世界领先的科技成就？（2分）

(4)成吉思汗的主要功绩是什么？（1分）

29.中央电视台第七套节目《聚焦三农》栏目的内容，定位于报道和解析三农的重大问题和热点问题。农业是天下之根本，古今中外各国政府都非常重视农业问题。

材料一：国家承认土地私有，允许自由买卖。奖励耕战，生产粮食布帛多的人，可免除徭役；根据军功大小授予爵位和田宅，废除没有军功的旧贵族的特权。建立县制，由国君直接派官吏治理。

材料二：右图



材料三：“驱除鞑虏，恢复中华，创立民国，平均地权。”

材料四：废除地主阶级封建剥削的土地所有制，实行农民的土地所有制。到 1952 年底，3 亿多无地或少地的农民分到了大约 7 亿亩土地和一定的生产资料。

材料五：

凤阳县农业生产三年三大步、 1980 年产粮 5.02 亿千克 1981 年产粮 6.70 亿千克 1982 年产粮 7.15 亿千克
--

材料六：“废藩置县”，加强中央集权。承认土地私有，允许土地买卖。引进西方技术，鼓励发展近代工业。

材料七：法令规定：农奴在法律上是“自由人”，地主不许买卖农奴和干涉他们的生活；农奴在获得“解放”时，可以得到一块份地，但他们必须出钱赎买。

阅后请回答：

(1)材料一内容出自哪一历史事件？（1分）

(2)材料二图是唐代出现的哪一农业灌溉工具？（1分）

(3)根据材料三，孙中山领导辛亥革命的指导思想中，哪一内容是解决土地问题？（1分）

(4)根据材料四，新中国成立后中央人民政府颁布了什么法令来解决农民的土地问题？（1分）

(5)观察材料五，农村开始富裕，生产迅速增长得益于改革开放后我国政府采取哪一重要措

施？（1分）

(6)材料六是日本历史上哪一次重要改革？（1分）

(7)材料七是俄国历史上哪次改革？（1分）

30. 材料一：“1929年10月24日，美国纽约股票市场突然打了个喷嚏，这个喷嚏迅速蔓延全球，所有资本主义国家都感冒了。”美国股票市场的价格跌到了最低点，世界范围的经济萧条随之而来，而且萧条的强烈程度和延续时间的长久都是空前的。

材料二：战后，美国凭借极摩膨胀的经济军事实力，积极谋求全球霸权。苏联的强大及共产主义影响的扩大，阻碍了美国全球霸权的实现。美国采取除战争以外的一切手段，遏制共产主义，稳定资本主义，这种政策称为“冷战”政策。

阅后请回答：

(1)根据材料一，美国政府面对这场危机采取了什么举措？（1分）

(2)为了转嫁这场危机，德国和日本走上了什么道路？（1分）

(3)根据材料二，冷战政策的具体表现？（3分）

(4)第二次世界大战后，确立的帝国主义国际关系新格局是什么？（1分）

黑龙江省龙东地区 2015 年初中毕业学业统一考试  
历史试题参考答案及评分标准

一、单项选择题（每小题 2 分，共 40 分）

题号	1	2	3	4	5	6	7	8	9	10
答案	D	A	B	B	A	C	A	D	B	A
题号	11	12	13	14	15	16	17	18	19	20
答案	C	B	B	A	A	D	B	A	C	A

二、组合列举题（每小题 1 分，共 7 分）

21. (1) 祖冲之 (2) 奕䜣 (3) 雷锋 (4) 爱迪生  
22. (1) 《红楼梦》 (2) 和平共处五项原则 (3) 大化改新

三、辨析改错题（每小题 2 分，共 8 分）

23. (1) 错误：《南京条约》 改正：《尼布楚条约》  
(2) 错误：京师同文馆 改正：京师大学堂  
(3) 错误：林彪 改正：“四人帮”（江青）  
(4) 错误：《权利法案》 改正：《人权宣言》

四、史料解析题（24 题 5 分，25 题 5 分，26 题 10 分，27 题 5 分，共 25 分）

24. (1) 林则徐 (2) 鸦片战争 (3) 圆明园 (4) 甲午中日战争 (5) 《辛丑条约》

25. (1) 文艺复兴 但丁 (2) 法国启蒙运动 (3) 新文化运动 《新青年》

26. (1) C (2) B (3) C (4) A

- (5) 百团大战  
(6) 《黄河大合唱》  
(7) 《联合国宣言》的签署  
(8) 斯大林格勒战役  
(9) 70 周年

(10) 当代青年要牢记历史，勿忘国耻，为中华民族之崛起而读书，远离战争，热爱和平等等（言之有理即可）

27. (1) 赤壁之战 (2) 抗美援朝 (3) 民族区域自治  
(4) 三大改造 (5) 十一届三中全会

五、活动探究题（28 题 7 分，29 题 7 分，30 题 6 分，共 20 分）

28. (1) 焚书坑儒“罢黜百家，独尊儒术”

- (2) 贞观之治 开元盛世  
(3) 指南针 活字印刷术  
(4) 统一蒙古

29. (1) 商鞅变法 (2) 筒车 (3) 民生

- (4) 《中华人民共和国土地改革法》  
(5) 家庭联产承包责任制  
(6) 1861 年改革（俄国农奴制改革、亚历山大二世改革）

30. (1) 罗斯福新政

- (2) 法西斯道路  
(3) 杜鲁门主义的出台 马歇尔计划的实施 北大西洋公约组织的建立  
(4) 雅尔塔体系（两极格局）