

# 随州市 2021 年初中毕业升学考试

## 一、选择题

1. “君无为则人乐，君多欲则人苦”和“施仁政于民，省刑罚，薄税敛”分别体现了哪两个学术流派的思想

- A. 法家道家                      B. 道家儒家                      C. 儒家墨家                      D. 墨家法家

【答案】 B

【解析】

【详解】道家主张无为思想。“君无为则人乐，君多欲则人苦”体现出道家思想；“施仁政”体现出儒家思想。故 B 符合题意；法家主张依法治国，墨家主张兼爱、非攻思想。排除 A、C 和 D。故选 B。

2. 宋代商业贸易非常繁荣。下列四个选项中能够体现宋代商业贸易发展突破时间限制的是

- A. 商贸活动辐射到乡镇，出现了草市  
B. 在主要港口设立了市舶司  
C. 四川地区出现了纸币交子  
D. 早市和夜市应运而生

【答案】 D

【解析】

【详解】宋代商品经济发展，突破了坊市界限。早市和夜市应运而生体现出商业突破了时空的限制。故 D 符合题意；草市属于民间集市，不是突破时空限制。排除 A；市舶司是管理对外贸易的机构，排除 B；交子属于商品经济发展中货币，排除 C。故选 D。

3. 与下列言论相关的历史事件按照时间先后顺序排列正确的项是

- ①“变者，天下之公理也。”②“探源之策，在于自强。”  
③“国人……则急起直追，当以科学和人权并重”④“建立中华民国，同胞无所差池。”

- A. ②①③④                      B. ②①④③                      C. ①②③④                      D. ①②④③

【答案】 B

【解析】

【详解】“变者，天下之公理也。”是戊戌变法时期梁启超的思想主张；“探源之策，在于自强”是洋务运动时期的主张；“国人……则急起直追，当以科学和人权并重。”是新文化运动时期的主张；“建立中华民国，同胞无所差池。”是辛亥革命时期思想主张。依据时间先后排序，②①④③正确。排除 A、C 和 D。故选 B。

4. 在一次人民解放战角的研究性学习活动中，同学们搜集了很多学习资源，下表中的学习资源与主题完全相符的一组是

序号	资源	名称
①	视频	《飞夺泸定桥》《辽沈战役》
②	图片	《宣传〈中国土地法大纲〉》《渡江战役示意图》
③	文献	《我所知道的党的七天》《转战陕北》
④	遗址	遵义会议遗址 西安事变谈判旧址

- A. ①                                      B. ②                                      C. ③                                      D. ④

【答案】 B

【解析】

【详解】 1947年，中国共产党颁布《中国土地法大纲》，规定没收地主土地，废除封建剥削的土地制度，实行耕者有其田，按照农村人口平均分配土地。1949年4月，人民解放军百万雄师兵分三路，横渡长江，占领南京，结束了国民党在大陆的统治。国民党残余势力退往台湾。②符合题意。故 B 符合题意；飞夺泸定桥是长征时期，排除 A；中共七大是抗战时期，排除 C；遵义会议是国共十年对峙时期，排除 D。故选 B。

5. 在万千中国人忍饥挨饿的困难时期，他选择了射耕稻田；在被问及中国是否可能再次面临粮食危机时，他果断回答：“不可能了！”下列选项中对“他”及其贡献表述正确的是

- A. 他 王进喜，以铁人志制服大庆井喷                                      B. 他是焦裕禄，靠赤子心改变兰考旧貌  
C. 他是邓稼先，用原子弹保卫国家安全                                      D. 他是袁隆平，凭杂交稻端稳中国饭碗

【答案】 D

【解析】

【详解】 袁隆平是成功培育杂交水稻的第一人，获得我国首届最高科学技术奖，同时他也是第一个特等发明奖的获得者，被誉为“杂交水稻之父”。故 D 符合题意；王进喜是石油工人，排除 A；焦裕禄是党的好干部，排除 B；邓稼先是“两弹一星”的元勋，排除 C。故选 D。

6. 构建知识的结构是学习历史的一项基本能力。下面是某同学编制的知识结构示意图，由此判断，他学习的主题是



- A. 近代西方民主政治发展 进程  
B. 提倡民主共和的过程  
C. 近代西方反对君主专制的过程  
D. 反对殖民压迫的历程

【答案】 A

【解析】

【详解】 1689年英国议会颁布《权利法案》，英国君主立宪制确立；美国1787年宪法确立了民主共和制度；1789年《人权宣言》体现出资产阶级自由民主思想。三部法律文献体现出近代西方民主政治发展的进程，故A符合题意；英国是君主立宪制的政体，排除B；美国独立战争是反对英国殖民统治，排除C；英法不是反对殖民统治，排除D。故选A。

7. 近现代以来，科学技术的进步改变了人们的生活方式和生产方式，也改变了世界的面貌。下列关于科技革命的表述，正确的有

①18世纪，现代工厂制度最终确立②爱迪生建立了美国第一座火力发电站

③本茨汽车公司使用流水线生产汽车④工业化使人口越来越集中于城市

- A. ①④  
B. ②③  
C. ②④  
D. ①③

【答案】 C

【解析】

【详解】 第一次工业革命时期产生现代工厂制度。不是18世纪。①排除；1882年9月，爱迪生在纽约建立了世界上第一座发电厂。②正确；福特公司使用流水线生产汽车，③排除；工业化使人口越来越集中于城市。④正确。②④符合题意。排除A、B和D。故选C。

8. “生铁、煤炭、钢、石油总是优先于饮食、住房、医院……工业化加上类似封建管理所付出的代价是灾难性的，对人的漠不关心到了无以复加的地步。”该材料主要说明苏联模式

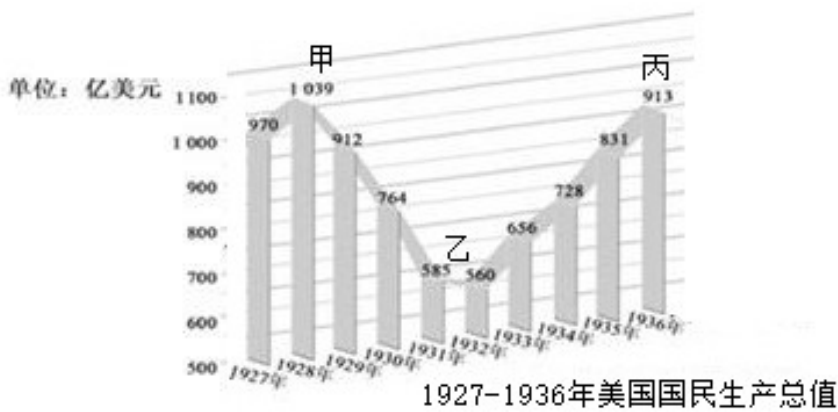
- A. 侧重工业化，忽视了民生幸福  
B. 改变了工业落后的面貌  
C. 促进了苏联经济社会快速发展  
D. 导致苏联农业生产落后

【答案】 A

【解析】

【详解】 根据题干“生铁、煤炭、钢、石油总是优先于饮食、住房、医院……对人的漠不关心到了无以复加的地步。”可知，苏联模式侧重重工业，而忽视了民生幸福。苏联模式优先发展重工业，使农业和轻工业长期处于落后状态，A正确；材料没有涉及改变工业落后的面貌、促进苏联经济快速发展、苏联农业生产落后的内容，排除BCD。故选A。

9. 对图中甲-乙段和乙-丙段数据变化的原因分析正确的是



- A. 经济大危机罗斯福新政
- B. 美国内战罗斯福新政
- C. 第一次世界大战第二次工业革命
- D. 第二次世界大战第二次工业革命

【答案】A

【解析】

【详解】1929-1933年世界性经济危机爆发，经济危机导致工人大量失业。图中甲-乙就是经济大危机导致失业率上升，1933年罗斯福推行新政，实行“以工代赈”，提高了就业率。乙-丙段是指罗斯福新政时期。故A符合题意；美国内战是1861-1865年，排除B；第一次世界大战是1914-1918年，排除C；第二次世界大战是1939-1945年，排除D。故选A。

10. 西方主要资本主义国家的社会保障制度又被称为“福利国家”制度。福利国家的失业者地位都很高，导致有些人不愿意去干活，出现了“主动失业现象”。“主动失业现象”说明

- A. “福利国家”制度缓和了阶级矛盾
- B. 福利国家的社会福利非常优厚
- C. “福利国家”制度存在着定的弊端
- D. 福利国家的劳动者大多懒惰成性

【答案】C

【解析】

【详解】根据题干“福利国家的失业者地位都很高，导致有些人不愿意去干活，出现了‘主动失业现象’”可知，在完善社会保障之下有人选择不进行劳动和工作。说明“福利国家”制度存在着一定的弊端，C正确；“主动失业”反映的是福利国家的弊端，不是缓解了阶级矛盾和社会福利非常优厚，排除AB；福利国家的劳动者大多懒惰成性说法过于夸张，不符合史实，排除D。故选C。

## 二、材料题

11. “中国有礼仪之大，故称夏；有服章之美，谓之华。”“华夏”连称，本义指衣冠华美又重礼仪。华夏作为文化、政治实体，在春秋战国时被周边民族所认同。各族同源共祖 观念得到发展。阅读下列材料，回答相应问题。

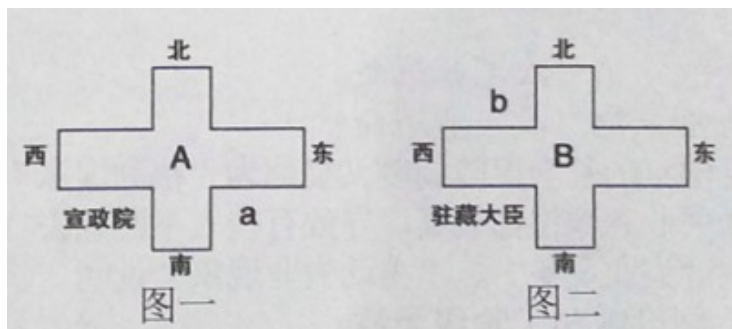
【“中国”认同溯源】

材料一：“秦朝以前，无论名义上如何，中国实际是分裂的，‘诸夏’或‘中国’只是个笼统的概念，并没有确切的范围和实际的组织；到秦朝，‘中国’二字有了具体的表现，它代表着一个庞大的帝国和它的土地、人民。”

---《中外历史纲要（下）》

### 【“中国”管理追踪】

材料二



### 【“中国”情怀定型】

材料三：“现今之中华民族自始本非一族，实由多民族混合而成。”

---梁启超《历史上中国民族之观察》

- (1) 根据材料，结合所学知识回答，为什么说到秦朝才有“中国”这个具体概念？
- (2) 根据材料二判断图一中 A 和图二中 B 分别代表什么朝代。AB 两个朝代为了加强对边疆地区的管辖，分别在 a、b 两地设置了什么管理机构？
- (3) 根据上述三则材料，谈谈你的认识。

**【答案】** (1) 秦朝统一，结束了长期争战混战的局面，建立起我国历史上第一个统一的多民族的封建国家。

(2) A 是元朝；B 是清朝；a 设置的是澎湖巡检司；b 设置的是伊犁将军。

(3) 反对民族分裂，坚持民族平等、民族团结与共同繁荣等。

### 【解析】

**【详解】** (1) 依据材料一“代表着一个庞大的帝国和它的土地、人民”和所学可知，秦朝统一，结束了长期争战混战的局面，建立起我国历史上第一个统一的多民族的封建国家。

(2) 宣政院是元朝时期管理西藏地区事务机构。因此 A 是元朝；驻藏大臣是清朝设置管理西藏地区机构，故 B 是清朝；依据所学可知，元朝在台湾地区社会澎湖巡检司管理；清朝在新疆地区设置伊犁将军进行管理。

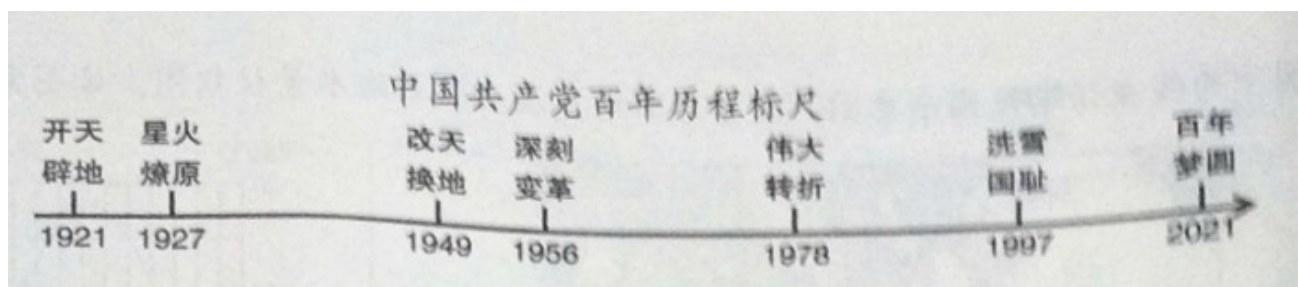
(3) 依据材料的信息和所学从反对民族分裂，坚持民族平等、民族团结与共同繁荣等回答。

12. 100 年的历史证明：中国共产党始终坚持以不断创新领导中国人民为实现民族独立和国家富强而不懈努力。阅读材料，回答下列问题。

材料一“中国现时社会的性质，既然是殖民地、半殖民地、半封建的性质，它就决定了中国革命必须分为两个步骤（阶段）。第一步（阶段），改变这个殖民地、半殖民地、半封建的社会形态使之变成一个独立的民主主义的社会。第二步（阶段），使革命向前发展，建立一个社会主义的社会。

——毛泽东《新民主主义论》（1940年）

## 材料二



### 【新道路】

(1) 根据材料二并结合所学回答，材料一中的“第一步（阶段）”中国找到了一条怎样的正确道路？使中国变成了“一个独立的民主主义的社会”的标志是什么改革开放后，中国又开辟了一条怎样的道路？

### 【新举措】

(2) 根据材料二，结合所学知识回答，“深刻变革”时，什么政策是中国社会主义改意的创举？中国社会主义改造的实质是什么？“伟大转折”后，中国农村改革的措施是什么？

### 【新构想】

(3) 根据材料二和所学知识回答，“洗雪国耻”实践了哪一伟大构想？请结合相关史实谈谈这一构想对推进祖国统一大业所起的巨大作用。中国能够“洗雪国耻”的最主要原因是什么？

**【答案】** (1) 农村包围城市的道路；新中国成立；建设有中国特色的社会主义。

(2) 和平赎买，公私合营；社会主义生产关系的变革；家庭联产承包责任制。

(3) “一国两制”；“一国两制”构想的提出，为实现祖国统一大业指明了前景；“一国两制”构想的提出，为香港和澳门回归祖国开辟了途径；香港、澳门回归祖国，标志我国在完成祖国统一大业的道路上迈出了重要的一步。原因：中国综合实力的提高。

### 【解析】

**【详解】** (1) 1927年10月，毛泽东在井冈山地区创建了第一个农村革命根据地。开辟了农村包围城市，武装夺取政权的道路；1949年，中华人民共和国成立，标志着中国人民推翻了帝国主义、封建主义和官僚资本主义的统治。中国真正成为独立自主的国家；中国人从此站起来了。十一届三中全会是中国提出伟大的改革开放政策，从此中国走上建设有中国特色的社会主义道路。

(2) 从1954年开始，国家对资本主义工商业的社会主义改造，逐步发展为企业的公私合营。三大改造属于社会主义生产关系的变革。三大改造完成实现了把生产资料私有制向社会主义公有制的转变，社会主

义基本制度在我国建立起来。中共十一届三中全会后，党和政府实行改革开放政策。改革从农村开始。农村改革的形式是实行家庭联产承包责任制。

(3) 依据材料二中“洗雪国耻”可知是 1997 年香港的回归。香港回归是“一国两制”理论的成功运用；依据所学可知，“一国两制”构想的提出，为实现祖国统一大业指明了前景；“一国两制”构想的提出，为香港和澳门回归祖国开辟了途径，香港、澳门回归祖国，标志我国在完成祖国统一大业的道路上迈出了重要的一步。依据所学可知，香港能够回归主要原因是中国综合国力的提升。

13. 阅读下列图文材料，按要求写一段历史小短文。

材料一

20 世纪下半叶世博会的主题（部分）

时间	举办地	主题
1964 年	美国 纽约	通过理解走向和平
1970 年	日本 大阪	人类的进步与和谐
1974 年	美国 斯波坎	无污染的进步

—《中外历史纲要（下）》

材料二“世界上真正大的问题，带全球性的战略问题，一个是和平问题，一个是经济问题或者说发展问题。”

——《邓小平文选》第 3 卷

材料三



从上述材料中提炼个观点，并结合材料和所学知识加以论证，（要求：关于材料 认识观点明确，说理有据，表述成文并在 60 字以上。）

**【答案】**观点：和平与发展是时代的主题。

论述：随着世界发展，经济方面表现的是全球化问题，政治体现出的是和平问题。处理全球贸易发展的是世界贸易组织。这一组织的建立促进经济全球化的进一步发展。联合国是维护世界和平与发展的机构。可

见，联合国和世贸组织是维护世界政治和经济发展的机构。

**【解析】**

**【详解】** 本题属于开放题型，首先依据材料中信息提取观点。然后结合所学进行论述。依据材料一、二和三的信息从“和平与发展是时代的主题。”提取观点。论述依据材料信息和所学从联合国和世贸组织成立、职能和对经济发展以及世界和平的作用等分析回答。

