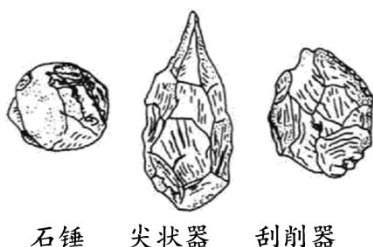


2021年贵州省毕节市中考历史试题

卷 I

1. 下图不同类型的工具，为距今约 70 万~20 万年的北京人所制作。这些工具的制作方法是（ ）



A. 打制 B. 磨制 C. 烧制 D. 炼制

2. 适合作为下列一组材料主题的是（ ）

材 料	出 处
王初并天下，自以为德兼三皇，功过五帝，乃更号曰“皇帝”	《资治通鉴》
御史大夫，秦官，位上卿……掌副丞相	《汉书·百官公卿表》
分天下以为三十六郡，郡置守、尉、监	《史记·秦始皇本纪》

A. 秦灭六国，结束战乱 B. 秦朝法律严苛，赋税沉重
C. 秦朝确立中央集权制 D. 秦朝疆域辽阔，人口众多

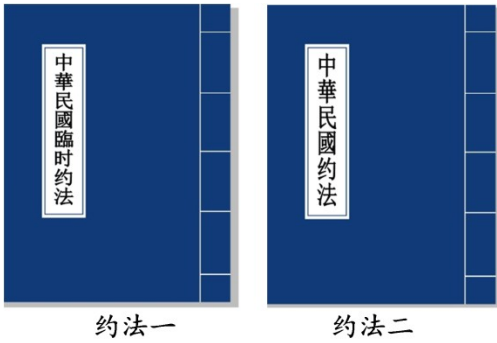
3. 根据《三国志·魏书》等记载，220 年曹操卒于洛阳，葬在邙城（今河南省安阳市郊）。2009 年，国家文物局审核了河南省安阳市高陵墓的考古发掘成果，最终认定高陵墓的墓主为曹操。以上确认高陵墓主为曹操的依据是（ ）

A. 历史文献与考古成果 B. 家族族谱的记载
C. 历史学家的主观判断 D. 安阳的悠久历史

4. 洋务派创办的轮船招商局开张之初只有轮船 3 艘，后来发展到 30 多艘，其经营的国内外运输业务。不但打破了外国轮船公司在中国的垄断地位。还一度兼并了美商的旗昌轮船公司。这段材料说明洋务运动（ ）

A. 启动了近代化运动的进程 B. 在一定程度上抵制了外国资本的入侵
C. 实现了“自强”“求富”的目标 D. 引进培养了大批企业管理和科技人才

5. 识读下图，约法二取代约法一说明了（ ）



- A. 中国反帝反封建的任务已经全部完成
- B. 袁世凯的权力得到了约法的严格约束
- C. 袁世凯窃取革命果实，准备复辟帝制
- D. 近代中国民主与法制取得了重大成就


6. 刘大年《抗日战争时代》一书中记载：从“七七事变”到 1945 年的八年中，日本投入到中国关内战场的陆军，平均每年占总兵力的 76.4%。太平洋战争爆发后。日本陆军主力仍分布在中国战场。中国能牵制日军的大量兵力主要是因为（ ）

- A. 中国战场是日军唯一的战场
- B. 中国拥有先进武器装备
- C. 中国实行全民族的持久抗战
- D. 苏联红军进驻中国东北

7. 1950 年 11 月，美国骑兵第一师师长在与一支中国军队交手后，这样评价对手：“他们没有航空火力支援，也没有远程炮火支援。他们手里拿的是日本二战时的简易武器.但他们在穿插分割中动作极其勇猛。”这支中国军队的名称是


- A. 中国人民解放军
- B. 中国工农红军
- C. 中国人民志愿军
- D. 国民革命军

8. 目前我国正处在社会主义的初级阶段。下图中属于社会主义初级阶段起点的标志性事件是（ ）



- A. A
- B. B
- C. C
- D. D

9. 拓片是将刻在不同材质上的文字、符号、图案等拓印下来的纸片，有很高的历史研究价值。下列古老文字的拓片，可直接用于古埃及文明研究的是（ ）



- A. 象形文字 B. 楔形文字 C. 甲骨文 D. 阿拉伯文字

10. 有学者估计，哥伦布航行美洲 总费用为 200 万马拉维迪（货币单位），而哥伦布个人只筹措了 25 万马拉维迪，不足部分从西班牙国库预支，为此，女王伊莎贝拉还曾打算把她王冠上的珠宝换钱。这说明新航路开辟（ ）

- A. 受到文艺复兴运动影响 B. 得到西班牙王室的支持
C. 使大量财富流入西班牙 D. 使世界连为了一个整体

11. 在古罗马神话里，“阿芙乐尔”是司晨 女神，她唤醒人们，送走黑暗，迎来光明。1917 年 11 月 7 日，“阿芙乐尔号”巡洋舰的炮声迎来的光明是（ ）

- A. 《共产党宣言》发表 B. 二月革命胜利 C. 巴黎公社政权建立 D. 十月革命胜利

12. 通过对下表统计数字的分析，可以直接得出的结论是，两次世界大战（ ）

项目	参战国 (个)	卷入人口 (亿)	参战人员 (亿)	伤亡人数 (亿)	直接经济损失 (亿美元)
第一次世界大战	30 多	15	0.7	0.3	1805
第二次世界大战	60 多	17	1.0	0.9	40000

- A. 都导致了战后世界格局的改变 B. 交战的双方都具有非正义性
C. 都给人类社会造成了深重灾难 D. 都是为摆脱经济危机而发生

卷 II

二、历史材料解析题（共 3 小题，每题 12 分，共 36 分）

13. 唐宋时期，经济繁荣，社会生活丰富多彩。根据相关材料，完成下列学习任务。

任务一：【图片解读——技术进步】



图 1 曲辕犁



图 2 占城稻



图 3 交子

(1) 根据上面图片信息，请分别指出图 1 工具、图 2 作物的特点。并概述图 3 纸币在经济发展过程中的作用。

任务二：【史料解读——社会风貌】

(2) 唐诗和宋代著述对研究唐宋社会状况有重要的参考价值。根据下列问题作答。①杜甫《忆昔》诗句：“忆昔开元全盛日，小邑犹藏万家室。”反映的治世是（ ）

②元稹《法曲）诗句：“女为胡妇学胡装妆，伎进胡音务胡乐。”反映了民族交往对唐朝社会生活产生了哪些方面的影响？（ ）

③吴自牧《梦粱录》：“万物所聚，诸行百市”，“自大街及诸坊巷，大小铺席，连门俱是，即无虚空之屋”。以上从哪几方面记述了宋临安城商业繁荣的景象？（ ）

任务三：【数据解读——社会发展】

唐宋两朝南北方人口对比表

朝代	南方		北方	
	人口	占全国人口比例	人口	占全国人口比例
唐朝天宝年间 742 ~ 756)	2080 万	40%	3120 万	60%
北宋元丰年间 (1078 ~ 1085)	5500 万	65.5%	2900 万	34.5%

——根据邹逸麟，谭其骧《中国历史时期人口的分布和迁徙》整理统计

(3) 上表数据反映了从唐朝到北宋的社会发展出现了怎样的变化趋势？并分析其变化的原因。

14. 马克思主义在中国传播和发展 百年历程，是马克思主义中国化的历程。阅读下列材料，回答相关问题。

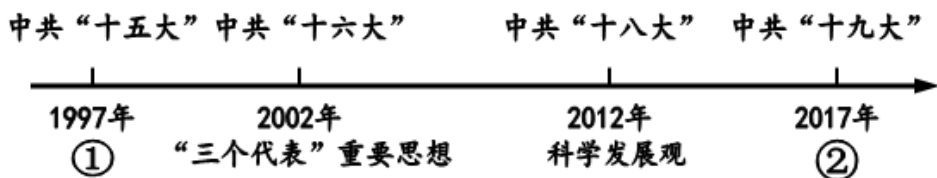
材料一 十月革命前，中国先进分子对马克思主义的介绍多是零星的、片断的……（因为）工人阶级数量很少，还没有形成独立的政治力量，马克思主义在中国尚缺乏肥沃的土壤。

——金冲及《二十世纪中国史纲》

材料二 南昌起义和秋收起义保存下来的武装革命者，在经历了 1927 年的失败之后，于第二年春天汇聚于罗霄山脉的中段，开始了革命在农村的发展……这条道路最初虽然表现为失败后的退却，然而它包含着国情对于革命的制约，因此，它最终又成为一种自觉的选择。



——陈旭麓《近代中国社会的新陈代谢》

材料三 中国特色社会主义理论体系不断完善和发展的示意图。



- 材料一认为，马克思主义在中国 实践需要怎样的土壤（条件）？结合所学知识。指出哪一事件的发生使中国具备了这一土壤（条件）。
- 材料二中的革命者“汇聚于罗青山脉的中段”指的是什么历史事件？“这条道路”指的是什么道路？马克思主义中国化的理论成果——毛泽东思想，在哪次大会上被确立为党的指导思想。
- 根据材料三示意图，写出①②对应的内容。
- 综上所述，概括马克思主义中国化百年历程的基本特点。

15. 识读下面《19 世纪 60 年代俄美两国“废奴”情况表》，回答相关问题。

法令名称	《关于脱离农奴依附关系的农民法令》	《解放黑人奴隶宣言》
	 俄国沙皇 亚历山大二世	 美国总统 林肯
颁布时间	1861 年 3 月 3 日	1862 年 9 月 22 日
法令条文摘录	农民有权赎买他们所住的房屋，并在获得地主同意后，赎买分配给他们长期使用的土地和其附属地作为私产……因为赎买了土地，他们就摆脱了对地主的义务，而成为拥有私产的完全自由的农民。	(南方叛乱地区) 为人占有而做黑奴的人现在和今后永远获得自由；合众国政府将承认并保障这些人的自由。这些人们可参加合众国的军事工作，驻守炮台、阵地、卫戍区域以及其他地区，以及在各种军舰上服役。

- 分别简述俄、美两国废除奴隶制的历史背景。

- (2) 根据表中俄国《关于脱离农奴依附关系的农民法令》条文，俄国农奴的地位发生了怎样的变化？这样的变化是通过什么条件实现的？
- (3) 根据《解放黑人奴隶宣言》，美国南方叛乱地区的黑人奴隶获得了哪些权利？
- (4) 概括俄、美两国废除奴隶制的共同历史意义。

