

## 2015年山东省淄博市中考历史试题

(满分 50 分，考试时间 60 分钟)


第 I 卷 (选择题 共 15 分)

第 I 卷共 15 个选择题，每题 1 分，共 15 分。

(2015·山东淄博) 1. 主张“仁政”治国，按时令进山伐树，对自然资源要持续利用的思想家是 ( )

- A. 老子      B. 孟子      C. 庄子      D. 韩非子

(2015·山东淄博) 2. 下列图片中反映隋唐时期成就是 ( )



- A. 司母戊鼎      B. 地动仪      C. 赵州桥      D. 指南针

(2015·山东淄博) 3. 1899 年，近代民族企业家张謇创办的大生纱厂开车试工，这件事成为轰动一时的新闻。当时这一消息最可能刊载在 ( )

- A. 《万国公报》      B. 《民报》      C. 《新青年》      D. 《申报》

(2015·山东淄博) 4. 读下表，对表格内容解读正确的选项是 ( )

1952 年和 1957 年我国主要工农业产品产量表

年份 \ 产量	粮食 (百万吨)	棉花 (百万吨)	煤 (亿吨)	钢 (百万吨)
1952 年	163.42	1.30	0.66	1.35
1957 年	195.05	1.64	1.31	5.35

- A. 农轻重比例失调      B. 农业生产停滞不前  
C. 实现了国家的工业化      D. 重工业发展成就突出

(2015·山东淄博) 5. 下列措施中，实现了把生产资料私有制转变为社会主义公有制的是 ( )

- A. 土地改革      B. 三大改造      C. 人民公社化运动      D. 新经济政策

(2015·山东淄博) 6. 1958 年《人民日报》报道：福建南安花生亩产 13241 斤。该报道反映了 ( )

- A. 我国农村经济高速发展      B. 农村合作化的优越性  
C. 大跃进运动中浮夸风盛行      D. 文革时期“左”的错误

(2015·山东淄博) 7. 大河流域是人类文明的摇篮。下列文明成果属于两河流域的是 ( )

- A. 金字塔      B. 甲骨文      C. 种姓制度      D. 《汉谟拉比法典》

(2015·山东淄博) 8. 2015 年 1 月 7 日，法国《查理周刊》杂志社遭到一伙武装人员袭击，据说是因为该杂志曾以连环漫画形式讽刺伊斯兰教先知。这位“先知”是 ( )

- A. 释迦牟尼      B. 穆罕默德      C. 耶稣      D. 屋大维

(2015·山东淄博) 9. “人类可以成就伟大的事业”，这句话反映出当时流行的社会思潮是 ( )

A. 人文主义      B. 自由主义      C. 科学社会主义      D. 法西斯主义

(2015·山东淄博) 10. 文献是研究历史的重要依据。下列文献不能为所研究内容提供依据的是 ( )

A. 《权利法案》——英国的君主立宪制      B. 《人权宣言》——法国大革命的序幕  
C. 《独立宣言》——美利坚合众国的诞生      D. 《共产党宣言》——马克思主义的诞生

(2015·山东淄博) 11. “1917年11月7日晚,‘阿芙乐尔号’巡洋舰突然发出了几声炮响,工人、士兵向冬宫发起了猛烈进攻……一场伟大的革命取得了胜利”。这场“伟大的革命”是 ( )

A. 英国宪章运动      B. 法国巴黎公社      C. 俄国二月革命      D. 俄国十月革命

(2015·山东淄博) 12. 2015 年是世界反法西斯胜利 70 周年, 战争最终取得胜利的标志是 ( )

A. 斯大林格勒战役的胜利      B. 德国签署投降书  
C. 日本签署投降书      D. 诺曼底登陆

(2015·山东淄博) 13. 下列图片反映了一个主题, 最恰当的是 ( )

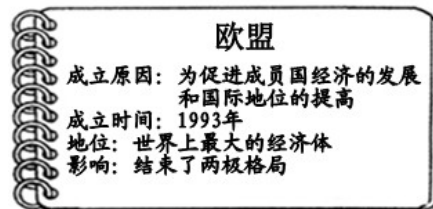


1947 年杜鲁门主义      马歇尔计划      北约的成立      《华沙条约》签字仪式

A. 美国的霸权主义      B. 两极格局的形成  
C. 世界政治格局的多极化趋势      D. 经济全球化趋势的加强

(2015·山东淄博) 14. 右图资料卡关于欧盟的叙述, 错误的是 ( )

A. 成立原因      B. 成立时间  
C. 地位      D. 影响



(2015·山东淄博) 15. 下列有关三次科技革命成果及其影响的组合, 正确的是 ( )

A. 瓦特改进蒸汽机——大工厂生产的发展  
B. 史蒂芬孙的火车机车——水上交通的发展  
C. 电动机的发明——汽车成为交通工具  
D. 计算机网络技术——世界开始出现全球化趋势

### 第 II 卷 (非选择题 共 35 分)

(2015·山东淄博) 16. (11 分) 近代以来, 为实现中华民族的伟大复兴, 无数仁人志士不懈努力。请结合所学知识, 回答下列问题。



图①孙中山  
民主革命的先行者



图②詹天佑



图③邱少云



图④周恩来  
卓越的外交家

(1) 请从下列选项中为图②和图③人物选配上合适的称谓。(2分)

A. 中国铁路之父 B. 中国制碱工业之父 C. 两弹元勋 D. 最可爱的人

(2) 图①人物领导的革命使 20 世纪的中国发生了一次历史性巨变。这次革命的名称和指导思想各是什么?为什么说这次革命是一次“历史性巨变”? (4分)

(3) 图②人物最突出的贡献是什么?图③人物有哪些精神值得我们学习? (3分)

(4) 图④人物在外交领域的卓越成就有哪些?(任举两例,2分)

(2015·山东淄博) 17. (12分) 19 世纪中后期,在世界工业化浪潮的冲击下,中、俄、美三国都发生了巨大的社会变革。请阅读材料,回答下列问题。

材料一 内外交困之下,1860 年 12 月 24 日,咸丰皇帝不得不发布了向西方学习先进技术的第一个“上谕”。……19 世纪 60 年代,以军事工业为主的近代工业出现了,新式海陆军开始筹建,新式学堂一一举办,留学生陆续外派,大清国有了些许新的气象。

——纪录片《复兴之路》

材料二 19 世纪中期,俄国的资本主义工业发展缓慢,落后于其他主要资本主义国家。农奴境况悲惨,暴动频繁。

材料三 美国历史大事年表(部分)

1862 年	林肯颁布了《 <u>A</u> 》
1865 年	美国南北战争以北方胜利告终
1879 年	<u>B</u> 研制成功碳丝灯泡
1890 年	电气设备工厂生产了价值高达 2180 万美元的产品
1894 年	美国工业总产值跃居世界首位

(1) 材料一中的“上谕”开启了哪一运动?运动中出现的“新气象”主要有哪些(任举两例)?该运动对中国近代化进程产生了怎样的积极影响?(4分)

(2) 为改变材料二中的状况,俄国采取了什么措施?这一措施有何重要意义?(2分)


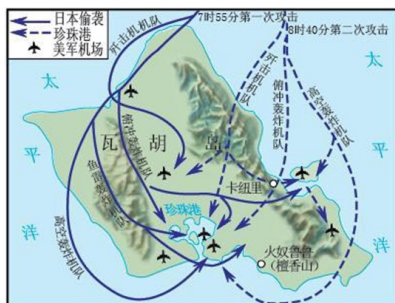
(3) 请将材料三中的 A、B 两个空白处填充弯针。结合年表内容分析 19 世纪末美国工业总产值跃居世界首位的原因有哪些?(4分)

(4) 综合以上分析,谈谈你对这一时期社会变革的认识。(2分)

(2015·山东淄博) 18. (12分) 美日作为亚太地区的世界大国,对于该地区局势的稳定和发展扮演着重要角色。请阅读材料,结合所学知识回答问题。

材料一 在某次会议上,美国国务卿掩饰不住得意之色,说:“多亏了这个条约,对华‘门户开放’终于实现了。”

材料二



图①日本偷袭珍珠港示意图

图②二战后初期美国援助日本的物资

材料三 1972 年日本外相大平正芳在记者招待会上说:“日本跟着美国脚步走的时代已经过去了。”

材料四 近年来,日本在钓鱼岛问题上动作频繁,还联合美国多次举行军演,向周边国家

示强；美国也先后抛出“重返亚太”、“亚太再平衡”等各种名目的新亚太战略……；2014年11月，再亚太经合组织会议上，习近平强调，坚持亚太大家庭精神和命运共同体意识，顺应和平、发展、合作、共赢的时代潮流，共同致力于亚太繁荣进步。

(1) 写出材料一中“会议”、“条约”的名称，此会议有何重要影响？(4分)

(2) 材料二中图①事件有何标志意义？图②表明二战后美国对日政策发生了怎样的变化？变化的主要原因是什么？(3分)

(3) 结合所学知识，分析材料三中日本不愿意“跟着美国脚步走”的原因是什么？这反映了世界格局呈现出怎样的趋势？(3分)

(4) 阅读材料四，结合当今国际形势，你认为中、美、日三国应该如何处理在亚太地区的关系？(2分)

### 参考答案

#### 第 I 卷 选择题

1—5：BCDDB；6—10：CDBAB；11—15：DCBDA；

#### 第 II 卷 (非选择题共 35 分)

16. (1) A；D；(2) 辛亥革命、三民主义。推翻清朝的统治，结束了我国二千多年的封建帝制，使民主共和观念深入人心。(3) 修建京张铁路，革命英雄主义和爱国主义精神，(4) 提出和平共处五项原则；参加万隆会议，提出“求同存异”方针。

17. (1) 洋务运动。江南制造总局、汉阳铁厂，洋务运动出现了近代企业，为中国的近代企业积累了生产经验，培养了技术力量，对中国民族资本主义发展起了促进作用。为中国近代化开辟了道路。(2) 1861年改革，1861年改革是沙皇自上而下实行的资产阶级性质的改革，有利于俄国资本主义的发展，使俄国历史的重大转折点，但也保留了大量的封建残余。(3) A：《解放黑人奴隶宣言》。B：爱迪生。第二次科技革命的影响；废除奴隶制，维护国家统一，促进了资本主义的进一步发展。(4) 资产阶级统治的加强。大力发展科技教育。

18. (1) 华盛顿会议、《九国公约》影响：为美国在中国的侵略扩张提供了方便。(2) 使二战进一步扩大。援助日本。(3) 日本综合国力增强，向多极化方向发展。(4) 远离战争，珍爱和平。加强合作，实现共赢。