

遂宁市 2021 年初中毕业暨高中阶段学校招生考试

文科综合历史部分

文科综合共 160 分，包括道德与法治、历史、地理、生命·生态·安全四部分，考试时间共 140 分钟。历史试卷满分 50 分。

注意事项：

1. 答题前，考生务必将自己的学校、姓名、准考证号用 0.5 毫米的黑色墨水签字笔填写在答题卡上，并检查条形码粘贴是否正确。
2. 回答选择题时，选出每小题答案后，用 2B 铅笔把答题卡上对应题目的答案标号涂黑。如需改动，用橡皮擦干净后，再选涂其他答案标号；回答非选择题时，将答案写在答题卡上，写在本试卷上无效。
3. 考试结束后，将本试卷和答题卡一并交回。

一、单项选择题（每小题 2 分，共 24 分）

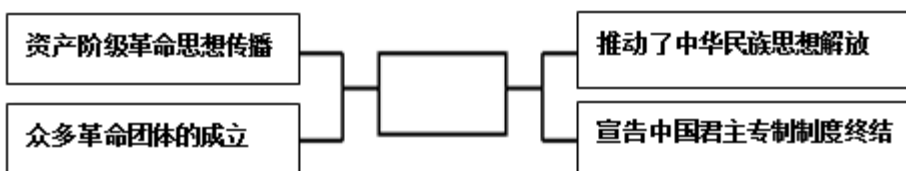
1. 19 世纪中期，率先完成工业革命的英国，凭借坚船利炮轰开了中国大门，中国由此步入近代社会。这场战争后，中华民族面临的新课题是

- A. 加强军队建设，巩固清朝统治
B. 大力发展教育，更新传统文化
C. 维护国家统一，保护传统经济
D. 捍卫民族独立，发展近代文明

2. “我之廉价工人，彼亦得而使用；我之丰富原料，彼亦得而购买，就地制造，就地卖出，运费既省，关税无多，我之便利即彼得便利。”上述现象与《马关条约》哪项内容直接相关

- A. 赔偿日本兵费白银二亿两
B. 允许日本在通商口岸开设工厂
C. 开放沙市、重庆、苏州、杭州为商埠
D. 割辽东半岛、台湾、澎湖列岛给日本

3. 图示法是研究和学习历史常用的方法之一。根据下图所示关联信息判断，中间空白框内应填



- A. 洋务运动
B. 戊戌变法
C. 辛亥革命
D. 五四运动

4. 口号是一定历史时期特殊环境的产物，它能折射出特定历史时期政治、经济等方面的情况。以下是中国共产党在不同时期提出的口号，最有可能出现在 20 世纪 20 年代的是

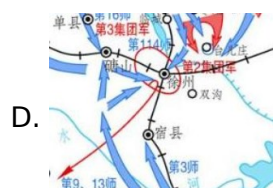
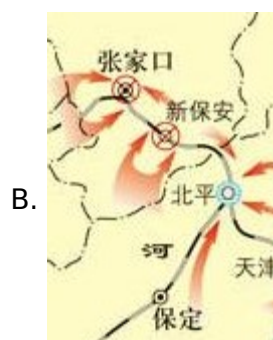
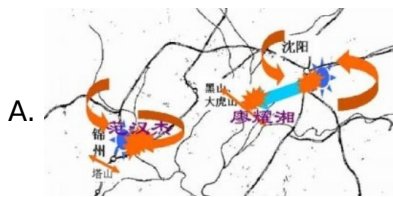
A. 一切反动派都 纸老虎

B. 中国人民站起来了

C. 发展才是硬道理

D. 枪杆子里面出政权

5. 下列四幅形势图所示的战役，采用“关门打狗”战术，解放了东北全境的是



6. 在安徽凤阳小岗村改革的同一年，时任遂宁市蓬溪县群利乡党委书记邓天元在九龙坡村与几名村干部达成一致意见：率先试点田边地角独立耕种，实行“包产到户”。这一做法

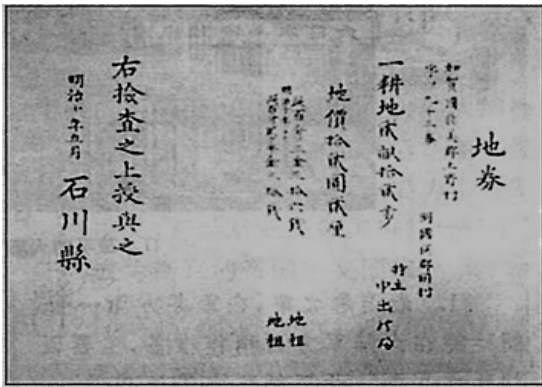
A. 改变了土地所有制现状

B. 增强了企业经营活力

C. 调动了农民生产积极性

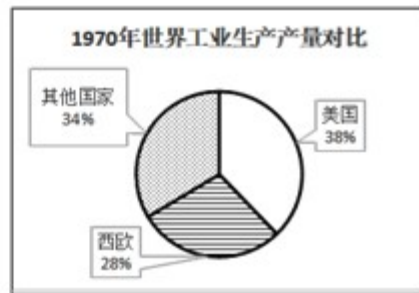
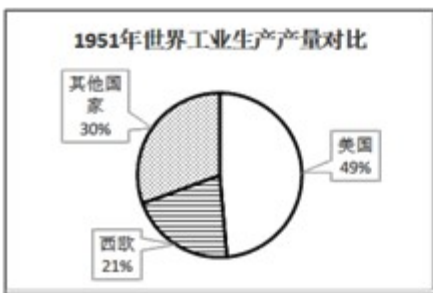
D. 削弱了农业生产能力

7. 在“图说世界改革史”活动中，张成在某博物馆网站上发现了如下文物图片。这一图片可用于介绍明治维新哪一举措



(明治政府颁发的地契)

- A. 废藩置县，加强中央集权
 - B. 推行地税改革，大力发展近代经济
 - C. 实行征兵制，建立新式军队
 - D. 提倡“文明开化”，向西方学习
8. “罗斯福无意发动一场革命，也无意为美国创造一种新的体制机构。相反，他是在设法医治一个资本主义社会的暂时疾病，通过护理使它恢复健康。”材料表明罗斯福新政
- A. 是资本主义内部的一次自我调节
 - B. 实行自由放任的经济模式
 - C. 放松了国家对经济的干预和指导
 - D. 从根本上消除了经济危机
9. 斯大林曾经说过：“这次行动按其计划的周密、规模的宏大和行动的技巧来说，在战争史上还从来没有过类似的先例。”它“迫使希特勒德国在两个战场上同时作战”。斯大林所说的“这次行动”是
- A. 诺曼底登陆战
 - B. 斯大林格勒战役
 - C. 莫斯科保卫战
 - D. 意大利投降
10. 下面两幅图片反映了 1951 年和 1970 年世界工业生产产量比重结构，推动这一时期西欧国家工业生产比重显著增加的重要因素是



- A. 杜鲁门主义推行
 - B. 欧洲一体化发展
 - C. 美国军事订货刺激
 - D. 欧盟的建立
11. 历史事实指的是历史的真实情况，历史观点是分析历史事实的看法和态度。下列选项中属于历史观点的是

- A. 18 世纪末 19 世纪初，玻利瓦尔率领人民由北向南打击西班牙殖民者
- B. 1920 年，甘地号召印度人民开展非暴力不合作运动
- C. 1990 年纳米比亚独立，在非洲人民反殖民主义斗争中具有里程碑意义
- D. 1999 年底，巴拿马收回了巴拿马运河区的全部主权

12. 习近平指出：人类是一个命运共同体，唯有团结协作才能应对各种全球性风险挑战，只要国际社会携手努力就一定能够共克时艰，早日战胜疫情，共同护佑世界各国人民的康宁。下列还需国际社会携手努力，共同应对的问题和挑战有

- ① 全球气候变暖 ② 人口过快增长 ③ 淡水资源丰富 ④ 土地荒漠化

- A. ①③④ B. ①②③ C. ①②④ D. ①②③④

二、非选择题（第 13 题 13 分，第 14 题 13 分，共 26 分）

13. 今年是中国共产党诞生一百周年，习主席指出“我们党的一百年，是矢志践行初心使命的一百年，是筚路蓝缕奠基立业的一百年，是创造辉煌开辟未来的一百年”。以下资料呈现了党在不同历史时期的一些经历，请阅读材料结合所学知识，回答问题。

【苦难中铸就辉煌】

材料一：在漫漫征途中，红军将士同敌人进行了 600 余次战役战斗，跨越近百条江河，攀越 40 余座高山险峰，其中海拔 4000 米以上的雪山就有 20 余座，穿越了被称为“死亡陷阱”的茫茫草地，用顽强意志征服了人类生存极限。红军将士上演了世界军事史上威武雄壮的战争活剧，创造了气吞山河的人间奇迹。

——习近平《在纪念红军长征胜利 80 周年大会上的讲话》

(1) 根据材料一概括红军将士在“漫漫征途”中克服了哪些艰难险阻？（摘抄材料原文不得分）联系所学知识分析，此次征途的胜利对中国革命产生了怎样的影响？

【探索中收获成功】

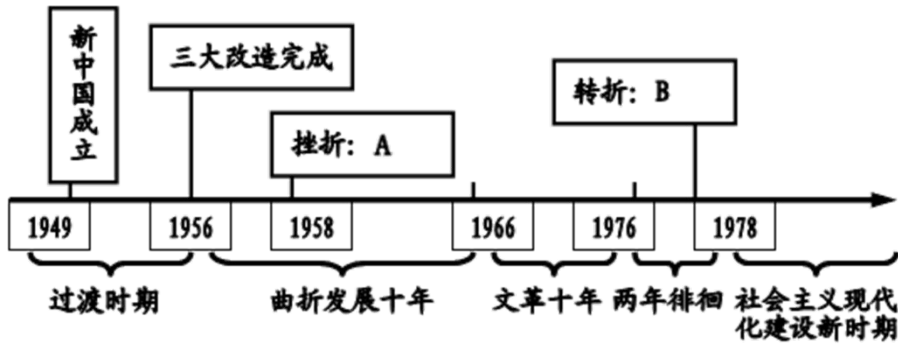
材料二：邓小平同志这样说过，如果没有毛泽东同志，我们中国人民至少还要在黑暗中摸索更长的时间。我们今天同样应当说，如果没有邓小平同志，中国人民就不可能有今天的新生活，中国就不可能有今天改革开放的新局面和社会主义现代化的光明前景。

——江泽民《在邓小平同志追悼大会上的悼词》

(2) 根据材料二联系所学知识回答，围绕中国革命和社会主义建设问题，在毛泽东和邓小平领导下分别成功探索出了适合中国国情的什么道路？

【失误后拨乱反正】

材料三：



(3) 中国革命和建设的道路从来都不是一帆风顺的，请联系相关知识指出图中 A 处挫折所指代的事件？并回答在 B 处转折性历史事件中，我们党做出的历史性决策是什么？

【奋斗后赢得未来】

材料四：2021 年 5 月 28 日至 30 日，中国科学技术协会第十次全国代表大会在北京人民大会堂隆重召开。习近平发表重要讲话强调，在革命、建设、改革各个历史时期，我们党都高度重视科技事业，科技事业在党和人民事业中始终具有十分重要的战略地位、发挥了十分重要的战略作用。



图 1



图 2



图 3

(4) 新中国成立以来，我国科学家胸怀祖国、坚韧不拔、勇攀高峰、追求卓越，在诸多领域都取得了巨大成就，赢得了人民的普遍赞誉。请你写出人们对图 1、图 2 科学家的赞誉称号？并回答图 3 中科学家领导的科研团队取得了怎样的科学成就？



材料五：2021 年 3 月 18 日至 19 日，中美高层战略对话在美国举行，对于美方的“待客之道”，在首次会议的开场白中，杨洁篪严正回应，“美国没有资格居高临下同中国说话，中国人不吃这一套。”右图是

这次战略对话后很多中国人争相转载朋友圈的一张对比图，体现了国人浓浓的民族自豪感！

(5) 从旧中国 屈辱外交到如今外交上的“霸气回应”，你认为中国外交底气显著增强的根本原因是什么？

结合上述材料，谈谈你对中国共产党百年奋斗历程的认识？

14. 变化是世界历史发展的常态，存在着一个从不断的量变到质变的过程，人类文明就是在不断变化的过程中得到丰富和发展的。请阅读材料，回答下列问题。

材料一：直到公元 1500 年以前，大西洋一直是一道栅栏，一个终点。到 1500 年左右，它一变而成为一座桥梁，一个起程点了。

——（美）R.R.帕尔默《现代世界史》

(1) 根据材料并结合所学知识指出引起材料一中重大变化的历史事件是什么？并分析该事件对世界产生的积极影响有哪些？

材料二：文艺复兴运动前，欧洲绘画雕塑中的圣母神态安详、神圣，少有人间之情。而文艺复兴时期米开朗琪罗的作品《哀悼基督》中，圣母是一个容貌端庄、美丽的母亲，她的表情和美是生动的……

(2) 文艺复兴时期米开朗琪罗作品中圣母形象的变化反映了当时的什么社会思潮？

材料三：英国革命的最大成果，也是它在现代民主政治创制试验方面的最大成就，就是创造了一种全新的政体……美国革命的首创性在于……孟德斯鸠“以权力制约权力”的学说在政府体制的设计方面得到较好的贯彻。

——马克垚《世界文明史》

(3) 根据材料联系所学知识，指出英国“全新的政体”是什么？并回答“孟德斯鸠学说”在美国得到贯彻的法律文献？

材料四：观察下图，16—20 世纪地球“变”得越来越“小”，与此同时，世界也发生着天翻地覆的变化，世界历史的内容越来越丰富，世界似乎“变”得越来越“大”。



16世纪至19世纪40年代，马车的最大平均速度每小时10英里。



19世纪50年代至20世纪30年代蒸汽火车，平均每小时65英里。蒸汽轮船，平均每小时36英里。



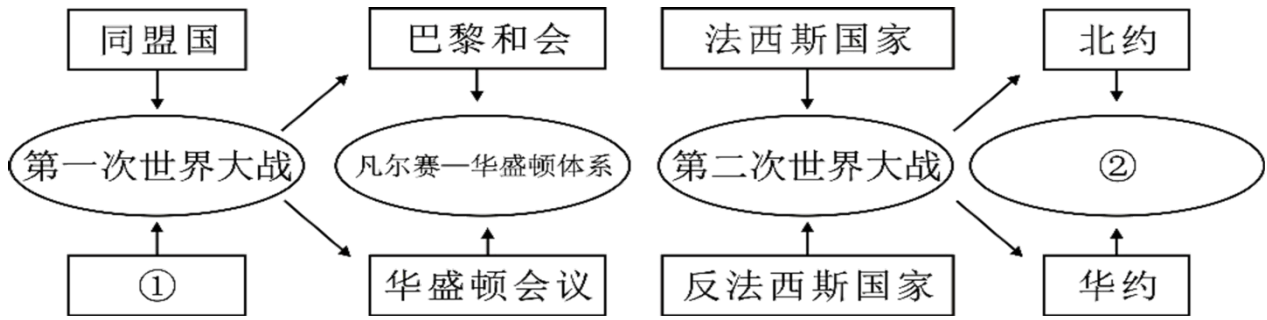
20世纪50年代螺旋桨飞机，每小时300-400英里。



20世纪60年代喷气式客机，每小时500-700英里。

(4) 结合材料及所学知识，分析概括引起材料中“16—20 世纪‘地球由大变小’”的直接因素？

材料五：



(5) 战争是推动国际格局变化的重要因素之一，上图反应了两次世界大战后国际关系格局变化及相关的
影响因素。请根据提示信息，填出①②处对应的内容。

材料六：2019年10月习近平总书记在十九届四中全会中指出：“当今世界正经历百年未有之大变局，
我国正处于实现中华民族伟大复兴的关键时期。”

(6) 面对当前“百年未有之大变局”，我们应如何把握机遇，实现中华民族的伟大复兴？

