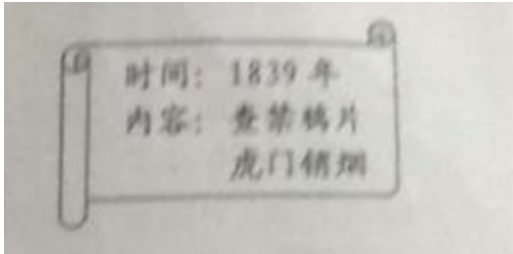


新疆 2018 年中考历史真题试题

一、选择题（本大题共 12 小题，每小题 2 分，共 24 分。在每小题列出的四个选项中，只有一项符合题目要求，请按答题卷中的要求作答。）

1. 中国近代史上英雄辈出，与右图信息点内容有关的民族英雄是（ ）



A. 林则徐 B. 李秀成 C. 左宗棠 D. 邓世昌

【答案】A

【解析】依据图片所给信息“1839 年”、“虎门销烟”，结合所学知识可知，19 世纪上半期，为了开辟海外市场，英国把侵略矛头指向中国。在正常贸易入超的情况下，英国开始向中国走私鸦片。鸦片的输入，给中华民族带来深重的灾难。面对这种情况，以林则徐为代表有识之士主张严禁鸦片，道光帝派林则徐为钦差大臣到广东查禁鸦片。1839 年 6 月，林则徐下令将缴获的全部鸦片，在虎门海滩当众销毁。虎门销烟，是中国人民禁烟斗争的伟大胜利，显示了中华民族反对外来侵略的坚强意志，A 项符合题意；BCD 三项和题干无关。故选 A。

2. 五四运动是新民主主义革命开始的标志。下列发生在新民主主义革命时期的事件，按照时间先后排序正确的是（ ）

① 北伐战争② 西安事变③ 黄埔军校建立④ 重庆谈判

A. ①②③④ B. ③①②④ C. ②③④① D. ②①③④

【答案】B

【解析】依据所学知识可知，①项的时间是 1926 年；②项的时间是 1936 年；③项的时间是 1924 年；④项的时间是 1945 年。所以，按照时间先后排序正确的是③①②④，B 项符合题意；ACD 三项的时间先后排序错误。故选 B。

3. 抗日战争时期，中华民族同仇敌忾，抗击日本侵略者 14 年。其中中国军队主动出击日军的最大规模战役是（ ）

A. 平型关大捷 B. 淞沪会战 C. 台儿庄战役 D. 百团大战

【答案】D

【解析】依据所学知识可知，1940年8月，为粉碎日军对抗日根据地的围攻，八路军总部在彭德怀的指挥下，先后共出动100多个团，向日军发起大规模攻击，史称“百团大战”。它是抗战期间中国军队主动出击日军的最大规模的战役，取得了重大胜利，D项符合题意；A项是日本企图占领太原，八路军在平型关取得了抗战以来的第一次胜利；B项是日本在上海挑起事端，中国军队奋起反击的一次会战；C项是日本向台儿庄发起攻击，国民党军队在李宗仁指挥下取得的最大的一次胜仗。由此可知ABC三项都不是主动抗击日军的战役。故选D。

4. 清末状元张謇提倡实业救国。以下内容与他有关的是（ ）

- A. 修建京张铁路
- B. 创办大生纱厂
- C. 研制工业纯碱
- D. 编写《海国图志》

【答案】B

【解析】依据所学知识可知，甲午中日战争后，外国人纷纷在华开办工厂、开采矿山，刺激了中国民族工业的发展。状元实业家张謇主动放弃高官厚禄，毅然回到家乡创办大生纱厂，带动了很多中国人走上“实业救国”道路，B项符合题意；A项有关的人物是詹天佑，主持修建京张铁路；C项有关的人物是侯德榜，为我国制碱工业作出贡献；D项有关的人物是魏源，编写《海国图志》。由此可知ACD三项不符合题意。故选B。

5. 20世纪50年代初，中国能造桌子椅子、茶碗茶壶，但是一辆汽车、一架飞机都不能造。为改变这一状况，中国政府实施了（ ）

- A. 土地改革
- B. 第一个五年计划
- C. 三大改造
- D. “大跃进”和人民公社化运动

【答案】B

【解析】依据题干所给信息“一辆汽车、一架飞机都不能造”可知，它反映了新中国成立初期重工业基础薄弱。为了改变工业落后面貌，1953—1957年，我国政府编制了发展国民经济的第一个五年计划，优先发展重工业，B项符合题意；A项是我国农村生产关系的变革；B项是1953—1956年我国政府对农业、手工业和资本主义工商业的社会主义改造；D项是1958年人民迫切要求改变我国经济落后状况掀起的运动。由此可知ACD三项符合题意。故选B。

点睛：抓住信息“一辆汽车、一架飞机都不能造”是解题的关键，说明了建国初期我国的重工业落后，为了

改变工业落后面貌，有计划地进行社会主义建设，我国政府编制了第一个五年计划。1957年第一个五年计划的完成，我国开始改变工业落后的面貌，向社会主义工业化迈进。

6. 1971年10月25日，这是一个不寻常的日子，是我国外交史上一次伟大的胜利。这一天发生的事件是（ ）

- A. 和平共处五项原则的提出
- B. 周恩来出席万隆会议
- C. 中国恢复在联合国的合法席位
- D. 中美签署《联合公报》

【答案】 C

【解析】依据所学知识可知，1971年10月25日，第26届联合国大会以压倒多数通过阿尔巴尼亚、阿尔及利亚等23国的提案，恢复中华人民共和国在联合国的合法席位，恢复中国安理会常任理事国的席位，是我国外交史上一次伟大的胜利，有利于中国在国际事务中发挥更大的作用，C项符合题意；A项的时间是1953年，与题干“1971年”时间不符；B项的时间是1954年，与题干“1971年”时间不符；D项的时间是1972年，与题干“1971年”时间不符。由此可知ABC三项不符合题意。故选C。

点睛：抓住信息“1971”是解题的关键，需熟练掌握中国恢复在联合国合法席位的时间和意义，1971年10月25日，第26届联合国大会上恢复中华人民共和国在联合国的合法席位，这是新中国外交的重大胜利。

7. 人类文明传播有和平交往、暴力冲突两种方式。以下属于和平交往方式的是（ ）

- A. 希波战争
- B. 亚历山大大帝东征
- C. 罗马帝国的扩张
- D. 马可·波罗来华

【答案】 D

【解析】依据所学知识可知，意大利商人马可·波罗，在忽必烈时代通过丝绸之路来到中国，忽必烈让他元朝做官，他在元朝生活了17年，从海路回到意大利。马可·波罗把他在中国的见闻口述成一本书，叫做《马可·波罗行纪》，激起欧洲人对东方的场景和向外。所以，马可·波罗来华属于和平交往的方式，D项符合题意；ABC三项都属于暴力冲突的方式，不符合题意。故选D。


8. 2018年是马克思诞辰200周年。马克思主义使国际工人运动进入一个新的历史时期，其诞生的标志是（ ）

- A. 《人民宪章》的发表
- B. 巴黎公社
- C. 《共产党宣言》的发表
- D. 十月革命

【答案】 C

【解析】依据所学知识可知，1848年2月，马克思和恩格斯为共产主义者同盟起草了《共产党宣言》，标志着马克思主义的诞生，它是第一部较为完整而系统地阐述科学社会主义基本原理的伟大著作；开辟了国际工人运动和社会主义运动的新局面，成为世界无产阶级的锐利思想武器，C项符合题意；ABD三项和题干无关。故选C。

9. 科技创新给人们生活带来了新变化，以下成果属于第二次工业革命的是（ ）



A. ①② B. ①④ C. ②④ D. ③④

【答案】D

【解析】依据题干所给图片信息，结合所学知识可知，③项是1895年德国人卡尔·本茨发明的汽车；④项是1903年美国莱特兄弟发明的飞机。所以，③④两项都是第二次工业革命的成果；①项是第一次工业革命中，英国史蒂芬孙发明的火车；②项是第三次科技革命的成果电子计算机，①②两项不符合题意，需排除①或②项ABC三项。故选D。

10. 国际反法西斯联盟的建立，为反法西斯战争胜利奠定了坚实的基础。它建立的标志是签署了（ ）

A. 《联合国宣言》 B. 《开罗宣言》
C. 《北大西洋公约》 D. 《华沙条约》

【答案】A

【解析】依据所学知识可知，1942年1月1日，美中英苏等26国在华盛顿签署了《联合国宣言》，标志着国际反法西斯联盟的正式建立；壮大了反法西斯国家的力量，鼓舞了世界人民反法西斯的斗志，为反法西斯战争胜利奠定了坚实的基础，A项符合题意；B项是1943年中美英签署要求日本投降和归还中国的领土的有关内容；CD两项是美苏为代表的两大阵营签订的条约。由此可知BCD三项不符合题意。故选A。

11. 各成员国公民有统一的护照，统一的货币，体验到了做真正欧洲人的感觉。这得益于成立了（ ）

A. 欧洲共同体 B. 七十七国集团
C. 欧洲联盟 D. 世界贸易组织

【答案】C

【解析】依据所学知识可知，1993年，欧盟成立后，欧盟各国逐步使用统一的货币——欧元。欧盟各成员国内部人员、资本和货物可以自由流通，不同国家的人可以自由地在任何一个成员国工作、学习或居住

区；各成员国公民有统一的护照，统一的货币，体验到了做真正欧洲人的感觉，C项符合题意；A项是欧盟的前身，各成员国还没有统一的护照，统一的货币；B项是发展中国家在反对超级大国的控制而形成的国际集团；D项是全球性的国际经济组织。由此可知ABD三项不符合题意。故选C。

12. 九年级（1）班同学正在学习“尼赫鲁”“纳赛尔”“卡斯特罗”的相关内容。他们研讨的主题是（ ）

- A. 亚非拉的奋起
- B. 苏联社会主义道路的探索
- C. 动荡的中东地区
- D. 东欧社会主义国家的改革与演变

【答案】A

【解析】依据所学知识可知，二战后，印度民族独立运动高涨。1947年英国被迫同意印度独立，但决定把原来的印度分为印度和巴基斯坦两个国家，实行印巴分治。尼赫鲁任印度第一任总理。1952年，埃及在纳赛尔的领导下，爆发了反帝反封建革命，赢得真正独立。1959年，卡斯特罗领导古巴人民通过武装斗争，推翻美国扶植的傀儡政权，建立革命政府，走上社会主义道路。所以，尼赫鲁、纳赛尔、卡斯特罗和亚非拉的奋起有关，A项符合题意；BCD三项和题干无关。故选A。

二、非选择题（本大题共4小题，其中第13小题7分，第14小题1分，第15、16小题各9分，满分36分）

13. 中国近代史既是一部民族屈辱史，又是一部中华民族的探索史。读图回答下列问题。



- (1) 图①是洋务运动在什么口号下创办的企业？列举一位该运动在地方上的代表人物。
- (2) 与图片②有关的历史事件是什么？该事件距今多少周年？
- (3) 图③人物是谁？图④杂志的诞生，是哪一事件兴起的标志？
- (4) 请给以上内容反映的内容拟一个恰当的时代主题。

【答案】（1）自强；李鸿章、左宗棠、张之洞、曾国藩。

（2）戊戌变法；120周年。

（3）孙中山；新文化运动。

（4）中国近代化的探索。

【解析】(1) 第一问，依据图①所给信息可知，图片展示的企业是江南制造总局。结合所学知识，江南制造总局是李鸿章在上海创办的近代军事工业。洋务运动前期，洋务派以“自强”为口号，采用西方先进技术，创办了江南制造总局、安庆内军械所等一批近代军事工业。所以，图①是洋务运动中在“自强”的口号创办的军事工业。第二问，依据所学知识可知，洋务运动在中央以奕訢为代表，地方以李鸿章、曾国藩、张之洞为代表。

(2) 依据图片②所给信息可知，图片展示的是谭嗣同殉难的情景。结合所学知识，1898年的戊戌变法中，康有为、梁启超和谭嗣同等维新派进行的变法，触犯了慈禧太后等顽固派的利益，变法运动失败。谭嗣同不愿意逃走，愿意为变法流血牺牲。2018—1898=120年，该事件距今120周年。

(3) 依据图③所给信息可知，图③的人物是孙中山。结合所学知识，孙中山主张用革命的方式推翻清政府，建立资产阶级共和国。1911年，他领导了辛亥革命，推翻了清朝的统治，推翻了两千多年的封建帝制，建立了中华民国。依据图④所给信息“青年杂志”，结合所学知识可知，1915年，陈独秀在上海创办《青年杂志》（后改名为《新青年》），并在创刊号上发表了《敬告青年》一文，正式吹响了新文化运动的号角。所以，图④杂志的诞生，是新文化运动兴起的标志。

(4) 依据四幅图片所给信息，结合所学知识可知，洋务运动是近代化的开端，为中国近代化开辟了道路。戊戌变法起到了思想启蒙的作用，为资产阶级思想在中国的产生和传播创造了条件。辛亥革命是一次资产阶级革命运动，可以说前面两次运动都给辛亥革命奠定了基础，同时辛亥革命推翻了封建帝制。新文化运动是一次思想解放运动，启发着人们探索救国救民的真理。这四次运动是从学习西方的军事器物到政治制度，再到思想文化上的转化。所以，这四次运动反映的时代主题是中国近代化的探索。


点睛：解题的关键需熟悉与四幅图片相关的历史事件，需熟悉四次探索运动的过程和影响。这四次运动是从学习西方先进技术到学习西方的政治制度再到学习西方的思想文化的过程，是层层递进，由表及里，逐渐深入地向西方学习的过程。通过近代化的探索，让我们认识到：地主阶级、资产阶级不能改变半殖民地半封建社会的性质，不能使革命获得成功，中国必须走一条适合中国国情的道路，只有无产阶级才能领导中国革命取得最后的成功。

(4) 请给以上图片所反映的内容拟一个恰当的时代主题。

14. 中共十一届三中全会后，我国实行改革开放政策，40年来取得了翻天覆地的变化。八年级（2）班准备以“改革开放足迹”为主题举办知识竞赛，请你来回答。

【农村改革篇】

材料一 凤阳县农业生产三年三大步（如下图）



--人教版《中国历史》八年级下册

【经济特区篇】

材料二 深圳原属广东宝安县，与香港只一河之隔，是一个贫穷落后的边陲小镇。划为经济特区以后，引进资金、先进技术和管理经验，大办工业、商业和旅游业等，在很短的时间里，深圳变成一座现代化城市。

--人教版《中国历史》八年级下册

【解放思想篇】

材料三 改革开放胆子要大一些，敢于试验，不能像小脚女人一样。看准了的、就大胆地试，大胆地闯。

--邓小平

【展望未来篇】

材料四 不忘初心，牢记使命，高举中国特色社会主义伟大旗帜、决胜全面建成小社会，夺取新时代中国特色社会主义伟大胜利，为实现中华民族伟大复兴的中国梦不懈奋斗。

--中共十九大报告

- (1) 根据材料一回答，凤阳县农业生产呈现什么趋势？其原因是什么？
- (2) 根据材料二分析，深圳变成现代化城市的原因是什么？举出一例与深圳同年建设的经济特区。
- (3) 根据材料三结合所学识，邓小平发表这段讲话有什么重要意义？邓小平理论确立为党的指导思想是在党的哪次会议上？
- (4) 根据以上四则材料及所学知识，你认为中华民族伟大复兴之路将如何继续？

【答案】 (1) 粮食产量逐渐上升（或者增长）的趋势。实行家庭联产承包责任制。

(2) 划为经济特区以后，引进资金、先进技术和管理经验，大办工业、商业和旅游业等。珠海、汕头、厦门（任意一个）。

(3) 进一步解放了人们的思想，对建设有中国特色的社会主义产生了深远影响。中共十五大。

(4) 坚持走改革开放之路；坚持走中国特色社会主义道路；坚持中国共产党的领导；坚持以邓小平理论为指导；坚持习近平新时代中国特色社会主义思想等。（答出其中两点或其它符合题意，言之有理即可）

【解析】 (1) 依据材料一图表所给信息可知，凤阳县粮食产量从1980—1982年三年的粮食产量逐渐上升，这一变大主要得益于家庭联产承包责任制的实行。安徽凤阳县实行家庭联产承包责任制以后，农民生产积极性大大提高，农业连年获得丰收，农业生产得到大发展，农村开始富裕起来。

(2) 第一问，依据材料二所给信息“划为经济特区以后，引进资金、先进技术和管理经验，大办工业、商业和旅游业等，在很短的时间里，深圳变成一座现代化城市”可知，深圳变成现代化城市的原因是划为经济特区以后，引进资金、先进技术和管理经验，大办工业、商业和旅游业等。第二问，依据所学知识可知，1980年，我国在广东的深圳、珠海、汕头和福建的厦门建立四个经济特区。

(3) 第一问，依据材料三所给信息“改革开放胆子要大一些，敢于试验，不能像小脚女人一样。看准了的，就大胆地试，大胆地闯”可知，材料三反映了邓小平南方谈话的内容。结合所学知识，1992年，邓小平发表南方讲话进一步解放了人们的思想，为我国社会主义市场经济体制指明方向，对建设有中国特色的社会主义产生了深远影响。第二问，依据所学知识可知，1997年，中共十五大在北京召开，大会通过的党章规定：中国共产党以马克思列宁主义、毛泽东思想、邓小平理论作为自己的行动指南。把邓小平理论确立为党的指导思想，对建设中国特色社会主义具有重要意义。

(4) 依据四则材料所给信息，结合所学知识可知，实现中华民族伟大复兴之路，是每一个中国人的责任，要实现伟大民族复兴我们要坚持走改革开放之路；坚持走中国特色社会主义道路；坚持中国共产党的领导；坚持以邓小平理论为指导；坚持习近平新时代中国特色社会主义思想；要深入贯彻科学发展观等。

15. 在世界近代发展历程中，一些国家经历了资产阶级革命或改革。李亮同学对这阶段历史进行了探究活动，请你一起来参与。

探究一

(1) 请照示例写出18世纪发生在欧洲、美洲资产阶级革命各一例。

示例：英国资产阶级革命

①_____②_____

探究二

(2) 在17-18世纪的资产阶级革命中，各国都颁布了一些法律文献，请列举其中一部，并回答该文献所起到的作用。

探究三

(3) 19世纪六七十年代，世界资本主义得到进一步发展，有些国家通过改革走上了资本主义道路，请列举一个国家的相关事件及其领导人。

探究四

(4) 依据以上探究内容及所学知识，你认为上述资产阶级革命或改革取得成功的因素有哪些？

【答案】 (1) ①法国大革命（或法国资产阶级革命）；②美国独立战争。

(2) 《权利法案》。作用：确立了君主立宪制的资产阶级统治。（或者《独立宣言》）。作用：宣告了美国的诞生。（其他答案符合题意即可）

(3) 俄国农奴制改革（或者俄国 1861 年改革或俄国亚历山大二世改革）；亚历山大二世。（或者日本明治维新；明治天皇）。

(4) 符合本国发展的国情；人民群众的支持与参与；杰出人物的引领；制定适合本国的政策；善于学习其他国家先进技术和经验；顺应时代潮流进行改革；具有创新精神等。（答出其中两点或其他符合题意，言之有理即可）

【解析】（1）依据所学知识可知，英国的殖民统治严重阻碍了北美资本主义的发展。北美人们的反抗情绪不断高涨。1775 年，美国独立战争爆发，1783 年赢得国家独立。18 世纪法国腐朽落后的封建统治严重阻碍了资本主义经济的发展，1789 年 7 月 14 日，巴黎人民起义攻占了象征封建专制的巴士底狱，掀开了法国大革命的序幕。

(2) 依据所学知识可知，为限制王权，1689 年，英国议会通过了《权利法案》，以法律形式对国王的权利进行明确的制约，作用：确立了君主立宪制的资产阶级统治。1775 年，第二届大陆会议颁布《独立宣言》，作用：宣告了美国的诞生。

(3) 依据所学知识可知，我忘了缓和俄国的社会矛盾，巩固统治，避免革命。1861 年，亚历山大二世进行了废除农奴制的改革，使俄国走向了资本主义道路。1868 年，为了巩固明治政府统治，变法图强、富国强兵，明治天皇进行了明治维新，使日本走上了独立发展资本主义的道路，是亚洲近代唯一走上独立发展的国家，成为亚洲第一强国；摆脱了沦为殖民地和半殖民地的民族危机。

(4) 依据题干探究内容，结合所学知识可知，英、法、美资产阶级革命或俄国和日本改革取得成功的因素：上述这几个国家进行的革命或改革符合本国发展的国情；人民群众的支持与参与；上述国家都有杰出人物的引领；制定适合本国的政策；善于学习其他国家先进技术和经验；顺应时代潮流进行改革；具有创新精神等。

16. 习近平总书记在十九大报告中指出，世界正处在大发展大变革大调整时期，和平发展仍然是时代主题。20 世纪至今世界政治格局出现了三次大的变化。阅读下列材料，回答问题。

材料一 协约国同德国及其盟国签订的一系列和约，构成了重建欧洲、西亚和非洲的国际新秩序。华盛顿会议的核心是中国问题，……与会国签订了一个关于中国问题的公约。

——《世界通史》

材料二 第二次世界大战结束后，以美国为首的西方国家，采取了遏制共产主义的冷战政策，并由此形成了新的世界格局。

——《现代国际关系史》

材料三 冷战后，美国为了称霸世界，成为“世界领袖”，重新制定了全球战略。一方面，欧盟、日本、中国和俄罗斯等国家和国家联盟的实力不断增强，成为牵制美国称霸世界……的重要力量。

- (1) 材料一中的“和约”和“公约”分别指什么？最终确立了怎样的国际政治格局？
- (2) 材料二中“新的世界格局”指的是什么？其结束的标志是什么？
- (3) 根据材料三回答，世界政治格局出现了什么变化？
- (4) 综上所述，你认为我国该如何应对当今世界政治格局发展的趋势？

【答案】 (1) 《凡尔赛和约》和《九国公约》。凡尔赛 -华盛顿体系。

(2) 两极格局。苏联解体。

(3) 多极化趋势的变化。

(4) 提高综合国力；奉行独立自主和平外交政策；发展与世界各国的友好关系；反对霸权主义和强权政治。（言之有理即可）

【解析】 (1) 第一问，依据材料一所给信息“协约国同德国及其盟国签订的一系列和约，构成了重建欧洲、西亚和非洲的国际新秩序。华盛顿会议的核心是中国问题，……与会国签订了一个关于中国问题的公约”，结合所学知识可知，1919年1月，战胜的协约国召开了巴黎和会。1919年6月，协约国与德国签订了《凡尔赛和约》，对德国的领土、军事、政治、赔款、殖民地等问题做出了规定。1920年，为了协调远东、太平洋地区的关系，美、英、法、日等九国召开了华盛顿会议。1922年，签订了《九国公约》，表面是尊重中国的独立和领土完整，实际上中国又回到几个帝国主义国家共同支配的局面。第二问，依据所学知识可知，巴黎和会确立了帝国主义在欧洲、西亚、非洲的统治新秩序；华盛顿会议确立了帝国主义在远东、太平洋地区的统治新秩序。从巴黎和会到华盛顿会议，列强建立起“凡尔赛 - 华盛顿体系”，最终确立了帝国主义战后国际关系的新格局。

(2) 第一问，依据材料二所给信息“第二次世界大战结束后，以美国为首的西方国家，采取了遏制共产主义的冷战政策，并由此形成了新的世界格局”，结合所学知识可知，二战后，美苏两国失去了战时同盟的基础，由于意识形态的差异和国家利益的驱使，美苏两国开始由合作转向对峙，形成了两极格局。所以，材料二中“新的世界格局”指的是两极格局。第二问，依据所学知识可知，1991年底，苏联解体，标志着两极格局的结束。

(3) 依据材料三所给信息“冷战后，美国为了称霸世界，成为‘世界领袖’，重新制定了全球战略。一方面，欧盟、日本、中国和俄罗斯等国家和国家联盟的实力不断增强，成为牵制美国称霸世界……的重要力量”，结合所学知识可知，1991年，苏联解体，两极格局不复存在，暂时形成“一超多强”局面，随着欧盟、日本、中国和俄罗斯等国家和国家联盟的实力不断增强，世界格局正朝多极化方向发展。所以，材料三中世界政治格局指的是出现了多极化趋势的变化。

(4) 依据三则材料所给信息，结合所学知识可知，面对当今世界多极化的发展趋势，我们应该以经济建

设为中心，增强综合国力；坚持独立自主的和平外交政策，坚持国家利益至上的原则，积极参与国际竞争；
发展与世界各国的友好关系；反对霸权主义和强权政治等。