

2022 年天津市初中学业水平考试试卷

历史（开卷）

道德与法治和历史合场考试，合计用时 120 分钟。

本试卷分为第 I 卷（选择题）和第 II 卷（非选择题）两部分。第 I 卷为第 1 页至第 5 页，第

II 卷为第 6 页至第 8 页。试卷满分 100 分。

答题时，务必将答案涂写在“答题卡”上，答案答在试卷上无效。考试结束后，将本试卷和“答

题卡”一并交回。

祝你考试顺利!

第 I 卷

注意事项：

1. 每题选出答案后，用 2B 铅笔把“答题卡”上对应题目的答案标号的信息点涂黑。如需改动，

用橡皮擦干净后，再选涂其他答案标号的信息点。

2. 本卷共 25 题，每题 2 分，共 50 分。在每题给出的四个选项中，只有一项最符合题意。

1. 主张以德治国的是

- A. 老子 B. 孔子 C. 墨子 D. 韩非

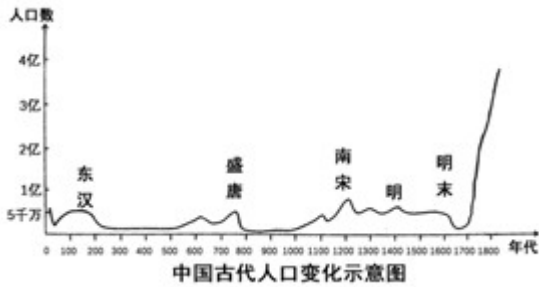
2. 下列属于秦朝管理制度的是

- A. 分封制 B. 郡县制 C. 刺史制度 D. 行省制度

3. 2021 年考古发现，霸陵陪葬物以陶器为主，金银器很少。与汉文帝遗诏中所说“治霸陵皆以瓦器，不得以金银铜锡为饰，不治坟，欲为省，毋烦民”相吻合。这印证了汉文帝

- A. 勤俭治国 B. 勤于政事
C. 善于用人 D. 虚怀纳谏

4. 下图中东汉末年和盛唐以后的人口数都出现剧烈下降，主要原因是



- A. 频繁战乱 B. 北人南迁 C. 自然灾害 D. 统治残酷

科举制是中国历史上考试选拔官员的一种基本政治制度。回答下题

5. 《中华帝国的专制制度》一书中写道：“一个中国人必须获得通向进士的各种学位，才能成为一名朝廷官员。”创立进士科的是

- A. 隋文帝 B. 隋炀帝
C. 唐太宗 D. 武则天

6. 随着科举考试的变化而出现的八股文产生于

- A. 宋朝 B. 元朝
C. 明朝 D. 清朝

7. 以下是某同学归纳的关于边疆有效管辖的信息，据此判断其研究的区域是

册封达赖、班禅
设置驻藏大臣
实行金瓶掣签
颁布《钦定藏内善后章程》

- A. 新疆 B. 云南 C. 台湾 D. 西藏

8. 历史解释是对史实的分析或评判。下列选项属于历史解释的是

- A. 林则徐虎门销烟
B. 英军封锁珠江口后北上
C. 陈化成吴淞口率众抵抗
D. 鸦片战争成为中国近代史的开端

9. 创办大生纱厂的状元实业家是

- A. 张謇 B. 荣氏兄弟
C. 卢作孚 D. 侯德榜

10. 有西方史学家认为，巴黎和会上 失败导致的后果就是整个中国陷入“大动乱”，但中国史学家普遍认为这一后果具有里程碑意义，是新民主主义革命的开端。他们评论的是

- A. 二次革命 B. 护国战争

C. 五四运动

D. 北伐战争

11. 1938 年创作 歌词“我们在太行山上，山高林又密，兵强马又壮，敌人从哪里进攻，我们就要把他在哪里灭亡。”从中可以感受到

A. 北伐军胜利进军的气势


B. 井冈山艰苦奋斗的精神

C. 抗日军民乐观自信的态度

D. 解放战争人民必胜的决心

了解天津，鉴往知来。回答下题

12. 下图为天津市人民政府第一号布告。它颁布于（ ）



A. 1947 年

B. 1948 年

C. 1949 年

D. 1950 年

13. 1956 年，完成公私合营的天津劝业场变成了统一管理的大型综合商场。该事件反映的是（ ）

A 实业救国

B. 三大改造

C. “大跃进”

D. 改革开放

14. 这是一场交战双方力量对比极其悬殊条件下进行的现代化战争，首战两水洞、鏖战长津湖、血战上甘岭都是这场战争中的典型战役。这场战争中涌现的英雄人物是

A. 邓世昌

B. 张自忠

C. 黄继光

D. 雷锋

15. 1978 年，在历史的转折关头，把党和国家的工作中心转移到经济建设上来的会议是

A. 中国共产党第八次全国代表大会

B. 中共十一届三中全会

C. 中国共产党第十二次全国代表大会

D. 中国共产党第十三次全国代表大会

中国外交披荆斩棘，开创局面，贡献出智慧与方案。回答下题

16. 1953 年底，周恩来在接见印度代表团时，首次提出的处理两国关系的原则是

A. 和平共处五项原则

B. “求同存异”方针

- C. 共商、共建、共享
- D. 和平、发展、合作、共赢

17. 1971 年中国政府邀请美国乒乓球代表团正式访华。美国《时代》杂志报道说：“这‘乒’的一声全世界都听到了！”这件事推动了

- A. 《波茨坦公告》的发表
- B. 中苏两国正式建交
- C. 《朝鲜停战协定》的签署
- D. 中美关系走向正常化

18. 杨振宁在写给邓稼先夫人的信中说道：“稼先无私的精神与巨大的贡献是你的也是我的永恒的骄傲。”邓稼先的巨大贡献有

- A. 第一颗原子弹爆炸成功
- B. “东方红一号”发射成功
- C. 培育出籼型杂交水稻
- D. 神舟五号飞船成功返回

19. 迄今已知世界上第一部较为完整的成文法典是

- A. 《汉谟拉比法典》
- B. 《十二铜表法》
- C. 《查士丁尼法典》
- D. 《拿破仑法典》

20. 下图是 19 世纪梵高的油画作品。见图溯源，马铃薯最早出现在欧洲是因为



《吃马铃薯的人》

- A. 亚历山大东征
- B. 新航路开辟
- C. 第一次工业革命
- D. 第二次工业革命

21. 《全球通史：从史前史到 21 世纪》谈到：“1689 年的这一法案确实一劳永逸地确立了国会的最高权力，并在这情况下结束了几乎早半个世纪前就已开始的英国革命。”文中“这一法案”是

- A. 《权利法案》
- B. 《独立宣言》
- C. 《人权宣言》
- D. 《和平法令》

22. 1868年3月，日本政府宣布“破除旧来之陋习，一本天地之公道，求知识于世界。”表明日本将要

- A. 学习唐朝进行大化改新
- B. 发展为中央集权制的封建国家
- C. 改革旧制度向西方学习
- D. 在美国扶植下进行社会改革

23. 下图所示历史事件的世界意义是



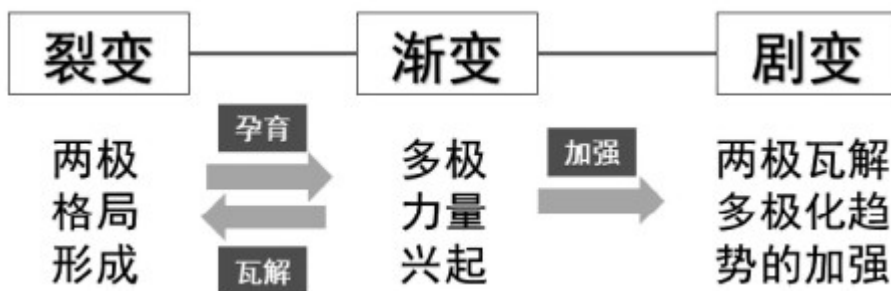
美国军舰“密苏里号”上的日本投降仪式

- A. 成为第二次世界大战转折点
- B. 标志着欧洲战事结束
- C. 宣布日本法西斯无条件投降
- D. 宣告第二次世界大战结束

24. 罗斯福在总统就职演说中提出“我们最重大的首要任务，是使人民有工作可做。由政府本身直接募工，可以部分地完成这一任务，政府对待这项任务就像对待战争的紧急状态一样。”表明他准备

- A. 调节农业生产和销售
- B. 解决美国社会的根本矛盾
- C. 增加人们的就业岗位
- D. 宣布国家进入备战的状态

25. 下面是李老师在历史课堂上展示 课件。它反映出



- A. 一战前的欧洲局势
- B. 一战后初期国际形势
- C. 二战前的国际关系
- D. 二战后世界格局变化

第 II 卷

注意事项：

1. 用黑色字迹的签字笔将答案写在“答题卡”上。

2. 本卷共 3 大题，共 50 分。

26. 同学们观看“一带一路”国际合作高峰论坛开幕式后，对相关历史渊源很感兴趣，想和你一起探究下列问题。

中国汉代，一支从长安出发的和平使团，开始打通东方通往西方的道路，完成了“凿空之旅”。唐宋元时期，陆上和海上丝绸之路同步发展。明朝航海家郑和七次远洋航海，留下千古佳话。这些开拓事业之所以名垂青史，是因为使用的不是战马和长矛，而是驼队和善意；依靠的不是坚船和利炮，而是宝船和友谊。一代又一代“丝路人”架起了东西方合作的纽带、和平的桥梁。

——摘编自《携手推进“一带一路”建设》

- (1) 依据材料并结合所学，请回答率领这支“和平使团”的人是谁？这一行程为什么被称为“凿空之旅”？
- (2) 结合所学，宋朝海上丝绸之路最远可到达哪些地区？丝绸之路的畅通促进了宋元时期中外经济、文化和科技交流。请写出该时期中西方交流的表现有哪些？
- (3) 郑和下西洋是和平之旅，请从和平交流的视角列出相关史实。（至少答出两例）

27. 学校历史社团开展“我和伟人共成长”主题读书活动，活动分为三个板块。

【读伟人成长 思民族未来】

1893 年 诞生于一个农民家庭

1902 年 在私塾读书，接受传统教育

1910 年 高等小学堂读书，受康有为、梁启超思想影响

1911 年 中学读书，受同盟会影响，拥护孙中山及同盟会的纲领

1915 年 省立第一师范学校在读期间，开始成为《新青年》杂志的热心读者

1918 年 担任北京大学图书馆管理员，开始接受十月革命的思想影响

——节选自《毛泽东》（大画册）中央文献出版社

- (1) 从上述毛泽东的成长历程中可以看到，他曾受到哪些重大历史事件的影响？

【忆伟人论断 寻革命道路】

1927 年，八七会议上毛泽东提出“政权是由枪杆子中取得”的著名论断。

- (2) 为践行这一论断，毛泽东领导的武装起义是什么？此后，他对革命道路的选择出现了怎样的变化？

【听伟人声音 感使命担当】

1949年，毛泽东庄严宣告“中国人从此站立起来了！”

(3) “中国人从此站立起来了”标志是什么？你如何认识毛泽东说的这句话？

28. 科技改变生活，引领社会新风尚。阅读材料并结合所学，回答问题。

材料一 钱乘旦在《英国通史》中对19世纪的英国社会这样描绘道：“过去以天为单位，现在以分钟、秒计算，……火车还教会人们守时，准时准点成为了现代生活的准则，人们开始要随身带上一块表，时间概念是一个全新的概念。”

(1) 依据材料一，概括19世纪英国人的生活发生了哪些变化？结合所学，说出推动这些变化的主要原因是什么？

材料二 1882年爱迪生的公司开始在纽约向普通住户提供电力，其后家庭对电力的使用迅速普及到全世界。

——麦克·哈特《影响人类历史进程的100名人排行榜》

(2) 电力广泛应用标志着人类进入了什么时代？请你举出一例同时代与电应用有关的发明，并说出它对人们生活的影响。

(3) 今天的世界，人们可以足不出户，线上办公、线上学习、线上购物等，这充分运用了哪一现代科技？身在其中，你如何利用这一现代科技优化自己的学习方式？

