

2021年重庆市中考历史试题 A 卷

(开卷，满分 50 分，与道德与法治学科共用 90 分钟)

一、选择题：本大题共 15 小题，每小题 1 分，共 15 分。在备选答案中只有一项是符合题目要求的。请按答题卡的要求作答。

(2021·重庆 A 卷)

1. 传说蚕丛是蜀地首先称王的人，他的眼睛向前突出。下图所示文物与蚕丛形象吻合。由此可见 ()



1986 年四川三星堆出土的双目面具

- A. 传说与神话都是真实的历史
- B. 考古是了解历史真相唯一途径
- C. 传说中蕴含着一定的历史信息
- D. 传说的历史价值远超考古发现


(2021·重庆 A 卷)

2. 他一改王朝之初“无为而治”的政策，加强集权和对经济的控制，确立儒家学说的正统思想地位。他是 ()

- A. 秦始皇
- B. 汉武帝
- C. 隋炀帝
- D. 唐太宗

(2021·重庆 A 卷)

3. 下图所示，是公元 443 年鲜卑族祖先在嘎仙洞石壁上所留石刻的拓片。它可以来说明 ()



- A. 甲骨文的造字特点
- B. 小篆成为全国通用文字
- C. 王羲之的行书冠绝天下
- D. 鲜卑族受汉族文化影响

(2021·重庆 A 卷)

4. 有学者认为，某石刻题材中底层社会劳动妇女形象的出现。既是佛教的世俗化，又是五代两宋时期川渝地区社会生活的反映。据此推断该石刻可能是 ()

- A. 云冈石窟 B. 龙门石窟 C. 大足石刻 D. 潼南大佛

(2021·重庆 A 卷)

5. 南宋临安大街小巷商铺密布；元朝的大都有来自于全国各地的各种货物。这表明宋元时期（ ）

- A. 都市商业较为发达 B. 多个民族政权并存
C. 北方经济远超南方 D. 统治疆域空前辽阔

(2021·重庆 A 卷)

6. 下列是某学习小组开展研究性学习时收集的地图，它们反映的共同主题是（ ）



丝绸之路线路图



玄奘西行与回国路线图



元朝交通路线图

- A. 海上交通的繁盛 B. 中外交流的发展 C. 世界市场的形成 D. 丝织技术的进步

(2021·重庆 A 卷)

7. 1943 年，罗斯福总统在《致重庆市民的纪念状》卷轴中写到：余谨代表敝国人民向重庆市敬赠斯轴，以表吾人钦佩该市英勇之男女市民。这表明罗斯福（ ）

- A. 支持重庆人民的反特抗暴 B. 赞颂重庆市民的抗日斗争
C. 努力推动中美的文化交流 D. 祝贺中国接受日军投降书

(2021·重庆 A 卷)

8. 中共中央南方局在重庆成立后，与国民党中 进步人士、民主党派人士、知识分子和民族工商界人士等广交朋友。这是为了（ ）

- A. 组织工农推翻北洋军阀的统治 B. 打破国民党的军事“围剿”
C. 巩固和发展抗日民族统一战线 D. 确立重庆的金融中心地位

(2021·重庆 A 卷)

9. “我爱亲人和祖国，更爱我的荣誉，我是一名光荣的志愿军战士！冰雪啊！我绝不屈服于你，哪怕是冻死，我也要高傲的耸立在我的阵地上。”这是一位英雄的绝笔诗，其应写于（ ）

- A. 北伐战争时期 B. 十年内战时期 C. 抗日战争时期 D. 抗美援朝时期

(2021·重庆 A 卷)

10. 下列图片所示建设成就，反映我国（ ）



长春一汽生产的第一批解放牌汽车

中国制造的第一批喷气式歼击机

- A. 确立了社会主义基本制度
- B. 开始改变工业落后的面貌
- C. 开启了国企改革的新历程
- D. 形成了全方位开放新格局

(2021·重庆 A 卷)

11. 2021 年 3 月，意大利各地举行了纪念某位著名人物逝世 200 周年的系列活动。其中有演员在线朗诵了其代表作品《神曲》片段。这位人物是 ()

- A. 但丁
- B. 薄伽丘
- C. 彼特拉克
- D. 莎士比亚

(2021·重庆 A 卷)

12. 某法律文件 问世与颁布，在法国乃至欧洲的法律史上起了一个分水岭的作用，它“总括了革命的全部法规”，为世界上很多国家效仿。该法律文件是 ()

- A. 《大宪章》
- B. 《权利法案》
- C. 《独立宣言》
- D. 《拿破仑法典》


(2021·重庆 A 卷)

13. 1918 年，面对国内外敌人的勾结，苏联红军唱着“一起去参军，勇敢地去作战，为苏维埃政权……”，纷纷奔向杀敌战场。红军战士积极参战是为了 ()

- A. 抵御普奥联军进攻
- B. 推翻沙皇专制统治
- C. 反抗临时政府镇压
- D. 捍卫十月革命成果

(2021·重庆 A 卷)

14. 下图所示是 1942 年 26 国代表联合签署的宣言书。它标志着 ()



- A. 世界反法西斯联盟建立
- B. 雅尔塔会议的召开
- C. 《波茨坦公告》的发表
- D. 世界贸易组织的成立

(2021·重庆 A 卷)

15. 1980~2010 年,全球贸易额从 1.8 万亿美元增至 15 万亿美元;1988 年全球跨国公司 2 万家,2006 年达到 7.7 万家。这反映了 20 世纪八九十年代以来 ()

- A. 世界贫富分化 加剧
B. 多极化趋势不断发展
C. 经济全球化趋势加强
D. 发展中国家地位提高

二、非选择题:本大题共 5 小题,第 16 题 5 分,第 17 题 5 分,第 18 题 9 分,第 19 题 8 分。第 20 题 8 分,共 35 分。请按答题卡要求作答。

(2021·重庆 A 卷)

16. 阅读以下材料后判断。

新中国成立后,中国第一代领导人确立了独立自主的和平外交政策,提出“和平共处五项原则”,受到国际社会的普遍认同……1971 年 10 月,中华人民共和国恢复了在联合国的合法席位。此后,中国政府成功地促成了中日、中美建交……1978 年以后,我国实行全方位外交,推进中国特色大国外交,成就显著。截至 2019 年,我国已经同 180 个国家建立了正式的外交关系。

当前,世界多极化、经济全球化深入发展,也面临着恐怖主义等全球性问题的威胁。中国领导人在继承和发展新中国各个时期重要外交思想的基础上,借鉴国际关系理论和实践成果,提出人类命运共同体。共建“一带一路”等新理念。引领全球治理体系变革。体现了全人类共同价值的追求,指明了国际社会的前进方向。

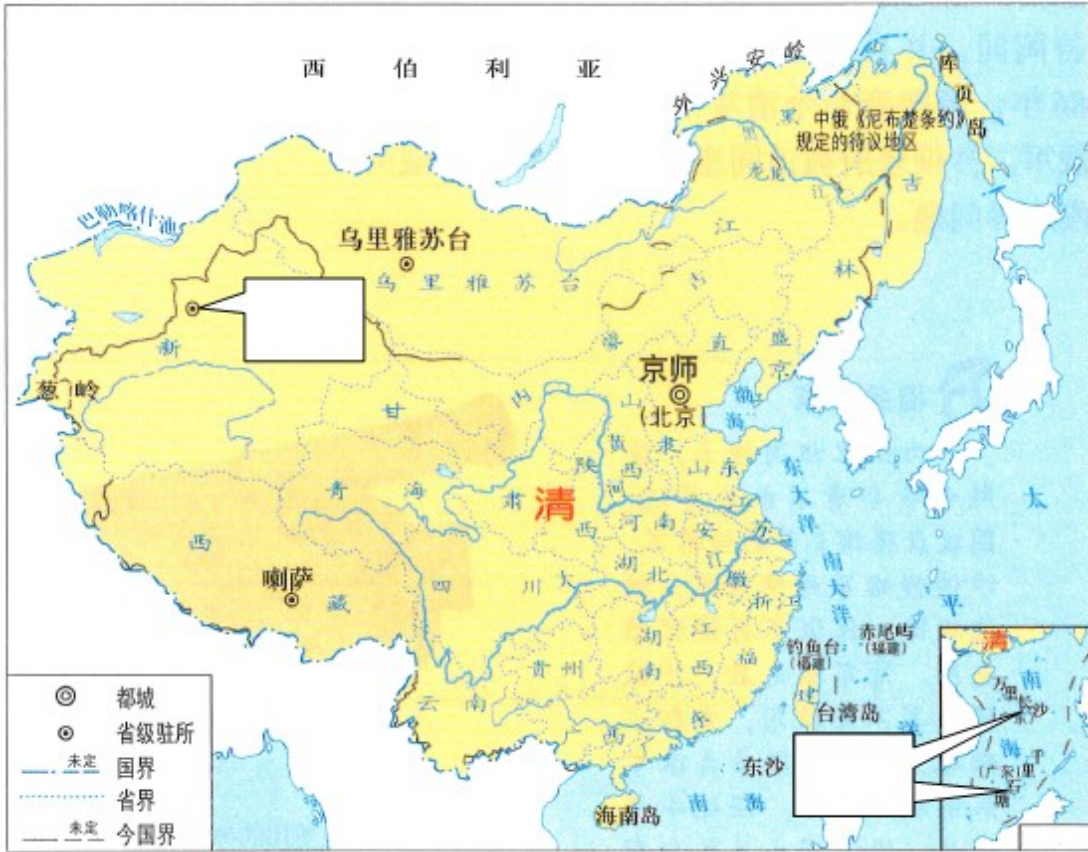
——整编自阎德学、华桂萍《新时代中国外交理论的创新性发展》等

以下表述是从以上材料中得出的,请在答题卡对应题号后填“正确”;违背了以上材料所表述的意思,请在答题卡对应题号后填“错误”;是以上材料没有涉及的。请在答题卡对应题号后填“未涉及”。

- (1) 新中国成立以来,我国已同世界上绝大部分国家建交。
- (2) 中国在万隆会议期间加强了与亚非各国的团结与合作。
- (3) 中日、中美建交推动了我国在联合国合法席位的恢复。
- (4) 恐怖主义等全球性问题严重威胁当今世界的和平与发展。
- (5) 与时俱进的中国外交理论为世界贡献了中国智慧。

(2021·重庆 A 卷)

17. 观察下图,回答问题。



清朝疆域图（1820年）

(1) 请将下列地点 英文字母代号填入答题卡图中相应的方框内。

- A . 伊犁 B . 南海诸岛

(2) 根据地图并结合所学知识。写出当时清政府分别管理西藏地区和台湾地区的省级行政机构名称。

(3) 根据地图，你能得出什么历史结论？

(2021·重庆 A 卷)

18. 阅读下列材料：

材料一 贞观元年至三年（627~629年），饥、蝗、水灾连续不断，唐太宗迁关中灾民至其他诸州就食。唐高宗时，灾害时有发生，除多次令灾民迁移它地外，也曾转运河东、山东、江南、淮南米粟至关中救饥。

——摘编自高建国、夏明方、么振华《中国灾害志》

材料二 面对庞大的失业大军和贫穷者，罗斯福政府先后成立了公共工程管理署、国民工程管理署等机构，兴办了许多公共工程，为数以万计的失业者提供了就业机会。1935年，国会又通过了《社会保障法》，该法包括养老金制度、失业保险制度和对无依无靠者提供救济三部分。

——摘编自齐涛《世界通史教程》

材料三 中华人民共和国脱贫攻坚纪实（部分）

| 时间 | 概况 | 结果 |
|------------|---|---|
| 1949—1978年 | ① 完成三大改造，建立社会主义制度； ② 开展社会主义建设，探索建立农村初级社会保障体系。 | 为从根本上解决贫困问题提供了最基本制度保证。 |
| 1978—2012年 | ① 完成一系列农业农村重大改革； ② 国务院印发《国家八七扶贫攻坚计划》《中国农村扶贫开发纲要》等，推进大规模扶贫开发国家行动。 | 农村贫困人口由 1978 年的 2.5 亿减少到 2010 年的 2688 万。 |
| 2012—2021年 | 将脱贫攻坚纳入“五位一体”总体布局 and “四个全面”战略布局，加快贫困地区脱贫致富的进程。 | 完全消除绝对贫困的艰巨任务，提前 10 年实现《联合国 2030 年可持续发展议程》减贫目标。 |

——整编自国新办《人类减贫的中国实践》等

请回答：

- 根据材料一，概括唐朝政府救荒赈灾的方式。结合所学知识，指出唐朝前期巴地（今重庆）在救急赈饥方面的贡献，并分析巴地能做出贡献的原因。
- 根据材料二并结合所学知识，归纳罗斯福政府为解决失业和贫困问题采取的措施，指出这些措施的本质。
- 根据材料三，概括中华人民共和国成立以来脱贫攻坚进程 特点及成效。

(2021·重庆 A 卷)

19. 阅读下列材料：

材料一 五四运动时期，先进的中国人开始把马克思主义当作新的思想武器去拯救中国。“五四”后，他们翻译出版《共产党宣言》《马克思资本论入门》等，创办劳动补习学校、工人夜校，到工人中去，宣传马克思主义。在这个过程中，这些先进的中国人思想感情进一步转变到工人阶级方面来，一部分工人也提高了阶级觉悟。

——据张小平《马克思主义在中国的早期传播论析》等

材料二 农村包围城市，武装夺取政权思想的提出，标志着中国化的马克思主义初步形成……在中国，农民是民主革命的主要力量。开展敌后游击战争，首先和主要的，就是发动和组织广大的农民，打击敌人……中国共产党把工作重点放在敌后农村，就是在新的抗日民族解放战争条件下，继续走农村包围城市、武装夺取政权的道路。

——中共中央党史研究室《中国共产党的九十年》

材料三 新中国成立之初，面对严峻国情……中国共产党人在马克思主义中国化的实践中艰辛探索，取得了新民主主义社会理论、《论十大关系》及《关于正确处理人民内部矛盾的问题》等理论成果……使我国实现了由新民主主义社会向社会主义社会的转变，人民群众对马克思主义中国化的认同感越来越强。

——摘编自霍豫《新中国成立以来马克思主义中国化进程、特征和启示》

请回答：

(1) 材料一中“新的思想武器”指的是什么？根据材料一并结合所学知识，分析“五四”后先进的中国人宣传该思想产生的影响。”

(2) 根据材料二，回答中国共产党在抗战时期把工作重点放在敌后农村的原因。

(3) 根据材料三，归纳新中国成立之初，中国共产党在马克思主义中国化实践探索中取得的成绩。结合所学知识，任举一例改革开放以来马克思主义中国化的理论成果。

(2021·重庆 A 卷)

20. 科技是国家强盛之基，创新是民族进步之魂。探究回答以下问题：

【探究一】科技推动进步

(1) 2016 年，中国科学院推选出影响文明进程的“中国古代重要科技发明创造”88 项，其中本草学作为研究药物名称、性质、效能、产地、入药部位、主治病症等的一门传统学科，因《神农本草经》《唐本草》《本草纲目》等著作取得的成就，成功入围。请以《本草纲目》为例概述本草学入围的理由。

【探究二】科技改变世界

(2) 1933 年，美国芝加哥举办的世博会对第二次工业革命的科技成果进行了展示。请你列举一例当时的参观者可能看到的相关展品，并简要说明其怎样改变了世界。

【探究三】科技增强国力

(3) 新中国成立以来，我国科技建设取得了“两弹一星”、杂交水稻技术、青蒿素、神舟飞船系列、北斗卫星等航系统、“天问一号”等巨大成就，请分析取得这些成就的原因。