

## 2023年广西壮族自治区中考历史真题

三、单项选择题（本大题共15小题，每小题2分，共30分。在每小题列出的四个备选项中，只有一项符合题目要求，错选、多选或未选均不得分。）

1. 考古工作者在北京人遗址共发现了6个较完整的古人类头盖骨化石。这些化石可用于研究（ ）

- A. 人类起源                      B. 农耕生活                      C. 部落联盟                      D. 社会制度

【答案】A

【解析】

【详解】根据题干信息“考古工作者在北京人遗址共发现了6个较完整 古人类头盖骨化石”，结合所学知识可知，古人类头盖骨化石是研究人类起源的主要证据，A项正确；农耕生活，与原始农业的发展相关，而北京人遗址中的北京人是居住在山洞中的原始人类，排除B项；部落联盟，是指原始社会末期几个亲近部落由于某种需要结成暂时或永久性的联盟的社会组织，与北京人遗址中的北京人的史实不符，排除C项；社会制度，是指反映并维护一定社会形态或社会结构的各种制度的总称，包括社会的经济、政治、法律、文化、教育等制度，与北京人遗址中的北京人的史实不符，排除D项。故选A项。

2. 目前已出土 商周时期的青铜器包括礼器、乐器、兵器、货币、装饰艺术品等。由此可知，该时期的青铜器（ ）

- A. 数量众多                      B. 种类丰富                      C. 工艺高超                      D. 分布广泛

【答案】B

【解析】

【详解】从“目前已出土的商周时期的青铜器包括礼器、乐器、兵器、货币、装饰艺术品等”可知，商周时期的青铜器种类丰富，包含有礼器、乐器、兵器、货币、装饰艺术品等，B项正确；题干材料表明了商周时期的青铜器种类丰富，并未对其数量进行说明，无法得出这一时期的青铜器数量众多的结论，排除A项；商周时期的青铜器工艺高超，但在本题中，题干材料并没有相关内容对商周时期的青铜器的工艺水平进行叙述，无法直接说明这一时期的青铜器工艺高超，排除C项；题干材料并未对商周青铜器的分布地区进行说明，无法表明这一时期的青铜器分布广泛，排除D项。故选B项。

3. 秦朝将全国分为36郡，后增至40多郡，郡的行政长官称郡守；郡下设县，县的长官称县令或县长。郡县长官都由朝廷直接任免。秦朝这些举措旨在加强（ ）

- A. 文化交流                      B. 地方控制                      C. 思想统治                      D. 经济开发

【答案】B

**【解析】**

**【详解】**根据题干材料中的“郡县长官都由朝廷直接任免”，结合所学可知，地方官员由中央朝廷直接任免，这加强了中央对地方的控制，B项正确；郡县制是地方行政制度，可以加强中央集权，与文化交流、思想统治、经济开发关联不大，秦朝统一文字的措施加强了文化的交流，秦朝统一货币度量衡的措施促进了经济的开放，秦朝为了加强思想统治实行了焚书坑儒，均与题意不符，排除ACD三项。故选B项。

4. 唐太宗认为“为君之道，必须先存百姓”。唐朝的革新措施与这一理念吻合的是（ ）

- A. 进一步完善中央机构
- B. 严格考察官吏政绩
- C. 注重文教，编修经籍
- D. 减轻人民劳役负担

**【答案】** D

**【解析】**

**【详解】**根据题干材料中的“先存百姓”，结合所学可知，唐太宗在位期间注重减轻人民劳役负担，鼓励生产，这体现了他以民为本，“先存百姓”的理念，D项正确；进一步完善中央机构，严格考察官吏政绩，都是唐太宗的施政措施，但这些措施属于政治方面的内容，与“先存百姓”的理念关联不大，排除AB两项；注重文教，编修经籍是唐玄宗开创开元盛世的措施，与唐太宗不符，排除C项。故选D项。

5. 宋朝时期，江南普遍种植双季稻或采用冬麦、晚稻轮作两熟制。这有利于（ ）


- A. 耕地面积扩大
- B. 生产工具改进
- C. 粮食产量增加
- D. 水利设施完善

**【答案】** C

**【解析】**

**【详解】**根据题干材料中的“普遍种植双季稻或采用冬麦、晚稻轮作两熟制”可知，江南地区种植双季稻，轮作冬麦、晚稻，实现了一年两熟，有利于增加粮食产量，C项正确；种植双季稻或者轮作，并没有增加耕地面积，只是提高了耕地的利用效率，排除A项；材料只提及了双季稻和轮作，没有涉及生产工具的改进和水利设施的完善，排除BD两项。故选C项。

6. 在“5-18 国际博物馆日”到来之际，志愿者小明参与了市博物馆一个展区的布展。根据下列图片推断这一展区的主题是（ ）



- A. 泽被天下的农业  
B. 灿若星辰的文坛  
C. 四通八达的交通  
D. 光耀千古的科技

【答案】 D

【解析】

【详解】根据所学可知，《齐民要术》是北魏贾思勰所著的一部综合性农学著作，活字印刷书是毕昇发明的，《天工开物》是明代宋应星创作的关于农业和手工业生产的综合性著作，故图片反映的共同主题是科技，D项正确；材料中只有《齐民要术》与农业有关，排除A项；材料并未涉及文学作品，排除B项；材料并未涉及交通方面，排除C项。故选D项。

7. 1839年7月，中国严厉禁烟的消息传到英国伦敦，英国政府决定借端对中国发动侵略战争。随后，英国发动了（ ）

- A. 鸦片战争  
B. 第二次鸦片战争  
C. 甲午中日战争  
D. 八国联军侵华战争

【答案】 A

【解析】

【详解】结合所学知识可知，在林则徐的主持下，1839年6月3日至25日，收缴的鸦片在虎门海滩被当众销毁；英国为了打开中国市场，推销工业品，以中国的禁烟运动为借口，1840年6月，英军首先进犯广州，鸦片战争爆发，A项正确；1856年秋，英国借口“亚罗”号事件，悍然出动军舰袭击广州城，法国借口“马神甫事件”，同意和英国共同出兵，英发动侵略中国的第二次鸦片战争爆发了，与题干内容“1839年7月，中国严厉禁烟的消息传到英国伦敦，英国政府决定借端对中国发动侵略战争”不符，排除B项；1894年，朝鲜发生东学党起义，清政府应邀派兵镇压，日军袭击清军运兵船，蓄意挑起战争，清政府被迫对日宣战，史称“甲午中日战争”，与题干内容“1839年7月，中国严厉禁烟的消息传到英国伦敦，英国政府决定借端对中国发动侵略战争”不符，排除C项；八国联军侵华战争，是指1900年5月底英、俄等国调遣军队300余人，进驻北京使馆，6月，为镇压义和团运动，英、美、俄、日、法、德、意、奥八国组织联军，在英国海军司令西摩尔的率领下发动了侵华战争，与题干内容“1839年7月，中国严厉禁烟的消息传到英国伦敦，英国政府决定借端对中国发动侵略战争”不符，排除D项。故选A项。

8. 观察下表中学堂和学生总数变化情况。对该变化有影响的事件是（ ）

年份	新式学堂总数（所）	新式学堂的学生总数（人）
1904	4222	92169
1909	52348	1560270

- A. 科举制度的废除  
B. 中华民国的成立  
C. 五四运动的爆发  
D. “双百”方针的提出

【答案】A

【解析】

【详解】根据所学解读图表内容可知，相比于1904年，1909年的新式学堂总数和学生总数都迅速增加，这是因为1905年清政府宣布废除了科举制，促进了新式教育的发展，A项正确；中华民国成立于1912年，五四运动爆发于1919年，“双百”方针指的是“百花齐放，百家争鸣”，提出于1956年，均与图表中的时间不符，排除BCD三项。故选A项。

9. 在中华民族最危险的时候，一面旗帜召唤着海内外的华夏儿女，同仇敌忾，筑起了中华民族抗击日本侵略者的钢铁长城。这面旗帜是（ ）

- A. “实业救国”道路  
B. “工农武装割据”思想  
C. 抗日民族统一战线  
D. 和平建国方针

【答案】C

【解析】

【详解】根据题干信息“一面旗帜召唤着海内外的华夏儿女，同仇敌忾，筑起了中华民族抗击日本侵略者的钢铁长城”，结合所学知识可知，1937年七七事变爆发，日本侵略者发动了全面侵华战争后，国共分别发表声明，表明抗战立场，并加快了建立抗日民族统一战线的步伐，9月，国民党发表了中共中央提交的国共合作宣言，蒋介石发表谈话，实际上承认史国共产党的合法地位。这样，以国共为主导的抗日民族统一战线正式建立，国共团结御侮、全民族抗战的局面开始形成。因此这面旗帜是抗日民族统一战线，C项正确；“实业救国”与创办民族工业相关，与题干内容“召唤着海内外的华夏儿女，同仇敌忾，筑起了中华民族抗击日本侵略者的钢铁长城”不符，排除A项；“工农武装割据”是毛泽东提出的关于中国革命新道路理论的一个科学概念，它是指在中国共产党领导下，以武装斗争为主要形式，以土地革命为中心内容，以农村革命根据地、战略阵地的三者密切结合，与题干内容“召唤着海内外的华夏儿女，同仇敌忾，筑起了中华民族抗击日本侵略者的钢铁长城”不符，排除B项；“抗日战争胜利后到1946年7月，国民党称这段时期为“和平建国时期”，并提出了“和平建国”方针，与题干内容“召唤着海内外的华夏儿女，同仇敌忾，筑起了中华民族抗击日本侵略者的钢铁长城”不符，排除D项。故选C项。

10. 自1947年10月《中国土地法大纲》公布到1948年底，在解放区约有1亿无地或少地的农民获得了土地。这有利于（ ）

- A. 北伐战争胜利进军  
B. 工农红军胜利会师  
C. 重庆谈判顺利进行  
D. 解放战争走向胜利

【答案】D

【解析】

【详解】根据所学可知，解放战争期间解放区的土地改革，激发了农民革命和生产的积极性，为人民解放战争的胜利提供了重要的人力、物力保障，D项正确；北伐战争开始于1926年，工农红军胜利会师指的是1928年的井冈山会师，还有就是1936年的红军三大主力成功会师，长征胜利结束，重庆谈判是1945年进行的，均与“1947年”“到1948年底”等时间不符，排除ABC三项。故选D项。

11. 古埃及的最高统治者法老自称是神之子。作为神灵的后代和神的化身，他享有比所有臣民都要高的权威。这说明法老（ ）

- A. 推行了种姓制度
- B. 受到希腊哲学影响
- C. 建立了幕府统治
- D. 利用神权强化王权

【答案】D

【解析】

【详解】根据题干材料中的“法老自称是神之子……享有比所有臣民都要高的权威”可知，古埃及的法老利用神权强化了王权，他宣布自己的神之子，以此来强化自己的权威，D项正确；推行种姓制度的是古印度，不是古埃及，排除A项；古埃及文明早于古希腊文明，因此古埃及不可能受到希腊哲学影响，排除B项；建立了幕府统治的是古代日本，与古埃及无关，排除C项。故选D项。

12. 文艺复兴时期的戏剧《罗密欧与朱丽叶》反映了爱情理想与封建伦理的冲突，赞美了青年的纯真爱情。这部戏剧的作者是（ ）

- A. 薄伽丘
- B. 但丁
- C. 莎士比亚
- D. 达·芬奇

【答案】C

【解析】

【详解】结合所学知识可知，莎士比亚是文艺复兴时期的英国大戏剧家，《哈姆雷特》《罗密欧与朱丽叶》是他的代表作，这些作品从真实生活出发，反映了时代风貌和社会本质，表现了人文主义者的生活理想，C项正确；薄伽丘是意大利文艺复兴运动代表，人文主义作家，其代表作有《十日谈》，与《罗密欧与朱丽叶》的作者不符，排除A项；但丁是文艺复兴的先驱人物，他创作的长诗《神曲》，与《罗密欧与朱丽叶》的作者不符，排除B项；达·芬奇与拉斐尔、米开朗琪罗并称“文艺复兴三杰”，达·芬奇的绘画代表作《最后的晚餐》和《蒙娜丽莎》极负盛名，与《罗密欧与朱丽叶》的作者不符，排除D项。故选C项。

13. 《人权宣言》提出：“法律对于所有的人，无论是施行保护或处罚都是一样的。”这体现了（ ）

- A. 平等原则
- B. 自由思想
- C. 分权主张
- D. 专制理念

【答案】A

【解析】

【详解】根据题干材料中的“法律对于所有的人……都是一样的”可知，《人权宣言》体现了平等原则，即法律面前人人平等，A项正确；《人权宣言》的确也体现了自由思想，但材料引用的内容没有反映这一思想，排除B项；分权主张指的是启蒙思想中的三权分立主张，材料未体现，排除C项；启蒙思想传播的是自由、平等和民主，反对的是专制，受其影响的《人权宣言》不会体现专制理念，排除D项。故选A项。

14. 1929-1933年，美国破产的银行超过1万家。为此，罗斯福政府（ ）

- A. 建立“福利国家”
- B. 整顿金融体系
- C. 提出“殖产兴业”
- D. 建设集体农庄

【答案】B

【解析】

【详解】结合所学知识可知，面对经济危机引起了政治危机，1933年，罗斯福实行新政，整顿金融体系，通过《紧急银行法案》，恢复银行信用，B项正确；建立“福利国家”，与通过《社会保障法》，建立社会福利体制相关，与题干内容“解决美国破产的银行”不符，排除A项；殖产兴业，是日本在明治维新时期提出的三大政策之一，与题干内容“解决美国破产的银行”不符，排除C项；建设集体农庄，与苏联时期的建设相关，与题干内容“解决美国破产的银行”不符，排除D项。故选B项。

15. 2023年4月6日，沙特和伊朗两国外长在北京成功会晤，宣布恢复外交关系。长期断交的两个中东大国在中国的斡旋下握手言和。这表明新时代中国担当了（ ）

- A. 国际经济的推动者
- B. 世界和平的维护者
- C. 全球环境的保护者
- D. 先进文化的引领者

【答案】B

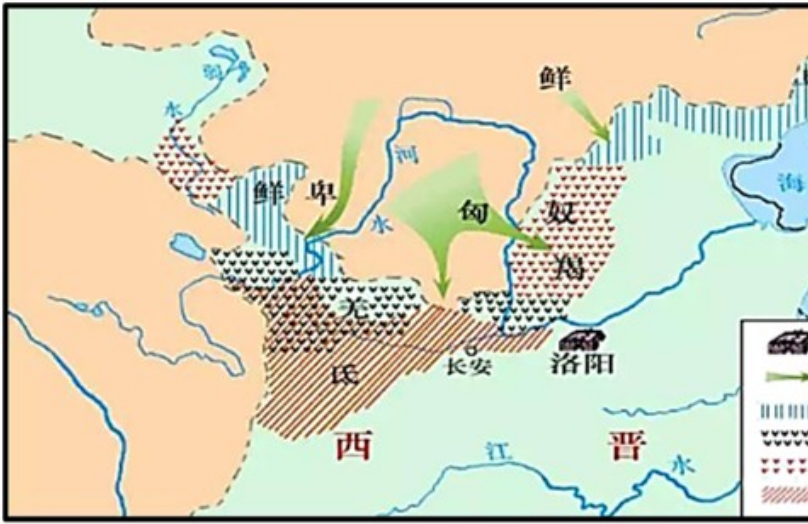
【解析】

【详解】根据题干信息“长期断交的两个中东大国在中国的斡旋下握手言和”，可知与外交相关，结合所学知识可知，材料表明新时代中国担当了世界和平的维护者，B项正确；国际经济的推动者，题干内容与经济无关，题干内容体现的是“长期断交的两个中东大国在中国的斡旋下握手言和”，排除A项；全球环境的保护者，题干内容与环境保护无关，题干内容体现的是“长期断交的两个中东大国在中国的斡旋下握手言和”，排除C项；先进文化的引领者，题干内容与文化无关，题干内容体现的是“长期断交的两个中东大国在中国的斡旋下握手言和”，排除D项。故选B项。

#### 四、非选择题（本大题共3小题，共30分。）

16. 铸牢中华民族共同体意识，既是历史的一脉相承，又是新时代的与时俱进。阅读材料，回答问题。

材料一



西晋内迁少数民族分布图

三  
 国魏晋南北朝时期是各民族发生大规模迁徙和融合的时期。北方的匈奴、鲜卑、羯、氐、羌等族大规模进入中原。黄河流域汉族大批南迁，与南方各族的交往十分频繁和密切。  
 —  
 一摘编

	自邱树 森等 《新编 中国通 史》
--	-------------------------------

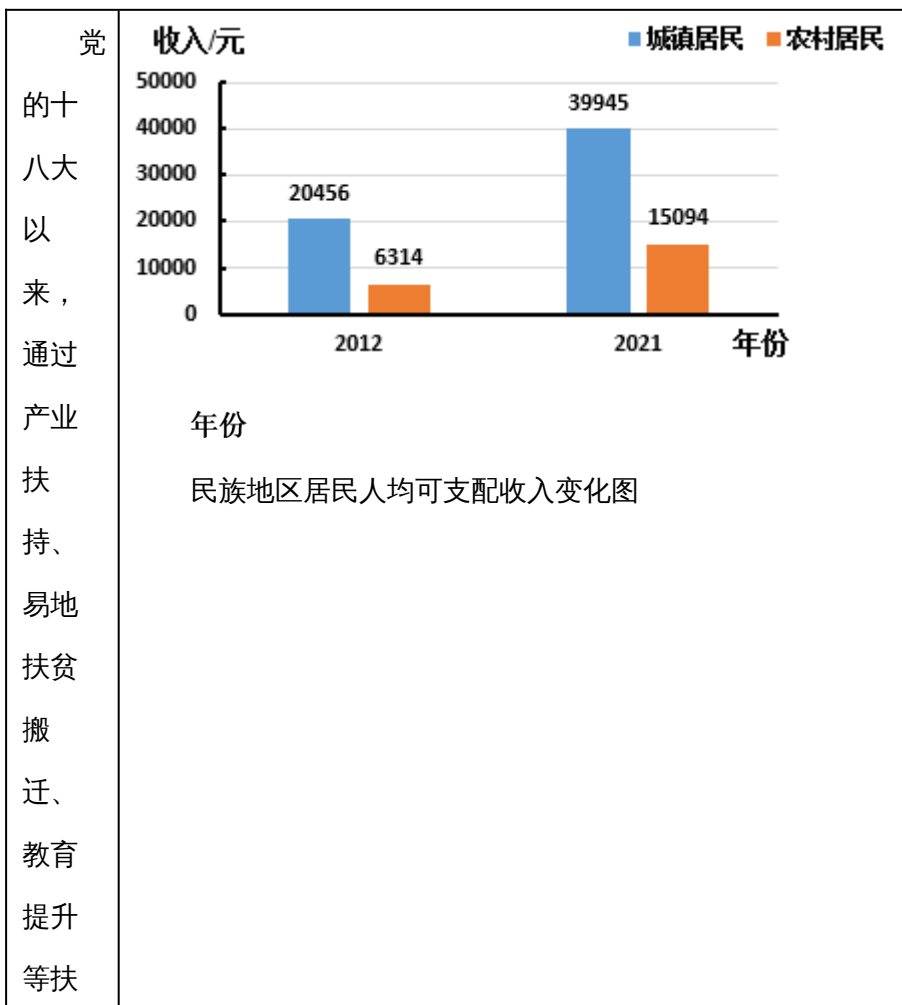
(1) 材料一中的图片和文字信息共同反映的历史现象是\_\_\_\_\_。(①黄河流域汉族南迁；②北方游牧民族内迁。请将正确答案的序号填入空格内。) 请根据材料指出这一现象的特点。

材料二 隋唐王朝扩大了中原与边疆的联系。宋、辽、金时期，内地和边疆的开发与交流进一步发展。元朝时期，中原和边疆地区发生了长达百年富有特色的大融合。及至明清，消除边疆地区的割据势力和抵御外侮，成为这一时期边政的主要内容。

——摘编自马大正《中国边疆经略史》

(2) 根据材料二，概括隋唐至明清时期统一多民族国家得以不断发展的原因。

材料三



<p>持政 策， 民族 地区 整体 面貌 发生 了翻 天覆 地的 变 化， 少数 民族 和民 族地 区同 全国 一道 如期 打赢 脱贫 攻坚 战。</p>	
---	--

——文字与图表均摘编自李波等《“这十年”民族地区经济社会发展成就调查研究》

(3) 根据材料三，指出党和国家为发展民族地区实施的扶持政策，并根据材料中的图表信息说明其成效。

**【答案】** (1) ②；北方游牧民族内迁黄河流域，中原汉族大量南迁。

(2) 原因：隋唐扩大了与边疆地区的联系；宋朝时期，内地与边疆的开发和交流进一步发展；元朝时期，中原与边疆发生了长达百年的大融合；明清时期，消除了边疆格局势力，并抵御外来侵略。

(3) 政策：产业扶持、易地扶贫搬迁、教育提升等 成效：民族地区城乡居民可支配收入大幅度提高。

## 【解析】

### 【小问1详解】

现象：据材料一“西进内迁少数民族分布图”及文字信息可知，二者共同反映的是北方游牧民族内迁的历史现象。选择②。

特点：据材料一“西进内迁少数民族分布图”及“北方的匈奴、鲜卑、羯、氐、羌等族大规模进入中原。”可知，北方游牧民族内迁中原地区；据材料一“黄河流域汉族大批南迁，与南方各族的交往十分频繁和密切。”可知，中原汉族大量南迁。

### 【小问2详解】

原因：据材料二“隋唐王朝扩大了中原与边疆的联系。”可知，隋唐扩大了与边疆地区的联系；据材料二“宋、辽、金时期，内地和边疆的开发与交流进一步发展。”可知，宋朝时期，内地与边疆的开发和交流进一步发展；据材料二“元朝时期，中原和边疆地区发生了长达百年富有特色的大融合。”可知，元朝时期，中原与边疆发生了长达百年的大融合；据材料二“及至明清，消除边疆地区的割据势力和抵御外侮，成为这一时期边政的主要内容。”可知，明清时期，消除了边疆格局势力，并抵御外来侵略。

### 【小问3详解】

政策：据材料三“党的十八大以来，通过产业扶持、易地扶贫搬迁、教育提升等扶持政策，民族地区整体面貌发生了翻天覆地的变化”可知，党和国家为发展民族地区实施的扶持政策有：产业扶持、易地扶贫搬迁、教育提升等。

成效：据材料三“民族地区居民人均可支配收入变化图”可知，通过国家的扶持民族地区城乡居民可支配收入大幅度提高。

17. 城市作为文明的载体，在人类文明的演进中不断地变化和发展。阅读材料，回答问题。

材料一 中世纪西欧城市是工商业中心。市民主要从事制造业或者商业，过者截然不同于农村居民的生活，在与封建领主的斗争中逐渐获得城市的自治权。

——摘编自周靖等《中外历史一百讲》

(1) 根据材料一，概括中世纪西欧城市的特点。

材料二 19世纪早期，泰晤士河是一个开放的下水道汇聚处，各种生活与工业污水无序排入。为改变这种情况，伦敦当局着手建立一个现代下水道系统。之后，英国历史上第一部防治河流污染的《1876年河流污染防治法》出台，这也是世界上第一部水环境保护法。

——摘编自钱乘旦《英国通史》第五卷

(2) 根据材料二，指出英国城市化进程中存在的突出问题及解决措施。

材料三 应国家的宏观策略转移，城市的发展出现新趋向。中国自1996年开始推行建设生态城市。2012年起，新一代信息技术创新也推动了智能城市发展。

- (3) 根据材料三，列举中国城市发展的新趋向。
- (4) 综合上述材料并结合所学知识，归纳推动城市发展的因素。

**【答案】** (1) 特点：工商业中心；拥有一定自治权。

(2) 问题：环境污染；解决措施：改善基础设施，颁布法律。

(3) 新趋向：建设生态城市；发展智能城市。

(4) 因素：工业化的推动；经济的发展；颁布法律；制定有利的政策；基础设施的建设；人口的迁徙等。

**【解析】**

**【小问1详解】**

根据材料一“中世纪西欧城市是工商业中心”，可知是工商业中心；由“市民主要从事制造业或者商业，过者截然不同于农村居民的生活，在与封建领主的斗争中逐渐获得城市的自治权”，可知拥有一定自治权；因此中世纪西欧城市的特点，是工商业中心；拥有一定自治权。

**【小问2详解】**

根据材料二“泰晤士河是一个开放的下水道汇聚处，各种生活与工业污水无序排入”，可知导致环境污染；由“为改变这种情况，伦敦当局着手建立一个现代下水道系统。之后，英国历史上第一部防治河流污染的《1876年河流污染防治法》出台，这也是世界上第一部水环境保护法”，可知改善基础设施，颁布法律文献。因此英国城市化进程中存在的突出问题是环境污染；解决措施是改善基础设施，颁布法律文献。

**【小问3详解】**

根据材料三“中国自1996年开始推行建设生态城市。2012年起，新一代信息技术创新也推动了智能城市发展”，可知中国城市发展的新趋向是建设生态城市；发展智能城市。

**【小问4详解】**

结合所学知识可知，推动城市发展的因素有，工业化的推动；经济的发展；颁布法律；制定有利的政策；基础设施的建设；人口的迁徙等。

18. 中国式现代化道路开辟了人类文明新形态 同学们围绕“中国式现代化道路”开展探究性学习。请你参与完成以下三项任务。

**【任务一文本阅读】** 同学们通过文本阅读，初步感知“中国式现代化道路”。

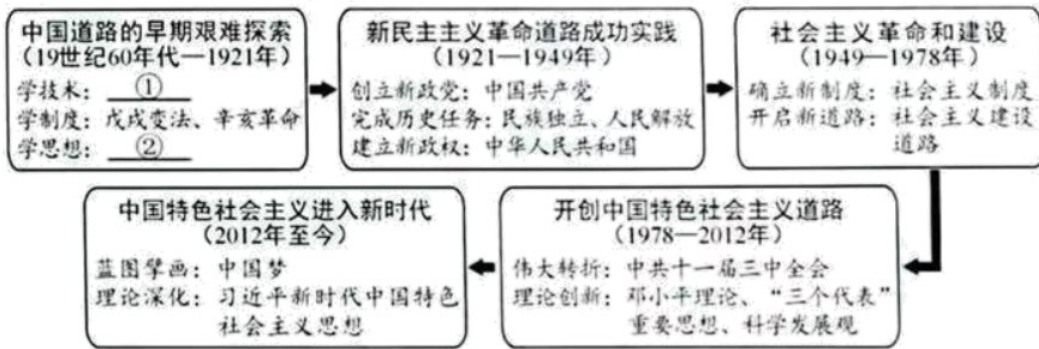
材料一 传统的现代化道路就是指由西方文明所主导的现代化发展进程，其本质就是以西方文明为内核，融合了现代工业发展的资本主义现代化发展之路。中国式现代化道路，是相对于西方现代化道路而言的，它是以中华文明为内核的现代化发展模式，同时也是在现代工业文明发展的基础之上以社会主义制度为原则和价值旨归的现代化发展新路。

——摘自王立胜《中国式现代化道路与人类文明新形态》

(1) 根据材料一，分别指出“传统的现代化道路”与“中国式现代化道路”的文明内核。

【任务二知识梳理】同学们在阅读的基础上梳理了近代以来中国现代化道路的探索历程。

材料二



(2) 根据材料二并结合所学知识，在材料中的①和②处填入相应的历史事件。请总结中国道路早期探索的共同点，并说明其受挫的原因。

【任务三观点论证】同学们分享了关于“中国式现代化道路”的阅读笔记。

材料三

笔记一	笔记二	笔记三
<p>中国共产党的成立，解决了中国现代化建设的领导力量问题，并提供了正确方向指引和坚强组织保障。</p> <p>——摘编自齐英艳《中国式现代化是中国共产党领导的社会主义现代化》</p>	<p>中国式现代化取得历史性成就雄辩地证明，这是一条符合中国实际、植根中国国情、创造人民美好生活的现代化新道路。</p> <p>——摘编自鲁保林等《坚定不移走中国式现代化道路的底气》</p>	<p>党领导人民开创了中国式现代化道路，我们成功找到了实现中华民族伟大复兴的正确方向和路径。</p> <p>——摘编自尤琳等《中国式现代化是实现中华民族伟大复兴的根本之路》</p>

(3) 请从材料三中选择一则笔记，围绕“中国式现代化道路”提炼观点，并综合上述材料加以论证。（要求：观点正确，至少列举两个史实，史论结合，逻辑清晰，有总结提升。）

【答案】(1) 内核：传统：西方文明；中国：中华文明。

(2) 事件：①：洋务运动；②：新文化运动。

共同点：目的相同，都是救亡图存，路径相同，都是学习西方。

原因：缺乏一个先进的、强有力的政党领导；专注于学习西方，忽视了中华文明这一内核，无法把西方的先进内容与中国国情相结合。

(3) 示例：选择笔记一。

观点：中国现代化建设必须坚持中国共产党的领导。

论述：1978年安徽凤阳小岗村的大包干开启了农村的改革，但正是在中共中央的支持和倡导下，家庭联产承包责任制才逐步在全国推开，激发了全国农民的劳动热情，带来了农村生产力的大解放。与此同时，中国共产党把马克思主义同中国实际相结合，创立了邓小平理论、“三个代表”重要思想、科学发展观、习近平新时代中国特色社会主义思想等先进理论，为中国的现代化建设提供了先进的理论指导和正确的方向指引。进入中国特色社会主义新时代以后，中国共产党紧紧依靠人民，为实现中华民族伟大复兴的中国梦而不懈努力，全面从严治党，全面依法治国，全面深化改革，全面建设社会主义现代化国家。

结论：综上所述可知，中国共产党为中国的现代化建设的提供了正确方向指引和坚强组织保障，中国现代化建设必须坚持中国共产党的领导。

### 【解析】

#### 【小问1详解】

内核：根据材料一中的“传统的现代化道路……其本质就是以西方文明为内核”可知，“传统的现代化道路”的文明内核是西方文明；从“中国式现代化道路……是以中华文明为内核的现代化发展模式”可知，“中国式现代化道路”的文明内核中华文明。

#### 【小问2详解】

事件：根据所学可知，中国道路的早期探索阶段，首先是洋务派发起了洋务运动，学习西方技术，然后是资产阶级维新派发起了戊戌变法和资产阶级革命派发起了辛亥革命，学习西方制度，最后是一部分先进知识分子认识到仅有政治制度的变革不足以救中国，因此发起了新文化运动，进行思想文化领域的革新。由此可知，学技术的①是洋务运动，学思想的②是新文化运动。

共同点：根据所学可知，无论是洋务运动、戊戌变法，还是辛亥革命、新文化运动，其目的都是救亡图存，探索拯救中国的近代化道路；无论是通过创办企业学习西方技术，还是通过变法学习西方制度，无论是通过革命学习西方制度，还是通过新文化运动学习西方思想文化，它们的路径都是学习西方。

原因：根据所学分析可知，新民主主义革命道路的成功实践，离不开中国共产党的领导，由此可知，中国道路早期探索受挫的原因之一是缺乏一个先进的、强有力的政党领导；分析中国特色社会主义道路的开创和成功可知，这一道路是紧密结合中国实际、符合中国国情的，而中国道路的早期探索阶段，无论是洋务运动、戊戌变法，还是辛亥革命、新文化运动，它们都专注于学习西方，忽视了中华文明这一内核，无法把西方的先进内容与中国国情相结合，这也是它们受挫的一大原因。

#### 【小问3详解】

本小题为开放性试题，按照要求任选一个笔记，提炼出观点，论述时史论结合，言之有理即可。

可以选择笔记一，从“中国共产党的成立，解决了中国现代化建设的领导力量问题，并提供了正确方向指引和坚强组织保障”可知，中国的现代化建设必须坚持中国共产党的领导，因此可以拟定观点为“中国现代化建设必须坚持中国共产党的领导”。

论述时，首先列举对内改革中的家庭联产承包责任制，说明中国共产党领导的关键作用——1978年安徽凤阳小岗村的大包干开启了农村的改革，但正是在中共中央的支持和倡导下，家庭联产承包责任制才逐步在全国推开，激发了全国农民的劳动热情，带来了农村生产力的大解放；然后列举中国共产党的理论创新和意义——中国共产党把马克思主义同中国实际相结合，创立了邓小平理论、“三个代表”重要思想、科学发展观、习近平新时代中国特色社会主义思想等先进理论，为中国的现代化建设提供了先进的理论指导和正确的方向指引；最后列举中国共产党在中国特色社会主义新时代的 leadership 作用——进入中国特色社会主义新时代以后，中国共产党紧紧依靠人民，为实现中华民族伟大复兴的中国梦而不懈努力，全面从严治党，全面依法治国，全面深化改革，全面建设社会主义现代化国家。

完成论述后，进行总结，呼应观点，总结提升——综上所述可知，中国共产党为中国的现代化建设的提供了正确方向指引和坚强组织保障，中国现代化建设必须坚持中国共产党的领导。