

广元市 2020 年初中学业水平考试暨高中阶段学校招生考试

历史

满分 60 分，考试时间 60 分钟。

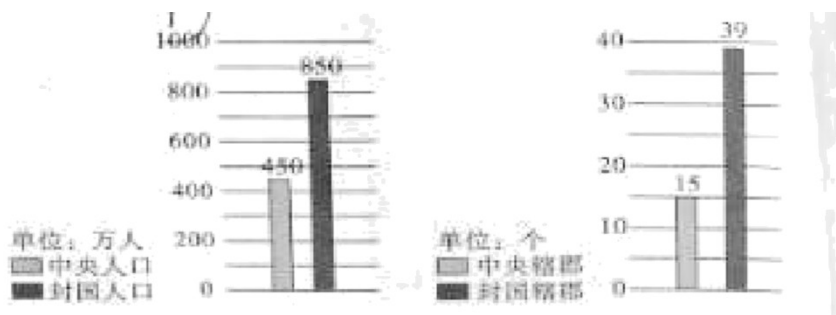
第 I 卷选择题

一、选择题

1. 推进党风廉政建设，健全纪检监察制度是防止官吏贪污腐化的重要途径。为加强对官员的监察，秦始皇时期设置了

- A. 丞相 B. 太尉 C. 御史大夫 D. 县令

2. 如图反映的是“西汉初期中央和封国力量的对比”。读图分析统治者采取什么措施解决了图中反映的社会问题



- A. 罢黜百家，独尊儒术 B. 休养生息政策
C. “推恩令” D. 把盐铁经营权收归国有、实行盐铁专卖

3. 2013 年，习近平主席提出与有关国家共同建设“丝绸之路经济带”和“21 世纪海上丝绸之路”，图“一带一路”的战略。纵观历史，西汉时期也有著名的陆上“丝绸之路”，其起点是

- A. 长安 B. 洛阳 C. 开封 D. 临安

4. 唐朝是中国古代历史上的鼎盛时期，在当时的世界上声名显赫，选出下列与唐朝史实表述正确的一项

- A. 唐太宗把金城公主嫁给了松赞干布
B. 唐朝是中国历史上诗歌创作的黄金时期，最为著名的文人有李白、杜甫、苏轼等
C. 在唐朝进口的物产中，日本物产居于首位
D. 在唐朝与日本的文化交流中，最有影响的人物是鉴真

5. 《资治通鉴》是著名史学家司马光主持编写的一部编年体通史巨著。下列历史人物不可能出现在该著作中的是

- A. 秦始皇 B. 张骞 C. 毕昇 D. 唐太宗

6. 17 世纪英国著名的哲学家培根在他的著作《新工具》中写道：“举世皆知的印刷术，火药和磁石，人类

的世界因为这三种发明而为之改现。”下列对此解读不准确的是

- A. 三大发明促进了中国社会的转型
- B. 印刷术对人类文明的发展产生了重大的影响
- C. 指南针大大促进了世界远洋航海技术的发展
- D. 火药的发明推动了欧洲社会的变革

7.有学者评价：“长征简直是将革命划分为‘公元前’和‘公元后’的一条分界线”。请你以长征进程为序，将下面这首顺序颠倒的诗歌恢复原貌

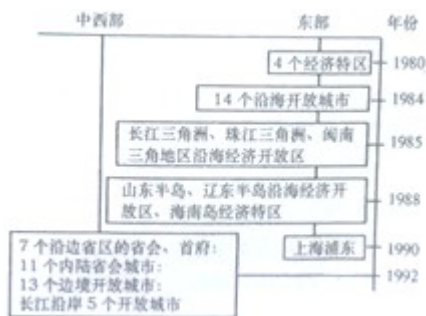
- ① 娄山关前战事急，遵义城头赤帜竖
- ② 铁壁合围难突破，暮色苍茫别红都。
- ③ 舵手一易齐桨橹，革命从此上新途。
- ④ 强渡湘江血如注，三军今日在奔何处？

- A. ③①②④
- B. ①③②④
- C. ④①②③
- D. ②④①③

8.中国共产党历来重视加强党的执政能力建设和军队建设。下列确立了“思想建党，政治建军”的建党建军原则的会议是

- A. 遵义会议
- B. 中共一大
- C. 八七会议
- D. 古田会议

9.阅读下面“中国对外开放示意图”，对此图理解错误的是



- A. 对外开放率先从东南沿海四个经济特区起步
- B. 开放 14 个沿海港口城市意味着我国对外开放的地区逐渐扩大
- C. 开放沿江、内陆省会（首府）城市和沿边城市标志着开放深入内地
- D. 形成经济特区—沿海经济开放区—沿海开放城市—内地的对外开放格局



10.今年是脱贫攻坚收官之年。自 2012 年就任总书记以来，习近平同志高度关注和重视脱贫攻坚工作，多次国内考察，把扶贫开发作为重要内容。以上说明实现中国梦必须

- A. 全面从严治党
- B. 不断为民造福

C. 全面深化改革

D. 全面依法治国

11.15 世纪以前，人们并不清楚世界究竟有多大，有多少陆地，有多少海洋。从 15 世纪开始，欧洲许多冒险家多次进行海外探险。下列哪位航海家与发现新大陆美洲有关



12. 假如你生活在 19 世纪上半期，有可能（ ）

A. 坐飞机旅行

B. 坐火车外出

C. 乘汽车上学

D. 在电灯下看书

13. 某历史公众号准备推出一期专题——亚非拉国家的新发展，下列可以放进专题资源包的是

① 图片：《纳米比亚独立》 ② 视频：《万隆会议》

③ 地图：《巴拿马收回运河主权》 ④ 论文：《拿破仑帝国的兴衰》

A. ①②③

B. ①②④

C. ①③④

D. ②③④

14. 二战后，人类社会的很多方面都发生了很大变化，人们的生活方式也随之改变。请你结合所学知识，选出有误的一项

A. 20 世纪 90 年代以来，互联网在全球迅速普及，标志着人类社会开始进入“信息时代”

B. 今天，全世界绝大多数国家和地区的妇女都没有选举权

C. 随着全球范围内工业化 推进，环境恶化成为严重的问题

D. 人口过快增长带来了巨大的环境压力，世界粮食问题日益凸显

15. 世界人民践行“人类命运共同体”理念的主要行动有

① 成立联合国 ② 推行“冷战” ③ 建立 WTO ④ 设立“世界环境日”

A. ①③④

B. ②③④

C. ①②③

D. ①②④

第 II 卷非选择题

二、材料解析题

16. 实现中华民族伟大复兴，是中华民族近代以来最伟大 梦想。在实现民族复兴的道路上，中国共产党管领中国人民迈出了步步坚实的步伐。阅读材料，回答问题

【渐露新曙光】

材料一 “革命声传画舫中，诞生共党庆工农，重来正值清明节，烟面迷蒙访旧踪”。

——1964 年 4 月 5 日董必武同志题诗

(1) 诗中的“画舫”所在地是指哪里？

【踏上新征程】

材料二 “改革开放和社会主义现代化建设从这里拉开序幕……社会主义在遭受严重挫折之后开始在这里重新焕发生机。

(2) 材料二中的“这里”是指什么事件？

【形成新道路】

材料三 1982 年，在中共十二大上，邓小平明确提出：“把马克思主义的普遍真理同我国的具体实际结合起来，走自己的路……”

(3) 结合材料，指出中国共产党把马克思主义与中国具体实际相结合，形成适合中国国情的革命和建设道路分别是什么？

【走向新辉煌】

材料四 2015 年 10 月，中共十八届五中全会提出的新发展理念针对的是我国发展中的突出矛盾，回答的是中国当前最为紧迫的现实问题，关系我国发展全局和来来前景。

(4) 请回答材料四中“新发展理念” 内容是什么？

17. 英、法、美三国通过资产阶级革命确立了资本主义制度，走上资本主义道路。阅读材料。回答问题

材料一 凡未经议会同意，以国王权威停止法律或停止法律实施之僭越权力，为非法权力……除经议会同意外，平时在本王国内征募或维持常备军，皆属违法……

(1) 对材料中这一现象产生关键影响的法律文献是什么？之后，英国的权力重心发生了怎样的转移？

材料二 人人生而平等，他们都从他们的“造物主”那边被赋予了某些不可转让的权利，其中包括生命权、自由权和追求幸福的权利。

(2) 材料二表述的文献被称为“第一个人权宣言”。它是什么文献？

材料三 人生来是而且始终是自由的，在权利方面是平等的：自由、财产、安全和反抗压迫是天赋而不可剥夺的人权，国家主权属于人民。在法律面前人人平等。

(3) 概括材料三的主要主张。

(4) 依据上述材料并结合所学知识，指出三个国家资产阶级革命的共同作用。并概括世界近代政治文明演进的趋势。

18.2020年6月。中国政府派出三军仪仗队到俄罗斯参加庆祝世界反法西斯战争胜利75周年红场阅兵活动。回顾历史，避免战争。争取和平与发展，成为当今全人类的共识。阅读材料，回答问题

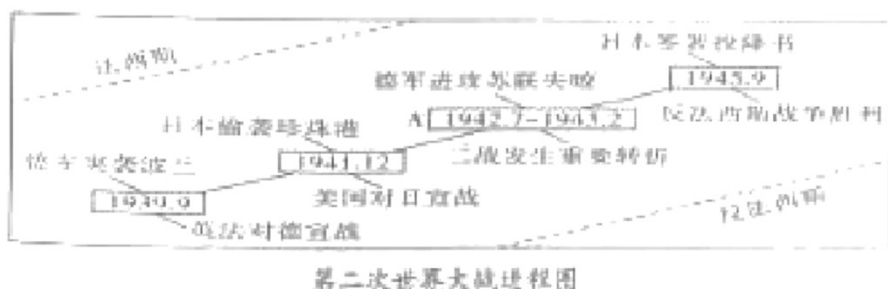
【忆战争之害】

材料一 第一次世界大战历时4年多，先后参战的国家共计30多个，约15亿人卷入战争，超过当时世界总人口的一半。据统计，参战各国的伤亡人数超过3000万。

(1) 结合材料一，请说出这场战争的性质是什么？

【明战争之程】

材料二



(2) 材料二中图片A处指的是什么重大历史事件？

【启战争之思】

(3) 请根据上述材料，说说两次世界大战给我们留下了什么深刻教训？

【展未来之望】

材料三 冷战的结束使世界形势发展的总趋势是走向缓和，但仍然存在很多矛盾和冲突。近年来。全球经济出现波折，贸易保护主义阻碍了世界的健康发展。

(4) 根据材料三，回答当今世界发展趋势在政治和经济方面的表现。

(5) 面对当今世界格局发展的趋势，你认为中国应该如何争取有利的国际地位？

试卷相关说明

本试卷的题干、答案和解析均由组卷网 (<http://zujian.xkw.com>) 专业教师团队编校出品。登录组卷网可对本试卷进行**单题组卷**、**细目表分析**、**布置作业**、**举一反三**等操作。

试卷地址：[在组卷网浏览本卷](#)

组卷网是学科网旗下的在线题库平台，覆盖小初高全学段全学科、超过 900 万精品解析试题。关注组卷网服务号，可使用移动教学助手功能（布置作业、线上考试、加入错题本、错题训练）。



学科网长期征集全国最新统考试卷、名校试卷、原创题，赢取丰厚稿酬，欢迎合作。
钱老师 QQ : 537008204 曹老师 QQ : 713000635