

2015年湖北省孝感市中考历史试题

本试卷分为第Ⅰ卷和第Ⅱ卷两部分，满分50分。

第Ⅰ卷（选择题，共22分）

本卷共22小题，每小题1分，共计22分。在每小题所给出的四个选项中，只有一项是符合题目要求的。

(2015·孝感) 1.春秋战国时期发生社会大变革的根本原因是

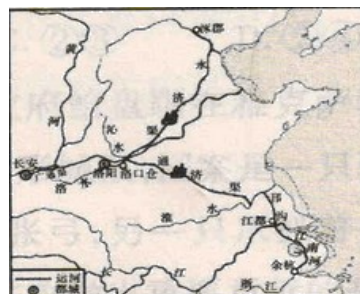
- A.诸侯争霸 B.百家争鸣 C.商鞅变法 D.铁器与牛耕

(2015·孝感) 2.“该船队到过亚非30多个国家和地区，最远到达非洲东海岸和红海沿岸。是世界航海史上的壮举。”与该材料密切相关的事件是

- A.张骞通西域 B.哥伦布到达美洲
C.郑和下西洋 D.麦哲伦环球航行

(2015·孝感) 3.识图析图是学习和研究历史的一种重要方法。右图是中国古代某著名工程示意图，根据示意图上的有效信息判断，该工程为

- A.隋朝的大运河 B.秦朝的万里长城
C.战国时期的都江堰 D.汉代的丝绸之路



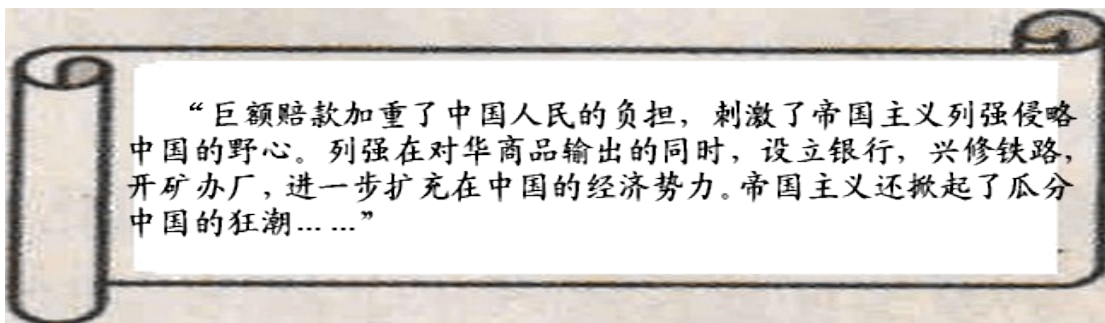
(2015·孝感) 4.创新是一个民族进步的灵魂，是一个国家兴旺发达的不竭动力，创新精神决定着—个民族和国家的发展进程。下列政治制度或科技成果按时间排序，正确的有

- ①造纸术 ②行省制 ③活字印刷 ④分封制
A.②①③④ B.①③②④ C.④①③② D.③①②④

(2015·孝感) 5.历代中央政府都十分注重对边疆地区的管理，努力维护国家统一和领土完整。元朝时为加强对西藏地区的管辖而设置了

- A.宣政院 B.安西都护府 C.驻藏大臣 D.伊犁将军

(2015·孝感) 6.下图为张自强同学在学习《马关条约的影响》时所做的课堂笔记，但笔记内容不够完整，请你帮他对该内容做进一步的完善



- A.中国的领土完整和主权独立开始遭到破坏 B.标志着中国近代史的开端
C.中国社会半殖民地化程度大大加深
D.清政府成为帝国主义列强统治中国的工具

(2015·孝感) 7.1889年5月出使美国的清朝政府大臣张荫桓奏请清政府以长方形黄色龙旗为国旗，旗面黄色为满族的代表色，旗上的龙则象征皇帝。这面国旗于1900年在全国开始悬挂，直至清朝灭亡。黄龙旗在全国悬挂之际，正值国家危难之时。这里的“国家危难”是指

- A.鸦片战争爆发 B.英法联军火烧圆明园
C.清政府割台湾给日本 D.八国联军发动侵华战争

(2015·孝感) 8.有学者认为,甲午战争后,中国开始由学习西方的“先进技术”转向学习西方的“政治制度”。这里的“政治制度”应理解为

- A.宣传马克思主义 B.建立资产阶级的政治体制
C.在思想领域里开展新文化运动 D.建立无产阶级政权

(2015·孝感) 9.下面四幅图片是洋务运动时期创办的近代工业,其中属于民用企业的是



- A.江南制造总局 B.福州船政局 C.安庆内军械所 D.汉阳铁厂

(2015·孝感) 10.这次革命“它的最大影响当属推翻君主政体,建立民主共和政治。它的意义不同于中国历史上常见的改朝换代,也不仅仅限于赶跑了一个皇帝,而是从根本上动摇了大多数中国人的信仰……”材料中的“这次革命”指的是

- A.戊戌变法 B.辛亥革命 C.新文化运动 D.国民革命

(2015·孝感) 11.中国职业学校教育始于同治五年,最早由左宗棠在福州船政学堂实施,初称“实业教育”,1917年改称“职业教育”。戊戌变法期间,清政府改科举,废八股,大力兴办教育,创办的_____成为中国近代最早的一所体制完备的高等学府。

- A.京师大学堂 B.北京大学 C.时务学堂 D.京师同文馆

(2015·孝感) 12.我国有80%的人口生活在农村。农村在我国新民主主义革命、社会主义建设、经济体制改革中都发挥了重要作用。井冈山革命根据地的建立

- A.揭开了人民解放战争战略进攻的序幕
B.开辟了农村包围城市的革命道路
C.保存了党和红军的基本力量,为开创中国革命的新局面奠定了基础
D.是中国共产党创建军队、独立领导武装斗争的开始

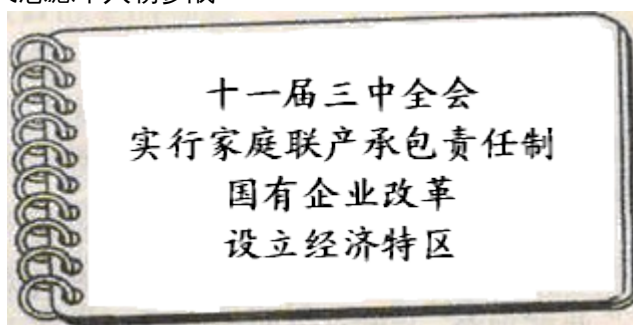
(2015·孝感) 13.有学者说“我们正处在有史以来最大的转折关头,,第一次全民一心一意地在瓦砾和血泊中奋争,以创造一个赫然在望的时代。”这位学者述说的历史事件应为

- A.西安事变和平解决 B.全民族的抗日战争
C.刘邓挺进大别山 D.中国人民志愿军入朝参战

(2015·孝感) 14.学习历史要注意归纳与总结。右图是陈老师上课时的板书设计,请你为

该板书内容设计一个恰当的主题

- A.社会主义建设道路的探索
B.改革开放
C.中国国际地位的显著提高
D.日新月异的社会生活



(2015·孝感) 15.中国共产党自诞生以来,为了实现民族独立和人民幸福,经历了艰苦卓绝的奋斗历程。下列关于中国共产党奋斗历程的表述错误的是

- A.遵义会议成为中国共产党和中国革命史上生死攸关的转折点

B.中共七大明确规定毛泽东思想为党的指导思想

C.中华人民共和国的成立标志着我国开始进入社会主义初级阶段

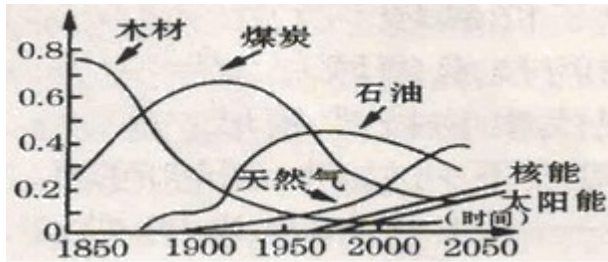
D.十一届三中全会作出了把工作重点转移到经济建设上来的战略决策

(2015·孝感) 16.钱乘旦教授在论述欧洲资产阶级革命时说：“一个人的绝对权力阻碍了国家的发展，不限制这种权利，国家便无法进步。”在欧美资产阶级革命过程中，为限制“一个人的绝对权力”而制定的文献有

①《权利法案》 ②《独立宣言》 ③《美国1787宪法》 ④《人权宣言》

A.②③ B.①③④ C.②③④ D.②④

(2015·孝感) 17.观察下图，导致19世纪末20世纪初石油开采量大幅度上升的原因是



A.飞机的发明 B.电子计算机的出现

C.蒸汽机的发明 D.火车的问世

(2015·孝感) 18.日本学者福泽谕吉在《文明论概略》一书中就社会转型的问题说道：“汲取欧洲文明，必须先其难者而后其易者，首先变革人心，然后改变政令，最后达到有形的物质。按照这个顺序做，虽然有困难，但是没有真正的障碍，可以顺利达到目的。”材料中的“变革人心”指的是

A.新航路开辟 B.洋务运动 C.启蒙思想 D.马克思主义

(2015·孝感) 19.“第一次世界大战爆发前，帝国主义各国政治经济发展不平衡，实力对比发生重大变化，后起的帝国主义国家要求重新瓜分世界。”该材料揭示了

A.第一次世界大战爆发的原因 B.第一次世界大战发生的过程

C.第一次世界大战的结果 D.第一次世界大战的性质

(2015·孝感) 20.1929——1933年，一场空前严重的经济危机首先从美国爆发，迅速席卷了整个资本主义世界。这次危机波及范围广、持续时间长、破坏性大，受此影响

A.德意日建立了法西斯政权

B.两大军事集团“三国同盟——三国协约”正式形成

C.日本发动了侵略中国的九一八事变

D.凡尔赛——华盛顿体系建立

(2015·孝感) 21.二战后，日本和联邦德国经济得到迅速恢复和发展，其共同原因是

A.朝鲜战争对经济的刺激 B.成立了欧洲经济共同体

C.政治上，保留天皇的统治权 D.重视教育与科学技术

(2015·孝感) 22.苏联解体后，世界政治格局呈现多极化趋势。随着中国经济的快速发展，综合国力的不断增强，2013年美国国防部长在新加坡香格里拉会议上宣称到2020年要把美国海、空军实力的60%部署在亚太地区。美国此举的主要意图是为了

A.维护世界和平 B.保障太平洋及南海航行自由

C.同俄罗斯争夺世界霸权 D.遏制中国的崛起

第II卷 (非选择题，共28分)

本卷共 3 小题，第 23 小题 10 分，第 24 小题 8 分，第 25 小题 10 分，共计 28 分。

(2015·孝感) 23. (10 分) 对外交往是一个国家综合实力的展示。在我国对外交往的历史中，既有辉煌过去，也饱受过近代的屈辱，如今的中国，正在逐渐影响着世界。阅读材料，回答有关问题。

材料一 唐朝实行开放的对外政策，当时先进的经济文化有着巨大的吸引力，中外交往出现了盛况空前的局面。许多国家纷纷遣使到唐朝，与唐朝通商的国家多达 70 多个。

清朝前期，统治者以天朝大国自居，认为国内“物产丰富”，不需要外洋货物，因而严格限制对外贸易，既严格限制外国商人来华贸易，又严格限制中国商民出海。

——摘自岳麓版中国历史七年级下册

(1) 历史上，向唐朝派出遣唐使最多的是哪个国家？(1 分) 清朝前期，政府在对外交往中采取什么政策？(1 分)

材料二 观察下面两幅图片



南京条约签字仪式

五四运动中北京街头的游行队伍

(2) 中英《南京条约》的签订损害了中国的哪些主权？(2 分) 五四运动爆发的导火索是什么？(1 分)

材料三 中华人民共和国成立以后……彻底结束了近百年的屈辱外交，揭开了对外关系的新篇章……20 世纪 50 年代，提出了独立自主的外交政策和外交方针；20 世纪 70 年代，随着世界局势的变化，中国外交有了重大突破；改革开放后，随着经济实力的增强，中国开始走向世界并改变世界。

——摘自人教版普通高中《历史》必修 II

(3) 中国外交政策成熟的标志是什么？(1 分) “求同存异”的方针是在哪次会议上提出的？(1 分)

(4) 依据材料并结合所学知识，指出 20 世纪 70 年代我国外交方面有哪些“重大突破”？(2 分) 在走向世界的过程中，中国加入的国际或地区性经济组织是什么？(任举一例，1 分)

(2015·孝感) 24. (8 分) 大国的兴衰消长，始终是世界舞台上最受人瞩目的焦点。大国崛起的过程中各具特色的发展道路，给人类留下了丰富的经验教训，启迪着今天，也影响着未来。阅读材料，回答有关问题。

材料一 导致英国迅速崛起的一个重要因素，便是在 (1688 年) 宫廷政变之后，英国迅速

建立起了一个适合国情和生产力发展的政治体制。这个体制保证了英国社会有一个相对宽松与和平的环境，从而为社会经济发展创造了有利条件。

——《强国之鉴》

(1) 材料一中，英国建立了怎样的政治体制？(1分)这一体制的建立与1689年英国颁布的哪一部法律文献密切相关？(1分)

材料二 1869年，(日本)第一次使用电报连通了横滨和东京。1872年，连接这两座城市的第一条铁路竣工。1870年，这个国家有了第一台纺纱机。

独立后的美国经济迅速发展，1860年工业总产值跃居世界第四位。但是南北两种经济形式之间的矛盾日益尖锐，严重阻碍了美国资本主义经济的发展。

——摘自岳麓版初中历史教学参考书

(2) 材料二所述史实与日本历史上哪一次改革有关？(1分)这次改革后，日本的社会性质发生了怎样的变化？(1分)为解决材料二中所述问题，美国采取了怎样的措施？(1分)

材料三 大国之谜，当然还有另外的答案，那就是体制创新……列宁说：‘当我们用‘强攻’的办法，即用最简单、迅速、直接的办法实行社会主义的生产和分配原则的尝试已告失败后，我们则必须改变。’美国在20世纪30年代，又加了政府干预经济的手段。从此，看得见的手和看不见的手‘交相作用，改变了人们对传统的市场经济模式的认识。

——《大国崛起》

(3) 面对发展过程中出现的问题，20世纪20年代的苏俄以及20世纪30年代的美国在经济政策方面各自做了怎样的调整？(2分)这些调整有何共同的积极作用？(1分)

(2015·孝感) 25. (10分) 合作探究

中俄两国是友好邻邦，两国领导人十分重视和发展两国关系。目前，双方在政治、经济、军事和文化科技领域进行了全方位的合作，呈现出良好的发展势头，堪称是构筑新型大国关系的典范。阅读材料，探究有关问题。

【学习·合作】

材料一 1917年，俄国革命一声炮响，给中国人民送来了马克思列宁主义，一批先进的知识分子转向研究和宣传马克思主义。

——摘自岳麓版八年级历史上册

(1) 材料中的“一声炮响”指的是什么历史事件？(1分)在中国传播马克思主义的先驱者是谁？(1分)

【友好·合作】

材料二 2015年5月9日，俄罗斯举行盛大阅兵仪式，庆祝反法西斯战争胜利70周年，中国国家主席习近平应邀出席了庆祝活动。今年中国也将举行阅兵仪式，庆祝抗战胜利70周年。中俄分别举行纪念活动，其目的是希望人们牢记二战这一历史灾难。

——摘自人民网

(2) 第二次世界大战期间，中国和苏联一度成为盟友，这主要是因为哪一国际性组织的

成立? (1分) 决定苏联在欧战结束后三个月内参加对日作战的是什么会议? (1分)

材料三 苏联成立后,苏联人民在布尔什维克党和斯大林领导下继续进行社会主义建设,取得了很大成就。新中国成立后,党和政府借鉴苏联的建设经验,有计划的发展国民经济。1953年,我国开始实行国家建设的第一个五年计划。

——摘自岳麓版初中历史教材

(3) 到1937年第二个五年计划完成时,苏联的经济建设取得了怎样的成就? (1分) 为改变我国工业落后状况,“一五”计划集中主要力量优先发展重工业。如果要举办一次“一五”计划成就展,你认为哪些成就可以参展?(请列举二例) (2分)

【携手·合作】

材料四 2014年7月14日,习近平出席在巴西举行的金砖国家领导人会议期间会见了俄罗斯总统普京。习近平表示,我们就进一步发展中俄关系和扩大各领域合作达成一系列历史性共识,共同推动中俄全面战略协作伙伴关系进入新的发展阶段。

——摘自人民网

(4) 从材料四中,你能获取到的最有效信息是什么? (1分) 请你结合所学知识,就新时期如何促进中俄关系友好发展提出两点建议? (2分)

孝感市 2015 年高中阶段学校招生考试
历史参考答案及评分标准

选择题

题号	1	2	3	4	5	6	7	8	9	10
答案	D	C	A	C	A	C	D	B	D	B
题号	11	12	13	14	15	16	17	18	19	20
答案	A	B	B	B	C	B	A	C	A	C
题号	21	22								
答案	D	D								

非选择题

23. (1) 日本 (1分) 闭关锁国 (1分)

(2) 领土主权 司法裁判权 关税自主权 (答出其中两点即可, 每点 1分, 共 2分) 巴黎和会中国外交的失败 (1分) (3) 和平共处五项原则 (1分) 万隆会议 (1分)

(4) 恢复中国联合国合法席位 中美建交 中日建交 (答出其中两点即可, 每点 1分, 共 2分) 亚太经合组织 (APEC) 世界贸易组织 (WTO) 国际货币基金组织、世界银行、上海合作组织等 (考生如有其它答案只要符合题意亦可, 1分)

24. (1) 君主立宪制 (1分) 《权利法案》 (1分)

(2) 明治维新 (1分) 由封建社会逐步转变为资本主义社会 (或走上了资本主义道路) (1分) 美国内战 (或美国南北战争) (1分)

(3) 苏俄: 新经济政策 (1分) 美国: 罗斯福新政 (1分) 促进了社会经济发展 (或促进了经济的恢复与发展, 巩固了政权) (1分, 言之有理可酌情给分)

25. (1) 十月革命 (1分) 李大钊 (1分)

(2) 反法西斯联盟 (或《联合国家宣言》的发表) (1分) 雅尔塔会议 (1分)

(3) 从落后的农业国变成强大的工业国 (工业产值跃居欧洲第一、世界第二位) (1分) 长春第一汽车厂建成投产 武汉长江大桥建成通车 青藏、康藏公路顺利通车 喷气式飞机 东北工业基地基本建成等 (答出其中任意两点即可得分, 2分。考生如有其它答案, 只要符合题意也可得分。)

(4) 推动全面战略合作伙伴关系进入新阶段 (1分)

坚持和平共处五项基本原则、(互相尊重领土主权; 互不侵犯; 互不干涉内政; 平等互惠; 和平共处) 增强互信、重大问题协商一致; 有利于世界和平发展; 加强各自的经济政治发展; 增强国家综合国力; 重视科技教育等 (本题为开放性试题, 考生只要答出其中两点即可, 2分。如有其它见解, 只要符合题意, 亦可得分。)