

二〇二二年全市初中学生学业水平考试

历史试题

亲爱的同学，伴随着考试的开始，你又走到了一个新的人生驿站。请你在答题之前，一定要

仔细阅读以下说明：

1. 试题由选择题与非选择题两部分组成，共 6 页。选择题 50 分，非选择题 50 分，共 100 分。考试时间 60 分钟。

2. 将姓名、考场号、座号、考号填写在试题和答题卡指定的位置。

3. 试题答案全部涂、写在答题卡上，完全按照答题卡中的“注意事项”答题。

4. 考试结束后，将本试题和答题卡一并交回。

愿你放松心情，认真审题，充分发挥，争取交一份圆满的答卷。

选择题（共 50 分）

一、选择题（下列各小题的四个选项中，只有一项符合题意。每小题 2 分，共 50 分。）

1. “在长期的劳动中，人类逐渐学会如何说话、制作工具和使用火，从而进化成了‘人’。”这里的“进化”应发生在（ ）

A. 旧石器时代 B. 河姆渡文化时期 C. 半坡文化时期 D. 尧舜禹时代

2. 我国省级行政区简称的由来大体有三种：第一，取全称中的一个字或几个字；第二，因境内山、河、湖而得名；第三，由古地名或古国名演化而来。下列省份简称的由来属于第三种的是（ ）

A. 河南湖南 B. 江西陕西 C. 辽宁浙江 D. 山东山西

3. 古代民本思想是人本思想在政治伦理上的集中体现。下列语句最能体现民本思想的是（ ）

A. 民惟邦本，本固邦宁 B. 法与时变，礼与俗化
C. 生于忧患，死于安乐 D. 事在四方，要在中央

4. “任战胜之威，蚕食天下，并吞战国，海内为一，功齐三代。”西汉政论家主父偃的这段话评价的历史人

物应是 ()

- A. 齐桓公 B. 秦孝公 C. 秦始皇 D. 汉武帝

5. 两汉人民创造了灿烂的文化，成就斐然。能反映这一时代特征的是 ()

- A. 全国文字 统一 B. 纸的发明与改进 C. 科举制度的创立 D. 雕版印刷的成熟

6. 下列古钱币的形制与铸币文字蕴含着丰富的历史信息。这最适合用来研究，中国古代 ()



秦半两钱 唐开元通宝 契丹货币 西夏货币

- A. 民族交融的加强 B. 冶铁技术的进步 C. 抑商政策的演变 D. 征税方式的变化

7. 《元史·地理志》载：“元有天下，薄海内外，人迹所及，皆置驿传，使驿往来，如行国中。”元朝政府这样做的初衷是 ()

- A. 便利赋税征收 B. 改善民族关系 C. 促进物资交流 D. 加强各地联系

8. 明末学者黄道周曾这样评述某位历史人物：“因练三军，短长互组。南北并驱，利于险走。阵名鸳鸯，可暂可久。分守浙东，岛夷时吼。”该历史人物应是 ()

- A. 岳飞 B. 戚继光 C. 郑成功 D. 渥巴锡

9. 与汉代“千里不贩柔”相比，明清时期，粮食、布匹等民生日用品已成为长途贩运 主要商品，且出现了诸多商品粮基地。下列各项能佐证这一说法的是 ()

- A. 交子 出现 B. 市舶司的设置 C. 商帮的兴起 D. 十三行的设立

10. 有学者认为：“就世界大势论，鸦片战争是不能避免的。”这里所说的“大势”，主要是指 ()

- A. 西欧手工工场兴起 B. 世界贸易总额骤减
C. 工业文明迅速发展 D. 自然经济开始解体

11. “作为一场政治运动，百日维新短命而败，但作为一场更广阔意义上的社会文化运动，自有其成功之处。”据此可知，戊戌变法的“成功之处”主要在于 ()

- A. 沉重打击了西方列强 B. 削弱了顽固派的势力
C. 巩固了儒学正统地位 D. 推动了新思想的传播

12. 《中国共产党简史》中写道：“党对军队的绝对领导，是人民军队永远不变的军魂。这一根本原则和制

度，发端于南昌起义，奠基于三湾改编，定型于_____。”文中横线处的内容应是（ ）

- A. 八七会议 B. 古田会议 C. 遵义会议 D. 中共七大

13. 美国记者哈里森·索尔兹伯里在《长征——前所未闻的故事》一书中指出：“从红军 1934 年 10 月在华南渡过浅浅的于都河，直至毛泽东 1949 年 10 月 1 日在北京天安门城楼上宣布中华人民共和国成立……长征把中国这段历史紧紧地联系在一起。”这段话突出说明了（ ）

- A. 长征及其精神的影响 B. 民主革命任务的变化
C. 革命根据地的重要性 D. 统一战线的历史地位

14. 下面是我国民政部 2014 年公布的首批 300 名著名抗日英烈与英雄群体情况统计表。据此表可知，抗日战争的基本特点是（ ）

群体类别	八路军	新四军	东北抗日联军	党政工作人员	国民革命军陆军	外籍抗日烈士	其他抗日群体和个人
占总数的比例	32%	9%	7%	10%	29%	0.02%	12.98%

- A. 持久战 B. 大兵团作战 C. 游击战 D. 全民族抗战

15. 1953 年，毛泽东指出，过渡时期总路线的要旨在于“解决所有制的问题”。为此，党和政府（ ）

- A. 开展了土地改革运动 B. 开始了社会主义工业化
C. 进行了社会主义改造 D. 发出了“大跃进”的号召

16. 1961 年 1 月，毛泽东在中共八届九中全会上发表讲话，号召全党大兴调查研究之风，要使 1961 年成为“实事求是年”。毛泽东发出这一号召主要是因为，当时（ ）

- A. 北约华约对峙局面出现 B. 国防工业与尖端科技落后
C. 西方国家孤立封锁中国 D. 国民经济发生了严重困难

17. 西部 12 省（区、市）的人均 GDP，1990 年只有全国平均值的 70%左右，2000 年又下降到 60%左右；2000 年的人均 GDP 仅为东部地区的三分之一。基于此，国家全面实施了（ ）

- A. 科教兴国战略 B. 人才强国战略 C. 西部大开发战略 D. “三步走”发展战略

18. 右面所列内容为马克垚主编的《世界文明史》的目录（部分）。据此推断，第三章的标题应是（ ）

<p>第一编农业文明时代</p> <p>第一章古代西亚文明</p> <p>第二章古代埃及文明</p>
--

27. 东汉末年的名医_____发明“麻沸散”；明代医药学家_____著有《本草纲目》。
28. 1895年，《_____》的签订大大加深了中国的半殖民地化程度；1901年，《_____》的签订，标志着中国完全陷入半殖民地半封建社会的深渊。
29. _____年，列宁领导的彼得格勒武装起义取得胜利，史称“十月革命”；_____年，苏联公布了新宪法，标志着苏联模式的形成。
30. 1972年_____访华，中美关系开始走向正常化。1972年日本首相_____访华，中日两国建立外交关系。

三、材料解析题（每小题8分，共40分）

31. 某同学在学习《盛唐气象》一课时，搜集到如下图片。读图，回答问题。



图1 筒车示意图




图2 唐蕃会盟碑



图3 唐女子骑马俑

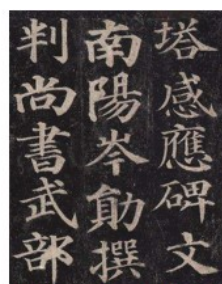


图4 颜真卿作品

- (1) 以上四幅图片蕴含的历史信息，分别体现了“盛唐气象”的什么内容？
- (2) “盛唐气象”是由多种因素促成。从中，你得到哪些重要启示？
32. 1949年9月30日，中国人民政治协商会议第一届全体会议通过了在北京天安门广场建立人民英雄纪念碑的决议。阅读材料，回答问题。
- 材料一 三年以来，在人民解放战争和人民革命中牺牲的人民英雄们永垂不朽！
三十年以来，在人民解放战争和人民革命中牺牲的人民英雄们永垂不朽！
由此上溯到一千八百四十年，从那时起，为了反对内外敌人，争取民族独立和人民自由幸福，在历次斗争中牺牲的人民英雄们永垂不朽！
- 人民英雄纪念碑碑文
- 材料二 人民英雄纪念碑兴建委员会对纪念碑底座浮雕主题的定位是，要选用最能代表人民革命的历史题材来展现纪念碑的主题思想。经过反复讨论，最终确定了虎门销烟、武昌起义、五四运动、胜利渡长江等8个历史题材。
- 摘编自贾英廷《六百年间天安门》

(1) 根据材料一，概括“人民英雄”的含义。

(2) 从材料二所列四个历史题材中，任选一个并阐明其被兴建委员会“选用”的理由。

(3) 综合以上材料，谈谈建立人民英雄纪念碑的重要意义。

33. 阅读材料，回答问题。

材料一 1978 年以来中国大事记（部分）

时间	事件
1978 年	中共十一届三中全会作出实行改革开放的战略决策
1980 年	深圳、珠海、汕头、厦门经济特区建立
1992 年	中共十四大提出建立社会主义市场经济体制
2001 年	加入世界贸易组织
2003 年	神舟五号载人飞船成功返回地面
2010 年	超过日本成为世界第二大经济体
2012 年	第一艘航空母舰“辽宁舰”交接入列
2021 年	脱贫攻坚战取得全面胜利

材料二 2013 年秋，习近平在访问中亚、东南亚国家时提出了共建“丝绸之路经济带”和“21 世纪海上丝绸之路”的倡议。这一倡议引起世界的普遍关注和响应。2017 年 5 月，习近平在首届“一带一路”国际合作高峰论坛主旨演讲中强调，要将“一带一路”建成和平之路、繁荣之路、开放之路、创新之路、文明之路。

——材料一、二均根据《中国共产党简史》编制

(1) 根据材料一并结合所学知识，概括 1978 年以来中国社会发展呈现的趋势。

(2) 根据材料二并结合所学知识，谈谈共建“一带一路”的重大意义。

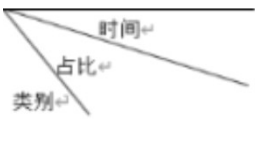
34. 阅读下列有关工业革命的材料，回答问题。

材料一 蒸汽机的历史意义无论怎样夸大也不过分。它提供了治理和利用热能，为机械提供动力的手段。人类也由此而结束了长期以来对畜力、风力和水力的依赖，获得了一个巨大的新能源。

材料二 1830 年，乔治·史蒂芬孙的机车“火箭号”以平均 14 英里的时速行驶了 31 英里，将一列火车从利物浦驶到曼彻斯特。短短数年内，铁路就因为它能够以比公路或运河更快的速度和更低廉的成本运送旅客和货物而支配了长途运输。

——材料一、二均摘自斯塔夫里阿诺斯《全球通史》

材料三 英国城市人口与农村人口的比例的变化

	1750年	1851年	1870年
农业人口	84%	46%	30%
城市人口	16%	54%	70%

——根据《世界历史》编制

材料四这是个到处都是机器和高耸的烟囱的市镇……镇上一条黑色的水渠，还有一条河，这里面的水被气味难闻的染料冲成深紫色，许多庞大的建筑物上面开满了窗户，里面整天只听到嘎啦嘎啦的颤动声响，蒸汽机上的活塞单调地移上移下，就像一个患了忧郁症的大象的头。

——[英]狄更斯在《艰难时世》中对19世纪中期一座工业城镇的描述

- (1) 根据以上四则材料，概述工业革命给人类社会带来的变化。
- (2) 上述变化主要说明了什么道理？

35. 阅读材料，回答问题。

材料一 二战期间召开的重要国际会议

名称	时间	参加国	主要内容
开罗会议	1943年11月	中美英	规定日本所窃取的中国领土必须归还中国
雅尔塔会议	1945年2月	美英苏	决定彻底消灭法西斯主义，战后成立联合国
波茨坦会议	1945年7-8月	美英苏	重申了雅尔塔会议的精神

材料二 今天的世界并不安宁，和平与发展遭遇严重挑战，人类面临许多共同的难题。在发展方面，世界经济增长的动力依然不足，南北差距和贫富分化日益严重；在和平与安全方面，地区热点问题此起彼伏。

——材料一、二均根据《中外历史纲要》等编制

- (1) 结合所学知识，概述材料一中三次会议所作历史贡献的相似之处。
- (2) 综合以上材料，谈谈不同社会制度国家之间的共处与合作对解决当前人类面临的共同难题有何现实意义。

