

贫农、雇农和中农	占乡村人口 90 %	占有土地 20—30 %

- A. 《中华人民政治协商会议共同纲领》
 B. 《中华人民共和国土地改革法》
 C. 《中华人民共和国民族区域自治实施纲要》
 D. 《中华人民共和国宪法》
13. 新中国外交史上的下列事件，按发生的先后顺序排列正确的是
 ① 恢复中国在联合国的合法席位 ② 美国总统尼克松访问中国
 ③ 中美双方发表《建交公报》 ④ 中国与美国正式建立外交关系
 A. ①②③④ B. ③①②④ C. ①③②④ D. ①②④③
14. 1958年6月22日，毛泽东在《两年超过英国》的报告上批示：“超过英国，不是十五年，也不是七年，只需要两年到三年，两年是可能的。这里主要是钢。”你认为与此批示有关的运动是
 A. “三大改造” B. “大跃进”运动 C. 人民公社化运动 D. “文化大革命”
15. 习近平称赞他“路漫漫其修远矣，两袖清风来去。为官一任，造福一方，遂了平生意”，毛泽东也曾为他题词“为人民而死，虽死犹荣”。这位“党的好干部”是
 A. 焦裕禄 B. 王进喜 C. 邓稼先 D. 雷锋
16. 1984年12月，中英关于香港问题的联合声明签署，“北京已保证……在接收后50年内不变更现有经济体系及法律制度。”材料说明香港回归后将
 A. 设立香港经济特区 B. 实行民族区域自治制度
 C. 保持资本主义制度 D. 实行社会主义制度
17. 请从下列关于四个国家的国家元首—产生方式—任期—权利—政体的描述中，选出与英国相符的一项
 A. 皇帝—世袭—终身制—独裁专权—君主专制
 B. 沙皇—世袭—终身制—独裁统治—沙皇专制
 C. 总统—选举—有任期—受到制约—总统共和制
 D. 国王—世袭—终身制—统而不治—君主立宪制
18. 华盛顿在1783年12月向国会交出军权的仪式上说：“现在，我已经完成了赋予我的使命，我将退出这个伟大的舞台，并且向尊严的国会告别。”华盛顿“已经完成”的使命是
 A. 取得独立战争胜利 B. 两届总统任期已满

- C.废除了封建农奴制 D.废除了黑人奴隶制


19. (美国杜邦公司) “1802年，从法国购进机器，在特拉华州的威尔明顿市郊创建了火药厂，生产黑色火药。不久，法国订单便源源不断到来。”法国大量订购火药的主要原因是

- A.普法战争 B.雅各宾派与王党势力的斗争
C.拿破仑的对外战争 D.第一次世界大战

20.美国黑人作家亚历克斯·哈里的《根》中讲到，1760年，西非少年昆塔独

自外出时，被白人抓走，与其他黑人一起被贩卖到美洲。昆塔的悲惨遭遇与下列哪一历史事件有直接关系

- A.罪恶的“三角贸易”
B.英国在北美建立殖民地
C.新航路开辟
D.工业革命



21.英国科学家达尔文的墓志铭是：“他把世界翻了一个个，虽然并不完全。”“他把世界翻了一个个”是指达尔文

- A.发现了美洲新大陆 B.创立了相对论
C.揭开了工业革命的序幕 D.提出了生物进化论

22.“这一政策允许局部地恢复资本主义。农民们被准许在公开市场上出售他们的农产品。私人可以经营小商店和小工厂。”苏俄实行的“这一政策”是

- A.“战时共产主义政策” B.新经济政策
C.第一个五年计划 D.“巴巴罗萨计划”

23.第一次世界大战结束后，战胜国英、法、美等决定在巴黎召开制裁和处理主要战败国德国和奥匈帝国的会议。会上签署的制裁德国的条约是

- A.《辛丑条约》 B.《凡尔赛和约》 C.《九国公约》 D.《慕尼黑协定》

24.二战后，美苏两国逐渐从盟友转变为敌手，美国首先发出对苏遏制与对抗的冷战信号。“冷战”正式展开的重要标志是

- A.“杜鲁门主义”出台 B.“马歇尔计划”实施
C.北约组织建立 D.华约组织建立

25.经过几十年的发展，欧盟已成为当今世界上最大的经济体。下列事件不属于欧盟发展

进程中的是

- A. 成立欧洲煤钢共同体
- B. 成立欧洲共同体
- C. 欧元启用
- D. 独立国家联合体成立

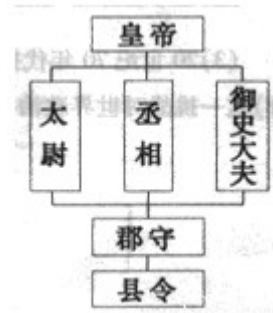
第 II 卷 (非选择题 共 50 分)

二、非选择题：本大题共 4 小题，第 26、27 题各 12 分，第 28、29 题各 13 分，共 50 分。

26. 创新与开放，促进发展和进步，保守与封闭，导致停滞和落后。

【制度创新】

秦汉时期，为加强中央集权和防止官员贪腐开创了监察制度并不断加以强化。



(1) 右图为秦朝行政系统简表。根据图示，说出中央三大官职之间的关系。其中，负责监察百官的是谁？(2 分)

(2) 汉武帝时期，在中央和地方分别设置了负有监察职能的官职，以监督京师百官和皇族及地方官员。请分别写出上述官职的名称。(2 分)

【对外交流】

西汉以来，一条横贯欧亚大陆的通道上，五彩的丝绸、精美的瓷器和名贵的香料贸易络绎不绝。这条通道为古代东西方之间经济、文化交流做出了重要贡献。

(3) 这条“横贯欧亚大陆的通道”被称为什么？谁为开拓这条“通道”做出了突出贡献？请说出这条“通道”的起点和最远到达的大洲。(4 分)

南宋时，海外贸易发达，商船远达阿拉伯半岛和非洲东海岸。在航海中广泛使用了我国古代四大发明中的某一项成就。

(4) 结合材料及所学知识，从政府的态度和航海科技两个方面，总结宋朝海外贸易兴盛的原因。(2 分)

【封闭落后】

乾隆二十二年(1757 年)，清政府规定广州是允许外商来华贸易的唯一口岸，而且即使在广州也百般限制中国人与外商接触。政府特许的“十三行”不仅垄断了与外商的经济往

来，还代政府出面办理交涉事宜。

- (5) 上述材料反映出清朝政府实行怎样的对外政策？结合材料说说你对这一政策的理解。(2分)

27. 改革与革命都是推动历史前进的重要动力。阅读材料，回答问题。

材料一 从 1895 年至 1898 年，中国对日本态度转变的戏剧性程度，与日本对西方的态度颇类似，失败激起的学习欲望压倒了简单的民族情绪。

——摘自许知远《醒来·110 年的中国变革》

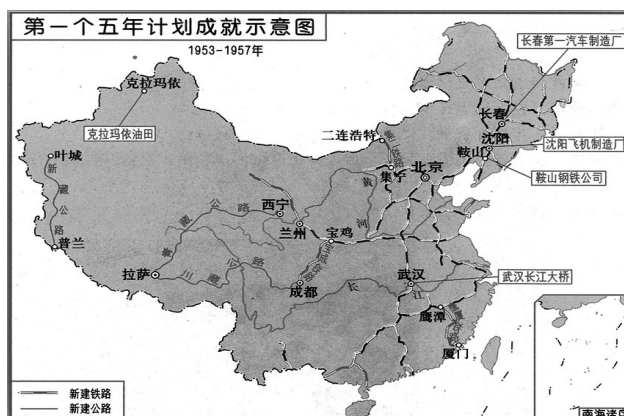
- (1) 材料一中“失败”指的是什么？“失败激起的学习欲望”在中国后来转化成了怎样的实际行动？(2分) 这一行动起到了什么作用？(1分)

材料二 1851 年和 1911 年都是旧历辛亥年，这两年在中国大地上各发生过一次大规模的革命运动。

- (2) 请说出在以上年代发生的革命运动名称及其领导人。(4分)

材料三 见右图

- (3) 根据右图分析“一五”计划优先发展的重点是什么？优先发展的企业在地区分布上有什么特点？(2分)



材料四 到 1979 年，集体农业活动的组织方面正在发生一场意义又更深刻的变化……开始了叫做生产责任制的某些尝试……责任进一步下放到家庭中。到 1983 年底，几乎全部农业生产都是以家庭为基础的。

——《剑桥中华人民共和国史》(下卷)

- (4) 材料四所说的“农业活动的组织方面”发生的“深刻的变化”指的是什么？简要说明这一“深刻的变化”对中国农民及农业产生的影响。(3分)

28. 两次世界大战给人类带来了巨大的灾难，铭记历史，拒绝战争，是人类共同的任务。

阅读材料，回答问题。

1914—1918年 第一次世界大战

材料一 “两大集团纷纷扩军备战，给世纪（20世纪）初的世界蒙上了战争的阴云，战争的气息随着争夺的升级而越来越浓。”

(1) 文中的“两大集团”是指什么？哪一事件引发了第一次世界大战？（3分）

2015年是中国人民抗日战争暨世界反法西斯战争胜利70周年

1931—1937年 中国从局部抗战到全面抗战

材料二 见右图

(2) 密电中的“沈阳日军行动”指的是哪一事件？

密电反映了蒋介石怎样的态度？导致了什么后果？

(3分)

沈阳日军行动，可作为地方事件，望力避冲突，以免事态扩大。一切对日交涉，听候中央处理。

——蒋介石致张学良密电

材料三 埃德加·斯诺，在（北平）参加日军召开的一次记者招待会时，他大声质问：“为什么要在中国领土上进行军事演习？为什么借口士兵失踪动用大兵？为什么侵略者不撤兵回营，反叫中国军队撤出宛平？”

(3) 埃德加·斯诺的质问针对的日军侵华事件是什么？该事件后，中国的抗战进入了哪一新的阶段？（2分）

1939年9月1日—1945年9月2日 第二次世界大战

(4) 请回答出第二次世界大会大战爆发和结束的标志性事件爱闹（2分）

材料四 签字各国保证竭尽全力，互相合作，彻底打败德、意、日三国轴心及其附庸，决不单独与敌人停战或媾和。

材料五 见右图

(5) 材料四的内容出自哪部文献？材料五所反映的历史事件有何重大意义？（3分）



29. 科技进步推动了资本主义的巩固与扩大，促进了世界市场的形成与发展。阅读材料，回答问题。

材料一 工业革命产生的强大推动力逐渐使世界紧密地联系在一起。人和货物可以借助多种快捷便利的方式在世界各地之间流动，信息的传递也变得非常容易。

——摘自高中历史必修 II.《经济成长历程》

程》

(1) 在蒸汽时代、电气时代，有哪些有利于人和货物在世界流通的交通工具问世，请各举一例说明。第三次科技革命中的哪一项发明，使“信息的传递也变得非常容易”？（3分）

材料二 亚历山大二世在 1861 年 3 月 3 日颁布废除农奴制的法令。根据该法令的条款，所有农奴都被宣布为自由的，农奴耕种的土地在农奴和贵族地主之间进行分配……作为回报，农民必须交纳 49 年的赎地费以偿还政府。这是俄国历史上的一个重大转折点。

——《全球通史》

史》

(2) 根据材料二，概括废除农奴制法令的主要内容。（2分）

材料三 《解放黑人奴隶宣言》宣布，废除叛乱各州的奴隶制，在叛乱各州，奴隶从现在也就是 1863 年 1 月 1 日起成为自由人并可应征入伍。——纪录片《世界历史》

解说词

(3) 材料三中的宣言是哪次战争期间颁布的？这次战争在美国历史上有何重大影响？（2分）


材料四 1929—1933 年主要资本主义国家的经济状况

	美国	德国	日本	世界
外貌缩减	46.2%	40.6%	8.4%	1/3
工业下降	70%	69.1%	50%	2/3
失业人数	1700 万	47.6 万	300 万	近 3000 万

(4) 面对上述经济状况，美国、德国和日本是如何应对的？（2分）有人说，美国的应对措施改变了美国政府和美国经济的关系，请你用一句话概括出这种新的关系。（1分）

材料五 据右图和资料显示，苹果第五代 iPad 共有

451 个部件，苹果在全球有数百家供应商，分布在中国



内地、中国台湾地区、新加坡、马来西亚、泰国、捷克以及美国等地，但是大部分产品是在中国组装。

(5) 材料五反映了当今世界经济发展的大趋势是什么？（1分）为顺应这一历史趋势，中国采取了哪些重大举措？（任举二例）（2分）

山东省滨州市 2015 年初中学生学业水平考试历史试题

参考答案

一、选择题：本大题共 25 小题，每小题 2 分，共 50 分。在每小题所列出的四个选项中，只有一项是符合题意的。

题号	1	2	3	4	5	6	7	8	9	10	11	12	13
答案	B	A	D	A	C	B	B	C	B	B	D	B	D
题号	14	15	16	17	18	19	20	21	22	23	24	25	
答案	B	A	C	D	A	C	A	D	B	B	A	D	

二、非选择题：本大题共 4 小题，第 26、27 题各 12 分，第 28、29 题各 13 分，共 50 分。

26. (共 12 分) (1) 丞相、御史大夫和太尉是中央三个最高官职；(1 分) 御史大夫。(1 分)

(2) 司隶校尉；(1 分) 刺史。(1 分)

(3) 丝绸之路；(1 分) 张骞；(1 分) 长安；(1 分) 非洲。(1 分)

(4) 政府重视和鼓励；(1 分) 使用了指南针。(1 分)

(5) “闭关锁国”政策；(1分) 清政府的闭关锁国政策实行了近 200 年，对西方殖民者的侵略活动，起过一定的自卫作用。但是，与世隔绝即看不到世界形势的变化，也未适时地向西方学习先进的科学知识和生产技术，使中国在上世界上逐渐落伍了。(1分)

分) 起到了思想启蒙的作用。

(1

分)

(2) 太平天国运动；(1分) 洪秀全；(1分) 辛亥革命；(1分) 孙中山。(1分)

(3) 重工业；(1分) 工业布局重点在东北。(1分)

(4) 家庭联产承包责任制；(1分) 农民有了生产的自主权，大大地提高了生产积极性。(2分)

28. (共 13 分) (1) 同盟国和协约国；(2分) 萨拉热窝事件。(1分)

(2) 九一八事变；(1分) 不抵抗政策；(1分) 东北沦陷。(1分)

(3) 七七事变；(1分) 标志着中华民族全局抗战的开始。(1分)

(4) 爆发标志：1939 年 9 月 1 日，德国入侵波兰；(1分) 结束标志：1945 年 9 月 2 日，日本签署投降书。(1分)

(5) 《联合国宣言》；(1分) 实际上划分了战后世界的势力范围，战后出现的世界两极格局。雅尔塔会议加速了日本投降。(2分)

29. (共 13 分) (1) 火车(轮船)、汽车(飞机)；(2分) 电子计算机。(1分)

(2) 从内容方面来看，1861 年改革中农奴获得了人身自由，在法律上是自由人；在获得自由的同时，通过“赎买”的方式获得一块份地，但只拥有使用权。(2分)

(3) 南北战争；(1分) 美国南北战争是美国历史上的第二次资产阶级革命，为资本主义的进一步发展扫清了道路。(1分)

(4) 美国：罗斯福新政；(1分) 日本、德国——法西斯专政；(1分) 国家加强对经济的干预和调整。(1分)

(5) 经济全球化；(1分) 改革开放加入 WTO。(1分)