

## 七年级下册

### 第1课 繁盛一时的隋朝

(2010·江苏连云港, 30)“北通涿郡之渔商, 南运江都之传输, 其为利也博(丰厚)哉。”这反映出隋朝开凿的大运河

- A. 促进了经济交流                      B. 促进民贞观之治  
C. 巩固了封建统治                      D. 结束了分裂局面

(2010·江苏宿迁, 20)“北通涿郡(北京)之渔商, 南运江都(扬州)之传输, 其为利也博哉!”是对古代哪一水利工程历史作用的评价

- A. 郑国渠                      B. 白渠                      C. 大运河                      D. 都江堰


(2010·山东威海, 5)隋朝, 犹如一颗流星划过历史的天空, 时间虽然短暂, 却光芒四射。下列有关隋朝历史贡献的叙述, 不正确的是

- A. 实现了南北重新统一                      B. 开通了纵贯南北的大运河  
C. 创设了科举制度                      D. 开创了“贞观之治”的局面

(2010·江苏无锡 3) 无锡是京杭大运河唯一穿城而过的城市, 古运河在清名桥历史文化街区留下了一段“运河版、江南水弄堂”, 堪称古运河听精华绝品。“水弄堂”两岸粉墙黛瓦, 鳞次栉比, 码头石埠, 错落有致, 构画出江南“人家尽枕河”的水乡风貌, 让无数中外游客如痴如醉, 你知道京杭大运河最早是谁统治时期开凿的? ( )

- A. 隋文帝                      B. 隋炀帝                      C. 唐太宗                      D. 唐玄宗

(2010·河南省, 21) (5分)南水北调工程从提出、论证到勘探, 历经数十年, 中线工程河南段终于2009年全面开共。这是一项规模浩大的民生工程, 建成后将有效缓解京津地区用水紧张局面。我国古代也修建了大量的水利工程, 泽被后世, 但对当时的政权却产生了不同的影响。读图, 回答下列问题。



图一：都江堰



图二：隋朝大运河

(1)简述图一、图二工程的主要功能。(2分)

(2)两工程分别对当时的政权产生了什么影响?(2分)

(3)结合上述材料, 分析国家在建设大型公共工程时应注意什么?(1分)

21. (5分)

(1)图一：防洪灌溉；(1分)图二：运输。(沟通南北交通或南粮北运也可, 1分)

(2)都江堰的修建, 促进了秦国经济的发展, 为秦的统一奠定了基础。(只要答出对秦国的积极影响即可, 1分)为修建大运河, 隋炀帝过度役使人民”, 遭到人民反抗, 加速了隋朝的灭亡。(意思相近即可, 1分)

(3)要从国情出发; 要经过充分、科学的论证; 要以改善民生、促进社会发展为目的。(一

条即可，其他符合题意也可，1分)

## 第2课 “贞观之治”

(2010·浙江义乌, 22) 阅读材料，结合所学知识回答：

义乌位于浙江中部，目前实有人口 180 多万，以汉族为主，有回、苗、壮等 23 个少数民族。秦王政二十五年（前 222 年）置乌伤县，属会稽郡。唐武德四年于乌伤置稠州，六年分设乌孝、华川两县，七年（624 年）废稠州，合两县称义乌县。1988 年 5 月撤县设市。

(1) 在秦王政设乌伤县前，义乌实行的是什么行政管理制度？

(2) 唐武德七年（624 年）设“义乌县”，三年后的义乌人迎来了一个历史上著名的封建“治世”，这一“治世”的名称是什么？它主要表现在哪些方面？

22. (1) 分封制 圆形方孔钱

(2) 贞观之治

政治比较清明，经济得到恢复与发展，民族关系融洽，社会安定，国力增强。（从不同角度写出两点即给 2 分，共 2 分）

(2010 年浙江台州, 12) “以史为镜，可以知兴替”，唐太宗吸取了隋亡的教训，励精图治，在位期间出现了清明的统治时期，史称“▲”。

A. 贞观之治 B. 开元盛世 C. 文景之治 D. 光武中兴

(2010 年浙江台州, 13) “以人为镜，可以明得失”启示我们，需要▲。

A. 用发展的眼光来看待自己 B. 通过自我观察认识自己  
C. 通过他人来了解自己 D. 完全听从他人的态度与评价

(2010 四川重庆, 1) “贞观之治”是我国封建社会的盛世之一。当时，经济发展、政治清明、人民安居乐业。贞观年间在位的皇帝是

A. 唐太宗 B. 唐高宗 C. 武则天 D. 唐玄宗

(2010 广东东莞, 7) 唐元和年间（806 年——820 年），主管财政的宰相奏请减少内外官俸，诏书下达后被大臣崔祐驳回，皇帝最终采纳了崔祐的意见。崔祐所属的机构是

A. 中书省 B. 门下省 C. 尚书省 D. 吏部

(2010 年四川成都, 4) “政由己出，明察善断，故当时英贤亦竟为之用”，这是《资治通鉴》对唐朝哪一位最高统治者的评价？

A. 唐太宗 B. 唐高宗 C. 武则天 D. 唐玄宗

(2010 年四川成都, 6) 唐太宗时，某地发生灾荒。假如你是当时的一名中书令，秉承皇帝的旨意起草了一份救灾计划，接下来你应该交给

A. 尚书省裁决 B. 门下省审议  
C. 尚书省执行 D. 门下省执行

## 第3课 “开元盛世”

(2010 年江苏淮安, 14) 唐朝是我国诗歌创作的黄金时代，唐诗的繁荣与科举考试进士科重视考诗赋有密切关系。诗赋成为进士科考试内容下列哪位皇帝有关。

A. 隋炀帝 B. 唐太宗 C. 武则天 D. 唐玄宗

(2010 广东东莞, 8) 王谔在《唐语林》中写到“开元初，上留心理道，革去弊讹，不六七年，天下大理。河清海晏，物殷俗阜”。“留心理道”的皇帝是

A. 唐高祖 B. 唐太宗 C. 唐中宗 D. 唐玄宗

(2010 江苏盐城, 5) 小明以“繁荣与开放的唐朝”为主题进行探究, 下列他整理的内容中不符合史实的是

- A. 已使用世界上最早的纸币“交子” B. 唐太宗时出现“贞观之治”局面  
C. 唐玄宗时出现“开元盛世”局面 D. 都城长安是国际性的大都市

6. (2010 山东聊城, 6) 某同学举办主题为“中国古代农业发展”的图片展览。下列图片应该入选“盛唐篇”的是



A. ①② B. ③④ C. ①④ D. ②③

7. (2010 山东聊城, 7) “开元初, 上留心理道, 革去弊讹, 不六七年间, 天下大理。” (“天下大理”的局面被誉为

A. 文景之治 B. 贞观之治 C. 开元盛世 D. 靖难之役

(2010 福建龙岩, 2) 史书记载“水激轮转, 众筒兜水, 次底下倾于岸上……以灌稻田, 日夜不息, 绝胜人力。”如右图, 这种提水灌溉工具最早出现于

- A. 东汉  
B. 曹魏  
C. 唐朝  
D. 北宋



(2010 山东日照, 1) “人以铜为镜, 可以正衣冠, 以人为镜, 可以知得失。”被唐太宗誉为“一面镜子”的著名谏臣是

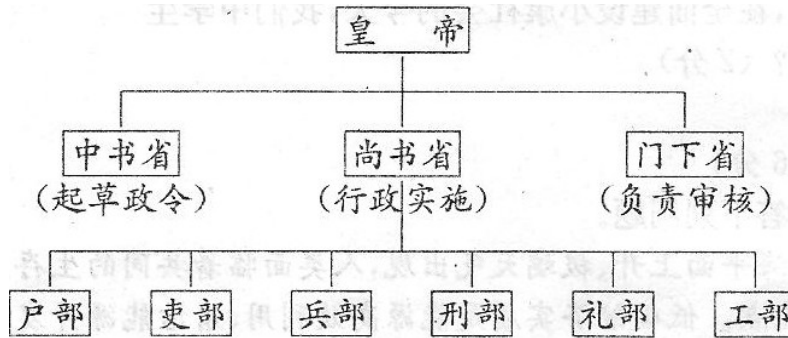
A. 房玄龄 B. 杜如晦 C. 姚崇 D. 魏征

(2010 湖北黄冈, 28) (6分) 制度创新是人类社会发展进步的一个重要表现。阅读下列有关我国古代政治制度的材料, 结合所学知识, 回答下列问题。

材料一 丞相王绾等言: “诸侯初破, 燕、齐、荆地远, 不为置王, 毋以填之, 请立诸子, 唯上幸许。”廷尉李斯议曰: “周文、武所封子弟同姓甚众, 然后属疏远, 相攻击如仇讎 (仇敌), 诸侯更相诛伐, 周天子弗能禁止。今海内赖陛下神灵一统, 皆为郡县, 诸子功臣以公赋税重赏赐之, 甚足易制。天下无异议, 则安宁之术也, 置诸侯不便。”始皇曰: “天下共苦战斗不休, 以有侯王。赖宗庙, 天下初定, 又复立国, 是树兵也, 而求其宁息, 岂不难哉! 廷尉议是。”

——《史记·秦始皇本纪》

材料二 唐朝中央行政机构



——摘自《岳麓出版社·中国历史七年级下册》

材料三 元朝疆域图



图10

- (1)材料一中反映了西周和秦朝各实行什么制度？（2分）
- (2)材料二反映了唐朝的什么制度？有何积极作用？（2分）
- (3)材料三中反映了元朝的什么行政制度？实施的原因是什么？（2分）

28. (1) 西周：分封制（1分） 秦朝：郡县制（1分）

(2) 唐朝：三省六部制（1分） 作用：既有利于防止宰相专权，又能集思广益，减少政策失误。（1分）

(3) 元朝：行省制度（1分） 原因：元朝疆域辽阔，为了加强对全国的统治（1分）

(2010 浙江嘉兴, 21) [历史天空] (10分)

民以食为天，中国古代历朝重视农业生产。新中国成立后，我国在实践中明确提出农业是国民经济的基础。阅读材料，回答问题。

**人民智慧** 在我国农耕文明史上，集中了无数劳动人民的智慧。生产工具的重要发明和生产技术的发展推动了古代生产力的发展。

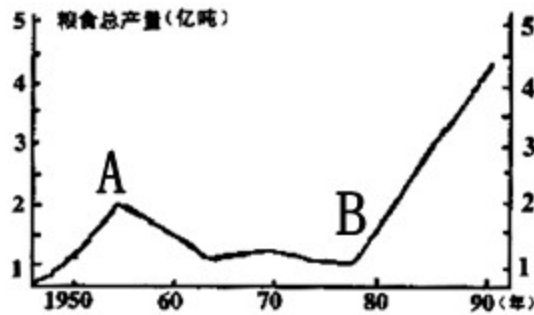
- (1) 请列举两种我国古代劳动人民发明的农业生产工具。（2分）

**帝王之道** “民，水也；君，舟也。水能载舟，亦能覆舟。”——唐太宗

- (2) 请说出唐太宗的这一治国思想在农业政策上的具体体现及其影响。（4分）

**探索发展** 新中国成立以来，我国农业生产在曲折中不断发展。粮食生产是农业生产

的重要组成部分，下图是 1949~1989 年我国粮食产量变化折线图。



(3) 说出引起 A 点 (注: 1959 年) 前后粮食产量变化的历史事件, 分析引起 B 点之后粮食产量变化速度加快的主要原因。(4 分)

21. (1) 春秋时期铁农具; 唐朝曲辕犁、筒车; 宋朝秧马。(答出两种即可) (2) 轻徭薄赋, 不误农时。经济得到恢复和发展, 社会安定。(3) “大跃进”和人民公社化运动。实行家庭联产承包责任制, 极大地激发了广大农民的生产积极性, 促进了农业生产迅速发展。

(2010 年辽宁沈阳, 16) 读图说史 (本题 2 小题, 16 题 5 分, 17 题 6 分, 共 11 分)

16. 丝绸是中华文明鲜明的特征之一。从全世界的范围来看, 各民族都会利用自然界的纤维材料制作衣物, 唯有中国竟发明出由蚕丝织成的丝绸。



唐代对鹿纹锦

唐代绛色印花纱

唐代黄色莲瓣龙纹绫

(锦, 经过练染的熟蚕丝织造的多重多彩丝织物, 是丝织品中最高水平的代表。

纱, 经纬线极纤细, 平纹, 有均匀的方孔, 是丝织品中最纤细、稀疏的品种。

绫, 质地轻薄, 是一经一纬交织成斜纹地、花的单重丝织物。)

(1) 从以上图片和文字介绍中, 你能获得哪些关于丝织品方面的信息点? (写出三点即可, 3 分)

信息点一: \_\_\_\_\_ 信息点二: \_\_\_\_\_ 信息点三: \_\_\_\_\_

(2) 根据你所获得的信息进行推断能得出怎样的历史结论? (2 分)

16. (1) 织品朝代 织品色彩 织品花纹 织品种类 织造工艺 丝织水平 (2) 我国唐代丝织业水平高超。

(2010 年辽宁沈阳, 18) 材料解析 “中国在许多个世纪以来, 一直是人类文明和科学的巨大中心之一”, 让我们与历史进行亲密接触, 寻绎其中蕴藏的民族智慧, 感悟民族精神。阅读下列材料, 回答问题。

材料一: 唐诗是流传千古的中华文化瑰宝, 是唐代文化最为光辉的成就。唐诗创作之繁荣, 流派之众多, 风格题材之丰富多样, 各类诗体体制之完善齐备, 皆表明中国古典诗歌的发展已达到完全成熟的阶段。宋代, 随着商业的发展, 城市的繁荣, 市民数量的不断

增加，能够歌唱的词更适应市井生活需要，受到市民欢迎，于是，词成为宋代文学的主流形式和标志，流传至今的宋词有两万多首。明清时期文学是主要成就突出表现于小说，其内容上呈现出世俗化、平民化的趋势，出现了一大批脍炙人口是通俗文学著作。其中具有代表性的作品有《三国演义》、《水浒传》、《西游记》、《红楼梦》、《聊斋志异》等。

**材料二：**

朝代	人物	成就	地位
东汉	张衡	地动仪	世界公认的最早的地震仪器，早于欧洲 1700 多年
南北朝	祖冲之	圆周率	在世界上第一次把圆周率的数值，计算到小数点以后的第 7 位数字，比欧洲人早了近 1000 年
隋朝	李春	赵州桥	世界上现存最古老的一座石拱桥，比欧洲类似的桥早 700 多年
北宋	毕升	活字印刷术	15 世纪，欧洲才出现活字印刷，比我国晚约 400 年

**材料三：**中国的思想文化源远流长，蓄积深厚。春秋战国时期，出现了百家争鸣的局面，许多思想流派的基础已经形成。儒家是这一时期的文化高峰之一。汉武帝即位后，“摆出百家，独尊儒术”，奠定了儒家思想的正统地位。两宋时期，一种新的儒家体系——程朱理学形成。它在吸引佛教和道教学是基础上，极大地深化了传统儒学，进一步巩固和凸显了儒学在中国传统文化中的主体地位。

- (1) 根据材料一分别写出唐代、宋代、明清时期文学的主要表现形式。(3分)
- (2) 根据材料二回答，中国古代科技在当时世界处于怎样的地位？(1分)
- (3) 材料三反映出中国传统文化的主流思想是什么？(1分)

18. (1) 唐代：诗歌 宋代：词 明清时期：小说 (2) 领先 (3) 儒家思想

## 第 4 课 科举制度的创立

(2010 湖北十堰, 22) 我国由隋代开创直至清末才被废除的通过考试选拔官员的制度是  
A. 禅让制 B. 世袭制 C. 科举制 D. 推举制

(2010 湖北黄冈, 9) 1905 年清政府宣布废除科举考试，至此，历经 1300 多年的科举制度终于退出了历史舞台。科举制逐渐完善于

A. 隋朝 B. 唐朝 C. 宋朝 D. 明朝

(2010 山西省, 2) 魏晋时期，官员大多数从高门权贵子弟中选拔，到了唐玄宗开元年间，科举出身的宰相占到了三分之二。这种变化说明

A. 唐政府不任用权贵子弟 B. 唐政府力求以才学选官  
C. 唐朝社会文学艺术繁荣 D. 唐朝重视教育事业的发展

(2010 湖南邵阳, 3) 下列关于科举制的说法中，正确的是 ( )

A. 开创于唐初，废除于清末 B. 通过分科考试选拔官员的制度  
C. 毫无公平公正性可言 D. 看重门第，不利于选拔人才

(2010 江苏南京, 5) 一位唐朝官员说：“国家取士，远法前代，进士之科，得人为盛。”材料反映的选官制度正式创立于

A. 隋文帝 B. 隋炀帝 C. 唐太宗 D. 唐玄宗

(2010 山东聊城, 5) “风吹金榜落凡世，三十三人名字香。”“十年寒窗无人问，一举成名天下知。”诗句反映的现象与下列哪一制度的推行直接相关？

A. 分封制 B. 郡县制 C. 科举制 D. 行省制

(2010 四川重庆, 2) 我国的科举制度对西方近代文官考试制度的形成产生了较大影响，有人称它为中国古代的“第五大发明”。科举制度正式创立于

A. 隋朝 B. 康朝 C. 明朝 D. 清朝



——梁启超《变法通议·论科举》

请回答：

- (1)根据材料一，墨子有关官员选拔的观点是什么?(1分)
- (2)材料二、三都涉及到历史上的什么选官制度?(1分) 试依据这两则材料并结合所学知识简述其影响。(2分)
- (3)概括指出上述选官制度的实质是什么?(1分)并援引材料二中的某一句话加以印证。(1分)

30. (1)不论贵贱，选贤用能(或尚贤)。

(2)科举制度。改善了用人制度；扩大了官吏来源；促进了教育事业的发展；推动了文学艺术的繁荣；选拔官吏的权力从地方集中到中央，加强了中央集权；打破了特权垄断，具有一定的公平公正的合理性。

(3)维护封建统治秩序；“天下英雄入吾彀中矣”。

## 第5课 “和同作为一家”

**(2010 湖北宜昌, 5)** 2010年4月14日，青海省玉树县发生7.1级地震，境内的文物古迹不同程度地受损，其中文成公主庙在地震中受损程度较低。此庙是1300多年前，文成公主远嫁逻些时途经此地，给当地群众传授纺织、开垦、耕种等技艺，当地群众为怀念文成公主的功德而修建的。玉树文成公主庙蕴含的历史信息是（ ）

A. 唐与吐蕃的关系 B. 唐与回纥的关系 C. 唐与渤海的关系 D. 唐与南诏的关系

**(2010 四川重庆, 3)** 今年4月，青海玉树藏族自治州发生地震后，全国各族人民纷纷伸出援助之手，谱写了一曲曲民族团结互助的赞歌。翻开历史画卷，不乏讴歌民族团结的光辉篇章。下列人物中，为民族团结做出贡献的

A. 玄奘 B. 文成公主 C. 郑和 D. 戚继光

**(2010 湖南邵阳, 4)** 藏族的祖先是（ ）

A. 吐蕃 B. 契丹 C. 女真 D. 党项

**(2010 山东青岛, 8)** “年少从军不为苦，长戟短刀气如虎。男儿志在立功名，青海西擒赞普”。诗中“赞普”是对我国古代哪一少数民族首领的称呼

A. 回纥 B. 南诏 C. 靺鞨 D. 吐蕃

**(2010 四川宜宾, 3)** 右图所示为位于青海省玉树藏族自治州的文成公主庙。该庙始建于1300多年前，系当地人民为纪念文成公主入吐蕃路经此地，向当地人民传播中原文化，造福于当地而建。下列相关表述，正确的是（ ）

①派文成公主入吐蕃的统治者是武则天②文成公主入吐蕃的最终目的地是罗些③当时吐蕃的赞普是松赞干布④文成公主入吐蕃增强了汉藏两族的友好关系

A. ①②③ B. ①②④ C. ①③④ D. ②③④



**(2010 福建三明, 28)** 维护国家统一和加强民族团结是中华民族永恒不变的追求，也是历史发展的必然趋势。某校拟举办一次专题活动，请你运用所学知识参与策划。

(1)设计活动主题\_\_\_\_\_。

(2)开展专题讲座，完成资料卡片。（5分）

唐朝有两位女生谱写了民族团结的佳话，他们是 \_\_\_\_\_、\_\_\_\_\_ (2分)  
 西汉、清朝中央政府为加强对今新疆地区的管辖而设置的机构分别是 \_\_\_\_\_、  
 \_\_\_\_\_ (2分)  
 新中国在少数民族聚居的地区实行的基本政治制度是  
 \_\_\_\_\_ (1分)

(3) 举办图片展，填写图片说明。



图6

人物：\_\_\_\_\_ 人物：郑成功 人物：\_\_\_\_\_  
 事迹：抗击倭寇 事迹：\_\_\_\_\_ 事迹：组织雅克萨自卫反击战

28. (1) 采意给分。

(2) 文成公主、金城公主；西域都护、伊犁将军；民族区域自治。

(3) 戚继光；收复台湾；康熙帝。

(2010 山东济宁, 1) 2010 年 5 月 17—19 日，中共中央、国务院在北京召开新疆工作座谈会，这充分体现了党和国家对新疆地区的重视，必将对新疆的全面发展产生深远影响。然而，少数“疆独”分子却一再挑起事端（如右图），企图破坏民族团结，制造国家分裂。他们的这些行径遭到全国和全世界爱好和平人民的一致谴责。新疆自古就是中国的领土，公元前 60 年，西汉政府设立 \_\_\_\_\_，从此，巴



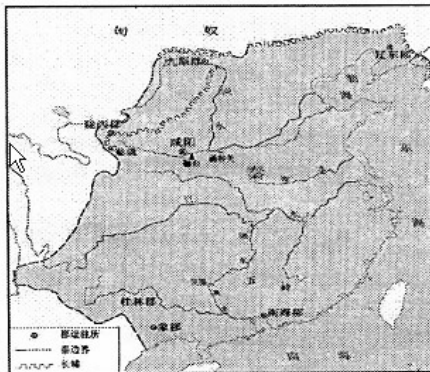
2009 年热比亚等“疆独”分子制造的 7·5 事件现场

尔喀什湖以东、以南地区，包括今新疆地区在内，开始隶属中央政府的管辖，成为我国不可分割的一部分。唐朝时期，新疆维吾尔族祖先回纥与唐政府关系友好， \_\_\_\_\_ 封

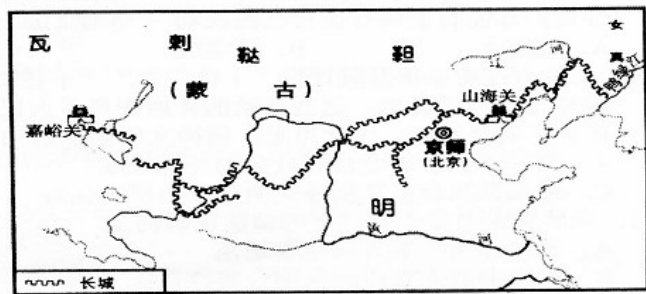
其首领为怀仁可汗。清朝乾隆年间，新疆回部大小和卓兄弟叛乱，清军经过两年战斗平定叛乱，之后清政府设置\_\_\_\_\_，管辖包括巴尔喀什湖在内的整个新疆地区。鸦片战争以后，新疆地区曾遭到英、俄等国的侵略，面临危机，清政府派遣\_\_\_\_\_为钦差大臣收复新疆。1884年，清政府在新疆设立行省，加强了对新疆的统治。新中国成立后，党和政府在新疆等少数民族聚居的地方实行\_\_\_\_\_，少数民族地区的政治经济得到迅速发展。

1. 西域都护 唐玄宗 伊犁将军 左宗棠 民族区域自治

(2010 湖南长沙, 17) 观察下列两图，根据图片及所学知识回答问题：



图一 秦朝疆域图



图二 明长城

(1)图一中秦的统一是由谁完成的?哪次改革为秦的统一奠定了基础?(3分)

(2)图一和图二中长城的修建分别是为了抵御哪一少数民族的进攻?依据图二指出明长城的起止点。(4分)

(3)秦长城和明长城的修建都是为了抵御少数民族的进攻，有人由此认为中国古代民族关系的主流是战争与冲突。你认为中国古代民族关系的主流是什么?举一例并加以说明。(4分)

17. (1)嬴政(秦始皇)；商鞅变法

(2)匈奴；蒙古：东起鸭绿江，西至嘉峪关

(3.)主流：和平与友好往来；唐太宗对，文成公主入藏，密切了唐蕃经济文化交流，增进了汉藏之间的友好关系。(言之有理即可)。

## 第6课 对外友好往来

(2010 广东省, 3) 2010年是中印建交60周年。早在唐代，就有一位杰出的历史人物为中印两国的文化交流作出了重大贡献。他是

A. 鉴真 B. 张骞 C. 玄奘 D. 郑和

(2010 广东汕头, 26) 唐朝以后，随着封建经济的发展，潮汕文化发展迅速，作为一泓涓涓清流汇入了中华民族滔滔不息的文化长河。潮汕古代文化发展进入高峰期是在 (D)

A. 宋朝 B. 元朝 C. 清朝 D. 明朝

(2010 广东汕头 27) 唐宋时期，潮汕手工业发展较快，门类繁多，其中最为著名的是 (B)

A. 纺织、刺绣 B. 陶瓷、刺绣  
C. 制盐、冶铁 D. 冶铁、陶瓷

(2010 山东济宁, 14) 纵观中华民族五千年历史，民族团结、民族友好是我国历史发展的主流，下列事件反映这一主题的是 ( )

- ① 郑和下西洋 ② 文成公主和金城公主入藏 ③ 鉴真和尚东渡日本  
④ 清朝设驻藏大臣，协同达赖、班禅共同管理西藏事务
- A. ①④      B. ②③  
C. ②④      D. ③④

(2010 福建三明, 3) 图片是历史学习的重要资料, 小丽在自主学习中搜集到以下一组图片, 她要为这组图片拟定一个共同的标题。最恰当的应是



张骞通西域



鉴真东渡



玄奘西游



郑和下西洋

- A. 祖国统一      B. 民族团结  
C. 中外交往      D. 抵抗侵略

(2010 江苏泰州, 2) 贞观初年, 西行前往佛教圣地天竺求取佛经精义的唐朝高僧是

- A. 鉴真      B. 玄奘      C. 晁衡      D. 郑和

(2010 福建莆田, 5.) 第一个系统地把天竺佛教、历史、地理、风土人情等记录下来并介绍到中国的人物是

- A. 李冰      B. 李春      C. 鉴真      D. 玄奘

(2010 年重庆江津区, 1) “惜秦皇汉武, 略输文采; 唐宗宋祖, 稍逊风骚。”毛泽东在《沁园春·雪》中提及我国古代多位杰出君王。下列选项与“唐宗”有关的是

- A. 开皇之治      B. 贞观之治      C. 开元盛世      D. 康乾盛世

(2010 湖南长沙, 2) 今年是中国与印度建交 60 周年。中印交流源远流长, 唐朝时期玄奘西游为中印文化交流作出了巨大贡献。下列说法表述正确的是

- A. 唐朝时称印度为波斯  
B. 玄奘游学的大昭寺是印度佛学的最高学府  
C. 玄奘回国后, 佛教开始传入中国

D. 玄奘以亲身见闻写成的《大唐西域记》成为研究中亚、印度半岛以及我国新疆地区历史和佛学的重要典籍

(2010 年重庆江津区, 3) 隋唐时期, 日本官方十多次派遣使节到我国访问。他们当中不少人为日中文化交流做出了重大贡献。其中突出的代表有

- A. 鉴真      B. 玄奘      C. 空海      D. 徐福

(2010 陕西省, 19) (8 分) 阅读下列材料, 回答问题。

材料一 “(秦始皇)为驰道于天下, 东穷燕、齐, 南极吴、楚, 江湖之上, 濒海之观毕至。道广五十步, 三丈而树, 厚筑其外, 隐以金椎, 树以青松。”

——《汉书·贾邹枚路传》

材料二



秦朝疆域及交通图

材料三



唐朝中外交通图

( 1 )

读图填空：秦朝定都\_\_\_\_\_，唐朝定都长安，时间相隔\_\_\_\_\_年。（2分）

咸阳 838

(2) 选做题：以下两个小题，请任选一个作答。（如果两个都答，按第①小题计分）

① 依据材料一、二，结合所学知识，说明秦朝在交通发展方面的突出贡献，并分析其积极作用（4分）

贡献：车同轨；修灵渠；形成以咸阳为中心四通八达的道路网。（答出一点即得2分）

作用：有利于经济、文化交流和发 展；有利于维护国家的统一。（符合题意，答出一点即得2分）

② 依据材料三，结合所学知识，概括唐朝交通发展方面的主要特点，并分析其原因。（4分）

特点：陆路、水路、海路交通发达，形成了几个交通中心。（2分）

原因：国家统一，经济繁荣、文化灿烂；民族交往密切；实行对外开放，长安成为当时的国际大都会等。（符合题意，言之有理，答出两点即得2分）

(3) 综合上述内容，对你有何启示？（2分）

启示：国家统一是交通事业发展的前提；要推动社会经济发展、密切中国与世界的联系，就必须大力发展交通事业；古代中国具有开放的胸襟，领先于世界。（观点正确，言之有理，答出一点即得2分）

## 第7课 辉煌的隋唐文化（一）

(2010 山东威海, 6) 假如你能够穿越时空隧道，来到唐朝，不可能经历到的事情是

- A. 到赵州桥上散步
- B. 阅读《金刚经》
- C. 看阎立本作画
- D. 到东京城内的“勾栏”看演出

(2010 湖北黄冈, 8) 在2010年的上海世博会上，中国馆内有一幅巨大的电子屏幕，显示的是北宋画家的《清明上河图》。利用高新技术使画中的景物动起来，再现北宋首都汴京的繁华景象。其作品原作者是

- A. 赵孟頫
- B. 吴道子
- C. 阎立本
- D. 张择端

(2010 广东佛山, 2) 从通行的便利性看，隋朝赵州桥在造桥技术上的创新设计采用

- A. 单孔石拱
- B. 平拱
- C. 多索斜拉
- D. 多孔曲拱

(2010 四川宜宾, 12) 结合所学知识, 指出右图所示文物的史学价值。(2分)



1. 《金刚经》是世界上现存最早的、标有确切日期的雕版印刷品。

## 第8课 辉煌的隋唐文化(二)

(2010 广东深圳, 14) 唐朝社会经济的繁荣和科举制度的完善, 推动了文学艺术的发展。这一时期, 处于发展的黄金时代的是

- A 诗歌 B 散文 C 史学 D 戏曲

(2010 四川重庆, 5) 唐朝是我国诗歌创作的黄金时代, 那时, 诗人辈出。其中被称为“诗仙”的是

- A. 白居易 B. 杜甫 C. 李白 D. 苏轼

(2010 湖北襄樊, 13) 光耀千古的唐朝文化, 最为光彩夺目的是

- A. 词 B. 小说 C. 诗歌 D. 戏剧

(2010 广东湛江, 27) 有一首歌这样唱道: “……不知今宵是何时的云烟, 也不知今夕是何夕的睡莲, 只愿能够化作唐宋诗篇”, 那么在“唐宋诗篇”中被称为“诗仙”的唐朝诗人是

- A. 李白 B. 杜甫 C. 白居易 D. 苏轼

(2010 重庆江津区, 5) 在郭沫若题写的对联“世上疮痍, 诗中圣哲, 民间疾苦, 笔底波澜”中所称颂的现实主义诗人是

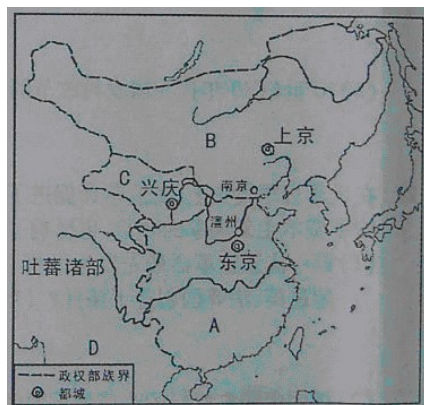
- A. 李白 B. 李商隐 C. 白居易 D. 杜甫

(2010 四川成都, 5) 唐朝诗歌繁盛, 诗人众多。下列哪一位诗人赞美成都“九天开出一成都, 万户千门入画图”?

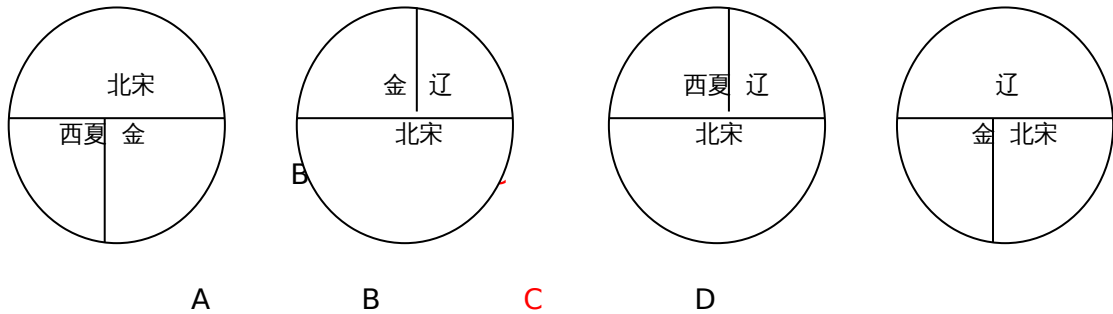
- A. 李白 B. 杜甫 C. 白居易 D. 薛涛

## 第9课 民族政权并立的时代

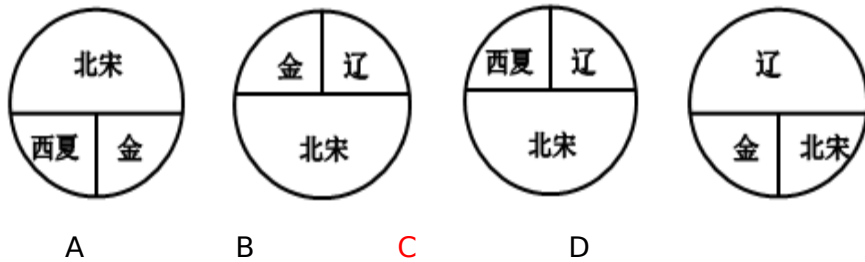
(2010 广西贵港, 4) 1038年少数民族首领元昊建立的政权在右图A、B、C、D中的哪一处? C



(2010 浙江衢州, 11) 下面能大致反映北宋与少数民族政权并立的示意图是

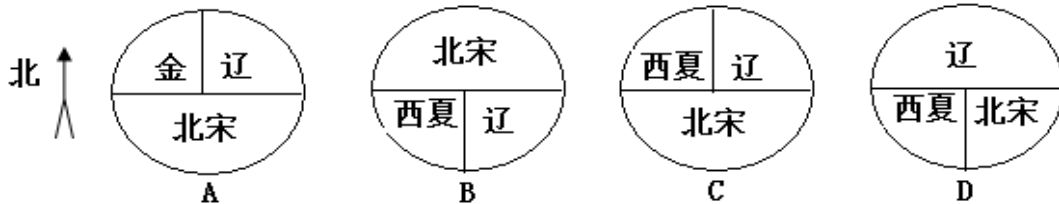


(2010 浙江丽水, 11) 下列能大致反映北宋与少数民族政权兵力的示意图是 ( ) C



(2010 湖北宜昌, 6) 与北宋签订澶渊之盟的少数民族政权是 ( )  
 A. 西夏 B. 金 C. 辽 D. 元

(2010·江苏连云港, 21) 下列能正确反映北宋与少数民族政权并立的示意图是 C



## 第 10 课 经济重心的南移

(2010 广东湛江, 24) 据报道：从古沉船“南澳 1 号”中打捞出的瓷器，很多都是出自于“瓷都”，请问我国哪个地方被称为“瓷都”？

A. 河北曲阳 B. 河南汝州 C. 江西景德镇 D. 河南开封

(2010 安徽芜湖, 1) 据考证，“南海 1 号”古沉船是一艘明代晚期的商船，船上发现了大量当时瓷窑烧制的瓷器，其中最容易找到的瓷器应该是

A. 越窑的青瓷 B. 邢窑的白瓷  
 C. 哥窑的冰裂纹瓷器 D. 景德镇的青花瓷

(2010 福建福州, 3) 中国经济重心南移是一个漫长的历史过程，最后完成于

A. 东晋 B. 隋朝 C. 南宋 D. 明朝

(2010 江苏盐城, 7) 南宋时，政府的财政收入主要来自南方。这最能说明南方

A. 自然资源十分丰富 B. 地理位置重要  
 C. 已成为全国经济重心 D. 交通十分发达

(2010 湖南邵阳, 5) 下列选项中，不符合史实的是 ( )

A.战国时期修建的都江堰，至今仍发挥着巨大的作用

**B.汉朝时，我国就有了纸币——交子**

C.北方人民多次大规模的南迁，极大地推动了我国古代经济重心的南移

D.我国古代统治者大多强调以农为本，推行重农抑商政策

**(2010 山东青岛, 9)** 我国古代的经济重心经历了一个由北向南转移的过程，至南宋时最终完成。以下关于这一时期南方经济发展的原因，说法不正确的是

**A. 南方为少数民族政权，政治清明**

B. 南方战乱相对较少

C. 北方人南迁带来了先进的生产技术

D. 南方自然条件优越

**(2010 山东威海, 7)** 我国经济重心的南移是从唐朝中后期开始的，最终完成于

A. 北宋

**B. 南宋**

C. 元朝

D. 清朝

**(2010 四川重庆, 7)** 宋代重庆地区农业经济发展的重要标志是

**A. 梯田的大量修建**

B. 蔬菜的广泛种植

C. 茶叶的生产地区扩大

D. 粮食作物的种类更加丰富

**(2010 山东泰安, 6)** 我国从唐朝中后期开始的经济重心南移最后完成于

A. 北宋

**B. 南宋**

C. 元朝

D. 清朝

**(2010 广东佛山, 3)** 某班历史课堂就我国“经济重心南移”展开讨论，支持宋代已完成南移的史实是

① 南方人口占全国户口数的 62.9%

② 东京是当时最大城市，商业繁荣

③ 水稻种植扩大，产量跃居粮食首位

④ 煤的开采量居世界第一

⑤ 扬州、临安、广州、成都等城市商业发达。

A. ①②③④⑤

B. ①②④⑤

**C. ①③⑤**

D. ②③④

**(2010 山东日照, 2)** 史书上有“国家根本，仰拾东南”的说法，我国古代经济重心南移最终完成于哪一时期？

A. 隋朝

**B. 南宋**

C. 元朝

D. 明朝

## 第 11 课 气象万千的宋代社会风貌

**(2010 广东汕头, 5)** 北宋统治者衣饰由开国初期的简约朴素，转变为后来的精美华丽。导致这一转变的主要原因是 (B)

A. 北方少数民族的影响

**B. 奢侈之风的盛行**

C. 市民阶层的不断壮大

D. 大众审美观的变化

**(2010 山东聊城, 8)** 某同学选用如下图片进行研究性学习。他确立的研究主题应是



宋代针铺商标



清明上河图



交子



南宋海船

**A. 宋代商业繁荣**

B. 民族政权并立

C. 元朝国家统一

D. 大都闻名世界

**(2010 福建三明, 4)** 世界上最早的纸币——交子出现在

A. 唐朝关中地区

**B. 北宋四川地区**

C. 南宋江南地区

D. 元朝中原地区

**(2010 江苏泰州, 3)** 下列货币中，哪个是世界上最早的纸币




交子      会子      美元      英镑  
A            B            C            D

**(2010 安徽芜湖, 12)** 判断下列历史叙述的正误, 正确的在题前的内打“√”, 错误的在题前的内打“×”。(6分)

(1) 宋代中国的“现代化”程度令人吃惊, 出现了当时世界上最早的纸币, 造船技术也很先进, 娱乐场所还出现了京剧表演等。×

**(2010 江苏南京, 30)** (8分) 上海世博会把《清明上河图》制作成多媒体长卷, 用北宋繁华的都市风貌, 辉映其“城市, 让生活更美好”的主题。结合所学知识, 请回答:



(1) 《清明上河图》是北宋哪位画家的不朽作品? (1分) 描绘了哪一城市的繁荣景象? (1分)

(2) 当时该城内有许多娱乐兼营商业的场所, 称为什么? (1分) 有很多供来往客人住宿的地方, 叫做什么? (1分) 达官贵人出行乘坐哪一种交通工具? (1分)

(3) 北宋时, 四川地区出现的世界最早的纸币是什么? (1分) 政府在广州等主要港口设立什么机构管理海外贸易? (1分)

(4) 结合上述问题, 谈谈你对北宋城市经济生活的认识。(1分)

(1) 张择端 (1分); 东京 (开封) (1分)

(2) 瓦子 (1分); 邸店 (1分); 轿子 (1分)

(3) 交子 (1分); 市舶司 (1分)

(4) 商品经济繁荣; 市民生活丰富多彩 (任答一点, 其它答案言之有理亦可得分) (1分)

**(2010 山东临沂, 34)** 阅读下面材料, 结合所学知识, 回答问题。(10分)

**材料一** 2010年开封市“大宋年文化节”新闻发布会, 今天上午在郑州举行。为进一步弘扬优秀的传统文化, 活跃春节期间广大群众的旅游生活, ……中共开封市委, 市政府……努力打造年文化品牌, ……确定于2010年春节至正月十五期间, 正式推出开封市“大宋年文化”……届时将举办规模盛大, 多次多彩的宋文化民俗庙会、灯会、展演等系列活动。

(1)根据材料一，指出开封市“大宋年文化节”举办的目的和主要活动内容。(4分)

(2)材料一中的“大宋”在定都开封期间，出现过哪些与之并立的少数民族政权？

**材料二** 北宋东京城内人口稠密，居民超过百万，是中国最大的城市，城里买卖和居住的地方已经分不清，随处可开设商店，……商品可以在白天，夜间交易。三鼓以后还可夜市，通宵不绝。

(3)从材料二中可以看出，北宋东京的商业繁荣有哪些特点？(2分)北宋大画家张择端在他的一幅美术作品中对东京的繁华景象进行了描绘，这幅著名的绘画作品是什么？(2分)


**34. (10分)** (1)目的：弘扬传统文化，活跃群众生活，打造文化品牌。(2分) 内容：举办宋文化民俗庙会、灯会、展演等系列活动。(2分)

(2)辽、西夏、金。(2分，答出2个即可)

(3)特点：人口稠密；最大的都市；买卖区与居住区分不清；商品交易时间长等。(2分，答出2点即可，意思相近即可)作品：《清明上河图》。(2分)

**(2010 重庆市，22)** 2010年5月1日在上海开幕的世界博览会是继北京奥运会后我国举办的又一国际盛会。请回答：

(1)走进上海世博会中国国家馆，大会会欣赏到一幅放大了几百倍的《清明上河图》。创作《清明上河图》的北宋画家是谁？(1分)



(2)参观日本馆，观众首先会看到遣唐使、鉴真东渡等一系列反映中日两国交往源远流长的历史展示。康朝时，日本为什么要一次又一次遣使来中国？鉴真为中日文化交流做出了什么重大贡献？

(3)踏入中国重庆馆，人们会被脚下的白鹤梁微缩景观所吸引。它清晰地展示了有着1000多年历史的白鹤梁地下水文奇观。结合所学知识，指出白鹤梁的价值。(1分)

(4)19世纪中期，世界博览会诞生。从那一刻起，中国人就开始了它对它的憧憬与追求。你认为中国终圆“世博梦”的根本原因是什么？(2分)



**22. (1) 张择端 (1分)**

(2)目的：密切两国联系，学习唐朝先进的经济、文化。(1分) 贡献：传播了中国文化。(1分)

(3)对现今长江水利建设有重要的参考价值，被誉为“水下碑林”，有“世界第一古代水文站”之称。(1分)

(4)改革开放使中国综合国力增强。(2分，其它符合题意的答案可同等给分，但总分不超过2分。)

**(2010 山西省，18)** **材料一**：北宋都城开封买卖通宵达旦，金、银、彩、帛等“每一交易，动辄千万”。南宋临江城“自大街及诸坊巷，大小铺席，连门俱是，无空虚之屋”。政府鼓励海外贸易，在主要港口设置世舶机构管理贸易。高宗末年，世舶收入岁达二百万贯，超过北宋治平年间岁入的两倍多。《宋史》曰：“国家根本，仰给东南”。

**材料二：**十一、二世纪，西欧城市市民展开了与封建主的斗争。法国琅城市民争取自治权的斗争是一个典型的例子。起初，琅城市民用巨款向城主赎买了自治权，但城主挥霍掉赎金后，背信弃义地取消了城市自治权。被激怒的市民拿起武器，进行斗争，最后取得胜利。后来，从市民阶层中分化出富裕市民和银行家，这些人发展成早期的资产阶级。

依据材料，回答问题。

- (1) 材料一中哪句话反映了开封城的发达？(1分)
- (2) “自大街及诸坊巷，大小铺席，连门俱是，无空虚之屋”。说的是什么现象？(1分)
- (3) 宋朝海外贸易空前活跃的主要原因是什么？(1分)
- (4) 《宋史》曰：“国家根本，仰给东南”。说明了什么？(1分)
- (5) 材料二叙述的是哪一历史事件？(1分)
- (6) 早期资产阶级的出现，产生了什么作用？(1分)

18. (1) 每一交易，动辄千万。(1分) (2) 城内店铺林立，贸易兴盛(商业繁荣，买卖行升等)。(1分) (3) 政府重视(政府鼓励海外贸易)。(1分) (4) 国家的经济重心移至南方(国家财政依赖于南方)。(1分) (5) 琅城起义(法国琅城市民争取城市自治权的斗争)。(1分) (6) 为资本主义兴起准备了条件。(1分)

## 第12课 蒙古的兴起

**(2010·江苏宿迁，21)** 在某朝代的疆域示意图中，我们宿迁地区位于“河南江北行省”。这一朝代是

- A. 秦朝      B. 汉朝      C. 唐朝      **D. 元朝**

**(2010 湖北黄石，4)** 小明发现了一张破损的古地图，依稀能看出“辽阳行、岭北行省”等字。绘制这张地图的朝代不早于

- A. 汉朝      B. 唐朝      **C. 元朝**      D. 明朝

**(2010 广西贵港，5)** 元朝在地方设立的最高行政机构是

- A. 中书省      B. 宣政院      C. 澎湖巡检司      **D. 行中书省**

**(2010 山东莱芜，5)** “大宋皇帝谨致誓书于大契丹皇帝阙下：共遵成信，虔奉欢盟，以风土之宜，助军旅之费，每岁以绢二十万匹，银一十万两……差人搬送至雄州交割。”下列史实哪一项与此盟约无关

- A. 辽军攻宋发生澶州之战      B. 北宋应允给辽岁币  
C. 以后辽宋之间保持和平局面      **D. 宋辽以淮水到大散关为界**

**(2010 江苏泰州，4)** 元朝的疆域“北逾阴山，西及流沙，东尽辽东，南越海表”“汉唐极盛之际不及焉”。元世祖忽必烈为了有效地统治全国，建立了

- A. 分封制      B. 郡县制      **C. 行省制**      D. 军机处

**(2010 山东青岛，10)** 2010年4月20日，在“情系玉树 大爱无疆”抗震救灾大型募捐晚会上，汉藏两族著名歌手同台演唱：“藏族和汉族是一个妈妈的女儿，我们的妈妈叫国！”西藏自古以来就是中国领土不可分割的一部分，它成为我国正式的行政区始于

- A. 唐朝      **B. 元朝**      C. 明朝      D. 清朝

**(2010 山东青岛，11)** “自封建变为郡县，有天下者，汉、隋、唐、宋为盛，然幅员之广

咸不逮元”。元朝疆域空前辽阔，为对全国进行有效的统治，元朝主要实行

- A. 分封制      B. 宗法制      C. 内阁制      **D. 行省制**

**(2010 山西省，3)** 元朝以前，就有许多汾州人、并州人迁至今新疆地区，与蒙古族、维吾尔族共同劳动生活。这说明

- A. 北方战乱导致山西人迁往边疆      B. 蒙古族、维吾尔族人民非常友善  
 C. 元朝以前新疆与中原地区联系紧密      D. 维吾尔族、蒙古族、汉族共同开发了边疆

**(2010 湖南衡阳, 5)** “蓝蓝的天空, 清清的湖水, 绿绿的草原, 这是我的家。奔驰的骏马, 洁白的羊群……”蒙古族歌手腾格尔的这首经典名曲《天堂》, 我们经常吟唱。在我国历史上, 蒙古族曾建立一个疆域空前辽阔的元王朝, 其建立者是

- A. 成吉思汗      B. 忽必烈      C. 完颜阿骨打      D. 耶律阿保机

**(2010 湖北宜昌, 7)** 目前中国有 34 个省级行政区, 即 23 个省、5 个自治区、4 个直辖市、2 个特别行政区。我国建立省级行政区制度最早在 ( )

- A. 秦朝      B. 元朝      C. 明朝      D. 清朝

**(2010 福建福州, 27)** (10 分) 阅读下列材料, 回答问题:

材料一

材料二

材料三

鲜卑姓氏改为汉姓			
鲜卑姓	汉姓	鲜卑姓	汉姓
拓跋	元	贺赖	贺
丘穆陵	穆	独孤	刘
步六孤	陆	贺楼	楼



请回答:

- (1) 材料一中姓氏改变与什么事件有关? (2 分) 再举一例该事件中的措施。(2 分)
- (2) 材料二体现元朝哪一历史趋势? (2 分) 当时还有哪些现象反映这种趋势? (举一例即可, 2 分)
- (3) 材料三反映清朝土尔扈特部回归祖国的壮举, 清政府对东归英雄们的态度如何? (2 分)

27. (1) 北魏孝文帝改革; 迁都洛阳、讲汉语、穿汉服、与汉人通婚、用汉制、学汉礼、尊崇孔子等。(回答一例即可)

(2) 民族融合的趋势。

汉族人开发边疆; 边疆各族内迁, 同汉族人杂居相处; 进入黄河流域的契丹、女真等族, 经过长期共同生活, 已同汉族没有什么差别等。(回答一例即可)

(3) 妥善安置。

**(2010 湖南岳阳, 31)** 自古以来, 民族团结、国家统一是我国历史发展的主流。结合所学知识, 回答下列问题:

- (1) 我国历史上第一个统一的多民族的中央集权的封建国家是\_\_\_\_\_朝。(2 分)
- (2) 在我国统一的多民族国家的发展历程中, 各民族都做出了重大的贡献。请要概述鲜卑族孝文帝改革为我国民族关系的发展做出的重大贡献。(3 分)
- (3) 元朝时期出现了民族大融合的盛况。你认为出现这一盛况的前提条件是什么? (3 分)
- (4) 清朝前期是我国统一的多民族国家巩固时期。请你举出清朝前期为加强对新疆地区的统治而采取的重大措施。(4 分)

31. (1) 秦

(2) 北魏孝文帝的改革, 有利于北方经济的恢复和发展, 促进了北方各族社会的进步,

加快了北方民族大融合的进程

(3) 国家统一，经济发展

(4) 平定大小和卓叛乱，设伊犁将军

## 第 13 课 灿烂的宋元文化（一）

(2010 福建福州, 4) 弗兰西斯·培根说：“这三种东西改变了整个世界的面貌和状态，第一种是在文字方面，第二种是在战争上，第三种是在航海上。”这里的“第三种”指

A. 指南针 B. 造纸术 C. 印刷术 D. 火药

(2010 湖北襄樊, 12) 我国四大发明中在北宋时期发明的是

A. 造纸术和火药 B. 指南针和造纸术  
C. 指南针和火药 D. 活字印刷术和指南针

(2010 山东威海, 8) 英国著名学者李约瑟博士曾说：“每当人们在中国文献中查找任何一个具体的科技史料时，往往会发现它的主要焦点就在宋代。”我国宋代重大的科技成就是  
① 造纸术的发明 ② 活字印刷术的发明 ③ 指南针的广泛使用 ④ 火药的广泛使用

A. ①② B. ①③ C. ①②③ D. ②③④

(2010 山东青岛, 12) “大师西去悲难禁，毕升功德世长流”。北宋时期，毕升发明的，在科技史上是一个划时代的技术创新，大大促进了文化的传播

A. 造纸术 B. 雕版印刷术 C. 活字印刷术 D. 指南针

(2010 广东省佛山市, 4) 《金史》有“声如雷震，……人与牛皮皆碎迸无迹，甲铁皆透”的战争场景描绘，对此解释不正确的是

A. 战争场面惨烈 B. 火药已应用于军事战争  
C. 火药的使用改变了战争结局 D. 火药威力巨大

(2010 江苏徐州, 2) 北宋沈括在《梦溪笔谈》中写道：“若止印三二张，未为简易；若印数十百千本，则极为神速。”材料中的“极为神速”主要得益于

A. 北宋城市商业的繁荣 B. 造纸术的重大改进  
C. “瓦子”“瓦舍”的出现 D. 活字印刷术的发明

(2010 江苏泰州, 21) 中华文明源远流长，绵延不绝，成就辉煌，对人类进步做出了伟大贡献。阅读有关材料，回答问题。(7 分)

**材料一** 春秋战国时期，针对社会急剧的变化和发展，有识之士纷纷发表各自的看法和主张，逐渐形成儒家、法家、道家、墨家、兵家等许多学派，史称“诸子百家”。

(1) 材料一中，各个学派间相互争论和批判，又相互影响，形成了什么样的学术繁荣局面？其中儒家学说从哪一时期开始被确立为封建专制王朝的正统思想？(2 分)

**材料二** 有西方学者认为“近代世界赖以建立的种种文明与发展可能有一半来源于中国”。尤其是公元 1000 年后的宋元时期的几项重大发明对促进世界文明的发展与进步作出了极其重要的贡献。

(2) 列举传入欧洲并对近代世界产生深刻影响的两项宋代科技成就。(2 分)

**材料三** 清朝赵翼说：“李杜诗篇万口传，至今已觉不新鲜。江山代有才人出，各领风骚数百年。”

(3) 材料三中提及“李杜诗篇万口传”，其中被称为“诗圣”的诗人是谁？明清时期独领风骚

的文学形式(体裁)是什么?(2分)

**材料四** 孔子学院在全球开设的速度,引发了世人包括中国人自己的惊奇。在不到两年的时间里,全球新增 100 多所孔子学院,覆盖了 50 多个国家和地区。“现在已经不是我们要推广,而是各国的大学争着要办,挡都挡不住。”

——中国国家汉语国际推广领导小组办公室

(4)根据材料四并结合所学知识,简要回答:弘扬中华优秀传统文化有怎样的现实意义?(不超过 20 字)(1分)

21. (1)百家争鸣 汉朝 (2)印刷术 指南针 (3)杜甫 小说 (4)言之成理即可。

(2010 重庆綦江, 19)阅读下列材料:

材料一



图一



图二



图三

材料二“……这是预兆资产阶级社会到来的三大发明。……把骑士阶层炸得粉碎,……打开了世界市场并建立了殖民地,……却变为新教的工具,并且一般地说变为科学复兴的手段,变成创新精神发展的必要前提的最重要的推动力。”——马克思

请回答:

(1)材料一中的三幅图片分别代表了我国古代的哪三大发明?(3分)

图一: \_\_\_\_\_

图二: \_\_\_\_\_

图三: \_\_\_\_\_

(2)根据材料二,并结合所学知识,概括指出这三大发明有何重大影响?(2分)

(3)综合上述材料,谈谈你对科学技术的认识。(1分)

19(1)图一:活字印刷术(或印刷术) 图二:指南针 图三:火药(各1分,共3分)

(2)预兆了资产阶级社会的到来;推功了科学的发展和科学;是我国为世界文化的发展作出的卓越贡献。(任意答两点即可)(2分)

(3)科学技术是第一生产力;科学技术是推动社会发展的动力等。(言之成理即可)

(2010 福建三明, 21) 战国时期制成的“司南”,是世界上最早的指南仪器。南宋时制成指南针,并开始用于航海事业。

21.错误:南宋 订正:北宋

(2010 山东日照, 26) (10分) 古代历史上,不同文明之间的互相交流促进了人类社会的进步。阅读材料,回答问题。

**材料一:** 经过张骞等所开辟的这条通商道路传来了各种各样的东西,汉武帝所喜爱的大宛马自不必说,还有地毯、毛织物、宝石、金银器、玻璃制品……。另外,中国产的丝织品、瓷器、漆器等也都传到了西方。

——摘自丝博网



(1) 材料一中的“这条通商道路”后来被称做什么？根据材料一，概括指出它的开辟有什么积极影响？(4分)

(1) 丝绸之路(2分)，影响：丝绸之路的开辟，有力地促进了中西方的经济文化交流，对促成汉朝的兴盛产生了积极的作用。(2分)

材料二：诏不得以北俗之语言于朝廷，若有违者，免所居官。

——摘自《魏书》

(2) 民族大融合，也是不同文明之间相互交流的一种形式，材料二中的“诏”是谁下达的？这一改革措施的目的是什么？(4分)

(2) 北魏孝文帝(2分)；为了革除鲜卑旧俗 吸收汉族的先进文化 巩固北魏的统治(2分)。

(3) 英国哲学家培根对印刷术、指南针和火药传入欧洲曾经这样评价，“它们都改变了世界的面貌和状态”，简述指南针传入欧洲带来的重大影响。(2分)

(3) 指南针传入欧洲后，指南针促进了欧洲航海业的发展，为新航路的开辟提供了重要条件。(2分)

## 第14课 灿烂的宋元文化(二)

(2010 广东省, 4) 有西方学者认为“近代世界赖以建立的种种发明与发现可能有一半来源于中国。”古代中国为西方国家开辟新航路提供重要条件的发明是

A. 指南针 B. 火药 C. 造纸术 D. 活字印刷术

(2010 山东青岛, 13) 辛弃疾(如右图)是两宋时期“豪放派”词风的重要代表，他的词气势豪迈，雄健奔放。下列各项中，属于辛弃疾词作的是

A. “长太息以掩涕兮，哀民生之多艰” B. “朱门酒肉臭，路有冻死骨”

C. “醉里挑灯看剑，梦回吹角连营” D. “和羞走，倚门回首，却把青梅嗅”

(2010 山东青岛, 14) 元朝是我国古代戏剧发展的黄金时期，名家辈出，名作迭起。关汉卿就是其中的一位。他和白朴、马致远、郑光祖一起，被人们称作“元曲四大家”。关汉卿的代表作是

A. 《窦娥冤》 B. 《西厢记》 C. 《牡丹亭》 D. 《桃花扇》

(2010 山东青岛, 15) 在某校组织的一次历史人物竞猜活动中，当主持人说道：“元代著名的书画家、书法‘劲秀雄健，功力深厚’、画作被誉为‘神品’。”茗茗同学立即作出了正确的回答：他是

A. 张择端 B. 顾恺之 C. 颜真卿 D. 赵孟頫

(2010 湖南岳阳, 6) 上海世博园中国馆这样一幅作品：它以动漫的形式向中外游客展示了我国古代都市的繁华。请你判断这幅作品是：

A. 赵孟頫的《秋郊饮马图》 B. 顾恺之的《洛神赋图》

C. 张择端的《清明上图》 D. 敦煌莫高窟的敦煌壁画

(2010 福建莆田, 6) 元朝规定以“户口增”“田野辟”等作为衡量官吏政绩好坏的标准。忽必烈诏令司农司编写的书籍是

A. 《齐民要术》 B. 《梦溪笔谈》 C. 《农桑辑要》 D. 《天工开物》

(2010 江苏无锡, 4) 上海世博园中国馆的镇馆之宝是“活”的《清明上河图》。高科技让画上的人物全部活动起来，熙来攘往，昼现夜隐，12世纪中国绚丽的城市画卷被生动演绎出来。请问《清明上河图》是哪位画家的传世名作？( )

A. 王羲之 B. 顾恺之 C. 吴道子 D. 张择端

(2010 福建莆田, 21) 改错题：《史记》是北宋史学家司马光主持编写的一部编年体通

史。

21. 把《史记》改为《资治通鉴》

## 第 15 课 明朝君权的加强

(2010 广东深圳, 22) 据报道,“南澳 I 号”沉船打捞工作正在紧张进行。大量的青花瓷和各种铜器、铁器及铜器等被打捞出水,显示了这艘 400 年前的古沉船巨大的历史、文化价值。据此可知,这艘沉船所属的朝代应是


A 宋朝 B 元朝 C 明朝 D 清朝

(2010 广西贵港, 6) 明朝建立是在

A.13 世纪 60 年代 B.13 世纪 80 年代  
C.14 世纪 60 年代 D.14 世纪 80 年代

(2010 山东济宁, 15) 右边是明末清初思想家顾炎武对八股取士的评价,你认为八股取士与焚书坑儒的相同之处是 ( )

- ① 为了加强思想统治 ② 强化了中央集权统治  
③ 有利于文化的发展 ④ 摧残了文化控制了思想
- A. ①②③ B. ①③④  
C. ②③④ D. ①②④



(2010 广东东莞, 10) 从明太祖朱元璋废除宰相到清雍正帝设置军机处,所反映出的历史发展趋势是

A. 社会秩序动荡 B. 边疆防御巩固  
C. 军政实现合一 D. 皇权高度膨胀

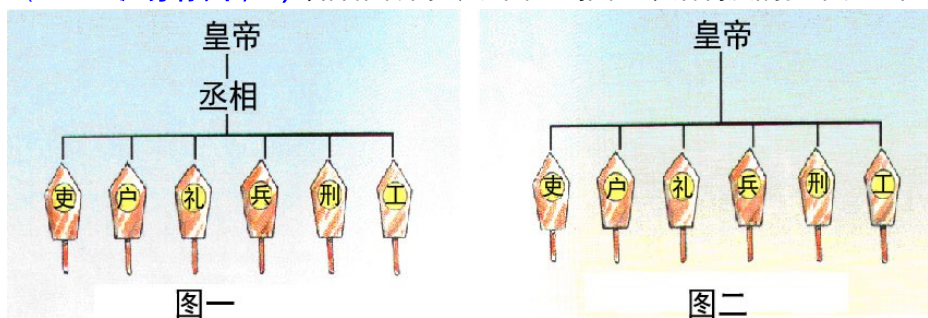
(2010 江苏南京, 6) 下列措施与明成祖加强君主专制统治有关的是

A. 废除丞相 B. 大兴文字狱  
C. 执行削藩政策 D. 设立军机处

(2010 山东日照, 3) “以后……不许立丞相, 臣下敢有奏请设立者, ……处以重刑。”此令出自

A. 汉武帝 B. 唐太宗 C. 明太祖 D. 清雍正帝

(2010 江苏徐州, 1) 如右图所示,从图一到图二政治制度的变革发生在



A. 秦朝 B. 汉朝 C. 唐朝 D. 明朝

(2010 福建莆田, 26) 阅读下列材料并回答问题:

材料一 科第之设,草泽望之起家,簪绂(zān fú)望之继世。孤寒失之,族馁矣;世禄失之,其族绝矣。

——王定保《唐摭(zhí)言》

**材料二** 唐太宗在端门看见新科进士鱼贯而出，高兴地说：“天下英雄入吾彀(gòu)中矣”。

——王定保《唐摭言》

**材料三** 故吾以为明太祖制义取士，与秦焚书无异，特明巧而秦拙耳，其欲愚天下之心则一也。

——廖燕《明太祖论》

- (1) 材料一中“科第之设”是指哪一制度的创立？何时创立？(4分)
- (2) 结合材料一、二和所学知识，简述“科第之设”的历史作用。(4分)
- (3) 根据材料三和所学知识，指出明代八股取士的消极影响。(2分)

26. (1) 科举制度；隋唐时期。(4分)

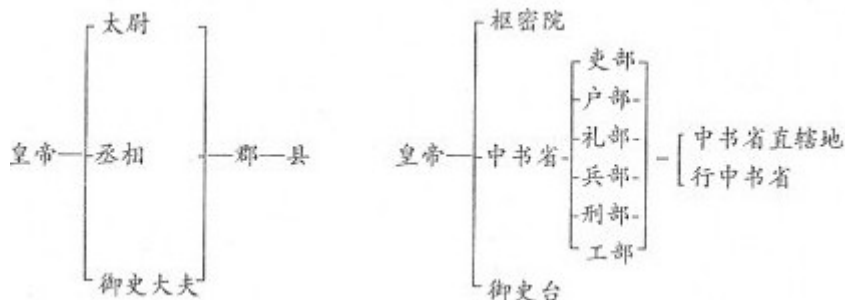
(2) 创造了相对平等的竞争机会；有利于选拔人才，扩大了中央政权的社会基础；增强了国家机构的活力和办事效率；给社会带来了革新气象和创新精神。(4分，答出其中2点即可)

(3) 脱离现实生活，无法培养实际能力；钳制了人们的思想，阻碍了历史的发展；“愚天下之心”。(2分。答出其中一条即可，其他言之有理也可)

(2010 山东泰安, 31) 中国封建社会历代统治者都注重通过加强中央集权和地方管理等措施来巩固统治。阅读下列材料，回答问题。

**材料一**

**材料二**



**材料三** 在地方，废除行中书省，设立直属中央的三司，分管民政、刑狱和军政。在中央，废除丞相，撤消中书省，由吏、户、礼、兵、刑、工六部分理朝政，直接对皇帝负责

——选自人教版义务教育课程标准实验教科书《中国历史》七年级下

(1) 材料一图示反映的是我国历史上哪个朝代开创的政治体制？(1分) 该朝代为巩固统治采取的经济措施是什么？(1分)

(2) 我国省级行政区的设立源于材料二图示反映的元朝首创的哪一制度？(1分) 为实行有效统治，元朝还注重加强对边疆地区的管辖。请写出元朝突出加强管理的两处边疆地区的名称。(2分)

(3) 材料三记载的是哪朝的官制变化？(1分) 这一变化出现在哪一皇帝统治时期？(1分)

(4) 从材料一到材料三官制的演变可以看出皇权和相权发生了怎样的变化？(2分)

31.(1) 秦朝；(1分) 统一货币、度量衡 (1分)

(2) 行省制度；(1分) 西藏、台湾 (或琉球) (2分)

(3) 明朝；(1分) 明太祖 (或朱元璋) (1分)

(4) 皇权不断加强，相权不断削弱。(2分)

## 第16课 中外交往与冲突

(2010 广西贵港, 7) 明朝时率军抗击倭寇侵略的是

A. 戚继光 B. 郑成功 C. 岳飞 D. 文天祥

(2010 山东莱芜, 6) 在我国东南沿海一带广为流传一首民谣：“天皇皇，地皇皇，莫惊我家小儿郎；倭寇来，不要慌，我有戚爷会抵挡。”这首民谣反映的是哪一历史时期的史实

A. 隋朝 B. 元朝 C. 明朝 D. 清朝

(2010 福建莆田, 7.) 下面是明长城示意图。明长城的起止点为




A. 东起山海关，西至嘉峪关  
B. 东起鸭绿江，西至嘉峪关  
C. 东起鸭绿江，西至临洮  
D. 东起辽东，西至临洮

(2010 年四川成都, 7) 印度尼西亚的爪哇有三宝瓏，泰国有三宝港，马来西亚的马六甲有三宝城。上述国家以“三宝”为地名是为了纪念中国古代历史上

A. 高僧鉴真出使日本  
B. 戚继光抗击倭寇  
C. 华侨对南洋的开发  
D. 郑和下西洋的壮举

(2010 福建三明, 3) 图片是历史学习的重要资料，小丽在自主学习中搜集到以下一组图片，她要为这组图片拟定一个共同的标题。最恰当的应是



张骞通西域



鉴真东渡



玄奘西游



郑和下西洋

A. 祖国统一 B. 民族团结 C. 中外交往 D. 抵抗侵略

(2010 山东聊城, 10) “封侯非我意，但愿海波平。”诗句中戚继光表明志向是

A. 荡平倭寇 B. 赶走荷兰殖民者  
C. 击退沙俄侵略者 D. 平定大小和卓叛乱

(2010 福建福州, 27) (10 分) 阅读下列材料, 回答问题:

材料一

材料二

材料三

鲜卑姓氏改为汉姓			
鲜卑姓	汉姓	鲜卑姓	汉姓
拓跋	元	贺赖	贺
丘穆陵	穆	独孤	刘
步六孤	陆	贺楼	楼



请回答:

- (1) 材料一中姓氏改变与什么事件有关? (2 分) 再举一例该事件中的措施。(2 分)
- (2) 材料二体现元朝哪一历史趋势? (2 分) 当时还有哪些现象反映这种趋势? (举一例即可, 2 分)
- (3) 材料三反映清朝土尔扈特部回归祖国的壮举, 清政府对东归英雄们的态度如何? (2 分)

27. (1) 北魏孝文帝改革; 迁都洛阳、讲汉话、穿汉服、与汉人通婚、用汉制、学汉礼、尊崇孔子等。(回答一例即可)
- (2) 民族融合的趋势。  
汉族人开发边疆; 边疆各族内迁, 同汉族人杂居相处; 进入黄河流域的契丹、女真等族, 经过长期共同生活, 已同汉族没有什么差别等。(回答一例即可)
- (3) 妥善安置。

## 第 17 课 君主集权的强化

(2010 湖北黄石, 5) 右边是清朝军机处的照片, 它的设立, 标志着我国封建君主集权的进一步强化。设立该机构的皇帝是

- A. 顺治 B. 康熙 C. 雍正 D. 乾隆

(2010 江苏苏州, 4) 搜集和整理历史资料, 从中提取有效信息是学习历史的重要方法。刘明同学从图书馆借来了《康雍乾三朝实录》、《论军机处与极权政治》、《“文字狱”的研究》等书, 准备写一篇历史小论文, 下列论文题目最符合他想法的是

- A. 浅议“焚书坑德” B. 叙说清朝的对外交往  
C. 简论“闭关锁国” D. 略谈清朝的君主专制

(2010 山东聊城, 9) “军国大计, 罔不总揽。自雍乾后百八十年……盖隐然执政之府也。”这里的“执政之府”是

- A. 市舶司 B. 中书省 C. 锦衣卫 D. 军机处

(2010 山东威海, 9) 清朝时, 我国封建君主集权进一步强化的标志是

- A. 废行省, 设三司 B. 八股取士  
C. 保留议政王大臣会议 D. 设立军机处

由于中国人闭关自守，骄傲自满，三次灾难性的战争使他们受到了巨大的刺激，第一次是1840—1842年同英国的战争，第二次是1856—1860年同英、法的战争，第三次是1894—1895年同日本的战争。在这些战争中所遭到的耻辱性的失败，迫使中国人打开大门（摘自美国斯塔夫里阿诺斯《全球通史》，有删改）。据此回答16—18题：

(2010 浙江温州, 18) 材料中第三次战争的交战双方，同样装备着“坚船利炮”，却以清朝的惨败而告终。它暴露了清朝政治制度的腐朽。清朝实行的政治制度是 ( ) C

A. 三权分立制度 B. 民主共和制度 C. 君主专制制度 D. 君主立宪制度

(2010 湖南长沙, 3) 下列哪几项措施有利于我国古代封建专制主义中央集权的加强

① 西周行分封制 ② 汉武帝“罢黜百家，独尊儒术”

③ 明朝设厂卫特务机构 ④ 清朝设军机处

A. ①②③④ B. ②③④ C. ①③④ D. ①②

## 第18课 收复台湾和抗击沙俄

(2010 四川宜宾, 4) “开辟荆榛逐荷夷”，我国古代立下的这一伟大功绩的民族英雄是 ( )

A. 张骞 B. 魏征 C. 郑成功 D. 渥巴锡

(2010 江苏宿迁, 22) 一学习小组开展以“明清时期反抗外来侵略”为主题的历史探究活动，其收集的资料中不恰当的是

A. 戚继光抗倭 B. 岳飞抗金  
C. 郑成功收复台湾 D. 雅克萨之战

## 第19课 统一多民族国家的巩固

(2010·江苏连云港, 31) 右表反映了我国中央政府有效管辖的地区是

A. 台湾  
B. 新疆  
C. 西藏  
D. 海南

朝代	相关史实
元朝	设宣政院
清朝	册封达赖、班禅
	设置……

(2010 广东湛江, 25) 新疆自古以来就是中国的领土，清朝政府加强对新疆地区管理的措施是

A. 设置西域都护 B. 设置宣政院  
C. 设置驻藏大臣 D. 设置伊犁将军

(2010·浙江义乌, 16) 下列属于清政府采取的巩固统一的多民族国家的措施是

A. 在西南率先改土归流 B. 在北方修筑长城  
C. 设置藏大臣 D. 派郑和下西洋

(2010 广东佛山, 5) 18世纪中期，清朝政府平定回部大小和卓兄弟叛乱

A. 重新统一了蒙古 B. 维护了多民族国家的统一  
C. 稳定了西藏政局 D. 加强了对黑龙江地区的管辖

(2010·江苏宿迁, 40) (本题8分) 新疆，以她迷人的西域风情、悠久的文明历史，令

人  
神往和遐想。让我们走进新疆，追溯历史、憧憬明天。

(1) 从西汉到隋唐的千余年间，一条商路穿越新疆、蜿蜒西行，把古老的中国文化与印度、波斯、阿拉伯以及古希腊、罗马文化连接起来。请写出这条商路的名称。(2分)

(2) 清朝前期，为维护国家统一，清政府在新疆地区采取了哪些平叛行动和加强管辖措施？

40. (1) 丝绸之路 (2分)

(2) 平定准噶尔部及大、小和卓木叛乱 (1分，答出1点即可)；设(派驻)伊犁将军 (1分)

(2010 广东省, 5) 从文物中获取信息是我们学习历史的方法之一。当我们研究中国古代中央政府与少数民族地区关系时，可以从下列哪件文物中获得有效信息



A. 司母戊鼎    B. 开元通宝钱    C. 锦衣卫印    D. 金奔巴瓶

(2010 浙江丽水, 12) 清朝政府为巩固和发展统一的多民族国家，采取的措施有 ( )

- ① 实行三省六部制                      ② 在西南少数民族地区推行改土归流  
③ 设立驻藏大臣                        ④ 平定准噶尔、回部贵族叛乱

A. ①②③                      B. ②③④                      C. ①②④                      D. ①③④

(2010 浙江湖州, 14) 在汉代，人们把玉门关、阳关以西，包括今天新疆以及更远的地区称为西域。下列属于中国古代政府加强对今天新疆地区管理的举措有 ( ) C

- ① 西汉政府设立“西域都护府”                      ② 汉武帝平定准噶尔贵族叛乱  
③ 清政府在该地区实施改土归流                      ④ 清朝平定天山南路的回部贵族叛乱

A. ①③                      B. ②③                      C. ①④                      D. ②④

(2010 浙江嘉兴, 16) 为加强对西南民族地区的管理，清朝政府大力推行的措施是 ( )

A. 实施改土归流    B. 设立驻藏大臣    C. 确立册封制度    D. 出兵平定叛乱

(2010 浙江衢州, 12) 清朝政府为巩固和发展统一的多民族国家，采取的措施有

- ① 实行三省六部制 ② 在西南少数民族地区推行改土归流 ③ 设立驻藏大臣 ④ 平定准噶尔部、回部贵族叛乱

A. ①②③                      B. ②③④                      C. ①②④                      D. ①③④

(2010 山东青岛, 17) 清朝的乾隆皇帝晚年自称“十全老人”，并将自己一生的主要政绩概括为“十全武功”。结合所学知识指出，下列哪项应包括在其“十全武功”之内

- A. 荡平东南沿海的倭寇    B. 驱逐荷兰殖民者出台湾  
C. 组织雅克萨自卫反击战                      D. 平定大小和卓叛乱

(2010 福建三明, 28) 维护国家统一和加强民族团结是中华民族永恒不变的追求，也是历史发展的必然趋势。某校拟举办一次专题活动，请你运用所学知识参与策划。

(1) 设计活动主题\_\_\_\_\_。

(2) 开展专题讲座，完成资料卡片。(5分)

唐朝有两位女生谱写了民族团结的佳话，他们是 \_\_\_\_\_、\_\_\_\_\_ (2分)  
 西汉、清朝中央政府为加强对今新疆地区的管辖而设置的机构分别是 \_\_\_\_\_、  
 \_\_\_\_\_ (2分)  
 新中国在少数民族聚居的地区实行的基本政治制度是  
 \_\_\_\_\_ (1分)

(3) 举办图片展，填写图片说明。



图 6

人物：\_\_\_\_\_ 人物：郑成功 人物：\_\_\_\_\_  
 事迹：抗击倭寇 事迹：\_\_\_\_\_ 事迹：组织雅克萨自卫反击战

28. (1) 采意给分。

- (2) 文成公主、金城公主；西域都护、伊犁将军；民族区域自治。  
 (3) 戚继光；收复台湾；康熙帝。

**(2010 四川重庆, 21)** 明清是我国统一的多民族国家进行进一步巩固与发展，封建专制空前强化的时期，请结合所学知识回答下列问题：

- (1) 简述明朝加强中央集权的措施。(2分)  
 (2) 清明军民为巩固多民族国家的统一和发展，在平定国内叛乱和抗击外来侵略、维护国家领土主权方面都做了大量的努力，请各举一例。(2分)  
 (3) 清政府推行闭关锁国政策近 200 年，这一政策给中国带来了怎样的影响？(2分)

21. (1) 废除丞相制和中书省，把朝廷的政务分别交给六部处理，六部直接对皇帝负责；利用厂卫制度实行恐怖专政；设立内阁；执行削藩政策；实行八股取士和文字狱。(每点 1 分，任答其中两点即可得满分，但总分不超过 2 分。)

(2) 平定国内叛乱；平定噶尔丹叛乱，平定大小和卓叛乱等。(1分，任答其中一例即可，符合题意的答案可同等给分，但总分不超过 1 分。)

(3) 闭关锁国政策虽曾在抵御外国侵略方面起了一定的作用但它的长期推行影响了中国吸收世界先进的文化和科学技术，阻碍了中国经济文化的发展，是中国近代落伍的重要原因之一。(2分，其它符合题意的答案可同等给分，但总分不超过 2 分。)

**(2010 湖南岳阳, 31)** 自古以来，民族团结、国家统一是我国历史发展的主流。结合所学知识，回答下列问题：

- (1) 我国历史上第一个统一的多民族的中央集权的封建国家是\_\_\_\_\_朝。(2分)

- (2) 在我国统一的多民族国家的发展历程中，各民族都做出了重大的贡献。请要概述鲜卑族孝文帝改革为我国民族关系的发展做出的重大贡献。（3分）
- (3) 元朝时期出现了民族大融合的盛况。你认为出现这一盛况的前提条件是什么？（3分）
- (4) 清朝前期是我国统一的多民族国家巩固时期。请你举出清朝前期为加强对新疆地区的统治而采取的重大措施。（4分）

### 31、（1）秦

(2) 北魏孝文帝的改革，有利于北方经济的恢复和发展，促进了北方各族社会的进步，加快了北方民族大融合的进程

(3) 国家统一，经济发展

(4) 平定大小和卓叛乱，设伊犁将军

**(2010 广东汕头, 29)** 阅读下列材料：

材料一：“外甥是先皇帝舅宿亲，又蒙降金城公主，遂和同为一家人。天下百姓，普皆安乐。”

——《旧唐书·吐蕃传》

材料二：右图是清政府颁赐的金本巴瓶和五支如意头象牙签。为改变大活佛转世被蒙藏贵族所操纵的积弊，清政府规定了确定转世灵童的具体程序：达赖或班禅转世时，都要将找到的几个灵童的名字写在象牙签上，装入瓶中，由驻藏大臣监督掣签确定。然后报朝廷批准，再由驻藏大臣主持坐床，才能成为合法的继承人。此项制度被称为“金瓶掣签”

材料三：“各少数民族聚居的地方实行区域自治。各民族自治地方都是中华人民共和国不可分割的部分。”

——一九五四年《中华人民共和国宪法》



请回答：

(1) 材料一中的外甥指的是谁？（1分）如何理解材料中的“和同为一家人”？（2分）

尺带珠丹（或吐蕃赞普），唐与吐蕃关系日益密切。

(2) 根据材料二，并结合所学知识回答：清政府为加强对西藏的管辖采取了哪些措施？（3分）

① 历世达赖和班禅，都必须经过中央政府的册封。

② 1727年设驻藏大臣，代表中央政府，与达赖、班禅共同管理西藏事务。

③ 达赖和班禅的继承，必须报请中央政府批准。

④ 驻藏大臣监督掣签。然后报朝廷批准，再由驻藏大臣主持坐床，才能成为合法的继承人。

(3) 材料三规定，我国在少数民族聚居地区实行什么制度？（1分）谈谈实行这一制度的意义。（5分）

民族区域自治制度。意义：民族区域自治对祖国统一、民族平等、民族团结和地区发展具有重大意义，成为我国的一项基本国策和基本政治制度

## 第 20 课 明清经济的发展与“闭关锁国”

**(2010 广西贵港, 8)** 下列历史事件叙述错误的是

- A. 1616年努尔哈赤统一女真，建立金国
- B. 1636年皇太极在上京称帝，改国号为清
- C. 康熙帝册封了喇嘛教首领五世班禅
- D. 清朝设置乌里雅苏台将军管理北部边疆

【地方史】（2010福建龙岩，3）与郑和一起出使西洋的著名的闽西籍航海家是

- A. 王景弘 B. 张騫 C. 郑成功 D. 文天祥

（2010广东东莞，9）郑和下西洋是世界航海史上的壮举。关于这一壮举的历史意义说法正确的是

- A. 一种民间经济文化友好交流 B. 使明朝获得良好经济效益  
C. 加强了明朝与亚非国家往来 D. 促进了明朝手工业的发展

（2010·山东临沂，12）公元1405年，郑和这个名字开始载入史册。现在的人们之所以怀念郑和，是因为他曾

- A. 收复台湾，驱逐了荷兰殖民者  
B. 抗击倭寇，维护了东南沿海地区的安定  
C. 七下西洋，促进了中国与亚非各国的经济交流  
D. 英勇抗元，留下了“留取丹心照汗青”的千古名句

（2010湖南岳阳，5）你认为下列历史事件中能体现我国对外友好交往传统的是：

- A. 雅克萨之战 B. 戚继光抗倭 C. 郑和下西洋 D. 郑成功收复台湾

（2010河南省，2）鸦片战争前，一位中国文人这样描述西方人：“他们的长腿不能弯曲，因而他们不能奔跑和跳跃；他们碧蓝的眼睛畏惧阳光，甚至在中午不敢睁开。”就连林则徐也相信“只要断绝了对西方人茶叶和大黄的供应，他们就会因为消化不良而死”。造成这种认识的根源是

- A. 中西方文化差异 B. 长期实行的闭关政策  
C. 中西方人种差异 D. 中国文人的偏见

（2010江苏南京，7）清政府规定：“外国商船只准在广州一口通商贸易；对中国出海的商民限制返回，如逾期不归则不准回国。该规定说明清朝

- A. 禁止对外贸易 B. 实行闭关锁国  
C. 加强思想控制 D. 鼓励商业发展

（2010江苏苏州，27）西汉时期开通的“丝绸之路”成为沟通中西交通的陆上要道；明朝前期的郑和下西洋，加强了同海外各国的联系，架起了中外友好交往的海上桥梁。

（2010江苏盐城，8）下面是古代某船队远洋航行的路线图，该航行壮举最远到达的地区应是



- A. 红海沿岸和非洲东海岸  
B. 地中海沿岸和非洲西海岸  
C. 印度洋沿岸和好望角  
D. 大西洋沿岸

（2010湖南岳阳，32）阅读下列材料：

材料一：蔡侯祠



材料二：综观 18 世纪末 19 世纪初期的中国科学技术，就是这样：在近代科学的园地仍然是空白一片；在传统科学的发展中，则由点由于中西文化交流的中断……整个中国科学技术在封建专制主义的严重束缚下，走进了死胡同在西方科学技术普遍繁荣的年代，中国科学技术却陷入了停滞状态……——《中西 500 年对比》

材料三：新中国成立以来，党和政府高度重视科学技术的发展，取得了举世瞩目的成就。

请回答：

- (1) 材料一中的蔡侯祠是为了纪念\_\_\_\_\_ (人名) 而建造的。他最突出的贡献是\_\_\_\_\_，这项贡献在中国古代科技史上有何重要地位？(4 分)
- (2) 依据材料二，找出中国科学技术“陷入停滞”的主要原因。(4 分)
- (3) 依据材料三，结合所学知识，指出党和政府在重视科学技术方面制定了怎样的国策？  
( 2 分)
- (4) 建国以来，我省在信息技术方面取得的最突出成就是什么？请再举一例我省在其他方面取得的重大科技成就。(4 分)

### 32、(1) 蔡伦 改进造纸术

- (2) 封建专制主义的严重束缚 闭关锁国政策中断了中西文化交流
- (3) 科教兴国
- (4) 千万亿次超级计算机系统 袁隆平培育杂交水稻

(2010 广西贵港, 26) 阅读下列材料：

**材料一** 三国时期，南方得到初步开发。在江南的手工业中，最重要的织造麻布，当时有一地方出产的越布是著名特产。

**材料二** 随着南方经济的发展，我国地区地区出现了世界上最早的纸币—交子。

**材料三** 明朝初年，他率领当时世界上最大的船队七次下西洋，扩大了中国和亚非国家的经济文化交流。

**材料四** 清朝初年，清政府实行严厉的“海禁”政策，到乾隆年间，只准开放一处地方作为对外开放的港口。

——《中国历史》七年级上、下册 (有改动)

请回答：

- (1) 材料一的越布是当时哪一地方的著名特产？(1 分)
- (2) 材料二的纸币出现在我国哪一时期？(1 分)
- (3) 材料三的“他”是谁？(1 分)
- (4) 材料四的“地方”是指哪里？(1 分)

## 第21课 时代特点鲜明的明清文化（一）

(2010 福建三明, 5) 某校文学长廊中悬挂着以下一组图片, 他们取材于



舌战群儒      蒋干盗书      单刀赴会      挥泪斩马谩

A. 《三国演义》    B. 《西游记》    C. 《水浒传》    D. 《红楼梦》

(2010 四川重庆, 6) 同学们耳熟能详的唐僧取经、孙悟空智降妖怪等故事出自于我国古代一部浪漫主义长篇神话小说。这部小说是

A. 《三国演义》      B. 《水浒》  
C. 《西游记》      D. 《红楼梦》

(2010 四川资阳, 18) 2010年5月由朝鲜国家级艺术团——血海歌剧团潜心50载创作的大型歌舞剧《红楼梦》登陆北京电视台大剧院, 就此开始该剧在中国为期一个月的巡回演出。血海歌剧团之所以选择《红楼梦》创作大型歌舞剧, 主要是因为这部小说

A. 情节曲折离奇      B. 反映了中韩友谊  
C. 具有高度的思想性和艺术性    D. 是中国最早的小说

(2010 湖北黄石, 6) “铜绿山古矿冶遗址的发现, 说明两千多年前的黄石地区拥有当时世界领先的冶炼技术。”下列能证明这个观点的是

A. 井巷支架    B. 大批木铲    C. 斜巷与平巷    D. 鼓风竖炉

(2010 广东省, 6) 某中外学生交流团游览北京。如果你以导游身份讲解当地名胜古迹, 正确的讲解是

- ① 隋朝大运河北抵涿郡, 是贯通南北的大动脉
  - ② 北京故宫是我国现存规模最大、最完整的古建筑群
  - ③ 万里长城是世界建筑史上的一个奇迹
  - ④ 北京大学是创办于洋务运动时期的一所百年名校
- A. ①②③      B. ②③④    C. ①③④      D. ①②④

(2010 陕西省, 14) 北京故宫作为世界文化遗产是中国人的骄傲。下列对故宫独特建筑风格的描述, 正确的是

- ① 主体建筑布置在中轴线上, 整个建筑群, 跌宕起伏, 错落有致
- ② 皇城居全城中央, 汴河穿越而过, 坊市不再截然公开
- ③ 主要建筑左右对称分布两边, 构成多种庭院组合形式
- ④ 总体建筑呈棋盘式布局, 有东市和西市

A. ①③    B. ②③    C. ②④    D. ①④

(2010 安徽省, 11) 安徽, 历史悠久人杰地灵, 科学文化大放异彩。

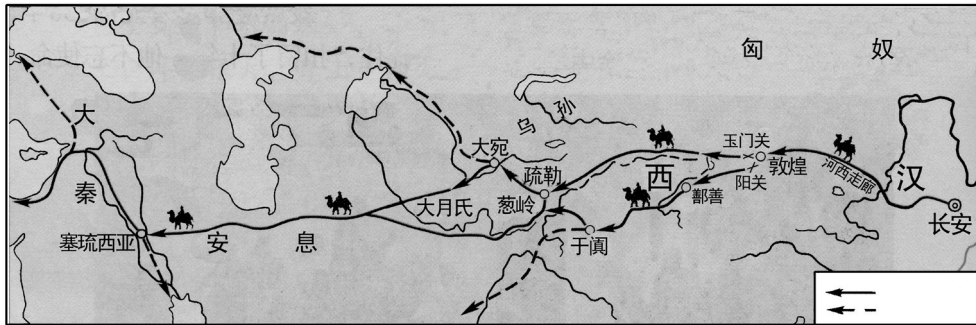
(1) 中国讽刺小说《儒林外史》的作者是吴敬梓。

(2) “捧着一颗心来, 不带半个草去”的近代“伟大的人民教育家”是陶行知。

(2010 山东莱芜, 21) 阅读材料, 回答问题。(7分)

### 材料一

(1) 下图所示是古代沟通中西交通的陆上要道，请写出其名称。(1分)



### 材料二

国别	人物	内容	结果
唐→天竺	玄奘	西行取经	游历16年，带回许多佛经
唐→日本	鉴真	6次东渡	对日本文化的影响很大

(2) 根据材料二说明唐朝在对外交往中实行了什么政策？上表中玄奘的著作是什么？(2分)

**材料三** 从对外关系上说，隋唐宋元都居于主动地位，明清时期的对外关系显然逆转了……倭寇沿海骚扰，为南方各地带来了极大的破坏。明清之际，西方资本主义已在兴起，而中国的……专制者对于世界形势一无所知。

(3) 是什么政策导致了清朝政府“对于世界形势一无所知”？该政策产生了什么影响？(3分)

(4) 综合以上材料，联系明清时期对外关系逆转带来的巨大变化，你得到了什么启示？(1分)

21. (1) 丝绸之路。(1分)

(2) 对外开放。(1分) 《大唐西域记》。(1分)，

(3) 闭关锁国政策。(1分) 影响：对西方的侵略起过一定的自卫作用；与世隔绝，使中国在世界上逐渐落伍。(2分)

(4) 闭关锁国导致国家落后；对外开放使国家繁荣富强。(1分，言之有理即可得分)

## 第22课 时代特点鲜明的明清文化(二)

(2010 山东威海, 10) 下列我国古代科技著作中，两项同属于一个领域的一组是

- A. 《伤寒杂病论》与《本草纲目》
- B. 《天工开物》与《九章算术》
- C. 《齐民要术》与《水经注》
- D. 《天工开物》与《水经注》

(2010 四川重庆, 4) 右图是我国改造的一枚纪念明代科学家宋应星的邮票。宋应星的重要成就是

- A. 发明指南针
- B. 发明活字印刷术
- C. 编著《本草纲目》
- D. 编著《天工开物》



(2010 湖南衡阳, 6) “北京王麻子剪刀”是享誉海内外几百年的中华老字号, 其生产技术曾在“中国 17 世纪工艺百科全书”中被详细介绍。该书是

- A. 《齐民要术》 B. 《本草纲目》 C. 《天工开物》 D. 《徐霞客游记》

(2010 浙江湖州, 11) 下列有关中国古代朝代兴替呈现正确的是 ( ) B

- ① 夏→商 ② 秦→汉 ③ 元→宋 ④ 隋→唐

- A. ①②③ B. ①②④ C. ①③④ D. ②③④

(2010 江苏无锡, 5) 有尚未普及电视和电影的二十世纪七八十年代, 拥有一本精美的连环画是很多孩子的梦想, 很多人就是在童年时通过连环画来阅读名著的。试试你的眼力看看下面哪一组搭配是错误的? ( )



A. 大闹天宫——《西游记》



B. 三顾茅庐——《三国演义》



C. 黛玉葬花——《西厢记》



D. 武松打虎——《水浒传》

(2010 重庆江津区, 4) 右图为我国的一部古典科技巨著, 对它的正确评价是

- A. 是中国 17 世纪的工艺百科全书  
B. 是一部综合性的地理学专著  
C. 是一部具有总结性的药物学巨著  
D. 是我国现存的第一部完整的农业科学著作

