

(1) 形成图示农业景观的主要自然条件是 ()

- A. 濒临海洋，气候干旱
- B. 地势低平，降水丰沛
- C. 盆地地形，降水集中
- D. 河道弯曲，淤塞成湖

(2) 四大中心城市优化提升图示职能，各自具有的优势是 ()

- A. ①城：拥有珠三角低成本的土地
- B. ②城：满足各种金融交易的设施
- C. ③城：利用港澳先进的技术经验
- D. ④城：享受经济特区的优惠政策

【答案】 (1) B (2) C

【考点】 运用地图图表描述区域自然环境和人文环境的特点

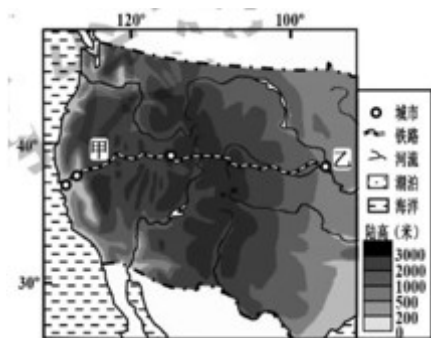
【解析】 【分析】 (1) 粤港澳大湾区某农业景观是典型的鱼塘台田模式。挖泥成塘，滩泥成基，塘中养鱼，基上种树，说明这个地区地势低平，排水不畅，浅塘较多，但自然条件较好，雨热同期，降水丰沛，有利于农业生产。所以，利用当地的优势，扬长避短，发展了基塘生产。ACD不符合题意，B项正确。

(2) 分析四大中心城市优化提升图示职能，①城作为世界旅游休闲中心，其优势是拥有便利的交通条件和丰富的旅游资源；②城作为国际航运中心，其优势是优良的港湾，海运便利；③城作为国家创新型城市，其优势是利用港澳先进的技术经验；④城作为国际商贸中心，其优势是满足各种金融交易的设施。ABD不符合题意，C项正确。

故答案为：(1) B；(2) C。

【点评】 珠江三角洲，简称珠三角，是西江、北江和东江入海时冲击沉淀而成的一个三角洲，面积大约5.6万平方公里。位于广东省中南部，珠江下游，毗邻港澳，与东南亚地区隔海相望，海陆交通便利，被称为中国的“南大门”。改革开放以来，利用国家的政策优势和有力的区位条件，成为中国崛起最快的地区之一，发展成中国人口集聚最多、创新能力最强、综合实力最强、经济最发达的地区之一，辐射带动华南、中南和西南地区发展的龙头。

4.1863年美国太平洋铁路开始施工，下图为太平洋铁路示意图。完成小题。



- (1) 太平洋铁路甲段建设中遇到的主要自然问题是 ()
- A. 终年炎热, 大片沙漠 B. 高寒、缺氧、低气压
- C. 沟壑纵横, 黄土广布 D. 山岭众多, 地势险峻
- (2) 乙地区农产品可经太平洋铁路运往西海岸。现今乙地区农业生产特色是 ()
- A. 家庭农场规模化生产 B. 牧业生产高度现代化
- C. 大面积使用滴灌技术 D. 山地垂直农业一体化
- (3) 太平洋铁路开工修建时的历史背景是 ()
- A. 大陆会议通过《独立宣言》 B. 北美人民击溃英军主力
- C. 电力铁路在欧美国家出现 D. 南北战争如火如荼进行

【答案】 (1) D (2) A (3) D

【考点】 运用地图图表描述区域自然环境和人文环境的特点

【解析】 【分析】 (1) 太平洋铁路甲段正是美国西部的重要山脉内华达雪山的核心区域, 不仅悬崖峭壁遍布, 而且还终年积雪, 其工程的难度可想而知。在修建这条铁路的过程中遇到的主要自然问题是山岭众多, 地势险要, 差点被放弃。ABC 不符合题意, D 项正确。

(2) 现今乙地区位于美国的中央大平原, 是典型的商品谷物农业, 其特点是生产规模大, 机械化程度高, 几乎是家庭经营的大规模农场。因此其生产特色是 家庭农场规模化生产。BCD 不符合题意, A 项正确。

(3) 在南北战争期间的 1862 年, 美国总统林肯出台了《太平洋铁路法案》, 给铁路拨出了大量的土地和财政资金。1863 年, 太平洋铁路开始施工。ABC 不符合题意, D 项正确。

故答案为: (1) D; (2) A; (3) D。

【点评】 到了南北战争前后的 19 世纪 60 年代, 美国已经基本迈入了工业大国的行列, 东部各州已经建起了比较密集的铁路网。面对西部无穷的开发潜力和几乎为真空状态的交通系统, 修建一条沟通东西海岸的干线铁路的构想就排上了美国人的日程。这个提案在南北战争期间显得格外迫切, 因为西部的矿产物资以及兵源, 要花上很长时间才能投入东部的战场。

5. 古希腊雕刻艺术在公元前 5 世纪已达到相当高度, 属于这一时期雕刻艺术成就的是 ()

- A. 《掷铁饼者》 B. 《雅典学院》 C. 《蒙娜丽莎》 D. 《荷马史诗》

【答案】 A

【考点】 古希腊罗马文明

【解析】 【分析】 A项《掷铁饼者》属于公元前5世纪雕刻艺术成就，符合题意；

B项《雅典学院》是文艺复兴时期拉斐尔的著名壁画，不属于雕刻艺术，不符合题意；

C项《蒙娜丽莎》是意大利文艺复兴时期画家达·芬奇创作的油画，不属于雕刻艺术，不符合题意；

D项《荷马史诗》相传是由古希腊盲诗人荷马创作的两部长篇史诗，不属于雕刻艺术，不符合题意；

故答案为A。

【点评】 公元前5世纪是希腊雕塑的高峰期，古希腊的雕塑以表现人物为主，作品体态健美、形象逼真；希腊的人物雕刻艺术达到了一种完美境界，《掷铁饼者》是希腊雕塑艺术中的杰作之一。

6.“秦始皇灭六国后，觉得到处都有驻兵镇压的必要，就要分天下为三十郡。”由此秦实行（ ）

- A. 分封制 B. 郡县制 C. 刺史制度 D. 行省制度

【答案】 B

【考点】 秦皇汉武、唐宗宋祖

【解析】 【分析】 A项分封制是中国古代国王或皇帝分封诸侯的制度，秦始皇“废分封，立郡县”，不符合题意；

B项郡县制是秦实行的制度，符合题意；


C项刺史制度是汉武帝在秦御史监郡和汉初丞相史出刺基础上的独创，是君主专制主义中央集权的产物，不符合题意；

D项行省制度是元朝建立的制度，元朝建立以后，为了加强对地方的统治，维护中央集权，干脆把行军打仗时在各地设立的临时机构“行中书省”确定下来，简称“行省”，建立了行省制度，不符合题意；

故答案为B。

【点评】 秦始皇首创了大一统的中央集权制度；该制度统治下，在中央总揽全国军政大权的是皇帝；为了加强对地方的控制，秦朝在地方实行郡县制，加强管理。

7.下列史实与下图史料能一起印证清朝对某边疆地区实施有效管辖的是（ ）



- A. 设置宣政院 B. 推行改土归流 C. 实行金瓶掣签 D. 设立伊犁将军

【答案】 C

【考点】 元明清对统一多民族国家的发展的贡献

【解析】 【分析】 A 项设置宣政院是元朝时设立的，专门负责管理西藏事务，不符合题意；

B 项推行改土归流是为了加强对西南民族地区的管理，不符合题意；

C 项实行金瓶掣签和设立驻藏大臣印证清朝对西藏地区实施有效管辖，符合题意；

D 项设立伊犁将军管辖包括巴尔喀什湖在内的整个新疆地区，不符合题意；

故答案为 C。

【点评】 本题难度适中，考查清政府民族政策的相关史实。根据所学可知，在西藏确立了册封西藏佛教首领达赖和班禅的制度，雍正时期（1727 年），开始设立驻藏大臣，代表中央长驻西藏，同达赖班禅共同管理西藏，加强了对西藏的管辖；乾隆皇帝还制定“金瓶掣签”制度，稳定了西藏的政局，进一步使西藏成为祖国不可分割的领土。

8. 历史学家把百年前的某历史事件视为“分水岭”，它“将八十年的旧民主时期和新民主时期分开”。这一历史事件是（ ）

- A. 鸦片战争 B. 维新变法 C. 五四运动 D. 新中国成立

【答案】 C

【考点】 新文化运动和五四运动

【解析】 【分析】 1919 年的五四运动中，中国无产阶级开始登上政治舞台，五四运动是我国新民主主义的开端。

C 项五四运动将八十年的旧民主时期和产年新民主时期分开，符合题意；

故答案为 C。

【点评】 本题难度适中，考查五四运动的意义及学生的理解能力。

9. 1941 年 12 月，《国民政府对日宣战布告》指出：“过去四年余之神圣抗战，原期侵略者之日本于遭受实际之惩创后，终能反省……更悍然向我英、美诸友邦开衅，扩大其战争侵略行动……兹特正式对日宣战。”完成小题。

(1) 材料反映 1941 年前国民政府迟迟不对日正式宣战的原因是 ()

- A. 中日两国实力过于悬殊 B. 国民政府曾对日本抱有幻想
C. 日本停止对重庆的轰炸 D. 抗日民族统一战线尚未建立

(2) “侵略者之日本对美国友邦开衅，扩大其战争侵略行动”的标志性事件是 ()

- A. 中途岛海战 B. 诺曼底登陆 C. 偷袭珍珠港 D. 阿拉曼战役

【答案】 (1) B (2) C

【考点】 抗日战争，第二次世界大战

【解析】 【分析】 (1) 根据题干材料中的“……原期侵略者之日本于遭受实际之惩创后，终能反省……”可见，1941 年前国民政府迟迟不对日正式宣战的原因是国民政府曾对日本抱有幻想。

B 项国民政府曾对日本抱有幻想是题干材料反映 1941 年前国民政府迟迟不对日正式宣战的原因，符合题意；

故答案为 B。

(2) 根据题干材料中的“……日本对美国……”，联系所学知识，1941 年 12 月 7 日，日本机群偷袭美国在太平洋上最大的军事基地珍珠港，重创了美国太平洋舰队，这就是历史上著名的“珍珠港事件”。珍珠港事件的爆发，标志着太平洋战争的爆发；珍珠港事件揭开了第二次世界大战太平洋战争的序幕，使二战规模进一步扩大。

C 项偷袭珍珠港是“侵略者之日本对美国友邦开衅，扩大其战争侵略行动”的标志性事件，符合题意；故答案为 C。

【点评】 (1) 本题难度适中，考查 1941 年前国民政府迟迟不对日正式宣战的原因及学生准确解读历史材料的能力。(2) 本题难度适中，考查第二次世界大战的相关知识及学生的理解能力。

10. 某校在世界微笑日开展“学会微笑、传递温暖”主题活动，引导学生快乐自我，愉悦他人，让微笑成为校园一道亮丽的风景。此活动可让我们正确认识到 ()

- A. 欢笑总比哭泣好，要拒绝流泪 B. 悲伤情绪总是有害，要坚决掩盖
C. 情绪会相互感染，要学会管理 D. 挫折让人伤心痛苦，要逃避面对

【答案】 C

【考点】 情绪的多样性、复杂性

【解析】 【分析】 根据所学，情绪表达具有相通性或相互感染性，不仅影响自己的身心健康，而且关乎人际交往。为此，引导学生快乐自我，愉悦他人，让微笑成为校园一道亮丽的风景有利于构建和谐校园，C 符合题意，正确。

A 观点错误，拒绝流泪的认识不符合实现。

B 观点太绝对，适度的负面情绪，可以帮助我们适应突发事件，不能坚决掩盖。

13. 下图漫画主要警示我们 ()



- ① 公民的一切财产神圣不可侵犯 ② 公民人身自由不能被非法剥夺
③ 公民有权利惩处不履行义务的人 ④ 公民维护权利不能超越法律规范
- A. ①② B. ①③ C. ②④
D. ③④

【答案】 C

【考点】 法律维护公民的人身自由、人格尊严和个人隐私

【解析】 【分析】 漫画中的公民以讨债的名义非法拘禁他人，最后违法犯罪受到法律的制裁，这警示我们公民人身自由不能被非法剥夺，公民维护权利不能超越法律规范， ②④符合题意，正确。

① 观点错误，公民的合法的财产所有权受法律的保护。

③ 观点错误，公民没有执法权，不能惩处不履行义务的人。

故答案为：C

【点评】 本题考查对依法维权和公民人身自由的认识，主要考查学生的理解能力，禁止非法拘禁和以其他方法非法剥夺或者限制公民的人身自由，禁止非法搜查公民的身体。

14. 教育部等三部委发布《学校食品安全与营养健康管理规定》，要求中小学幼儿园应建立集中用餐陪餐制度，每餐均应有学校相关负责人与学生共同用餐。这一要求旨在 ()

- A. 落实对未成年人的司法保护 B. 杜绝学生就餐浪费现象
C. 加强对未成年人的道德教育 D. 维护未成年人合法权益

【答案】 D

【考点】 法律对未成年人的特殊保护

【解析】 【分析】 教育部等三部委发布《学校食品安全与营养健康管理规定》体现国家对未成年生命健康权的重视，中小学幼儿园应建立集中用餐陪餐制度旨在维护未成年人合法权益，D符合题意，正确。

A 错误，每餐均应有学校相关负责人与学生共同用餐体现对未成年人的学校保护。

B 观点太绝对，错误且不符合题意，应排除。

C 不符合题意，排除。

故答案为：D。

【点评】本题考查对未成年人的特殊保护，主要考查学生的理解能力，未成年人的生存和发展事关人类的未来。我们要给予特殊的保护。

15.我国预防未成年人犯罪法将未成年人“吸食、注射毒品”定性为严重不良行为，规定要依法矫治。

法律这样规定，是因为未成年人“吸食、注射毒品”会（ ）

- ① 危害身心健康 ② 滑向犯罪深渊 ③ 受到社会排斥 ④ 遭受同伴谴责
- A. ①② B. ①③ C. ②④
- D. ③④

【答案】 A

【考点】 犯罪的特征及危害，自律

【解析】 【分析】吸毒一口迭入虎口，吸毒危害身心健康，吸食、注射毒品”是违法行为，违法行为和犯罪行为之间没有不可逾越的鸿沟，法律将未成年人“吸食、注射毒品”定性为严重不良行为因为未成年人“吸食、注射毒品”会 危害身心健康，滑向犯罪深渊，①②符合题意，正确。

③④ 不是题意主旨所在，应排除。

故答案为：A。

【点评】本题考查对预防违法犯罪的认识，主要考查学生的理解能力，生活在法治社会，我们应增强法治观念，依法自律，做一个自觉守法的人。我们要从小事做起，避免沾染不良习气，自觉遵纪守法，防患于未然。

16.经代表广泛讨论、审议，十三届全国人大二次会议表决通过了《中华人民共和国外商投资法》。

该法第一条规定：“依据宪法，制定本法。”材料反映我国法律（ ）

- A. 是宪法的重要立法依据 B. 对公民具有普遍约束力
- C. 由各级的人大代表制定 D. 要体现广大人民的意志

【答案】 D

【考点】 宪法与普通法律

【解析】 【分析】从题干材料中的关键信息“经代表广泛讨论、审议”可知我国法律要体现广大人民的意志，D符合题意，正确。

A 观点错误，宪法是普通法律的立法基础和依据。

B 不符合题意，应排除。

C 观点错误，全国人大是立法机关，人大代表无权制定法律。

故答案为：D。

【点评】本题考查对我国法律的本质的认识，主要考查学生的理解能力，法律的本质是统治阶级意志的体现，我国法律的本质是人民意志和利益的体现。

17.2019年2月，《嘉兴市人民政府办公室关于进一步做好促进就业工作的通知（征求意见稿）》

发布，向社会公开征求意见。这样做是为了（ ）

- A. 公民履行监督国家机关的义务 B. 公民开始享有劳动就业权利
C. 政府更好地统一行使国家权力 D. 政府更好地为人民群众服务

【答案】 D

【考点】 依法治国与依法参与政治生活

【解析】 **【分析】** 《嘉兴市人民政府办公室关于进一步做好促进就业工作的通知（征求意见稿）》发布，向社会公开征求意见。保证广泛的公民参与，决策方认真听各方意见，集中民智，促进决策的科学化，使政府更好地为人民群众服务，D符合题意，正确。

A 观点错误，监督是公民的权利不是义务。

B 观点错误，劳动是公民的权利，这是宪法规定的，题肢中开始享有劳动就业权观点错误。

C 错误，人民代表大会行使国家权力。

故答案为：D。

【点评】 本题考查对政府的职权和法治政府的认识，主要考查学生的理解能力，在我国，政府的权力来源于人民。政府的宗旨是为人民服务，政府的工作要对人民负责，为人民谋利益。

18. 中共中央召开党外人士座谈会，就 2018 年经济形势和 2019 年经济工作听取各民主党派中央、全国工商联负责人和无党派人士代表的意见和建议。这表明（ ）

- ① 中国共产党是我国的领导核心 ② 社会主义协商民主付诸于实践
③ 民主党派是国家法律监督机关 ④ 人民政协履行了国家机关职能
- A. ①② B. ①③ C. ②④
D. ③④

【答案】 A

【考点】 党的领导与人民当家做主，依法治国与依法参与政治生活

【解析】 **【分析】** 题干材料“中共中央召开党外人士座谈会”说明中国共产党是我国的领导核心。就 2018 年经济形势和 2019 年经济工作听取各民主党派中央、全国工商联负责人和无党派人士代表的意见和建议。体现了社会主义协商民主付诸于实践，①②符合题意，正确。

③ 观点错误，人民察检院是国家法律监督机关。

④ 观点错误，人民政协是爱国统一战线组织，不是国家机关。

故答案为：A。

【点评】 本题考查对我国政党制度和协商民主的认识，主要考查学生的理解能力，我国实行人民民主，既要发展选举民主，保障人民通过选举、投票行使权利，又要发展协商民主，推动人民内部各方面在重大决策之前和决策之中进行充分协商，尽可能取得一致意见。协商民主是我国社会主义民主政治的特有形式和独特优势。

19.第二届中国国际茶叶博览会在杭州举行，来自 30 多个国家和地区的 1500 多家中外知名企业，开展茶叶贸易，交流分享茶文化。这反映了（ ）

- ① 茶文化是中华文化的精髓 ② 中华茶文化的魅力得到展示
③ 中国与世界携手共同发展 ④ 中国作为发达国家担当责任

- A. ①② B. ②③ C. ①④
D. ③④

【答案】 B

【考点】 社会主义精神文明建设

【解析】 【分析】 从题干材料中关键信息“来自 30 多个国家和地区的 1500 多家中外知名企业，开展茶叶贸易，交流分享茶文化”可知，中国与世界携手共同发展，茶文化的魅力得到展示。②③符合题意，正确。

① 观点错误，民族是中华文化的精髓。

④ 观点错误，中国是发展中国家，不是发达国家。

故答案为：B。

【点评】 本题考查对中华文化的认识，主要考查学生的理解能力，增强文化自信，要跨越时空展示中华文化的独特魅力，在交流互鉴中丰富发展。

20.嘉兴有条大运河。嘉兴段运河历史上属江南河，史书载：“大业六年，隋炀帝敕穿江南河。”由此可推断（ ）

- A. 材料中的史书可能是《史记》 B. 《清明上河图》描绘了修此河场景
C. 此河贞观之治时已发挥作用 D. 宋应星为此河开凿提供技术指导

【答案】 C

【考点】 秦皇汉武、唐宗宋祖

【解析】 【分析】 为巩固隋朝统治，加强南北交通，公元 605 年，隋炀帝征发民工几百万，利用了天然河道和旧有渠道，开通了以东都洛阳为中心，开通了永济渠、通济渠、邗沟和江南河，连成了一条贯通北起涿郡（北京），南到余杭（杭州）的大运河，它的开通，大大加强了我国南北经济的交流。

A 项材料中的史书可能是《史记》不符合题意，因为《史记》记述了从黄帝到汉武帝时期的历史；

B 项《清明上河图》描绘了修此河场景不符合题意，因为北宋画家张择端的画《清明上河图》描写了北宋首都东京汴河沿岸的风光，；

C 项此河贞观之治时已发挥作用符合题意；

D 项宋应星为此河开凿提供技术指导不符合题意，因为宋应星是明朝杰出的科学家，所以不可能为之前的隋朝大运河开凿提供技术指导；

故答案为C。

【点评】本题有一定难度，考查大运河的相关知识及学生灵活运用所学知识解决问题的能力。

21.嘉兴有个乍浦港。它是环杭州湾地区重要国际转口和分拨配送点。下图信息说明修建乍浦港的社会经济条件是（ ）



- A. 地处杭州湾北岸，有深水海岸线 B. 临近杭州、上海，腹地经济发达
C. 嘉兴造船业强大，船舶设备先进 D. 近海渔业资源丰富，捕捞能力强

【答案】 B

【考点】运用地图图表描述区域自然环境和人文环境的特点

【解析】【分析】据图中信息分析，乍浦港地处杭州湾的北岸，有深水海岸线，但不属于社会经济条件；乍浦港临近杭州，上海，腹地经济发达，正确，符合题意；嘉兴造船业强大，船舶设备先进，近海渔业资源丰富，捕捞能力强不属于港口建设的有利条件。ACD不符合题意，B项正确。

故答案为：B。

【点评】港口建设的区位条件:从自然条件方面来看：水域条件(航行条件)：等深线密——江阔水深，空间大，便于航行和停泊，无结冰或结冰期短。港湾：避风浪、背风地带。陆域条件(筑港条件)：平原或三角洲——地形平坦，坡度适当，地质稳定，有较大的抛锚空间。

从社会经济方面来看：经济腹地(港口服务的区域)经济发达，辐射范围大，客货集散量大(影响港口的兴衰)。

依托城市：以单一大城市或某个城市群为依托，为港口提供人、财、物的优势。

22.嘉兴有群援疆人。现在他们与新疆阿克苏地区各族人民一道，努力建设富裕文明的新家园。这群嘉兴人正以实际行动（ ）

- A. 努力消除民族之间的差异 B. 依法行使了民族自治权
C. 为我国总体小康贡献力量 D. 增进民族间的团结和谐

【答案】 D

【考点】维护国家统一和民族团结

【解析】【分析】题干材料中他们与新疆阿克苏地区各族人民一道，努力建设富裕文明的新家园说明他们以实际行动增进民族间的团结和谐，D符合题意，正确。

A观点错误，民族之间的差异可以缩小不可以消除。

B 不符合题意，题干材料没有体现民族自治权的行使的内容，应排除。

C 错误，我国总体小康的目标已经实现。

故答案为：D。

【点评】本题考查对维护民族团结的认识，主要考查学生的理解能力，，在处理民族关系上，我国坚持民族平等、民族团结和各民族共同繁荣的基本原则，将民族区域自治制度作为一项基本政治制度载入宪法和法律，各族人民真正成了国家的主人，在此基础上，形成了平等团结互助和谐的社会主义新型民族关系。

二、非选择题 I（本题有 2 小题，共 24 分）

23.回首历程，探索道路。阅读材料，回答问题。

材料一：这次会议是中国共产党历史上的转折点，用当今流行的话说是一个历史“拐点”……从那以后，党的面貌发生根本变化，独立自主地从中国实际国情出发，走自己的路。

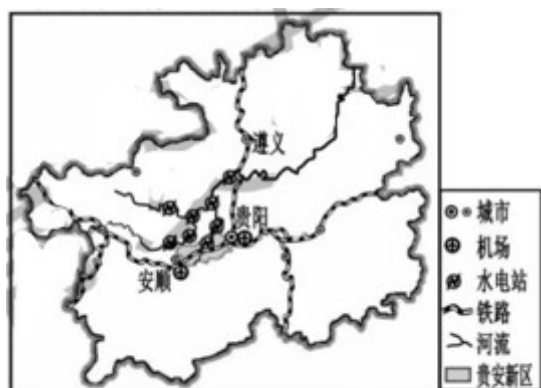
——金冲及《对遵义会议的历史考察》

材料二：贵州解放后，中共贵州省委根据当时实际情况在广大农村开展了一场具有历史意义的社会大变革。1952 年“耕者有其田”的理想变成现实，全省 80%左右的无地和少地的农民，分得土地和农具等。全省粮食产量，1951 年比 1950 年增长 6.42%。

——摘编自《中国共产党贵州历史》

材料三：为促进贵州经济社会发展，2014 年 1 月国务院批复设立贵安新区。

冷却散热、高消耗电能是大数据中心建设重要条件。因环境优势，贵安新区吸引多个大规模数据中心在此集聚，发展成为我国南方最大数据中心基地。新区东部“大学城”内高校集聚。



贵安新区示意图

安顺	平均气温 (°C)
1 月	4.3
2 月	15.0

3月	22.0
4月	15.0

- (1) 从思想角度看，材料一中的“历史拐点”是指什么？
- (2) 分析材料二中贵州农民实现“耕者有其田”理想的主要原因及意义。
- (3) 根据材料三分析贵安新区成为大数据中心基地的有利条件。
- (4) 三则材料共同说明中国革命和建设要走怎样的道路？

【答案】 (1) 确立以毛泽东为主要代表的马克思主义正确路线在党中央的领导地位。

(2) 贵州实行土地改革，废除封建土地所有制，实现农民土地所有制。调动农民积极性，解放农村生产力，促进粮食产量增长，有利于巩固新生的人民政权。

(3) 国家政策支持；气候凉爽、水电资源丰富；临近贵阳、安顺交通便捷；“大学城”提供技术、人才。

(4) 从中国国情出发，走中国特色道路。

【考点】 北伐战争、土地革命战争，改革开放前新中国成长的曲折历程

【解析】 【分析】 (1) 本题考查遵义会议的相关知识。根据材料一出处中的“《对遵义会议的历史考察》”，联系所学知识，1935年1月，中共中央政治局在贵州遵义召开扩大会议，这次会议开始确立了以毛泽东为核心的党中央的正确领导，遵义会议的召开挽救了党、挽救了红军、挽救了革命，是中国共产党历史上一个生死攸关的转折点，标志着中国共产党从幼稚走向成熟。

(2) 本题考查土地改革的相关知识。根据材料二中的时间“1952年”等可知，指的是土地改革，中华人民共和国成立前，半殖民地半封建社会的旧中国仍然维持封建土地制度。占农村人口不到10%的地主和富农占70%到80%的土地；而占农村人口90%贫农、雇农和中农却只占有20%到30%的土地，他们整天辛勤劳动受尽剥削，生活不得温饱；这种封建土地制度严重阻碍农村经济和中国社会的发展。1950年，中央人民政府颁布《中华人民共和国土地改革法》，它规定废除地主阶级封建剥削的土地所有制，实行农民的土地所有制。1952年底，土地改革基本完成，彻底摧毁了我国存在两千多年的封建土地制度，地主阶级被消灭；农民翻了身，得到土地，成为土地的主人；这使人民政权更加巩固，大大解放了农村生产力，调动了农民的生产积极性，农业生产获得了迅速恢复和发展，为国家的工业化建设准备了条件。

(3) 本题考查贵安新区成为大数据中心基地的有利条件及学生准确解读历史材料的能力。材料三中“……2014年1月国务院批复设立贵安新区……”说明贵安新区成为大数据中心基地的有利条件之一是国家政策支持。材料三中“……新区东部“大学城”内高校集聚”说明贵安新区成为大数据中心基地的有利条件之二是“大学城”提供技术、人才。材料三中“贵安新区示意图”说明贵安新区成为大数据中心基地的有利条件之三是水电资源丰富；临近贵阳、安顺交通便捷。材料三中的表格说明贵安新区

成为大数据中心基地的有利条件之四是气从中国国情出发，走中国特色道路。候凉爽。

(4) 本题考查学生归纳问题的能力，属于开放性问题，言之有理即可。

故答案为：(1) 确立以毛泽东为主要代表的马克思主义正确路线在党中央的领导地位。

(2) 贵州实行土地改革，废除封建土地所有制，实现农民土地所有制。调动农民积极性，解放农村生产力，促进粮食产量增长，有利于巩固新生的人民政权。

(3) 国家政策支持；气候凉爽、水电资源丰富；临近贵阳、安顺交通便捷；“大学城”提供技术、人才。

(4) 从中国国情出发，走中国特色道路。

【点评】本题难度适中，结合贵州的地方史，考查遵义会议、土地改革等相关知识及学生准确解读历史材料的能力。

24. 乡村振兴，共建共享。阅读学生小英寒假社会调查见闻，回答问题。

见闻一：两位青年大学生来到村农业科技创业园，租地、筹资、雇工创办了一家特色农业公司，得到乡财税、金融等部门的指导和配合，现在经营状况良好。

见闻二：村民召开会议，对征地补偿款的使用进行讨论，在大家充分发表意见的基础上，最后表决通过了使用方案。看来，村民会议制度还是挺健全的。

见闻三：在乡政府资助下，村委会新建了居家养老服务中心，依靠一批不同年龄层次的志愿服务者，为老人们提供贴心周到的服务。特别是中心为高龄及身体残疾老人提供免费送餐服务，让这些老人倍感生活温暖。

(1) 指出见闻一中公司的所有制性质及国家对此类所有制经济的政策。

(2) 结合见闻二，说明我国人民当家作主是如何得到落实的。

(3) 联系见闻三，运用道德、法治知识，任选三个角度阐述关爱老人做法的理由。

【答案】 (1) 非公有制经济。实行鼓励、支持和引导的政策。

(2) 我国人民当家作主是通过一系列政治制度，保障人民享有民主权利、参与民主管理，落实在国家政治和社会生活中。见闻二中健全村民会议制度，村民会议讨论决定征地补偿款使用方案，就是通过实行基层群众自治制度，发展基层民主，使村民当家作主权利得到落实。

(3) 道德方面，可以从尊老爱幼、团结互助、乐于助人等传统美德角度，或关爱他人、服务社会、承担责任角度等阐述理由。法治方面，可以从公民的物质帮助权、宪法“尊重和保障人权”的规定、给弱者必要扶助的正义要求等角度阐述理由。

【考点】 塑造良好道德，我国现阶段的经济制度，党的领导与人民当家做主，依法治国与依法参与

政治生活

【解析】【分析】(1) 题干材料中的公司为两位青年大学生合伙创办，属于非公有制经济，根据所学我国对非公有制经济实施鼓励、支持和引导的政策。

(2) 见闻二本现的是基层群众自治制度，据此，可以从基层群众自治制度的健全和发展及具体的议事方式等方面进行具体分析回答即可。

(3) 本题要把握住题目的要求是从道德、法治的知识，此外必须选三个角度进行分析，道德方面可以从传统美德，服务社会，承担责任的角度进行分析说明。法律方面可以从公民的权利，尊重保障人权和正义的要求等方面进行分析说明。

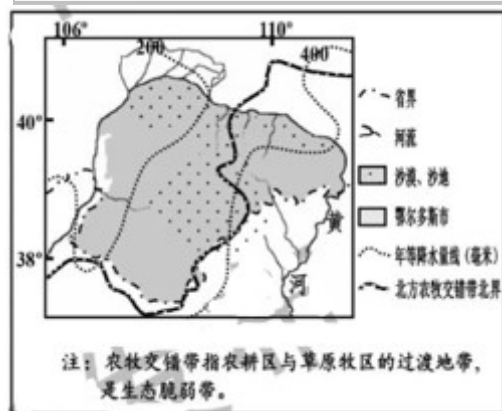
【点评】 本题考查对非公有制经济，基层群众自治制度和关爱他人等相关知识的理解和运用，主要考查学生利用所学知识分析问题和解决问题的能力，难度值一般。

三、非选择题 II (本题有 4 小题，共 20 分)

25. 种沙棘，绿荒漠，富百姓。阅读材料，回答问题。

鄂尔多斯市：地处我国北方农牧交错带西部，全市沙漠占总面积的 48%，年蒸发量 2000—3000 毫米。现人工种植沙棘面积约 700 万亩。近十几年来，大力发展沙棘产业，形成“种植沙棘——修复生态——产业发展——农牧民增收”发展产业链。下图为那尔多斯市及周边示意图。

沙棘：落叶灌木，具有对旱、耐寒、耐贫薄、抗风沙等特性，根系发达并具有较强固氮能力，沙棘果实富含多种营养成分和生物活性物，沙棘叶饲料价值很高。



(1) 指出上图所示区域年降水量的空间变化特点，及与北方农牧交错带总体走向大致相当的年等降水量线。

(2) 简析鄂尔多斯市大面积种植沙棘后，对黄河下游带来的影响。

(3) 结合材料，从区域发展角度分析鄂尔多斯市大力发展沙棘产业的原因。

【答案】 (1) 东南向西北递减(或由东向西递减)。400 毫米年等降水量线。

(2) 种植沙棘保持水土流失，减少泥沙流入黄河，减轻黄河下游因泥沙沉积造成河床抬升等影响。

(3) 鄂尔多斯市年蒸发量大于降水量，气候干旱，沙漠广布，生态环境脆弱。沙棘具有耐旱、耐寒、耐贫瘠、抗风沙等特性，可在这里生长，能防风固沙；且具有较强固氮能力，能提高土壤肥力，改善生态环境。沙棘的果、叶具有很高经济价值，发展沙棘产业能提高收入。大力发展沙棘产业，形成良性发展产业链，产生生态、社会和经济效益，促进鄂尔多斯市可持续发展。

【考点】运用地图图表描述区域自然环境和人文环境的特点

【解析】【分析】(1) 据图分析，图中区域东南部年等降水量线是 400 毫米，往西北部走是 200 毫米，由此确定 所示区域年降水量的空间变化特点 东南向西北递减（或由东向西递减）。400 毫米年等降水量线以东的地区，降水相对较多，满足农业生产需要，发展了种植业，400 毫米年等降水量线以西的地区，降水较少，发展了畜牧业。故 400 毫米年等降水量线作为农区和牧区的分界线。

(2) 鄂尔多斯市大面积种植沙棘后，增加了植被，起到了森林保持水土的作用，减少了黄河下游的泥沙沉积。故答案为：种植沙棘保持水土流失，减少泥沙流入黄河，减轻黄河下游因泥沙沉积造成河床抬升等影响。

(3) 鄂尔多斯市大力发展沙棘产业的原因：鄂尔多斯市年蒸发量大于降水量，气候干旱，沙漠广布，生态环境脆弱。沙棘具有耐旱、耐寒、耐贫瘠、抗风沙等特性，可在这里生长，能防风固沙；且具有较强固氮能力，能提高土壤肥力，改善生态环境。沙棘的果、叶具有很高经济价值，发展沙棘产业能提高收入。大力发展沙棘产业，形成良性发展产业链，产生生态、社会和经济效益，促进鄂尔多斯市可持续发展。

【点评】一般某区域发展某种产业生产的有利区位条件：一是有丰富的原料便于生产；而是有适合该产品生产的有利条件，比如自然条件，科技，工艺，技术工人等；三是产品生产出来要有销售市场，既有广阔的市场；四是交通便利，五是要有土地作为厂房；六是企业之间协作度高，便于生产；七是相关政策的支持。

26. 留学是中外文化交流的重要形式。阅读材料，回答问题。

材料一：630 年，日本派遣第一批遣唐使来唐……渴望采纳中国文化和政治模式。649 年，日本朝廷发动了一系列重要的政治改革，将日本重建成一个在法律、军事制度等和唐朝相似的中央集权制国家。

——陆威仪《世界性的帝国：唐朝》

材料二：十九世纪末，帝国主义吞噬颠覆，国家民族处境险恶。一些知识分子曾通过变法救亡图存，但爱国愿望破灭。清廷也感到按照日本模式改革，不失为遏止民主革命发展的最佳途径，于是派学生赴洋。但留日学生在学习日本和西方的过程中进一步觉醒，走上了中国资产阶级民主革命的新路。

——摘编自丁焕章《试论留日学生运动》等

材料三：至 20 世纪 90 年代初，中国出国留学生遍及世界一百多个国家和地区，达到 24 万人。

2004 年中国出国留学生高达 70 万人。2017 年共有 48.92 万名外国留学生在我国高等院校学习，

规模增速连续两年保持在 10%以上。

——摘编自李喜所《百年留学潮与中国现代化》等

(1) 据材料一指出日本派遣唐使的主要目的。

(2) 据材料二，运用所学知识分析留日学生走上“资产阶级民主革命新路”的原因。

(3) 分析材料三中的中外留学交流趋势。

【答案】 (1) 学习唐朝先进文化，推动国内改革，仿效唐朝建立中央集权国家。

(2) 甲午战争中国失败后，列强掀起了瓜分中国狂潮，中华民族面临生死存亡的危机。戊戌变法失败使更多人认为，要救中国必须进行革命；清政府试图通过学习日本君主立宪进行改革遏止革命；留日学生在留学过程中更多受日本、欧美民主文化影响，接受资产阶级民主革命思想，走上资产阶级民主革命新路。留日学生走上“资产阶级民主革命新路”是由多种历史因素促成的。

(3) 改革开放后，中国出国留学人数增加、范围扩大；来中国留学人数增加。

【考点】 戊戌变法，十一届三中全会、改革开放

【解析】 【分析】 (1) 本题考查日本派遣唐使的主要目的。根据材料一“……渴望采纳中国文化和政治模式。649年，日本朝廷发动了一系列重要的政治改革，将日本重建成一个在法律、军事制度等和唐朝相似的中央集权制国家。”，联系所学知识，唐朝时期，在世界上处于领先地位，对很多国家形成了吸引力，当时日本遣唐使来中国的主要目的是学习中国先进的文化，推动国内改革，把日本建立成一个中央集权国家。

(2) 本题考查学生分析问题的能力。留日学生走上“资产阶级民主革命新路”是由多种历史因素促成的：1895年，甲午中日战争中国战败，被签订《马关条约》，大大加深了中国的殖民地化程度，刺激了帝国主义瓜分中国的野心，。1898年，帝国主义纷纷在中国划定势力范围，强占租借地，掀起瓜分中国的狂潮。甲午中日战争后，1895年春，《马关条约》签订的消息传到北京，正在北京参加科举考试的康有为、梁启超等人义愤填膺，联名上书光绪帝，反对同日本人议和，请求变法。戊戌变法学习西方先进的政治制度，企图通过改良来实现君主立宪，以挽救民族危亡。留日学生在留学过程中，接受并开始传播资产阶级民主革命思想，回国后，他们积极投身革命。

(3) 本题考查中外留学交流趋势及学生准确解读历史材料的能力。材料三中的“至 20 世纪 90 年代初，中国出国留学生遍及世界一百多个国家和地区”说明中外留学交流的趋势是中国出国留学范围扩大。材料三中的“至 20 世纪 90 年代初，中国出国留学生……达到 24 万人。2004 年中国出国留学生高达 70 万人”说明中外留学交流的趋势是中国出国留学人数增加。材料三中的“2017 年共有 48.92 万名外国留学生在我国高等院校学习，规模增速连续两年保持在 10%以上”说明中外留学交流的趋势是来中国留学人数增加。

故答案为：(1) 学习唐朝先进文化，推动国内改革，仿效唐朝建立中央集权国家。

(2) 甲午战争中国失败后，列强掀起了瓜分中国狂潮，中华民族面临生死存亡的危机。戊戌变法

失败使更多人认为，要救中国必须进行革命；清政府试图通过学习日本君主立宪进行改革遏止革命；留日学生在留学过程中更多受日本、欧美民主文化影响，接受资产阶级民主革命思想，走上资产阶级民主革命新路。留日学生走上“资产阶级民主革命新路”是由多种历史因素促成的。

(3) 改革开放后，中国出国留学人数增加、范围扩大；来中国留学人数增加。

【点评】本题难度适中，围绕“留学”，考查遣唐使、戊戌变法等相关知识及学生分析问题、准确解读历史材料的能力。

27. 走近模范团队，感受红船精神。阅读材料，回答问题。

嘉兴农科院“南繁”育种人，一个在平凡岗位作出众多贡献的先进科研团队。他们在“红船精神”感召下，耐得住枯燥寂寞，顶得住蚊虫叮咬，经得起风吹雨打，怀抱科教兴国梦想，坚持科技创新，弘扬中国精神。每年候鸟般南飞“天涯海角”，进行育种实验，相继培植成功秀水、嘉禾等系列水稻新品种。这不仅改善了稻米品质，而且累计推广面积 7 亿余亩，增产粮食 100 多亿公斤，为“中国饭碗”贡献了“嘉兴力量”。他们身上的优秀品格感动和激励着其他南湖儿女，不忘初心，砥砺前行。

(1) 指出材料中“南繁”育种人所弘扬的中国精神。

(2) 结合材料，运用所学知识，阐述坚持科技创新的重要意义。

(3) “有人说南繁”育种人甘于平凡，也有人说他们活出了生命的精彩。”对此，你是怎么认识的？请运用相关知识加以说明。

【答案】 (1) 以爱国主义为核心的民族精神和以改革创新为核心的时代精神，或首创、奋斗、奉献的红船精神。

(2) 创新是引领发展的第一动力。嘉兴农科院“南繁”育种，改善稻米品质，增加粮食产量，就是依靠科技创新驱动经济、造福人民。可见，坚持科技创新，贯彻科教兴国战略，能提升科技对经济增长的贡献率，增强科技对经济社会发展的支撑力，促进经济发展和社会文明进步。

(3) 两种说法不矛盾，“南繁”育种人既平凡又伟大，活出了生命的精彩。伟大在于创造和贡献，他们凭借自身的品德、才智和劳动，创造出了不平凡的社会价值；生命虽然平凡，但也能时时创造伟大，他们将个体生命和他人的、集体的、国家的命运联系在一起，让生命从平凡中创造出了伟大。

【考点】 珍爱和尊重生命，塑造良好道德，传统美德与民族精神，实施科教兴国战略

【解析】 【分析】 (1) 分析材料可知 南繁”育种人所弘扬的中国精神有民族精神，时代精神等。

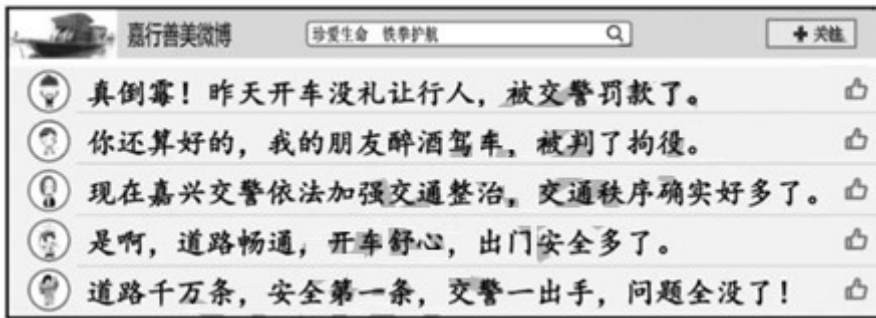
(2) 科技创新意义可以从创新是引领发展的第一动力。坚持科技创新，贯彻科教兴国战略，能提升科技对经济增长的贡献率，增强科技对经济社会发展的支撑力，促进经济发展和社会文明进步等方面结合材料内容可以分析说明即可。

(3) 本题可以从生命的价值在于创造和贡献，生命虽然平凡，但也能时时创造伟大等方面分析说明即可。

【点评】 本题考查对民族精神，创新的作用，生命的价值，活出生命的精彩等相关知识的理解和运

用，主要考查学生利用所学知识分析问题和解决问题的能力，难度值中等。

28.法治嘉兴，文明同行。阅读材料，回答问题。



- (1) “开车不礼让行人”和“醉酒驾车”分别属于哪一类违法行为？
- (2) 结合材料，从自由与法治关系角度，说明嘉兴依法加强交通整治的必要性。
- (3) 从“厉行法治”的角度，阐述你对“交警一出手，问题全没了”观点的看法。

【答案】 (1) 行政违法行为、刑事违法行为。

(2) 法治与自由相互联系，不可分割。法治既规范自由又保障自由。针对开车不礼让行人、醉酒驾车等交通违法现象，只有依法加强交通整治，切实将交通违法行为纳入法治轨道，才能维护良好的交通秩序，使人们合法的交通自由和权利不受非法干涉和侵害，保障人们的人身安全。

(3) 这一观点是片面的。厉行法治需要公安部门严格执法，交警出手对维护交通安全很重要。但厉行法治还需要其它社会主体切实履行各自职责。立法机关要科学立法，司法机关要公正司法，特别是我们公民要增强法治意识，自觉遵守交通法规。

【考点】 违法行为的含义及其分类，依法治国与依法参与政治生活

【解析】 【分析】 (1) 从表中“被交警罚款了，”可知，开车没礼让行人是行政违法行为。从“被判了拘役了”可知，醉酒驾车是刑事违法行为。

(2) 本题首先应回答法治与自由的关系然后，结合材料说明只有将交通违法行为纳入法治轨道，才能维护良好的交通秩序，使人们合法的交通自由和权利不受非法干涉和侵害。据此分析说明即可。

(3) 题干中的观点是片面的，根据所学，全面依法治国必须坚持厉行法治，推进科学立法、严格执法、公正司法、全民守法。据此，可以从厉行法治需要公安部门严格执法，还需要其它社会主体切实履行各自职责，我们公民要增强法治意识，自觉遵守交通法规等方面进行分析说明。

【点评】 本题考查对违法行为，法治与自由的关系，厉行法治等相关知识的理解和运用，主要考查学生利用所学知识分析问题和解决问题的能力，难度值一般。

试卷分析部分

1. 试卷总体分布分析

总分：83分		
分值分布	客观题 (占比)	22 (26.5%)
	主观题 (占比)	61 (73.5%)
题量分布	客观题 (占比)	19 (67.9%)
	主观题 (占比)	9 (32.1%)

2. 试卷题量分布分析

大题题型	题目量 (占比)	分值 (占比)
选择题 (26 小题, 每小题 1 分, 共 26 分)	22 (78.6%)	29 (34.9%)
非选择题 I (本题有 2 小题, 共 24 分)	2 (7.1%)	24 (28.9%)
非选择题 II (本题有 4 小题, 共 20 分)	4 (14.3%)	30 (36.1%)

3. 试卷难度结构分析

序号	难易度	占比
----	-----	----

1	容易	3.6%
2	普通	82.1%
3	困难	14.3%

4. 试卷知识点分析

序号	知识点 (认知水平)	分值 (占比)	对应题号
1	2019 年时事	4 (2.5%)	1,2
2	运用地图图表描述区域自然环境和人文环境的特点	21 (13.1%)	3,4,21,25
3	古希腊罗马文明	2 (1.3%)	5
4	秦皇汉武、唐宗宋祖	2 (1.3%)	6,20
5	元明清对统一多民族国家的发展的贡献	1 (0.6%)	7
6	新文化运动和五四运动	1 (0.6%)	8
7	第二次世界大战	2 (1.3%)	9
8	抗日战争	2 (1.3%)	9
9	情绪的多样性、复杂	1 (0.6%)	10

	性		
10	塑造良好道德	18 (11.3%)	11,24,27
11	诚信	1 (0.6%)	12
12	法律维护公民的人身自由、人格尊严和个人隐私	1 (0.6%)	13
13	法律对未成年人的特殊保护	1 (0.6%)	14
14	自律	1 (0.6%)	15
15	犯罪的特征及危害	1 (0.6%)	15
16	宪法与普通法律	1 (0.6%)	16
17	依法治国与依法参与政治生活	19 (11.9%)	17,18,24,28
18	党的领导与人民当家做主	13 (8.1%)	18,24
19	社会主义精神文明建设	1 (0.6%)	19
20	维护国家统一和民族团结	1 (0.6%)	22

21	改革开放前新中国成长的曲折历程	12 (7.5%)	23
22	北伐战争、土地革命战争	12 (7.5%)	23
23	我国现阶段的经济制度	12 (7.5%)	24
24	戊戌变法	5 (3.1%)	26
25	十一届三中全会、改革开放	5 (3.1%)	26
26	实施科教兴国战略	5 (3.1%)	27
27	珍爱和尊重生命	5 (3.1%)	27
28	传统美德与民族精神	5 (3.1%)	27
29	违法行为的含义及其分类	5 (3.1%)	28

积分超值换

活动时间：2019年4月23日-6月30日

活动对象：中小学一线教师以及教育工作者



扫一扫 换礼啦

积 分 兑 换 更 超 值



会员升级服务第一拨 · 清北季



神马，有清华北大学霸方法论课；还有清华学霸向所有的父母亲述自己求学之路；

衡水名校试卷悄悄的上线了；

扫qq领取官网不首发课程，很多人我没告诉他啊！

会员qq专享等你来撩.....