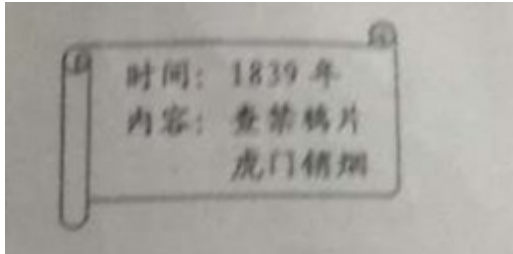


新疆 2018 年中考文综（历史部分）真题试题

一、选择题（本大题共 12 小题，每小题 2 分，共 24 分。在每小题列出的四个选项中，只有一项符合题目要求，请按答题卷中的要求作答。）

1. 中国近代史上英雄辈出，与右图信息点内容有关的民族英雄是（ A ）



A. 林则徐 B. 李秀成 C. 左宗棠 D. 邓世昌

2. 五四运动是新民主主义革命开始的标志。下列发生在新民主主义革命时期的事件，按照时间先后排序正确的是（ B ）

① 北伐战争 ② 西安事变 ③ 黄埔军校建立 ④ 重庆谈判

A. ①②③④ B. ③①②④ C. ②③④① D. ②①③④

3. 抗日战争时期，中华民族同仇敌忾，抗击日本侵略者 14 年。其中中国军队主动出击日军的最大规模战役是（ D ）

A. 平型关大捷 B. 淞沪会战 C. 台儿庄战役 D. 百团大战

4. 清末状元张謇提倡实业救国。以下内容与他有关的是（ B ）

A. 修建京张铁路 B. 创办大生纱厂

C. 研制工业纯碱 D. 编写《海国图志》

5. 20 世纪 50 年代初，中国能造桌子椅子、茶碗茶壶，但是一辆汽车、一架飞机都不能造。为改变这一状况，中国政府实施了（ B ）

- A . 土地改革
- B . 第一个五年计划
- C . 三大改造
- D . “大跃进”和人民公社化运动

6 . 1971 年 10 月 25 日，这是一个不寻常的日子，是我国外交史上一次伟大的胜利。这一天发生的事件是（ C ）

- A . 和平共处五项原则的提出
- B . 周恩来出席万隆会议
- C . 中国恢复在联合国的合法席位
- D . 中美签署《联合公报》


7 . 人类文明传播有和平交往、暴力冲突两种方式。以下属于和平交往方式的是（ D ）

- A . 希波战争 B . 亚历山大大帝东征
- C . 罗马帝国的扩张 D . 马可·波罗来华

8 . 2018 年是马克思诞辰 200 周年。马克思主义使国际工人运动进入一个新的历史时期，其诞生的标志是（ C ）

- A . 《人民宪章》的发表 B . 巴黎公社
- C . 《共产党宣言》的发表 D . 十月革命

9 . 科技创新给人们的生活带来了新变化，以下成果属于第二次工业革命的是（ D ）



A . ①② B . ① (④ C . ②④ D . ③④

10 . 国际反法西斯联盟的建立 , 为反法西斯战争胜利奠定了坚实的基础。它建立的标志是签署了 (A)

- A . 《联合国宣言》 B . 《开罗宣言》
C . 《北大西洋公约》 D . 《华沙条约》

11 . 各成员国公民有统一的护照 , 统一的货币 , 体验到了做真正欧洲人的感觉。这得益于成立了 (C)


- A . 欧洲共同体 B . 七十七国集团
C . 欧洲联盟 D . 世界贸易组织

12 . 九年级 (1) 班同学正在学习“尼赫鲁”“纳赛尔”“卡斯特罗”的相关内容。他们研讨的主题是 (A)

- A . 亚非拉的奋起
B . 苏联社会主义道路的探索
C . 动荡的中东地区
D . 东欧社会主义国家的改革与演变

二、非选择题 (本大题共 4 小题 , 其中第 13 小题 7 分 , 第 14 小题 1 分 , 第 15、16 小题各 9 分 , 满分 36 分)

13 . 中国近代史既是一部民族屈辱史 , 又是一部中华民族的探索史。读图回答下列问题。



- (1) 图①是洋务运动在什么口号下创办的企业？列举一位该运动在地方上的代表人物。
- (2) 与图片②有关的历史事件是什么？该事件距今多少周年？
- (3) 图③人物是谁？图④杂志的诞生，是哪一事件兴起的标志？
- (4) 请给以上图片所反映的内容拟一个恰当的时代主题。

【答案】 (1) 自强；李鸿章、左宗棠、张之洞、曾国藩。

(2) 戊戌变法；120周年。

(3) 孙中山；新文化运动。

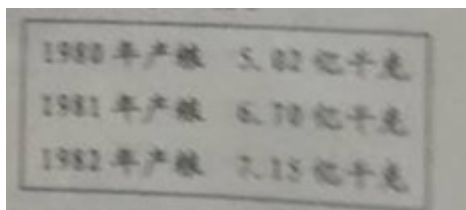
(4) 中国近代化的探索。

14. 中共十一届三中全会后，我国实行改革开放政策，40年来取得了翻天覆地的变化。

八年级(2)班准备以“改革开放足迹”为主题举办知识竞赛，请你来回答。

【农村改革篇】

材料一 凤阳县农业生产三年三大步(如右图)



--人教版《中国历史》八年级下册

【经济特区篇】

材料二 深圳原属广东宝安县，与香港只一河之隔，是一个贫穷落后的边陲小镇。划为经济特区以后，引进资金、先进技术和管理经验，大办工业、商业和旅游业等，在很短的时间里，深圳变成一座现代化城市。

--人教版《中国历史》八年级下册

【解放思想篇】

材料三 改革开放胆子要大一些，敢于试验，不能像小脚女人一样。看准了的、就大胆地试大胆地闯。

--邓小平

【展望未来篇】

材料四 不忘初心，牢记使命，高举中国特色社会主义伟大旗帜、决胜全面建成小社会，夺取新时代中国特色社会主义伟大胜利，为实现中华民族伟大复兴的中国梦不懈奋斗。

--中共十九大报告

- (1) 根据材料一回答，凤阳县农业生产呈现什么趋势？其原因是什么？
- (2) 根据材料二分析，深圳变成现代化城市的原因是什么？举出一例与深圳同年建设的经济特区。
- (3) 根据材料三结合所学识，邓小平发表这段讲话有什么重要意义？邓小平理论确立为党的指导思想是在党的哪次会议上？
- (4) 根据以上四则材料及所学知识，你认为中华民族伟大复兴之路将如何继续？

【答案】 (1) 粮食产量逐渐上升（或者增长）的趋势。实行家庭联产承包责任制。

(2) 划为经济特区以后，引进资金、先进技术和管理经验，大办工业、商业和旅游业等。珠海、汕头、厦门（任意一个）。

(3) 进一步解放了人们的思想，对建设有中国特色的社会主义产生了深远影响。中共十五大。

(4) 坚持走改革开放之路；坚持走中国特色社会主义道路；坚持中国共产党的领导；坚持以邓小平理论为指导；坚持习近平新时代中国特色社会主义思想等。（答出其中两点或其它符合题意，言之有理即可）

15. 在世界近代发展历程中，一些国家经历了资产阶级革命或改革。李亮同学对这阶段历史进行了探究活动，请你一起来参与。

探究一

- (1) 请照示例写出 18 世纪发生在欧洲、美洲资产阶级革命各一例。

示例：英国资产阶级革命

① _____ ② _____

探究二

(2) 在 17-18 世纪的资产阶级革命中，各国都颁布了一些法律文献，请列举其中一部，并回答该文献所起到的作用。

探究三

(3) 19 世纪六七十年代，世界资本主义得到进一步发展，有些国家通过改革走上了资本主义道路，请列举一个国家的相关事件及其领导人。

探究四

(4) 依据以上探究内容及所学知识，你认为上述资产阶级革命或改革取得成功的因素有哪些？

【答案】(1) ①法国大革命（或法国资产阶级革命）；②美国独立战争。

(2) 《权利法案》。作用：确立了君主立宪制的资产阶级统治。（或者《独立宣言》）。作用：宣告了美国的诞生。（其他答案符合题意即可）

(3) 俄国农奴制改革（或者俄国 1861 年改革或俄国亚历山大二世改革）；亚历山大二世。（或者日本明治维新；明治天皇）。

(4) 符合本国发展的国情；人民群众的支持与参与；杰出人物的引领；制定适合本国的政策；善于学习其他国家先进技术和经验；顺应时代潮流进行改革；具有创新精神等。

（答出其中两点或其他符合题意，言之有理即可）

16. 习近平总书记在十九大报告中指出，世界正处在大发展大变革大调整时期，和平发展仍然是时代的主题。20 世纪至今世界政治格局出现了三次大的变化。阅读下列材料，回答问题。

材料一 协约国同德国及其盟国签订的一系列和约，构成了重建欧洲、西亚和非洲的国际新秩序。华盛顿会议的核心是中国问题，……与会国签订了一个关于中国问题的公约。

... 《世界通史》

材料二 第二次世界大战结束后，以美国为首的西方国家，采取了遏制共产主义的冷战政策并由此形成了新的世界格局。

... 《现代国际关系史》

材料三 冷战后，美国为了称霸世界，成为“世界领袖”，重新制定了全球战略。一方面，欧盟、日本、中国和俄罗斯等国家和国家联盟的实力不断增强，成为牵制美国称霸世界……的重要力量。

…人教版《世界历史》九年级下册

- (1) 材料一中的“和约”和“公约”分别指什么？最终确立了怎样的国际政治格局？
- (2) 材料二中“新的世界格局”指的是什么？其结束的标志是什么？
- (3) 根据材料三回答，世界政治格局出现了什么变化？
- (4) 综上所述，你认为我国该如何应对当今世界政治格局发展的趋势？

【答案】 (1) 《凡尔赛和约》和《九国公约》。凡尔赛 -华盛顿体系。

(2) 两极格局。苏联解体。

(3) 多极化趋势的变化。

(4) 提高综合国力；奉行独立自主和平外交政策；发展与世界各国的友好关系；反对霸权主义和强权政治。（言之有理即可）