

2010年全国中考世界现代史整理

目录

选择题

第一单元 苏联社会主义道路的探索

第1课 俄国十月革命

第2课 对社会主义道路的探索

第二单元 凡尔赛——华盛顿体系下的世界

第3课 凡尔赛——华盛顿体系

第4课 经济大危机

第5课 法西斯势力的猖獗

第三单元 第二次世界大战

第6课 第二次世界大战的爆发

第7课 世界反法西斯战争的胜利

第四单元 战后主要资本主义国家的发展变化

第8课 美国经济的发展

第9课 西欧和日本经济的发展

第五单元 社会主义国家的改革与演变

第10课 苏联的改革与解体

第11课 东欧社会主义国家的改革与演变

第六单元 亚非拉国家的独立和振兴

第12课 亚非拉的奋起

第13课 动荡的中东地区

第七单元 战后世界格局的演变

第14课 冷战中的对峙

第15课 世界政治格局的多极化趋势

第16课 世界经济的“全球化”

第八单元 现代科学技术和文化

第17课 第三次科技革命

第18课 现代文学和美术

第19课 现代音乐和电影

单元综合

填空题

改错题

列举题

读图简答题

材料分析题

探究题 (问答题)

选择题

第一单元 苏联社会主义道路的探索

第1课 俄国十月革命

(2010·重庆綦江) 13. 俄国十月革命一声炮响, 鼓舞了被压迫民族的解放运动。下列关于十月革命的表述, 不正确的是 () **C**

- A. 列宁亲自领导和指挥了彼得格勒武装起义 B. 建立了第一个社会主义国家
C. 是一次伟大的资产阶级革命 D. 开辟了人类历史的新纪元

(2010·福建福州) 17. 1917年7月, 俄国彼得格勒工人、士兵举行游行示威, 要求“全部政权归苏维埃”。带领他们实现这一目标的是 () **A**

- A. 列宁 B. 斯大林 C. 赫鲁晓夫 D. 戈尔巴乔夫

(2010·四川内江) 28. 十月革命诞生了世界上第一个社会主义国家, 这场革命爆发于 () **B**

- A. 1917年10月 B. 1917年11月 C. 1918年10月 D. 1918年11月

(2010·山东青岛) 38. 2008年度中国“十大流行语”排行榜上, 排在前两位的是“北京奥运会”、“金融危机”, 如果1917年的俄国也有一个“年度十大流行语”排行榜, 你认为排在前两位的应是 () **A**

- A. 十月革命、人民委员会 B. 苏联成立、新经济政策
C. 农业集体化、新宪法 D. 一五计划、赫鲁晓夫改革

(2010·山东东营) 22. 从世界历史上看, 社会主义第一次实现了从理论到实践, 从理想到现实巨大飞跃的重大事件是 () **B**

- A. 巴黎公社的成立 B. 俄国十月革命 C. “苏联”成立 D. 宪章运动

(2010·吉林) 8. 20世纪初期, 将马克思主义由理论变为现实的社会主义革命是 () **D**

- A. 宪章运动 B. 巴黎公社 C. 俄国二月革命 D. 俄国十月革命

(2010·陕西) 15. 1917年11月7日, 晚9点40分, 伴随着“阿芙乐尔”号巡洋舰上大炮发出的一声怒吼, 起义者攻打冬官的战斗开始了! 结合对右图的理解, 下列各项中不属于俄国十月革命特点的是 () **C**

- A. 采用暴力手段夺取政权
B. 走城市革命的道路
C. 推翻了沙皇专制统治
D. 人类历史上第一次成功的社会主义革命



攻打冬宫

(2010·福建三明) 18. 与世界上第一个社会主义国家诞生相关的历史事件是 () **C**

- A. 俄国1861年改革 B. 二月革命 C. 十月革命 D. 新经济政策

(2010·四川攀枝花) 17. 俄国十月革命和二月革命相比, 不同之处是 () **C**

- A. 采取武装斗争的方式 B. 工人是革命的主力
C. 属于社会主义革命 D. 布尔什维克党领导斗争

(2010·四川成都) 26. 十月革命胜利后, 苏维埃政权为抗击国内外敌人实行过一系列非常措施, 被称为 () **C**

- A. 临时政策 B. 特殊政策 C. 战时共产主义政策 D. 新经济政策

(2010·贵州铜仁) 24. “十月革命一声炮响, 给我们带来了马克思列宁主义”(毛泽东)。你知道十月革命爆发的时间吗? () **A**

- A. 1917年 B. 1915年 C. 1920年 D. 1922年

第2课 对社会主义道路的探索

(2010·四川乐山) 26. 右图反映的现象, 出现的原因是 () C

- A. 战时共产主义政策的实施
- B. 农业集体化政策的实施
- C. 新经济政策的实施
- D. 斯大林模式的推行



1922年苏俄农民踊跃交纳粮食税

(2010·安徽) 9. 有人说, “对于苏联农民而言, 1920年的秋天阴云密布, 1922年的春天阳光灿烂”。

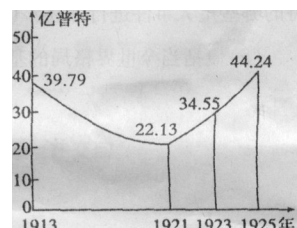
这里“阳光灿烂”的原因是实行了 () B

- A. 战时共产主义政策
- B. 新经济政策
- C. 农业集体化
- D. 社会主义工业化

(2010·山东聊城) 29. 右边是苏俄(联)粮食产量变化曲线图。

1921~1925年粮食产量迅速增长的主要原因是 () B

- A. 《土地法令》的颁布
- B. 新经济政策的实施
- C. 第一个五年计划的实行
- D. 农业集体化的推行



(2010·四川自贡) 40. 20世纪20年代, 从本国国情出发实行新经济政策, 利用市场来建设社会主义的历史人物是 () D

- A. 邓小平
- B. 毛泽东
- C. 马克思
- D. 列宁

(2010·广东东莞) 42. 斯大林创建的政治经济体制虽然使苏联取得巨大的建设成就, 但这一模式也存在着严重的问题。斯大林模式在政治上的弊端是 () C

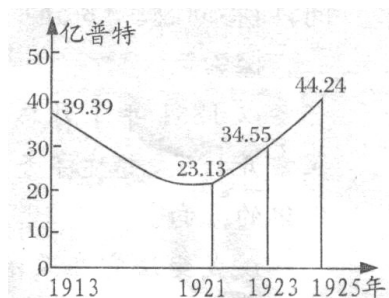
- A. 优先发展重工业
- B. 排斥市场调节
- C. 权力高度集中
- D. 民主法制健全

(2010·江苏泰州) 19. 右图为苏俄(联)粮食产量变化曲线, 其中影响1921~1925年变化的主要因素是 () B

- A. 战时共产主义政策
- B. 新经济政策
- C. 斯大林模式
- D. 戈尔巴乔夫的改革

(2010·湖南岳阳) 22. 下列符合20世纪30年代的苏联情况的是 () D

- A. 重工业由外国资本家经营
- B. 市场经济繁荣
- C. 经济危机严重
- D. 基本实现社会主义工业化



(2010·山东潍坊) 19. 斯大林曾说: “工业化的中心, 工业的基础, 就是发展重工业。”这一思想给苏联发展带来的直接影响是 () B

- A. 建立了社会主义制度
- B. 导致了国民经济比例严重失调
- C. 加速了农业化的发展
- D. 形成了过度集中的经济管理体制

(2010·山东滨州) 21. 1921~1925年, 苏俄(苏联)农业生产情况表

项目	年份		
	1921年	1923年	1925年
粮食作物耕种面积 (万公顷)	6620	7860	8730
粮食作物产量 (亿普特)	22.13	34.55	44.24

苏俄(苏联)农业生产出现以上变化的原因是 () B

- A. 十月革命的胜利
- B. 新经济政策的实施

C. 斯大林模式的形成 D. 赫鲁晓夫改革
 (2010·湖北十堰) 32. 1921年, 苏俄在国民经济陷于瘫痪的状态下, 果断地在全国实施 () B

A. 战时共产主义 B. 新经济政策 C. 一五计划 D. 农业集体化
 (2010·广东汕头) 23. 邓小平说: “社会主义究竟是个什么样子, 苏联搞了很多年, 也并没有完全搞清楚。可能列宁的思路比较好, 搞了个新经济政策……”新经济政策的主要内容是 () C

A. 废除粮食税, 实行余粮征集制 B. 实行农业集体化政策, 消灭地主阶级
 C. 允许多种经济并存, 大力发展商品经济 D. 推行计划经济, 重点发展重工业

(2010·山西) 10. 下列历史知识的关联, 不正确的是 () C

A. 英国资产阶级革命——《权利法案》 B. 法国资产阶级革命——《人权宣言》
 C. 苏俄新经济政策——1936年新宪法 D. 美国罗斯福新政——《国家工业复兴法》

(2010·湖北荆州) 21. 列宁说: “……用无产阶级国家直接下命令的办法在一个小农国家里按共产主义原则来调整国家的产品生产和分配。现实生活说明我们错了。”为此在列宁的领导下, 苏俄采取的措施是 () B

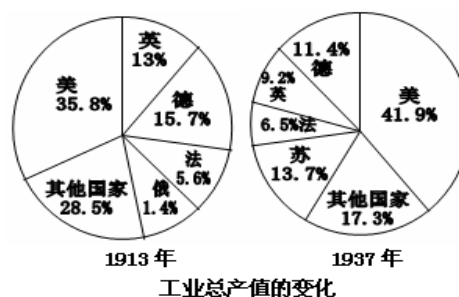
A. 实施一五计划 B. 实施新经济政策
 C. 实施农业集体化政策 D. 实施战时共产主义政策

(2010·湖北孝感) 36. 这是流行于前苏联的一则笑话: 某主妇到食品店买肉。“有肉吗? …‘没有。…’那牛奶呢?”“我们只管卖肉, 过街那家店看有没有牛奶卖。”这则笑话 () C

A. 赞扬苏联人特别有幽默感
 B. 说明社会主义制度不能解放和发展生产力
 C. 讽刺苏联高度集中的经济政治体制带来的物质短缺问题
 D. 表明苏联人特别爱吃肉、喝牛奶

(2010·四川攀枝花) 18. 运用数据进行分析是历史学习的一种重要方法, 从右图数据变化中你能获得的正确信息是 () B

A. 苏联工业发展慢于德国
 B. 苏联工业产值跃居欧洲第一
 C. 苏联工业产值跃居世界第一
 D. 苏联农业得到迅速发展



(2010·湖北咸宁) 19. 1922年底, 苏维埃社会主义共和国联盟成立, 当时加入苏联的有哪几个加盟共和国? () D

① 俄罗斯联邦 ② 外高加索联邦 ③ 乌克兰 ④ 白俄罗斯
 A. ①②③ B. ①②④ C. ①③④ D. ①②③④

(2010·辽宁沈阳) 11. 右图为苏联工业化宣传画。画中人物领导苏联人民实现了社会主义工业化, 成为世界上一流工业强国。他是 () A

A. 斯大林 B. 赫鲁晓夫
 C. 勃列日涅夫 D. 戈尔巴乔夫

(2010·江苏扬州) 21. 1921年苏俄实施的新经济政策“新”在 () A

A. 把社会主义与市场、商品货币关系联系起来



- B. 实行工业国有化，取消自由贸易
- C. 排斥市场调节和价值规律
- D. 建立高度集中的经济政治体制

(2010·山东菏泽) 11. 列宁认为，既然俄国无法直接过渡到社会主义，那么就“应该利用资本主义作为小生产和社会主义的中间环节”，这项对小农占优势的国家走社会主义道路有深远指导意义的政策是 () **B**

- A. 战时共产主义政策
- B. 新经济政策
- C. 农业集体化政策
- D. 工业化政策

第二单元 凡尔赛——华盛顿体系下的世界

第3课 凡尔赛——华盛顿体系

(2010·湖北鄂州) 15. 法国元帅福煦曾预言：“这不是和平，这是 20 年的休战。”这句话评价的是 () **A**

- A. 凡尔赛——华盛顿体系
- B. 三国协约
- C. 雅尔塔体系
- D. 三国同盟

(2010·湖北襄樊) 18. 使中国“回复到几个帝国主义国家共同支配的局面”的国际会议是 () **B**

- A. 巴黎和会
- B. 华盛顿会议
- C. 万隆会议
- D. 万国会议

(2010·山西) 12. 对右图相关史实的叙述，正确的是 () **C**

- A. 打破了日本几乎独霸中国的局面
- B. 彻底解决了帝国主义国家之间的矛盾
- C. 德国的海外殖民地由英、法、日等国瓜分
- D. 中国政府代表在《凡尔赛和约》上签字



签署《凡尔赛和约》

(2010·广西桂林) 7. 弱国无外交，落后遭欺凌。中外历史上一系列不平等条约的签定充分表明了这一深刻的道理。在《九国公约》中体现弱国无外交的内容是 () **D**

- A. 中国赔款 2100 万元给英国
- B. 中国割让台湾和澎湖列岛给日本
- C. 划定东交民巷为“使馆界”
- D. 确立列强在华“门户开放”“机会均等”原则

(2010·广西梧州) 31. 一位参加某国际和会的代表说：“我们初来巴黎时，对即将建立的新秩序满怀信心。离开时，则已觉悟，新秩序不过是比旧秩序更加纠缠不清。”他指的“新秩序”是 () **A**

- A. 凡尔赛体系
- B. 华盛顿体系
- C. 雅尔塔体系
- D. “一超多强”格局


(2010·湖南湘潭) 13. 巴黎和会是帝国主义的分赃会议，下列最能体现这一性质的是 () **A**

- A. 德国的海外殖民地由英法日等国瓜分
- B. 阿尔萨斯和洛林归还法国
- C. 德国取消普遍义务兵役制
- D. 德国支付大量赔款给战胜国

(2010·四川成都) 27. 在近现代国际关系史上，与 1919 年中国的“五四”运动爆发有直接关联的国际会议是 () **A**

- A. 巴黎和会
- B. 华盛顿会议
- C. 慕尼黑会议
- D. 开罗会议

(2010·江苏无锡) 16. 右图是一战后的一幅政治漫画。三个黑衣从左向右依次是英国首相劳合·乔治、法国总理克里孟梭和美国总统威尔逊，没有上衣以背示人的是德国代表。英、法分立于断头台两侧，法国更是迫不及待地想将德国置于死地，



美国虽然不赞同英法的做法，但迫于自身的实力有限，只有愁眉苦脸，摊手表示无奈。漫画指责巴黎和会上“三巨头”对德国的不公平处理，犹如将德国送上断头台一般。他们最终和德国签订了（ ）**B**

A. 《九国公约》 B. 《凡尔赛和约》 C. 《五国公约》 D. 《四国公约》

(2010·山东日照) 21. 华盛顿会议使中国“回复到几个帝国主义国家共同支配的局面”，这是因为在会议上签订了（ ）**D**

A. 《马关条约》 B. 《辛丑条约》 C. 《凡尔赛条约》 D. 《九国公约》

1 (2010·福建宁德) 7. 1922年，华盛顿会议上与会九国签订了《九国公约》。该条约（ ）**C**

A. 惩治了战败国德国 B. 消除了列强间的矛盾
C. 为列强共同掠夺中国提供了条件 D. 真正尊重中国的主权、独立与领土完整

(2010·广西贵港) 23. 第一次世界大战后召开的华盛顿会议建立了帝国主义在远东和哪一地区的“新秩序”？（ ）**C**

A. 欧洲 B. 西亚 C. 太平洋地区 D. 非洲

第4课 经济大危机

(2010·山东聊城) 30. 1932年，某政要指出：“世界近两年正在倒退，各国……采取危及世界和平的猜疑、恐惧和威胁的态度。”出现这一形势的主要原因是（ ）**B**

A. 同盟国和协约国军事对峙 B. 严重的经济危机波及世界
C. 亚洲战争策源地形成 D. 慕尼黑会议割让苏台德

(2010·四川遂宁) 25. 美国在总统奥巴马在2008年竞选获胜演说中说“美国的真正天赋在于：它懂得改变。让我们坚信我们能够并且即将取得成功……”。当20世纪30年代“大萧条”“大动荡”的危机来临时，美国取得成功的“改变”是（ ）**B**

A. 废除黑人奴隶制度 B. 罗斯福新政 C. 杜鲁门主义 D. 马歇尔计划

(2010·浙江湖州) 16. 下列属于罗斯福新政内容的有（ ）**C**

①在金融领域进行一系列改革 ②国家承建公共工程
③取消最低工资和最高工时标准 ④建立社会保障制度
A. ①②③ B. ②③④ C. ①②④ D. ①③④

(2010·浙江嘉兴) 20. 2009年，国家三次出台抛售储备棉政策，以抑制国内外棉花市场持续上涨趋势，稳定棉花价格。这体现了现代经济的发展需要（ ）**B**

A. 发挥市场配置资源的作用 B. 政府进行必要的宏观调控
C. 加强国际间的合作与交流 D. 因地制宜发挥区域优势

(2010·浙江绍兴) 3. 2007年下半年以来，由次贷危机引发的金融危机让美国再次遭受自由放任的市场经济之苦——经济低迷、公司倒闭、失业增加……这与1929~1933年的情况极为相似，当时的美国靠罗斯福新政逐渐走出困境。以史为鉴，罗斯福新政可供奥巴马政府战胜当前危机借鉴的内容有（ ）**C**

①政府直接参与的经营管理活动 ②由国家承建公共工程
③建立社会保障制度 ④全面加强国家对经济的干预
A. ①②③ B. ①②④ C. ②③④ D. ①③④

(2010·浙江台州) 唐太宗有句名言：“夫以铜为镜，可以正衣冠；以史为镜，可以知更替；以人为镜，可以明得失。”据此回答12~14题。

14. 美国历史上的罗斯福新政让美国逐步摆脱经济危机，新政的特点是_____。现在奥巴马政府以史为鉴，出台了一系列复苏经济的刺激计划以摆脱金融危机。（ ）**A**

- A. 政府干预经济 B. 规定工人最低工资和最高工时
C. 采取以工代赈 D. 建立社会保障制度

(2010·浙江丽水) 13. 罗斯福新政实施期间,为解决严重的失业问题,采取的主要措施是 () **A**

- A. 提供工作机会代替赈济 B. 规定最低工资标准
C. 规定最高工时标准 D. 允许工人与雇主集体谈判

(2010·福建福州) 18. “1929年10月24日,美国纽约股市突然打了个喷嚏,这个喷嚏迅速蔓延全球,所有资本主义国家都感冒了。”美国医治“感冒”的有效药方是 () **B**

- A. 新经济政策 B. 罗斯福新政 C. 法西斯专政 D. 杜鲁门主义

(2010·江苏徐州) 12. 美国总统罗斯福说:“我们到底有没有实质的进步,不在于富的人更富,而在于贫穷的人也能有足够的生存来源。”为解决穷人的生存来源问题,提高就业率,他采取的“新政”措施是 () **B**

- A. 大力整顿银行 B. 兴办公共工程 C. 调整劳资关系 D. 缩减农业产量

(2010·广东东莞) 43. 美国《政治周刊》评论说,美国新任总统奥巴马所提出的经济计划堪称“罗斯福新政”当代版。罗斯福新政的主要特点是 () **D**

- A. 改变了美国外交策略 B. 削弱国家资本主义垄断程度
C. 根除了美国经济危机 D. 政府对经济生活大规模干预

(2010·湖南邵阳) 14. 为其他国家实施国家干预经济,进行体制性自我调整提供了宝贵经验的是 () **D**

- A. 1861年改革 B. 明治维新 C. 新经济政策 D. 罗斯福新政

(2010·湖北鄂州) 16. 1933年,罗斯福就任美国总统。在总统就职演说中,他鼓励美国人民:“真正让我们感到恐惧的,只是‘恐惧’本身。”当时美国人感到恐惧的事情是 () **B**

- A. 法西斯势力猖獗 B. 经济危机严重 C. 罗斯福推行“新政” D. 美国卷入二战

(2010·广东汕头) 24. 一位美国学者在评价罗斯福新政时写道:“其实罗斯福新政之所以成为神话,与其说是因为它经济上的成功,不如说是政治上的成功”。罗斯福新政在政治上的主要作用是 () **C**

- A. 使经济缓慢地恢复过来 B. 极大地改善了人民的生活
C. 调整和巩固了资本主义制度 D. 加强了中央集权

(2010·河南) 16. 历史学家认为罗斯福“改变了美国生活的全貌”。罗斯福主要改变了美国 () **C**

- A. 三权分立的政治体制 B. 二战后对苏联的战略
C. 政府对经济的放任政策 D. 工业行业的不正当竞争

(2010·福建龙岩) 2) 19. 罗斯福新政的中心措施是 () **B**

- A. 对农业的调整 B. 对工业的调整
C. 兴建公共工程 D. 实施“马歇尔计划”

(2010·广东) 22. 2008年以来,一场全球性金融危机导致了世界经济的不断恶化。2010年,二十国集团领导人举行峰会进一步研究应对策略,许多国家提出了政府干预经济的举措。下列最值得各国领导人借鉴的做法是 () **B**

- A. 林肯颁布《宅地法》 B. 罗斯福实施新政
C. 杜鲁门推行冷战政策 D. 马歇尔倡导欧洲复兴计划

(2010·福建莆田) 20. 下列对罗斯福新政的评述,不正确的是 () **C**

- A. 美国资本主义的一次自我调节 B. 资本主义发展史上的一个里程碑
C. 根本上消除了资本主义经济危机 D. 开创了资产阶级政府大规模干预经济生活的先河

(2010·江苏宿迁) 32. 为资本主义进行体制性自我调整、实施国家干预经济提供宝贵经验的是 () C

A. 战时共产主义政策 B. 新经济政策 C. 罗斯福新政 D. 法西斯专政

(2010·山东泰安) 27. 20世纪30年代, 一记者在美国纽约看到政府雇佣大批失业者去进行国家公共工程的建设。这一现象的出现得益于美国为应对1929~1933年经济大危机采取的哪一措施? () A

A. 罗斯福新政 B. 科技立国战略 C. 法西斯专政 D. 斯大林模式

(2010·四川达州) 33. 下列事件与1929~1933年经济危机完全无关的一项是 () C

A. 罗斯福新政 B. 欧洲战争策源地形成
C. 新经济政策的实施 D. 日本发动侵略中国的“九一八事变”

(2010·新疆建设兵团) 9. 罗斯福新政取得的显著效果是 () A

①使美国经济恢复过来 ②国家对经济的干预和指导得到加强
③从根本上克服了经济危机 ④使美国放弃市场调节转向计划经济
A. ①② B. ②③ C. ①④ D. ③④

(2010·辽宁沈阳) 10. 1932年, 美国工业生产指数比1929年下降了46.2%, 有13万家以上工厂倒闭。农产品批发价格下跌了54%, 农民的农业净收入从61亿美元降到20亿美元, 100多万家农场破产, 许多农民流离失所。导致这一现象出现的原因是 () C

A. 罗斯福新政的实施 B. 法西斯政权的建立
C. 经济大危机的爆发 D. 马歇尔计划的实施

(2010·内蒙古呼和浩特) 15. 罗斯福政府根据《国家工业复兴法》, 要求各工业企业制定本行业的公平经营规章, 确定各企业的生产规模、价格水平、市场分配、工资标准和工作日时数等。国家对企业做出上述具体规定的直接目的是 () B

A. 加强政府对经济的干预 B. 防止出现盲目竞争引进生产过剩
C. 消除经济危机 D. 巩固资本主义制度

(2010·江苏扬州) 22. 小施同学写了一篇有关罗斯福新政的小论文, 其中对新政评价正确的是 () B

①从根本上消除了资本主义经济危机 ②开创了资产阶级政府大规模干预经济的先河
③进一步提高了美国国家资本主义的垄断程度 ④取得了很好的效果, 使美国渡过了危机
A. ①②③④ B. ②③④ C. ①②③ D. ①③④

(2010·山东菏泽) 13. 毛毛听到同学们在兴致勃勃地谈论着什么, 他听到了国家干预经济、上世纪30年代、兴办公共工程、蓝鹰运动等字眼, 由此毛毛断定他们正在谈论的话题应该是 () C

A. 巴黎公社运动 B. 工业革命 C. 罗斯福新政 D. 辛亥革命

第5课 法西斯势力的猖獗

(2010·浙江义乌) 15. 1929年爆发的经济危机席卷了整个资本主义世界。下列没有被波及的国家是 () B

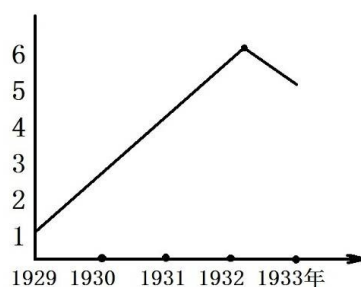
A. 日本 B. 苏联 C. 美国 D. 德国

(2010·广东东莞) 44. 今年是世界反法西斯战争胜利65周年。法西斯主义曾经世界人民带来沉重灾难, 历史上实行过种族灭绝政策的是 () A

A. 德国法西斯 B. 意大利法西斯 C. 日本法西斯 D. 西班牙法西斯

(2010·江苏盐城) 22. 失业率是一个国家经济发展的缩影。针对右图中失业严重的状况，德国采取的主要应对措施是 () A

- A. 建立法西斯专政
- B. 加入“欧洲共同体”
- C. 发动第一次世界大战
- D. 寻求美国援助



(2010·四川攀枝花) 19. 20世纪30—40年代，威胁世界和平与安全的主要因素是 () C

- A. 宗教纷争
- B. 美苏争霸
- C. 法西斯势力的侵略
- D. 地区冲突

第三单元 第二次世界大战

第6课 第二次世界大战的爆发

(2010·山东聊城) 31. “我要求国会宣布：自1941年12月7日——星期日日本进行无缘无故和卑鄙怯懦的进攻时起，合众国和日本进入战争状态。”日本的“进攻”是指 () C

- A. 全面侵略中国
- B. 突袭苏联
- C. 偷袭珍珠港
- D. 诺曼底登陆

(2010·河北) 17. 德国入侵波兰后，许多人提出了疑问：“他们（指英国、法国）扔出了两个‘小孩’（指奥地利和捷克斯洛伐克），再扔出另一个‘小孩’（指波兰）给‘狼群’以求躲避灾难的政策还能有收益吗？”材料中的“政策”应是 () C

- A. 殖民主义扩张政策
- B. 委任统治政策
- C. 绥靖政策
- D. “冷战”政策

(2010·江苏徐州) 13. 2010年5月9日，胡锦涛主席出席了俄罗斯卫国战争胜利65周年庆典。这次伟大的卫国战争开始于 () B

- A. 德国突袭波兰
- B. 德国东侵苏联
- C. 日本偷袭珍珠港
- D. 莫斯科保卫战

(2010·山东东营) 23. 罗斯福曾说，1941年12月7日是“一个遗臭万年的日子”，美国遭到了“突然和蓄谋的进攻”。那么，在这个“日子”发生的事件是 () B

- A. 慕尼黑阴谋
- B. 日军偷袭珍珠港
- C. 诺曼底登陆
- D. 美国轰炸南联盟

(2010·湖南岳阳) 23. 下列哪些事件使第二次世界大战扩大 () B

- ① 德国进攻波兰
 - ② 德国入侵苏联
 - ③ 日本偷袭珍珠港
 - ④ 诺曼底登陆
- A. ①② B. ②③ C. ①③ D. ②④

(2010·四川资阳) 26. 1940年4、5月间，德军迅速向北欧和西欧推进，英国首相张伯伦受到强烈谴责，其主要原因是 () B

- A. 他是法西斯侵略的罪魁祸首
- B. 他推行绥靖政策，助长了法西斯的侵略气焰
- C. 他是丘吉尔的政敌
- D. 他推行和平外交政策

(2010·山东淄博) 8. 某同学使用右面的地图开展研究性学习，他确立的研究主题是 () B

- A. 第二次世界大战全面爆发
- B. 第二次世界大战规模进一步扩大
- C. 第二次世界大战的转折
- D. 欧洲第二战场开辟

(2010·湖北十堰) 33. 毛泽东说：“张伯伦以损人的目的开始，以害己的结果告终。”下列各项与这一说法无



关的是 () D

A. 绥靖政策 B. 慕尼黑阴谋 C. 第二次世界大战 D. 鸦片战争

(2010·广西梧州) 32. 某校九年级历史小组的同学上网查阅资料时, 输入关键词“1941年、太平洋美军基地、第二次世界大战的规模进一步扩大”。你判断他们想了解的历史事件是 () B

A. 莫斯科战役 B. 珍珠港事件 C. 斯大林格勒战役 D. 诺曼底登陆

(2010·吉林长春) 13. 从右图中能得到的信息是 () B

A. 国际联盟的建立 B. 绥靖政策的实行
C. 杜鲁门主义的出台 D. 马歇尔计划的推行

(2010·四川达州) 34. 当法西斯德国在欧洲大陆疯狂扩张时, 一直追随英国推行绥靖政策, 最后却自食其果遭致亡国的是 () D

A. 奥地利 B. 波兰 C. 意大利 D. 法国

(2010·四川攀枝花) 20. 将绥靖政策推向顶峰的历史事件是 () A

A. 慕尼黑阴谋 B. 国会纵火案 C. 巴黎和会 D. 华盛顿会议

(2010·江苏无锡) 17. 中国人常用“饮鸩止渴”来告诫人们, 不要只顾眼前利益, 而不顾将来的祸患。世界上英法把“饮鸩止渴”的绥靖政策推向顶峰的会议是 () C

A. 巴黎和会 B. 华盛顿会议 C. 慕尼黑会议 D. 雅尔塔会议

(2010·江苏扬州) 23. 下列哪一事件发生后二战规模达到最大? () C

A. 德国突袭波兰 B. 德国突袭苏联 C. 太平洋战争爆发 D. 诺曼底登陆

(2010·福建宁德) 18. 牺牲弱小国家利益, 推行强权政治, 是西方大国惯用的手段。西方大国强行将捷克斯洛伐克的苏台德区割让给德国是在 () A

A. 慕尼黑会议 B. 巴黎和会 C. 华盛顿会议 D. 雅尔塔会议

(2010·福建漳州) 19. 1938年9月, 张伯伦回到伦敦, 挥舞着文件, 宣称“我们这一代的和平已经得到保证。”签定这一文件的会议是 () D

A. 巴黎和会 B. 华盛顿会议 C. 雅尔塔会议 D. 慕尼黑会议

(2010·广西贵港) 24. 把英法的绥靖政策推到了顶点, 并产生了极其恶劣的影响的事件是 () D

A. 德国进攻波兰 B. 日本发动“七七事变”
C. 日本偷袭珍珠港 D. 《慕尼黑协定》的签订

(2010·湖南娄底) 17. 1919年《凡尔赛和约》签订后, 协约国联军司令福煦说: “这不是和平, 这是20年的休战。”下面哪一事件应了这一预言? () C

A. “一战”的全面爆发 B. 太平洋战争爆发
C. “二战”的全面爆发 D. 亚洲策源地形成



第7课 世界反法西斯战争的胜利

(2010·四川乐山) 28. 2010年4月10日, 波兰总统卡钦斯基飞赴俄罗斯参加二战胜利纪念活动, 不幸飞机失事遇难。今年是二战胜利 () C

A. 55周年 B. 60周年 C. 65周年 D. 70周年

(2010·四川宜宾) 10. 下列历史事件, 不是发生在第二次世界大战期间的是 () C

A. 日军偷袭珍珠港 B. 斯大林格勒战役 C. 凡尔登战役 D. 诺曼底登陆

(2010·江苏南京) 25. 下列与第二次世界大战有关的历史事件, 按时间先后顺序排列, 正确的是 () **D**

① 诺曼底登陆 ② 德国进攻波兰 ③ 慕尼黑阴谋 ④ 日本偷袭珍珠港

A. ②①③④ B. ③④②① C. ②③④① D. ③②④①

(2010·四川内江) 30. 这是二战后期一次会议内容: “彻底消灭德国军国主义和法西斯主义, 惩办战犯; 战后德国由盟国军队分区占领, 实现德国民主化; 战后成立联合国……”。

你判断这是哪次会议? () **C**

A. 开罗会议 B. 德黑兰会议 C. 雅尔塔会议 D. 波茨坦会议

(2010·广东东莞) 45. 漫画往往是生动的历史。右图《绞死希特勒》描绘了苏美英联合打击德国法西斯的史实。这一情景最早出现于 () **A**



A. 《联合国宣言》签订后 B. 美英开辟第二战场后

C. 雅尔塔会议后 D. 苏联美国参战后

(2010·广东东莞) 46. 毛泽东说: “像希特勒这样的法西斯

国家的军事生命是建立在进攻上面的, 进攻一结束, 它的生命也就完了。”下列战役中印证了毛泽东这一论断的是 () **B**

A. 中途岛战役 B. 斯大林格勒战役 C. 诺曼底登陆战 D. 柏林攻坚战

(2010·山东威海) 25. 某历史兴趣小组制作了有关“二战”的系列知识卡片, 下列卡片内容错误的是 () **D**

A. “二战”爆发的时间: 1939年 B. 雅尔塔会议的重要决定: 建立联合国

C. 转折性战役: 斯大林格勒战役 D. “二战”结束的标志: 德国正式签署投降书

(2010·湖北鄂州) 17. 1943年2月, 罗斯福在致斯大林的一封贺信中说: “是你们制止了侵略浪潮, 成为盟军反侵略战争的转折点。”这一“转折点”是指 () **D**

A. 诺曼底登陆战 B. 《联合国宣言》发表 C. 苏军攻克柏林 D. 斯大林格勒战役

(2010·河南) 17. 斯大林曾经说过: “这次行动按其计划的周密、规模的宏大和行动的技巧来说, 在战争史上还从来没有过类似的先河。”它“迫使希特勒德国在两个战场上同时作战”。斯大林所说的“这次行动”最直接的结果是 () **B**

A. 斯大林格勒战役取得胜利 B. 法国光复 C. 意大利投降 D. 攻克柏林

(2010·山东济宁) 30. 第二次世界大战给人类带来深重的灾难, 下列历史事件按时间先后顺序排列正确的是 () **A**

① 德国突袭苏联 ② 德国突袭波兰 ③ 斯大林格勒战役

④ 诺曼底登陆 ⑤ 太平洋战争 ⑥ 雅尔塔会议

A. ②①⑤③④⑥ B. ②①⑤③⑥④ C. ①②③④⑤⑥ D. ②①③④⑥⑤

(2010·广东) 23. 2010年5月9日, 俄罗斯在莫斯科红场举行盛大的阅兵式, 以纪念世界反法西斯战争胜利65周年。这场反法西斯战争的转折点是 () **C**

A. 莫斯科战役 B. 诺曼底登陆 C. 斯大林格勒战役 D. 柏林攻坚战

(2010·湖北荆州) 20. 美国巨片《拯救大兵瑞恩》以1944年6月一场著名的登陆为背景, 谱写出惊天地、泣鬼神的壮丽诗篇。这场战役是 () **C**

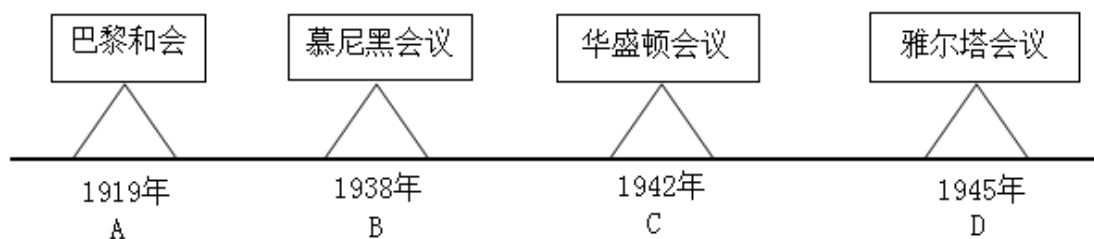
A. 阿拉曼战役 B. 中途岛战役 C. 诺曼底战役 D. 斯大林格勒战役

(2010·吉林) 9. 第二次世界大战中, 极大地消耗了德军的有生力量, 成为重要转折点的战役是 () **C**

A. 凡尔登战役 B. 莫斯科战役 C. 斯大林格勒战役 D. 诺曼底登陆

(2010·新疆乌鲁木齐) 14. 下面是某中学历史兴趣小组制作的一个反映世界史上重要会议

的年代尺。在这个年代尺上标出的会议中，决定对德国实行军事占领及苏联参加对日本法西斯作战的是（ ）D



(2010·贵州贵阳) 21. 下图反映的史实与下列会议中的决议有直接关系的是（ ）D



四国分区占领德国

A. 巴黎和会 B. 华盛顿会议 C. 慕尼黑会议 D. 雅尔塔会议

(2010·湖北孝感) 37. 1943年初，罗斯福在致斯大林的一封信中写道：“苏联人民取得这一战役的胜利，制止了侵略的浪潮，成了盟军反侵略的转折点。”从材料中不可能获取的历史信息是（ ）B

- A. 苏军取得了斯大林格勒战役的胜利
- B. 第二战场开辟，德国法西斯陷入盟军的两面夹击之中
- C. 苏军为世界反法西斯战争的胜利作出了重大贡献
- D. 这一仗给德国法西斯以沉重的打击

(2010·湖北宜昌) 18. 第二次世界大战期间，随着法西斯侵略战争的扩大，为了面对共同的敌人，一切遭受侵略的国家不断加强联合，逐步形成了（ ）C

A. 三国协约 B. 三国同盟 C. 国际反法西斯联盟 D. 欧洲联盟

(2010·江苏盐城) 23. 当今世界有许多重大挑战需要各国通力合作，共同应对。在第二次世界大战中，正义力量携手合作，热同抵抗邪恶和暴力的标志性事件是（ ）D

A. 三国协约建立 B. 三国同盟形成 C. 《慕尼黑协定》签订 D. 《联合国宣言》发表

(2010·四川达州) 35. 美国巨片《拯救大兵瑞恩》是以诺曼底登陆为背景拍摄的，参与这次登陆战的主要是（ ）B

A. 英法盟军 B. 英美盟军 C. 美法盟军 D. 苏美盟军

(2010·福建泉州) 19. 1942年苏联画家绘制了反映“二战”中三大盟国联合抗击德国法西斯的漫画(见右图)。画面上的三面国旗代表的国家不包括（ ）A

A. 法国 B. 美国 C. 英国 D. 苏联

(2010·湖南湘潭) 15. 1990年10月3日0时，联邦德国与民



主德国合并，德国重新统一。造成德国分裂的是哪一次国际会议的决议？（ ） **D**

A．华盛顿会议 B．慕尼黑会议 C．德黑兰会议 D．雅尔塔会议

(2010·内蒙古包头) 14．决定成立联合国，并对二战后世界政治格局形成产生重要影响的会议是（ ） **D**

A．巴黎和会 B．华盛顿会议 C．慕尼黑会议 D．雅尔塔会议

(2010·四川成都) 28．在世界现代史上，带领人民克服 1929～1933 年经济危机，并在二战中全力打击法西斯侵略势力的美国总统是（ ） **C**

A．乔治·华盛顿 B．亚伯拉罕·林肯 C．富兰克林·罗斯福 D．哈里·S．杜鲁门

(2010·四川成都) 29．在第二次世界大战中，世界反法西斯同盟正式形成的标志是（ ） **B**

A．太平洋战争的爆发 B．《联合国家宣言》的发表

C．斯大林格勒保卫战的胜利 D．开罗会议的召开

(2010·四川南充) 19．历史学习兴趣小组上网查阅“二战”资料，输入的关键词是“1942 年 1 月 1 日、26 国代表、美国首都华盛顿”。由此判断出该小组想了解的历史事件是（ ） **A**

A．《联合国家宣言》的签署 B．斯大林格勒战役

C．莫斯科战役 D．诺曼底登陆

(2010·江苏无锡) 18．联合国人道主义事务办协调厅在海地地震形势报告中称，“海地政府已经宣布搜寻与救援阶段结束。”报告还透露，“有 132 名被埋在废墟中的海地人被国际搜救队成功救出。”材料中的联合国是在下列哪次会议上决定成立的？（ ） **A**

A．雅尔塔会议 B．德黑兰会议 C．开罗会议 D．慕尼黑会议

(2010·江苏扬州) 24．作出二战后建立联合国重要决定的会议是（ ） **D**

A．大陆会议 B．巴黎和会 C．华盛顿会议 D．雅尔塔会议

(2010·山东日照) 23．第二次世界大战中，由社会制度不同的国家共同进行的壮举是（ ） **B**

A．保卫斯大林格勒 B．建立国际反法西斯联盟

C．诺曼底登陆 D．攻克柏林

(2010·江苏常州) 26．“每一[签字国]政府各自保证对与各该政府作战的三国同盟（即德、意、日三国轴心）成员国及其附从者使用其全部资源，不论军事的或经济的。”此项保证出自（ ） **A**

A．《联合国家宣言》 B．《慕尼黑协定》 C．《雅尔塔协定》 D．《北大西洋公约》

(2010·内蒙古赤峰) 19．决定成立联合国的重要会议是（ ） **D**

A．华盛顿会议 B．慕尼黑会议 C．开罗会议 D．雅尔塔会议


(2010·广西贵港) 25．右图反映的是（ ） **D**

A．发表波茨坦公告

B．签署《联合国家宣言》

C．德国签署投降书

D．雅尔塔会议“三巨头”



(2010·湖南株洲) 16．1943 年 2 月罗斯福为某一战役的胜利向斯大林贺喜：“是你们制止了侵略浪潮，成为盟军反侵略战争的转折点。”这一战役是（ ） **C**

A．诺曼底登陆战 B．莫斯科战役 C．斯大林格勒战役 D．柏林战役

(2010·贵州毕节) 21．第二次世界大战中被打败的三个法西斯国家是（ ） **D**

A．英法德 B．英法奥 C．德法俄 D．德意日

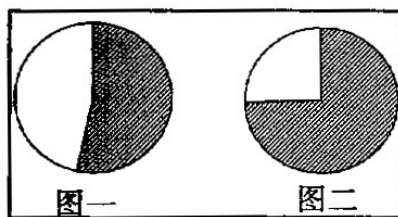
- (2010·辽宁营口) 14. 关于《联合国宣言》签署时间、地点正确的是 () **A**
 A. 1942 年华盛顿 B. 1942 年伦敦 C. 1943 年华盛顿 D. 1943 年莫斯科
- (2010·辽宁营口) 15. 标志第二次世界大战结束的事件是 () **D**
 A. 1945 年 5 月德国正式签署投降书 B. 1945 年 8 月日本宣布无条件投降
 C. 1945 年 8 月美军在日本投下原子弹 D. 1945 年 9 月日本正式签署投降书

第四单元 战后主要资本主义国家的发展变化

第 8 课 美国经济的发展

(2010·江西) 10. 下面图一和图二的阴影部分所示, 依次是 1948 年某国“工业生产总值”和“黄金储备”占世界的比重。据此判断, 这个国家是 () **C**

- A. 英国 B. 日本
 C. 美国 D. 苏联

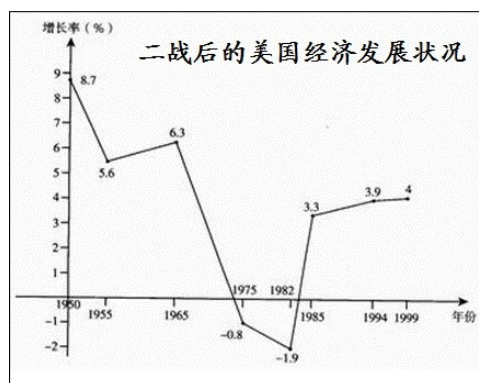


(2010·四川自贡) 37. 美国是一个年轻的国家, 但其政治、经济和文化的发展都很充分。下列关于美国的叙述, 不正确的是 () **A**

A. 《解放黑人奴隶宣言》使得所有奴隶都获得了自由
 B. 爱迪生发明的电灯改变了人类传统的照明方式
 C. 罗斯福新政提供了国家干预经济生活的范例
 D. 二战后初期美国经济出现了空前繁荣局面

(2010·江苏南京) 27. 右图 1975~1982 年的美国经济状况, 出现的直接原因是 () **A**

- A. 经济危机的影响
 B. 朝鲜战争的爆发
 C. 日本的崛起
 D. 冷战的开始



(2010·广东东莞) 48. 二战后美国经济强大, 被称为经济“巨无霸”。下列不属于美国经济发展特点的是 () **A**

- A. 科学技术进步 B. 经济发展迅速
 C. 跨国公司飞速发展 D. 资本输出增加

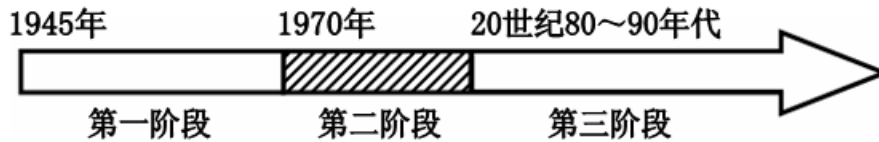
(2010·湖南岳阳) 24. 20 世纪 90 年代美国发展最为迅速和产业是 () **C**

- A. 钢铁制造业 B. 汽车制造业 C. 信息产业 D. 飞机制造业

(2010·广东汕头) 25. 小明是汕头市某中学的学生。以下是他在一篇历史小论文中对第二次世界大战后美国经济发展情况的表述, 不符合史实的是 () **C**

- A. 20 世纪五六十年代经济持续发展 B. 20 世纪 70 年代中期经济遭受到严重打击
 C. 20 世纪 80 年代进入新经济时代 D. 20 世纪 90 年代完成传统产业的技术改造

(2010·广西桂林) 8. 美国凭借强大的经济实力在国际舞台上扮演着重要的角色。“二战”以来, 美国经济出现了几个不同的发展阶段。对图示中第二阶段美国经济发展的特点描述最准确的是 () **A**



- A. 发展速度放慢，出现严重经济危机 B. 开始复苏和繁荣
 C. 经济实力膨胀，成为经济超级大国 D. 进入知识经济时代

(2010·广东湛江) 40. 以下表格反映的是战后哪个国家经济发展的基本情况？ () A

历史时期	经济发展情况
20世纪五六十年代	高速增长的“黄金时期”，西部和南部发展尤为迅速。
20世纪70年代	出现负增长和“滞胀”现象。
20世纪80年代	经济好转，但负担加重。
20世纪90年代	经济持续稳定发展，仍然是世界上经济最发达国家。

- A. 美国 B. 中国 C. 日本 D. 苏联

(2010·湖南永州) 20. 20世纪90年代以来，美国进入了新经济时代，其主要特征是 () D

- A. 西部和南部发展尤其迅速 B. 经济缓慢回升，低通胀
 C. 高速度，低失业率 D. 信息化和全球化

(2010·辽宁营口) 18. 20世纪90年代，美国进入新经济时代，新经济的主要特征是 () D

- A. 信息化高速度 B. 高速度低赤字 C. 低通胀低失业率 D. 信息化全球化

第9课 西欧和日本经济的发展

(2010·山东聊城) 33. 旗帜、徽章有着特殊的寓意。作为标志，右边的旗帜应该悬挂于 () C

- A. 国际联盟总部 B. 联合国总部
 C. 欧洲联盟总部 D. 世贸组织总部



(2010·浙江义乌) 20. 2010年，希腊因债务危机引发了国内大规模罢工。对希腊债务危机最有可能进行实质性干预的区域性国际组织是 () A

- A. 欧洲联盟 B. 联合国
 C. 世界贸易组织 D. 亚太经合组织

(2010·四川内江) 29. 到20世纪80年代后期，成为世界第二经济大国的是 () D

- A. 美国 B. 苏联 C. 联邦德国 D. 日本

(2010·河北) 18. “美国为支持马歇尔计划的实施总共支付了125亿美元。这一巨大的投资和欧洲的人力物力一起，使欧洲能够迅速复原，这一复原使欧洲的生产和生活水平超过了战前的水平。”材料论述了 () A

- A. 西欧经济恢复的原因 B. 西欧经济恢复的影响
 C. 北大西洋公约组织建立的背景 D. 欧洲共同体成立的原因

(2010·广东东莞) 49. 二战后，日本经济持续高速发展，一跃成为仅次于美国的世界第二经济大国。日本成为第二大经济大国是在20世纪 () C

A . 50 年初 B . 60 年代初 C . 70 年代初 D . 80 年代初

(2010·广东东莞) 50 . 雨果曾预言“总有一天……所有的欧洲国家……都将紧紧地融合在一个高一级的整体里。”目前, 欧洲“高级整体”已经建立, 它的发展目标是 () **D**

A . 经济一体化 B . 政治一体化 C . 军事一体化 D . 经济政治一体化

(2010·福建龙岩) 18 . 关键词: 世界最大的经济体、政治联盟、经济货币联盟。由此, 你能联想到的是 () **A**

A . 欧洲联盟 B . 华沙公约组织 C . 北大西洋公约组织 D . 亚太经合组织

(2010·湖北鄂州) 18 . 有人断言: 欧洲曾是两次世界大战的发源地, 但是从今天的形势看, 欧洲再次爆发大规模战争的可能性几乎不存在了。他得出这一结论的依据应是 () **C**

A . 联合国作用加强 B . 两极格局已经结束
C . 欧洲联盟的建立 D . 和平与发展已成世界潮流

(2010·山东淄博) 9 . 1984 年日本文部大臣在北京大学演讲时, 说: “日本经济发展的原动力是大力开采人的脑力、心中的智慧资源和文化资源。”这反映了日本政府在发展经济中特别重视 () **B**

A . 推行非军事化政策 B . 大力发展教育
C . 引进最新的科学技术成就 D . 制定恰当的经济政策

(2010·江苏泰州) 20 . 二战后, 西欧国家逐渐走上了联合发展的道路, 由欧洲煤钢联营到欧洲共同体再到欧盟的出现, 说明西欧国家联合的趋势是 () **B**

A . 西欧国家之间的矛盾已完全消除
B . 由经济合作走向经济政治一体化
C . 由政治合作走向经济联合
D . 西欧国家经济发展水平已无差别

(2010·山东滨州) 23 . 下列标志所代表的国际组织, 与欧元密切相关的是 () **C**



A B C D

(2010·湖北十堰) 34 . 日本在第二次世界大战后迅速成为经济强国的原因不包括 () **A**

A . 与德意签订《德意日三国同盟条约》 B . 在美国推动下进行民主改革
C . 美国的经济扶持 D . 重视教育与科技

(2010·湖北襄樊) 20 . 20 世纪末, 世界上最大的经济体是 () **D**

A . 日本 B . 美国 C . 德国 D . 欧盟

(2010·河南) 18 . 2009 年 12 月 1 日, 欧盟宪法正式生效。从此以后, 世界上将有一个可以代表整个欧盟说话的人。下列对欧洲联盟的叙述, 错误的是 () **A**

A . 增强了与美国争夺世界霸权的力量 B . 有利于世界多极化的发展
C . 有利于协调欧盟国家之间的关系 D . 提高了欧洲国家的国际地位

(2010·广东) 25 . 如今许多欧洲人正逐渐从“我是法国人”或“我是意大利人”转变为“我是欧洲人”。能够反映这一观念转变的图标是 () **C**



A



B



C



D

(2010·广东佛山) 16. 主要资本主义国家经济增长率 (%) 统计表

时间	日本	美国	英国	联邦德国	法国
1952~1960	8.2	2.8	2.7	7.5	4.8
1961~1970	11.2	4.1	2.8	4.8	5.8

据此可以说明日本 () A

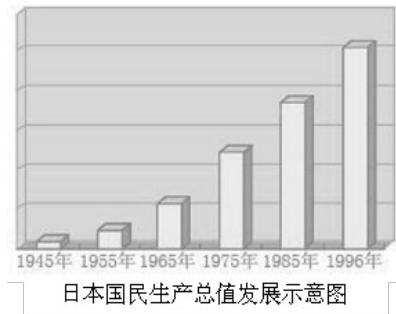
- A. 经济持续高速发展
B. 经济实力超过美国
C. 成为第二经济大国
D. 成为世界政治大国

(2010·吉林) 10. 依据“欧元”、“统一护照”、“世界最大的经济体”等信息,判断下列与其相关的组织是 () C

- A. 国际联盟 B. 联合国 C. 欧洲联盟 D. 世界贸易组织

(2010·山东莱芜) 19. 第二次世界大战后日本经济发展状况如图所示,它反映了当时 () A

- A. 日本经济持续高速增长
B. 日本成为世界上最大的经济体
C. 日本继承了军国主义传统
D. 日本成为美国的销售市场



(2010·四川巴中) 33. 第二次世界大战后,日本经济迅速恢复和发展的外部条件主要是 () D

- A. 实行民主化改革 B. 重视发展科技和教育
C. 积极开拓国内外市场 D. 美国的大力援助和扶持

(2010·四川巴中) 35. 目前世界上规模最大的区域性经济集团是 () A

- A. 欧盟 B. 北美自由贸易区
C. 亚太经合组织 D. 世界贸易组织

(2010·福建三明) 19. 下列关于二战后西欧国家和日本经济迅速发展的共同原因。表述正确的是 () D

- ①美国的扶持 ②第三次科技革命的影响 ③制定适当的经济发展政策 ④资源丰富
A. ①②③④ B. ①②④ C. ②③④ D. ①②③

(2010·广东深圳) 9. 欧洲目前面临严重的金融危机,但欧洲各国能相互帮助,共渡难关。其中发挥主要作用的国际组织是 () C

- A. 联合国 B. 世贸 C. 欧盟 D. 北约

(2010·山东泰安) 28. 初三学生小明暑假随爸妈去某地区旅游,发现当地大多数国家的居民拥有统一的护照、使用统一的货币。该地区最有可能是 () B

- A. 东南亚 B. 西欧 C. 北美洲 D. 南非

(2010·四川攀枝花) 23. 二战后欧洲资本主义国家及日本经济迅速恢复和发展的相同原因有 () D

- ①美国的经济援助 ②非军事化政策 ③搞素质的劳动力优势 ④利用最新的科技成果

- A. ①② B. ②③ C. ②④ D. ①④

(2010·四川攀枝花) 24. 图片中的历史：现在，很多欧洲人从“我是法国人”或“我是德国人”转变为“我是欧洲人”。能够反映这一观念转变的标示是 () **A**



A



B



C



D

(2010·新疆建设兵团) 10. 到20世纪70年代，在钢铁、汽车、船舶、电器等许多重要生产领域，日本都名列世界前列。这表明日本 () **C**

- A. 经济恢复到战前水平 B. 成为资本主义政治大国
C. 成为资本主义经济大国 D. 成为世界上最大的经济体

(2010·四川成都) 30. 20世纪50~70年代是西方经济快速恢复和发展时期，其中，西欧经济发展速度最快的国家是 () **D**

- A. 英国 B. 法国 C. 意大利 D. 联邦德国

(2010·江苏淮安) 23. 二战后，日本政府根据国内外经济形势，制定一系列合乎国情的经济发展政策。到20世纪80年代中期以后，日本实行的促进经济发展的政策是 () **B**

- A. 利用美国的扶持 B. 科技立国 C. 推行非军事化政策 D. 充分利用国内自然资源

(2010·山东日照) 24. 法国总统戴高乐曾经提出欧洲是“欧洲人的欧洲”。体现这一声音的国际组织是 () **D**

- A. 协约国集团 B. 北大西洋公约组织 C. 华沙条约组织 D. 欧洲联盟

(2010·内蒙古赤峰) 20. 20世纪末，世界上最大的经济体是 () **B**

- A. 日本 B. 欧盟 C. 美国 D. 中国

(2010·湖南株洲) 17. 有人为湖南卫视娱乐节目《咀一敌百》推荐这样一个题目：提示一：发行统一货币；提示二：成立于1993年；提示三：实行共同的外交政策；提示四：制定共同的防务计划。这个组织是 () **C**

- A. 三国同盟 B. 联合国 C. 欧洲联盟 D. 世界贸易组织

(2010·山东菏泽) 15. 欧盟的旗帜是 () **B**



A



B



C



D

(2010·广东梅州) 11. 法国作家雨果预言“总有一天……所有的欧洲国家……都将紧紧地融合在一个高一级的整体里……”1993年，欧洲初步实现这一预言而建立“高一级的整体”是 () **B**

- A. 欧洲共同体 B. 欧洲联盟 C. 世界反法西斯联盟 D. 联合国

(2010·湖南娄底) 18. 右图所示的国际组织是 () **D**

- A. 北约组织 B. 联合国 C. 世界贸易组织 D. 欧洲联盟

(2010·辽宁营口) 16. 第二次世界大战以后，日本经济迅速崛起，下列有关表述正确的是 () **D**



- ① 完全依靠本国力量，取得战后经济的迅速发展
 ② 20 世纪 70 年代成为仅次于美国的经济大国
 ③ 20 世纪 80 年代中期以后，实行“科教兴国”政策
 ④ 随着经济发展，谋求政治大国的欲望膨胀
 A . ①② B . ①④ C . ②④ D . ③④

第五单元 社会主义国家的改革与演变

第 10 课 苏联的改革与解体

(2010·四川遂宁) 27. 国家利益影响着国际关系的走向，国际关系主导着世界格局的变化。下列各项，按发生时间的先后顺序排列，正确的是 () **B**

- ①“冷战”开始 ②凡尔赛——华盛顿体系形成 ③苏联解体 ④两极格局形成
 A . ①②③④ B . ②①④③ C . ②①③④ D . ①④②③

(2010·江西) 11. 有学者评论某次改革时说：“天冷，本想弄点木材烤烤手，想不到竟将整个房子烧了。”据此判断，他评说的是 () **D**

- A . 列宁新经济政策 B . 罗斯福新政 C . 邓小平改革 D . 戈尔巴乔夫改革

(2010·山东威海) 27. 《大国崛起》解说词中讲到：1991 年，克里姆林宫的红旗悄然落下，红色的年轮在大国兴起的舞台上刻写了 74 圈。导致“红旗悄然落下”的事件是 () **A**

- A . 苏联解体 B . 东欧剧变 C . 赫鲁晓夫改革 D . 美苏争霸

(2010·广东广州) 13. “横空出世一战中，社会制度初显优；反法西斯建大功，一朝解体两极终”。它描述的是下列哪个国家？ () **B**

- A . 英国 B . 苏联 C . 美国 D . 中国

(2010·吉林长春) 14. 两极格局结束的标志是 () **C**

- A . 北约建立 B . 华约建立 C . 苏联解体 D . 欧盟成立

(2010·新疆建设兵团) 11. 1991 年 12 月 25 日，红蓝白三色旗取代了镰刀锤子红旗，这标志着苏联的解体。苏联解体的直接原因是 () **D**

- A . 新经济政策的实施 B . 赫鲁晓夫的改革
 C . 斯大林模式的影响 D . 戈尔巴乔夫的改革

(2010·山东日照) 22. 赫鲁晓夫改革之所以最终未获成功，其主要原因是 () **D**

- A . 未能提高苏联的综合国力 B . 未在政治上采取改革措施
 C . 未改变两极格局的局面 D . 未根本突破旧有的政治经济模式

(2010·福建宁德) 20. 1991 年，强大一时的超级大国苏联结束了它辉煌而又悲壮的历程。下列与苏联解体直接相关的人物是 () **D**

- A . 斯大林 B . 赫鲁晓夫 C . 勃列日涅夫 D . 戈尔巴乔夫

(2010·辽宁营口) 17. 1992 年，国内一旅游团要出国旅游，在旅游行程表中不会出现的国名是 () **B**

- A . 法国 B . 苏联 C . 意大利 D . 英国

第 11 课 东欧社会主义国家的改革与演变

(2010·四川自贡) 41. 社会主义是一项前无古人的崭新事业，从 20 世纪 50 年代中期起，东欧各国相继进行了改革。其中被誉为“东欧消费者的天堂”的是 () **A**

A. 匈牙利 B. 东德 C. 苏联 D. 南斯拉夫

(2010·四川自贡) 42. 下列组合中, 不存在因果关系的一项是 () C

- A. 东欧剧变——社会制度发生根本性变化
- B. 杜鲁门主义的提出——揭开了“冷战”的序幕
- C. 北大西洋公约组织建立——标志着两极格局的形成
- D. 东欧剧变和苏联解体——世界两极格局崩溃

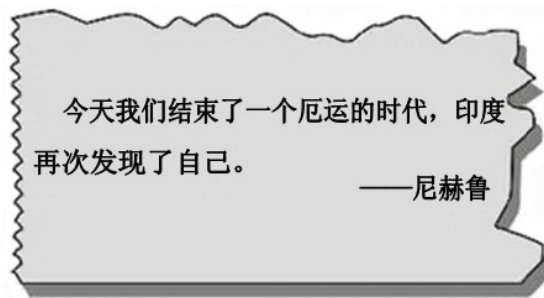
(2010·四川攀枝花) 22. “读史使人明智”, 东欧剧变给我们最大的启示是 () A

- A. 社会主义建设必须与本国实际相结合
- B. 社会主义建设必须坚持独立自主
- C. 社会主义建设应不断进行改革
- D. 社会主义建设必须加强对西方“和平演变”的抵制

第六单元 亚非拉国家的独立和振兴

第 12 课 亚非拉的奋起

(2010·安徽芜湖) 10. 某历史专栏出现了以下三幅图片, 该专栏的主题应该是 () D



纳赛尔 卡斯特罗进入哈瓦那

- A. 经济全球化
- B. 资本主义时代的曙光
- C. 拉丁美洲的独立
- D. 亚非拉的奋起

(2010·山东聊城) 32. 领导埃及独立运动, 实现埃及独立, 将苏伊士运河收归国有的杰出领导人是 () B

- A. 尼赫鲁
- B. 纳赛尔
- C. 卡斯特罗
- D. 阿拉法特

(2010·四川乐山) 30. 新航路开辟后, 非洲沦为了任人宰割的“黑暗大陆”, 非洲人民通过 500 多年坚持不懈的斗争, 终于在 20 世纪 90 年代初使帝国主义在非洲的殖民体系寿终正寝。其“寿终正寝”的标志是 () D

- A. 埃及独立
- B. 阿尔及利亚独立
- C. “非洲独立年”出现
- D. 纳米比亚独立

(2010·四川自贡) 43. 亚洲地区是二战后最富于经济活力的地区之一。以下对 20 世纪七八十年代这一地区经济发展表述不正确的是 () D

- A. 日本成为世界第二号经济大国
- B. 新加坡以“神奇的港口之国”著称
- C. 韩国创造了“惊人的汉江之奇”
- D. 印度创造出经济发展的“黄金时代”

(2010·江苏南京) 26. 2010 年, 非洲因南非世界杯足球赛而倍受世界关注, 此年还是帝国主义在非洲的殖民体系最终瓦解多少周年? () B

- A. 10 周年
- B. 20 周年
- C. 30 周年
- D. 40 周年

(2010·河北) 19. 西方列强的殖民统治, 不仅使非洲国家失去了经济资源, 也使非洲国家失去了政治尊严, 那就是民族的独立和平等。下列史实标志着非洲国家最终找回“政治尊严”的是 () D

- A. 万隆会议的召开 B. 埃及收回苏伊士运河
C. 1960年, 非洲17个国家独立 D. 纳米比亚独立

(2010·山东威海) 28. 印度和巴基斯坦常因殖民者遗留下的领土纠纷而冲突不断, 造成了南亚地区长期的动荡和不安。印度独立前, 是下列哪个国家的殖民地 () C

- A. 法国 B. 美国 C. 英国 D. 俄国

(2010·山东东营) 24. 尼赫鲁在庆祝印度独立时说: “今天我们结束了一个厄运的时代, 印度再次发现了自己。”这表明印度结束了 () A

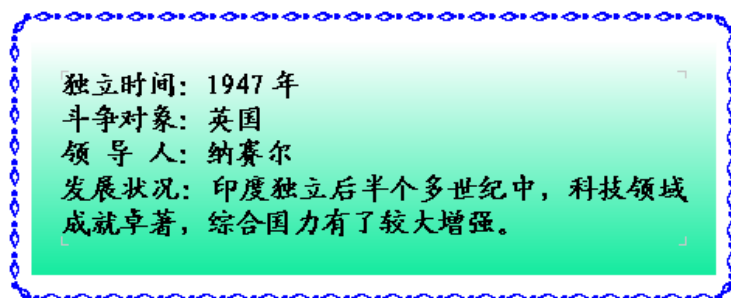
- A. 英国的直接统治 B. 法国的直接统治 C. 西班牙的直接统治 D. 葡萄牙的直接统治

(2010·湖北十堰) 35. 1960年之所以被称为“非洲年”, 是因为 () B

- A. 这一年是非洲独立运动的开始 B. 这一年非洲有17个国家宣告独立
C. 这一年非洲的重要国家埃及宣告独立 D. 这一年, 殖民统治在非洲终结

(2010·山西) 13. 下面是九年级某班小明同学围绕“印度的独立和振兴”制作的学习卡片, 其中有一处与史实明显不符, 此处是 ()

C



- A. 独立时间 B. 斗争对象 C. 领导人 D. 发展状况

(2010·广东) 24. 正在进行的南非世界杯足球赛把世人的目光再次聚焦到非洲这片土地上, 1990年的非洲大陆就曾经被世界所关注。因为这一年 () D

- A. 非洲独立运动在北非展开 B. 被称为“非洲独立年”
C. 非洲国家摆脱贫困实现了富强 D. 非洲殖民体系彻底崩溃

(2010·广西桂林) 10. “二战”后, 亚非拉国家为维护国家主权、争取民族独立进行了坚决的斗争, 掀起了民族独立运动的高潮。属于非洲人民维护国家权益的斗争是 () A

- A. 埃及收回苏伊士运河主权 B. 印度民族独立运动
C. 1959年古巴革命胜利 D. 巴拿马收回运河主权

(2010·新疆乌鲁木齐) 15. 今年南非承办的第19届世界杯足球赛, 使全世界看到了独立后的非洲日新月异的发展变化。在非洲民族独立运动的历史上被为的“非洲独立年”, 距今已有 () B

- A. 60年 B. 50年 C. 40年 D. 30年

(2010·湖北孝感) 33. 发动战争者通常是被谴责的对象, 下列人物中却存在例外。他是 () D

- A. 远征俄国的拿破仑 B. 一战中的德皇威廉二世
C. 挑起科索沃战争美国总统克林顿 D. 发动埃及独立战争的纳赛尔

(2010·江苏盐城) 24. 印度与巴基斯坦的分治遗留了许多问题, 造成印、巴间的严重对立。炮制印巴分治方案的国家是 () B

- A. 美国 B. 英国 C. 法国 D. 俄国

(2010·四川达州) 37. 下列人物中, 为维护古巴民族独立作出卓越贡献的是 () D

- A. 纳赛尔 B. 尼赫鲁 C. 阿拉法特 D. 卡斯特罗

- (2010·江苏无锡) 20. 非洲彻底摆脱帝国主义奴役的标志是 () **C**
- A. 埃及收回运河主权 B. “非洲独立年”的出现
C. 纳米比亚独立 D. 埃塞俄比亚独立
- (2010·贵州毕节) 24. 标志着欧洲殖民者入侵和奴役非洲长达 500 年历史结束的事件是 () **D**
- A. 非洲独立年 B. 埃及独立
C. 阿尔及利亚独立 D. 纳米比亚独立

第 13 课 动荡的中东地区

- (2010·福建福州) 19. 巴勒斯坦人用“人肉炸弹”在以色列超市、公共汽车制造爆炸案；以色列人对巴勒斯坦人的定居点进行残酷报复。造成双方陷入这种恶性循环的因素是 () **D**
- ① 宗教信仰不同 ② 种族不同 ③ 争夺水资源 ④ 领土问题
- A. ①②③ B. ①③④ C. ①②④ D. ①②③④

- (2010·四川资阳) 27. 杨兵同学写了一封致巴以人民的公开信，信中有知识性错误的语句是 () **C**

- A. 巴以冲突既有当地人的利益之争，也有局外大国的利益之争
B. 巴以冲突既有历史遗留问题之争，也有现实问题之争
C. 坚决反对法西斯侵略，维护中东和平
D. 对耶路撒冷的争夺增加了中东和平进程的难度

- (2010·山东滨州) 24. 有这样一个热点地区，它石油资源十分丰富，地理位置和战略地位极其重要，是西方大国的必争之地，由于历史原因选成的民族矛盾和宗教矛盾使这一地区长期动荡，问题错综复杂。这一地区是 () **B**

- A. 巴拿马 B. 中东地区 C. 阿富汗 D. 巴尔干半岛

- (2010·福建龙岩 2) 20. 中东问题的关键是 () **D**
- A. 宗教问题 B. 种族问题 C. 水源问题 D. 巴以冲突

- (2010·广东广州) 14. 当今中东问题的焦点是 () **B**
- A. 核战争威胁 B. 巴以冲突和谈 C. 海湾战争 D. 科索沃危机

- (2010·广西桂林) 9. 五月的上海，华灯璀璨。黄浦江畔，一艘“月亮船”（右图）以朦胧、神秘的魅力吸引了世界各地的游客。据 CCTV 报道，它在上海世博会人气榜上排名第一，这就是沙特阿拉伯投入十亿多人民币打造的世博会展馆。你知道沙特经济发展的主要支柱是 () **B**

- A. 农业 B. 石油工业
C. 加工制造业 D. 金融业



- (2010·江苏淮安) 24. 第二次世界大战结束以来，中东地区始终动荡不定，其中巴以冲突成为中东问题的关键。下列说法不符合巴以地区局势的是 () **C**

- A. 宗教信仰不同是双方矛盾的主要原因之一 B. 双方不断争斗，陷入“以暴制暴”的怪圈
C. 大国插手有助于消除双方矛盾 D. 该地区和平进程曲折反复

- (2010·江苏常州) 27. 二战后，局部地区的国家之间、民族之间的冲突时有发生。其中，阿以冲突导致了 () **C**

- A. 太平洋战争 B. 朝鲜战争 C. 中东战争 D. 科索沃战争

第七单元 战后世界格局的演变

第14课 冷战中的对峙

(2010·江苏苏州) 19. 右图漫画反映的重大历史事件是 () **D**

- A. “杜鲁门主义”的出台 B. “马歇尔计划”的推行
C. 华沙条约组织的成立 D. 古巴导弹危机的发生



(2010·广东东莞) 47. 这是一场特殊的战争，它存在于两种不同的社会制度之间，既威胁了世界和平又维持了世界相对的和平。

这场特殊战争开始于 () **A**

- A. 杜鲁门主义出台 B. 马歇尔计划实施 C. 北约组织成立 D. 华约组织成立

(2010·湖北武汉) 23. 二战结束后，美苏两国从盟友变为对手。美国为了扫除称霸世界的最大障碍，对苏联等社会主义国家实行了“冷战”政策。开始推行这一政策的总统是 () **A**

- A. 杜鲁门 B. 尼克松 C. 奥巴马

(2010·湖南岳阳) 25. 二战后，以美国为首的西方资本主义国家为了遏制共产主义，在军事上采取的重要措施是 () **B**

- A. 成立华沙条约组织 B. 建立北大西洋公约组织
C. 提出杜鲁门主义 D. 实施马歇尔计划

(2010·山东滨州) 22. 方明同学在学完“冷战”内容后，整理笔记如下，其中有一项错误，请你找出来。 () **C**

- A. 目的：遏制共产主义 B. 范围：资本主义与社会主义国家之间
C. 方式：采取一切手段 D. 开始标志：杜鲁门主义出台

(2010·山西) 14. 1947年3月，杜鲁门在国会发表演说，宣称美国有领导“自由世界”的使命，以防止“共产主义的渗入”。这表明 () **A**

- A. 美国欲推行霸权主义 B. 美国要无私援助欧洲
C. 美国要改善与苏联的关系 D. 美国努力维护世界和平

(2010·广东湛江) 39. “冷战”是一场特殊的战争，既威胁了世界和平又维持了相对的和平。“冷战”正式开始的标志是 () **D**

- A. 华沙条约组织成立 B. 北大西洋公约组织成立
C. 马歇尔计划的实施 D. 杜鲁门主义的提出

(2010·贵州贵阳) 22. 第二次世界大战后，美国采取了一项重要的措施，既帮助了处于困境中的欧洲，又刺激了本国经济的发展。这项措施是 () **D**

- A. 罗斯福新政的推行 B. 华沙条约组织的成立
C. 欧洲共同体的建立 D. 马歇尔计划的实施

(2010·四川达州) 36. 下列有关冷战的叙述，正确的是 () **D**

- ① 丘吉尔的“铁幕”演说发出了冷战的信号 ② 杜鲁门主义的出台标志着冷战的开始
③ 敌对双方是根据国家社会性质来划分的 ④ 东欧剧变和苏联解体标志着冷战的结束
A. ①②③ B. ②③④ C. ①③④ D. ①②③④

(2010·四川攀枝花) 21. 漫画中的历史：请你为教材中这组历史漫画(右图)归纳一个相同的主题。它是 () **D**

- A. 英国衰落 B. 两极对峙
C. 世界大战 D. 大国争霸



(2010·新疆建设兵团) 12. 它“利用‘冷战’的阴影，把‘遏制’共产主义的计划与制造商、出口商的热情融为一体。”这里的“它”是 () **B**

- A. 杜鲁门主义 B. 马歇尔计划 C. 华沙条约组织 D. 北大西洋公约组织

(2010·四川南充) 20. 冷战政策是“二战”后，以美国为首的西方资本主义国家对苏联等社会主义国家采取的敌对行动。美苏之间的冷战开始于 () **D**

- A. 北大西洋公约组织的建立 B. 马歇尔计划的实施
C. 华沙条约组织的建立 D. 杜鲁门主义的出台

(2010·江苏无锡) 19. 小亮准备找“冷战”的有关知识，可以用下列哪组关键词在网上进行搜索？ () **A**

- A. 杜鲁门主义、《北大西洋公约》、苏联解体
B. 《北大西洋公约》、马歇尔计划、科索沃战争
C. 雅尔塔会议、杜鲁门主义、《北大西洋公约》
D. 珍珠港事件、马歇尔计划、欧共体

第 15 课 世界政治格局的多极化趋势

(2010·四川遂宁) 28. 当今世界格局“一超多强”中的“多强”不包括 () **A**

- A. 印度 B. 中国 C. 日本 D. 俄罗斯

(2010·四川自贡) 46. 20 世纪 90 年代民族冲突、地区冲突、宗教冲突激烈的主要原因是 () **D**

- A. 美苏争霸 B. 国际经济旧秩序 C. 多国插手 D. “冷战”结束，力量对比失衡

(2010·浙江东阳) 18. 当今国际社会，在美国领先世界的同时，欧盟努力地用同一个声音说话，“金砖四国”(巴西、俄罗斯、印度、中国)、“展望五国”(越南、印尼、南非、土耳其、阿根廷)在经济快速发展的同时，也正在国际事务中发挥越来越大的作用。这一现象表明 () **B**

- A. 当今世界的发展问题基本解决 B. 国际格局走向多极化
C. 经济发展趋向全球化 D. 国际经济新秩序已基本建立

(2010·浙江湖州) 19. 下列事件反映发展主题的是 () **A**

- ① 美国政府向阿富汗增兵 ② G20 峰会商讨应对金融危机
③ 中国——东盟自由贸易区全面启动 ④ 胡锦涛与奥巴马共同出席核安全峰会
A. ②③ B. ②④ C. ①③ D. ①④

(2010·浙江台州) 海地当地时间 2010 年 1 月 12 日发生一场里氏 7.3 级地震，据此回答 4~5 题。

5. 震后想海地派遣维和部队的国际组织是 () **C**

- A. 世贸组织 B. 欧盟 C. 联合国 D. 绿色和平组织

(2010·浙江杭州) 24. 冷战结束以后，世界局势的发展引人注目。对于当今世界局势的表述，正确的有 () **D**

- ① 世界正在向多极化发展 ② 和平成为时代主题之一

③公正、合理的国际新秩序已经建立 ④霸权主义、强权政治有新的表现

A. ①②③④ B. ①③ C. ②④ D. ①②④

(2010·山东青岛) 39. 1999年科索沃战争爆发后,有报纸评论说:“这是北约成立以来首次在未经联合国授权的情况下,对一个主权国家采取的大规模军事行动。”这里的“主权国家”是指() B

A. 伊拉克 B. 南联盟 C. 阿富汗 D. 阿尔巴尼亚

(2010·山东潍坊) 20. 在世界政治多极化发展趋势中,中、美、俄、日以及欧盟五大力量之间的相互关系是() C

A. 平等互利、力量均衡 B. 取长补短、共同繁荣
C. 相互竞争、相互制约 D. 利益一致、追求双赢

(2010·湖北鄂州) 20. 世界政治格局多极化的根源在于() D

A. 两极格局的终结 B. 霸权主义的影响 C. 第三世界的兴起 D. 经济力量的多极化

(2010·湖南岳阳) 26. 关于朝鲜核问题,中国、俄罗斯、朝鲜、韩国、美国、日本曾多次举行六方会谈。由参加谈判的成员国可以反映出() B

A. 美国的霸权主义政策 B. 世界政治格局的多极化趋势
C. 两极对峙的政治格局 D. 世界经济的全球化趋势

(2010·湖南长沙) 10. 当前世界政治格局是() D

A. 处在两极格局下 B. 已形成多极化格局
C. 日本已成为唯一的超级大国 D. 暂时形成了“一超多强”局面,正朝多极化方向发展

(2010·广东广州) 15. 以下信息不能从下图中提取的是() C

A. 禽流感造成严重的恐慌
B. 恐怖主义也是一种“瘟疫”
C. 贫富差距不断拉大
D. 禽流感与恐怖主义均成为人类面临的共同问题



(2010·山东莱芜) 20. 邓小平说:“现在旧的(国际)格局在改变中,但实际并没有结束,新的国际格局还没有形成。”那么,20世纪90年代以来的世界政治格局是() D

A. 凡尔赛—华盛顿体系 B. 美苏两极格局
C. 东欧剧变与苏联解体 D. “一超多强”与多极化趋势

(2010·湖北宜昌) 20. 科索沃战争是以美国为首的北约对主权国家发动的一次军事进攻,它加强了美国在全世界的强权地位,但没有实现建立单极世界的企图,世界政治格局发展的趋势仍然是() B

A. 单极化 B. 多极化 C. 全球化 D. 区域化

(2010·江苏宿迁) 33. 20世纪80年代末90年代初以来世界政治格局表现为() D

A. 同盟国和协约国的对峙 B. 凡尔赛—华盛顿体系
C. 雅尔塔体制 D. 多极化趋势发展

(2010·四川达州) 38. 下列有关当今世界格局的论述,不正确的是() B

A. 和平与发展成为时代的主题 B. 多极化的世界格局完全形成
C. 经济全球化趋势不可阻挡 D. 美国仍然在不断插手别国事务和地区争端

(2010·辽宁营口) 19. 当今世界牵制美国称霸,促进世界格局多极化的重要力量有() D

A. 欧盟、印度 B. 欧盟、日本、巴西
C. 日本、中国、俄罗斯 D. 欧盟、日本、中国、俄罗斯

第 16 课 世界经济的“全球化”

(2010·山东聊城) 34. 在日常生活中, 我们经常见到诺基亚、三星、皮尔·卡丹等国际名牌商品, 轻松享用肯德基、麦当劳快餐。这都得益于 () **D**


A. 贸易自由化 B. 区域集团化 C. 政治多极化 D. 经济全球化

(2010·四川自贡) 44. 它以明确的规则、相互的承诺为各国的经济交往搭建了一个共同的平台, 被誉为“经济领域的联合国”。该组织是 () **C**

A. 欧洲联盟 B. 北美自由贸易区 C. 世界贸易组织 D. 亚太经合组织

(2010·四川自贡) 45. 当今世界经济全球化是世界发展的
一大趋势, 以下对漫画解读不正确的是 () **B**

- A. 相互依存, 相互竞争
- B. 地区冲突不断
- C. 是世界生产力发展的必然趋势
- D. 强国主导, 受益不均



(2010·浙江宁波) 8. 中国北京、上海、南京等 30 多个城市积极参与 2010 年“地球一小时”熄灯活动, 全球有 6000 多个城市 10 多亿人共同参与。这说明 () **B**

- ①我国积极实施可持续发展战略
 - ②解决环境与资源问题的关键靠科技
 - ③节能减排已成为每个人的自觉行为
 - ④倡导低碳生活得到世界各国的积极响应
- A. ①② B. ①④ C. ②③ D. ③④

(2010·浙江温州) 20. 海尔集团在全球建立了 29 个制造机器, 12 个海外贸易公司, 全球员工总数超过 6 万人, 已发展成为大规模的跨国企业集团。这一现象体现的世界经济发展趋势是 () **D**

A. 区域集团化 B. 政治多极化 C. 产品单一化 D. 经济全球化

(2010·江苏南京) 28. 1995 年, 被誉为“经济领域的联合国”的国际组织成立, 促进了世界经济全球化的过程, 该组织是 () **B**

A. 欧洲联盟 B. 世界贸易组织 C. 北大西洋公约组织 D. 上海合作组织

(2010·江西) 12. 有个美国人向通用汽车公司的庞蒂亚克购买了 1 辆勒曼兹车, 他在无意间促成了一系列国际交易: 在他付给通用汽车公司的 1 万美元中, 有近 3000 美元付给了韩国, 作为例行劳动和装配工作的报酬; 1850 美元付给日本, 用于购买先进的部件 (发动机、驱动桥和电子设备); 250 美元付给英国, 作为广告及营销服务的费用……这一现象反映了经济全球化背景下 () **B**

- ①生产国际化
 - ②贫富差距扩大
 - ③贸易全球化
 - ④各国经济联系密切
- A. ①②③ B. ①③④ C. ①②④ D. ②③④

(2010·福建福州) 20. 大众牌汽车的零部件来自四大洲 20 多个国家。这种现象反映了 () **C**

- A. 美苏“冷战”对峙局面
- B. 世界政治多极化趋势
- C. 世界经济全球化
- D. 亚非拉国家的振兴

(2010·江苏徐州) 14. 20 世纪 80 年代以来, 在世界范围内形成的区域性经济集团不包括 () **A**



A．世界贸易组织 B．欧洲联盟 C．亚太经合组织 D．北美自由贸易区

(2010·江苏苏州) 20．当美国人用 10000 美元从通用汽车公司买回一辆汽车，其中 3000 美元是支付给韩国装配工人的，1750 美元付给日本零件制造商，700 美元是德国设计师的报酬，400 美元是用来购买台湾、新加坡的零件，250 美元付给英国的广告商，余下的不到 4000 美元才能供通用汽车公司以及纽约的银行、保险公司分享。上述现象最能反映当今世界哪一发展趋势？ () C

A．政治多极化 B．文明多元化 C．经济全球化， D．区域集团化

(2010·山东威海) 29．下列不属于经济全球化趋势具体表现的是 () A

A．贸易保护主义盛行 B．国际投资和国际贸易迅速增长
C．跨国公司的影响增大 D．世界贸易组织的成立

(2010·湖北武汉) 27．随着现代工业文明的发展，如何解决高污染、高能耗成为全球共同关注的话题。武汉市民积极响应政府提出的低碳生活号召，于 2010 年 3 月参加了“地球一小时”熄灯接力活动，江城节电达 1.5 万度。这符合 () B

A．政治民主化理念 B．可持续发展理念 C．政治多极化趋势

(2010·湖北武汉) 30．当今世界，人类赖以生存的经济命脉已经联为一体，你中有我，我中有你，“世界各国都在一条船上”。这种现象告诉我们 () A

A．面对经济全球化带来的问题，需要世界各国共同解决
B．对于发达国家而言，经济全球化使其经济地位下降
C．经济全球化不利于世界范围内资源的合理配置

(2010·浙江杭州) 8．某国际组织的基本职能是：制定和监督多边贸易规则，组织多边贸易谈判，解决成员国之间的贸易争端。该组织是 () D

A．联合国 B．七十七国集团 C．欧洲联盟 D．世界贸易组织

(2010·山东青岛) 40．“我和你，心连心，同住地球村……”北京奥运会会歌的传唱让“地球村”家喻户晓。请问，“地球村”反映了世界经济发展中的 哪一特点？ () B

A．政治多极化 B．经济全球化 C．文化多元化 D．区域集团化

(2010·福建龙岩) 19．当前全球笔记本电脑的 95% 都是由中国人研发和生产的，无论是内在品质还是外观，都与国际品牌达到同一水平。从中国走出去的联想、宏基、华硕和神舟正逐步成为全球笔记本电脑市场的主角。这说明 () B

A．经济全球化只对发达国家有利 B．当前世界的经济全球化趋势进一步加强
C．经济全球化只对发展中国家有利 D．老牌跨国公司在经济全球化中逐渐落伍

(2010·山东淄博) 10．下列选项中，不能反映世界经济全球化趋势的是 () D

A．1995 年世界贸易组织成立 B．跨国公司的迅猛发展
C．2008 年蔓延全球的金融危机 D．世界暂时形成“一超多强”的局面

(2010·山西) 15．中国人喝着美国的可口可乐，美国人用着韩国的三星手机，非洲人开着中国的奇瑞汽车……这种现象说明 () C

A．人们生活方式现代化 B．社会物质产品多样化
C．世界经济全球化 D．世界格局多极化

(2010·江苏连云港) 35. 北京奥运会会歌唱到“我和你，心连心，同住地球村……”。这里的“地球村”含义丰富，若体现在世界经济发展特点方面，主要是指经济 () D

- A. 多极化 B. 自由化 C. 商品化 D. 全球化

(2010·湖北荆州) 22. 目前，麦当劳、肯德基、家乐福、沃尔玛等跨国公司在全世界开设的连锁店已落户荆州，这种现象代表了一种什么必然趋势? () B

- A. 世界经济的区域集团化 B. 世界经济的全球化
C. 世界政治格局的多极化 D. 中国人生活的西方化

(2010·湖南衡阳) 21. 北京奥运会的会歌唱道：“我和你，心连心，同住地球村；为梦想，千里行，相会在北京……”。我们常说的“地球村”，突出体现了当代世界经济发展的什么趋势? () A

- A. 经济全球化 B. 知识经济 C. 世界大同 D. 世界多极化

(2010·吉林长春) 15. 2008年美国次贷危机演变成世界性金融危机。这一现象反映了 () D

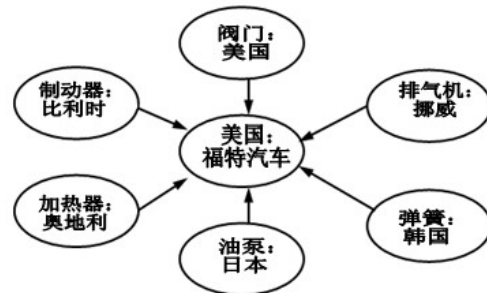
- A. 文化多元化 B. 科技现代化 C. 政治多极化 D. 经济全球化

(2010·江苏盐城) 25. 近期的希腊债务危机引发了欧元区的金融动荡，它与1997年亚洲金融危机十分相似。这两者都充分表明了 () C

- A. 东方从属于西方 B. 地区冲突影响世界安定
C. 经济全球化趋势加强 D. 殖民扩张带来深重灾难

(2010·山东泰安) 29. 右面是美国福特汽车部分零部件产地分布图，从中可以看出 () A

- A. 世界经济呈现全球化趋势
B. 福特公司在国际竞争中已处十不利地位
C. 福特公司在全球采购会大大增加生产成本
D. 美国已跟不上科技发展的潮流



(2010·四川攀枝花) 25. 世界经济全球化中的主角是 () A

- A. 跨国公司 B. 国际和区域性经济组织 C. 高新技术 D. 发展中国家

(2010·江苏无锡) 21. 2009年12月31日，国务院提出到2020年，初步把海南建成开放、绿色、文明、和谐的国际旅游岛。海南建设国际旅游岛体现了当今世界经济的发展趋势是 () B

- A. 多极化 B. 全球化 C. 经济化 D. 区域化

(2010·福建宁德) 19. 跨国公司在全世界迅猛发展，右图是世界上最大软件公司的标识。它是 () D

- A. 海尔公司 B. 联想公司
C. 波音公司 D. 微软公司



(2010·福建漳州) 20. 进入21世纪互联网的发展日新月异，这表明当前经济发展的主要特征是 () B

- A. 多元化和信息化 B. 信息化和全球化 C. 一体化和多元化 D. 全球化和多元化

(2010·贵州铜仁) 25. 在如今有经济发展过程中，世界各国经济联系日益密切，经济全球化趋势加速发展，世界经济日益成为一个整体，以下最能说明此问题的是 () D

- A. 1945年联合国的成立 B. 1947年欧洲复兴计划的实行
C. 1991年苏联解体 D. 1995年世界贸易组织的成立

(2010·江苏常州) 28. 20世纪90年代以来，全球化的趋势进一步加强，世界变得越来越

小，各国人民生活在“地球村”里。下列关于经济全球化的表述，不正确的是（ ） D

- A. 经济全球化主要推动力是科技革命
- B. 全球化给世界各国带来了新的发展机遇与挑战
- C. 全球化为发展中国家的发展提供了公正合理的保障机制
- D. 全球化有利于世界各国发挥自身优势

(2010·湖南娄底) 19. 某政治家认为，在经济全球化过程中，蛋糕做大了，但是大蛋糕分给了富人，其他的人只得到面包屑。这一观点表明，经济全球化带来了什么问题？（ ） B

- A. 恐怖主义泛滥
- B. 贫富差距悬殊
- C. 环境污染严重
- D. 毒品走私猖獗

第八单元 现代科学技术和文化

第 17 课 第三次科技革命

(2010·重庆綦江) 15. 信息社会到来的主要标志是（ ） C

- A. 航天技术
- B. 原子能技术
- C. 计算机网络技术
- D. 生物工程技术

(2010·江苏南京) 29. 人类历史上发生的三次科技革命的共同影响不包括（ ） D

- A. 推动社会生产力的发展
- B. 改变了人们的生活方式
- C. 加强了世界各地的联系
- D. 把人类带入“电气时代”

(2010·江苏徐州) 15. 徐州市 2010 年中考将实行网上阅卷。这一阅卷方式得益于（ ） C

- A. 电力的发明和应用
- B. 电讯技术的兴起
- C. 计算机网络技术的应用
- D. 航天技术的发展

(2010·湖北武汉) 29. 武广高铁的开通使武汉进入高铁时代，给武汉经济发展带来了新的机遇。高铁乘客可以网上聊天、网上交易。人们感慨，网络生活真是无处不在！这表明我们正处在（ ） C

- A. 蒸汽时代
- B. 电气时代
- C. 信息时代

(2010·山东青岛) 27. 2009 年 10 月 1 日这一天，国庆阅兵使央视网创造了全球互联网发展史上视频直播在线观看最高的历史记录，这充分表明第三次科技革命中哪一领域的技术得到广泛应用（ ） C

- A. 航天技术
- B. 自动化技术
- C. 计算机技术
- D. 新材料技术

(2010·山东东营) 25. 下列属于第三次科技革命成果的是（ ） D

- ① 火车
 - ② 汽车
 - ③ 电子计算机
 - ④ 克隆技术
- A. ①②
 - B. ②③
 - C. ①④
 - D. ②④

(2010·河南) 20. 公元 1500 年以后，世界逐步由分散走向整体。如今，世界已形成了“地球村”的局面。在这一过程中起决定性作用的是（ ） D

- A. 殖民主义扩张
- B. 资产阶级思想传播
- C. 区域性经济组织的广泛建立
- D. 科学技术的进步

(2010·广西河池市) 6. 下列哪一项成果最能体现中国古代“秀才不出门，便知天下事”的说法变成了现实？（ ） D

- A. 书本
- B. 电视
- C. 报纸
- D. 计算机网络

(2010·广西梧州) 33. 1973 年，第一部手机在美国诞生，经过 30 余年的发展，手机的功能和性能有了突飞猛进的发展。目前我国已经进入手机 3G 时代，实现了手机通话到手机

视频的飞跃。这种变化反映了 () C

- A. 科技的各个领域之间相互渗透 B. 手机的应用普及
C. 科技创新的速度越来越快 D. 人们的生活质量原来越高

(2010·山东泰安) 30. 目前, 信息技术已作为一门课程进入山东省中小学。这与第三次科技革命中的哪一项技术的发展密切相关? () D

- A. 航天技术 B. 原子能 C. 生物工程 D. 计算机

(2010·福建泉州) 20. 许多职业的出现与科技发明密切相关, 因第三次科技革命而出现的职业是 () B

- A. 火车司机 飞行员 B. 网络管理员 航天工程师
C. 汽车司机 空姐 D. 铁路工程师 电工

(2010·湖南湘潭) 16. 下列哪一幅图片不属于第三次科技革命的成果? () D



A



B

C

D



(2010·辽宁沈阳) 12. 一台年产 20 亿千克的标准带钢热轧机, 用人工控制, 每周最多生产 50 万千克钢; 用电子计算机控制, 每周产量可达 5000 万千克钢, 是人工控制的 100 倍。以电子计算机广泛使用为核心的是 () D

- A. 三角贸易 B. 工业革命 C. 第二次工业革命 D. 第三次工业革命

(2010·内蒙古呼和浩特) 16. 第三次科技革命具有范围广、影响大的特点, 它给人类的生产和生活带来巨大的变化。下列选项中属于第三次科技革命成果的是 () D

- A. 蒸汽机和火车 B. 内燃机和飞机
C. 电报和电话 D. 电子计算机和航天技术

第 18 课 现代文学和美术

(2010·安徽) 10. 《格尔尼卡》是 20 世纪美术大师毕加索的作品。它反映的历史主题是 () C

- A. 揭露资本主义的黑暗和腐朽 B. 描述经济大危机带来的苦难
C. 控诉法西斯的暴行 D. 歌颂人间的美善和光明

(2010·山东威海) 30. 世界名画《格尔尼卡》, 是 1937 年为抗议德国法西斯轰炸西班牙小镇格尔尼卡而作的, 它是 20 世纪绘画艺术中的珍品。其作者是 () A

- A. 毕加索 B. 德莱塞 C. 罗曼·罗兰 D. 贝克特

(2010·湖北咸宁) 20. 下列绘画作品中, 哪一幅是西班牙著名画家毕加索创作的? () C

- A. 《最后的晚餐》 B. 《向日葵》 C. 《格尔尼卡》 D. 《记忆的永恒》

(2010·江苏无锡) 22. 被践踏的鲜花、断裂的肢体、表情扭曲的呼号者、锯齿般的灯光、濒死长嘶的战马……支离破碎的黑白灰色块中散发出无尽的阴郁与恐怖, 和对人类苦难的悲悯。1937 年 4 月 26 日, 西班牙历史



名城格尔尼卡被纳粹德国空军夷为平地，作者用了半年时间创作了大型油画《格尔尼卡》，作为对法西斯暴行的控诉。这位作者是（ ）A

- A. 毕加索 B. 莎士比亚 C. 德莱塞 D. 贝多芬

第19课 现代音乐和电影

(2010·四川乐山) 32. 2009~2010年，我国上映了《变形金刚2》、《2012》、《阿凡达》、《钢铁侠2》等一系列美国高科技科幻电影。这些经典影片诞生于美国电影业中心（ ）B

- A. 纽约 B. 好莱坞 C. 费城 D. 华盛顿

(2010·贵州贵阳) 25. 电影一直是表达美国想象力的最有潜力的工具，全球热播的3D电影《阿凡达》就是一个例证。美国电影的代名词是（ ）D

- A. 奥斯卡 B. 百老汇 C. 迪士尼 D. 好莱坞

(2010·江苏无锡) 23. 美国天才大导演詹姆斯·卡梅隆的电影《阿凡达》2010年在全球的热映。阿凡达源自梵文，意指降临人间的神之化身。卡梅隆运用逼真的3D特效带领观众以新奇的角度探索了潘多拉星球，把观众带入了一个美妙神奇的世界。你知道电影最早产生于什么时期？（ ）C

- A. 18世纪末 B. 19世纪初 C. 19世纪末 D. 20世纪初



单元综合

(2010·浙江绍兴) 10. 统计图表能帮助我们分析历史。从下表中我们可以分析得出的结论有（ ）C

第一、二次世界大战情况比较表

名称 \ 项目	参战国 (个)	卷入人口 (亿)	参战人员 (亿)	伤亡人员 (亿)	直接经济损失 (亿美元)
第一次世界大战	30多	15	0.7	0.3	1805
第二次世界大战	60多	20	1.1	1.9	40000

- ① 战争是人类的浩劫 ② 两次战争引起了世界的剧烈震荡
③ 两次战争都是正义与邪恶的较量 ④ 和平事关各国人民的福祉
A. ①②③ B. ①③④ C. ①②④ D. ②③④

(2010·山东威海) 26. 某班同学开展主题探究活动，请三位历史教师分别作了《冷战政策与美苏争霸》、《“一超多强”的形成》、《世界经济的“全球化”》的专题报告。你认为该班探究活动的主题应是（ ）D

- A. “二战”后西方主要国家的发展变化 B. 社会主义国家的改革与演变
C. 亚非拉国家的独立与振兴 D. “二战”后世界格局的演变

(2010·山东青岛) 35. 如果让你从“五月流血周”、彼得格勒武装起义、开国大典等内容中归纳和提炼一个学习的主题，以下名称最恰当的应是（ ）B

- A. 资产阶级统治的扩大 B. 无产阶级政权的建立
C. 民族解放运动的高涨 D. 社会主义国家的改革

(2010·湖北鄂州) 19. 日本成为经济大国后，一直在谋求政治大国的地位，出现了军国主

义复活的现象。下列看法错误的是 () **B**

- A. 军国主义的本质就是侵略 B. 军国主义复活是经济发展的必然结果
C. 军国主义是对世界和平的严重威胁 D. 日本存在军国主义复活的社会土壤

(2010·湖北襄樊) 19. 某班历史兴趣小组开展历史探究活动, 确定了四个探究主题, 其中不正确的是 () **C**

- A. 拿破仑与《法典》 B. 希特勒与法西斯 C. 罗斯福与巴黎和会 D. 列宁与十月革命

(2010·湖北黄冈) 15. 近代以来, 科技发展使人们生活发生了巨大变化, 以下出现的情景不符合当时社会生活的是 () **B**

- A. 1831年达尔文乘“贝格尔”号考察船作环绕世界的考察
B. 1921年中国共产党成立的消息通过互联网迅速传播
C. 1943年蒋介石乘飞机去埃及参加开罗会议
D. 2010年全市中考阅卷将全部采用网上阅卷

(2010·河南) 14. 1848年, 《共产党宣言》的发表, 标志着科学共产主义的诞生, 它成为无产阶级革命的指导思想。下列事件中, 实践了这一思想的是 () **C**

- ①英国宪章运动 ②法国巴黎公社成立 ③俄国十月革命 ④美国南北战争

- A. ①② B. ①③ C. ②③ D. ③④

(2010·河南) 15. 下列能够体现“弱国无外交”“强权即公理”这些霸权主义现象的是 () **A**

- ①巴黎和会 ②华盛顿会议 ③慕尼黑协定 ④《联合国家宣言》

- A. ①②③ B. ②③④ C. ①②④ D. ①③④

(2010·河南) 19. 亚历山大二世、列宁、戈尔巴乔夫是俄国历史上的重要人物。他们都对当时面临的社会问题进行了改革。下列对他们所领导的改革评价准确的是 () **B**

- A. 三次改革都使国家性质发生了变化
B. 亚历山大二世改革, 促进了俄国资本主义的发展
C. 列宁的改革, 形成了世界上第一个社会主义国家
D. 戈尔巴乔夫改革, 加强了共产党对国家的领导

(2010·广东佛山) 15. 丘吉尔说: 希特勒“入侵俄国, 只不过是入侵不列颠的前奏……俄国面临的危险就是 we 和美国面临的危险。”他认为英国应该 () **B**

- A. 与德国讲和, 避免被希特勒入侵
B. 与不同制度的国家和人民共同反对法西斯侵略
C. 提醒美国有被德国入侵的危险
D. 与资本主义国家和人民共同反对法西斯侵略

(2010·广西桂林) 6. 建立公正合理的国际政治经济新秩序是世界人民共同的心愿。20世纪至今世界政治格局出现了三次大的演变, 按其形成的先后顺序排列正确的一组是 () **C**

- A. 多极化趋势——凡尔赛华盛顿体系——两极格局
B. 两极格局——凡尔赛华盛顿体系——多极化趋势
C. 凡尔赛华盛顿体系——两极格局——多极化趋势
D. 两极格局——多极化趋势——凡尔赛华盛顿体系

(2010·湖南衡阳) 20. 1933年, 一位著名记者先后游历了苏联、美国、德国和日本, 发出了以下四篇报道。你认为报道错误的是 () **D**

- A. 苏联工业化建设蒸蒸日上 B. 罗斯福在美国推行新政
C. 希特勒出任德国总理, 法西斯上台 D. 日本明治政府开始维新

(2010·福建三明) 20. 以下是某一时期世界政治格局演变的示意图, 它反映的历史阶段是 () **D**



- A. 18世纪60年代到19世纪上半期 B. 19世纪70年代到20世纪初
C. 两次世界大战之间 D. 二战结束后至今

(2010·贵州贵阳) 23. 今天中俄两国在维护地区的和平与稳定中发挥着重要的作用。下列国际组织中, 中俄两国都加入的有 () **B**

- ①联合国 ②亚太经济合作组织 ③欧盟 ④上海合作组织
A. ①②③ B. ①②④ C. ①③④ D. ②③④

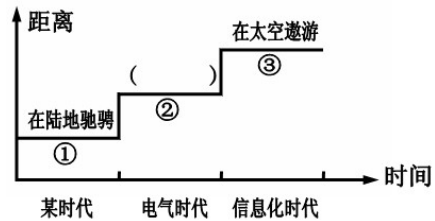
(2010·湖北孝感) 38. 20世纪以来, 国际格局经历了凡尔赛——华盛顿体系、两极格局、多极化趋势的演进。前两次格局与多极化趋势相比, 不同点在于 () **D**

- A. 带有大国强权色彩 B. 合作与对抗并存
C. 大国作用举足轻重 D. 在世界大战后形成

(2010·湖北孝感) 57. 观察右图——向“距离”挑战。

结合所学知识判断, 下列叙述正确的有 () **ABD**

- A. 根据时间轴上提供的信息可以推断出“某时代”指的是蒸汽时代
B. 依据①和②推测③, ②对应括号中的主题比较合适的是“在蓝天飞翔”



- C. 最早在太空遨游的是美国人
D. 在向“距离”挑战的过程中, 科技不断进步, 改变了人类的生活, 改变了世界

(2010·湖南湘潭) 14. 一位著名的记者曾经在1933年分别游历了苏联、美国、中国和德国, 发出了以下四篇报道。你认为不正确的一项是 () **D**

- A. 苏联的工业化建设蒸蒸日上 B. 罗斯福就任美国总统, 实行新政
C. 中国东北三省已沦为日本殖民地 D. 德国进攻波兰, 二战爆发

(2010·内蒙古包头) 15. 历史小组在探究当今世界“和平与发展”这一话题, 你认为正确的说法是 () **B**

- ①欧洲国家的联合成为挑战两极的重要力量
②新科技革命为经济全球化提供物质基础
③东欧剧变, 苏联解体, 两极格局终结, 新的格局已经形成
④科索沃战争是美国对世界多极化的挑战
A. ①②③ B. ①②④ C. ②③④ D. ①②③④

栏内。每小题1分, 共30分。)

(2010·江苏扬州) 25. 下表为《20世纪50—70年代主要资本主义国家经济增长率简表》, 从中不能得到的信息是 () **D**

国家	日本	联邦德国	美国	英国
经济增长率 (%)	9.6	6.7	3.5	2.9

- A. 日本经济持续高速增长
B. 英国在主要资本主义国家中经济增长较慢
C. 联邦德国在欧美主要资本主义国家中经济增长最快
D. 美国丧失了资本主义世界头号经济强国的地位

(2010·湖南永州) 21. 第64届联大2010年1月13日下午召集紧急会议, 对遭受强烈地震

的海地表示声援。联合国秘书长潘基文说，约 3000 名维和军人和警察正在海地协助维持秩序，开展救援。以上材料说明 () D

- A . 和平与发展成为世界主题
- B . 当今世界国与国的矛盾已经消失
- C . 国际政治经济新秩序已经建立
- D . 在今天解决人类面临共同问题时，联合国发挥了巨大作用

(2010·贵州毕节) 22 . 陈朝宇同学将文艺复兴、启蒙运动、新文化运动归纳为一个专题，这个专题的名称可以定为 () A

- A . 思想解放运动的作用
- B . 民族战争的胜利
- C . 政治改革的意义
- D . 民主革命的影响

(2010·辽宁营口) 20 . 下列各项组合正确的是 () C

- ① 但丁与《英雄交响曲》
 - ② 莎士比亚与《哈姆雷特》
 - ③ 牛顿与《物种起源》
 - ④ 伏尔泰与《最后的晚餐》
 - ⑤ 托尔斯泰与《复活》
 - ⑥ 毕加索与《向日葵》
- A . ③⑥
 - B . ①③④
 - C . ②⑤
 - D . ②④⑤

填空题

(2010·山东聊城) 39 . _____战役是美国独立战争的转折点；_____战役是第二次世界大战的转折点。

39 . 萨拉托加；斯大林格勒；

(2010·四川内江) 6 . 从 20 世纪 50 年代中期起，东欧社会主义国家为摆脱苏联模式的束缚，相继进行了改革，其中_____ (国家) 的改革具有一定代表性。

6 . 匈牙利。

(2010·山东青岛) 44 . 政策引领方向，口号体现思想。春秋时期，齐桓公以“_____”为口号，扩充疆界，称霸诸侯。洋务运动时期，洋务派提出“_____”和“_____”口号，发展近代军事、民用工业。1953 年，我国首次提出_____五项原则，在国际上产生了深远影响，逐渐成为处理国与国之间关系的基本准则。1947 年“_____”的出台，标志着美苏之间冷战的开始。

44 . 尊王攘夷；自强；求富；和平共处；杜鲁门主义。

(2010·四川巴中) 42 . 根据下列信息，完成与两次世界大战相关的内容 (4 分)

- (1) 一战中被称为“绞肉机”的战役是_____。
- (2) 二战全面爆发的标志是_____。
- (3) 二战达到最大规模的标志是_____。
- (4) 两次世界大战爆发的根本原因是_____。

42 . (1) 凡尔登战役。(2) 1939 年德军偷袭波兰，英法对德宣战。(3) 珍珠港事件爆发。(4) 帝国主义政治经济发展不平衡的加剧。

(2010·四川攀枝花) 51 . 美利坚合众国的首任总统是_____；印度共和国的首任总理是_____。

51 . 华盛顿；尼赫鲁；

(2010·四川攀枝花) 52 . 马克思主义诞生的标志是_____的发表；冷战结束的标志是_____。

52 . 《共产党宣言》；苏联解体；

(2010·四川攀枝花) 53 . _____年被称为“非洲独立年”；中东问题的关键是_____。

53 . 1960；巴以冲突；

(2010·江苏无锡) 31. 第一次世界大战的导火线是 ▲；第二次世界大战中，国际反法西斯联盟正式建立的标志是《▲》的签署。

31. 萨拉热窝事件；联合国宣言。

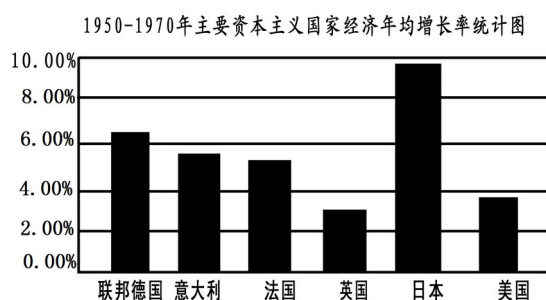
(2010·江苏无锡) 32. ▲是世界无产阶级建立政权的第一次伟大尝试；人类历史上第一次取得胜利的社会主义革命是 ▲。

32. 巴黎公社；十月革命。

改错题

(2010·四川宜宾) 14. 观察下图：

1950~1970年主要资本主义国家经济年均增长统计图



以下结论，能从上图中得出的，请在其括号中划“√”；与上图所表达的意思相反的，请在其括号中划“×”；上图中没有涉及的，请在其括号中划“○”。（4分）

- (1) 1950年~1970年，主要资本主义国家经济发展较快。 ()
- (2) “欧洲共同体”的成立，促进了成员国经济的发展。 ()
- (3) 1950年~1970年。美国经济发展低迷，经济危机深重。 ()
- (4) 主要资本主义国家经济发展不平衡。 ()

14. (1) (√)；(2) (○)；(3) (×)；(4) (√)

(2010·重庆) 16. 阅读下表内容后判断：

国家	时间	经济发展情况	发展原因	发展结果
联邦德国	20世纪50年代到70年代	增长迅速	凭借原有的经济基础；得益于第三次科技革命的兴起；借助美国马歇尔计划的援助；采取各种干预经济生活的措施。	1960年，成为西方世界仅次于美国的第二经济大国。至20世纪70年代，在资本主义世界工业生产中所占比重跃升。
日本	20世纪50年代到80年代	高速发展	实行民主化改革；重视科学技术，注重教育和人才培养；积极开拓国内外市场；美国的大力援助和扶持。	20世纪80年代后期成为世界第二经济大国。

以下表述是从上表信息中得出的，请在括号内划“√”；违背了上表信息所表达的意思，请在括号内划“×”；是上表信息没有涉及的，请在括号内划“○”。

- (1) 从20世纪50年代起，日本、联邦德国开始进入经济高速增长时期。 ()

- (2) 日本、联邦德国经济高速发展都得到了美国的援助。()
 (3) 1955年,日本工业恢复到战前的最高水平。()
 (4) 1960年,联邦德国成为世界头号经济大国。()
 (5) 1967年,联邦德国、法国、意大利等国成立了欧洲共同体。()

16. (1) √; (2) √; (3) ○; (4) ×; (5) ○。

(2010·福建福州) 25. 1993年,西欧国家在联合国的基础上成立了欧洲联盟,简称欧盟。

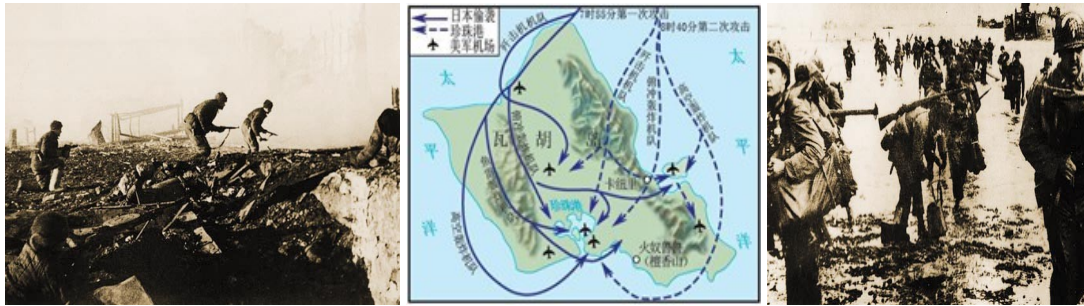
A B

25. 错误: A (联合国); 改正: 欧洲共同体。

(2010·福建龙岩) 25. 1921年苏俄在斯大林的领导下开始实施新经济政策,促进了国民经济的恢复发展。

25. 错误: 斯大林; 改正: 列宁。

(2010·广东广州) 19. 根据战役图片的信息并结合所学知识,判断下列说法是否正确,正确的请划“√”,否则划“×”。(5分)



图一 图二 图三

- (1) 图一所反映的战役首次打破了德军“不可战胜”的神话。
 (2) 图二所反映的事件使二战达到了真正的世界规模。
 (3) 图三反映的是英美盟军开辟欧洲第二战场的军事行动。
 (4) 三幅图片所反映的战役一并构成二战的转折点。
 (5) 三个战役均在世界反法西斯同盟国家相互支援、配合下获得胜利。

19. (1) × (2) √ (3) √ (4) × (5) ×

(2010·福建莆田) 25. 1919年6月,战胜国与德国签署了《九国公约》,规定德国承担发动战争的责任。

25. 不正确。这时与德国签署的条约是《凡尔赛和约》。


(2010·福建三明) 24. 小明同学做的关于“二战”的读书笔记如下:

德军突袭波兰——二战全面爆发 □ 日军偷袭珍珠港——美国参战
 诺曼底登陆——开辟苏德战场 德军投降——欧洲战争结束
 错误 _____ 订正: _____

24. 错误: 开辟苏德战场 订正: 开辟欧洲第二战场;

(2010·江苏盐城) 30. 第三次科技革命与前两次科技革命相比,大大加快了科学技术转化为生产力的速度。30. A

(2010·江苏苏州) 26. 下列图片充分说明了从19世纪中期到20世纪中期的一个世纪里,社会主义成功地经历了从理论到实践再到多国发展的伟大历程。26. A



《共产党宣言》书影 俄国十月革命胜利 毛泽东宣告新中国诞生

(2010·四川攀枝花) 54. 归纳重大历史事件的线索, 有助于我们理清知识脉络。在校明做的笔记中有哪些错误? 请改正。

1938年9月1日, 德军突袭捷克斯洛伐克, 英法被迫对德宣战, 第二次世界大战全面爆发。德军占领了包括法国在内的西欧和北欧许多国家, 又对英国进行狂轰滥炸, 英国首相张伯伦领导英国人民坚决抵抗。1941年6月, 德军突袭苏联, 战争规模扩大。1941年12月7日, 日本偷袭太平洋美军基地中途岛, 重创其太平洋舰队, 第二天美国对日宣战, 二战规模进一步扩大。1942年7月, 德军进攻苏联南方的战略要地列宁格勒, 苏军进行了殊死的抵抗, 扭转了战局。经过世界人民艰苦卓绝的斗争, 意大利、德国先后投降。1945年9月2日, 日本正式签署投降书, 第二次世界大战结束。

错误: _____ (1分) 改正: _____ (1分)

错误: _____ (1分) 改正: _____ (1分)

错误: _____ (1分) 改正: _____ (1分)

错误: _____ (1分) 改正: _____ (1分)

错误: _____ (1分) 改正: _____ (1分)

54. 错误: 1938年; 改正: 1939年; (2分) 错误: 捷克斯洛伐克; 改正: 波兰; (2分) 错误: 张伯伦; 改正: 丘吉尔; (2分) 错误: 中途岛; 改正: 珍珠港; (2分) 错误: 列宁格勒; 改正: 斯大林格勒。(2分)

(2010·福建泉州) 23. 20世纪20~30年代, 苏联人民在列宁领导下, 工业总产值跃居欧洲第一位, 实现了国家工业化。(6分)

错误: _____

理由: _____。

23. 错误: 苏联人民在列宁领导下, 实现了国家工业化。(2分)

理由: 20世纪20~30年代, 苏联实现国家工业化是在斯大林领导下; (2分)

列宁领导时期实施的是新经济政策。(2分)

(2010·湖南湘潭) 27. 斯大林格勒战役是第二次世界大战的转折点。27. ✓;

(2010·湖南湘潭) 28. 印度独立后经济建设取得巨大成就, 1998年国民生产总值居世界第3位。28. ×;

(2010·内蒙古呼和浩特) 20. 国际投资和国际贸易迅速增长, 是世界经济全球化的一个重要表现。() 20. ×。

(2010·江苏无锡) 26. 1929年资本主义世界经济危机首先从美国爆发, 涉及范围广, 持续时间长, 破坏性特别大, “成千上万的老百姓食不果腹, 衣不蔽体, 他们排起长队领救济面包……”1929年的经济危机又引起了政治危机, 导致德、意、日走上了法西斯道路。() B

(2010·江苏无锡) 27. 1933年, 欧盟成立, 它的前身是世界贸易组织, 欧盟已经全部使用统一的货币——欧元, 成员国内部的人员、资本和货物可以自由流通, 欧盟是目前世界上最大的经济体。() B

(2010·江苏无锡) 35. 暑假中, 小梅一家开始了他们的欧洲自由行。第一站, 为了解英国资产阶级革命中颁布的《权利法案》, 来到了英国的历史博物馆, 知道了英国由此确立君

主专制的资产阶级统治；第二站，通过海底之星隧道穿越了英吉利海峡去法国，到马赛重温当年第二次世界大战盟军在此开辟第二战场的恢弘气势；第三站，意大利的罗马，在罗马广场缅怀了罗马的创造者——屋大维，再参观著名的斗兽场，感受古代罗马特有的建筑魅力。

35. 马赛改为诺曼底；屋大维改为罗慕洛。

(2010·福建宁德) 23. 苏联卫国战争和第二次世界大战的转折点是柏林战役。

错误：

改正：

23. 错误：柏林战役。改正：斯大林格勒战役。

(2010·福建宁德) 24. 印巴分治成为中东问题的关键，对中东政局的影响及其深远。

错误：

改正：

24. 错误：印巴分治。改正：巴以（阿以）冲突（问题）。

(2010·湖南株洲) 29. 印象派画家凡·高的名画《和平鸽》洋溢着原始的冲动和热情。×

(2010·湖南株洲) 30. 1990年纳米比亚独立标志着欧洲殖民者奴役非洲几百年的历史结束。

√

列举题

(2010·安徽) 13. 人类社会的经济活动是一个从分散走向整体的过程。

(3) 波音飞机的零部件在全球七十多个国家生产，这说明当今世界经济发展呈现的趋势是_____。(3) 经济全球化（全球化）。

(2010·四川达州) 44. 列举与下列内容相关的国家名称。（3分）

巴士底狱：

法西斯党：

“九一一”事件：

44. 法国；意大利；美国（3分）

(2010·四川达州) 45. 列举下列人物的突出成就。（3分）

爱因斯坦

玻利瓦尔

凡·高

45. 创立了相对论；领导拉美人民赶走了西班牙殖民者，赢得了多个国家的独立；《向日葵》。（3分）

(2010·四川成都) 31. （4分）举出与以下评价相对应的亚洲“四小龙”的名称。

①“惊人的汉江之奇”

②“神奇的港口之国”

③“耀眼的东方之珠”

④“突起的海岛之星”

31. ①韩国；②“新加坡”；③香港；④台湾。（4分）

(2010·四川南充) 22. 请按要求写出相关组织的名称：

① 根据凡尔赛和约规定成立的国际组织：

② 雅尔塔会议决定成立的国际组织：

③ 当今世界上最大的经济体：

④1995年1月1日成立的国际贸易组织：

22. ①国际联盟；②联合国；③欧洲联盟；④世界贸易组织。

(2010·辽宁营口) 22. 一战结束后签订了一系列条约，根据相关信息写出条约名称。(2分)

(1) 制裁德国的条约：

(2) 打破日本独霸中国局面的条约：

22. (1) 《凡尔赛和约》(1分)；(2) 《九国公约》(1分)

(2010·辽宁营口) 23. 列举冷战开始和结束的标志。(2分)

23. 开始——杜鲁门主义的出台(1分)；结束——苏联解体。(1分)

读图简答题

(2010·重庆) 18. 请将下列国家的英文字母代号填入图中相应的方框内。(2分)



1929—1933年经济危机示意图

A. 1929年经济危机首先爆发的国家 B. 第二次世界大战的欧洲策源地(国家)

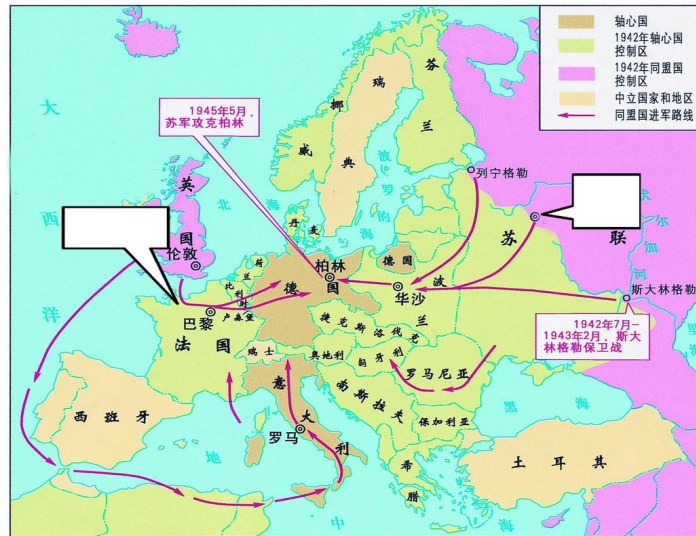
18. 左框：A；右框：B。

(2010·重庆綦江) 18. 观察下图，请将下列事件发生地点的英文字母代号填入图中相应方框内。(2分)

A. 粉碎德军“不可战胜”神话的战役地点：莫斯科

B. 开辟打击德国法西斯第二战场的登陆地点：诺曼底

第二次世界大战中后期的欧洲形势



18. 从左到右中的方框内分别为 B、A；（2分）

(2010·山东滨州) 29. 大国间的会议对世界局势往往产生重大影响。读图，回答下列问题。



图一 签署《凡尔赛和约》 图二 华盛顿会议 图三 参加慕尼黑会议的 图四 斯大林、罗斯福、张伯伦、达拉第、希特勒 丘吉尔在雅尔塔会议上和墨索里尼（左起）

- (1) 图一是哪次国际会议？这次会议和图二所示会议对世界局势产生了什么影响？
- (2) 图三所示慕尼黑会议反映出英法对德、意法西斯侵略扩张问题上作何态度？
- (3) 图四所示会议发生在哪次战争中？会议通过了哪些重大决议？据些可知，战后主导国际关系新格局的是哪两个国家？

29. (1) 巴黎和会 (2分) 列强建立起“凡尔赛—华盛顿体系” (2分)。(2) 绥靖政策 (或妥协退让, 1分)。(3) 第二次世界大战 (1分)。分区占领德国 (1分)；战后成立联合国 (1分)；苏联在结束欧战的三个月内参加对日作战 (1分)。美国和苏联 (1分, 只回答一个国家不给分)。

(2010·山西) 17. 根据图片提示信息，回答问题。（6分）



图一 《联合国宣言》签署仪式



图二 周恩来在万隆会议上发言



图三 上海 APEC 会议领导人



图四 欧洲联盟

请回答：

- (1) 分别说出四幅图片历史事件的重要作用。(4分)
- (2) 这些历史事件共同反映了怎样的主题?(2分)

17. (1) 《联合国宣言》的签署,标志着世界反法西斯同盟的形成,成为反法西斯战争胜利的保证。(1分) 万隆会议提出“求同存异”的原则,加强了中国与亚非各国的团结与合作。(1分) 上海 APEC 会议为促进亚太地区的交流与合作做出贡献。(1分) 欧盟的成立,对成员国经济发展和国际地位的提高发挥重要作用,促进了欧洲一体化进程。(1分)

- (2) 各国应加强交流与合作。(1分) 促进团结,共同发展。(1分)

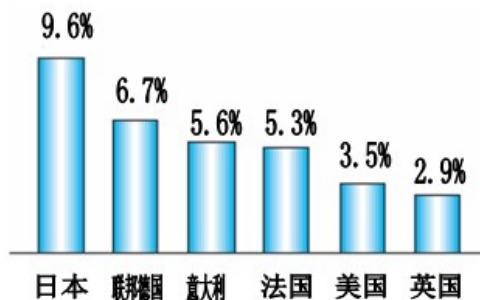
(2010·河南) 25. (6分) 观察图表,回答下列问题。



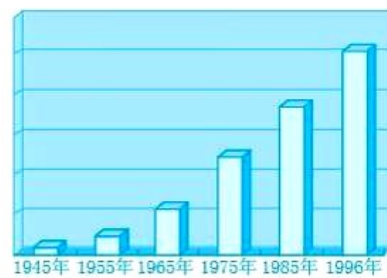
图一 遣唐使船



图二 1871年日本赴欧美参观团出港



图三 20世纪50~70年代主要资本主义国家经济增长率柱状图



图四 日本国民生产总值增长示意图

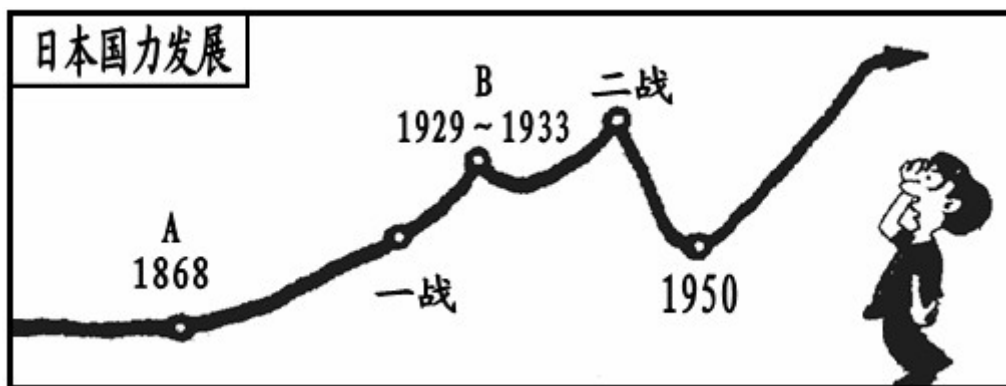
请回答：

- (1) 遣唐使对日本社会的发展产生了什么影响?(1分)
- (2) 1871年日本使团赴欧美参观的主要目的是什么?(1分)
- (3) 依据图三、图四,概括二战后日本经济发展的特点,并分析其原因。(3分)
- (4) 上述材料反映出日本民族的哪一突出特点?(1分)

25. (6分) (1) 推动日本实行了大化改新,促进了日本历史的进步。(答出仿照唐朝进行了政治、经济、文化的改革,促使日本向封建社会转变也可,1分) (2) 考察了解欧美各国先进的制度和科学技术,寻求富国强兵之路。(答出学习西方先进的政治制度、思想文化和科学技术,探求富国强兵之路也可,1分) (3) 经济持续、高速增长。(1分) 第

三次科技革命的推动；战后民主改革；大力发展科技教育‘美国的扶持；制订符合国情的经济政策。（答出两条即可，2分）（4）日本民族具有善于学习和吸纳外来文化的特点。（意思相近即可，1分）

(2010·吉林长春) 19. 观察下面手绘简图：



请回答：

- (1) 该国在 A 处进行了哪次重要改革?使其社会性质发生了怎样的转变? (2分)
- (2) 一战后，它在 1921 年参加了为解决东亚、太平洋地区矛盾而召开的国际会议，并起到主要作用。请写出这次会议的名称。(1分)
- (3) 该图在 B 处也曾深受经济危机困扰，它是如何应对的? (1分)
- (4) 请写出 20 世纪 50 年代后，其国力迅速增长的原因。(两点即可，2分)

19. (1) 明治维新；走上了发展资本主义的道路 (2分)；(2) 华盛顿会议 (1分)；(3) 建立了法西斯专政，走上了对外侵略的道路 (意思贴近即可) (1分)；(4) 美国的扶持，日本引进最新的科学技术成就。(其它答案正确也可) (两点即可，2分)

(2010·辽宁沈阳) 17. 19 世纪，科学的突破、技术的创新、新发明的涌现，使世界历史进入一个全新的、前所未有的大变革时代。



- (1) 根据图片内容推断是哪次工业革命? (1分)
- (2) 请你写出推断的理由。(以信息点的形式呈现，写出两点即可，2分)
信息点一：_____信息点二：_____
- (3) 根据图片内容写出美国人的三项发明。(3分)

17. (1) 第二次工业革命；(2) 发明国家、发明成果、发明家、发明时间；(3) 电灯泡、飞机、有线电报、电话机。

(2010·广东梅州) 15. (2分) 第二次世界大战的太平洋战场



图A



图B

(1) 图 A 战役发生在 1942 年 12 月 7 日，那天日本偷袭美国在太平洋的海军基地_____，太平洋战争爆发，大战达到最大规模。

(2) 图 B 的战役发生在 1942 年 6 月，美军在_____海战中取得重大胜利，太平洋战场出现重大转折。

15. (1)珍珠港 (1分) ; (2) 中途岛 (1分) 。


(2010·辽宁营口) 24. 阅读下面三幅图，结合所学知识回答问题：



图一 火车机车



图二 灯泡



图三 “多莉”羊

(1) 图一火车机车的发明者是谁？它以什么作动力？(2分)

(2) 图二灯泡的发明反映了人类社会进入什么时代？同一时期该国人发明的交通工具是什么？(2分)

(3) 图三“多莉”羊是第三次科技革命成果，这次科技革命的核心是什么？(1分)

(4) 结合三幅图谈谈你对科技进步的认识。(1分)

24. (1) 斯蒂芬孙 (1分) ; 蒸汽。(1分) (2) 电气时代 (1分) ; 汽车 (1分) ;

(3) 电子计算机及网络技术 (1分) ; (4) 科技是第一生产力 (1分)

材料分析题

(2010·安徽) 16. 握手是一种礼节，握手是一种问候，握手是一种友谊，但在有些场合的握手却能改变国家和人类的命运。

【跨越太平洋的握手】

材料一 尼克松总统在回忆自己首次访华在机场与周总理见面的情景时说：“当我们的手握在一起时，一个时代结束了，另一个时代开始。”

——摘编自《尼克松回忆录》

(1) “另一个时代开始了”的含义是什么？当今影响中美关系发展的核心问题是什么？(4分)



尼克松访华

【尝试和解的握手】

材料二 自二战后至今，中东地区屡燃战火、动荡不定，历史、宗教、种族等因素，使这一地区的矛盾错综复杂，而印巴冲突更是成为中东问题的关键。20世纪90年代



阿拉法特与拉宾的握手

初，中东和平出现转机，以色列和巴勒斯坦第一次共同坐到了谈判桌前，这是一次温暖的握手，它迈开了中东和平进程的重要一步。

(2) 材料二中有一处严重的知识错误，请你找出并改正。(2分)

错误：_____ 改正：_____

(3) 这次“尝试和解的握手”所带来的积极效果是什么？(2分)

【面向新世纪的握手】

材料三 2000年9月联合国安理会5个常任理事国首脑举行会晤，在人类社会跨入新世纪门槛之际，五大国首脑的握手有着非凡的意义。



安理会五个常任理事国首脑会晤

(4) 当今世界的两大主题是什么？围绕两大主题，谈谈你对“五大国首脑握手”的看法。(4分)

16. (1) 中美关系开始走向正常化(对抗走向缓和)

(2分)(答中美建交得1分)；台湾问题(2分)；

(2) 印巴冲突(1分)；巴以冲突(1分)；(3) 迈

开了中东和平进程的重要一步(巴以关系走向缓和)(2分)；(4) 和平与发展(2分)；大国合作有利于世界和平与发展；要发挥联合国的积极作用；世界格局呈现多极化趋势；中国为代表的和平力量的发展有助于世界和平等。(任答1点2分，其他言之有理亦可)(2分)

(2010·安徽芜湖) 14. 20世纪七八十年代，中苏两国都进行了改革，然而改革的结果却不同。阅读下列材料回答问题。

材料一 戈尔巴乔夫上台后，大声疾呼要对国家进行根本性变革和改造，1986年苏共二十七大通过了经济改革纲领，会后又颁布了一系列关于经济体制改革的法令。由于经济改革阻力太大，成效低下，戈尔巴乔夫又仓促转向政治体制改革。1990年3月，修改宪法，取消苏共的法定领导地位，实行总统制和多党制。在“政治多元化”和“公开化”的口号下，无政府主义状态在全国迅速蔓延，罢工浪潮此起彼伏，反对党纷纷成立，民族分离、国家分裂势力迅速抬头。

——摘编自华东师大版和人教版《世界历史》九年级下册

(1) 从材料可以看出，20世纪八十年代苏联改革的结果怎样？(3分)

(2) 导致苏联改革出现上述结果的客观历史因素是_____。(2分，填字母代号)

A. “八一九”事件

B. 戈尔巴乔夫的“新思维”

C. 斯大林模式的弊端

D. 急于求成的激进改革措施

材料二 十一届三中全会后，在邓小平建设有中国特色社会主义理论的指导下，中国的改革开放取得了巨大成就。在世界风云急剧变幻的情况下，中国的社会主义制度经受住了严峻的考验。

——摘编自华东师大版和人教版《中国历史》八年级下册

(3) 对比材料一、材料二，分析中国的改革取得巨大成功的原因有哪些？(4分)

14. (1) 改革激化了苏联社会的各种矛盾，引发了社会的动荡和分裂，导致了苏联的解体和苏共的垮台。(3分，若只答“苏联解体”，给2分) (2) C；(2分) (3) ①坚持以经济建设为中心，大力发展生产力；②坚持共产党的领导和社会主义方向，坚持马克思主义指导地位不动摇；③重视国内的民族问题，正确处理民族关系；④抵制西方鼓吹的某些思想和价值观。(4分，每点1分。答出其他符合题意可酌情给分)

(2010·安徽芜湖) 15. 上海世博会是举办，牵动着亿万人的心，也引发了对科技的关注。

阅读下列材料回答问题。

材料一 1851年5月，在英国伦敦一座晶莹剔透的水晶宫内，以工业革命伟大成果为内容

的第一届世界博览会隆重开幕了。1.7万参展者带来了大约100万件展品，在160天的展期内，迎来了世界各地多达630万人次的参观者，这次展览会云集了工业革命时代最先进的工业成果，水力印刷机、纺织机械等在展览会上大放异彩。

——摘编自人教版《世界历史》九年级上册

(1) 1851年英国举办首届世博会的前提条件是_____。(2分，填字母代号)

- ① 英国较早进行了资产阶级革命，确立了资产阶级统治
- ② 英国最早完成了工业革命，成为欧洲头号强国
- ③ 有1.7万人参展，有大约100万件展品，是人类历史上从没有过的盛大体验
- ④ 《共产党宣言》发表，起到较大的指导作用
- ⑤ “日不落帝国”的巨大号召力

A. ①②③ B. ①②④ C. ①②⑤ D. ②④⑤

(2) 假如策划第二次工业革命成就展，以下展品中应该入选的是_____。(2分，填字母代号)

- ① 蒸汽机 ② 发电机 ③ 耐用电灯泡 ④ 内燃机 ⑤ 火车 ⑥ 轮船 ⑦ 汽车 ⑧ 飞机

A. ①②③⑤⑥ B. ②③④⑦⑧ C. ②③④⑤⑥ D. ④⑤⑥⑦⑧

(3) 与前两次科技革命相比，第三次科技革命最大的特点是_____。(2分，填字母代号)

- A. 推动了社会生产力的空前发展 B. 加强了世界各地的经济联系
- C. 引起了国际经济格局的变化 D. 加快了科学技术转化为生产力的速度

材料二 2010年上海世博会是迄今为止全球最大规模的世博会，它对促进世界和平与和谐有着广泛的影响和独特的作用。当数千万中国人以无比欣喜的心情迈进上海世博园大门时，便真真切切地触摸到人类文明的脉搏，按照7000万的参观者计算，世博会的成功举办对于上海经济直接拉动效益可观。加上全球正处在摆脱金融危机的关键一年，这样的盛会就更加引人注目。但在世博会展示的场馆中，中国企业所表现出的创新活力不足，这是必须要正视的现实。

——摘编自中国青年报《上海世博会，中国人感知什么》等

(4) 结合材料二分析举办上海世博会的意义。(3分)从材料二中你还能得到什么感悟？(2分)

15. (1) C；(2分) (2) B；(2分) (3) D；(2分) (4) 意义：上海世博会是展示和传播人类文明新成果的平台；展示我国改革开放以来的巨大成就和文明进步的形象；对促进世界经济复苏，也将发挥积极作用。(3分，答出其中3点即可) 感悟：但也要看到我国同世界先进水平的差距，应该大力发展科技和教育，增强民族创新能力。(2分，答出其他符合题意的答案也可酌情给分)

(2010·浙江绍兴) 25. (15分) 一切始于世博会。阅读材料，回答问题。

(1) 世博会是科技成果的收藏者和展示者。请你为下列科技成果与最早展示它的世博会连线。(3分)

- ① 蒸汽机 A. 1851年伦敦世博会
- ② 飞机 B. 1873年维也纳世博会
- ③ 电动机 C. 1904年圣路易斯世博会

(2) 世博会是文明演进的承载者和推动者。世博会直面人类社会发展的矛盾与困境，它不断变化的主题传递着人类文明发展的新理念。下表中世博会的不同主题共同反映出哪一发展理念？为什么这一理念备受世人关注？(8分)

近30年来部分世博会主题一览表

年份	举办地	主题
1982年	美国诺克斯维尔	能源——世界的原动力

1984年	美国新奥尔良	河流的世界——水乃生命之源
1985年	日本筑波	居住与环境——人类居家科技
1990年	日本大阪	人类与自然
1999年	中国云南	人与自然——迈向21世纪
2005年	日本爱知县	超越自然——大自然的智慧再发现
2010年	中国上海	城市，让生活更美好

(3) 播种希望，开启未来是上海世博会承担的使命。请结合所学知识，分析相关链接中的城市生活案例是如何向世人展示城市能让生活风美好的。(4分)

【相关链接】丹麦欧登塞赛倡导将骑自行车作为一种娱乐修闲的方式，推行骑自行车取代汽车的公共计划；西班牙马德里致力“公共廉租屋的创新实验”，为穷人建造好房子，让每一个人都感到城市的舒适和宜居；日本展馆面对老龄化社会，展示了能承担看护、医疗和家政援助具有高难度控制技术的伙伴机器人；德国展馆展示了只有参观者齐声鼓掌或呼喊才能在空中轻易摇摆的重达1.5吨的金属球……

25. (15分) (1) ①——A；②——C；③——B。(2) 人与自然和谐相处的理念(可持续发展理念)。自然资源是人类安身立命的基本条件，自然环境是人类赖以生存和发展的物质基础，20世纪60年代以来出现的一系列人口、资源、环境问题已严重制约人类的生活、生存和发展，使人们认识到必须寻求一条人口、资源与环境相互协调的可持续发展道路，维护好人类生存和发展必需的资源和环境基础。(3) 倡导低碳生活方式；崇尚公平和正义；发挥科技对生活的作用；重视人与人之间的团结合作。

(2010·重庆) 20. 阅读下列材料：

2010年5月9日，俄罗斯隆重举行纪念反法西斯侵略取得胜利65周年庆典。国家主席胡锦涛和20多个国家和国际组织领导人出席了庆典，以下是人民日报的有关报道：

感天动地的世界反法西斯战争，把全世界正义的力量团结在一起。从血火搏杀的欧洲战场，到逐岛争夺的太平洋战场；从同仇敌忾的亚洲战场，到大漠硝烟的非洲战场……世界各国人民为捍卫和平，奋起反击法西斯侵略……

……在第二次世界大战的欧洲主战场上，苏联军民前赴后继、浴血奋战，付出了巨大的牺牲，捍卫了国家的主权和尊严，为世界反法西斯战争的胜利建立了不可磨灭的历史功勋……在第二次世界大战的亚洲太平洋主战场上，中国军民……牵制并消灭了日本侵略者的大批兵力……同时也以巨大的民族牺牲有力地支持了世界各国的反法西斯斗争，为世界反法西斯战争的胜利做出了不可磨灭的重大贡献。

请回答：

- (1) 以上材料如何评价中苏两国军民在第二次世界大战中的贡献？(3分)
- (2) 结合所学知识，分别各举一例中、苏人民英勇抗击法西斯侵略的战役。(2分)
- (3) 你认为重温第二次世界大战的历史有何现实意义？(1分)

20. (1) 苏联军民付出巨大牺牲，捍卫了国家的主权和尊严；中国军民牵制并消灭了日本侵略者的大批兵力，付出了巨大的民族牺牲，有力地支持了世界各国的反法西斯斗争；中苏两国军民都为世界反法西斯战争的胜利做出了重大贡献。(3分) (2) 中国：台儿庄战役、百团大战等。(1分，任举一例即可。其它符合题意的答案可同等给分，但总分不超过1分) 苏联：莫斯科保卫战、斯大林格勒保卫战、攻克柏林战役等。(1分，任举一例即可。其它符合题意的答案可同等给分，但总分不超过1分) (3) 铭记历史教训，加强国际协作，维护世界和平。(1分，其它符合题意的答案可同等给分，但总分不超过1分)

(2010·江苏南京) 33. (12分) 阅读下列材料

材料一 “这位先生作为军官……将比联邦中的任何其他人士更能博得全美国的支持，更能联合东部十三州的真诚努力。” ——大陆会议上关于大陆军总司令人选的提议

材料二 这位身材不高，有着钢铁般意志和敏锐头脑的思想巨人，正在创造着人类历史上的奇迹：……他建立了第一个社会主义国家，独自与整个资本主义世界相抗衡，并成功地粉碎了他们的一切武装干涉……

——《世界上下五千年》

材料三 “首先请允许我表明看书坚定的信念，即我们惟一所恐惧的就是恐惧本身——一种无名的、缺乏理性的、没有根据的恐惧，它会把由退却转变为前进所需要的种种努力毁掉。”

——1933年3月4日美国第32届总统就职演说

材料四 （他）号召人民抗击法西斯，说“红军、海军和苏联全体公民必须保卫每一卫苏维埃土地，战斗到最后的一滴血，来保卫城镇和村庄。”

——《世界历史》九年级下册（人民教育出版社）

结合所学知识，请回答：

（1）材料一中的“这位先生”应是谁？（1分）他领导了哪一场战争？（1分）战争胜利后，他主持制定了哪部宪法？（1分）

（2）材料二中的“他”是谁？（1分）他领导的哪一次革命建立了“第一个社会主义国家”？（1分）这场革命的性质是什么？（1分）

（3）材料三中的“总统”是谁？（1分）为战胜“恐惧”，这位总统实施了什么政策？（1分）

（4）材料四中的号召人应是谁？（1分）这位号召人通过哪一种建设模式使苏联成为工业强国？（1分）1945年2月，他和材料三中的“总统”共同参加了二战中的哪一国际会议？（1分）

（5）根据以上四位人物的活动，概括他们对历史发展的共同作用。（1分）

33. (12分) (1) 华盛顿 (1分)；美国独立战争 (1分)；1787年宪法 (1分)；(2) 列宁 (1分)；俄国十月革命 (1分)；社会主义革命 (1分)；(3) 罗斯福 (1分)；新政 (国家干预经济) (1分)；(4) 斯大林 (1分)；斯大林模式 (高度集中的经济政治体制) (1分)；雅尔塔会议 (1分)；(5) 他们都推动了世界历史发展的进程 (其它答案言之有理变亦可得分) (1分)。

(2010·四川内江) 9. 阅读下列图片及材料，回答问题：

材料一 见右图：操纵巴黎和会的“三巨头”，前排从左至右分别为克列孟梭、威尔逊、劳合·乔治。



材料二 协约国联军总司令福煦：这不是和平，不过是20年的休战。

请回答：

（1）材料一中的“三巨头”代表哪三个国家？（3分）

（2）他们聚在一起开会讨论的中心问题是什么？就这一问题最终签订了什么条约？（2分）

（3）这次会议最终形成了什么样的世界新秩序？（1分）

（4）材料二中，福煦的说法对吗？请简要说明理由。（2分）

9. (1) 法、美、英 (各1分, 共3分) (2) 处置战败后的德国 (1分)；《凡尔赛和约》或《对德和约》 (1分)；(3) “凡尔赛体系”，或建立起一战后帝国主义在欧洲、西亚和非洲的新秩序。(1分) (4) 对。(1分) 因为20年后的1939年又爆发了第二次世界大战。(1分)

(2010·河北) 32. 阅读材料，回答问题。

材料一 以俄共为主的左翼政治派别仍然把列宁视为自己的领袖和精神象征。他们认为，列宁领导建立的社会主义国家使劳动人民当家作了主人，是列宁把俄国从战争中拯救出来，

列宁倡导人民政权，反对人剥削人的制度，这些对于今天和未来的俄罗斯来说仍然具有现实意义。俄罗斯右翼政治派别则对列宁、布尔什维克和苏联社会主义制度持极端仇视态度。材料二 俄罗斯绝大多数学者仍然认为，列宁和“十月革命”不仅改变了俄国，也改变了世界，改变了资本主义本身。人们应该以历史的态度来对待历史。少数右翼学者认为，苏联历史中一切阴间的东西都源于列宁，苏联的制度从一开始就错了。

材料三 在普遍百姓心目中，列宁是穷苦人的救星，是公正的象征。在社会分配严重两极分化的今天，普遍百姓更加怀念社会主义时代的福利。

请回答：

- (1) 材料一、二、三分别是俄罗斯哪三个群体对列宁的评价？
- (2) 据材料和所学知识，指出他们作出评价的相同背景。
- (3) 在上述背景下，我们仍然认为列宁是伟大的无产阶级革命家、社会主义建设道路的开拓者。请用所学的中外史实加以说明。

32. (1) 政治派别(或政党)、学者、普通百姓。(2) 苏联解体；俄罗斯现状(或俄罗斯经济不景气，国际地位下降) (3) 革命家：列宁领导十月革命，建立了世界上第一个社会主义国家；十月革命使马克思主义在中国传播，为中国革命指出了新的道路。开拓者：列宁实施新经济政策，探索了建设社会主义的道路等。

(2010·江苏苏州) 31. 现代化建设始终与建设的目标和建设的手段密切相关。阅读下列材料：

材料一 在党的七大、七届二中全会和《中国人民政治协商会议共同纲领》上，都把建设新中国的战略目标确定为由农业国变为工业国，实现国家工业化……1953年，中共提出了中国现代化的蓝图——逐步实现国家的社会主义工业化的总路线。……1959年12月24日，周恩来提出：“需要加快建设我们的国家，使我们国家更快地成为具有现代工业，现代农业，现代科学技术和现代国防的社会主义强国。”在1964年三届人大一次会议上，周恩来概括毛泽东的提议，在《政府工作报告》中宣布：“整个国民经济将进入一个新的发展时期，要努力把中国建设成为一个具有现代工业，现代农业，现代科学技术的现代化强国。”

——《现代化知识干部读本》

材料二 1987年党的十三大对社会主义现代化内涵作了全新发展，即不仅要实现农业、工业、国防和科学技术现代化，而且要在社会主义初级阶段，在坚持党的基本路线的基础上建设成为富强、民主、文明的社会主义现代化国家。

——《关于中国现代化道路的历史思考》

材料三 20世纪在世界现代化发展道路上有着三次重要的改革调整机遇：一次是在20年代初的俄国，一次是在30年代的美国，还有一次是在70年代末期以来的中国。

——《走向21世纪的中国和世界》

请回答：

- (1) 根据材料一、二，20世纪下半叶我国对现代化目标的确定有过哪些变化?(2分)
- (2) 与我国现代化目标的变化相对应的经济体制的重大变化是什么?(1分)
- (3) 根据材料三并结合所学知识，分别指出俄、美两国在现代化发展道路上的重要改革调整是什么?(2分)
- (4) 综合上述材料，指出我国现代化建设面对的主题是什么?(1分)

31. (1) 20世纪50年代确定的目标是工业化；50年代末到60年代发展为“四化”(即工业、农业、科技和国防的现代化)；80年代后期(党的十三大)确定为“四化”以及社会、政治的现代化，即“富强、民主、文明的社会主义现代化”。(2) 由高度集中的计划经济向市场经济转变。(3) 俄国新经济政策；美国罗斯福新政。(4) 现代化建设的目标和手段。

(2010·山东威海) 31. 阅读下列材料：

材料一：秦汉帝国实行中央集权制，建立起一套官僚机构，负责管理行政、军事、财政、司法、监察各方面的工作。地方上也设立各级行政机构，由中央委派有俸禄的官员主持。这一套官僚系统在当时世界上是最先进、最有效的系统。

——马克壺主编《世界文明史》

材料二



材料三



请回答：

(1) 根据材料一并结合所学知识指出，秦朝为加强中央集权在中央设立了哪些官职？在地方上推行了什么制度？汉武帝为加强中央集权在政治上采取了怎样的措施？(3分)

(2) 根据材料二指出，该法案颁布的目的、主要内容是什么？(3分)

(3) 材料三“列宁同志清扫地球(漫画)”的含义是什么？列宁领导的十月革命的性质是什么？(2分)

31. (1) 丞相、太尉、御史大夫(各0.5分)；郡县制(0.5分)；允许诸王将自己的封地分给子弟，建立较小的侯国(或推恩令)。(1分) (2) 为了限制国王的权利(1分)。以法律形式对国王的权力进行了明确的制约，规定不经议会的批准，国王不能征税，也不能在和平时期维持常备军；国王既不能随意废除法律，也不能停止法律的执行。(2分) (3) 是指列宁领导的新生苏维埃政权推翻了沙皇和资产阶级临时政府的反动统治，粉碎了外国的武装干涉和国内的反革命叛乱，在世界上建立了崭新的社会主义国家，沉重打击了国际帝国主义势力，推动了国际社会主义运动的发展。(只要言之有理，即可得1分)社会主义革命。(1分)

(2010·山东临沂) 36. 阅读下列材料，结合所学知识，回答问题 (10分)

材料一 北京时间2008年11月5日，巴拉克·奥巴马以压倒性优势获胜，当选美国首位黑人总统，扫除了有史以来的种族屏障。

——新华网纽约11月4日电

(1) 美国历史上因黑人奴隶制存废问题最终引发了哪一场战争？(2分) 在这场战争中颁布的哪一部法令文件废除了美国的黑人奴隶制度？(2分)

材料二 二十国集团伦敦金融峰会于2009年4月2日落下帷幕，与会领导人就国际货币基金组织(IMF)增资和加强金融监管等便于携手应对金融危机议题达成多项共识。

——《半月谈》2009年19期

(2) 依据材料二指出二十国集团伦敦金融峰会的主要议题是什么？(2分) 该材料反映出二十国集团处理这一议题的方式是什么？(2分)

(3) 回顾历史，20世纪30年代，国际社会面临着哪一侵略势力的威胁？(1分) 面对这种威胁，英法等国希望以牺牲弱小国家的利益来安抚侵略者，采取的是什么政策？(1分)

36. (1) 战争：美国南北战争(或美国内战)；(2分) 法令：《解放黑人奴隶宣言》(2分) (2) 议题：应对便于金融危机。(2分) 方式：携手应对(携手合作或和平协商等)。(2分) (3) 威胁：德日意法西斯。(1分) 政策：绥靖政策。(1分)

(2010·山东青岛) 49. 阅读下列材料：(6分)

材料一 八大的路线是正确的。但是……没有能够在实践中坚持下去。八大以后，我们取得了社会主义建设的许多成就，同时也遭到了严重挫折。

材料二 罗斯福新政是在资本主义工业社会全面来临的时代，在传统的自由放任政策再也无法适应生产力巨大发展的时候开辟的一条新的发展道路。

材料三 东欧各国大都照搬苏联的经济管理模式，片面发展重工业，忽视农业和轻工业，造成农、轻、重工业的严重失调。这使得素有“欧洲粮仓”之称的大多数东欧国家，出现了食品短缺、消费品长期供不应求的现象。20世纪八、九十年代苏联、东欧等一些社会主义国家进行了改革，但最终失败，最终导致东欧剧变和苏联解体。

请回答：

(1) 材料一中提到我国社会主义建设遭到“严重挫折”，这主要是因为党中央错误地发动了哪两场运动？(2分)

(2) 结合材料二，指出罗斯福新政的特点及其影响。(2分)

(3) 材料三中“苏联的经济管理模式”是什么？(1分)

(4) 从两种不同意识形态国家的改革中，你能得到什么启示？(1分)

49. (1) 运动：大跃进和人民公社化运动。(2分) (2) 特点：国家全面加强对经济的干预。(1分) 影响：美国经济缓慢恢复，人民生活得到改善；资本主义制度得到调整、巩固与发展；资本主义国家对经济的宏观控制与管理得到加强；美国联邦政府的权力明显增强。(1分，答出任意一点即可) (3) 模式：斯大林模式(或高度集中的政治经济体制)。(1分) (4) 启示：经济建设不是一帆风顺的；经济建设一定要从本国的国情出发；勇于探索和创新；不同社会制度的国家在经济建设方面可以相互借鉴；盲目照搬他国的改革模式，忽视本国的国情，注定是要失败的等等。(1分，答出一点，且言之有理即可)

(2010·山东东营) 29. (12分) 世界近代史现代史上，国际关系不断变化，调整，影响着世界格局的发展、演变。阅读材料，结合所学知识回答问题。

材料一 第一次世界大战后，战胜的协约国集体通过两次国际会议及其多签订的一系列条约，暂时确立了帝国主义统治世界的“新秩序”。

(1) 材料一中的“新秩序”指的是什么？(2分) 你如何认识这一“新秩序”？(2分)

材料二



图1 1947年杜鲁门在国会发表咨文



图2 北约和华约对峙图

(2) 在历史研究课上，某同学搜集到以上图片，请你判断他研究的主题应该是什么？(2分) 请任选其中一幅图片，对所反映的历史事实作一简要说明。(2分)

材料三 当今世界，除美国之外，欧盟、日本、俄罗斯、中国等多种政治力量不断发展壮大，他们在国际事务中发挥着越来越大的作用。

(3) 材料三反映了世界格局呈现出怎样的发展趋势？(2分) 这种趋势，对世界历史发展

有何积极影响？（2分）

29. (1) 凡尔赛——华盛顿体系。（2分）凡尔赛——华盛顿体系不可能消除帝国主义国家之间的矛盾，因此不可能长期维持下去。（2分）（2）主题：“冷战”（美苏冷战、对峙）或两极格局。（2分）说明：图1：杜鲁门主义出台，标志着美苏冷战的开始。图2：华沙条约组织的成立，两极格局形成。（2分）（3）多极化趋势。（2分）有利于抑制和消弱霸权主义和强权政治，有利于世界的和平与发展。（2分）（只要言之有理即可得分。）

（2010·福建龙岩）28. 世博会是展示工业文明成果的平台，是文明交流的场所，是各国人民友好交往的园地。

阅读下列材料，回答问题。

材料一 进入18世纪后，欧洲工业革命的浪潮以不可阻挡的势头迅速推进。19世纪的世博会以极大热情歌颂了工业革命的伟大成果，展示工业成果、推广各种工农业机械便成为历史赋予世博会的使命。

材料二 从1851年举办第一届展览会以来，世博会因其发展迅速而享有“经济、科技、文化领域内的奥林匹克盛会”的美誉。

请回答：

（1）材料一中欧洲工业革命的浪潮开始的标志是什么？（2分）

（2）材料二中，如果要选择第一届展览会举办国，你认为选西欧的哪个国家最恰当？为什么？（4分）

（3）东方出版中心为宣传世博，准备出版《世博与科技》。根据所学知识，请你按照下列表格的目录要求，提供一些相应的素材。（6分）

《世博与科技》部分		
目录		代表成就（举1例）
第一章	与工业化	如：火车机车的发明
第三章	与电的应用	A
第五章	与交通科技	B
第六章	与航天技术	C

A、_____ B、_____ C、_____

28. (1) “珍妮纺纱机”的发明。（2分）（2）英国；（2分）因为它在19世纪上半期率先完成了工业革命；或回答英国首先进行工业革命亦可。（2分）（3）A、电灯、电话及留声机等电力的发明均可。（2分）B、内燃机、汽车及飞机的发明均可。（2分）C、火箭、人造卫星的发明。（2分）

（2010·山东潍坊）24. （14分）历史上的欧洲，曾遭受数次战争的蹂躏。战争带来了灾难，引起了人们深思。阅读材料，回答问题。

材料一 千余年来，欧洲大陆纷争不已……1870年到1945年主要发生在法德之间的几场大战导致了欧洲的分裂。

（1）材料一中“导致了欧洲分裂”的大战主要有哪些？（4分）

材料二 每一政府保证对各政府作战的轴心国成员及其仆从者使用其全部资源，不论军事的或经济的。每一政府保证与本宣言签字国政府合作，不与敌人缔结单独停战协定或和约。

——《联合国宣言》

（2）概括材料二的主要内容。《宣言》的发表有什么重大意义？（4分）

材料三 2003年3月10日，一位哈佛大学教授发表文章指出：“……法德两国共同推动的

欧洲联合，一直到现在对整个欧洲都有强大的吸引力。”

(3) 材料三中的“欧洲联合”指什么？有哪些积极作用？(4分)

(4) 综合上述内容，你得到了什么认识？(2分)

24. (14分) (1) 普法战争；第一次世界大战；第二次世界大战；(答对两项即可得4分) (2) 内容：签字国保证用自己的全部力量反对法西斯，不单独与敌人讲和。(2分) 意义：标志着世界反法西斯同盟最终形成。(2分) (3) 欧洲一体化进程(2分)。作用：促进了发展，维护了和平。(2分) (4) 认识：战争、对抗必然两败俱伤；和平、合作才能共同发展。(本题为开放性问题，只要言之有理即可得2分)

(2010·湖南岳阳) 36. 阅读下列材料：

材料一 16世纪初，世界上原来互相隔绝的地区沟通起来。欧洲和亚洲、非洲、美洲之间的贸易日益发展世界市场扩大了。美洲的特产玉米、马铃薯等迅速传到亚、非、欧。非洲的咖啡传到欧美，亚洲的茶叶等也传到了欧美。

材料二 20世纪八九十年代，在发展经济的过程中，各个地区的国家为了增强实力，提高自己在国际竞争中的地位，积极推动区域经济合作。随着跨国公司的发展和信息时代的到来，世界各国的经济联系日益密切，经济全球化趋势加强。

材料三 科学技术特别是交通运输和信息技术的迅速发展，大大缩短了世界各地的时间和空间距离，为全球范围的经济活动提供了便利条件。当代的科技进步已经成为整个经济增长的源泉。

请回答：

(1) 依据材料一，结合所学知识，指出是什么历史事件把“互相隔绝的地区沟通起来”，从而促进了各大洲的经济交流？(2分)

(2) 依据材料二，结合所学知识，请举出“区域经济合作”在欧洲的具体表现？(2分)

(3) 依据材料三，结合所学知识，指出推动世界经济全球化的根本动力是什么？经济全球化给人类社会带来了怎样积极的影响？(6分)

(4) 在经济全球化趋势下，中国积极融入世界，请举出一个典型事例。(2分)

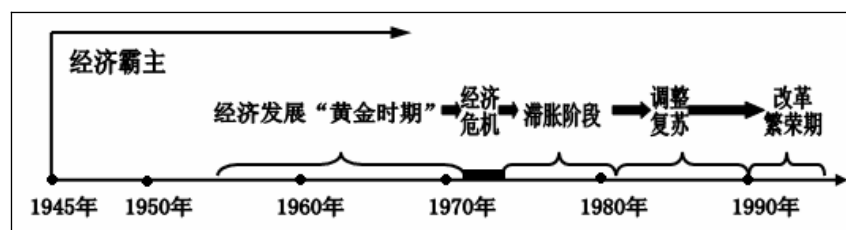
36. (1) 新航路的开辟；(2) 欧盟的建立；(3) 社会生产力的发展；促进发展模式创新；促进国际利益融合；推进国际体系转型；推进人类文明进步。(开放性题目，只要符合题意即可) (4) 加入世界贸易组织、加入亚太经合组织、上海承办亚太经合组织会议。

(2010·四川资阳) 35. (14分) 阅读材料，回答问题。

材料一 战后初期，美国经济持续发展，一片繁荣。尽管如此，但是在20世纪50年代的资本主义世界中，美国在工业生产、出口贸易等方面所占的比重都有显著下降，而西欧六国(法、西德、意、荷、比、卢)所占的比重大大上升。……50年代中期以后，阿登纳说：“如果欧洲人不想再起了根本变化的世界里走下坡路的话，必须走向联合……否则欧洲各国将会沦为超级大国的附庸……”

——何春超主编的《国际关系史》

材料二



图一 二战后美国经济的发展状况示意图

图二 比尔盖茨

材料三 进入20世纪70年代，西欧和日本不可避免要导致与美国同盟国政治关系的变化，

表现在西欧六国和日本在外交上的独立自主倾向日益发展……美国再也不能像战后初期和50年代那样，在西欧阵营里颐指气使，发号施令。

——何春超主编的《国际关系史》

请回答：

- (1) 根据材料一和所学知识回答，西欧各国为什么要走向联合？（4分）
- (2) 在材料二图一中找出美国经济发展的高峰期主要分布在哪些时段。要反映图一的相关信息，还可用哪些形式？（3分）
- (3) 根据材料和所学知识说明，进入70年代后，为什么美国再也不能像战后初期和50年代那样对西欧发号施令。（3分）
- (4) 材料二中人物在20世纪90年代成为世界首富与当时美国政府采取的哪些措施有关？（4分）


35. (14分) (1) 保障自己的安全和国际地位，避免成为超级大国的附庸；加强交流合作，促进经济的发展。（4分） (2) 时段：20世纪50年代中期到70年代初期；20世纪90年代（或1990年后）。（2分）形式：文字表述，表格，坐标图，曲线图，柱状图等。（任意答出一种即可给分）（1分） (3) 美国由于经济危机的困扰，综合国力迅速下降；西欧各国经济却迅速发展，综合国力和国际竞争力显著增强；西欧各国外交上更加独立自主。（3分） (4) 进行社会经济改革；大力发展教育科技，信息产业为代表的高新技术迅速发展；完成传统产业的技术改造。（答出任意一点给2分，满分4分。）

(2010·山东淄博) 4. (10分) 阅读下列材料，回答问题。

材料一

领土	由法国收回阿尔萨斯和洛林
军事	禁止德国实行义务兵役制；不许拥有空军，陆军人数不得超过10万；莱茵河东岸50千米内，德国不得设防
政治	德国承认并尊重奥地利的独立
赔款	由协约国设立“赔款委员会”，决定德国战争赔款的总数
殖民地	德国的全部海外殖民地由英、法、日等国瓜分

《凡尔赛和约》



《九国公约》签订

材料二 1947年3月12日，杜鲁门在国会宣读一篇咨文，宣称：世界已分为“自由制度”和“极权政制”两个阵营。美国负有领导“自由世界”的使命，以防止共产主义的渗入……。”

材料三：冷战消失了……为具有更加多元化特点的社会开启了大门。

请回答：

- (1) 材料一中两个条约分别是在哪次会议上签署的？两次会议形成了怎样的世界体系？（3分）
- (2) 材料二反映了美国实行的什么政策？此政策的表现和影响分别是什么？（3分）
- (3) 材料三中，“冷战消失”的标志是什么？“多元化特点的社会”反映了当今世界政治格局呈现怎样的发展趋势？（2分）
- (4) 面对当今世界政治格局发展的趋势，你认为中国应该如何争取有利的国际地位？（2分）

4. (10分) (1) 巴黎和会（1分）；华盛顿会议（1分）；凡尔赛—华盛顿体系（1分） (2) 政策：冷战政策（1分）表现：杜鲁门主义、马歇尔计划、建立北大西洋公约组织（其中任意一点可得分，1分）影响：两极格局形成（1分） (3) 苏联解体（1分）；多极化趋势（1分） (4) 致力于实现长期、稳定和持续的经济发展，力争在新的世界格局中

占据有利地位；提高综合国力；积极参与国际事务；加强国际交往，提高国际地位。（开放性试题，其它符合题意的也可酌情得分，2分）

（2010·山东滨州）28．革命或改革往往是某种旧制度阻碍社会经济的发展而发生的，懂得改变，是一种智慧。结合所学知识，回答下列问题。

（1）19世纪60年代，下列国家发生的革命或改革，都废除了阻碍其发展的旧制度，产生了深远的历史影响，按要求完成下表。

国家	改革（或革命）名称	废除旧制度	领导人	共同影响
美国		黑人奴隶制		
俄国	1861年改革			
日本		藩制 封建身份制度 封建土地制度	明治天皇	

（2）美国总统奥巴马说“美国的真正天赋在于，它懂得改变”。试举出20世纪30年代，美国懂得改变的史实一例。

28. (1) (每空 1分, 共 6分)

国家	改革（革命）名称	废除旧制度	领导人	共同影响
美国	南北战争（或美国内战）		林肯	都促进了资本主义的发展
俄国		农奴制	亚历山大二世	
日本	明治维新			

（2）罗斯福新政；二战中太平洋战争爆发后，美国对日宣战，结成反法西斯统一战线；二战后，对苏联等社会主义国家实行“冷战”；尼克松访华改善中美关系、中美建交等（回答一项，符合题意即可得2分）。

（2010·广东汕头）30．阅读下列材料：

材料一：20世纪90年代以来，经济全球化趋势进一步加强。经济全球化是社会生产力和科学技术发展的客观要求和必然结果。跨国公司有力地促进了世界经济的发展和全球化进程。

——据四川教育出版社《世界历史》九年级下册

材料二：“中国加入世界贸易组织不仅使自己从中得益，而且为世界经济贸易的发展做出了自己的管辖”。

——中国国家总理温家宝

材料三：发达国家与发展中国家人均国内生产总值的差距，由1983年的43倍，扩大到目前的60多倍。

——据中国地图出版社《世界历史》九年级下册

材料四：全球化是发达国家用来打开发展中国家市场的“敲门砖”，是新殖民主义的一种形式，因此发展中国家应该团结起来，抵制全球化。

——江时学《发展中国家怎么办——拉美国家的实践》

请回答：

（1）根据材料一归纳，20世纪90年代以来世界经济全球化趋势得到加强的因素有哪些？（2分）

（2）材料三反映了什么问题？这个问题产生的主要原因是什么？（4分）

（3）材料四认为“发展中国家应该团结起来，抵制全球化”。请根据以上材料并结合所学知识，对这一观点进行简要评价。（6分）

30. (1) ①经济全球化是社会生产力和科学技术发展的客观要求和必然结果。

②跨国公司有力地促进了世界经济的发展和全球化进程。

(2) 发达国家与发展中国家贫富差距加大。原因：不公正的国际经济秩序。

(3) 支持或反对均可，言之要有理。

(2010·湖北襄樊) 36. 【架起合作和友谊的桥梁】 (7分)

“70多年前爆发的第二次世界大战，给世界和平带来空前的灾难。世界各国人民同仇敌忾，携手反法西斯侵略，保卫世界和平；与此同时，中国人民同日本侵略者进行了8年艰苦卓绝的斗争，……我们不会忘记，大批苏联红军远赴中国东北战场，同中国军民并肩对日作战，为中国夺取抗日战争最终胜利作出了重要贡献。”

——胡锦涛主席会见参加抗日战争的俄罗斯老战士时的讲话

请回答：

(1) 国际反法西斯联盟建立的标志是什么？(1分) 开辟了欧洲第二战场的军事行动指的是什么？(1分)

(2) “苏联红军远赴中国东北，参加对日作战”是哪次会议的决定？(1分)

(3) “8年艰苦卓绝的斗争”开始于哪一事件？(1分) 列举中国军民抗击日本侵略并取得胜利的重大战役两例。(2分)

(4) 回顾这场战争，你有什么感想？(1分)

36. (1) 签署《联合国宣言》。(1分) 诺曼底登陆。(1分) (2) 雅尔塔会议。(1分) (3) 七七事变(或卢沟桥事变)。(1分) 平型关大捷；台儿庄战役；百团大战。

(学生只要答出其中两例即可，一例1分，共2分。)(4) 和平来之不易，悲剧绝不能重演；人类在对付共同挑战时，应团结一致；加强合作，才能求得共同发展；牢记战争伤痛，以史为鉴；远离战争，珍爱和平；警惕帝国主义法西斯主义的复活；要大力发展经济，提高综合国力，才能有效对付各种侵害。(评分说明：答出其中一条即可，1分。只要有追求和平和发展的主题意思就可给分。)

(2010·湖北襄樊) 37. 【科技改变生活】 (6分)

材料一 1851年，首届世博会在英国举办，展品有蒸汽机、火车模型、纺纱机等。

材料二 1893年芝加哥世博会上，“电灯”成为此届世博会中最耀眼的“明星”。

材料三 1962年西雅图世博会的主题是“太空时代的人类”。

请回答：

(1) 材料一中的展品是哪次科技革命的成果？(1分)

(2) 电灯的发明者是谁？(1分) 在电灯发明之前，我们的先人在夜晚采用哪些方法照明？(1分)

(3) 在西雅图世博会上，出现的科技展品有哪些？(1分) 这些展品展示的是哪次科技革命的成果？(1分)

(4) 比较上述科技革命的成果，想一想它们能够给我们哪些有益的启迪？(1分)

37. (1) 工业革命(产业革命；第一次科技革命也可)。(1分) (2) 爱迪生。(1分) 电灯发明之前，人们多使用煤油灯、煤气灯、蜡烛、火把等照明。(评分说明：答出其中一种即可，1分。)(3) 卫星模型；火箭模型；宇航服；计算机；原子弹模型；在太空培育的种子；在太空研制的药品等。(评分说明：答出其中一种即可，1分。) 第三次科技革命。(1分) (4) 科学技术是巨大的生产力；科学技术推动社会进步；我们要学习科学家勇于创新，努力探索科学奥秘的精神品质；科学技术改变人们的生活等。(答对其中一项即可，其它答案只要符合题意也可，1分。)

(2010·湖北黄冈) 30. (8分) 在世界近现代史上，美、俄、日各国在不同时期都面临着重大的社会问题，通过改革(或变法)，这些问题都不同程度地得到解决，促进社会经济的

发展。阅读下列材料，结合所学知识，回答下列问题：

材料一 随着克里米亚的灾难，农奴的不断上升的压力变得不可抗拒起来，……较有远见的贵族都赞同把农奴从以往一向将他们束缚在小块土地上的契约中解放出来。这样，贵族打算将小块土地上联成一片，采用有效、大规模的农业技术，并仅仅雇佣他们所需要的从前的农奴做散工，……由于这些情况相结合，亚历山大二世能在 1861 年 3 月 1 日颁布废除……的法令。……这是俄国历史上的一个重大转折点，……

——[美]斯塔夫里阿诺斯《全球通史》

材料二 ……由于日本在历史上曾有过大规模吸收中国文化，以促进本国文化发展的经验，日本人把移植外来文化视为当然的事情，只要能够适应形势，任何需要的东西都可以从海外引进，既无顾虑也不以为耻。因此，当日本在 19 世纪中叶开始面临西方资本主义国家的侵略威胁时，能够以这些国家为榜样，顺利地实现了本国的社会变革，走上独立的资本主义发展道路。

——吴于廑、齐世荣：《世界史·近代史编》

材料三 1920~1921 年，苏俄遭遇大旱灾，许多人死于饥饿。1921 年 2 月，喀琅施塔得水兵叛乱，甚至提出“要苏维埃，不要布尔什维克”的口号。为此，列宁说：“我们还不能实现从小生产到社会主义的直接过渡……所以我们应该利用资本主义作为小生产和社会主义的中间环节，作为提出生产力的手段、途径、方法和方式。”

材料四 在 1932 年的总统选举中，民主党候选人罗斯福当选总统。面对“大萧条”现状，他坚定地认为，这个国家需要进行大胆地、坚持不懈的试验，如果试验失败，就再试行另一种方法，最重要的是要进行试验。

——材料三、四均选自人民版《普通高中课程标准教科书·历史必修第二册》

请回答：

(1) 根据材料一和材料二，19 世纪 60 年代，俄国和日本为摆脱困境各进行了什么改革？其影响有何共同点？（3 分）

(2) 材料三、四中，苏俄和美国为摆脱困境各进行什么措施？各自的特点是什么？（4 分）

(3) 从上述材料中，给中国社会主义建设带来哪些启示？（1 分）

30. (1) 改革：俄 1861 年改革（俄废除农奴制）；日本明治维新。（2 分）共同点：都走上资本主义道路，保留了大量的封建残余。（1 分）(2) 措施：新经济政策；罗斯福新政。

(2 分) 列宁的新经济政策是在探索社会主义道路中尝试用市场手段发展生产力（或利用商品，货币关系发展经济）。新政是加强对资本主义国家经济干预、宏观管理（意思相近即可）。（2 分）(3) ①面对困境，应适时作出调整；②社会主义既有市场也有计划，凡是为社会主义服务的，都是社会主义的。（答一点，言之有理即可）。（1 分）

(2010·江苏连云港) 37. 历史发展具有阶段性特征，几乎每十年在每个国家、每个领域都有突出的主题，这个主题就是这个时代的最大特征。

示例：20 世纪 20 年代的苏联（苏俄）是“走向强国的时代”；30 年代的美国是“战胜危机的时代”；40 年代的世界是“战争的时代”；50 年代的中国是“成绩大于失误的时代”；60 年代的世界格局是“争霸的时代”。

据此并结合所学知识，回答：（12 分）

(1) 30 年代，美国“战胜危机”的主要措施被统称为什么？50 年代，中国取得的“成绩”在政治和外交上各有哪些表现（每领域各举一史实即可）？（3 分）

(2) 图片能够反映当时的历史信息。分别指出，下列图片能说明“示例”中 20 世纪的

哪一主题？（3分）



图一 华盛顿的“和平鸽” 图二 绞死希特勒 图三 工业化之路

(3) 仿照“示例”中表述时代主题的方法，概括 20 世纪“20 年代的世界格局”和“80 年代的苏联”的时代主题，并各举一个能说明该主题的典型史实。（4分）

(4) 上述问题和解答，呈现出怎样的历史学习过程？（2分）


37. (1) 罗斯福新政。（1分）政治：制定社会主义类型宪法、建立社会主义制度。（任意 1 点 1 分）外交：提出和平共处五项原则、提出“求同存异”方针。（任意 1 点 1 分）

(2) 图一：争霸的时代。图二：战争的时代。图三：走向强国的时代。（3分）(3) 建立凡尔赛——华盛顿体系；《九国公约》等。走向剧变；戈尔巴乔夫改革。（4分）(4) 感知——理解——运用。（2分）[由阶段特征回扣具体史实；由具体史实概括阶段特征；由感知到模仿这一方法解决问题。（任意 2 点 2 分）]（由本题归纳的其他言之成理的答案，均可给分）

(2010·山东济宁) 四、请你阅读下列材料，根据要求完成问题（本题 8 分）

世博会是全称是世界博览会，它是由一个国家的政府主办、多个国家或国际组织参加的国际性大型博览会，称得上是世界上最高级别的展览活动。世界博览会、奥林匹克运动会和世界杯足球赛是公认的全球三大顶级盛事。2010 年 5 月 1 日至 10 月 31 日，第 41 届世界博览会在中国上海举行。阅读下列世博会的相关资料，回答问题。

材料一 作为中国继北京奥运会之后的又一世界性盛会，上海世博会必定会吸引国际社会的目光，预计 7000 万人次的客源，无疑让旅游市场对其带来的商机不可小觑。西安——历史文化名城，上海——世界时尚之都，两个表面上看起来并不相干的城市，却在世界瞩目的世博会中紧密地联系在一起。



8. “百年看上海，千年看西安”。西安作为一座历史文化名城，千百年来曾有很多朝代定都于此，并保留了大量文物古迹遗址。请举出历史上定都西安的朝代及古迹遗址各一例。（2分）

9. 上海，当今世界的时尚之都，在中国近代史上有着非常重要的地位。请你写出近代史上发生在上海的一件大事。（1分）

材料二 世博会是一个世界科技大展台。人类文明发展中的每一次生产力和科技的变革，都能在世博会上找到踪影。1851 年在英国首都伦敦举办了人类历史上第一届世界博览会——万国工业博览会，主题是世界文化与工业科技。此次博览会上，英国向世界展示了工业革命的辉煌成果。

10. 结合材料，根据所学知识设想一下，此次博览会上，英国会展出哪些“辉煌成果”（至少 2 例）？并分别说明他们给人类带来了哪些影响？（2分）

材料三 回顾历届世博会，能源从来都占有举足轻重的地位。1873 年，多瑙河畔的维也纳

世博会上，电动机的发明让人类迎来了电气时代。1878年的巴黎世博会，爱迪生发明的白炽灯泡被安装在埃菲尔铁塔上，将整个世博会园区照得晶莹透亮。

11. 材料中提到的电动机、灯泡的发明属于什么时期的成就？这些成就的出现与一种新能源的利用密切相关，这种新能源是什么？（2分）

12. 中国继举办北京奥运会之后，正在举办上海世博会这一世界性盛会，对此你有何感想？（1分）

8. 朝代：西周、隋朝、唐朝、西汉等（1分）；古迹遗址：半坡村遗址、秦始皇陵兵马俑等。（其它符合史实也可得分，如大雁塔、华清池，骊山陵墓等。1分）

9. 成为第一批被迫开放的通商口岸；洋务运动期间，曾国藩和李鸿章在上海创办江南制造总局；李鸿章在上海创办轮船招商局；1872年《申报》创办；1915年陈独秀在上海创办《新青年》杂志，揭开了新文化运动序幕；1921年，中共一大在上海召开等。（符合题意及史实，一条即可得分，1分）

10. ①瓦特支撑改良蒸汽机，把人类带入蒸汽时代；②史蒂芬孙发明火车（或制造“旅行者”号机车），使铁路交通迅速发展，为人们生产和生活带来极大便利。（不说理由不得分，其它如珍妮机等也可，2分）

11. 第二次工业革命；电力。（2分）

12. 中国的经济发展了；中国经济的发展影响着世界经济的发展；中国的国际地位提高了等。（言之有理即可得分，1分）

（2010·广东广州）21. 阅读以下材料：

材料一 条约规定各国必须尊重中国的领土完整和主权独立，却没有采纳中国提出的取消领事裁判权、归还租借地、实现关税自主等正当要求。

材料二 库页岛和千岛群归苏联，维持外蒙古（蒙古人民共和国）现状，大连商港国际化，旅顺军港租给苏联作海军基地，中苏合营中东和南满铁路。

——均摘自《世界历史》

请回答：

（1）材料一反映的是什么会议上签订的哪一条约？此次会议的中心议题是什么？（3分）

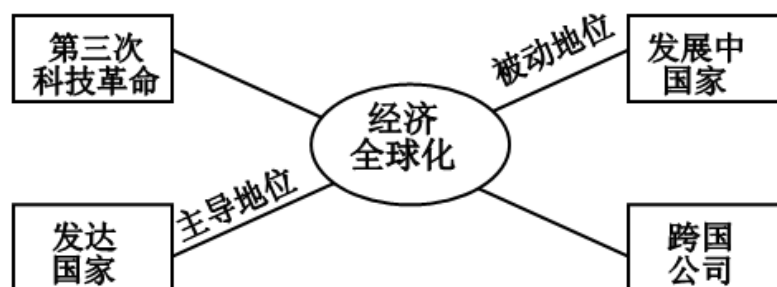
（2）材料二出自哪一条约？它成为哪一国家对日作战的附加条件？（2分）

（3）通过分析两则材料的共同之处，谈谈你的感悟。（1分）

21. （1）华盛顿会议《九国公约》协调彼此在东亚、太平洋地区的关系及限制海军军备（3分）（2）《雅尔塔秘密协定》；苏联（2分）；（3）两则材料内容都破坏了中国主权，一方面说明了大国推行强权政治，另一方面也说明了弱国无外交的道理（答案符合题意即可，1分）；

（2010·广西桂林）12. 阅读下列材料：

材料一 世界经济全球化趋势中的关系链



材料二 经济全球化是一把“双刃剑”。它在推动全球生产力大发展，加速世界经济增长，为少数发展中国家追赶发达国家提供了一个难得的历史机遇的同时，也加剧了国际竞争，增

加了国际风险，并对国家主权和发展中国家民族工业造成了严重冲击。

——《人民日报》（2000年10月12日第三版）

请回答：

(1) 依据材料一结合所学知识，分别说说第三次科技革命和跨国公司在经济全球化趋势中是如何发挥各自作用的？（2分）

(2) 依据上述材料结合所学知识，分析在经济全球化趋势中发展中国家为什么处于被动和不利地位？（2分）

(3) 依据材料二，谈谈我国作为最大的发展中国家应怎样应对经济全球化带来的机遇和挑战？（2分）

12. (1) 科技革命是经济全球化的物质基础，跨国公司是经济全球化的主要推动力。

(2) 发展中国家的经济实力、科技水平远远落后于发达国家，全球化对发展中国家的民族工业造成了冲击。(3) 中国应加大改革开放的力度，坚持以经济建设为中心，努力提高中国的综合国力，积极应对全球化趋势。

(2010·湖南衡阳) 29. (13分) 作为新兴大国集团“金砖四国”中仅次于中国的印度，发展势头强劲，十分令人瞩目。

【古代文明】

(1) 印度位于南亚次大陆，为世界四大文明古国之一，古代史上，就创造了十分独特而辉煌的文明。古印度产生的佛教，广泛流布于亚洲地区，成为世界三大宗教之一。请写出佛教的产生时间和创始人。（4分）

【殖民灾祸】

材料一 征服印度孟加拉地区的殖民头子克莱武在英国议会里无耻地吹嘘：“富庶的城市在我的脚下，强大的国家在我的手中，在我一人面前打开了充满金条银锭、珍珠宝石的宝库。我统共取了20万英镑。诸位先生，直到现在，我还奇怪自己为什么那样客气呢！”殖民当局还规定，英国输入印度的货物只收极低的税，甚至免税，印度纺织品在本国销售，却要交极高的内地税。在英国棉织品冲击下，著名的印度纺织中心达卡急剧衰败，大批手工业者破产，印度总督本廷克也不得不承认：“这种灾难，在商业史上无与伦比。棉织工人的白骨使印度平原都白成一片了。”

(2) 进入近代，印度遭受巨大的殖民灾祸。根据材料一归纳英国殖民者在印度的暴行。（3分）

【抗争英雄】

(3) 1857年，印度爆发了民族大起义。作为起义领导人之一的章西女王，在防守瓜廖尔的战斗中英勇牺牲。你认为章西女王哪些精神值得我们学习？（2分）

【发展成就】

材料二 “尼赫鲁相信，印度的未来靠的是科技发展，而且科技发展要建立在自力更生的基础之上。”

(4) 1947年独立后，印度经济社会发展较快，成就显著。试列举印度在科技方面取得的成就。（2分）

【中印友好】

材料三 中印友好关系源远流长。随着有着“东方巨龙”之称的中国和有着“南亚大象”之称的印度的先后崛起，中印建立健康良好的、睦邻合作的关系，不仅符合两国人民的根本利益，而且对维护亚洲乃至整个世界的和平与稳定都具有十分重要的意义。

(5) “中印友好关系源远流长”，试举史实说明。（2分）

29. (13分) (1) 产生时间：公元前6世纪。（2分）创始人：释迦牟尼（或乔达摩·悉达多）（2分）。(2) 武力征服、公开抢劫、垄断贸易。（3分。答出2点即可）(3) 答出

热爱祖国、反抗侵略、争取独立、敢于斗争、不怕牺牲、维护民族尊严、巾帼不让须眉等精神中两点即可。(2分) (4) 在核工业和航天技术上取得突出成就,并发展为软件大国。(2分。在核工业、航天、软件3个要点中答出2点即可) (5) 汉代丝绸之路即到达印度;西汉末年从印度传来佛教;唐代玄奘西游印度;1953年中印共同倡导和平共处五项原则。(2分。答出其中1点即可)

(2010·吉林) 17. 阅读下列材料,回答问题。

材料一 “在那个距今二百多年前的时代里,殖民地联合起来挑战宗主国是破天荒的大事,宣布独立的北美13个英属殖民地……与大英帝国的战争一直艰苦地打了八年,才最终赢得了独立。”

——《大国崛起》解说词

材料二 “以1898年……为界标,在此前50年美国集中解决国内统一和制度问题,在此后50年……以二次大战为标志,美国完成崛起的过程。”

——《大国兴衰的历史比较》

材料三 “1929年初,美国似乎日趋繁荣……10月,股票市场的价格跌到了最低点,世界范围的经济萧条随之而来,而且萧条的强烈程度和延续时间的长久都是空前的。”

——《全球通史》

请回答:

(1) 材料一中领导“北美13个英属殖民地”打败“大英帝国”的人物是谁?“宣布独立”的标志事件是什么?(2分)

(2) 材料二中解决“国内统一”问题的人物是谁?解决“制度问题”的文献是什么?(2分)

(3) 材料三中“经济萧条”指什么?美国摆脱“经济萧条”的事件是什么?(2分)

(4) 从美国崛起的历程中,我们能得到什么启示?(1分)

17. (1) 华盛顿(1分);《独立宣言》的发表(1分); (2) 林肯(1分);《解放黑人奴隶宣言》(1分); (3) 1929~1933年经济危机(或经济大危机)(1分);罗斯福新政(1分); (4) 美利坚民族具有反抗精神;反对分裂,维护国家统一是国家最高利益;国家统一,可为经济发展创造良好的环境;适时的政策调整(改革)能推动社会进步;杰出人物能够推动历史发展等。(答出以上要点之一即可给分;其他答案观点正确,符合题意也可给分)(1分)

(2010·四川巴中) 44. 阅读下列材料:

材料一 2010年上海举办了历史上规模最大的一届世博会,而第一届世博会是1851年在英国伦敦举行的,它以工业革命成果为主要内容,1.7万参展者带来了大约100万件展品参展。

材料二 近年来,由于电力紧张,成都市出现了拉闸限电的现象,影响了人们正常的生产生活。特别是2009年6月1日开始,成都电网负荷连续7次创历史新高,成都市电业局呼吁广大市民节约用电。

材料三 20世纪四五十年代以来发生的这场革命,极大地提高了劳动生产率,促进了生产的迅速发展;产生了一批新型工业,第三产业迅速发展起来;推动社会生活的现代化……在20世纪90年代产生了“知识经济”这一概念。

请回答:

(1) 请写出一个能在伦敦世博会上参展的最先进的交通工具。(1分) 这次工业革命最先从哪个国家开始?(1分)

(2) 材料二中与我们生活密切相关的电是什么时候成为人类使用的能源的?(1分) 被称赞为“打开电气时代的领袖”是谁?(1分) 从材料二你得到什么启示?(1分)

(3) 材料三提到的“这场革命”中最为突出的核心技术是什么?(1分)

(4) 三次科技革命的共同影响向我们证明了一个什么道理？(1分) 处于“知识经济”时代的你应该怎么做？(1分)

44. (1) 轮船、火车。英国。(2) 19世纪70年代以后(第二次工业革命)。爱迪生。我国电力资源匮乏,要注意节约电力能源。(3) 电子计算机。(4) 科技是第一生产力。努力掌握科技知识,时刻准备着振兴祖国科技事业。(其他言之有理即可)

(2010·广西梧州) 35. 阅读下列材料:

材料一 谋求欧洲统一有相当远的历史渊源。……经过两次世界大战后,昔日的欧洲列强均已降为二等国、三等国……在东方,来自苏联和东欧盟国的威胁日益严重;在西方,来自美国的经济渗透和政治控制不断加强。……欧洲的政治家们又发出了新的欧洲统一的呼声。

——摘自《世界史》

材料二 20世纪50年代中期以后的近二十年,日本经济持续高速发展,成为仅次于美国的世界第二号资本主义经济大国。

——摘自《世界史》

阅后结合所学知识回答下列问题:

(1) 根据所学知识,举出三项20世纪60年代以来,欧洲各国为实现“新的欧洲统一”而采取的措施?(3分)

(2) 依据材料一和课本知识,分析欧洲要实现“新的欧洲统一”的原因。(2分)

(3) 联系所学知识,找出二战后西欧国家和日本经济高速发展的共同原因?他们的崛起对当今世界政治格局产生了什么影响?(3分)

(1) 成立“欧共体”,建立欧盟;(2) 为了迅速发展经济,提高自己的国际地位;(3) 美国的援助、重视科技的发展等;加速了世界格局多极化发展趋势。

(2010·福建莆田) 28. 阅读材料并回答问题:

材料一

欧洲共同体成长历程简表

时间	事件
1967年	欧共体成立
1973年	英国、丹麦和爱尔兰加入欧洲共同体
1981年	希腊加入欧洲共同体
1986年	葡萄牙和西班牙加入欧洲共同体

材料二 愿意在尊重他们的历史、文化和传统的同时加深他们人民间的团结;……决心实现他们经济的强大和同步发展并根据本条约的规定建立一个包含一种单一及稳定的货币的经济和货币联盟;……决定建立欧洲联盟……

——《欧洲联盟条约》

请回答:

(1) 根据材料一和所学知识,欧洲共同体是有哪三个组织合并而成?截止1986年,欧洲共同体拥有多少个成员国?(4分)

(2) 根据材料二和所学知识,欧洲联盟成立于那一年?当前流通于欧盟的“单一及稳定的货币”是什么?(4分)

(3) 目前,欧洲正在经历一场债务危机,有人认为欧盟无法摆脱这场危机,对此你有何评

论？（2分）

28. (1) 欧洲煤钢共同体，欧洲经济共同体，欧洲原子能共同体；（3分）12。（1分）

(2) 1993年；欧元。（4分）(3) 评论一：能够摆脱。欧盟内部能够协调一致，并有成功解决实际问题的经验；评论二：很难摆脱。这场危机比较严重，非短期可以解决；评论三：无法摆脱。这场危机会引发更为严重的社会危机，导致无法解决。（2分，答出其中一种评论即可，表态1分，理由1分。理由与表态相匹配即可）

(2010·福建三明) 27. 阅读材料，并结合所学知识回答问题。

材料一



(1) 材料一反映了哪一种大历史事件？这一事件对世界各地的关系产生了什么重大影响？

材料二

2005年一些跨国公司生产（销售）情况简表

大众公司	汽车的部件来自四大洲的20多个国家
西门子公司	5万多个产品部件来自130多个国家
雀巢公司	所属分公司遍及世界五大洲50多个国家，有8500多个产品在100多个国家销售
波音公司	每一架客机所需的450万个零部件来自海外1500家大企业，和1.5万家中小企业

(2) 材料二反映了世界经济发展的什么趋势？哪一组织的成立最能体现这一趋势？

(3) 下列哪两件事能表明，中国在这一趋势中，正发挥着越来越重要的作用？(选填正确答案的字母)

A. “汪辜会谈” B. 中国成功举办上海 APEC 会议

C. 中国召开国家科学技术管理大会 D. 中国加入世贸组织

27. (1) 新航路开辟；世界开始连成一个整体。（2）经济全球化的趋势；世界贸易组织。

(3) B；D。

(2010·广东深圳) 27. 阅读下列材料，回答问题(11分)

材料一 随着二战的进一步扩大，美国、英国、苏联、中国等26个国家于1942年初举行会议，签署《联合国家宣言》，建立联盟。

材料二 20世纪50年代，世界形成社会主义阵营和资本主义阵营，两大阵营展开了激烈的较量。在亚洲，中华人民共和国、朝鲜、越南先后加入社会主义阵营。这一时期，美国

在亚洲发动了一场战争。

材料三 据新华社报道，第二轮中美战略与经济对话于5月24日在北京开幕。双方表示，建立21世纪全面交流全作的中美关系，既顺应了时代发展的潮流，也有利于亚太地区乃至世界和平、稳定与繁荣。



请回答：

问题一：第二次世界大战开始于哪一年？（1分）材料一中的26个制度不同、发展水平不同的国家，建立联盟的目的是什么？（1分）

问题二：世界上第一个资本主义国家和第一个社会主义国家分别是指哪两个国家？（2分）材料二中两大阵营用什么方式进行“激烈的较量”？（1分）美国发动的那场战争，我国称它是什么战争？（1分）

问题三：结合材料二、三分析中美关系发生了什么变化？（1分）中美关系的发展体现了当今世界的什么主题？（2分）

问题四：以上材料表明，不同社会制度的国家可以求同存异。请举例说明不同的社会制度在同一个国家也可以共生、共存。（2分）

27. (共11分)问题一：1939年(1分)；进行反法西斯战争(1分)(答反德意日侵略或维护世界和平也给分)；问题二：英国(1分)；苏俄(或俄国，答苏联不给分)(1分)；冷战(或采取除军事进攻以外的一切敌对行动)(1分)；抗美援朝(答朝鲜战争不给分)(1分)。问题三：从敌对到合作的转变(1分)(只答敌对或合作不给分)；和平与发展(2分)(只答和平或发展给一分)；问题四：在我国实行一国两制，祖国大陆实行社会主义制度，香港、澳门实行资本主义制度(2分)(答一国两制给一分，答香港或澳门给一分，答台湾不给分)。

(2010·贵州贵阳) 27. 全球关注的问题——能源

材料一 2005年以来，国际油价节节攀升，屡创历史新高。近年来，我国的一些地区也先后出现了“电荒”“油荒”和发电用煤告急现象。能源被称为工业的血脉，是经济发展的首要问题，能源还涉及国家的安全和稳定，能源对国际政治、经济、外交和军事都有着深远的影响。能源问题还是一个生态保护的问题，是人与自然如何和谐发展，如何推动人类经济社会全面进步的问题。

材料二 据新闻报道，最近在墨西哥海湾发生的原油泄漏事件是有史以来最严重的生态灾难之一。据海洋学家和毒物学家说，原油泄漏正在墨西哥湾形成无形的“死亡区域”。8300多个动植物物种将遭受威胁，有些海洋生物甚至可能面临灭绝的危险。而越来越多的报道称，协助清理墨西哥湾油污的工人和沿岸居民接连患病，对这场灾难及清理工作构成的健康风险，令人感到越来越担心。

阅读上述材料，结合所学知识请回答：

(1) 列举出材料一中被称为工业血脉的三种能源。分别指出它们各是在哪次工业革命中被开发和使用的？它们的使用为人类在交通运输方面带来了哪些新突破？（7分）

(2) 结合你所了解的知识，说说当今世界因涉及能源问题而引发的地区冲突有哪些？（2分）

(3) 结合材料二谈谈为什么能源问题还是一个生态保护的问题？在能源的开发和使用中我们应该注意些什么？（4分）

27. (13分) (1) 电力、石油、煤炭（3分）；煤炭是第一次工业革命时期开发和使用的能源，电力、石油是第二次工业革命时期开发和使用的能源。（2分）火车或汽船（1分）；汽车或飞机（1分）；（2）中东战争、海湾战争、伊拉克战争等（任答一点给2分）；

(3) 因为能源在开发和使用的过程中会带来一定的环境污染，比如墨西哥湾原油泄漏事件就严重地破坏了生物的多样性，污染了周围的生态环境，严重威胁人类的健康。所以说能源问题也是一个生态保护的问题。（2分）运用科学的方法进行合理开发，走可持续发展的道路；注意周边环境的保护，尽量节约使用能源和开发高效、清洁的能源等。（2分）

（本题为开放性试题，只要言之有理即可酌情给分）

（2010·湖北荆门）29. (7分) 阅读下列材料，回答问题。

材料一 美国在世界上处于领导地位……凯撒、成吉思汗、路易十四、拿破仑和其他任何一个伟大的领袖所担负的责任，都不能同美国所担负的责任比拟。

——美国总统杜鲁门在国会的演讲（1945年）

材料二 和平与发展已成为当今时代的主题，世界格局正在走向多极化，争取较长时间的国际和平环境是可能的。

——江泽民在中共十五大上的报告

请回答：

(1) 材料一所反映的美国真实意图是什么？（1分）

(2) 二战后至20世纪50年代初，美国为“所担负的责任”在政府、经济、军事上分别采取了什么行动？有何影响？（4分）

(3) 材料二中“世界格局正在走向多极化”的具体表现是什么？（2分）


29. (7分) (1) 美国企图称霸世界。（1分）。(2) 政治上，提出“杜鲁门主义”（1分）；经济上，推行“马歇尔计划”（1分）；军事上，成立北约组织（1分）。影响：控制西欧，遏制苏联，推动两极格局的形成。（1分）。(3) 表现：两极格局瓦解后，欧盟、日本、中国和俄罗斯等国家和国家联盟的实力不断增强，牵制美国称霸，促进世界格局多极化。（2分）

（2010·湖北荆门）30. (8分) 近代以来，在科技革命的推动下，人类社会发生了深刻的变化。阅读下列材料，回答问题。

材料一



图一



图二

材料二 从科技发明到产品投入市场所用平均时间

时期	1885~1919	1920~1944	1945~1964
时间	37年	24年	14年

材料三 某发达国家科技进步时经济增长的贡献率

时期	1927~1947	1948~1973	1974~80年代中期
贡献率	31%	33%	40%

请回答：

- (1) 图一、图二的发明者分别是谁？(2分)
- (2) 根据材料二、三，结合所学知识概述第三次科技革命的特点。(6分)

30. (8分) (1) 图一：史蒂芬孙(1分)；图二：爱迪生(1分)。(2) 特点：科技转化为生产力的速度大大加快；科学技术的各个领域之间相互渗透；科技进步在促进经济增长的各种因素中所占的比重不断上升。(每回答一点得2分)

(2010·江苏宿迁) 39. (本题6分) 上个世纪90年代以来，经济全球化趋势迅速发展，在加速世界经济发展和繁荣的同时，也加剧了全球竞争中的利益失衡。阅读下列材料：

材料一 我市某城区的一组图片



第一幅

第二幅

第三幅

材料二 古巴前领导人菲德尔·卡斯特罗说：“由于不公正的国际经济秩序，经济全球化并没有使广大的发展中国家从中受益，反而造成富国愈富、穷国愈穷”。

材料三 “坚持对外开放的基本国策，把‘引进来’和‘走出去’更好结合起来，扩大开放领域，……形成经济全球化条件下参与国际经济合作和竞争新优势。”

——胡锦涛“十七大”报告

请回答：

- (1) 材料一中的哪幅图片能反映出“经济全球化就在我们身边”？(1分)
- (2) 根据材料二，指出经济全球化对世界经济产生了怎样的影响？(2分)
- (3) 材料三反映了中国对经济全球化趋势持何态度？(1分) 本世纪初，最能体现中国这一态度的重大举措(事件)是什么？(2分)

39. (1) 第三幅。(1分) (2) 经济全球化扩大了发达国家与发展中国家的贫富差距或没有使广大发展中国家从中受益或造成富国愈富、穷国愈穷。(2分) (3) 积极参与。(1分) 加入世界贸易组织(WTO)。(2分)

(2010·江苏盐城) 32. 阅读下列反映国际格局演变的相关材料，然后回答问题

材料一



巴黎和会“三巨头”



华盛顿会议

材料二：“美国在世界上处于领导地位。……凯撒、成吉思汗、路易十四、拿破仑或其他任何一个伟大的领袖所担负的责任，都不能同美国总统今天所担负的责任相比拟。”

——1945年4月16日杜鲁门总统的谈话

材料三：“世界新秩序……有很多权力中心，每一个都独立活动。……美国仅仅是一个大国，还有可与美国匹敌的其他国家，如日本、欧洲在一定程度上也是这样，再过几年还有中国，以及前苏联中的某些国家。”

——1993年亨利·基辛格的谈话

请回答：

- (1) 通过材料一中两次会议的召开，形成了怎样的国际关系格局？（1分）
- (2) 材料二中拿破仑被称为“伟大的领袖”，请结合所学知识举一例说明。（2分）杜鲁门的这段谈话表明了美国有何企图？（1分）
- (3) 根据材料三说明当今世界格局呈现出怎样的发展趋势？（1分）请简述中国在当前世界格局中所处的地位。（2分）

32. (1) 凡尔赛——华盛顿体系（1分）； (2) 建立了法兰西第一帝国；颁布了《法典》（任一点2分）；称霸世界（1分）； (3) 多极化趋势（1分）；“一超多强中”的“一强”（2分）

(2010·山东泰安) 35. 阅读下列材料，回答相关问题。

材料一 1999年，世纪之交，英国广播公司举行民意测验：评选一千年来最伟大的思想家。结果，马克思主义理论的创立者之一——卡尔·马克思当选为最伟大的思想家。

材料二

材料三



列宁同志清扫地球



材料四 1978——2009年中国国民经济部分年份对比简表

项目	1978年	1990年	1997年	2000年	2002年	2009年
----	-------	-------	-------	-------	-------	-------

我国国内生产总值 (亿元)	3624.1	18547.9	74462.6	89442.6	102398	335353
城镇居民集体人均支配收入 (元)	343.4	1510.2	5160.3	6280	7703	17175

请回答:

(1) 材料一中“马克思主义理论”诞生于____年，其标志是____。(2分) 在马克思主义指导下无产阶级建立政权的第一次伟大尝试是____(1分)

(2) 材料二漫画反映了____(革命事件)对世界的巨大影响。(1分) 此后，建立的第一个社会主义国家是____。(1分)

(3) 20世纪80年代末90年代初，东欧各社会主义国家风云突变，在一年之内，执政四十多年的各国政党纷纷丧失政权。请指出东欧剧变的实质。(2分)

(4) 材料三漫画反映的现象出现在中国共产党错误发动的哪一运动中?(1分) 中共错误发动这一运动的原因是什么?(2分)

(5) 材料四图表反映了改革开放以来，我国国民经济实力出现了怎样的变化趋势?(1分) 做出改革开放的伟大决策是在哪次会议上?(1分) 这次会议重新确立的党的思想路线是什么?(1分)

(6) 中国社会主义建设与东欧各国取得结果不同，坚持科学理论指导是重要原因。请写出在中共十五大上被确定为党的指导思想的理论体系名称。(1分)

35. (1) 1848年;(1分) 《共产党宣言》的发表;(1分) 巴黎公社(1分); (2) 十月革命;(1分) 苏维埃俄国(或苏联)(1分); (3) 社会制度的变化(2分); (4) 大跃进运动(或大跃进和人民公社化运动);(1分) 中国刚刚从革命战争转向社会主义建设，党和人民对我国社会主义所处的发展阶段认识不足，对如何建设社会主义缺少经验，又急于求成，忽视了客观经济规律。(2分) (5) 不断提升;(1分) 十一届三中全会;(1分) 解放思想、实事求是(1分) (6) 邓小平理论(1分)

(2010·山东泰安) 36.20世纪经历了两次世界大战和一个长达近半个世纪的“冷战”，导致了世界格局的三次大变化。阅读材料，结合所学知识，完成下列问题。

材料一



图片一 签署《凡尔赛和约》



图片二 华盛顿会议

材料二 《北大西洋公约》第5条规定：“对欧洲或北美一个或数个缔约国的武装进攻，应视为对缔约国的全体之攻击”。

材料三 伴随苏联解体，两极格局不复存在，当今世界实际形成了美国、日本、欧盟、中国、俄罗斯五个力量中心。五个力量中心的存在，在很大程度上影响着世界各个地区和许多国家。五个力量中心之间存在的相互竞争、相互制约的关系，使军事霸权主义受到更多的制约和限制，有利于世界的安全与稳定。

请回答:

(1) 材料一中图片一、二反映的两次会议使帝国主义列强在一战后形成了哪一体系?(1分) 简要评价这一体系?(2分)

(2) 依据材料二中《北大西洋公约》成立的北约组织，是二战后美国针对苏联等社会主义国家采取哪一政策在军事上的表现？(1分) 该政策开始执行的标志性事件是什么？(1分)

(3) 针对北约组织的建立，苏联成立哪一组织与之对抗，两极格局局面形成？(1分)

(4) 从材料三看出当今世界政治格局的发展趋势是什么？(1分) 面对世界发展的新形势，我国奉行的基本外交政策是什么？(1分)

36. (1) 凡尔赛——华盛顿体系 (1分) 这一体系建立了战后暂时的帝国主义世界和平秩序，但由于它不可能消除帝国主义国家间的矛盾，因此，不能长久维持下去 (2分)；

(2) 冷战政策；(1分) 杜鲁门主义出台 (1分)；(3) 华沙条约组织 (或华约组织) (1分)；(4) 多极化；(1分) 独立自主的和平外交政策 (1分)。

(2010·四川达州) 47. 阅读下列材料，回答问题。

材料一

材料二



材料三 (辛亥革命后) 叩头等繁复的旧式礼节被点头鞠躬礼取代，继后又改为西方传来的握手礼。“大人”、“老爷”等称呼也改为“先生”、“君”；政治思想相同的人之间互相称“同志”。
——摘自川教版《中国历史》八年级上册第135页

请回答：

(1) 依据材料一回答：该图是什么时期的作品？这一时期的核心思想是什么？(2分)

(2) 依据材料二回答：该杂志的创办，标志着一次空前的思想解放运动在中国兴起，这次运动后期宣传的内容是什么？(2分)

(3) 依据材料三回答：辛亥革命后，封建尊卑思想有何变化？这从侧面说明辛亥革命最突出的思想贡献是什么？(2分)

47. (1) 文艺复兴时期 (1分)；人文主义 (1分)；(2) 十月革命和马克思主义 (2分)；(3) 被平等思想所取代 (1分)；使民主共和观念深入人心 (1分)；

(2010·四川攀枝花) 56. 阅读下列材料，结合所学知识回答问题：

材料一 危机造成的股市恐慌和损失是约80年前那次大萧条以来最严重的……“城门失火，殃及池鱼”，发端于世界金融体系中心美国的金融危机很快向其他国家蔓延，变成了全球金融危机……

——引自新华网

材料二 在危机日益严重的形势下，各国开始认识到，应当寻求有效的全球战略来应对这场危机，通过各种平台加强磋商与沟通……2009年4月2日在伦敦举行的二十国集团领导人第二次金融峰会上，国家主席胡锦涛发表了题为《携手合作，同舟共济》的重要讲话。

——引自人民网

请回答：

(1) “约80年前那次大萧条”是指哪次经济危机？在这场危机中深受其害的是什么人？(2分)

(2) 依据材料一并结合当前世界经济的发展趋势分析，为什么当前这次金融危机会出现“城门失火，殃及池鱼”的现象？(2分)

(3) 依据材料二分析，面对当前金融危机，各国政府在加强国家干预经济的同时，更强调采取什么措施应对危机？(1分)

(4) 借鉴美国应对“约80年前那次大萧条”的措施，你认为我国政府在国家干预方面可以采取哪些具体措？(2分)

56. (1) 1929~1933的资本主义世界经济危机；(1分)深受其害：人民群众(1分)；(2) ①美国处于世界金融体系中心地位；(1分)②经济全球化使世界经济联系日益加强。(1分)
(3) 加强国际合作。(1分) (4) 具体措施：加强对金融的监管、扩大内需、健全社会保障制度、加大基础设施的投入等；(2分) (表述意思相近，或符合题意，言之成理，酌情给分)

(2010·福建泉州) 25. 阅读下列材料。回答问题。

材料一 作为一个国家，我们拒绝了任何彻底的革命计划。为了永远地纠正我们经济制度中的严重缺陷，我们依靠的是旧民主秩序的新应用。

——罗斯福演说

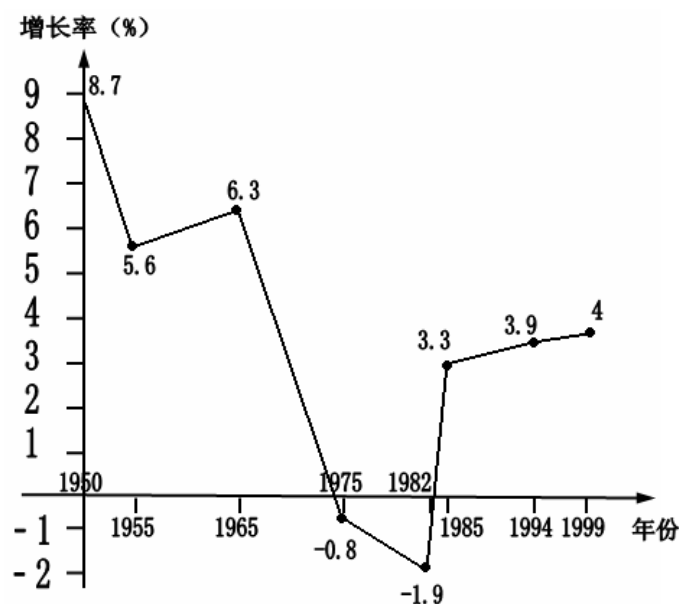
(1) “为了永远地纠正我们经济制度中的严重缺陷”这一目标在美国罗斯福新政中能否实现为什么？(4分)

材料二 二战后，美国经济以外向型经济为主，具体体现在对外直接投资即资本输出增加和跨国公司飞速发展。对外直接投资为美国获取了更大的利润，加强了美国在许多国家中的经济地位，但它同时也建立在对第三世界不公正掠夺的基础上。

——摘自北师大版历史九下《教师教学用书》

(2) 指出材料二反映了二战后美国经济发展的哪一主要特点？(3分)

材料三 见下图



战后美国经济发展示意图

——摘自人教版历史九下《教师教学用书》

(3) 读上图，运用论从史出的方法，概括 1955~1994 年美国经济发展呈现的状态是什么？(3分)

25. (1) 不能。(1分) 新政公是一种政策调整，不可能从根本上改变资本主义制度的基本矛盾，也就无法消除资本主义经济危机。(3分) (2) 以外向型经济为主。(3分)
(3) 周期性发展状态。等等。(3分)

(2010·湖南湘潭) 32. 阅读下列材料，回答问题。

世界博览会被誉为“经济、科技、文化界的奥林匹克盛会”，从开始至今已走过了 150 多年的历史。让我们一起走进世博，感受人类文明的辉煌成果。

材料一 1851 年，第一届世博会在英国伦敦举行，……许多参观者在这里看到了他们平时绝无可能看到的商品，看到了这些神奇的机器承担以往只能靠人工而无法借助机械的帮助来完成的工作……

——凤凰网《走进世博会》

(1) 第一届世博会中“这些神奇的机器”使用的动力机器是什么？(2 分) 举出一例“承担以往只能靠人工而无法借助机械的帮助来完成的工作”的交通工具。(1 分)

材料二 1876 年美国费城世博会上，巴西皇帝佩德罗拨通了刚刚问世的电话。双重电报机、冰库车等大量的美国科技成果展现在世人面前……中国首次派代表参加世博会，展品有丝绸、茶叶、瓷器等。

——凤凰网《走进世博会》

(2) 电话是哪一位发明家的成果？(2 分) 1876 年世博会上中美两国展品的差异说明了什么？(1 分)

材料三 右图是 2010 年上海世博会会徽，这是综合性世博会首次在发展中国家举行，上海世博会的主题是“城市，让生活更美好”。



(3) 综合性世博会从发达国家转移到发展中国家举行，反映了世界经济发展的什么趋势增强？(2 分) 世博会落户中国说明了什么？(2 分)

32. (1) 蒸汽机。(2 分) 火车(汽船)(1 分)；(2) 贝尔。(2 分) (中国参展的都是农产品和手工业品，美国都是现代工业品) 说明当时中国落后于世界历史发展潮流。(1 分，或者工业落后，工业化水平低等答案言之有理即可得分) (3) 经济全球化。(2 分) 中国综合国力增强，国际地位提高。(2 分，其它答案如经济发展迅速等言之有理亦可酌情给分)

(2010·辽宁沈阳) 15. 史料是我们研究历史的重要载体，直观地描述了历史的发展进程。

阅读下列五则材料，按照题目要求所选材料前的序号及字母符号填到答题卡的指定位置上。

材料一 列车在预定的时刻开动了。“运动号”火车头由它的制造者——史蒂芬逊——驾驶带着列车走。火车头上面悬有一面旗，写着：“私人的尝试有益于国家。”

——摘自《世界通史资料选辑》

材料二



民国时期的西式婚礼




中西餐广告

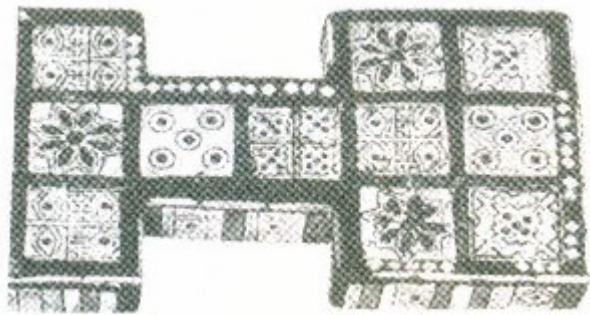
材料三 遵义会议以后，我军一反以前的情况，好像忽然获得了新的生命，处处主动，左右敌人。我军一动，敌又须重摆阵势，因而我军得以从容休息，发动群众，扩大红军。

——刘伯承的回忆录

材料四



尼罗河流域阿布辛贝勒神殿



两河流域乌尔宫廷棋盘

材料五 跨国公司和国家的经济实力比较 (1992年统计) 单位: 10亿美元

公司名称	年销售额	国家	国内生产总值	公司名称	年销售额	国家	国内生产总值
通用汽车公司	132.4	印度尼西亚	126.4	艾克森石油公司	115.7	挪威	112.9
		丹麦	123.5			丹麦	103.6
福特公司	100.1	土耳其	99.7	壳牌公司	96.6	波兰	83.8

请回答:

- (1) 了解中国近代社会生活应选择材料是:
- (2) 了解中国工农红军长征应选择材料是:
- (3) 了解古代亚非文明应选择材料是:
- (4) 了解经济全球化应选择材料是:
- (5) 了解近代交通工具应选择材料是:
- (6) 材料四属于材料类别中的哪一类? A. 第一手资料 B. 第二手资料
- (7) 材料五属于材料类别中的哪一类? A. 实物资料 B. 文献资料

15. (1) 材料二; (2) 材料三; (3) 材料四; (4) 材料五; (5) 材料一; (6) A; (7) B.

(2010·内蒙古包头) 17. 在世界历史舞台上, 大国的发展带动着世界经济的发展的进程, 影响着国际格局的调整。阅读下列材料回答问题: (12分)

材料一 18世纪中期到19世纪中期, 蒸汽和机器引起了欧洲工业生产的革命, 世界从此掀开了新的一页。一位英国经济学家说: 我们已经位居世界经济中心。大洋洲有我们的牧羊场, 北美西部草原上有我们的牛群, 南非和澳大利亚的黄金流向伦敦, 印度人和中国人为我们种茶, 而且我们的工业品已遍布势力到达的每一个地方……。

(1) 依据材料一并结合所学知识, 概述英国成为世界经济中心的条件。(至少三项) (3分)

材料二 美国在19世纪已经具有世界经济大国的实力……二战又使美国成为当之无愧的世界霸主。在发展过程中, 面对来自国内外的各种挑战, 积极应对, 有效调整。

(2) 19世纪中期至20世纪中期美国是怎样应对或解决下列问题的? (3分)

问题一 南北分裂——

问题二 20世纪30年代经济危机——

问题三 法西斯侵略的威胁——

材料三 日本是二战的祸首之一，它在给世界带来灾难的同时，本国也遭到了沉重的打击。可是，日本不仅很快清除了战争废墟，还实现了经济的飞速发展。

(3) 列举二战后日本成为经济大国的原因。(4分)

(4) 纵观世界大国经济发展的历程，你认为发展中国家应如何顺应当今世界经济潮流？(2分)

17. (1) 英国确立资产阶级统治；最早进行并完成工业革命；拥有广阔的海外殖民地；以牛顿为代表的近代科学发展。(每点1分，任意3点即可，总分不得超过3分) (2) 南北分裂——通过战争(南北战争)，镇压叛乱，维护统一。20世纪30年代经济危机——实行罗斯福新政，加强国家对经济的干预。法西斯侵略威胁——组成世界反法西斯联盟，协同行动，打败法西斯。(只要美国参与的反法西斯具体史实，也可得分)(每点1分，共3分) (3) 美国经济上扶持；战后进行民主改革；大量引进世界先进技术；注重国家对经济的干预；制定切实可行的发展规划；长期坚持“教育先行”战略，重视人才培养；实行“贸易立国”战略；注意保持政策一贯性和连续性；(每点1分，任意4点即可，总分不得超过4分) (4) 制定防范风险措施；注重科技教育；学习先进技术；学习先进的经济管理经验；加强国际间的合作与交流；树立可持续发展的观念；建立和完善市场经济体制。(每点1分，任意2点即可)

(2010·内蒙古呼和浩特) 22. 阅读材料，回答问题。

材料：宣言的签署，标志着世界反法西斯同盟的最终形成。此后，“联合国家”在政治上互相合作，在军事上互相配合，对加速反法西斯战争的胜利起了重要作用。

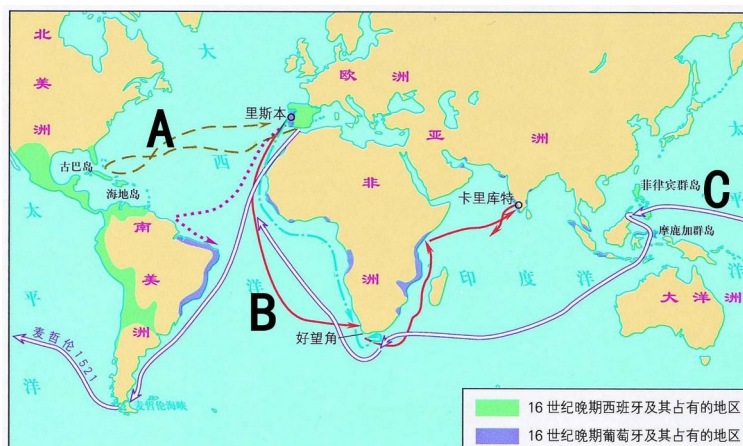
(1) 材料中的“宣言”指的是什么？(1分)

(2) 签署宣言的国家又是怎样“在政治上互相合作，在军事上互相配合”的，请各举一个典型事例。(2分)

22. (1) 《联合国宣言》(1分)；(2) 政治上：美英苏召开雅尔塔会议(1分)；军事上：诺曼底登陆(或苏联对日宣战，出兵中国东北和朝鲜)(1分)。

(2010·四川成都) 34. (12分) 新航路的开辟，打破了各个文明区域间孤立、分散、隔绝的状态，改变了人类历史发展的进程。阅读材料，回答问题。

材料一 新航路开辟示意图



(1) 写出材料一“新航路开辟示意图”中 A、B、C 三条航线的开辟者。简述新航路的开辟对世界历史的发展产生了怎样的影响？(7分)

材料二 “好在世界已经变得越来越小。已无新大陆可以发现。连南极冰层下的土地也已测量清楚，连大西洋中时隐时显的珊瑚岛也已记录在案。已有‘地球村’的说法。东方人、西方人，不过是‘地球村’中‘鸡犬相闻’的村民而已。”

——冯骥才《献给命运的紫罗兰》

(2) 材料二中“地球村”的说法反映了当今世界发展的什么趋势？(2分)

(3) 据所学知识分析，近代以来，哪些因素使“世界变得越来越小”？(3分)

34. (12分) (1) A 哥伦布；B 达伽马；C 麦哲伦。(3分) 新航路的开辟，沟通了欧、亚、非、美四大洲，开始把世界联结成一个整体，扩大各国间的经济文化交流，促进了欧洲资本主义的发展。同时，也引发了西欧人殖民掠夺的狂潮。(4分) (2) 全球化趋势。

(2分) (3) 新航路的开辟；工业革命中新交通工具的出现；第二次工业革命中新交通工具和通讯工具的出现；第三次科技革命中网络技术的出现等等。(3分)

(2010·四川南充) 24. 世界博览会被誉为“经济、科技与文化界的奥林匹克盛会”，历届世博会均反映了当时科技发展的水平及其成就。例如：

1851年伦敦世博会展出了纺织机械、蒸汽机、高速汽轮船；1889年巴黎世博会展出了电动机和世界第一台电梯；1893年芝加哥世博会展出了电灯泡；1962年西雅图世博会首次展出借助高科技威力进入宇宙的航天器；2010年上海世博会展出了会拉小提琴的机器人。

① 上述材料中的蒸汽机和电灯泡分别是由谁发明(改进)的？

② 请按要求对上述材料进行整理归类：

A. 第一次工业革命的发明创造：

B. 第二次工业革命的发明创造：

C. 第三次科技革命的成就：

③ 请结合所学知识，简要分析第一次工业革命的影响。

23. ① 瓦特、爱迪生；② A. 纺织机械、蒸汽机、高速汽轮船。B. 电动机、电梯、电灯泡。C. 航天器、机器人或航天技术，电子计算机技术。③ 创造了巨大的生产力，使社会面貌发生巨大变化。率先完成工业革命的西方资本主义国家逐步确立起对世界的统治，世界形成了西方先进、东方落后的局面。

(2010·江苏无锡) 36. 阅读下列材料，回答问题(4分)

材料一 1851年，第一届世博会在英国召开……引擎、水力印刷机、纺织机械在本届世博会上向参观者展示了现代工业的发展和人类焕发出的无限想象力。当时的清朝，只有极少数士大夫睁开眼睛看世界，更多的则在天朝上国里昏昏欲睡。

(1) 英国之所以能够举办第一届世博会，与第几次工业革命有关？(0.5分)

(2) 英国完成工业革命后，20世纪40年代对中国发动了什么战争？(0.5分)

材料二 1904年，美国圣路易斯世博会设有八个展馆：生产馆、综合工业馆、教育和社会学馆、运输馆、机械馆、电气馆、矿物学和冶金馆，以及文理学科馆。

(3) 在1904年圣路易斯世博会上，游客们在运输馆可以看到哪一种效验工具？(0.5分)

(4) 游客们在电气馆看到了电灯，其最早发明者是谁？(0.5分)

材料三 1962年，美国西雅图世界博览会的标志性建筑“太空针”配有538个音乐钟、44个放音喇叭、四周悬浮着20000个彩色气球，气球上印着“相会西雅图”的字样。“太空时代的人类”成了1962年西雅图世博会的主题。

(5) “太空时代的人类”成了1962年西雅图世博会的主题，这可以归功于第三次科技革命，这次科技革命使人类进入了什么时代？(0.5分)

材料四 2010年，主题为“城市，让生活更美好”的上海世博会开幕。“中国馆”以“东方之冠，鼎盛中华，天下粮仓，富庶百姓”的构思主题，表达中国文化的精神与气质。展馆的展示以“寻觅”为主线，带领参观者行走在“东方足迹”、“寻觅之旅”、“低碳行动”三个展区，在“寻觅”中发现并感悟城市发展中的中华智慧。



(6) 上海哪一地区的开发给上海带来了巨大的变化，为举办世博会创造了良好条件，这一地区已发展成为国际化的经济中心和金融中心？(0.5分)

(7) 上海世博会主题“城市，让生活更美好”，体现了以人为本的理念。14~16世纪的什么运动使人们开始冲破封建神学的束缚，强调以人为中心，主张追求现世生活中人的幸福？(0.5分)

(8) 请你为怎样建设美好的城市提出一个建议(0.5分)

36. (1) 与第一次工业革命有关。(2) 鸦片战争。(3) 汽车、飞机。(4) 爱迪生。(5) 信息时代。(6) 浦东开发区(浦东新区)。(7) 文艺复兴。(8) 答案提示：可以从环境建设、交通建设、文明建设等方面提出你的建议。(言之有理，即可。)

(2010·江苏扬州) 34. 阅读下列材料：

材料一 (总有一天)所有的欧洲国家……都将紧紧地融合在一个高一级的整体里。

——雨果

材料二



——北师大版九下《历史》教材

材料三 2002年以来，欧洲的老百姓感受到了每天都看得见、摸得着的“口袋里的欧洲”。

——《新课程历史教学研究与资源丛书》

请回答：

(1) 20世纪60年代欧洲国家为实现材料一中“高一级的整体”成立了什么组织？(1分)

(2) 据材料二并结合所学知识，指出该组织成立的目的。(1分)

(3) 材料三中“口袋里的欧洲”指的是什么？(1分)

(4) 上述材料反映了欧洲什么发展趋势？(1分) 给我们什么启示？(1分)

34. (1) 欧洲共同体。(2) 为了西欧国家的经济发展，资源共享、优势互补。(3) 指欧盟各国逐步使用单一货币——欧元。(4) 说明欧洲经济政治一体化。启示：加强区域经济合作，顺应经济全球化趋势，合作共赢。(言之成理即可。)

(2010·山东日照) 29. (11分) 二战后国际关系呈现出新的特点。阅读材料，回答问题。

材料一 美国今天是一个强大的国家，没有任何一个国家比他更强大。……这意味着，我们拥有这样的力量，就得挑起领导的担子并承担责任。

——哈里·杜鲁门(1946年)

(1) 材料一反映了美国的什么愿望？由此，美国对苏联等社会主义国家实行了什么政策？这一政策开始实施的标志性事件是什么？(5分)

材料二



图一 古巴导弹危机



图二 苏军占领阿富汗

(2) 指出图一、图二所示历史事件的实质，并简要分析这些历史事件对国际社会的影响 (4分)

材料三 2010年2月9日，在当日例行记者会上，有记者提问：随着国力的增强，中国在国际舞台上将越来越强势，在国际事务中将寻求领导地位，也印证了“国强必霸”这一权力政治逻辑。请问发言人对此有何评论？我国外交部发言人马朝旭表示：所谓“国强必霸”的逻辑既有悖于中国的历史，也有违中国人民的意志。中国现在不称霸，将来发展了也永远不称霸。

——据新浪网新闻中心

(3) 材料三中，马朝旭的回答体现了新中国建立以来一贯奉行的什么外交原则？(2分)

29. (1) 为了维护自己的利益或者霸权主义和强权政治的思想形成 (2分)；冷战政策 (2分)；杜鲁门主义的出台 (2分) (2) 古巴导弹危机与苏军占领阿富汗的实质是霸权主义与强权政治。(2分) 古巴导弹危机促使苏联下决心大力发展核武器，使苏联在全球争夺中逐步转为攻势，加剧了冷战的强度，对国际战略格局影响深远。(意思符合即可得分2分) (3) 独立自主和平外交原则

(2010·福建漳州) 30. 20世纪以来，国际形势风云变幻。如今，国与国之间日益成为相互依存、密不可分的整体。阅读下面三则材料回答向题。(10分)

材料一 从巴黎和会到华盛顿会议，列强建立起“凡尔赛—华盛顿体系”，确立了战后世界新秩序。

——《北师大九年级(下)》

材料二 “英雄的苏联军民不仅捍卫了祖国的主权和尊严，而且为世界反法西斯战争做出不可磨灭的历史贡献。”“许多优秀俄罗斯儿女在中国大地上献出宝贵生命，中俄两国人民在反法西斯战争中结下深厚友谊。”

——胡锦涛主席在俄罗斯纪念卫国战争胜利60周年活动上讲话

材料三 面对国际形势变化的新特点，中国政府把握机遇，积极参与双边和多边领域的对话与合作。

——《华师大八年级(下)》

请回答：

(1) 材料一中，为确立战后世界新秩序，列强签署了哪两部主要条约？(2分)

(2) 材料二中胡主席肯定了苏联人民反法西斯战争的历史贡献，那么，二战中苏德战场的转折点是哪一次战役？(2分)“许多优秀俄罗斯儿女在中国大地上献出宝贵生命”指哪一事件？(2分)

(3) 材料二中国“积极参与双边和多边领域的对话与合作”，那么，20世纪九十年代，中国积极参与区域合作的重大事件是什么？(2分)

(4) 当前，人类依然面临众多的危机与挑战，如地区冲突，贸易争端等。根据以上材料，你认为怎样才能有效地解决这些问题？(2分)

30. (1) 《凡尔赛和约》、《九国公约》(2分) (2) 斯大林格勒保卫战。(2分) 1945年8月8日,苏联对日宣战,出兵中国东北。(2分) (3) 1991年中国加入亚太经合组织。(2分) (4) 各国应加强区域经济合作,顺应经济全球化趋势,合作共赢。(言之成理即可。)(2分)

(2010·贵州铜仁) 28. 阅读材料,结合教材探究回答下列问题:(12分)

材料一 第一次世界大战的规模空前,战场由最初的欧洲扩大到非洲、亚洲、太平洋地区,先后有三十多个国家卷入战争。……1918年11月,德国投降,历时四年多的第一次世界大战以同盟国的失败而告终。这场战争给各国人民带来了深重的苦难,参战各国共死伤三千多万人,其中被战争、饥饿、疾病等夺去生命的超过一千万。

——九年级历史上册

材料二 第二次世界大战中人类历史上一场空前的浩劫,几千万人失去了生命,无数的财产被毁,第二次世界大战也彻底改变了世界面貌,影响了世界历史的发展进程。

——九年级历史上册

请回答:

(1) 一战的导火线是什么?战争开始的标志是什么?(2分)

(2) 一战前参加了同盟国集团,战争开始后为了自身利益又参加到协约国方面作战的国家是哪个?中国在一战中参加哪方作战的?(2分)

(3) 一战是什么性质的战争?被称为“凡尔登绞肉机”的凡尔登战役说明了什么?(2分)

(4) 二战爆发的根本原因是什么?一战和二战比较最大的不同是什么?(2分)

(5) 二战给全世界留下哪些历史启迪?(答出两点,切合题意即可)(4分)

28. (1) 萨拉热窝事件(1分);1914年7月底,奥匈帝国向塞尔维亚宣战(1分);(2) 意大利(1分);协约国(1分);(3) 是一场帝国主义争夺战争(1分);说明了战争的残酷性(或惨烈性)(1分);(4) 帝国主义政治经济发展不平衡(1分);性质不同(1分);(5) (答出两点,切合题意即可)(4分)

A. 和平来之不易,战争的悲剧决不能重演,我们要珍惜和平;

B. 人民是主宰自己命运的主人,是社会前进的推动者;

C. 人类的命运息息相关,要实现共同发展,只有加强国际合作。

D. 各国都应当互不侵犯,不干涉内政,和平共处;

E. 社会制度与意识形态不同的国家在一定的条件下能够联合起来,共同应对人类生存发展面临的问题共创美好未来。

(2010·江苏常州) 33. 阅读下列材料:

材料一 19世纪法国著名的历史学家托克维尔认为:“当今世界存在着两个伟大的民族,……他们就是俄国人和英裔美国人。这两个民族是在不知不觉中发展起来的,正当世界注意着其他地方的时候,他们却突然加入第一流民族行列。……两者出发点不同,道路各异,尽管如此,看来他们都在上帝的意志的驱使下,为今后有朝一日能够掌握半个世界的命运而奔波”

材料二 俄国——苏联——俄罗斯联邦,无论是昨天和今天,甚至明天,都是中国最大的近邻。……十月革命爆发的消息传到中国后,革命家李大钊立即满怀信心地断言:“试看未来之域中,定是赤旗之天下”,另一位伟大的革命家毛泽东也大声宣布:“十月革命一声炮响,给我们送来马克思主义”。走苏联的路,建立苏维埃政权,人民当家作主,这一个个理想激励着几代中国人为之不惜抛洒热血。

——张建华:《俄国史·自序》

请回答:

(1) 据材料一结合所学知识,分别列举两个民族在19世纪中期“发展起来的”重大历史事件

及其历史作用？（5分）

（2）材料一中“为今后有朝一日能够掌握半个世界的命运”的预言是否有道理？为什么？（2分）

（3）据材料二结合所学知识，分析十月革命对世界历史产生的影响（2分）

（4）据材料二结合所学知识，从“十月革命一声炮响，给我们送来马克思主义”至1921年，在中国发生了哪些改变中国历史命运的重大事件？中国人民从此“当家作主”是在哪一历史事件之后？（3分）

33.（1）俄国：通过废除农奴制改革，走上了发展资本主义的道路。（2分）美国：通过内战，使国家和民族的统一得到维护，资本主义更加快速的发展。（3分）（2）有道理。

（1分）二战后，形成了以苏美两极对峙的世界格局。（1分）（3）影响：十月革命把社会主义的理论变为现实（或俄国成为第一个社会主义国家，在人类社会的现代化进程中开创了社会主义探索道路）；为世界上落后国家的发展树立了榜样。（2分）（4）事件：“五四”运动；中国共产党的诞生；中华人民共和国成立。（3分）

（2010·内蒙古赤峰）24. 阅读材料，回答问题（12分）。

材料一 列宁说：我们计划……用无产阶级国家直接下命令的办法在一个小农国家里按共产主义原则来调整国家的产品生产和分配。现实说明我们错了。

——摘自《世界历史》九年级下册

材料二 罗斯福在总统就职演说中说：“……叹交换手段难逃贸易长河冰封；看工业企业尽成枯枝残叶；农场主的产品找不到市场；千万个家庭的多年积蓄毁于一旦。”

——摘自《世界历史》九年级下册

材料三 实现四个现代化，要求大幅度地提高生产力，也就必然要求多方面地改变同生产力发展不相适应的生产关系和上层建筑，改变一切不适应的管理方式、活动方式和思想方式，因而是一场广泛、深刻的革命——中共十一届三中全会公报

——摘自《中国历史》八年级下册

请回答：

（1）根据材料一和所学知识回答列宁是如何“改错”的？（2分）

（2）材料二中罗斯福说的这种历史现象发生在什么时候？罗斯福是如何改变这种状况的？罗斯福实行的措施对现在的美国经济有什么借鉴作用？（6分）

（3）根据材料三和所学知识回答中国政府是如何调整“同生产力发展不相适应的生产关系”的？（2分）

（4）以上所实行的三种政策的共同作用是什么？（2分）

24.（1）列宁在苏俄实行新经济政策（2分）。（2）1929~1933年经济危机时（2分）。实行“新政”，国家对经济进行干预（2分）。可以通过国家对经济进行干预的办法来摆脱经济危机的困境（言之成理即可）（2分）。（3）在十一届三中全会上，作出把党和国家的工作重心转移到经济建设上来，实行改革开放的伟大决策（2分）。（4）通过政策调整，使国家经济得到恢复和发展（言之成理即可）（2分）。

（2010·湖南永州）34.（7分）阅读下列材料并回答问题。

材料一 公元1500年前后的地理大发现，拉开了不同国家相互对话和相互竞争的历史大幕……

材料二 大约在150年前，（一个）位于太平洋西岸的岛国，在西方殖民者坚船利炮的胁迫下遭遇了巨大的生存危机。出人意料的是，它将此作为自己弃旧图新，迎头赶上的历史机遇，并最终使自己成为东方世界第一个摆脱西方大国的欺凌，顺利实现现代化的国家……今天，这个岛国依然是世界第二大经济强国。

材料三 在美洲大陆北部，有一个飘扬着星条旗的国家，……这个国家出现，虽然只有

230多年的历史，但却演绎了大国兴起的罕见奇迹。它在欧洲文明的基础上独创性地走出了一条自己的发展之路，将世界第一强国的位置占据了一个多世纪。

——以上材料由纪录片《大国崛起》解说词改编

请回答：

(1) 材料一所说的“地理大发现”指的是什么历史性事件？(2分)

(2) 材料二中的“岛国”在19世纪60年代末是如何“弃旧图新”实现现代化的？(2分)

(3) 材料三中的“飘扬着星条旗的国家”在强国之路上是如何成功解决殖民压迫、国家分裂和经济危机的困扰的？(3分)

34. (1) 新航路的开辟 (2分)；(2) 1868年日本明治维新，走上了发展资本主义的道路。(2分) (3) 美国通过独立战争推翻英国的殖民统治；(1分) 通过南北战争维护了国家统一；(1分) 实行“罗斯福”新政，摆脱了经济危机的困扰。(1分)

(2010·山东菏泽) 19. 2010年是世界人民反法西斯战争胜利65周年。5月30日温家宝总理访问日本，在谈到历史问题时说，我们绝不会延续仇恨。阅读材料，回答问题。(7分)

材料一 1941年12月8日，美国总统罗斯福发表演说：“昨天，1941年12月7日——它将永远成为国耻日……不论要用多长时间才能战胜这次预谋的侵略，美国人民将以自己正义的力量去赢得彻底的胜利。”

(1) 1941年12月7日发生了什么事件？(1分)

材料二 宣言的签署，标志着世界反法西斯同盟的最终形成。此后，“联合国”在政治上互相合作，在军事上互相配合，对加速反法西斯战争的胜利起了重要的作用。

(2) 材料中的“宣言”指的是什么？签署宣言的国家是怎样“在政治上互相合作，在军事上互相配合”的？请你试举两例加以说明。(4分)

材料三 奥斯维辛集中营是纳粹德国时期建立的劳动营和灭绝营之一，由于有上百万人在这被杀害，它又被称为“死亡工厂”。1979年，联合国教科文组织将其列入世界文化遗产名录。



带着孩子走向集中营毒气室的妇女

(3) 从奥斯威辛集中营列入世界文化遗产名录到温总理“绝不会、延续仇恨”的讲话，你认为我们应该如何珍惜今天的和平？(2分)

19. (1) 日本偷袭珍珠港。(1分) (2) 《联合国宣言》；(1分) 各国保证将用自己的全部人力和物力，联合起来，彻底打垮法西斯国家。(1分) 如1942年7月-1943年2月；苏联红军在斯大林格勒战役打败德军，成为第二次世界大战的重要转折点；(1分) 1944年6月6日凌晨；美英盟军在诺曼底登陆，标志着欧洲第二战场的开辟，加快了德国灭亡。(1分) (3) 以史为鉴，不要忘记战争给人类带来的灾难。警惕好战势力的抬头。加强合作交流，谋求共同发展。人类应团结起来，应对共同面临的问题。等等(2分) (言之有理即可)

(2010·贵州毕节) 27. 阅读下列材料：

材料一：十月革命一声炮响，给我们送来了马克思列宁主义。

——毛泽东

材料二：社会主义究竟是什么样子，苏联搞了许多年，也并没有完全搞清楚。可能列宁的思路比较好，搞了个新经济政策，但是后来苏联的模式僵化了。

——邓小平

请回答：

- (1) 世界上第一次取得胜利的社会主义革命是指哪一次革命？(1分)
- (2) 为了扩大宣传马克思主义，李大钊等在北京创办了什么刊物？(1分)
- (3) 中苏(俄)两国取得革命胜利所走的革命道路分别是什么？(1分)
- (4) 材料二中“模式僵化了”这种僵化了的模式是什么？(1分)
- (5) 想一想，中苏(俄)两国对社会主义的探索最终的结果是怎样的？它给了我们什么启示？(4分)

27. (1) 俄国十月革命(1分)；(2) 《每周评论》(1分)；(3) 俄国：城市包围农村，武装夺取政权。中国：农村包围城市，武装夺取政权。(1分) (4) 斯大林模式(1分)；(5) 苏联：失败；中国：改革开放使经济发展，综合国力增强，人民生活水平提高。(2分) 搞经济建设要从本国实际出发，要按客观经济规律办事；要坚持马克思主义的基本原则，坚持党的领导。要提高人民的生活水平等。(言之有理即可，2分)

(2010·湖南娄底) 32. 阅读下列材料：

材料一 “在美洲大陆北部，有一个飘扬着星条旗的国家……这个国家的出现，虽然只有230多年的历史，但却演绎了大国兴起的罕见奇迹。它在欧洲文明的基础上独创性地走出了一条发展之路，将世界第一强国的位置占据了一个多世纪。”

——《大国崛起》解说词

材料二 以下是1948年以来历次“美国人心目中最伟大的总统”评选结果

位次	历次评选结果				
	1948年	1962年	1977年	1984年	2000年
1	林肯	林肯	林肯	林肯	林肯
2	华盛顿	华盛顿	华盛顿	罗斯福	罗斯福
3	罗斯福	罗斯福	罗斯福	华盛顿	华盛顿

结合所学知识，请回答：

- (1) 材料一中的“飘扬着星条旗的国家”是指哪个国家？(2分) 该国通过哪两次资产阶级革命为本国的资本主义发展扫除了障碍？(2分)
- (2) 林肯为什么能够成为“美国人心目中最伟大的总统”？(4分)
- (3) 罗斯福对美国历史的发展做出了哪些贡献？(4分)
- (4) 美国成为世界强国，其经验可以给我国现代化建设带来哪些启示？(2分)

32. (1) 美国。美国独立战争和美国南北战争。(2) 废除了奴隶制，维护了国家的统一。(3) 通过实施罗斯福新政，使美国渡过了经济危机，巩固了资本主义制度。(4) 重视教育；重视科技；注意培养人才等。

探究题 (问答题)

(2010·安徽芜湖) 16. 国际关系史是历史学习的一个重要内容。某校历史小组同学围绕以

下三个主题开展了探究活动。请你参与并帮助他们回答问题。

主题一：今年是抗美援朝战争爆发 60 周年。60 年前，中国人民志愿军奉命出兵朝鲜，同朝鲜军民并肩作战，五战五捷，把美国侵略军赶回到“三八线”附近，取得了抗美援朝战争的胜利。

(1) 简述中国人民志愿军出兵朝鲜的原因。(3 分)

(2) 抗美援朝战争的胜利有什么历史意义？(3 分)

主题二：1999 年，以美国为首的北约越过联合国安理会，对南联盟进行狂轰滥炸，造成南联盟的重大人员伤亡和物质损失。中国驻南联盟大使馆也遭到北约导弹袭击。这就是科索沃战争。其间，美国首次打出了“人权高于主权”的旗号。

(3) 应该如何评价科索沃战争？(2 分)

(4) 美国提出的“人权高于主权”的实质是什么？(2 分)

主题三：中美建交后，仍不断有摩擦和冲突。如，2004 年撞机事件，2009 年美国向台湾出售武器等。因此，有同学认为还是不与美国建交为好；有的同学则认为，中美之间虽然有一定的摩擦和冲突，但双方有更广泛的合作空间，应该友好合作。

(5) 请谈谈你对中美关系的认识。(4 分)

16. (1) 美国侵略朝鲜，并严重威胁中国的安全；应朝鲜民主主义共和国请求，中国政府派兵援助。(3 分) (2) 捍卫了我国的安宁，巩固了新生的人民民主专政，为我国经济建设创造了和平环境；大大提高了我国的国际地位，也为保卫世界和平作出了巨大的贡献。

(3 分) (3) 是美国对世界多极化趋势的挑战，表明世界多极化趋势将是长期的、曲折的斗争过程；以美国为首的北约违背国际法基本准则，公然对一个联合国成员国动武，严重削弱了联合国的作用。(2 分) (4) 它的实质是美国为首的西方国家干涉他国内政的借口，同时也是美国作为超级大国实施霸权主义、推行其全球战略目标的途径。(2 分) (5) 中美两国是世界大国，同时也是社会制度与意识形态不同的两个国家，两国关系直接影响到世界和平与稳定；随着世界经济全球化趋势的加快，两国之间应该加强合作，发展友好关系，这对全世界的和平、稳定、发展具有重要意义。(4 分) (本题不拘泥于文字表述；答出其他符合题意的答案也可酌情给分)

(2010·山东聊城) 44. 20 世纪经历了两次世界大战和长达近半个世纪的冷战，世界格局出现三次大变动。

请回答：

(1) 两次世界大战后确立的世界格局分别称作什么？(2 分)起支配作用的国家分别是哪些？(2 分)将答案填入下面的表格中。

	格局	国家
第一次世界大战后		
第二次世界大战后		

(2) 某学者拟撰写题为《冷战的起与止》的著作，回顾冷战历程。作者应该对体现冷战对峙的哪些重大事件进行评述？(4 分)应该用哪一事件作为冷战结束的标志？(1 分)

(3) 概括当今世界格局的基本特征。(2 分)

44. (1)

	格局	国家
第一次世界大战后	凡尔赛——华盛顿体系(1分)	英国、法国、美国(1分，要求至少写出其中两个)
第二次世界大战后	两极格局(雅尔塔体系)(1分)	美国、苏联(1分，要求写全)

	分)	
--	----	--

(2) 重大事件：“铁幕”演说；杜鲁门主义出台；马歇尔计划实施；建立北约；成立华约；北约和华约对峙；德国分裂；修筑“柏林墙”；美苏争霸；古巴导弹危机。(4分。每点1分，答出其中4点即得满分。) 结束标志：苏联解体(或东欧剧变、或苏东剧变)。(1分) (3) 特征：“一超多强”；世界向多极化方向发展；多极化趋势加强；和平与发展是时代主题；缓和与紧张、和平与动荡并存。(2分。每点1分，答出其中两点即得满分。)

(2010·四川遂宁) 48. (12分) 世界博览会 (Universal Expo, Expo) 是一个富有特色的讲坛，它鼓励人类发挥创造性和主动参与性。把科学性和情感结合起来，将种种有助于人类发展的新概念、新观念、新技术展现在世人面前。因此，世博会被誉为世界经济、科技、文化的“奥林匹克”盛会。阅读下列材料，回答问题。

材料一 1851年伦敦举办第一届世界工业品博览会；1876年费城美国独立百年博览会；1962年西雅图廿一世纪博览会；1964年纽约世界博览会。

材料二 中国政府第一次派出代表，以国家身份参加的世界博览会是1876年的费城世界博览会。

材料三 中国2010年上海世界博览会 (Expo 2010)，是第41届世界博览会，也是由中国举办的首届世界博览会。上海世博会以“城市，让生活更美好” (Better City, Better Life) 为主题，总投资达450亿人民币，创造了世界博览会史上最大规模记录。

材料四 据统计，在已经举办的41届世博会中，全世界有16个国家承办，涉及欧洲、北美洲、亚洲已经大洋洲，其中亚洲的日本举办了四次 (在20世纪70—80年代举办了3次)。

——上述材料均摘自新浪网

请回答：

(1) 收集、整理以及处理相关历史信息是历史学习的一项基本技能和方法，请根据材料一和所学知识，完成下表。(7分)

三次科技革命名片

类别	第一次科技革命	第二次科技革命	第三次科技革命
开始时间	18世纪60年代	19世纪下半叶	
标志			
核心国家		美国	美国
核心国的主要条件	中产阶级统治确立	内战扫清资本主义发展障碍	二战后经济实力大增、政局稳定
革命后核心国地位	“世界工厂”		超级大国
结论			

(2) 对比分析是历史学习的又一方法。材料三与材料二比较，中国参与世界博览会有何变化？出现这种变化的原因是什么？(2分)

(3) 知识联系法是历史学习的常用方法。据材料四和所学知识，指出20世纪70~80年代日本能举办三次世界博览会的主要原因。(1分)

(4) 世界博览会发展是历程，说明了当今世界经济发展呈现什么趋势？此外，中国顺应这一趋势还采取了什么重大举措？(2分)

48. (1) 时间：20世纪40—50年代。蒸汽机的广泛应用；电力和内燃机的广泛应用；电子计算机技术、生物工程技术的广泛应用。核心国：英国。地位：世界第一。结论：科学技术是第一生产力。(2) 不同：从参加到承办。原因：综合国力增强。(采意给分)

(4) 二战后日本经济“高速增长”，成为世界经济大国；是战后资本主义发展速度最快的国家之一；创造战后东亚奇迹；（任1点1分）(5) 经济全球化。（1分）2001年中国加入了世界贸易组织、中国加入亚太经合组织、2008年中国举办29届奥运会、组建中国——东盟自由贸易区。（任1点1分）

(2010·四川宜宾) 16. 请按要求完成下列问题：

材料一：（见右图）

(1) 右图所示历史人物是谁？框中的这段话，反映了他怎样的治国思想（2分）

材料二：据美国《财富》杂志报道，1932年美国有3400万人没有任何收入，占全国人口总数的28%。千百万人只是因为像牲畜一样生活，才免于死亡。

1933年，罗斯福总统就职演说中指出：“我们最首要的任务是使人民有就业机会。假如我们明智地勇敢地去，这不是一个不能解决的问题。由政府本身直接募工，任务就可以部分地完成。

(2) 导致《财富》杂志报道的现象出现的直接原因是什么？根据材料二指出，为解决这一问题，罗斯福总统提出了什么办法？（3分）

材料三：见右图

(3) 材料三中彩车上牌子所示的“联产承包”方式最早出现在我国哪个省？这种方式“好”在哪里？（3分）

(4) 综上，你从中得到什么启示？（2分）

16. (1) 唐太宗；轻徭薄赋。(2) 1929~1933年世界经济危机；大力兴办公用工程，增加就业机会。(3) 安徽省；农民具有劳动自主权，能够充分调动劳动者的生产积极性。

(4) 国家要发展，应该充分调动劳动者的生产积极性。

(2010·浙江湖州) 26. (10分) 2010年5月至10月，第41届世博会在中国上海举行。世博会就是一个微缩的世界，是“地球村”的生动写照。置身宏大的世博园，人们最能切身感受到的是“盖今之天下，乃地球合一之天下”的道理。上海世博会既是向世界展示中国的舞台，也是世界加强与中国沟通的桥梁。这是中国的机遇，也是世界的机遇。

根据材料，回答问题：

(1) 写出上海世博会的主题。（2分）

(2) 材料体现了当今世界哪一发展趋势？这一发展趋势对世界经济的发展产生怎样的积极影响？（4分）

(3) 根据这一发展趋势，我国应坚持哪一基本国策？怎样坚持这一基本国策？（4分）

26. (1) 城市，让生活更美好。（2分）(2) 经济全球化。（2分）经济全球化有利于世界范围内资源的合理配置；有利于各国各地区加强经济技术合作；有利于世界经济和人类的发展。（2分）(3) 对外开放。（1分）我国对外开放是对世界上所有国家开放，经济、政治、文化等各个方面都要开放。（1分）必须始终把独立自主、自力更生作为自己发展



为君之道，必须先存百姓，若损百姓以奉其身，犹割股以啖腹，腹饱而身毙。




1984年国庆35周年庆典游行时，载着“联产承包好”的牌子的彩车通过天安门广场


的根本基点。同时，又必须打开大门搞建设，把对内搞活和对外开放结合起来。（1分）既要积极敞开国门又要维护自身安全，既要借鉴、吸收一切先进的东西又要抵制一切腐朽的东西。（1分）

（2010·浙江台州）23．★着眼家乡发展 共筑和谐台州★（8分）

九（1）班同学围绕“吉利收购沃尔沃”的主题展开课堂讨论，请你根据两位同学提供的信息，参与讨论。



中国拥有世界上增长最快、竞争最激烈的汽车市场。吉利由著名的企业家李书福投资创办，是一家富有活力、成长迅速的汽车公司，凭借低成本占有较大市场，但技术相对落后。



沃尔沃品牌响，拥有大量知识产权与核心技术，员工素质高，技术实力全球领先，但成本高，销量小。

（1）吉利公司的经济性质是什么？吉利收购沃尔沃事件反映了当今世界经济的基本特征是什么？（2分）

（2）吉利公司能不断发展壮大，离不开国家哪些政策的支持？（2分）

（3）请你结合上述信息谈谈吉利与沃尔沃如何实现“双赢”？（4分）

23．（1）私营经济（非公有制经济）；经济全球化（全球经济一体化）。（2）国家鼓励支持引导非公有制经济发展，并对非公有制经济依法实行监督和管理；坚持对外开放的基本国策。（3）要实现“双赢”必须做到在竞争中合作，取长补短、相互促进、共同提高。沃尔沃为吉利提供先进技术，提高产品质量，吉利可帮助沃尔沃降低成本，扩大市场，两者实现优势互补，共同提高。

（2010·重庆綦江）22．20世纪人类经历了两次世界大战和长达近半个世纪的冷战，导致了世界格局的三次大变动。结合所学知识请回答下列问题：

（1）分别指出两次世界大战的性质。（2分）

（2）第一次世界大战后形成的世界格局是什么？第二次世界大战后形成的两极格局与哪次重要国际会议有关？（2分）

（3）第二次世界大战后大力推行“冷战”政策的是哪个国家？“冷战”开始和世界两极格局结束的标志各是什么？（3分）

22．（1）第一次世界大战是一场争夺世界霸权的非正义的帝国主义战争（1分），第二次世界大战是一次世界范围的反法西斯的正义战争。（1分）（2）“凡尔赛华盛顿体系”（1分）；雅尔塔会议（1分）。（3）美国（1分）；杜鲁门主义（1分），东欧剧变和苏联解体（1分）。

（2010·福建福州）30．（13分）某校开展“课外学史”活动，庆祝世界反法西斯战争胜利65周年，同学们把四种课外学史方式收集的资料制作成网页，现邀你共同探究。

纪念世界反法西斯战争胜利65周年

方式一：赏乐学史

MORE

方式二：观影学史

MORE

 <p>(1) 歌中反映了当年勇士们怎样的抗战决心? 由此中国抗日战争进入什么局面? (4分)</p>	 <p>(2) 请写出影片中参加登陆作战的主要盟军力量。(2分)</p>
<p>方式三：看图学史 MORE</p>	<p>方式二：识物学史 MORE</p>
 <p>(3) 根据所学知识判断图中在德国国会大厦上挥舞旗帜的是哪国士兵? (1分)</p>	 <p>“日军南京受降仪式请柬”原件</p> <p>(4) 写出日本宣布无条件投降的时间。(2分)</p>
<p>留言板 MORE</p>	
<p>(5) 课外学史应注意历史材料的真实性, 上述四种方式最符合此要求的是哪一种? 请你再举一种课外学史的有效途径。(4分)</p>	

30. (1) 誓死抗战的决心; 进入全民族抗战局面。(答案符合题意, 言之有理即可)
 (2) 美、英; (3) 苏联; (4) 1945年8月15日; (5) 方式四: 识物学史。阅读书籍、寻访古迹、参观博物馆、上网搜索、听长辈讲过去的经历等。(答案符合题意, 答出一点即可)

(2010·四川内江) 11. 启蒙运动的浪潮给欧洲思想文化领域带来了清新的空气, 先进的思想理论为资产阶级取得政治经济上的统治地位作好了思想准备。有这样一位思想家, 他“对封建制度进行了无情的揭露与批判, 宣扬人天生的自由, 主张法律面前人人平等”。据此回答:

- (1) 上文中的“他”是谁? 启蒙运动的中心在哪里? (2分)
- (2) “他”的思想理论在他的祖国是怎样实践的? 请用具体史实说明。(6分)
- (3) 欧洲启蒙思想对近代中国社会也产生了重大影响, 出现了一场推翻两千多年封建君主专制的资产阶级民主革命。请写出这场革命的名称及指导思想。(2分)

11. (1) 伏尔泰；法国（各1分，共2分）；(2) 攻占巴士底狱，法国大革命爆发；通过了《人权宣言》；法兰西第一共和国成立；处死路易十六；雅各宾派专政（每点2分，不超过6分，其它答案酌情给分）；(3) 辛亥革命；三民主义（各1分，共2分）。

(2010·河北) 33. 学以致用，探究问题。（12分）

上海见证了近代以来中国艰难曲折的发展历程。

(1) 1910年，一位叫陆士谔的上海青年创作了幻想小说《新中国》，虚构了100年后在上海浦东举办万国博览会的情景。上海当时经济和社会生活中的哪些现象有助于陆士谔的幻想？

(2) 如今，幻想已成现实。上海世博会是第一次在发展中国家举办的世博会，这反映了当今世界发展的哪些趋势？

(3) 请据当今中国、世界发展的趋势，用一句话预测百年后中国的整体状况。

33. (1) 工业比较发达；火车、轮船等交通工具的使用；电报、电话等工具的使用；电影和娱乐方式的兴起；报纸等传媒业的发展。

(2) 政治格局的多极化；经济全球化。(3) 中华民族实现振兴；中国成为社会主义现代化强国等。

(2010·江苏徐州) 18. (8分) 团结合作，实现共赢是人类共同追求的目标。结合所学知识，完成下列有关“合作共赢”主题的探究任务。

【团结合作，实现共赢】

(1) 在民族危亡的紧要关头，国共两党摒弃前嫌，一致对外，最终取得了抗日战争的胜利。请写出中国抗击日军取得重大胜利的两次战役。(2分)

(2) 在第二次世界大战期间，面对德意日法西斯的猖狂进攻，1942年1月，中、苏、美、英等26国在华盛顿签署了一个重要文件，标志着世界反法西斯同盟正式形成，加速了反法西斯战争的胜利。这个文件的名称是什么？(1分)

【化友为敌，美苏对峙】

(3) 二战结束后，美苏由合作转为敌对，美国针对苏联等社会主义国家采取了“冷战”政策。“冷战”开始的标志性事件是什么？(1分)“冷战”政策的推行对战后世界局势产生了巨大影响使世界形成了怎样的格局？(1分)

【感悟历史，获取真谛】

(4) 当今世界，国家之间应该在哪些问题上加强合作？(2分)请你谈谈对“合作共赢”的认识。(1分)

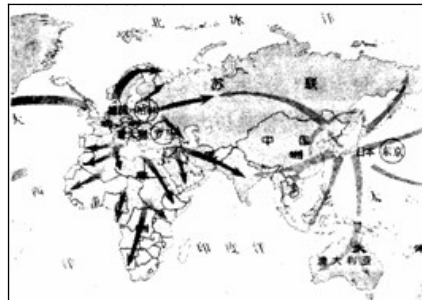
18. (1) 台儿庄战役，(1分)百团大战。(1分)(2) 《联合国国家宣言》。(1分)

(3) 杜鲁门主义。(1分)两极格局。(1分)(4) 环境保护(环保)；资源利用(能源)；打击恐怖活动(反恐)；防止核扩散；打击毒品走私；解决贫富悬殊；解决地区冲突和民族冲突等。(1点1分，答出其中任意2点即给2分。不拘泥于此参考答案，只要符合题意、言之成理即可给分)认识：只有团结合作，才能实现共赢；合则两利，斗则俱伤；相互尊重；团结协作；平等协商；互利互惠；共同维护和平与安全等。(答出其中任意1点即给1分。不拘泥于此参考答案，只要符合题意、言之成理即可给1分)

(2010·江苏苏州) 32. 在团结合作中实现共赢是人类一直追求的梦想。“团结”是一种艺术，“团结”并不是简单地、毫无规则地组成一个团体、集团或组织。根据提示，完成下列有关“团结合作”主题的探究活动。

步骤一：回顾历史——了解国际关系中的不正当合作

(1) 观察图一、二的世界形势，简要回答两图反映的不正当合作对世界产生的共同影响。(1分)



图一 对峙中的两大集团 图二 丑陋的“轴心”(柏林—罗马—东京)

步骤二：史海寻贝——认识国际关系中的正当合作

(2) 在人类面临生存和发展的挑战和危机时，各国之间的团结合作能有效地化解危机。请你结合第二次世界大战中的典型事例加以说明：(2分)

步骤三：知彼知己——知道我国在国际关系中的“合作”

(3) 新中国建立后，在外交方面为国际关系的发展做出了积极的贡献。请你列举 2001 年以来我国外交事业上能充分体现“团结合作”精神的事例。(1分)

步骤四：总结反思——理解现实中合作的艺术

(4) 当今世界格局下，人类社会的发展仍存在许多破坏和不利于团结合作的因素，为了国际关系的和谐，你认为世界各国的合作应遵循怎样的原则?(2分)

32. (1) 加剧世界局势紧张，使人类面临战争的威胁。(2) 反法西斯联盟的建立；诺曼底登陆。(3) 中国加入世界贸易组织(WTO)。(4) 相互尊重国家主权；相互尊重别国利益；平等互利；和平共处；共同发展；共同维护世界和平与发展等。

(2010·湖南邵阳) 23. (14分) 20世纪上半期短短50年内发生了两次世界大战，给人类造成深重的灾难和破坏，至今还令世界上爱好和平的人们悲痛和愤恨。据此回答下列问题。

(1) 在下列虚拟的“第一次世界大战复习提纲”中，划线部分存在历史知识性错误，请予以更正。(8分)

第一次世界大战复习提纲

历史背景：德、奥、意同盟国和英、美、俄协约国两大军事集团为争夺势力范围和世界霸权而矛盾日趋激化

导火线：慕尼黑会议

起止时间：1912~1918年

重大事件：1917年11月7日，俄国爆发了二月革命
.....

战争性质：总体上是一场帝国主义战争

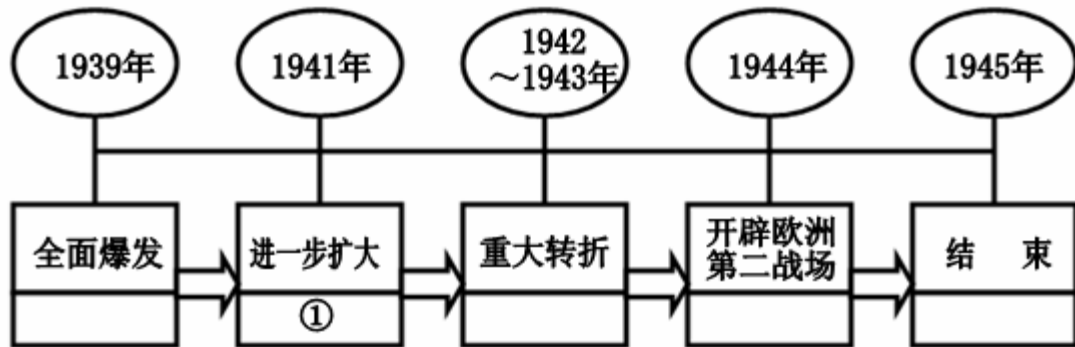
战争影响：给人类再次深重的灾难和破坏，但从客观上影响了世界历史的发展

(2) 从下列历史事件中，选择符合题意的选项分别填入“第二次世界大战大致过程示意图”中的相应空格内(只填序号)。(4分)

- ① 日本偷袭珍珠港 ② 诺曼底登陆 ③ 德国进攻波兰、英法对德宣战

- ④《联合国宣言》发表 ⑤斯大林格勒战役 ⑥日本签署无条件投降书 ⑦德国投降

第二次世界大战大致过程示意图



(3) 通过学习两次世界大战的历史，你有何感悟？(2分)

23. (1) A：法；B：萨拉热窝事件；C：1914年；D：十月革命；(2) 全面爆发：③；重大转折：⑤；开辟欧洲第二战场：②；结束：⑥；(3) 要对军国主义、法西斯势力提高警惕并给予坚决的打击；通过联合国和平解决争端；历史的悲剧不能重演；反对战争、珍爱和平等。

(2010·山东威海) 35. 美国虽然只有 230 多年的历史，但它在欧洲文明的基础上，独创性地走出了一条自己的发展道路，将世界第一经济强国的位置占据了一个多世纪，现在被称为世界“超级大国”和“国际警察”。

请回答：

(1) 美国南北战争的起止时间是_____年至_____年。在这场战争中，林肯颁布了(法令)。(2分)

(2) 罗斯福新政的目的、中心措施是什么？(2分)

(3) 第三次科技革命起源于美国，随后波及到西欧和日本等发达国家，后又逐渐向许多发展中国家扩展。第三次科技革命与前两次科技革命相比，有哪些特点？(3分)

(4) 1999年，以美国为首的北约越过联合国安全理事会，对南联盟境内进行狂轰滥炸，造成南联盟的重大人员伤亡和物质损失，中国驻南大使馆也遭到北约导弹袭击，3名中国记者不幸牺牲。你对美国充当“国际警察”有什么看法？(1分)

35. (1) 1861、1865(1分)；《解放黑人奴隶宣言》(1分)；(2) 在资本主义制度内部进行调整，加强国家对经济的干预和指导，以消除经济危机。(1分)国家对工业的调整。(1分)(3) 不仅涌现出大量的科技成果，而且大大加快了科学技术转化为生产力的速度，缩短了知识变为物质财富的过程。(1分)科学技术的各个领域之间相互渗透，一种科学技术的发展引起好几种技术的革命。(1分)新技术成为社会生产力中最活跃的因素，在促进经济增长的各种因素中，科技进步所占的比重不断上升。(1分)(4) 以美国为首的北约公然对一个联合国成员国动武，不仅违背了国际法的基本准则，削弱了联合国的作用，而且侵犯了别国主权，造成了重大人员伤亡，也使国际局势更加动荡不安。我们主张世界各国应在和平共处五项原则的基础上，发展相互关系，反对美国以“国际警察”自居，以“人权”为幌子，到处干涉别国内政或侵略别国。(只要观点正确，言之有理即可得1分)

(2010·湖北武汉) 31. 探究中美历史，体验大国崛起(5分)

中美两国地处太平洋两岸，中国是世界上最大的发展中国家，美国是世界上最强大的发达国家。探究两国历史，对我们思考大国崛起有重要的启迪。

(1) 民族独立是国家发展的前提人权进步的保障。1776年美国颁布了人类历史上“第一个人权宣言”——《独立宣言》；1949年10月1日，中国人民站起来了，中国人权事业从

此掀开了新的篇章。标志“中国人民站起来了”的事件是什么？（1分）

（2）在现代化进程中，中美两国都进行了工业化和发展道路的探索。依据以下提示的内容，完成下面表格。（2分）

提示：中国“一五”计划的实施；中国土地改革；工业革命的兴起阶段；罗斯福新政

现	方面	国家	事件	影响
代	工业	中国	①	社会主义工业化坚实起步
化	化	美国	工业革命的新阶段	后来居上，率先实现电气化
进	道路	中国	十一届三中全会召开	从此进入社会主义现代化新时期
程	探索	美国	②	改造了传统的资本主义，摆脱了经济危机

（3）20世纪下半叶，中美关系经历了敌对、走向正常化、合作三个阶段。历史证明，和则两利、斗则俱伤。判断下列说法，正确的打“√”，错误的打“X”。（2分）

①抗美援朝战争时期，中美两国处于敌对状态。（ ）

②1972年中美签署《联合公报》，结束了两国长达20多年的敌对、隔绝状态。（ ）

31.（1）中华人民共和国成立；（2）①中国“一五”计划的实施；②罗斯福新政；（3）①“√”；②“√”。

（2010·浙江杭州）37.（共14分）2010年是世界反法西斯战争胜利65周年，世界各国开展了多种形式的纪念活动。第二次世界大战是一场法西斯侵略与反法西斯侵略的战争，是正义占用邪恶的战争。

材料一：法西斯的暴行（图一，奥斯威辛集中营的被关押者；图二，毫无人性的日本法西斯分子）



图一



图二

（1）根据材料一，说明法西斯的“邪恶”表现。（2分）

（2）1942年是“正义战胜邪恶”的关键一年，请举出这一年影响战争走向的两件大事。（2分）

材料二：中国作为亚洲反法西斯战争的主战场，抗击了70%的日本侵略军，最终以3500多万儿女捐躯为代价，战胜了日本法西斯。

（3）中国抗日战争胜利的根本原因是什么？简述抗日战争在世界反法西斯战争中的作用。（4分）

（4）1945年2月，英、美、苏三国领导人举行会议，讨论有关战后重大问题，请说出这次会议的名称。（1分）世界反法西斯战争胜利后，世界形成了东西方对峙的格局，简述其形成的原因及标志。（5分）

37.（14分）（1）德国法西斯对犹太人实行种族灭绝政策。日本法西斯对中国人民实行血腥屠杀。（写出一点得1分）（2）1942年初，签署《联合国宣言》，建立反法西斯联盟。1942年开始的斯大林格勒保卫战并最终胜利，成为整个反法西斯战争的重要转折点。

（2分，言之成理，既可得分）（3）根本原因：中华民族的觉醒和民族团结的结果。（2分，如答全民族的抗战或抗日民族统一战线的胜利均得2分，答美国在日本投放原子弹和

苏联参战均不给分)作用：是世界反法西斯战争的一部分，为世界反法西斯战争的胜利作出了巨大贡献。(2分)(4)雅尔塔会议。(1分)原因：战后美国成为世界头号强国，为实行称霸全球的战略，放弃了战时与苏联的结盟，转而反苏、反共；(2分)战后苏联的国际威望有了很大的提高，大批人民民主国家诞生，形成了社会主义阵营。(2分)标志：“北大西洋公约组织”和“华沙条约组织”两大军事集团成立。

(2010·山东青岛)50.“时势造就英雄，英雄影响时势”。在人类社会发展的长河中，有无数杰出人物，以其思想和行动影响着历史发展的进程，他们常常都是某个特定历史时期的代表和旗帜。但即使是青史留名，也绝非圣人。千秋功过，自有后人评说。请结合所学知识，从秦始皇、汉武帝、左宗棠、华盛顿、林肯等五人中任选一位进行评价。要求：题目自拟，有史有论，史论结合，条理清晰，语言流畅，字数不少于200字。

50.评分标准：

第一层次：没有答题或完全离题，不得分。

第二层次：人物认识片面；或有史无论，简单罗列史实，未用自己的语言进行评述；或有论无史，与历史人物联系不密切，得1—2分；无题目扣1分。

第三层次：有史有论，且史论结合基本准确合理，但在知识和认识上有少量错误，或条理上不够清晰，逻辑上不够严密，得3—4分。

第四层次：史论结合，观点明确，史实准确，评述合理，条理清晰，逻辑严谨，得5—6分。如学生语言富有个性魅力，观点有独到创新之处，卷面条理、规范，书写工整，可酌情加1—2分。但总分不能超过6分。若学生答案少于50字，一般得分不应超过2分。

(2010·湖北鄂州)24.(7分)科学技术的成果惠及全人类，日益丰富人们的生活，改变世界的面貌。某中学科技史兴趣小组准备围绕三次科技革命开展研究性学习，请你参与其中，做相关基础性工作。

(1)根据提示，请你完成下列表格的内容：(3分)www.shijuan1.comwww.shijuan1.com

项目	发明者
	史蒂芬孙
发电机	
无线电报	

(2)第三次科技革命兴起以来，美国在一些重要科技领域始终走在世界的前列。试列举其中两例美国取得的具体科技成就。(2分)

(3)第三次科技革命对世界经济产生了什么影响？(答1点即可)(2分)

24.(7分)(1)项目：火车发明者：西门子，马可尼(3分)(2)①成功试爆第一颗原子弹；②制成世界上第一台电子计算机；③把人成功送上月球；④发明航天飞机；⑤成功进行DNA重组技术试验。(答2例)(2分)(3)①促进全球经济一体化进程；②导致“知识经济”产生；③进一步扩大了国家之间的经济差距；④导致大批新型产业兴起；⑤极大地促进了社会生产力的发展。(答1点即得2分)

(2010·江苏泰州)24.两次世界大战给世界人民带来了巨大的灾难，同时引起世人对“战争与和平”的深刻思考。据此回答下列问题：(7分)

(1)19世纪末20世纪初，在欧洲形成了两大军事集团，它们之间的争斗酿成了第一次世界大战。请写出这两大军事集团的名称。(2分)

(2)20世纪二三十年代，德、意、日建立起法西斯统治，对内实行法西斯暴政，对外不断发动侵略战争。试举德国法西斯对内实行恐怖统治的史实一例。(1分)

(3)面对法西斯的侵略扩张，西方大国采取妥协退让的绥靖政策，该政策达到顶峰的标志是什么？(1分)

(4) 二战爆发后，随着战争规模的不断扩大，受法西斯侵略的各国逐渐走向联合，国际反法西斯联盟建立，它对第二次世界大战产生了怎样的影响?(2分)

(5) 二战后，随着世人对“战争与和平”的思考，逐渐形成的当今世界两大时代主题是什么?(1分)

24. (1) 同盟国集团；协约国集团；(2) 国会纵火案、屠杀犹太人等。(3) 签订《慕尼黑协定》；(4) 宣言的发表，标志着国际反法西斯统一战线的最终形成。反法西斯统一战线的建立，鼓舞了各国人民的斗志，大大增强了反法西斯力量，为最终打败法西斯奠定了坚实的基础。(5) 和平与发展。

(2010·湖北十堰) 37. (8分) 简要回答下列问题：

(1) 当前，世界政治和经济格局正在发生着深刻变化，其发展的趋势是什么？(2分)

(2) 第二次世界大战后，世界政治格局处于“两极”格局时期，美苏经历长达 40 多年的“冷战”。“冷战”开始和终结的标志分别是什么？(2分)

(3) 随着世界经济格局的变化，世界贸易组织应运而生，世贸组织的宗旨是什么？(2分)

(4) 当前，面临世界政治、经济格局的深刻变化，中国应该怎么办？请你从政治、经济两方面分别提出一条合理化建议。(2分)

37. (1) 当前，世界格局和经济格局的发展趋势分别是多极化和全球化(2分)

(2) “冷战”开始的标志是“杜鲁门主义”出台；终结的标志是：东欧剧变，苏联解体。(2分)

(3) 世贸组织的宗旨是：通过实施市场开放、非歧视和公平贸易等原则，推动世界贸易自由化的实现(2分)

(4) 政治上反对霸权主义，推动世界向多极化发展；经济上进一步改革开放，学习国外管理经验与技术，制定防范风险的措施，融入全球化潮流(政治经济各1分，此题为开放性问题，学生只要言之有理，即可酌情给分)

(2010·山西) 20. 2010年的中国上海世界博览会，是一次科技与文化交融的盛会。历史上科技与文化的发展极大地推动了人类社会的进步，深刻地影响着人类的生产和生活方式。让我们沿着科技文化的发展轨迹，完成下面探究任务。

任务一 梳理知识

(1) 列举古代中外人类文化成果各一例。(2分)

(2) 第一次工业革命发源于哪国？(1分) 它的主要标志是什么？(1分)

(3) 第二次工业革命中出现的新能源有哪些？(1分) 举出他们在生产生活中应用的一个事例。(1分)

(4) 第三次科技革命的标志是什么？(1分) 说出这次科技革命不同于前两次科技革命的特点。(2分)

任务二 解决问题

(5) 用史实阐述下列观点(只选一个观点说明即可)。(4分)

观点一：科学技术是推动社会进步的决定性因素。

观点二：文化交流是促进国家发展的重要途径。

任务三 思考感悟

(6) 人类在充分享受科技文化成果的同时，还面临着许多共同的问题。对此你有什么看法，请写下来。(2分)

20. (1) 示例：中国：司母戊鼎等，(1分) 世界：巴黎圣母院等。(1分) (说明：所列文化成就，领域不限。只列出中国或世界的，只得1分)

(2) 英国；(1分) 蒸汽机的广泛运用。(1分)

(3) 电力、石油。(1分) 电和石油用于驱动汽车；电灯、电话等。(1分)

(4) 标志：原子能、电子计算机、航天技术(空间技术)、生物工程。(1分) 特点：科学技术转化为生产力的速度加快，缩短了知识变为财富的过程；科学技术各领域间相互渗透，密切联系(科技发明由某一国出现，迅速传播到世界各国)；科技在经济生活中所占比重在上升。(2分) (说明：标志全部答出才可得分。特点答出一点得1分，得分不超过2分)

(5) 选观点一。①第一次工业革命，蒸汽机的发明，为机器提供了蒸汽动力，推动了机器生产的发展，人类进入“蒸汽时代”。(1分) ②第二次工业革命，电力成为机器的主要动力，并广泛用于生活领域，人类进入“电气时代”。(1分) ③第三次科技革命，原子能、电子计算机、航天技术、生物工程等领域的突破，极大改变了人类生产生活方式，人类社会进入了信息化社会。(1分) ④总之，科学技术的发明创造了巨大的生产力，进而推动社会不断进步(科技是第一生产力)。(1分) (说明：按三次科技革命的顺序进行阐述，缺一点扣1分；答出三次科技革命的发明或表现等，都可得分，结论得1分)

选观点二。①七世纪初起，日本多次派遣唐使到中国学习；大力倡导中国先进的制度和文
化，进行改革。(2分) 大化改新后日本迈入封建社会。(1分) ②十九世纪中期，日本积极向西方学习，引进科学技术，提倡“文明开化”。(2分) 明治维新使日本跻身于资本主义国家行列。(1分) ③中国改革开放后，积极引进科学技术，加强与各国的文化交流，如举办世博会等。(2分) 中国日益成为国际舞台上一支重要力量。(1分) ④总之，文化交流是促进国家发展的重要途径。(1分) (说明：①②③分别举一个事例说明得3分，其他符合题意要求的事例也可得分，④结论得1分)

(6) ①科技是推动社会进步的决定性因素，国家要大力推进科学研究和鼓励科技发明；个人要努力学习科学文化知识，勇于创新。对科技带来的负面影响、如自然生态、社会环境等问题决不能忽视，实行可持续发展。(2分) ②文化交流是促进国家发展的重要途径，国家要重视文化交流，要正确对待文化差异，弘扬本民族优秀文化，对待外来文化，取其精华，去其糟粕。(2分)

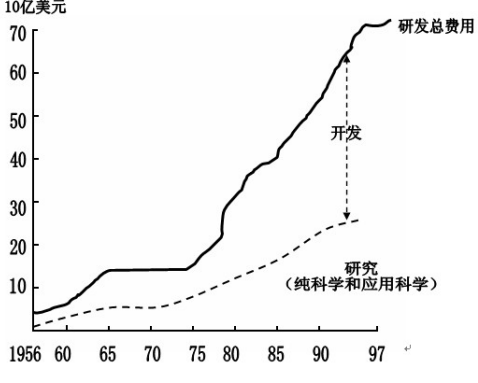
(2010·江苏连云港) 38. 某同学要探究“在推动社会发展进程中，科技人才、科学技术和社会环境间的关系”。请根据提示与这位同学一起完成这一探究任务。(14分)

(1) 这位同学用表格梳理史实，以奠定探究基础。请完成表格中的相关内容。(4分)

人物	时间	成就	人物	时间	成就
毕昇	宋代	①▲	牛顿	1687年	《自然哲学的数学原理》
瓦特	1765年	改良蒸汽机	达尔文	1859年	③▲
爱迪生	19世纪后期	②▲	④▲	1905年	“狭义相对论”

……

(2) 史料是探究的主要对象。阅读下列史料(《世界科技通史》)。并回答：(7分)

<p>哈雷撰写的用作《(自然哲学的数学)原理》前言的那首诗,可以当之无愧地被看成是第一篇……的文体。在那首诗里,哈雷写到如何去了解世界:“在理性光芒的照耀下,愚昧无知的乌云/终将被科学驱散。”</p>	<p>瓦特是在1765年的一个星期日外出散心的时候想到他的解决办法……避免了把汽缸交替着一会儿加热一会儿冷却,对燃煤的节约自然十分可观。</p>	
材料一	材料二	材料三 美国政府研发费用

- ① 材料一的《自然哲学的数学原理》主要讲述了哪些物理学定律?材料认为这些成果推动了思想领域什么运动的发展?
- ② 材料二中瓦特改良蒸汽机解决了什么问题?在使用蒸汽机后产生了哪一种新式交通工具?
- ③ 材料三反映了美国政府1956年以来科研经费呈现出怎样的趋势?试举这一时期不同领域的两例世界先进科技成就。

(3) 反思是历史探究的重要成果之一。根据上述探究,请回答:(3分)

① 从社会环境和个人品质两个角度,归纳科技人才能够发明创造的主要因素。

② 科学技术与社会发展间呈现怎样的关系?

38. (1) ①活字印刷术;②电灯泡、留声机等;③《物种起源》(进化论);④爱因斯坦。(4分) (2) ①力学三定律和万有引力定律。(1分) 启蒙运动。(1分) ②热效率或动力问题。(1分) 火车。(1分) ③增加。(1分) 计算机网络技术;航天技术;现代生物工程技术等。(任意2领域2分) (3) ①社会环境:政府行为、社会观念等。个人品质:潜心研究、提高效率、节约环保、大胆实践、关注社会。(每角度1分,共2分) ②社会发展促进科学技术进步;科学技术对社会的推动程度取决于社会环境。(任意1点1分)

(2010·湖南长沙) 20. 和平与发展已成为当今世界的两大主题。结合所学知识,探究下列问题:

(1) 为求发展,日本政府实行“明治维新”,采取一系列向西方学习的措施,请举出其中两项。(4分)

(2) “二战”是人类历史上一场空前浩劫,英法等西方大国的绥靖政策助长了法西斯的侵略气焰,加速了“二战”的爆发。请问绥靖政策的实质是什么?哪一历史事件使其达到顶峰?在反法西斯国家的联合斗争下,“二战”最终以世界反法西斯联盟的胜利而告终。请问世界反法西斯联盟形成的标志是什么?(4分)

(3) “二战”后,世界经济迅速发展,20世纪90年代美国进入新经济时代,请问新经济的主要特征有哪些?(2分)

(4) 为维护世界和平与安全,哪次国际会议决定成立联合国?当前威胁世界和平与安全的主要因素是什么?结合反法西斯斗争胜利的原因和当今形势,在促进世界和平与发展问题上,你能得到什么启示?(5分)

20. (1) 经济上引进西方技术,鼓励发展近代工业;社会生活方面提倡“文明开化”,努力发展教育。(2) 纵容侵略;慕尼黑阴谋;1942年1月1日,《联合国宣言》发表;(3) 信息化和全球化;(4) 雅尔塔会议;霸权主义、地区冲突、宗教纷争、民族矛盾和

恐怖主义；世界各国应加强国际合作。

(2010·福建龙岩 2) 29. 20 世纪是中国和世界发生巨变的 100 年，下列四位伟人以其卓越的贡献站在了时代的前列。

(1) 根据下列内容提示，完成表格。(8 分)

伟大人物	重大事件	历史巨变
孙中山	A 革命	中国人民醒过来
毛泽东	B 成立	中国人民站起来
C	改革开放	中国人民富起来
列宁	十月革命	第一个 D 国家诞生

(2) 从上述伟人的身上，我们可以学到哪些优秀品质？(2 分)

29. (1) A 辛亥革命；B 新中国成立；C 邓小平；D 社会主义国家；(8 分) (2) 以国家民族利益为己任，树立远大理想；不怕牺牲，具有大无畏的革命斗争精神；与时俱进；勇于创新；不屈不挠等。(言之有理即可得 2 分)

(2010·福建龙岩 2) 30. 近年来，国际间往来越发频繁，从国际金融峰会到联合国气候大会，人们关注的话题越来越多。某校九年级历史兴趣小组的同学正在开展以“加强国际合作，共创美好未来”为主题的探究活动，请你一起参与。

【走近学习生活】

小组成员想搜集有关国际合作的资料，请你给他们提供两个途径。(2 分)

【探究世界历史】

① 世界连成一个整体，你认为最早可以追溯到哪一历史事件？(1 分)

② 二战中，世界各国人民为了共同抗击法西斯形成了什么联盟？(2 分)

③ 他们搜集的资料有：联合国、亚太经合组织、世贸组织、欧盟。其中我国没有加入的国际组织是哪个？(1 分)

【感悟历史真谛】

① 你认为当今世界的主题是什么？(2 分)

② 在经济全球化浪潮中，你认为世界各国之间存在什么关系？(2 分)

30. 【走近学习生活】到图书馆、书店或互联网查找等。(2 分，言之有理，答对一点给 1 分)

【探究世界历史】① 新航路开辟。(1 分) ② 国际反法西斯联盟。(2 分) ③ 欧盟。(1 分)

【感悟历史真谛】① 和平与发展。(2 分，答出其中一点给 1 分) ② 相互依存(合作交流)、(1 分) 相互竞争。(1 分) (意思相近即可)

(2010·广东广州) 23. 有这样一个岛国：17 世纪君主立宪政体的建立让她引领潮流；18 世纪经济的突飞猛进令她独占鳌头；19 世纪军事的扩张使她炫武东方；20 世纪中期战争的创伤给她胜利的脸上增添了无奈与忧伤……

请判断材料中的“她”指哪个国家，并以“我看__国”为题写一篇小短文。(8 分)

要求：

(1) 文中需包含材料提及的四项重大史实，并谈谈其中对你触动最大的一项史实的影响，以及它带给你的一点思考。

(2) 观点明确，史实准确，表达清晰流畅，字数 80 字左右。

23. 题目：我看英国 (1 分)

史实：英国资产阶级革命；工业革命；鸦片战争(第二次鸦片战争)；第二次世界大战(4

分)；

影响：英国资产阶级革命确立起的君主立宪政体是对欧洲及至世界产生的最大政治影响，为英国资本主义的发展开辟了道路；工业革命为资本主义制度奠定了物质基础，确立了英国“世界工厂”的地位；鸦片战争是中国历史的开端；二战给人类造成深重的灾难（任选其一即可，1分）

思考：政治制度的先进，科学技术的进步是一个国家发展的重要条件。英国的军事扩张把被侵略国家带进灾难深渊，造成当地落后局面。战争给交战各国都带来灾难，制止战争，热爱和平应是人类共同要求与愿望（答出其中任意一方面即可，其他符合题意的答案也可，1分）

其他：语言流畅，条理清晰，字数 80 字左右（1分）

（2010·广西桂林）13．今年5月9日俄罗斯在莫斯科红场举行盛大庆典，隆重纪念卫国战争胜利65周年。胡锦涛主席应邀出席了庆典活动。在第二次世界大战暨世界反法西斯战争那战火纷飞的岁月，中国的抗日战争和苏联的卫国战争互相配合，两国军民并肩作战，共同谱写了抗击法西斯侵略者的壮丽凯歌，为世界反法西斯战争的胜利作出了重大贡献。请围绕“中苏（俄）反法西斯战争”这一主题探究以下问题：

（1）请各举一战例说明中国和苏联如何沉重打击了日本和德国法西斯侵略者。（4分）

（2）请说出中苏军民并肩作战共同反击法西斯侵略的具体表现。（2分）

（3）中俄两国人民在反法西斯战争中用鲜血和生命凝结了深厚的友谊，如今中俄关系正处于良好的发展势头，请你为推动中俄关系的全面发展提两点建议。（2分）

13．（1）中国的台儿庄战役，是抗战以来正面战场取得的最大的一次胜利，沉重地打击了日本侵略者的气焰；苏联的莫斯科保卫战，粉碎了德军不可战胜的神话。（2）中国军民从1937~1945年抗击了日本法西斯的侵略，苏联出兵中国东北，消灭了日本关东军。（3）中俄双方应加强经济、文化交流；中俄双方在处理国际事务中应加强沟通与协调，努力为世界的和平与发展作出贡献。

（2010·湖北荆州）45．在世界当代史上，1960年被称为“非洲独立年”。

回答：

（1）1960年为什么被称为“非洲独立年”？（2分）

（2）二战后，非洲民族解放运动不断发展的主要原因有哪些？（4分，回答2点即可）

（3）结合所学知识谈谈非洲民族独立运动胜利的国际意义。（2分，回答1点即可）

45．（1）20世纪五六十年代，非洲先后有三十多个国家取得独立，其中仅1960年独立的国家就有17个，因此这一年被称为“非洲独立年”。（2分）（2）第二次世界大战沉重打击了殖民主义；世界其他地区的民族解放运动鼓舞了非洲人民；非洲人民的觉醒；非洲人民经过了反法西斯斗争的锻炼。（4分，任答两点即可）（3）标志着帝国主义在非洲的殖民体系最终崩溃；增强了发展中国家的力量；有利于改变二战后不合理的国际经济格局。（2分，任答一点即可，其他答案言之有理符合题意亦可）

（2010·湖南衡阳）30.（14分）2009年底，希腊债务问题爆发，引发欧元危机，欧洲急剧动荡，欧盟前途扑朔迷离。探究欧洲的历史，回答下列问题。

[文明起源]

（1）气候温暖、面向海洋、港湾优良的希腊半岛曾诞生辉煌灿烂的古希腊文明，古希腊文明成为欧洲文明的源头。古希腊的著名史诗是《_____》。（2分）

[近代崛起]

（2）进入近代，以资本主义为先导，欧洲文明强势崛起，猛烈扩张，发展为世界的中心。试说明14至19世纪初欧洲资本主义能够强势崛起的文化、政治、科技条件。（3分）

[战争梦魇]

(3) 在崛起过程中，欧洲各国纷争不休，战争不断，20世纪先后掀起了两次世界大战，给世界人民带来空前劫难，也导致二战后欧洲的衰落。右图是西班牙画家毕加索的名画，请写出该图图名及其反映的历史信息。（4分）



【联合之路】

(4) 二战后，为实现欧洲复兴，并增大在美苏两极格局中的发言权，欧洲各国捐弃前嫌，走上联合之路，1967年组成欧洲共同体，后建立欧洲联盟，简称“欧盟”，由区域性经济合作组织向经济政治一体化目标迈进。请写出欧盟的建立时间。（2分）

【福利困惑】

希腊建立从摇篮到坟墓的社会福利制度，社会福利保障不仅高昂而且名目繁多。希腊公务员数量占全国劳动人口的10%，法律允许公务员在过了40岁之后就退休和领取退休金，甚至已去世公务员的未婚或离婚女儿，也可继续领取其父母的退休金。所有的政府和私人企业员工每年都能拿到14个月的薪金，此外，公务员可在复活节和夏天分别获得额外半个月的薪酬。一家媒体讽刺说，希腊人像亿万富翁那样消费，事实上他们连百万富翁都算不上，他们拿着士兵的工资，却过着国王的生活。由于社会福利和工资水平的增速一直超过GDP增长，造成劳动成本高，生产效率低，严重削弱了希腊经济的竞争力，也迫使政府不得不举借巨额债务以维持运转。2009年，希腊的GDP不过2500多亿欧元，国家债务则高达3000亿欧元，平摊到1100万希腊公民的头上，相当于人均背负2.67万欧元的债务。希腊债务问题在欧元区具有普遍性。2010年6月，匈牙利也爆发了债务危机。西班牙、葡萄牙、意大利等国可能步其后尘。

(5) 二战后，欧洲各国普遍建立福利国家制度，实行高福利的社会保障，希腊的福利制度及其引起的债务危机只是目前欧洲发展所面临严重问题的一个缩影。当前，随着综合国力的增强，我国也在进行社会福利保障制度的建设，结合欧洲实行福利制度的历史，谈谈你对实行社会福利制度的主张，并说明理由。（3分）

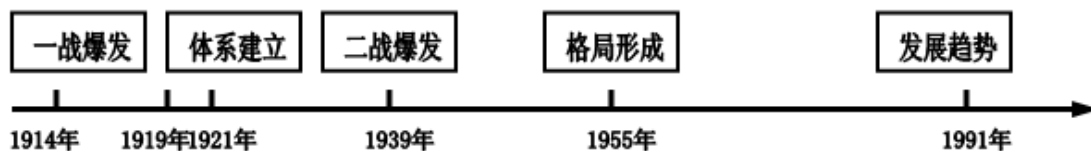
30. (14分) (1) 荷马史诗。(2分) (2) 条件：文化上通过文艺复兴(或启蒙运动)解放人们的思想；政治上通过资产阶级革命确立资本主义政治制度(或资产阶级统治)；科技上发生了工业革命。(3分) (3) 图名：《格尔尼卡》。信息：控诉了法西斯的战争暴行。(4分) (4) 1993年。(2分) (5) 赞成说：实行社会福利制度，有利于提高劳动者生产积极性；我国是社会主义国家，更应加强社会保障；福利制度能体现国家以人为本，关爱民生；中国大多数地区还比较落后，民众生活困难；福利制度有利于促进社会和谐；随着经济发展和综合国力提高，国家也具有这种能力；实行福利制度的欧洲国家在二战后也曾经历较长时间的高速发展。(理由答出2点即可)

反对说：实行社会福利制度，使劳动者产生惰性；高额福利也给国家背上沉重负担；中国是世界上第一人口大国，会更不堪重负；欧洲的例子值得我们吸取教训；福利制度便利有些人钻政策空子，滋生腐败；福利制度助长超前消费思想，容易造成金融风险；高福利容易导致高消费，会加大地球的资源和环境负担；高福利保障使人好逸恶劳，穷奢极欲，精神颓废，导致社会堕落。(理由答出2点即可)

辩证说：既实行福利制度，又注意适当的度。理由从两方面各举一点即可。

(3分。观点1分，理由2分)

(2010·吉林) 19. 20世纪以来，世界政治格局不断变化，人类在推进和平与发展的进程中，不断经受严峻的挑战。结合下面的年代尺示意图，回答问题。



请回答：

- (1) 一战后，召开了哪两次重要的国际会议？建立了怎样的国际关系体系？（3分）
- (2) 二战后，形成了怎样的世界政治格局？其最终形成和结束的标志事件分别是什么？（3分）
- (3) 当今世界政治格局呈现出怎样的发展趋势？面对这一趋势，中国应如何应对？（2分）

19. (1) 巴黎和会(或凡尔赛会议) (1分)；华盛顿会议 (1分)；凡尔赛——华盛顿体系 (1分)；(2) 两极格局 (1分)；成立华沙条约组织(1分)；苏联解体 (1分)；(3) 多极化 (1分)；中国要大力发展经济，增强综合国力和国际竞争力，提高国际地位；大力发展科学技术，实施科教兴国战略；加大改革开放力度，引进先进技术和管理经验；加强国际交流合作，坚决反对霸权主义和强权政治；以和平方式解决国际争端等。(答出以上要点之一即可给分；其他答案观点正确，符合题意也可给分)(1分)

(2010·山东莱芜) 24. 20世纪以来，世界各国有过许多成功的改革，其中影响较大的有苏联的新经济政策、美国的罗斯福新政和中国的改革开放。(8分)

(1) 上文中苏俄、中国改革的主要领导人分别是谁？并结合所学知识谈谈中国改革开放所产生的影响。(3分)

(2) 分别概述新经济政策与罗斯福新政的主要措施。(2分)

(3) 自2008年9月以来，美国爆发的新一轮经济危机迅速席卷全球，如果说这次美国经济危机堪比“大萧条”的话，奥巴马实行的8380亿美元的经济刺激计划和某些国有化政策更像罗斯福新政。请指出奥巴马新政与罗斯福新政在应对经济危机中所体现出的共同特点。(2分)

(4) 三次改革的成功为我们提供了什么历史经验？(1分)

24. (1) 列宁、邓小平。(2分) 促进了经济发展，提高了中国的综合国力与国际竞争力。

(1分，意思相近即可得分) (2) 苏俄：允许多种经济并存，大力发展商品经济；(1分) 美国：国家对工业的调整。(1分) (3) 加强国家对经济的干预和指导。(2分)

(4) 改革能促进社会进步与发展；改革应结合本国实际；应以史为鉴；应制定切实可行的政策等。(1分，言之有理即可得分)

(2010·陕西) 21. (11分)

某校九年级(3)班同学，一直关心国家大事、关注人类发展。他们以“探寻工业文明的足迹”为主题开展了研究活动，请你参与。

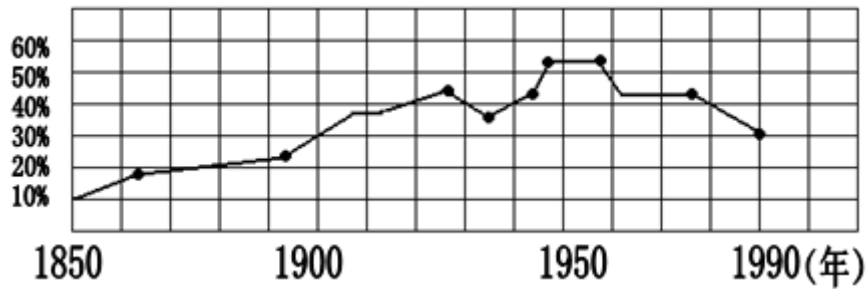
【开启工业之门】

材料一 英国在成为大国的过程中，戏剧家莎士比亚正的作品提升了英国的人文精神，科学家牛顿的力学定律开启了英国工业革命的大门。……瓦特，他们的名字，十分醒目地写在英国走过的大国之路上。

(1) 依据材料一，并结合所学知识，指出瓦特在英国经济发展中的突出贡献。(2分)

【进入高科技时代】

材料二 美国经济实力在资本主义世界经济中的比例变化




(2) 材料二中，美国经济实力在资本主义世界占 50%以上出现在哪一时期？简要分析出现这一状况的原因。(3分)

材料三 三次科技革命，极大地促进了人类社会的进步，改变了人类生产、生活方式，人与人之间的时空距离不断缩短，整个世界紧缩成一个“村落”。

(3) 请以第二、三次科技革命的成果各一例，说明材料三所表达的观点。(2分)

【反思过去岁月】

材料四 各国温室气体的相对排放量为：美国 30.3% . 欧洲 27.7% . 俄罗斯 13.7%.....



英国工业革命时期的煤矿一瞥



德国埃森的克虏伯钢铁公司



20世纪20年代美国的汽车到处排成长龙

(4) 材料四反映了人类历史上工业化进程中的什么现象？(2分)

【以史为鉴促发展】

(5) 通过上述探究活动，从人类历史发展的角度谈谈你的认识。(2分)

21. (1) 贡献：瓦特改良蒸汽机，为机器的普及和发展做出了重大贡献。(2分)

(2) 时期：20世纪50年代。(1分) 原因：第三次科技革命的推动；积极的财政政策；控制广阔的世界市场；重视教育等。(符合题意，言之有理，答出两点即得2分)

(3) 例：第二次：汽车、飞机，电话、电报，电影等；第三次：移动电话、互联网等。(各举一例即可)(2分)

(4) 现象：西方发达国家在实现工业化过程中，对全球环境造成严重破坏。(2分)

(5) 认识：科技进步，促进人类社会的发展，总结工业化发展过程中的经验，吸取教训；进一步提高科技水平，促进人类社会文明进步，采取有效措施保护环境，使人类社会与自然和谐相处。(必须全面的、发展的、科学的看问题，方可得2分)

(2010·四川巴中) 46. 近代以来，随着各种力量的消长，世界格局发生了三次大变动，现请你以“世界格局的演变”为主题进行探究学习：

【探究一】知识回顾：

一战前形成的对抗性军事集团是哪两个？(2分) 二战重要的转折点是什么？(1分)

【探究二】分析整理：

一战后形成的世界格局：_____ (1分)

二战后冷战局面出现：冷战表现为政治上_____ (1分)；经济上_____ (1分)

当今世界格局呈现的趋势：政治上_____ (1分)；经济上_____ (1分)

【探究三】论从史出：

当今世界主题是什么？（2分）在新的世界格局形成中起决定作用的因素是什么？（1分）
46. 【探究一】三国同盟和三国协约。斯大林格勒战役。【探究二】凡尔赛—华盛顿体系。杜鲁门主义出台。马歇尔计划。多极化。全球化。【探究三】和平与发展；经济实力。

（2010·新疆乌鲁木齐）17. 俄国十月革命和中国新民主主义革命胜利后，都选择了走社会主义道路。苏联和中国都对社会主义道路进行了探索，在社会主义革命和建设过程中都进行了改革，但是产生的结果却截然不同。

结合所学知识，回答下列问题：

（1）苏联和新中国分别成立于何时，第一任最高领导人是何人？（4分）

（2）苏联和新中国在向工业化迈进时都制定了什么计划？集中力量重点发展什么？两国计划的实施结果分别是怎样的？（6分）

（3）1978年开始的中国经济改革和1985年苏联进行的经济改革，主要领导人分别是谁？两国经济改革的结果怎样？（4分）

（4）苏联和中国社会主义道路的探索实践及其结果给我们以什么启示？（2分）

17. （1）苏联：1922年底；（2分）新中国：1949年10月1日，毛泽东。（2分）（2）发展经济的五年计划（苏联第一、第二个五年计划，中国第一个五年计划）；（1分）重工业；（1分）苏联两个五年计划的完成，使苏联由传统的农业国变成强盛的工业国，国防力量也大为加强；（2分）中国第一个五年计划，形成了东北工业基地和建立了一批新的工业基地，开始改变工业落后的面貌，向社会主义工业化迈进。（2分）（3）邓小平、戈尔巴乔夫；（2分）中国的经济改革取得了巨大的成就，经济迅速发展，综合国力不断提高；（1分）苏联的经济改革失败，最终国家解体。（1分）（4）提示：任何革命和改革的探索实践，都要从实际出发，学习借鉴先进经验，同本国的具体实际相结合，走自己的路。（2分）（此问答案言之有理，符合史实，即可得分）

（2010·福建莆田）30. 我们身边的一切事物，都经历了发生、发展、演变的过程。根据提示，完成下列活动案例。（每空2分，共10分）

活动案例：交通运输方式的演进

步骤一 追根溯源

古代交通进步是人类文明曙光初现的重要标志。古史传说称“黄帝造车，故号轩辕氏”，这是黄帝被尊为中华民族人文始祖的一个重要原因；

……

步骤二 交通进步

1764—1790年，瓦特完成对___①___的改进，推动了社会的发展；

1825年，___②___驾驶“旅行者号”蒸汽机车在新铺设的铁路上试车，并获得成功；

1885年，卡尔·本茨成功地设计并制造出世界上第一辆使用汽油内燃机的___③___。

1903年，莱特兄弟成功地制造出人类历史上第一架飞机，取名“飞行者1号”；

1909年___④___全线建成通车，这是中国人自己设计和修筑的第一条铁路干线，为中国工程界赢得了荣誉；

……

步骤三 感同身受

小李的感受：交通进步促进社会发展，社会发展又带动交通发达。

你的感受：_____⑤_____

_____ (不得照抄上述感受)

.....

历史学习是一个从感知历史到积累历史知识、从积累历史知识到理解历史的过程。通过这次活动，逐步感知交通运输方式的演进对人类社会发展的重大贡献。

30. (1) 蒸汽机 (2分) ; (2) 斯蒂芬孙 (2分) ; (3) 汽车 (2分) ; (4) 京张铁路 (2分) ; (5) 交通运输业的发展,节省了人们出行的时间;交通运输业的发展,扩大了人们活动的范围;交通运输业的发展,改变了人们的生活方式;交通运输业的发展,加快了城市化的步伐。(2分,答出其中1点即可,其他言之有理也可)

(2010·福建三明) 29. 为迎接上海世博会的召开,光明中学校园网站举办了主题为“科技发明与我们的生活”的评选活动,评选结果如下:

第一名

第二名

第三名



图 1



图 2




图 3

结合所学知识,回答问题。

(1) 你认为图 1 所示的成果属于那次科技革命? 请从你的学习生活角度出发,说说它名列榜首的原因。

(2) 图 2 所示成果是人类进入什么时代的表现? 他的发明者是谁?

(3) 图 3 所示成果采用的动力机器是什么? 图 9 所示成果的普及,对我们的生活各有什么利弊?

29. (1) 第三次科技革命;围绕学习生活采意给分。(2) 电气时代;爱迪生。(3) 内燃机;利与弊采意给分。

(2010·广东湛江) 50.(10分)俄国历史悠久,在世界近现代史上发挥了重要的作用。请回答下列问题:

(1) 标志着俄国正式走上资本主义道路的历史事件是什么?(1分)1991年苏联解体,使苏联从社会主义向资本主义演变,哪位领导人的改革直接导致了苏联解体?(1分)

(2) 1917年,俄国十月革命取得胜利并建立了世界上第一个社会主义国家。为恢复和发展经济,1921年,在列宁的领导下,苏俄开始实行什么政策?(2分)这个政策的实行对该国有什么重要的作用?(2分)

(3) 苏联是第二次世界大战中抗击法西斯侵略的重要力量。苏德战场的转折点,也是第二次世界大战根本转折点的战役是什么?(1分)为加快反法西斯战争的最后胜利,1945年初,苏、美、英三国领导人在苏联举行什么国际会议?(1分)中国人民也为世界反法西斯战争的胜利作出了巨大贡献,请写出抗日战争中分别由国共两党领导的取得胜利的两次著名战役。(2分)

50. (1) 1861年改革;(1分)戈尔巴乔夫。(1分) (2) 新经济政策(1分);作用:一是巩固了工农联盟,调动了广大工农群众的生产积极性,从而加速了国民经济的恢复和发展(1分);

二是新经济政策是列宁根据俄国经济落后、生产力低下的国情，探索建设社会主义新道路、新方法的伟大实践。是对传统社会主义理论的一次重大突破，创造性地发展了科学社会主义(1分)。(3) 斯大林格勒战役(1分)；雅尔塔会议(1分)；台儿庄战役(1分)；百团大战。(1分)

(2010·贵州贵阳) 29. 在联合中寻求发展的欧洲

自2008年以来的世界经济危机，使许多欧洲国家的经济陷入衰退和萧条。一些世界性的国际组织积极寻找解决的方案，以期减缓经济衰退的步伐。据新闻报道：为避免希腊出现债务违约，欧盟和国际货币基金组织向债台高筑的希腊提供了1100亿欧元(约合1340亿美元)的援助。

结合所学知识请回答：

(1) 材料中提到的对希腊进行经济援助的欧盟是一个什么性质的组织？该组织正式成立于什么时候？(3分)

(2) 至今欧盟的成员国已经达到27个，它的成立对成员国的发展带来了哪些有利因素？(3分)

(3) 欧盟成员国中的一些国家在历史上曾有过十分尖锐的矛盾，一度还成为了战场上的敌人。第一次世界大战前欧洲有哪两大对立的集团？第二次世界大战后，欧洲各国从对立走向联合，反映当今世界发展的什么趋势？(4分)

29. (10分) (1) 欧盟是区域性的政治经济组织。(2分) 1993年。(1分) (2) 欧盟成员国之间资源共享、优势互补，对成员国经济的发展和国际地位的提高发挥了重要作用。(3分) (3) 三国同盟和三国协约；(2分) 和平与发展(2分)。

(2010·湖北宜昌) 24. (15分) 科学技术突飞猛进，经济全球化趋势加速发展，当今世界已成为息息相关、不可分割的整体。通过生活中的具体事例来说明经济全球化给你的生活带来哪些影响？

24. 评分说明：能从生活中举出反映经济全球化的事例可得5分。通过事例结合自己的生活谈经济全球化带来的影响，谈一个方面的影响可得5分，两方面的影响可得10分。满分15分。

(2010·吉林长春) 21. 在大国竞技的舞台上，各国总是你方唱罢我登场，扮演着一个个独一无二的角色。

君主立宪，工业先声，它曾一度雄居世界。

革命烈焰，巴黎公社，它践行着各种社会理想。

危局新政，科技引领，它是当今世界最富强的国度。

沙皇改革，十月革命，它曾建立起第一个社会主义国家。

根据以上材料，回答问题：

(1) 写出材料中提及的四个国家。(4分)

(2) 就文中划线部分史实任选其一进行介绍。(要求：史实准确，表述清晰流畅，字数70字左右。5分)

(3) 从上述国家的发展过程中，我们可以获得哪些启示？(1分)

21. (1) 英国、法国、美国、俄国(4分)；(2) 巴黎公社：知识点应该包括：普法战争法国战败，1871年3月巴黎工人起义，人民选举产生了巴黎公社五月流血周无产阶级建立政权的第一次伟大尝试。危局新政：知识点应该包括：1929~1933年经济危机，罗斯福宣布新政，新政目的(资本主义制度内部进行调整，加强国家对经济的干预和指导)，新政成效(经济缓慢恢复)(要求包含4个知识点，表达流畅，5分)；(3) 改革是强国之路，

科学技术是第一生产力。（其它答案正确也可）（1分）

（2010·江苏宿迁）37.（本题8分）迄今为止，人类社会已进行了三次科技革命，第三次科技革命仍方兴未艾。科技革命给世界、也给中国产生了深刻影响。请回答：

（1）分别列举三次科技革命标志性的发明或应用（各举1例）。（3分）

（2）前两次科技革命分别把人类社会推进到什么时代？（2分）19世纪60—90年代中国曾掀起“师夷长技以自强”的一场运动，历史上称作什么？（1分）

（3）新中国成立后，党和政府高度重视科技发展、紧抓第三次科技革命机遇，20世纪80年代为加快发展高技术而作出的重大决策是什么？（2分）

37.（1）第一次：蒸汽机或火车（蒸汽机车）、汽船（1分）；第二次：电机、内燃机或相应的发明成就（1分，答出1点即可）；第三次：电子计算机、原子能、空间技术、生物工程及成果（1分，答出1点即可）（2）“蒸汽时代”、“电气时代”（2分）“洋务运动”（1分）（3）制订“863计划”或中国高技术发展计划纲要（《高技术研究发展计划纲要》）（2分）

（2010·江苏盐城）33.中国、苏俄（苏联）两国革命和建设道路的探索过程既有相似之处，也存在差异。某校历史兴趣小组准备对此进行学习和探究，请你参与其中，帮助他们解决问题。

步骤一 活动探究

活动Ⅰ：对两国革命道路的探究



（1）要求：模仿小军对俄国革命道路的解说，帮小芳将中国革命道路开辟的解说词补充完。（1分）

活动Ⅱ：以两国建设道路的探索为研究对象，结合以下材料，探究相关问题：

“社会主义究竟是个什么样子，苏联搞了很多年，也并没有完全搞清楚。可能列宁的思路比较好，搞了……，但是后来苏联的模式僵化了”

——邓小平

（2）材料中“列宁的思路比较好”是指实施了什么政策？（1分）

（3）在新中国成立初期的十年社会主义道路探索中，我们成功仿效了苏联的很多做法，但也有自己的创新，同时也出现过严重失误。请就“成功仿效”、“创新”和“失误”各举一例。（3分）

步骤二 感悟提高

（4）比较两国探索的成功经验和惨痛教训，你得到的最大启迪是什么？（2分）

33.（1）井冈山革命（1分）；（2）新经济政策（1分）；（3）“成功仿效”是第一个五年计划的实施（1分）；“创新”是指改革开放（1分）；“失误”是指大跃进和人民公社化运动（1分，答文化大革命也对）。（4）要根据本国国情制定发展政策（2分，其他答案言之有理亦可给分）

（2010·山东泰安）32.泰安某中学历史研究性学习小组确定了“科技发展史”的探究主题，请你帮助完成其中的两个步骤。

步骤一：走进历史，了解历史上重大科技成就

（1）古代中国，产生了许多对后世影响深远的科技成就。请写出公元前221年到公元

1368年之间中国在医学和印刷方面取得的成就各两例（4分）

（2）近代中国，在修建铁路和制碱方面取得了令世界瞩目的成就。请列举这两个领域出现的杰出科学家各一人并说明其主要成就。（4分）

（3）世界近现代史上，发生过三次影响深远的科技革命，分别把人类带入了三个新的时代。请写出这三个时代的名称。（3分）

第一次：_____ 第二次：_____ 第三次：_____

步骤二：反思历史，总结评价

（4）试用一句话评价科技在社会发展中的作用。（1分）

32.（1）医学：汉代的华佗制成全身麻醉药剂“麻沸散”，是世界医学史上的创举；东汉末年的张仲景写成《伤寒杂病论》一书，全面阐述了中医的理论和治病原则等。印刷：隋唐时期雕版印刷术发明；北宋毕升发明的活字印刷术经济高效；唐朝印制的《金刚经》，是世界上现存的，标有确切日期的雕版印刷品等。（医学、印刷成就各答两项，符合题意即可，1项1分，共4分）（2）修建铁路：詹天佑设计和主持修建了京张铁路；制碱：侯德榜发明了“侯氏制碱法”，撰写了《制碱》一书（修建铁路、制碱各举1个科学家及其成就即可，科学家、成就各1分，共4分）。（3）第一次：蒸汽时代（1分）第二次：电气时代（1分）第三次：信息时代（1分）；（4）科技是第一生产力，能促进社会的进步和改善人们生活。（评价合理即可，1分）

（2010·四川达州）48. 战后初期美国经济一枝独秀，增长强劲，西欧和日本却经济萧条，百废待兴。通过不懈的努力，战争的创伤被逐渐抚平，与美国的强烈反差激励着西欧和日本追赶的步伐。到20世纪70年代初，整个西方经济出现了空前繁荣的局面。

（1）西欧国家为重振雄风和提高国际地位，成立了一个什么组织？该组织统一使用的货币是什么？（2分）

（2）到20世纪70年代，美国、联邦德国、日本三国按经济实力强弱，应该如何排序？（3分）

（3）用史实说明20世纪德国历史发展中的成败有“美国因素”的影响。（成败至少各举一例）（4分）

（4）从西欧、日本战后经济迅速恢复和发展中，我们能够借鉴些什么？（2分）

（5）在资本主义国家经济高速发展的同一时期，东欧社会主义国家也相继进行了改革，其中最有成效的是哪一个国家？人们是怎么赞美该国的？（2分）

48.（1）欧共体或欧盟（1分）；欧元（1分）；（2）美国、日本、联邦德国（由强到弱排序每正确一个得1分）（3分）；（3）成：二战前期，美国实行的中立政策纵容了法西斯德国的侵略；二战后初期，美国通过马歇尔计划，促进联邦德国经济的恢复和发展。败：一战后期，美国参战加速了德国的失败；二战后期，美国参战打击了德国法西斯的气焰（成败各举其中一例即可，4分）；（4）坚持科教兴国，发展高新科技；积极参与国际合作与竞争（或意思相近即可）（2分）（5）匈牙利（1分）。“东欧消费者的天堂”（1分）。

（2010·四川攀枝花）57. 世界博览会是展示世界文明最新成果的盛会。科技改变世界，科技优化生活。

根据所学知识回答问题：

（1）1851年5月，英国伦敦水晶宫展览会首次成功向世人展示了工业革命时代的辉煌成就。被称为工业革命“灵魂式的发明”是什么？它对工业部门的机器生产起到了什么重要作用？（2分）

（2）如果你设计主题为“第二次工业革命成就展”的黑板报，你会重点介绍哪两个国家？（2分）

（3）第三次科技革命有什么影响？（3分）

(4) 科技改善了我们的生活，但也带来了许多负面影响，这说明了什么道理？2010年上海世博会的主题是“城市，让生活更美好。”请你为美好城市的建设提出些建议。(3分)

57. (1) 改良蒸汽机；(1分)为工业部门的机器生产提供了强大动力。(1分) (2) 美国、德国。(2分) (3) 第三次科技革命推动社会生产力空前发展，并进一步引起了世界经济结构和国际经济格局的变化，(1分)世界各国都在大力发展高科技，增强自己在国际格局中的地位，(1分)从而推动了世界经济格局的多极化。(1分) (4) 道理：科技是一把双刃剑。(1分)建议：实行“可持续发展”；保护生态环境；节约能源和资源，倡导低碳生活等。(2分) (符合题意，言之成理，即可给分)

(2010·四川攀枝花) 58. 世界格局是指相对稳定的国际关系结构。20世纪，世界格局经历了多次大变动，对人类社会的发展产生了重要影响。作为21世纪的主人，青少年应当以史为鉴，放眼世界，关注国家的前途与命运。

根据所学知识回答问题：

(1) 第一次世界大战后，帝国主义列强通过两次会议建立了什么体系？这个体系的实质是什么？(2分)

(2) 第二次世界大战中召开的什么会议奠定了二战后怎样的世界格局的基础？(2分)

(3) 冷战政策在政治、经济、军事上的表现分别是什么？(3分)

(4) 当前世界政治格局出现了多极化的趋势，你认为影响国际关系格局演变的决定性因素是什么？面对国际经济政治形势的挑战，中国应如何应对？(要求：观点鲜明，有理有据)(3分)

58. (1) 凡尔赛—华盛顿体系。(1分)实质：一战后帝国主义重新瓜分世界，奴役殖民地和半殖民地的体系。(1分) (2) 雅尔塔会议，(1分)奠定了二战后两极格局(雅尔塔体系)的基础。(1分) (3) 政治：杜鲁门主义；(1分)经济：马歇尔计划；(1分)军事：成立北大西洋公约组织。(1分) (4) 决定性因素：国家的经济实力；(1分)应对：①抓住机遇，加强与各国合作，学习和借鉴引进国际先进科技和管理经验，提高我国经济技术发展水平。②实施科教兴国战略，建立创新型国家。努力贯彻“科学技术是第一生产力”的思想，加快发展，增强我国的综合国力。(2分) (开放式题目，符合题意，言之成理，酌情给分)

(2010·湖北咸宁) 41. 20世纪八九十年代以来，世界经济全球化趋势加速发展，经济全球化的影响是什么？(6分)

41. 影响：经济全球化过程中，国家间经济往来的障碍逐步减少，企业可以越来越多地根据自己的需要在世界范围内组织经济活动，促进了经济的发展。(2分)在经济全球化过程中，各国经济相互依存、互相竞争。(1分)发展中国家由于科技水平和经济实力相对较弱，在国际竞争中常常处于不利境地。(1分)一方面，跨国公司常常把一些技术水平低、污染程度高的企业从发达国家转移到发展中国家；(1分)另一方面，国际经济风险对发展中国家经济发展的影响进一步加大。(1分)

(2010·内蒙古呼和浩特) 24. 在社会主义道路的探索过程中，我国和苏联都采取了一定的成就。二战前斯大林领导苏联经济建设取得哪些成就？(2分)确立了怎样的政治经济体制？(1分)我国为解决对资本主义工商业进行社会主义改造的问题，有何创新举措(政策)？(1分)20世纪50年代，我国在民主政治建设上取得什么成就？(1分)

24. 建设成就：完成了第一、第二个五年计划，使苏联从一个传统的农业国变成强盛的工业国，国防力量大为加强。(2分)创新举措：赎买政策(1分)民主政治建设成就：颁布第一部《中华人民共和国宪法》(1分)。

(2010·四川南充) 26. 美国虽只有230多年的历史，却演绎了大国兴起的罕见奇迹。然而这个世界第一经济强国的发展也走过了不平凡的历程。

美国独立后，南方盛行奴隶制种植园经济，它以奴隶劳动为基础，占用了北方资本主义

经济发展需要的大量劳动力，导致两种经济制度的对立。

① 当时美国存在哪两种经济制度？南、北方矛盾的焦点是什么？又是如何解决的？

1933年3月罗斯福就职演说：“价值贬缩到难以想像的程度；赋税增加了；我们的支付能力降低了；各级政府遇到严重的收入减少。”“祖国要求行动起来。”

② 此材料反映了当时美国经济发展遇到了什么问题？罗斯福是如何“行动起来”的？中心措施是什么？

二战后，美国经济实力骤然增长，独一无二的综合实力，使它最终在20世纪后期，成为一个超级大国。

③ 请结合所学知识概述二战以后，美国经济发展三个不同阶段的表现。

26. ①南方奴隶制种植园经济，北方(工业)资本主义经济；黑人奴隶制的废存问题；进行南北战争；②经济危机；实行“新政”；对工业的调整。③五六十年代经济持续发展，西部和南部繁荣；70年代受经济危机打击，经济地位下降；80年代调整，经济发展受到制约；90年代持续稳定发展，进入新经济时代。

(2010·江苏淮安) 30. (9分)人类社会在发展过程中会面对许多共同问题。而这些共同问题单靠一个或几个国家已经不能完全解决，这就需要国际社会加强合作，共同解决。反法西斯战争的胜利是国际社会合作解决人类危机的一个成功范例。二战后随着人类社会的进一步发展，尤其是随着科学技术和经济全球化的发展，人类会遇到许多共同的问题。因此，加强地区性和国际性合作，实现人类社会安全、可持续发展成为国际社会的共同主题之一。据此并结合所学知识，回答下列问题：

- (1) 面对法西斯的威胁，反法西斯国家结成联盟，该联盟成立的标志是什么？
- (2) 请写出反法西斯国家扭转第二次世界大战形势的两次重要战役的名称。
- (3) 二战后随着经济的发展，区域性合作不断加强。1993年成立的世界上最大的经济体是什么？
- (4) 1995年成立的世界贸易组织是经济全球化发展的一个重要表现。该组织希望通过开放市场和公平贸易的原则，实现什么目标？
- (5) 通过对以上问题的回顾与思考，你得到什么启示？

30. (1) 1942年1月1日，美、英、苏、中等26国签署《联合国家宣言》。(1分) (2) 斯大林格勒战役；(1分) 诺曼底登陆战。(1分) (3) 欧洲联盟。(2分) (4) 推动世界贸易的自由化，促进世界贸易的发展。(2分) (5) 要加强国际合作，应对人类面临的共同问题；加强各国经济合作，谋求共同发展。(2分)

(2010·江苏无锡) 40. 近些年来,反映历史题材的影视剧作品层出不穷,请认真观察下面四个历史题材的影视剧,运用历史知识技能,完成相关任务。(1.5分)



A. 《秦始皇》 B. 《我的1919》 C. 《七七事变》 D. 《珍珠港》

历史文化素养是人的知识结构中不可或缺的部分,它可以提升人的修养.某文化机构为考查青年艺术人才的综合素质,拟向全国征集考查选手文化素养的历史试题.请你从上面的影视中挑选1个话题,设计1个相关问题,写明答案和推荐理由,向该文化机构投稿。

要求：问题与话题有联系；问题表达简洁明了；答案准确无误；推荐理由，有说服力。

注意：抄例题不得分。

【例题】话题：我的1919

问题：中国新民主主义革命开始的标志是什么？ 答案：五四运动

推荐理由：1919年爆发的五四运动是一次彻底的反帝反封建的爱国运动，是中国新民主主义的开端。

话题： 问题： 答案：

推荐理由：

40. 示例：话题：卢沟桥事变；问题：全国性抗日战争爆发的标志是什么？答案：七七事变；推荐理由：七七事变（又称卢沟桥事变）日本开始大规模侵华，是全国性抗日战争爆发的标志。（其它言之有理也可）

（2010·福建漳州）32. 九年（2）班在一次历史主题活动中，精心设计了一期板报，请根据要求完成相关的板报内容。（10分）

（1）请你完成板面1的设计。（6分）

国家	人物	殖民国家	主要事迹
美国	杰斐逊	英国	起草《 <u>①</u> 》
拉美	②	西班牙	领导拉美人民反抗西班牙统治，被尊称为“解放者”。
印度	③	英国	1857~1859年印度反英大起义中的女英雄。

（2）板面2有个醒目的标题“非洲（独立）年”，请简要介绍它的来历。（2分）

（3）板面3要求为这次活动设计一个简洁的主题。（要求：写在相应的空格内，字数在12字以内）（2分）


32. （1）①《独立宣言》（2分）；②玻利瓦尔（2分）；③章西女王（2分）；

（2）20世纪五六十年代，非洲先后有三十多个国家取得独立。其中，1960年一年就出现17个独立国家，因此这一年被称为“非洲独立年”。（2分）（3）（亚非拉）殖民地人民的反抗斗争。（2分）

（2010·内蒙古赤峰）26. 学完《第三次科技革命》后，某历史教师计划以班级为单位组织一次科技革命图片展，展示第三次科技革命的成就。请你参与进来并完成下列任务。（11分）

（1）确立主题：为本次展览确定一个主题（不得以“第三次科技革命”和“科技革命图片展”为题）。（2分）


（2）收集资料，选择展品：从以下图片资料中选择合适的展品填入下面相应的四个展区中。（4分）



图一 电灯泡



图二 珍妮机



图三 国际互联网上发送电子贺卡



图四 克隆猕猴 图五 太空中的宇航员 图六 秦山核电站

展区 标志 选择展品 (写出图片序号即可)

- 一 原子能
- 二 计算机
- 三 航天技术
- 四 生物工程

(3) 展品说明：任选一件展品，说说它对你的学习和生活有什么影响。(3分)

(4) 活动感悟：谈谈参加本次活动对你有什么启示。(2分)

26. (1) 符合题意即可(2分)。(2) 图六、图三、图五、图四(各1分)。(3) 选出一件展品(1分)。图三展品，可上网学习、查阅资料、购物等(2分)(要求答出学习和生活两个方面的影响，答出一个方面给1分)(符合题意即可)(4) 科学技术是第一生产力(言之成理即可)(2分)。

(2010·湖南永州) 36. (10分) 在某学校初三年级围绕“经济全球化”开展的研究性学习活动中形成了两种观点：一种观点认为，它是发达国家用来打开发展中国家市场的“敲门砖”，是新殖民主义的一种形式，因此发展中国家应该团结起来，抵制经济全球化。另一种观点认为发展中国家必须顺应经济全球化的时代潮流，必须抓住经济全球化的机遇。结合所学知识回答下列问题。

(1) 对于上述两种观点，你同意哪一种？请你说明理由。(6分)

(2) 为了适应经济全球化的发展趋势，中国采取了哪些应对措施？(4分)

36. (1) 本题两种答案皆可。同意第一种观点：(2分) 因为发展中国家科技水平和经济实力相对较弱，在国际竞争中常常处于不利的境地。(4分) 同意第二种观点：(2分) 因为：①经济全球化对世界经济的发展是有利的，促进世界经济的发展。(2分) ②在全球化过程中，各国经济相互依存、互相发展。有利于发展中国家参与世界经济竞争。(2分) (2) 顺应经济全球化的潮流；制定防范风险的有效政策；引进外资、技术和先进管理经验。(符合题意即得4分)

(2010·广西贵港) 29. 在世界近现代史上，工业革命促进了经济的发展，改变了世界面貌。经济发展的情况影响了资本主义国家的政治，也影响了亚非拉民族国家的发展。请回答：

(1) 第一次工业革命最先发生于哪一行业？(1分) 美国通过什么战争为它的经济迅速超过英、法等国创造了条件？(1分)

(2) 俄国废除农奴制的改革最重要的意义是什么？(1分)

(3) 在1929年~1933年经济危机的打击下，哪两个国家走上了法西斯道路？(2分)

(4) 二战后，哪一个国家创造了“惊人的汉江之奇”？(1分) 为拉美各国民族自强和经济振兴树立了榜样的是哪一个国家？(1分)

(5) 中国经济的腾飞举世瞩目，请你为我国的经济发展提一条合理的建议。(1分)

29. (1) 棉纺织业；美国内战(美国南北战争)；(2) 俄国废除农奴制有利于资本主义发展。(3) 德国、日本；(4) 韩国、古巴；(5) 顺应经济全球化趋势，加强国际合作与交流，谋求共同发展。(此题为开放性试题，言之有理即可得分。)

(2010·湖南株洲) 34. (10分)某社区近期将出一期宣传板报。

下面是社区工作人员为板报准备的一份材料：

在世界经济全球化过程中，世界 500 家最大的跨国公司所进行的国外直接投资占世界投资总额的 80%，贸易额超过世界的一半，技术转让 1/3。跨国公司不仅跨国，而且跨集团，力图在全球范围内开展业务。

(1) 他们选取这段材料是为了说明什么问题?(2分)

(2) 板报拟设置一个栏目“大家谈”，提供这样一个观点：“人们欢迎经济全球化到来认为全球化是能够给中国带来幸福的‘馅饼’，同时也有可能是一个‘陷阱’”。如果要你来谈谈，你认为这个观点正确吗?(2分)为什么?(4分)

(3) 请你为这期宣传板报拟定一个主题。(2分)

34. (1) 跨国公司在经济全球化过程中影响很大，使生活活动的全球化趋势加快。(2) 正确。因为经济全球化对包括中国在内的广大发展中国家来说，既是机遇又是挑战。在经济全球化的过程中，国家间经济往来的障碍越来越少，促进了经济的发展。但发展中国家科技水平和经济实力相对较弱，在竞争中往往处于不利境地。(3) 世界经济全球化。

(2010·湖南娄底) 33. 世博会被誉为“经济、科技、文化界的奥林匹克盛会”，2010年5月1日，举世瞩目的世博会在上海隆重开幕。结合所学知识，探究下面的问题：

【上海今昔】



签订《南京条约》



江南制造总局



发展中的上海

(1) 近代中国，上海曾是最早被迫开放的城市之一，是在哪次战争后开放的？(2分) 这次战争对中国社会造成了怎样的影响？(2分)

(2) 洋务运动时期李鸿章在上海创办了江南制造总局，洋务派提出了什么口号？(2) 改革开放后，上海进入高速发展的快车道，请举出一项国家加快上海发展的措施。(2分)

【链接世博】

材料一 1851年英国伦敦举办了第一届世界工业博览会，出现了珍妮机、蒸汽机等大批新产品……1876年在美国费城举行了大型博览会，美国以东道主的身份向世界展示了电报、电话等大量先进的科技成果，而素有“文明古国”之称的中国展示的是传统的丝绸、茶叶、瓷器……

——摘自人民网



材料二 上海世博会会徽中，汉字“世”字与 2008年北京奥运会会徽——篆刻的“京”字交相辉映，寓意着本世纪两项超大型国际活动在中国举办。吉祥物“海宝”以汉字“人”作为核心创意，体现了“以人为本”的时代精神。……世博会中国馆和主题馆应用了太阳能光伏发电工程，向世界展示了我国先进的太阳能应用技术。

——摘自新华网



(3) 中国古代的科技在世界上处于领先地位，哪一重大发明为郑和下西洋和新航路开辟提供了重要条件？(2分) 费城博览会上，中美两国展示的不同产品，说明了什么问题？(2分)

(4) 右上方的两张图片都突出了人文思想，世界历史上哪一次思想解放运动是以人文主义为核心，冲破了封建教会的精神束缚？(2分)

(5) 材料一中多种电器的发明和应用把人类带入什么时代？(2分) 材料二中太阳能光伏发电工程属于哪一次科技革命成果？(2分) 这次科技革命有何特点？(3分)

【拓展提高】

(6) 21世纪以来，中国继北京奥运会成功举办后，又在上海拉开了世博会的帷幕，这些成就的取得，让你认识到了什么？(3分)

33. (1) 鸦片战争。使中国开始沦为半殖民地半封建社会。(2) 前期：自强；后期：求富。设立浦东新区。(3) 指南针。中国科技落后于西方国家。(4) 文艺复兴。(5) 电气。第三次科技革命。特点：①这次新科技革命不仅涌现了大量的科学成果，而且大大加快了科学技术转化为生产力的速度，缩短了知识变为物质财富的过程。②科学技术的各个领域之间相互渗透，一种技术的发展引起好几种技术的革命。③新技术成为社会生产力中最活跃的因素，在促进经济增长的各种因素中，科学进步所占的比重不断上升。(6) 改革开放以来，经过长期的发展，中国的综合国力增强；国际地位得到了提高。

(2010·辽宁营口) 26. 2008年，始于美国的次贷危机，迅速蔓延，到2009年演变成全球的国际金融危机。这场危机给世界许多国家造成了巨大损失，我国经济也受到严重冲击，出口大幅下降，不少企业经营困难，有的甚至破产倒闭。

请结合上述材料，回答相关问题：

(1) 历史上还有哪次经济危机首先发生在美国？当时美国是如何应对危机的？写出一个与美国摆脱危机方法不同的国家。

(2) 始于美国的次贷危机迅速演变成国际金融危机，主要原因是什么？(2分)

(3) 请写出一个能表现当今世界经济发展趋势的组织。(1分)

(4) 在当今世界经济发展趋势下，你对我国经济建设有何建议？(2分)

26. (1) 1929年世界经济危机(1分)；罗斯福新政(1分)；德国。(1分) (2) 经济全球化的影响(2分)。(3) 世界贸易组织，欧盟，亚太经合组织等任选一个。(1分)

(4) 中国政府应顺应潮流，主动参与国际竞争与合作；应发挥自身优势，开拓国际市场；应引进国外先进技术等等。(意思符合即可得分，2分)