

# 2010年全国中考中国现代史整理

## 目录

### 选择题

#### 第一单元 中华人民共和国的成立和巩固

第1课 中国人民站起来了

第2课 最可爱的人

第3课 土地改革

#### 第二单元 社会主义道路的探索

第4课 工业化的起步

第5课 三大改造

第6课 探索建设社会主义的道路

第7课 “文化大革命”的十年

#### 第三单元 建设有中国特色的社会主义

第8课 伟大的历史转折

第9课 改革开放

第10课 建设有中国特色的社会主义

#### 第四单元 民族团结与祖国统一

第11课 民族团结

第12课 香港和澳门的回归

第13课 海峡两岸的交往

#### 第五单元 国防建设与外交成就

第14课 钢铁长城

第15课 独立自主的和平外交

第16课 外交事业的发展

#### 第六单元 科技教育与文化

第17课 科学技术的成就（一）

第18课 科学技术的成就（二）

第19课 改革发展中的教育

第20课 百花齐放 推陈出新

#### 第七单元 社会生活

第21课 人们生活方式的变化

### 单元综合

### 填空题

### 改错题

### 列举题

### 读图简答题

### 材料分析题

### 探究题（问答题）

## 选择题

### 第一单元 中华人民共和国的成立和巩固

## 第1课 中国人民站起来了

(2010·四川乐山) 18. 2009年10月1日, 新中国建国60周年庆典上, 天安门广场以复兴之路为主题, 举行了盛大的阅兵式和群众游行。下面是一组庆典上的游行方阵, 其中喻指新中国诞生的是 ( ) **A**



A. 开天辟地方阵 B. 艰苦创业方阵 C. 春天的故事方阵 D. 走进新时代方阵

(2010·江苏南京) 10. 中华人民共和国的成立开辟了中国历史新纪元。对这句话理解正确的是: 新中国的成立 ( ) **D**

- A. 壮大了世界和平、民主和社会主义的力量
- B. 鼓舞了世界被压迫民族和被压迫人民争取解放的斗争
- C. 开创了社会主义现代化建设的新局面
- D. 结束了被侵略被奴役的历史, 中国真正成为独立自主的国家

(2010·福建福州) 10. 右图是中华人民共和国同庆60周年庆典上的镜头, 与它相关的历史事件是 ( ) **B**

- A. 三大战役
- B. 新中国成立
- C. 西藏和平解放
- D. 土地改革



(2010·江苏苏州) 9. 历史谱写着歌曲, 歌声凝聚着历史。有一首歌唱道: “让我告诉世界, 中国命运自己主宰; 让我告诉未来, 中国进行着接力赛……”。你知道中国人民“命运自己主宰”开始于 ( ) **B**

- A. 三大战役取得胜利
- B. 中华人民共和国成立
- C. 社会主义制度建立
- D. 第一个五年计划实施

(2010·广东东莞) 21. 1949年中华人民共和国建立, 中国历史从此揭开了新的篇章。对“新篇章”理解不正确的是 ( ) **A**

- A. 标志着中国从此走上社会主义道路
- B. 标志着新民主主义革命胜利
- C. 标志中国半殖民地半封建时代结束
- D. 标志着中国人民成为国家的主人

(2010·山东青岛) 24. “我们所做的一切都是为了让人民生活得更加幸福、更有尊严。”这是温家宝总理在今年的两会上对尊严内容的阐述 (如右图)。追溯历史, 中华民族摆脱屈辱, 有了“站起来”的“尊严”开始于 ( ) **B**

- A. 中华民国成立
- B. 新中国的成立
- C. 抗美援朝的胜利
- D. 一五计划完成



(2010·福建龙岩) 9. 2009年10月1日, 举国欢庆中华人民共和国的生日, 她已经成立 ( ) **C**

- A. 50周年
- B. 55周年
- C. 60周年
- D. 65周年

(2010·江苏泰州) 10. 右面的邮票是为了纪念中国人民政治协商会议第一届全体会议胜利召开而发行的。关于这次会议的说法不正确的是 ( ) **C**



- A. 会议的主要任务是讨论建立新中国的有关事宜
- B. 会议通过了具有临时宪法性质的《共同纲领》
- C. 会议制定了中国第一部社会主义类型的宪法——《中华人民共和国宪法》
- D. 会议选举产生了中华人民共和国中央人民政府委员会

(2010·山东济宁) 21. 中国共产党完成了孙中山未竟的事业, 主要表现在 ( ) **A**

- A. 完成了反帝反封建的历史任务
- B. 建立了人民民主专政的国家政权
- C. 全面建设小康社会, 实现现代化
- D. 建立起公有制, 实现了共同富裕

(2010·广西河池市) 3. 五星红旗第一次冉冉升起, 孙爷爷和家人齐集天安门经历的活动是 ( ) **A**

- A. 开国大典
- B. 中华民国的成立
- C. 南京国民政府成立
- D. 武汉国民政府的成立

(2010·湖南衡阳) 15. 拿破仑曾说: 中国是一只沉睡的雄狮, 它一旦醒来, 整个世界都会为之颤抖。标志着雄狮醒来、“中国人民站起来了”的历史事件是 ( ) **B**

- A. 中国抗日战争胜利
- B. 中华人民共和国成立
- C. 中华人民共和国恢复在联合国合法席位
- D. 北京奥运会召开

(2010·贵州贵阳) 16. 1951年它以和平的方式获得了解放, 60年代它经过民主改革走上了社会主义发展的道路, 今天它已发展成为我国的五大牧区之一。这里的“它”是指 ( ) **B**

- A. 新疆
- B. 西藏
- C. 内蒙古
- D. 青海

(2010·湖北荆门) 7. 对联是中华民族优秀传统文化的主要组成部分, 具有很强的时代性。下列对联中反映新中国成立的是 ( ) **D**

- A. 食堂巧煮千家饭, 公社饱暖万人新
- B. 改革开放同添异彩, 经济建设共展宏图
- C. 扎根农村干革命, 志在全球一片红
- D. 万里河山归人民, 五亿群众庆新生

(2010·湖北孝感) 24. 中华人民共和国成立是中国现代史上的伟大事件, 也是 20 世纪世界的伟大事件之一。其国际意义不包括 ( ) **A**

- A. 标志着新民主主义革命的胜利
- B. 沉重地打击了帝国主义
- C. 壮大了社会主义力量
- D. 鼓舞了殖民地、半殖民地人民争取解放的斗争

(2010·江苏盐城) 14. 毛泽东词句“……人民五亿不团圆。一唱雄鸡天下白, 万方乐奏有于阗……”反映的重大历史事件是 ( ) **D**

- A. 长征结束
- B. 西安事变和平解决
- C. 抗日战争胜利
- D. 新中国成立

(2010·宁夏) 1. 中国现代史是党领导全国各族人民进行社会主义现代化建设的历史, 其开端是 ( ) **D**

- A. 1911年辛亥革命
- B. 1919年五四运动
- C. 1921年中国共产党成立
- D. 1949年中华人民共和国成立

(2010·江苏无锡) 10. 2010年3月14日, 国务院总理温家宝在十一届全国人大三次会议的记者见面会上说: “我们国家的发展不仅是要搞好经济建设, 而且要推进社会的公平正义, 促进人的全面和自由发展, 这三者不可偏废。……我认为, 公平正义比太阳还要有光辉。”

新中国成立后, 党和国家非常重视民主法制建设, 建国初期起到临时宪法作用的是 ( ) **C**

- A. 《中华民国临时约法》
- B. 《刑法》
- C. 《共同纲领》
- D. 《中华人民共和国宪法》

(2010·内蒙古赤峰) 5. 下列关于西藏历史的叙述错误的是 ( ) **D**

- A. 文成公主嫁予吐蕃赞普
- B. 元朝时正式成为中央政府的行政区
- C. 清朝时设驻藏大臣
- D. 1950年和平解放

(2010·内蒙古赤峰) 10. 下列历史事件中改变了中国社会性质是 ( ) **C**

- ① 鸦片战争
- ② 五四运动
- ③ 中国共产党的诞生

- ④北伐战争      ⑤中华人民共和国成立      ⑥文化大革命  
A. ②③      B. ③④      C. ①⑤      D. ①⑥

(2010·广西贵港) 15. 结束了一百多年来帝国主义勾结封建统治者剥削压迫中国人民的历史事件是 ( ) C

- A. 西藏的和平解放      B. 抗美援朝战争的胜利  
C. 中华人民共和国的成立      D. 中华民国的成立

(2010·辽宁营口) 1. 下列地区以和平方式获得解放的是 ( ) B  
A. 天津      B. 西藏      C. 新疆      D. 湖南

## 第2课 最可爱的人

(2010·重庆綦江) 9. “雄赳赳，气昂昂，跨过鸭绿江……”展现了当年我国志愿军战士抗美援朝，保家卫国的英雄风采。抗美援朝战争爆发距今 ( ) C

- A. 40周年      B. 50周年      C. 60周年      D. 70周年

(2010·吉林) 4. 为了抗美援朝、保家卫国，“雄赳赳，气昂昂，跨过鸭绿江”的部队是 ( ) D

- A. 中国工农红军      B. 八路军、新四军      C. 中国人民解放军      D. 中国人民志愿军

(2010·广西梧州) 22. “人生自古谁无死，留取丹心照汗青。”是中华民族宝贵的精神财富，抗美援朝时期，哪些英雄以自己的行动体现出这一宝贵品质？ ( ) C

- ①邱少云      ②刘胡兰      ③董存瑞      ④黄继光  
A. ①②      B. ①③      C. ①④      D. ③④

(2010·湖北荆门) 8. “一条大河波浪宽，风吹稻花香两岸……”这是电影《上甘岭》的主题曲。在这次战役中牺牲的英雄是 ( ) A

- A. 黄继光      B. 毛岸英      C. 邱少云      D. 罗盛教

(2010·重庆江津) 7. 一位美军高级将领在分析一场战争失败的原因时说：“我们是在一个错误的时间，一个错误的地点，和一个错误的对手，打了一场错误的战争！”这场发生在20世纪50年代的战争被我们称为 ( ) C

- A. 抗日战争      B. 解放战争      C. 抗美援朝      D. 镇压反革命

(2010·湖北咸宁) 14. 为了抗美援朝、保家卫国，以彭德怀为司令员的中国人民志愿军开赴朝鲜作战是在哪一年？ ( ) B

- A. 1949年      B. 1950年      C. 1954年      D. 1955年

(2010·山东日照) 9. 今年是抗美援朝战争开始60周年，被誉为“最可爱的人”的志愿军英雄人物是 ( ) D

- A. 雷锋      B. 王进喜      C. 邓稼先      D. 黄继光

(2010·福建漳州) 12. 1950年10月，中国人民志愿军雄赳赳，气昂昂，跨过鸭绿江，赴朝作战。下面四组人物，符合这一主题的是 ( ) C

- A. 王进喜、黄继光      B. 黄继光、董存瑞      C. 黄继光、邱少云      D. 邱少云、董存瑞

(2010·贵州铜仁) 16. 《谁是最可爱的人》歌颂了黄继光、邱少云等同志的爱国主义和革命英雄主义精神，他们是在哪次战争中涌现出来的英雄人物 ( ) C

- A. 抗日战争      B. 解放战争      C. 抗美援朝      D. 北伐战争

## 第3课 土地改革

(2010·浙江绍兴) 14. 实现好、维护好广大人民群众根本利益历来是中国共产党农村工作的重中之重。下列标志着我党已实现彻底消灭封建土地制度, 真正解放农民这一目标的事件是 ( ) **A**

- A. 土地改革的完成                      B. 对农业的社会主义改造  
C. 人民公社化运动的开展              D. 家庭联产承包责任制的推行

(2010·江苏苏州) 10. 下表反映了1950年和1954年中国农村不同阶层人口及其占有土地的比重, 导致这一比重变化的原因是 ( ) **A**

	1950年(%)		1954年(%)	
	人口比重	土地占有比重	人口比重	土地占有比重
贫农、中农	85.5	45.2	92.1	91.4
富农、地主	14.5	54.8	7.9	8.6

- A. 土地改革已经完成                      B. 农业合作化运动  
C. “包产到户”的实施                      D. 人民公社化运动

(2010·山东威海) 14. 下表为四川省资中县某镇三个村阶级结构变动情况表(单位: 户)。表中阶级结构变动的直接原因是 ( ) **B**

年份	雇农	贫农	中农	富农	新富农	地主	其他
1948年	83	197	116	18	0	27	2
1953年	3	74	355	0	4	0	7

- A. 新中国的成立                              B. 土地改革的完成  
C. 第一届全国人民代表大会的召开      D. 社会主义改造的顺利完成

(2010·河南) 9. 新中国成立后, 党和政府采取了一系列措施巩固新生的人民政权。下列事件中, 既巩固了政权, 又促进了经济发展, 为国家工业化创造了条件的是 ( ) **B**

- A. 和平解放西藏      B. 土地改革      C. 抗美援朝      D. 制定宪法

(2010·贵州贵阳) 17. 以下史实中对消灭地主阶级, 解放农村生产力产生重要影响的是 ( ) **C**

- A. “大跃进”      B. “一五”计划的实施      C. 土地改革的完成      D. 人民公社化运动

(2010·湖北黄石) 31. 1950年新中国进行了一次轰轰烈烈的土地改革。这次土地 ( ) **D**

- ①解放了农村生产力                      ②建立了土地公有制  
③为国家工业化建设准备了条件      ④废除了封建土地制度

- A. ①②③      B. ②③④      C. ①②④      D. ①③④

(2010·吉林长春) 4. 新中国成立后, 我国存在两千多年的封建土地制度被彻底摧毁, 主要是因为 ( ) **A**

- A. 土地改革的完成                      B. 农业生产合作社的建立  
C. 人民公社化运动的开展              D. 家庭联产承包责任制的实行

(2010·宁夏) 2. 辽宁宽甸县农民给毛主席的一封信中说: “我们祖祖辈辈做梦都在想着有一天自己能有三亩、五亩的地, -----现在这个梦想实现了。”这封信内容反映的历史背景是 ( ) **B**

- A. 全国农业合作化高潮                      B. 土地改革运动  
C. “大跃进”运动                              D. 改革开放新时期

(2010·新疆建设兵团) 4. 同学们为开展研究性学习搜集了以下两张图片, 它们共同反映的学习主题是 ( ) **A**



向农民宣传土地改革



拔除地主立的地界碑

A．土地改革 B．农业合作化运动 C．人民公社化运动 D．家庭联产承包责任制

(2010·贵州铜仁) 17.《中共中央 国务院关于加大统筹城乡发展力度 进一步夯实农业农村发展基础的若干意见》(2009年12月31日)发布,表明我国再次将改善农村民生问题放在国民经济发展的重要位置。60年前中央人民政府为解决新解放区广大农民的生计问题

( ) A

A．开始进行土地改革

B．开始执行第一个五年计划

C．颁布了《中华人民共和国宪法》

D．对农业、手工业和资本主义工商业进行社会主义改造

(2010·辽宁营口) 2.对土地改革的意义理解不正确的是 ( ) C

A．废除了两千多年的封建土地制度 B．巩固了人民政权

C．建立了土地公有制

D．为国家工业化建设准备了条件

## 第二单元 社会主义道路的探索

### 第4课 工业化的起步

(2010·山东威海) 15.我国第一部社会主义类型的宪法是 ( ) C

A．《中国人民政治协商会议共同纲领》 B．《中华人民共和国土地改革法》

C．《中华人民共和国宪法》 D．《中华人民共和国刑法》

(2010·山东青岛) 25.2010年3月14日,十一届人大三次会议通过了修改《选举法》的决定,首次实现城乡选举的“同票同权”,标志着我国民主法制建设进一步完善。第一部《中华人民共和国宪法》制定于 ( ) C

A．1949年

B．1953年

C．1954年

D．1956年

(2010·山东潍坊) 12.社会主义道路探索时期,中国人民在民主法制建设方面取得的重大成就是 ( ) B

A．颁布了《共同纲领》 B．颁布《中华人民共和国宪法》

C．制定过渡时期总路线 D．颁布《中华人民共和国刑法》

(2010·广东汕头) 13.为了有计划地进行社会主义建设,我国政府编制了发展国民经济的第一个五年计划。计划提出要集中主要力量 ( ) A

A．发展重工业 B．发展轻工业、农业和商业

C．培养建设人才 D．把生产合作社合并为人民公社

(2010·广东) 12.在第一届全国人民代表大会上,毛泽东说:“这次会议是标志着我国人民从1949年建国以来的新胜利和新发展的里程碑……”。这次会议被称为“里程碑”的理由是

( ) D

- A. 通过了《共同纲领》                      B. 确立了土地改革的路线  
C. 公布了“一五计划”                      D. 通过了第一部《中华人民共和国宪法》

(2010·吉林) 5. 1956年,一座宏伟的汽车城——第一汽车制造厂在长春建立。下列与其相关的事件是 ( ) **C**

- A. 实行土地改革                      B. 实行农业合作化  
C. 实行第一个五年计划                      D. 中共八大的召开

(2010·陕西) 17. 1954年,毛泽东主席说:“我们这次会议(注:指第一届全国人民代表大会)具有伟大的历史意义,这次会议是标志着我国人民从1949年建国以来的新胜利和新发展的里程碑。”“这次会议”的最大成果是 ( ) **C**

- A. 颁布了《中华人民共和国土地改革法》                      B. 提出了和平共处五项原则  
C. 通过了第一部《中华人民共和国宪法》                      D. 社会主义改造基本完成

(2010·福建莆田) 12. 宪法是国家的根本大法。1954年9月,通过《中华人民共和国宪法》的大会是 ( ) **D**

- A. 中国共产党第一次全国代表大会                      B. 中国共产党第八次全国代表大会  
C. 中国人民政治协商会议第一届全体会议                      D. 第一届全国人民代表大会第一次会议

(2010·湖北荆门) 9. 一五计划期间我国建立了东北工业基地,其中心是 ( ) **A**

- A. 鞍山钢铁公司                      B. 长春第一汽车制造厂  
C. 沈阳第一机床厂                      D. 宝山钢铁公司

(2010·宁夏) 3. “我国第一个五年计划取得了重大成就。”下列史实中可以证明这一结论的是 ( ) **C**

- ① 武汉长江大桥建成  
② 开展了大炼钢铁的群众运动  
③ 长春汽车制造厂、鞍山钢铁公司等重工业企业投产  
④ 新藏、青藏、川藏公路及宝成铁路修通

- A. ①②③                      B. ①②④                      C. ①③④                      D. ②③④

(2010·山东泰安) 16. 刘爷爷是第一届全国人民代表大会的代表,他参与和表决了会议通过的所有文件和决定,下列各项属于这些文件和决定的是 ( ) **C**

- A. 第一个五年计划                      B. 停止使用“以阶级斗争为纲”的口号  
C. 第一部《中华人民共和国宪法》                      D. 党在社会主义初级阶段的基本路线

(2010·湖北咸宁) 15. 1957年,一座连接了南北交通的长江大桥在什么地方建成? ( ) **A**

- A. 武汉                      B. 沈阳                      C. 长春                      D. 鞍山

## 第5课 三大改造

(2010·江苏南京) 11. 右表中两种所有制经济百分比出现的主要原因是 ( ) **B**

1956年国民经济中公私经济成分的比较

项 目	社会主义公有制经济	私有制经济
国民收入	92.9%	7.1%
工业总产值	100%	-
商品零售额	95.8%	4.2%



- A. 中华人民共和国宣告成立            B. 《中华人民共和国宪法》的制定  
C. 三大改造的基本完成                D. 第一个五年计划开始

(2010·福建宁德) 9. 有人问一位被称为“纺织大王”的资本家为什么要接受社会主义改造的时候, 他说: “是的, 我是一个资本家, 但是我首先是一个中国人。”这里所说的“社会主义改造”指的是 ( ) **D**

- A. 对农业的改造            B. 对手工业的改造  
C. 对养殖业的改造        D. 对资本主义工商业的改造

(2010·广西贵港) 16. 我国进入社会主义初级阶段是在哪一事件后? ( ) **A**

- A. 三大改造的基本完成            B. 中共十三大的召开  
C. 第一个五年计划的完成        D. 中共十一届三中全会的召开

## 第6课 探索建设社会主义的道路

(2010·江苏泰州) 11. 1956年对中国人民来说是“非同寻常的一年”。在这一年, 新中国取得的主要成就有 ( ) **C**

- ①“大跃进”运动在全国范围内发动起来  
②基本完成三大改造, 标志着社会主义制度在我国基本建立  
③中共八大在探索建设社会主义道路过程中取得了重要成果  
④中国第一颗人造地球卫星“东方红1号”发射成功

- A. ①④            B. ①③            C. ②③            D. ③④

(2010·浙江温州) 19. 有人根据右图编了一首顺口溜: “一棵玉米冲九霄, 彩云栓住玉米腰, 吓得月亮直弯腰。”这首顺口溜反映的现象出现于 ( ) **C**

- A. 土地改革时期    B. “一五计划”时期  
C. 大跃进时期      D. 文化大革命时期



(2010·江苏苏州) 11. “铁人”王进喜克服重重困难打出大庆第一


口油井, 焦裕禄为改变兰考面貌献出生命, 邓稼先完成我国第一颗原子弹的理论设计方案, 他们的事迹出现在 ( ) **B**



- A. 新中国成立时期            B. 探索建设社会主义道路时期  
C. “文化大革命”时期        D. 社会主义现代化建设新时期

(2010·广东东莞) 22. 右图是中华人民共和国建国后创作的一幅宣传画, 从中可以读出的历史信息有 ( ) **D**

- ①创作的时间是1958年——1960年间  
②反映了我国人民要求改变经济落后面貌的迫切愿望  
③可知当时存在浮夸风现象



④我国掌握了粮食高产技术

- A. ①②④      B. ①③④  
C. ②③④      D. ①②③

(2010·湖南邵阳) 8. 右图为1958年9月4日山东潍县大众报社出版的“号外”，它反映的社会现象是 ( ) **D**

- A. 注重科学、实事求是      B. 注重农业、忽视工业  
C. 思想解放、对外开放      D. 急于求成、“左”倾浮夸




(2010·山东威海) 16. 1958年6月12日,《人民日报》报道:河南省遂平县卫星农业社2.9亩小麦试验田亩产达3530斤。这篇浮夸报道的出现反映了“左”倾错误的泛滥,“左”倾错误出现的原因是 ( ) **B**

- ①中共八大的指引      ②对我国所处的发展阶段认识不足  
③对如何建设社会主义缺乏经验      ④忽视了客观的经济规律  
A. ①②③      B. ②③④      C. ①②④、      D. ①③④

(2010·山东临沂) 15. 2009年9月,邓稼先“100位为新中国成立作出突出贡献的英雄模范人物”之一。他为中国核武器的研制作出了卓越贡献,被誉为中国的 ( ) **A**

- A. “两弹元勋”      B. “杂交水稻之父”      C. “铁人”      D. “炮兵英才”

(2010·山东临沂) 16. 右图是某学习小组在研究性学习中收到的一幅图片。根据图片内容判断,该学习小组研究的课题是 ( ) **B**



- A. 土地改革  
B. “大跃进”运动  
C. 农业生产合作社运动  
D. “文化大革命”

(2010·湖北十堰) 25. 新中国成立后,涌现出大批全心全意为人民服务的杰出人物,人民分别给予了他们许多光荣的称号,下面图片中人物与图片下的称号不相逢的是 ( ) **B**



- A. 改革开放的总设计师      B. 抗洪英雄      C. 两弹元勋      D. 县委书记的好榜样

(2010·湖北襄樊) 16. 下列不属于探索建设社会主义道路时期的模范人物是 ( ) **A**

- A. 邱少云      B. 焦裕禄      C. 王进喜      D. 邓稼先

(2010·广西河池市) 4. “人有多大胆,地有多大产”。与这个口号相关的事件是 ( ) **C**

- A. 农业合作化运动      B. 土地改革      C. “大跃进”运动      D. “文化大革命”

(2010·山东莱芜) 11. “悟空跳山没跳过,他说山中有妖魔。大山一听哈哈笑,这是社员炼的铁。”这首诗反映的史实是 ( ) **B**

- A. 实行全行业公私合营      B. 发动了大跃进运动  
C. 工厂停产“闹革命”      D. 实行分田包产到户


(2010·湖北黄石) 32. 在社会主义建设过程中涌现出大批先进人物。被誉为“两弹元勋”的是 ( ) **B**

- A. 李四光      B. 邓稼先      C. 王进喜      D. 袁隆平

(2010·江苏盐城) 17. 1964年10月16日,我国第一颗原子弹爆炸成功。为此作出重大贡献的人物是 ( ) C

A. 王进喜 B. 詹天佑 C. 邓稼先 D. 袁隆平

(2010·宁夏) 4. 在全面建设社会主义进程中,下列人物事迹共同体现的时代精神是 ( ) A




王进喜



焦裕禄



雷锋



邓稼先

① 艰苦创业 ② 全心全意为人民服务 ③ 同仇敌忾抗击侵略 ④ 国际主义人道主义

A. ①② B. ①③ C. ②③ D. ③④

(2010·四川达州) 23. 今年,某人五十岁生日时,朋友们决定以歌曲联唱的形式来表示祝贺。如果朋友首先唱的是他童年时的一首歌,这首歌是 ( ) D

A. 《在希望的田野上》 B. 《春天的故事》  
C. 《北京欢迎您》 D. 《学习雷锋好榜样》

(2010·福建泉州) 11. 惠女水库修建中呈现的勤劳、勇敢、奉献等“惠女精神”是一宝贵的精神财富,该水库由当时惠安是红旗、东红、上游、飞跃四个公社联合修建。据此判断该水库修建于 ( ) B

A. “三大改造”时期 B. 大跃进时期 C. 文化大革命时期 D. 改革开放时期

(2010·内蒙古呼和浩特) 9. 20世纪60年代,他带病坚持工作,率领河南兰考人民艰苦奋斗,治理灾害,使贫穷面貌开始改变。人民称颂创“党的好干部”。他是 ( ) B

A. 孔繁森 B. 焦裕禄 C. 雷锋 D. 王进喜

(2010·四川南充) 9. 右图的新闻报导最有可能出现在 ( ) B



A. 1950年~1952年的土地改革时期  
B. 1958年的“大跃进”时期  
C. 1966年~1976年的“文革”时期  
D. 社会主义现代化建设新时期

(2010·江苏无锡) 11. 1956年~1966年是我国“探索社会主义道路”的时期,下列哪一项全面反映了其历史阶段特征? ( ) D

A. 遭到建国来最严重的挫折和失误 B. 社会主义经济持续和稳定发展  
C. 社会主义民主政治建设取得重大进展 D. 正确与失误、成就和挫折错综交织

(2010·山东日照) 10. “队里肥猪大又长,猪身横跨太平洋”,“决心苦战十五年,赶上英国不发愁。”这种民谣应该出现在哪个时期? ( ) C

A. 土地改革 B. 三大改造 C. 大跃进时期 D. 文化大革命

(2010·江苏常州) 20. 右图所反映的历史现象应发生在 ( ) B



A. 三大改造时期 B. 大跃进时期  
C. 文革时期 D. 改革开放时期

## 第7课 “文化大革命”的十年

(2010·浙江义乌) 18. 2009年,“吴晗先生诞辰100周年·逝世40周年”纪念会在北京和家乡义乌相继举行。下列与吴晗先生含冤逝世有关的运动是 ( ) **D**

A. 抗美援朝 B. 大跃进运动 C. 人民公社运动 D. 文化大革命

(2010·广东东莞) 23. 在“文化大革命”期间,国家主席刘少奇含冤而死,这一事件突出地反映了 ( ) **C**

A. 法律面前人人平等 B. 人民群众行使监督权  
C. 民主与法制被践踏 D. 党内出现了叛徒内奸

(2010·福建龙岩) 10. “文化大革命”中最大的一起冤案是 ( ) **D**

A. 彭德怀被定为“反革命” B. 邓小平被诬陷为“四五”运动的总后台  
C. 老革命家被污蔑为“二月逆流” D. 国家主席刘少奇被诬陷和迫害致死

(2010·江苏泰州) 12. “文化大革命”中,身为国家主席的刘少奇被诬陷为“叛徒、内奸、工贼”,惨遭批斗,失去人身自由。这突出表明文革期间 ( ) **A**

A. 民主与法制被肆意践踏 B. 国民经济发展缓慢  
C. 教育科学文化事业遭到严重摧残 D. 法律面前人人平等

(2010·广东深圳) 19. 老人依旧清楚地记得那个疯狂的年代:作为学生的他,戴着红卫兵的袖章,四处张贴大字报,批斗所谓的“牛鬼蛇神”……这个年代是 ( ) **C**

A. “大跃进”时期 B. 农村人民公社化时期  
C. 文化大革命时期 D. 土地改革时期

(2010·福建宁德) 10. 文化大革命期间,国家主席刘少奇在中南海被批斗,失去人身自由。与上述史实相匹配的评价结论是 ( ) **A**

A. 民主与法制遭到践踏 B. 造反派之间的夺权狂潮  
C. 国民经济比例严重失调 D. 文化事业遭到严重摧残

(2010·广西贵港) 17. 下列哪一事件与林彪反革命集团的覆灭有关? ( ) **A**

A. “九一三”事件 B. 毛泽东逝世  
C. “四五”运动 D. “四人帮”被粉碎

## 第三单元 建设有中国特色的社会主义

### 第8课 伟大的历史转折

(2010·江苏南京) 12. 中国共产党重新确立解放思想、实事求是思想路线的会议是 ( ) **C**

A. 遵义会议 B. 中共七大 C. 中共十一届三中全会 D. 中共十五大

(2010·福建福州) 12. 决定右图中这一伟大决策的会议是 ( ) **B**

A. 遵义会议  
B. 中共十一届三中全会  
C. 中共八大  
D. 第一届全国人民代表大会



(2010·广东东莞) 24. 20世纪以来的中国发生了三次历史巨变,促进“第三次巨变”的领导人是 ( ) **C**

A. 孙中山 B. 毛泽东 C. 邓小平 D. 胡锦涛

(2010·广东东莞) 25. 十一届三中全会奠定了中国社会最近三十年“不动摇、不懈怠, 不折腾”的基调。十一届三中全会确定的指导思想是 ( ) B

A. 多快好省地建设社会主义 B. 解放思想, 实事求是  
C. “一国两制”的构想 D. 三个代表思想

(2010·福建龙岩) 11. 标志着我国进入社会主义现代化建设新时期的是 ( ) A

A. 中共十一届三中全会 B. 中共十三大 C. 中共十四大 D. 中共十五大

(2010·四川资阳) 22. 徐小明同学的爸爸收藏了刊登右图所示文章的一份报纸, 下列不能作为收藏理由的是该文章的发表 ( ) D



A. 标志中国思想理论界开始了关于真理标准问题的讨论  
B. 有利于打破长期以来个人崇拜和教条主义的束缚  
C. 推动了当时人们思想的解放  
D. 停止了“以阶级斗争为纲”口号的使用

(2010·湖北荆州) 11. 我国进入社会主义现代化建设新时期的标志是 ( ) D

A. 新中国成立 B. 第一个五年计划的实施  
C. 三大改造的基本完成 D. 十一届三中全会的召开

(2010·广西梧州) 23. 假如你是一位记者, 采访了党的十一届三中全会, 你的采访报道中不应出现以下哪个观点? ( ) B

A. 否定“两个凡是”的方针 B. 阶级斗争为纲  
C. 实行改革开放的伟大决策 D. 工作重心转移到经济建设

(2010·吉林长春) 5. 右图是 1998 年为了纪念一次转折性会议召开 20 周年而发行的纪念章。这次会议是 ( ) C

A. 第一届全国人民代表大会 B. 中共八大  
C. 十一届三中全会 D. 中共十二大



(2010·重庆江津) 8. 党的十一届三中全会实现了伟大的历史转折。这一转折是指党的工作重心 ( ) D

A. 由农村转移到城市  
B. 对内改革转移到对外开放  
C. 由城市转移到农村  
D. 由阶级斗争转移到社会主义现代化建设上来

(2010·内蒙古呼和浩特) 10. 我国社会主义现代化建设新时期开始于 ( ) D

A. 新中国成立 B. 第一届全国人大的召开  
C. “文革”结束 D. 十一届三中全会的召开

(2010·四川南充) 10. 作出把党和国家的工作重心转移到经济建设上来, 实行改革开放伟大决策的会议是 ( ) D

A. 遵义会议 B. 中共“七大” C. 中共“八大” D. 中共十一届三中全会

(2010·山东日照) 11. 1978 年被称为“中国命运大转折”的一年, 这一“大转折”指的是 ( ) B

A. 中共八大 B. 十一届三中全会 C. 中共十四大 D. 中共十五大

(2010·辽宁营口) 3. 中共十一届三中全会决定把党和国家的工作重心转移到 ( ) A

A. 经济建设 B. 法制建设 C. 科技建设 D. 国防建设

## 第9课 改革开放

(2010·安徽芜湖) 8. 既是鸦片战争后第一批开放的通商口岸, 又是新时期最早对外开放的经济特区的是 ( ) C

A. 广州 B. 深圳 C. 厦门 D. 上海

(2010·山东聊城) 21. 1984年3月24日, 55位厂长、经理联名在报纸上发出“请给我们松绑”的呼吁。“松绑”就是迫切要求 ( ) B

A. 优先发展重工业 B. 扩大企业自主权  
C. 建立现代企业制度 D. 设立经济特区

(2010·江苏南京) 13. 在对外开放的过程中, 我国逐步形成了全方位、多层次、宽领域的对外开放格局。在这一格局中, 第二步开放的是 ( ) B

A. 沿海经济开放区 B. 沿海开放城市 C. 经济特区 D. 内地

(2010·四川内江) 20. 我国在20世纪90年代设置的, 作为龙头带动长江三角洲和整个长江地区经济新飞跃的是 ( ) C

A. 山东半岛开放区 B. 珠江三角洲 C. 上海浦东新区 D. 广东沿海开放区

(2010·江苏徐州) 9. 中共十一届三中全会后, 中国打开封闭的国门走向世界。下列属于我国对外开放的窗口和扩大开放的窗口是 ( ) A

A. 深圳、上海浦东 B. 珠海、香港 C. 汕头、澳门 D. 深圳、厦门

(2010·广东东莞) 26. 从1985年起, 东莞步和跨越式发展新阶段。这得益于东莞地处 ( ) B

A. 高新技术区 B. 经济开放区 C. 沿海城市 D. 经济特区

(2010·湖南邵阳) 9. 1982年, 中共中央发出的第一个关于“三农”问题的“一号文件”明确指出: 包产到户、包干到户或大包干都是社会主义生产责任制。该“一号文件”着眼于 ( ) A

A. 改革农村生产关系 B. 城市支持农村, 工业反哺农业  
C. 推进城乡一体化建设 D. 建立社会主义生产经济体制

(2010·山东青岛) 26. 在中国改革开放史上, 有一个关键词注定让人们无法忘记, 那就是“经济特区”。三十年来, 它在我国经济发展中书写了浓墨重彩的一笔。下列不属于我国首批经济特区的是 ( ) B

A. 深圳 B. 广州 C. 汕头 D. 珠海

(2010·广东汕头) 15. 右图是20世纪70年代小岗村18位农民按下的红手印的“包产到户”契约。下列对这一契约出现的原因的叙述, 不正确的是 ( ) A

A. 人们公社调动了农民的生产积极性  
B. 农民渴望改变贫穷落后的生活状况  
C. 农民缺少生产自主权  
D. 农民家庭收入很少



(2010·湖北黄冈) 11. 既是近代史第一批开放的通商口岸, 又是改革开放时期经济特区的城市是 ( ) A

A. 厦门 B. 广州 C. 福州 D. 宁波

(2010·湖南长沙) 7. 每个时代都有自己的流行语。下列流行语与时间对应不正确的是 ( ) B

A. 大跃进——20世纪50年代后期 B. 家庭联产承包责任制——20世纪60年代  
C. 经济特区——20世纪80年代 D. 北京奥运——21世纪初

(2010·河南) 11. 改革开放以来, 我国逐步形成了经济特区——沿海开放城市——沿海经

济开放区——内地的对外开放格局。1988年设立的海南省属于这一格局中的 ( ) A

A. 经济特区 B. 沿海开放城市 C. 沿海经济开放区 D. 内地

(2010·山东济宁) 22. 在安徽省凤阳县小岗村档案室里有这样一份档案表, 请你仔细阅读, 然后分析一下表中农民收入增加的主要原因是 ( ) C

安徽省凤阳县小岗生产队 1976 年与 1979 年收入对比表

时间	粮食产量	人均口粮	人均分配收入
1976年	35000斤	230斤	32元
1979年	132300斤	800斤	200多元

A. 新中国成立 B. 土地改革完成  
C. 家庭联产承包责任制的推行 D. 对外开放政策的实施

(2010·广西河池市) 5. 1993年底, 工厂要和港商合资成立股份公司, 这一事件是 ( ) D

A. 资本主义公私合营 B. 国有企业的破坏  
C. 外资独资商业的改革 D. 国有企业的改革

(2010·湖南衡阳) 16. 1983年, 一位去南方打工的衡阳小伙子给家乡亲人的信中写道: “我来到的这座城市, 曾是鸦片战争中被迫开放的第一批港口之一, 现在则是改革开放中建立的四个经济特区之一, 国家的变化真大呀!” 这个小伙子打工的城市是 ( ) A

A. 厦门 B. 广州 C. 海南 D. 上海

(2010·山东莱芜) 12. “南海吹来改革风, 九天降下开放雨”, 这是一幅广为流传的对联。它反映的史实不包括 ( ) A

A. 当时中共中央的主要领导人提出两个凡是方针 B. 我国在沿海地区设立经济特区  
C. 我国实行对外开放政策 D. 邓小平发表南巡讲话

(2010·湖北孝感) 25. 河北省一位普通农民从 1959 年开始到现在, 坚持每天写日记, 用自己亲身体会, 记录了生活的点点滴滴, 见证了半个世纪农村的历史。其中 1983 年 8 月 23 日是这样记的: “今早开会, 下午分田。” 对他日记中所记内容的理解符合当时史实的是 ( ) D

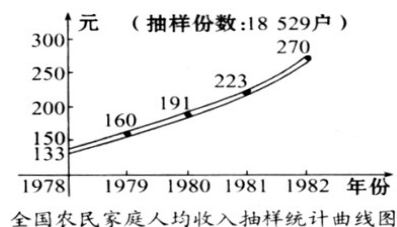
A. 此次“分田”废除了农村土地集体所有制  
B. 此次“分田”彻底废除了封建土地所有制  
C. “分田”后农民对土地有所有权, 可以随意转让或买卖  
D. “分田”后农民对土地有使用权, 可以自主经营, 自负盈亏

(2010·吉林长春) 6. 它曾是最早被迫开放的通商口岸, 又是我国首批建立的经济特区。它是 ( ) D

A. 南京 B. 上海 C. 深圳 D. 厦门

(2010·江苏宿迁) 27. 右图反映了 1978 年以来我国农民家庭人均收入的变化情况。这一变化的主要原因是 ( ) D

A. 土地改革的完成  
B. 农业生产合作社的开展  
C. 大跃进和人民公社化运动的掀起  
D. 家庭联产承包责任制的实行



(2010·山东泰安) 18. 邓小平说: “特区是一个窗口, 是技术的窗口、管理的窗口、知识的窗口。” 1980 年, 国家首先设立的四个经济特区是 ( ) D

① 深圳 ② 厦门 ③ 上海 ④ 汕头 ⑤ 珠海

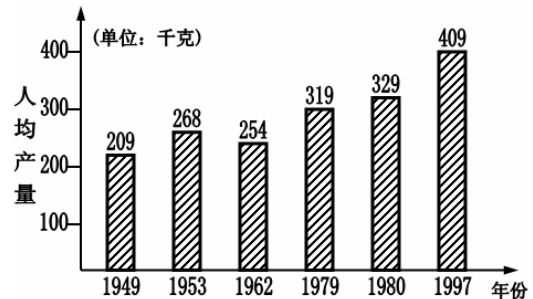
- A. ①②③④    B. ②③④⑤    C. ①③④⑤    D. ①②④⑤

(2010·重庆江津) 9. 今年是我国最早的经济特区设立 30 周年。经过 30 年的发展, 昔日边陲小镇, 已成为繁华的城市和我国对外开放的窗口。请问这座城市是 ( ) C

- A. 杭州市    B. 烟台市    C. 深圳市    D. 海口市

(2010·福建泉州) 13. 1980~1997 年, 我国粮食人均产量变化 (见右图) 的主要原因是 ( ) C

- A. 开展生产合作    B. 进行集体劳动  
C. 实行包产到户    D. 没有发生自然灾害



(2010·江苏扬州) 15. 今年 5 月, 中央新疆工作会议上正式批准喀什设立经济特区。改革开放 30 多年来, 我国形成的对外开放格局是 ( ) A

- A. 经济特区—沿海开放城市—沿海经济开放区—内地  
B. 沿海开放城市—经济特区—沿海经济开放区—内地  
C. 内地—沿海经济开放区—沿海开放城市—经济特区  
D. 经济特区—沿海经济开放区—沿海开放城市—内地

(2010·山东日照) 12. “当年曾分田翻身当家作主人, 今岁又分田勤劳致富奔小康”。与“今岁又分田”直接相关的是 ( ) D

- A. 土地改革    B. 农业合作化    C. 人民公社化运动    D. 家庭联产承包责任制

(2010·湖南永州) 16. 20 世纪 80 年代某村将集体土地按人口分配到户, 农户自主经营, 自负盈亏, 土地不能买卖、出租。经营所得“交足国家的, 留够集体的, 剩下都是自己的”这种土地经营形式属于 ( ) C

- A. 互助组    B. 农业合作社    C. 家庭联产承包责任制    D. 人民公社化

(2010·辽宁营口) 5. 一批外国友人要到被称为“中国经济特区的代表, 对外开放的窗口”, 他们要参观的城市是 ( ) B

- A. 上海    B. 深圳    C. 厦门    D. 广州

## 第 10 课 建设有中国特色的社会主义

(2010·江西) 5. 江西省永丰县潭城乡龙洲村某农户墙上刷有一条“坚定不移地沿着中国特色社会主义道路前进!”的标语。从内容上分析, 这条标语是下列哪一时期刷写的? ( ) D

- A. 土地改革时期    B. 三大改造时期    C. 文化大革命时期    D. 改革开放时期

(2010·河北) 15. 前世界银行驻华首席经济学家华而诚曾讲到, “如果说此前中国一直在隧道中探索, 1992 年应该说人们终于看到了隧道口的光亮。”这一认识得出的主要依据是中国 ( ) D

- A. 实行了家庭联产承包责任制    B. 建立了经济特区  
C. 进行了国有企业改革    D. 提出了建立社会主义市场经济体制

(2010·江苏苏州) 12. “发展才是硬道理”、“特区姓‘社’不姓‘资’”的观点出自 ( ) D

- A. 马克思主义    B. 列宁主义    C. 毛泽东思想    D. 邓小平理论

(2010·广东东莞) 27. 改革开放以来, 我国初步建立具有中国特色社会主义法律体系框架。这一框架的核心是 ( ) A

- A. 《中华人民共和国宪法》    B. 《中华人民共和国刑法》  
C. 《中华人民共和国刑事诉讼法》    D. 《中华人民共和国民法通则》

(2010·广东东莞) 28. 邓小平理论是马克思列宁主义同中国实际相结合的又一次历史性飞跃, 是当代中国的马克思主义。‘邓小平理论’这个科学称谓首次使用是在 ( ) C

A. 中共七大 B. 中共八大二次会议 C. 中共十五大 D. 中共十七大

(2010·四川资阳) 23. 中国共产党社会主义初级阶段的基本路线提出的时间是 ( ) C

A. 19 世纪 80 年代后期 B. 20 世纪 80 年代初期

C. 20 世纪 80 年代后期 D. 20 世纪 90 年代初期

(2010·江苏泰州) 13. 1993 年后, 大批国有企业积极进行公司制、股份制改革, 出现了邯钢钢铁总厂等一批先进典型。这表明我国经济体制改革的目标是 ( ) B

A. 建立计划经济体制 B. 建立社会主义市场经济体制

C. 加强国家干预经济 D. 实行“自由放任”的经济政策

(2010·山西) 7. 如今, 上海浦东已成为一座外向型、多功能、现代化的新城区, 提出开发开放浦东的领导人是 ( ) B

A. 毛泽东 B. 邓小平 C. 江泽民 D. 胡锦涛

(2010·湖北黄石) 33. 中国共产党哪次全国代表大会在党章中将邓小平理论确立为党的指导思想? ( ) C

A. 十三大 B. 十四大 C. 十五大 D. 十六大

(2010·江苏盐城) 15. 把邓小平理论确立为党的指导思想的重要会议是 ( ) D

A. 遵义会议 B. 中共七大 C. 中共十一届三中全会 D. 中共十五大

(2010·宁夏) 6. 中国共产党第十五次全国代表大会的重大历史贡献是 ( ) D

A. 形成了以邓小平为核心的党中央领导集体

B. 通过了《中国人民政治协商会议共同纲领》

C. 粉碎江青反革命集团, 结束了“文化大革命”

D. 确立邓小平理论是改革开放和社会主义现代化建设的指导思想和光辉旗帜

(2010·贵州铜仁) 18. 邓小平理论是我国改革开放和社会主义现代化建设的指导思想, 邓小平理论作为党的指导思想并写入党章, 是在 ( ) D

A. 十一届三中全会 B. 中共十三大 C. 中共十六大 D. 中共十五大

(2010·广西贵港) 18. 我国实现四个现代化的根本前提是 ( ) B

A. 坚持改革开放 B. 坚持四项基本原则

C. 坚持自力更生 D. 坚持科教兴国

(2010·广西贵港) 19. 决定把建设有中国特色社会主义理论作为中国改革开放和现代化建设的指导方针的会议是 ( ) C

A. 中共十二大 B. 中共十三大 C. 中共十四大 D. 中共十五大

(2010·贵州毕节) 19. 把邓小平理论确立为党的指导思想, 并写进党章的会议是 ( ) C

A. 十三大 B. 十四大 C. 十五大 D. 十六大

## 第四单元 民族团结与祖国统一

### 第 11 课 民族团结

(2010·浙江东阳) 7. 新中国诞辰 60 周年庆典上, 新疆彩车的一大亮点是所有图案全部为手工绘制, 9 名美工在北京起早贪黑干了整整 18 天, 一笔一画绘出那些精美的图案。他们中, 有汉族、维吾尔族、塔吉克族、回族, 不同民族的兄弟团结无间, 合作绘制的作品美轮美奂、生动传神。这反映了 ( ) A

- ①我国是一个统一的多民族国家      ②我国坚持平等、团结和共同繁荣的原则  
 ③我国实施民族区域自治制度的国策      ④我国民族分布具有大杂居、小聚居的特点  
 A. ①②③      B. ①②④      C. ②③④      D. ①③④

(2010·浙江宁波) 7. 我国是统一的多民族国家, 民族团结是我国处理民族关系的原则之一。下列做法有利于民族团结的是 ( ) **A**

- ①尊重各民族的宗教信仰、风俗习惯    ②帮助少数民族地区发展经济  
 ③实行民族区域自治制度                ④在国家机关统一使用汉字与普通话  
 A. ①②③      B. ①②④      C. ①③④      D. ②③④

(2010·四川内江) 21. 2010年4月, 青海玉树藏族自治州发生地震。同胞有难, 全国人民感同身受, 倾力相助。请问我国在藏族聚居地设立的省级行政区域是 ( ) **A**

- A. 西藏自治区    B. 内蒙古自治区    C. 新疆维吾尔自治区    D. 广西壮族自治区

(2010·湖北荆州) 12. 新中国建立初期, 党中央决定在少数民族聚居地区实行的基本政治制度是 ( ) **C**

- A. 政治协商制度    B. 社会主义制度    C. 民族区域自治制度    D. 按劳分配制度

(2010·贵州铜仁) 19. 1954年《中华人民共和国宪法》中规定“各少数民族聚居的地方实行民族区域自治。各民族自治地方都是中华人民共和国不可分离的部分”。我国下列省级行政区中民族区域自治的是 ( ) **D**

- A. 云南      B. 甘肃      C. 贵州      D. 西藏

## 第12课 香港和澳门的回归

(2010·浙江东阳) 13. 澳门回归十年来, 生产总值由472.87亿澳门元增加到1718.67亿澳门元; 到2009年底, 政府财政储备是1999年的40多倍。这些成就的取得离不开 ( ) **D**

- ①“一国两制”方针的正确指引    ②澳门毫不动摇地坚持社会主义制度  
 ③中央人民政府对澳门的支持    ④澳门特区政府高效施政、高度自治  
 A. ①②④      B. ①②③      C. ②③④      D. ①③④

(2010·浙江绍兴) 17. 澳门回归十多年来, GDP以年均近15%的增幅快速增长, 人均GDP已达3.9万美元, 成为全球最活跃的微型经济体。这一事实表明, “一国两制”的实行 ( ) **C**

- A. 融洽了中国人民的感情      B. 增强了中华民族的文化认同感  
 C. 刺激了特区经济的繁荣和发展    D. 保持了特区生活方式的长期不变

(2010·重庆) 13. 2009年12月20日是澳门回归祖国十周年的纪念日。把党中央多年来酝酿的和平统一祖国的构想创造性地概括为“一国两制”, 为澳门回归祖国开辟了正确道路的是 ( ) **B**



A B C D

(2010·江苏南京) 15.“一国两制” ( ) **D**

- A. 是 20 世纪 90 年代邓小平提出的 B. 最初是为解决香港问题提出的  
C. 首先在澳门问题上得到成功运用 D. 是新时期推进祖国和平统一大业指导方针

(2010·福建龙岩) 12. 澳门回归 10 年, 经济持续增长, 2002 年—2008 年 GDP 年均增长达 20.5%, 人均 GDP 达 29.2 万澳门元 (约 3.6 万美元), 已成为亚洲最富有的地区。这一现象最能说明 ( ) **D**

- A. 在澳门实行资本主义制度适合我国实际 B. 澳门有强大的经济实力基础  
C. 澳门的稳定为世界经济繁荣做出了贡献 D. “一国两制”是澳门稳定繁荣的政治保证

(2010·湖北鄂州) 9. “紫荆开后白莲开, 喜事翩跹接踵来。神州大地齐欢庆, 一国两制谱新篇。”诗歌中的“喜事”指 ( ) **D**

- A. 新中国成立 B. 西藏和平解放 C. “一国两制”提出 D. 香港、澳门回归

(2010·山东滨州) 15. 香港、澳门回归祖国后, 社会、经济制度及人们的生活方式没有改变, 经济持续繁荣发展, 国际贸易和世界金融中心的地位进一步巩固, 这主要是因为实施了 ( ) **B**

- A. 民族区域自治制度 B. “一国两制”方针  
C. 独立自主的外交政策 D. 中国共产党领导的多党合作的政治制度

(2010·江苏连云港) 33. 邓小平指出, 实现祖国统一应实行“一个国家, 两种制度”。当前, 在这一方针指导下我国已成功解决了 ( ) **B**

- A. 台湾问题 B. 港澳问题 C. 落后问题 D. 发展问题


(2010·广东) 16. “紫荆绽后白莲开, 喜事踟蹰接踵来。神州大地齐欢庆, 一国两制添新彩。”诗中的“喜事”是指 ( ) **C**

- A. 新中国成立 B. 西藏和平解放 C. 香港、澳门回归 D. 祖国统一

(2010·广东广州) 8. “一国两制”构想不适用于下列哪一地区? ( ) **A**

- A. 深圳 B. 香港 C. 台湾 D. 澳门

(2010·湖南娄底) 12. 下列图片反映的历史事件是 ( ) **D**



- A. 海峡两岸关系发展 B. 社会生活日新月异  
C. 国防建设成就斐然 D. 香港澳门回归祖国

## 第 13 课 海峡两岸的交往

(2010·浙江东阳) 16. 大陆熊猫“团团”“圆圆”已在台湾适应了台湾生活, 成为台湾民众的“开心果”。实现两岸人民真正“团圆”的政治基础是 ( ) **C**

- A. 建立爱国统一战线 B. 坚持“和平统一、一国两制”  
C. 坚持一个中国的原则 D. 全面实现“通邮、通航、通商”

(2010·福建福州) 11. 2009 年, 北京故宫博物院向台北故宫举办的“雍正——清世宗文物大展”提供了 37 件 (套) 文物展品。这体现了海峡两岸的 ( ) **C**

A. 商贸往来 B. 探亲访友 C. 文化交流 D. 捐资赈灾

(2010·山东威海) 18. 台湾舞剧《薪传》曾在大陆演出, 引起轰动, 它反映了祖国大陆和台湾同胞一脉相承的亲情关系。下列关于海峡两岸关系发展的重大事件, 按其发生的先后顺序, 排列正确的是 ( ) B

①“汪辜会谈”的举行 ②“和平统一, 一国两制”对台基本方针的形成

③江泽民“八项主张”的提出 ④台湾当局“三不”政策的调整

A. ①②③④ B. ②④①③ C. ②①③④ D. ④②①③

(2010·山东淄博) 4. 右图预示两岸关系进入了一个崭新的发展阶段, 两岸关系和平发展最根本的前提是 ( ) A

A. 坚持一个中国的原则 B. 坚持资本主义道路

C. 坚持国共两党平等对话 D. 坚持社会主义道路



(2010·广东汕头) 14. 2009年12月12日, 台湾行政院院长吴敦义说: “两岸关系始终是台湾社会的冲突点, 台湾没那个本事搞独立, 搞了内部也分裂, 外部可能有危机。只有不负责任的人才会认为应该搞一个独立国”。与此同时, 台独支持者在“立法院”门口前依惯例喊口号, 但是没有人和媒体捧场。这说明 ( ) D

A. 两岸统一的障碍基本消除 B. 两岸统一大业已经完成

C. 国民党内部面临分裂 D. 两岸统一趋势不可逆转

(2010·湖北荆州) 13. 1995年初, 江泽民针对两岸关系等新情况, 提出发展两岸关系、促进和平统一进程的八项主张。其中哪一项是实现和平统一的基础和前提? ( ) A

A. 坚持一个中国的原则 B. 加强两岸经济交流与合作

C. 继承和发扬中华文化的优秀传统 D. 双方领导人以适当的身份互访

(2010·湖北黄石) 34. 海基会和海协会达成九二共识是指 ( ) A

A. 海峡两岸均坚持一个中国原则 B. 加强两岸经济交流, 互补互利

C. 两岸直接实现通邮、通航、通商 D. 双方领导人以适当身份互访

(2010·山东日照) 14. 我国《反分裂国家法》中规定“……以和平方式实现祖国统一, 最符合台湾海峡两岸同胞的根本利益。”实现祖国和平统一的前提和基础是 ( ) A

A. 坚持一个中国原则 B. 坚持社会主义道路的原则

C. 坚持不动用武力的原则 D. 坚持反对外国干涉的原则

(2010·福建漳州) 14. 20世纪80年代后, 台商在福建的投资额超过100亿美元, 双方贸易额超过3400亿美元, 这些成就得益于中国哪项国家方针? ( ) D

A. “相互尊重, 互补互利” B. “经济合作、文化交流”

C. “坚持统一、反对分裂” D. “和平统一、一国两制”

(2010·辽宁营口) 6. 昔日“盈盈一水间, 脉脉不得语”, 如今“轻轻一拨号, 频频传佳音”。海峡两岸经济文化交流日益密切是哪一基本方针的体现? ( ) C

A. 和平方式解放 B. “一国两制”

C. “和平统一, 一国两制” D. 八项主张

## 第五单元 国防建设与外交成就

### 第14课 钢铁长城

(2010·江苏南京) 16. 2009年10月1日, 在国庆阅兵式上, 多种新型战略导弹经过天安

门广场。外国军事评论家答：中国战略导弹部队实现了历史性跨越。这支部队创建于（ ） C

A. 1949年 B. 1964年 C. 1966年 D. 1970年

(2010·山西) 8. 近年内,我国海军多次出色完成亚丁湾护航任务。这充分说明 ( ) D

A. 中国海军活动范围扩大 B. 中国政府重视外交活动  
C. 中国海军武装力量强大 D. 中国为维护世界和平做出贡献

(2010·广东湛江) 30. 1949年4月,中国人民解放军华东军区海军正式建立,从此人民海军不断发展壮大,至今已经发展成为保卫祖国现代化建设的一支重要力量。湛江是哪支舰队的主要基地? ( ) A

A. 南海舰队 B. 北海舰队 C. 华东军区海军 D. 东海舰队

(2010·重庆江津) 10. 新中国成立后,人民军队的现代化建设得带了长足的发展。现在人民解放军包括以下哪四个军种? ( ) B

①陆军 ②通信兵 ③空军 ④海军 ⑤装甲兵 ⑥第二炮兵  
A. ①②④⑥ B. ①③④⑥ C. ①②④⑤ D. ①②③④

(2010·福建宁德) 11. 国防是维护国家安全的盾牌。右图所示部队主要承担任务是 ( ) B

A. 反对霸权主义 B. 战略核反击  
C. 维护社会治安 D. 打击恐怖势力



## 第15课 独立自主的和平外交

(2010·湖北武汉) 26. 现在,我国已同100多个国家建立了外交关系,“我们的朋友遍天下”。在中国政府制定的外交原则、政策和战略中,奠定新中国外交事业基础的是 ( ) A

A. 和平共处五项原则  
B. 中国永远不称霸的政策  
C. 不与任何大国结盟的战略

(2010·福建龙岩) 13. 和平共处五项原则已经成为国际社会公认的国际关系准则,它不包括 ( ) D

A. 互不侵犯 B. 平等互利 C. 和平共处 D. 和平与发展


(2010·山东滨州) 12. 一位美国记者评论周恩来在某次重大会议中的作用时说:“周恩来并不打算改变任何一个坚持反共立场的领导人的态度,但是他改变了会议的航向。”该会议是 ( ) B

A. 日内瓦会议 B. 万隆会议 C. 第26届联合国大会 D. 上海APEC会议

(2010·山东莱芜) 13. 万隆会议期间,菲律宾外长罗慕洛高度评价周恩来总理的讲话:“这个演说是出色的、和解的,表现了民主精神。”他这样说的原因是 ( ) B

A. 万隆会议是第一次没有殖民主义国家参加的国际会议  
B. 周恩来提出了“求同存异”的方针  
C. 会议讨论了亚非国家发展问题  
D. 周恩来提出了和平共处五项原则

(2010·湖北孝感) 26. 国书是指国家间往来或共同议定的文本,也指一国派遣或召回大使、公使时,由国家元首署名递交给所驻国家元首的文本。根据右图判断,携带此国书的大使应派驻 ( ) C



A. 美国 B. 日本 C. 苏联 D. 印度

(2010·四川南充) 5. 和平共处五项原则在国际上产生了深远影响, 成为处理国与国之间关系的基本准则。首次提出此原则的是 ( ) A

A. 周恩来 B. 邱吉尔  
C. 尼赫鲁 D. 基辛格

(2010·江苏无锡) 13. 周恩来与印度、缅甸总理共同倡导, 被大多数国家接受, 并成为处理国与国之间关系的基本准则是 ( ) A

A. 和平共处五项原则 B. 独立自主的和平外交 C. “求同存异” D. 资源共享, 优势互补

(2010·江苏扬州) 14. 在 20 世纪 50 年代召开的一次国际会议上, “周恩来并不打算改变任何一个坚持反共立场的领导人的态度, 但是他改变了会议的航向”, 这是因为周恩来提出了 ( ) D

A. 独立自主原则 B. 和平共处原则 C. 团结反帝方针 D. 求同存异方针

(2010·内蒙古赤峰) 13. 和平共处五项原则最早是由谁提出来的? ( ) B

A. 尼赫鲁 B. 周恩来 C. 吴努 D. 邓小平

(2010·广西贵港) 20. 1953 年 12 月, 周恩来在接见参加中印双边谈判的印度代表时提出了 ( ) D

A. 不结盟政策 B. 全方位的外交政策 C. “求同存异”的倡议 D. 和平共处五项原则

## 第 16 课 外交事业的发展

(2010·山东聊城) 20. 一位老新闻记者自豪地说: “上个世纪 70 年代, 我曾写过一篇题为‘跨洋握手’的新闻稿。”该新闻稿报道的应是 ( ) C

A. 亚非会议圆满成功 B. 中国恢复在联合国的合法席位  
C. 尼克松访问中国 D. 上海亚太经合组织会议召开

(2010·四川遂宁) 21. 小兵同学准备制作主题为“新中国的外交成就”的网页, 收集了下列材料, 其中不能入选网页的是 ( ) D

A. 中国在联合国合法席位的恢复 B. 中美建交  
C. 周恩来率团出席亚非会议 D. 四川省委书记率团到台湾开展“天府四川宝岛行”活动

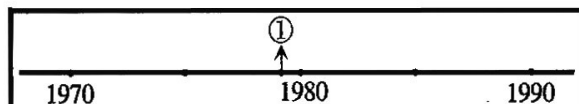
(2010·江苏南京) 17. 20 世纪 70 年代, 中国外交事业取得一系列成就。下列属于这一时期的外交成就有 ( ) B

① 提出和平共处五项原则 ② 恢复在联合国的合法席位  
③ 中美正式建立外交关系 ④ 承办亚太经合组织会议

A. ①②③ B. ②③ C. ①③④ D. ②④

(2010·江西) 6. 下面年代尺中“①”处, 适合标注的历史事件是 ( ) D

A. 万隆会议 B. 第 26 届联大  
C. 中国和日本建交 D. 中国和美国建交



(2010·浙江杭州) 7. 2009 年 11 月 15 日, 美国总统奥巴马首次访华。在他之前, 已有 6 位美国总统访问过新中国。其中, 第一位访问新中国的是 ( ) D

A. 罗斯福 B. 艾森豪威尔 C. 肯尼迪 D. 尼克松

(2010·山东东营) 13. 有人用“梅开三度”来形容 20 世纪 70 年代新中国的外交成就, 你认为“梅开三度”不包括 ( ) D

- A. 中日两国正式建立外交关系 B. 中美两国正式建立外交关系  
C. 中国在联合国合法席位的恢复 D. 提出和平共处五项原则

(2010·湖北十堰) 23. 今年, 世博会在我国上海举办, 圆了中国人又一个梦。上海在中国近、现代社会和经济发展中占有十分重要的地位, 下列历史事件发生在上海的有 ( ) B

- ① 洋务运动中创办江南制造总局 ② 中国共产党的建立  
③ 黄埔军校的创办 ④ 2001年10月在中国召开亚太经合组织领导人非正式会议  
A. ①②③ B. ①②④ C. ①③④ D. ②③④

(2010·湖北黄冈) 12. 观看右图, 图片中的情景应最早在下列哪次会议或事件中出现? ( ) C

- A. 亚非会议  
B. 日内瓦会议  
C. 第26届联合国大会  
D. 中美建交



五星红旗在联合国大厦前飘扬

(2010·江苏连云港) 24. “小球转动大球”“历史性的握手”“改变世界的一周”等都涉及了 ( ) B

- A. 中英关系 B. 中美关系  
C. 中印关系 D. 中日关系

(2010·山东济宁) 24. 20世纪中后期, 有位美国驻联合国代表曾就一件大事发表感慨, “这是联合国历史上的转折点”。

结合由图判断, 这个“转折点”是 ( ) B

- A. 1955年万隆会议召开  
B. 1971年中国在联合国的合法席位得到恢复  
C. 1972年中日建立外交关系  
D. 1979年中美建立外交关系



(2010·广东) 15. 1971年11月, 美国《时代》周刊以“The Chinese Are coming (中国人来了)”作为封面标题, 表明新中国将会在未来的国际事务中发挥更大作用。与此相关的历史事件是 ( ) B

- A. 中国参加万隆会议 B. 中国恢复在联合国的合法席位  
C. 中国提出和平共处五项原则 D. 中美正式建立外交关系

(2010·广西梧州) 24. 1972年2月, 周恩来总理和美国总统尼克松在北京机场握手时说: “你的手伸过世界最辽阔的海洋来和我握手——二十多年没有交往啊!”这句话表明了 ( ) A

- A. 中美两国关系的“坚冰”开始“融化” B. 中美两国正式建交  
C. 中美两国领导人亲密无间 D. 中美两国消除了矛盾

(2010·湖北黄石) 35. 右边是一则新闻报道中采用的图片, 被命名为《乔的笑》。与这则新闻报道有关的历史事件是 ( ) A

- A. 中国在联合国席位得到恢复  
B. 申报1990年亚运会取得成功  
C. 申报2008年奥运会取得成功  
D. 2001年中国加入WTO取得成功



(2010·湖北荆门) 10. 尼克松在回忆1972年访华时说: “当我们的手相握时, 一个时代结束了, 另一个时代开始了。”尼克松所说的“另一个时代”开始的标志是签署了 ( ) B

- A. 《中美友好通商航海条约》 B. 《中美联合公报》  
C. 《中美建交公报》 D. 《中美八一七联合公报》

(2010·湖北宜昌) 10. 第二轮中美战略与经济对话于2010年5月25日在北京结束。“分歧中合作, 仍是中美双方的主基调。”这是台湾《旺报》对目前中美关系的评论。与中美关系进入正常化发展阶段相关的历史事件是 ( ) D



- A. 倡导和平共处五项原则      B. 万隆会议  
C. 恢复中国在联合国的合法席位      D. 中美建交

(2010·江苏盐城) 16. 某同学在自主学习时收集了以下几幅图片, 符合这组图片的恰当主题应当是 ( ) A



- 周恩来在万隆会议演讲      毛泽东会见尼克松      乔冠华开怀大笑  
A. 新中国的外交成就      B. 国防现代化的起步  
C. 统一大业的完成      D. 两岸交流的密切

(2010·山东泰安) 17. 1971年10月25日, 第26届联合国大会通过了阿尔巴尼亚等23国有关中国的某提案。从此, 五星红旗飘扬在联合国大厦前。这一提案应是 ( ) A

- A. 恢复中国在联合国的合法席位      B. 中国加入世贸组织  
C. 中日正式建立外交关系      D. 中美正式建立外交关系

(2010·重庆江津) 11. 新中国的成立, 结束了旧中国“屈辱外交”的历史。从此, 我国以崭新的外交形象活跃于外交舞台。下列图片反映的外交成就中哪一项不是70年代所取得的 ( ) A



A      B      C      D

(2010·内蒙古包头) 6. 20世纪70年代, 能说明中国对外关系取得突破性进展的历史事件是 ( ) C

- A. 提出和平共处五项原则      B. 参加万隆会议  
C. 实现中美关系正常化      D. 加入世界贸易组织

(2010·四川南充) 6. 决定恢复中华人民共和国在联合国的合法权利, 恢复中国安理会常任理事国席位的会议是 ( ) D

- A. 万隆会议      B. 日内瓦会议      C. 亚太经合组织会议      D. 第26届联合国大会

(2010·福建宁德) 12. 网络学习是现代教育的重要手段。小明在百度搜索中输入的关键词是“70年代中国外交的突破性进展”。下列选项中最有可能出现的是 ( ) B

- A. 提出“求同存异”的方针      B. 中美关系正常化  
C. 提出和平共处五项原则      D. 加入“亚太经合组织”

(2010·福建漳州) 13. 20世纪70年代, 中国有一项体育项目, 打开了中美之间友好往来的闸门, 此项目是 ( ) **B**

- A. 羽毛球      B. 乒乓球      C. 排球      D. 篮球.

(2010·湖南株洲) 12. 1971年11月8日美国《时代》周刊将周恩来总理作为封面人物, 是因为下列哪一历史事件提高了中国的国际地位? ( ) **B**

- A. 万隆会议的召开      B. 中国恢复在联合国的合法席位  
C. 中美关系正常化      D. 中国第一次以五大国之一的身份参加日内瓦会议

## 第六单元 科技教育与文化

### 第17课 科学技术的成就 (一)

(2010·安徽芜湖) 7. 我国是爱好和平的国家, 却依然研制出原子弹, 其主要原因是 ( ) **B**

- A. 为新的世界大战作准备      B. 打破帝国主义的核垄断, 粉碎其核威胁, 维护世界和平  
C. 向国外反华势力炫耀我国的军事实力      D. 打击美国的对台政策

(2010·福建福州) 14. 2009年, 袁隆平入选“100位新中国成立以来感动中国人物”的理由是 ( ) **D**

- A. 研制“两弹一星”      B. 揭开“制碱奥秘”  
C. 修建“京张铁路”      D. 育成“籼型杂交水稻”

(2010·河北) 20. 下列“双百”人物中, 为我国科技强军做出杰出贡献的是 ( ) **D**

- A. 雷锋      B. 王进喜      C. 袁隆平      D. 邓稼先

(2010·山东威海) 19. 德国《汉诺威汇报》曾就我国某项重大科技成就发表评论: 中国正在奋起直追, 中国人进入太空的事实证明了这个经济正在迅速崛起的国家的实力。这项科技成就是指 ( ) **C**


- A. 第一颗原子弹的爆炸成功      B. “东方红1号”卫星的发射成功  
C. “神舟5号”飞船的往返成功      D. “东方魔稻”的育种成功

(2010·山东东营) 14. 下列哪项科技成就是改革开放以来取得的 ( ) **B**



第一颗原子弹  
爆炸成功

A



“神舟5号”  
发射成功

B



“东方红一号”  
发射成功

C



“中近程导弹”  
发射成功

D

(2010·山东潍坊) 13. “惊世两弹, 冲天一星”是中华民族的荣耀与骄傲。标志着中国跻身世界航天科技大国之列的是 ( ) **C**

- A. 原子弹试验爆炸成功      B. 中近程导弹发射成功  
C. 第一颗人造地球卫星发射升空      D. 载人航天飞船遨游太空

(2010·山东济宁) 23. 他是 2004 年“感动中国”人物，他获得了这样的颁奖词：“他是一位真正的耕耘者，当他还是一个乡村教师的时候，已经具有颠覆世界权威的胆识；当他名满天下的时候，却仍然专注于田畴，淡泊名利，一介农夫，播撒智慧，收获富足。他毕生的梦想，就是让所有人远离饥饿，喜看稻菽千重浪，最是风流”。他是 ( ) **D**

A. 钱学森 B. 李四光 C. 邓稼先 D. 袁隆平

(2010·福建龙岩 2) 14. 右图中的人物“用一粒种子改变了世界”，这位科学家是 ( ) **C**

A. 邓稼先 B. 詹天佑 C. 袁隆平 D. 侯德榜

(2010·广东) 14. 标志着我国打破西方国家核垄断的国防科技成就是 ( ) **A**

A. 原子弹的成功爆炸 B. 核导弹的成功试验  
C. 氢弹的成功爆炸 D. 第一颗人造卫星的成功发射



(2010·广东) 17. 他“用一粒种子改变了世界”；他有“杂交水稻之父”的美誉。他是 ( ) **C**

A. 钱学森 B. 侯德榜 C. 袁隆平 D. 邓稼先

(2010·山东莱芜) 14. “马克思说过，科学技术是生产力，事实证明这讲得很对。依我看，科学技术是第一生产力。”最能体现这一说法的是 ( ) **C**

A. “铁人”王进喜参加大庆石油会战 B. 中国宣布不会首先使用核武器  
C. 袁隆平培育成籼型杂交水稻 D. 实行家庭联产承包责任制

(2010·新疆乌鲁木齐市) 9. 2010 年 6 月 7 日，胡锦涛总书记在中国科学院和工程院院士大会上强调指出：要大力发展空间和海洋科学技术。我国在大力发展空间技术方面，成功发射的第一艘载人飞船是 ( ) **C**

A. 东方红一号 B. 神州一号 C. 神州五号 D. 神州六号

(2010·广西梧州) 25. 新中国成立后，我国科技领域取得了巨大的成就，下列四项成就中属于改革开放后取得的是 ( ) **D**



A. 第一颗原子弹 B. 东方红 I 号卫星 C. 首次育成杂交水稻 D. “神州”六号升空

(2010·福建莆田) 13. “两弹一星”的伟业，是新中国建设成就的重要象征，是中华民族的光荣与骄傲，也是人类文明史上一个勇攀科技高峰的空前壮举。这里的“一星”指的是 ( ) **A**

A. “东方红 I 号”卫星 B. “神舟”五号载人飞船  
C. “长征 I 号”运载火箭 D. “神舟”六号载人飞船


(2010·吉林长春) 7. 1980 年，杂交水稻栽培技术成为中国转让给美国的第一项农业科技专利。该技术的发明人是 ( ) **D**

A. 王进喜 B. 邓稼先 C. 焦裕禄 D. 袁隆平

(2010·四川达州) 24. 南非世界杯如今如火如荼地进行着，通过卫星转播，我们能坐在电视机旁欣赏到万里之外球星的精彩表演。我国第一颗人造地球卫星是 ( ) **A**

A. “东方红一号” B. “神舟一号” C. “嫦娥一号” D. “长征一号”

(2010·福建泉州) 12. 他“感动中国”，也“感动世界”，“用一粒种子改变了世界”。他是 ( ) **D**



A B C D

(2010·湖北咸宁) 16. 1999年,我国成功发射的第一艘无人飞船的名称是 ( ) C


- A. 长征号 B. 东方红1号 C. 神舟一号 D. 嫦娥一号

(2010·江苏无锡) 12. 1971年4月24日,在神州大地无数地方的人们,怀着无比激动的心情,目睹了我国第一颗人造地球卫星伴随着《东方红》的悦耳曲调划过夜空。我国第一颗人造地球卫星是 ( ) C

- A. 神舟一号 B. 神舟五号 C. 东方红一号 D. 神舟七号

(2010·福建漳州) 15. 1970年4月,我国在空间技术领域取得突破的事件是 ( ) C

- A. 第一颗原子弹爆炸成功 B. 第一颗氢弹爆炸成功  
C. 第一颗人造地球卫星发射成功 D. 第一颗导弹发射成功



(2010·湖南永州) 17. 一位美国学者曾在书中高度评价我国的一位科学家：“是他使饥饿的威胁在退却，正引导我们走向一个营养充足的世界。”这位科学家是 ( ) A

- A. 袁隆平 B. 邓稼先 C. 彭德怀 D. 钱学森

(2010·湖南株洲) 11. 电影《横空出世》再现了新中国在艰苦条件下研制原子弹的过程。新中国的科技成果“两弹一星”除原子弹外,还有 ( ) C

- A. 氢弹 第一颗人造地球卫星 B. 氢弹 第一颗实用通信卫星  
C. 导弹 第一颗人造地球卫星 D. 导弹 第一颗实用通信卫星

(2010·辽宁营口) 4. 2010年4月12日,国家主席胡锦涛在华盛顿举行的核安全峰会上讲话。标志我国拥有核武器的事件是 ( ) A

- A. 第一颗原子弹爆炸成功 B. 中近程地地导弹试飞成功  
C. 第一颗人造地球卫星发射成功 D. 第一艘载人飞船发射成功

(2010·辽宁营口) 7. 以培育“东方魔稻”而著称,并在2001年获得国家最高科学技术奖的是 ( ) B

- A. 邓稼先 B. 袁隆平 C. 钱三强 D. 杨利伟

## 第18课 科学技术的成就 (二)

(2010·江苏南京) 18. 世界科技蓬勃发展,国际竞争日趋激烈。1986年,我国为加快高技术的发展,开始实施 ( ) A

- A. “863”计划 B. “希望工程” C. “科教兴国”战略 D. 西部大开发战略

(2010·新疆建设兵团) 5. 2009年1月,国家七部委联合掀起一场整治网络低价之风的专项整治活动。这表明信息技术 ( ) D

- A. 推动了教育的现代化 B. 增强了人们与外界的沟通和交流  
C. 创造出全新的生活方式 D. 给网民特别是青少年网民带来一定危害

(2010·内蒙古赤峰) 14. 2010年上海世博会上,中国馆展出了动态版的《清明上河图》,这表明我国哪一技术的高度发展? ( ) **A**

A. 计算机技术 B. 航天技术 C. 生物工程技术 D. 海洋高技术

(2010·辽宁营口) 8. 《863计划纲要》选择首批发展的高技术领域不包括 ( ) **D**

A. 生物技术 B. 信息技术 C. 能源技术 D. 海洋高技术

## 第19课 改革发展中的教育

(2010·福建福州) 13. 邓小平说“一个十亿人口的大国,教育搞上去了,人才资源的巨大优势是任何国家比不了的。”保障中国“十亿人口”基础教育的是 ( ) **A**

A. 《中华人民共和国义务教育法》 B. 《劳动和社会保障法》

C. 863计划 D. 《中华人民共和国民法通则》

(2010·福建龙岩) 14. 党和政府实施“科教兴国”的战略开始于 ( ) **C**

A. 20世纪初 B. 20世纪80年代 C. 20世纪90年代 D. 21世纪初

(2010·福建龙岩2) 15. 党和政府实施“科教兴国”的战略开始于 ( ) **C**

A. 20世纪初 B. 20世纪80年代 C. 20世纪90年代 D. 21世纪初

(2010·福建三明) 11. 2010年“两会”政府工作报告中强调,要促进义务教育均衡发展。义务教育属于 ( ) **B**

A. 幼儿教育 B. 双基教育 C. 职业教育 D. 高等教育

(2010·山东日照) 15. 在党和政府实施的教育发展战略中,作为科教兴国奠基工程的是 ( ) **B**

A. 素质教育 B. 九年义务教育 C. 职业教育 D. 高等教育

(2010·辽宁营口) 9. 20世纪90年代以来,我国实施“科教兴国”发展战略,科教兴国的奠基工程是 ( ) **A**

A. 九年义务教育 B. 小学教育 C. 中等教育 D. 高等教育

## 第20课 百花齐放 推陈出新

### 第七单元 社会生活

## 第21课 人们生活方式的变化

(2010·江苏南京) 14. 游行语往往打上了时代烙印。下列游行语出现在改革开放后的是 ( ) **D**

A. 抗美援朝 B. 大跃进 C. 红卫兵 D. 网上购物

(2010·山东威海) 20. 改革开放以来,人们的衣食住行发生了巨大变化。下列对这一变化的表述不正确的是 ( ) **A**

A. 人们买衣服要凭布票 B. 吃饭讲究营养均衡,粗细搭配

C. 人们的居住环境有了显著的改善 D. 开私家汽车出行的人越来越多

(2010·福建龙岩) 15. 下列最能说明我国目前城乡人民生活发生显著变化的是 ( ) **D**

- A. 以大米为主食            B. 肉禽蛋奶得到了充分的保证  
C. 牛奶面包代替了稀饭馒头    D. 食品在总消费中的支出比例下降

(2010·湖北十堰) 26. 改革开放以来,我国对就业制度进行了重大改革,下列各项对我国目前的就业模式描述不正确的是 ( ) **A**

- A. 政府“统包统配”            B. 劳动者自主就业  
C. 市场调节就业                D. 政府促进就业

## 单元综合

(2010·浙江绍兴) 8. 绍兴有一种精神,这种精神始终流淌在不同时期的绍兴人身上。如,过户不入治水患的大禹;卧薪尝胆的勾践;心系天下的鲁迅、周恩来;富民强市的企业家……这种精神的核心是 ( ) **C**

- A. 自强不息            B. 团结统一            C. 爱国主义            D. 求知创新

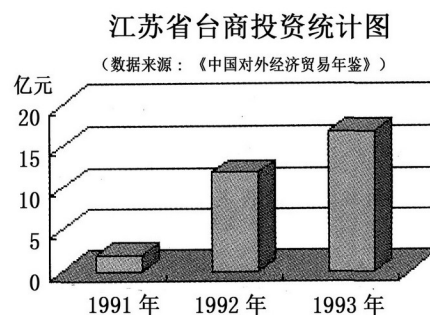
(2010·河北) 22. 左宗棠收复新疆、西藏和平解放在统一多民族国家的发展进程中具有重要地位。两者取得成功的相同原因有 ( ) **C**

- ①得到了当地各族人民的支持和拥护    ②采取正确的策略  
③与当地地方政府达成了和平解放协议    ④进行了充分的军事准备

- A. ①②③            B. ②③④            C. ①②④            D. ①③④

(2010·江苏徐州) 10. 观察右图,这一时期台商在江苏投资情况发生变化的原因不包括 ( ) **B**

- A. 邓小平南方谈话  
B. 香港、澳门的回归  
C. 中共十四大的召开  
D. 海峡两岸经济文化交流的加强



(2010·山东威海) 17. 邓小平开创的建设中国特色的社会主义道路与毛泽东开创的农村包围城市的革命道路,两者最重要的相同点是 ( ) **C**

- A. 坚持走群众路线            B. 坚定不移地走社会主义道路  
C. 从中国国情出发,实事求是    D. 借鉴苏联的成功经验

(2010·湖北武汉) 25. 随着海峡两岸直接“三通”的开启,两岸经济文化交往日益频繁,这将造福两岸同胞,促进中华民族伟大复兴。下列关于台湾的表述,正确的是 ( ) **B**

- ①1860年《北京条约》签订,中国被迫将台湾割让给日本  
②1945年抗日战争胜利,宝岛台湾回到祖国怀抱  
③改革开放新时期,“和平统一、一国两制”是解决台湾问题的基本方针

- A. ①②            B. ②③            C. ①③

(2010·湖北武汉) 28. 2009年4月,中国政府发布《国家人权行动计划(2009—2010年)》,这是中国第一次制定以人权为主题的行动计划。下列有关中国人权进程的表述,正确的是 ( ) **C**

- A. 鸦片战争后,中国人与西方人享受了同等的人权  
B. 辛亥革命后,中国人已经享有充分的人权  
C. 改革开放后,中国人民拥有广泛、公平和真实的人权

(2010·山东滨州) 13. 新中国成之后,我国对农村生产关系进行了几次重大调整,其中促

期 ( 有 村

进了农业生产发展的有 ( ) A

- ①土地改革 ②农业合作化 ③人民公社化 ④家庭联产承包责任制  
A. ①②④ B. ①②③ C. ②③④ D. ①③④

(2010·山西) 6. 新中国成立后, 党和政府为提高农村生产力, 调动农民生产积极性, 采取的正确措施有 ( ) C

- ①颁布《中华人民共和国土地改革法》 ②实施第一个五年计划  
③开展人民公社化运动 ④实行家庭联产承包责任制  
A. ①② B. ①③ C. ①④ D. ②③

(2010·河南) 10. 下列选项能够体现新中国成立以来我党创新精神的是 ( ) C

- ①第一个五年计划的实施 ②资本主义工商业改造过程中的赎买政策  
③“一国两制”构想 ④家庭联产承包责任制  
A. ①②③ B. ①②④ C. ②③④ D. ①③④

(2010·广东广州) 7. 2008年周恩来同志诞辰110周年, 下列属于周恩来参与的重大活动是 ( ) D

- ①黄埔军校 ②南昌起义 ③秋收起义  
④重庆谈判 ⑤万隆会议  
A. ②③④⑤ B. ①③④⑤ C. ①②③④ D. ①②④⑤

(2010·福建三明) 10. 在全国开展的“双百人物”评选活动中, 邓稼先、王进喜、焦裕禄、袁隆平被提名为候选人。他们身上共同的优秀品质是 ( ) A

- A. 热爱祖国, 敬业奉献 B. 清廉执政, 一心为民  
C. 献身科学, 淡泊名利 D. 会战石油, 艰苦创业

(2010·广东深圳) 18. 班级要出一期庆祝国庆节的板报, 主题是反映社会主义建设时期的成就。下面可选的题材是 ( ) D

- A. 长征胜利 B. 重庆谈判 C. 开国大典 D. “两弹一星”

(2010·贵州贵阳) 18. 上海, 自近代以来作为国际化的大都市, 见证了许多具有重大意义的历史事件。以下史实与这座城市相关的有 ( ) A

- ①中共一大的召开 ②《中美联合公报》的发表  
③2001年亚太经合组织会议的召开 ④中国加入世界贸易组织  
A. ①②③ B. ①②④ C. ①③④ D. ②③④

(2010·湖北孝感) 27. 2009年, 在澳门热烈庆祝回归祖国十周年时, 广西也在庆祝解放六十周年。这两地分别是特别行政区和民族自治区, 它们的相同点为 ( ) B

- A. 都实行社会主义制度  
B. 都是中央人民政府管辖下的地方行政区域  
C. 都是为了实现祖国和平统一而设立的  
D. 都实现了“一国两制”的构想

(2010·湖北孝感) 28. 2008年10月, 15家主流媒体公布了征集到的流行语, 如: “下海、农民工、上网、炒股、汉堡、科学发展观、雄起……”若给这些流行语定一个最准确、合理的主题, 应该是 ( ) A

- A. 改革开放 中国特色 B. 加入世贸 市场经济  
C. 对外交流 大国崛起 D. 西部开发 解放思想

(2010·湖北孝感) 54. “一千年前, 我们一度领先; 一百年前, 我们一度落后; 现在我们再度起飞。中国, 加油!”——摘自2008年奥运日记。对于上述材料理解合乎史实的是 ( ) BCD

- A. 一千年前, 宋代开始出现的活字印刷术、指南针和造纸术处于世界领先地位

- B. 一百年前，我们一度落后的原因有中国社会制度的落后和帝国主义的侵略  
 C. 十一届三中全会作出的伟大决策对我们再度起飞具有重要作用  
 D. 2008年北京奥运会成功举办是我们再度起飞途中耀眼的一幕

(2010·宁夏) 5. 有关新中国成立六十周年成就展内容先后排序正确的是 ( ) C

- ① 西藏和平解放  
 ② 基本完成农业、手工业和资本主义工商业的社会主义改造  
 ③ 成功举办北京奥运会，积极筹办上海世博会  
 ④ 党的十一届三中全会召开，实现伟大的历史转折  
 A. ①②③④      B. ②①③④      C. ①②④③      D. ③④②①

(2010·四川达州) 21. 下列四支由中国共产党领导的部队按组建的先后顺序排列，正确的一项应是 ( ) D

- ① 中国工农红军第四军    ② 八路军一一五师    ③ 东北野战军    ④ 中国人民志愿军  
 A. ④③②①      B. ②③①④      C. ①③②④      D. ①②③④

(2010·四川达州) 22. 下列选项中人物和地点的搭配，有误的一项是 ( ) C

- A. 毛泽东——开国大典时的天安门城楼    B. 王进喜——大庆油田  
 C. 邓小平——回归后的香港                D. 江泽民——中共十四大会场

(2010·内蒙古包头) 7. 以下对应关系搭配恰当的一组是 ( ) D

- A. 新中国成立——标志着社会主义现代化建设新时期的开始  
 B. 西藏和平解放——实现了祖国完全统一  
 C. 抗美援朝——结束了中国半殖民地半封建社会的历史  
 D. 土地改革完成——我国农村彻底废除封建土地剥削制度

(2010·江苏无锡) 9. 根据所学知识，找出下列搭配错误的一项 ( ) C

- A. 《海国图志》——魏源    B. 《黄河大合唱》——冼星海  
 C. “两弹元勋”——钱学森    D. 中国人自行设计和施工的第一条铁路干线——京张铁路

(2010·江苏扬州) 13. 某陈列馆举办“建国后农村生产关系变革”图片展。现有以下四幅图片，请按时间先后顺序排列 ( ) D



- ① 农民加入合作社    ② 人民公社食堂    ③ 土地改革    ④ 小岗村“分田到户”字据  
 A. ①②④③      B. ②③①④      C. ④②③①      D. ③①②④

(2010·山东日照) 13. 邓小平是我国改革开放是总设计师。以下与邓小平有关的是 ( ) C

- ① 建立第一个农村革命根据地                ② 指挥百团大战  
 ③ 提出社会主义初级阶段的基本路线        ④ 强调发展才是硬道理  
 A. ①②      B. ②③      C. ③④      D. ②④

(2010·贵州铜仁) 21. 今年上海世博会的举办充分展现了中国在世界舞台上的举足轻重的地位，同时也体现了上海在中国发展进程中的重要地位。下列事件中不是发生上海的是 ( ) A

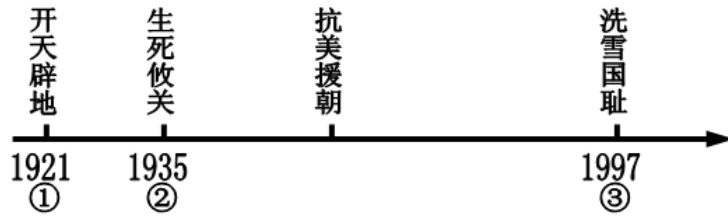
- A. 十一届三中全会的召开                    B. 亚太经合组织第九次领导人非正式会议  
 C. 中共一大的召开                            D. 《中美联合公报》的签署

(2010·内蒙古赤峰) 12. 下列历史事件按其发生的时间顺序排列正确的是 ( ) D

- ① 红军长征    ② 南昌起义    ③ 黄埔军校创立    ④ 三大战役    ⑤ 抗美援朝

- A. ①②③④⑤    B. ②①④③⑤    C. ③①②④⑤    D. ③②①④⑤

(2010·湖南永州) 14. 某历史兴趣小组的成员自制了一把历史年代尺(见下图), 它展示了中国共产党 80 余年的奋斗历程。请你作为合作学习的伙伴共同完成与年代尺上标号相对应的内容 ( ) **D**



- A. ①新文化运动    ②第五次反“围剿”失败    ③澳门回归  
 B. ①五四运动    ②遵义会议    ③香港回归  
 C. ①中国共产党成立    ②长征开始    ③中共“十五大”召开  
 D. ①中国共产党成立    ②遵义会议    ③香港回归

(2010·湖南株洲) 13. 青海玉树地震中有一些寺庙倒塌, 一些经书被埋, 救援队伍及时进行了抢救。这一行为保护了哪一宗教文化? ( ) **B**

- A. 伊斯兰教    B. 佛教    C. 基督教    D. 道教

(2010·广东梅州) 8. 下列哪些节日的由来与中国近现代史上发生的重大历史事件有关 ( ) **C**

- ①端午节    ②青年节    ③建军节    ④国庆节  
 A. ①②③    B. ①③④    C. ②③④    D. ①②④

(2010·湖南娄底) 11. “我们唱着东方红, 当家作主站起来, 我们讲着春天的故事, 改革开放富起来。”歌词中歌颂的两位伟人是 ( ) **C**

- A. 孙中山和毛泽东    B. 孙中山和邓小平    C. 毛泽东和邓小平    D. 刘少奇和邓小平

## 填空题

(2010·山东聊城) 37. \_\_\_\_\_年我国第一颗原子弹爆炸成功; \_\_\_\_\_年我国第一颗人造地球卫星发射成功。

37. 1964; 1970;

(2010·四川内江) 3. 1973年, 著名水稻专家\_\_\_\_\_成功培育了在国际上居于领先地位的籼型杂交水稻。

3. 袁隆平;

(2010·山东青岛) 43. 英雄的形象是高大的, 榜样的力量是无穷的。1839年, 领导虎门销烟的\_\_\_\_\_是当之无愧的民族英雄。抗美援朝战争中, 严守潜伏纪律、纹丝不动的\_\_\_\_\_和用身躯堵住敌人机枪射口的\_\_\_\_\_等战斗英雄被誉为“最可爱的人”。在探索建设社会主义道路时期, 党的好干部、县委书记\_\_\_\_\_和“两弹元勋”\_\_\_\_\_等人, 成为全国人民的楷模。

43. 林则徐; 邱少云; 黄继光; 焦裕禄; 邓稼先。

## 改错题

(2010·安徽) 14. 制度创新是人类社会发展的动力。

【 】 (2) 新中国在各少数民族聚居的地方实行民族区域自治制度。

改正：

【√】 (2)

(2010·福建福州) 23. 下表是小明对中国 20 世纪 70 -90 年代外交重大成果的归纳。

时间	表现
1971 年	中国重返联合国
A	
1972 年	尼克松访问中国
1997 年	中国对澳门恢复行使主权
	B

23. 错误：B (澳门)；改正：香港；

(2010·江苏苏州) 24. “文化大革命”十年动乱时期，国家主席刘少奇被开除出党并被迫害致死，这是中国共产党历史上最大的一起冤案。24. A

(2010·福建龙岩) 26. 流行语是指在某一时期、某一地域出现，并且广为流行的语汇。小明同学将此作为研究性学习的课题，分别搜集、整理了下面两段：

①20 世纪初的流行语：实业救国、民主共和、专制独裁、全民抗战、大人、剪辫、中山装。  
②20 世纪末的流行语：改革开放、经济特区、依法治国、西部大开发、三大改造、奔小康。他整理的资料有两处不恰当，请指出并说明理由。

26. ① 20 世纪初的流行语中的“全民抗战”不恰当。(1 分)理由：全民族抗战是从抗日战争开始后流行的；或 20 世纪 30 年代后才开始流行的。(2 分)② 20 世纪末的流行语中的“三大改造”不恰当。(1 分)理由：三大改造在 1956 年底已基本完成，到 20 世纪末已经不再流行。(2 分)

(2010·湖南长沙) 13. 1954 年《中华人民共和国宪法》的颁布，标志着社会主义基本制度在我国的初步建立。13. F

(2010·福建龙岩) 26. 小张同学正在进行“关于 20 世纪的流行语”的探究性学习。他搜集了一段关于 20 世纪初流行语的资料，其中有：民主共和、全民族抗战、实业救国、家庭联产承包责任制。

他的资料中有两处不符合要求，请指出并说明理由。

26. 错误一：全民族抗战 (1 分)理由：全民族抗战是 20 世纪 30 年代抗战爆发后出现的流行语。(2 分)

错误二：家庭联产承包责任制 (1 分)理由：十一届三中全会 (改革开放) 后党和政府实行了家庭联产承包责任制，此后才出现该流行语。(2 分)

(2010·福建莆田) 24. 1956 年底，土地改革的基本完成，标志着社会主义制度在我国基本建立。

24. 不正确。社会主义制度在我国基本建立的标志是社会主义改造的基本完成。

(2010·福建三明) 23. 1955 年，周恩来出席万隆会议，提出“和平共处五项原则”，促进了会议的圆满成功。

错误：\_\_\_\_\_ 订正：\_\_\_\_\_

23. 错误：和平共处五项原则 订正：求同存异方针；

(2010·吉林长春) 17. 观察漫画，结合所学知识判断下列说法是否正碑，正确的划“√”，否则划“×”。(5 分)



漫画一



漫画二

- (1) 漫画一中的“魔爪”曾制造了惨绝人寰的南京大屠杀。
- (2) 漫画一中国共两党合作，建立了抗日民族统一战线。
- (3) 漫画二铁钳下的“恶人”代表的是以英国为主的“联合国军”。
- (4) 漫画二中国人民志愿军的司令员是朱德。
- (5) 两幅漫画向我们表达的寓意是正义战胜了邪恶。

17. (1) (√) ; (2) (√) ; (3) (×) ; (4) (×) ; (5) (√) ; (5分)

(2010·江苏盐城) 28. 2009年是中国正式恢复对香港行使主权的十周年。28. B

(2010·福建泉州) 22. 建国初期的土地改革运动彻底废除了我国两千多年的封建土地私有制度。(6分)

错误：\_\_\_\_\_

理由：\_\_\_\_\_。

22. 错误：土地改革废除封建土地私有制度。(2分)

理由：建国初期的土地改革废除了封建剥削的土地制度，建立了农民土地私有制度；(2分)

我国彻底废除封建土地私有制度是在1956年底三大改造基本完成之后。(2分)

(2010·湖南湘潭) 25. 袁隆平培育出“籼型杂交水稻”，被誉为“杂交水稻之父”。25. √；

(2010·内蒙古呼和浩特) 18. 20世纪60年代初期，西藏地区胜利完成民主改革，废除了封建农奴制度，进入社会主义阶段。( ) 18. √；

(2010·江苏无锡) 25. 小孙说：“改革开放以来，我国的外交成就更为辉煌。我们在上海成功举办了APEC会议，中国正式加入世界贸易组织；2008年，我们又成功举办了北京奥运会……。”( ) A

(2010·湖南永州) 28. “一国两制”构想是推进祖国和平统一大业的基本方针。( ) 28. √

(2010·湖南娄底) 24. 抗日战争中，邱少云在烈火中严守潜伏纪律，英勇牺牲。×

(2010·湖南娄底) 30. 学习雷锋精神就是要学习他全心全意为人民服务的精神。√

## 列举题

(2010·安徽) 11. 安徽，历史悠久人杰地灵，科学文化大放异彩。

(3) 为我国核武器研制作出了重大贡献的“两弹元勋”是\_\_\_\_\_。(3) 邓稼先。

(2010·山东青岛) 45. 请将历史上部分重要会议的名称及其意义对应连线。(每线0.5分，共计3分)

会议名称	意义(内容、地位、影响)
------	--------------

遵义会议	建国以来党的历史上具有深远意义的转折
中共七大	为争取抗日战争的胜利和实现中国的光明前途准备了条件
中共十一届三中全会	是党的历史上生死攸关的转折点
中共十二大	提出建立社会主义市场经济体制
中共十三大	阐明了社会主义初级阶段的基本路线
中共十四大	提出建设有中国特色的社会主义

45. 连线：3分。遵义会议——是党的历史上生死攸关的转折点；中共七大——为争取抗日战争的胜利和实现中国的光明前途准备了条件；中共十一届三中全会——建国以来党的历史上具有深远意义的转折；中共十二大——提出建设有中国特色的社会主义；中共十三大——阐明了社会主义初级阶段的基本路线；中共十四大——提出建立社会主义市场经济体制。

(2010·广东广州) 16. 请根据这首“科技发展之歌”，举出相关的著名科学家。(6分)

近代科技真悲凉，但有能人自奋强。  
地质力学辟新径，数论学派做猜想，  
联合制碱传四海，京张铁路展华章。  
现代科技起新高，中华民族创辉煌。  
一粒种子惊世界，两弹一星震八方，  
863计划来推动，华夏精神远名扬！

16. 李四光、华罗庚、侯德榜、詹天佑、袁隆平、邓稼先(6分)。

(2010·广东广州) 17. 请举出2001年中国在外交方面的主要成就。(三例即可，3分)

17. 主办亚太经合组织年会、上海合作组织成立、正式加入世界贸易组织(3分)

(2010·吉林) 11. 根据下列提示写出相对应的内容。(3分)

- (1) 我国大陆获得统一，各族人民实现大团结的事件——
- (2) 我国制定第一部社会主义类型宪法的会议——
- (3) 我国为解决民族问题实行的基本政治制度——

11. (1) 西藏和平解放(1分)；(2) 第一届全国人民代表大会(1分)；(3) 民族区域自治(1分)。

(2010·四川达州) 43. 请根据下列提示写出相关内容。(4分)

- ③ 社会主义制度在我国初步建立的标志——
- ④ 20世纪70年代，融化中美关系“坚冰”的美国总统——

43. ③三大改造的基本完成；④尼克松；(4分)

## 读图简答题

(2010·湖北鄂州) 22. (7分) 阅读下列材料，结合所学知识回答问题。

材料一

材料二

材料三



图1 农民在拔除地主立的界碑 图2 农民报名入社 图3 凤阳县农民喜庆丰收

请回答：

(1) 图 1 情景所反映的重大历史事件是什么？(2 分) 该事件彻底废除了在中国存在了 2000 多年的什么制度？(1 分)

(2) 观察图 2 情景，“入社”的“社”指什么？(1 分) “入社”就是要引导农民走什么道路？(1 分)

(3) 分析图 3 情景，凤阳县农民为什么能够喜获丰收？(2 分)

22. (7 分) (1) 土地改革。(2 分) 封建土地制度。(1 分) (2) 农业生产合作社。(1 分) 集体化道路。(1 分) (3) 实行了包产到户(或家庭联产承包责任制)。(2 分)

(2010·山东淄博) 1. (6 分) 上海经历了近代城市的产生、发展到当今的国际大都市，是中国近现代历史的缩影。阅读下列图片，结合所学知识回答问题。



英国鸦片船驶入黄埔港



轮船招商局旧址



浦东新面貌

请回答：


(1) 图一所示战争结束后签订了什么条约？此条约的签订对上海有什么影响？(2 分)

(2) 图二所示企业创办于近代哪一运动中？该运动后期提出了什么口号？(2 分)

(3) 图三上海浦东由桑田简屋、一穷二白的落后地区，发展成为今天国际化的经济中心和金融中心，主要得益于什么？(2 分)

1. (6 分) (1) 《南京条约》(1 分)；上海被开放为通商口岸(1 分) (2) 洋务运动(1 分)；求富(1 分) (3) 实行改革开放(或者把上海开放为沿海开放城市)(1 分) 设立上海浦东开发区(1 分)

(2010·广东广州) 22. 毛泽东的题词既是大气磅礴的书法作品，又记录了中国革命和建设的探索历程。请根据下列题词回答问题。



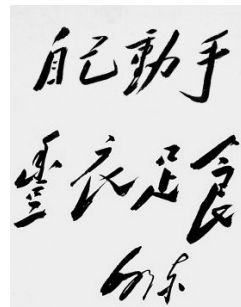
A



B



C



D

(1) 请按上题词所反映事件发生的时间先后排序。(写出相应字母即可，1 分)

(2) 题词 A 体现出当时我党找到了哪一条符合中国国情的革命道路？对其执着探索并最终夺取全国政权，又在哪一题词中得到充分反映？(2 分)

(3) 在题词 C、D 的激励下，中国人民取得了反帝斗争的伟大胜利。请选择其一谈谈它的重大历史意义。(两点即可，2 分)

(4) 通过赏读以上题词的内容，你获得了哪些感悟？(2 分)

22. (1) A→D→B→C(1 分)；(2) 开辟了以农村包围城市，最后夺取全国政权的正确道路。题词 B(2 分)；(3) 题词 C：抗美援朝的胜利增强民族信心；提高国际声望；赢得建设环境。

题词 D：抗日战争的胜利血洗百年耻辱；是中华民族由危亡走向振兴的转折点；为国家独立、民族解放奠定了基础（任选其一，答出两点即可，2分）

(4) 中国共产党的英明决策和中国人民艰苦卓绝的斗争是革命胜利的重要保障（答案符合题意即可，2分）

(2010·湖北荆州) 39. 阅读下列材料：



图片一 1950年四川贫农分到了土地 图片二 1980年农民领取包产到户合同书  
回答：

- (1) 图片一、二的历史情境分别反映了当时我国农村发生的什么重大事件？（2分）
- (2) 这两次重大事件的主要内容分别是什么？（4分）
- (3) 这两次重大事件对我国工业发展产生了什么积极影响？（2分）

39. (1) 土地改革运动；（1分）推行家庭联产承包责任制。（1分）(2) 第一次：废除地主阶级封建剥削的土地所有制，实行农民的土地所有制。（2分）第二次：实行分田包产到户，自负盈亏（或实行包产到户、包干到户或建立以家庭联产承包为主的责任制）（2分）(3) 为国家工业化建设准备了条件；促进了工业生产的发展；粮食增产，解决了城市人口的粮食问题；为工业生产提供了原料（2分，任答一点即可，若回答促进了农村乡镇企业的发展或促进了城市的改革给1分）

(2010·贵州贵阳) 28. 图片讲述的历史

下面的图片记载了中国共产党在革命和建设道路上坚持不懈的探索历程，



图一 中共一大会址 图二 遵义会议会址 图三 中共七大毛泽东《论联合政府》的报告 图四 邓小平在十一届三中全会上上的讲话

结合所学知识请回答：

- (1) 图一、图二反映的史实对中国革命的主要贡献是什么？（4分）
- (2) 分析图三反映的会议召开的国际背景。它的召开对中华民族的前途产生了什么重要影响？（4分）
- (3) 图四反映的会议对中国社会主义经济建设的发展具有什么深远的影响？遵义会议和十一届三中全会是我们党在思想路线上拨乱反正的两次重要转折，其中十一届三中全会确立了什么正确的思想路线？（4分）

28. (12分) (1) 中共一大宣告了中国共产党的成立，使中国革命的面貌焕然一新。（2分）在中国革命的危急关头挽救了党、挽救了红军、挽救了革命，是党的历史上生死攸关的转折点。（2分）(3) 十一届三中全会作出了把党和国家的工作重点转移到经济建设上

来，实行改革开放的伟大决策，中国进入社会主义现代化建设的新时期。（2分）重新确立了解放思想，实事求是的思想路线。（2分）

（2010·辽宁沈阳）13．邮票是时代的象征，它可以从另一个视角留下历史的印迹，让人们支重温往昔。下列三枚邮票均是为了纪念历史事件而发行的。请将纪念邮票按照历史事件发生的时间先后排序，把排序结果用字母符号填到答题卡的指定位置上。



A．抗日战争

B．辛亥革命

C．和平解放西藏

排序结果为：

13．BAC

（2010·内蒙古呼和浩特）21．读图说史

（1）右图地点下面画横线的地方是近代中国最早对外开放的通商口岸，中国开放这些地点的条约签订后，社会性质发生了怎样的变化？（1分）


（2）1980年我国开放深圳等四个经济经济特区。建立经济特区的目的是什么？（3分）对我国社会主义现代化建设有何意义？（2分）

（3）上述两次开放有什么不同？（1分）

21．（1）中国由独立自主的封建社会开始沦为半殖民地半封建社会（1分）；（2）目的：吸引侨资、外资，引进先进科学技术和管理经验（3分）；意义：推动改革开放的进一步发展，为现代化建设积累经验（2分）；（3）近代的开放是被迫的，现代的开放是主动。（1分）



（2010·四川成都）33．（8分）20世纪70年代末，我国掀起了农村改革的浪潮。观察下列两幅图片，回答问题。



图A 农民领取生产承包合同



图B 广汉县向阳人民公社在全国率先摘掉人民公社牌子，挂上了乡党委、乡政府、乡农工商联公社三块新牌子

请回答：

(1) 以上两幅图片反映了中国农村经济体制发生了什么重大变化？首先实行改革试点的是哪两个省份？(4分)

(2) 中国农村经济体制改革有何积极作用？(4分)

33. (8分) (1) 实行了家庭联产承包责任制；四川、安徽。(4分) (2) 分散经营和统一经营相结合，从根本上克服了人民公社的经营管理体制的弊端，打破了农业生产经营和生产上的大锅饭，极大地调动了农民的社会主义积极性，解放了农村生产力，促进了农村经济的发展。(4分)

(2010·内蒙古赤峰) 21. 读图回答问题 (12分)

下面是一位同学搜集到的反映新旧中国外交活动的几幅照片。



《辛丑条约》签订 签署《凡尔赛和约》 乔冠华开怀大笑 中英香港政权交接仪式  
图一 图二 图三 图四

请回答：

(1) 图一中的历史事件发生在哪一年？对中国社会最严重的危害是什么？(4分)

(2) 根据图二和所学知识回答，中国代表为什么没有在《凡尔赛和约》上签字？(2分)

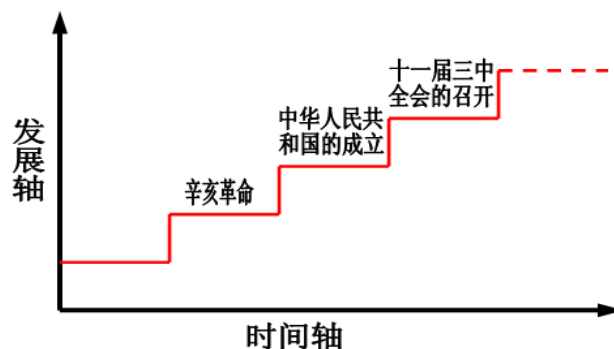
(3) 根据图三和所学知识回答“乔”为什么笑了？(2分)

(4) 图四反映的历史事件之所以能实现，在于中国政府提出了什么基本方针？(2分)

(5) 观察四幅图片你有什么感想？(2分)

21. (1) 1901年(2分)，使中国完全沦为半殖民地半封建社会(2分)。(2) 因为国内爆发了五四运动(2分)。(3) 因为在第26届联合国大会上恢复了中国在联合国的合法席位(2分)。(4) “一国两制”(2分)。(5) 旧中国国力衰弱，国际地位低下，导致外交失败(1分)；新中国综合国力增强，国际地位提升，外交工作取得重大成就(言之成理即可)(1分)。

(2010·湖南永州) 35. (10分)某历史学习兴趣小组以“以中华民国复兴”为主题绘制了一张历史轴图(见下图5)。观察下图并结合所学知识回答问题。



请回答：

(1) 辛亥革命是中国人民在复兴之路上迈上的一个重要台阶。这场革命使中国社会发生了历史性巨变，这里的“历史性巨变”主要指什么？(2分)

(2) 中华民族近百年艰苦卓绝的伟大复兴的历史，关键是“中国新生”和“伟大转折”，实现了国家的独立和富强。“中国新生”和“伟大转折”对中国社会发展分别产生了怎样的重大影响？

(6分)

(3) 概括指出在复兴之路上做出巨大贡献的三位伟人的共同优秀品质。(2分)

35. (1) 辛亥革命推翻了两千多年的封建帝制,使民主共和观念深入人心。(2分)

(2) ①新中国的成立开辟了中国历史的新纪元。(1分)从此,中国结束了一百多年来被侵略被奴役的屈辱历史,真正成为独立自主的国家;(1分)中国人民从此站起来了,成为国家的主人。(1分)②十一届三中全会是建国以来党的历史上具有深远意义的转折。

(1分)它完成了党的思想路线、政治路线和组织路线的拨乱反正,是改革开放的开端(1分)从此,中国历史进入社会主义现代化建设的新时期。(1分)(3)孙中山、毛泽东、邓小平这三位伟人都具有爱国主义精神,革命创新精神等。(言之有理即可得2分)

(2010·广东梅州) 14. (2分) 灵活而务实的新中国外交



图A

图B

(1) 图A是1955年召开的万隆会议,在会上中国代表团团长周恩来提出“\_\_\_\_”方针,促进了会议的圆满成功。

(2) 图B中和毛泽东主席握手的美国总统是\_\_\_\_,他1972年访华,双方签署《中美联合公报》,中美关系走向缓和。

14. (1)求同存异(1分); (2)尼克松(1分)。

## 材料分析题

(2010·山东聊城) 41. 阅读下列材料:

我国的经济体制改革在经历了80年代初以农村改革为重点的第一阶段,和80年代中后期以城市为重点、城乡联动、全面改革以来,以中国共产党十四大为标志,改革进入了新阶段。

——宁可主编《中国经济发展史》

请回答:

(1) 第一阶段农村改革的重大举措是什么?(2分)十四大确定的改革目标是什么?(2分)

(2) 据材料和所学知识,概括我国经济体制改革的主要特点。(2分)


41. (1) 实行家庭联产承包为主的责任制;(2分)目标:建立社会主义市场经济体制。(2分)(2) 特点:首先在农村推行,之后在城市全面展开;先试点后推广;逐渐突破计划经济体制;探索建立社会主义市场经济体制。(2分。每点1分,答出其中两点即得满分。)

(2010·四川乐山) 36. (10分) 我国是一个统一的多民族国家,维护祖国统一是中华儿女不变的追求。阅读下列材料,回答问题。

材料一



香港回归政权交接仪式



澳门回归政权交接仪式

材料二



胡锦涛会见台湾国民党主席连战 台湾旅客乘坐深航班机开心回家 台湾歌手范晓萱成都演唱会

材料三 1998年，全国已先后成立内蒙古、新疆、广西、宁夏、西藏5个民族自治区和30个自治州、120个自治县（旗）。

——川教版《中国历史》八年级下册

请回答：

- (1) 材料一体现了哪一构想的成功运用？（1分）
- (2) 材料二中你能获取什么信息？体现了中国共产党对台湾问题的基本方针是什么？（2分）
- (3) 材料三反映出新中国成立后，党和政府为解决民族问题采取了什么政治制度？结合所学知识指出其历史意义。（3分）
- (4) 历史证明，民族问题解决不好，会导致国家的分裂和民族冲突。请举两例世界现代史史实说明。（2分）
- (5) 综观上述材料和问题，请谈谈你的认识。（2分）

36. (10分) (1) “一国两制”。（1分） (2) 信息：两岸交流加强。（1分）基本方针：“和平统一，一国两制”。（1分） (3) 民族区域自治；（1分）保障了少数民族当家作主的政治权利；维护了国家的统一；有利于民族团结、社会稳定和少数民族地区的发展。（任2点2分） (4) 巴以冲突和阿以矛盾、印巴冲突、苏联解体、南斯拉夫社会主义联邦共和国分裂、科索沃问题、朝鲜半岛问题。（任2点2分） (5) 认识：民族团结、国家统一有利于社会稳定和发展；民族团结、国家统一有利于全世界的和平与发展；民族团结、国家统一有利于民族融合和经济文化交流。统一是各国人民的共同愿望；不和谐因素仍然存在，维护民族团结、国家统一任重道远。（采意给分，任2点2分）

(2010·浙江湖州) 23. (9分) 我国农村60年发展见证了共和国风雨历程。阅读材料，回答问题：

材料一 据不完全统计，新中国成立初期特别是“一五”时期，农民人均收入年均增长率达10%左右。1978年后，农民人均收入更是大幅度提高，年均增长率达12.7%。

材料二 下面两幅图反映了社会主义建设初期出现的失误与挫折。



农民在表决心

图一



1958年9月10日,《人民日报》刊载了  
《中共中央关于在农村建立人民公社问题的决议》

图二

请回答：

- (1) 材料一中我国农民收入在这两个时期快速增长分别得益于哪些农业政策？(3分)
- (2) 材料二中的图一和图二各反映了哪两大历史事件？(2分)
- (3) 上述材料说明了我国农村60年的发展既有经验又有教训，这对当前我国社会主义建设有哪些启示？(4分)

23. (1) “一五”期间，我国先后完成了土地改革和农业的社会主义改造；(2分) 1978年开始实行了家庭联产承包责任制。(1分) (2) 图一反映了大跃进运动，图二反映了人民公社化运动。(2分) (3) 必须始终坚持改革，充分调动生产积极性；必须正确认识我国社会主义所处的发展阶段；必须遵循经济发展的客观规律，不能急于求成。(4分)

(2010·浙江嘉兴) 21. [历史天空] (10分)

民以食为天，中国古代历朝重视农业生产。新中国成立后，我国在实践中明确提出农业是国民经济的基础。阅读材料，回答问题。

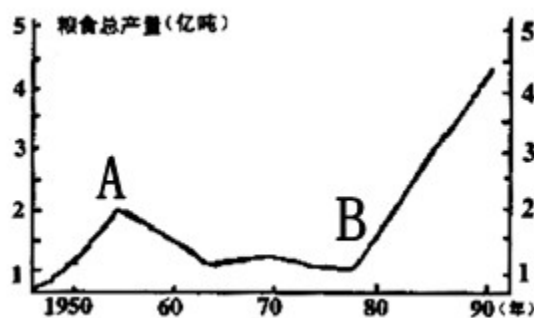
**人民智慧** 在我国农耕文明史上，集中了无数劳动人民的智慧。生产工具的重要发明和生产技术的发展推动了古代生产力的发展。

- (1) 请列举两种我国古代劳动人民发明的农业生产工具。(2分)

**帝王之道** “民，水也；君，舟也。水能载舟，亦能覆舟。”——唐太宗

- (2) 请说出唐太宗的这一治国思想在农业政策上的具体体现及其影响。(4分)

**探索发展** 新中国成立以来，我国农业生产在曲折中不断发展。粮食生产是农业生产的重要组成部分，下图是1949~1989年我国粮食产量变化折线图。



- (3) 说出引起A点(注：1959年)前后粮食产量变化的历史事件，分析引起B点之后粮食产量变化速度加快的主要原因。(4分)

21. (1) 春秋时期铁农具；唐朝曲辕犁、筒车；宋朝秧马。(答出两种即可) (2) 轻徭薄赋，不误农时。经济得到恢复和发展，社会安定。(3) “大跃进”和人民公社化运动。实行家庭联产承包责任制，极大地激发了广大农民的生产积极性，促进了农业生产迅速发展。

(2010·浙江宁波) 20. (6分) 阅读材料, 回答问题。

材料一 2010年5月9日, 俄罗斯隆重举行纪念卫国战争胜利65周年阅兵式, 20多个国家的领导人和国际组织代表参加了纪念活动, 并向为反法西斯战争胜利献出生命的无名烈士墓献花。国家主席胡锦涛参加庆典时强调: “今天的和平来之不易, 值得倍加珍惜。”

材料二 2009年10月1日, 中华人民共和国成立六十周年阅兵式隆重举行, 展示了国威军威。近百年抗争求独立, 六十年奋斗铸辉煌。在不断的探索中, 中国共产党领导全国各族人民开创了两条独具特色的道路。

请回答:

- (1) 材料一反映了当今时代的哪一个主题? (1分)
- (2) 材料二中的“两条独具特色的道路”是指哪两条道路? (2分)
- (3) 上述两则材料对实现中华民族的伟大复兴有哪些启示? (3分)

20. (1) 和平 (1分); (2) 农村包围城市的独特的革命道路; 中国特色社会主义道路。(2分) (3) 努力争取和平的国际环境; (1分) 坚持中国共产党领导; 坚持从中国国情出发 (一切从实际出发); 坚持社会主义道路; 坚持改革开放; 各民族团结一心等。(2分。两方面, 言之有理即可)

(2010·重庆) 19. 阅读下列材料:

材料一 新中国诞生后, 美国从政治、军事、经济等各方面采取措施, 千方百计地想把新中国扼杀在摇篮里。政治上, 实行所谓遏制加孤立政策……经济上, 对新中国进行经济封锁和贸易禁运。军事上, 美国对新中国实行武装侵略和军事包围……派第七舰队侵入台湾海峡, 阻挠中国人民解放军解放台湾。

——纪胜利、郝庆云《战后国际关系史(1945—2000)》

材料二



美国总统尼克松在机场受到周恩来总理等的欢迎

材料三 我们要坚持中美关系的正确方向……共同努力建设21世纪积极合作全面的中美关系这一目标……促进两国在双边、地区、全球层面的沟通、协调、合作。

——胡锦涛2010年5月24日在第二轮中美战略与经济对话开幕式上的致辞

请回答:

- (1) 根据材料一, 指出美国采取了哪些措施对付新生的中国。(2分)
- (2) 材料二反映的是发生于1972年的什么重大历史事件?(2分)
- (3) 根据以上三则材料, 并结合所学知识, 概括指出中美关系的发展变化。(3分)

19. (1) 政治上实行遏制加孤立政策; 经济上进行经济封锁和贸易禁运; 军事上实行武装侵略和军事包围。(2分) (2) 尼克松访问中国。(2分) (3) 从对抗到实现关系正常化, 再到努力建设积极合作全面的中美关系。(3分)

(2010·重庆綦江) 20. 阅读下列材料：

材料一 在以毛泽东为核心的第一代中央领导集体的领导下，新民主主义革命取得伟大胜利，建立了新中国，并确立了社会主义基本制度。这是中国社会在 20 世纪实现的第二次历史性的巨大变化。

——中国共产党党史研究室《中国共产党简史》

材料二 20 世纪的最后 20 年，在世界的东方，中国进行了一场卓有成效的社会变革，解放了思想的中国人焕发出蓬勃的创造力，书写了一个时代最为传奇的一页。

——电视片《复兴之路》解说词

请同答：

(1) 结合所学知识指出新民主主义革命胜利和社会主义制度确立的标志分别是什么？(2 分)

(2) 指出材料二中取得“卓有成效的社会变革”是以我党哪次重大会议为开端？这次会议作出了怎样的重大决策？(2 分)

(3) 材料二中带领中国人民“书写了一个时代最为传奇的一页”的领导人是谁？他为祖国统一大业作出的贡献是什么？(2 分)

20. (1) 新中国的成立(或中华人民共和国的成立) (1 分)；三大改造的完成(1 分)。

(2) 十一届三中全会(1 分)；改革开放(或把党和国家工作重心转移到经济建设上来)(1 分)。(3) 邓小平(1 分)；提出“一国两制”的构想，成功解决了香港、澳门问题。(1 分)。

(2010·江苏徐州) 16. (8 分)国家统一，民族融合是中国历史发展的主流。阅读下列材料，结合所学知识回答问题：

材料一 骞始开通西域道也。

——引自《汉书·张骞传》

材料二 高祖曰：“……今欲断诸北语，一从正音……三十以下，见在朝廷之人，语音不听仍旧。若有故为，当降爵黜官，各宜深戒。”

——引自《魏书·献文六王传·咸阳王禧传》

材料三 各少数民族聚居的地方，……按照民族聚居的人口多少和区域的大小，分别建立各族自治县。在各民族杂居的地方及民族自治区内，各民族在当地政权机关中均应有相当名额的代表。

——引自《中国人民政治协商会议共同纲领》

请回答：

(1) 材料一中的“西域”狭义上是指今天我国的什么地方？(1 分)该地正式归属中央政权管辖的标志是什么？(1 分)

(2) 材料二是中国古代哪次改革的内容？(1 分)这次改革对于中华民族的发展有何积极意义？(2 分)

(3) 材料三表明新中国成立后我国在少数民族聚居地区主要实行的政治制度是什么？(1 分)结合所学知识说明实行这一制度的意义。(2 分)

16. (1) 新疆天山南北地区(答新疆也对)。(1 分)西域都护的设置。(1 分)(2) 北魏孝文帝改革。(1 分)加速了黄河流域民族大融合的过程。(2 分)(符合题意、言之成理即可适当给分)

(3) 民族区域自治制度。(1 分)保障了少数民族当家做主的政治权利(或保障了少数民族平等管理国家事务和自主管理本民族事务的政治权利)；有利于民族团结、社会稳定和少数民族地区的发展；维护了国家的统一；维护了中华民族大家庭的根本利益。(1 点 1 分，答出 2 点即给 2 分。符合题意、言之成理即可给分)

(2010·江苏徐州) 17. (6 分)中美关系的缓和是 20 世纪 70 年代中美两国的共同要求。根

据材料，结合所学知识回答问题：

周恩来说：“你的手伸过世界最辽阔的海洋来和我握手——25年没有交往了呵！”……从尼克松与周恩来握手的时刻起，（见右图）“一个时代结束了，另一个时代开始了”。



——以上摘编自尼克松回忆录《领导者》  
请回答：

(1) 中美“25年没有交往”的主要原因是什么？(1分)材料中所说的“一个时代结束了，另一个时代开始了”的含义是指什么？(2分)

(2) 1972年中美双方在上海签署的《联合公报》同意按什么原则来处理两国关系？(1分)

(3) 中美正式建立外交关系是在哪一年？(1分)中美关系的改善有何历史意义？(1分)

17. (1) 美国长期以来坚持敌视中国的政策。(1分)(符合题意、言之成理即可给1分)中美结束了长期对立的僵局，开始走向关系正常化。(2分)(符合题意、言之成理即可适当给分)

(2) 和平共处五项原则。(1分) (3) 1979年。(1分)有利于世界和平与发展。(1分)(符合题意、言之成理即给1分)

(2010·山东威海) 32. 阅读下列材料：

材料一 卫鞅(指商鞅)曰：“治世不一道，便国不法古。故汤武不循礼而王，夏殷不易礼而亡。反古者不可非，而循礼者不足多。”孝公曰：“善。”以卫鞅为左庶长，卒定变法之令。

——《史记·商君列传》

材料二 中国当时的一些有识之士受到第二次鸦片战争中圆明园被焚的极大刺激与震撼，感到学习西方先进军事技术势在必行，终于启动了一场持续30多年(19世纪60~90年代)的“自强运动”……从而启动了我国现代化的最初步伐。

——马克圭主编《世界文明史》

材料三 1978年12月18日的北京，白雪皑皑，空气新鲜。在“文革”结束之后，中国面临向何处去的重大历史关头，在这里召开了一次关系党和国家前途命运的极为重要的会议，……作出了把党和国家的工作重点转移到经济建设上来和实行改革开放的战略决策。

请回答：

(1) 材料一反映了商鞅的什么主张？商鞅变法产生了怎样的历史影响？(2分)

(2) 材料二中的“自强运动”指我国近代化探索中的什么运动？简要概述该运动的主要内容。(2分)

(3) 材料三中的会议是指哪次会议？这次会议召开的历史意义是什么？(3分)

32. (1) 主张按现实需要改变传统的治理国家的政策。(只要符合题意，言之有理，即可得1分)秦国经济得到发展，军队战斗力不断加强，发展成为战国后期最富强的封建国家。(1分) (2) 洋务运动(0.5分)创办军事工业和民用企业、筹建新式海军、兴办新式学堂。(1.5分) (3) 中共十一届三中全会。(1分)是建国以来党的历史上具有深远意义的转折点，完成了党的思想路线、政治路线和组织路线的拨乱反正，是改革开放的开端；中国历史开始进入社会主义现代化建设的新时期。(2分)

(2010·山东临沂) 35. 阅读下面材料，结合所学知识，回答问题。(10分)

材料一 开埠后的近代上海迅速成为远东最繁荣的港口和经济、金融中心，“是近代亚洲屈指可数的国际化大都市之一”、被称为“十里洋场”……

——互动百科

(1) 材料一中，上海的“开埠”是根据哪一条约的规定？(1分)根据材料一和所学知识，指出近代上海被称为“十里洋场”的主要原因。(4分)

材料二 图片蕴含着丰富的历史信息，见证着社会的发展与进步，如下图



图一 江南制造总局机器房 图二 武昌起义 图三 《新青年》杂志封面

(2) 依据图片信息并结合所学知识，指出中国人在近代化探索历程中经历的三件具有代表性的重大历史事件。(3分)

材料三 如右图《新华手机报——世博特刊》【博爱】

(3) 读图，指出中国2010年上海世博会的主题是什么？(1分)

2001年，中国上海承办的主题为“新世纪、新挑战：参与、合作、促进共同繁荣”的国际会议是什么？(1分)



35. (1) 条约：中英《南京条约》。(1分) 原因：上海是近代国际化大都市；上海经济繁荣（或答出上海外国人较多，洋货多；洋务工业发达；开埠通商较早也可）。(4分) (2) 洋务运动；辛亥革命；新文化运动。(3分) (3) 主题：“城市，让生活更美好”。(1分) 会议：亚太经合组织会议。(1分)

(2010·山东青岛) 48. 阅读下列材料：

材料一 1972年2月，尼克松乘坐的飞机缓缓降落在北京机场，尼克松走下飞机舷梯，离地面还有三四级台阶时，就向前来迎接的中国总理周恩来伸出手。两位领导人紧紧握手达一分钟之久。周恩来诚挚地说：“总统先生，你把手伸过了世界最辽阔的海洋和我握手，25年没有交往了啊！”尼克松也动情地说：“我感到很荣幸，终于来到了你们伟大的国家。”

材料二 不同时期中美领导人的握手（如下图）。



请回答：(6分)

(1) 材料一中提到中美之间“25年没有交往”，你认为主要原因是什么？(1分)

1972年美国总统尼克松访华时，中美两国签署了哪一重要文件？(1分)

(2) 除中美关系外，20世纪70年代中国的外交事业还取得了许多重大成就，请列举两例。(2分)

(3) 材料二中的三幅照片记录了中美两国领导人在不同时期的会晤，对其中反映的信息，最恰当的理解是( ) (1分)

- A. 中美友好是历史发展的主流，符合两国人民的共同利益
- B. 美国是世界上最强大的国家，中国畏惧美国而与之交往
- C. 中国的国际地位迅速提高，美国的霸主地位岌岌可危
- D. 中美友好源远流长，近现代史上从没有过摩擦和对抗

(4) 中美之间的关系，从几十年的敌对恢复到邦交正常化，由此你能得到什么认识？(1分)

48. (1) 主要原因：美国对中国共产党和新中国长期实行敌视政策。(1分) 文件：《中美联合公报》。(1分) (2) 成就：1971年中国恢复在联合国的合法席位；1972年中日建交等。(2分，两例即可) (3) A (1分)；(4) 认识：外交政策应随着国际形势的变化而变化；外交政策的发展变化必须符合国情；没有永恒的敌人，只有永恒的利益等。(1分，答出一点，或言之有理即可)

(2010·山东东营) 28. (12分) 阅读材料，结合所学知识回答问题。

材料一 夺取全国胜利，这只是万里长征走完了第一步。……我们不但属于破坏一个旧世界，我也还得善于建设一个新世界

——毛泽东在中共七届二中全会上的报告

(1) 建国初期，中国共产党为了“建设一个新世界”，采取了哪些重大措施？(4分)

材料二 1958年几千万人开始大炼钢铁，不仅钢铁厂开足马力，土高炉也遍地开花，到了10月底就达到了几百万座。……北戴河会议后，全国农村一哄而起，大办人民公社。没有经过试验，只用一个多月的时间就基本实现公社化。

(2) 材料二反映了我党在探索社会主义建设道路过程中的什么严重失误？(4分)

材料三 我们即将迎来改革开放三十周年，……从那时以来……社会主义中国的面貌……发生了历史性变化……从农村到城市、从经济领域到其他各个领域，全面改革的进程势不可挡地展开了。

——中共十七大报告

(3) 材料三中“历史性变化”的起点是什么？(2分) 在农村的改革实行的是什么政策？(2分) 对城市改革的重点是什么？(2分)

(4) 我国的社会主义建设既有成功的经验，也有失败的教训，你从中得到怎样的认识？(2分)

28. (1) 进行土地改革；编制第一个五年计划；颁布中华人民共和国第一部宪法‘对农业、手工业、资本主义工商业进行社会主义改造(或三大改造) (4分) (答出其中两项即可得满分2分)；(2) “大跃进”和人民公社化运动。(4分) (3) 中共十一届三中全会的召开。(2分) 实行家庭联产承包责任制(2分) 对国有企业的改革。(2分) (4) 政策的制定要符合国情；生产关系要适应生产力发展。(2分) (只要言之有理即可得分。)

(2010·福建龙岩) 27. 民族问题始终是一个世界性的热点和焦点问题。阅读下列材料。

材料一 孙中山先生曾指出：“中国是一个统一的国家，这一点已牢牢地印在我国的历史意识之中。”

材料二 长期在中国考察研究的澳大利亚当代学者尼古拉斯·泰普说：“中国的民族政策令人赞赏，值得世界上许多别的国家借鉴”。

材料三 我国少数民族地区经济情况表

年份	少数民族地区经济总量(元)	农牧民人均纯收入(元)
1952年	57.9亿	<100
2008年	30626.2亿	3389

请回答：

(1) 材料一中孙中山说“统一的国家”，我国第一个统一的多民族的封建国家是什么？(2分)

(2) 材料中的“历史意识”即民族意识。在清朝有许多民族团结的史实，请列举其中两例。(4分)

(3) 材料二尼古拉斯·泰普如此赞扬中国的民族政策，你认为他的主要依据是什么？(2分)

(4) 材料三的数据说明了什么问题？(2分)

(5) 据此分析，我们应该如何看待民族分裂势力制造各类打砸抢烧事件。(2分)

27. (1) 秦朝；(2分) (2) 册封达赖；册封班禅；设置驻藏大臣；设立伊犁将军；土尔扈特回归祖国。(对2个得4分) (3) 我国坚持民族区域自治制度；实行民族平等、民族团结、民族共同繁荣的政策。(2分) (4) 建国以来，少数民族地区经济得到迅速发展，农牧民的生活水平得到很大提高；或说明我国的民族政策是正确的(言之有理即可)等。(2分)

(5) 历史告诉我们，维护国家统一是我们的职责，民族分裂势力(宗教极端势力和国际恐怖势力)是我们共同的敌人，我们都应该坚决反对。(言之有理即可得2分)

(2010·山东潍坊) 23. (16分) 物质生活的变化主要反映在衣、食、住、行等方面，这些变化描绘出了历史发展的轨迹。阅读材料，回答问题。

材料一 吴老太爷从乡下来到上海，坐进(20世纪)30年代的汽车里，像一具刚从棺材里爬出来的僵尸。南京路上，到处是光怪陆离的灯光和高耸的摩天大楼。最让吴老太爷大受刺激的，是一位身穿高开叉旗袍的时髦少妇，……这情形，不禁让吴老太爷全身发抖。终于，吴老太爷大叫一声，昏死过去……

——小说《子夜》

(1) 材料一中，吴老太爷见到了哪些新鲜事物？他的反应说明了什么？(4分)

材料二 中央政务院于1953年10月发布命令：粮食实行计划供应，凭证定量购买，粮票出现了。这一时期，除了购粮需要粮票外，其它生活必需品，如油、布、糕点等同样需要凭证购买。甚至在重大节日还出现了节日补助票……

(2) 材料二反映了人们物质生活中的什么现象？为什么会出现这一现象？(6分)

材料三 上世纪60、70年代，大柳村人只有很少的生活必需品，日常消费压缩到最低限度。80年代以来，90%以上的村民住进了新房；村民娶亲用的“彩礼”也由自行车、缝纫机、手表、收音机等“旧四大件”，变成了彩电、冰箱、洗衣机、摩托车等“新四大件”。

(3) 据材料三，概括指出大柳村人生活发生的变化。概述这一变化出现的原因。(6分)

23. (16分) (1) 旗袍(或汽车、电灯、摩天大楼，答对一项即可得2分) 说明：旧势力难以接受新事物。(言之有理即可得2分) (2) 现象：凭票证定量购买生活用品。(2分) 原因：物资短缺；生产力水平不高。(4分) (3) 变化：从贫穷到富裕。(言之有理即可得2分) 原因：改革开放；实行家庭联产承包责任制。(4分)

(2010·湖南岳阳) 32. 阅读下列材料：

材料一



蔡侯祠

材料二 综观18世纪末19世纪初期的中国科学技术，就是这样：在近代科学的园地仍然是空白一片；在传统科学的发展中，则由点由于中西文化交流的中断……整个中国科学技

术在封建专制主义的严重束缚下，走进了死胡同。在西方科学技术普遍繁荣的年代，中国科学技术却陷入了停滞状态……

——《中西 500 年对比》

材料三新中国成立以来，党和政府高度重视科学技术的发展，取得了举世瞩目的成就。

请回答：

- (1) 材料一中的蔡侯祠是为了纪念\_\_\_\_\_ (人名) 而建造的。他最突出的贡献是\_\_\_\_\_，这项贡献在中国古代科技史上有何重要地位？(4分)
- (2) 依据材料二，找出中国科学技术“陷入停滞”的主要原因。(4分)
- (3) 依据材料三，结合所学知识，指出党和政府在重视科学技术方面制定了怎样的国策？(2分)
- (4) 建国以来，我省在信息技术方面取得的最突出成就是什么？请再举一例我省在其他方面取得的重大科技成就。(4分)

32. (1) 蔡伦改进造纸术；(2) 封建专制主义的严重束缚闭关锁国政策中断了中西文化交流；(3) 科教兴国；(4) 千万亿次超级计算机系统袁隆平培育杂交水稻。

(2010·湖南岳阳) 33. 阅读下列材料：

材料一 1842 年，英国同清政府签订了《南京条约》。条约规定：中国割让香港岛给英国；赔款 2100 万元；开放广州、宁波、福州、厦门、上海五处为通商口岸；英商在华进出口货物应缴纳的税款，中国须同英国商定。

材料二 1919 年 1 月，在法国巴黎召开的“和平会议”上，中国代表提出了取消帝国主义在华特权、废除“二十一条”等要求。遭到操纵会议的英、法、美等国的拒绝。会议无理决定把德国在山东攫取的一切权益转给日本。

材料三 一个美国记者评论周恩来在万隆会议中的作用时说：“周恩来并不打算改变任何一个坚持反共立场的领导人的态度，但是他改变了会议的航向。”

材料四 1971 年 11 月 15 日，乔冠华率中国代表团首次参加第 26 届联合国代表大会。联合国大厅里出现了盛况空前的欢迎场面。乔冠华激动的心情难以抑制，仰天开怀大笑。

请回答：

- (1) 依据材料一，找出《南京条约》中破坏中国领土完整的条款。(2分)
- (2) 依据材料二，结合所学知识，指出中国外交在巴黎和会上得到了怎样的结果？这一结果在中国引发了一场什么运动？(3分)
- (3) 依据材料三，结合所学知识，周恩来在万隆会议上提出了什么观点，从而“改变了会议的航向”？(2分)
- (4) 依据材料四，结合所学知识，指出乔冠华为何“开怀大笑”？(2分)
- (5) 依据上述四则材料，你能得出怎样的结论？(2分)

33. (1) 中国割让香港岛给英国；(2) 中国代表提出的要求遭到拒绝，会议无理决定把德国在山东攫取的一切权益转给日本。五四运动；(3) “求同存异”的方针；(4) 中国恢复在联合中的合法席位；(5) 弱国无外交。

(2010·山东淄博) 2. (6分) 阅读下列材料，回答问题。

材料一 1958 年，“放开肚皮吃饭，鼓足干劲生产”，成为一时间传遍大江南北的著名口号。

材料二 “包字万岁！早包早富，迟包迟富，不包永远不能富。”这是 20 世纪 70 年代末广州郊区的宣传标语。

请回答：

- (1) 材料一反映的是我党在探索社会主义建设道路的过程中发动的哪两次运动？(2分)
- (2) 分析材料二得知，我国在农村实行了什么政策？这一政策产生了什么影响？(2分)
- (3) 通过对以上材料的对比分析，你能得出什么认识？(2分)

2. (6分) (1) (2分) 大跃进运动 (1分) ; 农村人民公社化运动 (1分) (两个运动顺序可颠倒) (2) 家庭联产承包责任制 (1分) ; 农村生产得到大发展, 农村富裕起来 (1分) (3) 制定经济政策要从实际出发, 不能违背客观规律; 制定政策要适合本国国情, 遵循生产关系适应生产力发展的原则。(开放性试题, 其中任意两点即可, 其它符合题意的也可酌情得分, 2分)

(2010·江苏泰州) 22. 鸦片战争是中国历史的一块界碑, 自此, 中国社会一步步沦为半殖民地半封建社会, 中华民族百余年艰苦卓绝的伟大复兴历史也由此拉开了大幕。100多年来, 中国经历了求索与奋斗, 告别了曾经的苦难, 正以崭新的面貌融入世界。阅读电视政论片《复兴之路》有关解说词, 回答问题。(8分)

### 探索篇

以1861年1月总理各国事务衙门成立为起点, 中国近代第一次由清政府主导的自主探索开始了, 史称洋务运动。……残酷的现实证明, 洋务运动无法实现其目的, 不是中国现代化的方向。

戊戌变法它在政治上是具有君主立宪的目标和理想, 在经济上呢, 它是推动了民族的工商业的发展。

(1) 洋务运动提出的口号是什么? 从戊戌变法政治和经济主张看, 维新派代表了哪一阶级的要求?(2分)

1919年爆发的五四运动, 进一步推动了马克思主义在中国的传播及其与工人运动的结合。一些倾向于社会主义的知识分子, 开始在马克思主义的旗帜下集合起来。1921年7月, 中国共产党第一次全国代表大会召开。

(2) 中国共产党第一次全国代表大会的召开有何重大意义?(2分)

有人说, 在中华民族伟大复兴的征途上推翻封建帝制的孙中山, 为中国打开了思想进步的闸门; 建立起新中国的毛泽东, 让中国人民从此站了起来; 而挽救了社会主义的邓小平为中国找到了一条使国家强盛、人民富裕的道路。

(3) 毛泽东为建立新中国, 将马克思主义普遍原理与中国革命实际相结合, 探索出了一条怎样的正确革命道路?(2分)

### 跨越篇

2007年7月1日, 香港, 这个中国近代百年沧桑的特殊见证者, 以它在回归祖国10年中所走过的历程骄傲地告诉世人: 中华民族伟大复兴的航船早已驶出了1840年的海面。两年后, 澳门也将迎来回归祖国10周年。

(4) 香港、澳门的回归, 是邓小平提出的哪一创造性构想的成功运用?(1分)

### 感悟篇

(5) 回首过去的100多年, 历史发生了沧桑巨变, 走出了一条清晰的轨迹。一个有着灿烂文明的民族今天渴望再创辉煌, 有许多历史经验应该去继承和发扬, 请你写出其中之一。(1分)

22. (1) 自强、求富; 资产阶级; (2) 自从有了中国共产党, 中国革命的面貌焕然一新。

(3) 井冈山道路; 工农武装割据; 创建农村革命根据地。(三者任选其一) (4) 一国两制; (5) 只要写出其中一点即可。

(2010·湖北十堰) 38. (8分) 阅读下列材料

材料一



图一



图二

材料二 20世纪80年代初，邓小平从维护祖国和中华民族的根本利益出发，尊重历史和现实，以伟大政治家和战略家的远见卓识，提出了“一国两制”的构想。

请回答：

- (1) 香港岛是通过什么条约割让的？它被英国殖民者强占了多少年？（2分）
- (2) 按照“一国两制”的构想，中国收回香港后，在香港实行了什么社会制度？（2分）
- (3) 材料一中的两幅图片形成了鲜明对比，图一反映的是签订条约割让香港岛的情景，图二反映的是收回香港的情景，“割让”与“收回”的根本原因分别是什么？（4分）

38. (8分) (1) 香港岛是通过《南京条约》被割让的，它被英国殖民者强占了155年（2分）；(2) 中国收回香港后，在香港实行资本主义制度（2分）。(3) 割让原因：清政府政治腐败，综合国力衰弱，腐朽没落的封建主义不能对抗新兴的资本主义（2分）。收回原因：中国综合国力增强，人民渴望统一，中央领导决策正确（答对两点得2分）

(2010·广东汕头) 29. 阅读下列材料：

材料一：“外甥是先皇帝舅宿亲，又蒙降金城公主，遂和同为一体。天下百姓，普皆安乐。”

——《旧唐书·吐蕃传》

材料二：右图是清政府颁赐的金本巴瓶和五支如意头象牙签。为改变大活佛转世被蒙藏贵族所操纵的积弊，清政府规定了确定转世灵童的具体程序：达赖或班禅转世时，都要将找到的几个灵童的名字写在象牙签上，装入瓶中，由驻藏大臣监督掣签确定。然后报朝廷批准，再由驻藏大臣主持坐床，才能成为合法的继承人。此项制度被称为“金瓶掣签”



材料三：“各少数民族聚居的地方实行区域自治。各民族自治地方都是中华人民共和国不可分割的部分。”

——一九五四年《中华人民共和国宪法》

请回答：

- (1) 材料一中的外甥指的是谁？（1分）如何理解材料中的“和同为一体”？（2分）
- (2) 根据材料二，并结合所学知识回答：清政府为加强对西藏的管辖采取了哪些措施？（3分）
- (3) 材料三规定，我国在少数民族聚居地区实行什么制度？（1分）谈谈实行这一制度的意义。（5分）

29. (1) 尺带珠丹（或吐蕃赞普），唐与吐蕃关系日益密切。(2) ①历世达赖和班禅，都必须经过中央政府的册封。②1727年设驻藏大臣，代表中央政府，与达赖、班禅共同管理西藏事务。③达赖和班禅的继承，必须报请中央政府批准。④驻藏大臣监督掣签。然后报朝廷批准，再由驻藏大臣主持坐床，才能成为合法的继承人。(3) 民族区域自治制度。意义：民族区域自治对祖国统一、民族平等、民族团结和地区发展具有重大意义，成为我国的一项基本国策和基本政治制度

(2010·江苏连云港) 36. 妇女解放是近代以来中国历史发展的一个缩影。结合材料和所学

知识，回答问题。（10分）

(1) 梁启超在1896年的《变法通议·论女学》中说到：

“（现在有人说）欲强国必由女学（女子教育），人多疑（怀疑）之。”“（受西方列强震撼）而思效（学习）其长者，则惟是船舶之雄也，枪炮之利也，铁路之速也……”（而这些都是妇女不能做的）。“故谋国者曰：教妇人非所急也，而不知西人之强在此（女子教育）。”

请回答：文中学习西方列强“枪炮”“铁路”等是指什么运动？梁启超要求发展女子教育的目的是什么？为此，他与康有为等发起了什么运动？（3分）

(2) 1920年，陈独秀在有关女工工资待遇、劳动时间等问题的讨论中，写到：

大家要晓得二十世纪的劳动运动，已经是要求管理权时代，不是要求待遇时代了。无论待遇如何改良，终不是自由的主人地位。

请回答：20世纪，中国“工人阶级”开始登上政治舞台的标志是什么？文中陈独秀在争取女工权利问题上提出怎样的目标？在实现这一目标中，中国共产党领导人民赢得民主革命胜利的标志是什么？（3分）

(3) 某世界级服装设计大师曾说：

当时第一次（1978年）来到中国的时候，整个中国连男女都分不出来，都是一片灰色。我觉得我为中国也做了一些贡献，就是把颜色带到了中国。

请回答：这位服装大师把“颜色带到中国”并流行起来，主要得益于中国采取了什么国策？“服装颜色在中国流行”，给中国妇女生活带来了怎样的影响？（2分）

(4) 由上述近代以来中国妇女解放的历史，你能得出哪些认识？（2分）

36. (1) 洋务运动。强国（救亡图存）。戊戌变法。（3分） (2) 五四运动。争取管理权或自由权。建立新中国。（3分） (3) 改革开放。丰富生活（提高生活质量）。（2分） (4) 妇女解放是中国近代以来先进中国人的奋斗目标；中国共产党致力于实现妇女解放和提高妇女生活水平；与世界其他国家相互学习是实现妇女解放的重要途径。（由本题归纳的其他言之成理的答案，均可给分。任意2点2分）

(2010·河南) 23. (6分) 阅读材料，回答下列问题。

材料一 20世纪50年代，新中国积极同邻近国家和新兴独立国家发展友好关系，参加了一系列外交活动并产生了积极的影响，国际政治舞台开始有了“中国的声音”，中国的国际地位大大提高。

材料二 20世纪70年代，我国外交取得了显著成就，其中之一就是西方世界许多国家与中国建交。如：日本、美国、意大利、加拿大、联邦德国、澳大利亚、英国等。

材料三 改革开放以后，特别是进入20世纪90年代，中国政府开展了务实的、全方位的外交活动，发展同所有国家的友好关系，积极参加国际及区域性组织，在双边与多边外交领域内取得了一系列重大成就，为改革开放和现代化建设创造了和平有利的国际环境。

请回答：

(1) 20世纪50年代，国际舞台上的“中国声音”主要指什么？（2分）

(2) 20世纪70年代，为外交新局面的出现创造了良好国际环境的事件是什么？（1分）

(3) 分别列举一个20世纪90年代以来中国参加的国际及区域性组织。（2分）

(4) 根据上述材料，说明一个国家调整外交政策的出发点是什么？（1分）

23. (6分) (1) 和平共处五项原则；求同存异方针。（2分） (2) 中国在联合国合法席位的恢复；中美关系开始走上正常化道路。（一条即可，1分） (3) 国际组织：世界贸易组织；区域性组织：亚太经合组织。（其他符合题意也可，2分） (4) 维护国家根本利益。（意思相近即可，1分）

(2010·山东济宁) 三、请你阅读下列材料，根据要求完成问题 (本题 7 分)

1978 年底，中共中央在北京召开十届三中全会。会议作出把党和国家的工作重心转移到社会主义现代化建设上来，实行改革开放的伟大决策。之后，我国在深圳、珠海、汕头、厦门建立四个经济特区，1987 年，邓小平在中国共产党第十三次全国代表大会上提出了党在社会主义初级阶段的基本路线。1992 年，中国共产党十四次全国代表大会决定建立自给自足市场经济体制。1997 年，中国共产党十五次全国代表大会把“三个代表”确立为党的指导思想，成为指导我国改革开放和社会主义现代化建设的旗帜。2007 年 10 月中国共产党十七次全国代表大会把科学发展观写入党章。

6. 上述材料是小虎同学学习完“建设有中国特色的社会主义”后，根据教材内容及所了解的相关信息进行的部分总结。材料中有 4 处错误，请你帮他找出。错误处用下划线标出并在相应的位置改正。(原题划线部分不得改动，4 分)

7. 材料中提到的我国设立“经济特区”始于哪一年？继经济特区之后，国家进一步开放沿海港口城市，请举出两个。(3 分)

6. (4 分，标对且改对一处得 1 分，否则不得分。) 错误：十届三中全会，改正：十一届三中全会；错误：社会主义现代化建设，改正：经济建设；错误：自给自足，改正：社会主义；错误：三个代表，改正：邓小平理论。

7. 1980 年 (1 分)；天津、大连、秦皇岛、烟台、青岛、连云港、南通、宁波、温州、福州、广州、湛江、北海 (14 个任选 2 个都可，2 分)

(2010·福建龙岩 2) 27. 阅读下列材料：

2010 年 2 月 12 日，在中华民族传统节日春节到来之际，中共中央总书记胡锦涛来到福建，亲切看望在这里创业发展的台商，并向广大台湾同胞致以新春的祝福。2 月 13 日 (农历大年三十) 胡锦涛冒着细雨专程前往上杭县古田镇，亲切看望了老红军等革命老区干部群众，并代表党中央向他们表示崇高敬意和诚挚慰问。

——摘自新华网



胡锦涛亲切看望老红军

请回答：

(1) 中国共产党曾在上杭县古田镇召开过什么重要会议？(2 分) 请从闽西历史的角度，谈谈胡总书记为什么代表党中央向闽西老区干部群众表示崇高敬意？(2 分)

(2) 为了收复台湾，两岸人民曾共同抗击过哪两个殖民国家？(4 分) 为了和平统一台湾，邓小平创造性地提出了什么伟大构想？(2 分)

(3) 请你为推动海峡两岸关系的进一步发展提出一条合理化建议。(2 分)

27. (1) 古田会议 (红四军党的第九次代表大会)。(2 分) 因为在革命战争年代，闽西人民曾为中国革命付出巨大牺牲和作出重大贡献。(2 分) (2) 荷兰，(2 分) 日本。(2 分) “一国两制”。(2 分) (3) 坚决拥护党和政府的对台政策；积极推动两岸经济文化的合作交流，实现互利共赢；组织与台湾中学生增进友谊的活动等。(言之有理或举出具体

方案均可给 2 分)

(2010·广东佛山) 18. 阅读材料, 结合所学知识回答。

材料一 早稻亩产三万六千九百多斤、花生亩产一万多斤的高产“卫星”, 从湖北麻城县麻溪河乡和福建南安县胜利乡的田野上腾空而起了。这是今年我国农业生产上又一件大喜事。

——1958 年 8 月 13 日《人民日报》社论

材料二 河北抚宁县杜庄炼铁厂二号六点五立方公尺小高炉, ……13 日的产量由过去的三吨多提高到七点五吨; 在这一基础上, 职工们又继续改进了操作方法, 16 日创造了七点九八吨的新记录。

——1958 年 8 月 23 日《人民日报》

材料三 广东高明杨梅镇农民刘时进一家五口, 承包村集体耕地 8 亩、坡地 30 亩, 其中水田 4 亩, 种植水稻两季, 每年可收获稻子约八千斤, 其它种植荔枝、龙眼等果树, 刘伯说“这可是我的宝贝, 我家新建的小洋楼靠的就是它们呢。”近年刘伯一家日子越过越好了。

——摘自佛山某中学李祥同学《1992 年农民生活状况的调查》

问题:

(1) 据材料一、二指出当时中国工农业发展模式是什么? (2 分) 结果如何? (4 分)

(2) 材料一和材料三相比哪一段材料内容更真实可信? (2 分) 为什么? (3 分)

18. (1) 模式: 大跃进。(2 分) 结果: 工农业生产遭到严重破坏; 我国经济发展陷入长期停滞的困境。(4 分) (2) 材料三。(2 分) 实施家庭联产承包责任制; 农民自主经营, 调动了生产的积极性; 提高了人民的生活水平。(3 分)

(2010·广东广州) 20. 阅读以下材料:

材料一 我军进入拉萨时, 不少人见到拉萨街头人与狗抢食吃的场景, 也有人见到逃跑的农奴被抓住后, 激动地说: “解放军是神兵, 是天菩萨派来拯救我们的。”

——摘编自搜狐新闻网

材料二 西藏地区人大代表索朗顿珠说: “我家和西藏百万农奴一起翻身解放, 享有充分的政治经济权利。现在家里新盖了 8 间房子, 饲养了 3 头奶牛、1 头牦牛、13 只绵羊和 4 头猪, 还买了彩电、立柜、藏式柜等家电家什。”

——摘编自中国军网

请回答:

(1) 从材料一看出当时拉萨人民生活状态如何? 这个地区的解放是在何时得以实现的? 在他们心中, 解放军是什么样的形象? (3 分)

(2) 材料二中可以看出今天藏民生活状况又如何? 他们所享有的“政治经济权利”是通过我国政府对少数民族地区实施的哪一基本政治制度得以保障的? (2 分)

(3) 当今一小撮“藏独”分子借奥运之际大搞分裂活动, 对此你有什么想法? (1 分)

20. (1) 生活困苦, 条件恶劣, 地位低下; 1951 年 5 月; “菩萨”或“神兵”的形象 (3 分) (2) 今天拉萨人民已经过上了安居乐业的幸福生活; 民族区域自治制度 (2 分); (3) 西藏是祖国不可分割的一部分, 反对藏独, 维护国家的安定与统一是每个国人的责任和义务 (1 分)。

(2010·广西河池市) 11. 阅读下列材料:

帝国主义列强通过战争, 强迫中国签订不平等条约, 从政治、经济、文化等各方面控制、操纵中国, 阻碍中国社会的发展和进步。主要表现在: 政治上践踏中国主权: 割占土地; 强行租借土地和划分势力范围; 强迫开放通商口岸; 控制海关、司法、航海、外交主权等等。

经济上操纵中国经济命脉: 垄断航运、工矿企业、铁路等行业; 通过银行实施金融控制; 以大量政治性贷款控制中国的经济命脉和各个方面; 利用特权向中国倾销商品和输出资本,

使中国民族资本主义无法与其竞争，阻碍中国资本主义经济的发展。

文化上：通过办医院、学校、报纸和吸引留学生等手段实施文化侵略，灌输殖民主义思想。

此外，帝国主义列强通过战争侵略和掠夺给中国人民带来无法估量的物质损失和精神伤害。

帝国主义列强在侵略中国的过程中，杀人放火，抢劫财物，无恶不作，对中国人民犯下了不可饶恕的罪行。总之，帝国主义的侵略和奴役，是阻碍中国社会发展与进步的首要力量。先是用坚船利炮轰开中国大门，然后从经济、文化上对中国进行侵略，还签订不平等条约。

请回答：

- (1) 列出对中国近代社会性质形成有决定作用的三个不平等条约。(3分)
- (2) 三个不平等条约给中国社会造成的共同影响是什么?(2分)
- (3) 香港被割占后，香港岛哪一年回归?结合条约，你想说什么?(3分)

11. (1) 《南京条约》、《马关条约》、《辛丑条约》(3分); (2) 半殖民地半封建社会的形成(2分); (3) 1997年7月1日，雪洗了三百年的耻辱。(3分)

(2010·湖南衡阳) 27. (14分) 在推进现代化和实现民族复兴的伟大进程中，实行科学协调发展，正确处理各种矛盾，构建和谐社会，是一个重要的政治保证。阅读材料，结合所学知识，回答有关问题：

#### [古代经验教训]

材料一 《汉书·食货志》记载：“至于始皇，遂并天下……收泰半之赋，发闾左之戍(戍：服兵役)，男子力耕不足粮饷，女子纺织不足衣服。”董仲舒也说：秦朝“田租口赋……二十倍于古”。

(1) 秦朝建立了中国历史上第一个大一统王朝，但它统治残暴，因而二世而亡，十分短命。材料一反映了秦朝暴政哪些方面的表现?(4分)

材料二 唐太宗曰：“夫以铜为镜，可以正衣冠；以古为镜，可以见兴替；以人为镜，可以知得失。我常保此三镜，以防己过。”

(2) 唐朝是一个长治久安的朝代并创造了中国古代文明的辉煌，一个重要的原因是，调整政策，理顺关系，协调发展。材料二“以人为镜，可以知得失”反映了唐初贞观政策哪一内容?此外，贞观政策在经济方面有何措施?(4分)

#### [近代民生探索]

材料三 实行“平均地权”，办法是核定地价，照价纳税，涨价归公，不使少数人垄断国家财富。

(3) 在近代民主革命过程中，孙中山提出了三民主义的伟大思想，即民族主义、民权主义、民生主义。材料三反映了孙中山三民主义中哪一主义的具体主张，来力图构建社会和谐?(2分)

#### [当代和谐建设]

材料四 中华人民共和国成立后，特别是进入改革开放时期，在中国共产党的领导下，我国积极探索协调发展，努力构建和谐社会。一是通过发展经济，改善人民生活；二是加强民主法制建设，保障人民权利；三是实行正确的民族政策，维护民族团结。

(4) 列举教材上所讲的新中国颁布的一部重要法律文献。(2分)

(5) 新中国实行民族平等、民族团结、共同繁荣的民族政策，并在制度上予以保障，请写出我国在少数民族聚居地区实行的政治制度。(2分)

27. (14分) (1) 赋税沉重；兵役、徭役繁重。(4分) (2) 知人善任，重视纳谏。提倡节俭，轻徭薄赋。(4分) (3) 民生主义。(2分) (4) 《中华人民共和国宪法》、《中

《中华人民共和国民法通则》、《中华人民共和国刑法》、《中华人民共和国义务教育法》等。

(2分。答其中一部即可) (5) 民族区域自治制度。(2分)

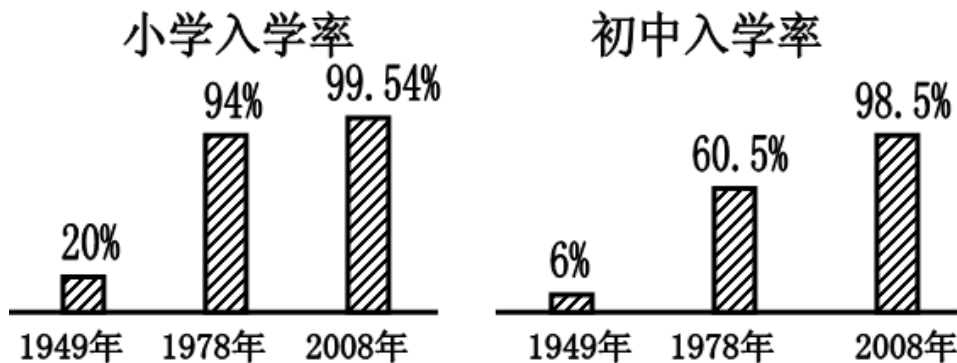
(2010·陕西) 20. (9分) 阅读下列材料, 回答问题。

材料一 洋务运动重要教育实践一览表

时间	内容
1862、1863年	创办北京同文馆、广东方言馆
1866、1867年	创办福州船政学堂、天文算学馆
1872、1873、1875、1887年	派遣留学生学习军事、科技

材料二 1895年, 御史杨深秀上奏: 日本明治维新功在留学生, 请派人赴日学习; 1896年, 清朝驻日公使带赴日本学习的13名使馆学生, 为中国学生留日之始。……到1905年赴日留学生达8600余人。

材料三 我国小学、初中入学率统计图



材料四 “我们国家, 国力的强弱、经济发展后劲的大小, 越来越取决于劳动者的素质, 取决于知识分子的数量和质量。一个十亿人口的大国, 教育搞上去了, 人才资源的巨大优势是任何国家比不了的。”

——《邓小平文选》

请回答:

- (1) 依据材料一, 指出这一时期教育出现的新特点, 其作用如何? (2分)
- (2) 依据材料二, 简要说明这一时期中国青年赴日留学的背景。(2分)
- (3) 从材料三中, 你获得了哪些信息? 结合所学知识, 简要分析1978年后我国基础教育快速发展的原因。(3分)
- (4) 依据材料四, 结合材料一、二、三, 你获得了什么启示? (2分)

20. (1) 新特点: 创办新式教育。(1分) 作用: 培养了一批翻译、军事和科技等实用人才; 客观上冲破了传统的封建教育; 传播西方先进思想; 推动中国近代化进程。(言之有理, 答出一点即得1分) (2) 背景: 甲午战争中国战败, 民族危机加剧。(2分) (3) 信息: 九年义务教育得到普及。(符合题意, 言之有理, 均可得分)(1分) 原因: 改革开放, 经济发展; 人民生活水平提高; 政府和社会高度重视教育; 实施科教兴国战略; 立法保障等。(符合题意, 言之有理, 答出两点即得2分) (4) 启示: 教育是国家强盛、民族振兴的基石。(观点正确, 符合题意, 言之有理, 均可得2分)

(2010·福建莆田) 27. 阅读下列材料并回答问题:

材料一 沿海地区对外开放示意图



材料二 从特区可以引进技术，获得知识，学到管理，管理也是知识。特区成为开放的基地，不仅在经济方面，培养人才方面使我们得到好处，而且会扩大我国的对外影响。听说深圳治安比过去好了，跑到香港去的人开始回来，原因之一是就业多，收入增加了，物质条件也好多了，可见精神文明说到底是从物质文明来的嘛！

——邓小平

请回答：

- (1) 根据材料一，我国最早设置的四个经济特区分布在哪两个省份？（4分）
- (2) 根据材料二，概括我国建设经济特区的主要好处。（4分）
- (3) 经济全球化给我国带来了机遇与挑战。在今后的对外开放中，我们应当如何面对？请你提1个合理化建议。（2分）

27. (1) 福建省，广东省。（4分） (2) 有利于引进外国先进技术；有利于学习外国先进的管理经验；有利于培养各种人才；有利于扩大中国的对外影响；有利于刺激就业，增加收入。（4分。答出其中2点即可，其他言之有理也可） (3) 以经济建设为中心，积极开展社会主义现代化建设；实施“科教兴国”战略，提升国际竞争能力；积极参与各种国际组织，开展国际间的交流与合作。（2分。答出其中2点即可，其他言之有理也可）

(2010·广东湛江) 51. (10分)民主与法制的建设是国家政治生活的重要内容。请阅读材料，回答问题。

材料一 中华人民共和国的一切权力属于人民。人民行使权力的机关是全国人民代表大会和地方各级人民代表大会。

材料二 “民法是国家的基本法律，民法规范平等主体之间财产关系和人身关系，它将是社会生活的基本准则。”——出自中国社会科学院法学所民法室主任孙宪中教授语

材料三 对任何人犯罪，在适用法律上一律平等。不允许任何人有超越法律的特权。刑罚的轻重，应当与犯罪分子所犯罪行和承担的刑事责任相适应。

请回答：

- (1) 材料一出自1954年颁布的哪部文件？(1分)它是在什么会议上制定的？(1分)
- (2) 哪个时期我国的民主法制建设成果突出，逐步走上了依法治国的道路？(1分)材料二

所说的是 1986 年颁布的哪部法律文件？(1 分)材料三是指 1997 年修改后的哪部法律文件？(1 分)

(3) 我国在建国初期保障农民翻身成为土地主人的法律文件是什么？(1 分)保障少数民族真正实现当家作主的基本政治制度是什么？(1 分)1986 年以来，保障我们中小学生学习享受免费受教育机会的法律依据是什么？(1 分)

(4) 结合所学知识，谈谈你对加强民主与法制建设的认识。(2 分)

51. (1) 《中华人民共和国宪法》(1 分)；第一届全国人民代表大会通过的。(1 分)(2) 改革开放时期或社会主义现代化建设新时期；(1 分)《中华人民共和国刑法》。(1 分)(3) 《中华人民共和国土地改革法》(1 分)；民族区域自治制度(1 分)；《中华人民共和国义务教育法》(1 分)(4) 民主与法制建设是社会进步、经济发展以及人民群众当家作主、进行社会主义现代化建设的重要保障的重要保证。(本题为开放性题目，言之有理即可得 2 分)

(2010·湖北荆门) 27. (8 分) 阅读下列材料，回答问题。

材料一 1912~1919 年，中国的地主、官僚、商人和资本家兴办厂矿四百七十余家，新厂矿的投资加上扩建增资共计一亿三四千万元，超过 1912 年以前 50 年民族资本一亿三千万元的总和。

材料二 1919 年全国工厂注册情况 (单位：家)

江苏 (含上海) 155	浙江 42	广东 33	山西 3	山东 31	福建 3
直隶 (含京津) 455	广西 1	奉天 19	湖北 19	甘肃 1	其他各省 3

——陈真《中国近代工业史资料》

请回答：

(1) 根据材料一并结合所学知识分析中国民族工业在 20 世纪初期得以迅速发展的原因。(2 分)

(2) 根据材料二并结合所学知识分析近代中国民族工业发展的特点。(4 分)

(3) 建国初期我国是怎样完成对民族资本主义工商业社会主义改造的？(2 分)

27. (8 分) (1) 原因：a. 辛亥革命冲击了封建制度，减少了民族工业发展的障碍。(1 分)。b. 一战期间帝国主义国家忙于战争，暂时放松了对中国经济的侵略。(1 分)。

(2) 特点：a. 行业上主要集中在轻工业部门。(2 分)。b. 区域上主要分布在沿海沿江地区。(2 分)。(3) 建国初期，国家实行赎买政策，逐步发展企业的公私合营，把生产资料私有制转变为社会主义公有制。(2 分)

(2010·湖北荆门) 28. (7 分) 从农村走向城市是中国共产党领导革命和改革的共同特点。阅读下列材料，回答问题。

材料一 井冈山位于罗霄山脉中段，山势高大，主要山峰都在千米以上，自然资源十分丰富，拥有各种植物 3800 多种……(井冈山) 反动力量薄弱，这里还有较好的群众基础和党的组织基础，并且留有一定数量的农民自卫军。

——《中国近代史》

材料二 1978 年，安徽省凤阳县小岗村的 18 户农民私下立了一份将田地包干到户的生产契约。他们艰苦地干了一年，粮食获得大丰收。

——《中国历史》八年级 (下)

请回答：

(1) 根据材料一，分析毛泽东选择井冈山创建农村革命根据地的原因。(4 分)

(2) 材料二中小岗村的做法对于中国农村改革有何影响？(2分)

(3) 从以上两件事情中你得到了什么启示？(1分)

28. (7分) (1) 原因：a. 地势险要(1分)。b. 资源丰富(1分)。c. 反动力量薄弱(1分)。d. 革命基础好(1分)。(2) 影响：小岗村的做法得到中央的肯定，农村逐步实现以家庭联产承包为主的责任制，农业生产得到大发展。(2分)。(3) 启示：要勇于探索，勇于创新；要从实际出发，实事求是(任答一点即可给1分)。

(2010·湖北宜昌) 23. (15分) 阅读史料，启迪智慧。

世界上的多民族国家在处理民族问题方面有不同的制度模式，中国采用的是A。A是在国家统一领导下，各少数民族聚居的地方设立自治机关，行使自治权，实行区域自治。

由于成功地实行A，中国少数民族依法自主地管理本民族事务，民主地参与国家和社会事务的管理，保证了中国各民族不论大小都享有平等的经济、政治、社会和文化权利，共同维护国家统一和民族团结，反对分裂国家和破坏民族团结的行为，形成了各民族相互支持、相互帮助、共同团结奋斗、共同繁荣发展的和谐民族关系。

——摘自《中国的民主政治建设》(白皮书2005年)

(1) 材料中的“A”处指的是我国对少数民族实施的一项基本政治制度，请写出它的名称。在宜昌市范围内，举出一个实行少数民族自治的例子。(4分)

(2) 20世纪80年代，国家开始加大对少数民族地区的经济投入，到90年代，全国80%以上的少数民族地区解决了温饱问题。你认为这一成就的取得与中国共产党召开的哪次转折性会议有直接联系？如今我国不断在西藏、新疆等地巨额投资，得益于本世纪初我国对少数民族地区实施的哪一项战略政策？(6分)

(3) 和谐的民族关系需要我们共同来维护，请你为营造更加和谐的民族关系提出合理化建议。(不少于两条)(5分)

23. (1) 民族区域自治。(2分) 长阳土家族自治县或五峰土家族自治县。(2分) (2) 十一届三中全会。(3分) 西部大开发。(3分) (3) 国家加大对少数民族地区的投资、国家派干部和大学毕业生支援少数民族建设、关心少数民族的生活，提高少数民族的生活水平等等。评分说明：只要符合题意，写出2条或以上的建议的，表述准确即可得满分。满分5分。

(2010·江苏盐城) 31. 阅读下列有关新疆的材料，然后回答问题。

材料一：……清军追至伊西洱库尔淖尔，将叛军围在山岭上，一面施放火器，一面大呼招降。叛军“降者蔽山而下，声如奔雷，小和卓手刃之不能止也”。

——摘自人教版历史教学参考书七年级下册

材料二：“大将筹边尚未还，湖湘子弟满天山。新栽杨柳三千里，引得春风度玉关。”

——摘自人教版历史教科书八年级上册

材料三：2010年5月17日至19日，中央新疆工作座谈会在北京举行。会议充分肯定了新疆成立自治区以来所取得的巨大成就，认真总结了实行改革开放和实施西部大开发战略的成功经验；并对下一阶段新疆的发展作出战略部署，其中包括批准在新疆西南的地市喀什打造经济特区。明确要求进一步加强对新疆地区的援助与扶持，拥有特区发展经验、对口援疆的南方城市……将支援喀什展开有关建设。

——摘编自人民网2010年5月23日文

请回答：

(1) 材料一讲述的是什么历史事件？(1分)

(2) 材料二中诗句颂扬了哪一位历史人物收复和治理新疆的伟人业绩？(1分) 为加强西北边疆的管理和防务，根据他的建议，清政府在新疆设置了什么机构？(1分)

(3) 材料三中“拥有特区发展经验”的城市是我国对外开放的“窗口”，它是哪个城市？(1

分)依据材料三分析新中国成立以来,新疆地区得到发展的主要原因。(至少两点,2分)

31. (1) 平定大小和卓的叛乱(1分);(2) 左宗棠(1分);新疆行省(1分);(3) 深圳(1分);实施了民族区域自治政策;建立了社会主义制度;新疆各族人民的努力;全国各族人民的支持(任意两点即可,2分,其他答案言之有理亦可给分)。

(2010·宁夏)7. 材料题

材料一 我国农村长期实行的是集中管理,集中劳动,统一分配……。在所有制上表现为“一大二公”;在经营方式上是“单打一”、“瞎指挥”;在分配方式上是“大锅饭”。

——刘宗绪《历史学科专题讲座》

材料二 大包干,大包干,直来直去不拐弯。保证国家的,留足集体的,剩下都是自己的。

——农民歌谣

请回答:

(1) 材料一反映的是二十世纪五十年代后期我国农村开始实行的\_\_\_\_\_制度。(2分)

(2) 材料二反映的是十一届三中全会以来在我国农村实行的\_\_\_\_\_。(2分)

(3) 联系所学知识,概括说明材料一和材料二内容对我国农村产生的不同影响(4分)

7. (1) 人民公社(2分);(2) 家庭联产承包责任制(2分);(3) 挫伤了农民生产的积极性;给农业生产造成了严重破坏(2分);极大地调动了农民的积极性;推动了农业生产的发展,乡镇企业发展迅速(2分)

(2010·四川达州)46. 阅读下列材料,结合教材回答问题。

材料一 1951年关于西藏问题的签字仪式在北京举行(图略)

——摘自川教版《中国历史》八年级下册

材料二 “我相信我的政府不能永远忍受一半奴役一半自由的状况。”

——摘自林肯在1858年6月的演讲《裂开的房子》

材料三 “乡愁是一湾浅浅的海峡,我在这头,大陆在那头。”

——摘自台湾著名作家余光中的《乡愁》

请回答:

(1) 依据材料一回答:为解决西藏问题,中央人民政府主要采取的方式是什么?为加快西藏的发展,党和政府组织修建了一条“神奇的天路”,这条“天路”是指什么?(2分)

(2) 依据材料二回答:林肯政府为结束“一半奴役一半自由的状况”最终采取的方式是什么?在此过程中,哪一决策的出台激发了黑奴的革命情绪,扭转了战局?(2分)

(3) 依据材料三回答:目前我国解决“乡愁”问题的基本国策是什么?(1分)

(4) 上述三段材料涉及的共同问题是什么?(1分)

46. (1) 和平方式(或和平谈判方式)(1分);青藏铁路(1分);(2) 战争方式(或武力统一的方式)(1分);《解放黑奴宣言》(1分);(3) 一国两制(1分);(4) 国家统一的问题(1分)。

(2010·内蒙古包头)16. 近代以来,为实现中华民族独立与富强,先进的中国人站在时代前列,在屈辱与抗争中奋起,在艰难与探索中前进。阅读材料回答问题(13分)

材料一 孙中山是20世纪中国走在时代前列的第一个伟人,他一次又一次革命的努力,最终推动了武昌起义的爆发。他的革命思想和实践,对近现代中国产生了深远的影响。

(1) 20世纪初中国第一次历史性巨变是指哪一个历史事件?(1分)此次事件的伟大功绩有哪些?(3分)

材料二 毛泽东是20世纪中国走在时代前列的第一个伟人,从南昌起义到井冈山会师,以毛泽东为代表的共产党人找到了一条符合中国国情的革命道路。

(2) 请说出井冈山革命根据地创立和发展的重大革命意义。(2分)

材料三 在社会主义革命和建设时期，我们确立了社会主义制度。在一穷二白的基础上建立了比较完整的工业体系，使古老的中国以崭新的姿态屹立在世界东方。

(3) 我国何时确立社会主义制度？(1分) 其标志是什么？(1分)

材料四 30年的历史经验归结到一点，就是把马克思主义基本原理同中国具体实际相结合，走自己的路，建设有中国特色的社会主义。

(4) 开启我国改革开放历程的是哪次会议？(1分) 请你用两项具体史实证明中国共产党建设有中国特色社会主义的成功实践。(4分)

16. (1) 历史事件：辛亥革命；伟大功绩：推翻了清王朝的统治；结束了两千多年的封建帝制；颁布了具有资产阶级共和国宪法性质的《临时约法》；民主共和观念深入人心。(4个要点每点1分，任意3点即可，总分不得超过3分) (2) 意义：是中国共产党探索农村包围城市，武装夺取政权这一正确道路的开始(2分)；(3) 1956年(1分)；标志是：三大改造的完成(1分)；(4) 十一届三中全会(1分)；成功实践：家庭联产承包责任制，解放了农村生产力。一国两制，香港、澳门的回归。建立经济特区，便于引进外来技术，促进我国经济建设。国有企业改革，提高企业活力。颁布一系列法律文件，加强民主法治，为现代化建设提供法律保障。(每点2分，任意2点即可，要求：史论结合)

(2010·福建宁德) 26. 阅读下列材料，回答问题。(10分)

材料一



图一 图二 北京玉渊潭人民公社的公共食堂

材料二 歌谣：“大包干，大包干，直来直去不拐弯。保证国家的，留足集体的，剩下都是自己的。”

——北师大版《历史》

请回答：

- (1) 材料一反映我国哪一时期的历史现象？(2分) 导致怎样的后果？(2分)
- (2) 据材料二，指出歌谣赞扬了我国农村实行的哪一制度？(2分)
- (3) 通过对上述问题的探究，请你概括影响农业发展的主要因素。(写出两项即可)(4分)

26. (10分) (1) 大跃进和人民公社化运动(或社会主义道路的探索时期；或20世纪五六十年代)。(2分) 高指标、瞎指挥、浮夸风、“共产风”等错误泛滥(或“左”的错误在全国各地严重泛滥)；工农业生产遭到严重破坏，国家和人民遇到建国后未曾有过的经济困难。(2分) (2) 家庭联产承包责任制。(2分) (如果回答：分田包产到户或包产到户，可给1分) (3) 国家政策的导向(大跃进、人民公社化运动的政策和改革开放的政策)；农民积极性；农村经济体制改革；耕地面积等，(回答出两点即可得4分)

(2010·福建漳州) 29. 中国东南沿海一直是中外交流的窗口，孕育了中国的海洋文明。根据下面材料回答问题。(10分)

材料一 2007年5月，在闽粤交界海城发现“南澳1号”明代古船遗址，至2010年5月，考古人员已从遗址中打捞出大量的文物。经过考古专家鉴定，其中的瓷器主要来自漳州平和窑和江西景德镇窑。

——《中国网》

材料二 严复（福建侯官人）以西学理论鼓吹变法，震动了当时中国的思想界，推进了维新运动的发展，他是中国近代的启蒙思想家。

——《北师大八年级（上）》

材料三 “特区是个窗口，是技术的窗口，管理的窗口，知识的窗口，也是对外政策的窗口”  
——邓小平

请回答：

(1) 材料一中来自漳州平和窑的“漳瓷”又被称为什么？(2分)

(2) 材料二中严复的主要译著是什么？(2分) 书中介绍的进化思想是由哪位西方思想家创立的？(2分)

(3) 材料三说“特区是个窗口”，那么，位于福建的“窗口”是哪座城市？(1分)

(4) 综合以上三则材料，我们可以从哪几方面发挥东南沿海优势？(3分)

29. (1) 漳瓷又被称为月港瓷、石码瓷、江东瓷等，西方人称之为“克拉克瓷”。(任一个即可得2分) (2) 《天演论》(2分)；达尔文(2分)；(3) 厦门(1分)；(4) 东南沿海地区海、陆交通发达，为发展经济提供了方便；东南沿海有经济特区，可以积极引进国外的资金和先进的技术，更好地发展经济；这里离台港澳较近，可以与这些地区进行经济文化的交流，发展旅游业，促进经济的发展。(3分)

(2010·贵州铜仁) 27. 阅读材料，结合教材内容探究并回答问题：(12分)

材料一 1956年元旦，北京市各行各业工商业者中申请实行全行业公私合营，得到北京市人民政府批准。1月15日，20万人敲锣打鼓上街游行，庆祝实现全行业公私合营。紧接着，天津、上海也先后实现了全行业公私合营。1月底，全国所有大城市和50多个中等城市的资本主义工商业者都实行了全行业公私合营。

——八年级历史上册

材料二



“大跃进”中的大炼钢铁运动，为生产1070万吨钢，干部群众夜以继日奋战在荒野，白天一片人，黑夜一片火



请回答：

- (1) 材料一反映的是三大改造的哪一领域的社会主义改造？采取了怎样的改造方式？
- (2) 材料一中反映的社会主义改造进行得如何？如何评价？（4分）
- (3) 材料二中图片反映的情况出现于什么时期？它反映出当时的什么现象？（2分）
- (4) 当时为什么会出现材料二中图片反映的这种现象？它导致了什么样的严重后果？（4分）

27. (1) 资本主义工商业（1分）；全行业公私合营（1分）；(2) 1956年元旦北京工商业者提出申请，1月15日北京各行业就实现了公私合营，1月底全国所有大城市和50多个中等城市完成了公私合营。（2分）由此可见，这一工作进行得过粗、过快、过急。（2分）(3) 大跃进时期（1分）；瞎指挥、浮夸风、高指标（1分）；(4) 由于党中央对建设社会主义缺乏经验和对国情认识不清，又急于求成，忽视了客观经济规律，轻率地发动了“大跃进”运动。（2分）导致了左倾错误严重泛滥，国民经济发生严重困难，国家和人民遭到重大损失。（2分）

(2010·江苏常州) 32. 阅读下列材料：（6分）

材料一 1950年，中央人民政府颁布《中华人民共和国土地改革法》，规定：“废除地主阶级封建剥削的土地所有制，实行农民的土地所有制。”

材料二 家庭联产承包责任制（采取）包产到户的形式，把土地包给社员，以家庭为单位分散经营。家庭联产承包责任制不同于中国过去农村的任何一种土地制度，它是以土地等基本生产资料的公有为前提的。

——《历史教学研究与资源》

请回答：

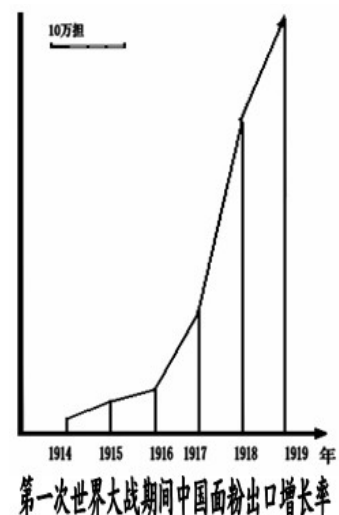
- (1) 据上述材料，指出土地改革和家庭联产承包责任制中所实行的土地所有制有何不同？（2分）
- (2) 土地改革何时基本完成？家庭联产承包责任制是在中共中央哪次重要会议之后开始实施的？（2分）
- (3) 结合所学知识，说明土地改革和家庭联产承包责任制所产生的共同作用。（2分）

32. (1) 土地改革实行的是农民土地所有制；家庭联产承包责任制实行的是土地公有制。（2分）(2) 1952年土地改革基本完成；党的十一届三中全会。（2分）(3) 调动了农民的生产积极性；促进了农业生产的发展。（2分）

(2010·内蒙古赤峰) 23. 阅读材料，回答问题（10分）。

材料一 如右图。

材料二 毛泽东说：“现在我们能造什么？能造桌子椅子，茶壶茶碗……但是，一辆汽车、一架飞机、一辆坦克都不能造。”



请回答：

- (1) 根据材料一和所学知识说明中国面粉出口为什么增长了？(4分)
- (2) 为了改变材料二的状况，我国政府制定了什么计划？此计划完成后取得了哪些成就？(举出三例即可) (4分)
- (3) 建国后，材料一中所反映的从事面粉行业的民族资本主义工商业是怎样转化成社会主义公有制成分的？(2分)

23. (1) ①辛亥革命后，各种实业团体纷纷出现 (2分)。②第一次世界大战期间，帝国主义忙于战争，暂时放松了对中国经济的掠夺 (2分)。(2) 第一个五年计划 (1分)。例如：长春第一汽车制造厂，鞍山大型轧钢厂，沈阳第一机床厂，武汉长江大桥，鹰厦铁路等。(以上答案举出任意三项即可给分，每项1分。如答出其它属于“一五”期间成就的也可给分)。(3) 通过赎买政策，进行公私合营 (2分)。

(2010·山东菏泽) 16. 中华文化博大精深，异彩纷呈。阅读下列材料并结合所学知识，回答问题。(10分)

材料一 孔子因报改革天下之宏愿，故政治活动之外更注意于教育，开中国史上民间自由讲学之第一声……孔子是开始传播贵族学到民间来的第一个。

——钱穆《国史大纲》

(1) 从材料一中看，作为教育家的孔子最大贡献是什么？他的这一贡献产生了怎样深远的影响？(3分)

材料二 作为中华民族文化的象征，从汉代以来，孔子一直被放在一个神坛上作为“圣人”的代表。

——何燕江《孔子》

- (2) 在汉武帝时期，孔子是如何“被放在神坛上”的？(2分)
- (3) 阅读中国科学技术成就表，将表中空余部分补充完整 (5分)

项 目	成 就
古代中国桥梁建设成就	_____是世界现存最古老的石拱桥
近代中国铁路建设成就	_____是中国人自行设计建造的第一条铁路
近代中国西学东渐思想成就	严复的译著《_____》为戊戌变法提供思想武器
新中国农业科技成就	_____培育出高产的“籼型杂交水稻”
新中国国防科技成就	1964年_____爆炸成功

16. (1) ①贡献：孔子兴办私学，广收门徒，开创了中国的平民教育。(1分) ②影响：孔子开创了私学，打破了“学在官府”的垄断局面。使得教育在民间推行，有更多的人能够受到教育，从而扩大了学校教育的社会基础和人才的来源。(2分) (2) 汉武帝接受儒生董仲舒的建议，“罢黜百家，独尊儒术”，大力推行儒学教育，以儒家思想作为封建社会的正统思想。(3) 赵州桥、(1分) 京张铁路、(1分) 《天演论》、(1分) 袁隆平、(1分) 第一颗原子弹。(1分)

(2010·山东菏泽) 18. 2010年1月31日中央一号文件由新华社受权发布，文件再次聚焦三农，推出了一系列强农惠农新政策。“三农”问题关系农民的切身利益。识读下列图文资料，结合所学知识回答问题：(10分)

材料一 废除地主阶级封建剥削的土地所有制，实行农民的土地所有制……为新中国的工业化开辟道路。

(1) 材料一出自建国初期的哪一部法律文件？废除封建土地所有制有何意义？（3分）  
材料二 下图为人民群众高举“人民公社好”标语牌。



1958年、1959年、1960年、我国粮食总产量分别为2亿吨、1.7亿吨、1.435亿吨。

(2) 在1958年短短两三个月的时间里，全国农村就实现了人民公社化。材料中数据说明了什么突出的问题？请结合所学知识分析产生这一结果的原因。（2分）

材料三

安徽凤阳小岗村	粮食产量	人均口粮	人均分配收入
1976年	35000斤	230斤	32元
1979年	132300斤	800斤	200多元



小岗村农民喜获丰收

(3) 是什么政策给安徽凤阳小岗村的农民带来了实惠？这项政策的主要内容是什么？（3分）

(4) 结合所学知识及身边的变化，就政府应如何制定农业政策谈谈你的感想。（2分）

18. (1) 《中华人民共和国土地改革法》；（1分）意义：土地改革的完成，彻底摧毁了我国存在两千多年的封建土地制度，消灭了地主阶级；农民成为土地的主人。（1分）

(2) 人民公社化运动使农业生产遭到了破坏，造成三年粮食产量下降。（1分）原因是：党和人民对如何建设社会主义缺少经验，又急于求成，忽视了客观经济规律。（1分）

(3) 政策：家庭联产承包责任制；（1分）主要内容：在公有制的基础上，分田包产到户，自负盈亏。（2分）(4) 制定经济政策一定要从实际出发，实事求是，要按客观规律办事。生产关系一定要适应生产力发展的需要。（2分）

(2010·广东梅州) 16. (4分) 中国近现代史是遭受列强欺凌的屈辱史，也是中华民族不屈不挠的抗争史和走向民族复兴的奋斗史。阅读下列叙述中华民族复兴过程的材料：

材料一 辛亥革命是中国人民在民族复兴之路上迈出的一个重要台阶，这场革命使中国社会发生了历史性巨变。

材料二 中共十一届三中全会是一个伟大转折和新的革命起点。它意味着中华民族在经历种种探索与曲折之后开始找到一条适合中国国情的发展道路。

请回答下列问题：

- (1) 辛亥革命的指导思想是什么？材料一中所说的“历史性巨变”是什么？(2分)
- (2) 中共十一届三中全会召开于哪一年？材料二中所说“一条适合中国国情的发展道路”又被称作什么？(2分)

16. (1) 三民主义 (或民族、民权、民生) (1分)；结束了中国二千多年的封建君主制度 (或结束了封建帝制、结束了君主专制统治等) (1分)；(2) 1978年 (1分)；建设有中国特色社会主义 (1分)。

(2010·贵州毕节) 28. 阅读下列材料：

材料一 当代中国政府抢抓机遇，积极参与国际科技竞争。北京奥运成功举办，是综合国力不断提高的结果，也是科技进步，中华文明对世界各国产生吸引力的结果。

材料二 随着经济全球化的发展，各国之间的各种联系日益紧密，人们关心的共同问题也越来越多。如合理利用能源和资源等问题，已经被提到议事日程。

材料三 2005年10月17日凌晨，“神舟”六号返回舱顺利着陆，宣告我国首次真正意义上有人参与的空间科学实验取得圆满成功。

请回答：

- (1) 1986年中国在科技发展方面，制定了一个什么计划？(1分)
- (2) 中国在第三次科技革命中，有哪些方面处于世界前列？(2分)
- (3) 中国古代有哪些发明由阿拉伯人传到西方，促进了地区经济文化的交流？(2分)
- (4) 中国在经济、科技竞争中就注重些什么问题？(2分)

28. (1) 863计划 (1分)；(2) 航天技术、新能源技术、生物工程、信息技术等 (任意两个即可，2分)；(3) 造纸术、印刷术、指南针、火药等 (2分)；(4) 要注意环境保护，要能做到可持续发展。(言之有理即可，2分)

(2010·湖南娄底) 31. 2010年3月，全国对口支援新疆工作会议在北京召开。会议强调：“进一步加强对口援疆工作，是新形势下中央新疆工作总体部署的重要组成部分是加强新疆发展、维护新疆稳定的重要举措。……把作为我国反分裂、反渗透、反恐怖主战场的新疆经济社会发展搞上去，需要进一步动员组织全国力量，支援新疆、发展新疆。”

结合所学知识，回答相关问题：

#### 【民族交往】

(1) 汉朝时，汉武帝派张骞两次出使西域，建立了西汉与西域各国的友好关系，促进了西域的开发，开辟了一条从长安出发，经河西走廊、今新疆地区，到达中亚、西亚和南亚，通往欧洲的商道，该商道史称什么？(2分) 它的开辟有何意义？(2分)

#### 【主要管辖】

- (2) 新疆自古以来就是中国领土不可分割的一部分。清朝时期率军收复新疆的英雄是谁？(2分) 请举一例我国古代政府加强对新疆管理，维护祖国统一的史实。(2分)
- (3) 新中国成立后，为体现少数民族人民当家作主，中央在新疆实行怎样的政治制度？(2分)

#### 【新疆发展】

材料一 改革开放以来，新疆经济综合能力大大增强：2004年新疆生产总值达到2200亿元，农业生产总值750亿元，比1955年增长17倍；各族人民生活水平显著提高：2004年城镇人均可支配收入元，农民人均收245元，全区人口平均寿命67.41岁。

——摘自新华网

材料二 2009年7月5日，新疆乌鲁木齐市发生了打砸抢烧严重犯罪事件，这是一直典型

的境外指挥，境内行动，有预谋、有组织的不断改进性犯罪事件。

——摘自人民网

(4) 结合以上材料，谈谈你对促进新疆进一步发展的建议。(2分)

31. (1) 丝绸之路。促进了中西经济文化交流。(2) 左宗棠。清朝设置伊犁将军或清朝在新疆建立行省。(3) 民族区域自治。(4) 保持新疆的和平与稳定；搞好民族团结，团结才能进步；反对民族分裂；大力发展经济。

## 探究题 (问答题)

(2010·山东聊城) 43. 遵义会议、十一届三中全会是党的历史上的重要转折点。请回答：

(1) 简述遵义会议为挽救党和红军作出的重大决策。(4分)

(2) 十一届三中全会是建国以来党的历史上的伟大转折。按要求填写下表。(4分)

	转折的表现
思想路线	
工作重心	
领导核心	

(3) 两次会议后中国革命和建设呈现出新的局面，试分别概述新局面的表现。(2分)

43. (1) 决策：全力解决博古等人军事上和组织上的错误；取消了博古在军事上的指挥权；肯定了毛泽东的正确主张；确立了以毛泽东为核心的党中央的正确领导；会后确定毛泽东、周恩来等指挥军事。(4分。每点1分，答出其中4点即得满分。)

(2)

	转折的表现
思想路线	彻底否定“两个凡是”的方针；重新确立解放思想、实事求是的思想路线。(1分，答出其中1点即可。)
工作重心	停止使用“以阶级斗争为纲”的口号；把党和国家工作重心转移到经济建设上来；实行改革开放。(2分。每点1分，答出其中两点即得满分。)
领导核心	形成以邓小平为核心的党中央领导集体。(1分)

(3) 遵义会议后：红军打乱敌人追剿计划，跳出敌人包围；胜利完成长征。(1分，答出其中1点即可。)十一届三中全会后：改革开放；开创了建设中国特色社会主义道路；现代化建设取得巨大成就。(1分，答出其中1点即可。)

(2010·浙江东阳) 24. (10分) 自古以来，中国人民就一直在寻梦、追梦。

(1) 新中国成立后，通过什么措施实现了千百年来“耕者有其田”的梦想？20世纪70年代末，为激发农民的生产积极性，又进行了什么改革？(4分)

(2) 解决温饱，实现小康，一直是中国人民的美好向往。据“相关链接”概括我国小康梦的实现情况。(2分)

【相关链接】我国居民恩格尔系数变化情况

年份	城镇居民	农村居民	备注：
1998	44.5%	54.3%	恩格尔系数是指食品支出在家庭总支出中所占的比例，一般认为，高于60%属绝对贫困，在60%-50%之间是温饱，在50%—40%之间是小康，在
2000	39.5%	49.9%	
2001	38.2%	47.7%	
2004	37.7%	47.2%	

2008	36.3%	43.1%	40%—20%之间是富裕。
------	-------	-------	---------------

(3) 2010年十一届全国人大常委通过了《选举法修正案(草案)》要求按城乡相同人口比例选举代表,倍受争议的农民1/4选举权将成为历史。我们该怎样行使好法律赋予我们的民主权利?(2分)

(4) 梦无止境,有梦想就会有追求。现阶段中华民族的共同理想是什么。(2分)

24. (1) 土地改革;实行家庭联产承包责任制。(4分) (2) 我国现在已达到的小康是低水平、不全面、发展很不平衡的小康。(2分) (3) 在法律允许的范围内正确行使;增强自己的参政议政意识和能力。(2分) (4) 把我国建设成为富强、民主、文明、和谐的社会主义现代化国家。(2分)

(2010·重庆綦江) 21. 在古代,我国中央政府十分重视对西藏的管理,新中国成立以后党和国家也为西藏地区的发展作不懈努力,并取得了辉煌的成果。请回答:

(1) 列举清朝政府加强管理西藏地区的史实两例。(2分)


(2) 1951年西藏是通过什么方式实现了解放?西藏的解放有何历史意义?(3分)

(3) 建国后我国政府在西藏实行怎样的民族管理制度?(1分)

21. (1) A. 顺治帝和康熙帝先后册封喇嘛教首领五世达赖和五世班禅; B. 雍正时,设置驻藏大臣,代表中央与达赖和班禅共同管理西藏; C. 通过“金奔巴瓶”制度确定达赖、班禅继承人时,由驻藏大臣督办。(2分) (任举两点即可) (2) 和平解放(1分); A. 使祖国大陆实现了统一; B. 使西藏人民摆脱了帝国主义的侵略和奴役,为西藏的民主改革创造了条件,给西藏的发展带来了光明的前途。(2分) (3) 民族区域自治制度(1分)

(2010·浙江丽水) 21. (8分) 20世纪以来,中国人民在前进道路上经历了三次历史性巨变,展现了中华民族呕心沥血的奋斗历程,结合所学知识,完成下列表格。

人物图像



人物姓名  
(2分)

①

②

邓小平

历史功绩  
(4分)

③

领导人民建立中华人民共和国,确立社会主义制度

④

共同追求  
(2分)

⑤

21. (8分) ①孙中山; ②毛泽东; ③领导辛亥革命推翻了统治中国两千多年的君主专制制度,使民主共和思想深入人心。④实行改革开放,中国的发展进入现代化建设新时期。(若答“开辟建设中国特色社会主义道路”也可) ⑤争取民族独立和人民自由幸福(国家富强),实现中华民族的伟大复兴。(言之有理即可)

(2010·四川内江) 10. 新中国成立后60余年的历史,是中国共产党领导各族人民进行社会主义现代化建设、共创和谐社会的历史。根据所学知识回答:

(1) 20世纪50年代,我国在向社会主义过渡时期,在法制与社会制度建设方面各有哪些成就?(4分)

(2) 20 世纪 70 年代，我国取得了辉煌的外交成就，请写出两项。(4 分)

(3) 20 世纪 90 年代，随着两极格局的瓦解，我国奉行独立的、不结盟的、全方位的和平外交政策。在和平共处五项原则的基础上，我国同世界绝大多数国家建立了外交关系。到 2002 年为止，与我国建交的国家已有 163 个，有 220 多个国家和地区同我国进行了经济文化交流，

根据以上叙述，你认为以下哪一项结论最能反映我国这一时期的外交形象？( ) (2 分)

- A. 我国在解决国际事务中发挥的作用越来越大 B. 朋友遍天下  
C. 我国的国际影响力与日俱增 D. 综合国力进一步增强

10. (1) 通过了《中华人民共和国宪法》(或 1954 年宪法) (2 分)；三大改造完成，社会主义制度初步建立；或进入社会主义初级阶段。(任答 1 点均得 2 分)；(2) 恢复中国在联合国合法席位；中美建交；中日建交。(每项 2 分，任写两项都得 4 分) (3) B (2 分)。

(2010·山东威海) 34. 1921 年 7 月，中国共产党第一次全国代表大会在上海召开，一个新生的力量出现在了政治的舞台上。中国共产党的成立从根本上改变了二十世纪中国的命运。

(1) 中共一大确定的党的中心任务是\_\_\_\_\_。\_\_\_\_\_起义打响了武装反抗国民党反动统治的第一枪。中国共产党建立的第一个农村革命根据地是\_\_\_\_\_。(2 分)

(2) 在红军长征途中召开的\_\_\_\_\_会议，挽救了党、挽救了红军、挽救了革命。红军长征胜利的伟大历史意义是什么？(3 分)

(3) 西安事变发生后，中国共产党是怎样促成西安事变和平解决的？(1 分)

(4) 二十世纪五十年代，中国率先提出的处理国与国之间关系的基本准则是什么？列举二十世纪七十年代新中国在外交方面取得的两例重要成就。(3 分)

34. (1) 领导工人运动(1 分)；南昌起义、井冈山革命根据地(各 0.5 分) (2) 遵义(1 分)粉碎了国民党反动派消灭红军的企图，保存了党和红军的基干力量，使中国革命转危为安。(2 分) (3) 中国共产党从全民族的利益出发，主张和平解决，党中央派周恩来等到西安调停，与各方面进行协商。(1 分) (4) 和平共处五项原则。(1 分)中国在联合国的合法席位得到恢复，中美建立了正式外交关系、中日建立了正式外交关系。(答对其中两点就可得 2 分)

(2010·福建龙岩) 29. 中国革命、建设和改革的卓越成就，是全国各族人民共同奋斗的结果，是近代以来中国一切仁人志士前赴后继不懈努力的结果，也是一代代中国共产党人无私奉献的结果。

根据所学知识，回答下列问题。

(1) “十月革命一声炮响，给我们送来了马克思列宁主义”，与毛泽东这句话有关我国近代化探索事件是什么？(2 分)

(2) 中国共产党成立后，中国革命面貌从此焕然一新。请完成下表横向对应的内容。(6 分)

道路	时期	主要成就
国共合作之路	第一次国内革命战争	A
B	第二次国内革命战争	形成星火燎原之势
抗日民族统一战线	C	扭转了百年来反抗外来侵略屡败局面
人民民主统一战线	解放战争时期	建立新中国

A、\_\_\_\_\_ B、\_\_\_\_\_ C、\_\_\_\_\_

(3) 新中国成立后，广大农村农业生产取得卓越成就。一些农民说吃饭靠“两平”，这“两平”分别指谁？(2 分)

29. (1) 新文化运动；(2分) (2) A、北伐胜利进军；(2分) B、农村包围城市之路；(2分) C、抗战时期。(2分) (3) 邓小平；(1分) 袁隆平。(1分)

(2010·湖南岳阳) 34. 为了实现中华民族的伟大复兴，中国人民经历了艰苦的探索。结合所学知识，回答下列问题：

(1) 辛亥革命为中华民族的伟大复兴迈出了重要一步，实现了中国 20 世纪第一次历史巨变。你认为这里所说的“历史巨变”主要指什么？(2分)

(2) 抗日战争的胜利对中华民族的复兴有何重大意义？(4分)

(3) 中华人民共和国的成立为中华民族的复兴创造了怎样的基本条件？请你列举两位创建共和国的湘籍元勋。(3分)

(4) 十一届三中全会作出了怎样的伟大决策，开创了中华民族复兴的新局面？(2分)

34. (1) 废除了两千多年的封建专制制度；(2) 抗日战争的胜利是中国人民近百年来第一次取得完全胜利的民族解放战争。它洗雪了民族耻辱，成为中华民族由衰败到振兴的转折点。(3) 中国从此走上了独立、民主、统一的道路。确立了我国的基本政治制度，使中国迈入长治久安的历史时期。毛泽东、彭德怀；(4) 改革开放。

(2010·湖北十堰) 36. (8分) 新中国以来，党和政府一直十分关注农村问题，在农村问题上进行了一系列政策性探索。其中 1950 年开始的土地改革、人民公社化运动和十一届三中全会后的农村改革是三次非常重要的探索。

请回答：(1) 三次探索哪些是成功的，哪些是探索中的严重失误？(3分)

(2) 土地改革在所有者方面有何变化？(2分)

(3) 十一届三中全会后，农村改革的主要内容是什么？(1分)

(4) 选择三次探索中成功的一次探索，谈谈其意义。(2分)

36. (1) 土地改革和十一届三中全会后的农村改革是成功的。“人民公社化”运动是探索中的严重错误。(每点 1 分，共 3 分) (2) 废除地主阶级封建剥削的土地所有制，实行农民的土地所有制。(2分) (3) 实行家庭联产承包责任制(1分)；(4) 土地改革：废除土地剥削制度，极大地解放了生产力，推动了农业生产的恢复和发展，为新中国的工业化创造动力条件；依靠在土地改革中形成的有组织的阶级队伍，中国共产党完成了对旧乡村的改造，为以后在农村推行党的各项政策奠定了基础。或：十一届三中全会后的农村改革：使农民在生产上获得了更多的自主性，调动了农民生产积极性，促进了生产的发展，农村面貌由此发生显著变化。(2分)

(2010·湖北襄樊) 32. 【高唱民族团结的颂歌】(7分)

中华民族是一个由 56 个民族组成的统一的多民族国家。在长期的历史发展中，各民族在政治、经济、文化上相互依存、不可分离。请你回答：

(1) 从什么时期开始，今新疆地区成为了我国不可分割的一部分？(1分) 19 世纪 70 年代，率领清军收复新疆的是谁？(1分)

(2) 为唐蕃“和同为一家”作出了突出贡献的有哪些人？(不少于 2 人)(2分)

(3) 列举一项清朝前期中央政府加强对西藏管理的措施。(1分)

(4) 新中国成立后，我国制定了什么制度作为处理民族关系的一项基本国策？(1分) 请你为各民族的团结写一句祝福的话。(1分)

32. (1) 西汉时期。(1分) 左宗棠。(1分) (2) 唐太宗(李世民)、文成公主、松赞干布、金城公主、尺带珠丹等。(评分说明：答对其中的两个即可，一个 1 分，共 2 分。) (3) 西藏历世达赖和班禅，都必须经过清朝中央政府的册封；设置驻藏大臣；驻藏大臣和达赖、班禅共同管理西藏事务；顺治帝正式赐予“达赖喇嘛”封号；康熙帝赐予另一位西藏佛教领袖“班禅额尔德尼”的封号。(答对其中的一项即可得 1 分。) (4) 民族区域自治制度。(1分) 民族大团结万岁；各民族共同繁荣；56 个民族是一家；爱我中华等。

(答对其中一条即可，答出相近的意思也可，1分。)

(2010·湖北襄樊) 34.【传承红军的精神 继续新的长征】(6分)

举世闻名的二万五千里长征已经过去了半个多世纪，红军将士铸就的长征精神在人们的心中永生。十一届三中全会以来，人们习惯把中国共产党领导全国各族人民开创的改革开放事业比喻为“新的长征”。请回答：

- (1) 列举一例长征途中，红军的英雄壮举。(1分)
- (2) 长征的胜利对中国革命产生了什么样的积极影响?(2分)
- (3) 改革首先从农村开始，哪一制度的逐步实行，使农业生产得到大发展?(1分)同时对外开放也开始起步，哪个经济特区被外国人誉为“一夜崛起之城”?(1分)
- (4) 在新长征的征途中，你认为红军的哪些精神仍然值得我们学习?(1分)

34. (1) 强渡大渡河；飞夺泸定桥；四渡赤水河；突破乌江；激战湘江；爬雪山；过草地等。(评分说明：学生只要答对其中一项即可，其它发生在长征途中的壮举也可，共1分。)(2) 长征的胜利，粉碎了国民党反动派消灭红军的企图，保存了红军的基干力量，使中国革命转危为安。(2分)(3) 家庭联产承包责任制。(包产到户，包干到户也可。)(1分)深圳。(1分)(4) 坚定的革命信念；革命乐观主义精神；革命英雄主义精神；集体主义精神；艰苦奋斗精神等仍然值得我们学习。(评分说明：学生答对其中一项即可，其它符合题意的答案也可，共1分。)

(2010·山西) 16. 请在下面横线上填写正确答案。(6分)

- (1) 秦汉时期的阶段特征是\_\_\_\_\_。(1分)
- (2) 三国两晋南北朝时期的阶段特征是\_\_\_\_\_。(1分)
- (3) 中国近代史的开端是\_\_\_\_\_。(1分)
- (4) 中国新民主主义革命的开端是\_\_\_\_\_。(1分)
- (5) 我国社会主义基本制度初步建立的标志是\_\_\_\_\_。(1分)
- (6) 我国进入社会主义建设新时期的标志是\_\_\_\_\_。(1分)

16. (1) 统一国家的建立(大一统)；(2) 政权分立与民族融合；(3) 鸦片战争；(4) 五四运动；(5) 三大改造基本完成；(6) 十一届三中全会。

(2010·广东) 26. 活动探究：

第16届亚洲运动会将于2010年11月在广东广州举行。为迎接亚运，宣传广东，学校决定举办一次主题展示活动。请你参加活动并回答下列问题：

#### 展示一：古代海外贸易篇

(1) 清朝统治者严格限制海外贸易，实行闭关锁国政策，曾经只允许开放哪个城市作为对外通商的唯一口岸?(1分)

#### 展示二：近代社会变革篇

(2) 鸦片战争后，英国通过什么条约迫使清政府开放广州等通商口岸?(1分)随着民族危机的加剧，康有为和梁启超领导了什么运动?(1分)该运动对中国社会发展的突出作用是什么?(1分)

(3) 1924年国民革命运动兴起，孙中山在广州创办了哪一所学校?(1分)1926年7月，广东国民政府领导了一场什么战争?(1分)该学校的创办和这场战争的胜利进军有什么关系?(2分)

#### 展示三：现代改革开放篇

(4) 20世纪70年代末，南粤大地吹响了改革开放的号角。因改革开放而“一夜崛起的城市”是指哪个城市?(1分)以该城市为例，说一说经济特区在社会主义现代化建设中的作用。(2分)

(5) 结合上述内容，谈谈你在这次探究活动中获得的启示?(2分)

26. (本小题共 13 分) (1) 城市：广州 (得 1 分)；(2) 条约：《南京条约》(得 1 分)；运动：维新变法运动 (得 1 分)；作用：在社会上起到了思想启蒙的作用 (得 1 分)；(3) 学校名称：中国国民党陆军军官学校或黄埔军校 (得 1 分)；战争：北伐战争 (得 1 分)；关系：黄埔军校培养了大批的优秀政治军事人才为北伐战争的胜利进军奠定了基础。(得 2 分)；(4) 城市：深圳。(得 1 分)；作用：深圳成为对外开放的窗口；为进一步扩大开放积累了经验。(说明：答对任意 1 点可得满分 2 分，其它相近意思答案可酌情给分) (5) 启示：不断解放思想；坚持改革开放；坚持科学发展观；注重培养人才等。(说明：答到任何 2 点可得满分 2 分，言之有理酌情给分。)

(2010·广西河池市) 13. (1) 建国前的中国共产党历史，是一部浴血奋战的革命史。根据提示，填写完成下表。(8 分)

时间	地点	历史事件	历史意义
1921 年		中共的诞生	
	南昌	南昌起义	打响了武装反抗国民党反动统治的第一枪
1927 年	井冈山	井冈山根据地的建立	
1935 年	遵义		中共历史上生死攸关的转折点

(2) 建国后，中国共产党领导的新中国十分重视法制建设，请列出新中国在 20 世纪 50 年代颁布的两部重大法律。(4 分)

(3) 在近 90 年的风雨历程中，中国共产党人铸就了许多优秀的精神品质，比如长征精神等。请谈谈你对长征精神的理解。(2)

13. (1) (8 分)

时间	地点	历史事件	历史意义
1921 年	上海	中共的诞生	中国的革命面貌焕然一新
1927 年	南昌	南昌起义	打响了武装反抗国民党反动统治的第一枪
1927 年	井冈山	井冈山根据地的建立	创立了第一个农村革命根据地
1935 年	遵义	遵义会议	中共历史上生死攸关的转折点

(2) 《中华人民共和国土地改革法》、《中华人民共和国宪法》(4 分)；(3) 对革命的坚定信念；战胜所有敌人的大无畏的革命英雄主义；战胜一切困难的决心和勇气(或革命的乐观主义)；团结友好，顾全大局的集体主义。(各 0.5 分，共 2 分)

(2010·吉林) 18. 新中国成立后，中国共产党对社会主义道路进行不断探索，基本建立起社会主义制度，并在实践中找到了中国特色社会主义道路，在各方面取得了显著成就。依据提示信息，完成表格内容。(7 分)

提示信息

相关史实

- (1) 建立制度
- (2) 严重失误
- (3) 伟大转折
- (4) 特色理论
- (5) 显著成就

启示

18. (1) 三大改造的基本完成 (1 分)；(2) “大跃进”和人民公社化运动 (或文化大革命) (答出一点即可给分)(1 分)；(3) 中共十一届三中全会(或实行改革开放)(1 分)；(4) 邓小平理论(或建设有中国特色社会主义理论等)(1 分)；(5) 成就可从改革开放、对外交往、民主法制、国防建设等方面回答。

例：实行家庭联产承包责任制；发展乡镇企业；实行国有企业改革；建立深圳、珠海、汕

头、厦门、海南经济特区；开放上海、广州等 14 个沿海开放城市；设立上海浦东开发区；香港和澳门回归祖国；提出和平共处五项原则；提出“求同存异”的方针；尼克松访华，签署《中美联合公报》；中日建交；中美建交；中国恢复在联合国的合法席位；中国承办亚太经合组织会议；中国加入世界贸易组织；中国成功举办奥运会和世博会；颁布第四部《中华人民共和国宪法》等；建立人民空军、人民海军；组建战略导弹部队等。（答出以上要点之一即可得 1 分，其他答案符合题意也可给分）（共 2 分）

启示：只有在中国共产党的领导下，中国人民才能实现国家的富强和民族的振兴；改革开放使我国综合国力不断提高，国家日益繁荣；以经济建设为中心，坚持改革开放；经济政策的制定要依据国情，实事求是，遵循经济发展的客观规律；更坚定了建设中国特色社会主义的信念等。（答出以上要点之一即可给分；其他答案观点正确，符合题意也可给分）（1 分）

（2010·广西梧州）36．20 世纪是中国发生巨大变化的 100 年。在这百年中，中国人民“醒过来了”，“站起来了”，“富起来了”。据此回答下列问题。

（1）为使中国人民“醒过来”，19 世纪末 20 世纪初，民族资产阶级在救亡图存道路上进行了哪三次有益的探索？（3 分）

（2）为领导中国人民“站起来”，20 世纪 20 年代，毛泽东开创了一条中国式的革命道路。这条革命道路的内容以及在这条道路上迈出的第一步各是什么？（2 分）

（3）领导中国人民“富起来”的是谁？为改变农村的落后面貌，在他领导下农村进行了怎样的改革？有什么意义？（3 分）

36．（1）戊戌变法、辛亥革命、新文化运动；（2）农村包围城市武装夺取政权的革命道路；井冈山革命根据地的建立；（3）邓小平；实行家庭联产承包责任制；解放了农村生产力，调动了农民生产的积极性，使农村经济获得迅速发展。

（2010·湖北黄石）42．探究实践题：（8 分）

2010 年 5 月世博会在上海开幕，某校历史探究学习小组以“中国与世博会”为题进行探究性学习，他们搜集了如下素材：

一、世界博览会是展示世界文明最新成果的盛会。1876 年在美国费城举办的世博会上，电话、双重电报机、冰库车等大量的美国科技成果展现在世人面前……中国首次派代表参加此次世博会，展品有丝绸、茶叶、瓷器等。

二、上海世博会荟萃了国内外科技最新成果。在准备世博会的 4 年多时间里，我国共实施了科技攻关项目 232 项，取得具有自主知识产权的科技成果 1000 多项，许多项目已在世博园区的建设的运营管理体系中得到充分应用，使游客充分领略了中国的发展成就。

他们就这两段材料展开了探究活动。请你也参与活动，完成下列探究性学习任务。

（1）中国在 1876 年参加世博会时已经有了一些洋务企业，为什么展品不是以科技含量较高的工业品为主？（2 分）

（2）请完成下列有关上海的大事简表（2 分）

1842 年：

1921 年：

（3）费城博览会 100 年的 1978 年，我国召开的十一届三中全会是上海能顺利举办此次世博会的重要历史因素，为什么？（3 分）

（4）请就中国参加世博会到兴田舍一届高科技世博会的历程谈谈自己的感想（1 分）

42．（1）当时洋务运动才刚刚开始，工业品以仿制为主，科技水平低；（1 分）当时洋务企业以军事为主，产品不便于参与展览；（1 分）（2）1842 年：《南京条约》开辟上海为通商口岸；（1 分）1921 年：中共在上海成立；（1 分）（3）十一届三中全会作出把工作重心转移到经济建设上来，实行改革开放的伟大决策，中国进入社会主义现代化建设新时

期；（1分）随着改革开放的深入，中国的综合国力不断提高，（1分）国际地位蒸蒸日上，中国日益融入世界，世界也更希望了解中国；（1分）所以说十一届三中全会是上海世博会举办的重要历史因素。（4）国力强弱决定国家在国际上的地位。或者在中共领导下，中华民族开始了伟大的复兴。（1分，本问答案不唯一，言之有理即可）

（2010·吉林长春）20．回首回眸，感受中华民族伟大复兴的历程。



【革命征途】（1）写出以上两幅地图中所反映的重大历史事件各一件，并说出其影响。（4分）

【建设进程】（2）写出一五计划期间在工业和交通运输业上所取得成就。（两项即可）在社会主义现代化建设新时期，我党提出并实行了哪一伟大决策？（3分）

【走向辉煌】（3）2001年我国承办了哪一外交盛会？新世纪，还有哪些重大事件让我们为之骄傲，请写出一例。（2分）

20．（1）井冈山革命根据地的建立、辽沈战役影响：中国共产党找到了农村包围城市、最后夺取城市适合中国国情的革命道路。截断了东北敌人向关内的退路，对于解放东北全境起了重要的作用。（表述正确即可，表述有合理成分，可酌情给分）（4分）；（2）长春第一汽车制造厂的建立、武汉长江大桥的建成（其它正确也可）把党和国家的工作重心转移到经济建设上来，实行改革开放的伟大决策。（3分）（3）APEC会议（或亚太经合组织会议）2008北京奥运会、2010年上海世博会（一例即可）（2分）

（2010·江苏宿迁）38．（本题8分）某班同学在观看新中国建国60周年庆典后，想了解1919年以来中华民族的奋斗历程，他们发现在九十年的历史进程中，中华民族经历了“三个三十年”的伟大探索与实践，于是分成三个小组对三个阶段开展探究学习。

请你加入他们的学习活动并积极发表意见：

（1）第一小组（1919—1949年）：学习中决定搞一期“新民主主义革命图片展”，一位同学将《武昌首义》图片列入其中。你认为适合吗？说明理由。（3分）

（2）第二小组（1949—1979年）：在梳理重大事件后，认为在1956年、1978年有两件大事推动了中国社会的历史性转折。你认为哪两件大事？（2分）

（3）第三小组（1979—2009年）：想给学习活动明确一个主题，你觉得在“民族独立”、“曲折发展”、“和平崛起”三个词语中，哪一个最贴切？（1分）

（4）在深入学习后，大家对中国共产党的领导地位有了进一步认识。请你简要加以概括。（2分）

38. (1) 不适合。(1分) 因为武昌起义爆发于1911年,是资产阶级民主革命或旧民主主义革命。(2分,答出时间或性质均可) (2) 三大改造完成、十一届三中全会召开(2分)。(3) 和平崛起。(1分) (4) 只有中国共产党才能救中国或只有中国共产党才能发展中国或中国共产党是中国革命和建设事业的领导核心。(2分,价值观正确即可)

(2010·宁夏) 8. 我国奉行社会主义独立自主的外交方针,倡导和坚持和平共处五项原则,维护世界和平,在国际事务中发挥越来越重大的积极作用。

请回答:

- (1) 指出和平共处五项原则的主要内容(4分)
- (2) 简述二十世纪七十年代我国对外关系取得的显著成就(4分)
- (3) 列举改革开放以来我国积极参与国际事务活动的具体事例(2分)

8. (1) (4分) 互相尊重主权和领土完整、互不侵犯、互不干涉内政、平等互利、和平共处;(答错一点扣除1分,答错四点以上不得分) (2) (4分) 1971年,恢复中国在联合国的合法席位(1分);1972年,美国总统尼克松访华,美国承认只有一个中国,台湾是中国的一部分(1分);1972年,中日建交(1分);1979年,中美建交(1分);(所举其他事例,只要真实、符合题意要求,均可得1分,但本问最后得分为4分。)(3) (2分) 1991年,中国加入“亚太经合组织”,积极参与其活动。或2001年,亚太经合组织会议在上海举行;中国加入世界贸易组织(WTO);2001年,中国、俄罗斯、哈萨克斯坦、吉尔吉斯斯坦、塔吉克斯坦和乌兹别克斯坦六国元首或(中俄等六国元首)在上海签署了《“上海合作组织”成立宣言》。(本问共计2分,回答出二个要点既可得2分)(所举其他事例,只要真实、符合题意要求,均可得1分,但本问最后得分为2分)

(2010·湖南湘潭) 33. 新华网北京3月3日电:全国政协十一届三次会议3日在北京开幕。民革中央和部分政协委员建议两岸共同纪念辛亥革命100周年的提案“未提先热”,受到各方瞩目,在台湾岛内引起了共鸣。据此回答:

- (1) 孙中山领导辛亥革命的指导思想是什么?(2分) 武昌起义发生在哪一年?(2分)
- (2) 你认为辛亥革命最大的历史功绩是什么?(2分)
- (3) 我国当前推进祖国和平统一大业的基本方针是什么?(2分) 两岸如果共同举行纪念辛亥革命100周年活动有何意义?(2分)

33. (1) 三民主义。(2分) 1911年(2分); (2) 推翻了清朝统治,结束了两千多年的封建帝制,建立了资产阶级共和国,有利于资本主义的发展和社会进步。(四点中任答一点即可得2分) (3) “一国两制”。(2分) 有利于两岸经济文化交流,有利于祖国的和平统一。(2分,其它答案如遏制台独势力等亦可酌情得分)

(2010·湖南湘潭) 34. 中国共产党几十年的历史中留下了一个个光辉的足迹。据此回答:

- (1) 中国共产党的成立是开天辟地的大事,中共成立于何时何地?(2分)
- (2) 中共七大把什么确立为党的指导思想?(2分)
- (3) 中共十一届三中全会对党和国家的工作重点做了怎样的规定?(2分) 这次大会有何意义?(2分)
- (4) 中国共产党的发展历程说明了中国共产党是什么性质的政党?(2分)

34. (1) 1921年(1分);上海(1分); (2) 毛泽东思想(2分); (3) 作出了把党和国家的工作重点转移到经济建设上来的战略决策。(2分) 是建国以来党的历史上的伟大转折,标志着我国进入社会主义现代化建设的新时期。(2分) (4) 是一个与时俱进的政党;代表中华民族根本利益;代表中国先进生产力;代表中国最广大人民根本利益的政党等(答对2点给2分,其它答案言之有理亦可酌情给分)。

(2010·四川成都) 35. (13分) 香港、澳门问题的产生和最终解决,反映了中国从贫穷落后走向独立富强的历史进程。依据史实,回答下列问题。

(1) 19世纪40年代，西方列强通过哪一次侵略战争导致香港问题出现？举出与此相关的不平等条约的名称。(2分)

(2) 香港、澳门分别是什么时候回归祖国的？(2分)

(3) 香港、澳门最终能够顺利回归祖国的主要原因是什么？(4分)

(4) 香港和澳门回归祖国的历史意义是什么？(5分)

35. (13分) (1) 鸦片战争；《南京条约》。(2分) (2) 1997年7月1日；1999年12月20日。(2分) (3) 我国综合国力的增强；“一国两制”科学构想的提出；全国人民的支持；港澳自古以来就是我国的领土等等。(4分) (4) 是中华民族百年盛事，洗雪了民族耻辱，振奋了民族精神；促进港澳发展，推动解决台湾问题。(5分)

(2010·江苏淮安) 29. (10分) 新中国成立以来，为把我国从落后的农业国建设成先进的工业国，中国共产党领导全国人民在社会主义建设的道路上艰苦奋斗，不断探索，取得了巨大成就。

据此并结合所学知识，回答下列问题：

(1) 建国初，哪一计划的制定标志着我国工业化建设的开始？该计划的实施取得了哪些突出成就？(请举两例)

(2) 1956年召开的中共八大是我国探索建设社会主义道路的良好开端，在这次会议上确立的党和人民的主要任务是什么？

(3) 十一届三中全会以来，党和政府实行了改革开放，在此政策推动下深圳成为一座“一夜崛起之城”，她的崛起在当时起何作用？随后，在长三角地区又出现了一个国际化的经济和金融中心，这是指的哪里？

(4) 20世纪80年代，面对世界新技术革命的挑战，我国实行哪项高科技研究发展计划？2008年“神七”飞天圆满成功，此项成就属于该计划中的哪一领域？

29. (1) 第一个五年计划；(1分) ①鞍山钢铁公司大型轧钢厂等三大工程建成投产；②长春第一汽车制造厂生产出第一辆汽车；③沈阳第一机床厂建成投产；④中国第一个飞机制造厂试制成功第一架喷气式飞机；⑤武汉长江大桥建成；⑥川藏、青藏、新藏公路修到“世界屋脊”；⑦东北工业基地形成。(任意两点2分) (2) 集中力量发展社会生产力，实现国家的工业化，逐步满足人民日益增长的物质和文化需要。(2分) (3) 深圳等经济特区的成功，为进一步扩大开放积累了经验。深圳的发展和经验证明，我们建立经济特区的政策是正确的。[或：经济特区吸收了许多外资，引进了发达国家的先进技术、设备和经营管理方法，有力地加快了社会主义现代化的进程。](2分) 上海浦东开发区。(1分)

(4) 863计划；(1分) 航天技术。(1分)

(2010·江苏无锡) 38. 中华民族有着悠久的历史，有着强大的凝聚力，几千年来，各民族生生不息，共同创造了灿烂的中华文明。在历史发展长河中，统一成为历史发展的主流，统一更是国家振兴的重要基础。近代以来，中国经历了百年沧桑，在中国共产党的领导下，祖国统一大业稳步推进，中华民族逐步实现了伟大复兴。请你根据所学知识，回答下列有关西藏和台湾的问题。

(1) 西藏是我国领土不可分割的一部分。早在哪个朝代，西藏就成我国的正式行政区？(0.5分) 清朝时，与达赖和班禅共同管理西藏事务的中央政府代表叫什么？(0.5分)

(2) 台湾两次回归祖国，第一次在古代，第二次在近代。现在海峡两岸交往日益密切，回答：

① 明清时期，台湾曾被哪国殖民者侵占？(0.5分) 谁最终率军收复了台湾？(0.5分)

② 近代通过哪个不平等条约，造成了台湾和祖国大陆的分离？(0.5分)

③ 近代史上，台湾在哪一历史事件后重新回到了祖国怀抱？(0.5分)

④ 造成台湾和祖国大陆再次分离的主要原因是什么？(0.5分)

⑤ 现在我国处理海峡两岸关系的原则是什么？（0.5分）

⑥ 如果让你给台湾的中学生写一封信，你想表达的主要观点是什么？（不得摘抄试卷上的有的原话）（0.5分）

38. (1) 元朝时；驻藏大臣。(2) ①荷兰。郑成功。②《马关条约》。③抗日战争胜利后。④国民党在内战失败，败退台湾。⑤和平统一，一国两制。⑥台湾自古就是中国领土；两岸统一是大势所趋，人心所向。（言之有理即可。）

(2010·广西贵港) 28. 在中国近现代史上，土地和农村问题是中国革命和社会主义建设的重要问题。

请回答：

(1) 1905年中国同盟会在它的政治纲领中就土地问题提出了什么主张？(1分)

(2) 中国共产党在八七会议上确定的总方针中有关土地问题的内容是什么？(1分)

(3) 新中国成立后接着开展的土地的要求，中央人民政府公布了什么法令？接着开展的土地改革运动在哪一年基本完成？(2分)

(4) 在探索建设社会主义的道路中，我国在1958年出现了违背经济规律、超越社会发展阶段的哪两大运动？(2分)

(5) 20世纪80年代我国农村改革的主要内容是什么？它首先在哪一个省开始？(2分)

28. (1) 平均地权；(2) 开展土地革命；(3) 《中华人民共和国土地改革法》；1952年；(4) “大跃进”运动和人民公社化运动；(5) 在土地公有制基础上包产到户，分户经营、自负盈亏即实行以家庭联产承包为主要形式的责任制；安徽省。

(2010·贵州毕节) 29. 根据材料，探究问题。

材料一 研读历史，纵横中外古今。

学好历史，知兴衰而明智。

解放思想，敢为开路先锋。

改革开放，再创中华辉煌。

[古人的足迹]

材料二 公元前361年，秦孝公继位，他决心奋民图强，实现富国强兵。公元前356年，商鞅辅佐雄心勃勃的秦孝公进行了“改变秦国乃至整个中国历史进程”的变法活动。

[中国的崛起]

材料三 30年前，在邓小平倡导和带领下，中国人民毅然决然地踏上改革开放的历史征程。这是中国在新的历史条件下进行的新的伟大革命。

——摘自胡锦涛2008年4月12日的演讲

材料四



图 A 真理标准问题的讨论



图 B 中国共产党十一届三中全会会

材料五



图 C 小岗村农民喜获丰收



图 D 深圳特区

请你参与：

(1) 简要说明商鞅变法起到了“改变秦国及至整个中国历史进程”的作用。

(2) 说明图 A、图 B 所反映的历史事件之间的联系。(4分)

(3) 说明小岗村、深圳特区在我国改革开放的实践中所起的作用。(4分)

29. (1) 经过商鞅变法，秦国的经济得到发展，军队战斗力不断加强，发展成为战国后期最富强的封建国家。为后来秦始皇统一中国奠定了基础。(2分) (2) 图 A 中的关于真理标准问题的讨论，为图 B 中的十一届三中全会的召开奠定了思想基础。(4分) (3) 图 C 安徽凤阳小岗村农民首先实行分田包产到户，自负盈亏。随后，农村逐步实行以家庭联产承包为主的责任制，农业生产得到大发展，农村开始富裕起来了。(2分) 图 D 深圳特区是对外开放的“窗口”，扩大了对外贸易，吸收了许多外资，引进了发达国家的先进技术、设备和经营管理方法，有力地加快了社会主义现代化的进程。(2分)