

黑龙江省绥化市 2018 年中考历史真题试题

考生注意

1. 考试时间 60 分钟
2. 全卷共五道大题，39 个小题，总分 100 分
3. 所有答案都必须写在答题卡上相对应题号后的指定区域内

一、单项选择题（本题共 25 个小题，每小题 2 分，共 50 分）

请在答题卡上用 2B 铅笔把你的选项所对应的大写字母涂黑

（2018 绥化）1. 生活在距今约七十万年至二十万年，保留了猿的某些特征的原始人类是 **B**

- A. 元谋人 B. 北京人 C. 山顶洞人 D. 半坡人

（2018 绥化）2. 我国有文字可考的历史从商朝开始。这一文字是 **A**

- A. 甲骨文 B. 金文
C. 小篆 D. 隶书

（2018 绥化）3. 被后世尊称为“医圣”的是 **C**

- A. 扁鹊 B. 华佗
C. 张仲景 D. 李时珍

（2018 绥化）4. 我国第一部纪传体通史《史记》的作者是 **C**

- A. 孔子 B. 屈原 C. 司马迁 D. 祖冲之

（2018 绥化）5. 宋代海外贸易发达，政府在主要港口设置的管理海外贸易的机构是 **A**

- A. 市舶司 B. 宣政院
C. 台湾府 D. 广州十三行

（2018 绥化）6. 西藏成为我国正式的行政区，始于 **B**

- A. 宋朝 B. 元朝 C. 明朝 D. 清朝

（2018 绥化）7. 明朝前期，七下西洋的航海家是 **B**

- A. 岳飞 B. 郑和 C. 戚继光 D. 郑成功

- (2018 绥化) 8. 规定“允许日本在中国开设工厂”的条约是 C
- A. 《南京条约》 B. 《北京条约》 C. 《马关条约》 D. 《辛丑条约》
- (2018 绥化) 9. 1928 年 4 月, 朱德、陈毅与毛东领导的工农革命军胜利会师的地点是 B
- A. 南昌 B. 井冈山 C. 吴起镇 D. 会宁
- (2018 绥化) 10. 抗日战争时期, 由彭德怀指挥的中国军队主动出击日军的规模最大战役是 A
- A. 百团大战 B. 辽沈战役 C. 平津战役 D. 渡江战役
- (2018 绥化) 11. 创作《黄河大合唱》的人民音乐家是 C
- A. 徐悲鸿 B. 聂耳 C. 冼星海 D. 鲁迅
- (2018 绥化) 12. 1956 年底, 我国初步建立起社会主义基本制度的标志是 D
- A 西藏和平解放 B. 土地改革 C. 抗美援朝 D. 三大改造的基本完成
- (2018 绥化) 13. 1992 年, 海协会和海基会就海峡两岸关系达成的共识是 D
- A. 解放台湾 B. 坚持一国两制 C. 调整“三不”政策 D. 坚持一个中国的原则
- (2018 绥化) 14. 世界上现存的古代第一部比较完备的成文法典是 A
- A. 汉谟拉比法典 B. 《圣经》 C. 《天方夜谭》 D. 《金刚经》
- (2018 绥化) 15. 公元前 27 年罗马帝国的建立者是 D
- A. 亚历山大 B. 斯巴达克 C. 凯撒 D. 屋大维
- (2018 绥化) 16. 7 世纪时, 穆罕默德在阿拉伯半岛的麦加创立的宗教是 C
- A. 佛教 B. 基督教 C. 伊斯兰教 D. 道教
- (2018 绥化) 17. 美国独立战争的转折点是 D
- A. 来克星顿枪声 B. 大陆会议 C. 《独立宣言》的发表 D. 萨拉托加战役
- (2018 绥化) 18. 政治方面, “废藩置县”, 加强中央集权; 社会生活方面, 提倡“文明开化”, 即向欧美学习, 努力发展教育。这是哪次改革的内容 D
- A. 大化改新 B. 查理·马特改革 C. 农奴制改革 D. 明治维新
- (2018 绥化) 19. 1914 年, 德、奥匈发动第一次世界大战的借口是 C
- A. 波士顿倾茶事件 B. 攻占巴士底监狱 C. 萨拉热窝事件 D. 奥帝帝国向塞尔维亚宣战

清朝

最高统治者始称皇帝

(2018 绥化) 33 . 但 丁

《神曲》

贝多芬

《物种起源》

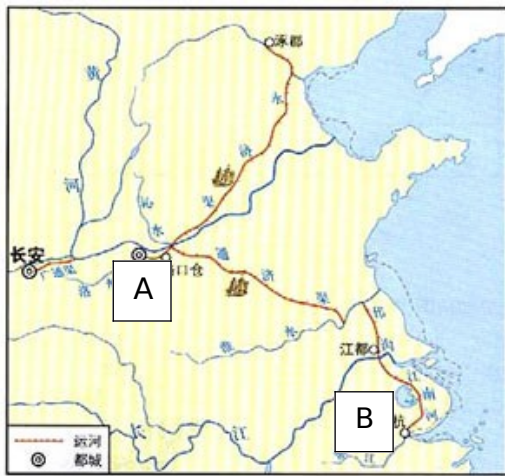
达尔文

《英雄交响曲》

四、读图识图题 (本题共 3 道题, 第 34 题 6 分, 第 35 题 7 分, 第 36 题 5 分, 共 18 分)

请在答题卡上把你的答案写在相对应的题号后的指定区域内


(2018 绥化) 34 . 读图并结合所学知识回答 :



(1) 左图的大运河是隋朝_____ (皇帝) 在位时期开凿的 (1 分)

2) 大运河以 A _____ 为中心 (2 分), 北达涿郡, 即今天的 _____ (2 分) 南至 B _____ (1 分)

(2018 绥化) 35 . 识图并结合所学知识回答 :



图一



图二



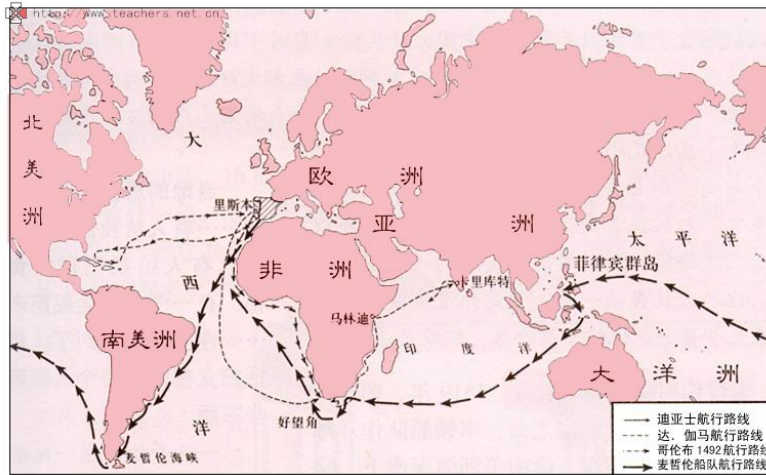
图三

(1) 图一的人物是 _____ (1 分)。他全面筹划的变法是 _____ (1 分)。

(2) 图二的人物是 _____ (1 分) 他领导辛亥革命的指导思想是 _____ (1 分)

(3) 图三的人物是 _____ (1 分), 他发起的思想大解放运动是 _____ (1 分), 这次运动高举的两面大旗是“民主”和“ _____ ” (1 分)。

(2018 绥化) 36. 读图并结合所学知识回答：



(1) 上图所反映的历史事件是_____ (1分)

(2) 1492 年, 意大利航海家_____ (1分), 从_____ (大洲) 出发 (1分), 横渡大西洋, 到达美洲。他认为到达的地方是印度, 所以称当地居民为_____ (1分), 不久, 欧洲人最终完成了_____ 航行 (1分)

五、材料分析题 (本题共 3 道题, 第 37 题 6 分, 第 38 题 8 分, 第 39 题 6 分, 共 20 分)

请在答题卡上把你的答案写在相对应的题号后的指定区域内

(2018 绥化) 37. 我国自古以来就是一个多民族国家, 各族人民密切交往、相互依存、休戚与共, 形成了中华民族多元一体的格局, 共同推动了国家发展和社会进步。

阅读材料, 结合所学知识回答问题。

材料一: 在朝廷中必须使用汉语, 禁用鲜卑语; 官员及家属必须穿戴汉族服饰; 将鲜卑族的姓氏改为汉族姓氏……, 提倡尊老、养老的风气等。

材料二: 7 世纪前期, 吐蕃杰出赞普松赞干布统一青藏高原, 定都逻些, 松赞干布仰慕中原文明, 几次向唐求婚。

材料三: 顺治帝接见达赖五世, 并赐予“达赖喇嘛”的封号。康熙帝又册封五世班禅为“班禅额尔德尼”, 并规定以后历世达赖和班禅都必须经过中央政府册封的制度。

(1) 材料一所说的是北魏哪一位皇帝的改革? (1分) 这次改革有什么作用? (1分)

(2) 材料二中松赞干布迎娶了唐朝的哪一位公主? (1分) 当时的皇帝是谁 (1分)

(3) 结合材料三, 1727 年, 政府设置_____ 与达赖、班禅共同管理西藏事务。 (1分) 后来, 为巩固统一多民族国家, 乾隆帝在新疆设置_____ 管辖整个新疆地区。 (1分)

(2018 绥化) 38. 改革开放是决定当代中国命运的关键抉择。是发展中国特色社会主义，实现中华民族伟大复兴的必由之路。

阅读材料，结合所学知识回答问题。

材料一：这次会议彻底否定“两个凡是”的方针，重新确立解放思想、实事求是的思想路线；停止使用“以阶级斗争为纲”的口号，作出把党和国家的工作重心转移到经济建设上来，实行改革开放的伟大决策。

材料二：安徽凤阳小岗村民首先实行分包产到户，自负盈亏。这样，农民有了生产自主权，生产积极性大大提高了。

材料三：1980年，我国在广东和福建建立四个经济特区。它们以国家给予优惠的经济政策，吸收侨资，外资，引进先进科学技术和管理经验，进行现代化建设。

- (1) 材料一中的伟大决策是在党的哪次会议上作出的？(2分) 2018年是此次会议召开多少周年？(1分)
- (2) 结合材料二，改革开放后，党中央在农村推行了什么政策？(1分)
- (3) 材料三中1980年建立的四个经济特区。除汕头、珠海外，还有哪两个？(2分)
- (4) 我国改革开放和社会主义现代化建设的总设计师是谁？(2分)

(2018 绥化) 39. 科学技术是第一生产力，它的每一次重大突破，都会促进经济社会深刻变革和人类社会大进步。

阅读材料，结合所学知识回答问题

材料一：美国人首先造出了蒸汽机作动力的轮船，随后，美国工程师史蒂芬孙用蒸汽机发明了火车机车，1825年，这列名为“旅行者号”的机车在英国试车成功。

材料二：像鸟一样在天空翱翔，是人类长期的梦想，20世纪初，人们制造出飞机。1903年12月的一天，美国的莱特兄弟经过不懈努力……，开始把人类的理想变成了现实。

材料三：信息技术已成为过去10年里在济上所取得的更快的生产周期、更高水准的产品质量和低通货膨胀等特点的主要贡献力量。

- (1) 材料一所述的史实发生在哪一事件中？(1分) 最先完成这一事件的是哪个国家？
- (2) 材料二中莱特兄弟的哪一项发明开始把人类的梦想变成了现实？(1分) 在此之前，卡尔·本茨试制成功的交通工具是什么(1分)
- (3) 材料三中信息技术出于第几次科技革命？(1分) 这次科技革命的核心是什么？(1分)

历史试题参考答案及评分说明

一、单项选择题（本题共 25 个小题，每小题 2 分，共 50 分）

题号	1	2	3	4	5	6	7	8	9	10	11	12	13	14
答案	B	A	C	C	A	B	B	C	B	A	C	D	D	A
题号	15	16	17	18	19	20	21	22	23	24	25			
答案	D	C	D	D	C	D	C	C	D	C	B			

二、判断对错题（本题共 6 个小题，每小题 1 分，共 6 分）

(2018 绥化) 26. × 27. × 28. × 29. √ 30. √ 31. ×

三、组合连线题（本题共 2 个小题，每小题 3 分，共 6 分）

32. 秦朝 — 设立军机处
 明朝 — 设置厂卫特务机构
 清朝 — 最高统治者始称皇帝

33. 但丁 — 《神曲》
 贝多芬 — 《物种起源》
 达尔文 — 《英雄交响曲》

四、读图识图题（本题共 3 道题，第 34 题 6 分，第 35 题 7 分，第 36 题 5 分，共 18 分）

(2018 绥化) 34. (1) 隋炀帝 (杨广) (1 分) (2) 洛阳 (2 分) 北京 (2 分)
 余杭 (1 分)

(2018 绥化) 35. (1) 康有为 (1 分) 戊戌变法 (维新变法或百日维新) (1 分)

(2) 孙中山(孙文) (1 分) 三民主义 (1 分)

(3) 陈独秀 (1 分) 新文化运动 (1 分) 科学 (1 分)

(2018 绥化) 36. (1) 新航路的开辟 (开辟新航路) (1 分) (2) 哥伦布 (分) 欧洲 (1 分)

印第安人 (1 分) 环球 (1 分)

五、材料分析题（本题共3道题，第37题6分，第38题8分，第39题6分，共20分）

(2018 绥化) 37 . (1) 孝文帝 (1分) 促进了民族融合 (促进了民族交融) (1分)

(2) 文成公主 (1分) 唐太宗 (李世民) (1分)

(3) 驻藏大臣 (1分) 伊犁将军 (1分)

(2018 绥化) 38 . (1) 十一届三中全会 (中共十一届三中全会) (2分) 40周年 (40)
(1分)

(2) 家庭联产承包责任制 (1分)

(3) 深圳 (1分)、厦门 (1分)

(4) 邓小平 (2分)

(2018 绥化) 39 . (1) 工业革命 (第一次工业革命) (1分) 英国 (1分)

(2) 飞机 (1分) 汽车 (1分)

(3) 第三次科技革命 (第三次) (1分) 电子计算机的广泛使用 (1分)