

2019年山东省济宁市中考历史试题

(考试时间 60 分钟。共 50 分)

第 I 卷 (选择题 共 20 分)

选择题 (下列各题的四个选项中, 只有一项符合题意, 每小题 1 分, 共 20 分)

(2019·山东济宁) 1. 秦始皇是中国封建统治阶级中的一位杰出人物, 下列成就或措施与秦始皇有关的是 ()

- ① 建立起我国历史上第一个多民族的大一统国家 ② 采用“皇帝”称号
③ 开创了中央集权制度 ④ 实行三省六部制
⑤ 统一文字 ⑥ 罢黜百家, 独尊儒术

A. ①②③④⑤⑥ B. ①②③⑤⑥ C. ①②③⑤ D. ①②③④⑤

(2019·山东济宁) 2. “究天人之际, 通古今之变, 成一家之言”是司马迁编撰《史记》的宗旨, 这部史书记述历史的起止时间是 ()

A. 黄帝——汉武帝 B. 黄帝——汉高祖 C. 西汉——东汉 D. 战国——五代

(2019·山东济宁) 3. 右图漫画反映的加强中央集权的措施, 与其实施者对应正确的是 ()



- A. “削藩”——汉景帝
B. “推恩令”——汉武帝
C. 休养生息——隋炀帝
D. “杯酒释兵权”——宋徽宗

(2019·山东济宁) 4. 下列有关中国古代科技成果的史实, 按先后顺序排列正确的是 ()

- ① 指南针传入欧洲 ② 蔡伦改进造纸术
③ 雕版印刷术的发明 ④ 毕昇发明活字印刷术

A. ②③①④ B. ③①②④ C. ①②④③ D. ②③④①

(2019·山东济宁) 5. 下列有关隋朝和元朝相同之处的表述, 正确的是 ()

- ① 都完成了全国的统一 ② 都城都位于今天的北京
③ 都是少数民族入主中原后建立的政权 ④ 都进行了制度的创新

A. ①② B. ②④ C. ②③ D. ①④

(2019·山东济宁) 6. “朕选儒臣干事者百余人, 分治大藩 (节度使辖区), 即使他们都贪浊, 也不及武臣一人危害之大。”宋太祖这一政治理念实施后产生的影响是 ()

- ① 造成重武轻文的局面 ② 使得军队战斗力增强
③ 士人更加受到尊重 ④ 提高了官僚集团的整体素质

A. ①②③④ B. ①③④ C. ③④ D. ②③

(2019·山东济宁) 7. 认知和探究历史地图, 从中提取有效信息, 是学习和研究历史的重要方法。与右边线路图相关的史实是 ()



- A. 鸦片战争
B. 第二次鸦片战争
C. 甲午中日战争
D. 八国联军侵华战争

(2019·山东济宁) 8. 选取关键信息是识记历史事件的重要方法。下列信息与太平天国运动无


关的是 ()

- A. 金田起义 B. 洪秀全
C. “扶清灭洋” D. 《天朝田亩制度》

(2019·山东济宁) 9. “甲午战败损失惨，洋务运动弊端显。中国面临被瓜分，民族危机特空前。”这首歌谣描写的是 ()

- A. 《南京条约》的影响 B. 戊戌变法的背景
C. 洋务运动的背景 D. 《辛丑条约》的影响

(2019·山东济宁) 10. 下列图片中的历史人物在近代史上曾反抗过日本侵略的有 ()



- A. ①②③④ B. ②③④ C. ①②③ D. ①②④

(2019·山东济宁) 11. “北洋军阀统治前期，在中国满布阴霾的天空中，响起一声春雷，爆发了一场崇尚科学、反对迷信、猛烈抨击封建礼教的文化启蒙运动。”这次“运动”的主要阵地是 ()

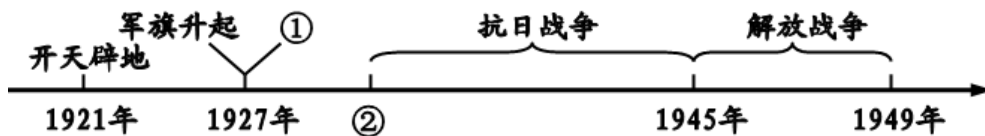
- A. 《新青年》 B. 《文学改良刍议》 C. 《狂人日记》 D. 《劳动界》

(2019·山东济宁) 12. 2019年是五四运动爆发100周年。对右边材料解读不正确的是 ()

学生罢课半月，政府不惟不理，且对待日益严厉。乃商界罢市不及一日，而北京被逮之学生释；工界罢工不及五日，而曹、章、陆去。
——《上海学联告同胞书》
1919年6月12日

- A. 这场运动在上海爆发
B. 运动是由学生最先发起的
C. 运动后期的主力军由学生转变为工人
D. 这场运动取得了初步胜利

年代尺是记录历史的工具。下面某同学制作的简单年代尺，据此回答第13、14题。



(2019·山东济宁) 13. 年代尺上①②处可以填写的内容分别是 ()

- A. 星火燎原 1931年 B. 出师北伐 1931年
C. 星火燎原 1937年 D. 出师北伐 1937年

(2019·山东济宁) 14. 从整体上看，该年代尺为我们呈现的历史发展进程是 ()

- A. 中国共产党领导的新民主主义革命 B. 北伐战争
C. 旧民主主义革命 D. 世界反法西斯战争

(2019·山东济宁) 15. 下列战役，发生在解放战争时期的有 ()

- ① 淞沪会战 ② 渡江战役 ③ 淮海战役 ④ 孟良崮战役
A. ①②③④ B. ②③④ C. ①③④ D. ①②④



(2019·山东济宁) 16. 历史图片蕴含了丰富的历史信息、下列关于右图所反映历史事件的下列说法正确的是 ()

- A. 时间是 1946 年 7 月
- B. 地点在陕西西安
- C. 此后，土地改革运动在全国范围内迅速掀起
- D. 土地改革翻身后的农民踊跃参军，支援前线

(2019·山东济宁) 17. 2019 年是西藏民主改革 60 周年。回顾西藏自古以来的历史，下列说法正确的是 ()

- A. 汉朝设立宣政院，管理西藏事务
- B. 唐玄宗时，文成公主入藏
- C. 元朝设西域都护，加强对西藏的管理
- D. 1951 年，西藏和平解放

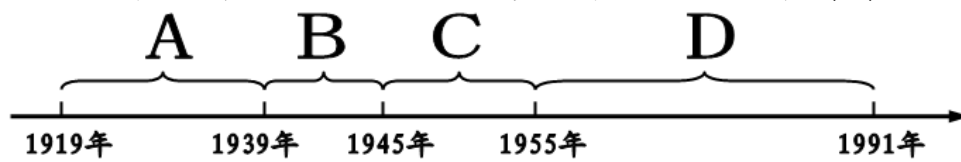
(2019·山东济宁) 18. 中国共产党领导中国人民创造了经济奇迹，初步奠定我国工业化基础是在 ()

- A. 解放战争时期
- B. 土地改革时期
- C. “一五”计划时期
- D. 改革开放时期

(2019·山东济宁) 19. 某班同学在学习两次工业革命相关知识的过程中，排演了历史剧《交通的变革》。以下他们设计的情节中符合史实的是 ()

- A. 史蒂芬孙在电灯下绘制火车机车图纸
- B. 卡尔·本茨首先在汽车生产中使用了流水线装配工艺
- C. 亨利·福特制造出世界上第一辆汽车
- D. 美国莱特兄弟制造的飞机试飞成功

(2019·山东济宁) 20. 绘制年代尺是培养“时空观念”的重要途径。下图年代尺主题为“20 世纪世界格局的演变”，其中完整反映两极格局形成后演变历程的阶段是 ()



第 II 卷 (非选择题 共 30 分)

(2019·山东济宁) 一、近现代以来：无数仁人志士为实现中华民族的伟大复兴不懈努力，绘就了波澜壮阔的历史画卷，谱写了气壮山河的奋斗赞歌。阅读材料，回答问题。(9 分)

【打开闸门】

材料一 自林则徐、魏源开眼看世界，到洋务运动“师夷长技以自强”，再到维新派变法图存，这些复兴之路都失败了，直到孙中山领导的辛亥革命才为中华民族复兴打开了闸门。

——《复兴之路》解说词

1. 结合辛亥革命的意义回答，为什么说孙中山领导的辛亥革命为中华民族复兴“打开了闸门”？(2 分)

【另辟蹊径】


材料二 毛泽东尊重苏联的革命和建设的经验，但不迷信苏联的经验，……他建立了新民主主义革命的理论，找到了一条正确的革命道路。这是在中国的具体历史条件下发展了马克思主义的新观点、新思想。

——据蔚力《〈毛泽东一生所做的两件大事〉内容概要》

2. 结合所学知识回答，毛泽东找到了一条怎样的革命道路？(1 分) 开始探索这条道路的标志性事件是什么？(1 分)

【天翻地覆】

材料三



图一



图二

3. 结合所学知识回答，图一所示事件发生于何时（年月日）？（1分）图二所示事件标志着中国共产党的地位发生了怎样的变化？（1分）

【辉煌成就】

材料四 我们正在建设中国特色的社会主义现代化强国，……我们的民主政治建设，也必须密切结合我国的历史文化传统和社会现实条件。只有这样，中国人民才能真正享受民主政治的甜蜜果实。

——摘自俞可平《民主是个好东西》

4. 新中国初期确立的使人民“享受民主政治甜蜜果实”的根本政治制度是什么？（1分）

材料五 在经济政策上，我认为要允许一部分地区、一部分企业、一部分工人农民，……生活先好起来。……使整个国民经济不断地波浪式地向前发展，使全国各族人民都能比较快地富裕起来。

——摘自邓小平《解放思想，实事求是，团结一致向前看》

5. 结合所学知识回答，让一部分农民生活先好起来的经济政策是什么？（1分）

6. 民族复兴，人人有责。综合上述材料，谈谈你的感悟。（1分）

（2019·山东济宁）二、人类社会的发展与进步，离不开文明的融合与交流。各国因融通而共荣，文明因交流而多彩。阅读材料，回答问题。（9分）

【在开放中交流】

材料一

古代中国对外交往简表

时间	史实（部分）
西汉	开辟丝绸之路；佛教传入
唐朝	<u> A </u> 西行天竺； <u> B </u> 东渡日本；遣唐使来华
宋朝	设立市舶机构；海路贸易兴盛
元朝	丘处机到访中亚；马可·波罗来华

7. 依据所学知识，填写A、B处对应的人物名称。（2分）

8. 依据材料一，归纳中国古代对外交往的特点。（1分）

【在学习中发展】

材料二 过去，日本以“日本精神、中国知识”为口号，适应了经过挑选的中国文化的某些方面。现在，日本又以“东方道德、西方技艺”为口号，向西方借用了它所盼望的东西。

——[美]斯塔夫阿诺斯《全球通史》

9. 唐朝时期日本在很多方面学习了中国文化，请举一例。（1分）19世纪日本通过哪一事件“向西方借用了它所盼望的东西”？（1分）

【在传播中互融】

材料三 纵观历史，诸如造船业等技术的进步为消除地区和民族之间的界线提供了方法，

促进了文化的传播。今天，几乎是瞬时的电子通信消解了时间和空间，在无线电、电视、传真机和网络计算机的交流中，一个地球村出现了，往昔的社会、经济和政治上的隔离消失了。

——[美]杰里·本特利《新全球史：文明的传承与交流》

10. 根据材料三回答，促进文化传播的主要原因是什么？（1分）经济上的“隔离消失了”反映了当今世界怎样的发展趋势？（1分）

【在互鉴中前进】

材料四 交流互鉴是文明发展的本质要求。……文明交流互鉴应该是对等的、平等的，应该是多元的、多向的，……我们应该以海纳百川的宽广胸怀打破文化交往的壁垒，以兼收并蓄的态度汲取其他文明的养分，促进亚洲文明在交流互鉴中共同前进。

——习近平在亚洲文明对话大会开幕式上的主旨演讲

11. 依据材料四，概括文明交流互鉴的主要特点是什么？（1分）在世界文明融合的浪潮中，怎样做才能使中华文明更放异彩？（1分）

（2019·山东济宁）三、2019年，中美建交40周年。历史上，两国都曾遭受外来侵略，最终都赢得独立并发展壮大，成为举足轻重的大国，两国的关系也成为世人瞩目的焦点。阅读材料，回答问题。（12分）

【反抗侵略】

材料一 革命给了美利坚人一个机会，一个将自己的政治理想变为现实的机会，美国革命不仅是与英国殖民统治的分离，而且是与整个旧世界专制主义的分离。

——赵晓兰《美国的诞生》

12. “与旧世界专制主义分离”后的美国走上了什么样的道路？（1分）

材料二 在中国共产党倡导建立的抗日民族统一战线旗帜下，“四万万人齐蹈厉，同心同德一戎衣”，中国人民……用生命和鲜血谱写了中华民族历史上抵御外侮的伟大篇章。……作为世界反法西斯战争的东方主战场，中国人民抗日战争为世界反法西斯战争胜利作出了重大贡献。

——习近平在纪念中国人民抗日战争暨世界反法西斯战争胜利70周年招待会上的讲话

13. 依据材料二，归纳中国赢得抗日战争胜利的主要原因。（1分）并指出中国抗日战争在世界反法西斯战争中的地位。（1分）

【发展壮大】

材料三 1861年4月，美国爆发南北战争。到1865年，战争以北方的胜利宣告结束。这场战争废除了黑人奴隶制，维护了国家统一，为美国资本主义发展扫清了障碍。

14. 根据所学，答出这场战争中为提高黑人积极性所颁布的法令。（1分）

材料四 右图

15. 右图分别是香港和澳门特别行政区的区徽。这两个地区已于1997年和1999年回归祖国，这是哪一创造性构想的成功实践？（1分）提出这一构想的出发点是什么？（1分）



【合则共赢】

材料五 1941年12月，中美关系发生了转折性变化。美国开始正视中国战场对于抗击日本的巨大作用，迫切需要中国战场牵制与消耗日本的战斗力。

——张殿清《抗日战争时期的中美关系及启示》

16. 促使当时中美关系发生“转折性变化”的事件是什么？（1分）这一事件推动中、美等26国签署了《联合国宣言》，宣言的签署有何标志性意义？（1分）

【战则两伤】

材料六 中国人民志愿军在两年多的抗美援朝战争中，共毙、伤、俘敌 71 万余人，自身作战减员 36 万多人。美国开支战费 400 多亿美元，消耗作战物资 7300 多万吨。中国开支战费 62.5 亿元人民币，消耗作战物资 560 多万吨。

——北师大版《中国历史》八年级下册

17. 新中国成立之初，百废待兴，明知要付出巨大代价，中国人民为什么还要进行抗美援朝？（1分）

【面向未来】

材料七 冷战结束后，美国政府多次公开提及建立“世界新秩序”的设想，并认为维护美国的领导地位是“建立新秩序”的“首要原则”。 ——摘自刘金质《冷战史》	材料八 习近平指出，构建人类命运共同体，关键在行动。……这一思想承载着中国对建设美好世界的崇高理想和不懈追求，反映了世界各国人民对和平公正新秩序的美好期待。 ——冯颜利《习近平人类命运共同体思想的深刻内涵与时代价值》
---	---

18. 根据材料七、八回答，中美两国构建国际秩序的方案分别是什么？（2分）中国方案体现了怎样的中国理念？（1分）

参考答案

第 I 卷（选择题共 20 分）

题号	1	2	3	4	5	6	7	8	9	10
答案	C	A	B	D	D	C	B	C	B	B
题号	11	12	13	14	15	16	17	18	19	20
答案	A	A	A	A	B	D	D	C	D	D

第 II 卷（非选择题共 30 分）

- 一、（共 9 分）1. 辛亥革命推翻了清朝的统治，结束了两千多年的封建帝制（君主专制）（或民主共和的观念深入人心）。（1分）为中华民族的复兴创造了条件，（1分）
2. 农村包围城市、武装夺取政权的革命道路。（1分）井冈山革命根据地的创建，（1分）
3. 1949年4月23日（年月日都正确，1分），标志着中国共产党开始从领导人民为夺取全国政权而奋斗的党，变为领导人民掌握全国政权、进行社会主义革命和建设并长期执政的党。（1分）
4. 人民代表大会制度。（1分）
5. 实行家庭联产承包责任制（或答包产到户；包干到户；按劳分配等也可，1分）
6. 中华民族具有不懈的探索精神；批判地学习，不断创新；坚决捍卫国家主权和民族独立，加强民主与法治建设；不断深化改革开放；坚持中国共产党的正确领导；坚定不移地走中国特色社会主义道路；遵循客观经济规律，立足国情，实事求是，一切从实际出发等（言之有理，符合题意，两层意思，1分）。
- 二、（共 9 分）7. A：玄奘。（1分）B：鉴真。（1分）
8. 对外开放；友好交往为主；双向交流：中外贸易由陆路为主逐步转为以海路为主；对外贸与文化交流同步进行等（答出其中一点即可，1分）。
9. 医药、建筑、雕刻、绘画、书法、典章制度、天文历法、文字等（任举一例即可，1分）、明治维新。（1分）
10. 科学技术的进步。（1分）经济全球化趋势（其他答案，意思相近也可）。（1分）

11. 对等的、平等的；多元的、多向的。（1分）坚定中华文化自信，坚守民族文化特色；在继承和弘扬优秀传统文化时要注意与时俱进，创新发展，使之代代相传；吸收、借鉴世界优秀文明成果，为我所用等（言之有理，一层意思即可，1分）。

三、（共12分）12. 走上独立民主自由的道路；走上资本主义发展道路（任答一点即可，1分）

13. 中国共产党的领导；建立抗日民族统一战线（或实行全面抗战路线）；全民族抗战；中国人民的英勇抗争等（任答一条即可，1分）。中国抗日战争是世界反法西斯战争的重要组成部分；为世界反法西斯战争的胜利作出了重大贡献（任答一条，1分）。

14. 《解放黑人奴隶宣言》《宅地法》（答出一个即可，1分）。

15. “一国两制”。（1分）从维护祖国和中华民族的根本利益出发。（1分）

16. 日本偷袭珍珠港（或太平洋战争爆发，1分）。标志着国际反法西斯统一战线最终形成。

（1分）

17. 保家卫国。（1分）

18. 美国提议建立以维护自己的领导地位为“首要原则”的新秩序。（1分）中国倡议构建公平公正的人类命运共同体。（1分）旨在以中国智慧处理当代国际关系，以中国方案解决全球治理难题，促进人类文明和谐，推动世界和平发展；展现大国担当等（意思相可）。

（1分）



积分超值换

活动时间：2019年4月23日-6月30日
活动对象：中小学一线教师以及教育工作者

扫一扫 换礼啦

积分兑换更超值

海报背景为浅蓝色，底部为黄色。顶部有“积分超值换”的大标题。中间有一个黄色对话框，包含活动时间和对象。下方是一个二维码，旁边有“扫一扫 换礼啦”的提示。底部有“积分兑换更超值”的彩色按钮，以及一个3D效果的书包和文具插图。

会员升级服务第一拨 · 清北季



神马，有清华北大学霸方法论课；还有清华学霸向所有的父母亲述自己求学之路；

衡水名校试卷悄悄的上线了；

扫qq领取官网不首发课程，很多人我没告诉他啊！

会员qq专享等你来撩.....