

镇江市 2022 年初中学业水平

一、选择题

1. 史学家钱穆认为，中国的文化精神，是一种人文主义的道德精神，它兼顾家庭、社会、国家与天下。以下最能体现这一中国文化精神的是（ ）

- A. 儒家思想 B. 法家主张 C. 道教风骨 D. 佛教修为

【答案】 A

【解析】

【详解】 根据“它兼顾家庭、社会、国家与天下”可得出儒家倡导修身、齐家、治国、平天下，A 项正确；法家主张法治，排除 B 项；道家主张无为，排除 C 项；佛教主张“众生平等”，排除 D 项。故选 A 项。

2. 东汉班固评价汉武帝“雄才大略，不改文景之恭俭以济斯民”。北宋司马光评价汉武帝“穷奢极欲、使百姓疲敝，异于秦始皇者无几矣”。如今，对汉武帝的科学评价应该（ ）

- A. 坚信班固 旧观点 B. 采纳年代久远的看法
C. 赞同司马光的认识 D. 坚持客观辩证的立场

【答案】 D

【解析】

【详解】 根据“雄才大略，不改文景之恭俭以济斯民”“穷奢极欲、使百姓疲敝，异于秦始皇者无几矣”可得出古代对汉武帝有不同的评价，今天我们应该坚持客观辩证的立场，一分为二地看待，D 项正确；ABC 项的看法都不足取，都太片面，排除 ABC 项。故选 D 项。

3. 下列两幅图片再现了北魏人民的经济生活状况。这些图片所反映的历史主题是（ ）



汉族妇女制作蒸馍胡饼砖画



北方民族人民采桑图壁画

- A. 江南开发 B. 民族交融 C. 科举取士 D. 重文轻武

【答案】 B

【解析】

【详解】根据材料图片，结合所学知识可知，两幅图片反映了汉族与北方民族相互学习，反映了北魏时期的民族交融，B项正确；材料不能反映江南开发，排除A项；材料与科举取士无关，排除C项；材料不能反映北魏重文轻武，排除D项。故选B项。

4. 据南宋蒋祈《陶记》记载，在他生活的那个时代，景德镇有300多处瓷窑，所制瓷器“洁白不疵”，卖到其他地方，皆有“饶玉”之称。据此可知，江西景德镇的制瓷业（ ）

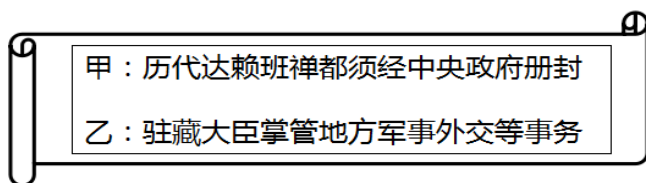
- A. 只能生产白瓷 B. 拥有定窑汝窑 C. 反映手工业兴盛 D. 兴起于南宋

【答案】C

【解析】

【详解】根据题干“据南宋蒋祈《陶记》记载，在他生活的那个时代，景德镇有300多处瓷窑，所制瓷器“洁白不疵”，卖到其他地方，皆有‘饶玉’之称。”可知，南宋时期景德镇的制瓷业发达，全国闻名。制瓷业是手工业的一部分，制瓷业的繁荣能够反映手工业的兴盛，C项正确；只能生产白瓷，无法从题干中得出，排除A项；定窑在河北，汝窑在河南，排除B项；江西景德镇兴起于北宋，排除D项。故选C项。

5. 如图所示书页，是历史老师归纳的某朝地方治理措施。采取这些措施的王朝是（ ）



- A. 唐朝 B. 元朝 C. 明朝 D. 清朝

【答案】D

【解析】

【详解】依据题干所示书页结合所学可知，清朝顺治帝接见五世达赖喇嘛并正式赐予金册、金印、“达赖喇嘛”的封号，还拨专款重修布达拉宫。康熙帝册封另一位西藏宗教首领“班禅额尔德尼”。此后历代达赖和班禅都必须经中央政府的册封。1793年，颁布《钦定藏内善后章程》，规范了西藏地方行政体制和法规，标志着中央政权对西藏地方行使主权达到制度化、法律化的程度。规定驻藏大臣与达赖、班禅政治地位平等，共同管理西藏事务；驻藏大臣还掌管地方军事、外交等事务；达赖与班禅的继承经金瓶掣签后报请朝廷批准，D项正确；唐朝时，西藏归属吐蕃政权，排除A项；元朝设宣政院管理西藏，排除B项；明朝对西藏实行贡赐制度，排除C项。故选D项。

6. 当英国获得“进出口货物的关税税率值百抽五，中国不能自由变更”的特权时，负责与英国交涉签约的清朝大臣却认为这是一个很大的外交成功。与此相关的条约是（ ）

- A. 《南京条约》 B. 《北京条约》 C. 《马关条约》 D. 《辛丑条约》

【答案】A

【解析】

【详解】结合所学可知，1842年8月，清政府被迫与英国签订了中国近代史上第一个丧权辱国的不平等条约——中英《南京条约》。在条约中规定：英商进出口货物缴纳的税款，中国须同英国商定。这破坏了中国的关税主权，符合题干中“进出口货物的关税税率值百抽五，中国不能自由变更”说法，A项正确；《北京条约》《马关条约》《辛丑条约》都未涉及关税问题，排除BCD项。故选A项。

7. 梁启超主张：“中国欲保其海上权力，则必须推扩水师”。下列洋务派的主张中，与梁启超海权意识一致的是（ ）

- A. 李鸿章：中国添练水师不容一时稍缓
- B. 曾国藩：火轮船必为中外官员通行之物
- C. 奕訢：请添设一馆，以教习天文算学
- D. 左宗棠：轮船成则漕政兴，海关之税旺

【答案】 A

【解析】

【详解】根据“中国欲保其海上权力，则必须推扩水师”可得出梁启超主张筹建新式海军力量，而“李鸿章：中国添练水师不容一时稍缓”与其思想是相符的，都主张要建立新式海军，A项正确；“火轮船必为中外官员通行之物”与海军无关，排除B项；C项是新式学堂，排除C项；D项主张民用航运可以增加税收，排除D项。故选A项。

8. 1926年，湖南省农民协会的会员达到107万人，到1927年1月，会员又增加到200万人。湖北省农民协会会员在1926年7月是3万多人，到同年11月就增加到了20万人左右。两湖地区农会组织迅速发展的主要原因是（ ）

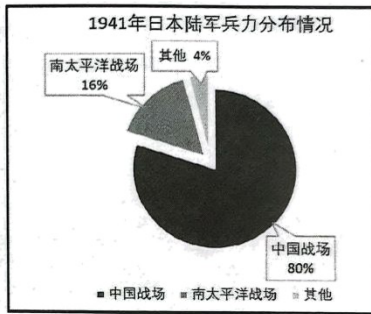
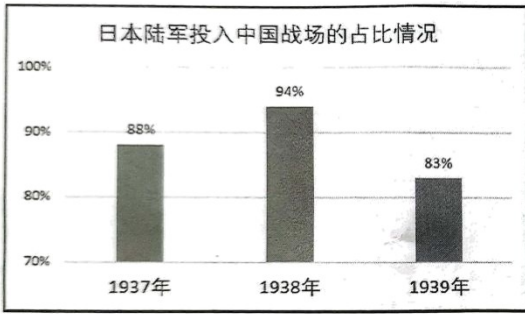
- A. 五四运动扩大
- B. 北伐胜利进军
- C. 红军战略转移
- D. 七七事变爆发

【答案】 B

【解析】

【详解】结合所学可知，1926年，广州国民政府决定北伐。短短几个月，北伐军从珠江流域打到长江流域，震动全国。随着北伐的胜利进军，各地的工农革命运动蓬勃发展。北伐军经过的农村，爆发了疾风暴雨般的农民运动，给了北伐军极大的支持。1926年，湖南省农民协会的会员达到107万人，到1927年1月，会员又增加到200万人。湖北省农民协会会员在1926年7月是3万多人，到同年11月就增加到了20万人左右。因此，北伐胜利进军促进了两湖地区农会组织迅速发展，B项正确；五四运动发生在1919年，排除A项；红军战略转移开始于1934年，排除C项；七七事变爆发是在1937年，排除D项。故选B项。

9. 如图是日本陆军在第二次世界大战期间的兵力投入统计。它们从一个侧面说明了（ ）



- A. 中国共产党高举抗日救亡的旗帜
- B. 日军侵华导致第二次世界大战全面爆发
- C. 正面战场与敌后战场的相互配合
- D. 中国是世界反法西斯战争的东方主战场

【答案】D

【解析】

【详解】根据题干图片：“日本陆军在第二次世界大战期间的兵力投入统计”可知，二战期间，日本陆军80%的都投入到了中国战场。因此，中国是世界反法西斯战争的东方主战场，D项正确；中国共产党高举抗日救亡的旗帜，题干未体现，排除A项；帝国主义国家政治经济发展不平衡的加剧是第二次世界大战爆发的原因，排除B项；正面战场与敌后战场的相互配合，题干中未体现，排除C项。故选D项。

10. 如图所示战役的意义是（ ）



- A. 推动了工农革命运动的发展
- B. 开始武装反抗国民党的斗争
- C. 揭开解放军战略进攻的序幕
- D. 推翻了南京国民政府的统治

【答案】D

【解析】

【详解】根据图片中解放军进攻跨过长江，向长江以南的广大地区进军。结合所学知识可知，1949年4月，

人民解放军百万雄师兵分三路，横渡长江，占领南京，结束了国民党在大陆的统治。国民党残余势力退往台湾。D项正确；第一次国共合作推动了工农革命运动的发展，排除A项；开始武装反抗国民党的斗争是南昌起义，排除B项；刘邓大军挺进大别山揭开解放军战略进攻的序幕，排除C项。故选D项。

11. 在党和政府号召下，青年踊跃参军，1950年底，牡丹江市和海林县共有2278名朝鲜族青年参军，吉林市乌拉街参军人员中满族青年占80%。人民还踊跃捐款，1951年8月底，藏区的康定、甘孜等地捐献50401万元，内蒙捐献460余亿元。少数民族的这些表现，说明（ ）

- A. 解放战争获得广大人民群众空前支持
- B. 各族人民建设社会主义热情高涨
- C. 抗美援朝激发了少数民族的家国情怀
- D. 民族区域自治制度的建立与完善

【答案】C

【解析】

【详解】根据“1950年底，牡丹江市和海林县共有2278名朝鲜族青年参军，吉林市乌拉街参军人员中满族青年占80%。人民还踊跃捐款，1951年8月底，藏区的康定、甘孜等地捐献50401万元，内蒙捐献460余亿元。”可得出抗美援朝中，少数民族人民积极参军，并通过捐款等方式支援前线，这说明抗美援朝激发了少数民族的家国情怀，C项正确；解放战争已经结束，排除A项；材料反映的是抗美援朝，不是社会主义建设，也不是民族区域自治制度的建立，排除BD项。故选C项。

12. 下列四幅图片反映了新中国成立后我国农村生产关系的几次调整。其中确立土地公有制的是（ ）



《中华人民共和国土地改革法》
受到广大农民的热烈拥护



农民申请加入
农业生产合作社



农村人民公社化运动



农民领取家庭联产
承包责任制合同书

【答案】B

【解析】

【详解】结合所学知识可知，三大改造中对农业的改造是实行农业生产合作社，把生产资料从私有制变为社会主义公有制，之后我国一直实行土地公有制，B项正确；土地改革废除了地主土地所有制，实行农民土地所有制，排除A项；人民公社化运动和家庭联产承包责任制都是土地公有制，但其实行的时间晚于三大改造，排除CD项。故选B项。

13. 《六亿人们心花开》写道：“代表们走进了会场，坐上最高国家权力机关的席位，人民有了各项权利，这是中国开天辟地的第一次。”这次会议的召开，标志着（ ）

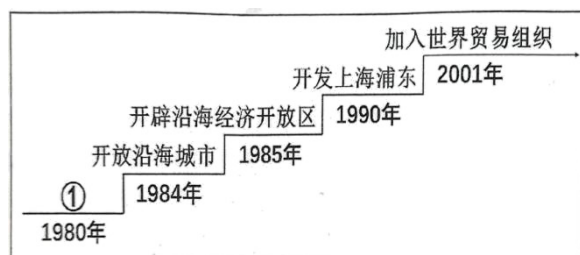
- A. 人民代表大会制度成为我国的根本政治制度
- B. 中共领导的多党合作和政治协商制度的建立
- C. “和平统一、一国两制”对台基本方针形成
- D. 提高基层治理成效的基层群众自治制度建立

【答案】A

【解析】

【详解】根据“代表们走进了会场，坐上最高国家权力机关的席位，人民有了各项权利，这是中国开天辟地的第一次。”可得出这次会议是1954年召开的第一届全国人民代表大会，这次会议的召开，建立了人民代表大会制度，人民代表大会制度成为我国的根本政治制度，A项正确；B项是1949年的一届政协会议，排除B项；C项提出于80年代，排除C项；D项是90年代，排除D项。故选A项。

14. 如图是我国对外开放进程示意图，在图中①处应该填入的内容是（ ）



- A. 设立深圳等经济特区
- B. 建立海南经济特区
- C. 开放重庆等沿江城市
- D. 开放众多内陆城市

【答案】A

【解析】

【详解】结合所学知识可知，1980年，中央决定在广东、福建两省兴办深圳、珠海、汕头、厦门4个经济特区，实行特殊的经济政策和经济管理体制。因此，①是设立经济特区，A项正确；建立海南经济特区在1988年，排除B项；开放重庆等沿江城市在1992年，排除C项；开放众多内陆城市在1992年之后，排除D项。故选A项。

15. 在某校“纵览时代风云，汇聚中国智慧”的综合实践活动成果展中，展示了如下大事年表。它所汇聚的“中国智慧”是（ ）

时间	大事
2014年	亚太经合组织第22次领导人非正式会议在北京举办
2016年	二十国集团领导人峰会在杭州成功举办
2017年	金砖国家领导人在厦门会晤
2019年	第二届“一带一路”国际合作高峰论坛在北京举行
2022年	第24届冬奥会与冬残奥会在北京举行

- A. 加强与亚非国家的团结与合作
B. 积极推动与西方国家建交
C. 争取恢复在联合国的合法席位
D. 全球治理的共商共建共享

【答案】D

【解析】

【详解】根据“亚太经合组织第22次领导人非正式会议在北京举办”“二十国集团领导人峰会在杭州成功举办”“第24届冬奥会与冬残奥会在北京举行”等内容可得出，中国为应对全球问题问题，加强国际间的协商合作，因此材料中的内容所汇聚的“中国智慧”是全球治理的共商共建共享，D项正确；AB项都只是涉及到一个方面，不全面，排除AB项；1971年中国重返联合国，排除C项。故选D项。

16. 如图是关于公元前2500年左右的亚非文明的地图。据图判断，古代亚非文明都发祥于（ ）



- A. 沿海地带
B. 大河流域
C. 高寒山地
D. 草原牧区

【答案】B

【解析】

【详解】从地图中的内容可以看出，古代亚洲的文明都是大河文明，如古巴比伦文明在两河流域，古中国文明在黄河流域等，B项正确；ACD项不符合主旨，排除ACD项。故选B项。

17. 日耳曼人克洛维要求他的臣民都成为天主教徒，他和他的三千名士兵一同皈依了基督教。尽管他在征服过程中的残暴和背信弃义暴露无遗，但主教仍对他大加赞赏。凭借教会的支持，克洛维（ ）

- A. 巩固了法兰克王国
- B. 建立了查理曼帝国
- C. 征服了拜占庭帝国
- D. 强化了幕府的统治

【答案】A

【解析】

【详解】结合所学可知，法兰克王国的建立者克洛维，是当时很有远见和才干的国王。为了稳固自己的统治，克洛维皈依了基督教，承认罗马教会在欧洲的重要地位。在他的带动下，整个法兰克王国都信仰了基督教。克洛维保留了原来罗马大地主的土地，把原属罗马国有的土地和无主土地赐给自己的亲兵和官吏。这样就取得了罗马教会、信基督教的高卢罗马人和部下的广泛支持。因此，克洛维利用基督教巩固了法兰克王国的统治，A项正确；查理曼帝国的建立者是查理，排除B项；征服了拜占庭帝国是奥斯曼，排除C项；幕府统治是日本的，排除D项。故选A项。

18. 世界文明成果辉煌灿烂，各具特点。其中，完整的代数学、脍炙人口的《天方夜谭》、长期被欧洲医学界奉为经典的《医学集成》和《医典》，都属于（ ）

- A. 古希腊文明
- B. 古罗马文明
- C. 阿拉伯文明
- D. 华夏文明

【答案】C

【解析】

【详解】脍炙人口的《天方夜谭》（《一千零一夜》），构思巧妙，情节曲折，语言优美，是阿拉伯文学的瑰宝，因此属于阿拉伯文明，C项正确；排除ABD项。故选C项。

19. 14世纪，佛罗伦萨的市民强烈地感到独立个人的价值，感到自由、平等的可贵，感到占有财富的愉快。这段材料能够体现文艺复兴所提倡的（ ）

- A. 重商主义
- B. 人文主义
- C. 理性主义
- D. 封建主义

【答案】B

【解析】

【详解】依据题干“……强烈地感到独立个人的价值，感到自由、平等的可贵，感到占有财富的愉快”结合所学知识可知，14世纪中叶，资本主义萌芽出现；资产阶级不满罗马教廷对精神的控制，要求建立一种以人为中心而不是以神为中心的生活哲学。因此，在14世纪中叶的意大利兴起了文艺复兴运动。其核心思想

是人文主义——以人为中心而不是以神为中心，提倡发扬人的个性，追求享受现世生活，B项正确；重商主义与文艺复兴无关，排除A项；理性主义是启蒙运动的思想，排除C项；文艺复兴反映资产阶级的诉求，不是封建主义，排除D项。故选B项。

20. 恩格斯指出：这是一部以法国大革命的社会成果为依据并把这些成果转为法律的唯一的现代民法典。这部法律文献是（ ）

- A. 《汉谟拉比法典》
- B. 《十二铜表法》
- C. 《查士丁尼法典》
- D. 《拿破仑法典》

【答案】D

【解析】

【详解】结合所学可知，1804年拿破仑建立“法兰西第一帝国”，拿破仑加冕称帝。主持制定了民法典——《拿破仑法典》，于1804年，颁布实施，巩固了法国资产阶级革命成果。后来，很多国家的民法都以它为参照蓝本，D项正确；《汉谟拉比法典》颁布于古巴比伦王国时期，排除A项；《十二铜表法》颁布于罗马共和国时期，排除B项；《查士丁尼法典》颁布于拜占庭帝国时期，排除C项。故选D项。

21. 斯大林认为，社会主义经济建设一定要“展开真正的布尔什维克的速度”，“我们比先进国家落后了五十年至一百年。我们应当在十年内跑完这段距离”。为此，苏联实施了（ ）

- A. 战时共产主义政策
- B. 新经济政策
- C. 工业化建设
- D. 垦荒运动

【答案】C

【解析】

【详解】结合所学可知，为了改变苏联工业落后的面貌，1925年，斯大林提出实现国家工业化的设想。从1926年起，苏联开始进行社会主义工业化建设。1928——1937年，苏联先后提前完成了第一个、第二个五年计划，由落后的农业国变成了强大的工业国，C项正确；战时共产主义政策，是苏俄在苏俄国内革命战争时期实行的一种特殊经济政策，排除A项；新经济政策实施于1921年，调整了苏俄的经济关系，与题干无关，排除B项；垦荒运动是赫鲁晓夫当政时期的措施，排除D项。故选C项。

22. 如图是1945年发生的两件大事。它们共同见证了（ ）



苏军攻克柏林



美国军舰“密苏里号”上的日本投降仪式

- A. 资本主义经济危机完全消除
- B. 社会主义革命蓬勃兴起
- C. 法西斯主义称霸野心的破灭
- D. 世界和平获得永久保障

【答案】 C

【解析】

【详解】 苏军攻克柏林，以及美国军舰“密苏里号”上的日本投降仪式，都证明的是反法西斯战争的胜利开展，见证了法西斯主义称霸野心的破灭，C项正确；AD项太绝对，排除AD项；材料与社会主义无关，排除B项。故选C项。

23. 1956年，纳赛尔总统以人民的名义宣布：国际苏伊士运河公司收归国有……今天我们真正实现了真正的主权、真正的尊严和真正的自豪。这表明（ ）


- A. 埃及维护国家主权的决心
- B. 印度民族独立运动发展
- C. 世界殖民体系的最终崩溃
- D. 巴拿马收回了运河主权

【答案】 A

【解析】

【详解】 根据“国际苏伊士运河公司收归国有……今天我们真正实现了真正的主权、真正的尊严和真正的自豪。”可得出埃及收回苏伊士运河，维护了国家的主权，A项正确；纳赛尔是埃及总统，不是印度和巴拿马，排除BD项；埃及收回苏伊士运河不是世界殖民体系最终崩溃的标志，排除C项。故选A项。

24. 如图是描绘西欧与美国关系的漫画“今日的竞争”。出现“今日”这种关系的主要原因是（ ）



- A. 杜鲁门主义出台
- B. 马歇尔计划实施
- C. 西欧的联合自强
- D. 两极格局的瓦解

【答案】 C

【解析】

【详解】 从材料内容可得出，西欧的联合冲击了美国的霸权地位，因此出现的主要原因是西欧的联合自强，C项正确；杜鲁门主义、马歇尔计划是从政治及经济上援助西欧，排除AB项；当时两极格局没有瓦解，排除D项。故选C项。

25. “热词”通常能折射时代的风向。自 2020 年新冠疫情发生以来，基于大数据的“健康码”“行程卡”“流调”等新热词广泛传播。这些“热词”反映了当今世界的（ ）

- A. 全球化 B. 信息化 C. 多极化 D. 多元化

【答案】B

【解析】

【详解】根据所学可知“健康码”“行程卡”“流调”等都与当今的信息技术有关，体现的是社会的信息化趋势，B 项正确；ACD 项与主旨无关，排除 ACD 项。故选 B 项。

二.材料解析题

26. 清末民初出现了前所未有的历史变局。阅读下列材料，完成相应任务

材料一 对于许多未经过帝王之治的青年，这场革命的政治意义是常被过低估计的，因为他们没有看到推翻几千年因袭下来的专制政体是多么不易的一件事，同时中华民国的诞生也没有带给他们真正的民主……此后经过多少挫折，自己所追求的民主还是那样遥远，于是慢慢的从痛苦经验中发现了此路不通。

——林伯渠《荏苒三十年》

材料二 1916 年 2 月，陈独秀感觉到“吾人于共和国体之下，备受专制政治之痛苦”。他意识到，此等政治的根本解决，需要多数人的“最后之觉悟”，达成观念的解放。1919 年 1 月，他说明了“最后之觉悟”的途径；既要拥护德先生，又要拥护赛先生，并反对“孔学”所提倡的“封建时代之道德、礼教、生活、政治”。

——摘编自《陈独秀文章选编》（上）

材料三 历史图片



《中华民国临时约法》部分条文



《青年杂志》封面

请回答

- (1) 材料一、二分别涉及了哪两个重大历史事件？概括指出陈独秀期待多数人“最后觉悟”的政治原因。
- (2) 材料三中的图片史料与另外两则文献史料之间构成的是互证关系还是对立关系？
- (3) 据材料一、二并结合所学知识，说明清末民初的政治变局与观念变化。
- (4) 综合上述材料，这一时期的观念变化反映了哪一领域局势的变动？

【答案】 (1) 事件：材料一辛亥革命；材料二；新文化运动

原因：共和国体之下，仍然存在专制统治（答出专制统治即可）。

(2) 关系：互证关系。

(3) 政治变局：共和政体取代专制政体（推翻清朝君主专制统治，建立中华民国）北洋军阀统治（任答 1 点即可）观念变化：拥护民主与科学（民主共和观念深入人心）动摇封建礼教（反对尊孔复古逆流）掀起思想解放潮流（任答 1 点即可）

(4) 领域：政治。

【解析】

【小问 1 详解】

事件：根据“因为他们没有看到推翻几千年因袭下来的专制政体是多么不易的一件事”可得出材料一是推翻清王朝的辛亥革命；根据“既要拥护德先生，又要拥护赛先生”可得出是主张民主与科学的新文化运动。原因：根据“吾人于共和国体之下，备受专制政治之痛苦”可得出共和国体之下，仍然存在专制统治

【小问 2 详解】

关系：根据所学，照片与文献是互证关系。

【小问 3 详解】

政治变局：根据“因为他们没有看到推翻几千年因袭下来的专制政体是多么不易的一件事”可得出共和政体取代专制政体；结合新文化运动的背景可得出当时北洋军阀统治；观念变化：根据“既要拥护德先生，又要拥护赛先生”可得出拥护民主与科学；动摇封建礼教；掀起思想解放潮流等。

【小问 4 详解】

领域：根据所学，思想观念 变化反映的是政治领域的变动。

27. 阅读下列材料，完成相应任务

材料一 大革命失败后，中国共产党人是沿着一条独特的道路，引导中国革命走向复兴并逐步赢得胜利的……在半殖民地半封建的中国，在大革命遭到失败、敌我力量对比极端悬殊的情况下，中国共产党人不可能像俄国十月革命那样，通过首先占领中心城市来取得革命在全国的胜利……这条正确的革命道路，是在党领导人民的集体奋斗中开辟出来的。在这个过程中，毛泽东作出了最卓越的贡献。

——摘编自《中国共产党简史》

材料二 改革开放进入新时代后，习近平对推进社会主义现代化建设作出了一系列重要论述。2021 年，他指出，中国共产党团结带领中国人民推动物质文明、政治文明、精神文明、社会文明、生态文明协调发展，创造了中国式现代化新道路。他强调，中国式现代化新道路将更好地发展自身、造福世界。中国式现代化新道路推动中华民族迎来了从站起来、富起来到强起来的伟大飞跃，实现中华民族伟大复兴进入了不

可逆转的历史进程。

——任理轩《中国共产党与中国式现代化新道路》

请回答

(1) 材料一中，共产党人开辟的这条“独特的道路”是什么？据材料概括这条道路成功开辟的原因。

(2) 据材料二并结合所学知识，指出“中国式现代化新道路”的指导思想；说明这条“新道路”产生的重大影响。

(3) 上述材料集中体现了中国共产党在百年奋斗中所积累的哪一历史经验？

【答案】 (1) 道路：农村包围城市，武装夺取政权的道路（井冈山道路或工农武装割据道路）。

原因：半殖民地半封建社会的国情；中国共产党的集体智慧（党领导人民的集体奋斗）毛泽东的卓越贡献

(2) 指导思想：习近平新时代中国特色社会主义思想。

影响：对内，利于推动中华民族的伟大复兴；对外，利于造福世界

(3) 经验：坚持走中国式道路（坚持将马克思主义普遍真理与中国国情相结合）

（其他如“与时俱进、实事求是、独立自主”等意思相近的，均可）。

【解析】

【详解】 (1) 根据材料一“大革命失败后，中国共产党人是沿着一条独特的道路，引导中国革命走向复兴并逐步赢得胜利的……”结合所学知识可知，国民大革命失败之后，中国共产党的革命道路方向从城市转移到了农村，开辟的“独特的道路”是井冈山道路或工农武装割据，农村包围城市、武装夺取政权的革命道路；根据材料一“……在半殖民地半封建的中国，在大革命遭到失败、敌我力量对比极端悬殊的情况下……这条正确的革命道路，是在党领导人民的集体奋斗中开辟出来的。在这个过程中，毛泽东作出了最卓越的贡献。”可知，农村包围城市、武装夺取政权的革命道路形成的原因有：半殖民地半封建社会的国情，中国共产党的集体智慧（党领导人民的集体奋斗），毛泽东的卓越贡献。

(2) 根据材料二“改革开放进入新时代后，习近平对推进社会主义现代化建设作出了一系列重要论述。

2021年，他指出，中国共产党团结带领中国人民推动物质文明、政治文明、精神文明、社会文明、生态文明协调发展，创造了中国式现代化新道路。”结合所学知识可知，“中国式现代化新道路”的指导思想是马克思主义中国化的最新成果，即习近平新时代中国特色社会主义思想。根据材料二“中国式现代化新道路将更好地发展自身、造福世界。中国式现代化新道路推动中华民族迎来了从站起来、富起来到强起来的伟大飞跃，实现中华民族伟大复兴进入了不可逆转的历史进程。”可知，“中国式现代化新道路”有利于造福世界，有利于推动中华民族的伟大复兴。

(3) 本题属于开放型试题，言之有理即可。如坚持走中国式道路（坚持将马克思主义普遍真理与中国国情相结合）（其他如“与时俱进、实事求是、独立自主”等意思相近的，均可）。

28. 阅读下列材料，完成相应任务

材料一 光荣革命后，英国建立了一个合适的政治制度。这个制度保证社会有宽松、和平的环境，有利于人们追求个人目标，发挥创造力。在市场供求的实际问题面前，技术发明不断产生……建立以机器或以机器协作为基础的工厂，具有强大的生产率优势……进入 19 世纪中期，英国基本实现了工业化，工场手工业发展为大机器生产，并成为以轻纺工业为主导的工业国。

——摘编自钱乘旦、许洁明《英国通史》

材料二 明治政府参照赴欧美考察的使节团所报告的先进经验，进行近代化建设。政府运用国家政权的力量，按照西方的样板，发展经济。1880 年以前，主要采用国有企业主导和“示范”的工业化方针，国家投资兴办官营企业，引进西方的科技成就与设备，从而供私人资本主义企业仿效。为加速工业化进程，1880 年以后，政府实行“官业下放”，将官营企业转让给私人资本家，大力扶植和保护私人资本主义。

——摘编自吴于廑、齐世荣《世界史·近代史编》（下卷）

请回答

- (1) 据材料一，概括英国实现工业化的具体条件；指出英国“工业国”的特征。
- (2) 据材料二，概括日本实现工业化的主要特点和相应举措。
- (3) 综合上述材料，概括英国和日本实现工业化的共同因素。

【答案】 (1) 条件：建立合适的政治制度（君主立宪制）市场的不断扩大；生产技术的发明与革新；现代工厂制度的确立（任答 2 点即可）

特征：以轻纺工业 主导。

- (2) 特点：运用国家政权的力量（政府干预）模仿西方（按照西方的样板）

举措：兴办官营企业；引用西方先进技术设备；扶植和保护私人资本主义（官营转私营）

- (3) 共同因素：有制度或政策保障；重视科技成就（任答 1 点即可）

【解析】

【小问 1 详解】

条件：根据“光荣革命后，英国建立了一个合适的政治制度”得出建立合适的政治制度（君主立宪制）根据“在市场供求的实际问题面前，技术发明不断产生……建立以机器或以机器协作为基础的工厂”得出市场的不断扩大；生产技术的发明与革新；现代工厂制度的确立。特征：根据“工场手工业发展为大机器生产，并成为以轻纺工业为主导的工业国。”得出以轻纺工业为主导。

【小问 2 详解】

特点：根据“政府运用国家政权的力量，按照西方的样板，发展经济”得出运用国家政权的力量；模仿西方。举措：根据“国家投资兴办官营企业，引进西方的科技成就与设备，从而供私人资本主义企业仿效”得出兴办官营企业；引用西方先进技术设备；根据“将官营企业转让给私人资本家，大力扶植和保护私人资本主

义。”可得出扶植和保护私人资本主义

【小问3 详解】

共同因素：从材料的内容可得出有制度或政策保障；重视科技成就等。

29. 19 世纪初的国际格局是欧洲列强统治世界，但 20 世纪初期，这一格局改变了。阅读下列材料，完成相应任务

20 世纪初期，俄国十月革命的胜利冲破了世界帝国主义阵线，在世界 1/6 的土地上创建了第一个无产阶级专政的国家。一战后，欧洲走向没落，美国和日本则利用战争发展了自己的力量。纽约取代了伦敦的国际金融中心地位，日本成为英法等国的债权国。

20 世纪初期，帝国主义依据实力强权，确立了从欧洲到非洲和亚太地区的新国际格局，即凡尔赛——华盛顿体系，改变了以欧洲列强为中心的国际格局。战后兴起了两股巨大的政治力量，是帝国主义所无法摆布的。一是社会主义国家苏联的强大以及各国无产阶级革命运动，它打破了资本主义一统天下的局面，二是殖民地半殖民地国家蓬勃开展的民族解放运动，它削弱了帝国主义的殖民势力。这两股政治力量的结合，加速了人类历史的进步过程。这表明，列强统治世界的政治格局再也无法维持下去了。

——摘编自吴于廑、齐世荣《世界史·现代史编》（上卷）

请回答

(1) 据材料并结合所学知识，指出俄国十月革命创建了什么性质的国家？20 世纪初的“新国际格局”是通过哪两次国际会议建立的？

(2) 据材料概括说明欧洲列强统治世界的政治格局无法维持下去的主要理由。

(3) 据材料并结合所学知识，指出 20 世纪初世界历史具有进步意义的历史趋势。

【答案】 (1) 性质：无产阶级专政（苏维埃政权、社会主义国家）会议：巴黎和会；华盛顿会议

(2) 主要理由：帝国主义阵线被十月革命所冲破（社会主义力量的壮大或无产阶级革命运动的发展）欧洲为中心的国际格局被“凡尔赛——华盛顿体系”所改变；欧洲的衰落（美日的发展）帝国主义无力摆脱两股政治力量的冲击（民族解放运动削弱殖民势力）（任答 3 点即可）

(3) 历史趋势：社会主义由理想变为现实；民族解放运动动摇帝国主义殖民体系（任答 1 点即可）。

【解析】

【小问1 详解】

根据材料“20 世纪初期，俄国十月革命的胜利冲破了世界帝国主义阵线，在世界 1/6 的土地上创建了第一个无产阶级专政的国家。”，结合所学知识可知，俄国十月革命创建了无产阶级专政（或：苏维埃政权、社会主义国家）；根据材料“20 世纪初期，帝国主义依据实力强权，确立了从欧洲到非洲和亚太地区的新国际格局，即凡尔赛——华盛顿体系，改变了以欧洲列强为中心的国际格局”，结合所学知识可知，1919 年 1 月，胜利的协约国集团为解决战争问题、处置德国、缔结和约，召开巴黎和会。会议最后签订了《凡尔赛

和约》，形成了凡尔赛体系；巴黎和会后，美、英、日等帝国主义国家为重新瓜分远东和太平洋地区的殖民地和势力范围，由美国建议召开华盛顿会议。会议最后签订《四国条约》、《五国海军条约》、《九国公约》等条约，形成了华盛顿体系；两次会议的召开，最终确立了凡尔赛——华盛顿体系。

【小问2详解】

根据材料“20世纪初期，俄国十月革命的胜利冲破了世界帝国主义阵线，在世界 1/6 的土地上创建了第一个无产阶级专政的国家”“一是社会主义国家苏联的强大以及各国无产阶级革命运动，它打破了资本主义一统天下的局面，二是殖民地半殖民地国家蓬勃开展的民族解放运动，它削弱了帝国主义的殖民势力”，概括可知，帝国主义阵线被十月革命所冲破（或：社会主义力量的壮大；或：无产阶级革命运动的发展）；根据材料“20世纪初期，帝国主义依据实力强权，确立了从欧洲到非洲和亚太地区的新国际格局，即凡尔赛——华盛顿体系，改变了以欧洲列强为中心的国际格局”，概括可知，欧洲为中心的国际格局被“凡尔赛——华盛顿体系”所改变；根据材料“战后兴起了两股巨大的政治力量，是帝国主义所无法摆布的”，概括可知，欧洲的衰落（美日的发展）帝国主义无力摆脱两股政治力量的冲击（或：民族解放运动削弱殖民势力）。

【小问3详解】

根据材料“20世纪初期，俄国十月革命的胜利冲破了世界帝国主义阵线，在世界 1/6 的土地上创建了第一个无产阶级专政的国家。”“战后兴起了两股巨大的政治力量，是帝国主义所无法摆布的。一是社会主义国家苏联的强大以及各国无产阶级革命运动，它打破了资本主义一统天下的局面，二是殖民地半殖民地国家蓬勃开展的民族解放运动，它削弱了帝国主义的殖民势力。这两股政治力量的结合，加速了人类历史的进步过程。”，结合所学知识可知，20世纪初世界历史具有进步意义的历史趋势为：社会主义由理想变为现实，民族解放运动动摇帝国主义殖民体系。

