


# 2022年青岛市初中学业水平考试

## 历史试题

### 第I卷 (共40分)

一、单项选择题 (本大题共40小题, 每小题1分, 共40分在每小题给出的四个选项中, 只有一项是符合题目要求的)

1. 榫卯 (sǎn mǎo), 是利用凹凸结构相互咬合实现连接的木构件工艺 (见下图)。中国迄今为止发现的最早榫卯木构件出土于浙江河姆渡遗址。河姆渡人可能利用这项技术 ( )



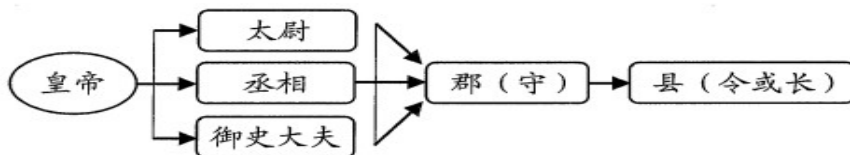
榫卯结构示意图。

A. 制作精美玉器      B. 制作青铜农具      C. 建造干栏式房屋      D. 建造半地穴式房屋

2. 战国时期, 秦国通过变法打破了贵族阶层世袭, 建立了军功爵制, 将战功作为升迁的主要依据。这种改变直接有利于秦国 ( )

A. 稳定社会秩序      B. 发展社会经济      C. 提高军队战斗力      D. 实现民族交融

3. 据下图判断, 秦朝地方行政的基本模式是 ( )



A. 皇帝制度      B. 丞相制度      C. 太尉制度      D. 郡县制度

4. 以下文物能够反映汉朝历史的是 ( )



A. 刻有文字的甲骨      B. 司母戊鼎      C. “汉并天下”瓦当      D. 契丹鸡冠壶

5. 综合以下文献史料, 得出的推论符合史实的是 ( )

《三国志·吴书·张昭传》	“汉末大乱, 徐方士民多避难扬土。”
--------------	--------------------

《三国志·魏书·卫觐传》	“(汉末)关中膏腴之地，顷遭荒乱，人民流入荆州者十万余家。”
《三国志·吴书·全琮传》	“ 时（汉末）中州士人避乱而南。”

- A. 三国时期吴国人口最多  
B. 东汉末年人口南迁  
C. 三国时期魏国经济繁荣  
D. 东汉末年社会稳定

6. 在两汉与隋唐两个大一统时期之间，有一个恰似处于两大历史高峰之间的一段漫长而曲折的“山谷”。这个“山谷”所指的时期是（ ）

- A. 夏商周时期  
B. 魏晋南北朝时期  
C. 辽宋夏金元时期  
D. 明清时期

7. 小丽是某个朝代的“粉丝”，她对自己喜爱的朝代进行了知识梳理，部分内容如下图。由此判断，该朝代是（ ）

政治——“贞观之治”、“开元盛世” 经济——曲辕犁、筒车、唐三彩 对外——玄奘西行、鉴真东渡
--

- A. 商朝  
B. 秦朝  
C. 西晋  
D. 唐朝

8. “宋辽金对峙的 300 多年间，传统社会的经济、政治、文化中心，完成了由黄河流域向长江流域的转变。”以下能体现“这一转变”的现象是（ ）

- A. 经济重心南移完成  
B. 君主专制空前加强  
C. 儒学成为主导思想  
D. 北方民族实现交融

9. 公元 13 世纪上半叶，一个让全世界都震惊的草原游牧帝国跃出历史地平线，之后横扫欧亚大陆。这个“草原游牧帝国”的缔造者是（ ）

- A. 成吉思汗  
B. 阿保机  
C. 阿骨打  
D. 努尔哈赤

10. 在中国活字印刷技术的影响下，欧洲人古腾堡探索发明出机械铅活字印刷技术。近代以来，经过“留洋升级”后的印刷术又“反哺”中国。材料说明（ ）

- A. 欧洲科技发明始终领先世界  
B. 人类文明在交流互鉴中进步  
C. 世界各国是彼此孤立发展的  
D. 古腾堡最早发明活字印刷术

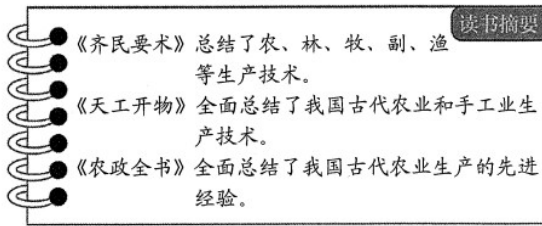
11. 明清时期的中国，在世界文明的赛场中逐渐落后，又因为虚弱与自我陶醉错失了开拓市场、拥抱世界的机会。这一时期“虚弱与自我陶醉”的表现有（ ）

- A. 推行重文轻武的政策  
B. 创立科举制度

C. 实行闭关锁国的政策

D. 发展海外贸易

12. 下图所示读书摘要反映了中国古代科技发展的主要特点是 ( )



A. 注重理论创新

B. 注重经验总结

C. 注重实验分析

D. 全面领先世界

13. 综合下表信息，得出的结论符合这一时期史实的是 ( )

鸦片战争 (1840-1842 年)	第二次鸦片战争 (1856-1860 年)
《南京条约》 开放广州、福州、厦门、宁波、 上海五处为通商口岸	《天津条约》 增开汉口，南京等十处 为通商口岸
《南京条约》 割香港岛给英国。	《爱珲条约》 沙俄割占中国领土 60 多 万平千米

A. 清朝主动开放力度加强

B. 中国的半殖民地化程度进一步加深

C. 清朝通商口岸日益减少

D. 中国完全沦为半殖民地半封建社会

14. 鸦片战争以来，西洋人步步紧逼而来，中国必须迎头抗御这一挑战，断然采纳西式船炮来加强自身。

据此判断，下列属于 19 世纪 60 年代中国“迎头抗御这一挑战”的措施是 ( )

A. 创办近代军事企业

B. 允许广大官民上书言事

C. 建立起京师大学堂

D. 鼓励私人兴办工矿企业

15. “甲午战争，我们被日本一举打败，这个刺激才真正刺痛了中国的士大夫，以高级官僚和士大夫为代表的中国社会精英阶层，一边在应付来自外来的挑战，另一边也逐渐缓慢地开始反思。”19 世纪末，这种“反思”演化成的实际行动是 ( )

A. 洋务运动

B. 百日维新

C. 武昌起义

D. 新文化运动

16. 1839 年，林则徐在这座城市开启了轰轰烈烈的禁烟运动；1911 年，革命党人在这座城市高举义旗，与清军展开激烈巷战，史称“黄花岗起义”。“这座城市”是 ( )

A. 北京

B. 上海

C. 广州

D. 武汉

17. “洋务运动、太平天国、辛亥革命没有完成启蒙，中国移植了民主宪政，却出现了严重水土不服，民主自由没有成为一种社会常识和社会共识。”材料指出了新文化运动的 ( )

- A. 背景                      B. 内容                      C. 过程                      D. 地位

18. 下图漫画中的学生们高举“誓死力争，还我青岛”“外争主权，内除国贼”等标语举行示威游行。漫画反映的历史事件（ ）




- A. 开启了中国的近代化进程                      B. 推翻了清王朝的反动统治  
C. 成为中国新民主主义革命的开端                      D. 终结了中国两千多年的封建制度

19. 20 世纪 20 年代初期一次民意测验表明，爱吃中餐者占 77%，爱吃西餐、中式西餐、兼食中餐者占 23%。中西餐交相辉映，共同构成了民国饮食业的新格局。材料反映了民国时期（ ）

- A. 民主共和的进程                      B. 新式教育的出现                      C. 文学艺术的发展                      D. 社会生活的变化

20. 为庆祝抗日战争胜利 77 周年，某校筹备组织“铭记历史铸国魂”主题活动。在活动征集中，同学们搜集到了如下素材。这反映出中国抗日战争的特点是（ ）



- A. 正面战场是主战场                      B. 全民族抗战                      C. 敌后战场是主战场                      D. 持续时间长

21. 1945 年 10 月 13 日，延安《解放日报》发表社论“抗战胜利以后，……它不仅是战后中国和平、民主、团结、统一的关键，而且也影响着远东和全世界的持久和平。”社论中的“它”是（ ）

- A. 中共一大                      B. 遵义会议                      C. 中共七大                      D. 重庆谈判

22. “渡江战役的胜利是靠老百姓用小船划出来的。”这体现出渡江战役胜利的原因是（ ）

- A. 人民群众的支持                      B. 国民党军队的装备先进  
C. 抗日战争的正义性                      D. 国民党将领的错误指挥

23. 徐特立是中国革命家和教育家，被尊为“延安五老”之一。下图是他 1954 年参加第一届全国人民代表大会的代表证。通过此次会议，他可以见证（ ）



- A. 《义勇军进行曲》被定为代国歌                      B. 《中华人民共和国土地改革法》的颁布  
C. 《中华人民共和国宪法》的颁布                      D. 《中华人民共和国民族区域自治法》的颁布

24. 1971年10月，刚果总统约见中国驻刚果大使时表示：“这不仅是人民中国的胜利，也是所有进步国家的胜利，是人类和平和正义事业的胜利。”刚果总统所指的“人民中国的胜利”是（ ）

- A. 中国重返联合国      B. 中日正式建交      C. 中美正式建交      D. 中国加入世界贸易组织

25. 综合下表中的信息可知，导致数据变化的主要原因是（ ）

1978—1987年（部分年份）我国主要农产品产量的变化情况（单位：百万吨）				
时间 农产品	1978年	1980年	1984年	1987年
粮食	304.77	320.56	407.31	420.41
油料作物	5.21	7.69	11.91	15.25

- A. 《中国土地法大纲》的颁布      B. 人民公社化运动的开展  
C. 城市经济体制改革的推进      D. 农村生产关系的调整

26. 1982年深圳国际贸易中心大厦创造了“三天一层楼”惊人奇迹，被称为“深圳速度”。同时被称为“深圳速度”的，还有深圳人创造的办事效率高、条条框框少、工作和生活节奏快。下列选项与“深圳速度”的出现相关的是（ ）

- A. 经济特区的建立      B. 经济开放区的开辟  
C. 沿海城市的开放      D. 特别行政区的建立

27. 《世界歌唱你的梦》中唱道：“你把禾下乘凉梦献给未来，你是天空最亮星辰。……稻浪回响一首歌，世界歌唱你的梦。”这首歌赞颂的人物是（ ）

- A. 焦裕禄      B. 钱学森      C. 袁隆平      D. 邓稼先

28. 中国共产党的历史，是一部不断进行理论创新、推进马克思主义中国化的历史。每一次理论创新，都深刻回答了不同时代面临的重大课题。回答了20世纪八九十年代中国“时代课题”的思想是（ ）

- A. 毛泽东思想      B. 邓小平理论      C. “三个代表”重要思想      D. 科学发展观

29. 西欧中世纪是一个漫长的历史时期，绝大部分人口居住在庄园里。有人说，那时的老百姓可能对国界毫无概念，但对村界一清二楚。材料反映了西欧庄园的特点是（ ）

- A. 等级制度森严      B. 实行资本主义制度      C. 封建制度解体      D. 具有相对的独立性

30. 下图是某中学历史社团举办讲座的宣传海报。讲座的名称可能是（ ）

历史大讲堂

讲座名称: \_\_\_\_\_

关键词:《查士丁尼法典》、地跨欧亚非三大洲的帝国、兼容并蓄的文化

主讲人: 李华

地点: 求知楼报告厅

时间: 2022年5月23日 14:00

A. 灿烂的拜占庭文化

B. 读懂雅典民主政治

C. 亚历山大帝国的崛起

D. 阿拉伯帝国兴衰启示录

31. 他的作品,无论是《李尔王》等历史剧,还是《罗密欧与朱丽叶》《威尼斯商人》等悲喜剧,都充分体现了人文主义者的生活理想。“他”是 ( )

A 但丁

B. 莎士比亚

C. 达尔文

D. 巴尔扎克

32. 1492年10月12日凌晨两点,瞭望员万分激动而又略显惶恐地惊叫“陆地!陆地!”所有人互相拥抱,他们点燃火炮向天鸣放,这是新航路开辟中激动人心的一幕。这一幕反映的历史事件是 ( )

A. 郑和下西洋

B. 哥伦布“发现”美洲

C. 麦哲伦船队环球航行

D. “三角贸易”

33. 1851年在伦敦万国博览会开幕的前两天,维多利亚女王在日记中写道“我们什么都能做”,女王的思想反映了当时英国人自豪的心情。这种自豪主要源于英国 ( )

A. 首先兴起文艺复兴

B. 最早开辟了新航路

C. 完成资产阶级革命

D. 率先完成工业革命

34. 下图是《共产党宣言》中文全译本出版一百周年纪念邮票。画面中的陈望道在翻译此书时,把墨汁当红糖水蘸粽子吃,留下了“真理的味道真甜”的佳话。下列选项与著作中“真理味道”无关的是 ( )



A. “城市的空气使人自由”

B. 无产阶级要建立自己的政党

C. 工人阶级创造了巨大的社会财富

D. 号召工人阶级要进行无产阶级革命

35. “人类文明的发展常常有惊人的巧合。在近现代世界大舞台上,最早在西方成长为现代工业化国家的,是亚欧大陆西北端的岛国英吉利;与此相对应,最先在东方追随西方世界走向现代化道路、迅速成为发达工业国家的,则是亚欧大陆东北端的岛国日本。”下列选项属于两个岛国“走向现代化”共同原因的是 ( )

A. 进行了资产阶级革命

B. 走上了资本主义道路

C. 进行了资产阶级改革

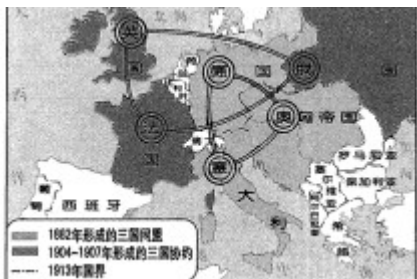
D. 走上了军国主义道路

36. 世纪之交的美国进入了“发明的时代”。1860年至1890年,美国国家专利局登记的专利证达44万件。美国的经济以前所未有的速度发展,工业产量超过英国、德国成为世界第一。在19世纪后半期里,美国工业

总产量增长了12倍。材料说明（ ）

- A. 英国经济没有任何发展
- B. 美国科技始终领先英国
- C. 德国经济跃居世界第一
- D. 科技是经济发展的动力

37. 阅读下图，你能提取到的历史信息是（ ）



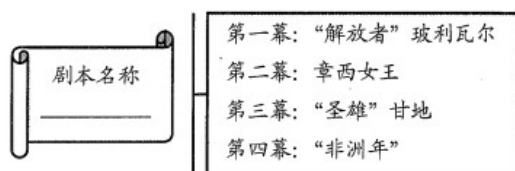
- A. 一战前欧洲形成了两大军事集团
- B. 三国协约建立时间早于三国同盟
- C. 一战前美国便加入了协约国集团
- D. 解决国际争端问题只能依靠战争

38. 下表信息说明世界反法西斯战争最早始于（ ）

主要战场	开始时间	世界反法西斯战争大事记
东方主战场	1931年9月	日本制造“九一八事变”，中国人民开始艰苦卓绝的抗战。
欧洲西线	1939年9月	德军闪击波兰，英、法被迫宣战。
欧洲东线	1941年6月	德军向苏联发动突然进攻，苏联军民顽强抵抗
太平洋战场	1941年12月	日军偷袭珍珠港、美、英对日宣战

- A. 苏联
- B. 波兰
- C. 中国
- D. 美国

39. 下图是某班同学为排演历史剧拟定的剧本大纲。（ ）



- A. 亚非拉的社会主义革命
- B. 亚非拉的资产阶级改革
- C. 亚非拉的民族独立斗争
- D. 亚非拉的资产阶级革命

40. 历史上，国际格局的转型往往孕育着原有强国的衰落与新兴大国的崛起。从第一次世界大战结束后凡尔赛—华盛顿体系的确立，到第二次世界大战结束前夕雅尔塔体系的确立，国际格局完成了又一次转型。

在“又一次转型”中兴起的大国是

- A. 美国和苏联                      B. 英国和法国                      C. 德国和日本                      D. 英国和美国

## 第II卷 (共40分)

### 二、材料解析题 (本大题共4小题, 共40分)

41. 2022年5月18日国际博物馆日的主题是“博物馆的力量”。亲爱的同学们, 让我们开启一段美妙的博物馆研学之旅吧! 请在活动结束后完成本次研学任务单。



汉代“孔子见老子”画像石

#### 第一站【走进“山博”——感悟文化特色】

现在看到的是山东博物馆馆藏的汉代“孔子见老子”画像石。它镌刻了两位伟大先贤的友好会面, 记录了当时的思想碰撞。据统计, 汉代“孔子见老子”画像石发现的数量以山东居多。

#### 第二站【云游“国博”——提升民族自信】


汉代“孔子见老子”画像石接下来, 让我们走进中国国家博物馆举办的“中国古代钱币”云平台专题展, 对这次展览中三个单元的部分货币进行研究性学习。

单元	典型货币	简介
异 曲 同工		战国时期货币的最大特点是种类繁多, 币制混乱, 形成了多币制和多币型长期共存并用的特殊局面。
周 圆 函 方		半两币制是我国历史上最早的货币立法, 其形制是秦以后我国乃至整个东亚地区两千余年的钱币基本形制。
一 纸 千金		北宋前期出现纸币。元朝是世界上最早实行统一的纸币作为基本货币制度的国家, 是我国古代国家信用纸币制度的顶峰。这一时期的纸币

基本上已经具备了近代纸币的雏形。

### 第三站【畅游“联博展”——品味交流互鉴】

现在我们来到今天研学之旅的最后一站，“殊方共享——丝绸之路国家博物馆文物精品展”。这里展现了丝绸之路沿线国家多样的文化。接下来，我们将遇见一只呆萌的“小狮子”。

	名 片
	姓名：苏哈尔之狮                      出生时间：公元 10 世纪晚期的宋朝
	家乡：中国                                  现居住地：阿曼苏丹国国家博物馆
	经历：经海上丝绸之路来到阿曼，于 1981 年在阿曼苏哈尔被考古发现。

(1) 通过第一站的参观并结合所学知识，分析“孔子见老子”画像石在山东居多的原因。

合理想象他们围绕“治国方案”会展开怎样的对话。

(2) 通过第二站的参观，概括战国到元朝货币发生了哪些变化并分析变化带来的影响。

(3) 如果文物会说话，第三站中呆萌的“苏哈尔之狮”将会如何介绍海上丝绸之路呢？

(4) 同学们，快乐研学结束了，你认为博物馆可以给予我们怎样的“力量”？

42. 为“讲好一段历史，引导一代青年”，李老师参考纪录片《百年党史“潮”青年》，设计了以下学习任务单。请你完成相关学习任务。

### 任务一【释读地图——回溯革命怒潮】

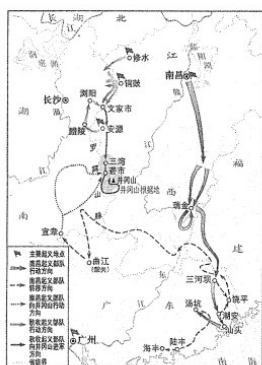


图 1

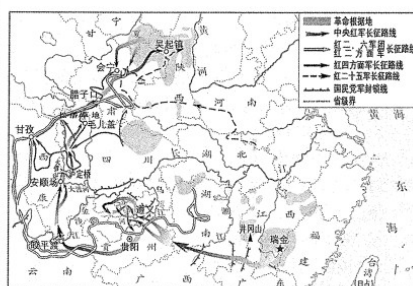


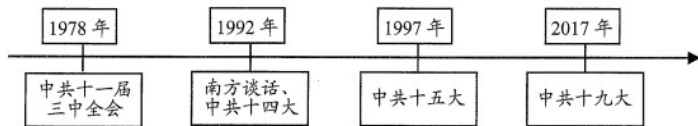
图 2

### 任务二【解读史料——感受建设热潮】

随着苏联对我国重工业与军工产业领域援建的 156 个项目逐步建立，以重工业为主导的我国工业发展十分迅速。到 1957 年，全国工业总产值已经达到 704 亿元，是 1949 年的 5.02 倍，钢铁、煤炭、棉布等主要工业产品产量也有大幅提升。

——摘编自陶长琪等《新中国成立 70 年中国工业化进程与经济发展》

### 任务三【识读年代尺——见证改革浪潮】



任务四【以史为鉴—投身逐梦大潮】



邱少云  
抗美援朝战斗英雄



雷锋  
时代精神楷模



王亚平  
中国女航天员



苏翊鸣  
2022年冬奥会冠军

- (1) 从任务一中任选一幅地图，说明其反映的历史事件是如何开创革命新局面的。
- (2) 根据任务二并结合所学知识，概括“工业产品产量”的变化并分析原因。
- (3) 中国改革的步伐一刻也没有停歇。请你根据任务三并结合所学知识，从以上年代尺中任选一个年份作为中国的“改革年”，并说明其入选理由。
- (4) 从任务四中可以看到，每一个时代都有自己的“潮”青年，我们应该如何做一名新时代的“潮”青年？

43. 为更好地了解世界文明史，某班成立了研究性学习小组，搜集到以下资料。请你共同参与他们的研究性学习。

材料一

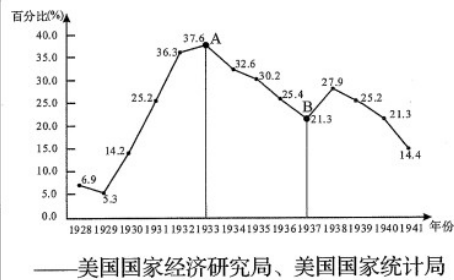
<p>人人生而平等，他们都从他们的“造物主”那边被赋予了某些不可转让的权利，其中包括生命权、自由权和追求幸福的权利。</p> <p>——《独立宣言》</p> <p>在法律面前，所有的公民都是平等的，故他们都能平等地按其能力担任一切官职、公共职位和职务，除德行和才能上的差别外，不得有其他差别。</p> <p>——《人权宣言》</p>	<p>凡未经议会同意，以国王权威停止法律或停止法律实施之僭越权力，为非法权力……除经议会同意外，平时在本王国内征募或维持常备军，皆属违法。</p> <p>——《权利法案》</p> <p>1787年美国宪法确认了某些资产阶级的民主原则，一是分权与制衡原则，立法、行政、司法三权分别由国会、总统和联邦法院行使；二是有限政府原则；三是代议政府原则。</p> <p>——摘编自何勤华《外国法制史》</p>
--	--

材料二

……无疑体现了列宁从本国国情出发的实事求是态度和正确抉择，它使红色苏俄迅速度过经济危机，人民生活有了基本保证，社会逐步安定。而且它也有一定的理论意义，即摆脱了对社会主义的教条式理解，而以发展经济、改善和提高人民的生活条件为根本标准。这对后来的社会主义运动和改革都有一定的启发性。

——刘景华《人类六千年》

《1928—1941年美国失业率图表》



材料三 文明，无论其范围广大还是狭小，在地图上总能找到它们的坐标。它们的本质特征取决于它们的地理位置所带来的局限或便利。在历史的黎明时期，古代世界繁荣着许多大河文明……与此类似，还有海生文明……没有一种文明可以毫不流动地存续下来：所有文明都通过贸易和外来者的激励作用得到了丰富。

——摘编自布罗代尔《文明史——人类五千年文明的传承与交流》

(1) 根据材料一并结合所学知识概括，《独立宣言》和《人权宣言》在内容上有何共同之处？

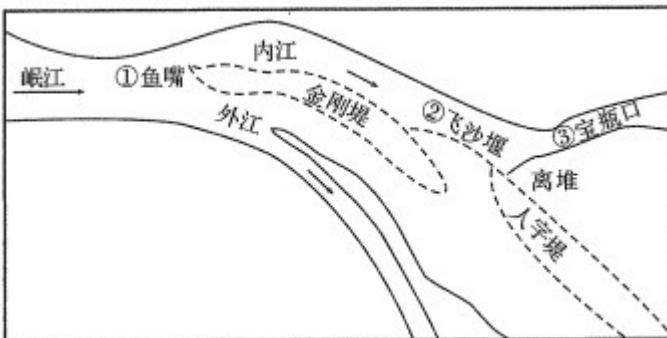
英国《权利法案》和美国《1787年宪法》取得的不同政治成果是什么？

(2) 根据材料二并结合所学知识，指出“使红色苏俄迅速度过经济危机”的主要原因和图表中A点到B点美国失业率下降的主要原因。

(3) 根据材料三，指出布罗代尔认为影响文明发展的因素有哪些。综合上述材料并结合所学知识，你认为影响文明发展的因素还有哪些？

44. 讲好中国故事，书写未来新篇章。阅读下列材料，完成相关问题。

故事一【诉说都江堰千秋功绩】



李冰在没有改变岷江自然流向的情况下，因势利导，通过修筑鱼嘴、飞沙堰、宝瓶口等三大工程实现无坝引水，既做到了防洪，又对成都平原进行了灌溉。同时，都江堰在使用中坚持的适度取水原则和岁修管理制度，使其实现了可持续利用的理想效果，是人水和谐、生态水利的光辉典范，对当代水利工


	<p>程建设具有重要的启示作用。</p> <p>——摘编自王瑞芳《人水和谐的典范》</p>
--	---

### 故事二【管窥《本草纲目》医学贡献】

李时珍，痴迷于研读《伤寒杂病论》等著名医药典籍，“读书十年，不出户庭”。他对历代本草药物种类整理汇编，厘正各家本草的谬误，收集药物总数达 1892 种，并将药物总共分成 16 个大部，60 个门类，建立药物纲目体系。《本草纲目》所创立的药物学科学体系分类，结构严谨，条理清晰，使我国中药学发展进入一个更科学化的划分时代。

——摘编自刘英杰等《从〈本草纲目〉管窥李时珍之医学精神》

### 故事三【书写“传承创新向未来”新篇章】

	<p>“立春”之日，2022 年北京冬奥会开幕。本届冬奥会“中国风”贯穿始终，“中国味”融入细节，“中国情”感动人心。会徽以汉字“冬”为灵感来源，融汇中国书法等多种传统艺术形式……整场开幕式将东方文化底蕴与国际化现代风格融为一体。</p>
---	---

- (1) 根据故事一并结合所学知识，请你总结都江堰工程彰显的中国人的智慧。
- (2) 根据故事二，请你概括《本草纲目》的特点。
- (3) 中华文明之所以绵延不绝，在于传承与创新。翻开历史长卷，或是制度创新，或是经济变革，或是科技进步，或是文化传承，勤劳智慧的中国人在各自不同领域书写着精彩纷呈的中国故事。上面三个故事，引发了你怎样的思考？请结合所学知识，以“传承创新向未来”为主题写一篇不少于 200 字的历史小论文。  
要求：题目自拟，观点明确，重点突出，史论结合，逻辑清晰。

