

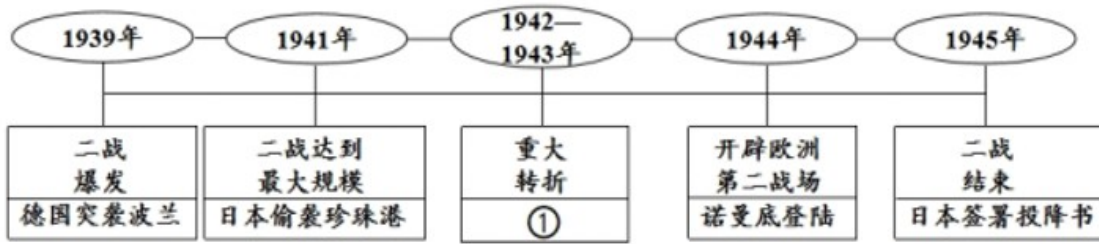
2021 湖北襄阳历史试题

一、选择题

1. 震图文本框的内容反映的主题是

墨子主张“兼爱”“非攻”，反对攻伐兼并，残害生命；
孟子主张实行“仁政”，反对一切非正义的战争；
庄子认为治国要顺应自然和民心；
韩非子主张以法治国，树立君主的权威，建立中央集权专制统治。

- A. 百家争鸣 B. 诸侯争霸 C. 商鞅变法 D. 远古传说
2. 造纸术的发明是中国对世界文明的伟大贡献之一。人们能用到便宜且好用的纸要感谢
- A. 司马迁 B. 蔡伦 C. 毕昇 D. 张仲景
3. 襄阳诗人皮日休有诗曰：“尽道隋亡为此河，至今千里赖通波。”诗人称赞的古代工程是
- A. 长城 B. 都江堰 C. 大运河 D. 紫禁城
4. 下列不符合“中国古代对外友好交往”这一主题的是
- A. 鉴真东渡 B. 玄奘西游 C. 郑和下西洋 D. 戚继光抗倭
5. 襄阳乃兵家重地，曾是抵御日寇的一方热土，在枣宜会战中为国捐躯的民族英雄是
- A. 张自忠 B. 左权 C. 赵登禹 D. 杨靖宇
6. 下列会议与遵义会议具有相似历史地位的是
- A. 中共一大 B. 中共二大 C. 中共七大 D. 十一届三中全会
7. “感动中国人物”颁奖词写道：“他是一位真正的耕耘者。当他还是一个乡村教师的时候，已经具有颠覆世界权威的胆识；当他名满天下的时候，却仍然只是专注于田畴……他毕生的梦想，就是让所有人远离饥饿”。材料中赞誉的“他”是
- A. 王进喜 B. 邓稼先 C. 袁隆平 D. 钱学森
8. 近代史上，哪一部法律文献成为多国民法 参照蓝本
- A. 《权利法案》 B. 《独立宣言》 C. 《人权宣言》 D. 《拿破仑法典》
9. 当今世界，影响最大的国际组织是
- A. 联合国 B. 欧盟 C. 北约 D. 世界贸易组织
10. 我们可以通过画示意图的方法记忆第二次世界大战的进程，图中①处该填入的内容是



- A. 凡尔登战役 B. 莫斯科保卫战 C. 武汉会战 D. 斯大林格勒战役

二、非选择题。

11. 【疆域管理国家统一】



图 1

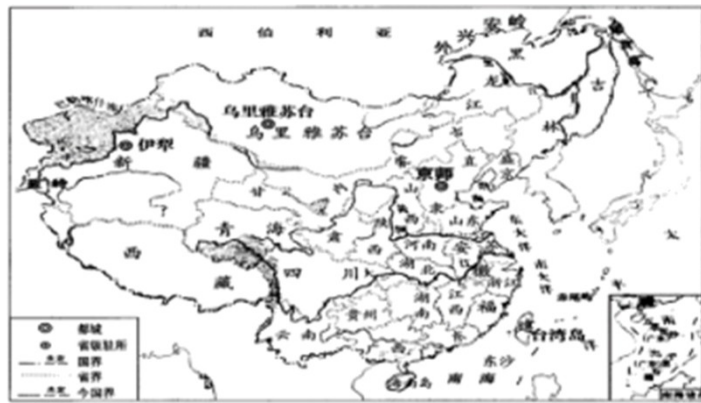


图 2 清朝疆域图（1820 年）

- (1) 图 1 是哪个朝代的形势图？指出图 1 中的地方制度。
 (2) 图 2 中内地有 18 个行省，该行省制度源于哪个朝代？
 (3) 图 2 中东北、北部和西部边疆有 5 个将军辖区和 2 个办事大臣辖区及内蒙古诸盟旗。根据图 2 并结合所学知识，指出其中的 1 个将军辖区和 1 个办事大臣辖区；根据图 2 指出台湾隶属于哪个省？

12. 【屈辱历程艰难探索】

材料 中国近代史大事年表（部分）（表 1）

时间	序号	事件
1839 年	①	林则徐虎门销烟
1840--1842 年	②	鸦片战争
1851--1864 年	③	太平天国运动
1856-1860 年	④	第二次鸦片战争
19 世纪 60-90 年代	⑤	洋务运动
1894--1895 年	⑥	甲午中日战争

1898年	⑦	戊戌变法
1900年	⑧	义和团运动高潮
	⑨	八国联军侵华
1901年	⑩	《辛丑条约》签订

(1) 请你把表1中事件按表2主题进行分类(填序号, 每空填1个序号)

分类表(表2)

主题	事件(序号)
列强侵略	②、④、_____、_____、_____
中国人民的反抗	①、_____、_____
探索近代化	_____、_____

(2) 当洋务运动在中国兴起时, 俄国和日本也开展了近代化探索活动。请写出这一时期两国探索近代化的事件。

(3) 结合所学知识, 从④和⑤、⑥和⑦、⑧和⑨三组组合中, 任选一组说明其中两个事件之间的联系。

(4) 表1反映了近代中国社会怎样的发展趋势?

13. 文明多样世界共存】

材料一 1688年“光荣革命”吸取了40年代革命和1660年“复辟解决”两方面的教训, 既摒弃了无限制的斗争, 又避免了无原则的调和, 从根本上改变了英国政治制度的发展方向, 同时又没有隔断历史、超越传统。

——程汉大《英国政治制度史》

材料二“美国宪法之父”麦迪逊曾说, 美国建国之初, 华盛顿们并没有照抄当时英国的民主模式, 而是通过1787年费城制宪奠定了美国新体制: 要设计一个由人来统治人的政府, 困难之一就在于要强制政府控制自己。

——王斯德《世界通史》

材料三中国特色社会主义政治发展道路, 是近代以来中国人民长期奋斗的必然结果。……世界上没有完全相同的政治制度模式, 政治制度不能脱离特定社会政治条件和历史文化传统来抽象评判, 不能定于一尊, 不能生搬硬套外国政治制度模式。

——摘自中国共产党的十九大报告

(1) 根据材料一并结合所学知识，写出“光荣革命”后改变了英国发展方向的政治制度。

(2) 结合所学知识，写出美国 1787 年制宪会议确立的“新体制”。从材料二中找出能体现美国“新体制”原则的句子。（请用波浪线在答题卡上划出来）

(3) 中国近代史上效法英、美 探索活动有哪些？请写出一例。根据材料一和材料三，指出英国近代政治制度确立的原因。

14. 【科技创新社会进步】

材料今天金属和塑料补充了石材和木头：铁路、汽车、飞机取代了牛、马和驴：蒸汽机、柴油机和原子动力代替风力和人力驱动船只：大量合成纤维织物与传统的棉布、毛纺织品和亚麻织物竞争；电取代了蜡烛，并成为只需按一下开关便可做许多事的动力之源。这一切变化都是工业革命带给人类的福音。

(1) 指出材料中两次工业革命的标志性发明，各举一例。

第一次：

第二次：

(2) 以下结论最符合材料主题的是（ ）（填序号）。

- ① 工业革命促进了生产力的发展
- ② 工业革命推动了城市化进程
- ③ 工业革命改善了人们的生活
- ④ 工业革命密切了世界各地之间的联系

(3) 材料体现了作者对工业革命的赞赏。如果让你完善对工业革命的评价，你会补充什么内容？请写出你要补充的内容。（补充的内容要有史实有结论）

15. 【国家实力国际关系】

材料一

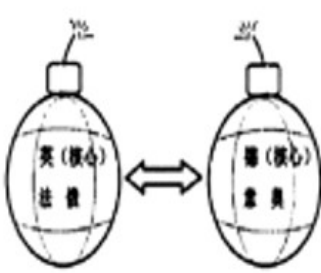


图3 对立



图4 巴黎和会三巨头



图5 雅尔塔会议三巨头

材料二 二战期间，中国与雅尔塔会议三巨头国是盟友。但是，雅尔塔会议期间，美国背着中国政府私自答应了苏联租用中国旅顺港作为军事基地的要求，使中国主权受到严重侵犯。

——摘编自部编《世界历史》九年级下册。

(1) 图 3 中“对立”的后果是什么？

(2) 图 4 和图 5 是两次会议的新闻图片，是了解两次会议及之后国际关系的第一手史料。通过这两幅图可以帮助我们了解哪两个国际关系格局？

(3) 如果你是当时中国政府外交部发言人，请根据材料二并结合中国抗战的意义谴责雅尔塔会议上美苏两国的行径。

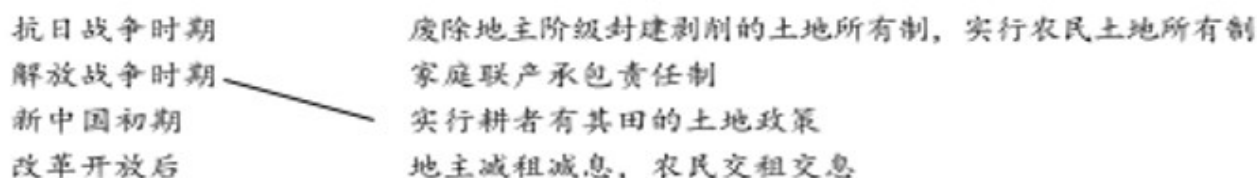
16. 【百年奋斗百年辉煌】

为庆祝中国共产党百年华诞，全国各行各业开展了多种形式的党史学习活动。

方式--【宣讲党史】襄阳某党史宣讲团在社区要向村民宣讲党在不同时期的土地政策。

下列是宣讲员收集整理的土地政策，请你帮他完成梳理：

(1) 连线：把下列党在不同时期的土地政策与对应的时期连接起来



方式二【研学党史】历史老师为了让同学们了解党在 1927 年的革命活动，感受党在这一年的艰辛探索，要组织学生开展一次研学活动（通过实地考察或亲身实践来获得知识）。

(2) 老师向同学们征集实地考察地点，请你推荐一个地点并指出与之相关的历史事件。

方式三【剧说党史】为向建党 100 周年献礼，某影视剧制作中心制作了重大革命历史题材剧《觉醒年代》，反映从 1915 年陈独秀创办《青年杂志》（后改为《新青年》）到 1921 年创建中国共产党的历史过程。

(3) 请你结合相关史实，说明把该剧剧名定为“觉醒年代”的理由。

