
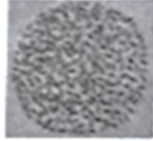




2020年湖北恩施州中考历史真题

一、选择题

1. 考古发现是了解史前社会历史的重要依据。下列考古发现中，可以用于研究半坡居民生产生活状况的是

- A.  打制石器
- B.  炭化稻粒
- C.  人面鱼纹彩陶盆
- D.  司母戊鼎

【答案】C

【解析】

【详解】考查点：半坡居民。解题思路：依据题干“人面鱼纹彩陶盆”结合所学知识可知，生活在黄河流域的半坡居民会烧制彩陶，人面鱼纹彩陶盆可以用于研究半坡居民生产生活状况，故C符合题意；半坡居民使用磨制石器，排除A；河姆渡居民种植水稻，排除B；司母戊鼎是商朝的青铜器，排除D。故选C。

2. 春秋战国时期是我国从奴隶社会向封建社会过渡的大变革时期。下列不属于这一时期社会变化的是

- A. 甲骨文开始用于记事
- B. 周王室衰微，诸侯争霸
- C. 铁农具和牛耕的使用
- D. 诸子百家，思想大争鸣

【答案】A

【解析】

【详解】春秋战国时期是我国从奴隶社会向封建社会过渡的大变革时期，甲骨文开始用于记事是从商朝开始的，春秋战国是东周时期，A符合题意，故选A；BCD都是春秋战国时出现的社会变化，不符合题意，排除。

3. 隋、唐在人类历史进程中曾发挥过文化交流的桥梁作用。下列发生于盛唐时期的历史事件中，促进了中印文化交流的是

- A. 玄奘西行
- B. 鉴真东渡
- C. 唐蕃和亲
- D. “遣唐使”来华

【答案】A

【解析】

【详解】依据课本所学可知，唐朝与天竺即今天的印度，有频繁的交往。贞观初年，高僧玄奘前往天竺取经，经历艰难险阻，四年长途跋涉到达天竺。他在天竺遍访名寺，研究佛法。10多年后携带大量的佛经回到长安，此后主持译经工作。根据他的口述，由弟子整理的《大唐西域记》，成为研究中亚、印度半岛的珍贵文献，促进了中印文化交流。A正确；鉴真东渡促进了中日文化交流，B排除；唐蕃和亲增进了汉藏之间的友好关系，C排除；“遣唐使”来华反映的中日两国的交往。D排除；故选A。

4. 中医是中国传统文化的瑰宝，博大精深，源远流长。下列有关中国古代医学成就表述正确的是

- A. 春秋之际名医扁鹊著有《伤寒杂病论》
- B. 张仲景发明“麻沸散”、创编“五禽戏”
- C. 名医华佗是中医临床理论体系的开创者
- D. 《本草纲目》是我国古代药物学巨著

【答案】D

【解析】

【详解】根据所学知识可知，明朝杰出的医药学家李时珍，经过27年持续不断的努力，编写出《本草纲目》这部规模空前的药物学著作，所以D项符合题意；《伤寒杂病论》是由东汉名医张仲景写成的，而不是扁鹊，所以A项不符合题意；东汉末年的华佗创编了“五禽戏”，发明了“麻沸散”，张仲景是中医临床理论体系的开创者，为中医药学的发展作出巨大贡献，所以BC项不符合题意；故本题答案为D。

5. 诗史一体，诗歌是了解历史的重要途径。下列两首诗反映了中国近代史上哪两个不平等条约？

诗歌甲	诗歌乙
硝烟战火何时了，赔款知多少？海边五口又通商，货运往来英佬把家当……问君港岛可曾留？对此只抛泪眼也无谋。	春愁难遣强看山，往事惊心泪欲潸。四百万人同一哭，去年今日割台湾。

- A. 甲：《南京条约》乙：《天津条约》
- B. 甲：《天津条约》乙：《马关条约》
- C. 甲：《南京条约》乙：《马关条约》
- D. 甲：《南京条约》乙：《北京条约》

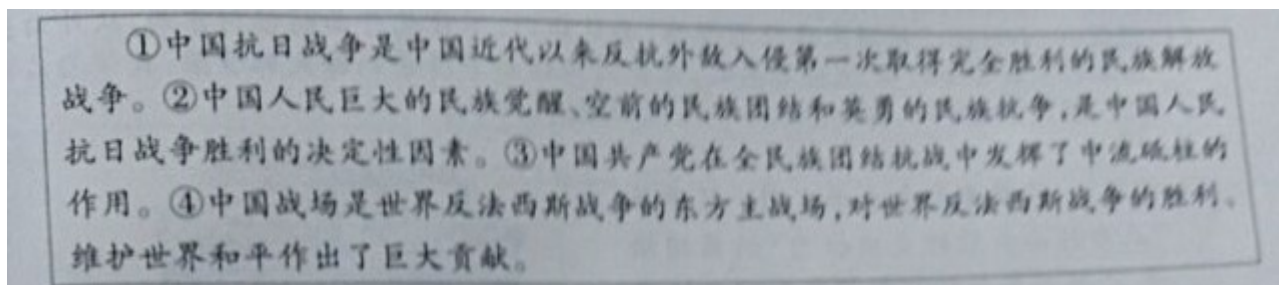
【答案】C

【解析】

【详解】依据诗歌甲“海边五口又通商”“问君港岛可曾留”可知反映的是《南京条约》，据所学，《南京条

约》开放了广州、福州、厦门、宁波、上海五处为通商口岸；割香港岛给英国等；诗歌乙“去年今日割台湾”可知反映的是《马关条约》，甲午中日战争中国战败，签订《马关条约》，割辽东半岛、台湾全岛及所有附属各岛屿等给日本。C正确；《天津条约》增开了汉口、南京等十处通商口岸，没有涉及到割地，AB排除；《北京条约》割九龙司地方一区给英国，D排除；故选C。

6. 阅读文本是学习历史的基本方法。下列文本中，阐述了“中国抗日战争胜利的原因”的语句是



- A. ①② B. ①④ C. ②④ D. ②③

【答案】D

【解析】

【详解】根据所学可知，1945年，抗日战争取得胜利，这是因为，全民族团结和共同抗战，是中国共产党的中流砥柱作用，故②③符合题意；①④是抗日战争的意义，故不符合题意。故D符合题意，ABC均不符合题意。故选D。

7. 有学者认为，只有争取民族的解放和国家的独立，才能改变半殖民地半封建社会性质。根据该观点，中国改变“半殖民地半封建社会性质”的标志是

- A. 中华民国的建立 B. 新中国的成立
C. 抗美援朝战争的胜利 D. 三大改造的基本完成

【答案】B

【解析】

【详解】根据所学可知，1949年，新中国成立，实现了国家独立，踏上民族复兴征程，故B符合题意；中华民国的建立，中国仍处于半封建半殖民地社会，故A不符合题意；抗美援朝战争的胜利，提高了我国的国际地位，故C不符合题意；三大改造的基本完成，社会主义基本制度在我国建立，故D不符合题意。故选B。

8. 全面建设社会主义时期，全国各条战线上涌现出了大批英雄模范人物。在开发大庆油田的会战中用身体搅拌泥浆，制服了井喷，被誉为“铁人”的是

- A. 雷锋 B. 王进喜 C. 焦裕禄 D. 邓稼先

【答案】B

【解析】

【详解】根据所学可知，全面建设社会主义时期，全国各条战线上涌现出了大批英雄模范人物，其中，王进喜在开发大庆油田的会战中用身体搅拌泥浆，制服了井喷，被誉为“铁人”，故 B 符合题意；雷锋是解放军好战士，焦裕禄是党的好干部，邓稼先是两弹元勋，故 ACD 均不符合题意。故选 B。

9. 1971 年 10 月 25 日，美国驻联合国代表在某项决议通过后被迫承认：“这是联合国历史上的转折点，反西方国家在美国威信动摇时第一次击败了美国。”这段话所指的历史事件是

- A. 和平共处五项原则的正式提出
- B. 田中角荣访华，中日邦交正常化
- C. 中国恢复在联合国的合法席位
- D. 尼克松访华，中美关系走向正常化

【答案】 C

【解析】

【详解】根据材料时间“1971 年 10 月 25 日”及“反西方国家在美国威信动摇时第一次击败了美国”可知，材料反映的历史事件是我国恢复在联合国的合法席位。1971 年 10 月 25 日第 26 届联合国大会召开，恢复了中华人民共和国在联合国的合法权利，这是中国外交的重大胜利，反映了美国等国孤立中国政策的破产，有利于中国在国际事务中发挥更大的作用，故 C 项正确；1953 年底，周恩来在接见印度代表团时，首次提出和平共处五项原则，A 项错误；1972 年，日本首相田中角荣访华，中日建交，B 项错误；1972 年 2 月，尼克松总统访华，双方在上海签署《中美联合公报》，D 项错误；故选 C。

10. “光荣属于希腊，伟大属于罗马”。下列有关古希腊古罗马的叙述不符合史实的是

- A. “小国寡民”是古代希腊城邦的突出特点
- B. 伯里克利主政时雅典奴隶、妇女享有政治权利
- C. 《十二铜表法》遏制了贵族对法律的曲解和滥用
- D. 公元前 2 世纪罗马成为整个地中海地区的霸主

【答案】 B

【解析】

【详解】根据所学知识可知，公元前 5 世纪中后期伯里克利主政时，雅典达到全盛，奴隶制民主政治发展到高峰，扩大了公民的权利，但是，占雅典人口绝大多数的外邦人、奴隶、妇女没有任何的政治权利，B 符合题意；公元前 8 世纪，希腊出现了城邦，小的城邦公民甚至不过几百人，最大的城邦领土也只有 8400 平方千米，城邦的突出特点是“小国寡民”，所以 A 项不符合题意；《十二铜表法》涉及诉讼程序、所有权等内容，使量刑定罪有了文字依据，在一定程度上遏制了贵族对法律的曲解和滥用，所以 C 项不符合题意；公元前 2 世纪，罗马又征服地中海地区，成为整个地中海地区的霸主，所以 D 项不符合题意；故本题答案为 B。

11. 对下表中的信息解读正确的是

1851年英国伦敦首届世博会	1900年法国巴黎“世纪回眸”世博会
展品:大功率蒸汽机、高速汽轮船、起重 机、机床等。	展品:大型发电机、无线电收发报机、电 影等。

- A. 伦敦世博会上的展品还有内燃机、小汽车和飞机
- B. 法国巴黎世博会上与电有关的展品是瓦特发明的
- C. 两次世博会的展品都属于第二次工业革命的成果
- D. 表中所列世博会展品是新发明和技术革新的产物

【答案】D

【解析】

【详解】依据表格“1851年英国伦敦首届世博会”根据时间和展品可知反映的是第一次工业革命的产物。第一次工业革命发明的新动力蒸汽机，以蒸汽机为动力出现了新式交通工具：蒸汽轮船；“1900年巴黎世纪回眸世博会”可知反映的是第二次工业革命的产物。19世纪70年代至20世纪初，主要资本主义国家进行了第二次工业革命。第二次工业革命中，电力作为一种新能源进入生产领域，出现了新发明发电机、发报机、电影等。可见表格两次世博会展出的都是新发明、新技术产物。D正确；C排除；伦敦世博会展出的是工业革命的产物，内燃机、小汽车和飞机是第二次工业革命的产物，A排除；1900年法国巴黎世博会展出的是第二次工业革命的产物。瓦特是第一次工业革命发明者，改进了蒸汽机，解决了机器的动力问题。B排除；故选D。

12. 1945年5月8日，德国正式签署无条件投降书，欧洲战事结束。同年8月上旬，苏联履行其在某次国际会议上的承诺，出兵中国东北和朝鲜，参加对日作战。该国际会议是

- A. 巴黎和会
- B. 开罗会议
- C. 雅尔塔会议
- D. 万隆会议

【答案】C

【解析】

【详解】依据题干“同年8月上旬，苏联履行其在某次国际会议上的承诺，出兵中国东北和朝鲜，参加对日作战。”可知该国际会议规定了苏联出兵中国东北和朝鲜，对日作战的内容。结合课本所学可知，1945年2月，美、英、苏三国首脑在苏联的雅尔塔召开会议。会议决定战后成立联合国；苏联承诺在欧洲战事结束后3个月内，出兵中国东北和朝鲜，参加对日作战。C正确；巴黎和会主要是战胜的协约国瓜分德国等战败国的会议，A排除；开罗会议规定日本窃取的中国领土归还中国，B排除；万隆会议召开在1955年，发生在题干事件之后，D排除；故选C。

二、非选择题

13. 材料解析题

中国古代的制度构建和政策实行既反映了时代特色，又蕴含着国家治理的政治智慧。阅读下列材料，回答问题。

材料一 秦以前的中国，只可说是一种封建的统一。直到秦朝，中央方面才有一个更像样的统一政府，而其所辖的各地方，也已经不是封建性的诸侯列国并存，而是紧密隶属于中央的郡县制度的行政区划了。

——摘编自钱穆《中国历代政治得失》

材料二 经“文景之治”，武帝时国力上升，在调整、限制、打击王国势力的过程中，郡县制逐步成为汉国家结构的主体，也正是在这个基础上，汉武帝从政治、经济、文化上采取了一系列措施，使汉帝国走向强盛。

——摘编自卜完群《春汉之际国家结构的演变》

材料三 隋唐时期把平等竞争机制引入选官制度，向社会各阶层人士能开了入仕的大门。

——摘编自张国安《中国古代文官选拔制度及其现代借鉴》

材料四 明太祖朱元璋全面改革官制简表

	措施	影响
地方	取消行中书省。	分散行省的权利，巩固皇权。
中央	废除 A 和中书省，六部直接向皇帝负责。	使皇权高度集中，君主专制大为加强。

——摘编自人教版教师教学用书《中国历史》七年级下册

材料五 在统治大一统国家的民族地区方面，清朝积累了不少经验。在西藏地区，清廷的统治者们创新管理模式，采取了一系列措施，逐步加强了对西藏地区的有效管辖。

——摘编自张帆《中国古代简史》等

(1) 根据材料一并结合所学知识，指出“秦朝更像样的中央政府”中负责监察事务的官衔是什么？结合所学知识，分析秦朝“郡县制度”的实行有何历史意义？

(2) 列举材料二中汉武帝“调整、限制打击王国势力”的措施。为加强中央集权，汉武帝在思想文化上采纳了董仲舒的什么建议？

(3) 材料三中的“选官制度”是什么？结合所学知识，说说该选官制度的创立有何历史意义？

(4) 阅读材料四，指出材料四表中的“行省”最早出现于哪一封建王朝？写出表中 A 处指代的相关内容。

(5) 根据材料五，结合所学知识，列举清廷为“加强对西藏地区的有效管辖”而采取的措施一例。

【答案】 (1) 御史大夫。开创了我国历代王朝地方行政的基本模式。

(2) 颁布“推恩令”。“罢黜百家，独尊儒术”。

(3) 科举制。是中国古代选官制度的一大变革，加强了皇帝在选官和用人上的权力，扩大了官吏选拔的范围，使有才学的人能够由此参政，同时也推动了教育的发展。科举制成为历朝选拔官吏的主要制度。

(4) 元朝。丞相制度。

(5) 确立册封达赖、班禅制度；确立“金瓶掣签”制度；设置驻藏大臣（一例即可）

【解析】

【详解】（1）考查点：秦朝的政治制度。解题思路：根据材料一结合秦朝的中央集权制的内容回答。根据材料一的“直到秦朝，中央方面才有一个更像样的统一政府”结合所学知识，秦朝创立了中央集权制度：最高统治者称为皇帝，皇权至高无上，总揽全国军政大权；中央设丞相、太尉、御史大夫统领中央机构，分管行政、军事、监察事务，最后的决断权由皇帝掌控；地方实行郡县制。由此可知，“秦朝更像样的中央政府”中负责监察事务的官衔是御史大夫。结合所学知识可知，秦朝在地方实行“郡县制度”，郡县长官均由朝廷任免。郡县制的实行，开创了我国历代王朝地方行政的基本模式。

（2）考查点：汉武帝大一统的措施。解题思路：根据材料二结合汉武帝大一统的措施回答。材料二中汉武帝“调整、限制打击王国势力”的措施是颁布“推恩令”。为了解决王国问题，汉武帝采纳主父偃的建议，颁布“推恩令”，规定诸侯王除了让自己的嫡长子继承王位以外，可将封地再分封给其他子弟作为侯国，由皇帝制定封号，这项措施削弱了诸侯王的势力，中央对地方的控制加强了。为加强中央集权，汉武帝在思想文化上采纳了董仲舒的建议，推行“罢黜百家，独尊儒术”。从此，儒学居于主导地位，促进了大一统王朝的巩固。

（3）考查点：科举制。解题思路：根据材料三结合科举制的创立、完善和影响回答。依据材料三的“隋唐时期把平等竞争机制引入选官制度，向社会各阶层人士能开了入仕的大门。”可知材料三中的“选官制度”是科举制。隋朝首创科举制，唐朝完善了科举制。结合所学知识可知，科举制的创立，是中国古代选官制度的一大变革，加强了皇帝在选官和用人上的权力，扩大了官吏选拔的范围，使有才学的人能够由此参政，同时也推动了教育的发展。科举制成为历朝选拔官吏的主要制度。

（4）考查点：行省制和明朝的官制。解题思路：根据材料四结合元朝和明朝的政治制度回答。阅读材料四，结合所学知识可知，表中的“行省”最早出现于元朝。为了对辽阔的疆域实行有效统治，元朝首创行省制度。依据材料四的“废除 A 和中书省，六部直接向皇帝负责”结合所学知识可知，为了加强君权，明太祖废除丞相制度和中书省，权分六部，六部直接向皇帝负责。故表中 A 处指代的是丞相制度。

（5）考查点：清朝对西藏的管辖。解题思路：根据材料五结合清朝对西藏的管辖措施回答。根据材料五的“在西藏地区，清廷的统治者们创新管理模式，采取了一系列措施，逐步加强了对西藏地区的有效管辖”，结合所学知识，清廷为“加强对西藏地区的有效管辖”采取的措施有：确立册封达赖、班禅制度。清初，顺治帝接见五世达赖，赐予“达赖喇嘛”的封号；后来，康熙帝赐予五世班禅“班禅额尔德尼”的封号，此后，历代达赖和班禅都必须经过中央政府的册封；确立“金瓶掣签”制度；雍正帝时开始设置驻藏大臣，代表中央

政府常驻西藏，同达赖、班禅共同管理西藏，加强了对西藏的管辖。

14. 探究题某班历史学习兴趣小组以“中国近代以来的屈辱、探索和四个正确选择”为主题开展探究性学习，收集了以下材料和图片，请你参与。

材料一 圆明园之火，烧掉了清统治者因长期闭关而形成的自大心理，当时的一些有识之人，开始把魏源提出的“师夷长技以制夷”的口号付诸行动，开始了求富求强的洋务运动。

——摘编自凤凰卫视出版中心《世纪大讲堂》


材料二 马克思主义对中国知识分子的冲击，与“五四运动”的力度一样，产生了令人震惊的效果。随着无产阶级力量的日益壮大，陈独秀等人积极组建马克思主义小组和马克思学说研究会。1921年7月，中国共产党的成立大会在上海召开。

——摘编自徐中约《中国近代史：1600-2000 中国的奋斗》

材料三 红军和游击队的存在和发展，以及伴随着红军和游击队而来的成长于四周白色政权中的小块红色区域的存在和发展，是半殖民地中国无产阶级领导之下的农民斗争的最高形式，并且无疑地是促进全国革命高潮的最重要因素。

——摘自毛泽东《星星之火，可以燎原》（1930年）

材料四



(1) 材料一中的“圆明园之火发生在近代哪一次列强侵华战争期间？请列举“有识之人”在“求富”主张下开办的位于武汉的企业一例。

(2) 根据材料二并结合所学知识，指出在中华大地上第一次高高举起马克思主义旗帜的“知识分子”是谁？中国共产党的成立有何历史意义？

(3) 根据材料三，结合所学知识，分析“红军、游击队和成长于四周白色政权中的小块红色区域的存在和发展”体现出中国共产党探索出了一条怎样的革命道路？

(4) 阅读材料四，结合时代背景，写出图1中“社”的全称。结合所学知识，分析图2中深圳“一夜崛起”的政策原因。

(5) 综合上述材料，结合中国共产党领导下的革命和建设实践，谈谈你的认识。

【答案】 (1) 第二次鸦片战争期间；汉阳铁厂（或湖北织布局）

(2) 李大钊；中国共产党的诞生，是中国开天辟地的大事，自从有了中国共产党，中国革命的面貌就焕然一新了。

(3) 工农武装割据的道路（或农村包围城市，武装夺取政权的道路）

(4) 图 1 农业生产合作社；图 2 建立经济特区

(5) 必须将马克思主义原理与中国革命实践相结合；中国革命和建设实践必须从本国国情出发，与时俱进，不断进行理论创新。

【解析】

【详解】 (1) 战争：根据材料一“圆明园之火，烧掉了清统治者因长期闭关而形成的自大心理”结合所学可知火烧圆明园发生第二次鸦片战争期间；企业：根据材料一“开始了求富求强的洋务运动。”可知从 19 世纪 60—90 年代的洋务运动，后期提出“求富”的主张，在武汉创办的企业有汉阳铁厂。

(2) 第一次：根据材料二“随着无产阶级力量的日益壮大，陈独秀等人积极组建马克思主义小组和马克思主义学说研究会。”结合所学可知“知识分子”李大钊第一次高高举起马克思主义旗帜；意义：根据所学从中国共产党的诞生，是中国开天辟地的大事，自从有了中国共产党，中国革命的面貌就焕然一新了回答出中共成立的意义。

(3) 根据材料三“毛泽东《星星之火，可以燎原》（1930 年）”“红军、游击队和成长于四周白色政权中小块红色区域的存在和发展”结合所学，可知中国共产党探索出了一条工农武装割据的道路。

(4) 图 1：根据图 1“1955 年创作的年画《拖拉机到咱社来代耕了》”联系此时处于三大改造时期，回答出：农业生产合作社；图 2：根据材料“深圳（20 世纪 80 年代）”可知中共中央决定从 1980 年建立深圳、珠海、汕头、厦门 4 个经济特区。可知政策原因是建立经济特区。

(5) 本题属于开放性试题，言之有理即可。根据材料二到材料四中国共产党领导下的革命和建设实践，结合所学从必须将马克思主义原理与中国革命实践相结合；中国革命和建设实践必须从本国国情出发，与时俱进，不断进行理论创新等方面回答认识。

15. 材料解析题世界近现代史 发展进程既有纵向的进步，又有横向的发展。阅读下列材料，回答问题。

材料一 文艺复兴时期，人文主义的精神体现在张扬人的个性和维护人的尊严上。当中世纪神秘主义隐退后，探险家出现了，这些地理大发现和新航线的开辟，对世界历史产生了深远的影响。

——摘编自纪录片《世界历史》解说词

材料二 19 世纪中期的几十年里，西方扩张的威胁和压力对日本的传统政治文化形成了致命的挑战。日本反应从“不分青红皂白地一概敌视，不情愿地承认自身在财富和力量上的劣势”到后来“以夷制夷”，获得了成功。明治维新可以说是日本近代史的起点。

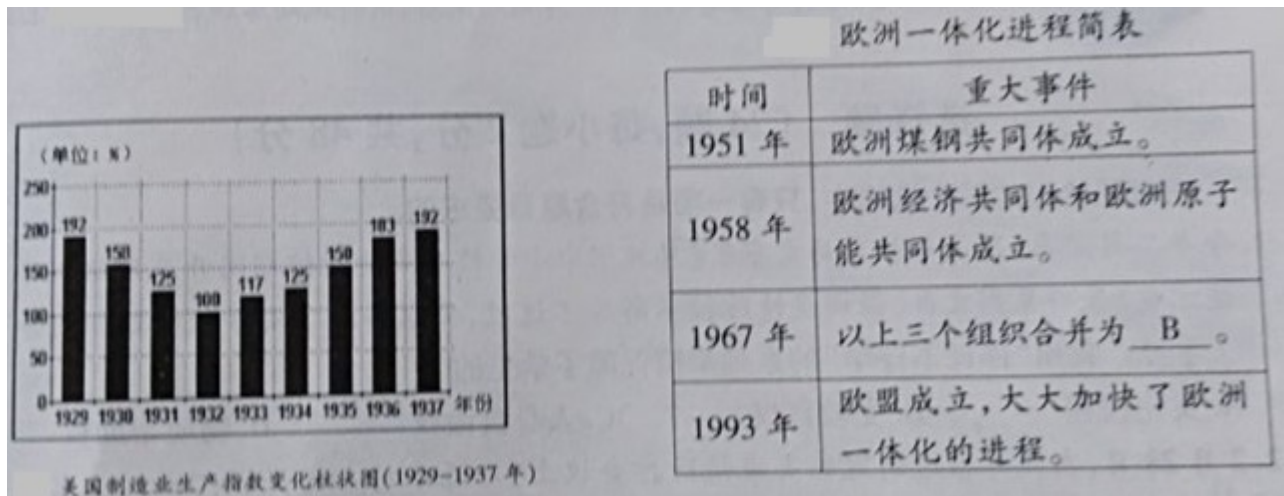
材料三 实际上，俄国社会主义者即通常所说的布尔什维克，正是在第一次世界大战期间成功地夺取政权，建立起有史以来第一个无产阶级政府。

——摘编自（美）斯塔夫里阿诺斯《全球通史》

材料四 注重实际的列宁在 1921 年采取了新的政策。在这一政策下，农民们被准许在公开市场上出售他们的农产品，私人可以经营小商店和小工厂，农民和新商人都能雇佣劳动力，并能保留他们在经营中获得的利润。该政策成功地应付了数年战争留下的直接危机。

——摘编自（美）斯塔夫里阿诺斯《全球通史》

材料五



(1) 阅读材料一，请列举文艺复兴时期“张扬人的个性和维护人的尊严”且以现实人物为主题的绘画作品。结合所学知识，从世界历史整体化发展的角度分析“新航线的开辟”有何影响？

(2) 材料二中给日本带来“威胁和压力”的国家通过颁布哪一文献成为了民主共和国？结合所学知识，列举日本明治时期在增强“自身财富和力量”上采取的具体措施一例。

(3) 材料三中布尔什维克成功夺取政权”的标志性事件是什么？结合所学知识，指出材料四中的“政策”是什么？

(4) 阅读材料五，结合所学知识，分析图中美国制造业生产指数回升的主要原因。写出表中 B 处指代的相关内容。

(5) 冷战结束后，世界政治格局多极化趋势加强。请你谈谈中国应该如何应对多极化趋势下的机遇和挑战？

【答案】 (1) 《蒙娜丽莎》；世界开始连为一个整体，世界的观念也从此逐步确立起来。

(2) 《人权宣言》；推行地税改革，“殖产兴业”，大力发展近代经济。

(3) 十月革命；新经济政策。

(4) 罗斯福新政；欧洲共同体。

(5) 中国应该顺应经济全球化潮流，善于抓住机遇，主动应对挑战；采取符合本国国情的对外开放战略和政策，坚持扩大开放，努力实现跨越式发展；构建以合作共赢为核心的人类命运共同体等。

【解析】

【详解】(1) 根据材料一，结合所学知识可知，举文艺复兴时期“张扬人的个性和维护人的尊严”且以现实人物为主题的绘画作品，如达·芬奇的绘画代表作《蒙娜丽莎》歌颂了人自身的美丽，呼唤着人性的觉醒，颂扬了生命的可爱之处。新航路开辟以后，欧洲大西洋沿岸工商业经济繁荣起来，促进了资本主义的产生和发展。同时，欧洲与亚洲、非洲、美洲之间建立起了直接的商业联系，往来日益密切。世界开始连为一个整体，世界的观念也从此逐步确立起来。

(2) 根据材料二“西方扩张的威胁和压力对日本的传统政治文化形成了致命的挑战”，结合所学知识可知，给日本带来“威胁和压力”的国家，法国通过颁布《人权宣言》成为了民主共和国。日本明治时期在增强“自身财富和力量”上采取的具体措施，如推行地税改革，“殖产兴业”，大力发展近代经济。

(3) 根据材料三，结合所学知识可知，1917年11月，列宁领导十月革命后，推翻资产阶级临时政府，建立苏维埃政府；这是人类历史上第一次胜利的社会主义革命，建立了第一个无产阶级专政国家苏维埃俄国。因此布尔什维克成功夺取政权的标志性事件是十月革命。由材料四“注重实际的列宁在1921年采取了新的政策”，可知，1921年3月开始实行的向社会主义过渡的新经济政策，允许多种经济并存，大力发展商品经济。

(4) 根据材料五柱状图，可知，1929-1937年美国制造业生产指数回升，结合所学知识可知，面对经济危机引起了政治危机，1933年，罗斯福实行新政，在资本主义制度内部进行调整，加强国家对经济的干预和指导，以消除经济危机。因此美国制造业生产指数回升的主要原因是罗斯福新政。根据表中B处，由“1967年。三个组织合并”，可知，1967年，由欧洲煤钢共同体、欧洲经济共同体、欧洲原子能共同体组成欧洲共同体，简称“欧共体”。因此B处是欧洲共同体。

(5) 结合所学知识可知，中国应该善于抓住机遇，主动应对挑战；采取符合本国国情的对外开放战略和政策，坚持扩大开放，努力实现跨越式发展；构建以合作共赢为核心的人类命运共同体等。

试卷相关说明

本试卷的题干、答案和解析均由组卷网 (<http://zujian.xkw.com>) 专业教师团队编校出品。登录组卷网可对本试卷进行**单题组卷**、**细目表分析**、**布置作业**、**举一反三**等操作。

试卷地址：[在组卷网浏览本卷](#)

组卷网是学科网旗下的在线题库平台，覆盖小初高全学段全学科、超过 900 万精品解析试题。关注组卷网服务号，可使用移动教学助手功能（布置作业、线上考试、加入错题本、错题训练）。



学科网长期征集全国最新统考试卷、名校试卷、原创题，赢取丰厚稿酬，欢迎合作。
钱老师 QQ : 537008204 曹老师 QQ : 713000635