

# 江苏省无锡市 2018 年中考历史真题试题

(闭卷，考试时间 60 分钟，满分 100 分)

## 第 I 卷 客观题 (共 55 分)

### 一、单项选择题 (本大题共 25 题，每小题 2 分，共 50 分)

1. 央视热播的《舌尖上的中国 2·时节》展现了不少中国传统美食的生产、加工工艺。假设该剧组想拍摄有关我国最早种植水稻的专题片，你认为最符合拍摄要求的外景地是 ( )

- A. 元谋人遗址      B. 北京人遗址      C. 河姆渡遗址      D. 半坡遗址

【解答】根据题干信息“我国最早种植水稻”，结合所学知识可知，七八千年前的长江流域，浙江余姚的河姆渡聚落开始种植水稻；因此只有选项 C 符合题意。

故选：C。

2. 下图是《三国鼎立形势图》，判断图中①②③所代表的政权顺序正确的是 ( )



- A. 蜀、吴、魏      B. 魏、蜀、吴      C. 魏、吴、蜀      D. 吴、魏、蜀

【解答】208 年，孙刘联军在赤壁之战中大败曹操，曹操无力南下，刘备攻占四川，并从曹操手中夺得汉中地区，有了立足之地，孙权在长江中下游的地位进一步稳固，因此赤壁之战奠定了三国鼎立的基础，220 年，曹丕建立魏，定都洛阳；221 年，刘备建立蜀，定都成都；222 年，孙权建立吴，定都建业。魏在北方，蜀在西南，吴在东南。

故选：B。

3. 人们常用“比黄连还苦，比窦娥还冤”这句话形容一个人含冤命苦。你知道窦娥这个艺术形象是谁塑造的吗？ ( )

- A. 苏轼      B. 汤显祖      C. 马致远      D. 关汉卿

【解答】元曲由杂剧和散曲组成。元杂剧把音乐、歌舞、动作、念白熔于一炉，是比较成熟的戏剧形式。元朝剧作家人才辈出，其中最优秀的是关汉卿，其代表作是悲剧《窦娥冤》。“窦娥”这个艺术形象是关汉

卿塑造的。

故选：D。

4. 《中国历史十五讲》指出：自清中叶开始，清朝实行限制贸易政策，在海上只有广州一口对外通商……使中国失去对外贸易的主动权和机遇。由此可见，清朝实行的政策是（ ）

- A. 闭关锁国      B. 休养生息      C. 轻徭薄赋      D. 重文轻武

【解答】由材料“清朝实行限制贸易政策，在海上只有广州一口对外通商……使中国失去对外贸易的主动权和机遇”可知，清朝实行闭关锁国政策，它使中国失去对外贸易的主动权和机遇，拉大了中国与世界的距离。

故选：A。

5. 牢记历史，不忘过去。右图所示为某小组制作的中国近代史知识卡片，其内容出自（ ）


- A. 《南京条约》      B. 《北京条约》  
C. 《马关条约》      D. 《辛丑条约》

1. 割让……台湾全岛及所有附属岛屿。  
2. 开放苏州、杭州……为通商口岸。  
……

【解答】由卡片内容“割让台湾及其附属岛屿、澎湖列岛”“开放……杭州为通商口岸”可知，这是 1895 年签订的《马关条约》的内容，《马关条约》的签订大大加深了中国半殖民地化的程度。

故选：C。

6. 下列人物中，极力宣传“观大地诸国，皆以变法而强，守旧而亡”观点，推动维新变法的是（ ）



- A. 曾国藩      B. 康有为      C. 邹容      D. 陈独秀

【解答】极力宣传“观大地诸国，皆以变法而强，守旧而亡”观点，推动维新变法的是维新派代表人物康有为。曾国藩是洋务派，邹容是革命派，陈独秀是资产阶级激进派。

故选：B。

7. “卢沟桥，卢沟桥，男儿坟墓在此桥！……卢沟桥，卢沟桥，国家存亡在此桥！”1937 年，卢沟桥成为全中国的焦点，主要是因为在这里发生了（ ）

- A. 四一二政变      B. 七七事变      C. 西安事变      D. 八一三事变

【解答】依据题干“卢沟桥，卢沟桥，男儿坟墓在此桥国家存亡在此桥”可知，这是卢沟桥事变。1937 年 7 月 7 日，日军侵略军在北平西南的卢沟桥，以军事演习为名，向中国军队发动突然进攻，中国军队奋起抵

抗，全国性的抗日战争从此爆发。这就是卢沟桥事变，又称七七事变。

故选：B。


8. 刘邓大军以锐不可当之势，先后跨越重重障碍，经过 20 多天的艰苦跋涉和激烈战斗，完成了一次无后方依托，以长驱直入插进敌人战略纵深为特点的特殊形式的进攻行动。这一“行动”（ ）

- A. 是新民主主义革命的开端            B. 是抗战中发动的最大规模战役  
C. 揭开解放军全国性战略进攻序幕    D. 标志着解放战争取得彻底胜利

【解答】刘邓大军以锐不可当之势，先后跨越重重障碍，经过 20 多天的艰苦跋涉和激烈战斗，完成了一次无后方依托，以长驱直入插进敌人战略纵深为特点的特殊形式的进攻行动。这一“行动”是刘邓大军挺进大别山。1947 年夏，刘伯承、邓小平率领晋冀鲁豫解放军，千里跃进大别山，刘邓大军从国民党重点进攻的山东和陕甘宁解放区中间发起进攻，“像一把尖刀，插入敌人胸膛”。刘邓大军开辟了大别山根据地，严重地威胁了国民党统治中心南京和湖北重镇武汉，揭开了人民解放军全国性战略进攻的序幕。

故选：C。

9. 不同时代的宣传画体现了不同的时代风貌。下面的两幅图出现在（ ）



- A. 社会主义现代化建设新时期            B. 社会主义过渡时期  
C. “文化大革命”时期                    D. “大跃进”时期

【解答】根据图片可知，这是“大跃进”运动时期的浮夸风。由于党和人民对于我国社会主义所处的发展阶段认识不足，对如何建设社会主义缺乏经验，又急于求成，忽视了经济发展的客观规律。1958 年发动的“大跃进”运动，导致以高指标、瞎指挥、浮夸风和“共产”风为标志的“左”倾错误泛滥。图片漫画正是浮夸风的表现。

故选：D。

10. 2018 年 4 月 24 日是我国第三个航天日。40 多年前的这一天，中国成为继苏联、美国、法国、日本之后世界上第五个能独立发射人造地球卫星的国家。我国发射的第一颗人造地球卫星是（ ）

- A. 神舟五号    B. 神舟一号    C. 东方红 1 号    D. 神舟六号

【解答】1970 年，我国用长征号运载火箭，成功地发射了第一颗人造地球卫星“东方红 1 号”，成为继苏联、美国、法国、日本后，第五个能独立发射人造地球卫星的国家。

故选：C。

11. 在小组合作学习中，各小组选出的“解说员”向全班同学介绍本组所选专题的相关资料。有一组的解说员展示搜集的材料如右方框所示。请你判断其所选的专题是（ ）

- |  |
|--|
| 1. 位于非洲北部的尼罗河流域。<br>2. 有著名的狮身人面像、金字塔。<br>3. 其统治者称“法老”。 |
|--|

- A. 古代印度      B. 古代埃及  
C. 古巴比伦      D. 古代希腊

【解答】由题干中“金字塔、狮身人面像”判断是古代埃及的文明成就。金字塔是非洲尼罗河流域古埃及文明的代表作，是古代埃及国王“法老”的陵墓，是权力的象征，也是埃及人民的骄傲。狮身人面像，它是古埃及文明的标志之一，是人类文明的杰出成就。

故选：B。

12. 孙立祥在《日本三次社会转型及其历史启示》中指出：日本通过三次“开国”，成功实现了社会的全面转型。日本完成从奴隶社会向封建社会转型的历史事件是（ ）

- A. 战后社会改革    B. 实行幕府统治    C. 建立法西斯专政    D. 大化改新

【解答】根据所学知识可知，六七世纪的日本非常混乱，7世纪中期，孝德天皇颁布改新诏书，进行大化改新，通过改革，使日本从奴隶制社会向封建社会转变。

故选：D。

13. 如果开展一次以“古代中华文明与世界文明相互交流”为主题的研究性学习，下列可纳入的重要史实有（ ）

- ① 马可·波罗来华    ② 鉴真东渡    ③ 玄奘西游    ④ 希波战争  
A. ①②③      B. ②③④      C. ①②④      D. ①③④

【解答】马可波罗来华，所著的《马可·波罗游记》记述了他在东方最富有的国家--中国的见闻，激起了欧洲人对东方的热烈向往，对以后新航路的开辟产生了巨大的影响。同时也是研究我国元朝历史和地理的重要史籍，显示了中外的友好交流；鉴真东渡日本，讲授佛学理论，传播博大精深的中国文化，促进了日本佛学、医学、建筑和雕塑水平的提高，促进了中日友好往来；玄奘历时 17 年，到印度取真经，其足迹遍布印度，影响远至日本、韩国以至全世界，其思想与精神如今已是 中国、亚洲乃至世界人民的共同财富；希波战争体现了战争，不是古代中华文明与世界文明相互交流的内容，故排除④。

故选：A。

14. 傅雷评价《蒙娜丽莎》时说：“吸引你的，就是这神秘。因为她的美貌，你永远忘不掉她的面容，于是你就仿佛在听一曲神妙的音乐，对象的表情和含义，完全跟了你的情绪而转移。”这说明该画体现了文艺

复兴时期的什么精神？（ ）

- A．现实主义      B．浪漫主义      C．人文主义      D．蒙昧主义

【解答】据题干“吸引你的，就是这神秘。因为她的美貌，你永远忘不掉她的面容，于是你就仿佛听一曲神妙的音乐，对象的表情和含义，完全跟了你的情绪而转移”可知，该画作《蒙娜丽莎》体现了文艺复兴时期的人文主义精神。文艺复兴是 14-17 世纪新兴的资产阶级借助复兴古希腊、罗马文化为名，反对封建宗教神学的思想文化运动。其核心思潮是人文主义，人文主义提倡人性，反对神性，主张人生的目的是追求在现实生活中的幸福，倡导个性解放，反对愚昧迷信的神学思想。

故选：C。

15．“英国革命的最大成果，也是它在现代民主政治创制试验方面的最大成就，就是创造了一种全新的政体”；“美国人由此辉煌地创造了一个全新的政府权力机构，那里国会、总统、最高法院三足鼎立，相互制约。”两则材料中确立的政体和原则分别是指（ ）

- A．一党专政 独立与人权      B．君主立宪制 三权分立原则  
C．多党执政 人权与法治      D．民主共和制 王权高于议会

【解答】为限制王权，1689 年，英国议会通过了《权利法案》，确定议会为国家的最高权力机关。一个新的资产阶级君主立宪制政权在英国建立起来。美国独立战争后，在 1787 年颁布宪法，确立了国会、总统、司法三权分立原则。依据题干“英国革命、新的政体”判断是君主立宪制；依据“美国人、国会、总统、最高法院三足鼎立”判断是三权分立。

故选：B。

16．2017 年 5 月，我国首款按照国际适航标准研制的干线民用飞机 C919 客机试飞成功，充分体现了中国制造的水平和中国“智造”的能力。飞机这种交通工具最早的发明者是（ ）

- A．富尔顿      B．史蒂芬孙      C．卡尔·本茨      D．莱特兄弟

【解答】1903 年美国莱特兄弟利用内燃机制成飞机并试飞成功，开始把人类的飞行梦想变成现实。飞机这种交通工具最早的发明者是莱特兄弟。

故选：D。

17．科学无国界，科学无时限。20 世纪初一位伟大的物理学家提出了相对论，为原子能技术的开展提供了理论依据；20 世纪 60 年代另一位物理学家根据相对论，主持形成了中国第一颗原子弹理论设计方案，被誉为“两弹元勋”。这两位物理学家分别是（ ）

- A．爱因斯坦和邓稼先      B．牛顿和邓稼先      C．爱因斯坦和王大珩      D．牛顿和王大珩

【解答】20 世纪初一位伟大的物理学家提出了相对论，为原子能技术的开展提供了理论依据；20 世纪 60 年代另一位物理学家根据相对论，主持形成了中国第一颗原子弹理论设计方案，被誉为“两弹元勋”。这两

位物理学家分别是爱因斯坦和邓稼先。爱因斯坦在 20 世纪初提出的相对论，推动了整个物理学理论的革命，为原子弹的发明和原子能的应用提供了理论基础，打开了原子时代的大门；还揭示了空间、时间的辩证关系，加深了人们对物质和运动的认识。邓稼先担任我国第一颗原子弹理论设计的负责人，1963 年由他主持的中国第一颗原子弹理论设计方案形成。第二年，我国第一颗原子弹试验爆炸成功。接着他又参加了氢弹的研制，被誉为“两弹元勋”。

故选：A。

18. 这部著作被誉为马克思主义经典著作中的“歌中之歌”，它的发表标志着马克思主义的诞生。这部著作是（ ）

A. 《人民宪章》      B. 《共产党宣言》      C. 《独立宣言》      D. 《法典》

【解答】1848 年 2 月 24 日，马克思和恩格斯合著的《共产党宣言》在伦敦第一次出版。《共产党宣言》是第一部较为完整而系统地阐述科学社会主义基本原理的伟大著作。它标志着马克思主义的诞生，开辟了国际工人运动和社会主义运动的新局面，成为世界无产阶级的锐利思想武器。

故选：B。

19. 右图是漫画《列宁同志清扫地球》它反映了 20 世纪初期某一重大历史事件对世界的影响。这一事件打破了资本主义一统天下的局面，开创了一种全新的社会制度。这一重大历史事件是（ ）

A. 法国大革命      B. 俄国十月革命  
C. 英国资产阶级革命      D. 苏联解体



【解答】1917 年 11 月 7 日，列宁领导俄国十月革命推翻了资产阶级临时政府的统治，建立了无产阶级专政。十月革命是人类历史上第一次获得胜利的社会主义革命，建立了世界上第一个社会主义国家--苏俄。故漫画《列宁同志清扫地球》所展现的重要历史事件是十月革命的胜利。

故选：B。

20. 面对 1929~1933 年资本主义世界经济危机，美国实行罗斯福新政。而德国和日本则（ ）

A. 实行高度集中的计划经济体制      B. 发动内战  
C. 走上法西斯道路      D. 实行新经济政策

【解答】在 1929~1933 年资本主义世界经济危机的影响下，德国和日本法西斯势力抬头，建立法西斯政权。意大利的法西斯专政进一步强化。20 世纪 30 年代，面对经济危机的打击，德国、日本建立了法西斯专政，意大利的法西斯专政得到了进一步加强，德、意、日法西斯专政的建立和加强对世界和平构成了严重威胁。C 符合题意。

故选：C。

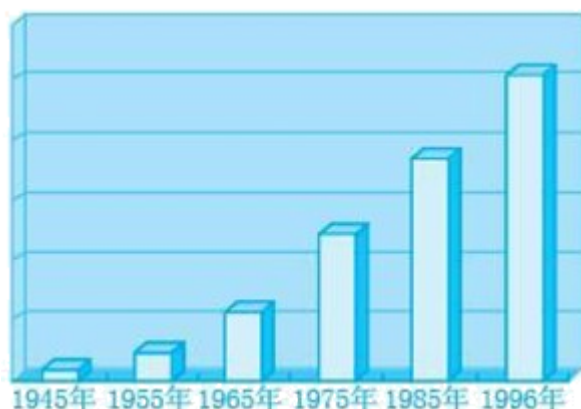
21. 历时 200 天的会战，是苏德战争中最为激烈的战役。它不仅使苏德战场发生了根本转折，而且使整个世界反法西斯战局发生了重要转折。此次会战是（ ）

A. 斯大林格勒保卫战 B. 诺曼底战役 C. 莫斯科保卫战 D. 凡尔登战役

【解答】历时 200 天的会战，是苏德战争中最为激烈的战役。它不仅使苏德战场发生了根本转折，而且使整个世界反法西斯战局发生了重要转折。此次会战是斯大林格勒保卫战。1942 年 7 月，德军开始集中力量进攻斯大林格勒。举世闻名的斯大林格勒会战由此开始。1943 年 2 月，斯大林格勒会战以苏军的胜利宣告结束。从此，苏军开始了全线反攻。这次战役是第二次世界大战中的关键性战役，极大地消耗了德军的有生力量，斯大林格勒战役不仅是苏德战场根本转折的开始，而且是第二次世界大战的重要转折点。

故选：A。

22. 下图中，日本经济在 20 世纪 80 年代中期以后快速发展的最主要原因是（ ）



A. 推行社会改革 B. 美国大力扶持 C. 实行科技立国 D. 推行非军事化

【解答】据所学知，二战后，日本利用良好的国际国内环境，实现了经济的快速增长，ABCD 四项都是日本经济增长的原因，其中属于 20 世纪 80 年代中期以后快速发展的主要原因的是 C 项，ABD 三项从 50 年代就有了，科技立国是在 80 年代提出的。

故选：C。

23. 下列图片反映了同一个主题，概括最恰当的是（ ）



1947 年杜鲁门主义



马歇尔计划



北约的成立

- A . 欧洲一体化                      B . 冷战政策  
C . 世界政治格局的多极化趋势      D . 经济全球化趋势的加强

【解答】 题中图片反映的是冷战和两极格局的形成，由于美苏两国国家利益的冲突，二战后美苏两国进行了冷战，以美国为首的资本主义国家在军事上成立了北约组织，在经济上实行马歇尔计划。由此可知图片所反映的主题是冷战政策。

故选：B。

24 . 美国总统特朗普于 2018 年 4 月 13 日晚宣布，美军联合英国、法国对叙利亚政府军事设施实行“精准打击”，以作为对日前叙东古塔地区发生“化学武器袭击”的回应。美英法的军事行动再一次将人们的视线聚焦于叙利亚所在的中东地区。中东问题是自二战后延续至今，时间最长的一个地区热点问题。该问题的焦点是（ ）

- A . 巴以冲突              B . 印巴分治              C . 宗教冲突              D . 石油争夺

【解答】 第二次世界大战结束以来，中东地区始终动荡不定。动荡的原因是错综复杂的。中东地区的地理位置和战略位置极为重要，石油资源十分丰富，是各个历史时期世界列强的必争之地。列强从自己利益出发，在此进行了长期角逐。大国的介入，使问题更加复杂。几十年中陆续形成的领土争端和不同的宗教信仰及阿拉伯民族和以色列民族的矛盾；对珍贵水资源的争夺等都是中东地区矛盾错综复杂的原因。巴以冲突成为中东问题的关键。中东问题是自二战后延续至今，时间最长的一个地区热点问题。该问题的焦点是巴以冲突。

故选：A。

25 . 2017 年上映的《敦刻尔克》是美国大导演克里斯托夫·诺兰执导的二战题材史诗巨作，全景展现了二战的恢宏气势和惨烈场面。出品此电影的是号称世界电影“梦工厂”和世界电影之都的（ ）

- A . 威尼斯                  B . 戛纳  
C . 柏林                      D . 好莱坞

【解答】 好莱坞汇集了著名的电影公司、著名导演、名演员，拥有一流的电影制作技术和拍摄场地，拍摄出许多闻名世界的影片，被称为世界电影“梦工厂”和世界电影之都，成为了美国电影的代名词。号称世界电影“梦工厂”和世界电影之都的是好莱坞。

故选：D。

二、判断题（判断以下各题的表述是否正确，正确的在答题卡上把“A”涂黑，错误的在答题卡上把“B”涂黑。本大题共 5 小题，每小题 1 分，共 5 分）

26 . 隋朝杰出工匠李春设计建造的赵州桥是世界上现存最古老的一座石拱桥。

【解答】 根据所学知识可知，隋朝杰出工匠李春设计和主持修建的赵州桥，它设计科学，桥面平坦，坚固

实用，造型优美，是世界上现存最古老的一座石拱桥，七百多年以后，欧洲人才建成类似的桥。这座桥设计科学，跨度很大，桥面平缓，便于交通，造型也很美观，被誉为“世界建桥史上的一个奇迹”。赵州桥的设计开创了世界平拱桥的先河。赵州桥凝聚了古代劳动人民的智慧与结晶，开创了中国桥梁建造的崭新局面。题干说法正确。

故答案为：√。

27．1954年，第一部《中华人民共和国宪法》颁布，这是我国第一部社会主义类型的宪法。这部宪法的颁布标志着我国进入了社会主义初级阶段。

【解答】1954年9月，第一届全国人民代表大会在北京召开，大会制定了《中华人民共和国宪法》。这是我国第一部社会主义类型的宪法，也是我国有史以来真正反映人民利益的宪法。1956年底，我国完成对农业、手工业和资本主义工商业的社会主义改造，基本实现了生产资料私有制向社会主义公有制的转变，标志着我国建立起社会主义基本制度，从此进入社会主义初级阶段。

故答案为：×。

28．民间故事集《天方夜谭》再现了古代希腊社会的图景，是研究早期希腊社会的重要史料。

【解答】《一千零一夜》又名《天方夜谭》是阿拉伯文学的代表，反映了阿拉伯帝国境内各族人民以及东方古国的风土人情和社会面貌。《阿里巴巴和四十大盗》《阿拉丁神灯》等均是其中脍炙人口的名篇。民间故事集《天方夜谭》再现了古代希腊社会的图景，是研究早期希腊社会的重要史料，这个表述是错误的。

故答案为：×。

29．英国科学家牛顿是近代自然科学的奠基人之一，他的成就有浮力定律、微积分和“牛顿三定律”等，对近代自然科学的发展影响很大。

【解答】英国科学家牛顿是近代自然科学的奠基人之一，他的成就有微积分和“牛顿三定律”等，对近代自然科学的发展影响很大。浮力定律是阿基米德发现的。

故答案为：×。

30．科索沃战争是美国对世界多极化趋势的挑战。

【解答】根据所学知识可知，1999年3月24日，以美国为首的北约在未经联合国安理会授权的情况下，打着维护人权，制止“种族清洗”的旗号，开始对主权国家南联盟进行狂轰滥炸，造成南联盟重大人员伤亡和物质损失。科索沃战争是美国对世界政治格局多极化趋势的挑战，对世界格局产生了重要影响。科索沃战争表明，霸权主义和强权政治依然存在，世界多极化趋势将是长期的、曲折的斗争过程。“科索沃战争是美国对世界多极化趋势的挑战”说法正确。

故答案为：√。

第 II 卷主观题 (共 45 分)

三、填空题 (请将答案按序号填入答题卡的指定位置。本大题共 5 小题, 每空 1 分, 共 10 分)

31. 东汉末年的名医 ▲ 写成了《伤寒杂病论》一书, 发展了中医学的理论和治疗方法, 为中医药学的发展作出巨大贡献, 被后世尊称为“医圣”; 明朝杰出的医药学家李时珍编写的《▲》是我国第一部总结性的药物学巨著, 被西方国家称为“东方医学巨典”。

【解答】东汉末年, 张仲景收集了许多民间药方, 写成了《伤寒杂病论》, 全面阐述了中医理论和治病原则, 奠定了中医治疗学的基础, 他医术高明, 医德高尚, 后世尊称他为“医圣”。李时珍是明代杰出的医学家和药物学家, 后世尊称他为“药圣”, 著有《本草纲目》。全书共收 1892 种药物, 附药方 11000 多则, 插图 1160 幅, 被誉为“东方医学巨典”。

故答案为:

张仲景; 本草纲目。

32. 1935 年 1 月召开的 ▲ 会议确立了毛泽东为核心的党中央的正确领导, 是中国共产党历史上生死攸关的转折点; ▲ 是中国近代以来取得的反侵略战争的第一次完全胜利。

【解答】据所学知, 1935 年, 在长征途中召开的遵义会议, 结束了“左”倾错误在中央的统治, 事实上确立了以毛泽东为核心的党中央的正确领导, 这次会议挽救了党、挽救了红军、挽救了革命, 是党的历史上生死攸关的转折点。抗日战争的胜利, 是中国人民一百多年来第一次取得反对外来侵略斗争的完全胜利。它大大增强了全国人民的民族自尊心和自信心。中国的抗日战争是世界反法西斯战争的重要组成部分, 中国人民的抗战, 对世界反法西斯战争的胜利作出了重大贡献, 中国的国际地位得到提高, 是中国由衰败到振兴的转折点。

故答案为:

遵义会议; 抗日战争。

33. ▲ (历史事件) 是沙皇自上而下实行的资产阶级性质的改革, 加快了俄国资本主义的发展; ▲ (历史事件) 使日本摆脱了沦为半殖民地国家的命运, 成为近代日本历史的重要转折点。

【解答】1861 年改革是沙皇自上而下实行的资产阶级性质的改革, 使俄国走上了资本主义道路, 加快了俄国资本主义的发展, 是俄国历史上的重大转折点, 但改革不彻底, 保留了大量封建残余。明治维新使日本从一个闭关锁国的封建国家, 逐步转变为资本主义国家, 摆脱了沦为半殖民地国家的命运, 是日本历史的重要转折点。但日本强大起来以后, 很快走上了对外侵略扩张的军国主义道路。1861 年改革 (农奴制改革或亚历山大二世改革) (历史事件) 是沙皇自上而下实行的资产阶级性质的改革, 加快了俄国资本主义的发展; 明治维新 (历史事件) 使日本摆脱了沦为半殖民地国家的命运, 成为近代日本历史的重要转折点。

故答案为：

1861年改革（农奴制改革或亚历山大二世改革）；明治维新。

34. 18世纪60年代，工业革命最早开始于\_\_▲\_\_（国家）；第二次工业革命中，电力逐步取代蒸汽，成为工厂机器的主要动力，人类历史进入了“\_\_▲\_\_时代”。

【解答】1765年，英国机械师，哈格里夫斯发明了“珍妮纺纱机”，大幅度增加了棉纱产量。是第一次工业革命开始的标志。因此最早开始工业革命的国家是英国；第二次科技革命的核心是电力和内燃机的广泛使用，它把人类带入电气时代。

故答案为：

英国；电气。

35. 第一次世界大战的性质是\_\_▲\_\_；第二次世界大战全面爆发的标志是\_\_▲\_\_。

【解答】第一次世界大战的性质是帝国主义战争，第二次工业革命后，世界经济发生变化，德国实力上升，英法下降，德国与英法之间为了争夺殖民地和世界霸权矛盾激化，而第一次世界大战就是帝国主义国家主要交战国为重新瓜分世界而，争夺世界霸权而发动的，因此是一场非正义的、帝国主义战争。1939年，第二次世界大战全面爆发的标志是德国军队对波兰发动了突然进攻。

故答案为：

帝国主义战争；德国闪击（突袭）波兰。

四、列举题（本大题共2小题，第36题2分，第37题3分，共5分）

36. 走近遗迹，触摸历史，历史遗迹是人类文明的活化石。

(1) 中华民族同根同源。每年清明，众多海外华侨踏上寻根之旅，共同祭拜“人文始祖”\_\_▲\_\_。

(2) 红米饭，南瓜汤，重上\_\_▲\_\_，在第一块农村革命根据地，回望苍茫群山中的星星之火。

【解答】(1) 距今约四五千年，生活在黄河流域炎帝部落和黄帝部落联合在涿鹿一战中打败蚩尤部落。从此，炎帝、黄帝部落结成联盟，经过长期发展形成日后的华夏族，华夏族是汉族的前身，中华民族的主干部分。黄帝和炎帝被后人尊称为中华民族的“人文始祖”。

(2) 1927年9月，毛泽东在湖南领导工农革命军发动秋收起义，部队在进攻长沙受挫后，毛泽东当机立断，率部队向井冈山进军，创建了中国革命史上第一个农村革命根据地--井冈山革命根据地。井冈山会师，撒下了中国革命的星星之火。

故答案为：

(1) 黄帝和炎帝。

(2) 井冈山。

37. 在历史的长河中，涌现出了许多敬慕的名人，根据提示写出与之相对应的历史人物。

(1) 1492年，“他”受西班牙王室资助，率领船队横渡大西洋。经过两个月的航行，到达了今天美洲的古巴、海地等地。“他”是▲。

(2) “他”一生共有2000多项发明，其中最著名的是电灯，“他”被誉为“发明大王”。“他”是▲。

(3) “他”“成于战争，败于战争”。1804年，“他”加冕称帝，在位期间颁布了《法典》，在滑铁卢战役中惨败，从此退出政治舞台。“他”是▲。

【解答】(1) 1492年，“他”受西班牙王室资助，率领船队横渡大西洋。经过两个月的航行，到达了今天美洲的古巴、海地等地。“他”是哥伦布。他认为自己到达了亚洲的印度，所以称当地居民为印第安人。实际上哥伦布发现了一个原来不被欧洲人所知的新大陆。

(2) “他”一生共有2000多项发明，其中最著名的是电灯，“他”被誉为“发明大王”。“他”是爱迪生。美国科学家爱迪生在1879年研制成功碳丝灯泡，为世界带来了光明，其正式注册的发明就有1300种，被誉为“发明大王”。

(3) “他”“成于战争，败于战争”。1804年，“他”加冕称帝，在位期间颁布了《法典》，在滑铁卢战役中惨败，从此退出政治舞台。“他”是拿破仑。1799年拿破仑发动政变，夺取政权；1804年拿破仑称帝建立法兰西第一帝国。拿破仑对内巩固资产阶级统治，颁布了《法典》；对外多次打败欧洲反法联盟的军队，既打击了欧洲的封建势力，也损害了被侵略国家人民的利益。1812年拿破仑率军远征俄罗斯失利；1814年他被反法联盟赶下台；1815年在滑铁卢惨败后被流放到大西洋小岛上孤独地死去。

故答案为：

(1) 哥伦布。

(2) 爱迪生。

(3) 拿破仑。

五、材料分析题（本大题共3小题，第38题7分，第39题7分，第40题8分，共22分）

38. 在世界文明坐标中确立中国符号，融入中国元素，是增强民族自信，提升国家“软实力”的重要途径。

阅读下列材料，回答问题。

材料一 为政以德，譬如北辰（北辰：北极星），居其所而众星拱（拱：围绕）之。子为政焉用杀？子欲善而民善矣。


——《论语·为政》

(1) 材料一是哪位思想家的言论？（1分）他是哪一学派的创始人？（1分）

材料二（唐太宗）见新进士缀行而出，喜曰：“天下英雄入吾彀中（原指箭射出去所能达到的范围，后用比喻牢笼，圈套）矣”……正所谓“太宗皇帝真长策，赚得英雄尽白头”。

——《唐摭言》

(2) 材料二内容涉及的是哪一选官制度？（1分）这一制度诞生于什么时期？（1分）

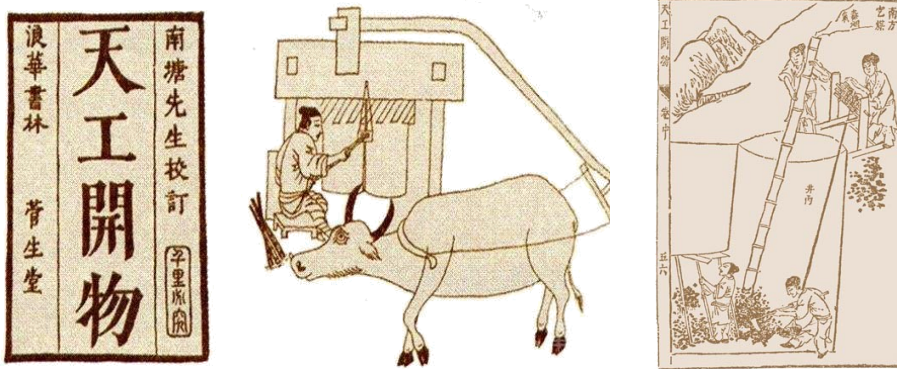


分)

材料三 见右图

(3) 中国书画艺术可谓源远流长，翰墨飘香，请据图写出“书圣”王羲之的作品名称。(1分)

材料四 《天工开物》封面和插图



(4) 材料四中提及的《天工开物》被译成日文、法文、德文、英文等多种文字，被誉为“中国 17 世纪的工艺百科全书”，请写出《天工开物》的作者。(1分)

材料五 要认真汲取中华优秀传统文化的思想精华和道德精髓……深入挖掘和阐发中华优秀传统文化讲仁爱、重民本、守诚信、崇正义、尚和合、求大同的时代价值，使中华优秀传统文化成为涵养社会主义核心价值观的重要源泉。

——习近平在中共中央政治局第十三次集体学习时的讲话

(5) 请根据材料和自己的理解说说习总书记号召学习中华优秀传统文化的目的是什么？(1分)

【解答】(1) 由“《论语·为政》”可知，材料一记载的是孔子的言论。孔子是儒家学派的创始人。

(2) “太宗皇帝真长策，赚得英雄尽白头。”的意思是李世民真的是长远的政策，利用科举考试就使得天下的志士穷尽其一生效忠于他。因此材料反映的是科举制度。隋炀帝时期，设进士科，科举制度正式形成。

(3) 图中作品是被誉为“天下第一行书”“书圣”王羲之的代表作《兰亭序》。

(4) 《天工开物》的作者是明朝科学家宋应星。

(5) 由“使中华优秀传统文化成为涵养社会主义核心价值观的重要源泉。”可知，习总书记号召学习中华优秀传统文化的目的是使中华优秀传统文化成为涵养社会主义核心价值观的重要源泉。

故答案为：

(1) 孔子；儒家学派。

(2) 科举制度；隋朝（或隋炀帝时期）。

(3) 《兰亭序》。

(4) 宋应星。

(5) 使中华优秀传统文化成为涵养社会主义核心价值观的重要源泉。

39. 英国前首相丘吉尔在《第二次世界大战回忆录》里说过：“你向后看得越远，就能向前看得更远。”战争让我们居安思危，铭记历史，面向未来。阅读下列材料，回答问题。

### 【夹缝中求生存】

材料一 （一战）在许多难以预料的方面改变了中国的命运……一战期间，有大量华工在欧洲与协约国并肩战斗……他们的血汗、牺牲和生命为中国外交官在巴黎和会上争取国际承认，为中国登上世界舞台和实现国际化提供了重要凭借……并且在战后和平会议上参与世界新秩序的创建……1919年的中国与1914年的中国有着天壤之别……

——徐国琦《中国与大战：寻求新的国际认同和国际化》

(1) 结合所学回答“1919年的中国”指的是1919年5月发生的什么历史事件？（1分）

### 【抗战中谋发展】

材料二 苦难十四年，日本和汉奸，压迫老百姓，有苦不能言。

——东北民谣

材料三 （中国）成为世界反法西斯战争的东方主战场。随着世界反法西斯战争的胜利……中国成为世界四强之一的大国，中华民族开始了近百年来的伟大复兴。

——臧运祜《20世纪的中国与世界》

(2) 材料二所说的“苦难十四年”始于哪一历史事件？（1分）请列举一著名战例，说明中国为世界反法西斯战争的胜利作出巨大贡献。（1分）

(3) 二战期间世界反法西斯国家走向联合的标志是什么？（1分）1945年，“成为世界四强之一”的中国参与了哪一国际组织的创建？（1分）

### 【崛起中促和平】

材料四

战争是一面镜子，能够让人更好认识和平的珍贵。今天……世界仍很不太平，战争的达摩克利斯之剑依然悬在人类头上。我们要以史为鉴，坚定维护和平的决心。

——习近平在纪念中国人民抗日战争暨世界反法西斯战争胜利70周年大会上的讲话



(4) 早在1953年，为促进世界和平，周恩来提出了什么外交原则，成为处理国与国之间关系的基本准则？（1分）据上面右边图片说出本世纪初期中国主动融入世界的一件大事。（1分）

【解答】(1) 1919年，中国在巴黎和会上外交失败的消息传到国内，5月4日，北京的青年学生走上街头，举行集会、抗议等活动，五四运动爆发。

(2) 材料二反映的是抗日战争。材料二所说的“苦难十四年”开始于1931年的九一八事变。抗日战争时期的重大战役有：型关大捷、台儿庄战役、百团大战等。

(3) 为共同打击法西斯，1942年1月1日，美、英、苏、中等26个国家在华盛顿签署《联合国宣言》。

言》，《联合国宣言》的签署，标志着国际反法西斯同盟的正式形成。世界反法西斯同盟的建立，大大增强了反法西斯力量，为最终战胜法西斯奠定了基础。1945年，“成为世界四强之一”的中国参与了联合国的创建。

(4) 1953年，周恩来提出的和平相处五项原则，成为处理国与国之间关系的基本准则。WTO是世界贸易组织的标志，2001年，中国加入世界贸易组织。

故答案为：

- (1) 五四运动。
- (2) 九一八事变；平型关大捷、台儿庄战役、百团大战等。
- (3) 发表《联合国宣言》，建立国际反法西斯联盟；联合国。
- (4) 和平相处五项原则；加入世界贸易组织。

40. 2018年新年前夕，国家主席习近平发表2018年新年贺词。在新年贺词中，有这么一句话激励着每一个人——“幸福是奋斗出来的”。古往今来，为实现国家的富强，让人民群众过上幸福的生活，无数志士仁人不断地进行探索与实践。阅读下列材料，回答问题。

材料一 开元初，四方丰稔（丰收），城镇商铺林立，客商如云。丁壮之夫，不识兵器。

——《开元纪事》

(1) 古代历史长河中，中华民族曾有过灿烂辉煌的时代，材料一可以用于研究历史上哪位皇帝在位时期的政绩？（1分）

材料二 1840年，在炮口的逼迫下，中国蹒跚地走入近代，随后的一百余年间，外国人通过条约“合法”地剥夺榨取、管束控制中国，驱使中国社会脱出常轨，改道变形。不仅使中国人民从此陷入苦难的历程，也促进中国人民觉醒和奋起。

——摘编自陈旭麓《近代中国社会的新陈代谢》

(2) “在炮口的逼迫下”，近代中国进入了怎样的社会？（1分）

材料三 右图中，手枪上有两行字：“南昌暴动纪念”，“朱德自用”。

(3) 材料三反映的历史事件是什么？（1分）

材料四 “中华人民共和国中央人民政府今天成立了。”毛泽东同志在天安门城楼上的庄严宣告具有划时代的意义……从此走上了民族独立的新纪元。

(4) 材料四反映的是哪一历史事件？（1分）该事件发生在什么时候？（年月日）（1分）

材料五 中国在过去的三十多年里进行的经济改革，不仅提高了公民总体的物质生活水平，也给他们带来了更多的自由和更大的流动性。中国发展了一种充满活力的社会主义市场经济，能够挑战美国经济主导地位，并且提供了一种不同于西方民主的国家发展模式。

——（美）弗兰克·萨克雷·芬德林主编《世界大历史——1900至反恐战争》

(5) 材料五中，“中国在过去的三十多年里进行的经济改革”的总设计师是谁？（1分）

(6) 中国共产党领导中国人民进行革命和社会主义建设的光辉历程给了我们什么启示？(2分)

【解答】(1) 由材料中的“开元初”可知，事件发生在唐玄宗统治时期。唐玄宗统治前期由于政治清明，经济空前繁荣，仓库充实，社会安定，人口明显增加，唐朝进入全盛时期，历史上称为“开元盛世”。

(2) 依据材料二“1840年，在炮口的逼迫下，中国蹒跚地走入近代。”可知，“在炮口的逼迫下”是指鸦片战争。英国政府为保护鸦片走私，借口中国禁烟，1840年6月，英国舰队侵入中国广东海面，鸦片战争正式爆发。1842年8月，英国舰队沿长江而上，直逼南京城下，用武力强迫清政府签订《南京条约》。

《南京条约》是中国近代第一个不平等条约，中国的国家主权和领土完整遭到破坏，丧失了独立自主的地位。古老的中国开始被卷进资本主义的漩涡。鸦片战争使中国社会性质发生改变，中国开始从封建社会沦为半殖民地半封建社会。

(3) 根据材料三可知反映的历史事件是南昌起义。1921年，在朱德等人的领导下发动南昌起义，打响武装反抗国民党反动派的第一枪。

(4) 材料四反映的是中华人民共和国的成立。1949年10月1日，我国在北京天安门举行开国大典，标志着中华人民共和国的成立。

(5) 1978年，十一届三中全会在北京召开，会议作出把党的工作重心转移到经济建设上来，实行改革开放的伟大决策。从此我国开始进入社会主义现代化建设的新时期，并取得了巨大成就。邓小平解决了什么是社会主义，怎样建设社会主义等一系列基本问题，为中国改革开放和现代化建设指明了前进的方向和道路。邓小平是我国实行改革开放和社会主义现代化建设的总设计师。

(6) 本题属于发挥性试题，言之有理即可。如：没有共产党就没有新中国，只有社会主义才能发展中国等。

故答案为：

- (1) 唐玄宗。
- (2) 中国开始沦为半殖民地半封建社会。
- (3) 南昌起义。
- (4) 中华人民共和国成立（或开国大典）；1949年10月1日。
- (5) 邓小平。
- (6) 没有共产党就没有新中国，只有社会主义才能发展中国等。（言之有理即可）

六、综合探究题（请将答案按序号填入答题卡的指定位置。本大题共1小题，共8分）

41. 在人类历史长河中，出现了许多叱咤风云的大国，比如二战结束后最富强的美国。美国的发展道路虽然有它自身的特点，但依然有许多地方值得我们借鉴。某校九年级学生围绕美国的崛起这个主题查找资料，进行了系列探究，请你参与。

材料一 在美洲大陆北部，有一个飘着星条旗的国家……这个国家的出现……演绎了大国兴起的罕见奇迹。它在欧洲文明的基础上独创性地走出了一条发展之路，将世界第一强国的位置占据了一个多世纪。

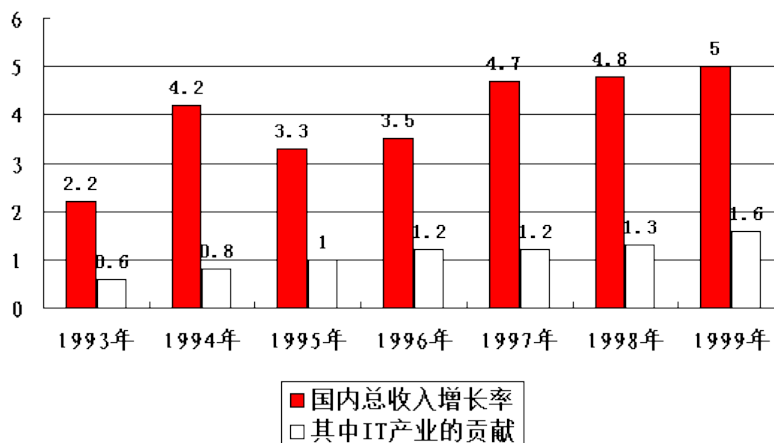
(1) 材料一中“飘着星条旗的国家”指哪国？(1分) 该国诞生的标志是什么？(1分)

材料二 (在叛乱地区)“为人占有而做奴隶的人们都应在那时(指1863年元旦)及以后永远获得自由”，“合众国政府行政部门，包括陆海军当局，将承认并保障上述人的自由。”

(2) 上述材料出自美国南北战争时期林肯政府颁布的哪一部法令？(1分)

(3) 20世纪30年代，美国面对严重的经济危机，实行罗斯福新政，请结合所学说说罗斯福新政的中心措施和特点。(2分)

材料三 美国经济增长及IT产业的贡献率(%)数据图(1993~1999年)



(4) 20世纪90年代以来，美国的经济政策和经济结构都和以前有很大不同，人们认为美国进入了新经济时代。据材料三并结合所学知识，说说美国新经济的主要特征。(2分)

(5) 综合上述材料中美国的崛起过程，谈谈对我们实现“强国梦”有哪些启示？(1分)

【解答】(1) 材料一中“飘着星条旗的国家”指美国，美国诞生的标志是1776年大陆会议发表《独立宣言》。

(2) 据材料二“(在叛乱地区)‘为人占有而做奴隶的人们都应在那时(指1863年元旦)及以后永远获得自由’合众国政府行政部门，包括陆海军当局，将承认并保障上述人的自由”可知，材料二出自美国南北战争时期林肯政府颁布的《解放黑人奴隶宣言》。

(3) 20世纪30年代，美国面对严重的经济危机，实行罗斯福新政，罗斯福新政的中心措施是对工业的调整；罗斯福新政的特点是国家干预经济(或加强国家对经济的干预和指导)。

(4) 据材料三并结合所学知识，美国新经济的主要特征是信息化、全球化。

(5) 综合上述材料中美国的崛起过程，对我们实现“强国梦”的启示是民族独立、国家统一是基础和前提；杰出人物推动社会进步；恰当的政策有利于社会的发展；不断改革，大胆创新，善于学习外国的长处和科学技术、管理经验；大力发展科技，培养人才等。

故答案为：

(1) 美国；《独立宣言》的发表。

- (2) 《解放黑人奴隶宣言》。
- (3) 中心措施：对工业的调整；特点：国家干预经济（或加强国家对经济的干预和指导）。
- (4) 信息化、全球化。
- (5) 民族独立、国家统一是基础和前提；杰出人物推动社会进步；恰当的政策有利于社会的发展；不断改革，大胆创新，善于学习外国的长处和科学技术、管理经验；大力发展科技，培养人才等。