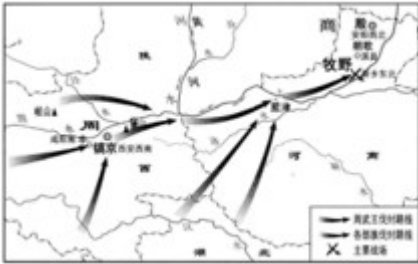


海南省 2020 年中考历史

一、选择题(本大题有 20 小题，每小题四个选项中只有一个正确。每小题 3 分，共 60 分)

1. 识读历史地图是学习历史的方法之一。下图所示的重要战役是



- A. 阪泉之战 B. 牧野之战 C. 涿鹿之战 D. 巨鹿之战

2. 有鉴于台湾所用南明永历年号的钱文甚多，1689 年，清政府发行“康熙通宝”钱币，其背面刻有满文、汉文书写的“台”字。这表明清朝



- A. 推翻了南明政权的统治 B. 大力推行文化专制政策
C. 加强对台湾的有效管辖 D. 货币受南明钱文影响大

3. 19 世纪 60 年代初，法国巴特雷上尉写信给雨果说：“这次远征行动是干得体面而漂亮，是法兰西和英格兰共享之荣耀。”英法所谓的“荣耀”是

- A. 火烧圆明园 B. 旅顺大屠杀 C. 镇压义和团 D. 南京大屠杀

4. 在抗击新冠肺炎疫情期间，钟南山院士称赞武汉“本来就是一座英雄 城市”。作为“英雄的城市”，武汉曾爆发了

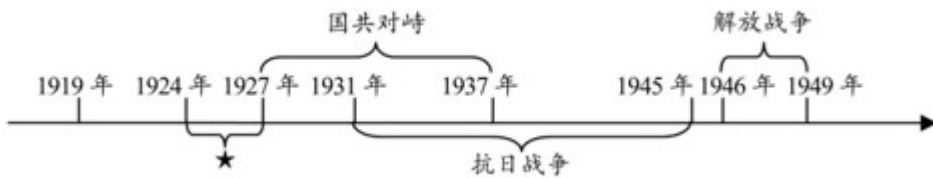
- A. 萍浏醴起义 B. 安庆起义 C. 黄花岗起义 D. 武昌起义

5. 造成下表项目变化 主要原因是

项目	时 间	变 化
农户	1914~1918 年	减少 1500 多万户
耕地	1914~1918 年	减少 2600 多万亩
荒地	1914~1918 年	增加 4900 多万亩
军费	1916~1918 年	增加 5000 多万元

- A. 府院之争 B. 军阀纷争 C. 列强侵略 D. 农民战争

6. 下面时间轴反映了中国新民主主义革命的历史进程，其中“★”处对应的内容是



- A. 辛亥革命 B. 二次革命 C. 国民革命 D. 土地革命

7.毛泽东曾豪迈地说，谁敢横刀立马，唯我彭大将军。下图中，“彭大将军”正指挥



- A. 平型关战役 B. 台儿庄战役 C. 淞沪会战 D. 百团大战

8.在已经决定建立生产资料公有制的总框架下，1953年，我国开始了

- A. 土地改革 B. “三反”运动 C. 三大改造 D. 大跃进运动


9.有人说，当今中国有一半的水稻种植面积和60%的水稻产量要归功于他的杂交水稻。“他”是

- A. 焦裕禄 B. 邓稼先 C. 钱学森 D. 袁隆平

10.1990年，我国对外开放的新举措是开发开放了

- A. 广东珠海 B. 上海浦东 C. 山东青岛 D. 云南昆明

11.下列古塔中，属于国家重点保护文物，堪称海南石塔艺术珍品的是



12.“70年，荡气回肠：70年，艰苦卓绝：70年，铭刻在心”2020年4月30日，《海南日报》出版了一期28版的特刊《见证》，全程“见证”了70年前

- A. 二十三年红旗不倒 B. 红色娘子军谱芳华
C. 海南岛解放铸丰碑 D. 从特区走向自贸港

13.早在公元前450年左右，罗马共和国就已经有了量刑定罪的成文法。要了解这一历史，我们可选取的第一手史料是

- A. 《汉谟拉比法典》 B. 《十二铜表法》 C. 《查士丁尼法典》 D. 《新法典》

14.中世纪欧洲的大学师生免受地方世俗法官审判，而是按教会法规由当地主教审理，或由大学法庭独立

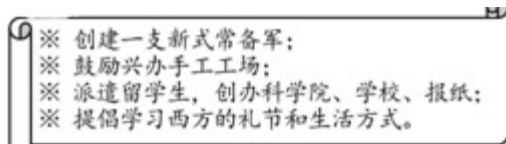
审理。这体现了大学自治地位的

- A. 免赋税特权 B. 教育自主权 C. 司法特权 D. 生命安全权

15.“各种政治势力风起云涌，最终导致内战烽火连年，不可一世的查理一世沦为胜利者的阶下囚。”材料描述的事件发生于

- A. 英国资产阶级革命 B. 美国独立战争 C. 法国大革命 D. 美国南北战争

16.下图摘录了彼得一世改革的措施，这些措施的推行



- A. 建立起沙皇专制统治 B. 废除了腐朽的农奴制度
C. 开启了俄国近代化的进程 D. 使俄国走上资本主义道路

17.现代塑料工业自 1869 年诞生以来，给人类社会带来了极大的便利，但也造成了越来越严重的环境污染，这表明科学技术

- A. 引发工业革命 B. 造成环境污染 C. 是第一生产力 D. 是一把双刃剑

18.1945 年柏林战役后，美、苏、英三国士兵站在希特勒府邸的平台上合影(下图)。这张合影直接反映了



- A. 反法西斯国家协同作战 B. 战后西方大国迅速崛起
C. 世界反法西斯战争结束 D. 希特勒的战略战术失误

19.1948 年 6 月，苏联切断西占区与柏林之间 水陆交通，停止向西柏林供应生活物资，美、英立即对苏占区实行反封锁，由此导致了

- A. 冷战对峙 B. “柏林危机” C. 德国分裂 D. 东欧剧变

20.据统计，1995—2005 年的十年里，世界贸易总额增加了三倍，关税水平普遍降低，贸易壁垒进一步减少，这主要得益于

- A. 世贸组织成立 B. 联合国影响扩大 C. 世界银行推动 D. 两极格局崩溃

二、材料解析题(本大题有 2 小题，21 题 12 分，22 题 12 分，共 24 分)

21.阅读下列材料，回答问题。

材料一：它(朝鲜战争)的发生，并不是完全没有精神准备，因为世界范围内的冷战对峙局面已经形成并日趋紧张，因为美国政府当时实行着敌视新中国的政策。

——摘编自金冲及《二十世纪中国史纲》

材料二：在异常残酷的战争中，志愿军涌现出 30 多万英雄模范和功臣，他们可歌可泣的英雄事迹汇成强大的民族凝聚力。包括美、苏在内的世界各国都感到必须重新估计中国在亚洲和国际事务中的分量。通过这场战争，人民军队建设向国防现代化方向迈出了一大步。

——摘编自《中国共产党的九十年》

- (1) 据材料一，指出美国发动朝鲜战争的原因。
- (2) 根据材料一、二，概括抗美援朝战争胜利的伟大意义。
- (3) “一个有希望的民族不能没有英雄”。列举两位抗美援朝战斗英雄的代表。志愿军战士被誉为“最可爱的人”，谈谈你对这句话的理解。

22. 阅读下列材料，回答问题。

材料一：随着经济的发展，殖民地在经济上摆脱宗主国束缚的要求越来越强烈。西班牙、葡萄牙对殖民地的掠夺和剥削，引起殖民地的普遍不满。宗主国统治力量的削弱，为殖民地民族独立运动的开展提供了有利的条件。

——摘编自刘祚昌、王觉非《世界史》

材料二：1920 年，国大党通过甘地起草的新党章，其中第一条规定“印度国大党的目标是印度人民用一切合法的、和平的手段，以争取实现自治。”

——齐世荣主编《世界通史资料选辑》

材料三：《非洲独立进程图(截至 1990 年)》：



材料四：1955 年的万隆会议以及在此基础上形成的不结盟运动，是发展中国家以独立的政治力量登上国际政治舞台的重要标志，对美苏两极格局造成了有力冲击。

——摘编自《中外历史纲要》

- (1) 概括材料一中拉丁美洲独立运动爆发的背景。

- (2) 据材料二和所学知识，写出印度国大党的斗争目标及开展的相关运动。
- (3) 识读材料三，说说非洲独立运动在 1960 年和 1990 年取得的重大成果。
- (4) 据材料四，指出二战后发展中国家为维护独立，谋求发展所作的努力。在当今错综复杂的国际形势下，发展中国家应如何应对新的挑战？

三、探究题(本大题有 1 小题，共 16 分)

23.2019 年 7 月 6 日，浙江良渚古城遗址正式列入联合国教科文组织世界文化遗产名录，受到《世界遗产公约》的保护。结合所学知识，探究下列问题。

材料一：文化遗产主要包括物质文化遗产和非物质文化遗产(又称口头或无形遗产)组成。联合国教科文组织官网显示：迄今为止，中国已有 77 个项目先后入选世界物质文化遗产以及非物质文化遗产名录，其中包括了周口店北京猿人遗址、长城、都江堰—青城山、中国雕版印刷技艺、京剧等。

- (1) 将材料中提及的文化遗产进行分类，并填写在对应的横线上。

物质文化遗产：_____

非物质文化遗产：_____

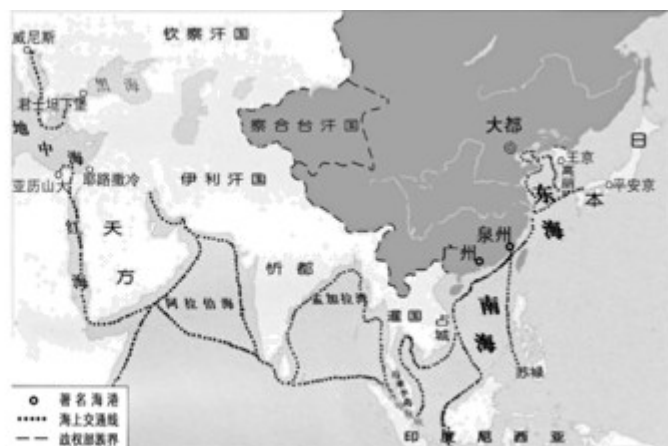
- (2) 请就其中的“周口店北京猿人遗址”写一篇介绍短文。(提示：要求涉及位置、时间、出土文物、地位或影响等方面内容，80 字左右，)

材料二：《宋代：中国的大航海时代》写到：11 至 13 世纪，印度洋已成了大宋商船的天下。..朝(每年)从海上贸易中抽税近二百万贯，...位宋朝诗人写过一首描述泉州港贸易的诗：“苍官影里三洲路，涨海声中万国商!”

材料三：



宋泉州市舶司遗址



元代海上交通路线

- (3) 运用材料二、三，从一个角度论证“泉州：宋元中国的世界海洋商贸中心”。

材料四：在我国，世界文化遗产的保护形势不容乐观。有些地方在争得世界遗产的荣誉之后，无节制地进行开发，无限制地招揽游客，使文化遗产和周围环境遭到严重破坏.....敦煌莫高窟，由于游人过多，洞窟内的壁画和雕像已蒙受无法弥补的损失。

----摘编自《世界文化遗产荟萃》(人教版)

(4) 结合材料，我们应如何协调遗产保护和开发利用的关系？

试卷相关说明

本试卷的题干、答案和解析均由组卷网 (<http://zujian.xkw.com>) 专业教师团队编校出品。登录组卷网可对本试卷进行**单题组卷**、**细目表分析**、**布置作业**、**举一反三**等操作。

试卷地址：[在组卷网浏览本卷](#)

组卷网是学科网旗下的在线题库平台，覆盖小初高全学段全学科、超过 900 万精品解析试题。关注组卷网服务号，可使用移动教学助手功能（布置作业、线上考试、加入错题本、错题训练）。



学科网长期征集全国最新统考试卷、名校试卷、原创题，赢取丰厚稿酬，欢迎合作。
钱老师 QQ : 537008204 曹老师 QQ : 713000635