

菏泽市二〇二三年初中学业水平考试（中考）

历史试题

注意事项：

1. 本试卷分为选择题和非选择题两部分，共 50 分，考试时间为 60 分钟。
2. 选择题答案用 2B 铅笔填涂在答题卡上，非选择题答案用 0.5 毫米黑色墨水签字笔书写在答题卡指定区域内。

选择题部分（共 20 分）

一、选择题：共 20 小题，每小题 1 分，共计 20 分。在每小题列出的四个选项中，选出最符合题目要求的一项，用 2B 铅笔填涂在答题卡上。

1. 山东淄博赵家徐姚遗址入选“2022 年中国十大考古新发现”。在该遗址内发现了大量的红烧土，即用火烧烤过的黏土，常用于建造房屋。这可印证该遗址居民（ ）

- A. 能够饲养家畜 B. 广泛使用石器 C. 过着定居生活 D. 从事农业生产

【答案】C

【解析】

【详解】根据题干材料中的“在该遗址内发现了大量的红烧土，即用火烧烤过的黏土，常用于建造房屋”可知，山东淄博赵家徐姚遗址已经懂得烧制黏土、建造房屋，这说明该遗址居民已经开始过定居生活，C 项正确；能够饲养家畜，广泛使用磨制石，从事农业生产等，都是原始农业兴起和发展的重要标志，但材料未体现这些，排除 ABD 项。故选 C 项。

2. 有学者指出：“周王和周公建国，立七十一，姬姓五十三，以同姓为枝干，是家天下政治的再一步成长和扩大。”这说明分封制的主要作用是（ ）

- A. 巩固了西周疆土 B. 确立了等级制度
C. 实现了富国强兵 D. 促进了民族交融

【答案】A

【解析】

【详解】依据题干“周王和周公建国，立七十一，姬姓五十三，以同姓为枝干，是家天下政治的再一步成长和扩大。”可见分封制以同性贵族为主体，有利于巩固西周“家天下”的统治，有利于巩固西周疆土，A 项正

确；题干没有涉及分封制确立了“周天子→诸侯→卿大夫→士→平民→奴隶”等级制度，排除 B 项；实现富国强兵是战国时期商鞅变法对于秦国的作用，排除 C 项；题干没有涉及西周的民族关系，排除 D 项。故选 A 项。

3. “中国的文化就陆地情况来看，它越过亚洲中部，打开了通往印度、西域的道路”。为此作出重要贡献的是（ ）

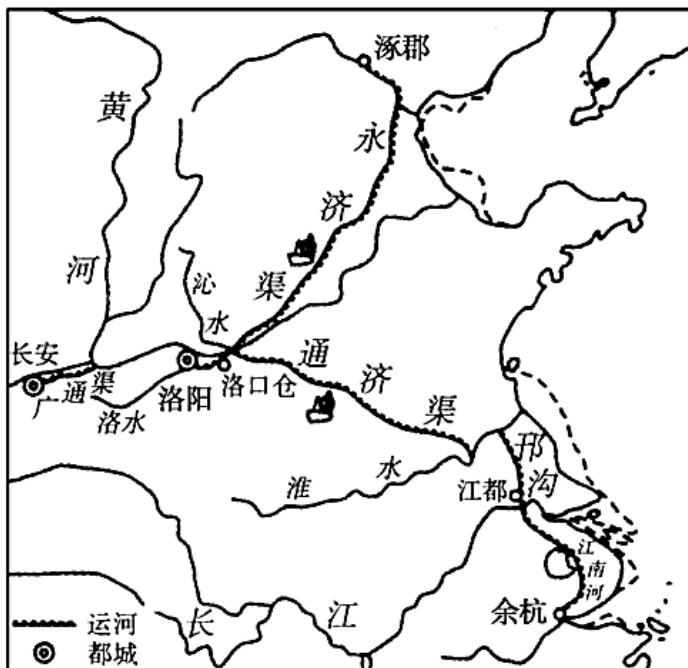
- A. 张骞、鉴真 B. 张骞、玄奘 C. 鉴真、郑和 D. 玄奘、郑和

【答案】 B

【解析】

【详解】 根据题干材料“中国的文化就陆地情况来看，它越过亚洲中部，打开了通往印度、西域的道路”结合所学可知，张骞出使西域，开辟了“丝绸之路”；玄奘西行天竺，打通了通往印度的道路，B 项正确；鉴真东渡日本，排除 AC 项；郑和七下西洋，先后到达亚洲和非洲的 30 多个国家和地区，与题干内容不符，排除 D 项。故选 B 项。

4. 隋唐时期，洛阳、江都、余杭等成为著名的经济城市（下图）。这主要得益于（ ）



隋朝大运河示意图

- A. 繁盛的内河航运 B. 便利的海运交通 C. 安定的社会环境 D. 经济重心的南移

【答案】 A

【解析】

【详解】 根据所学结合图片可知，隋朝大运河以洛阳为中心，北抵涿郡，南达余杭，经过江都，由此可知，

洛阳、江都、余杭等成为著名经济城市与繁盛的内河航运有关，A项正确；江都、余杭和洛阳都处于内陆，与海运无关，排除B项；安定的社会环境是城市发展的基础，但与题意不符，排除C项；经济重心的南移开始于唐朝中期，且洛阳位于北方，与题意不符，排除D项。故选A项。

5. 这部书全面，总结了我国近 3000 多年来的农业科学成果，杂采众家，突出农政，还吸收了西方农业科学知识。该书是（ ）

- A. 《齐民要术》 B. 《天工开物》 C. 《农政全书》 D. 《本草纲目》

【答案】 C

【解析】

【详解】依据题干和所学知识，明朝徐光启所著的《农政全书》不仅是一部总结性的农学著作，而且吸收了西方农业科学知识，介绍了欧洲的水利技术和工具，体现了西学东渐的时代特征，C项正确；《齐民要术》是北朝贾思勰所著的农学著作，并没有吸收西方农业科学知识，排除A项；《天工开物》是明朝宋应星所著的一部关于农业、手工业的综合性科技著作，被誉为“中国 17 世纪的工艺百科全书”，并不是侧重于总结农业科学成果，排除B项；《本草纲目》是明代李时珍所著的一部药理学著作，并不属于农学领域，排除D项。故选C项。

6. 图片蕴含着丰富的历史信息。下列两幅图片中的历史现象出现的主要原因是（ ）



- A. 平民文化的兴起 B. 商品经济的发展 C. 人口数量的增长 D. 海外贸易的兴盛

【答案】B

【解析】

【详解】根据材料图片信息可知，西域骆驼商队出现在都城，反映了宋代对外贸易和商品经济的发展；清代茶园演剧反映了当时商品经济的发展，使城市的繁荣和市民阶层的壮大，B项正确；材料中没有体现平民文化的兴起，排除A项；人口数量的增长不是图片中现象出现的主要原因，排除C项；海外贸易的兴盛不是图片中现象出现的主要原因，排除D项。故选B项。

7. 江南制造总局翻译馆，在其成立后的近四十年中共翻译 151 种图书，其中军事科学 35 种、工艺制造 21 种、工程 4 种、船政 8 种、矿学 11 种、数理化 35 种等。这反映出其近代化的追求是（ ）

- A. 自强求富 B. 变法图强 C. 民主共和 D. 民主科学

【答案】A

【解析】

【详解】据题干“江南制造总局翻译馆，在其成立后的近四十年中共翻译 151 种图书，其中军事科学 35 种、工艺制造 21 种、工程 4 种、船政 8 种、矿学 11 种、数理化 35 种等”和所学知识可知，洋务运动期间，因创办军事工业和民用企业的需要，江南制造总局翻译馆翻译的书籍主要以实用性技术和军事有关的书籍为主，反映了洋务运动的追求是自强求富，A项正确；变法图强是资产阶级改良派倡导的主张，排除B项；民主共和是资产阶级革命派的近代化的追求，排除C项；民主科学是新文化运动的近代化的追求，排除D项。故选A项。

8. 甲午战争后，中国出现了一个被认为是外资兴业 时代。此前帝国主义在华投资总共不过 2、3 亿美元，此后到 1902 年，各国对华投资总额达到 15 亿美元。据此判断，当时（ ）

- A. 外国侵略势力由沿海深入到内地 B. 帝国主义对中国的经济侵略加剧
C. 清政府沦为列强统治中国的工具 D. 美国和日本成为侵华的主要国家

【答案】B

【解析】

【详解】根据题干“甲午战争后，中国出现了一个被认为是外资兴业的时代……此后到 1902 年，各国对华投资总额达到 15 亿美元”结合所学知识可知，甲午战后外国资本企业在中国大量增加，原因在于《马关条约》中允许外国在中国投资设厂，使列强在华建厂合法化，列强对华资本输出加剧，说明了帝国主义对中国的经济侵略加剧，B项正确；题干说明了甲午战争后列强对中国经济侵略的变化，没有涉及“外国侵略

势力深入到内地”的信息，排除 A 项；“清政府沦为列强统治中国的工具”与八国联军侵华战争后签订的《辛丑条约》有关，排除 C 项；题干没有涉及侵华的国家，排除 D 项。故选 B 项。

9. 五四运动“是近代中国史上具有划时代意义的事件，是一场反帝反封建的伟大爱国运动，是近代中国人民觉醒的标志。”在该运动中发挥先锋作用的是（ ）

- A. 工人阶级 B. 农民阶级 C. 爱国商人 D. 青年知识分子

【答案】D

【解析】

【详解】根据所学可知，五四运动是一场以先进青年知识分子为先锋的伟大爱国革命运动，D 项正确；工人阶级是五四运动后期的主力，排除 A 项；五四运动中广大人民群众参与其中，但发挥先锋作用的是青年知识分子，而不是农民阶级和爱国商人，排除 BC 两项。故选 D 项。

10. 会议重申了党对红军实行绝对领导，确立了“思想建党、政治建军”原则，赋予这支新型人民军队强大的军魂，是人民军队建设史上一次极其重要的会议。这次会议是（ ）

- A. 中共三大 B. 八七会议 C. 古田会议 D. 遵义会议

【答案】C

【解析】

【详解】根据题干“确立了‘思想建党、政治建军’原则”结合所学知识，1929 年 12 月，红军第四军的第九次代表大会，在福建上杭县古田召开，古田会议确立了思想建党、政治建军的原则，C 项正确；中共三大召开于 1923 年，当时的红军还没有建立，排除 A 项；八七会议确定实行土地革命和武装起义的方针，决定在秋收世界发动武装起义，在会上，毛泽东提出“政权是由枪杆子中取得”的著名论断，排除 B 项；遵义会议开始确立以毛泽东为主要代表的马克思主义正确路线在中共中央的领导地位，在极其危机的时刻，挽救了党，挽救了红军，挽救了中国革命，是中国共产党历史上一个生死有关的转折点，排除 D 项。故选 C 项。

11. 下面是中国共产党领导的人民武装抗击日军所占侵华日军总数比例表。这主要说明（ ）

| 时 间 | 1938 年 | 1939 年 | 1940 年 | 1941 年 | 1942 年 | 1943 年 | 1944 年 | 1945 年 |
|--------|-----------|-----------|-----------|-----------|-----------|-----------|-----------|-----------|
| 占 比 | 58.8% | 62% | 58% | 75% | 63% | 58% | 64% | 69% |

- A. 国民党正面战场是抗日战争 主战场
B. 中国共产党是全民族抗战的中流砥柱
C. 中国战场是世界反法西斯战争的东方主战场

D. 全民族抗战是抗日战争取得胜利的重要保证

【答案】 B

【解析】

【详解】 据题干“中国共产党领导的人民武装抗击日军所占侵华日军总数比例表”和所学知识可知，中国共产党领导的八路军、新四军等抗日武装力量挺进敌后，将敌人的后方变成抗日的前线，到1940年，在华北、华中、华南和东北地区创建了有1亿多人口的抗日根据地和游击区，牵制和抗击了大量日军和伪军。根据地成为敌后游击战得以坚持并取得最后胜利的基地，中国共产党在全民族抗战中发挥了中流砥柱的作用，B项正确；题干表格主要是说明共产党在敌后战场对抗日所作的贡献，未提及国民党的正面战场，排除A项；中国战场的确是世界反法西斯战争的东方主战场，但材料中未体现，排除C项；题干表格主要是说明共产党在敌后战场对抗日所作的贡献，未提及全民族抗战，排除D项。故选B项。

12. 东北地区曾涌现出大量的革命歌曲，如《斗争蒋介石》、《撵走美国狼》、《民主联军战歌》、《翻身五更》等。这些歌曲最有可能流行于（ ）

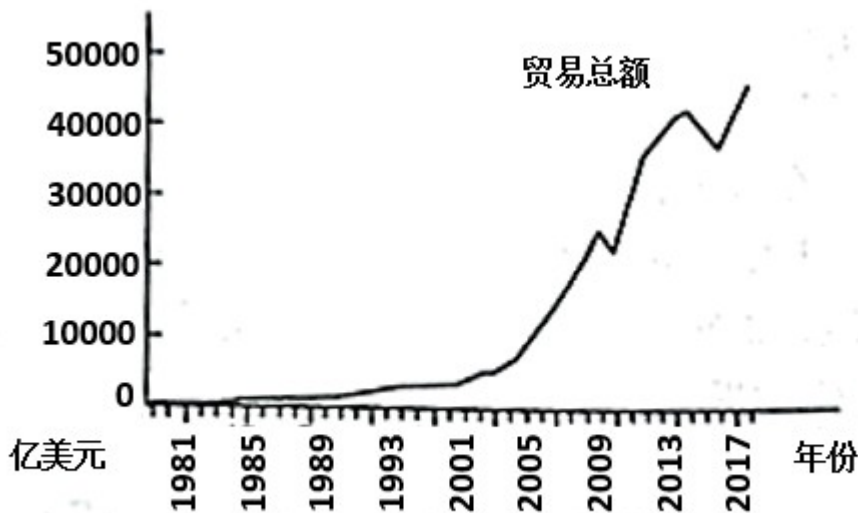
A. 1924年-1927年 B. 1927年-1936年 C. 1937年-1945年 D. 1946年-1949年

【答案】 D

【解析】

【详解】 根据题干“《斗争蒋介石》”结合所学知识，可知这一时期是国共内战，“《撵走美国狼》”结合所学知识可知，解放战争时期，美国援助国民党，“《民主联军战歌》”结合所学知识，解放战争时期，“东北人民自治军”改为“东北民主联军”，“《翻身五更》”结合所学知识，反映解放区的土地改革，综上所述，题干歌曲最可能流行于1946年-1949年的解放战争时期，D项正确；“1924年-1927年”是国共第一次合作，与“《斗争蒋介石》”不符，排除A项；“东北民主联军”是1946年改名的，“1927年-1936年”期间没有“东北民主联军”，排除B项；1937年-1945年是抗日战争时期，国共第二次合作，中国、美国共同对抗法西斯的侵略，排除C项。故选D项。

13. 新中国的对外贸易史是一部从“小兔到大象”的历史。下图中对外贸易进入高速增长阶段主要是由于（ ）



1981—2017 对外贸易总额增长图

1981-2017 对外贸易总额增长图

- A. 改革开放成功拉开序幕
 B. 中共十三大的成功召开
 C. 上海浦东开发区的建立
 D. 中国加入世界贸易组织

【答案】D

【解析】

【详解】根据所学分析图表可知，新中国对外贸易快速增长开始于2001年之后，而2001年正是中国加入世界贸易组织的时间，由此可知，加入世界贸易组织为中国参与经济全球化开辟了新途径，D项正确；改革开放拉开序幕的标志是1978年中共十一届三中全会的召开，排除A项；中共十三大召开于1987年，会上系统阐述了社会主义初级阶段的理论，排除B项；上海浦东开发区建立的时间是1990年，与图表内容不符，排除C项。故选D项。

14. 在百年的奋斗历程中，中国共产党人顽强拼搏、不懈奋斗，形成了一系列伟大精神。追溯其历史源头与逻辑起点，下列党的精神出现的先后顺序是（ ）

- A. 延安精神 铁人精神 特区精神 探月精神
 B. 铁人精神 延安精神 探月精神 特区精神
 C. 特区精神 延安精神 铁人精神 探月精神
 D. 铁人精神 特区精神 延安精神 探月精神

【答案】A

【解析】

【详解】根据所学可知，延安精神诞生于抗日战争时期，铁人精神诞生于20世纪60年代社会主义经济建设的火热年代，特区精神诞生于1980年中共中央决定兴建特区之后，探月精神是21世纪中国航天领域的成就，由此可知，A项正确；根据上述分析可知，BCD三项的排序均不正确，排除BCD项。故选A项。

15. 它是当时世界上疆域最辽阔的帝国（下图），还因保存和发展古典科技成果赢得了科学“义父”的美誉。它是（ ）



- A. 亚历山大帝国 B. 罗马帝国 C. 拜占庭帝国 D. 阿拉伯帝国

【答案】D

【解析】

【详解】根据所学解读图片，结合所学可知，这一帝国的核心在阿拉伯半岛上，最后定都巴格达，8世纪达到极盛，很明显是阿拉伯帝国，且阿拉伯帝国因为百年翻译运动保留了古希腊古罗马的大量经典著作，保存和发展了古典科技成果，D项符合题意，D项正确；亚历山大帝国以巴比伦为首都，罗马帝国的首都都是罗马，拜占庭帝国的首都是拜占庭，均与图片信息不符，排除ABC三项。故选D项。

16. 这部法律设计的制衡机制，“首先是各州和联邦政府之间的分权制衡……其次是联邦政府内部立法、行政、司法……的分权制衡，第三……对立法权再度分割”。该法律是（ ）

- A. 《权利法案》 B. 《人权宣言》 C. 《独立宣言》 D. 1787年宪法

【答案】D

【解析】

【详解】据题干“首先是各州和联邦政府之间的分权制衡……其次是联邦政府内部立法、行政、司法……的分权制衡，第三……对立法权再度分割”和所学知识可知，该法律是1787年宪法。1787年美国宪法是世界上第一部资产阶级成文宪法。宪法依据“分权与制衡”原则，设计了一个联邦制共和国：行政、立法、司法三权分立，总统国会与最高法院及其相关机构各司其职，相互制衡；联邦政府与地方政府分享权力；总统和议员由选举产生，D项正确；英国颁布《权利法案》确立君主立宪制的政治体制，排除A项；法国制宪议会颁布的《人权宣言》宣布自由、财产、安全和反抗压迫是天赋不可剥夺的人权，肯定了言论、信仰、著作和出版自由，阐明了权力分立、法律面前人人平等、私有财产神圣而不可侵犯等原则，排除B项；

《独立宣言》的发表标志着美国的诞生，排除 C 项。故选 D 项。

17. 1932 年经济大危机期间，美国出版了大量肯定苏联的书籍，如《苏联工人》、《社会主义计划》、《走向苏维埃美国》。这主要是基于苏联（ ）

- A. 新经济政策的成效
- B. 农业集体化的成就
- C. 工业化的高速推进
- D. 社会主义模式形成

【答案】 C

【解析】

【详解】 根据题干信息“1932 年经济大危机期间，美国出版了大量肯定苏联的书籍，如《苏联工人》、《社会主义计划》、《走向苏维埃美国》”，结合所学知识可知，1932 年美国出版了大量有关苏联的著作，涉及众多内容，都是关于苏联的研究，因为 1932 年，苏联第一个五年计划提前完成，工业化建设取得显著成就，而此时美国正经历着经济大危机，所以受到美国人的关注，可知这主要是基于苏联工业化的高速推进，C 项正确；新经济政策是苏联在 1921 年至 1928 年间实施的一项经济政策，旨在恢复苏联经济的发展，与题干内容“1932 年经济大危机期间”不符，排除 A 项；到 1937 年，苏联的农业集体化基本完成，并初步实现了农业机械化，与题干内容“《苏联工人》、《社会主义计划》、《走向苏维埃美国》”没有联系，排除 B 项；1936 年，苏联公布了新宪法。新宪法规定，苏联是工农社会主义国家，与题干内容“1932 年经济大危机期间”不符，排除 D 项。故选 C 项。

18. 1944 年 6 月，288 万美英盟军如潮水般涌入诺曼底，重返欧洲，宣告了二战的结局已无悬念。这一军事行动（ ）

- A. 标志着二战达到了最大规模
- B. 使德军陷入了两个战场作战
- C. 是第二次世界大战的转折点
- D. 粉碎了德军不可战胜的神话

【答案】 B

【解析】

【详解】 结合所学知识可知，1944 年 6 月，美英军队在法国诺曼底登陆，开辟了欧洲第二战场，二战进入最后决战阶段。可知这一军事行动使德军陷入了两个战场作战，B 项正确；1941 年 12 月日本偷袭美国珍珠港，标志着太平洋战争爆发，二战达到最大规模，与题干内容“1944 年 6 月，美英军队在法国诺曼底登陆”没有联系，排除 A 项；1942 年 7 月开始 斯大林格勒战役，最终以德国的彻底失败而告结束，斯大林格勒战役，是第二次世界大战苏德战场的转折点，也是第二次世界大战的转折点，与题干内容“1944 年 6 月，美英军队在法国诺曼底登陆”没有联系，排除 C 项；1941 年，莫斯科保卫战的胜利，粉碎了德军不可战胜的神话，与题干内容“1944 年 6 月，美英军队在法国诺曼底登陆”没有联系，排除 D 项。故选 B 项。

19. 在某同学的电脑网页浏览记录中有“万隆会议”“非洲年”“拉美人民维护国家主权的斗争。”由此可知，他

学习的主题是（ ）

- A. 殖民体系的彻底崩溃
- B. 国际政治新秩序的建立
- C. 亚非拉国家的新发展
- D. 社会主义力量发展壮大

【答案】 C

【解析】

【详解】根据所学可知，万隆会议召开于 1955 年，标志着发展中国家作为一支新兴独立的政治力量登上了国际舞台，“非洲年”指的是 1960 年，因为这一年非洲有 17 个国家获得独立，“拉美人民维护国家主权的斗争”表现在古巴走上发展社会主义的道路和巴拿马收回运河区的全部主权等，这些关键词共同反映了亚非拉国家的新发展，C 项正确；“万隆会议”和“拉美人民维护国家主权的斗争”无法反映殖民体系的彻底崩溃，排除 A 项；当今世界的趋势是政治格局多极化，但国际政治新秩序还未建立，排除 B 项；社会主义力量的发展壮大体现在新中国的成立和东欧一些国家成为社会主义国家等，与题意不符，排除 D 项。故选 C 项。

20. “当前大国力量对比的差距正在缩小，美国的领导力和主导力在下降，欧洲的自主自强意识在增强，俄罗斯力图重振大国雄风，中国国际地位和作用不断提高。”这表明（ ）

- A. 世界多极化趋势日益加强
- B. 经济全球化的发展受阻
- C. 和平与发展成为时代主题
- D. 新的政治格局已经形成

【答案】 A

【解析】

【详解】根据材料“当前大国力量对比的差距正在缩小，美国的领导力和主导力在下降，欧洲的自主自强意识在增强，俄罗斯力图重振大国雄风，中国国际地位和作用不断提高。”可知，当前世界，美国、欧洲、俄罗斯、中国在国家力量对比发生了变化，特别是美国的领导力和主导力在下降，欧洲、俄罗斯、中国在国际事务中的影响力在提高，反映出世界多极化趋势日益加强，A 项正确；材料中没有涉及经济全球化的情况，排除 B 项；材料中没有体现和平与发展成为时代主题，排除 C 项；新的政治格局正在形成中，排除 D 项。故选 A 项。

非选择题部分 (共 30 分)

二、非选择题：本大题共 3 个小题，每小题 10 分，共计 30 分。请用 0.5 毫米黑色墨水签字笔

把答案书写在答题卡指定区域内。

21. 我国古代的国家治理体系不断发展完善。阅读材料，回答问题。

材料一 秦汉帝国延续四百余年，其中秦代国运短促，但它建立了负责管理行政、军事、监察等各方面工作的中央机构；地方上也设立各级行政机构，由中央委派有俸禄的官员主持。这一套从中央到地方的

官僚系统是当时世界上最先进、最有效的系统。

——摘编自马克垚《世界文明史》

(1) 结合所学指出材料一中的这一套“官僚系统”是_____；中央机构中，负责行政管理的是_____，负责军事管理的是_____，负责监察工作的是_____。

材料二 应该说，宋代面临着来自内部与周边的诸多新问题、新挑战，并不是古代史上国势最强劲的时期；但它在物质文明、精神文明方面的突出成就，在制度方面的独到建树，它对于人类文明发展的贡献与牵动，使其无愧为历史上文明昌盛的辉煌阶段。

——摘编自邓小南《宋朝历史再认识》

(2) 材料二认为宋朝是一个怎样的朝代？举两例说明宋朝“在制度方面的独到建树”。

材料三 较之于历代，清朝对边疆地区的治理政策最为积极。特别是西北战事结束后，清朝对边疆的治理思路发生了明显的转变，超越了长久以来“羁縻为治”的间接管理政策，转而派遣官员、驻扎军队、整顿地方，积极主动治理边疆。更为有力的治边政策，使边疆出现了持续稳定、统一的政治局面。

——摘编自保尔《谈清朝边疆治理》

(3) 分析材料三并结合所学，以西藏为例说明清朝的治边政策“最为积极”，概述清朝对中国边疆治理的重要贡献。（不要照抄材料）

【答案】 (1) ①. 三公九卿制和郡县制 ②. 丞相 ③. 太尉 ④. 御史大夫

(2) 观点：宋朝在物质文明和精神文明方面有突出成绩，在制度方面有独到建树，对人类文明发展作出了重要贡献，无愧文明昌盛的辉煌阶段。

举例：以分化事权的方法削弱相权；设置通判分知州权力；设置转运使将地方财赋收归中央等。（任答两例即可）

(3) 政策：册封达赖、班禅等宗教领袖，设置驻藏大臣，颁布金瓶掣签制度等。

贡献：清政府对边疆的有效治理，巩固和发展了统一多民族国家的局面，使边疆保持了持续稳定，使国家保持了统一。

【解析】

【小问1详解】

填空：根据材料一中的“从中央到地方的官僚系统”，结合所学可知，秦朝统一后，在中央实行三公九卿制，在地方实行郡县制，因此第一个空应填入“三公九卿制和郡县制”；在秦朝三公九卿制下，丞相负责行政管理，太尉负责军事管理，御史大夫负责监察，因此二三四三个空应依次填入“丞相”“太尉”“御史大夫”。

【小问2详解】

观点：根据材料二中的“在物质文明、精神文明方面的突出成就，在制度方面的独到建树”可知，材料二认为宋朝在物质文明和精神文明方面有突出成绩，在制度方面有独到建树；从“它对于人类文明发展的贡献与

牵动，使其无愧为历史上文明昌盛的辉煌阶段”可知，材料二认为宋朝对人类文明发展作出了重要贡献，无愧文明昌盛的辉煌阶段。

举例：根据所学可知，宋朝的制度创新有采用分化事权的方法削弱相权，设置通判分知州权力，设置转运使把地方财赋收归中央等。从中任选两例作答即可。

【小问3详解】

政策：根据所学可知，为了加强对西藏地区的管辖，清政府的措施之一是利用西藏地区政教合一的特点，册封当地宗教领袖达赖、班禅等，后来更是颁布了金瓶掣签制度，规范西藏的活佛转世程序。另外，清政府还设置了驻藏大臣，并不断提高驻藏大臣的权限，赋予驻藏大臣与与宗教领袖达赖、班禅共同管理西藏政教事务的权限，以此加强中央对西藏地区的管辖。

贡献：根据材料三中的“使边疆出现了持续稳定、统一的政治局面”，结合所学可知，清政府对边疆的有效管辖，巩固和发展了统一多民族国家的局面，使边疆保持了持续稳定，使国家保持了统一。

22. 某历史兴趣小组围绕中国农业现代化开展跨学科主题学习活动，网络上搜集到以下资料。请根据提示完成相关任务。

| 历史 | 地理 | 语文 |
|---|--|---|
|   <p>①《中华人民共和国土地改革法》 ②浙江杭县的土地改革</p> | <p>新解放区主要分布在华东、中南、西南、西北等地区，人口数和土地面积均占全国总数的2/3以上。</p> | <p>《美丽的南方》是新中国成立初期一部以广西土地改革斗争为题材的小说。</p> |
|   <p>③开掉田埂，生产合作是一家 ④农业合作社的优越性</p> | <p>众多水利工程如辽宁大伙房水库等；国营机械农场拖拉机代耕队分布在四个大区，十个省；五年内粮食增产19%。</p> | <p>《三里湾》是一部围绕秋收、扩社、整社、开渠等工作，反映农业生产合作化的长篇小说。</p> |
|   <p>⑤农民领取联产承包责任制合同书 ⑥国庆游行标语“联产承包好”</p> | <p>四川、贵州、云南、安徽和广东率先试行；长江、珠江三角洲的乡镇企业；农村人口流动。</p> | <p>小说《最后一个生产队》讲述了1980年初实行家庭联产承包后山东农村的日常生活。</p> |

——据丁澜翔《在集体的土地上》、《人民日报》、中国知网等

(1) 【任务一】举办“行走在集体的土地上”的图片展，找出可以入选的图片。（只填写图片序号）

(2) 【任务二】组织“中国农业现代化的成功之路”报告会，结合材料和所学加以阐述或说明。（要求：紧

扣主题，史论结合，条理清楚。)

【答案】 (1) 入选图片：③④。

(2) 示例：

主题：家庭联产承包责任制是适合中国农业现代化的成功之路。

论述：1978年，安徽凤阳小岗村的农民率先实行分田包干到户，自负盈亏的家庭联产承包责任制。这一举措在土地公有制的基础上，把土地长期包给各家各户使用，农业生产基本变为分户经营、自负盈亏。这激发了农民的劳动热情，带来了农村生产力的大解放，农业生产和农民收入均有很大提高。随着农业生产向专业化、商品化、社会化发展，农村乡镇企业也迅速发展起来，为农村致富和实现现代化开辟了一条新路。

结论：由此可知，家庭联产承包责任制是适合中国农业现代化的成功之路。

(其他答案言之有理即可)

【解析】

【小问1详解】

入选图片：根据问题中“集体的土地上”的要求，结合所学可知，题意要求选出与农业集体化有关的图片，图③中的“生产合作是一家”和图④的“农业合作社”反映的都是农业集体化的历史，所以入选图片应为③④。

【小问2详解】

论述：本小题为开放性试题，按照要求拟定主题，论述时史论结合，言之有理即可。根据材料中的图⑤图⑥可知，家庭联产承包责任制影响深远，是国农业现代化走向成功之路的一条途径，因此可以拟定主题为“家庭联产承包责任制是适合中国农业现代化的成功之路”。在论述时，可以首先阐述家庭联产承包责任制的出现——1978年，安徽凤阳小岗村的农民率先实行分田包干到户，自负盈亏的家庭联产承包责任制；接着说明这一制度的内涵——这一举措在土地公有制的基础上，把土地长期包给各家各户使用，农业生产基本变为分户经营、自负盈亏；然后论述这一制度的影响——这激发了农民的劳动热情，带来了农村生产力的大解放，农业生产和农民收入均有很大提高，随着农业生产向专业化、商品化、社会化发展，农村乡镇企业也迅速发展起来，为农村致富和实现现代化开辟了一条新路。

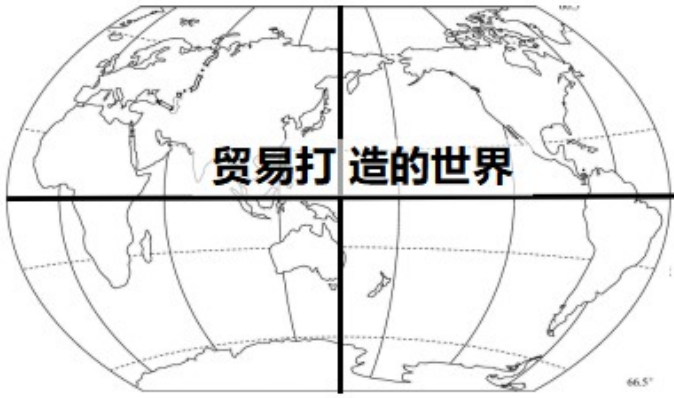
完成论述后，进行总结，呼应论点——由此可知，家庭联产承包责任制是适合中国农业现代化 成功之路。

23. 16世纪以来，世界各地越来越紧密地联系在一起。阅读材料，回答问题。

材料一 怎么把棉花变成象牙？或者更叫人伤脑筋的是，怎么把棉花变成奴隶？16世纪起，商人们就懂得这一神技的秘诀。他们未使用魔术，而是运用跨洋贸易……棉花转化为象牙的魔法，以及把非洲劳动力转化为咖啡和糖的戏法，均助推了世界经济，但有人和动物深受其害。

材料二 19世纪，世界贸易版图被翻动。轮船逆流而上几乎和顺流而下一样轻松，且一年到头都可在海上航行。承平时期，货运运费直线下降：1815-1850年，横越大西洋的大部分赏物，每磅运费约降了

80%……陆路运输的改变更大，人类首次得以用低廉成本将重物运到遥远他地。



材料三 石油成为 20 世纪最值线的国际贸易商品，也因此使 20 世纪博得“石油世纪”之名。随着石油取代煤成为……新的“生命液”，石油不只是“黑金”，还是“现代”的象征。但石油成为商品后的一百年的大部分时期，美洲才是石油舞台上的主角。

(以上材料均摘自【美】彭慕兰、史蒂文《贸易打造的世界》)

- (1) 据材料一指出商人们的“秘诀”，结合所学对这一“秘诀”加以评价。(不要照抄材料)
- (2) 据材料二并结合所学，列举翻动 19 世纪上半叶世界贸易版图的两项交通工具，概述其出现的历史背景。
- (3) 据材料三并结合所学，说明石油取代煤对全球贸易的影响。
- (4) 综合以上材料，谈谈你对“贸易打造的世界”的理解。

【答案】 (1) “秘诀”：三角贸易；

评价：三角贸易使欧洲获得资本原始积累，促进了欧洲资本主义的迅速发展；有利于世界市场的形成；使美洲补充了美洲的劳动力，但也在三角贸易中丧失了大量的资源；使非洲非洲损失了上亿人口，社会经济严重倒退；造成了非洲的贫穷和落后。

(2) 交通工具：汽船、蒸汽机车（火车）；

历史背景：工业革命。

(3) 影响：促进了社会现代化的发展；促进了化工产业的产生；对交通领域的发展产生了巨大影响。

(4) 理解：贸易促进了世界的一体化，促进了经济全球化。(符合题意，言之有理即可)

【解析】

【小问 1 详解】

“秘诀”：根据材料“……而是运用跨洋贸易……棉花转化为象牙的魔法，以及把非洲劳动力转化为咖啡和糖的戏法，均助推了世界经济，但有人和动物深受其害。”，结合所学知识可知，商人们的“秘诀”是三角贸易。新航路的开辟，欧洲国家疯狂地对亚非拉地区进行殖民掠夺、殖民扩张和侵略活动，美洲殖民者对印第安人实行种族灭绝政策，导致美洲劳动力大量的缺乏。16 世纪开始，欧洲奴隶贩子从本国出发装载盐、布匹、

朗姆酒等，在非洲换成奴隶沿着所谓的“中央航路”通过大西洋，在美洲换成糖、烟草和稻米等种植园产品以及金银和工业原料返航。在欧洲西部、非洲的几内亚湾附近、美洲西印度群岛之间，航线大致构成三角形状，史称三角贸易。由于被贩运的是黑色人种，故又称“黑三角贸易”（或黑奴贸易）。

评价：根据材料“……均助推了世界经济，但有人和动物深受其害。”，结合所学知识可知，三角贸易使欧洲获得资本原始积累，促进了欧洲资本主义的迅速发展；有利于世界市场的形成；使美洲补充了美洲的劳动力，但也在三角贸易中丧失了大量的资源；使非洲非洲损失了上亿人口，社会经济严重倒退；造成了非洲的贫穷和落后。

【小问2详解】

交通工具：根据材料“轮船逆流而上几乎和顺流而下一样轻松，且一年到头都可在海上航行”，结合所学知识可知，1807年，美国人富尔顿发明汽船。根据材料“陆路运输的改变更大，人类首次得以用低廉成本将重物运到遥远他地。”，结合所学知识可知，1814年，英国人斯蒂芬森发明了蒸汽机车（火车）。1825年，英国的机械师斯蒂芬森设计的蒸汽机车（火车）拖着车厢载着450名乘客正式试车，标志着铁路时代的开始。

历史背景：结合所学知识可知，汽船、蒸汽机车（火车）都是第一次工业革命的发明成果。

【小问3详解】

影响：根据材料“随着石油取代煤成为……新的“生命液”，石油不只是“黑金”，还是“现代”的象征。但石油成为商品后的一百年的大部分时期，美洲才是石油舞台上的主角。”，结合所学知识可知，石油是第二次工业革命的新能源，石油取代煤对全球贸易的影响有：促进了社会现代化的发展；促进了化工产业的产生；对交通领域的发展产生了巨大影响。

【小问4详解】

理解：开放性设问，结合上述材料及所学知识，围绕“贸易打造的世界”谈理解，言之成理即可。如：贸易促进了世界的一体化，促进了经济全球化。