


# 2020年云南省中考历史试卷

一、选择题（本大题共 25 小题，每小题 2 分，共 50 分。在每小题给出的四个选项中，只有一项是最符合题目要求的。）

1.对远古传说时代文明作出杰出贡献，被后人尊崇为中华民族人文初祖的是（ ）

- A. 炎帝和黄帝                      B. 尧和舜                              C. 黄帝和蚩尤                      D. 炎帝和尧

2.据记载，汉朝廷曾赐给滇王王印，令其“复长其民”。如图文物可以印证汉朝时期（ ）



云南晋宁石寨山“滇”人墓葬出土“滇王之印”金印

- A. 西域正式归属中央政权                      B. 云南地区接受中央王朝直接统治  
C. 建立刺史制度监察地方                      D. 实施“推恩令”削弱诸侯王势力

3.官员在朝廷中必须使用汉语，禁用鲜卑语，以汉服代替鲜卑服，改鲜卑姓为汉姓等措施的推行，顺应了民族大交融的趋势，促进了北方民族交融的进程。材料评价的是（ ）

- A. 商鞅变法                                      B. 北魏孝文帝改革  
C. 唐太宗的民族政策                              D. 元朝的行省制度

4.宋朝的广州、泉州是闻名世界的大商港，中国商船的踪迹，近至朝鲜、日本，远达阿拉伯半岛和非洲东海岸。材料反映了宋朝（ ）

- A. 民族关系融洽                                      B. 商人地位不断提高  
C. 海外贸易繁荣                                      D. 江南经济飞跃发展

5.有学者在提及中国近代某不平等条约时指出：这些条款（包括割香港岛给英国、赔款 2100 万银元等）最痛心的是五口通商。现在有五口通商、外人可以横行天下，防不胜防，这一不平等条约是（ ）

- A. 《南京条约》                      B. 《天津条约》                      C. 《北京条约》                      D. 《辛丑条约》

6.太平天国起义是中国历史上规模最宏大的一次农民战争，其领导人是（ ）

- A. 陈胜                                      B. 李自成                                      C. 黄巢                                      D. 洪秀全

7.《马关条约》签订的消息传到北京后，群情激愤。正在参加会试的康有为、梁启超等，联合各省参加会试的举人，上书光绪帝，请求变法。材料叙述的是中国近代历史上著名的（ ）

- A. 虎门销烟                                      B. 公车上书                                      C. 洋务运动                                      D. 义和团运动

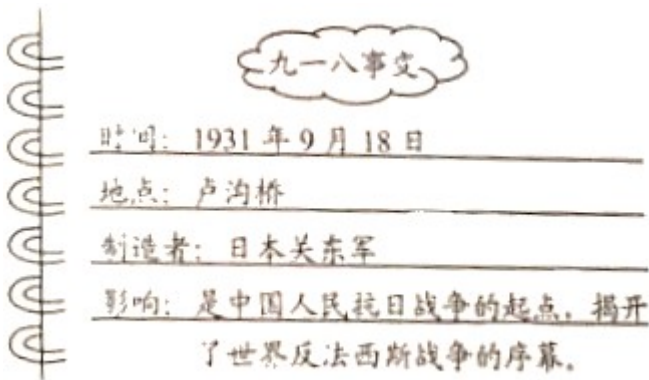
8.辛亥革命被称为 20 世纪中国历史上第一次巨变的主要原因是（ ）

- A. 青年学生起了重要作用                      B. 无产阶级开始登上政治舞台

C. 创办了第一批近代军事工业

D. 宣告两千多年君主专制制度的终结

9. 如下图是某同学的读书摘要，其中有错的是（ ）



A. 时间

B. 地点

C. 制造者

D. 影响

10. 全民族抗战以来中国军队取得的第一个胜利，粉碎了日军“不可战胜”神话的战役是（ ）

A. 淞沪会战

B. 枣宜会战

C. 第三次长沙会战

D. 平型关大捷

11. 1945年8月重庆《大公报》发表社评：“昨日下午三点多钟，毛泽东先生到了重庆。毛泽东先生来了！中国人听了高兴，世界人听了高兴，无疑问的，大家都认为这是中国的一件大喜事。”与社评相关的历史事件是（ ）

A. 西安事变

B. 中共七大召开

C. 重庆谈判

D. 北平和平解放

12. 下列发生在北京的重大历史事件，标志着中华民族实现完全独立的是（ ）

A. 戊戌变法

B. 五四运动

C. 开国大典

D. 第一届全国人民代表大会

13. 新中国成立后，彻底摧毁我国存在 2000 多年的封建土地制度，巩固了人民政权的是（ ）

A. 土地改革

B. 三大改造

C. 《中华人民共和国宪法》颁布

D. 抗美援朝

14. 我国在第一个五年计划期间取得的，实现“一桥飞架南北，天堑变通途”美好愿望的建设成就是（ ）

A. 鹰厦铁路

B. 宝成铁路

C. 川藏公路

D. 武汉长江大桥

15. 党的十九大确定为党的指导思想的是

A. 邓小平理论

B. “三个代表”重要思想

C. 科学发展观

D. 习近平新时代中国特色社会主义思想

16. 2005年，中国国民党主席连战率“和平之旅”访问团访问中国大陆，海峡两岸关系迈出历史性重要一步。发展两岸关系的重要基础是（ ）

A. 加强文化和教育交流

B. 坚持一个中国原则

C. 民间团体的经济交流

D. 实现直接通邮、通航、通商

17. 各国不分大小强弱，不论其社会制度如何，是可以和平共处的。这一外交思想被世界上越来越多国家接受，成为处理国与国之间关系的基本准则。材料指的是（ ）

A. 开展全方位外交

B. 和平共处五项原则

C. “一带一路”建设

D. 构建人类命运共同体

18. 《汉谟拉比法典》是迄今已知世界上第一部较为完整的成文法典，这部法典诞生于（ ）

A. 古代两河流域

B. 爱琴海地区

C. 古代印度河流域

D. 古代尼罗河流域

19. 12 世纪，西欧教育与学术出现了新的气象。被认为是欧洲中世纪教育“最美好的花朵”的是（ ）

A. 大学的兴起

B. 改造形成了阿拉伯数字

C. 城市的复苏

D. 中国印刷术的普遍推广

20. 法国大革命期间，宣告了人权、法治、自由、分权、平等和保护私有财产等基本原则的重要文献是（ ）

A. 《权利法案》

B. 《独立宣言》

C. 《共产党宣言》

D. 《人权宣言》

21. 历史叙述包括史实与评价，下列属于历史评价的是（ ）

A. 1860 年林肯当选为美国第 16 任总统

B. 1861 年南方军队挑起战争，美国内战爆发

C. 1865 年南方军队投降，美国内战结束

D. 美国内战是一场维护国家统一的战争

22. 1917 年 11 月 7 日晚，“阿芙乐尔号”巡洋舰一声炮响，起义者冲进冬宫。推翻了资产阶级临时政府。

材料描述的是（ ）

A. 巴黎公社建立

B. 日本倒幕运动

C. 俄国十月革命

D. 巴黎人民攻占巴士底狱

23. 世界反法西斯联盟建立后，美英盟军相互配合，开辟了欧洲第二战场的军事行动是（ ）

A. 凡尔登战役

B. 莫斯科保卫战

C. 诺曼底登陆

D. 斯大林格勒保卫战

24. 如下图是某一国际经济组织的徽标图案，这一组织成立于 1995 年，与联合国共同成为支撑、协调世界经济和政治的两大支柱。据材料判断该组织是（ ）



- A. 华沙条约组织
- B. 世界贸易组织
- C. 欧洲煤钢共同体
- D. 北大西洋公约组织

25. 同学们开展研究性活动，研究内容有：南美的“解放者”、印度非暴力不合作运动和“非洲年”。据此推断，研究的主题最可能是（ ）

- A. 两极格局的形成
- B. “一超多强”局面的形成
- C. 亚非拉国家民族民主运动
- D. 一战后世界新秩序的建立

**二、非选择题（本大题共 4 小题，第 26 题 12 分，第 27 题 13 分，第 28 题 14 分，第 29 题 11 分，共 50 分。）**

26. 中国古代先进 技术与思想是中华民族对世界文明的贡献，是人类共同的财富。阅读下列材料，回答问题。

材料一 司母戊鼎是迄今世界上出土的最重的青铜器，重 800 多千克，制作工艺极为复杂。当时冶炼的坩埚一般可熔铜 12.5 千克，一次铸成如此巨大的青铜器需要 60 多只坩埚同时并用，200 多人同时协作。

——摘编自《义务教育教科书教师教学用书中国历史七年级上册》（部编版）

材料二



隋朝大运河示意图

隋朝大运河是古代世界上最长的运河，它在已有的天然河道和古运河的基础上开凿，利用了黄河南北水流的自然地形趋势，贯通了不同水系之间的水路交通。直到今天，隋朝大运河的某些河段依然承担着运

输的作用。

——摘编自《义务教育教科书中国历史七年级下册》（部编版）

材料三 作者以“天工开物”命名他的书，是要通过技术从自然资源中开发物产，强调天工（自然力）与人类活动相协调。书中绝大部分内容都是在南北各地实地调查的资料，并将与食、衣有关的农业置于首位。

——摘编自白寿彝总主编《中国通史》

(1) 司母戊鼎是中国古代哪一历史时期青铜器的代表？出土文物有着重要的历史研究价值，根据材料一指出这一时期青铜铸造业的基本情况。

(2) 根据材料二和所学知识，指出隋朝大运河的中心，并说出你认为大运河成功入选《世界遗产名录》的理由。

(3) 写出《天工开物》作者，根据材料三说出该书的哪些思想对今天仍有借鉴意义？

27. 阅读下列材料，回答问题。

材料一 辛亥革命后，一部分先进知识分子经过痛苦的反思认识到：仅有政治制度的革新不足以救中国，必须启发国民新的伦理道德意识，培养国民的独立人格，彻底荡涤封建旧文化的毒害，进行一场思想文化领域的革新运动。

——摘编自《义务教育教科书中国历史八年级上册》（部编版）

材料二 14 - 16 世纪，欧洲发生了一场思想解放运动，当时的思想家在不同的领域，用不同的方式表达了自己的思想。

作品	主要思想（内容）
《神曲》	作品不是根据教会的标准，而是根据作者的意志和道德标准，来区分现实中不同人物的善恶，加以褒贬。专横跋扈的教皇被放在地狱中，接受严酷的刑罚，作者崇敬的人在天堂里享受幸福。
《蒙娜丽莎》	作品不同于中古时期以神为题材的传统，歌颂了人自身的美丽。呼唤着人性的觉醒，歌颂了生命的可爱之处。
《哈姆雷特》	作品中称赞人是“了不起的杰作”，具有“高贵的理性”“伟大的力量”和无比的智慧，是“宇宙的精华，万物的灵长”。

——据《义务教育教科书世界历史九年级上册》岳麓书社

材料三 牛顿的光学分析告诉人们，光不再是无色的神秘物质，不再是上帝的住所，而是一个物理现象，是可以研究和分析的。牛顿的这一成就不仅是学术观点方面的革命，也带来了宗教信仰的一场革命。

——摘编自何成刚等主编《史学阅读与微课设计》

- (1) 材料一中，先进知识分子提出了什么救国主张？
- (2) 结合所学知识写出材料二中思想解放运动的名称，并根据材料指出三部作品关注的共同点。
- (3) 材料三是如何评价牛顿光学成就？达尔文提出什么重要理论，打破了千百年来“上帝创造万物”的理论？
- (4) 综合上述材料和问题，谈谈你对思想与社会发展的认识。

28. 阅读下列材料，回答问题。

材料一 大会于 1921 年 7 月召开，通过了中国共产党历史上第一个党纲，党纲确定党的名称为中国共产党，奋斗目标是推翻资产阶级政权，建立无产阶级专政，实现共产主义，大会还确定党的中心工作是领导和组织工人运动，成立了党的中央领导机构中央局。

——摘编自《义务教育教科书中国历史八年级上册》（部编版）

材料二 广阔的农村是帝国主义和国民党统治的薄弱环节。在敌强我弱的条件下，革命力量只有在农村建立革命根据地，不断地发展壮大，才能在长期的战争中逐渐削弱敌人，争取革命的全部胜利。

——摘自《九年义务教育课本中国历史（试用本）》华东师范大学出版社

材料三 农村改革以前，农村人民公社统一经营，集中劳动，统一分配，吃“大锅饭”。农民缺少生产自主性，辛辛苦苦干一年活，到年终结算，收入不多。1978 年底，全国还有上亿农民没有解决温饱问题。

——摘编自《义务教育教科书中国历史八年级下册》（部编版）

- (1) 材料一反映的是哪一次会议？根据材料并结合所学知识，指出这次会议的重大历史意义。
- (2) 材料二反映出中国革命的重心从城市转向何处？结合所学知识，写出中国共产党创建的第一个农村革命根据地。
- (3) 根据材料三指出当时农村发展缓慢的主要原因。为改变这种状况，安徽凤阳小岗村的农民进行了什么探索？
- (4) 综合以上材料和问题，谈谈中国探索特色发展道路的成功经验。

29. 阅读下列材料，回答问题。

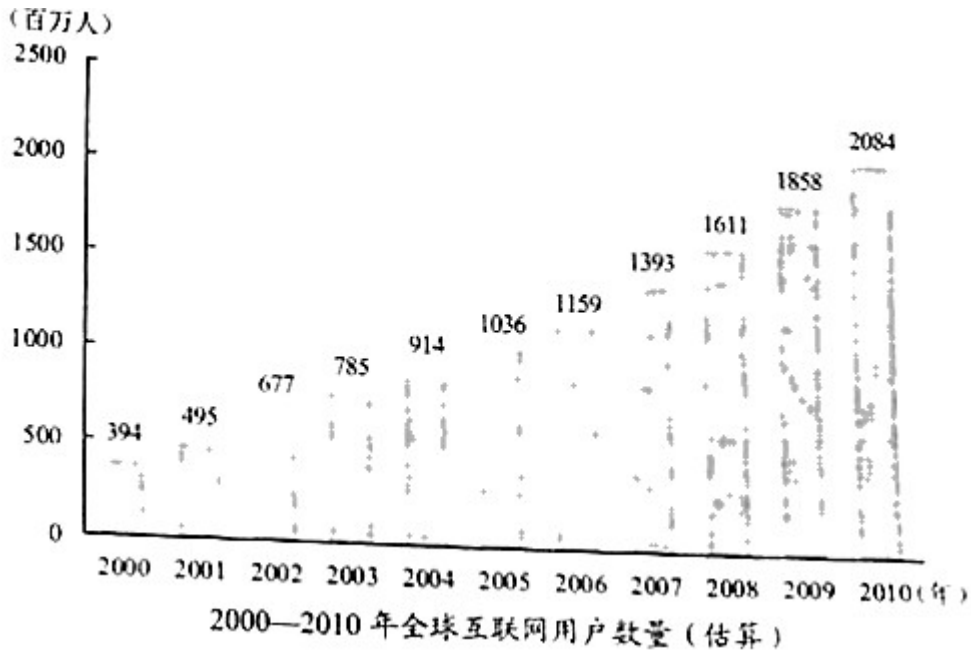
材料一 人类历史上先后发生了两次工业革命。在这两次工业革命中一系列新交通工具的发明，使人类从平面交通时代迅速步入水、陆、空立体交通时代。立体交通的出现，拓展了人类生活的空间范围，极大地影响了人们的生活方式。

——摘编自《普通高中课程标准实验教科书教师教学用书历史必修第三册》

材料二 工业革命极大地推动了生产力的发展，促进了人口的迅速增长，19世纪前50年，英国人口从约900万增加到约1800万。19世纪以后，为了适应工业化发展的需要，欧洲国家开始推行大众教育，而且随着工业和商业的发展，农村人口不断流向城市，城市规模越来越大。

——摘编自《义务教育教科书世界历史九年级下册》（部编版）

材料三



- (1) 结合所学知识，列举第一、二次工业革命中出现的新交通工具各一例。
- (2) 根据材料一、二，指出工业革命后社会发生的变化。
- (3) 指出材料三中互联网用户数量变化呈现的趋势。
- (4) 科技改变了人类和世界，根据上述材料并结合所学知识谈谈你的认识。

## 试卷相关说明

本试卷的题干、答案和解析均由组卷网 (<http://zujian.xkw.com>) 专业教师团队编校出品。登录组卷网可对本试卷进行**单题组卷**、**细目表分析**、**布置作业**、**举一反三**等操作。

试卷地址：[在组卷网浏览本卷](#)

---

组卷网是学科网旗下的在线题库平台，覆盖小初高全学段全学科、超过 900 万精品解析试题。关注组卷网服务号，可使用移动教学助手功能（布置作业、线上考试、加入错题本、错题训练）。



---

学科网长期征集全国最新统考试卷、名校试卷、原创题，赢取丰厚稿酬，欢迎合作。  
钱老师 QQ : 537008204    曹老师 QQ : 713000635