

历史

第 I 卷 选择题 (共 30 分)

一、选择题 (在每小题的四个选项中, 只有一项最符合题意, 请选出并在答题卡上将该选项涂黑。本大题有 15 个小题, 每小题 2 分, 共 30 分)

1. 考古发现是了解史前社会历史的重要依据。下面的出土文物从器物造型和图案设计上可以印证我国原始居民 ()



河姆渡遗址·猪纹陶钵



仰韶遗址·鱼鸟纹彩陶壶



马家窑遗址·舞蹈纹彩陶盆

- A. 会农业种植
- B. 具有朴素审美观念
- C. 会制作陶器
- D. 开始饲养家禽家畜

【答案】B

【解析】

【详解】原始居民图案中有猪、鸟和舞蹈等体现出朴素审美观念, B 项正确; 材料中属于手工业, 排除 A 和 D 项; 图示反映的是审美观念, 不仅仅是会制造陶器, 排除 C 项。故选 B 项。

2. “禁止穿鲜卑服, 一律改穿汉服”“规定 30 岁以下的鲜卑官吏仍说鲜卑语的一律降爵黜官”“改鲜卑的复姓为近似的单音汉姓”。与这些措施相关的历史事件是 ()

- A. 五胡内迁
- B. 孝文帝改革
- C. 唐蕃会盟
- D. 澶渊之盟

【答案】B

【解析】

【详解】结合所学内容可知, 题干中涉及的这些措施都是北魏孝文帝改革的内容, 所以与这些措施相关的历史事件应该是孝文帝改革, 与五胡内迁、唐蕃会盟以及澶渊之盟无关, B 项正确, 排除 ACD 项。故选 B 项。

3. “川中水车如纺车, 以细竹为之, 车骨之末, 缚以竹筒, 旋转时低则留水, 高则泻水”。材料描述了下图工具, 其好处是 ()



- A. 节省人力，利于灌溉
- B. 排水泄洪
- C. 省时省力，利于耕作
- D. 便于开沟

【答案】 A

【解析】

【详解】 根据所学可知，唐朝改进了生产工具，广泛使用筒车，节省人力，利于灌溉，促进了农业的发展，A 项正确；都江堰有利于排水泄洪，曲辕犁省时省力，利于耕作，便于开沟，排除 BCD 三项。故选 A 项。

4. 同学们运用史论结合、论从史出的方法，对中国古代“专制主义中央集权制度”形成了如下评价。据此补全省略号处的论点（ ）

论点	论据
有利于政府集中一切人力、物力、财力进行大规模的工程建设。	战国时期秦国修建都江堰；隋朝修建大运河；明朝修筑长城等。
有利于……	汉武帝实施“推恩令”；唐朝文成公主入藏；元朝实行行省制度；康熙册封五世班禅等。

- A. 强化君权，禁锢思想
- B. 各民族经济文化交流
- C. 监督地方，巩固统治
- D. 统一多民族国家的巩固

【答案】 D

【解析】

【详解】 秦朝建立了我国第一个统一的多民族国家，汉武帝时期实现大一统，唐朝、元和清朝进一步巩固，因此，省略号处的论点是统一多民族国家的巩固，D 项正确；材料中不是加强君主权力，排除 A 项；材料中属于多民族国家统一，不是各民族经济文化的交流，排除 B 项；表格论据没有体现监督地方信息，排除 C 项。故选 D 项。

5. 京剧脸谱各具特色，悲剧人物西楚霸王项羽，眼角下斜，嘴角下撇，虽不失庄重，却也预示着兵败垓下，自刎乌江的命运；关羽“面如重枣”，自然画红脸；包拯“铁面无私”，则黑脸非他莫属。由此可知，京剧脸谱

()

- A. 真实再现历史场景
B. 渗透人们的价值取向
C. 客观评价历史人物
D. 刻画善变的人物性格

【答案】 B

【解析】

【详解】依据题干和所学可知，京剧脸谱各具特色，如黑脸凸显包拯的铁面无私，红脸凸显关羽的忠义，由此可知京剧脸谱渗透人们的价值取向，固化了人们对历史人物的认知，B项正确；京剧脸谱体现了创作者对历史人物的主观认知，并不是真实再现历史场景或客观评价历史人物，排除AC项；京剧脸谱并不是刻画善变的人物性格，而是采用不同色彩来表现人物的不同性格特点，排除D项。故选B项。

6. “现在有五口通商，外人可以横行天下，防不胜防。直到清朝末年，文人忧国者莫不以五口通商为后来的祸根。”与材料所述“五口通商”相关的条约是 ()

- A. 《南京条约》 B. 《北京条约》 C. 《马关条约》 D. 《辛丑条约》

【答案】 A

【解析】

【详解】1840年6月，英国舰队封锁珠江口，挑起鸦片战争；1841年，英军强占香港岛；1842年8月，清政府向英军求和。中英签订《南京条约》，条约规定开放广州、厦门、福州、宁波、上海五处为通商口岸。A项正确；《北京条约》开放天津一处为通商口岸，排除B项；《马关条约》开放沙市、重庆、苏州和杭州为通商口岸，排除C项；《辛丑条约》没有规定开辟通商口岸，排除D项。故选A项。

7. 民国二十年《申报》上刊登了南洋烟草公司的一则广告。其中的一句广告语为：“爱用国货方能达到救国自强”。由此可以推断出 ()

- A. 洋务运动期间，以民用企业辅助军事工业 B. 辛亥革命后，南京临时政府鼓励兴办实业
C. 一战期间，民族工业出现了“短暂的春天” D. 九一八事变后，民众提倡国货，抵制日货

【答案】 D

【解析】

【详解】根据“爱用国货方能达到救国自强”可知这是南洋烟草公司利用民众的爱国心理进行广告宣传。结合所学内容可知，民国二十年是1931年，这一年九一八事变爆发，所以这是九一八事变后，民众提倡国货，抵制日货的表现，D项正确；民国二十年是1931年，洋务运动在1895年甲午中日战争战败后就宣布破产，此时已经不存在南京临时政府，排除AB项；1918年一战结束后列强对华侵略卷土重来，民族工业的“短暂的春天”就已经宣告结束，排除C项。故选D项。

8. 《翻身——中国一个村庄的革命纪实》中写道：通过解放战争时期的土地改革，农民获得了土地等生产资料，破除了迷信，实现了民主和平等。这描述了土地改革的 ()

A. 背景

B. 目的

C. 结果

D. 性质

【答案】 C

【解析】

【详解】依据“通过解放战争时期的土地改革，农民获得了土地等生产资料，破除了迷信，实现了民主和平等”可知反映了土地改革的结果，即通过土地改革，农民获得了土地等生产资料，翻身获得解放，也推动了农民思想观念的变化，C项正确；题干没有体现土地改革的背景或目的，排除AB项；土地改革具有反封建的民主革命性质，但在题干中并没有得到体现，排除D项。故选C项。

9. 1956年，我国一亿二千万农户和五百多万个手工业者的个体经济已经变为集体经济。七万户的私营工业企业已经变为公私合营企业，将近二百万户的私营大中小商店，已经变为公私合营商店或者直接变为国营商店。出现这一现象的原因是（ ）

A. “一五”计划的超额完成

B. 三大改造的基本完成

C. 社会主义民主制度的确立

D. 社会主义制度的建立

【答案】 B

【解析】

【详解】依据题干关键时间点“1956年”等信息和所学知识可知，出现这一现象的原因是1956年底三大改造基本完成，1953年我国开始对农业、手工业和资本主义工商业进行三大社会主义改造，在农业和手工业方面组织走合作化的道路，将个体的农业、手工业经济转变为社会主义集体经济，在资本主义工商业方面采取和平赎买的政策，实行公私合营，从而将资本主义私有制经济转变为社会主义公有制经济，B项正确；1957年“一五”计划超额完成，为我国迈向社会主义工业化奠定了初步基础，排除A项；题干所反映的现象与三大改造基本完成、实行生产关系的变革或所有制形式的变革有关，不属于社会主义民主制度的范畴，排除C项；社会主义制度的建立也是三大改造基本完成的作用或意义，排除D项。故选B项。

10. 下面是1649年1月20日英国下议院组建的特别法庭审判国王查理一世的庭辩节录片段。据此可知，国王与法官之间观念的冲突在于（ ）

国王：记住，我是你们法定的国王，你们审判国王是多么大的罪恶啊。上帝才是这片土地上真正的审判官……

法官：法庭现在以英国人民的名义要你答复，是英国人民把你选为国王的。

国王：英国不是选举制王国。国王是世袭，已经有一千多年了，我名正言顺地代表我的国家的人民的自由。

法官：在国王和他的人民之间，存在一个契约协定，国王的即位宣誓就意味着契约的开始履行。

A. 世袭王权与分权制衡

B. 君权神授与王在法下

C. 世袭王权与直接民主

D. 君主立宪与王权至上

【答案】 B

【解析】

【详解】依据材料“上帝才是这片土地上真正的审判官”“英国人民把你选为国王的。”“国王是世袭”“在国王和他的人民之间，存在一个契约协定”可见，国王认为权力是上帝给与的，法官认为是法律授予的，这里争论的焦点是君权神授与王在法下，B项正确；材料体现不出分权制衡、直接民主以及君主立宪制的信息，排除A、C和D项。故选B项。

11. 对比同类历史事件是学习历史的基本技能之一。从下面描述中可得出中俄两国改革的相同之处是（ ）

1697年彼得一世派遣贵族青年到欧洲学习海军军事知识。同时期俄国国内的新式世俗学校为算术、外语、航海、工程以及海军学校等，给俄国培养了大量人才。	1872年，在李鸿章等洋务派倡导下，第一批留学生被派往美国学习军政、船政知识。同时期国内创办的福州船政学堂等开设了船舶制造、航海理论、几何、物理学课程。
--	--

A. 瓦解了封建制度

B. 学习西方先进技术，进行制度创新

C. 实现了富国强兵

D. 注重自然科学课程，培养科技人才

【答案】 D

【解析】

【详解】依据题干信息“1697年彼得一世派遣贵族青年到欧洲学习海军军事知识。同时期俄国国内的新式世俗学校为算术、外语、航海、工程以及海军学校等，给俄国培养了大量人才”“第一批留学生被派往美国学习军政、船政知识。同时期国内创办的福州船政学堂等开设了船舶制造、航海理论、几何、物理学课程”可知，俄国彼得一世改革和洋务运动都注重在国内开设先进的自然科学课程，注重人才的培养，D项正确；彼得一世改革奠定了俄国近代化的基础但没有改变其封建社会性质，洋务运动主张学习西方先进技术来维护清朝封建统治，未瓦解清朝的封建统治，排除A项；彼得一世改革和洋务运动没有进行制度创新，排除B项；彼得一世改革实现了富国强兵，洋务运动以失败告终，排除C项。故选D项。

12. 根据李华同学整理的如下知识信息，判断他学习的内容是（ ）

[时间]1942年1月
[地点]美国华盛顿
[内容]……每一政府各自保证与本宣言签字国政府合作，并不与敌人缔结单独停战协定或和约……

- A. 《九国公约》 B. 《开罗宣言》 C. 《凡尔赛条约》 D. 《联合国宣言》

【答案】 D

【解析】

【详解】 根据“1942年”、“华盛顿”和其他信息并结合所学内容可知，这反映的是二战期间缔结的《联合国宣言》的内容，D项正确；《九国公约》和《凡尔赛条约》都是在一战刚刚结束后、二战之前缔结的，与题意不符，排除AC项；《开罗宣言》不是在华盛顿缔结的，排除B项。故选D项。

13. 随着欧元的使用，欧盟的普通老百姓从每天都看得见、摸得着的“口袋里的欧洲”中，找到一种休戚与共的感觉，一种做真正欧洲人的感觉。这反映了（ ）

- A. 欧元加强了欧盟民众的认同感 B. 欧洲一体化成为时代主题
C. 欧元成为欧洲国家身份的象征 D. 欧洲政治一体化不断深入


【答案】 A

【解析】

【详解】 依据题干信息“欧盟的普通老百姓从每天都看得见、摸得着的“口袋里的欧洲”中，找到一种休戚与共的感觉，一种做真正欧洲人的感觉”并结合所学可知，欧元的问世和流通，在欧洲人的日常生活中占有重要地位和作用，加强了欧盟民众的认同感，所以欧洲人找到一种休戚与共的感觉，一种做真正欧洲人的感觉，A项正确；和平和发展是当今时代的主题，排除B项；欧元成为欧洲国家身份的象征所述比较狭隘，排除C项；欧元是使用说明的是欧洲经济一体化的不断深入，排除D项。故选A项。

山西历史悠久，文化底蕴厚重。李老师设计了“探三晋历史·品家乡文化”的主题式作业。请完成以下小题。

14. 明清时期，晋商成为勇于创新的山西人的代表。下面图文信息反映了晋商（ ）

	<p>日昇昌是中国历史上第一家经营异地汇兑业务的金融票号。其鼎盛时期以平遥为总号，分号遍布中国各大城市。至今悬挂在日昇昌中厅廊柱上的对联称：“轻重权衡千金日利，中西汇兑一纸风行。”</p>
---	--

- A. 艰苦奋斗的精神 B. 安土重迁的观念 C. 汇通天下的辉煌 D. 诚信为本的理念

15. 近代山西在发展中前行，传承中创新。从下面大事年表所列“第一”中，能提炼出最恰当 主题是（ ）

主题：_____

1882年 第一个官办近代企业——太原新药局（生产弹药）

1892年 第一个民用工业企业——太原火柴局

1901年 第一所高等学府——山西大学堂

1905年 第一所师范学校——山西师范学堂

1907年 第一条铁路线——正太铁路（建成通车）

1908年 第一所测绘学堂——陆军测绘学堂

……

A. 获得新生的军事工业

B. 工业化建设中的山西

C. 发展新式的近代教育

D. 近代化探索中的山西

【答案】 14. C 15. D

【解析】

【详解】（1）根据“异地汇兑业务”、“分号遍布中国各大城市”、“中西汇兑”等信息可知，这说明当时晋商的票号业务发展规模大，体现了汇通天下的辉煌，C项正确；图文反映的是晋商汇通天下的辉煌，并非艰苦奋斗的精神、安土重迁的观念和诚信为本的理念，排除ABD项。故选C项。

（2）结合所学内容可知，大事年表所列的是近代山西工业、教育、交通和军事方面的成就，这些都体现了山西的近代化，D项正确；ABC项都仅反映了山西部分方面的成就，不能全面涵盖题意，排除ABC项。故选D项。


第II卷 非选择题（共70分）

二、简答题（本大题共16分）

16. 国家名片是代表国家形象的符号，以其独特的风格与意蕴从不同侧面展现了各国、各民族的文明成果。根据下面的图文信息，回答相关问题。





图一 中国北京故宫



图二 古罗马大竞技场


- (1) 【文化名片】建筑艺术呈现独特文化。分别概括下面两处建筑遗址的特征。
- (2) 【人物名片】杰出人物展现国家形象。仿照下面示例，为孙中山制作人物名片。

 <p>人物：华盛顿</p> <p>身份：美国第一任总统</p> <p>主要事迹：领导美国独立战争，推翻英国殖民统治，赢得国家独立。1787年主持制宪会议，制定了美国宪法。被誉为“美国国父”。</p>	 <p>人物：孙中山</p> <p>身份：_____</p> <p>主要事迹：_____</p> <p>_____</p> <p>_____</p>
---	---

- (3) 【外交名片】历史场景再现政治智慧。下图相关史事蕴含了怎样的政治智慧？并简述它们产生的共同影响。



图三 万隆会议
1955年，周恩来在万隆会议上的发言，获得与会代表的一致赞同，保证了会议顺利进行，为会议的成功做出重要贡献。



图四 中英香港政权交接仪式
1997年，中英香港政权交接仪式上英国国旗和香港旗缓缓降落。它标志着英国在香港一个半世纪的统治结束了。

- 【答案】 (1) 图一：沿中轴线对称；木结构为主，辅以砖瓦；设计蕴含中正观念；是国家政治权力的中心等。图二：拱形、穹顶，廊柱环绕；坚固结实，华丽宏伟；以石材为主；是公共活动场所等。
- (2) 身份：伟大的中国民主革命的先行者等主要事迹：创建兴中会、同盟会提出三民主义；领导辛亥革命，建立中华民国临时政府；颁布《中华民国临时约法》等。结束了两千多年的君主专制制度，开创了完全意义上的近代民族民主革命。被誉为中华民国的“国父”。

(3) 图三：万隆会议上，面对西方国家对共产主义的攻击，周恩来总理提出“求同存异”方针，保证会议的顺利进行。

图四：为解决历史遗留问题，实现祖国和平统一，我国政府提出“一国两制”伟大构想，为香港和澳门回归祖国开辟了途径。

共同影响：提高了中国的国际地位，扩大了中国的影响力。

【解析】

【详解】(1) 特征：根据材料结合所学知识，从外观形式和功能等方面分别概括“图一 中国北京故宫”“图二 古罗马大竞技场”的特征，得出图一：沿中轴线对称；木结构为主，辅以砖瓦；设计蕴含中正观念；是国家政治权力的中心等。图二：拱形、穹顶，廊柱环绕；坚固结实，华丽宏伟；以石材为主；是公共活动场所等。

(2) 身份：根据所学知识，仿照示例得出孙中山的身份是伟大的中国民主革命的先行者等。主要事迹：根据所学知识，仿照示例得出孙中山的主要事迹。

(3) 政治智慧：根据材料结合所学知识，得出图三 万隆会议上，面对西方国家对共产主义的攻击，周恩来总理提出“求同存异”方针，保证会议的顺利进行；图四 中英香港政权交接仪式，反映的香港回归，得出图四：为解决历史遗留问题，实现祖国和平统一，我国政府提出“一国两制”的伟大构想，为香港和澳门回归祖国开辟了途径。共同影响：根据所学知识可知，中国参加万隆会议、解决香港问题，都提高了中国的国际地位，扩大了中国的影响力。

三、材料解析题（本大题含两个小题，每小题 16 分，共 32 分）

17. 体育运动反映社会风貌，见证历史发展。阅读下列材料，结合所学知识回答问题。

材料一 “瓦舍”这种体育场所和表演形式是宋代城市体育发展的一个重要表现特征。《东京梦华录》中记载开封市开展的体育项目有：棋类、蹴鞠、马球、登高、相扑、龙舟等。还描写了部分体育项目的赛制、服饰、器材、比赛奖品和体育人物等情况。

——摘编自王俊奇《宋代体育文化史》

(1) 根据材料一，概括北宋体育运动的特点和出现这些特点的原因。

材料二 人文主义者在研究和整理古代希腊、罗马文化时，发现了古希腊体育的丰富遗产，如：荷马史诗中的体育故事，雅典的摔跤学校、运动场、体育馆等。特别是雅典的体育精神——注重身心的协调发展，讲究匀称而健美的体型，采用多样的运动形式和优美的技术动作，以及运动训练业余性和奖励重名誉而不重物质，更为文艺复兴代表人物所赞许和憧憬。

(2) 根据材料二，简述文艺复兴继承了哪些“古希腊体育的丰富遗产”。

材料三

五四运动后	中国的体育运动开始摆脱外国人的控制，独立自主举办各种体育活动和运动竞赛。特别是女子体育运动开始在我国发展起来，如：女子篮球、排球以及武术、体操表演等。
抗日战争时期	陕甘宁边区明确规定，学校各项课程“都以抗战为中心”，加强军事常识及操练（如射击、游击战等），加强锻炼体格（如赛跑、爬山、跳高等）。
20世纪70年代以来	外交上的突破，国际关系的改善，为我国全面登上国际体育舞台创造了有利条件。1979年~1986年间，我国体育健儿夺得230个世界冠军，打破和超过世界纪录152次。

——材料二、三整理自王其慧、李宁《中外体育史》

(3) 根据材料三，结合史实说明不同时期中国体育发生变化的原因。

【答案】 (1) 特点：体育项目种类多；体育比赛较为规范；体育场所主要设在城市中的“瓦舍”等。

原因：宋代商业的发展，城市的繁荣，市民阶层的不断壮大。

(2) 继承了体育精神；身心协调发展，注重人体自然美；注重人文关怀；重视个人表现和人的创造力等。

(3) 五四运动后：中国人民在五四运动中受到反帝爱国思想浪潮的洗礼；男女平等、妇女解放等新思想的传播。抗日战争时期：以服务抗战为目标，陕甘宁边区重视体育运动，体育课程的设置以提升学员的身体素质为主，注重实战操练和体格锻炼。20世纪70年代以来：中国恢复在联合国的合法席位，中美、中日建交等，为中国体育登上世界舞台创造了有利条件；改革开放后，政府加强对体育事业的重视等。

【解析】

【详解】 (1) 特点：根据““瓦舍”这种体育场所和表演形式是宋代城市体育发展的一个重要表现特征。

《东京梦华录》中记载开封市开展的体育项目”得出体育项目种类多；体育场所主要设在城市中的“瓦舍”；根据“描写了部分体育项目的赛制、服饰、器材、比赛奖品和体育人物等情况”得出体育比赛较为规范等。原因结合所学内容可知，主要是宋代商业的发展，城市的繁荣，市民阶层的不断壮大。

(2) 根据“特别是雅典的体育精神——注重身心的协调发展，讲究匀称而健美的体型，采用多样的运动形式和优美的技术动作，以及运动训练业余性和奖励重名誉而不重物质”得出继承了体育精神；身心协调发展，注重人体自然美；注重人文关怀；重视个人表现和人的创造力等。

(3) 根据“独立自主举办各种体育活动和运动竞赛。特别是女子体育运动开始在我国发展起来”可知五四运动后，中国人民在五四运动中受到反帝爱国思想浪潮的洗礼；男女平等、妇女解放等新思想的传播。根据“都以抗战为中心”，加强军事常识及操练（如射击、游击战等），加强锻炼体格（如赛跑、爬山、跳高

等) ”可知抗日战争时期, 体育运动以服务抗战为目标, 陕甘宁边区重视体育运动, 体育课程的设置以提升学员的身体素质为主, 注重实战操练和体格锻炼。根据“外交上的突破, 国际关系的改善, 为我国全面登上国际体育舞台创造了有利条件”可知, 20 世纪 70 年代以来, 中国恢复在联合国的合法席位, 中美、中日建交等, 为中国体育登上世界舞台创造了有利条件; 同时还有改革开放后, 政府加强对体育事业的重视等。

18. 大国关系的变化影响着国际格局的变动。阅读下列材料, 结合所学知识回答问题。

材料一 明治维新期间, 中日两国采用近代条约的方式, 建立邦交关系, 在英美支持下, 日本以中韩邻国的沉沦为代价, 由新型的资本主义国家, 嬗变为主导东亚的帝国主义强国……

二战后, 无论是冷战敌对, 还是邦交正常化乃至冷战后, 中日关系的演进均与世界形势关联密切, 构成东亚国际格局中最重要的双边关系。

——宋成有《16 世纪以来西方冲击下日本的嬗变与东亚国际格局》

材料二 二战后美苏关系发生了重大的变化, 美苏之间的战略目标、战略构想和战略利益形成了根本冲突, 以美苏为首的东西方两大集团之间在政治、军事、经济、文化等领域形成了全面的对峙和对抗。

——王斯德《世界通史》

材料三 美国对华关系的两面性在新中国成立后仍然存在。表现在 20 世纪 50~70 年代的 20 多年中, 美国采取孤立、封锁、遏制中国的政策, 对中国实行冷战甚至热战。但在 20 世纪 70 年代以后, 由于中美双方的共同努力, 美国同中国改善和发展关系、寻求合作, 同时也奉行制约和防范中国的政策。

——熊志勇《百年中美关系》

- (1) 根据材料一中划线部分的时间提示, 简述中日关系的演变。
- (2) 根据材料二, 列举二战后美苏为首的两大集团“对峙和对抗”的表现。
- (3) 如何理解材料三中“美国对华关系的两面性”?

【答案】 (1) 明治维新期间: 日本发动侵略中国的甲午中日战争, 中日两国敌对; 二战后: 由于冷战对峙局面的形成, 中日两国分属两大阵营, 两国处于敌对状态; 20 世纪 70 年代, 随着国际形势的变化, 中日两国正式建交, 两国邦交正常化, 此后两国既合作又有摩擦。

(2) 政治上: 杜鲁门主义的出台; 经济上: 马歇尔计划的推行; 军事上: 北约和华约的成立; “柏林危机”等。

(3) 新中国成立后, 美国对华采取敌视态度, 企图把新中国扼杀在摇篮中, 表现在外交孤立, 不与中国建交; 对中国实行封锁和禁运, 如美国第七舰队封锁台湾海峡, 阻止人民解放军解放台湾, 并出兵朝鲜, 严重威胁中国的安全。20 世纪 70 年代, 美国谋求改善与中国的关系, 两国关系逐渐走向正常化, 如尼克松总统访华, 中美正式建交等。

【解析】

【详解】 (1) 根据材料“明治维新期间”中日关系的状况结合所学知识, 得出日本发动侵略中国的甲午中日

战争，中日两国敌对；根据材料“二战后”中日关系的状况结合所学知识，分阶段阐述，得出二战后：由于冷战对峙局面的形成，中日两国分属两大阵营，两国处于敌对状态；20世纪70年代，随着国际形势的变化，中日两国正式建交，两国邦交正常化，此后两国既合作又有摩擦。

(2) 根据材料二，从政治、经济、军事、文化等方面逐条列举二战后美苏为首的两大集团“对峙和对抗”的表现，得出政治上：杜鲁门主义的出台；经济上：马歇尔计划的推行；军事上：北约和华约的成立；“柏林危机”等

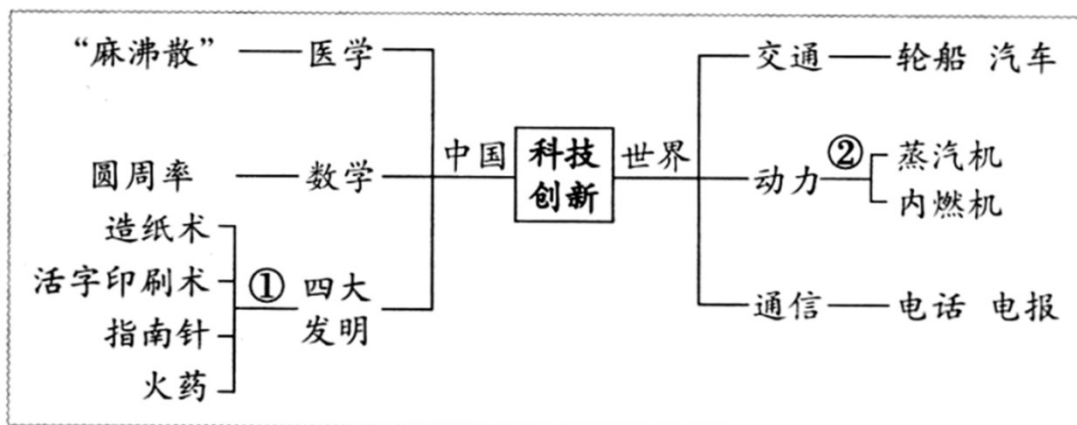
(3) 根据材料可知，材料三中“美国对华关系的两面性”指的是“美国同中国改善和发展关系、寻求合作，同时也奉行制约和防范中国的政策”，根据所学知识，举例分别分析美国对华关系的两面性的具体表现。

四、探究题（本大题共 22 分）

19. 创新是一个国家和民族发展的不竭动力。九年级（1）班同学们以“创新的力量”为主题开展项目化学习活动。下面是他们在分组承担项目任务时遇到的问题，请你参与活动一起解决问题。

任务一 【绘制历史图示——体会科技创新】

(1) 一组同学聚焦中外科技的创新发明，绘制了如下思维导图。请你简述他们选取①②处相关科技发明的理由。（要求：各举一例）



任务二 【摘抄历史文献——感受改革创新】

(2) 二组同学阅读有关中苏改革创新的历史文献后，摘抄了如下片段。你认为这些摘抄片段分别体现了两国改革有何创新之处？并简述其共同影响。

<p>邓小平在 1992 年的南方谈话中进一步强调：计划经济不等于社会主义，资本主义也有计划，市场经济不等于资本主义，社会主义也有市场。</p>	<p>列宁说：我们还不能实现从小生产到社会主义的直接过渡……所以我们应该利用资本主义……作为小生产和社会主义之间的中间环节，作为提高生产力的手段、途径、方法和方式。</p>
--	--

任务三 【查阅历史资料——感悟创新力量】

(3) 三组同学查阅了中外历史上有关“创新”的资料后，整理归类形成如下提纲，他们准备展示学习成果。

请你任选一个角度，以“创新·发展”为题，为其撰写 150 字左右的发言稿。

改革创新——商鞅变法 俄国 1861 年改革 美国罗斯福新政

道路创新——井冈山道路 苏联模式 中国特色社会主义道路

理论创新——马克思主义 毛泽东思想 邓小平理论

【答案】 (1) 示例：①处：东汉蔡伦改进造纸术原料易得，制作工艺流程易于推广，纸日益成为人们广泛使用 书写材料，便利了典籍流传，促进了文化事业的发展宋元时期，火药武器广泛应用于战争，改变了作战方式，揭开了世界军事史上热兵器时代的序幕等。

②处：瓦特改良蒸汽机，解决了工业革命的动力问题，推动了工业革命向纵深发展，传统的手工工场逐渐被大工厂替代，现代工厂制度最终确立，人类进入“蒸汽时代”。

(2) 中国：建立社会主义市场经济体制。苏俄：实行新经济政策。
共同影响：都有利于经济的恢复和发展；都为如何建设社会主义提供了经验；都丰富和发展了马克思主义；都对本国的现有制度进行了调整和完善等。

(3) 示例：创新·发展

一个国家要屹立于世界民族之林，需要不断地改革创新，在创新中得到发展。

如战国时期，秦国的商鞅变法，确立县制，改革户籍制度，严明法度，废除井田制等，确立了新的政治经济秩序，使秦国成为战国后期最强盛的诸侯国，为秦统一全国奠定了基础。1861 年俄国农奴制改革，通过颁布法令，废除了农奴制，为俄国资本主义的发展提供了自由劳动力，促使社会的各个方面出现了新的气象，推动俄国走上发展资本主义的道路。1933 年，美国罗斯福宣布实施新政，采用国家干预手段，扭转了经济形势，使美国的经济得到复苏，同时对资本主义世界产生深远影响。

纵观人类历史 发展进程，改革创新是国家发展的重要途径，民族振兴的力量源泉。

【解析】

【详解】 (1) 结合所学知识，选取①处，东汉蔡伦改进造纸术原料易得，制作工艺流程易于推广，纸日益成为人们广泛使用的书写材料，便利了典籍流传，促进了文化事业的发展。宋元时期，火药武器广泛应用于战争，改变了作战方式，揭开了世界军事史上热兵器时代的序幕等。选取②处：在工业革命期间，瓦特改良蒸汽机，解决了工业革命的动力问题，推动了工业革命向纵深发展，传统的手工工场逐渐被大工厂替代，现代工厂制度最终确立，人类进入“蒸汽时代”。

(2) 根据题干结合所学知识，中国建立社会主义市场经济体制，苏俄实行新经济政策。社会主义市场经

济体制和苏俄新经济政策都有利于经济的恢复和发展，都为如何建设社会主义提供了经验，都丰富和发展了马克思主义，都对本国的现有制度进行了调整和完善等。

(3) 根据题干结合所学知识，以“创新·发展”为题。发言：一个国家要屹立于世界民族之林，需要不断地改革创新，在创新中得到发展。如战国时期，秦国的商鞅变法，确立县制，改革户籍制度，严明法度，废除井田制等，确立了新的政治经济秩序，使秦国成为战国后期最强盛的诸侯国，为秦统一全国奠定了基础。1861年俄国农奴制改革，通过颁布法令，废除了农奴制，为俄国资本主义的发展提供了自由劳动力，促使社会的各个方面出现了新的气象，推动俄国走上发展资本主义的道路。1933年，美国罗斯福宣布实施新政，采用国家干预手段，扭转了经济形势，使美国的经济得到复苏，同时对资本主义世界产生深远影响。纵观人类历史的发展进程，改革创新是国家发展的重要途径，民族振兴的力量源泉。

