

# 2010年全国中考中国古代史整理

## 目录

### 选择题

#### 七年级上册

##### 第一单元 中华文明的起源

第1课 祖国境内的远古居民

第2课 原始的农耕生活

第3课 华夏之祖

##### 第二单元 国家的产生和社会的变革

第4课 夏、商、西周的兴亡

第5课 灿烂的青铜文明

第6课 春秋战国的纷争

第7课 大变革的时代

第8课 中华文明的勃兴（一）

第9课 中华文明的勃兴（二）

##### 第三单元 统一国家的建立

第10课 “秦王扫六合”

第11课 “伐无道，诛暴秦”

第12课 大一统的汉朝

第13课 两汉经济的发展

第14课 匈奴的兴起及与汉朝的和战

第15课 汉通西域和丝绸之路

第16课 昌盛的秦汉文化（一）

第17课 昌盛的秦汉文化（二）

##### 第四单元 政权分立与民族融合

第18课 三国鼎立

第19课 江南地区的开发

第20课 北方民族大融合

第21课 承上启下的魏晋南北朝文化（一）

第22课 承上启下的魏晋南北朝文化（二）

#### 七年级下册

##### 第一单元 繁荣与开放的社会

第1课 繁荣一时的隋朝

第2课 “贞观之治”

第3课 “开元盛世”

第4课 科举制的创立

第5课 “和同为一家”

第6课 对外友好往来

第7课 辉煌的隋唐文化（一）

第8课 辉煌的隋唐文化（二）

##### 第二单元 经济重心的南移和民族关系的发展

第9课 民族政权并立的时代

第10课 经济重心的南移  
第11课 万千气象的宋代社会风貌  
第12课 蒙古的兴起和元朝的建立  
第13课 灿烂的宋元文化（一）  
第14课 灿烂的宋元文化（二）  
第三单元 统一多民族国家的巩固和社会的危机  
第15课 明朝君权的加强  
第16课 中外的交往与冲突  
第17课 君主集权的强化  
第18课 收复台湾和抗击沙俄  
第19课 统一多民族国家的巩固  
第20课 明清经济的发展与“闭关锁国”  
第21课 时代特点鲜明的明清文化（一）  
第22课 时代特点鲜明的明清文化（二）  
单元综合  
填空题  
改错题  
列举题  
读图简答题  
材料分析题  
探究题（问答题）

## 选择题

### 七年级上册

#### 第一单元 中华文明的起源

#### 第1课 祖国境内的远古居民

(2010·湖南邵阳) 1. 我国境内已知的最早人类是 ( ) **A**

A. 元谋人      B. 北京人      C. 半坡人      D. 河姆渡人

(2010·山东威海) 1. 小华在阅读一本有关我国境内远古居民生活情况的历史书时, 了解到有一群距今约三万年的远古人类, 模样与现代人基本相同, 已掌握磨光和钻孔技术, 并已会人工取火。你认为这群远古人类应是 ( ) **C**

A. 元谋人      B. 北京人      C. 山顶洞人      D. 半坡原始居民

(2010·湖南岳阳) 1. 你认为下列原始人类中距离我们最为久远的是 ( ) **A**

A. 元谋人      B. 北京人      C. 河姆渡人      D. 半坡人

(2010·广东深圳) 10. 火的使用是人类利用自然力的一个重大进步。迄今为止的考古证明, 我国最早使用天然火的原始人类是 ( ) **B**

A. 元谋人      B. 北京人      C. 河姆渡人      D. 半坡人

(2010·湖南湘潭) 1. 据报道, 安徽发现的繁昌人距今大约有 180 万年。如果这一结论确凿的话, 可以把中国已知最早人类的历史向前推进 ( ) **A**

A. 10 万年      B. 20 万年      C. 100 万年      D. 110 万年

(2010·湖南娄底) 1. 某外国朋友想考察我国境内最早的人类遗址, 他应该去 ( ) **A**

A. 云南元谋 B. 浙江河姆渡 C. 北京周口店 D. 湖南道县

## 第2课 原始的农耕生活

(2010·山东聊城) 1. “春种一粒粟，秋收万颗籽。”据考古发现，使用磨制石器、种植粟的是 ( ) **D**

A. 北京人 B. 山顶洞人 C. 河姆渡居民 D. 半坡居民

(2010·江苏苏州) 1. 2009年11月，被确认为我国发现的最早人工栽培水稻地区之一的苏州草鞋山遗址又有新的考古发现，进一步丰富了其文化内涵。在下列远古人类中，也已经种植水稻的是 ( ) **D**



A. 元谋人 B. 山顶洞人  
C. 半坡人 D. 河姆渡人

(2010·山东滨州) 1. 河姆渡和半坡原始居民过上定居生活的最主要原因是 ( ) **A**

A. 农业生产的出现 B. 火的使用 C. 建造房屋 D. 使用陶器

(2010·江苏连云港) 19. 较早种植水稻并居住于长江流域干栏式房屋的是 ( ) **D**

A. 元谋人 B. 北京人 C. 半坡居民 D. 河姆渡居民

(2010·广东) 1. 下列最能够体现河姆渡原始农耕文化成就的是 ( ) **B**

A. 粟的种植 B. 水稻的种植 C. 玉米的种植 D. 小麦的种植

(2010·湖南衡阳) 1. 某历史纪录片《半坡原始居民》，介绍了半坡人生活的历史信息。其中介绍错误的是 ( ) **A**

A. 生活在长江流域 B. 住着半地穴式房屋 C. 种植粮食作物粟 D. 使用磨制石器生产

(2010·福建莆田) 1. 我国较早种植水稻的是 ( ) **D**

A. 元谋人 B. 北京人 C. 半坡居民 D. 河姆渡居民

(2010·江苏盐城) 1. 水稻是盐城地区的主要粮食作物之一。下列最早大量种植这种作物的原始农耕居民是 ( ) **C**

A. 元谋人 B. 北京人 C. 河姆渡居民 D. 半坡居民

(2010·湖南永州) 1. 下图中的文物图片集中反映了某原始居民的生产和生活状况，该原始居民应是 ( ) **B**



磨制石锄

骨制箭头

纺轮

刻有符号的陶片

A. 北京人 B. 半坡人 C. 元谋人 D. 河姆渡人

(2010·山东菏泽) 1. 黄河流域是中华文明的发祥地之一，最能体现该地区原始农耕文化成就的应该是 ( ) **A**

A. 种植粟 B. 种植水稻 C. 人工取火 D. 住干栏式房子

## 第3课 华夏之祖

(2010·江苏南京) 1. 相传, 造出衣裳、舟车、宫室等, 为后世的衣食住行奠定基础的“人文初祖”是 ( ) **A**

A. 黄帝      B. 尧      C. 舜      D. 禹

(2010·山东青岛) 1. 在古希腊神话中, 众神经常参加人间战争。传说在中国古代, 也有一场“风伯御风, 雨师行雨”的战役, 在这场战役中, 炎帝、黄帝部落大败蚩尤部落。该战役发生在 ( ) **B**

A. 牧野      B. 涿鹿      C. 长平      D. 城濮

(2010·福建三明) 1. 中国台湾某旅游团要去祭拜中华民族的“人文初祖”, 他们应该去 ( ) **B**

A. 大禹陵      B. 黄帝陵      C. 秦始皇      D. 孙中山陵

(2010·湖北宜昌) 1. 右图是宜昌市西陵山的螺祖庙, 庙内供奉的是民间称为“蚕母娘娘”的螺祖。相传, 她的丈夫就是被后人尊称为“人文初祖”的 ( ) **D**

A. 尧      B. 舜      C. 炎帝      D. 黄帝



(2010·福建宁德) 1. 我们的祖先在与自然灾害抗争中, 留下许多美丽的传说。右图反映的是 ( ) **A**

A. 大禹治水  
B. 精卫填海  
C. 后羿射日  
D. 夸父逐日



(2010·贵州毕节) 13. 传说 4000 多年以前, 黄河中下游地区有三位杰出的部落首领。一位教民农耕, 是农业生产的创始人, 为了给人们寻找治病的草药, “尝百草之滋味, 一日而遇七十一毒”。他是 ( ) **A**

A. 炎帝      B. 黄帝      C. 蚩尤      D. 大禹

## 第二单元 国家的产生和社会的变革

### 第4课 夏、商、西周的兴亡

(2010·江苏苏州) 2. “周幽王烽火戏诸侯”、“孔子周游列国”, 与“诸侯”“列国”的产生相关的制度是 ( ) **C**

A. 禅让制      B. 世袭制      C. 分封制      D. 郡县制

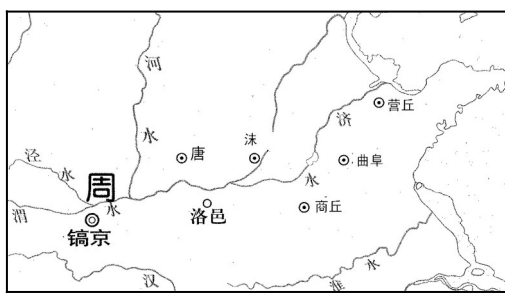
(2010·山东东营) 1. 第一届全运会于 2009 年 10 月在山东省举行, “和谐齐鲁风, 精彩全运情”等是本届全运会的宣传口号。那么, 用齐鲁代表山东应追溯于古代的什么制度? ( ) **B**

A. 禅让制      B. 分封制      C. 世袭制      D. 郡县制

(2010·山东滨州) 2. 史书记载, 西周建立后“封建亲戚, 以蕃屏周”“兼制天下, 立七十一国”。这反映出西周实行的政治制度是 ( ) **C**

A. 世袭制      B. 郡县制      C. 分封制      D. 宗法制

(2010·广东佛山) 1. 如右图, 镐京与曲阜的关系是 ( ) **A**



阜

- A. 王都与封国都邑
- B. 均为封国都邑
- C. 王都与郡府
- D. 均为郡府

(2010·广东湛江) 21. 中国是世界四大文明古国之一，她的第一个王朝的建立者是 ( ) **D**

- A. 秦始皇
- B. 齐桓公
- C. 启
- D. 禹

(2010·山东泰安) 1. “退避三舍”、“纸上谈兵”等成语故事均出自春秋战国时期各诸侯国间发生的著名战役。诸侯国出现源于西周的 ( ) **D**

- A. 世袭制
- B. 奴隶制
- C. 禅让制
- D. 分封制

(2010·福建泉州) 1. 制度创新是政治文明的体现。下列制度创建于西周时期的是 ( ) **A**

- A. 分封制
- B. 郡县制
- C. 科举制
- D. 行省制度

(2010·江苏扬州) 1. “封建亲戚，以藩屏周”反映的是西周时期实行的 ( ) **B**

- A. 禅让制
- B. 分封制
- C. 郡县制
- D. 行省制

## 第5课 灿烂的青铜文明

(2010·安徽) 1. 文物是鲜活的历史。下列文物中最能反映商朝社会生活的是 ( ) **B**



- A. 兵马俑
- B. 司母戊鼎
- C. 竹木简
- D. 青花瓷

(2010·浙江宁波) 6. 2010年4月1日起，为期三个月的“国家宝藏——中国国家博物馆典藏珍宝展”在宁波博物馆举行。其中右图的展品出自中国的 ( ) **A**

- A. 商周时期
- B. 隋唐时期
- C. 宋元时期
- D. 明清时期

(2010·山东潍坊) 1. 《周礼》载“金有六齐（配方），六分其金而锡居一，谓之钟鼎之齐。”这反映了 ( ) **B**

- A. 甲骨文的雕刻技巧
- B. 青铜器的铸造工艺
- C. 金文的形成与发展
- D. 铁农具的制造技术

(2010·四川内江) 16. 右图是2010年上海世博会中国馆建筑“东方之冠”。据说它的创意来源于中国古代青铜器皿文化。请问，出土于我国河南，代表了商朝青铜器典型风格的巨鼎是 ( ) **A**

- A. 司母戊鼎
- B. 青铜立人
- C. 青铜树
- D. 四羊方尊

(2010·湖南株洲) 1. 商、周时期的青铜器，造型雄伟，纹饰古朴。下列青铜器中哪件是目前我国已发现的最大的青铜器 ( ) **A**



四羊方尊青铜器





A



B



D



## 第6课 春秋战国的纷争

(2010·广东东莞) 1. 诸侯争霸是春秋时期的时代特征。最早“霸诸侯，一匡天下”的是 ( ) A

A. 齐桓公 B. 晋文公 C. 秦穆公 D. 楚庄王

(2010·山西) 1. 战国初期，三家分晋的卿大夫是 ( ) B

①韩 ②赵 ③楚 ④魏

A. ①②③ B. ①②④ C. ①③④ D. ②③④

(2010·江苏连云港) 29. “对内整顿朝政，对外‘尊王攘夷’，终于成就了春秋五霸之首的伟业。”材料中的这位历史人物应是 ( ) A

A. 齐桓公 B. 晋文公 C. 宋襄公 D. 楚庄王

(2010·湖南衡阳) 2. “他对内整顿朝政，对外‘尊王攘夷’，终于九合诸侯，一匡天下，成就了春秋五霸之首的伟业。”这里的“他”是 ( ) B

A. 周武王 B. 齐桓公 C. 晋文公 D. 楚庄王

(2010·内蒙古呼和浩特) 1. 战国末期，使东方六国再也无力抵挡秦国强大攻势的战役是 ( ) D

A. 城濮之战 B. 桂陵之战 C. 马陵之战 D. 长平之战

## 第7课 大变革的时代

(2010·山东聊城) 2. 战国时期社会大变革的最主要表现是 ( ) C

A. 争霸战争频繁 B. 铁器、牛耕使用 C. 封建制度确立 D. 诸子百家争鸣

(2010·江苏南京) 2. 战国时期，商鞅变法为统一大业的实现奠定了基础。读右图。该变法发生在何处？ ( ) C

A. ① B. ② C. ③ D. ④

(2010·福建福州) 2. 战国时期有一户人家：老大因作战有功获得爵位，老二在家勤于耕作免除徭役，老三则被国君派往小县为吏。据此判断这户人家最有可能生活在 ( ) D

A. 齐国 B. 楚国 C. 燕国 D. 秦国

(2010·广东东莞) 2. 战国时期，各诸侯国竞相改革成为时代风潮。推动这一风潮出现的根本原因是 ( ) A

A. 铁器的使用 B. 个体小农的出现 C. 百家争鸣的影响 D. 新兴地主阶级的推动



(2010·山东临沂) 11. 2010年5月, 发生在南方的洪涝灾害牵动了全国人民的心, 也引起了人们对水利工程的关注。战国时期, 秦国修建的闻名世界的防洪灌溉的水利工程是 ( ) **B**

A. 灵渠      B. 都江堰      C. 大运河      D. 会通河

(2010·山东青岛) 2. 在我国古代, 人们常以“牛”、“耕”作为名、字, 如孔子的弟子司马耕, 字子牛; 晋国有位大力士姓牛字子耕, 这反映了牛耕技术在当时备受人们推崇。牛耕的使用开始于 ( ) **A**

A. 春秋战国时期      B. 秦汉时期      C. 隋唐时期      D. 宋元时期

(2010·湖南岳阳) 2. 战国时期的商鞅变法在秦国确立了 ( ) **B**

A. 禅让制      B. 土地私有制      C. 王位世袭制      D. 科举制

(2010·湖北十堰) 20. 战国时期是中国古代大变革时期, 秦国进行了以“以法治国”为主要特征的商鞅变法, 下面商鞅的言论和采取的主要措施中最能体现“以法治国”思想的是 ( ) **C**

A. 建立县制      B. 鼓励农民开垦荒地  
C. “法之不行, 自上犯之”      D. “治国不一道, 便国不法古”

(2010·广东) 2. 在历史课上, 同学们畅所欲言, 内容涉及: 立木为信、国家承认土地私有和奖励耕战等。据此判断同学们所谈论的是 ( ) **A**

A. 商鞅变法      B. 北魏孝文帝改革      C. 贞观之治      D. 开元盛世

(2010·山东莱芜) 1. 战国时期修建的著名水利工程都江堰位于哪一诸侯国境内? ( ) **C**

A. 齐国      B. 楚国      C. 秦国      D. 赵国

(2010·陕西) 13. 战国时期是我国历史上的大变革时代, 各诸侯国纷纷变法。其变法的直接目的是 ( ) **B**

A. 促进生产力发展      B. 实现富国强兵      C. 缓和社会矛盾      D. 增强东周王室实力

(2010·广东湛江) 26. 湛江人民所建造的雷州青年运河, 不仅保证了雷州半岛农田的灌溉用水, 还解决了九洲江下游的洪涝灾害。战国时期, 既能防洪又能灌溉的著名水利工程是 ( ) **B**

A. 大运河      B. 都江堰      C. 长城      D. 三峡大坝

(2010·湖北黄石) 16. 商鞅变法是战国时期效果最显著的变法。下列选项属于该变法内容的是 ( ) **B**

A. 把土地分给天子亲属      B. 国家承认土地私有  
C. 扩充国学规模      D. 设立直属中央的三司

(2010·湖北宜昌) 2. “千耦其耘”记载于《诗经》, 描述了西周时期大规模二人并耕 (人力) 的集体耕作场景, 春秋时期可以看到一种新的耕作场景是 ( ) **B**

A. 使用耒耜      B. 牛耕      C. 使用耨车      D. 使用曲辕犁

(2010·山东泰安) 3. 假如你给李冰画像, 可以选择的历史场景是 ( ) **C**

A. 上书秦孝公请求变法      B. 奉乾隆旨意领兵平定大小和卓叛乱  
C. 主持修建都江堰      D. 陪唐玄宗考核县令的政绩


(2010·湖南湘潭) 2. 2010年春, 西南地区遭遇了百年不遇的大旱, 凸显水利工程的重要性。著名的水利工程都江堰修建于 ( ) **B**

A. 春秋时期      B. 战国时期      C. 秦朝      D. 汉朝

(2010·四川成都) 2. 作家余秋雨曾经写到: “就在秦始皇下令修建长城的数十年前, 四川成都平原上已经完成了一个了不起的工程……它至今还为无数民众输送涓涓清流。”下列历史人物中, 主导修筑这个“了不起的工程”的是 ( ) **B**

A. 禹      B. 李冰      C. 商鞅      D. 李春

(2010·江苏淮安) 13. 农业是我国两千多年封建社会的立国之本，农业生产技术的革新历来受到重视。下列哪一幅图片反映了我国农业发展史上的一次革命 ( ) **D**



A. 筒车      B. 铁农具      C. 都江堰水利工程      D. 牛耕

(2010·贵州毕节) 14. 改革是社会进步的动力。公元前 356 年，商鞅变法使秦国成为战国后期最富强的国家。请指出商鞅变法的哪项内容对后世行政制度影响最为深远? ( ) **B**

- A. 国家承认土地私有      B. 建立县制  
C. 奖励耕战，废除旧贵族的特权      D. 变“任人唯亲”的世卿制为“任人唯亲”的官僚制

(2010·贵州毕节) 15. 春秋战国时期，新旧制度更替，社会大变革，其根本原因是 ( ) **D**

- A. 战争频繁      B. 诸侯争霸  
C. 百家争鸣      D. 社会生产力发展，铁制农具的广泛使用和牛耕的推广

## 第 8 课 中华文明的勃兴 (一)

(2010·山东青岛) 3. “参差荇菜，左右芼之。窈窕淑女，钟鼓乐之”。(《诗经·关雎》) 春秋战国时期盛行“钟鼓之乐”，在湖北随州出土的钟鼓乐器中，最为珍贵的是 ( ) **D**

- A. 编磬      B. 鼓      C. 瑟      D. 编钟

(2010·四川资阳) 17. 下列图片所示字体最早出现的是 ( ) **A**



A      B      C      D

(2010·湖北黄冈) 7. 中华文明源远流长，绵延不止，成就辉煌，有文字可考的历史从开始的。( ) **B**

- A. 夏朝      B. 商朝      C. 西周      D. 战国


(2010·福建龙岩 2) 1. 商朝人刻写在龟甲或兽骨上的文字是 ( ) **B**

- A. 金文      B. 甲骨文      C. 小篆      D. 隶书


(2010·江苏无锡) 1. 前天是我国的传统节日——端午节。在上海世博园的中华美食街上，挂着“中国味，世界享”特色招牌的五芳斋店铺里的粽子散发着阵阵诱人的清香。请问端午节是为了纪念我国历史上的哪位文化名人? ( ) **D**

- A. 文天祥      B. 司马迁      C. 孔子      D. 屈原

(2010·福建宁德) 2. 汉字是世界上最古老的文字之一。下列图片所呈现的汉字字体中，最早出现的是 ( ) **C**




A



B



D



C

## 第9课 中华文明的勃兴（二）

(2010·浙江义乌) 14. 在美国西点军校, 一个 2000 多年前的中国人提出的“知己知彼, 百战不殆”的军事思想受到了学员的追捧。这个人是谁 ( ) D

- A. 孙臆 B. 孔子 C. 韩非子 D. 孙武


(2010·广东东莞) 3. 《论语》是大思想家孔子的语录, 宋代宰相赵普有“半部论语治天下”之说。孔子思想的核心主张是 ( ) A

- A. “仁”和“礼” B. “因材施教” C. “为政以德” D. “有教无类”

(2010·广东东莞) 4. 春秋战国时期出现了百家争鸣的局面, 不同政治派别对各种问题提出不同的见解。在治理国家方面, 道家的主张是 ( ) D

- A. 以“礼”治国 B. 以“法”治国 C. “兼爱”“非攻” D. “无为而治”

(2010·山东威海) 2. 右图是正在上海举办的世博会会徽, 它以中国汉字“世”字书法创意为形, 突显了上海世博会以人为本的理念。“以人为本, 关注民生”是古往今来治国兴邦的基本经验, 我国古代思想家最早提出“仁”的学说, 主张“爱人”、“为政以德”的是 ( ) B



- A. 老子 B. 孔子 C. 孟子 D. 墨子

(2010·山东青岛) 4. 近年在汉堡发现了一本 1691 年出版的《论语》英译本, 该书的前言说: “这位哲学家的道德是无限辉煌的。”请问这位哲学家的道德核心是 ( ) A

- A. “仁” B. “无为而治” C. “兼爱”“非攻” D. “法治”

(2010·山东东营) 2. 战国时期, 主张“兼爱”、“非攻”的是 ( ) C

- A. 儒家 B. 法家 C. 墨家 D. 兵家

(2010·山东淄博) 1. 在第十一届全国运动会开幕式上, 艺术地再现了山东“一山一水一圣人”的文化特色。其中“圣人”指的是 ( ) A

- A. 孔子 B. 老子 C. 墨子 D. 韩非子

(2010·广东汕头) 1. 孔子是我国古代伟大的教育家。他对教育作出的重要贡献之一是 ( ) C

- A. 主张“为政以德” B. 按出身贵贱招收门徒  
C. 主张“因材施教” D. 以《论语》作为教材

(2010·湖北襄樊) 11. 《论语》中所记载的是我国古代思想家\_\_\_\_\_的言论。 ( ) A

- A. 孔子 B. 老子 C. 韩非子 D. 董仲舒

(2010·湖南长沙) 1. 《国家中长期教育改革和发展规划纲要(2010~2020)》提出要逐步实现“均衡教育”。我国古代思想家、教育家孔子的言行中最能体现“均衡教育”思想的是 ( ) C

- A. 提出“仁”的学说                      B. 提出“为政以德”  
C. 创办私学                                  D. 提出学习要“温故而知新”
- (2010·福建莆田) 2. 春秋战国时期是中国历史上思想文化空前繁荣的时代, 思想领域出现了“百家争鸣”的活跃局面。其中强调用“刑罚”加强统治的学派是 ( ) C  
A. 儒家          B. 道家          C. 法家          D. 墨家
- (2010·江苏宿迁) 19. “知足常乐”源于古代“无为而治”思想, 提出这一思想的学派是 ( ) C  
A. 儒家          B. 法家          C. 道家          D. 墨家
- (2010·江苏盐城) 2. 学习需要“温故而知新”。明确提出这一学习方法的古代教育家是 ( ) A  
A. 孔子          B. 墨子          C. 韩非子          D. 孟子
- (2010·山东泰安) 2. 开心辞典的主持人王小丫出了这样一道题: 他是我国春秋晚期的鲁国人; 他提出了“仁”的学说; 他最早创办私学。他是 ( ) B  
A. 老子          B. 孔子          C. 孟子          D. 墨子
- (2010·内蒙古呼和浩特) 3. 环境保护是当今世界发展不可忽视的一个问题, 我国古代一位思想家在战国时期就曾主张, 不要过分捕捞鱼鳖, 要按时令进山伐树, 使自然资源可持续利用。这位思想家是 ( ) B  
A. 孔子          B. 孟子          C. 荀子          D. 墨子
- (2010·江苏扬州) 2. 孔子思想中, 体现和谐社会要求的是 ( ) A  
A. 仁者爱人          B. 等级观念          C. 举一反三          D. 温故知新
- (2010·福建漳州) 4. 春秋战国时期是中国历史上思想文化空前繁荣的时代, 主张用“刑罚”加强统治的学派是 ( ) B  
A. 儒家          B. 法家          C. 道家          D. 兵家
- (2010·内蒙古赤峰) 1. 孔子是我国古代著名的大教育家, 他的言论记载在下列哪部书中 ( ) A  
A. 《论语》          B. 《诗经》          C. 《春秋》          D. 《离骚》
- (2010·湖南永州) 2. 2010年1月22号, 电影《孔子》热映, 下列不能作为孔子的主张在电影中出现的是 ( ) D  
A. 因材施教          B. 仁者爱人          C. 温故而知新          D. 无为而治
- (2010·湖南株洲) 2. 提出“仁”的学说, 要求统治者实行“仁政德治”的是 ( ) B  
A. 老子          B. 孔子          C. 孟子          D. 韩非子

## 第三单元 统一国家的建立

### 第10课 “秦王扫六合”

- (2010·山东聊城) 3. 郭沫若说: “春秋末年以来, 蓬蓬勃勃的自由思索的那种精神, 事实上因此而遭受了一次致命的打击。”“致命的打击”缘于 ( ) B  
A. 商鞅变法          B. 秦始皇“焚书坑儒”  
C. 陈胜吴广起义          D. 汉武帝削弱封国
- (2010·浙江东阳) 12. 2009年12月26日武广高铁的正式通车, 为长江流域与珠江流域的交流提供了一条便捷的通道。我国古代\_\_\_\_(朝代) 在这一带开凿人工运河, 成为后世沟通南北的水路通道 ( ) B

A. 汉 B. 秦 C. 唐 D. 元

(2010·浙江丽水) 10. “地方推行郡县制，小篆成为规范字，焚书坑儒满专制。”这一顺口溜反映的是\_\_实行的统治政策。( ) A

A. 秦始皇 B. 汉武帝 C. 唐太宗 D. 宋太祖

(2010·广东东莞) 5. 公元前 230 年~前 221 年，秦王采用远交近攻策略“扫六合”。秦王最后“扫”的是( ) C

A. 楚国 B. 燕国 C. 齐国 D. 魏国

(2010·湖南岳阳) 3. 观察秦朝疆域图(见右图)结合所学地理知识，请你判断秦朝疆域最西到达今天我国哪个省或自治区?( ) D

A. 新疆维吾尔自治区 B. 陕西省  
C. 西藏自治区 D. 甘肃省

(2010·江苏泰州) 1. “秦王扫六合，虎视何雄哉!挥剑决浮云，诸侯尽西来。”这首诗中赞颂的历史人物是( ) A

A. 秦始皇 B. 汉武帝 C. 唐太宗 D. 宋太祖

(2010·广东汕头) 2. 秦灭六国后，统一了度量衡。右图是秦朝测量重量的工具之一“秦权”，他上面文字的文体是( ) B

A. 大篆 B. 小篆 C. 楷书 D. 行书

(2010·福建龙岩 2) 2. 统一是历史发展的主流。我国第一个统一的中央集权的封建国家是( ) C

A. 夏朝 B. 商朝 C. 秦朝 D. 唐朝

(2010·山东莱芜) 2. 如你生活在秦朝时期，遇上了当时的一个官吏，你认为这位官吏说的哪些话是可信的?( ) A

①我刚刚拜会了我县的县令 ②官府用小篆字体发布了一个告示  
③朋友送给我一部《伤寒杂病论》 ④我下个月送儿子去太学读书  
A. ①② B. ①③ C. ③④ D. ②④

(2010·福建莆田) 3. 我国历史上第一个统一的多民族的中央集权国家是( ) D

A. 夏朝 B. 商朝 C. 西周 D. 秦朝

(2010·广东深圳) 12. 开创了君主专制中央集权政治制度的皇帝是( ) C

A. 夏禹 B. 汉武帝 C. 秦始皇 D. 唐太宗

(2010·湖北黄石) 17. 秦朝御史大夫分管的是( ) C

A. 行政 B. 军事 C. 监察 D. 县令任命

(2010·江苏扬州) 3. 秦朝是我国历史上第一个统一的多民族的中央集权国家。当时通行于全国各地的货币是( ) C



A



B



C



D

(2010·山东菏泽) 2. 山东泰山、峯山、琅琊台等地都有秦始皇巡行天下时的碑刻遗存，这些石碑上的文字应该是( ) C

A. 甲骨文 B. 金文 C. 小篆 D. 楷书

(2010·广东梅州) 3. 秦始皇是我国第一个统一的封建王朝的皇帝。他所采取的下列措施



中，就其对历史发展的作用而言，不具进步意义的是（ ）D

- A. 实行郡县制                      B. 统一文字、货币和度量衡  
C. 修筑万里长城                  D. 焚书坑儒

(2010·湖南娄底) 3. 秦朝是我国历史上第一个统一的多民族的中央集权国家，下列史实与其不符的是（ ）B

- A. 推行郡县制      B. 罢黜百家      C. 修筑长城      D. 统一文字

## 第11课 “伐无道，诛暴秦”

### 第12课 大一统的汉朝

(2010·江苏南京) 3. 秦始皇和汉武帝为安定北边，都曾派兵大举反击啊一游牧民族的进扰（ ）D

- A. 突厥 B. 女真 C. 契丹 D. 匈奴

(2010·山东潍坊) 2. 观察右图，其反映的信息包括（ ）A

- ①罢黜百家，独尊儒术    ②击败匈奴，安定边疆  
③铸造钱币，兴修水利    ④奖励耕战，变法图强

- A. ①②③    B. ②③④    C. ①③④    D. ①②④

(2010·山东滨州) 3. 《大汉天子》是近几年的一部热播电视剧，“大汉天子”为推进我国首次大一统格局做出了重要贡献。在加强中央对地方的控制方面，他采取的最重要一项措施是（ ）B

- A. 设司隶校尉      B. 实行“推恩令”  
C. 北击匈奴      D. “罢黜百家，独尊儒术”



“汉并天下”瓦当

(2010·湖北黄石) 18. 汉武帝为解决诸侯国势力过大问题，曾下令允许诸王将自己的封地分给子弟，建立较小的侯国。汉武帝是接受了哪位大臣的建议采取这项措施的？（ ）B

- A. 董仲舒      B. 主父偃      C. 卫青      D. 司马相如

(2010·山东泰安) 4. 一年一度的高考圆了许多莘莘学子进入国家高等学府深造的梦。汉武帝时，学生要进入全国的最高学府接受儒学教育，必须到（ ）A

- A. 长安      B. 洛阳      C. 咸阳      D. 开封

(2010·四川成都) 3. 汉武帝是中国历史上一位有雄才大略的皇帝，他统治期间颁布的“推恩令”，主要是针对西汉前期出现的（ ）A

- A. 王国问题    B. 货币不统一的问题    C. 社会贫困的问题    D. 思想混乱的问题

## 第13课 两汉经济的发展

### 第14课 匈奴的兴起及与汉朝的和战

(2010·安徽芜湖) 2. 一位旅游者在内蒙古呼和浩特市郊区某纪念地拍摄了一幅纪念雕像（如右图）。你认为雕像中的两位人物



是 ( ) B

- A. 冒顿单于, 王昭君      B. 呼韩邪单于, 王昭君  
C. 汉元帝, 王昭君      D. 冒顿单于, 吕后

(2010·山东青岛) 5. 有学者认为, 匈奴曾是北方各游牧民族部落联盟的总称。秦汉之际, 第一次统一蒙古草原, 使匈奴成为横跨大漠数万里的草原主人, 建立起强大国家的杰出首领是 ( ) C

- A. 铁木真      B. 松赞干布      C. 冒顿单于      D. 呼韩邪单于

(2010·山东聊城) 4. 右图是“单于天降”瓦当。单于是我国古代哪一少数民族最高首领的称号? ( ) A

- A. 匈奴      B. 契丹  
C. 女真      D. 蒙古



(2010·湖北宜昌) 3. 电视剧《昭君出塞》, 再现了两千多年前,

王昭君远离家乡出塞的情景。昭君出塞为汉与某一少数民族的友好相处和文化交流做出了重大贡献。这里的少数民族指的是 ( ) C

- A. 鲜卑族      B. 氏族      C. 匈奴族      D. 羌族

(2010·江苏无锡) 2. 2010年5月17日至19日, 新疆工作会议座谈会在北京举行, 胡锦涛书记提出了新形势下新疆工作的目标任务, 推进新疆跨越式发展, 你知道新疆地区最早隶属于中央政府管辖, 成为我国领土不可分割的一部分开始于哪个朝代? ( ) B

- A. 秦朝      B. 西汉      C. 唐朝      D. 元朝

(2010·江苏扬州) 26. 汉家和亲第一公主是 ( ) A

- A. 王昭君      B. 刘细君      C. 孟丽君      D. 佘太君

## 第15课 汉通西域和丝绸之路

(2010·四川宜宾) 1. 中国自古以来就是一个多民族国家, 中央政权历来重视对边疆少数民族地区的管辖。右图反映的是 ( ) B

- A. 秦朝对今西北地区的管辖  
B. 西汉对今新疆地区的管辖  
C. 唐朝对今西北地区的管辖  
D. 清朝对今天山南北地区的管辖



(2010·山东威海) 3. 2010年5月17日, 中央新

疆工作座谈会在北京召开, 会议指出: 要加强民族团结, 维护祖国统一, 确保边疆长治久安。新疆开始隶属中央政府管辖, 成为我国领土不可分割的一部分的事件是 ( ) C

- A. 张骞出使西域      B. 开辟丝绸之路  
C. 西汉政府设立西域都护      D. 昭君出塞

(2010·福建龙岩) 1. 汉朝时, 派使臣出使大秦, 他从长安出发, 沿丝绸之路西行, 先后要经过的地点是 ( ) B

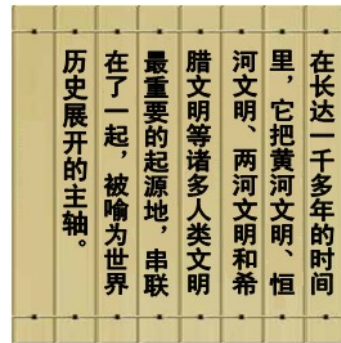
- ①今新疆境内      ②河西走廊      ③西亚      ④大秦  
A. ①②③④      B. ②①③④      C. ①②④③      D. ②①④③

(2010·湖北十堰) 21. 今年, 中央政府采取一系列措施加快新疆的建设和发展步伐。早在西汉时期, 中央政府就设置官员管辖新疆, 其最高军政长官名称为 ( ) A

- A. 西域都护      B. 安西都护      C. 北庭都护      D. 伊利将军

(2010·山东济宁) 11. 右图是当代史学研究者对汉代开辟的“丝绸之路”的评价。你认为材料中所提到的这一“主轴”的起点应该是 ( ) **B**

- A. 西汉的洛阳      B. 西汉的长安  
C. 西汉的成都      D. 西汉的河西走廊



(2010·新疆乌鲁木齐) 1. 细君和解忧公主的故事在新疆广为流传。下列史实与她们有关的是 ( ) **C**

- A. 张骞出使西域    B. 班超经营西域    C. 乌孙与汉朝联姻  
D. 回鹘与唐朝和亲

(2010·广东湛江) 22. 有人说：“2000年前，丝绸是中国的名片；1000年前，瓷器是中国的名片；500年前，茶叶是中国的名片……”，其中与“丝绸是中国的名片”有关的历史事件是 ( ) **A**

- A. 张骞通西域    B. 商鞅变法    C. 秦始皇加强中央集权    D. 百家争鸣

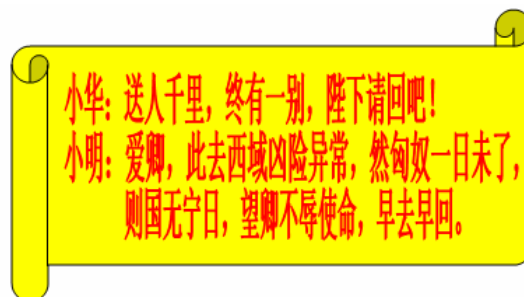
(2010·江苏盐城) 3. 陆上“丝绸之路”是连接亚欧的古代重要商路，对开通此商路功劳巨大的是 ( ) **B**

- A. 董仲舒    B. 张骞    C. 玄奘    D. 鉴真

(2010·福建宁德) 3. 公元前1世纪，罗马执政官凯撒穿着丝袍进入剧场，轰动一时。凯撒穿的丝袍材料来自中国 ( ) **B**

- A. 咸阳    B. 长安    C. 大都    D. 京师

(2010·湖南永州) 5. 下图中是某历史短剧的台词片段，从台词的对白中判断出小华、小明他们正在排练 ( ) **A**



- A. 张骞出使西域    B. 郑和下西洋    C. 清军出兵雅克萨    D. 玄奘印度取经

## 第16课 昌盛的秦汉文化（一）

(2010·湖南邵阳) 2. 张仲景被后人尊称为 ( ) **D**

- A. “画圣”    B. “书圣”    C. “诗圣”    D. “医圣”

(2010·山东淄博) 2. 中华民族传统文化的瑰宝中医药，越来越受到世界各国的重视和欢迎。下列人物中，对中国古代医学做出重大贡献的是 ( ) **D**

- A. 张衡 屈原      B. 宋应星 李时珍  
C. 蔡伦 张仲景    D. 张仲景 李时珍

(2010·山东莱芜) 3. “自古书契多编以竹简，其用缣帛（即按书写需要裁好的丝织品）者谓之纸。缣贵而简重，并不便于人。乃造意（发明、创造）用树肤、麻头及敝布、鱼网以为纸。”文中的记载是下列哪一人物的发明？ ( ) **B**

- A. 毕升    B. 蔡伦    C. 李时珍    D. 宋应星

(2010·福建莆田) 4. 下列关于秦汉科学技术成就的叙述, 不正确的是 ( ) A

- A. 蔡伦发明了造纸术                      B. 华佗支撑了“麻沸散”  
C. 《伤寒杂病论》奠定了中医医疗学的基础    D. 《九章算术》总结了周秦到汉代的数学成就

(2010·江苏盐城) 4. 日本有蔡伦宫, 法国有蔡伦博物馆……, 蔡伦受到世界如此尊敬, 是因为他 ( ) B

- A. 发明了印刷术      B. 改进了造纸术    C. 发明了火药    D. 制成了罗盘针

## 第 17 课 昌盛的秦汉文化 (二)

(2010·四川宜宾) 2. 下列史实, 可以通过右图所示著作了解的有 ( ) A

- ① 秦始皇统一货币、文字  
② 汉武帝在长安举办太学  
③ 宦官蔡伦改进造纸技术  
④ 李春设计并主持修建赵州桥

A. ①②      B. ②③      C. ①③      D. ②④



(2010·山东青岛) 6. 俗语“家家观世音, 人人阿弥陀”一定程度上反映了佛教在中国民间的盛行。请问佛教传入我国是在 ( ) B

- A. 秦朝时期      B. 西汉时期      C. 魏晋时期      D. 隋唐时期

(2010·湖南衡阳) 3. 中国古代有一部史学巨著, 其内容“究天人之际, 通古今之变, 成一家之言”, 其作者“功业追尼父, 千秋太史公”, 其体例则开纪传体史书之先河。它是 ( ) A

- A. 《史记》      B. 《汉书》      C. 《通典》      D. 《资治通鉴》


(2010·福建三明) 2. 中央电视台《百家讲坛》播出的“王立群读《史记》”节目, 吸引了众多观众, 《史记》的作者是 ( ) C

- A. 孔子      B. 屈原      C. 司马迁      D. 司马光

(2010·湖南娄底) 2. 被鲁迅称之为“史家之绝唱, 无韵之离骚”的我国第一部纪传体通史著作是 ( ) D



A



B



C



D

## 第四单元 政权分立与民族融合

### 第 18 课 三国鼎立

(2010·安徽) 2. 电视剧《三国》的热播引起了人们对曹操的关注。下列与曹操有关的史

实是 ( ) A

- ①招贤纳士      ②官渡之战      ③赤壁之战      ④自立为帝  
A. ①②③      B. ①③④      C. ①②④      D. ②③④

(2010·浙江杭州) 20. 2010年1月13日, 中国社会科学院在北京举办年度考古学论坛, “河南安阳曹操高陵”被列为2009年中国考古六大新发现之一, 引起了社会各个层面的普遍关注。下列关于曹操事迹的表述, 不正确的是 ( ) D

- A. “挟天子以令诸侯”, 取得政治优势      B. 与刘备、孙权联军在赤壁展开激战  
C. 完成北方的统一      D. 废掉汉献帝, 建立魏国

(2010·山东滨州) 4. 观察下图, 政权“魏”的建立者是 ( ) D



- A. 曹操      B. 刘备      C. 孝文帝      D. 曹丕

(2010·湖南衡阳) 4. 2009年12月28日, 河南省文物考古研究所在安阳县发掘一座东汉大墓, 经考证, 确定为曹操高陵。下列事情中, 曹操所做的是 ( ) B

- A. 淝水之战      B. 赤壁之战      C. 三顾茅庐      D. 建立魏国

(2010·广东深圳) 25. 近来, 曹操高陵1号墓考古发掘受到各方关注。一代枭雄曹操, 历经百战, 却遭遇了赤壁之战的大败。其中的原因是 ( ) C

- ①孙权、刘备结成同盟, 共同抗击曹操      ②孙、刘联军骁勇, 曹操兵少羸弱  
③孙、刘联军善于利用自然条件      ④曹操军不习水战  
A. ①②③      B. ②③④      C. ①②④      D. ①③④

(2010·湖北孝感) 52. 2009年12月在河南安阳县安丰乡发现曹操陵墓。曹操是我国历史上杰出的政治家、军事家、文学家。下列事件是曹操所为的有 ( ) ABC

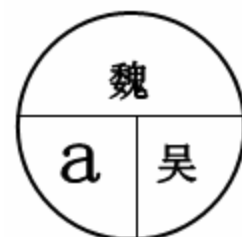
- A. 迎汉献帝到许昌, “挟天子以令诸侯”  
B. 官渡之战以少胜多大败袁绍, 为统一北方奠定基础  
C. 与孙权、刘备联军战于赤壁  
D. 220年, 改国号为魏, 定都洛阳

(2010·湖北咸宁) 9. 曹操军队以少胜多、大败袁绍军队的官渡之战发生于哪一年? ( ) A

- A. 200年      B. 208年      C. 220年      D. 222年

(2010·福建漳州) 5. 右图《三国政权形势图》中a区所示政权的都城在 ( ) A

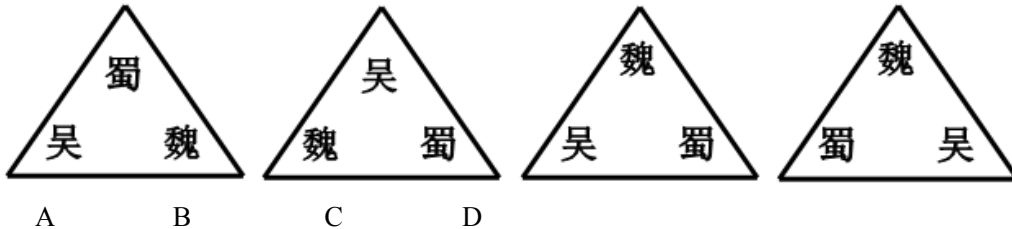
- A. 成都  
B. 长安  
C. 洛阳  
D. 建业



(2010·广西贵港) 1. 200年曹操在官渡之战中打败了哪一个军阀? ( ) B

A. 刘备      B. 袁绍      C. 孙权      D. 刘禅

(2010·湖南株洲) 3. 图示法是学习历史的一种好方法. 它能将复杂的历史较直观形象的展示出来. 下面哪幅图直观反映了三国鼎立的形势 ( ) D



## 第19课 江南地区的开发

(2010·山东莱芜) 4. 4世纪时, 发生在东晋与前秦之间的著名战役是 ( ) D

A. 长平之战    B. 官渡之战    C. 赤壁之战    D. 淝水之战

(2010·福建泉州) 2. 魏晋南北朝时期, 晋江流域得以开发的最主要原因是 ( ) C

A. 统治者施行仁政      B. 社会比较稳定  
C. 北方农民南迁带来先进工具和技术      D. 自然条件优越

## 第20课 北方民族大融合

(2010·山东青岛) 7. “对于历史上任何一个闯入并扎根于农耕文化圈的游牧民族来说, 接受同化是他们的终极命运”。北魏孝文帝顺应时代潮流, 毅然进行改革. 下列不属于孝文帝改革内容的是 ( ) D

A. 说汉语      B. 穿汉服      C. 改汉姓      D. 以法治国

(2010·山东东营) 3. 以下图片反映出的历史现象是 ( ) A



北魏文官俑



汉人胡食图

A. 民族融合      B. 中外交往      C. 国家统一      D. 经济发展

(2010·广东深圳) 11. 实行向汉族学习的政策, 促进了北方民族融合的是 ( ) B

A. 商鞅    B. 北魏孝文帝    C. 齐桓公    D. 成吉思汗

(2010·广东湛江) 23. 改革是兴利除弊、振兴国家的重要手段. 以下属于北魏孝文帝改革的内容是 ( ) B

A. 颁布“推恩令”, 加强监察制度      B. 鲜卑族改穿汉族服装  
C. 统一度量衡      D. 禁止鲜卑贵族与汉族贵族通婚

(2010·内蒙古呼和浩特) 2. (孝文帝)“诏不得以北俗之语言于朝廷,若有违者,免所居官。”对于诏令内容理解准确的是 ( ) A

- A. 在朝廷必须说汉语,违反者免其官职 B. 采用汉族的法律,惩治违法的官员  
C. 朝廷令所有的鲜卑人都说汉语 D. 朝廷有权惩处违法官员

(2010·江苏常州) 16. 下列改革,以促进民族融合为目的的是 ( ) C

- A. 商鞅变法 B. 伯里克利改革 C. 北魏孝文帝改革 D. 日本明治维新

(2010·广西贵港) 2. 北魏孝文帝改革的重要意义是 ( ) A

- A. 加速了黄河流域民族大融合的过程 B. 学习汉族文化风俗  
C. 借鉴汉族政治和经济制度 D. 加强对经济和官吏的管理

(2010·湖南株洲) 4. “魏主引见朝臣,诏断北语,一从正音……年三十以上,习性已久,容或不可卒革。三十以下,见在朝廷之人,语音不听仍旧。若有故为,当降爵黜官……”这段材料反映了北魏孝文帝改革中的哪项措施? ( ) D

- A. 迁都洛阳 B. 实行官吏俸禄制 C. 颁布均田令 D. 讲汉语

## 第21课 承上启下的魏晋南北朝文化(一)

(2010·山东威海) 4. 月球上有一座环形山是以我国著名科学家祖冲之的名字命名的,因为他在世界上第一次把圆周率的数值,计算到小数点以后的第7位数字。这项成果领先世界 ( ) C

- A. 近五百年 B. 近七百年 C. 近一千年 D. 近两千年

(2010·山东济宁) 13. 右图人物是我国南北朝时期著名的科学家,他的著作是 ( ) A

- A. 《齐民要术》 B. 《水经注》  
C. 《九章算术》 D. 《伤寒杂病论》



(2010·湖北宜昌) 4. “自三峡七百里中,两岸连山,略无阙处。”...空谷传响,哀转久绝。故渔者歌曰:‘巴东三峡巫峡长,猿鸣三声泪沾裳!’”这是《水经注》中对三峡的描述,它的作者是 ( ) A

- A. 郦道元 B. 张衡 C. 张仲景 D. 贾思勰

(2010·广西贵港) 3. 下列关联错误的是 ( ) C

- A. 华佗——医生 B. 李冰——都江堰  
C. 郦道元——农学家 D. 小篆——秦朝通用的标准字体


## 第22课 承上启下的魏晋南北朝文化(二)

(2010·江苏南京) 4. 有一书法作品,全篇324字,凡重复的字,写法各不相同,笔法之玄妙,似有神助,有“天下第一行书”的美誉,该作品是 ( ) A

- A. 《兰亭序》 B. 《九成宫碑》 C. 《颜氏家庙碑》 D. 《玄秘塔碑》

(2010·江苏连云港) 20. 右图书法作品有“飘若浮云,矫若惊龙”美称。这一作品的首书者是 ( ) A

- A. 王羲之 B. 顾恺之 C. 李白 D. 苏轼



## 七年级下册

### 第一单元 繁荣与开放的社会

#### 第1课 繁荣一时的隋朝

(2010·山东威海) 5. 隋朝, 犹如一颗流星划过历史的天空, 时间虽然短暂, 却光芒四射。下列有关隋朝历史贡献的叙述, 不正确的是 ( ) **D**

- A. 实现了南北重新统一      B. 开通了纵贯南北的大运河  
C. 创设了科举制度          D. 开创了“贞观之治”的局面

(2010·江苏连云港) 30. “北通涿郡之渔商, 南运江都之转输, 其为利也博 (丰厚) 哉。”这反映出隋朝开凿的大运河 ( ) **A**

- A. 促进了经济交流    B. 促成了贞观之治    C. 巩固了封建统治    D. 结束了分裂局面

(2010·广东深圳) 13. 如右图, 大运河在古代中国起着贯通南北交通的重要作用。大运河连接淮河与长江的一段是 ( ) **D**

- A. 通济渠      B. 永济渠  
C. 江南河      D. 邗沟

(2010·江苏宿迁) 20. “北通涿郡 (北京) 之渔商, 南运江都 (扬州) 之转输, 其为利也博哉!” 是对古代哪一水利工程历史作用的评价 ( ) **C**

- A. 郑国渠                  B. 白渠  
C. 大运河                  D. 都江堰

(2010·江苏无锡) 3. 无锡是京杭大运河唯一穿

城而过的城市, 古运河在清名桥历史文化街区留下了一段“运河版、江南水弄堂”, 堪称古运河听精华绝品。“水弄堂”两岸粉墙黛瓦, 鳞次栉比, 码头石埠, 错落有致, 构画出江南“人家尽枕河”的水乡风貌, 让无数中外游客如痴如醉, 你知道京杭大运河最早是谁统治时期开凿的? ( ) **B**

- A. 隋文帝      B. 隋炀帝      C. 唐太宗      D. 唐玄宗

(2010·江苏扬州) 27. 右图中流经扬州的一段大运河是 ( ) **C**

- A. ①  
B. ②  
C. ③  
D. ④

(2010·湖南永州) 6. “北通涿郡之渔商, 南运江都之转输, 其为利也博哉!” 此话说明隋朝开凿大运河的重大意义是 ( ) **C**

- A. 巩固了隋朝对全国的统治      B. 沟通了涿郡和余杭  
C. 大大促进了南北经济的交流与发展      D. 有利于对南方少数民族的战争



#### 第2课 “贞观之治”

(2010·浙江台州) 唐太宗有句名言: “夫以铜为镜, 可以正衣冠; 以史为镜, 可以知更替; ”

以人为镜，可以明得失。”据此回答 12~14 题。

12. “以史为镜，可以知更替”，唐太宗吸取了隋亡的教训，励精图治，在位期间出现了清明的统治时期，史称“\_\_\_\_\_”。（ ） A

A. 贞观之治 B. 开元盛世 C. 文景之治 D. 光武中兴

(2010·重庆) 1. “贞观之治”是我国封建社会的盛世之一。当时，经济发展、政治清明、人民安居乐业。贞观年间在位的皇帝是（ ） A

A. 唐太宗 B. 唐高宗 C. 武则天 D. 唐玄宗

(2010·重庆綦江) 1. 唐朝是我国封建社会的繁荣时期，其中唐太宗在位时出现的盛世局面是（ ） B

A. 开皇之治 B. 贞观之治 C. 开元盛世 D. 康乾盛世

(2010·广东东莞) 7. 唐元和年间（806年——820年），主管财政的宰相奏请减少内外官俸，诏书下达后被大臣崔祐驳回，皇帝最终采纳了崔祐的意见。崔祐所属的机构是（ ） B

A. 中书省 B. 门下省 C. 尚书省 D. 吏部

(2010·浙江杭州) 5. 我国著名史学家钱穆在《中国历代政治得失》一书中讲到：“汉宰相是采用领袖制的，而唐代宰相则采用委员制。”这里的委员制是指（ ） C

A. 三公九卿制 B. 科举制 C. 三省六部制 D. 内阁制

(2010·湖南岳阳) 4. “贞观之治”局面的出现与下列哪位皇帝有关（ ） A

A. 唐太宗 B. 汉武帝 C. 武则天 D. 唐玄宗

(2010·广东汕头) 3. “贞观之治”为唐朝的强盛奠定了坚实的基础。下面有关“贞观之治”出现的原因的叙述，不正确的是（ ） D

A. 重视纳谏 B. 吸取隋亡教训 C. 轻徭薄赋 D. 任用姚崇为相

(2010·福建龙岩) 2) 3. 俗话说“忠言逆耳，良药苦口”。下列能“以人为镜”、采纳魏征忠言的帝王是（ ） C

A. 汉武帝 B. 隋炀帝 C. 唐太宗 D. 武则天

(2010·重庆江津) 1. “惜秦皇汉武，略输文采；唐宗宋祖，稍逊风骚”。毛泽东在《沁园春·雪》中提及我国古代多位杰出君王。下列选项与“唐宗”有关的是（ ） B

A. 开皇之治 B. 贞观之治 C. 开元盛世 D. 康乾盛世

(2010·四川成都) 4. “政由己出，明察善断，故当时英贤亦竟为之用”，这是《资治通鉴》对唐朝哪一位最高统治者的评价？（ ） A

A. 唐太宗 B. 唐高宗 C. 武则天 D. 唐玄宗

(2010·四川成都) 6. 唐太宗时，某地发生灾荒。假如你是当时的一名中书令，秉承皇帝的旨意起草了一份救灾计划，接下来你应该交给（ ） B

A. 尚书省裁决 B. 门下省审议 C. 尚书省执行 D. 门下省执行

(2010·山东日照) 1. “人以铜为镜，可以正衣冠，以人为镜，可以知得失。”被唐太宗誉为“一面镜子”的著名谏臣是（ ） D

A. 房玄龄 B. 杜如晦 C. 姚崇 D. 魏征

### 第3课 “开元盛世”

(2010·山东聊城) 6. 某同学举办主题为“中国古代农业发展”的图片展览。下列图片应该入选“盛唐篇”的是（ ） D



地动仪模型

①



曲辕犁

②



筒车模型

③



罗盘针模型

④

- A. ①②      B. ③④      C. ①④      D. ②③

(2010·山东聊城) 7. “开元初，上留心理道，革去弊讹，不六七年间，天下大理。”“天下大理”的局面被誉为 ( ) C

- A. 文景之治      B. 贞观之治      C. 开元盛世      D. 靖难之役

(2010·广东东莞) 8. 王谠在《唐语林》中写到“开元初，上留心理道，革去弊讹，不六七年，天下大理。河清海晏，物殷俗阜。”“留心理道”的皇帝是 ( ) D

- A. 唐高祖      B. 唐太宗      C. 唐中宗      D. 唐玄宗

(2010·福建龙岩) 2. 史书记载“水激轮转，众筒兜水，次底下倾于岸上……以灌稻田，日夜不息，绝胜人力。”如右图，这种提水灌溉工具最早出现于 ( ) C

- A. 东汉  
B. 曹魏  
C. 唐朝  
D. 北宋



(2010·山东潍坊) 4. “开元初……天下大理，河清海晏，物殷俗阜。”出现上述局面的原因不包括 ( ) D

- A. 重用贤人      B. 重视生产      C. 提倡节俭      D. 强化皇权

(2010·广东汕头) 4. 唐玄宗统治前期，唐朝进入全盛时期，史称“开元盛世”。如果你生活在当时，可以看到 ( ) D

- ① 各种肤色的外国人在长安城内经商      ② 农民用曲辕犁在农田里耕地  
③ 农民在长安的坊里出售农产品      ④ 筒车不分昼夜地灌溉田地

- A. ①③④      B. ①②③      C. ②③④      D. ①②④


(2010·内蒙古赤峰) 2. 下列四种工具哪一个是灌溉用的 ( ) D



A



B



C

D

## 第4课 科举制的创立

(2010·山东聊城) 5. “风吹金榜落凡世，三十三人名字香。”“十年寒窗无人问，一举成名天下知。”诗句反映的现象与下列哪一制度的推行直接相关？ ( ) C

- A. 分封制      B. 郡县制      C. 科举制      D. 行省制

(2010·重庆) 2. 我国的科举制度对西方近代文官考试制度的形成产生了较大影响, 有人称它为中国古代的“第五大发明”。科举制度正式创立于 ( ) A

A. 隋朝 B. 唐朝 C. 明朝 D. 清朝

(2010·江苏南京) 5. 一位唐朝官员说: “国家取士, 远法前代, 进士之科, 得人为盛。”材料反映的选官制度正式创立于 ( ) B

A. 隋文帝 B. 隋炀帝 C. 唐太宗 D. 唐玄宗

(2010·湖南邵阳) 3. 下列关于科举制的说法中, 正确的是 ( ) B

A. 开创于唐初, 废除于清末 B. 通过分科考试选拔官员的制度  
C. 毫无公平公正性可言 D. 看重门第, 不利于选拔人才

(2010·山东滨州) 5. “水国寒消春日长, 燕莺催促花枝忙。风吹金榜落凡世, 三十三人名字香。”这首《及第谣》与下列哪一制度直接相关? ( ) C

A. 行省制度 B. 三省六部制度 C. 科举制度 D. 中央集权制度

(2010·湖北十堰) 22. 我国由隋代开创直至清末才被废除的通过考试选拔官员的制度是 ( ) C

A. 禅让制 B. 世袭制 C. 科举制 D. 推举制

(2010·山西) 2. 魏晋时期, 官员大多数从高门权贵子弟中选拔, 到了唐玄宗开元年间, 科举出身的宰相占到三分之二。这种变化说明 ( ) D

A. 唐政府不任用权贵子弟 B. 唐政府力求以才学选官  
C. 唐朝社会文学艺术繁荣 D. 唐朝重视教育事业的发展

(2010·湖北黄冈) 9. 1905 年清政府宣布废除科举考试, 至此, 历经 1300 多年的科举制度终于退出了历史舞台。科举制逐渐完善于 ( ) B

A. 隋朝 B. 唐朝 C. 宋朝 D. 明朝

(2010·重庆江津) 2. 唐朝读书人要实现“朝为田舍郎, 暮登天子堂”的理想, 最佳途径应该是 ( ) D

A. 辛勤耕作 B. 作战立功 C. 经商致富 D. 参加科举考试

(2010·江苏淮安) 14. 唐朝是我国诗歌创作的黄金时代, 唐诗的繁荣与科举考试进士科重视考诗赋有密切关系。诗赋成为进士科考试内容与下列哪位皇帝有关? ( ) D

A. 隋炀帝 B. 唐太宗 C. 武则天 D. 唐玄宗

(2010·山东菏泽) 3. 古代“状元、榜眼、探花”的称号取得的方式是 ( ) C

A. 皇帝御赐 B. 九品中正制度 C. 科举考试制度 D. 察举制度

## 第 5 课 “和同为一家”

(2010·四川宜宾) 3. 右图所示为位于青海省玉树藏族自治州的文成公主庙。该庙始建于 1300 多年前, 系当地人民为纪念文成公主入吐蕃路经此地, 向当地人民传播中原文化, 造福于当地而建。下列相关表述, 正确的是 ( ) D



① 派文成公主入吐蕃的统治者是武则天  
② 文成公主入吐蕃的最终目的地是逻些  
③ 当时吐蕃的赞普是松赞干布  
④ 文成公主入吐蕃增强了汉藏两族的友好关系

A. ①②③ B. ①②④ C. ①③④ D. ②③④

(2010·重庆) 3. 今年 4 月, 青海玉树藏族自治州发生地震后, 全国各族人民纷纷伸出援

助之手，谱写了一曲曲民族团结互助的赞歌。翻开历史画卷，不乏讴歌民族团结的光辉篇章。下列人物中，为民族团结做出突出贡献的是（ ）**B**

A. 玄奘      B. 文成公主      C. 郑和      D. 戚继光

(2010·湖南邵阳) 4. 藏族的祖先是（ ）**A**

A. 吐蕃      B. 契丹      C. 女真      D. 党项

(2010·山东青岛) 8. “年少从军不为苦，长戟短刀气如虎。男儿志在立功名，青海西头擒赞普”。诗中“赞普”是对我国古代哪一少数民族首领的称呼？（ ）**D**

A. 回纥      B. 南诏      C. 靺鞨      D. 吐蕃

(2010·新疆乌鲁木齐) 2. 唐朝时期，管辖今伊犁地区的最高统治机构是（ ）**B**

A. 西域都护府      B. 北庭大都护府      C. 安西大都护府      D. 伊犁将军府

(2010·湖北宜昌) 5. 2010年4月14日，青海省玉树县发生7.1级地震，境内的文物古迹不同程度地受损，其中文成公主庙在地震中受损程度较低。此庙是1300多年前，文成公主远嫁逻些时途经此地，给当地群众传授纺织、开垦、耕种等技艺，当地群众为怀念文成公主的功德而修建的。玉树文成公主庙蕴含的历史信息是（ ）**A**

A. 唐与吐蕃的关系      B. 唐与回纥的关系      C. 唐与渤海的关系      D. 唐与南诏的关系

(2010·湖北咸宁) 10. 吐蕃人是我哪一少数民族的祖先？（ ）**B**

A. 维吾尔族      B. 藏族      C. 彝族      D. 白族

(2010·贵州毕节) 16. “自古皆贵中华，贱夷狄，朕独爱之如一”最能体现唐太宗这一思想的举措的是（ ）**D**

①与吐蕃和亲，送去手工艺品和医药、生产技术等书籍      ②令玄奘西游天竺

③命东突厥首领管理旧部，朝廷里大量任用突厥贵族为官      ④鉴真东渡日本

A. ①②      B. ③④      C. ②③      D. ①③

## 第6课 对外友好往来

(2010·重庆綦江) 2. 重视对外交流是唐朝社会繁荣的原因之一。右图人物曾为中日两国文化交流作出了突出贡献，他是（ ）**D**

A. 阿倍仲麻吕      B. 玄奘

C. 吉备真备      D. 鉴真

(2010·江苏泰州) 2. 贞观初年，西行前往佛教圣地天竺求取佛经精义的唐朝高僧是（ ）**B**

A. 鉴真      B. 玄奘      C. 晁衡      D. 郑和

(2010·湖南长沙) 2. 今年是中国与印度建交60周年。

中印交流源远流长，唐朝时期玄奘西游为中印文化交流作出了巨大贡献。下列说法表述正确的是（ ）**D**

A. 唐朝时称印度为波斯

B. 玄奘游学的大昭寺是印度佛学的最高学府

C. 玄奘回国后，佛教开始传入中国

D. 玄奘以亲身见闻写成的《大唐西域记》成为研究中亚、印度半岛以及我国新疆地区历史和佛学的重要典籍

(2010·广东) 3. 2010年是中印建交60周年。早在唐代，就有一位杰出的历史人物为中印两国的文化交流作出了重大贡献。他是（ ）**C**



A. 鉴真      B. 张骞      C. 玄奘      D. 郑和

(2010·福建莆田) 5. 第一个系统地把天竺佛教、历史、地理、风土人情等记录下来并介绍到中国的人物是 ( ) **D**

A. 李冰      B. 李春      C. 鉴真      D. 玄奘

(2010·重庆江津) 3. 隋唐时期, 日本官方十多次派遣使节到我国访问。他们当中的不少人为日中文化交流作出了重大贡献, 其中突出的代表有 ( ) **C**

A. 鉴真      B. 玄奘      C. 空海      D. 徐福

(2010·福建泉州) 3. 下面两幅图片人物的对外文化交流充分体现了唐朝对外交往的特点是 ( ) **B**

- A. 高度繁荣 共享太平
- B. 对外开放 双向交流
- C. 世界领先 求同存异
- D. 源远流长 泽被东西



玄奘

鉴真

(2010·江苏扬州) 28. 据报道, 今年上海世博会结束后, 一位扬州唐代高僧的坐像将再次回乡省亲, 他就是为中日文化交流做出巨大贡献的 ( ) **A**

A. 鉴真      B. 玄奘      C. 空海      D. 圆仁

(2010·湖南娄底) 4. 七年级(一)班本月负责学校文化长廊的黑板报设计, 他们选定的主题是“唐代的中外交往”, 并拟定了如下四个标题, 请你帮他们指出哪一项是不恰当的 ( ) **A**

- A. 文成公主与松赞干布成亲
- B. 鉴真东渡宣扬中国文化
- C. 玄奘西游天竺取经
- D. 日本派遣唐使来华

## 第7课 辉煌的隋唐文化(一)

(2010·广东佛山) 2. 从通行的便利性看, 隋朝赵州桥在造桥技术上的创新设计采用 ( ) **B**

- A. 单孔石拱
- B. 平拱
- C. 多索斜拉
- D. 多孔曲拱

## 第8课 辉煌的隋唐文化(二)

(2010·重庆) 5. 唐朝是我国诗歌创作的黄金时代, 那时, 诗人辈出。其中被称为“诗仙”的是 ( ) **C**

A. 白居易      B. 杜甫      C. 李白      D. 苏轼

(2010·湖北襄樊) 13. 光耀千古的唐朝文化, 最为光彩夺目的是 ( ) **C**

A. 词      B. 小说      C. 诗歌      D. 戏剧

(2010·广东深圳) 14. 唐朝社会经济的繁荣和科举制度的完善, 推动了文学艺术的发展。这一时期, 处于发展的黄金时代的是 ( ) **A**

A. 诗歌      B. 散文      C. 史学      D. 戏曲

(2010·广东湛江) 27. 有一首歌这样唱道: “……不知今宵是何时的云烟, 也不知今夕是何夕的睡莲, 只愿能够化作唐宋诗篇”, 那么在“唐宋诗篇”中被称为“诗仙”的唐朝诗人是 ( ) **A**

A. 李白      B. 杜甫      C. 白居易      D. 苏轼

(2010·重庆江津) 5. 在郭沫若题写的对联“世上疮痍，诗中圣哲，民间疾苦；笔底波澜”中所称颂的现实主义诗人是 ( ) **D**

- A. 李白      B. 李商隐      C. 白居易      D. 杜甫

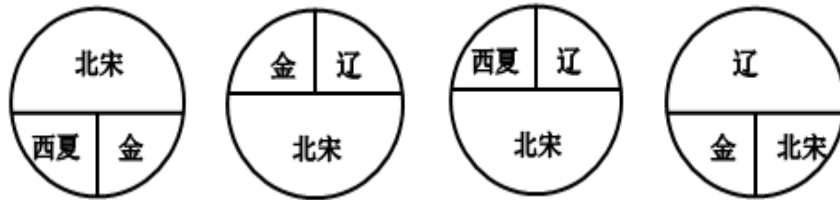
(2010·四川成都) 5. 唐朝诗歌繁盛，诗人众多。下列哪一位诗人赞美成都“九天开出一成都，万户千门入画图”？ ( ) **A**

- A. 李白      B. 杜甫      C. 白居易      D. 薛涛

## 第二单元 经济重心的南移和民族关系的发展

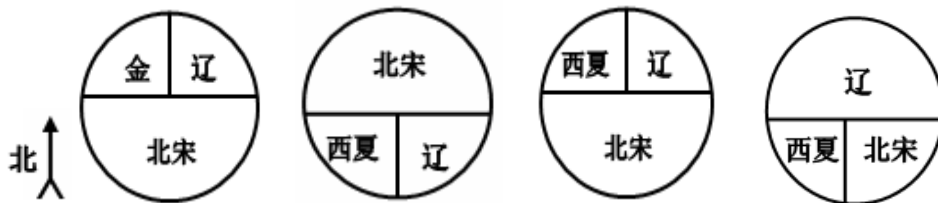
### 第9课 民族政权并立的时代

(2010·浙江丽水) 11. 下列能大致反映北宋与少数民族政权并立的示意图是 ( ) **C**



- A      B      C      D

(2010·江苏连云港) 21. 下列能正确反映北宋与少数民族政权并立的示意图是 ( ) **C**



- A      B      C      D

(2010·山东莱芜) 5. “大宋皇帝谨致誓书于大契丹皇帝阙下：共遵成信，虔奉欢盟，以风土之宜，助军旅之费，每岁以绢二十万匹，银一十万两……差人搬送至雄州交割。”下列史实哪一项与此盟约无关？ ( ) **D**

- A. 辽军攻宋发生澶州之战      B. 北宋应允给辽岁币  
C. 以后辽宋之间保持和平局面      D. 宋辽以淮水到大散关为界

(2010·湖北宜昌) 6. 与北宋签订澶渊之盟的少数民族政权是 ( ) **C**

- A. 西夏      B. 金      C. 辽      D. 元


(2010·广西贵港) 4. 1038年少数民族首领元昊建立的政权在右图A、B、C、D中的哪一处？ ( ) **C**

### 第10课 经济重心的南移

(2010·安徽芜湖) 1. 据考证，“南澳1号”古沉船是一艘明代晚期的商船，船上发现了大量当时瓷窑烧制的瓷器。其中最容易找到的瓷器应该是 ( ) **D**



- A. 越窑的青瓷 B. 邢窑的白瓷 C. 哥窑的冰裂纹瓷器 D. 景德镇的青花瓷  
 (2010·山东聊城) 8. 某同学选用如下图片进行研究性学习。他确立的研究主题应是 ( ) A



宋代针铺商标 清明上河图 交子 南宋海船

- A. 宋代商业繁荣 B. 民族政权并立 C. 元朝国家统一 D. 大都闻名世界  
 (2010·福建福州) 3. 中国经济重心南移是一个漫长的历史过程，最后完成于 ( ) C

- A. 东晋 B. 隋朝 C. 南宋 D. 明朝

- (2010·山东威海) 7. 我国经济重心的南移是从唐朝中后期开始的，最终完成于 ( ) B

- A. 北宋 B. 南宋 C. 元朝 D. 清朝

- (2010·山东青岛) 9. 我国古代的经济重心经历了一个由北向南转移的过程，至南宋时期最终完成。以下关于这一时期南方经济发展的原因，说法不正确的是 ( ) A

- A. 南方为少数民族政权，政治清明 B. 南方战乱相对较少  
 C. 北方人南迁带来了先进的生产技术 D. 南方自然条件优越

- (2010·江苏泰州) 3. 下列货币中，哪个是世界上最早的纸币？ ( ) A



交子 会子 美元 英镑

- A B C D

- (2010·广东佛山) 3. 某班历史课堂就我国“经济重心南移”展开讨论，支持宋代已完成南移的史实是 ( ) C

- ① 南方人口占全国户口数的 62.9% ② 东京是当时最大城市，商业繁荣  
 ③ 水稻种植扩大，产量跃居粮食首位 ④ 煤的开采量居世界第一  
 ⑤ 扬州、临安、广州、成都等城市商业发达。

- A. ①②③④⑤ B. ①②④⑤ C. ①③⑤ D. ②③④

- (2010·福建三明) 4. 世界上最早的纸币——交子出现在 ( ) B

- A. 唐朝关中地区 B. 北宋四川地区 C. 南宋江南地区 D. 元朝中原地区

- (2010·广东湛江) 24. 据报道：从古沉船“南澳 1 号”中打捞出的瓷器，很多都是出自于“瓷都”，请问我国哪个地方被称为“瓷都”？ ( ) C

- A. 河北曲阳 B. 河南汝州 C. 江西景德镇 D. 河南开封

- (2010·江苏盐城) 7. 南宋时，政府的财政收入主要来自南方。这最能说明南方 ( ) C

- A. 自然资源十分丰富 B. 地理位置重要  
 C. 已成为全国经济重心 D. 交通十分发达

- (2010·山东泰安) 6. 我国从唐朝中后期开始的经济重心南移最后完成于 ( ) B

- A. 北宋 B. 南宋 C. 元朝 D. 清朝

- (2010·江苏扬州) 4. 目前世界上已知最早的纸出现在我国 ( ) **C**  
 A. 战国时期      B. 秦朝时期      C. 西汉时期      D. 东汉时期
- (2010·山东日照) 2. 史书上有“国家根本, 仰给东南”的说法, 我国古代经济重心南移最终完成于哪一时期? ( ) **B**  
 A. 隋朝      B. 南宋      C. 元朝      D. 明朝

## 第 11 课 万千气象的宋代社会风貌

(2010·山东东营) 4. “市井经济之家……夜市直至三更尽, 才五更又复开张。如要闹去处, 通晓不绝……”材料反映的现象发生在 ( ) **D**

- A. 秦都咸阳      B. 汉都长安      C. 隋都长安      D. 宋都东京

(2010·湖南岳阳) 6. 上海世博园中国馆这样一幅作品: 它以动漫的形式向中外游客展示了我国古代都市的繁华。请你判断这幅作品是 ( ) **C**

- A. 赵孟頫的《秋郊饮马图》      B. 顾恺之的《洛神赋图》  
 C. 张择端的《清明上图》      D. 敦煌莫高窟的敦煌壁画

(2010·广东汕头) 5. 北宋统治者衣饰由开国初期的简约朴素, 转变为后来的精美华丽。导致这一转变的主要原因是 ( ) **B**

- A. 北方少数民族的影响      B. 奢侈之风的盛行  
 C. 市民阶层的不断壮大      D. 大众审美观的变化


(2010·湖北黄冈) 8. 在 2010 年的上海世博会上, 中国馆内有一幅巨大的电子屏幕, 显示的是北宋画家的《清明上河图》。利用高新技术使画中的景物动起来, 再现北宋首都汴京的繁华景象。其作品原作者是 ( ) **D**

- A. 赵孟頫      B. 吴道子      C. 阎立本      D. 张择端

(2010·江苏无锡) 4. 上海世博园中国馆的镇馆之宝是“活”的《清明上河图》。高科技让画上的人物全部活动起来, 熙来攘往, 昼现夜隐, 12 世纪中国绚丽的城市画卷被生动演绎出来。请问《清明上河图》是哪位画家的传世名作? ( ) **D**

- A. 王羲之      B. 顾恺之      C. 吴道子      D. 张择端

(2010·福建宁德) 4. 上海世博会中国馆反映我国古代商业繁荣和社会生活题材的动漫作品, 广受参观者热捧。其原作如右图所示, 它产生的朝代是 ( ) **A**



- A. 宋朝      B. 元朝  
 C. 明朝      D. 清朝

(2010·内蒙古赤峰) 4. 如果你生活在宋代, 可能有的经历是 ( ) **A**

- ①用交子在夜市上买东西      ②夏季能喝到冷饮      ③在瓦子里看杂技  
 ④能吃到香喷喷的玉米      ⑤闲时看小说《红楼梦》  
 A. ①②③      B. ③④⑤      C. ②③⑤      D. ①②④

## 第 12 课 蒙古的兴起和元朝的建立

(2010·山东青岛) 10. 2010 年 4 月 20 日, 在“情系玉树大爱无疆”抗震救灾大型募捐晚会上, 汉藏两族著名歌手同台演唱: “藏族和汉族是一个妈妈的女儿, 我们的妈妈叫中国!” 西藏自

自古以来就是中国领土不可分割的一部分，它成为我国正式的行政区始于（ ） B

A. 唐朝 B. 元朝 C. 明朝 D. 清朝

(2010·山东青岛) 11. “自封建变为郡县，有天下者，汉、隋、唐、宋为盛，然幅员之广，咸不逮元”。元朝疆域空前辽阔，为对全国进行有效的统治，元朝主要实行（ ） D

A. 分封制 B. 宗法制 C. 内阁制 D. 行省制

(2010·江苏泰州) 4. 元朝的疆域“北逾阴山，西及流沙，东尽辽东，南越海表”“汉唐极盛之际不及焉”。元世祖忽必烈为了有效地统治全国，建立了（ ） C

A. 分封制 B. 郡县制 C. 行省制 D. 军机处

(2010·山西) 3. 元朝以前，就有许多山西汾州、并州人迁至今新疆地区，与蒙古族、维吾尔族共同劳动生活。这说明（ ） D

A. 北方战乱导致山西人迁往边疆 B. 维吾尔族、蒙古族人民非常友善  
C. 元朝以前新疆与中原地区联系非常紧密 D. 维吾尔族、蒙古族、汉族共同开发了边疆

(2010·湖南衡阳) 5. “蓝蓝的天空，清清的湖水，绿绿的草原，这是我的家。奔驰的骏马，洁白的羊群……”蒙古族歌手腾格尔的这首经典名曲《天堂》，我们经常吟唱。在我国历史上，蒙古族曾建立一个疆域空前辽阔的元王朝，其建立者是（ ） B

A. 成吉思汗 B. 忽必烈 C. 完颜阿骨打 D. 耶律阿保机

(2010·福建莆田) 6. 元朝规定以“户口增”“田野辟”等作为衡量官吏政绩好坏的标准。忽必烈诏令司农司编写的书籍是（ ） C

A. 《齐民要术》 B. 《梦溪笔谈》 C. 《农桑辑要》 D. 《天工开物》

(2010·湖北黄石) 19. 小明发现了一张破损的古地图，依稀能看出“辽阳行、岭北行省”等字。绘制这张地图的朝代不早于（ ） C

A. 汉朝 B. 唐朝 C. 元朝 D. 明朝

(2010·湖北宜昌) 7. 目前中国有 34 个省级行政区，即 23 个省、5 个自治区、4 个直辖市、2 个特别行政区。我国建立省级行政区制度最早在（ ） B

A. 秦朝 B. 元朝 C. 明朝 D. 清朝

(2010·江苏宿迁) 21. 在某朝代的疆域示意图中，我们宿迁地区位于“河南江北行省”。这一朝代是（ ） D

A. 秦朝 B. 汉朝 C. 唐朝 D. 元朝

(2010·湖南湘潭) 4. 元朝是一个少数民族建立的统一王朝，其建立者是（ ） B

A. 成吉思汗 B. 忽必烈 C. 努尔哈赤 D. 皇太极

(2010·江苏扬州) 29. 崔致远和马可·波罗是与古代扬州有关的两个外国人，他们来到扬州的时间分别是（ ） C

A. 秦朝和汉朝 B. 汉朝和唐朝 C. 唐朝和元朝 D. 元朝和清朝

(2010·内蒙古赤峰) 6. 在内蒙古地区有以马可·波罗名字命名的店铺。请问马可·波罗最早在何时来到我国（ ） C

A. 汉朝 B. 唐朝 C. 元朝 D. 清朝

(2010·广西贵港) 5. 元朝在地方设立的最高行政机构是（ ） D

A. 中书省 B. 宣政院 C. 澎湖巡检司 D. 行中书省

(2010·湖南株洲) 5. 我国是一个多民族国家。要了解回族形成的历史，最早应追溯到（ ） C

A. 汉朝 B. 唐朝 C. 元朝 D. 明朝

## 第13课 灿烂的宋元文化（一）

(2010·福建福州) 4. 弗兰西斯·培根说：“这三种东西改变了整个世界的面貌和状态，第一种是在文字方面，第二种是在战争上，第三种是在航海上。”这里的“第三种”指（ ）A

A. 指南针 B. 造纸术 C. 印刷术 D. 火药

(2010·江苏徐州) 2. 北宋沈括在《梦溪笔谈》中写道：“若止印三二张，未为简易；若印数十百千本，则极为神速。”材料中的“极为神速”主要得益于（ ）D

A. 北宋城市商业的繁荣 B. 造纸术的重大改进  
C. “瓦子”“瓦舍”的出现 D. 活字印刷术的发明

(2010·山东威海) 8. 英国著名学者李约瑟博士曾说：“每当人们在中国文献中查找任何一个具体的科技史料时，往往会发现它的主要焦点就在宋代。”我国宋代重大的科技成就是（ ）D

①造纸术的发明 ②活字印刷术的发明 ③指南针的广泛使用 ④火药的广泛使用  
A. ①② B. ①③ C. ①②③ D. ②③④

(2010·山东青岛) 12. “大师西去悲难禁，毕升功德世长流”。北宋时期，毕升发明的\_\_\_\_，在科技史上是一个划时代的技术创新，大大促进了文化的传播。（ ）C

A. 造纸术 B. 雕版印刷术 C. 活字印刷术 D. 指南针

(2010·湖北襄樊) 12. 我国四火发明中在北宋时候发明的是（ ）D

A. 造纸术和火药 B. 指南针和造纸术 C. 指南针和火药 D. 活字印刷术和指南针

(2010·福建龙岩) 2) 4. 下列四大发明中，由北宋毕升发明的是（ ）D

A. 造纸术 B. 火药 C. 指南针 D. 活字印刷术

(2010·广东) 4. 有西方学者认为“近代世界赖以建立的种种发明与发现可能有一半来源于中国。”古代中国为西方国家开辟新航路提供重要条件的发明是（ ）A

A. 指南针 B. 火药 C. 造纸术 D. 活字印刷术

(2010·广东佛山) 4. 《金史》有“声如雷震，……人与牛皮皆碎迸无迹，甲铁皆透”的战争场景描绘，对此解释不正确的是（ ）C

A. 战争场面惨烈 B. 火药已应用于军事战争  
C. 火药的使用改变了战争结局 D. 火药威力巨大

## 第14课 灿烂的宋元文化（二）

(2010·山东青岛) 13. 辛弃疾(如右图)是两宋时期“豪放派”词风的重要代表，他的词气势豪迈，雄健奔放。下列各项中，属于辛弃疾词作的是（ ）C

A. “长太息以掩涕兮，哀民生之多艰”  
B. “朱门酒肉臭，路有冻死骨”  
C. “醉里挑灯看剑，梦回吹角连营”  
D. “和羞走，倚门回首，却把青梅嗅”

(2010·山东青岛) 14. 元朝是我国古代戏剧发展的黄金时期，名家辈出，名作迭起。关汉卿就是其中的一位。他和白朴、马致远、郑光祖一起，被人们称作“元曲四大家”。关汉卿的代表作是（ ）A

A. 《窦娥冤》 B. 《西厢记》 C. 《牡丹亭》 D. 《桃花扇》



(2010·山东青岛) 15. 在某校组织的一次历史人物竞猜活动中, 当主持人说道: “元代著名的书画家、书法‘劲秀雄健, 功力深厚’、画作被誉为‘神品’。”茗茗同学立即作出了正确的回答: 他是 ( ) **D**

A. 张择端      B. 顾恺之      C. 颜真卿      D. 赵孟頫

(2010·江苏常州) 17. 《资治通鉴》是我国第一部编年体通史, 此书内容包括 ( ) **B**

①夏商西周三代的更替    ②战国七雄    ③三国鼎立局面的形成    ④宋金南北对峙  
A. ①②④      B. ②③      C. ①②③      D. ③④

(2010·内蒙古赤峰) 3. 司马迁和司马光都是我国古代伟大的史学家, 他们生活的朝代分别是 ( ) **B**

A. 西汉、唐朝      B. 西汉、北宋      C. 秦朝、元朝      D. 唐朝、北宋

## 第三单元 统一多民族国家的巩固和社会的危机

### 第 15 课 明朝君权的加强

(2010·江苏南京) 6. 下列措施与明成祖加强君主专制统治有关的是 ( ) **C**

A. 废除丞相      B. 大兴文字狱      C. 执行削藩政策      D. 设立军机处

(2010·湖南湘潭) 5. “今我朝罢 (废除) 丞相, 设五府、六部分理天下庶务, 彼此颉颃 (牵制) 不敢相压。事皆朝廷总之, 所以稳当。”这里的“我朝”应该是 ( ) **C**

A. 唐朝      B. 宋朝      C. 明朝      D. 清朝

(2010·山东日照) 3. “以后……不许立丞相, 臣下敢有奏请设立者, ……处以重刑。”此令出自 ( ) **C**

A. 汉武帝      B. 唐太宗      C. 明太祖      D. 清雍正帝

(2010·广西贵港) 6. 明朝建立是在 ( ) **C**

A. 13 世纪 60 年代    B. 13 世纪 80 年代    C. 14 世纪 60 年代    D. 14 世纪 80 年代

### 第 16 课 中外的交往与冲突

(2010·山东聊城) 10. “封侯非我意, 但愿海波平。”诗句中戚继光表明志向是 ( ) **A**

A. 荡平倭寇      B. 赶走荷兰殖民者  
C. 击退沙俄侵略者    D. 平定大小和卓叛乱

(2010·广东东莞) 9. 郑和下西洋是世界航海史上的壮举。关于这一壮举的历史意义说法正确的是 ( ) **C**

A. 一种民间经济文化友好交流      B. 使明朝获得良好经济效益  
C. 加强了明朝与亚非国家往来      D. 促进了明朝手工业的发展

(2010·山东青岛) 16. 许多人认为“世界海洋第一人”不是哥伦布、麦哲伦, 而是 600 年多前从刘家港出发, 远航 30 多个国家和地区, 航程 10 万余里的航海家郑和。郑和远航最远到达非洲东海岸和 ( ) **A**

A. 红海沿岸      B. 英吉利海峡      C. 大西洋沿岸      D. 波罗的海沿岸

(2010·福建龙岩) 3. 与郑和一起出使西洋的著名的闽西籍航海家是 ( ) **A**

A. 王景弘      B. 张騫      C. 郑成功      D. 文天祥

(2010·湖南岳阳) 5. 你认为下列历史事件中能体现我国对外友好交往传统的是 ( ) **C**

A. 雅克萨之战 B. 戚继光抗倭 C. 郑和下西洋 D. 郑成功收复台湾

(2010·福建龙岩) 2) 6. 明朝航海家郑和七下西洋, 最远到达 ( ) D

A. 美洲 B. 印度洋沿岸  
C. 大西洋沿岸 D. 红海沿岸和非洲东海岸

(2010·山东莱芜) 6. 在我国东南沿海一带广为流传一首民谣: “天皇皇, 地皇皇, 莫惊我家小儿郎; 倭寇来, 不要慌, 我有戚爷会抵挡。”这首民谣反映的是哪一历史时期的史实? ( ) C

A. 隋朝 B. 元朝 C. 明朝 D. 清朝

(2010·江苏盐城) 8. 下面是古代某船队远洋航行的路线图, 该航行壮举最远到达的地区应是 ( ) A



A. 红海沿岸和非洲东海岸 B. 地中海沿岸和非洲西海岸  
C. 印度洋沿岸和好望角 D. 大西洋沿岸

(2010·四川成都) 7. 印度尼西亚的爪哇有三宝瓏, 泰国有三宝港, 马来西亚的马六甲有三宝城。上述国家以“三宝”为地名是为了纪念中国古代历史上 ( ) D

A. 高僧鉴真出使日本 B. 戚继光抗击倭寇  
C. 华侨对南洋的开发 D. 郑和下西洋的壮举

(2010·江苏扬州) 5. “天皇皇, 地皇皇, 莫惊我家小儿郎。倭倭来, 不要慌, 我有戚爷来抵挡”。歌谣中的“戚爷” ( ) B

A. 统一了女真各部 B. 肃清了东南沿海的倭寇  
C. 赶走了荷兰殖民者 D. 打败了沙俄侵略军

(2010·广西贵港) 7. 明朝时率军抗击倭寇侵略的是 ( ) A

A. 戚继光 B. 郑成功 C. 岳飞 D. 文天祥

(2010·山东菏泽) 5. 近期央视新闻频道多次对“南澳一号”沉船考古进行现场直播。发现明代古沉船的广东汕头市南澳岛县在明朝有“海上互市之地”之美誉, 史载: “郑和七下西洋, 五经南澳”。郑和下西洋成功实现的条件不包括 ( ) D

A. 国力强盛 B. 造船业发达 C. 指南针的应用 D. 蒸汽机的应用

(2010·湖南娄底) 6. “封侯非我意, 但愿海波平”表明了他为驱逐倭患, 保卫海防, 拯救百姓于水火, 而并非追求个人功名的崇高品质。文中的“他”是 ( ) A

A. 戚继光 B. 郑和 C. 郑成功 D. 岳飞

## 第 17 课 君主集权的强化

(2010·山东聊城) 9. “军国大计, 罔不总揽。自雍乾后百八十年……盖隐然执政之府也。”

这里的“执政之府”是 ( ) **D**

A. 市舶司      B. 中书省      C. 锦衣卫      D. 军机处

(2010·山东威海) 9. 清朝时, 我国封建君主集权进一步强化的标志是 ( ) **D**

A. 废行省, 设三司      B. 八股取士      C. 保留议政王大臣会议      D. 设立军机处

(2010·山东东营) 5. 明朝丞相的废除和清朝军机处的设立, 说明了 ( ) **A**

A. 君主集权的强化      B. 地方权力的扩大      C. 监察职能的增强      D. 中央机构的膨胀

(2010·湖北黄石) 20. 右边是清朝军机处的照片, 它的设立, 标志着我国封建君主集权的进一步强化。设立该机构的

皇帝是 ( ) **C**

A. 顺治      B. 康熙      C. 雍正      D. 乾隆



## 第 18 课 收复台湾和抗击沙俄

(2010·四川宜宾) 4. “开辟荆榛逐荷夷”, 我国古代立下这一伟大功绩的民族英雄是 ( ) **C**

A. 张骞      B. 魏征      C. 郑成功      D. 渥巴锡

(2010·重庆綦江) 3. “开辟荆榛逐荷夷, 十年始克复先基”反映的历史事件是 ( ) **B**

A. 戚继光抗倭      B. 郑成功收复台湾

C. 雅克萨之战      D. 平定噶尔丹叛乱

(2010·山东临沂) 12. 公元 1405 年, 郑和这个名字开始载入史册。现在的人们之所以怀念郑和, 是因为他曾 ( ) **C**

A. 收复台湾, 驱逐了荷兰殖民者

B. 抗击倭寇, 维护了东南沿海地区的安定

C. 七下西洋, 促进了中国与亚非各国的经济交流

D. 英勇抗元, 留下了“留取丹心照汗青”的千古名句

(2010·广东梅州) 5. “开辟荆榛, 千秋功业; 驱逐荷虏, 一代英雄”是郭沫若所写的挽联。

这幅挽联称颂的是 ( ) **B**

A. 戚继光抗倭      B. 郑成功收复台湾      C. 岳飞抗金      D. 文天祥抗元

## 第 19 课 统一多民族国家的巩固

(2010·浙江嘉兴) 16. 为加强对西南民族地区的管理, 清朝政府大力推行的措施是 ( ) **A**

A. 实施改土归流      B. 设立驻藏大臣      C. 确立册封制度      D. 出兵平定叛乱

(2010·浙江义乌) 16. 下列属于清政府采取的巩固统一的多民族国家的措施是 ( ) **C**

A. 在西南率先改土归流      B. 在北方修筑长城

C. 设驻藏大臣      D. 派郑和下西洋

(2010·浙江丽水) 12. 清朝政府为巩固和发展统一的多民族国家, 采取的措施有 ( ) **B**

① 实行三省六部制      ② 在西南少数民族地区推行改土归流

③ 设立驻藏大臣      ④ 平定准噶尔、回部贵族叛乱

A. ①②③      B. ②③④      C. ①②④      D. ①③④

(2010·四川内江) 17. 历史证明, 统一必然促使国泰民安, 分裂将导致国运衰退。为

了维护国家统一，代表清朝中央政府同达赖、班禅共同管理西藏事务的机构是（ ） C

A. 伊犁将军 B. 宣政院 C. 驻藏大臣 D. 乌里雅苏台将军

(2010·山东青岛) 17. 清朝的乾隆皇帝晚年自称“十全老人”，并将自己一生的主要政绩概括为“十全武功”。结合所学知识指出，下列哪项应包括在其“十全武功”之内（ ） D

A. 荡平东南沿海的倭寇 B. 驱逐荷兰殖民者出台湾  
C. 组织雅克萨自卫反击战 D. 平定大小和卓叛乱

(2010·山东潍坊) 6. 研究下列表格，最符合其内容的学习主题是（ ） C

序号	历史事件
1	清政府册封达赖、班禅；设置驻藏大臣
2	清朝平定准噶尔叛乱及大小和卓叛乱
3	雍正帝在西南少数民族聚居区实行“改土归流”

A. 清朝民族关系的发展 B. 边疆商业贸易的繁荣  
C. 统一多民族国家巩固 D. 民族地区经济的发展

(2010·广东) 5. 从文物中获取信息是我们学习历史的方法之一。当我们研究中国古代中央政府与少数民族地区关系时，可以从下列哪件文物中获得有效信息（ ） D



A. 司母戊鼎 B. 开元通宝钱 C. 锦衣卫印 D. 金奔巴瓶

(2010·广东佛山) 5. 18世纪中期，清朝政府平定回部大小和卓兄弟叛乱（ ） B

A. 重新统一了蒙古 B. 维护了多民族国家的统一  
C. 稳定了西藏政局 D. 加强了对黑龙江地区的管辖

(2010·广东湛江) 25. 新疆自古以来就是中国的领土，清朝政府加强对新疆地区管理的措施是（ ） D

A. 设置西域都护 B. 设置宣政院 C. 设置驻藏大臣 D. 设置伊犁将军

(2010·福建宁德) 5. 统一是中华文明史的重要特征之一。为维护国家统一，清朝在新疆地区采取的重要措施是（ ） C

A. 设立西域都护 B. 设置驻藏大臣  
C. 平定大小和卓叛乱 D. 派遣郑成功收复台湾

## 第20课 明清经济的发展与“闭关锁国”

(2010·江苏南京) 7. 清政府规定：“外国商船只准在广州一口通商贸易；对中国出海的商民限制返回，如逾期不归则不准回国。该规定说明清朝（ ） B

A. 禁止对外贸易 B. 实行闭关锁国  
C. 加强思想控制 D. 鼓励商业发展



## 第22课 时代特点鲜明的明清文化（二）

(2010·重庆) 6. 同学们耳熟能详的唐僧取经、孙悟空智降妖怪等故事出自于我国古代一部浪漫主义长篇神话小说。这部小说是 ( ) C

A. 《三国演义》 B. 《水浒传》 C. 《西游记》 D. 《红楼梦》

(2010·重庆綦江) 4. 正在热播的电视连续剧《三国》是根据历史小说《三国演义》改编的，《三国演义》的作者是 ( ) A

A. 罗贯中 B. 曹雪芹 C. 施耐庵 D. 吴承恩

(2010·四川资阳) 18. 2010年5月由朝鲜国家级艺术团——血海歌剧团潜心50载创作的大型歌舞剧《红楼梦》登陆北京电视台大剧院，就此开始该剧在中国为期一个月的巡回演出。血海歌剧团之所以选择《红楼梦》创作大型歌舞剧，主要是因为这部小说 ( ) C

A. 情节曲折离奇 B. 反映了中韩友谊  
C. 具有高度的思想性和艺术性 D. 是中国最早的小说

(2010·福建三明) 5. 某校文学长廊中悬挂着以下一组图片，他们取材于 ( ) A



舌战群儒 蒋干盗书 单刀赴会 挥泪斩马谡

A. 《三国演义》 B. 《西游记》 C. 《水浒传》 D. 《红楼梦》

(2010·江苏无锡) 5. 在尚未普及电视和电影的二十世纪七八十年代，拥有一本精美的连环画是很多孩子的梦想，很多人就是在童年时通过连环画来阅读名著的。试试你的眼力看看下面哪一组搭配是错误的？ ( ) C



A. 大闹天宫——《西游记》



B. 三顾茅庐——《三国演义》

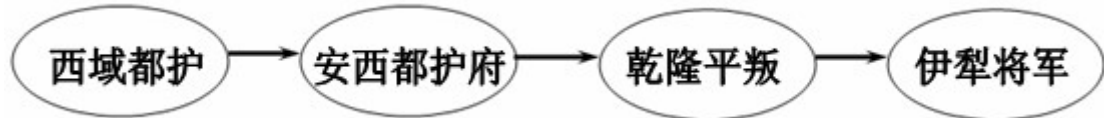


C. 黛玉葬花——《西厢记》

D. 武松打虎——《水浒传》

## 单元综合

(2010·安徽) 3. 我国历史重视对边疆地区的有效管辖。依据下列管辖措施判断该边疆地区应是 ( ) D



A. 台湾                      B. 东北                      C. 西藏                      D. 新疆

(2010·浙江湖州) 17. 下列有关中国古代朝代兴替呈现正确的是 ( ) B

①夏→商                      ②秦→汉                      ③元→宋                      ④隋→唐

A. ①②③                      B. ①②④                      C. ①③④                      D. ②③④

(2010·浙江湖州) 自古以来新疆就是中国统一的多民族国家不可分割的组成部分。据此回答 20~21 题。

20. 在汉代,人们把玉门关、阳关以西,包括今天新疆以及更远的地区称为西域。下列属于中国古代政府加强对今天新疆地区管理的举措有 ( ) C

①西汉政府设立“西域都护府”                      ②汉武帝平定准噶尔贵族叛乱  
③清政府在该地区实施改土归流                      ④清朝平定天山南路的回部贵族叛乱

A. ①③                      B. ②③                      C. ①④                      D. ②④

(2010·江苏苏州) 3. 英国作家培根说:“这三种东西,改变了世界面貌。第一种在文学上,第二种在战争上,第三种在航海上,由此引起了无数的变化。这种变化如此之大,以致没有一个帝国、一个宗教派别、一个赫赫有名的人物能比这三种发明在人类的事业中产生更大的力量和影响。”他说的“这三种东西”不包括 ( ) A

A. “麻沸散”                      B. 印刷术                      C. 火药                      D. 指南针

(2010·江苏苏州) 4. 搜集和整理历史资料,从中提取有效信息是学习历史的重要方法。刘明同学从图书馆借来了《康雍乾三朝实录》、《论军机处与极权政治》、《“文字狱”的研究》等书,准备写一篇历史小论文,下列论文题目最符合他想法的是 ( ) D

A. 浅议“焚书坑儒”                      B. 叙说清朝的对外交往  
C. 简论“闭关锁国”                      D. 略谈清朝的君主专制

(2010·广东东莞) 6. 毛泽东有诗云:“劝君少骂秦始皇……百代犹行秦法政。”“秦法政”不包括 ( ) A

A. 分封制                      B. 中央集权制                      C. 郡县制                      D. 皇帝制

(2010·广东东莞) 10. 从明太祖朱元璋废除宰相到清雍正帝设置军机处,所反映出的历史发展趋势是 ( ) D

A. 社会秩序动荡                      B. 边疆防御巩固                      C. 军政实现合一                      D. 皇权高度膨胀

(2010·湖南邵阳) 5. 下列选项中,不符合史实的是 ( ) B

A. 战国时期修建的都江堰,至今仍发挥着巨大的作用  
B. 汉朝时,我国就有了纸币——交子  
C. 北方人民多次大规模的南迁,极大地推动了我国古代经济重心的南移  
D. 我国古代统治者大多强调以农为本,推行重农抑商政策

(2010·山东威海) 6. 假如你能够穿越时空隧道,来到唐朝,不可能经历到的事情是 ( )

) D

- A. 到赵州桥上散步      B. 阅读《金刚经》
- C. 看阎立本作画      D. 到东京城内的“勾栏”看演出

(2010·山东威海) 10. 下列我国古代科技著作中, 两项同属于一个领域的一组是 ( ) A

- A. 《伤寒杂病论》与《本草纲目》      B. 《天工开物》与《九章算术》
- C. 《齐民要术》与《水经注》      D. 《天工开物》与《水经注》

(2010·四川资阳) 16. 下列朝代与建立者的搭配, 正确的是 ( ) A

- A. 西汉——刘邦      B. 唐朝——李世民      C. 北宋——赵光义      D. 明朝——朱棣

(2010·山东滨州) 6. 当年明月的一部《明朝那些事儿》吸引了大批青少年读者。下列史实不可能出现在这部作品中的一项是 ( ) A

- A. 废分封立郡县      B. 设特务机构锦衣卫      C. 郑和下西洋      D. 戚继光抗倭

(2010·山东滨州) 7. 自古以来, 西藏就是中国领土不可分割的一部分, 下列史实能够有力证明的是 ( ) C

- ① 唐蕃和亲, 和同为一家
- ② 元朝时把西藏置于中央政府管辖之下
- ③ 清朝修建承德避暑山庄
- ④ 清政府设置驻藏大臣, 代表中央政府与达赖、班禅共管西藏事务

- A. ①②③④      B. ②③④      C. ①②④      D. ③④

(2010·江苏连云港) 31. 右表反映了我国中央政府有效管辖的地区是 ( ) C

朝代	相关史实
元朝	设宣政院
清朝	册封达赖、班禅
	设置……

- A. 台湾      B. 新疆      C. 西藏      D. 海南

(2010·湖南长沙) 3. 下列哪几项措施有利于我国古代封建专制主义中央集权的加强? ( ) B

- ① 西周行分封制      ② 汉武帝“罢黜百家, 独尊儒术”
  - ③ 明朝设厂卫特务机构      ④ 清朝设军机处
- A. ①②③④      B. ②③④      C. ①③④      D. ①②

(2010·河南) 1. 安阳历史悠久, 文化遗存丰富。关于下列图片的表述, 不正确的一项是 ( ) A



图一 司母戊鼎



图二 甲骨文

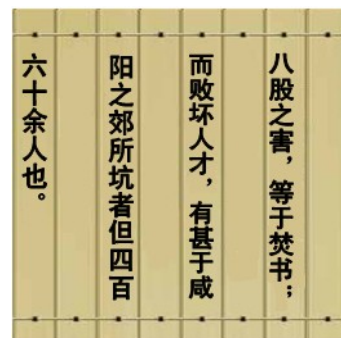


图三 殷墟宫殿复原图

- A. 图一反映了商朝的冶铁业十分发达      B. 图二说明商朝已有了比较成熟的文字
- C. 图三表明安阳曾经是商朝统治的中心      D. 上述三幅图支持安阳是我国著名古都的景点

(2010·山东济宁) 15. 右边是明末清初思想家顾炎武对八股取士的评价。你认为八股取士与焚书坑儒的相同之处是 ( ) D

- ① 为了加强思想统治      ② 强化了中央集权统治
  - ③ 有利于文化的发展      ④ 摧残了文化控制了思想
- A. ①②③      B. ①③④
  - C. ②③④      D. ①②④



(2010·山东济宁) 12. 下列事件不是发生在三国时期的是 ( ) A

- ①官渡之战 ②赤壁之战 ③淝水之战  
④刘备称帝 ⑤孝文帝改革 ⑥三顾茅庐  
A. ①②③⑤⑥ B. ①②④⑤⑥ C. ①②③④⑤ D. ①③④⑤⑥

(2010·山东济宁) 14. 纵观中华民族五千年历史, 民族团结、民族友好是我国历史发展的主流。下列事件反映这一主题的是 ( ) C

- ①郑和下西洋 ②文成公主和金城公主入藏  
③鉴真和尚东渡日本 ④清朝设驻藏大臣, 协同达赖、班禅共同管理西藏事务  
A. ①④ B. ②③ C. ②④ D. ③④

(2010·福建龙岩2) 7. 下列搭配错误的是 ( ) B

- A. 西汉——张骞通西域 B. 宋朝——回族形成  
C. 清朝——册封达赖、班禅 D. 新中国——民族区域自治制度

(2010·新疆乌鲁木齐) 3. 从西汉开始新疆就成为祖国领土不可分割的一部分。下列对新疆历史上几个重大事件的表述, 不正确的是 ( ) C

- A. 公元前 60 年, 西汉政府任命郑吉为西域都护  
B. 《高昌乐》通过丝绸之路从西域传入中原地区  
C. 1759 年, 清朝平定大小和卓叛乱, 统一了天山北路  
D. 1771 年, 土尔扈特部在首领渥巴锡的率领下, 不远万里回归祖国

(2010·福建三明) 3. 图片是历史学习的重要资料, 小丽在自主学习中搜集到以下一组图片, 她要为这组图片拟定一个共同的标题。最恰当的应是 ( ) C



张骞通西域



鉴真东渡

玄奘西游

郑和下西洋



- A. 祖国统一 B. 民族团结 C. 中外交往 D. 抵抗侵略

(2010·广东深圳) 22. 据报道, “南澳 1 号”沉船打捞工作正在紧张进行。大量的青花瓷和各种铜器、铁器及铜器等被打捞出水, 显示了这艘 400 年前的古沉船巨大的历史、文化价值。据此可知, 这艘沉船所属的朝代应是 ( ) C

- A. 宋朝 B. 元朝 C. 明朝 D. 清朝

(2010·湖北孝感) 16. 君臣礼仪是中国古代政治制度发展的外在表现。图 1 到图 3 的变化反映的实质是 ( ) D



图1 (汉) 坐而论道 图2 (宋) 站议时政 图3 (清) 跪受笔录

- A. 封建制度的完善                      B. 生活习惯的变化  
C. 社会文明的进步                      D. 君主权力的强化

(2010·江苏宿迁) 22. 一学习小组开展以“明清时期反抗外来侵略”为主题的历史探究活动, 其收集的资料中不恰当的是 ( ) **B**

- A. 戚继光抗倭    B. 岳飞抗金    C. 郑成功收复台湾    D. 雅克萨之战

(2010·江苏盐城) 5. 小明以“繁荣与开放的唐朝”为主题进行探究, 下列他整理的内容中不符合史实的是 ( ) **A**

- A. 已使用世界上最早的纸币“交子”    B. 唐太宗时出现“贞观之治”局面  
C. 唐玄宗时出现“开元盛世”局面    D. 都城长安是国际性的大都市

(2010·江苏盐城) 6. 右图是 20 世纪 20 年代被美国人华尔纳从敦煌莫高窟盗走的珍贵文物, 它体现了高超的雕塑技艺与宗教文化的完美结合。这里的“宗教”是指 ( ) **D**

- A. 道教    B. 基督教    C. 伊斯兰教    D. 佛教



(2010·山东泰安) 5. 假如你穿越时空隧道, 回到唐朝, 作为一名朝廷重要官员, 不可能经历的事情是 ( ) **D**

- A. 从长安去洛阳乘船, 经大运河到江南余杭体察民情  
B. 上朝时, 见到魏征向太宗皇帝进谏  
C. 和太宗皇帝一齐讨论合并州县的事宜  
D. 经常诵读苏东坡写的词

(2010·山东泰安) 7. 某校历史兴趣小组准备以“古代封建统治者加强思想控制的措施”为主题办一期黑板报, 同学们纷纷投稿。其中无法通过小组长审核的是 ( ) **C**

- A. 漫话“焚书坑儒”                      B. 汉武帝与“罢黜百家, 独尊儒术”  
C. 张骞与丝绸之路                      D. 清朝“文字狱”之我见

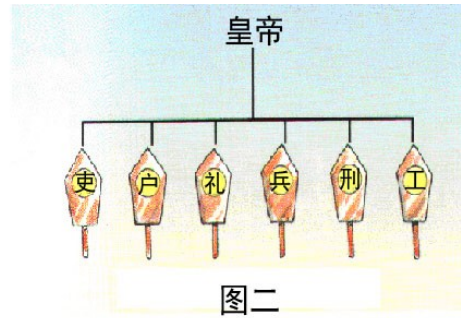
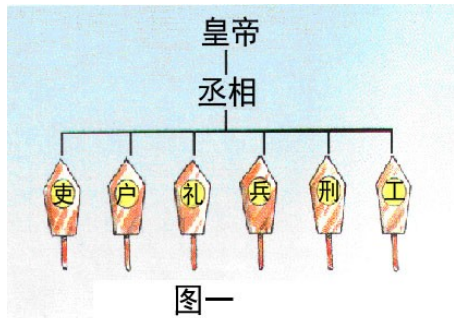
(2010·湖南湘潭) 3. 2009 年, 青年历史学者袁腾飞在央视《百家讲坛》节目中主讲《两宋风云》。下列有关两宋历史说法不正确的一项是 ( ) **C**

- A. 北宋与契丹族建立的辽和党项族建立的西夏并立  
B. 两宋时期, 我国经济重心从黄河流域转移到长江流域  
C. 北宋史学家司马光主编的《资治通鉴》是我国第一部纪传体通史  
D. 北宋大画家张择端的《清明上河图》是风俗画的代表作

(2010·江苏淮安) 15. 秦朝实行“焚书坑儒”, 明朝实行“八股取士”, 清朝大兴“文字狱”的共同目的是 ( ) **A**

- A. 加强思想控制    B. 大力发展传统文化  
C. 鼓励读书人参政议政                                      D. 选拔听命于皇帝的官吏

(2010·江苏徐州) 1. 如右图所示, 从图一到图二政治制度的变革发生在 ( ) **D**




A. 秦朝    B. 汉朝    C. 唐朝    D. 明朝

(2010·福建漳州) 7. 按出现时间先后排列下列货币 ( ) **D**



① 交子



② 开元通宝



③ 半两钱



④ 康熙通宝

A. ①②④③    B. ①②③④    C. ②③①④    D. ③②①④

(2010·江苏常州) 15. 正确区分历史史实与历史观点, 是学习历史的重要方法。下列表述属于历史史实的是 ( ) **B**

A. 炎帝是中华原始农业的创始人    B. 孔子主张“有教无类”  
C. “丝绸之路”有利于东西方经济文化的交流    D. 科举制度是扼杀人性的罪恶制度

(2010·湖南永州) 3. 非物质文化遗产又称无形文化遗产, 主要指人类以口头或动作方式相传, 具有民族历史积淀和广泛、突出代表性的民间文化遗产, 他曾被誉称为历史文化的“活化石”, “民族记忆的背影”。它包括民间传说、习俗、语言、音乐、舞蹈、礼仪、庆典、烹调以及传统医药等。下列属于非物质文化遗产的是 ( ) **D**

A. 秦始皇陵兵马俑    B. 杜甫草堂    C. 北京故宫    D. 端午节

(2010·湖南永州) 4. 指南针、《本草纲目》和《天工开物》等科技成果都 ( ) **A**

A. 服务于人们的日常生活    B. 属于医学研究领域  
C. 反映了明朝的科技水平    D. 促进北宋商业发展

(2010·湖南永州) 7. 穿越时空隧道, 如果你来到南宋都城临安 (今杭州), 不可能着到的现象是 ( ) **D**

A. 早市、夜市“买卖昼夜不绝”    B. 老百姓吃的是占城稻大米饭  
C. 市场上流通着铜钱和纸币    D. 外国使团乘坐郑和船队来临安

(2010·湖南永州) 8. 下列古代工程的修建有利于农业发展的是 ( ) **A**

A. 都江堰    B. 大明宫含元殿    C. 紫禁城    D. 明长城

(2010·广西贵港) 8. 下列历史事件叙述错误的是 ( ) **B**

A. 1616年努尔哈赤统一女真, 建立金国  
B. 1636年皇太极在上京称帝, 改国号为清  
C. 康熙帝册封了喇嘛教首领五世班禅  
D. 清朝设置乌里雅苏台将军管理北部边疆

(2010·山东菏泽) 4. “国家统一, 民族融合”是中国历史发展的主流, 有关这一主题下列说

法不正确的是 ( ) C

- A. 唐太宗把文成公主嫁给吐着赞普松赞干布
- B. 元朝时我国形成一个新的民族“回族”
- C. 明朝设驻藏大臣加强对西藏的有效管辖
- D. 清朝平定大小和卓叛乱巩固对新疆地区的统治

(2010·广东梅州) 4. 学习隋唐史后,你认为能准确地概括这段历史的基本特征的是 ( ) B

- A. 文明初露曙光
- B. 繁荣与开放
- C. 由分裂走向统一
- D. 封建国家陷入危机

(2010·湖南娄底) 5. 学习宋元历史后,某班四位同学作了如下主题演讲,你认为能准确概括这段历史的基本特征的是 ( ) D

- A. 国家产生和社会变革
- B. 政权分立和民族融合
- C. 繁荣与开放的社会
- D. 经济重心的南移和民族关系的发展

## 填空题

(2010·山东聊城) 35. 李冰主持修筑的\_\_\_\_\_是闻名世界的防洪灌溉工程;李春主持建造的是世界现存最古老的石拱桥。

35. 都江堰;赵州桥;

(2010·山东聊城) 36. 我国现存的第一部完整的农业科学著作是《\_\_\_\_\_》;被誉为“中国17世纪的工艺百科全书”的是《\_\_\_\_\_》。

36. 齐民要术;天工开物;

(2010·江苏苏州) 27. 西汉时期开通的“\_\_\_\_\_”成为沟通中西交通的陆上要道;明朝前期的\_\_\_\_\_，加强了同海外各国的联系，架起了中外友好交往的海上桥梁。

27. 丝绸之路;郑和下西洋。

(2010·山东济宁) 1. 2010年5月17日~19日,中共中央、国务院在北京召开新疆工作座谈会,这充分体现了党和国家对新疆地区的重视,必将对新疆的全面发展产生深远影响。然而,少数“疆独”分子却一再挑起事端(如右图),企图破坏民族团结,制造国家分裂。他们的这些行径遭到全国和全世界爱好和平人民的一致谴责。新疆自古就是中国的领土,公元前60年,西汉政府设立\_\_\_\_\_,从此,巴尔喀什湖以东、以南地区,包括今新疆地区在内,开始隶属中央政府的管辖,成为我国不可分割的一部分。唐朝时期,新疆维吾尔族祖先回纥与唐政府关系友好,\_\_\_\_\_封其首领为怀仁可汗。清朝乾隆年间,新疆回部大小和卓兄弟叛乱,清军经过两年战斗平定叛乱,之后清政府设置\_\_\_\_\_,管辖包括巴尔喀什湖在内的整个新疆地区。鸦片战争以后,新疆地区曾遭到英、俄等国的侵略,面临危机,清政府派遣为钦差大臣收复新疆。1884年,清政府在新疆设立行省,加强了对新疆的统治。新中国成立后,党和政府在新疆等少数民族聚居的地方实行\_\_\_\_\_,少数民族地区的政治经济得到迅速发展。



2009年热比娅等“疆独”分子制造的“7·5事件”现场

1. 西域都护;唐玄宗;伊犁将军;左宗棠;民族区域自治。

(2010·山东济宁) 2. 公元前221年,秦王\_\_\_\_\_完成统一,建立起我国历史上第一个统一

的多民族的中央集权国家。\_\_\_\_\_年，朱元璋在应天称帝，建立明朝，年号洪武。1636年，皇太极改国号为清，建立清朝。1644年，顺治帝迁都\_\_\_\_\_，逐步建立起在全国的统治。

2. 嬴政；1368年；北京。

(2010·四川内江) 1. 战国后期，秦国蜀守\_\_\_\_\_在成都附近的岷江上游，修建了卓越的水利都江堰。秦朝初年，为防御匈奴，修筑了西起\_\_\_\_\_，东到辽东，全长万余里的雄伟长城。

1. 李冰；临洮；

(2010·四川内江) 2. 明清统治者为加强思想控制，大兴\_\_\_\_\_。清朝雍正时，为了军事上需要，在宫中设立了\_\_\_\_\_。协助皇帝处理军务，后来成为皇帝专权的重要工具。

2. 文字狱；军机处；

(2010·江苏无锡) 28. 我国是一个多民族国家，北魏\_\_\_\_\_改革，促进了北方民族大融合；元朝时，形成了一个新的民族——\_\_\_\_\_。

28. 孝文帝，回族。

## 改错题

(2010·安徽) 14. 制度创新是人类社会发展的动力。

【 】 (1) 科举制是隋朝开创的用推荐的办法选拔人才的制度。

改正：

【×】 (1) 推荐改为考试

(2010·安徽芜湖) 12. 判断下列历史叙述的正误，正确的在题前的【 】内打“√”，错误的在题前【 】内打“×”。(6分)

【 】 (1) 宋代中国的“现代化”程度令人吃惊，出现了当时世界上最早的纸币，造船技术也很先进，娱乐场所还出现了京剧表演等。(1) 【×】；

(2010·福建福州) 21. 武则天开创了‘贞观之治’的局面，唐玄宗统治前期被誉为“开元盛世”。

A

B

21. 错误：A (武则天)；改正：唐太宗；

(2010·江苏苏州) 21. 京杭大运河被申报为世界文化遗产。隋朝大运河共四段，其中流经今苏州境内的一段属于江南河。21. A

(2010·福建龙岩) 21. 司马迁的《史记》是我国第一部编年体通史。

21. 错误：编年体；正确：纪传体；

(2010·福建莆田) 21. 《史记》是北宋史学家司马光主持编写的一部编年体通史。

21. 把《史记》改为《资治通鉴》

(2010·福建三明) 21. 战国时期制成的“司南”，是世界上最早的指南仪器。南宋时制成指南针，并开始用于航海事业。

错误：\_\_\_\_\_ 订正：\_\_\_\_\_

21. 错误：南宋 订正：北宋；

(2010·湖南湘潭) 21. 秦始皇“焚书坑儒”和汉武帝“罢黜百家，独尊儒术”都促进了思想文化的繁荣。21. ×；

(2010·湖南湘潭) 22. 唐太宗开明的民族政策受到北方各族的拥护，被尊为“天可汗”。

22. √；

(2010·内蒙古呼和浩特) 17. 指南针、造纸术、印刷术和火药，是我国古代人民的“四大发明”，其中发明最早的是指南针。( ) 17. ×；

(2010·江苏无锡) 33. 2009年是孔子诞辰2560周年。大型电视连续剧《孔子》和百集动漫《孔子》在此之际连续播放，盛况空前的孔子文化节在孔子的故乡山东曲阜隆重举行，2010年又上映《孔子》电影。孔子是儒家学说的创始人，他主张以爱人之心调解、和谐社会人际关系，他的主要言论记载在《春秋》一书中。以后，为了加强统治，秦始皇推行“罢黜百家，独尊儒术”，使儒家学说成为封建社会的正统思想。

33. 《春秋》改为《论语》；秦始皇改为汉武帝。

(2010·福建宁德) 25. 某班历史课堂上，正在进行一场关于“闭关锁国政策”的探究性学习讨论，小历和小史分别代表本组发表看法(如下图)。你认为谁的观点是错误的？请说明理由。



错误：

理由：

25. 错误：小史的观点。(1分) 理由：答案一：①闭关锁国政策虽然对西方殖民者的侵略活动，起过一定的防御作用。(1分) ②但它主要给中国社会带来了严重的恶果：造成了与世隔绝，既看不到世界形势的变化，也未能适时地向西方学习先进的科学知识和生产技术，(1分) 使中国在这个世界上逐渐落伍(或近代西方列强发动了一系列侵华战争，国门洞开)。(2分) 答案二：①闭关锁国政策有防御西方殖民势力的一面。(1分) ②但它同时给中国社会带来了严重的恶果：限制了我国对外贸易和航海事业的发展，阻碍了中外文化交流，(1分) 不能从根本上抵挡殖民势力的侵略，反而进一步导致闭塞、停滞、倒退，使中国更加远离世界发展的潮流(或近代西方列强发动了一系列侵华战争，国门洞开)。(2分)

(2010·福建漳州) 23. 元朝建立后，成吉思汗开始推行行省制度。

23. 成吉思汗改为忽必烈

(2010·湖南永州) 25. 屈原和贾谊是湖湘文化的开启者。( ) 25. ✓

(2010·湖南永州) 26. 周敦颐开理学之先河，成为理学的创始人。( ) 26. ✓

(2010·湖南永州) 27. “闭关锁国”政策有利于清政府独立自主地发展民族经济。( ) 27. ✗

(2010·湖南株洲) 21. 商鞅变法为以后秦兼并六国、统一中国打下坚实基础。✓

(2010·湖南株洲) 22. 科举制度在唐朝正式形成，清朝末年废除。✗

(2010·湖南株洲) 23. 代表明清小说最高成就，思想性和艺术性结合得相当完美的小说是《水浒传》。✗

(2010·湖南娄底) 21. 孔子创立了儒家学说，对中国文化影响深远。✓

(2010·湖南娄底) 22. 科举制开始于隋朝，废止于清朝。✓

(2010·湖南娄底) 26. 右图是彭头山遗址出土的珍贵文物四羊方尊。✗



## 列举题

(2010·安徽) 11. 安徽, 历史悠久人杰地灵, 科学文化大放异彩。

(1) 中国讽刺小说《儒林外史》的作者是\_\_\_\_\_。(1) 吴敬梓;

(2010·安徽) 13. 人类社会的经济活动是一个从分散走向整体的过程。

(1) 汉朝时, 从长安经河西走廊、今新疆地区通往中亚、西亚和欧洲的商业交通要道是\_\_\_\_\_。(1) 丝绸之路;

(2010·安徽芜湖) 11. 成语是我国语言文化的精华, 很多成语都来源与历史故事。请将以下成语与相关的历史故事用线连起来。(5分)

卧薪尝胆	城濮之战
破釜沉舟	巨鹿之战
退避三舍	吴越争霸
项庄舞剑, 意在沛公	淝水之战
风声鹤唳, 草木皆兵	鸿门宴

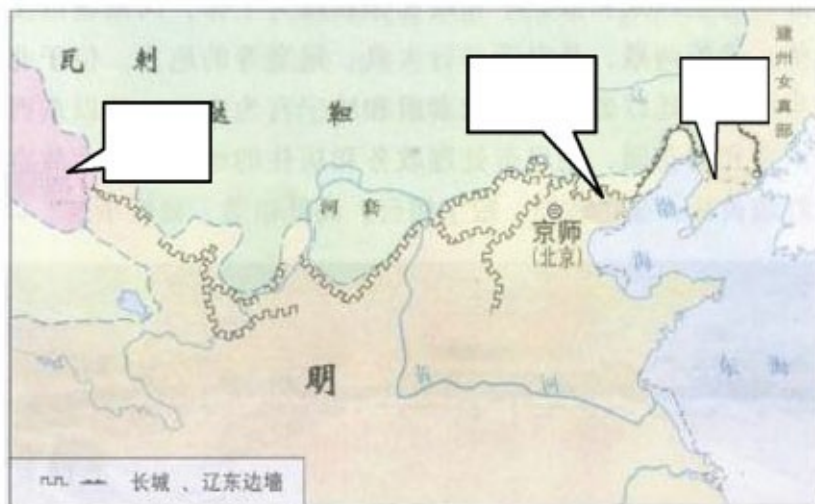
11. 卧薪尝胆——吴越争霸; 破釜沉舟——巨鹿之战; 退避三舍——城濮之战; 项庄舞剑, 意在沛公——鸿门宴; 风声鹤唳, 草木皆兵——淝水之战。

## 读图简答题

(2010·重庆綦江) 17. 观察下图, 请将下列地名的英文字母代号填入图中相应的方框内。

(3分)

A. 山海关 B. 嘉峪关 C. 九连城



17. 从左到右中的方框内分别为B、A、C; (3分)

(2010·江苏南京) 31. (8分) 上海世博会把《清明上河图》制作成多媒体长卷, 用北宋繁华的都市风貌, 辉映其“城市, 让生活更美好”的主题。结合所学知识, 请回答:



- (1) 《清明上河图》是北宋哪位画家的不朽作品？（1分）描绘了哪一城市的繁荣景象？（1分）
- (2) 当时该城内有许多娱乐兼营商业的场所，称为什么？（1分）有很多供来往客人住宿的地方，叫做什么？（1分）达官贵人出行乘坐哪一种交通工具？（1分）
- (3) 北宋时，四川地区出现的世界上最早的纸币是什么？（1分）政府在广州等主要港口设立什么机构管理海外贸易？（1分）
- (4) 结合上述问题，谈谈你对北宋城市经济生活的认识。（1分）

31. (8分) (1) 张择端 (1分) ; 东京 (开封) (1分) ; (2) 瓦子 (1分) ; 邸店 (1分) ; 轿子 (1分) ; (3) 交子 (1分) ; 市舶司 (1分) ; (4) 商品经济繁荣; 市民生活丰富多彩 (任答一点, 其它答案言之有理亦可得分) (1分)。

(2010·山东东营) 26. (10分) 阅读材料, 结合所学知识回答问题。

材料一



- (1) 上图反映了汉武帝时期哪一重大历史事件？（2分）

材料二 唐太宗说：“自古皆贵中华，贱夷狄，朕独爱之如一。”

- (2) 材料二体现了唐太宗怎样的民族政策？（2分）试举一例说明。（2分）
- (3) 结合材料一、材料二，指出唐太宗与汉武帝在处理民族关系方式上的主要不同之处。（4分）

26. (1) 汉武帝派卫青、霍去病北击匈奴 (2分) ; (2) 平等、开明的民族政策。 (2分) 把文成公主嫁给松赞干布, 唐番“合同为一家”。 (2分) (3) 汉武帝以战争征服为主; 唐太宗以安抚 (收服民心、和好) 为主。 (4分)

(2010·湖南长沙) 17. 观察下列两图, 根据图片及所学知识回答问题:



图一 秦朝疆域图




图二 明长城

请回答：

- (1) 图一中秦的统一是由谁完成的？哪次改革为秦的统一奠定了基础？(3分)
- (2) 图一和图二中长城的修建分别是为了抵御哪一少数民族的进攻？依据图二指出明长城的起止点。(4分)
- (3) 秦长城和明长城的修建都是为了抵御少数民族的进攻，有人由此认为中国古代民族关系的主流是战争与冲突。你认为中国古代民族关系的主流是什么？举一例并加以说明。(4分)

17. (1) 嬴政(秦始皇)；商鞅变法； (2) 匈奴；蒙古；东起鸭绿江，西至嘉峪关。(3) 主流：和平与友好往来；唐太宗时文成公主入藏，密切了唐蕃经济文化交流，增进了汉藏之间的友好关系。(言之有理即可)。

(2010·河南) 21. (5分) 南水北调工程从提出、论证到勘探，历经数十年，中线工程河南段终于2009年全面开工。这是一项规模浩大的民生工程，建成后将有效缓解京津地区用水紧张局面。我国古代也修建了大量水利过程，泽被后世，但对当时的政权却产生了不同的影响。读图，回答下列问题。



图一 都江堰



图二 隋朝大运河

请回答：

- (1) 简述图一、图二工程的主要功能。(2分)
- (2) 两大工程分别对当时的政权产生了什么影响？(2分)
- (3) 结合上述材料，分析国家在建设大型公共工程时应注意什么？(1分)

21. (5分) 图一：防洪灌溉；(1分) 图二：运输；(沟通南北交通或南粮北运也可，1分) (2) 都江堰的修建，促进了秦国经济的发展，为秦的统一奠定了基础。(只要答对秦国的积极影响即可，1分) 为修建大运河，隋炀帝过度役使人民，遭到人民的反抗，加速了隋朝的灭亡。(意思相近即可，1分) (3) 要从国情出发；要经过充分、科学的论证；

要以改善民生、促进社会发展为目的。（一条即可，其他符合题意也可，1分）

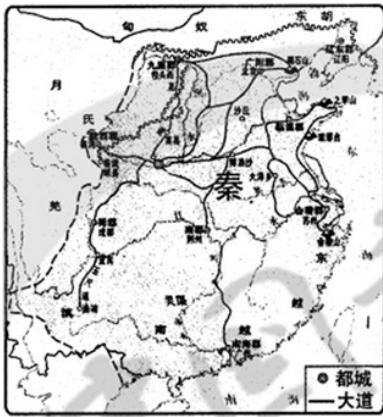
（2010·陕西）19．（8分）阅读下列材料，回答问题。

材料一 “（秦始皇）为弛道于天下，东穷燕、齐，南极吴、楚，江湖之上，濒海之现毕至。道广五十步，三丈而树，厚筑其外，隐以金椎，树以青松。”

——《汉书·贾邹枚路传》

材料二

材料三



秦朝疆域及交通图



唐朝中外交通图

请回答：

（1）读图填空：秦朝定都\_\_\_\_，唐朝定都长安，时间相隔\_\_\_\_年。（2分）

（2）选做题：以下两个小题，请任选一个作答。（如果两个都答，按第①小题计分）

①依据材料一、二，结合所学知识，说明秦朝在交通发展方面的突出贡献，并分析其积极作用。（4分）

②依据材料三，结合所学知识，概括唐朝交通发展方面的主要特点，并分析其原因。（4分）

（3）综合上述内容，对你有何启示？（2分）

19．（1）咸阳；838；（2）①贡献：车同轨；修灵渠；形成以咸阳为中心四通八达的道路网。（答出一点即得2分）作用：有利于经济、文化交流和统一；有利于维护国家的统一。（符合题意，答出一点即得2分）②特点：陆路、水路、海路交通发达；形成了几个交通中心。（2分）原因：国家统一；经济繁荣、文化灿烂；民族交往密切；实行对外开放，长安成为当时的国际大都会等。（符合题意，言之有理，答出两点即得2分）（3）启示：国家统一是交通事业发展的前提；要推动社会经济发展、密切中国与世界的联系，就必须大力发展交通事业；古代中国具有开放的胸襟，领先于世界。（观点正确，言之有理，答出一点即得2分）

（2010·广东梅州）13．（2分）发达的中国古代手工业



图A



图B

（1）图A是商代铸造的青铜器\_\_\_\_，它造型精美，古朴厚重，铸造过程需要二三百人同时协作完成，它的铸成充分反映了商代工匠的聪明才智。

(2) 图 B 是明朝末年著名的科学家\_\_\_\_\_，他的著作《天工开物》，被誉为“中国 17 世纪的工艺百科全书”。

13. (1)司母戊鼎 (1分) ; (2) 宋应星 (1分) 。

## 材料分析题

(2010·山东聊城) 40. 阅读下列材料：

【宣德六年(1431年)某人自述】自永乐三年(1405年)奉使西洋，迄今七次，所历番国…大小凡三十余国，涉沧溟十万余里。……由是海道清宁，番人仰赖者，皆神之赐也。

——摘编《中国古代史资料选集》

请回答：

(1) “某人”自述的是中国历史上哪一重大事件？(1分)这一事件的突出特点有哪些？(2分)

(2) 结合所学知识，评价“某人”的历史地位和所述事件的历史意义。(3分)

40. (1) 事件：郑和下西洋；(1分)特点：规模大；历时长；次数多；航程远；到达国家多。(2分。每点1分，答出其中两点即得满分。)(2) 地位：郑和是我国也是世界历史上伟大的航海家(或伟大的航海家、或世界航海活动的先驱)。(1分)意义：郑和下西洋促进了中国和亚非国家的经济交流；加强了中国和亚非国家的友好关系。(每点1分，共2分)

(2010·浙江义乌) 22. 阅读材料，结合所学知识回答：(9分)

义乌位于浙江中部，目前实有人口180多万，以汉族为主，有回、苗、壮等23个少数民族。秦王政二十五年(前222年)置乌伤县，属会稽郡。唐武德四年于乌伤置稠州，六年分设乌孝、华川两县，七年(624年)废稠州，合两县称义乌县。1988年5月撤县设市。

请回答：

(1) 在秦王政设乌伤县前，义乌实行的是什么行政管理制度？(1分)

(2) 唐武德七年(624年)设“义乌县”，三年后的义乌人迎来了一个历史上著名的封建“治世”，这一“治世”的名称是什么？(1分)它主要表现在哪些方面？(2分)


(3) 义乌撤县设市时中国最鲜明的时代特点是什么？(2分)

(4) 开放的义乌吸引了大量少数民族群众，作为义乌人，在日常交往中应如何维护民族团结

22. (1) 分封制 (1分) ; 圆形方孔钱 (1分) ; (2) 贞观之治 (1分) ; 政治比较清明，经济得到恢复与发展，民族关系融洽，社会安定，国力增强。(从不同角度写出两点即给2分，共2分) ; (3) 改革开放 (2分) (只写改革或对外开放给1分) ; (4) 尊重各民族的宗教信仰、风俗习惯、语言文字 (写出两点即给2分，共2分。答出其它符合题意的要点，也可酌情给分)

(2010·重庆綦江) 19. 阅读下列材料：

材料一



图一



图二



图三

材料二 “……这是预兆资产阶级社会到来的三大发明。……把骑士阶层炸得粉碎，……打开了世界市场并建立了殖民地，……却变为新教的工具，并且一般地说变为科学复兴的手段，变成创新精神发展的必要前提的最重要的推动力。”

——马克思

请回答：

(1) 材料一中的三幅图片分别代表了我国古代的哪三大发明？(3分)

图一：\_\_\_\_\_

图二：\_\_\_\_\_

图三：\_\_\_\_\_

(2) 根据材料二，并结合所学知识，概括指出这三大发明有何重大影响？(2分)

(3) 综合上述材料，谈谈你对科学技术的认识。(1分)

19. (1) 图一：活字印刷术(或印刷术)；图二：指南针；图三：火药(各1分，共3分)；(2) 预兆了资产阶级社会的到来；推动了科学的发展和创新；是我国为世界文化的发展作出的卓越贡献。(任意答两点即可)(2分) (3) 科学技术是第一生产力；科学技术是推动社会发展的动力等。(言之成理即可)(1分)

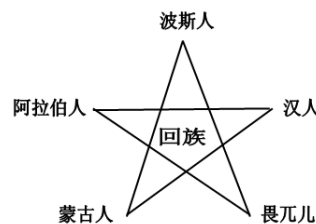
(2010·福建福州) 27. (10分) 阅读下列材料，回答问题：

材料一

材料二

材料三

鲜卑姓氏改为汉姓			
鲜卑姓	汉姓	鲜卑姓	汉姓
拓跋	元	贺赖	贺
丘穆陵	穆	独孤	刘
步六孤	陆	贺楼	楼



请回答：

(1) 材料一中姓氏改变与什么事件有关？(2分) 再举一例该事件中的措施。(2分)

(2) 材料二体现元朝哪一历史趋势？(2分) 当时还有哪些现象反映这种趋势？(举一例即可，2分)

(3) 材料三反映清朝土尔扈特部回归祖国的壮举，清政府对东归英雄们的态度如何？(2分)

27. (1) 北魏孝文帝改革；迁都洛阳、讲汉话、穿汉服、与汉人通婚、用汉制、学汉礼、尊崇孔子等。(回答一例即可) (2) 民族融合的趋势。汉族人开发边疆；边疆各族内迁，同汉族人杂居相处；进入黄河流域的契丹、女真等族，经过长期共同生活，已同汉族没有什么差别等。(回答一例即可) (3) 妥善安置。

(2010·江苏苏州) 30. 民族的强弱、国力的大小取决于人才的数量和质量。公开、公平地选拔人才是人们美好的愿望。阅读下列材料：

材料一 “虽有农与工肆之人，有能则举之，高予之爵，重予之禄，任之以事……故官无常贵，而民无终贱，有能则举之，无能则下之。”

——《墨子》

材料二 (唐太宗)尝私幸端门，见新进士缀行而出，喜曰：“天下英雄入吾彀中(原指箭射出去所能达到的范围，后用以比喻牢笼，圈套)矣。”……正所谓“太宗皇帝真长策，赚得英雄尽白头。”

——《唐摭言》

材料三 科举弊政乎，科举法之最善者也。古者世卿，《春秋》讥之。讥世卿，所以立科举也。世卿之弊，世家之子，不必读书，不必知学，虽呆愚淫佚，齐循例入政。则求读书

求学者必少，如是故上无才。齐民之裔，虽复读书，虽复知学，而格于品第，未从得官，则求读书求知学者亦少，如是故下无才。上下无才，国之大惠也。科举立，斯二弊革矣。

——梁启超《变法通议·论科举》

请回答：

(1) 根据材料一，墨子有关官员选拔的观点是什么？(1分)

(2) 材料二、三都涉及到历史上的什么选官制度？(1分) 试依据这两则材料并结合所学知识简述其影响。(2分)

(3) 概括指出上述选官制度的实质是什么？(1分) 并援引材料二中的某一句话加以印证。(1分)

30. (1) 不论贵贱，选贤用能(或尚贤)。(2) 科举制度。改善了用人制度；扩大了官吏来源；促进了教育事业的发展；推动了文学艺术的繁荣；选拔官吏的权力从地方集中到中央，加强了中央集权；打破了特权垄断，具有一定的公平公正的合理性。(3) 维护封建统治秩序；“天下英雄入吾彀中矣”。

(2010·山东临沂) 34. 阅读下面材料，结合所学知识，回答问题。(10分)

材料一 2010年开封市“大宋年文化节”新闻发布会，今天上午在郑州举行，为进一步弘扬优秀的传统文化，活跃春节期间广大群众的旅游生活，……中共开封市委，市政府……努力打造年文化品牌，……确定于2010年春节至正月十五期间，正式推出开封市“大宋年文化节”……届时将举办规模盛大，多姿多彩的宋文化民俗庙会、灯会、展演等系列活动。

——2010年2月9日豫台网讯

(1) 根据材料一，指出开封市“大宋年文化节”举办的目的和主要内容。(4分)

(2) 材料一中的“大宋”在定都开封期间，出现过哪些与之并立的少数民族政权？(2分)

材料二 北宋东京城内人口稠密，居民超过百万，是中国最大的城市，城里买卖和居住的地方已经分不清，随处可开设商店，……商品可以在白天、夜间交易，三鼓以后还可夜市，通晓不绝。

——大河网——河南日报

(3) 从材料二中可以看出，北宋东京的商业繁荣有哪些特点？(2分) 北宋大画家张择端在他的一幅美术作品中对东京的繁华景象进行了描绘，这幅著名的绘画作品是什么？(2分)

34. (1) 目的：弘扬传统文化，活跃群众生活，打造文化品牌。(2分) 内容：举办宋文化民俗庙会、灯会、展演等系列活动。(2分) (2) 辽、西夏、金。(2分，答出2个即可) (3) 特点：人口稠密；最大的都市；买卖区与居住区分不清，商品交易时间长等。(2分，答出2点即可，意思相近即可) 作品：《清明上河图》。(2分)

(2010·山东潍坊) 21. (16分) 在2000多年的漫长岁月里，长城犹如一条巨龙在中华大地上腾起，纵横万里。如今，长城已被列入《世界遗产名录》。阅读材料，回答问题。

材料一 秦朝“北筑长城而守藩篱，却匈奴七百余里。”……明长城“塞息五十年之烽燧，……(长城沿线)田野日辟，商贾日通，边民始知有生之乐。”

(1) 据材料一，概括长城的历史作用。(6分)

材料二 1935年4月，田汉、聂耳创作的《义勇军进行曲》：“起来！不愿做奴隶的人们！把我们的血肉筑成我们新的长城！”极大地鼓舞了人们的斗志。《义勇军进行曲》后来被定为中华人民共和国国歌。今天我们仍然高唱：“把我们的血肉筑成我们新的长城！”

(2) 材料二中两次“新的长城”分别有什么含义？(4分)

材料三 约公元前220年，一统天下的秦始皇，将修建于早些时候的一些断续的防御工事连成一个完整的防御系统；……在明代，又继续加以修筑，使长城成为世界上最长的军事设施。它在文化艺术上的价值，足以与其在历史和战略上的重要性相媲美。

(3) 据材料三，指出长城入选《世界遗产名录》的依据。(6分)

21. (16分) (1) 作用：抵御了少数民族入侵；保证了边疆地区和平；有利于沿线经济发展。(6分) (2) 含义：全民族团结抗战；中华民族团结一致，实现民族伟大复兴。(4分) (3) 依据：悠久的历史；世界上最长的军事设施；很高的文化、艺术价值。(6分)

(2010·山东潍坊) 22. (14分) 当西方社会跃上世界文明进程制高点的时候，中国却在封建社会的迟暮中步履蹒跚。阅读材料，回答问题。

材料一 1792年，英国派马戛尔尼使团前往中国。英方在信函中说，英王为了“增进两国之邦交，扩充两国人民之商业，……”两广总督向朝廷上呈的信函译文却称，英王命“马戛尔尼前来，带有贵重贡物进呈天朝大皇帝，以表其慕顺之心。”

(1) 据材料一概括指出，在陈述“使团”来华目的方面，两广总督上呈的信函译文与英方信函原文有何不同？(4分)

材料二 乾隆皇帝接见马戛尔尼使团后，在给英方的回信中说：“……尔国王恳请派一尔国之人住居天朝，照管尔国买卖，此则与天朝体制不合，断不可行。天朝德威无被，万国来朝，种种贵重之物，……无所不有。又据尔使臣称，欲求小海岛一处，以便商人停歇，收存货物。天朝尺土俱归版籍，……此事尤不便准行。”

(2) 据材料二，简要评价乾隆皇帝对英方要求的回应。(4分)

材料三 16世纪到18世纪期间，英国被称为“海盗国家”。一些殖民者组成的英国贸易公司通常由政府授予贸易特权，英国女王甚至授予大海盗德雷克以骑士称号。

(3) 材料三反映了什么现象？据此分析材料二中英方提出要求的原因。(6分)

22. (14分) (1) 不同：总督译文：来华朝贡；英方信函：扩大贸易。(4分) (2) 评价：盲目自大；维护了主权。(4分) (3) 现象：英国政府支持对外殖民扩张。(2分) 原因：英国积极对外进行殖民扩张；试图打开清廷大门，倾销商品。(4分)

(2010·江苏泰州) 21. 中华文明源远流长，绵延不绝，成就辉煌，对人类进步做出了伟大贡献。阅读有关材料，回答问题。(7分)

材料一 春秋战国时期，针对社会急剧的变化和发展，有识之士纷纷发表各自的看法和主张，逐渐形成儒家、法家、道家、墨家、兵家等许多学派，史称“诸子百家”。

(1) 材料一中，各个学派间相互争论和批判，又相互影响，形成了什么样的学术繁荣局面？其中儒家学说从哪一时期开始被确立为封建专制王朝的正统思想？(2分)

材料二 有西方学者认为“近代世界赖以建立的种种文明与发展可能有一半来源于中国”。尤其是公元1000年后的宋元时期的几项重大发明对促进世界文明的发展与进步作出了极其重要的贡献。

(2) 列举传入欧洲并对近代世界产生深刻影响的两项宋代科技成就。(2分)

材料三 清朝赵翼说：“李杜诗篇万口传，至今已觉不新鲜。江山代有才人出，各领风骚数百年。”

(3) 材料三中提及“李杜诗篇万口传”，其中被称为“诗圣”的诗人是谁？明清时期独领风骚的文学形式(体裁)是什么？(2分)

材料四 孔子学院在全球开设的速度，引发了世人包括中国人自己的惊奇。在不到两年的时间里，全球新增100多所孔子学院，覆盖了50多个国家和地区。“现在已经不是我们要推广，而是各国的大学争着要办，挡都挡不住。”

(4) 根据材料四并结合所学知识，简要回答：弘扬中华优秀传统文化有怎样的现实意义？(不超过20字)(1分)

21. (1) 百家争鸣；汉朝；(2) 印刷术；指南针；(3) 杜甫；小说；(4) 言之成理即可。

(2010·山东滨州) 25. 文物是历史文化的重要遗存，传达了远古的信息，探究关于文物的故事，会给我们许多启迪。

材料一



图一



图二

材料二 据不完全统计，在全球 47 个国家的 218 个博物馆中，中国文物就有 163 万余件，然而，该数目充其量中是世界所有私人收藏的十分之一。

2003 年 7 月，国宝工程启动仪式在北京举行，将广开国宝回归之路，进一步促成国宝的回归。2005 年，八国联军侵华时被作为战利品运到英国的塘沽大钟回归天津。

请回答：

(1) 材料一中图一属商代文物，是目前世界上已发现的最大的青铜器，请写出它的名称。

(2) 材料一中图二是哪一朝的壁画？出自何处？仔细观察这幅壁画，它向我们传达了哪些历史信息？

(3) 根据材料二分析，近代我国文物大量流失的原因是什么？从近代我国文物流失到当代追索文物回归，说明了什么问题？

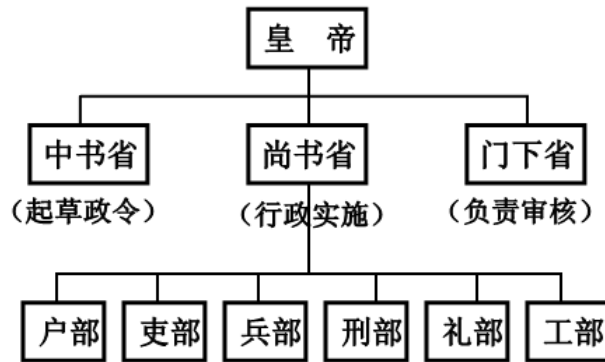
25. (1) 司母戊鼎 (1 分)；(2) 唐朝 (1 分)。敦煌莫高窟 (1 分)。反映出唐朝社会的经济繁荣，社会稳定，文化昌盛，中外文化的结合，绘画艺术高超，宗教政策宽松，审美情趣的特点等 (信息由材料中来，符合题意，回答出两点即可得 2 分)。(3) 国家落后，列强侵略 (2 分)。国家强大了 (2 分)。

(2010·湖北黄冈) 28. (6 分) 制度创新是人类社会发展进步的一个重要表现。阅读下列有关我国古代政治制度的材料，结合所学知识，回答下列问题。

材料一 丞相王绾等言：“诸侯初破，燕、齐、荆地远，不为置王，毋以填之，请立诸子，唯上幸许。”廷尉李斯议曰：“周文、武所封子弟同姓甚众，然后属疏远，相攻击如仇讎 (仇敌)，诸侯更相诛伐，周天子弗能禁止。今海内赖陛下神灵一统，皆为郡县，诸子功臣以公赋税重赏赐之，甚足易制。天下无异议，则安宁之术也，置诸侯不便。”始皇曰：“天下共苦战斗不休，以有侯王。赖宗庙，天下初定，又复立国，是树兵也，而求其宁息，岂不难哉廷尉议是。”

——《史记·秦始皇本纪》

材料二 唐朝中央行政机构



——摘自《岳麓出版社·中国历史七年级下册》

材料三 元朝疆域图



请回答：

- (1) 材料一中反映了西周和秦朝各实行什么制度？（2分）
- (2) 材料二反映了唐朝的什么制度？有何积极作用？（2分）
- (3) 材料三中反映了元朝的什么行政制度？实施的原因是什么？（2分）

28. (1) 西周：分封制（1分）；秦朝：郡县制（1分）；(2) 唐朝：三省六部制（1分）；作用：既有利于防止宰相专权，又能集思广益，减少政策失误。（1分）(3) 元朝：行省制度（1分）；原因：元朝疆域辽阔，为了加强对全国的统治（1分）

(2010·山东莱芜) 21. 阅读材料，回答问题。（7分）

材料一



(1) 上图所示是古代沟通中西交通的陆上要道，请写出其名称。(1分)

材料二

国别	人物	内容	结果
唐→天竺	玄奘	西行取经	游历16年，带回许多佛经
唐→日本	鉴真	6次东渡	对日本文化的影响很大

(2) 根据材料二说明唐朝在对外交往中实行了什么政策？上表中玄奘的著作是什么？(2分)

材料三 从对外关系上说，随唐宋元都居于主动地位，明清时期的对外关系显然逆转了……倭寇沿海骚扰，为南方各地带来了极大的破坏。明清之际，西方资本主义已在兴起，而中国的……专制者对于世界形势一无所知。

(3) 是什么政策导致了清朝政府“对于世界形势一无所知”？该政策产生了什么影响？(3分)

(4) 综合以上材料，联系明清时期对外关系逆转带来的巨大变化，你得到了什么启示？(1分)

21. (1) 丝绸之路。(1分) (2) 对外开放。(1分) 《大唐西域记》。(1分) (3) 闭关锁国政策。(1分) 影响：对西方的侵略起过一定的自卫作用；与世隔绝，使中国在上世界上逐渐落伍。(2分) (4) 闭关锁国导致国家落后；对外开放使国家繁荣富强。(1分，言之有理即可得分)

(2010·福建莆田) 26. 阅读下列材料并回答问题：

材料一 科第之设，草泽望之起家，簪绂(zān fú)望之继世。孤寒失之，族馁矣；世禄失之，其族绝矣。

——王定保《唐摭(zhí)言》

材料二 唐太宗在端门看见新科进士鱼贯而出，高兴地说：“天下英雄入吾彀(gòu)中矣”。

——王定保《唐摭言》

材料三 故吾以为明太祖制义取士，与秦焚书无异，特明巧而秦拙耳，其欲愚天下之心则一也。

——廖燕《明太祖论》

(1) 材料一中“科第之设”是指哪一制度的创立？何时创立？(4分)

(2) 结合材料一、二和所学知识，简述“科第之设”的历史作用。(4分)

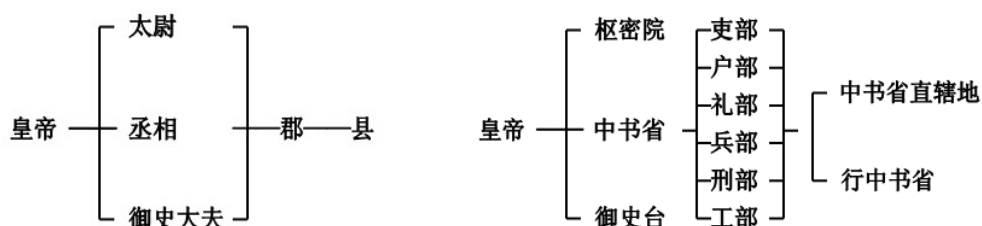
(3) 根据材料三和所学知识，指出明代八股取士的消极影响。(2分)

26. (1) 科举制度；隋唐时期。(4分) (2) 创造了相对平等的竞争机会；有利于选拔人才，扩大了中央政权的社会基础；增强了国家机构的活力和办事效率；给社会带来了革新气象和创新精神。(4分，答出其中2点即可) (3) 脱离现实生活，无法培养实际能力；钳制了人们的思想，阻碍了历史的发展；“愚天下之心”。(2分。答出其中一条即可，其他言之有理也可)

(2010·山东泰安) 31. 中国封建社会历代统治者都注重通过加强中央集权和地方管理等措施来巩固统治。阅读下列材料，回答问题。

材料一

材料二



材料三 在地方，废除行中书省，设立直属中央的三司，分管民政、刑狱和军政。在中央，废除丞相，撤消中书省，由吏、户、礼、兵、刑、工六部分理朝政，直接对皇帝负责。

——选自人教版义务教育课程标准实验教科书《中国历史》七年级下

请回答：

(1) 材料一图示反映的是我国历史上哪个朝代开创的政治体制？(1分) 该朝代为巩固统治采取的经济措施是什么？(1分)

(2) 我国省级行政区的设立源于材料二图示反映的元朝首创的哪一制度？(1分) 为实行有效统治，元朝还注重加强对边疆地区的管辖。请写出元朝突出加强管理的两处边疆地区的名称。(2分)

(3) 材料三记载的是哪朝的官制变化？(1分) 这一变化出现在哪一皇帝统治时期？(1分)

(4) 从材料一到材料三官制的演变可以看出皇权和相权发生了怎样的变化？(2分)

31. (1) 秦朝；(1分) 统一货币、度量衡 (1分) ； (2) 行省制度；(1分) 西藏、台湾 (或琉球) (2分) ； (3) 明朝；(1分) 明太祖 (或朱元璋) (1分) ； (4) 皇权不断加强，相权不断削弱。(2分)

(2010·辽宁沈阳) 16. 丝绸是中华文明鲜明的特征之一。从全世界的范围来看，各民族都会利用自然界的纤维材料制作衣物，唯有中国竟发明出由蚕丝织成的丝绸。



唐代对鹿纹锦

唐代绛色印花纱

唐代黄色莲瓣龙纹绫

(锦，经过练染的熟蚕丝织造的多重多彩丝织物，是丝织品中最高水平的代表。

纱，经纬线极纤细，平纹，有均匀的方孔，是丝织品中最纤细、稀疏的品种。

绫，质地轻薄，是一经一纬交织成斜纹地、花的单重丝织物。)

(1) 从以上图片和文字介绍中，你能获得哪些关于丝织品方面的信息点？(写出三点即可，3分)

信息点一：\_\_\_\_\_ 信息点二：\_\_\_\_\_ 信息点三：\_\_\_\_\_

(2) 根据你所获得的信息进行推断能得出怎样的历史结论？(2分)

16. (1) 织品朝代 织品色彩 织品花纹 织品种类 织造工艺 丝织水平； (2) 我国唐代丝织业水平高超。

(2010·辽宁沈阳) 18. “中国在许多个世纪以来，一直是人类文明和科学的巨大中心之一”，让我们与历史进行亲密接触，寻绎其中蕴藏的民族智慧，感悟民族精神。阅读下列材料，回答问题。

材料一 唐诗是流传千古的中华文化瑰宝，是唐代文化最为光辉的成就。唐诗创作之繁荣，流派之众多，风格题材之丰富多样，各类诗体体制之完善齐备，皆表明中国古典诗歌的发展已达到完全成熟的阶段。宋代，随着商业的发展，城市的繁荣，市民数量的不断增加，能够歌唱的词更适应市井生活需要，受到市民欢迎，于是，词成为宋代文学的主流形式和标志，流传至今的宋词有两万多首。明清时期文学是主要成就突出表现于小说，其内容上呈现出世俗化、平民化的趋势，出现了一大批脍炙人口是通俗文学著作。其中具有代表性的作品有《三国演义》、《水浒传》、《西游记》、《红楼梦》、《聊斋志异》等。

材料二

朝代	人物	成就	地位
东汉	张衡	地动仪	世界公认的最早的地震仪器，早于欧洲 1700 多年
南北朝	祖冲之	圆周率	在世界上第一次把圆周率的数值，计算到小数点以后的第 7 位数字，比欧洲人早了近 1000 年
隋朝	李春	赵州桥	世界上现存最古老的一座石拱桥，比欧洲类似的桥早 700 多年
北宋	毕升	活字印刷术	15 世纪，欧洲才出现活字印刷，比我国晚约 400 年

材料三 中国的思想文化源远流长，蓄积深厚。春秋战国时期，出现了百家争鸣的局面，许多思想流派的基础已经形成。儒家是这一时期的文化高峰之一。汉武帝即位后，“摆出百家，独尊儒术”，奠定了儒家思想的正统地位。两宋时期，一种新的儒家体系——程朱理学形成。它在吸引佛教和道教学是基础上，极大地深化了传统儒学，进一步巩固和凸显了儒学在中国传统文化中的主体地位。

请回答：

- (1) 根据材料一分别写出唐代、宋代、明清时期文学的主要表现形式。(3分)
- (2) 根据材料二回答，中国古代科技在当时世界处于怎样的地位？(1分)
- (3) 材料三反映出中国传统文化的主流思想是什么？(1分)

18. (1) 唐代：诗歌 宋代：词 明清时期：小说；(2) 领先；(3) 儒家思想。

(2010·江苏常州) 35. 阅读下列材料：

材料一 大约距今 5000—3000 年间，黄河中下游出现了一个文明程度较高的华夏族，所以称“华夏”，是因夏朝而得名。……民族融合不断在进行，至春秋战国时，已成为较稳定的民族共同体，但政治上尚无巩固的统一。经秦汉四百年的发展，华夏族成为统一的民族，中国也逐渐成为统一的多民族国家。……二十世纪初，出现了“中华民族”这个名词。

材料二 大一统是中国历史的鲜明特点。从秦统一后的 2000 多年，中国的统一时间，大约占 70%，分裂的时间约 30%。……元朝和清朝的建立及其对统一的中华民族国家的贡献说明，中华民族不是由汉族一个民族缔造的，而是各个民族共同缔造的。

——戴逸《中国民族边疆史研究》

请回答：

- (1) 据材料一指出中国逐渐成为统一的多民族国家是在哪个时期？材料二所阐明的中国历史的鲜明特点是什么？(2分)
- (2) 据材料二合所学知识说出元朝和清朝分别由哪个民族建立的？元朝和清朝的建立及其对统一的中华民族国家的贡献说明了什么？(3分)
- (3) “中华民族”这个名称体现了中国各民族整体上的民族认同。今天，各民族认同中华文化对促进民族团结有何意义？(4分)

35. (1) 秦汉时期；(1分) 大一统(或统一是中国历史的主流)。(1分) (2) 蒙古族，满族；(2分) 中华民族是由各个民族共同缔造的。(1分) (3) 只有在文化上认同，才会有情感上的共鸣，才能提高民族的凝聚力，增强民族团结和促进社会安定；(2分) 同时，各族人民对中华文化的认同，能够产生血浓于水的亲情与亲和力，使各族人民互相合作、共同奋斗，这是实现民族团结和国家统一的文化基础。(2分)

(2010·内蒙古赤峰) 22. 阅读材料，回答问题(8分)。

材料一 最高统治者称皇帝，中央政府设丞相、太尉、御史大夫。推行郡县制。

——摘自《中国历史》七年级上册

材料二 在中央设中书省，地方设行中书省。

——摘自《中国历史》七年级下册

材料三 在中央废除丞相，撤销中书省；在地方，废除行中书省，设三司。

——摘自《中国历史》七年级下册

材料四 设立军机处，军国大事完全凭皇帝裁决。

——摘自《中国历史》七年级下册

请回答：

- (1) 上述四则材料分别是哪个朝代的统治措施？(4分)
- (2) 材料一中的措施哪一项对我国历史影响最为深远？(2分)
- (3) 由材料一到材料四说明皇权和相权有什么变化？(2分)

22. (1) 材料一：秦朝；材料二：元朝；材料三：明朝；材料四：清朝。(每项1分，材料应与答案相对应，不对应不得分) (2) 郡县制(2分)。 (3) 皇权逐渐加强(1分)，相权逐渐削弱直到废除(1分)。

(2010·广西贵港) 26. 阅读下列材料：

材料一 三国时期，南方得到初步开发。在江南的手工业中，最重要的织造麻布，当时有一地方出产的越布是著名特产。

材料二 随着南方经济的发展，我国地区地区出现了世界上最早的纸币—交子。

材料三 明朝初年，他率领当时世界上最大的船队七次下西洋，扩大了中国和亚非国家的经济文化交流。

材料四 清朝初年，清政府实行严厉的“海禁”政策，到乾隆年间，只准开放一处地方作为对外开放的港口。

——《中国历史》七年级上、下册(有改动)

请回答：

- (1) 材料一的越布是当时哪一地方的著名特产？(1分)
- (2) 材料二的纸币出现在我国哪一时期？(1分)
- (3) 材料三的“他”是谁？(1分)
- (4) 材料四的“地方”是指哪里？(1分)

26. (1) 吴国；(2) 北宋；(3) 郑和；(4) 广州

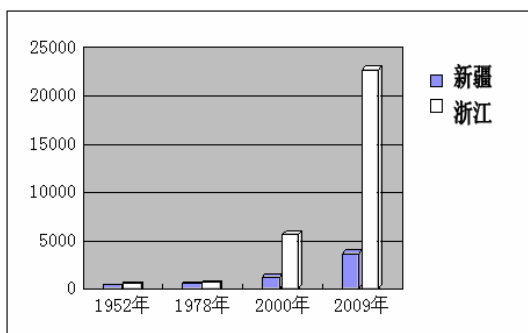
## 探究题 (问答题)

(2010·浙江台州) 26. ★建设美好新疆 构筑民族长城★ (14分)

古老的丝绸之路诉说着曾经的辉煌，某班学生开展以“新疆的昨天、今天和明天”为主题的探究活动，请你参与。

### ※收集信息

信息一：



信息二：

最近，中央批准设立喀什经济特区，举全国之力把喀什建设成为世界级的国际大都市，喀什是古代“丝绸之路”的交通要冲，具有“五口通八国，一路连欧亚”的独特区位优势，是祖国向西开放的重要门户。

### ※整理分析

#### 【昔日新疆】

(1) 新疆是古代西域的一部分，请写出西域正式归属中央政权的时间、标志性事件。(2分)

(2) 伴随着共和国的风雨历程，1952年——1978年新疆、浙江经济发展缓慢，请你谈谈主要原因。(3分)

#### 【今日新疆】

(3) 看新疆地图，A是我国的邻国\_\_\_\_\_，是世界上最大的内陆国，请列举新疆人民因地制宜发展农牧业的生产方式两例。(3分)

(4) 结合图表中的信息分析为什么国家设立喀什为经济特区？(3分)

### ※拓展延伸

#### 【明日新疆】

(5) 新疆是我国多民族聚居的区域，我们中学生应该如何维护民族团结？(3分)

26. (1) 西汉(公元前60年)；西域都护府的设立。(2) 经历大跃进、人民公社化运动、文化大革命等挫折。(3) 哈萨克斯坦；利用天山四季放牧、利用坎儿井发展绿洲农业。

(4) 喀什地理位置优越，(与我国邻国中五国相接壤)有利于对外开放；自然资源丰富，可以把资源优势转化为经济优势；为了加速新疆的经济发展，缩小东西部差距，实现共同富裕。(5) 自觉履行维护民族团结的责任和义务；尊重各民族的宗教信仰，尊重各民族的风俗习惯，尊重各民族的语言文字；与破坏民族团结和制造民族分裂的言行作斗争。

(2010·重庆) 21. 明清是我国统一的多民族国家进一步巩固与发展，封建专制空前强化的时期。请结合所学知识回答下列问题：

(1) 简述明朝加强中央集权的措施。(2分)

(2) 清朝军民为巩固多民族国家的统一和发展，在平定国内叛乱和抗击外来侵略、维护国家领土主权方面都做了大量的努力，请各举一例。(2分)


(3) 清政府推行闭关锁国政策近200年，这一政策给中国带来了怎样的影响？(2分)

21. (1) 废除丞相制和中书省，把朝廷的政务分别交给六部处理，六部直接对皇帝负责；利用厂卫制度实行恐怖专政；设立内阁；执行削藩政策；实行八股取士和文字狱。(每点1分，任答其中两点即可得满分，但总分不超过2分。)(2) 平定国内叛乱；平定噶尔丹叛乱，平定大小和卓叛乱等。(1分，任答其中一例即可，符合题意的答案可同等给分，但总分不超过1分。)(3) 闭关锁国政策虽曾在抵御外国侵略方面起了一定的作用但它的长期推行影响了中国吸收世界先进的文化和科学技术，阻碍了中国经济文化的发展，是中国近代落伍的重要原因之一。(2分，其它符合题意的答案可同等给分，但总分不超过2分。)

(2010·重庆) 22. 2010年5月1日在上海开幕的世界博览会是继北京奥运会后我国举办的又一国际盛会。请回答：

(1) 走进上海世博会中国国家馆，大家会欣赏到一幅放大了几百倍的《清明上河图》。创作《清明上河图》的北宋画家是谁？

(2) 参观日本馆，观众首先会看到遣唐使、鉴真东渡等



《清明上河图》局部

一系列反映中日两国友好往来源远流长的历史展示。唐朝时，日本为什么要一次又一次遣使来中国？鉴真为中日文化交流做出了什么重大贡献？（2分）

（3）踏入中国重庆馆，人们会被脚下的白鹤梁微缩景观所吸引。它清晰地展示了有着 1000 多年历史的白鹤梁地下水文奇观。结合所学知识，指出白鹤梁的价值。（1分）

（4）19 世纪中期，世界博览会诞生。从那一刻起，中国人就开始了对其的憧憬与追求，你认为中国终圆“世博梦”的根本原因是什么？（2分）



白鹤梁

22. (1) 张择端 (1分) ; (2) 目的: 密切两国联系, 学习唐朝先进的经济、文化。(1分) 贡献: 传播了中国文化。(1分) (3) 对现今长江水利建设有重要的参考价值, 被誉为“水下碑林”, 有“世界第一古代水文站”之称。(1分) (4) 改革开放使中国综合国力增强。(2分, 其它符合题意的答案可同等给分, 但总分不超过 2 分。)

(2010·湖南岳阳) 31. 自古以来, 民族团结、国家统一是我国历史发展的主流。结合所学知识, 回答下列问题:

(1) 我国历史上第一个统一的多民族的中央集权的封建国家是\_\_\_\_\_朝。(2分)

(2) 在我国统一的多民族国家的发展历程中, 各民族都做出了重大的贡献。请要概述鲜卑族孝文帝改革为我国民族关系的发展做出的重大贡献。(3分)

(3) 元朝时期出现了民族大融合的盛况。你认为出现这一盛况的前提条件是什么?(3分)

(4) 清朝前期是我国统一的多民族国家巩固时期。请你举出清朝前期为加强对新疆地区的统治而采取的重大措施。(4分)

31. (1) 秦; (2) 北魏孝文帝的改革, 有利于北方经济的恢复和发展, 促进了北方各族社会的进步, 加快了北方民族大融合的进程; (3) 国家统一, 经济发展; (4) 平定大小和卓叛乱, 设伊犁将军。

(2010·福建三明) 28. 维护国家统一和加强民族团结是中华民族永恒不变的追求, 也是历史发展的必然趋势。某校拟举办一次专题活动, 请你运用所学知识参与策划。

(1) 设计活动主题\_\_\_\_\_。

(2) 开展专题讲座, 完成资料卡片。(5分)

唐朝有两位女生谱写了民族团结的佳话, 他们是 \_\_\_\_\_、\_\_\_\_\_ (2分)  
西汉、清朝中央政府为加强对今新疆地区的管辖而设置的机构分别是 \_\_\_\_\_、\_\_\_\_\_ (2分)  
新中国在少数民族聚居的地区实行的基本政治制度是 \_\_\_\_\_ (1分)

(3) 举办图片展, 填写图片说明。



人物：\_\_\_\_\_

事迹：抗击倭寇

人物：郑成功

事迹：\_\_\_\_\_

人物：\_\_\_\_\_

事迹：组织雅克萨自卫反击战

28. (1) 采意给分。(2) 文成公主、金城公主；西域都护、伊犁将军；民族区域自治。  
(3) 戚继光；收复台湾；康熙帝。

(2010·湖北咸宁) 40. 儒家思想是中国传统文化的主流思想。春秋晚期儒家学派创始人孔子的“爱人”主张主要是什么内容？(2分) 战国时期儒家代表人物孟子要求统治者怎样治国？(2分)

40. 孔子主张“爱人”，要求统治者体察民情，爱惜民力，“为政以德”。(2分) 孟子要求统治者用“仁政”治国，轻徭薄赋。(2分)

(2010·湖南湘潭) 35. 英国学者李约瑟在《中国古代科学技术史》中写道：“从3世纪到13世纪，中国一直处于西方望尘莫及的科学地位，明清以后逐渐落后了。”据此回答：

(1) 四大发明是我国古代科技的标志性成就，请写出四大发明的名称。(4分)

(2) 试从政治制度、文化政策和对外政策等方面分析明清时期中国科技落后的主要原因。(3分)

(3) 你认为我国应如何做才能进一步缩小与发达国家的科技差距？(3分)

35. (1) 造纸术、印刷术、火药、指南针。(每点1分，共4分) (2) 政治制度：君主专制中央集权制度空前强化。文化政策：实行八股取士，束缚了知识分子的思想。对外政策：闭关锁国政策阻碍了中外正当的经济文化交流(每点1分，共3分)；(3) 发展经济，进一步增强国力；坚持科教兴国战略，尊重知识，尊重人才；坚持改革开放政策等(每点1分，共3分，其它答案言之有理亦可给分)。

(2010·江苏淮安) 28. (7分)中国古代的对外交往，历史悠久，源远流长。从汉朝丝绸之路的开辟到明朝前期的郑和下西洋。我国一直实行和平、开放的对外政策。但到了清朝，这种政策发生了重大变化。

据此并结合所学知识，回答下列问题

(1) 丝绸之路的开通与哪个历史事件有关？

(2) 请你写出唐朝与日本、天竺交往中最有影响的两位使者的名字。

(3) 南宋时海外贸易发达，商船远达阿拉伯半岛和非洲东海岸，航海中广泛使用了我国古代四大发明中的哪一项成就？

(4) 清朝前期实行了什么对外政策？有何影响？

28. (1) 张骞出使西域。(1分) (2) 唐与日本：鉴真，(1分) 唐与天竺：玄奘。(1分) (3) 指南针。(1分) (4) 闭关锁国政策；(1分) 影响：①积极：它对西方殖民者的侵略活动，起过一定的自卫作用。(1分) ②消极：清政府闭关锁国，与世隔绝，既看不到世界形势的变化，也未能适时向西方学习先进科学知识和生产技术，使中国在上世界上逐渐落伍了。(1分)

(2010·江苏扬州) 31. 某校九年级(1)班正在进行有关我国“古代民族融合”的探究活动，请你参加。

### 【史料呈现】

材料一 魏主（即北魏孝文帝）下诏，以为“北人谓土为拓，后为跋。魏之先出于黄帝，以土德王，故为拓跋氏。夫土者，贵中之色，万物元也，宜改姓元氏。”——《资治通鉴》

材料二 元朝时期，有许多信仰伊斯兰教的波斯人、阿拉伯人迁入中国，他们同汉、蒙等族互相融合，形成一个新的民族，即回族。

材料三 清朝，西藏与中央政府联系更加紧密。

——北师大版七下《历史》教材

### 【问题探究】

- (1) 据材料一指出北魏孝文帝进行姓氏改革的理由。(1分)
- (2) 据材料二并结合所学知识指出，回族作为一个新民族形成的最重要条件是什么？(1分)
- (3) 试举一例说明材料三所说的“西藏与中央政府联系更加紧密”。(1分)

### 【活动总结】

- (4) 综合上述材料，谈谈你的认识。

31. (1) 鲜卑族是黄帝的后代，以土德王，而土色是万物之元，因此要改为姓元。(2) 元朝国家统一，各地区各民族交往频繁。(3) ①顺治帝时正式赐予西藏的佛教首领达赖五世为“达赖喇嘛”的封号。②康熙帝时赐予另一位西藏佛教首领“班禅额尔德尼”的封号。此后，历世达赖和班禅，都必须经过中央政府的册封。③ 1727年清朝开始设置驻藏大臣。并明确规定驻藏大臣代表中央政府，与达赖、班禅共同管理西藏事务。(4) 国家的统一，有利于民族的交往与融合。

(2010·福建宁德) 28. 秦朝确立了专制主义中央集权的政治制度，为此后历代封建王朝所沿用，奠定了两千多年封建政治制度的基本格局。某校历史探究小组围绕上述内容开展小专题学习活动，请你参与完成有关活动内容。(10分)

#### 探究一 历史回眸 (6分)

项目	秦始皇	汉武帝	明太祖	清雍正帝
政治	皇帝总揽全国大权；中央设丞相、太尉、御史大夫；地方 ①	颁布推恩令，削弱诸侯国势力	废除丞相，六部直接对皇帝负责	②
思想问题	焚书坑儒	③	八股取士	大兴文字狱

#### 探究二 历史思考

上述表格内容反映出我国中央集权制怎样的发展趋势了 (2分)

#### 探究三 历史方法

学习历史要讲究方法。以上学习活动除了探究法，还采用了哪些学习方法？(写出两种即可) (2分)

28. (10分) 历史回眸：① 设郡县 (制)；② 设军机处；③ 罢黜百家，独尊儒术。(每点2分，共6分) 历史思考：中央集权制度不断强化 (或加强)。(2分) 历史方法：归类法、概括法、列 (填) 表法、问题法等。(回答出两种即可得2分)

