

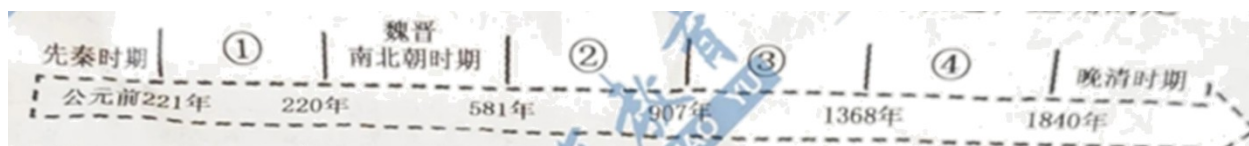
2021年衡阳市初中学业水平考试试卷历史

考生注意：

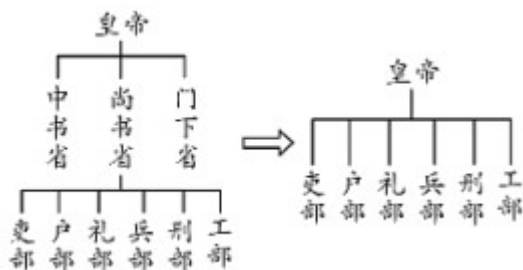
- 1.本试卷分试题卷、答题卡两部分，试题卷6页，答题卡2页。不要在试题卷上作答，答案必须写入答题卡，否则不计分。
- 2.本卷共两道大题，29个小题，满分100分。考试时量90分钟。
- 3.考试结束后。考生将试题卷、答题卡全部交回。

一、选择题的不题2分，共25小题50分。在每小题列出的四个选项中，只有一项最符合题目要求。

1. “仁者爱人”“己所不欲，勿施于人”“三人行，必有我师焉”以上是哪位思想家的思想主张（ ）
A. 老子 B. 孔子 C. 墨子 D. 韩非
2. 时空观念是在特定时间和空间联系中对事物进行观察、分析和思维方式。解读下面的中国历史时间轴，关于古代史上朝代及其阶段特征的表述，正确的是



- A. ①是秦汉时期，大一统国家的建立和巩固
 - B. ②是宋元时期，民族关系发展和社会变化
 - C. ③是隋唐时期，大一统国家 巩固和发展
 - D. ④是明清时期，封建社会繁荣与对外开放，
3. 李白《秋浦歌》第十四首写道：少炉火照天地，红星乱紫烟。赧郎（赧 nan：原指因害羞而脸红。这里是指炉火映红人脸）明月夜，歌曲动寒川。”下列表述不正确的是，
A. 李白的诗歌豪迈奔放、激情飞扬 B. 该诗描绘了冶金矿场欢快劳动的生动场景
C. 该诗饱含对劳动人民的赞美之情 D. 李白诗歌成就辉煌，被称为“诗史”
 4. 如下图是我国古代两个朝代的国家机构设置示意图，其变化反映了（ ）



- A. 中央集权制度建立
B. 君主专制不断强化
C. 地方行政机构精简
D. 丞相权力不断增强

5. 下面表格内容反映的是清朝

时间	事件	作用
1684年	设置台湾府	巩固了东南海防
1727年	设置驻藏大臣	加强了对西藏的管辖
乾隆时期	平定大、小和卓叛乱	稳定了西北部边疆地区

- A. 巩固皇权的军事手段
B. 加强边疆管理的措施
C. 反抗侵略的英勇斗争
D. 主动对外交流的表现

6. 《南京条约》是中国近代史上第一个丧权辱国的不平等条约，它的签订标志着中国开始从封建社会变为半殖民地半封建社会。下列不属于该条约内容的是

- ① 割香港岛给英国 ② 允许日本在通商口岸开设工厂
③ 增开天津为商埠 ④ 清政府保证严禁人民参加任何形式的反帝活动

- A. ①②③
B. ①②④
C. ①③④
D. ②③④

7. 1851年爆发的太平天国运动的领导人是

- A. 李自成
B. 洪秀全
C. 谭嗣同
D. 孙中山


8. 近代以来先进的中国人为了挽救民族危亡，先后提出了“师夷长技以自强”、“君主立宪”、“民主共和”、“民主和科学”的思想，这反映出中国学习西方的历程是

- A. 学制度→学技术→学思想
B. 学思想→学制度→学技术
C. 学技术→学制度→学思想
D. 学制度→学思想→学技术

9. 甲午中日战争失败后，他抱着“实业救国”的思想，主动放弃高官厚禄，回家乡南通创办大生纱厂，这位“状元实业家”是（ ）

- A. 张謇
B. 侯德榜
C. 荣宗敬
D. 卢作孚

10. 下图老广告可证明



- A. 民族工业发展艰难
B. 抗美援朝运动开展
C. 改革开放政策推行
D. 三大改造实行过程

11. 新中国是由 56 个民族组成的统一的多民族国家，在长期的历史发展中，逐渐形成了以汉族为主体的各民族大杂居、小聚居的格局。针对这种现状，我国实行

- A. 联邦共和国制
- B. 民族区域自治制度
- C. “一国两制”
- D. 独立国家联合体

12. 旧中国有海无防，而新中国的海军能够保卫祖国的海疆。2012 年 9 月，我国交接入列的第一艘航空母舰是

- A. 阿芙乐尔号
- B. 致远舰
- C. 辽宁舰
- D. 定远舰

13. 不同时代有不同的家庭财富标志。下图是改革开放以来家庭财富标志的变化，反映出

			
70 年代末 “三转一响”	80 年代 “四大件”	90 年代 “三金”	2000 年~2010 年 “一动不动”

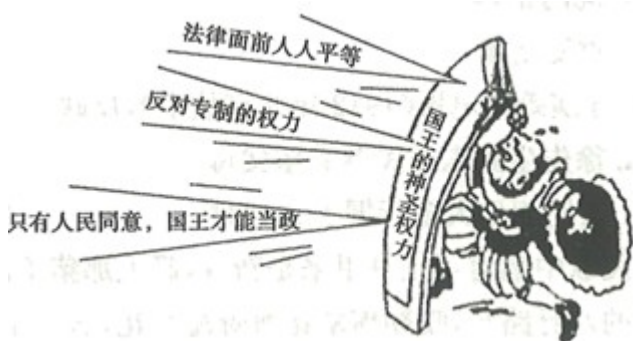
- A. 经济持续增长使农业结构不断优化
- B. 经济发展使人民生活水平不断提高
- C. 经济持续发展使就业观念不断变化
- D. 工业技术进步使产品质量不断提升

14. 威尔·杜兰特《世界文明史》称，美第奇时代（1378—1464）意大利的心灵从宗教转向哲学，从天堂转向地上；为学术疯狂的人们研究的题材是人，是人潜在的力量和身体的美，是人感官和感情的欢乐、痛苦。

该作者描述的现象体现的是

- A. 人文主义
- B. 理性主义
- C. 神权思想
- D. 写实主义

15. 下面漫画创作于英国资产阶级革命时期，表明英国国王的权力受到了约束。这一约束的法律依据是



- A. 《权利法案》
- B. 1787 年宪法
- C. 《人权宣言》
- D. 《民法典》

16. 同学们开展研究性活动，研究内容有：南美的“解放者”、印度非暴力不合作运动和“非洲年”。据此推断，

研究的主题最可能是 ()

- A. 两极格局的形成
- B. “一超多强”局面的形成
- C. 亚非拉国家民族民主运动
- D. 一战后世界新秩序的建立

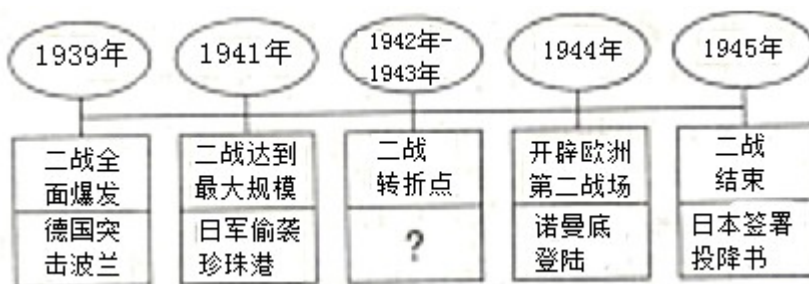
17. 2020年5月,美国警察暴为执法,致使黑人弗洛伊德死亡,再次引起人们对于美国“种族主义”的谴责。追溯历史,美国独立后曾长期保留黑人奴隶制,内战爆发后才废除,但对于黑人的种族歧视并未消除,一直影响至今。美国内战中废除黑人奴隶制的总统是

- A. 华盛顿
- B. 林肯
- C. 罗斯福
- D. 尼克松

18. “进化论在科学上的影响是非常巨大和深远的。它解放了人们的思想,牢固地建立了唯物主义观点和历史发展的观点。”要进一步了解“进化论”,可阅读达尔文的

- A. 《神曲》
- B. 《人间喜剧》
- C. 《物种起源》
- D. 《自然哲学的数学原理》

19. 如下图第二次世界大战进程示意图中“?”处应该填入的内容是 ()



- A. 萨拉热窝事件
- B. 凡尔登战役
- C. 斯大林格勒战役
- D. 雅尔塔会议

20. 第二次世界大战后,英国、法国、联邦德国等资本主义国家,纷纷调整政策,建立起社会保障制度,先后宣布建成了

- A. 政府干预经济制度
- B. “福利国家”
- C. 自由资本主义制度
- D. 计划经济体制

21. 斯大林逝世后,赫鲁晓夫和勃列日涅夫先后进行经济改革,但成效都不大,其根本原因是没有

- A. 纠正战时共产主义政策的偏差
- B. 改进新经济政策不足之处
- C. 突破高度集中的计划经济体制
- D. 实行多党执政的政治体制

22. 明初,湖南出现 移民现象是

- A. 中原人乔迁人湘
- B. “湖广填四川”
- C. “江西填湖广”
- D. 楚人和巴人人湘

23. 茶陵诗派的创立人是

- A. 刘巴
- B. 罗含
- C. 阴铿
- D. 李东阳

24. 抗日战争时期发生在湖南的重大战役中,成为国民党正面战场由防御到反攻的转折点是 ()

- A. 常德会战
- B. 湘西会战
- C. 长衡会战
- D. 衡宝战役

25. 培育出湘云鲫的是湖南师范大学教授

A. 刘筠

B. 黄伯云

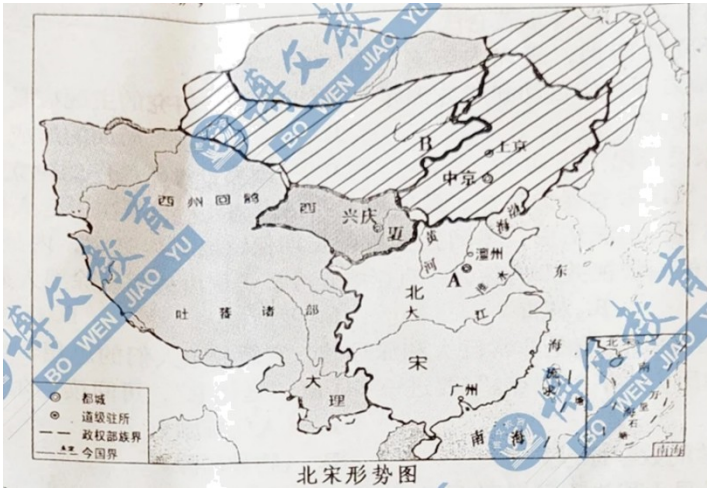
C. 陈国达

D. 范旭东

二、非选择题 (共 4 小题 50 分)

26. 读图，回答问题


(1) 读下面《北宋形势图》，写出国中字母的代表的的内容。



A.北宋都城：_____

B.少数民族政权名称：_____

(2) 读下边《1903年的飞机试飞》图，飞机的发明者是_____



(3) 飞机的发明属于哪次工业革命的成果？它使用的动力机是什么？

27. 2021年5月22日，“杂交水稻之父”袁隆平逝世，举国同悲，人们深深怀念这位为解决人类吃饭问题而做出杰出贡献的伟人，也引发了人们对粮食安全问题的关注。阅读材料，完成探究。

【中国古代农作物】

材料一 下图为河姆渡遗址出土的骨耜图。



(1) 我国有悠久的稻作农业传统。请写出位于湖南省道县境内、目前发现的世界最早的人工栽培稻遗址名称。上图河姆渡遗址的骨耜是用来从事农业生产的，请问河姆渡先民种植的粮食作物是什么？

材料二 大中祥符四年（1011年）……帝以江淮、两浙稍早即水田不登（注：登，收成或丰收的意思），遣使就福建取占城稻（注：占城在今越南中部）三万斛，分给三路为种……内出种法，命转运使揭榜示民……稻比中国者，穗长而无芒，粒差（梢）小，不择地而生。

——【元】脱脱等《宋史·食货志》

材料三 自明朝开始的海外农作物的引进，到清朝又有新的发展。顺治年间，玉米种植还不普遍……玉米适应性强、产量高的优点，逐渐为人们所认识，人们在山区和平原地区大量种植玉米。19世纪后，玉米成为重要的粮食作物。明朝时，甘薯从外国传到福建和广东。清初开始，甘薯种植逐步在浙江及长江流域发展起来，自乾隆初年开始，甘薯在北方的河南、陕西、直隶等省份的种植面积迅速扩展甘薯成为清朝中后期农民的重要口粮之一。……顺治七年（1650年），马铃薯最先传入台湾。17世纪后期，云南、贵州、四川、陕西、湖北、山西等地广泛栽培马铃薯。马铃薯以生长湖短、适应性强、耐贫瘠等优点，受到农民的欢迎。当时贫困农民往往把它当作主食。

——人教版《教师教学用书》中国历史七年级下册

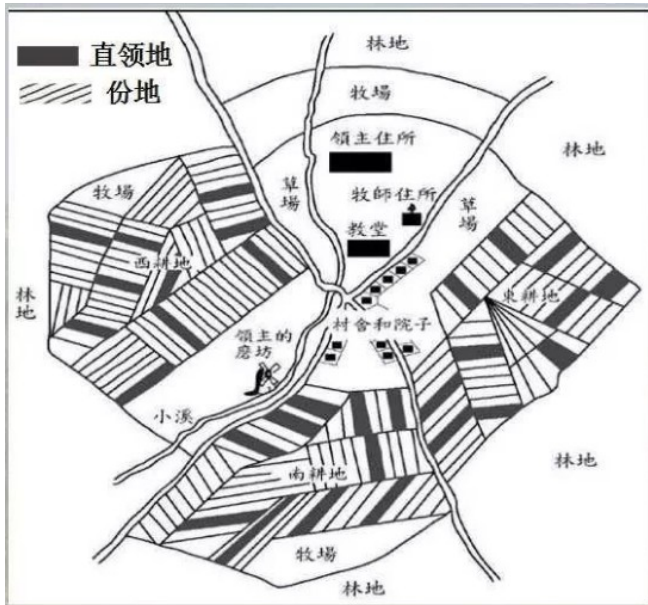
(2) 从材料二、三可知，宋、明、清三朝分别从国外引进和推广了哪些农作物结合材料分析这些以国外引进和推广的农作物有哪些共同代优势？

【中世纪西欧庄园】

材料四 即使中世纪（西欧）农奴的命运确实比罗马的奴隶要强得……但它依然是粗陋的、可怜的，为现代人所难理解。住处一般是破陋的茅棚，用糊上泥巴的枝条编成的篱笆搭成……据说，一顿好饭经常包括两道饭菜：非常像粥的麦糊和非常像麦糊的粥，这不完全是玩笑。水果几乎没听说过，蔬菜限于洋葱、韭菜、萝卜和甘蓝之类，统统，煮成一种稀汤。肉食一年难得碰上几遭……

——【美】罗伯特·E·勒纳等著，王觉非等译《西方文明史》

(3) 根据材料四的文、图（见下图），结合所学知识，说一说中世纪西欧庄园土地制度的特点和农奴生活的状况。



西欧中世纪一个庄园的图解

【近现代农业改革】

材料五 19 世纪上半叶，农奴在俄国全国人口中占很大比重，近 40% 参加工业生产的劳动者是农奴。农奴世代被束缚在土地上，不能自由迁徙和务工经商。农村贫困落后，农奴购买力低，生产率低，这些影响了国内市场的发展。1853-1856 年俄国同土耳其在克里木半岛进行战争，英、法支持土耳其，俄国战败。这充分暴露了农奴制下俄国军事和经济的落后，同时加剧了俄国国内的社会矛盾。

(4) 根据材料五，分析 19 世纪中叶俄国进行农奴制改革的原因有哪些？

【发展农业的思考】

(5) 通过以上探究，请你就当今中国发展农业生产、保障粮食安全问题提出建议并说明理由。

28. 在中国共产党建党一百周年之际，我们缅怀党的历史，学习党在民主革命和社会主义建设过程中所表现出的伟大精神，对于传承红色基因，建设习近平新时代中国特色社会主义思想，实现中华民族伟大复兴的中国梦，具有十分重大的意义。阅读材料，完成探究。

【追求真理】

材料一 1928 年 3 月 20 日，衡阳籍中国共产告当员夏明翰在武汉英勇就义，临刑前吟出了气壮山河的《就义诗》：“砍头不要紧，只要主义道。杀了夏明翰，还有后来人！”

(1) 读材料一，《就义诗》体现了夏明翰烈士怎样的精神内涵？

【开拓创新】

材料二 广阔的农村是帝国主义和国民党统治的海弱环节。在敌强我弱的条件下，革命力量只有在农村建立革命根据地，不断地发展壮大，才能在长期的战争中还渐削弱敌人，争取革命的全面胜利。

——摘自华东师大出版社九年义务教育课本《中国历史（试用本）》

材料三 地方的农业经济（不是统一的资本主义经济），和帝国主义划分势力范围的分裂剥削政策…

…使一小块或若干小从共产党领导的红色区域，能够在四周白色政权包围的中间发生和坚持下来。

——毛泽东《中国的红色政权为什么能够存在？》

(2) 大革命失败后，以毛泽东为代表的中国共产党人发动一系列武装起义，建立农村革命根据地，开辟了中国民主革命的独特道路“井冈山道路”。根据材料号。结合所学知识，分析当时中国革命重心为什么要转向农村，建立农村革命根据地？

【艰苦奋斗】

材料四 雪皑皑，野茫茫，高原寒，炊断粮。红军都是钢铁汉，千锤百炼不怕难……风雨侵衣骨更硬，野菜充饥志越坚。官兵一致同甘苦，革命理想高于天。

——萧华将军《长征组歌》

(3) 根据材料四及所学知识，说一说红军长征中会面临哪些艰难困苦？

【爱国主义】

(4) 当面临外族的人侵和军事威胁的时候，中国共产党人挺身而出，反击侵略者，成为中华民族的脊梁。请写出抗日战争中中国共产党人发动的重大战役一例。建国初期，中国共产党人又进行了伟大的抗美援朝战争，请写出这次战争胜利的重大意义。

【热爱人民】

材料五 民主革命时期，中国共产党领导的人民军队逐渐形成了“三大纪律八项注意”训令。三大纪律：一切行动听指挥；不拿群众一针一线；一切缴获要归公。八项注意：说话和气、买卖公平、借东西要还、损坏东西要赔、不打人骂人、不损坏庄稼、不调戏妇女、不虐待俘虏。

——摘自人教版教材《中国历史》八年级上册

(5) 读材料五，想一想，中国共产党领导人民武装取得民主革命的伟大胜利与纪律八项注意”有何关系？

【学史力行】

材料六 焦裕禄，1962年任河南兰考县县委书记。他以身作则，亲自带队到灾区，展开大规模的追洪水、查风口、探流沙的调查研究工作，为抗洪救灾积累了第一手资料。他得知自己患了癌症后，仍顽强坚持工作，直到生命的最后一息。他被人民称颂为“党的好干部”。

——摘自人教版教材《中国历史》八年级下册

(6) 阅读材料六焦裕禄的故事，我们可以学习他哪些优秀品质？你将怎样努力？

29. 小论文题。

近些年来全球化出现低潮的迹象，特朗普当总统时，美国退出许多国际组织，甚至提出“美国优先”的口号。对此，有人认为全球化是大势所起，暂时的低潮只是全球化日益深化的表现；有人则认为已出现逆全球化，世界日益陷入民族主义的漩涡和灾难中。请就全球化这一问题说说你的观点并进行论述。（要求：观点明确、史论结合、条理清晰、表达规范）

