

# 2022年烟台市初中学业水平考试

## 历史试题

一、选择题（本大题共 25 小题，每小题 2 分，共 50 分。在每小题列出的四个选项中，只有一个选项符合题目要求）

1. 陶寺遗址位于山西省襄汾县陶寺村南，陶寺文化的绝对年代为公元前 2300 年至公元前 1900 年之间。陶寺类型房址分台基、平地、半地穴式和窑洞四种。与陶寺人居住形式类似的是（ ）  
A. 北京人                      B. 山顶洞人                      C. 河姆渡人                      D. 半坡人
2. 新疆自古以来就是中国领土不可分割的一部分，新疆各民族是中华民族的重要组成部分。下列可以印证这一毋庸置疑的历史的是（ ）  
A. 丝绸之路开辟                      B. 西域都护的设置  
C. 宣政院的设置                      D. 驻藏大臣的设置
3. （三国两晋南北朝时期）少数民族接受汉化，实现封建化（少数民族由奴隶社会向封建社会转变，主要体现在生产方式和文化的改进），封建化又促进某些民族间的交融。下列可以佐证该观点的是（ ）  
A. 商鞅变法                      B. 孝文帝改革                      C. 贞观之治                      D. 王安石变法
4. 清朝周家祿曾写过这样一副对联：“大功在备倭，城郭依然，公去苍茫谁嗣者；明诏使防海，风波未已，吾来宏济愧前贤。”其赞美的人物是（ ）  
A. 郑和                      B. 戚继光                      C. 郑成功                      D. 李自成
5. 据下图的漫画可知洋务运动（ ）



- A. 得到西方列强鼎力相助                      B. 使中国走上了富强道路
- C. 目的是维护清政府统治                      D. 促进了民族工业的发展

6. 公车上书失败后，维新人士在各地组织学会，创办报刊，其中影响最大的报刊是上海的《时务报》和天津的《国闻报》，这些报刊的主旋律是（ ）

- A. 有田同耕                      B. 变法图强                      C. 民主科学                      D. 驱除鞑虏

7. 脱离世界潮流几百年的中国，终于再次回到了世界潮流之中。虽然未来的路途也并非一帆风顺，我们学器物，失败；学制度，也失败；最终我们明白了要学思想。材料中的“学思想”（ ）

- A. 宣告了中国君主专制制度的终结                      B. 使中国革命的面貌焕然一新  
C. 动摇了封建道德礼教的统治地位                      D. 标志着国共合作的正式建立

8. 可以说，当时起义军退向井冈山，旨在避开占有优势 国民党军的攻击，却寻找到自己生存发展之路。

材料中的“路”指的是（ ）

- A. 建立革命统一战线                      B. 以城市为中心  
C. 枪杆子里面出政权                      D. 农村包围城市

9. 下表是中共党史的部分主题及其统摄概念。据此推断③对应的主题是（ ）

主题	统摄概念
①	五四火炬、开天辟地、面貌革新
②	国民革命、星火燎原、走向成熟
③	共御外侮、中流砥柱、杨威东方
④	和平谈判、转守为攻、天翻地覆

- A. 新民主主义革命开始                      B. 从国共合作到国共对立  
C. 中华民族的抗日战争                      D. 人民解放战争


10. 1945年8月，《新华日报》发表群众来信说：“毛先生来渝，证明了中共为和平、团结与民主二奋斗的诚意和决心，这的确反映和代表了老百姓的要求。”材料中的“毛先生来渝”取得的成果是（ ）

- A. 实现西安事变和平解决                      B. 抗日民族统一战线正式建立  
C. 国共签署了“双十协定”                      D. 实现了民主统一、和平建国

11. 电影《车轮滚滚》主要内容为：1948年冬，胶东解放区的一支民工小车队在淮海战场冒着枪林弹雨运送弹药。随后，小车队又随大军渡江南下，取得解放战争胜利。该电影的主题应该是（ ）

- A. 粉碎国民党的全面进攻                      B. 人民解放军由战略防御转入战略进攻  
C. 一切反动派都是纸老虎                      D. 人民支持是解放战争胜利的重要保障

12. 下图是长津湖战役中“冰雕连”一位战士写下的绝命诗。据此可知，“冰雕连”肩负的神圣使命是（ ）

	<p>我爱亲人和祖国 更爱我的荣誉 我是一名光荣 志愿 者战士 冰雪啊，我决不屈服 于你 哪怕 冻死 我也要高傲的耸立在 我的阵地上</p>
---	--

- A. 解放全中国  
B. 抗美援朝，保家卫国  
C. 向工业化进军  
D. 建设现代化钢铁长城

13. 马英九表示：两岸“重新启动”，第一步就是“重启对话”，呼吁回到“原汁原味的九二共识”。这表明马英九认为（ ）

- A. 海峡两岸关系得到进一步缓和  
B. “九二共识”利于两岸交往  
C. “一国两制”成为两岸的共识  
D. 中国人民洗刷了百年耻辱

14. 这场访华标志着中美关系正常化，也为中美关系的进一步改善和发展打下了基础。“这场访华”的美国领导人是（ ）

- A. 罗斯福  
B. 杜鲁门  
C. 麦克阿瑟  
D. 尼克松

15. 钱三强说：“稼先同志，国家要放一个大炮仗，调你去做这项工作，怎样？”当晚，邓稼先回去后与夫人只说要去干一件工作，并且说：“我的生命就献给未来的工作了……就是为它死了也值得。家中的事和两个孩子全靠你了。”“放一个大炮仗”的决策实现的标志是（ ）

- A. 第一颗原子弹爆炸成功  
B. 成功发射东方红一号  
C. 神舟一号飞行试验成功  
D. 培育出籼型杂交水稻

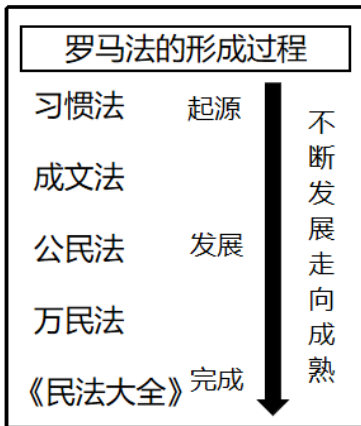
16. 婆罗门教圣典《吠陀经》将种姓制度的等级描述得很具有艺术性，说是诸神们齐心协力一起灭了一个体型庞大的巨人，然后巨人的嘴演化成了婆罗门，巨人的手臂演化为刹帝利，巨人的腿部演化出了吠舍，巨人的脚部变成了首陀罗。据此可知，种姓制度（ ）

- A. 是艺术创作的产物  
B. 是以土地封赐为纽带  
C. 反映了“众生平等”  
D. 各等级之间贵贱分明

17. 古代希腊城邦一般是以一座城市为中心、连带周边乡村地区而形成的独立国家。它们的国土面积一般只有百余平方公里、人口数万，最大的城邦有 8000 多平方公里国土、数十万人口。这表明古代希腊城邦（ ）

- A. 古典文化繁荣
- B. 突出特点是“小国寡民”
- C. 海外贸易发达
- D. 奴隶制民主政治盛行

18. 据下面的示意图推断，罗马法制建设的第一步是（ ）



- A. 《汉谟拉比法典》
- B. 《十二铜表法》
- C. 《查士丁尼法典》
- D. 《罗马民法大全》

19. 15 世纪的欧洲开始了大航海时代，“在这一过程中，欧洲人使各大陆相互间发生了直接交往，从而在世界历史上结束了欧亚大陆阶段，开始了其全球性的阶段。”这表明“大航海时代”（ ）

- A. 奥斯曼帝国控制了东西方商道
- B. 人们逐渐相信地圆学说
- C. 欧洲大西洋沿岸成为经济中心
- D. 世界开始连为一个整体

20. 大革命结束了法国一千多年的封建统治，它“是真正把斗争进行到底，直至交战的一方即贵族被消灭而另一方即资产阶级完全胜利的首次起义。”材料旨在说明“大革命”（ ）

- A. 具有彻底的反封建性质
- B. 最终确立了君主立宪制
- C. 阻碍了资本主义的发展
- D. 是最早的资产阶级革命

21. 18 世纪 80 年代间，生产力确实有了惊人的进展，或者，如现在的经济学家所认为的，生产力有了“一个进入自驱动发展的起飞”。更明确地说，当时产生了一个机械化工厂体系，它以迅速降低的成本极大量地生产商品，以致它不再是依靠原有的需要，而是创造出其自己的需要。材料中的“生产力确实有了惊人的进展”的主要表现是（ ）

- A. 瓦特改进蒸汽机
- B. 内燃机的发明应用
- C. 电力成为新能源
- D. 电子计算机的推广

22. 社会主义发展史，从 1516 年空想社会主义著作《乌托邦》起，至今有 500 多年。据此判断，下面时空坐标的①对应的是（ ）



- A. 马克思主义诞生
- B. 巴黎公社的成立
- C. 十月革命的胜利
- D. 中国共产党成立

23. 民族资产阶级领导的民族民主运动，在亚非拉三洲带着普遍的性质。这种现象反映了第一次世界大战后的时代特点和民族矛盾的尖锐性质，表现了建立亚非拉独立民族国家体系的历史趋势。下列符合该历史趋势的是（ ）

- A. 拉美独立运动
- B. 亚历山大二世废除农奴制
- C. 日本明治维新
- D. 印度的非暴力不合作运动

24. 外交部发言人赵立坚表示：美英澳三国借口乌克兰危机，大张旗鼓宣称美英将向澳提供核动力潜艇，改不了冷战思维和集团政治的老脑筋……他们的终极目标是打造亚太版北约，彻头彻尾服务美国霸权之私。据此可知，北约（ ）

- A. 放弃了冷战思维
- B. 维护了世界和平
- C. 是美国霸权工具
- D. 有利于亚太稳定

25. 基辛格等美国著名战略家均已预测美国的唯一超级大国地位只能持续 15 至 25 年时间。随着美国超级大国实力的相对衰落和影响力相对下降、美、欧、日、中、俄“五大力量中心”的综合国力对比大致趋于相对均衡化，形成系列互相影响、互相牵制的力量结构。这表明基辛格等人认为（ ）

- A. 两极对峙格局恐难以持久
- B. 和平与发展已成为时代主流
- C. 经济全球化趋势开始出现
- D. 世界多极化是历史发展趋势

## 二、非选择题（本大题共 3 小题，第 26 题 17 分，第 27 题 19 分，第 28 题 14 分，共 50 分）

26. 中华文明历史悠久，源远流长，在几千年农耕文明时代，中华民族创造了辉煌灿烂的古代文明。阅读材料，回答问题。

### 【思想活跃】

材料一 战国时代，诸子百家之学异常活跃、极富创造力，被公认为中国思想文化史上灿烂辉煌的时代。

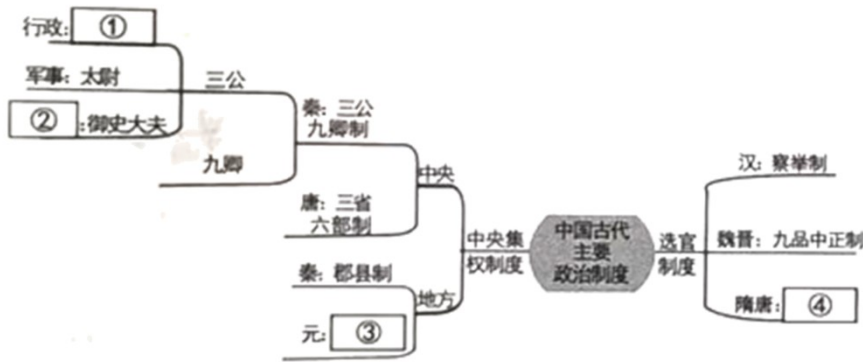
诸子	学派	思想

墨子	墨家	当若繁为攻伐，此实天下之巨害也。
孟子	儒家	王如施任政于民，省刑罚，薄税敛……故曰：“仁者无敌。”
荀子	儒家	人无礼，则不生；事无礼，则不成；国家无礼，则不宁。
韩非子	法家	吾以是明仁义爱惠之不足用，而严刑重罚之可以治国也。

(1) 根据材料一，指出“异常活跃”的局面被称作什么，并概括诸子的思想主张。

**【制度创新】**

材料二



(2) 根据材料二并结合所学知识，将“中国古代主要政治制度”思维导图构建完整。

**【经济发达】**

材料三 四川境内只流通铁钱，铁钱分量重，单位价值比铜钱低，买卖商品用铁钱极不方便，不能适应大额异地贸易交换的需求。当时成都富商大贾云集，商品交易日增，所以，富商就把现金交付本地殷实商铺，收款商铺把存放现金的数额临时填写入用楮纸制作的票券，交给存款方。这样，四川商民之间，建立了一种类似飞钱而又只在一省区域内流通的交子。仁宗天圣元年（1023年），北宋政府鉴于私交子的信用不足引起的债务纠纷，在四川设置益州交子务，派京官二人担任监官，主管交子发行兑换，史称“官交子”。

——摘编自刘汝明赵文龙何成刚《历史课标解析与史科研习——经济与社会生活》

(3) 根据材料三，概括北宋货币的演变趋势，并简析其原因。

**【科技领先】**

材料四 袁行霈主编的《中华文明史》第三卷目录（节选）

第十章世界领先的科技与科学观念的发展

第一节从雕版到活字

## 第二节火药、指南针与航海术

## 第三节医药学与养生术

## 第四节天文、地理与数学

(4) 根据材料四并结合所学知识，分析隋唐以来中国古代“世界领先的科技”产生的影响。(人选两节，每节限答一例)

27. 实现中华民族伟大复兴的中国梦是近代以来中国人民矢志不渝的愿望和追求。阅读材料，回答问题。

### 【醒过来】

材料一 1894年夏，亦即甲午战争前夜，孙中山曾到北京上书李鸿章，希望清政府能采纳他提出的仿效西方、以求“富国强兵之道，化民成俗之规”的改革主张。但因时局紧张等原因，李鸿章并没有接见他。上书的失败，尤其是中日甲午战争的爆发，民族危机的空前深重，使孙中山认识到“和平方法无可复试”，于是于这一年的11月在檀香山成立了革命团体“兴中会”。在他起草的《兴中会章程》中，孙中山提出了“振兴中华”这一具有民族复兴思想内涵的口号。

——摘编自郑大华《孙中山中华民族复兴思想的历史地位》

(1) 根据材料一，概括“振兴中华”这一口号提出原因，结合所学知识列举三例孙中山为实现该梦想而接续奋斗的革命活动。

### 【站起来】

材料二 中国共产党成立后，便义无反顾地担当起了中华民族伟大复兴的历史使命，领导中国人民谱写了惊天地、泣鬼神，气吞山河的壮丽史诗。在党的领导下，经过28年浴血奋战，推翻了压在人民头上的三座大山，于1949年3月从这里（西柏坡）出发到北京建立起一个崭新的中国，实现了中国从几千年封建专制政治向人民民主的伟大飞跃。

——摘编自魏四海《实现中华民族伟大复兴中国梦》

(2) 根据材料二并结合所学知识，指出“建立起一个崭新的中国”的标志性事件是什么，并说明其中“新”的具体表现。

### 【富起来】

材料三 改革开放是决定当代中国前途命运的关键一招，中国大踏步赶上了时代，实现了社会主义现代化进程中新的历史性跨越，创造了改革开放和社会主义现代化建设的伟大成就，中华民族迎来了伟大复兴的光明前景。

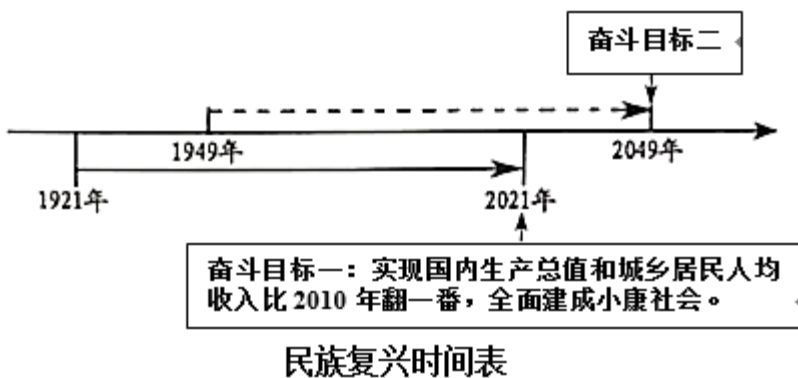
——摘编自当代中国研究所《为全面建成社会主义现代化强国而奋斗》

(3) 根据材料三并结合所学知识，指出“关键一招”是哪一会议作出的伟大决策，并说明“新的历史性跨越”在经济体制改革方面的具体表现。

## 【强起来】

材料四 习近平新时代中国特色社会主义思想擘（bèi）画了中华民族伟大复兴的行动纲领，确立了民族复兴的时间表和路线图，吹响了决胜全面建成小康社会的集结号，下达了全面建设社会主义现代化强国的动员令，标志着中国特色社会主义进入了新时代，中华民族伟大复兴开启了新纪元。

——摘编自陈远章《“强起来”的战略思考……关于站起来富起来强起来的思考（三）》



(4) 根据材料四并结合所学知识，指出“奋斗目标二”的具体内容。

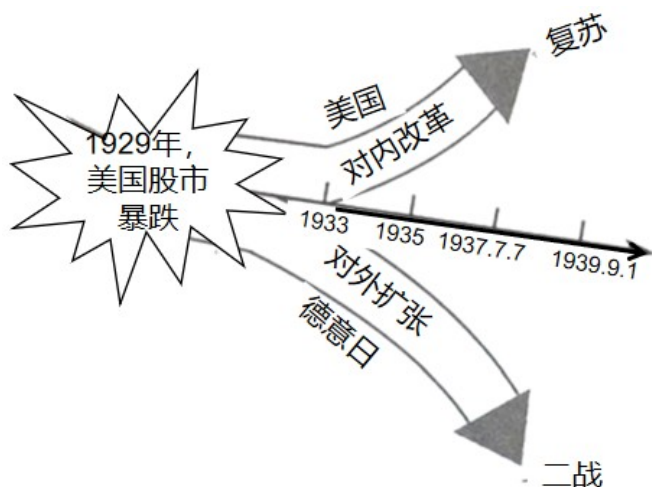
28. “危”与“机”并存，关键是在危机中能否把握住正确的航向。阅读材料，回答问题。

材料一 注重实际的列宁认识到让步是不可避免的，因而于1921年采取了“新经济政策”，这一政策允许局部地恢复资本主义。农民们被准许在公开市场上出售他们的农产品。私人可以经营小商店和小工厂。农民和新商人都能雇佣劳动，对列宁来说，新经济政策并不意味着社会主义在俄国的结束，而是暂时的退却，“后退一步为的是前进两步”。新经济政策成功地应付了数年战争留下的直接危机。到1926年时，工农业产量已达到1914年以前的水平。

——摘编自斯塔夫里阿诺斯《全球通史——从史前史到21世纪》（下）

(1) 根据材料一并结合所学知识，概括新经济政策的主要特点，并简析其意义。

## 材料二



(2) 根据材料二并结合所学知识,说明“‘危’与‘机’并存,关键是在危机中能否把握住正确的航向。”(要求:史论结合,逻辑严密,条理清晰,叙述完整)

