

2015年湖南省衡阳市中考历史试题

一、选择题（每小题2分，共20小题40分。每小题只有一个正确答案）

(2015·湖南衡阳) 1. 据新华社消息，甲午年清明公祭轩辕黄帝典礼2014年4月5日在陕西省黄陵县黄帝陵揭幕，来自全国各地、港澳台地区及海外华人华侨，近万人参加典礼。我们祭祀黄帝是因为（ ） C

- A. 他创造了使用至今的汉字 B. 他带领人们根治了水患
C. 他是中华民族的“人文初祖” D. 他建立了我国历史上第一个奴隶制国家

(2015·湖南衡阳) 2. 元朝时期，许多信仰伊斯兰教的阿拉伯人、波斯人同汉、蒙、维吾尔等民族，长期杂居相处，互通婚姻，逐渐融合，形成了一个新的民族，这个民族是（ ） C

- A. 壮族 B. 满族 C. 回族 D. 白族

(2015·湖南衡阳) 3. 《宋史》记载“……有造突火枪，内安子窠，如燃放，焰绝然后子窠发出，如炮声，远闻五十余步。”它描绘的是我国“四大发明”中哪一项的应用？（ ） D

- A. 造纸术 B. 印刷术 C. 指南针 D. 火药

(2015·湖南衡阳) 4. 历史大戏《台湾·1895》曾在央视一套热播，剧中李雪健饰演的李鸿章在1874年说出“八国联军刚刚火烧了圆明园”的台词，被笑指犯下了低级的历史错误。这是因为（ ） D

- A. 李雪健与李鸿章在形象上差异很大 B. 李鸿章没有经历过八国联军侵华战争
C. 圆明园是甲午中日战争后被日军所烧 D. 1860年英法联军火烧圆明园

(2015·湖南衡阳) 5. 20世纪前期，中国国民党和中国共产党相继成立，在历史上，两党既有合作又有对抗，其中第一次合作共同进行了（ ） A

- A. 北伐战争 B. 南昌起义 C. 农村革命根据地的创建 D. 抗日战争

(2015·湖南衡阳) 6. 山东蓬莱农民唐和恩使用过的扁担上，刻着他在解放战争时经历过的路线，包括山东、安徽、江苏三省有关的城镇和村庄的地名。由此判断，他支援过下列哪一战役？（ ） B

- A. 辽沈战役 B. 淮海战役 C. 平津战役 D. 渡江战役

(2015·湖南衡阳) 7. “新礼服兴，翎顶补服灭；剪发兴，辫子灭；爱国兴，瓜皮帽灭；天足兴，纤足灭；阳历兴，阴历灭；鞠躬礼兴，跪拜灭……”此民谣出现的时间是（ ） B

- A. 鸦片战争后 B. 辛亥革命后 C. 新中国成立后 D. 改革开放后

(2015·湖南衡阳) 8. 国家主席习近平勉励大家，“每个人都有理想和追求，都有自己的梦想。现在，大家都在讨论中国梦，我认为，实现中华民族伟大复兴，就是中华民族近代以来最伟大的梦想。”回首往昔，中华民族摆脱屈辱，终于站起来了，不断追梦始于（ ） C

- A. 中国共产党成立 B. 抗日战争胜利 C. 新中国成立 D. 三大改造的完成

(2015·湖南衡阳) 9. 歌曲《爱我中华》谱写了56个民族交融相处，生生不息，共同铸造中华民族辉煌的历史篇章。下列哪一政治制度的实行体现了中华民族大家庭的团结和兴盛？（ ） D

- A. 政治协商制度 B. 人民代表大会制度 C. 一国两制 D. 民族区域自治制度

(2015·湖南衡阳) 10. 印度电影《阿育王》获得奥斯卡最佳外语片奖。阿育王在印度家喻户晓，他在位时，孔雀王朝成为印度历史上第一个统一的王国。按照古代印度种姓制度的划分，阿育王应属于哪一等级？（ ） B

- A. 婆罗门 B. 刹帝利 C. 吠舍 D. 首陀罗

(2015·湖南衡阳) 11. 英国近代诗人雪莱曾说：“我们都是希腊人。”他这样说是因为（

) C

- A. 英国人都是希腊人的后裔 B. 英国人和希腊人生活习惯一样
C. 希腊是西方文明之源 D. 希腊人曾统治过欧洲

(2015·湖南衡阳) 12. 法国史学家米西勒认为, 14 世纪到 16 世纪欧洲封建社会末期是“人”和“世界”被发现的时代。这两个“发现”对世界历史产生的共同影响是 () D

- A. 传播了人文主义 B. 发现了美洲大陆
C. 把世界开始连为一体 D. 促进了早期资本主义的发展

(2015·湖南衡阳) 13. 《一杯苦酒——俄罗斯的布尔什维主义和改革运动》中说:“20 世纪 30 年代以来, 生铁、煤炭、钢、石油总是优先于饮食、住房、医院、学校和服务行业……对人的漠不关心到了无以复加的地步。”材料全面显示了“斯大林模式” () B

- A. 采取了高度集中的管理体制 B. 致力于工业化的同时忽视了民生的改善
C. 有利于苏联工业的迅速开展 D. 有利于苏联经济的持续发展

(2015·湖南衡阳) 14. 一战后列强在欧洲的新秩序是通过一系列的跳跃, 对一系列国家进行“约束”, 对一系列国家利益进行调整的基础上建立起来的。其中《凡尔赛和约》所“约束”的国家主要是 () C

- A. 苏俄 B. 日本 C. 德国 D. 中国

(2015·湖南衡阳) 15. 有人用“巨人林立”来概括当今世界局势, 美国是指手画脚的霸道巨人, 欧盟是齐心协力的兄弟巨人, 日本是蠢蠢欲动的独角巨人, 俄罗斯是元气未伤的北方巨人, 中国是迅速崛起的东方巨人, 这是针对什么世界格局作出的概括和解读? () D

- A. 世界经济全球化 B. 世界文化多元化
C. 世界政治民主化 D. 世界政治格局多极化

(2015·湖南衡阳) 16. 商代青铜器四羊方尊出土的地点是 () A

- A. 湖南宁乡 B. 湖南望城 C. 湖南道县 D. 湖南澧县

(2015·湖南衡阳) 17. 茶陵诗派的主要特征是“出于宋元, 溯源唐代”, 着眼于体制法度和音节声调。其创立者是 () D

- A. 屈原 B. 贾谊 C. 刘巴 D. 李东阳

(2015·湖南衡阳) 18. 著有《海国图志》, 提出“师夷长技以制夷”思想的湖南人是 () B

- A. 林则徐 B. 魏源 C. 曾国藩 D. 左宗棠

(2015·湖南衡阳) 19. 红军在长征途中, 下列哪一事件初步扭转长征以来的被动局面? () B

- A. 湘江之战 B. 通道转兵 C. 遵义会议 D. 巧渡金沙江

(2015·湖南衡阳) 20. 下列哪一战役为解放大西南奠定了基础? () C

- A. 渡江战役 B. 衡阳保卫战 C. 衡宝战役 D. 湘西会战

二、填空题 (每小题 2 分, 共 5 小题 10 分)

(2015·湖南衡阳) 21. 大约公元前 2070 年, 禹建立了第一个奴隶制王朝——夏;
公元 221 年, 秦王嬴政 (人名) 建立了我国第一个统一的封建王朝。

21. 夏、嬴政;

(2015·湖南衡阳) 22. 中国近代第一个屈辱的不平等条约中, 被迫割给英国的领土是香港;
《南京条约》的签订, 标志着中国完全沦为半殖民地半封建社会。

22. 《中英南京条约》、辛丑条约;

(2015·湖南衡阳) 23. 1935 年召开的遵义会议, 成为我党历史上一个生死攸关的
转折点; 1978 年底召开的十一届三中全会 (会议) 是建国以来党的历史上的伟大转折。

23. 遵义、十一届三中全会；

(2015·湖南衡阳) 24. 《_____》是一部古代民间故事集，其中包括《阿里巴巴与四十大盗》等名篇，生动地描述阿拉伯帝国丰富的社会生活；被列宁称为“俄国革命的镜子”、“一个天才的艺术家”的人是_____。

24. 天方夜谭、托尔斯泰；

(2015·湖南衡阳) 25. 1947年，美国_____的提出标志着冷战的开始；_____年，苏联解体称为冷战结束的标志。

25. 杜鲁门主义、1991。

三、探究题 (共4小题 50分)

(2015·湖南衡阳) 26. (13分) 对外交往是国家实力的展示。中国需要世界，世界也需要中国。阅读下列材料，回答问题

【经济交流】

材料一 丝绸之路的路线图



(1) 两次出使西域，并为丝绸之路的开辟作出了重要贡献的人物是谁？(1分)

(2) 丝绸之路经过的新疆地区自古以来是中国领土，古代中央政府注重加强对新疆地区的管辖，请写出西汉时期加强对新疆管辖的史实。(2分)


材料二 郑和七次下西洋，海上丝绸之路盛极一时。他每到一地，都以中国的丝绸和瓷器换取当地的特产或馈赠当地的国王，与当地居民公平交易，互通有无。不占别国一寸土地未掠夺他人一分财富。

——《郑和下西洋——伟大的和平使者》

(3) 根据材料二，指出郑和与海外各国交往有什么特点？(2分) 郑和下西洋产生的积极影响是什么？(2分)

【文化交流】

材料三



图一 鉴真坐像



图二 玄奘

(4) 图片一中的人物主要出使哪个国家？(1分) 图片二中的人物主要贡献是什么？(2分)

【政治交往】

材料四 中华人民共和国成立后，美国对新中国采取政治上孤立、经济上封锁、军事上包围的政策，中美关系长期以来处于敌对状态。20世纪70年代，随着国际形势的变化，中美两国领导人都认为有必要改善两国关系，实现双边关系正常化。

——摘自中华书局《中国历史》（八年级下）

(5) 中美建交是在哪一年？（1分）就如何建立中美“新型大国关系”，谈谈你的看法。（2分）

26. (1) 人物：张骞（1分） (2) 西汉设西域都护。（2分）。 (3) 特点：和平交往，公平交易。（2分）影响：扩大中国和亚非各国的经济文化交流；是世界航海史上的壮举；促进了南洋的开发。（2分。答出其中一点即可） (4) 图片一中的人物出使国家：日本（1分）图片二的人物主要贡献：西游天竺，学习佛法，写有《大唐西域记》。（2分） (5) 时间：1979年（1分）看法：加强合作与交流；求同存异；增强政治互信；促进经济合作与共赢；加强文化交流；加强国际事务合作。（2分。答出其中一点或其他言之有理者皆可）

（2015·湖南衡阳）27.（12分）改革与创新是一个民族和国家的必由之路，也是推动人类社会发展重要动力之一。阅读下列材料，回答问题。

【古代改革】

材料一 及秦孝公用商鞅，坏井田，开阡陌，急耕战之赏，……倾邻国而雄诸侯。……至于始皇，遂并天下。

材料二 如果说平城到洛阳的北魏是汉化的先行者，那么西魏、北周就是追随者。……北周政权，折射出中华民族历史重新走向全国统一的曙光……隋朝的统一，建立在魏晋南北朝民族融合的基础之上。

——《简明中国史读本》

(1) 据材料一，归纳“商君”改革的两项措施。（2分）

(2) 据材料二，指出隋朝统一的基础是什么？（2分）

(3) 试比较以上两次改革的历史作用有何相同之处？（2分）

【近代改革】

材料三 右图

(4) 依据材料并结合所学知识，指出明治维新中学习“西方文明”的主要表现有哪些？（3分）


【现代改革】

材料四 上世纪70年代末，安徽凤阳小岗村农民首先实行分田包产到户，自负盈亏。这一做法得到中央肯定，并在中央指导下，在农村逐步推行，农业生产得到大发展，农村开始富裕起来了。

——改编自人教版《中国历史》（八年级下册）

(5) 十一届三中全会后，我国农村经济体制改革的主要措施是什么？（1分）有何意义？（2分）

27. (1) 措施：承认土地私有（废除井田制）；奖励耕战；（2分。答对一



日本赴欧美参观团出港

1871年11月—1873年9月，日本赴欧美使节团先后出访了美国、英国、法国、德国等12个欧美国家，亲身体验和耳闻目睹了西方文明，这是使节团从横滨出港时的情景。


——摘自岳麓版《世界历史》九年级上

项记 1 分) (2) 基础: 魏晋南北朝民族大融合。(2 分) (3) 相同: 都为实现国家统一奠定了基础。(2 分) (4) 表现: 创办近代企业, 引进西方技术; 改革封建军制, 创办近代化军队; 提倡“文明开化”, 努力发展教育(3 分。答对一项记 1 分) (5) 措施: 家庭联产承包责任制(1 分); 意义: 解放了农村生产力, 调动了农民的生产积极性, 促进了农村经济的发展。(2 分)。

(2015·湖南衡阳) 28. (12 分) 实现工业化是中国人梦寐以求的愿望, 工业文明取代农业文明是人类进步的重要标志。阅读下列材料, 回答问题。

【中国工业化】

材料一



江南制造总局汉



阳铁厂的高炉

(1) 洋务运动是中国工业化的开端, 材料一体现了洋务运动哪两个方面的内容? (4 分)

材料二 建国初期, 面对我国十分落后的工业, 毛泽东感慨地说: “现在文明能造什么? 能造桌子椅子, 能造茶碗茶壶, 能种粮食, 还能磨成面粉, 还能造纸, 但是一辆汽车、一架飞机、一辆坦克、一辆拖拉机都布恩那个制造”

(2) 为了改变材料二的状况, 我国政府编制了发展国民经济的第一个五年计划, 集中力量主要发展什么? (2 分)

【西方工业化】

材料三 200 多年前, 曾经发生过一场完全不同的革命, 这次革命没有你死我活的拼杀, 而是通过和平的变革, 彻底改变了人们的生产和生活方式。

(3) 材料三中的“革命”是指什么? 首先发生在哪一个国家? (2 分)

材料四 19 世纪 70 年代开始的那次革命, 使我们已经习惯了借助电灯照明, 使用电话与人交流, ……遥望蓝天, 银白色的飞机在空中翱翔。

(3) 材料四中“电灯照明”、“飞机在空中翱翔”分别得益于谁的发明? (2 分)

(4) 综上所述, 指出中西工业化的途径有何不同? (2 分)

28. (12 分) (1) 创办近代军事企业, 创办近代民用企业。(4 分)

(2) 重工业; (2 分) (3) 工业革命、英国。(2 分) (4) 爱迪生、莱特兄弟。(2 分)

(5) 中国先发展重工业后发展轻工业(中国先重后轻); (2 分)

(2015·湖南衡阳) 29. (13 分) 战争与和平是一个永恒的历史主题, 是现代人类面临的重大课题。今天的世界是一个既充满希望又遍布危机的世界。阅读下列材料, 回答问题。

材料一

第一次世界大战的相关数据

参战国家	卷入人口	伤亡人数	经济损失
30 多个	15 亿人口	3000 余万	3400 多亿美元

(1) 依据材料一, 分析第一次世界大战给人带来了什么影响? (2 分)

材料二 每一（签字国）政府各自保证与该政府作战的三国同盟成员国及其附从者使用其全部资源，不论军事的或经济的。

——1942年1月《联合国宣言》

（2）《联合国宣言》的发表标志着什么组织的建立？（2分）此后，签署宣言的国家加强了政治上的互相合作，军事上的互相配合。请各举一史实。（4分）

（3）中国是《联合国宣言》的签字国之一，中国的抗日战争为世界反法西斯战争的胜利做出了重要贡献。试分析抗日战争胜利的国内意义。（3分）

（4）就如何避免新的世界大战争的悲剧重演，请谈谈你的看法。（2分）

29.（1）影响：给人类带来了深重苦难或造成巨大的人员伤亡和经济损失。（2分）。

（2）组织：世界反法西斯同盟（2分），政治上：召开雅尔塔会议或德黑兰会议、开罗会议、波茨坦会议。（2分。答出其中一个即可）军事上：诺曼底登陆战或苏联出兵中国东北、中国远征军入缅作战。（2分。答出其中一个即可）

（3）意义：是鸦片战争以来第一次取得完全胜利的民族解放战争；洗刷了民族耻辱，成为中华民族由衰败到振兴的转折点。（3分。答出两点记3分，答出其中一点记1分）

（4）认识：反对战争，维护世界和平；充分发挥联合国的作用；反对霸权主义；加强国际合作；国际社会矛盾与争端应该通过和平谈判、友好协商解决，而不应该诉之武力。（2分。答出其中一点或其他言之有理即可）