

2021年四川省甘孜州中考历史试题

(满分 50 分，同道德与法治同堂用时 90 分钟)

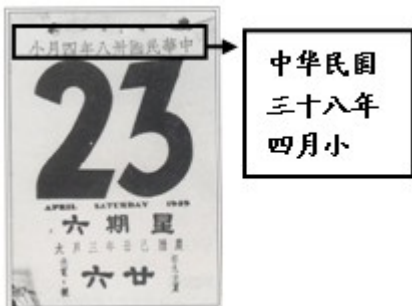
第 I 卷 (选择题)

一、单项选择题 (下列各小题的四个选项中，只有一个是虽符合题意的。每小题 15 分，共 30 分)

1. 下表为鸦片战争前后英国输华商品总值变化表。造成这种变化的主要原因是 ()

年份	输华商品总值 (英镑)
1837 年	90 多万
1843 年	145.6 万
1845 年	239.4 万

- A. 清政府割香港岛给英国
B. 清政府赔款 2100 万银元
C. 中国丧失关税自主权
D. 中国完全丧失了主权
2. 一位史学家说：“它们没有开展任何仿效西方制度和文化的尝试，自强的努力仅仅触及了现代化的表皮。”这位史学家评价的事件是 ()
- A. 洋务运动 B. 戊戌变法 C. 辛亥革命 D. 新文化运动
3. 1895 年春，数百名汇聚在北京应试的各省举人联名上书光绪帝，请求废除条约、迁都内地、推行变法。他们要求废除的条约是 ()
- A. 《南京条约》 B. 《北京条约》 C. 《马关条约》 D. 《辛丑条约》
4. 他“以爱国的赤诚之心，秉持抗日救亡的民族大义，联共抗日，为结束十年内战、促成第二次国共合作、实行全民族抗战作出了历史性的贡献，堪称中华民族的千古功臣”。“他”是 ()
- A. 林则徐 B. 邓世昌 C. 杨靖宇 D. 张学良
5. 下图为某天日历。根据日历推断这一天 ()



- A. 中国工农红军正式创建

- B. 中国开始了全国性抗战
- C. 刘邓大军挺进大别山
- D. 人民解放军占领南京
6. 1956年，毛泽东在一次国务会议上说：“在我国条件下，用和平的方法，不但可以改变个体的所有制为社会主义的集体所有制，而且可以改变资本主义所有制为社会主义所有制。”这一讲话聚焦的是（ ）
- A. 新中国成立 B. 三大改造 C. 工业化建设 D. 抗美援朝
7. 文艺复兴“促使欧洲人从以神为中心过渡到以人为中心，在于唤起人的觉醒，使人们把关注的重点从来世转移到现世”。这一论述说明文艺复兴（ ）
- A. 有利于人的思想解放 B. 促进了欧洲文化艺术的繁荣
- C. 推动了新航路的开辟 D. 刺激了资产阶级革命的发生
8. 有人认为他“是一位伟大的航海家”，也有人认为他“是西方殖民扩张的先驱者”。这里的“他”应是（ ）
- A. 华盛顿 B. 拿破仑 C. 达·芬奇 D. 哥伦布
9. 有学者指出：“‘光荣革命’后英国建立了一个合适的政治制度，这个制度为工业革命首先在英国发生提供了宽松、平和的政治环境。”“这个制度”是（ ）
- A. 中央集权制 B. 总统制 C. 民主共和制 D. 君主立宪制
10. “它的发表，大大地鼓舞了北美人民的革命斗志，成为北美人民争取独立的旗帜。”这里的“它”指的是（ ）
- A. 《权利法案》 B. 《人权宣言》 C. 《独立宣言》 D. 《拿破仑法典》
11. 二十多年的不懈努力成就了一个划时代的伟大发明，使人类进入“蒸汽时代”，使他从一个仪表修理厂的徒工，成为英国皇家学会院士和法国科学院外籍会员。他是（ ）
- A. 凯伊 B. 哈格里夫斯 C. 瓦特 D. 斯蒂芬森
12. 日本明治维新中推行“改历”“易服”“剪发”等措施的目的是（ ）
- A. 加强中央集权 B. 建立新式军队 C. 发展近代工业 D. 促进文明开化
13. 牛顿以“万有引力定律”把“造物主”从无生命现象的研究领域驱逐了出去，达尔文则把“造物主”从有生命现象的研究领域驱逐了出去。达尔文依据的是（ ）
- A. 进化论 B. 微积分学 C. 相对论 D. 光学分析
14. 把社会主义由一种理论思潮、一种政治理想，首次变成了现实，变成了一种崭新 国家制度的革命事件是（ ）
- A. 二月革命 B. 十月革命 C. 巴黎公社革命 D. 法国大革命
15. 下列四个选项中，从史实到结论的推断，合理的是（ ）

	史实	结论
--	----	----

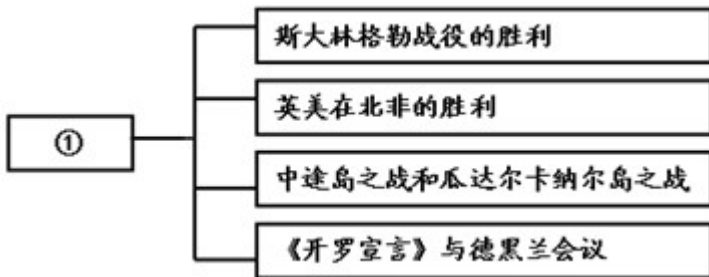
A	德国的全部海外殖民地由英、法、同等国瓜分	巴黎和会具有分赃性质
B	巴黎和会上列强将德国在中国山东权益全部转给日本	北洋政府没有进行外交努力
C	《九国公约》宣称尊重中国的主权、独立与领土完整	中国国际地位显著提高
D	英国、法国和美国操纵了巴黎和会，美国主导了华盛顿会议	美国是两次会议的最大受益者

- A. A B. B C. C D. D

16. 罗斯福新政期间，美国政府给农民适当的补贴，让农民缩减耕地和屠宰牲畜。这一政策的直接目的是（ ）

- A. 提供就业机会 B. 调节产销矛盾 C. 维护生态平衡 D. 保障工人权益

17. 下图是一学生学习第二次世界大战时设计的知识结构图。图中①处应是（ ）



- A. 战争的爆发 B. 战争的扩大 C. 战争的转折 D. 战争的结束

18. 1971年，西欧的钢产量超过美国，欧洲的汽车大举进入美国汽车的国内和国外市场，西欧的食品能够实现自给自足，同时也成为世界最大的奶制品出口产地。这说明（ ）

- A. 欧洲已摆脱美国控制 B. 西欧国家实现联合自强
C. 欧洲经济已超越美国 D. 美国的霸主地位已终结

19. 二战后，区域一体化的进程令人瞩目。其中率先发行和使用统一货币的区域一体化组织是（ ）

- A. 欧盟 B. 世界贸易组织 C. 北约 D. 上海合作组织

20. 冷战后的30年里，美国参与的战争和军事干预多达228起，平均每年7.6起。美方还动辄挥舞制裁大棒，对其他主权国家实施单边非法制裁。这表明（ ）

- A. 国际政治新秩序已建立 B. 霸权主义威胁世界安宁
C. 世界多极化格局已形成 D. 美国建立了“单极世界”

第II卷（非选择题）

二、列举题（37题3分，38题3分，共6分）

21. 世界历史上的一些重要文件影响深远。结合所学知识，补全空白处的相关内容。

- (1) 1848 年，《____》发表，标志着马克思主义诞生。
- (2) 美国内战中，林肯发表了《____》，废除了奴隶制。
- (3) 第二次世界大战中，《____》的签署，标志着世界反法西斯联盟正式形成。

22. 政策制度应随着社会发展不断调整。结合所学知识，补全空白处的相关内容。

- (1) 工业革命时期，____制度是与机器大生产相适应的生产组织形式，它的出现极大地促进了经济发展。
- (2) 罗斯福新政采用____手段来扭转经济形势，对资本主义世界产生了深远影响。
- (3) 二战后，为缓和社会矛盾，主要资本主义国家建立起____制度，为经济发展创造稳定的社会环境。

三、材料解析题（4分）

23. 科技改变生活，影响世界 阅读材料，完成下列要求。


材料一



① 法拉第



② ____



(1) 材料一中②处的人物是谁？结合所学知识简要说明③与④之间的关系。

材料二 19 世纪末，科学正在创造全新的工业，正在深深地影响着西方人的生活方式，并且由科学革命造成的这种变化还以无数方式直接和间接地影响整个世界。

——据[美]斯塔夫里阿诺斯《全球通史——从史前史到 21 世纪》

(2) 根据材料二并结合所学知识，举出一种 19 世纪末产生的全新工业。并举例说明当时科学革命带来的影响。

24. 在中国共产党的领导下，中国实现了伟大飞跃。阅读材料，回答问题。

材料一

一、我们的党定名为“中国共产党”。

二、我们党的纲领如下：

1. 革命军队必须与无产阶级一起推翻资本家阶级的政权，必须援助工人阶级，直到社会阶级区分消除的时候；
2. 直至阶级斗争结束为止，即直到社会的阶级区分消灭为止，承认无产阶级专政。

——摘自《中国共产党纲领》

(1) 材料一内容是哪一年通过的？根据材料一，概括中国共产党的奋斗目标。

材料二



天安门广场升起的
第一面五星红旗

表 新中国钢铁、粮食、发电量变化统计表

时间	钢铁(吨)	粮食(吨)	发电量(千瓦时)
1949年	16万	11318万	43亿
1986年	5220万	39151万	4496亿
2018年	92800万	65789万	68000亿

——据中国国家统计局网站数据制作

(2) 上图反映的重大事件是什么？这一事件有何重大历史意义？

(3) 根据表，概述新中国成立以来我国经济建设取得的成就。结合所学知识分析取得这些成就的主要原因。

