

2010年全国中考世界近代史整理

目录

选择题

第四单元 步入近代

第10课 资本主义时代的曙光

第11课 英国资产阶级革命

第12课 美国的诞生

第13课 法国大革命和拿破仑帝国

第14课 “蒸汽时代”的到来

第五单元 殖民扩张与殖民地人民的抗争

第15课 血腥的资本积累

第16课 殖民地人民的抗争

第六单元 无产阶级的斗争与资产阶级统治的加强

第17课 国际工人运动与马克思主义的诞生

第18课 美国南北战争

第19课 俄国、日本的历史转折

第七单元 垄断资本主义时代的世界

第20课 人类迈入“电气时代”

第21课 第一次世界大战

第八单元 璀璨的近代文化

第22课 科学和思想的力量

第23课 世界的文化杰作

单元综合

填空题

改错题

列举题

读图简答题

材料分析题

探究题（问答题）

选择题

第四单元 步入近代

第10课 资本主义时代的曙光

(2010·山东聊城) 24. 以下符合文艺复兴时期人文主义内涵的语句是 () **D**

- A. 国家和君权是上帝的造物 B. 上帝的伟大是人不能企及的
C. 上帝随意创造和毁灭一切 D. 人类可以成就伟大的事业

(2010·四川自贡) 27. 小刚在学习“新航路开辟”时, 做了如下笔记, 其中不正确的是 () **C**

- A. 根本原因: 资本主义萌芽 B. 客观条件: 罗盘针的使用

C. 重大事件：麦哲伦发现新大陆 D. 消极影响：引发了殖民掠夺的狂潮

(2010·江苏南京) 22. 为欧洲资本主义社会的产生奠定了思想文化基础的是 () B

A. 新航路的开辟 B. 文艺复兴 C. 西欧城市的重新兴起 D. 三角贸易

(2010·四川内江) 22. 世界名画《蒙娜丽莎》和《最后的晚餐》，是出自文艺复兴时期哪一位著名画家？ () D

A. 但丁 B. 哥白尼 C. 凡·高 D. 达·芬奇

(2010·江苏苏州) 13. “……从西班牙向西航行，横渡大洋，可以到达印度，……我在1492年发现印度大陆以及大批岛屿，包括被印第安人称为的海地……在内。”留下这段遗言的航海家应该是 () C

A. 达·伽马 B. 迪亚士 C. 哥伦布 D. 麦哲伦

(2010·广东东莞) 29. 文艺复兴伊始，有一部文学作品描写了人类战胜邪恶，到达人生真善美境界和实现理想社会的故事片，抨击了封建社会的精神支柱——天主教会的种种罪恶，谴责了统治阶级的腐败和贪婪。这部作品是 () C

A. 《哈姆雷特》 B. 《奥赛罗》 C. 《神曲》 D. 《李尔王》

(2010·广东东莞) 30. “各国人民共同生活在一个‘地球村’里，应该携手合作、共同努力，推动建立公正合理的国际政治经济新秩序。”把世界连成一体开始于 () B

A. 文艺复兴运动 B. 新航路开辟 C. 英国资产阶级革命 D. 英国工业革命

(2010·湖北武汉) 17. 美国曾在芝加哥举办哥伦布纪念博览会，以缅怀他在开辟新航路方面的历史功绩。从世界范围看，新航路开办促使 () A

A. 全球联系加强，世界开始走向整体

B. 整个世界基本形成了统一的市场

C. 世界最终成为一个整体

(2010·浙江杭州) 21. 16世纪前后，欧洲诞生了新的社会阶层，人们的思想观念发生变化。以下事例能作为上述观点佐证的有 () B

① 新兴资产阶级大力宣传人文精神

② “知识就是力量”观点的提出，大大深化了人们对自然的认识

③ 哥白尼提出的“日心说”被誉为“科学革命的开端”

④ 16世纪被称为“科学的世纪”

A. ①②③④ B. ①②③ C. ①③ D. ②④

(2010·山东青岛) 31. 14~16世纪，欧洲的思想领域和商业交通领域发生了巨大的变化，被称为“人被发现”和“世界被发现”的时代。其中“世界被发现”是指 () D

A. 尼德兰革命 B. 文艺复兴 C. 宗教改革 D. 新航路的开辟

(2010·湖北鄂州) 11. 文艺复兴时期的人们认为：人类可以成就伟大的事业。这充分体现出的精神是 () A

A. 人文主义 B. 唯物主义 C. 唯心主义 D. 浪漫主义

(2010·湖南岳阳) 16. 名画《最后的晚餐》是什么宗教的教堂壁画？ () C

A. 佛教 B. 伊斯兰教 C. 基督教 D. 犹太教

(2010·江苏泰州) 15. 名画《蒙娜丽莎》典型地表现了文艺复兴时期的时代精神和人格力量，是一部伟大的人文主义作品，主要表现在 () B

A. 达·芬奇成功地运用“圣像图”的画法

B. 它歌颂世俗人生，以人性反对神性，以人权反对神权，表现人性的美

C. 达·芬奇将解剖学、透视法和明暗转移法运用其中

D. 它充分体现了神权的力量

(2010·山东滨州) 16. 一次座谈会上, 朱老师说“我刚从但丁和莎士比亚的故乡回来。”朱老师去的地方是 () A

A. 意大利和英国 B. 英国和法国 C. 意大利和法国 D. 英国和俄国

(2010·广东汕头) 17. 文艺复兴时期的一位作家说:“人是能够随心所欲地改造自己的。”这主要反映了资产阶级 () D

A. 否定宗教信仰的思想 B. 倡导由开明君主执政的思想
C. 追求自由平等的思想 D. 肯定人的价值和创造性的思想

(2010·广东汕头) 18. “哥伦布前后进行了四次前往美洲的航行, 但都没有找到黄金、珠宝, 或者香料、丝绸。结果令资助他的西班牙国王深感失望。”对此理解最为正确的是 () D

A. 当时的美洲没有黄金、珠宝 B. 哥伦布历经千辛万苦才航行到美洲
C. 哥伦布具有勇于探索的精神 D. 掠夺财富是哥伦布航行的直接驱动力

(2010·广东汕头) 19. 16世纪, 欧洲的主要商路和国际贸易中心发生了转移, 使大西洋沿岸的工商业经济繁荣起来, 推动了欧洲资本主义的产生和发展。欧洲主要商路发生转移的主要原因是 () A

A. 新航路开辟 B. 文艺复兴 C. 启蒙运动 D. 工业革命

(2010·山西) 9. 15、16世纪, 打破了世界各地间封闭和孤立状态的重大事件是 () C

A. 亚历山大东征 B. 郑和下西洋 C. 新航路开辟 D. 三角贸易

(2010·湖北黄冈) 13. 新航路的开辟, 使人类社会第一次由相互隔离、孤立的状态逐渐走向一个整体。在新航路开辟过程中, 没有到达印度洋的航海家有 () B

①达·伽马 ②哥伦布 ③麦哲伦
A. ①② B. ②③ C. ①③ D. ①②③

(2010·江苏连云港) 26. 将相互隔绝和鼓励的世界开始连成一体的是 () C


A. 郑和下西洋 B. 文艺复兴 C. 新航路开辟 D. 第一次世界大战

(2010·河南) 13. 14~16世纪, 世界历史发生着深刻而巨大的变化, 一个崭新的时代即将到来。下列事件为新时代的到来创造条件的是 () C

①文艺复兴 ②英国资产阶级革命 ③新航路的开辟 ④法国大革命
A. ①② B. ②③ C. ①③ D. ③④

(2010·山东济宁) 26. 1405~1433年, 郑和率船队七次下西洋, 创造了世界航海史上的奇迹。半个世纪后, 右图人物在西班牙皇室资助下, 率船队横渡大西洋。他的航海使欧洲进入“地理大发现”时期, 他最早发现美洲新大陆。他是 () C

A. 迪亚士 B. 达·伽马 C. 哥伦布 D. 麦哲伦



(2010·福建龙岩2) 16. 与名画《最后的晚餐》的主人公耶稣相关的宗教是 () A

A. 基督教 B. 佛教
C. 伊斯兰教 D. 道教

(2010·广东) 18. 但丁被誉为“旧时代的最后一位诗人, 新时代的最初一位诗人。”开辟这个“新时代”的是 () A

A. 文艺复兴运动 B. 启蒙运动 C. 英国光荣革命 D. 法国大革命

(2010·吉林) 6. 打破地区间的相对孤立和相互隔绝状态, 使世界开始连成一个整体的事件是 () B

A. 文艺复兴运动 B. 新航路的开辟 C. 法国大革命 D. 工业革命

(2010·山东莱芜) 15. 某学者写道, 在16世纪, 人们将“文艺复兴”一词只理解为恢复古代

传统。你认为文艺复兴的实质应是 () **A**

- A. 资产阶级的思想文化运动 B. 古典文化的复兴
C. 封建思想的兴起 D. 宗教领域内的斗争

(2010·四川巴中) 28. 在新航路开辟的过程中, 航海家们乘风破浪, 勇往直前。其中, 发现美洲的是 () **C**

- A. 达·伽马 B. 迪亚士 C. 哥伦布 D. 麦哲伦

(2010·四川巴中) 30. 有这样一幅地界著名油画, 画中妇女温柔、典雅, 面带微笑, 那“神秘的微笑”给人们以无限丰富的联想, 这幅画是 () **D**

- A. 《神曲》 B. 《哈姆雷特》 C. 《最后的晚餐》 D. 《蒙娜丽莎》

(2010·福建莆田) 15. 《神曲》一方面给中世纪文化以艺术性的总结, 另一方面又呈现出文艺复兴时代人文主义思想的曙光。这部作品的作者是 () **C**

- A. 莎士比亚 B. 达·芬奇 C. 但丁 D. 托尔斯泰

(2010·福建三明) 14. 右图是上海世博会会徽寓意是你、我、他的人类社会。世博会的核心理念永远都是我们——“人”。下列事件中最先提倡“发扬人的个性, 追求人在现实生活中的幸福”的是 () **A**



- A. 文艺复兴 B. 英国资产阶级革命
C. 南北战争 D. 工业革命

(2010·湖北黄石) 27. 西方有一部长诗叙述了作者在梦境中游历地狱、炼狱和天堂三界的故事故事。这部长诗 () **B**

- A. 表达了复古主义情绪 B. 就是著名的《神曲》
C. 是用拉丁文写成的 D. 是莎士比亚所作

(2010·湖北荆门) 12. “我不想变成上帝, 或居住在永恒中……我自己是凡人, 我只要求凡人的幸福。”这句话体现的思想是 () **C**

- A. 禁欲主义 B. 蒙昧主义 C. 人文主义 D. 理性主义

(2010·湖北孝感) 31. 1992年, 为纪念伟大的航海家哥伦布发现美洲新大陆 500 周年, 西班牙政府在塞维利亚举办了一届世纪博览会。下列名称与哥伦布航海活动直接相关的是 () **B**

- A. 好望角 B. 印第安人 C. 麦哲伦海峡 D. 阿拉伯数字

(2010·湖北宜昌) 15. 打破了世界各地间的封闭和孤立状态, 把旧大陆和新大陆联系在一起, 世界历史迈出了从分散走向整体的关键性一步指的是 () **A**

- A. 新航路开辟 B. 三角贸易 C. 文艺复兴 D. 工业革命

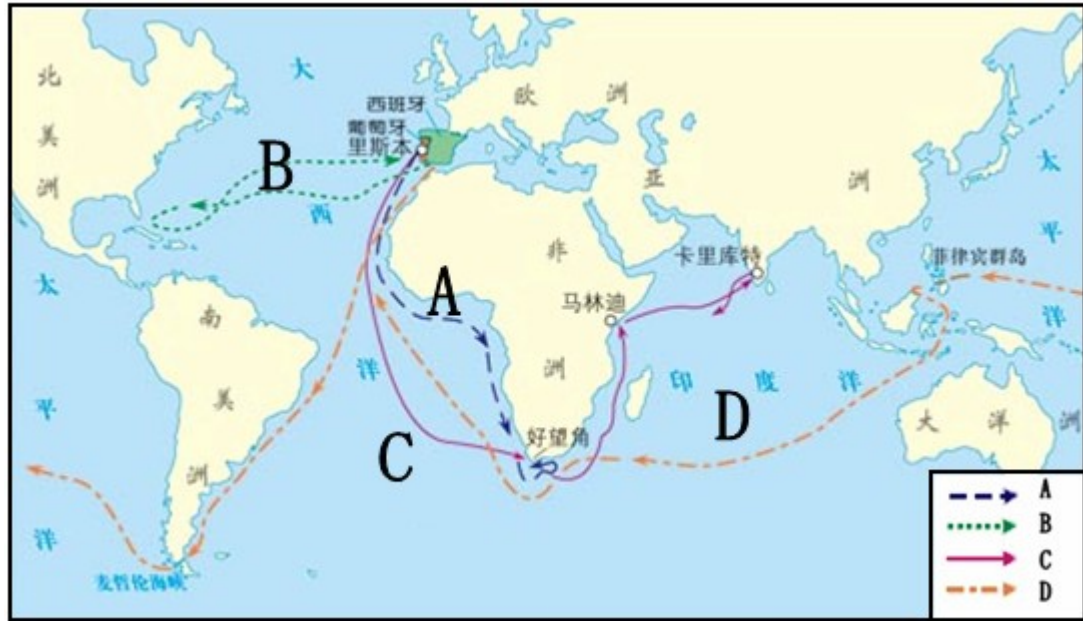
(2010·吉林长春) 8. 他被誉为旧时代的最后一位诗人, 同时又是新时代的最初一位诗人。他是 () **A**

- A. 但丁 B. 达·芬奇 C. 莎士比亚 D. 哥伦布

(2010·江苏宿迁) 29. “公元 1500 年前后的地理大发现, 拉开了不同国家相互对话和相互竞争的历史大幕。”对文中的“地理大发现”作出重大贡献的是 () **D**

- A. 张骞 B. 玄奘 C. 郑和 D. 哥伦布

(2010·山东泰安) 20. 历史课上, 老师指着下图 A、B、C、D 中的一条航行路线说: “哥伦布就是沿着这条航线发现美洲大陆的”老师指的航线应是 () **B**



(2010·四川达州) 25. 假如你穿越时空, 跟随下列航海家的船队航行, 最先到达东方的是 () **C**

- A. 迪亚士 B. 哥伦布 C. 达·伽马 D. 麦哲伦

(2010·四川攀枝花) 1. 通过学习世界历史, 同学们知道了欧洲资本主义萌芽首先出现在 () **A**

- A. 意大利 B. 英国 C. 法国 D. 荷兰

(2010·四川攀枝花) 2. 邮票中的历史: 这张邮票以哥伦布航海为主题, 是为了纪念他 () **B**

- A. 最先到达非洲最南端 B. 发现了美洲
C. 开辟了到达亚洲的航路 D. 完成了环球航行



(2010·四川攀枝花) 3. 新航路开辟后加速了资本主义的发展, 最为突出的表现是 () **D**


- A. 资产阶级人数剧增 B. 雇佣劳动力增加
C. 封建地主阶级衰落 D. 资本原始积累速度加快

(2010·内蒙古包头) 9. “公元 1500 年前后的地理大发现, 拉开了不同国家相互对话和相互竞争的历史大幕。”“地理大发现”是通过下列哪一活动实现的? () **A**

- A. 新航路开辟 B. 早期殖民扩张 C. 火车、轮船的发明 D. 电话电报的使用

(2010·四川成都) 16. 右图人物是“由旧时代走向新时代的第一位诗人”, 他的代表作品是 () **A**

- A. 《神曲》 B. 《罗密欧与朱丽叶》
C. 《哈姆雷特》 D. 《堂吉珂德》



(2010·四川南充) 11. 文艺复兴时期, 提倡以人为本, 肯定人性, 肯定现实生活的社会思潮是 () **B**

- A. 启蒙思想 B. 人文主义 C. 进化论 D. 三民主义

(2010·江苏淮安) 21. 印第安人说哥伦布是个“恶魔”, 欧洲人说哥伦布是一个“有功之臣”。你认为下列哪个观点能客观公正地评价哥伦布的远航活动? () **C**

- A. 哥伦布把欧洲强盗带到美洲, 给印第安人带来了灾难

- B. 哥伦布把欧洲文明传到美洲，将落后的美洲带入文明时代
 C. 哥伦布给印第安人带来巨大灾难，同时在客观上推动了西欧资本主义的产生和发展
 D. 哥伦布远航到达美洲，体现了敢于冒险、勇于拼搏的精神

(2010·江苏扬州) 17. 文艺复兴时期，许多文学家、艺术家、思想家创作了大量的经典作品，下列组合正确的是 () D

- A. 但丁——《圣经》 B. 培根——《蒙娜丽莎》
 C. 达·芬奇——《神曲》 D. 莎士比亚——《哈姆雷特》

(2010·福建宁德) 14. “它扩展了人类活动的范围，海洋在人类文明中的地位迅速上升，世界的人种地理分布、宗教与文化格局开始发生重大变化。”推动这种巨变的历史事件是 () B

- A. 郑和下西洋 B. 新航路的开辟 C. 丝绸之路的开通 D. 鉴真东渡

(2010·内蒙古赤峰) 16. 下列历史事件中，密切了世界各地的联系，使世界生成一个整体的是 () C

- A. 三大宗教创立 B. 文艺复兴 C. 新航路开辟 D. 殖民掠夺

(2010·湖南株洲) 14. “我在 1492 年发现印度大陆以及大批岛屿……我在那绵延六百里长的小西班牙(指海地岛)得告成功。我征服该岛并使它的居民纳贡。”材料中的“我”指的是 () C

- A. 郑和 B. 麦哲伦 C. 哥伦布 D. 达·伽马

(2010·山东菏泽) 7. 14~17 世纪，世界历史在欧洲的推动下，开始迈入近代社会的门槛。下列相关的历史信息中，搭配不正确的是 () D

- A. 中世纪的最后一位诗人——但丁 B. 开始把世界联结成一个整体——新航路的开辟
 C. 从以神为中心到以人为中心——文艺复兴 D. 发现美洲新大陆——麦哲伦

(2010·广东梅州) 9. “他相信地圆学说，他要到东方寻求宝藏；他没有到达东方，他没有寻到宝藏，他发现了一块新的大陆”。他是开辟新航路的著名航海家 () A

- A. 哥伦布 B. 达·伽马 C. 迪亚士 D. 麦哲伦

(2010·辽宁营口) 10. 2010 年 1 月 12 日，海地发生大地震，引起全世界的关注。历史上最早把世界目光引向海地的人是 () D

- A. 麦哲伦 B. 达·伽马 C. 迪亚士 D. 哥伦布

第 11 课 英国资产阶级革命

(2010·浙江绍兴) 11. 在民主国家里，法律便是国王；在专制国家里，国王就是法律。下列国家中最早开始从“国王就是法律”向“法律便是国王”转变的是 () A

- A. 英国 B. 法国 C. 美国 D. 中国

(2010·江苏南京) 23. 对同一时间发生的历史事件进行归纳、有助于历史知识的掌握。中俄《尼布楚条约》签订的那一年，下列哪一部文献颁布？ () A

- A. 《权利法案》 B. 《独立宣言》 C. 《人权宣言》 D. 《法典》

(2010·广东东莞) 31. 据新华社伦敦 5 月 12 日电：英国女王伊丽莎白二世任命保守党领袖卡梅伦为首相，并授权他组建新一届政府。伊丽莎白二世虽然是英国国家的象征，却不掌握国家的最高权力，这种政治制度源于 () A

- A. 《权利法案》 B. 《独立宣言》 C. 《人权宣言》 D. 《人民宪章》

(2010·湖南邵阳) 11. 右列漫画反映的政体是 () A

- A. 君主立宪制 B. 君主专制
 C. 民主共和制 D. 人民代表大会制



(2010·湖北鄂州) 12. “就在 1689 年秋天, 一群人开始共同统治一个国家……它标志着一个人统治一个国家的时代在这个国家正式结束。”这个国家应该是 () **B**

A. 意大利 B. 英国 C. 西班牙 D. 法国

(2010·四川资阳) 25. 抓关键词是学习历史的方法之一。与“英国议会”、“制约王权”、“君主立宪”三个关键词直接相关的重要法律文件是 () **A**

A. 《权利法案》 B. 《独立宣言》 C. 《人权宣言》 D. 1787 年宪法

(2010·江苏泰州) 16. “凡未经议会同意, 以国王权威停止法律或停止法律实施之僭越权力, 为非法权力。……凡未经议会准许, 借口国王特权, 为国王而征收, 或供国王使用而征收金钱, 超出议会准许之时限或方式者, 皆为非法。”对于以上材料的解说不正确的是 () **C**

A. 该材料摘自《权利法案》 B. 限制了国王的权力
C. 体现了孟德斯鸠的“三权分立”学说 D. 确立了君主立宪制

(2010·湖北襄樊) 17. 确定英国为君主立宪制政体的法律文件是 () **A**

A. 《权利法案》 B. 英国《宪法》 C. 《人权宣言》 D. 《独立宣言》

(2010·湖北荆州) 17. “法律由议会制定, 法律一旦制定, 国王就不能中止。”这一材料所反映的现象开始于 () **D**

A. 克伦威尔执政时期 B. 查理一世统治时期
C. 查理二世统治时期 D. 《权利法案》颁布后

(2010·湖南衡阳) 17. “凡未经议会同意, 而以国王权威停止法律或施行法律, 均属非法。”这则引文出自下列哪一文献? () **A**

A. 《权利法案》 B. 《独立宣言》 C. 《人权宣言》 D. 《法典》

(2010·吉林) 7. 国王的权利受到法律制约, 议会是国家的最高权力机关, 这种体制最早出现在 () **A**

A. 英国 B. 美国 C. 法国 D. 德国

(2010·山东莱芜) 16. “15 世纪以后, 世界贸易集中地逐渐移向大西洋沿岸……经济力量的转移预示着新大国的兴起。”引文中的“新大国”爆发资产阶级革命的根本原因是 () **B**

A. 欧洲的商贸中心转移到大西洋沿岸 B. 封建制度严重阻碍资本主义的发展
C. 启蒙运动猛烈抨击了专制统治 D. 殖民统治阻碍了资本主义的发展

(2010·四川巴中) 23. 历史小组的同学要选择“君主立宪制的起源”这一主题开展研究。下列几部文献中, 他们必须阅读的是 () **C**

A. 《人权宣言》 B. 《独立宣言》 C. 《权利法案》 D. 《解放黑人奴隶宣言》

(2010·广东湛江) 34. 小林想探究君主立宪制在英国确立的历史, 准备把它作为演讲比赛的内容。下面四部文献中, 他应该参考的是 () **A**

A. 《权利法案》 B. 《独立宣言》 C. 《解放黑人奴隶宣言》 D. 《人权宣言》

(2010·湖北孝感) 32. 有同学对英国资产阶级革命的过程作了一首歌谣以便记忆: “君权神授盛行, 国王专横不减, 查理一世筹款, 克伦威尔揭竿……”请按先后顺序继续编排以下内容 () **A**

① 资产阶级不满 ② 专制国王被斩 ③ 丈人被婿所赶 ④ 查理二世重返
A. ②④①③ B. ①②④③ C. ②③④① D. ③②①④

(2010·江苏宿迁) 30. 下列哪一文献奠定了君主立宪政体的理论和法律基础? () **B**

A. 《人权宣言》 B. 《权利法案》 C. 《独立宣言》 D. 《1787 年宪法》

(2010·四川攀枝花) 4. 英国资产阶级革命的领导阶级是 () **B**

A. 资产阶级和农场主 B. 资产阶级和新贵族
C. 豪门贵族和商人 D. 农场主与新贵族

(2010·四川成都) 17. 在世界近代史上, 使议会成为国家的权力中心. 最早确立了君主立宪政体的文献是 () C

A. 《人权宣言》 B. 《独立宣言》 C. 《权利法案》 D. 《民法典》

(2010·四川南充) 12. 有人认为英国“革命前是国王的议会, 革命后是议会的国王。”这表明英国资产阶级革命后确立的是 () D

A. 总统制 B. 民主共和制 C. 君主专制 D. 君主立宪制

(2010·山东日照) 18. 国王虽然是国家的象征, 但却不掌握国家的最高权力。这种政治制度的确立时哪一次革命的成果? A

A. 英国资产阶级革命 B. 美国独立战争 C. 美国南北战争 D. 俄国十月革命

(2010·福建漳州) 18. “未经议会同意, 国王无权废除法律或停止法律的执行。”这则材料出自下列哪一文件? () C

A. 《人权宣言》 B. 《解放黑人奴隶宣言》
C. 《权利法案》 D. 《民法典》

第 12 课 美国的诞生

(2010·山东青岛) 32. 美国有许多航空母舰的名字都与该国的独立战争有关, 如“萨拉托加”号、“来克星顿”号、“邦克山”号等。其中“萨拉托加”号与战争中的哪一事件有关? () C

A. 独立战争的导火线 B. 独立战争的开始
C. 独立战争的转折 D. 独立战争的结束

(2010·四川遂宁) 22. 右图是美国的象征, 图中人物的左手托握着美国人民反对殖民统治斗争中用鲜血和生命铸成的文献。该文献应是 () C

A. 《权利法案》 B. 《人权宣言》
C. 《独立宣言》 D. 《1787 年宪法》



纽约自由女神像

(2010·四川宜宾) 8. 7 月 4 日被定为美国的“独立日”, 这是为了纪念 () B

A. 来克星顿枪声打响 B. 《独立宣言》发表
C. 萨拉托加战役胜利 D. 1787 年宪法通过

(2010·浙江湖州) 9. “在那个距今二百多年全的时代里, 殖民地联合起来挑战宗主国是破天荒的大事, ……与大英帝国的战争一直艰苦地打了八年, 最终赢得了对立。”——摘自《大国崛起》解说词。这段话反映的重大历史事件是 () B

A. 中国北伐战争 B. 美国独立战争 C. 法国大革命 D. 英国资产阶级革命

(2010·广东东莞) 32. 因宣称“人人生而平等, 造物主赋予他们某些不可转让的权利, 其中包括生命权、自由权和追求幸福的权利”而被马克思称为“第一个人权宣言”的是 () B

A. 《拿破仑法典》 B. 《独立宣言》 C. 《人权宣言》 D. 《权利法案》

(2010·山东东营) 17. “我们以这些殖民地的善良人民的名义和权力, 谨庄严宣告: 这些联合殖民地从此成为、而且名正言顺地应当成为自由独立的合众国……”。上述言论出自 () B

A. 《权利法案》 B. 《独立宣言》 C. 《人权宣言》 D. 《法典》

(2010·山东潍坊) 16. 马克思称它为“推动了 18 世纪欧洲革命”的“第一个人权宣言”。“它”是指 () D

A. 《权利法案》 B. 《人权宣言》 C. 1787 年宪法 D. 《独立宣言》

- (2010·湖南岳阳) 17. 在资产阶级革命时代, 美国独立战争最突出的特点是 () **C**
 A. 摧毁了封建君主制度 B. 建立发君主立宪制
 C. 结束了英国的殖民统治 D. 颁布了《人权宣言》
- (2010·广西梧州) 27. 一部欧美资产阶级革命的纪录片, 介绍了各国通过立法手段来巩固革命成果, 下列解说词中说法错误的是 () **D**
 A. 英国颁布了《权利法案》 B. 美国独立战争期间颁布《独立宣言》
 C. 法国大革命期间颁布《人权宣言》 D. 美国南北战争期间颁布《1787年宪法》
- (2010·福建莆田) 16. 美国独立战争的转折点是 () **B**
 A. 来克星顿枪声 B. 萨拉托加战役 C. 约克镇战役 D. 珍珠港事件
- (2010·吉林长春) 9. 这是一份激荡人心的政治檄文, 它宣称北美 13 个殖民地“已经解除对英王的一切效忠, 成为自由而独立的国家”。它是 () **B**
 A. 《权利法案》 B. 《独立宣言》 C. 《人权宣言》 D. 《法典》
- (2010·江苏盐城) 19. 通过抓关键词了解和掌握知识是学习历史的有效方法之一。与“大陆军、《独立宣言》、华盛顿”三个关键词都相关的历史事件是 () **B**
 A. 英国资产阶级革命 B. 美国独立战争 C. 法国大革命 D. 美国南北战争
- (2010·四川达州) 27. 列宁说:“现代文明的美国史, 是由一次伟大的、真正解放的、真正革命的战争开始的。”这场战争的转折点是 () **C**
 A. 《独立宣言》的发表 B. 华盛顿就任大陆军总司令
 C. 萨拉托加战役 D. 1787 年宪法的颁布
- (2010·四川攀枝花) 5. 小张探究“美国的诞生”时, 取材不符合这一主题的是 () **C**
 A. 英属北美殖民地的发展 B. 来克星顿枪声 C. 《宅地法》 D. 萨拉托加战役
- (2010·福建泉州) 15. 下列法律文件中, 最早明确倡导“自由、平等”民主原则的是 () **B**
 A. 《权利法案》 B. 《独立宣言》 C. 《人权宣言》 D. 《拿破仑法典》
- (2010·四川南充) 13. 美国独立战争开始的标志是 () **A**
 A. 来克星顿的枪声 B. 《独立宣言》的发表 C. 攻占巴士底狱 D. 萨拉托加大捷
- (2010·江苏无锡) 15. 1787 年美国宪法制订的原则是 () **B**
 A. 主权至上 B. 三权分立 C. 总统掌权 D. 民主选举
- (2010·江苏扬州) 18. 下列关于美国独立战争的史实表述正确的是 () **A**
 ① 来克星顿打响了抗英斗争的第一枪
 ② 华盛顿被任命为大陆军总司令
 ③ 《独立宣言》的发表宣告北美 13 个殖民地独立
 ④ 《巴黎和约》签署, 英国正式承认美国独立
 A. ①②③ B. ②③④ C. ①②③④ D. ①②④

第 13 课 法国大革命和拿破仑帝国

- (2010·山东聊城) 25. 路易十六在日记中写道:“14 日, 星期二, 无事。”然而, 这一天却改写了法国历史。因为在这天 () **A**
 A. 巴黎人民攻占了巴士底狱 B. 制宪会议通过了《人权宣言》
 C. 法国建立了共和国 D. 拿破仑颁布了《法典》
- (2010·四川遂宁) 23. 拿破仑是世界近代史上的风云人物, 对欧洲文明的演进作出了巨大贡献, 下列最能体现这一贡献的是 () **B**
 A. 发动“雾月政变” B. 制定拿破仑法典
 C. 建立法兰西第一帝国 D. 远征俄国

(2010·浙江嘉兴) 世博会是展示科技进步的舞台，也是人类回望历史的平台。回答 14~15 题

15. 1889 年，法国大革命 100 周年之际巴黎举办世博会。法国大革命爆发的标志是 () C
A. 来克星顿枪声 B. 颁布《人权宣言》 C. 攻克巴士底狱 D. 波士顿倾茶事件

(2010·广东东莞) 33. 1789 年发生在法国的革命被认为是一场真正的政治大革命，其主要原因是法国大革命 () C

A. 处死国王路易十六 B. 宣扬法律面前人人平等
C. 彻底摧毁法国封建制度 D. 传播了民主、自由思想

(2010·山东青岛) 33. 有人认为，2010 年 3 月日本丰田汽车“召回”事件将成为丰田公司的“滑铁卢”。“滑铁卢”作为失败的代名词，与哪位历史人物有关？() D

A. 克伦威尔 B. 圣马丁 C. 罗伯斯庇尔 D. 拿破仑

(2010·山东东营) 18. “从俄国冰冻的荒原开始，最后经由滑铁卢的惨败，当了 11 年皇帝的他在大西洋的一个小岛上结束了自己短暂的辉煌”。文中的“他”是指 () C

A. 克伦威尔 B. 罗伯斯庇尔 C. 拿破仑 D. 华盛顿

(2010·山东淄博) 7. “我一生四十次战争胜利的光荣，被滑铁卢一战就抹去了，但我有一件功绩是永垂不朽的，这就是我的法典。”材料中“我”指的是 () C

A. 罗伯斯庇尔 B. 林肯 C. 拿破仑 D. 希特勒

(2010·山东滨州) 17. 第一条在权利方面，人们生来是而且始终是自由平等的。只有在公共利用上面，才显示出社会上的差别。

第十七条财产是神圣不可任犯的权利，除非当合法认定的公共需要所显然必需时，且在公平而预先赔偿的条件下，任何人的财产不得受列剥夺。

上述材料出自 () C

A. 《权利法案》 B. 《独立宣言》 C. 《人权宣言》 D. 《民法典》

(2010·江苏连云港) 27. “通过政变上台，建立军事独裁，颁布《法典》”的历史人物是 () D

A. 华盛顿 B. 克伦威尔 C. 罗伯斯庇尔 D. 拿破仑

(2010·山东济宁) 27. 王老师备课需要上网查阅“巴士底狱、罗伯斯庇尔、《人权宣言》”等资料，因此我们可以判断出王老师要讲的相关内容 () A

A. 法国大革命 B. 美国独立战争
C. 英国资产阶级革命 D. 南美解放战争

(2010·四川巴中) 24. 1789 年 7 月 14 日，法国国王路易十六在日记中写下“今日无事”，他认为无事的这一天却成为改写法国历史的最重要的日子，因为这一天 () A

A. 巴黎人民攻占巴士底狱 B. 资产阶级颁布《人权宣言》

C. 拿破仑发动政变 D. 反法联军进攻法国

(2010·四川巴中) 32. 中国常把一个人遭受挫折或失败称为“败走麦城”，而西方则常称为“人生的滑铁卢”。与西方这一典故有关的历史人物是 () A

A. 华盛顿 B. 克伦威尔 C. 拿破仑 D. 路易十六

(2010·福建莆田) 17. 1789 年发生在法国的革命被认为是一场真正的政治大革命。这场大革命开始的标志性事件是 () A

A. 攻占巴士底狱 B. 热月政变 C. 雾月政变 D. 滑铁卢战役

(2010·福建三明) 16. 中学生应该学会客观地评价历史人物。某校历史兴趣小组对拿破仑的功与过展开了讨论，以下是他们对拿破仑所作的评价，不正确的是 () D

A. 他是杰出的资产阶级政治家和军事家

B. 他颁布《法典》，巩固了资产阶级的统治

- C. 他多次打败欧洲反法同盟，打击了欧洲的封建势力
D. 他后期的对外战争都维护了当地人民的利益

(2010·贵州贵阳) 19. 法国启蒙思想家伏尔泰曾说，在法国旅行需要经常更换法律，就像经常更换马匹一样。法国直到 1804 年以后才成为一个法律上的整体。“法律上的整体”的含义是指 () **B**

- A. 《人权宣言》的颁布 B. 《拿破仑法典》的颁布
C. 法兰西第一共和国的建立 D. 法国资产阶级革命的完成

(2010·湖北荆门) 13. “一切有权力的人都容易滥用权力；要防止滥用权力，就必须以权力制约权力。”下列文献中最能体现这一思想的是 () **C**

- A. 《独立宣言》 B. 《人权宣言》 C. 《美利坚合众国宪法》 D. 《拿破仑法典》

(2010·山东泰安) 21. 梯也尔在评价拿破仑时说：“这是同亚历山大和凯撒一样的天才人物……竟有立法家的才能”。他之所以认为拿破仑具有立法家的才能，是因为 () **B**

- A. 拿破仑一生打了多次胜仗 C. 拿破仑建立了法兰西第一帝国
B. 拿破仑颁布《法典》，巩固资产阶级统治 D. 拿破仑曾率军入侵俄国

(2010·四川攀枝花) 6. “在权利方面，人们生来是而且始终是自由平等的。”这句话引自 () **C**

- A. 《权利法案》 B. 《独立宣言》 C. 《人权宣言》 D. 《法典》

(2010·湖南湘潭) 12. 《人权宣言》是引领法国迈入近代社会的指针，我们今天翻阅它时，仍能领略其伟大而深邃的思想。以下关于该文献内容错误的是 () **B**

- A. 人生来是自由的，在权利上是平等的。
B. 法律是特权阶级意志的表现，法律面前人人平等。
C. 私有财产神圣不可侵犯。
D. 凡权利无保障和分权未确立的社会，就没有宪法。

(2010·内蒙古包头) 11. 巩固法国大革命成果，为资本主义社会确立立法规范的文件是 () **C**

- A. 《权利法案》 B. 《独立宣言》 C. 《拿破仑法典》 D. 《人权宣言》

(2010·四川南充) 14. 今天，在法国国家档案馆里，珍藏着一份记录了二百多年前法国革命理想的文件，它被历史学家称为“新制度的准生证书”。该文件是 () **B**

- A. 《权利法案》 B. 《人权宣言》 C. 《独立宣言》 D. 《联合国家宣言》

(2010·山东日照) 19. 法国国旗上的三种颜色象征着“自由、平等、博爱”。近代法国宣称人们生来自由，权利平等的是 () **C**

- A. 《权利法案》 B. 《独立宣言》 C. 《人权宣言》 D. 《解放黑奴宣言》

第 14 课 “蒸汽时代”的到来


(2010·山东聊城) 26. 1851 年，万国工业博览会（即第一届世博会）在英国伦敦举行，右图为英国陈列馆。英国举办博览会的最主要条件是 () **D**

- A. 新航路开辟
B. 君主立宪制确立
C. “日不落帝国”形成
D. 工业革命完成



(2010·四川宜宾) 9. 世界博览会被誉为“经济、科技与文化界的奥林匹克盛会”。1851 年，

现代意义上的首届世界博览会在英国伦敦开幕，当时陈列的展品不可能有（ ）D



- ① 珍妮纺纱机 ② 网络长椅 ③ 火车机车 ④ 汽车
 A . ①② B . ①③ C . ②③ D . ②④

(2010·四川自贡) 34. 世博会的举行，集中反映了某一时期工业化成就，世界上首次举办世博会的时间和国家应该是（ ）C

- A . 16 世纪 意大利 B . 17 世纪 法国 C . 19 世纪中期 英国 D . 20 世纪 美国

(2010·四川自贡) 35. 某班历史兴趣小组在自主学习和探究《工业革命》一课之后，有四人分别写出了历史小论文。其中说法不正确的是（ ）B

- A . 《工业革命加速了欧洲城市化进程》
 B . 《英国人富尔顿在交通运输领域率先取得新突破》
 C . 《工业革命极大地提高了社会生产力》
 D . 《工业革命是从珍妮纺纱机的使用开始的》

(2010·浙江嘉兴) 世博会是展示科技进步的舞台，也是人类回望历史的平台。回答 14 ~ 15 题

14. 在 1851 年英国举办的第一届世博会上，最有可能展示的科技产品是（ ）A

- A . 纺纱机、蒸汽机 B . 汽车、轮船 C . 蒸汽机车、电灯 D . 电话、电动机

(2010·浙江台州) 7. 甬台温铁路通车，实现了台州人民的百年夙愿，火车最早的发明者是（ ）C

- A . 瓦特 B . 哈格里夫斯 C . 史蒂芬孙 D . 福特

(2010·广东东莞) 34. 詹姆士·布恩是一位生活在 18 世纪 40 ~ 90 年代极富经营头脑的英国某织布厂厂主，1785 年后，他把工厂搬迁到交通便利的地方。詹姆士·布恩搬迁工厂是因为（ ）B

- A . 珍妮纺纱机的发明 B . 瓦特改良蒸汽机 C . 火车、轮船的出现 D . 内燃机的发明

(2010·广东东莞) 35. 2009 年 12 月 26 日，武广高铁正式通车运营，标志着我国步入高速铁路新时代。此时我们不能忘记火车机车的发明者是（ ）D

- A . 哈格里夫斯 B . 瓦特 C . 爱迪生 D . 史蒂芬逊

(2010·山东临沂) 19. 某历史学兴趣小组搜集到下面四幅图片，穿越时光隧道，下列哪一幅图片中的实物最有可能成为 1851 年英国伦敦第一届世界博览会的展品？（ ）B



- A B C D

(2010·湖北武汉) 19. 一位发明家耗时二十余年完成的工业动力机器（如右图所示），在某种程度上结束了人类对蓄力、风力和水力的依赖。这位发明家是（ ）A



蒸汽机

A. 瓦特 B. 爱迪生 C. 亨利·福特

(2010·湖南岳阳) 18. 在第一次工业革命中, 对各行各业机器大生产起了重要推动作用的创造发明是 () D

A. 火车机车 B. 内燃机 C. 珍妮机 D. 蒸汽机

(2010·山东淄博) 6. 1851年首届世界博览会在英国伦敦举行。以下工业成果中最有可能在本次博览会上出现的是 () A

A. 蒸汽机 火车机车 B. 蒸汽机 汽车 C. 内燃机 汽车 D. 电动机 飞机

(2010·广东) 19. 1851年在英国伦敦举办的第一届世博会上, 蒸汽机、纺织机等新产品备受瞩目。这些新产品是哪次技术革命的成果? () A

A. 工业革命 B. 第二次工业革命 C. 第三次科技革命 D. 信息产业革命


(2010·广东广州) 9. 它是工业革命中最大的技术发明, 为大机器生产解决了最关键的动力问题。“它”指 () B

A. 珍妮机 B. 联动式蒸汽机 C. 蒸汽机车 D. 内燃机

(2010·湖北荆州) 19. 2009年12月26日, 和谐号动车组在武广高铁正式通车运营。你知道利用蒸汽机发明了火车机车的工程师是 () D

A. 珍妮 B. 瓦特 C. 哈格里夫斯 D. 史蒂芬孙

(2010·湖北黄石) 29. 1851年5月第一届世博会——伦敦水晶宫展览会在英国隆重开幕。下列发明创造可能出现在本次展览会的是 () A



① 蒸汽机 ② 火车机车 ③ 汽车 ④ 电灯

A. ①② B. ②③ C. ③④ D. ①②③④

(2010·湖北宜昌) 19. 举世瞩目的第41届世界博览会已于2010年5月1日在上海开幕, 它充分展示了我国的综合国力, 给我国带来了巨大的经济效益和社会效益。1851年5月英国在伦敦举办了首届世界博览会, 它充分展示了英国 () A

A. 工业革命的成果 B. 第二次工业革命的成果
C. 第三次科技革命的成果 D. 资产阶级革命的政治成果

(2010·吉林长春) 10. “机械化生产取代古老的手工操作, 大工厂把小作坊远远抛在后面; 铁路与轮船取代马车和帆船。”这一巨变把人类带入到崭新的 () A

A. 蒸汽时代 B. 电气时代 C. 网络时代 D. 信息时代


(2010·江苏盐城) 20. 在人类工业化进程中, 机器大量使用, 碳排放迅速增加, 环境污染日益加重开始于 () B

A. 电灯的使用 B. 改良蒸汽机的使用 C. 内燃机的使用 D. 计算机的使用

(2010·山东泰安) 22. 当我们面对2010年上海世博会令人感慨的一幅幅场景时, 我们不禁想起1851年5月, 在英国伦敦举办的第一届世界博览会。在第一届世博会上, 下列发明可能参展的是 () A

A. 蒸汽机 B. 飞机 C. 无线电话 D. 人造卫星

(2010·四川达州) 28. 英国人欧文1870年病故, 他生前最有可能看到的是 () A



A B C D

(2010·四川攀枝花) 10. 工业革命最早出现的工业部门是 () D

- A. 冶金业 B. 交通运输业 C. 采矿业 D. 棉纺织业

(2010·四川成都) 18. 第一届世博会于 1851 年在英国伦敦举办, 在展会期间, 最受参观者瞩目的是蒸汽机、水力纺织机械等新产品。它们的出现与下列哪一事件有最直接的联系?

() A

- A. 工业革命 B. 第二次工业革命 C. 第三次科技革命 D. 信息产业革命

(2010·江苏淮安) 22. 工业革命的标志性成就是瓦特改进蒸汽机, 把人类带入“蒸汽时代”, 由此带来的影响是 () A

- ① 生产力获得巨大发展 ② 社会面貌发生巨大变化
③ 使资本主义最终战胜封建主义 ④ 使美国成为世界头号经济大国

- A. ①②③ B. ②③④ C. ①②④ D. ①③④

(2010·江苏扬州) 19. “英国到处都建立起大工厂。庞大的厂房, 发出隆隆的轰鸣, 打破了原来中世纪田园生活的恬静, 历史已经跨入了一个新的时代”。这里“新的时代”是指 () A

- A. 蒸汽时代 B. 电气时代 C. 信息时代 D. 生物时代

(2010·贵州毕节) 20. 英国工业革命的政治前提是 () B

- A. 世界上最大的殖民国家 B. 资产阶级统治的确立
C. 积累了雄厚的资本 D. 拥有丰富的资源和原料

第五单元 殖民扩张与殖民地人民的抗争

第 15 课 血腥的资本积累

(2010·山东滨州) 18. 1700 年美国的黑种人口只有 2.7 万人, 1820 年达到 177.2 万人。黑种人在美国剧增的主要原因是 () D

- A. 新航路开辟 B. 自然增长 C. 战争中的难民流亡 D. 三角贸易

(2010·湖北十堰) 29. 马克思在《资本论》中指出: “资本来到世间, 从头到脚, 每个毛孔都滴着血和肮脏的东西。”以下史实最能证明这一观点的是 () D

- A. 工业革命 B. 美国南北战争 C. 亚历山大东征 D. “三角贸易”

(2010·广东汕头) 20. 右图为《“三角贸易”示意图》。图中数字代表“三角贸易”经过的四个洲。奴隶贩子的贸易路线一般是从哪个洲出发?

() C

- A. ① B. ② C. ③ D. ④

(注: ①北美洲 ②拉美 ③欧洲 ④非洲)

(2010·广东) 20. 一位美国史学家描述道: “……乘船在悲惨的‘中段航程’中横渡大西洋, 这些黑色‘货物’上了镣铐, 锁在甲板上, 没有卫生设备, 他们忍受着可怕的待遇……”



…“黑色‘货物’”将会被贩卖到 () C

A. 欧洲 B. 非洲 C. 美洲 D. 亚洲

(2010·福建三明) 15. 倍受同学们喜爱的 NBA 球星很多是黑人。历史上与非洲黑人大批来到美洲有关的史实是 () B

A. 光荣革命 B. 三角贸易 C. 法国大革命 D. 美国独立战争

(2010·四川达州) 26. 马克思在《资本论》中说：“非洲变为商业性地猎获黑人的场所。”这句话深刻批判的殖民主义的罪恶行为是 () B

A. 建立殖民机构 B. 贩卖黑奴 C. 发动殖民战争 D. 侵吞土地

(2010·四川攀枝花) 8. 在“三角贸易”中，当欧洲殖民者从美洲返航时，他们的船只中满载的是 () D

A. 美洲土著居民 B. 非洲黑人 C. 廉价工业品 D. 烟草、金银

第 16 课 殖民地人民的抗争

(2010·四川自贡) 28. 图中的他领导成立了“大哥伦比亚共和国”并获得了“拉丁美洲解放者”称号。他是 () A

A. 玻利瓦尔 B. 克伦威尔 C. 林肯 D. 圣马丁



(2010·四川自贡) 32. “女王，印度人民感恩戴德，绝不会把你遗忘，你的吸收将激起争取独立的狂风巨浪。”诗中歌颂的是 () D

A. 尼赫鲁 B. 圣马丁 C. 玻利瓦尔 D. 章西女王

(2010·四川自贡) 33. 如果将“印度民族大起义”、“拉丁美洲的独立运动”归结为一个学习主题，这个主题应该是 () A

A. 殖民地半殖民地人民的抗争 B. 资产阶级革命 C. 社会主义运动 D. 改革与革命

(2010·广东湛江) 35. 民族独立和民族解放是不可抗拒的时代潮流。下列领导人中，反对英国殖民统治，争取民族独立的杰出女英雄是 () C

A. 玻利瓦尔 B. 伊丽莎白女王 C. 章西女王 D. 拿破仑

(2010·湖北荆门) 14. 由南美各国足球俱乐部联赛冠亚军参加的足球赛被称为“解放者杯”，是为了纪念 () A

A. 玻利瓦尔 B. 圣马丁 C. 伊达尔哥 D. 哥伦布

(2010·四川攀枝花) 9. 南美足球赛事“南美解放者杯”与玻利瓦尔有关，他领导的民族解放运动主要针对 () B

A. 葡萄牙殖民者 B. 西班牙殖民者 C. 英国殖民者 D. 法国殖民者

(2010·新疆建设兵团) 7. 玻利瓦尔被誉为“南美的解放者”是因为 () D

A. 他在拉美建立了资本主义制度 B. 他是拉美独立运动的唯一领导人

C. 许多国家以他的名字来命名国名 D. 他解放了西属拉美殖民地的大部分地区

(2010·贵州铜仁) 20. 玻利瓦尔领导了反抗殖民统治斗争，他是殖民地国家和人民反抗殖民侵略的杰出代表，他领导的起义军队主要活动在 () C

A. 印度 B. 非洲 C. 南美洲 D. 北美洲

(2010·江苏常州) 25. 美国史学家帕尔默评价美国独立战争时说：“美国革命成为那些希望摆脱殖民地地位的民族所效法的榜样”。这句话说明美国革命 () C

A. 推动了英国资产阶级革命 B. 导致了法国大革命

C. 影响了玻利瓦尔领导的拉美革命 D. 引发了英国的宪章运动

(2010·山东菏泽) 8. 他被称为“解放者”，他在 1816 年以后十年间，率领起义军英勇作战，由北向南，横扫南美大陆上的西班牙军队，解放了西班牙在南美洲的殖民地。这里的“他”

是指 () B

A. 甘地 B. 玻利瓦尔 C. 圣马丁 D. 伊达尔哥

(2010·湖南娄底) 15. 今年6月, 南非世界杯吸引了广大球迷的目光。在拉美, 也有一个重大的足球赛事叫“南美解放者杯”, 试问这一完整是为纪念哪一位杰出人物而设立的? () A

A. 玻利瓦尔 B. 华盛顿 C. 圣马丁 D. 章西女王

第六单元 无产阶级的斗争与资产阶级统治的加强

第17课 国际工人运动与马克思主义的诞生

(2010·四川乐山) 23. “社会主义由空想到科学, 由理论到实践, 由理想到现实”是一位学者对国际共产主义运动在20世纪20年代前发展特点的概括。下列能体现“由理论到实践”的史实是 () C

A. 欧洲工人运动的兴起 B. 《共产党宣言》的发表
C. 巴黎公社的建立 D. 十月革命的胜利

(2010·四川内江) 25. 一部外国影片有这样的场景: 一群工人在集会中手拿《人民宪章》的小册子, 高呼: “我们也要选举权”。与这个场景相关的史实是 () D

A. 英国工业革命 B. 巴黎公社成立 C. 《共产党宣言》发表 D. 宪章运动

(2010·江苏苏州) 16. “起来, 饥寒交迫的奴隶; 起来, 全世界受苦的人! 满腔的热血已经沸腾, 要为真理而斗争! ……”欧仁·鲍狄埃创作的《国际歌》成为被压迫人民的战歌, 传遍欧洲, 响彻世界。我们要了解其创作背景, 应该知道的历史是 () C

A. 法国大革命 B. 英国宪章运动 C. 法国巴黎公社 D. 俄国十月革命

(2010·广东东莞) 39. 《共产党宣言》发表成为马克思主义诞生的标志, 主要是因为它 () D

A. 是马克思、恩格斯联合发表的 B. 开辟了国际共产主义运动新局面
C. 广泛汲取了人类优秀的思想成果 D. 系统阐述科学社会主义基本原理

(2010·湖南邵阳) 13. 《共产党宣言》发表于 () C

A. 1789年 B. 1804年 C. 1848年 D. 1871年

(2010·山东临沂) 20. 右图中, 展示的是一面墙及墙面标示牌, 牌上显示语种: 法语。时间: 1871年5月21—28日, 这面墙为我们研究下列哪一历史事件提供了最直接依据? () C



A. 宪章运动
B. 文艺复兴
C. 巴黎公社
D. 十月革命

(2010·山东青岛) 34. 在互联网搜索引擎上输入关键词, 就能快捷地找到想要查找的内容。丽丽同学输入了“马克思主义”、“共产主义者同盟”后, 她能找到的文献应是 () A

A. 《共产党宣言》 B. 《人民宪章》 C. 《解放黑人奴隶宣言》 D. 《人权宣言》

(2010·福建龙岩) 16. “起来, 饥寒交迫的奴隶, 起来……”这是《国际歌》的歌词, 其作者是 () A

A. 鲍狄埃 B. 狄盖特 C. 瓦尔兰 D. 弗兰克尔

(2010·湖南岳阳) 19. 下列选项中, 与《共产党宣言》相符的是 () A

- A. 阐述了科学社会主义理论
- B. 提出了资产阶级自由平等的思想
- C. 争取了工人阶级的普选权
- D. 明确了私有财产神圣不可侵犯

(2010·湖北十堰) 27. 《共产党宣言》指出: “工人革命的第一步就是使无产阶级上升为统治阶级, 争取民主。”对这一理论观点进行第一次伟大尝试的是 () B

- A. 俄国十月革命
- B. 巴黎公社
- C. 宪章运动
- D. 新中国成立

(2010·山西) 11. 列宁曾说: “公社被镇压了, 但鲍狄埃的《国际歌》却把它的思想传遍了全世界。”“公社”是思想是指 () A

- A. 无产阶级革命思想
- B. 资产阶级民主思想
- C. 人文主义思想
- D. 天赋人权的思想

(2010·湖南长沙) 9. “起来, 饥寒交迫的奴隶……到明天, International 就一定能实现。”这首无产阶级战歌产生于 () C

- A. 法国大革命时期
- B. 1848年《共产党宣言》发表时
- C. 巴黎公社失败后
- D. 十月革命胜利后

(2010·福建龙岩 2) 17. 《国际歌》“起来, 饥寒交迫的奴隶, 起来……”的词作者是 () D

- A. 聂耳
- B. 狄盖特
- C. 贝多芬
- D. 鲍狄埃

(2010·广东佛山) 14. 《国际歌》唱出了无产者的心声: 世界就要改变面貌, 一无所有者要做天下的主人! 与此目标一致的行动是 () C

- A. 英国“光荣革命”
- B. 玻利瓦尔领导委内瑞拉起义
- C. 法国巴黎公社革命
- D. 章西女王领导印度起义

(2010·广东广州) 11. 下图中的人物分别为: 马克思、恩格斯、列宁、毛泽东。请你给这张图片选择一个恰当的主题 () D



- A. 苏维埃政权的建立者
- B. 资产阶级民主倡导者
- C. 社会主义国家领导者
- D. 马克思主义创立与继承者


(2010·广西河池市) 8. 它是科学理论, 《共产党宣言》的发表标志着它的诞生。“它”是 () C

- A. 人文主义
- B. 科学社会主义
- C. 马克思主义
- D. 三民主义

(2010·湖南衡阳) 18. 当全球金融危机发生时, 人们主张重读《资本论》。《资本论》是科学社会主义的经典著作, 科学社会主义的创立者是 () A

- A. 马克思和恩格斯
- B. 列宁和斯大林
- C. 马克思和列宁
- D. 恩格斯和斯大林

(2010·山东莱芜) 17. 下图历史人物的主要活动是 () B



A. 掀起了宪章运动 B. 发表了《共产党宣言》 C. 创立了巴黎公社 D. 领导了十月革命
(2010·四川巴中) 26. 马克思主义诞生的标志是 () A

A. 《共产党宣言》的发表 B. 马克思在《德法年鉴》上发表文章
C. 巴黎公社的成立 D. 马克思和恩格斯在巴黎相会

(2010·新疆乌鲁木齐) 13. 下列历史文献中, 标志着新的科学思想理论诞生的是 () A

A. 《共产党宣言》 B. 《权利法案》 C. 《独立宣言》 D. 《人权宣言》

(2010·湖北宜昌) 16. 马克思和恩格斯在吸收人类优秀文化成果和总结欧洲工人运动经验的基础上, 创立了科学社会主义理论。阐述此理论的文献是 () D

A. 《权利法案》 B. 《人权宣言》 C. 《独立宣言》 D. 《共产党宣言》

(2010·四川达州) 30. 巴黎公社是建立无产阶级政权的第一次伟大尝试。下列选项与巴黎公社无关的一项是 () B

A. 《国际歌》的创作 B. 工兵代表苏维埃 C. 普法战争 D. “五月流血周”

(2010·四川攀枝花) 11. 歌声中的历史: “起来, 饥寒交迫的奴隶; 起来, 全世界受苦的人! 满腔的热血已经沸腾, 要为真理而斗争……”这首《国际歌》的创作背景是 () A

A. 法国巴黎公社革命 B. 印度民族大起义 C. 英国宪章运动 D. 俄国十月革命

(2010·湖北咸宁) 18. 在全世界广泛传唱的《国际歌》的作词者是 () D

A. 马克思 B. 恩格斯 C. 狄盖特 D. 欧仁·鲍狄埃

(2010·辽宁沈阳) 9. 1837年, 伦敦工人协会拟定了争取普选权的纲领性文件——《人民宪章》。1839年, 通过了《致议会请愿书》。后来, 宪章派又提出了废除《救贫法》, 限制工时等要求。这场工人争取政治权利的斗争是 () B

A. 法国里昂工人起义 B. 英国宪章运动
C. 俄国十月革命 D. 德国西里西亚纺织工人起义

(2010·内蒙古呼和浩特) 12. 英国宪章运动是世界上第一次群众性的、政治性的无产阶级革命运动。其“政治性”指的是 () B

A. 得到了工人群众的广泛支持 B. 有政治纲领, 工人要求获得普选权
C. 要求改善劳动和生活条件, 持续时间长 D. 为马克思主义诞生创造了阶级条件

(2010·四川成都) 20. 被誉为“国际共产主义运动的第一个战斗纲领”, 并标志着科学社会主义诞生的文件是 () D

A. 《独立宣言》 B. 《人权宣言》 C. 《人民宪章》 D. 《共产党宣言》

(2010·四川南充) 16. 1999年, 英国广播公司BBC举行民意测验: 评选一千年来最伟大的思想家。结果卡尔·马克思当选为“最伟大的思想家”。马克思主义诞生的标志是 () C

A. 《人民宪章》的发表 B. 巴黎公社成立 C. 《共产党宣言》的发表 D. 十月革命发生

(2010·贵州铜仁) 23. 《共产党宣言》发表以来近一百多年的实践证明, 马克思主义只有与本国国情相结合才能焕发出强大的生命力、创造力、感召力。《共产党宣言》的发表标志着 () C

A. 无产阶级政权的初步建立 B. 无产阶级登上历史舞台
C. 马克思主义的诞生 D. 国际工人运动取得了最后胜利

(2010·广西贵港) 21. “起来，饥寒交迫的奴隶，起来，全世界受苦的人……”这是我市青少年合唱比赛中的一个参赛曲目——《国际歌》。这首歌的诞生与下列哪一事件有关？
() B

A. 宪章运动 B. 巴黎公社 C. 《共产党宣言》的发表 D. 普法战争

(2010·山东菏泽) 9. 1848年之后，“在科学理论的指导下，国际工人运动进入了一个新的历史时期”，这里的“科学理论”出自 () B

A. 《权利法案》 B. 《共产党宣言》 C. 《独立宣言》 D. 《人权宣言》

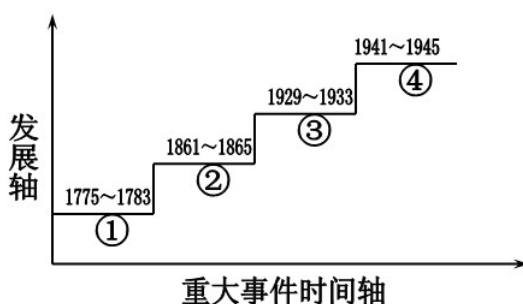
(2010·辽宁营口) 12. “起来，饥寒交迫的奴隶；起来，全世界受苦的人！……”这首气势磅礴，发自劳动者肺腑的《国际歌》与哪一历史事件相关？ () D

A. 《共产党宣言》的发表 B. 宪章运动 C. 攻占巴士底狱 D. 巴黎公社

第18课 美国南北战争

(2010·安徽) 7. 小华尝试用历史坐标来展示美国的发展历程。右图②处所指历史事件的主要影响是 () D

A. 赢得了民族独立
B. 取得了第二次世界大战的胜利
C. 摆脱了经济危机
D. 废除了黑人奴隶制度，维护了国家的统一



(2010·广东东莞) 36. 美国历史上第二次资产阶级革命取得的最重要成果是 () C

A. 赢得了国家的独立 B. 开创了民主政治制度
C. 维护了国家的统一 D. 使美国成为世界强国

(2010·江苏泰州) 17. 林肯是美国历史上最受人民爱戴的总统之一。他在美国历史进程中的主要贡献是 () B

A. 领导美国赢得独立 B. 维护国家统一，废除黑人奴隶制度
C. 领导美国赢得反法西斯战争胜利 D. 使美国经济复苏

(2010·湖北黄冈) 14. 在电视专题片《大国崛起·美国》中的一段解说词：“在美国首都华盛顿，林肯纪念堂和华盛顿纪念碑遥遥相望。有人说，是华盛顿创立了美国，是林肯拯救了美国。”他们分别领导美国参加的战争是 () A

A. 独立战争 南北战争 B. 独立战争 第一次世界大战
C. 南北战争 第二次世界大战 D. 第一次世界大战 第二次世界大战

(2010·山东济宁) 29. 右图是坐落于美国首都某纪念堂的一座塑像，这是为了纪念 () D

A. 罗斯福实施新政帮助美国渡过危机
B. 华盛顿领导了美国独立战争
C. 杰弗逊起草《独立宣言》
D. 林肯维护了国家的统一



(2010·福建三明) 17. 林肯是美国历史上最受人爱戴的总统之一。原因是他 () D

A. 推翻了英国的殖民统治 B. 开创了美国民主政治的先河
C. 扩大了美国的领土 D. 解放了黑人奴隶和维护了国家统一

(2010·湖北黄石) 28. 《解放黑人奴隶宣言》的颁布是林肯的一项伟大历史功绩。下列属于宣言内容的是 () **D**

- A. 至今一切社会的历史都是阶级斗争的历史
- B. 全国公民都有权亲身或由其代表参与法律的制定
- C. 凡美国公民只要交 10 美元手续费, 就可以在美国西部得到一块土地
- D. 为人占有而做奴隶的人们都应在那时及以后永远获得自由

(2010·湖北孝感) 34. “我不希望联邦解散, 我不期望房子崩塌, 但我的确希望它停止分裂。……”这是他当选为总统之后发表的一次讲话。他的主要历史功绩是 () **A**

- A. 打败分裂势力, 维护国家的统一
- B. 废除农奴制, 加快本国资本主义的发展
- C. 推翻殖民统治, 建立资产阶级统治
- D. 实行改革, 使国家摆脱沦为半殖民地的命运

(2010·吉林长春) 11. 经过南北战争, 美国废除了 () **C**

- A. 封建专制
- B. 殖民统治
- C. 奴隶制度
- D. 农奴制度

(2010·山东泰安) 25. 历史影视作品是对历史进行的艺术加工, 但必须尊重历史事实。下列有关美国南北战争的影视情节与历史史实不相符的是 () **C**

- A. 1861 年“南部联盟”率先挑起内战
- B. 战争结果是北方取得胜利
- C. 林肯在战争结束前夕遭刺杀身亡
- D. 林肯颁布《解放黑人奴隶宣言》

(2010·四川攀枝花) 12. 美国南北战争爆发前是“一国两制”的经济格局, 其中“两制”指的是 () **A**

- ① 北方资本主义经济
- ② 南方封建主义经济
- ③ 北方奴隶制经济
- ④ 南方种植园经济

- A. ①④
- B. ②③
- C. ③④
- D. ①②

(2010·贵州铜仁) 22. 规定从 1863 年元旦起, 废除叛乱各州的奴隶制, 并允许奴隶作为自由人参加北方军队。此规定出自 () **D**

- A. 《独立宣言》
- B. 《人权宣言》
- C. 《权利法案》
- D. 《解放黑人奴隶宣言》

(2010·贵州毕节) 23. 美国南北战争是美国历史上第二次资产阶级革命, 其主要依据是 () **D**

- A. 推动了欧洲和拉丁美洲的革命
- B. 废除了奴隶制
- C. 摧毁了英国和殖民枷锁
- D. 有利于资本主义发展

(2010·辽宁营口) 11. 成为美国第一任黑人总统的奥巴马曾公开表示他特别感激美国一位历史人物, 你认为这个人 () **C**

- A. 华盛顿
- B. 杰斐逊
- C. 林肯
- D. 尼克松

第 19 课 俄国、日本的历史转折

(2010·山东聊城) 27. 俄国农奴制改革与日本明治维新的共同之处是 () **D**

- A. 摆脱了民族危机
- B. 推翻了旧的政治统治
- C. 解放了广大农奴
- D. 走上了资本主义道路

(2010·四川自贡) 38. 小刚正在通过电话参与“开心辞典”活动, 王小丫提供的关键词是“农奴制”、“1861 年”、“资产阶级改革”, 问题是“发生在哪个国家”? 小刚应该选择的是 () **B**

- A. 英国
- B. 俄国
- C. 日本
- D. 法国

(2010·四川自贡) 39. 以下两组图示反映的是世界近代史上一个强国成长历程中曾经经历的两组矛盾。结合史实, 判断这是哪个国家? () **C**



A. 英国 B. 俄国 C. 日本 D. 美国

(2010·江苏南京) 24. 农奴在法律上是“自由人”；地主再也不许买卖农奴和干涉他们的生活。与些规定相关的历史事件是 () **C**

A. 匈牙利改革 B. 美国南北战争
C. 俄国 1861 年改革 D. 日本明治维新

(2010·广东东莞) 37. 1861 年改革是俄国历史上的转折点，俄国从此走上发展资本主义的道路。这场改革为俄国资本主义发展解决了 () **A**

A. 自由劳动力 B. 土地所有权 C. 政治民主化 D. 思想自由化

(2010·湖北武汉) 20. 小强探究某国历史时，在学习卡片上写下“学习西方、摆脱西方大国欺凌、亚洲第一个走上工业化道路的国家”等关键词。据此判断，小强探究的主题是 () **B**

A. 中国的戊戌变法 B. 日本的明治维新 C. 土耳其的凯末尔改革

(2010·山东青岛) 36. 在俄罗斯首都莫斯科红场旁边有一座宏伟塑像，纪念的是曾经解放了千百万农奴、并最终引领俄罗斯抛弃了落后社会制度的改革者。他是 () **D**

A. 伊凡四世 B. 彼得一世 C. 尼古拉二世 D. 亚历山大二世

(2010·山东青岛) 37. “敲敲短发蓬松的天灵盖，文明开化的声音响起来”。这首打油诗与日本哪一重大历史事件有关？ () **D**

A. 大化改新 B. 推翻幕府统治 C. 日本侵略朝鲜 D. 明治维新

(2010·山东东营) 19. 使日本从一个封建国家转变为资本主义国家，摆脱沦为半殖民地命运的是 () **B**

A. 大化改新 B. 明治维新 C. 天皇专制 D. 幕府统治

(2010·湖北十堰) 28. 世界许多国家通过改革走上了资本主义道路。使俄国走上资本主义道路的改革是 () **B**

A. 明治维新 B. 1861 年农奴制改革 C. 大化改新 D. 马丁·路德宗教改革

(2010·江苏连云港) 28. 臭名昭著的‘解放’实际上是对农民进行残酷地掠夺。这里列宁评价的是 () **C**

A. 光荣革命 B. 美国内战 C. 1861 年改革 D. 二月革命

(2010·江苏连云港) 34. 明治维新为日本以后的创新与持续发展奠定人才基础的措施是 () **C**

A. 废藩置县 B. 发展工业 C. 实行义务教育 D. 实施征兵制

(2010·广东广州) 10. “架着马车”的俄国被“开着轮船”的英、法打败，这一现象出现在 () **A**

A. 克里米亚战争中 B. 葛底斯堡战役中 C. 列克星敦枪声中 D. 第一次世界大战中

(2010·广西河池市) 9. 探究历史发展的共性是历史学习任务之一，请找出俄国农奴制改革和日本明治维新，它们的共同点有 () **B**

① 废除农奴制 ② 促进资本主义发展 ③ 允许土地买卖 ④ 向欧洲国家学习

A. ①② B. ②③ C. ②③④ D. ①②③④

(2010·四川巴中) 27. 俄国废除农奴制和日本明治维新的影响相同的是 () B

- A. 保留了“天皇制” B. 使本国走上资本主义道路
C. 摆脱了美、英、法等国的统治 D. 解放了农奴

(2010·广西梧州) 28. 由于国情不同, 主要资本主义国家走上资本主义发展道路的方式不尽相同。在下列国家中, 采取与俄国类似方式的是 () B

- A. 英国 B. 日本 C. 法国 D. 美国

(2010·福建莆田) 18. 从 1868 年起, 日本明治政府实行了一系列资产阶级性质的改革, 其主要内容有 () C

- ① 废藩置县, 加强中央集权 ② 实行“班田收授法”
③ 殖产兴业, 鼓励发展近代工业 ④ 提倡“文明开化”, 实行强制性义务教育
A. ①②③ B. ②③④ C. ①③④ D. ①②④

(2010·江苏宿迁) 31. 以“解放”农民为突破口, 使国家逐步走上资本主义发展道路的重大改革是 () A

- A. 俄国 1861 年改革 B. 中国戊戌变法
C. 日本明治维新 D. 美国废除黑人奴隶制

(2010·江苏盐城) 21. 下列属于日本明治维新的经济措施有 () D

- ① 鼓励发展近代工业 ② 把贵族土地收归国有
③ 国家定期把土地分给民农耕种 ④ 允许土地买卖
A. ①② B. ②③ C. ③④ D. ①④

(2010·四川攀枝花) 13. 利用关键词联想记忆有助于提高复习的效率。比如看到“废藩置县”、“文明开化”、“转折点”, 我们能联想到 () B

- A. 俄国 1861 年改革 B. 美国内战 C. 日本明治维新 D. 法国大革命

(2010·福建泉州) 16. 日本明治维新的主要措施中, 最具有前瞻性和战略眼光的举措是 () D

- A. 废藩置县 B. 发展近代工业 C. 允许土地买卖 D. 实行义务教育

(2010·辽宁沈阳) 8. 1860~1890 年, 俄国的钢产量和棉纺织业的产值都增加了 3 倍, 煤炭产量的增加则超过了 19 倍, 石油产量猛增了 200 多倍。上述材料反映了俄国废除农奴制改革的作用是 () D

- A. 更新了农业生产结构 B. 改变了社会阶级结构
C. 缩小了城乡差别 D. 促进了工业发展

(2010·内蒙古包头) 12. 俄国 1861 年改革与日本明治维新相比, 最显著的特点是 () B

- A. 改变了社会性质 B. 废除了农奴制度 C. 促进了社会进步 D. 保留了大量封建残余

(2010·内蒙古呼和浩特) 11. 下列关于日本明治维新的评述, 不正确的是 () B

- A. 是自上而下的资产阶级性质的改革 B. 通过改革, 推翻了幕府的统治
C. 使日本走上了资本主义发展道路 D. 摆脱了沦为半殖民地的危机

(2010·内蒙古呼和浩特) 13. 沙皇政府 1861 年改革按其内容来说是资产阶级性质的, 这一结论的主要依据是 () C

- A. 使农奴获得人身自由 B. 废除了封建农奴制
C. 为资本主义经济发展提供了市场和劳动力 D. 满足了农民获得土地的强烈愿望

(2010·四川南充) 17. 日本明治维新的主要内容是 () D

- ① “废藩置县”, 加强中央集权 ② 允许土地买卖, 引进西方技术
③ 地主再也不许买卖农奴和干涉他们的生活 ④ 提倡“文明开化”, 努力发展教育
A. ①②③ B. ②③④ C. ①③④ D. ①②④

(2010·福建宁德) 16. 重视教育是日本成为世界经济强国的重要因素之一。明确提出发展

教育并使日本走上资本主义道路的事件是 () **C**
A. 大化改新 B. 农奴制改革 C. 明治维新 D. 戊戌变法

第七单元 垄断资本主义时代的世界

第 20 课 人类迈入“电气时代”

(2010·四川自贡) 36. 近代以来, 大大推动石油开采业的发展和石油化工工业的产生重要发明是 () **C**

A. 蒸汽机 B. 发电机 C. 内燃机 D. 汽车

(2010·四川内江) 26. 电与我们的生活密切相关。你知道是谁发现了电磁感应现象并提出电磁学理论? () **C**

A. 爱迪生 B. 卡尔·本茨 C. 法拉第 D. 贝尔

(2010·河北) 25. 下列发明, 其最初目的是为了_{提高}人类生活质量的是 () **C**

A. 珍妮机 B. 改良蒸汽机 C. 耐用电灯泡 D. 坦克

(2010·广东东莞) 40. 19 世纪下半期, 西方主要资本主义国家又开始了一场新的技术革命。这次革命是 () **B**

A. 以蒸汽为核心的革命 B. 以电力为核心的革命
C. 以核能为核心的革命 D. 以太阳能为核心的革命

(2010·山东威海) 24. 有这样一段广告词: “一个苹果让牛顿吸引了世界, 一壶沸水让瓦特转动了世界, 一个元素让爱迪生点燃了世界……”。“爱迪生点燃了世界”是指 () **C**

A. 发现万有引力定律 B. 发明内燃机
C. 研制成功耐用碳丝灯泡 D. 改良蒸汽机

(2010·湖北十堰) 30. 汽车的发明给人类的交通带来了极大的变化。十堰市在新中国汽车工业的发展中占有十分重要的地位, 被誉为汽车城。世界现代汽车工业起步于 () **C**

A. 哥伦布发现新大陆时期 B. 第一次工业革命时期
C. 第二次工业革命时期 D. 第三次科技革命时期

(2010·广东) 21. 每当夜幕降临, 万家灯火的景象常常使我们怀念起被称为“发明大王”的科学家。他是 () **B**

A. 牛顿 B. 爱迪生 C. 爱因斯坦 D. 达尔文

(2010·广西梧州) 29. 2009 年 12 月, 哥本哈根世界气候大会上强调汽车尾气已成为目前各国环境污染的重要源头之一, 汽车尾气主要来自 () **D**

A. 蒸汽机 B. 发电机 C. 电动机 D. 内燃机

(2010·广东湛江) 36. 2010 年中国吉利汽车集团正式收购了沃尔沃, 那么世界上第一辆汽车是谁发明的? () **D**

A. 瓦特 B. 史蒂芬孙 C. 富尔顿 D. 卡尔·本茨

(2010·山东泰安) 24. 王明同学正通过因特网下载爱迪生、卡尔·本茨等人发明成果的相关资料, 由此你可以判断他正在探究 () **B**

A. 第一次工业革命 B. 第二次工业革命 C. 美国独立战争 D. 英国资产阶级革命

(2010·四川攀枝花) 14. 一位伟大的发明家逝世时, 一个国家的总统提议全国各地同时熄灭电灯一分钟以示哀悼。这位发明家是 () **D**

A. 卡尔·本茨 B. 法拉第 C. 西门子 D. 爱迪生

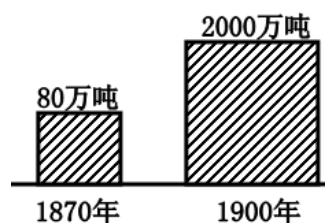
(2010·新疆建设兵团) 8. 1873 年, 比利时工匠格拉姆参加维也纳世博会, 一次偶然的机

会，他发明了电动机，关于电能转化为机械能的众多技术马上被产品化并投入市场。这之后，人类进入（ ）**B**

A. 蒸汽时代 B. 电气时代 C. 信息时代 D. 原子时代

(2010·福建泉州) 17. 读右图，指出导致世界石油产量变化的最主要原因是（ ）**D**

A. 蒸汽机的发明 B. 发电机的问世
C. 有轨电车的创制 D. 内燃机的广泛应用



(2010·内蒙古包头) 13. 第二次工业革命的一个显著特点是（ ）**B**

A. 蒸汽机的发明和使用 B. 电力的广泛应用
C. 电子计算机的应用推广 D. 原子能的重大突破

(2010·四川成都) 19. 在20世纪初，首次将人类飞上天空的梦想变为现实的历史人物是（ ）**B**

A. 卡尔·本茨 B. 莱特兄弟 C. 爱迪生 D. 马可尼

(2010·江苏常州) 23. “他一生共有2000多项发明，被称为‘发明大王’。……他是把‘电’的福音传播到人间的天使”。这里的“他”是（ ）**D**

A. 阿基米德 B. 牛顿 C. 瓦特 D. 爱迪生

(2010·山东菏泽) 12. 右图是一款世界著名的汽车商标图案，与它最可能有关的历史人物是（ ）**A**

A. 卡尔·本茨 B. 亨利·福特 C. 莱特兄弟 D. 爱迪生



(2010·广东梅州) 10. “我们生活在一个充满奇迹的时代，大车不需要马拉，新闻通过环绕地球的电线一瞬间传遍世界……。”这样的生活最早应出现在（ ）**C**

A. 新航路开辟时 B. 工业革命时期
C. 第二次工业革命时期 D. 第三次科技革命时期

第21课 第一次世界大战

(2010·山东聊城) 28. 1914年7月，右图中的哪一国家向塞尔维亚宣战，第一次世界大战爆发？（ ）**B**

A. ①
B. ②
C. ③
D. ④



(2010·四川遂宁) 24. 运用数据进行分析是历史学习的一种重要方法。下表反映出第一次世界大战是（ ）**B**

第一次世界大战情况统计

持续时间	参加国	死伤人数	经济损失
4年多	30多个国家	3000多万人	3400多亿美元

A. 一场非正义的帝国主义战争 B. 人类历史上的空前浩劫
C. 世界反法西斯战争 D. 十月革命爆发的直接原因

(2010·四川乐山) 24. 1892年,“现代奥林匹克之父”顾拜旦提出,现代奥运会应以“团结、和平和友谊”为宗旨。当时威胁这一主张是() A

- A. 欧洲开始出现两大军事集团对峙局面 B. 第一次世界大战的爆发
C. 德意日三国法西斯军事同盟的形成 D. 北约和华约组织的形成

(2010·重庆) 14. 第一次世界大战爆发前,为了争夺世界霸权形成了两大军事集团。其中
由英国、法国、俄国建立的是() A

- A. 三国协约 B. 华沙条约组织 C. 三国同盟 D. 北大西洋公约组织

(2010·重庆綦江) 14. 19世纪末20世纪初帝国主义国家逐渐形成三国同盟和三国协约两
大军事集团,其中三国同盟的核心是() B

- A. 英国 B. 德国 C. 法国 D. 意大利

(2010·江西) 9. 恩格斯说:“未来的战争是世界战争,规模空前、破坏巨大,将长达3~4
年,将有800万~1000万士兵互相残杀,把整个欧洲吃个干净,导致欧洲贫困普遍化,
战争结果给无产阶级革命胜利创造了条件。”恩格斯的预言首先得到应验的是() A

- A. 第一次世界大战 B. 第二次世界大战 C. 中东战争 D. 科索沃战争

(2010·四川内江) 27. 法国作家巴比斯在《战火》中写遂:“(战场上)到处散布着破碎
弹片,折断了的武器以及成堆的尸体……其中有些人被抛到十五英尺高,断腿残肢挂在那些
幸存的树枝上。”这一描述指的是哪次战役?() A

- A. 凡尔登战役 B. 斯大林格勒战役 C. 马恩河战役 D. 莫斯科保卫战

(2010·江苏苏州) 17. 学习了第一次世界大战的历史后,小芳整理出了以下知识点,其中
不正确的一项是() A

- A. 一战是一场世界人民的反法西斯战争 B. 爆发前在欧洲形成了两大军事对抗集团
C. 萨拉热窝事件是战争爆发的导火线 D. 凡尔登战役是大战中最惨烈的战役之一

(2010·广东东莞) 41. 一战中的凡尔登战役,德法双方投入近200万兵力,共伤亡70多万人,
属于典型的阵地战和消耗战,历史上称之为“凡尔登绞肉机”。把凡尔登战役称为“绞肉
机”主要是用以形容() D

- A. 武器的先进性 B. 进攻的快速性 C. 范围的广泛性 D. 战争的残酷性

(2010·山东东营) 20. 一位美国历史学家在谈到一战前的欧洲形势时说:“欧洲变成一只
‘火药桶’,只等一粒火星将它引爆,”那么,成为“一粒火星”的是() A

- A. 萨拉热窝事件 B. 凡尔登战役 C. 三国协约的成立 D. 三国同盟的成立

(2010·福建龙岩) 17. 第一次世界大战是帝国主义战争,得出这一结论的主要依据是() C

- A. 交战双方都是帝国主义国家 B. 英德矛盾是导致战争的主要矛盾
C. 交战国的目的是重新瓜分世界 D. 新兴的帝国主义要压倒老牌的国家

(2010·湖北鄂州) 13. “一把枪挑起一场战争!”1914年7月,德皇威廉二世以萨拉热窝事件
为借口,极力怂恿奥匈帝国向哪个国家宣战?() D

- A. 俄国 B. 法国 C. 英国 D. 塞尔维亚

(2010·山东滨州) 19. 有人形容第一次世界大战是“一把枪挑起一场战争。”“一把枪”比喻的
是() C

- A. 三国同盟的形成 B. 三国协约的形成
C. 萨拉热窝事件 D. 奥匈帝国对塞尔维亚宣战

(2010·山东济宁) 28. 一战爆发后,意大利加入协约国方面对德作战,这反映的实质问题
是() C

- A. 协约国进行的是正义战争 B. 意大利不讲信誉

C. 帝国主义国家之间的利益原则 D. 协约国集团一开始就稳操胜券

(2010·广西河池市) 10. 以德国为首组建了 () C

A. 共产主义者同盟 B. 三国协约 C. 三国同盟 D. 萨拉热窝事件

(2010·湖南衡阳) 19. 南斯拉夫某城有一石碑, 刻有文字: “1914年6月28日, 加夫里诺·普林西比在这里用他的子弹, 表达了我们人民对暴虐的反抗和对自由的向往。”碑文记载的事件是第一次世界大战的导火线。这个事件是 () B

A. 来克星顿枪声 B. 萨拉热窝事件
C. 查理一世命丧断头台 D. 波士顿倾茶事件

(2010·四川巴中) 34. 有人形容第一次世界大战是“一把枪挑起一场战争”。“一把枪”比喻的历史事件是 () B

A. 三国协约的形成 B. 萨拉热窝事件
C. 三国同盟的形成 D. 奥匈帝国对塞尔维亚宣战

(2010·广西梧州) 30. 1916年11月, 罗曼·罗兰在《战时日记》中写道: “欧洲正在奔向奴役和毁灭。两年以来, 它一直疯狂的沿着这条灾难的道路越走越远……”这里所说“奔向奴役和毁灭”开始于 () B

A. 拿破仑执政 B. 第一次世界大战 C. 希特勒上台 D. 第二次世界大战爆发

(2010·广东湛江) 37. 第一次世界大战使 30 多个国家和 15 亿多人口卷进了战争, 给人类带来了深重的灾难。第一次世界大战爆发的导火线是 () C

A. 三国同盟和三国协约的形成 B. 凡尔登战役
C. 萨拉热窝事件 D. 奥匈帝国向塞尔维亚宣战

(2010·贵州贵阳) 20. 第一次世界大战中, 为维护自己的主权和独立而战的国家是 () A

A. 塞尔维亚 B. 保加利亚 C. 英国 D. 法国

(2010·四川达州) 31. 萨拉热窝事件后, 列强都认为找到了发动战争的借口。奥匈帝国最先宣战的对象是 () C

A. 波兰 B. 波斯尼亚 C. 塞尔维亚 D. 阿尔巴尼亚

(2010·四川攀枝花) 15. 19 世纪末 20 世纪初, 帝国主义形成两大对立的军事集团, 其中三国同盟是指 () C

A. 英国、法国、俄国 B. 英国、德国、奥匈帝国
C. 德国、意大利、奥匈帝国 D. 德国、意大利、日本

(2010·四川攀枝花) 16. 萨拉热窝事件造成的严重后果给我们留下的深刻教训是 () B

A. 民族独立式历史发展的必然 B. 恐怖活动严重威胁世界和平
C. 民族意识是历史发展的动力 D. 暗杀是民族解放的对策

18. 意大利作为德奥战前的盟友, “一战”爆发后反而参加协约国对原来的盟友作战。这种情况最说明“一战”的 () B

A. 原因 B. 性质 C. 特点 D. 影响

(2010·内蒙古呼和浩特) 14. 下列国家中不属于“三国协约”组成国的是 () A

A. 美国 B. 英国 C. 法国 D. 俄国

(2010·四川成都) 21. 19 世纪末 20 世纪初, 欧洲形成三国同盟和三国协约两大对立的军事集团, 其核心分别是 () D

A. 奥匈帝国、俄国 B. 意大利、俄国 C. 德国、法国 D. 德国、英国


(2010·四川成都) 22. 南斯拉夫某城有一块石碑上刻着“1914年6月28日, 加夫里诺·普林西比在这里用他的子弹, 表达了我们人民对暴虐的反抗和对自由的向往。”碑文记述的是下列哪一重大历史事件? () A

- A. 萨拉热窝事件 B. 彼得格勒武装起义 C. 珍珠港事件 D. 诺曼底登陆
 (2010·四川成都) 23. “一九一四年至一九一八年的战争,从双方来说,都是帝国主义的(即侵略的、掠夺的、强盗的)战争。”这是列宁对下列哪次战争的评价? () C
 A. 普法战争 B. 拿破仑的对外战争 C. 第一次世界大战 D. 第二次世界大战
 (2010·山东日照) 20. 第一次世界大战前夕,引爆欧洲“火药桶”的那一粒“火星”是 () B
 A. 两大军事集团的形成 B. 萨拉热窝事件 C. 凡尔登战役 D. 美国对德宣战
 (2010·广西贵港) 22. 下列哪一国家不属于三国同盟? () A
 A. 英国 B. 德国 C. 意大利 D. 奥匈帝国
 (2010·湖南娄底) 16. 美国某历史学家在谈到“一战”前的欧洲形势时说,欧洲变成了一只“火药桶”,只等一粒“火星”将它引爆。后来引爆“火药桶”的“火星”是 () C
 A. 美苏争霸的形成 B. 三国同盟的形成 C. 萨拉热窝事件 D. 三国协约的形成
 (2010·辽宁营口) 13. 19世纪末20世纪初,帝国主义侵略集团的形成促使世界大战一触即发。下面有关侵略集团成员国的组成,正确的是 () B
 A. 英国、法国、意大利 B. 英国、法国、俄国
 C. 德国、奥地利、意大利 D. 德国、意大利、日本

第八单元 璀璨的近代文化

第22课 科学和思想的力量

- (2010·安徽) 8. 伏尔泰是18世纪法国启蒙思想家。下列观点符合他思想的是 () C
 A. 生物进化 B. 三权分立 C. 自由平等 D. 君主专制
 (2010·四川自贡) 29. 英国科学家达尔文的墓志铭是:“他把世界翻了一个个,虽然并不完全。”其中,“他把世界翻了一个个”是指达尔文 () D
 A. 发现了美洲新大陆 B. 创立了相对论
 C. 揭开了工业革命的序幕 D. 提出了生物进化论
 (2010·四川自贡) 30. 1921年3月上海《时事新报》刊登了一篇驻德国记者的特约稿,评论道:“爱因斯坦的革命事业,比昔日的德国路德之宗教革命,其影响还要重大,这位先生把旧科学的概念,一齐推翻。”爱因斯坦的突出贡献是指 () A
 A. 创立了相对论 B. 建立了经典力学的基本体系
 C. 提出了生物进化论 D. 发现了万有引力定律
 (2010·重庆) 15. 英国科学家达尔文取得的突出成就是 () C
 A. 创立了相对论 B. 发现了万有引力定律
 C. 提出了生物进化论 D. 发明了基因重组技术
 (2010·重庆綦江) 12. 下列各项成就,属于右图人物的是 () D
 A. 发现万有引力定律,建立了经典力学的基本体系
 B. 实行“新政”,颁布“产业复兴法”,全面加强国家对经济的干预
 C. 创立相对论,为原子能技术的开发提供了理论依据
 D. 提出进化论思想,推翻了神创论和物种不变论
 (2010·江苏南京) 30. 初三某班的黑板报以名人格言的形式介绍历史人物及成就,其中对应错误的是 () C
 A. “人不可有傲气,但不可无傲骨”——国画《愚公移山》的作者徐悲鸿



- B. “天才是 1% 的灵感加 99% 的汗水”——电灯的发明者爱迪生
 C. “给我一个支点，我将撬动整个地球”——相对论的提出者爱因斯坦
 D. “如果我看得比别人更远些，那是因为我站在巨人的肩膀上”——微积分的创建者牛顿

(2010·福建福州) 16. 下面是一位男士的简历，他的中文译名是 () **D**

姓名	Darwin	职业	生物学家
国籍	英国	主要成就	创立生物进化论
出生年月	1809 年 2 月	代表作	《物种起源》

- A. 牛顿 B. 达·芬奇 C. 爱因斯坦 D. 达尔文

(2010·湖南邵阳) 12. 相对论的创立者是 () **D**

- A. 牛顿 B. 达尔文 C. 爱迪生 D. 爱因斯坦

(2010·湖北武汉) 16. 伏尔泰一生反对专制主义和宗教愚昧，成为法国民众敬佩的启蒙运动旗手。他提出了 () **A**

- A. 天赋人权思想 B. “三权分立”学说 C. 人民主权思想

(2010·福建龙岩) 20. 20 世纪初，提出“相对论”的伟大科学家是 () **D**

- A. 牛顿 B. 爱迪生 C. 达尔文 D. 爱因斯坦

(2010·湖北鄂州) 14. 为原子能的利用奠定了理论基础的是 () **C**

- A. 进化论 B. 运动三大定律 C. 相对论 D. 万有引力定律

(2010·湖南岳阳) 21. 达尔文对人类最重大的贡献是提出了 () **C**

- A. 天赋人权思想 B. 运动三大定律 C. 进化论 D. 相对论

(2010·江苏泰州) 18. 提出了生物进化论，从根本上推翻了“神创论”和“物种不变论”的英国生物学家是 () **D**

- A. 哥白尼 B. 爱因斯坦 C. 牛顿 D. 达尔文

(2010·山东滨州) 20. “在未来某一时间，有一对 20 岁的孪生兄弟，弟弟乘宇宙飞船以 29 万千米/秒的速度飞行，哥哥留在地球上。50 年后，哥哥已是白发苍苍的老人，他去迎接回到地球的弟弟，却发现弟弟还是一个 30 多岁的年轻人！原来，对于乘坐光速飞船的弟弟来讲，才刚刚过了十几年。”讲这个故事的科学家是 () **D**

- A. 阿基米德 B. 牛顿 C. 达尔文 D. 爱因斯坦

(2010·湖北十堰) 31. 下面关于启蒙运动的描述不正确的是 () **A**

- A. 启蒙运动是近代欧洲大陆第一次影响深远的思想解放运动
 B. 法国是启蒙运动的中心
 C. 伏尔泰被誉为启蒙运动的领袖和导师，主张开明专制
 D. 启蒙运动为欧美资产阶级革命做了思想上和理论上的准备

(2010·广东汕头) 21. 19 世纪 60 年代，欧洲基督教神权统治的根基遭到沉重打击。这一打击主要来自于 () **A**

- A. 达尔文的“进化论” B. 爱因斯坦的相对论
 C. 牛顿的力学理论体系 D. 孟德斯鸠的启蒙思想

(2010·广东汕头) 22. 1878 年，法国大作家雨果在纪念伏尔泰逝世一百周年的演讲中说：“伏尔泰战胜了敌人。他孤军奋战，打了响当当的一仗，这是一次伟大的战争”。材料中的“敌人”是指 () **A**

- A. 封建专制制度和天主教会 B. 法兰西第一帝国皇帝拿破仑
 C. 盘剥工人的资本家 D. 发动第一次世界大战的同盟国

(2010·广东佛山) 13. 他的理论揭示了时空的可变性、时空变化的联系性，树立了新的时空观、运动观和物质观，被誉为人类思想史上最伟大成就之一。他是 () **D**

A. 伏尔泰 B. 达尔文 C. 马克思 D. 爱因斯坦

(2010·湖北荆州) 18. 18世纪, 法国出现了一批反对封建专制制度的启蒙思想家, 其中主张由开明君主执政, 把教皇比作“两只脚的禽兽”, 把教士比作“文明恶棍”的思想家是 () A

A. 伏尔泰 B. 孟德斯鸠 C. 卢梭 D. 莎士比亚

(2010·四川巴中) 29. 好奇于“苹果为什么落地”, 并发现万有引力定律的科学家是 () B

A. 爱因斯坦 B. 牛顿 C. 哥白尼 D. 达尔文

(2010·广东湛江) 38. “一个苹果让牛顿吸引了世界, 一壶沸水让瓦特转动了世界, 一个元素让爱迪生点燃了世界”这句话中, “牛顿吸引世界”的是 () C

A. 研制汽车 B. 发明电灯 C. 发现万有引力定律 D. 改进蒸汽机

(2010·湖北宜昌) 17. 他是一位伟大的科学家, 提出的相对论为人类研制核武器和和平利用核能提供了理论基础。他还是一个具有高度责任感的社会活动家, 在他生命的最后几天, 还在一份呼吁和平、防止新的世界大战爆发的宣言上签字。这位伟大的科学家是 () D

A. 牛顿 B. 达尔文 C. 爱迪生 D. 爱因斯坦

(2010·吉林长春) 12. 著有《物种起源》一书, 提出了“进化论”思想的科学家是 () C

A. 牛顿 B. 爱迪生 C. 达尔文 D. 爱因斯坦

(2010·山东泰安) 23. 张华在学习与“伏尔泰”有关内容时, 做了如下笔记, 其中正确的是 () C

① 伏尔泰是 18 世纪法国著名的启蒙思想家

② 伏尔泰认为教士是世界上最好的人

③ 伏尔泰等启蒙思想家对“自由”“平等”思想的宣传, 促进了欧洲社会的进


④ 伏尔泰反对封建专制, 主张开明的君主执政

A. ①②③④ B. ②③④ C. ①③④ D. ①②③


(2010·四川成都) 24. 下列图片中的人物都是享誉世界的科学家, 其中揭示出“自然选择, 适者生存”的生物进化基本规律的是 () B




A



B



C



D

(2010·四川成都) 25. 17~18 世纪, 欧洲掀起了轰轰烈烈反封建的启蒙运动, 该运动的中心在 () D

A. 英国 B. 荷兰 C. 意大利 D. 法国

(2010·四川南充) 18. 德国把 2005 年定为“爱因斯坦年”, 以纪念这位科学家在物理学上的伟大贡献。他的重要贡献是 () C

A. 发现了万有引力定律 B. 提出了“进化论”思想

C. 提出相对论 D. 发明了火车机车

(2010·江苏扬州) 20.“牛顿的发现，给人类带来从未有过的自信。曾经匍匐在上帝脚下的人类，终于大胆地抬起头来，开始用自己理性的眼光打量世界”。这主要是因为牛顿 () **D**

- A. 提出了三权分立学说 B. 确立了生物进化学说
C. 提出了著名的相对论 D. 建立了经典力学的完整体系

(2010·山东日照) 25. 有学者指出，达尔文把传统生物学的某些理论翻了个个儿，这是因为达尔文提出了 () **A**

- A. 进化论观点 B. 神创论观点 C. 万有引力定律 D. 相对论观点

(2010·福建宁德) 15. 当大多数物理学家沿着牛顿的道路继续前行时，他却走向了另一条创新之路，从而诞生了物理学相对论，他是 () **D**

- A. 爱迪生 B. 贝多芬 C. 达尔文 D. 爱因斯坦

(2010·湖南永州) 19. 东西方不少科学家认为：生物学知识将是 21 世纪人类必须具备的基础知识。那么，近代生物进化学说的缔造者是 () **C**

- A. 爱迪生 B. 牛顿 C. 达尔文 D. 哥白尼

(2010·湖南株洲) 15. 张老师在课堂教学中讲到：“子代和亲代间的变异是普遍存在的，是进化的基础……”这一教学内容是下列哪一观点的体现？ () **A**

- A. 生物进化论 B. 广义相对论 C. 天体运行论 D. 女娲造人论

(2010·广东梅州) 12. 东西方不少科学家认为，生物学知识将是 21 世纪人类必须掌握的基础知识。近代生物进化学说的创立者是 () **C**

- A. 爱迪生 B. 牛顿 C. 达尔文 D. 哥白尼

第 23 课 世界的文化杰作

(2010·河北) 16. 贝多芬为拿破仑创作了《第三交响曲》并题字“献给拿破仑·波拿巴”。1804 年，当他听到一个消息后，愤然将题字改为“英雄交响曲，为纪念一位死去的英雄而作。”这一“消息”指 () **B**

- A. 拿破仑发动政变 B. 拿破仑称帝 C. 拿破仑下台 D. 拿破仑病逝

(2010·江苏苏州) 18. 莎士比亚在作品中赞叹道：“人是一件多么了不起的杰作！在理性上多么高贵！在才能上多么无限！”如果用列夫·托尔斯泰这位杰出人物的成就来证明的话，下列哪一选项符合？ () **B**

- A. 出版了《物种起源》 B. 撰写了《战争与和平》
C. 创作了《向日葵》 D. 谱写了《英雄交响曲》

(2010·湖南邵阳) 15. 下列画作中，属于毕加索创作的是 () **D**

- A. 《最后的晚餐》 B. 《蒙娜丽莎》 C. 《向日葵》 D. 《和平鸽》

(2010·山东东营) 21. 荷兰著名画家梵高运用有力的笔触好强烈的色彩对比来表达他对生活无比热爱的代表作品是 () **C**

- A. 《蒙娜丽莎》 B. 《最后的晚餐》 C. 《向日葵》 D. 《战争与和平》

(2010·山东潍坊) 18. 贝多芬被后世尊为“交响乐之王”。他以拿破仑事迹为题材创作的作品是 () **A**

- A. 《英雄交响曲》 B. 《神曲》 C. 《最后的晚餐》 D. 《仲夏夜之梦》

(2010·湖北黄石) 30. 右图是名画《向日葵》，1987 年日本安田公司以 2250 万英镑的高价买下了它。创下当时世界油画价格之最。这幅名画的作者是 () **B**



A. 达·芬奇 B. 梵高 C. 莫奈 D. 毕加索

(2010·山东泰安) 26. 某大学近代世界文学研究组要召开一个探讨俄罗斯名著《战争与和平》的写作艺术研讨会, 选择谁的照片在会场悬挂最合适? () D

A. 高尔基 B. 郭沫若 C. 鲁迅 D. 列夫·托尔斯泰

单元综合

(2010·四川乐山) 22. 19世纪六七十年代的资产阶级革命和改革的共同作用是 () C

A. 推翻了封建君主制度 B. 废除了奴隶制度
C. 巩固和扩大了资产阶级统治 D. 摆脱了民族危机

(2010·四川自贡) 31. 比较评价历史人物, 是历史学科能力要求之一。华盛顿、拿破仑作为资产阶级政治家, 其历史作用的相同之处是 () D

A. 赢得了民族独立 B. 维护了国家统一
C. 打击了封建势力 D. 推动了资产阶级民主政治进程

(2010·四川内江) 24. 利用立法手段巩固革命成果, 是早期资产阶级革命的重要特点之一。以下哪些文献为巩固英国和美国资产阶级革命成果提供了法律保障? () A

①《权利法案》 ②《人权宣言》 ③1787年宪法 ④《临时约法》
A. ①③ B. ②④ C. ①② D. ③④

(2010·江苏苏州) 14. 在资产阶级革命发展进程中, 立法巩固了革命成果。下列有关法律文献与相关历史事件搭配正确的是 () A

A. 英国资产阶级革命——《权利法案》 B. 法国大革命——《独立宣言》
C. 美国独立战争——《人权宣言》 D. 美国内战——《1787年宪法》

(2010·江苏苏州) 15. 世界博览会是人类文明的驿站, 是展示各国经济、科技和文化成就的重要舞台。下列一段与世博会相关的资料中, 划线部分共有几处错误? () B

1851年, 伦敦举办了第一届世界工业产品博览会, 纺织机械、蒸汽机、汽车等各种工业技术成果琳琅满目, 让人应接不暇。1876年, 美国在费城举办了美国历史上第一次世界博览会, 会上展出了莱特兄弟的飞机。

A. 一处 B. 两处 C. 三处 D. 四处

(2010·广东东莞) 38. 英法等国的资产阶级革命都把追求自由平等作为革命的重要目标。日本明治维新与英法美革命目标有异曲同工之处的措施是 () B

A. 废藩置县 B. 废除封建身份制度
C. 实行征兵制 D. 实行强制性义务教育

(2010·山东威海) 23. 17至18世纪, 是人类历史上伟大的转折时期, 英、美、法三国爆发的革命, 影响深远。三国革命的共同点是 () A

A. 都是资产阶级革命 B. 都爆发于欧洲地区
C. 都处死了封建君主 D. 都反抗殖民压迫

(2010·山东临沂) 18. 十九世纪是大英帝国的全盛时期, 号称“日不落帝国”。下列关于当时英国的说法, 正确的是 () B

①英国率先完成工业革命 ②英国实行君主立宪制
③英国是世界上最大的殖民国家 ④英国参加了国际反法西斯联盟
A. ①②③④ B. ①②③ C. ①② D. ③④

(2010·湖北武汉) 18. 在17、18世纪, 英国、美国、法国出现了一些新生事物, 例如“君主立宪制、总统、共和政体”等。这表明三个国家都 () C

- A. 推翻了外国的殖民统治
- B. 确立了议会制约王权的政体
- C. 建立了资本主义民主制度


(2010·山东潍坊) 17. 19世纪中叶以来, 蒸汽机的滚滚浓烟飘洋过海逐渐改变着世界。这一过程中发生了美国南北战争与俄国农奴制改革。其相同影响是 () **D**

- A. 对农民进行的一场掠夺
- B. 确立了新的政治制度
- C. 完成了自上而下的改革
- D. 促进了资本主义发展

(2010·湖南岳阳) 20. 下列人物的行为能体现反抗外来侵略、维护民族独立这一主题思想的是 () **A**

- ①玻利瓦尔 ②章西女王 ③华盛顿 ④林肯
- A. ①②③ B. ②③④ C. ①②④ D. ①③④

(2010·四川资阳) 24. 下列图片反映的历史场景, 按发生的先后顺序排列, 正确的是 () **D**



① 明治维新时期的小学课堂 ② 攻占巴士底狱 ③ 林肯演讲 ④ 《独立宣言》签署

- A. ①③④② B. ②④①③ C. ③②④① D. ④②③①

(2010·山东济宁) 25. 某校九年级同学计划举行一次专题展览, 展出的内容是 19 世纪后半期世界各国资产阶级改革相关知识。下列选项中符合本次展览要求的是 () **A**

- ① 中国戊戌变法 ② 美国南北战争 ③ 日本明治维新
- ④ 俄国 1861 年改革 ⑤ 英国工业革命

- A. ①③④ B. ②④⑤ C. ②③④ D. ③④⑤

(2010·福建龙岩 2) 18. 英、法、美三国资产阶级革命发生的共同原因是 () **A**

- A. 资本主义经济的发展受到严重阻碍
- B. 受到封建专制制度的阻碍
- C. 专制王权同议会矛盾斗争的结果
- D. 殖民压迫激起人民强烈反抗

(2010·广东广州) 12. 作为资产阶级政治家, 华盛顿和林肯对历史发展进程所起到的相同影响是 () **D**

- A. 赢得了民族独立
- B. 维护了国家统一
- C. 推翻了封建统治
- D. 促进了资本主义发展

(2010·山东莱芜) 18. 美国南北战争和俄国 1861 年改革的相似点不包括 () **C**

- A. 发生在 19 世纪 60 年代
- B. 为资本主义发展提供了自由劳动力
- C. 维护了国家统一
- D. 为本国资本主义发展扫除了障碍

(2010·四川巴中) 25. 英、法、美资产阶级革命的共同点是 () **D**


- ① 封建专制统治阻碍了资本主义的发展, 导致革命的爆发
- ② 资产阶级在革命中起了领导作用
- ③ 革命都以暴力斗争的方式进行
- ④ 革命后都建立了资产阶级共和国

- A. ①②③④ B. ①②③ C. ①④ D. ②③

(2010·四川巴中) 31. 下列四国中, 哪一个国家与其他三国走上资本主义道路的途径不同?

- () **A**
- A. 俄国 B. 英国 C. 美国 D. 法国

(2010·新疆乌鲁木齐) 12. 下列历史人物中, 领导人民反抗殖民地统治并取得胜利的是 () **B**



① 华盛顿 ② 拿破仑 ③ 玻利瓦尔 ④ 林肯
A. ①② B. ①③ C. ②④ D. ③④

(2010·福建莆田) 19. 下表是 1870~1913 年美、德、英、法工业产值在世界工业生产中的比重变化表。

国别 年份	美国	德国	英国	法国
1870 年	23%	13%	32%	10%
1913 年	38%	16%	14%	6%

对此表的解读, 正确的是 () **B**

① 英德老牌资本主义国家走下坡路 ② 法美新兴资本主义国家正在崛起
③ 英法老牌资本主义国家走下坡路 ④ 美德新兴资本主义国家正在崛起
A. ①② B. ③④ C. ①③ D. ②④

(2010·贵州贵阳) 24. 1990 年纳米比亚独立, 标志着帝国主义在非洲的殖民体系最终崩溃。下面与非洲遭受欧洲殖民者入侵和奴役没有关联的史实是 () **A**

A. 文艺复兴运动 B. 新航路的开辟 C. 三角贸易 D. 英国工业革命

(2010·湖北荆门) 15. 1851 年英国举办了第一届世界博览会, 晶莹剔透的水晶宫展馆是英国成为当时最强大的资本主义工业强国——“世界工厂”的标志。下列各项与英国成为“世界工厂”无关的是 () **B**

A. 英国资产阶级革命 B. 英国宪章运动 C. 英国工业革命 D. “日不落帝国”

(2010·湖北孝感) 35. 学习完《世界历史》上册第二和第四单元的知识后, 小明作了如下小结: ① 资产阶级革命或改革往往是资本主义经济发展受到了阻碍而进行的; ② 早期的资产阶级革命和改革都是因为资本主义经济发展受到阻碍进行的; ③ 成功的资本主义革命或改革都会促进资本主义经济的发展。小明的知识小结 () **B**

A. ①②正确③错误 B. ①②③都正确 C. ①③正确②错误 D. ①正确②③错误

(2010·湖北孝感) 56. 历史事件不是孤立存在的, 在历史学习中一定要从整体上把握历史事件之间的联系。发下哪些历史事件存在着因果关系 () **AC**

A. 英国工业革命的完成→鸦片战争的爆发 B. 马克思主义的诞生→宪章运动
C. 启蒙运动→法国资产阶级革命 D. 经济危机→日本明治维新

(2010·四川达州) 29. 英、俄、日三国走上资本主义道路的过程, 相似之处是 () **C**

A. 都是通过革命的方式走上资本主义道路的 B. 都进行了“自上而下”的改革
C. 都保留了君主 D. 都是由资产阶级领导的

(2010·四川达州) 32. 下列历史事件, 按时间先后顺序排列应该是 () **D**

① 凡尔登战役 ② 五四运动 ③ 巴黎和会的召开 ④ 三国协约的形成

A. ②③①④ B. ①②③④ C. ①③②④ D. ④①③②


(2010·四川攀枝花) 7. 比较是历史学习常用的方法之一。关于英法美资产阶级革命的共同点, 下列表述错误的是 () A

- A. 都推翻了本国的封建统治 B. 都确立了资产阶级的统治地位
C. 都对世界历史产生了重大影响 D. 都有利于本国资本主义的发展

(2010·辽宁沈阳) 7. 新航路开辟后, 随着全球贸易的迅速增长, 一些猎人猎取兽皮卖到中国、欧洲和北美。17世纪, 估计每年有20万到30万张紫貂皮从西伯利亚流入世纪市场。无节制地捕杀产毛皮的动物很快使许多物种灭绝或者濒临灭绝, 并且永远地改变了这些物种从前生存的环境。上述材料反映的是 () A

- A. 全球贸易对环境的影响 B. 物种交流带来了各种疾病的传播
C. 动植物品种的交流使世界人口激增 D. 粮食作物在全球范围内的广泛传播

(2010·内蒙古包头) 8. 某同学搜集到四个人物图片, 欲将他们的活动归纳到一个专题中, 这个专题应是 () D



但丁 伏尔泰 陈独秀 马克思

- A. 资产阶级革命 B. 国际工人运动 C. 近代文学艺术 D. 思想解放运动

(2010·内蒙古包头) 10. 17~18世纪, 英、法、美三国进行资产阶级革命的根本原因是 () D

- A. 君主与议会的矛盾尖锐 B. 殖民统治激化民族矛盾
C. 科学社会主义理论推动 D. 资本主义发展受到阻碍

(2010·四川南充) 15. 下列对17、18世纪的英、美、法资产阶级革命相同点的表述错误的是 () D

- A. 领导阶级都是资产阶级 B. 革命前夕资本主义发展都受到严重阻碍
C. 结果都确立了资产阶级统治 D. 革命过程都曲折复杂, 出现了封建势力复辟

(2010·内蒙古赤峰) 17. 《人权宣言》和《独立宣言》的内容中所体现的共同之处是 ()

- A. 人生来就是不平等的 B. 人生来就是平等自由的
C. 限制国王的权力 D. 殖民地人民的反抗精神

(2010·内蒙古赤峰) 18. 在下列叙述中哪一项是错误的? () B

- A. 拿破仑建立了法兰西第一帝国
B. 1861年改革加快了俄国资本主义的发展
C. 南北战争是美国历史上的第一次资产阶级革命
D. 明治维新使日本由封建国家转变为资本主义国家

(2010·山东菏泽) 10. 马克思认为, 英国革命是一场“欧洲范围的革命”。“欧洲范围的革命”属于 () A

- A. 资产阶级革命 B. 新民主主义革命 C. 社会主义革命 D. 民族解放运动

(2010·山东菏泽) 14. 历史专题复习课上, 老师在大屏幕上打出了商鞅、北魏孝文帝、明

- 治天皇、亚历山大二世等人物画像，那么这节历史课的复习专题应该是（ ） C
- A．改变社会性质的变革 B．科技改变生活
C．推动社会进步的变革 D．战争与和平

填空题

(2010·山东聊城) 38．1825年，英国人_____发明的火车机车试车成功；1885年，德国人试制汽车成功。

38．史蒂芬孙；卡尔·本茨；

(2010·四川内江) 5．1855年，俄国在与英法争夺土耳其的_____战争中以失败告终。战争的失败暴露了农奴制的弊端，加剧了国内矛盾。为此，沙皇_____在1861年签订了废除农奴制的法令。

5．克里米亚；亚历山大二世；

(2010·江苏苏州) 29．19世纪中叶，▲(国名)废除农奴制改革和日本▲都是资产阶级性质的改革，成为两国历史的重大转折点。

29．俄国；明治维新。

(2010·山东青岛) 42．节日承载着世界各国人民的不同记忆，纪念着特定的历史人物和事件。如中国端午节(农历5月初5)，人们常常会想起战国时期的爱国诗人_____。中国青年节(5月4日)，纪念的是1919年爆发的_____ (事件)。中国人民解放军建军节(8月1日)，我们会纪念打响武装反抗国民党反动统治第一枪的_____ (事件)。美国国庆节(7月4日)源于1776年发表的《_____》(文件)。法国国庆节(7月14日)纪念的是揭开法国大革命序幕的事件，即攻占_____ (事件)。

42．屈原；五四运动；南昌起义；《独立宣言》；巴士底狱。

改错题

(2010·安徽) 14．制度创新是人类社会发展的动力。

【 】 (3) 17世纪英国通过《人权宣言》确立了资产阶级君主立宪制。

改正：

【×】 (3) 《人权宣言》改为《权利法案》

(2010·安徽芜湖) 12．判断下列历史叙述的正误，正确的在题前的【 】内打“√”，错误的在题前【 】内打“×”。(6分)

【 】 (6) 哥伦布受葡萄牙国王的资助，率船队从欧洲出发，一直向西航行，横渡了茫茫的太平洋，终于发现了新大陆。(6) 【×】。

(2010·安徽芜湖) 13．以下是某同学所作的有关“资产阶级革命”的学习小结，其中有五处知识性错误，请你指出并改正过来。(5分)

英国资产阶级革命的领导阶级除了资产阶级外，还有旧贵族。革命中，英国议会通过了《人权宣言》，对国王的权利进行了明确的限制，这表明英国最终确立了总统制的资产阶级政权。正如学者所说，英国“革命前是国王的议会，革命后是议会的国王”。在美国独立战争中，纳西比战役是它的关键转折点，美军打败了英军，迫使英军5000多人投降。在法国大革命中，罗伯斯庇尔颁布了《法典》，巩固了资产阶级统治，他还多次打败了欧洲反法同盟的军队。

错误：_____ 改正：_____

错误：_____ 改正：_____

错误：_____ 改正：_____

错误：_____ 改正：_____

错误：_____ 改正：_____

13. 错误：旧贵族；改正：新贵族。错误：人权宣言；改正：权利法案。错误：总统制；改正：君主立宪制。错误：纳西比战役；改正：萨拉托加战役。错误：罗伯斯庇尔；改正：拿破仑。

(2010·福建福州) 24. 大化改新和农奴制改革，都促使日本社会性质发生了巨大变化。

A B

24. 错误：B (农奴制改革)；改正：明治维新；

(2010·江苏苏州) 25. 18世纪法国著名的启蒙思想家伏尔泰提出了三权分立学说，促进了人们的思想解放。25. B

(2010·湖南长沙) 15. 文艺复兴和新航路的开辟都促进了欧洲资本主义的发展。15. T

(2010·福建龙岩) 25. 大化改新使日本从闭关锁国的封建国家逐步转变为资本主义国家。

25. 错误：大化改新；正确：明治维新。

(2010·福建莆田) 23. 1639年，英国颁布了《人权宣言》，确定了国会拥有最高权力的基本原则。

23. 把《人权宣言》改为《权利法案》

(2010·湖北黄石) 41. 判断分析题：(7分)

华盛顿和拿破仑是世界近代史上两位著名的历史人物。在讨论两人的共同点时，甲、乙、丙、丁四位同学分别发表了自己的观点：

甲：都为本国资本主义发展作出过杰出贡献

乙：都是通过发动政变掌握国家最高权力的

丙：都为本国制定了一部资产阶级的《民法典》

丁：都将本国建成资产阶级共和国政体的国家

以上只有一个正确观点，请你判断谁的观点正确，并指出其他三位同学观点的错误之处。

41. 甲的观点是正确的；(1分)乙的观点不符合华盛顿的情况，华盛顿是通过选举成为美国总统的；(2分)丙的观点只符合拿破仑；(2分)丁的观点不符合拿破仑，拿破仑最后建立的是资产阶级君主制(或军事独裁)政体。(2分)

(2010·江苏盐城) 29. 但丁是文艺复兴的先驱，他的主要代表作是《蒙娜丽莎》。29. B

(2010·湖南湘潭) 26. 英国科学家牛顿提出了万有引力定律，达尔文提出了相对论。26. ×；

(2010·内蒙古呼和浩特) 19. 法国大革命中颁布的《人权宣言》，体现了鲜明的反对封建等级制度的色彩，具有进步意义。() 19. √；

(2010·福建漳州) 25. 大化改新使日本开始发展资本主义，并很快走上对外扩张的道路。

25. 大化改新改为明治维新

(2010·福建漳州) 26. 20世纪初，爱因斯坦对人类最大的贡献是提出万有引力定律。

26. 万有引力定律改为相对论

(2010·福建漳州) 28. 一位同学在笔记中写到：在美国南北战争中，奴隶交纳一笔赎金即可得到一块耕地，从此美国走上发展资本主义的道路，

28. 美国南北战争改为俄国 1861年改革，美国改为俄国，因为依据“交纳一笔赎金即可得到一块耕地”这一史实是 1861年俄国农奴制改革的内容。

(2010·湖南永州) 31. 殖民扩张和掠夺是英国最早成为资本主义工业强国的重要条件之一。

() 31. ✓

(2010·湖南永州) 32. 德国的贝多芬是伟大的作曲家，也是无产阶级革命运动的热情歌颂者。() 32. ×

(2010·湖南株洲) 28. 玻利瓦尔因领导拉美独立战争功勋卓著被誉为“南美的解放者”。✓

列举题

(2010·安徽) 12. 社会变迁彰显时代的进步。

(2) 日本提倡“穿西服、吃西餐、跳交际舞”等“文明开化”行为是在_____ (改革) 之后。(2) 明治维新；

(2010·安徽) 12. 社会变迁彰显时代的进步。

(3) 电灯使城市夜晚亮如白昼，汽车使居民出行更加方便。这些主要是_____ (革命) 的成果。(3) 第二次工业 (革命)。

(2010·安徽) 13. 人类社会的经济活动是一个从分散走向整体的过程。

(2) 打破世界相对孤立的状态，使世界开始连成一个整体的航海壮举是_____。

(2) 新航路开辟 (开辟新航路) ；

(2010·广东广州) 18. 请举出 18~19 世纪欧美主要国家颁布的资产阶级性质的文献。(四部即可，4分)

18. 《独立宣言》、1787 年宪法、《人权宣言》、《拿破仑法典》、《宅地法》、《解放黑人奴隶宣言》等 (答出其中 4 项即可，4 分)

(2010·吉林) 12. 根据下列提示写出相对应的历史人物。(4 分)

(1) 创作《哈姆雷特》，宣扬人文主义精神的文学家——

(2) 提出进化论，沉重打击神权统治根基的科学家——

(3) 提出相对论，打开原子时代大门的科学家——

(4) 创作《英雄交响曲》，歌颂资产阶级革命的音乐家——

12. (1) 莎士比亚 (1 分) ； (2) 达尔文 (1 分) ； (3) 爱因斯坦 (1 分) ； (4) 贝多芬 (1 分)。

(2010·吉林) 13. 列举三次发生在 19 世纪 60~90 年代的中外资产阶级性质的改革。(3 分)

13. 俄国 1861 年改革 (或俄国废除农奴制改革) (1 分) ；明治维新 (1 分) ；戊戌变法 (或百日维新) (1 分)。

(2010·吉林) 14. 列举五项在三次科技革命中对人类社会产生深远影响的重大发明。(5 分)

14. 珍妮机；改良蒸汽机；火车；汽船；内燃机；汽车；飞机；耐用碳丝灯泡；电子计算机；互联网；克隆技术等。(答出以上一项即可得 1 分，其他答案符合题意也可给分)

(共 5 分)

(2010·吉林长春) 16. 列举 17~19 世纪欧洲资产阶级革命或改革的领导人。(5 例即可 5 分)

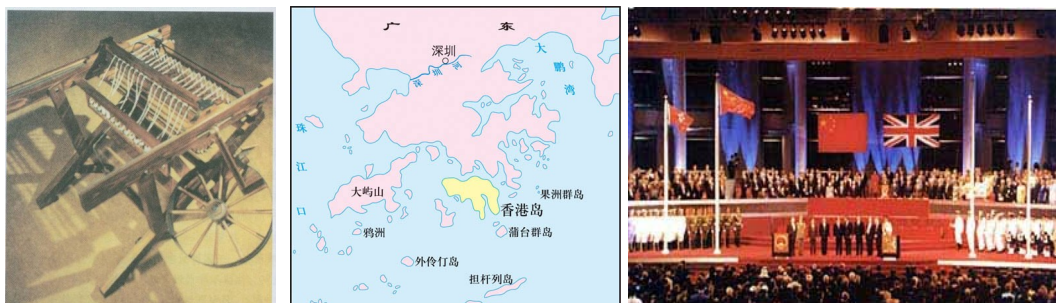
16. 英国资产阶级革命、克伦威尔、法国大革命、罗伯斯庇尔、拿破仑、俄国农奴制改革、亚历山大二世 (5 项即可，其他答案正确也可) (5 分)

(2010·辽宁营口) 21. 列举英国资产阶级革命、法国大革命和美国独立战争中发表的文件。(3 分)

21. 英国——《权利法案》 (1 分) ；法国——《人权宣言》 (1 分) ；美国——《独立宣言》 (1 分)

读图简答题

(2010·新疆乌鲁木齐) 16. 读图并回答问题。



18世纪60年代的发明之一 英国割占香港岛示意图 中英香港政权交接仪式

图一 图二 图三

请回答：

(1) 图一是谁的什么发明？它在英国引发的生产领域的革命性变化被称为什么？这种革命性变化对英国产生了什么影响？(5分)

(2) 图二反映的是哪次战争签订的哪一条约的内容？此次战争对中国社会产生了什么重要影响？(4分)

(3) 图三反映的重大事件发生在哪一年？此事件在中国历史上有何重要意义？(3分)

(4) 根据以上三幅图和所学知识，分析中国香港岛被英国割占和香港回归祖国的主要原因。(2分)

16. (1) 哈格里夫斯，珍妮机；(2分) 英国工业革命；(1分) 英国工业革命创造了巨大的生产力，使社会面貌发生了翻天覆地的变化，使英国成为资本主义工业强国。(2分) (2) 鸦片战争；(1分) 中英《南京条约》；(1分) 中国开始从封建社会逐步沦为半殖民地半封建社会，鸦片战争是中国近代史的开端。(2分) (3) 1997年；(1分) 香港回归祖国，中国人民洗雪了百年国耻，标志着我国在完成祖国统一大业的道路上迈出了重要的一步(标志着英国在香港一个半世纪的殖民统治结束)。(2分) (4) 提示：工业革命使英国成为最强大的资本主义国家，英国发动鸦片战争割占了中国的香港岛；改革开放，使中国综合国力不断提高，邓小平的“一国两制”伟大构想的实施，使香港回归祖国。(2分) (此问答案如言之有理，符合史实，即可得分)

材料分析题

(2010·安徽) 15. 时间是组成生命的材料，时间是解读历史的标尺。

材料一 佛罗伦萨人认为时间和生命像黄金一样宝贵。为了珍惜它们，1329年，佛罗伦萨人在城楼上安装了最早的机械钟。

——摘编自陕西师大《中学历史教学参考》。

(1) 佛罗伦萨人安装机械钟的行为是受到了文艺复兴运动中什么思潮的影响？(2分)

材料二 过去以天位单位，现在以分钟、秒计算；……火车还教会人们守时，准时准点成了现代生活的准则，人们开始要随身带上一块表，时间概念是一个全新的概念。

——钱乘旦、许杰明《英国通史》

(2) 从材料二看,“准时准点成了现代生活的准则”应开始于() (2分)

A. 16世纪 B. 17世纪 C. 18世纪 D. 19世纪

材料三 1949年10月,有位诗人以一句“时间开始了”来表达自己当时的喜悦心情。1978年12月,对于无数中国人来说,“时间又开始了”……

(3) 这位诗人“喜悦的心情”是因什么重大事件产生的?党和国家工作重心怎样的转移促使“时间又开始了”? (4分)

(4) 从以上三则材料中,我们可以得到哪些有益启示? (2分)

15. (1) 人文主义 (2分); (2) D (2分); (3) 新中国的诞生(中华人民共和国的成立) (2分); 转移到经济建设上来(转移到社会主义现代化建设上来) (2分);

(4) 珍爱时间就是珍爱生命;科技发明改变人类生活(或改变人们的观念);思想解放有利于社会的进步;好的制度、政策有利于社会的发展;必须抓住历史发展的机遇;必须以经济建设中心、改革开放等。(任答1点2分,其他言之有理皆可) (2分)

(2010·山东聊城) 42. 阅读下列材料:

材料一 1863年1月1日起,凡在当地人民尚在反抗合众国的任何一州之内,或一州的指明地区之内,为人占有而做奴隶的人们都应在那时及以后永远获得自由……

——《解放黑人奴隶宣言》

材料二 在合众国境内受合众国管辖的任何地方,奴隶制和强制劳役都不得存在……

——《美利坚合众国宪法》修正案(1865年12月)

请回答:

(1) 《解放黑人奴隶宣言》是谁颁布的? (1分)《美利坚合众国宪法》修正案是哪一机构制

定的?(1分)

(2) 材料一和材料二颁布的背景、规定的内容有何不同?(4分)

42. (1) 颁布:林肯;(1分)制定:国会。(1分) (2) 颁布背景:材料一是在南北战争中北方失利,人民强烈要求下颁布的;(1分)材料二是在南北战争结束,北方胜利后颁布的。

(1分)规定内容:材料一给予叛乱诸州的黑人人身自由(或以政府文告、战时措施的形式解放叛乱地区的黑人奴隶);(1分)材料二在全国范围内正式废除奴隶制(或以法律形式在全国范围内正式废除奴隶制)。(1分)

(2010·四川乐山) 37. (10分) 思想解放是社会变革的先导。阅读下列材料,回答问题。

材料一 人是一件多么了不得的杰作!多么高贵的理性!多么伟大的力量!多么优美的仪表!多么文雅的举动!在行为上多么像一个天使!在智慧上多么像一个天神!人是宇宙的精华!万物的灵长!

——《哈姆雷特》

材料二 我不同意你说的每一个字,但我愿誓死捍卫你说话的权利。

——伏尔泰

材料三 我们中国多数国民口里虽然是不反对共和,脑子里实在装满了帝制时代的旧思想。……所以我们要诚心巩固共和国体,非将这班反对共和的伦理文学等旧思想,完全洗刷的干干净净。否则,不但共和政治不能进行,就是这块共和招牌,也是挂不住的。

——陈独秀

请回答:

(1) 材料一是谁的作品?该作品体现了什么思想?(2分)

(2) 材料二表明了伏尔泰的什么观点?请举出三例受此观点影响的欧美革命。(4分)

(3) 材料三表明了陈独秀的什么观点?为此掀起了哪一场运动?(2分)

(4) 上述材料反映的思想文化运动,有何共同的历史作用?对我们今天的社会主义思想文

化建设有什么启示? (2分)

37. (10分) (1) 莎士比亚; (1分) 人文主义思想(或以人为本的思想)。 (1分)
(2) 天赋人权或自由、平等; (1分) 美国独立战争、法国资产阶级革命、拉美独立运动。
(3分)。 (3) 主张: 洗刷干净封建思想(帝制时代的旧思想), 维护民主共和; (1分)
新文化运动。 (1分) (4) 解放了思想; 促进了社会进步; (1分) 解放思想; 与时
俱进; 不断创新; 追求真理; 崇尚科学; 吸收人类优秀的思想文化成果等。(采意给分,
任1点1分)

(2010·四川宜宾) 11. 阅读下列材料, 按要求回答问题:

材料一: 人具有高贵的理性, 人具有伟大的力量, 人的行为像天使, 人的智慧像天神。

——莎士比亚

(1) 材料一中莎士比亚的名言反映了当时的西欧流行什么社会思潮? 这一思潮的核心主张是什么? (4分)

材料二: 我们现在认定只有两位先生, 可以救治中国政治上、道德上、学术上、思想上一切的黑暗。

——陈独秀

(2) 材料二中的“两位先生”指什么? 为了实现其主张, 陈独秀等掀起了一场什么重大运动? (3分)

材料三:



(3) 材料三文章所示的鲜明观点是什么? 由这篇文章的发表而引发的大讨论, 与中共十一届三中全会的召开有何联系? (5分)

11. (1) 人文主义; 以人为本, 肯定人性, 肯定现实生活。 (2) 民主和科学; 新文化运动。 (3) 全国范围关于真理标准问题的讨论, 打破了两个凡是的精神枷锁, 解放了人们的思想, 为重新确立党的实事求是的思想路线奠定了基础, 为十一届三中全会的召开奠定了坚实的思想基础。

(2010·四川宜宾) 15. 阅读下列材料, 按要求回答问题

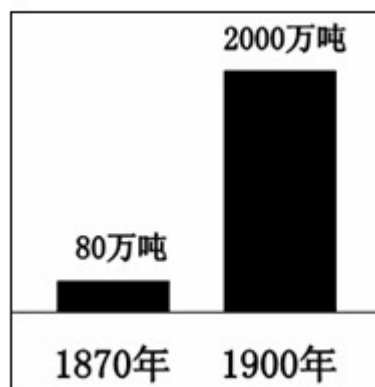
材料一: 1800~1870年英国煤产量(单位: 万吨)

年代	1800	1820	1830	1850	1860	1870
产量	1100	1740	2400	4940	8000	11000

(1) 材料一反映的趋势是什么? 英国工业革命期间, 在动力方面的哪一重大技术进步显著地促进这一趋势的出现? (3分)

材料二: (见右图)

1870年~1900年, 世界石油产量变化图



(2) 材料二中反映了什么现象? 导致这一现象出现的主要原因是什么? (3分)

(3) 结合所学知识, 分析材料一、二反映的现象对人类社会经济和生态环境的影响。对此, 你有什么认识? (4分)

15. (1) 英国煤的产量迅速增加；改良蒸汽机。(2) 世界各国对石油的需求量大大增加。(3) 内燃机的发明。煤和石油的大量开采，促进了世界经济的发展，但是也造成了环境污染问题。因此我们在利用高科技成果的同时，要注意兴利除弊。

(2010·浙江东阳) 21. (10分) 阅读下列材料，回答问题：

[被世界漠视的时区]

1601年，明朝万历年间，一台庞大的机械钟表出现在京城街头。但在一个习惯用暮鼓晨钟计时的王朝，那是一个与世界无关的“北京时间”。中国远离着世界，世界却在近代化进程中突变。

(1) 发端于欧洲的世界近代史，都是以西方国家的近代化节点作为时间标志。请列举这些作为西方国家的近代化节点的历史史实，至少二例。(4分)

(2) 远离世界的中央帝国，偶有近代化的声响扰乱清梦，却依然在沉睡中浑然不觉。请列举一个中国近代扰乱清梦、追求近代化的史实。(2分)

[受人瞩目的北京时间]

二十国集团领导人伦敦金融峰会新闻中心的时间显示墙上，只悬挂着3个时钟：“华盛顿时间”、“伦敦时间”和“北京时间”。

(3) 短短60年，新中国将一个几百年来被世界漠视的时区，标注为举世瞩目的“北京时间”。这一切，始于60年前那个开天辟地的时间。这一开天辟地的历史事件是什么？(2分) 结合所学知识，说说为什么这一事件成为中华民族的历史新纪元？(2分)

21. (1) 英国资产阶级革命、法国资产阶级革命、美国独立战争、工业革命。(答出二点即可。4分) (2) 洋务运动、维新变法、辛亥革命。(任举一例即可，2分) (3) 1949年，中华人民共和国成立。(2分) 中国共产党领导中国人民取得新民主主义革命的胜利，结束了半殖民地半封建社会，人民成了国家的主人。(2分，若答出综合国力增强，得1分。)

(2010·福建福州) 28. (11分) 阅读下列材料，回答问题：

材料一 公元前5世纪后半期，伯利克里扩大公民的权利，很多公民担任了政府公职。全体成年男性公民可以参加最高权力机构公民大会，决定内政、外交、和平、战争等重大问题，他们在行政和司法机构中也发挥着重要作用。

——摘自人教版《世界历史》九年级上册

材料二 凡未经议会同意，以国王权威停止法律或停止法律实施之僭越(僭：jiàn，超越本份)权力，为非法权力。

——《权利法案》

材料三 在1954年10月1日的国庆游行人群中，有一支队伍特别活跃——第一届人民代表大会队，“拥护宪法”、“国家一切权力属于人民”的标语特别抢眼。

——《辉煌六十年解说词》

请回答：

(1) 材料一反映古代哪一国家的民主政治状况？(2分) 该国居民都能享受这些权利吗？(1分)

(2) 据材料二指出国王的权利受到什么机构的限制？(2分) 《权利法案》颁布使英国开始确立怎样的政治体制？(2分)

(3) 材料三中的“宪法”具体名称是什么？(2分) 它属于什么类型的宪法？(2分)

28. (1) 雅典；不能。(2) 议会；君主立宪制。(3) 1954年《中华人民共和国宪法》；社会主义类型的宪法。

(2010·江苏徐州) 19. (8分) 世界博览会是经济、科技与文化界的奥林匹克盛会，也是举办国充分展示综合实力的盛会。根据材料，结合所学知识回答下列问题：

英国举办了第一届世界博览会。维多利亚女王发出外交邀请信函，有 10 个国家接受了邀请。伦敦博览会(又名水晶宫博览会)被确认为现代意义上的首届世博会。水晶宫博览会成为二十世纪科学与进步的巨大推动力，它的成功举办，使它成为全球规模的盛会。

——引自中广网《回顾 1851 年英国伦敦首届世博会》

请回答：

- (1) 英国能够成功举办首届世博会的有利经济条件是什么？(1 分)
- (2) 在首届世博会上，英国最有可能展示哪些发明？(2 分)
- (3) 在当时，要把世博会展品运往展览地可使用哪些最为先进的交通工具？(2 分)
- (4) 在首届世博会举办的 1851 年，英国的政治体制是怎样的？(1 分)该体制最早在英国确立的标志是什么？(1 分)
- (5) 第 41 届世界博览会在上海举行。上海能够走上迅速发展的快车道，成为繁荣的国际大都市得益于中共十一届三中全会上作出的哪项英明决策？(1 分)

19. (1) 率先进行并完成工业革命，成为世界经济强国。(1 分)(符合题意、言之成理即给 1 分) (2) 蒸汽机、火车(蒸汽机车)、飞梭、珍妮纺纱机、骡机、水力织布机等。(2 分)(只要举例正确，1 点 1 分，写出其中任意 2 点即可给 2 分) (3) 汽船(轮船)、火车(蒸汽机车)。(1 点 1 分，2 点 2 分) (4) 君主立宪制。(1 分)《权利法案》的颁布。(1 分) (5) 改革开放。(1 分)

(2010·山东威海) 33. 阅读下列材料：

材料一 7 世纪中期，日本国内的改革派发动了宫廷政变，新上台执政的孝德天皇颁布改新诏书，开始了一场以学习和模仿中国隋唐经济和政治制度为主要内容的改革，促进了日本经济、社会的快速发展。

材料二 大约 150 年前，在西方殖民者坚船利炮的胁迫下，日本遭遇了巨大的生存危机：一部分中下级武士以武力推翻了幕府统治。不久，天皇实行了一系列改革，最终使日本成为东方世界第一个摆脱西方大国的欺凌、顺利实现现代化的国家。但后来日本却走上了军国主义和法西斯主义的邪路。

请回答：

- (1) 材料一中的这次改革历史上称为____，这次改革是日本从____社会向____社会过渡的标志。我国隋唐时期选拔人才的制度是____，该制度在我国封建社会沿续了一千三百多年。(2 分)
- (2) 材料二中天皇实行的这次改革历史上称为____，这次改革的主要内容是什么？列举近现代历史上日本发动的两次大规模侵华战争的名称。(5 分)
- (3) 你从材料一和材料二中可以得到哪些启示？(1 分)

33. (1) 大化改新(1 分) 封建科举制度(各 0.5 分) (2) 明治维新(1 分) 政治方面，“废藩置县”，加强中央集权；经济方面，允许土地买卖，引进西方技术，鼓励发展近代工业；社会生活方面，提倡“文明开化”，即向欧美学习，努力发展教育。(3 分) 甲午中日战争、八国联军侵华战争、九一八事变、七七事变、全面侵华战争(只要答对其中两点即可得 1 分)。(3) 要善于学习外国的长处，要顺应历史潮流适时地进行改革，正确面对中日关系，警惕日本军国主义复活等。(只要言之有理，观点正确即可得 1 分)

(2010·湖北鄂州) 23. (8 分) 阅读下列材料，结合所学知识回答问题。

材料一：1861 年，沙皇签署了废除农奴制的法令。法令在保护贵族、地主利益的前提下，宣布农奴获得人身自由，还规定农奴获得“解放”时，可以得到一块土地，但必须高价赎买。

——岳麓版《世界历史》

材料二：1863 年 1 月 1 日起，凡在当地人民尚在反抗合众国的任何一州之内，或一州的指明地区之内，为人占有而做奴隶的人们都应在那时及以后永远获得自由。

请回答：

(1) 签署废除农奴制法令的沙皇是谁？(2分)签署《解放黑人奴隶宣言》的美国总统是谁？(2分)

(2) 据两则材料判断，哪个国家的奴隶在获得人身自由后生存依然艰难？试引用材料说明。(2分)

(3) 俄国是通过改革的方式过渡到资本主义社会的，而美国扫清资本主义发展的障碍，是通过两次战争。有人说，改革比战争好；有人说，战争比改革好；还有人说，要具体问题具体分析，改革、战争并无好坏之分。你同意哪种观点？试结合相关史实简述理由。(答1点理由即可)(2分)

23. (8分) (1) 亚历山大二世。(2分)林肯。(2分) (2) 俄国。农民获得“解放”时，可以得到一块土地，但必须高价赎买。(2分) (3) 评分说明：①仅同意其中一个观点，但没回答理由，不给分；②同意其中任一观点，只要回答的理由充分或较充分，给1—2分；③回答的理由要结合俄、美相关史实。

(2010·山东淄博) 3. (8分) 某校历史兴趣小组进行一次探究活动，请你参与其中。

(1) 请将下表空白处填充完整。(6分)

事件	代表人物	影响
新航路开辟		
英国资产阶级革命	克伦威尔	
	罗伯斯庇尔	摧毁了封建统治，传播了资产阶级自由民主的进步思想，对世界历史的发展有很大影响。

(2) 请你为本次探究活动拟定一个主题。(2分)

3. (8分) (1) (6分)

事件	代表人物	影响
	哥伦布 (1分)	世界开始连成一个整体；(1分) 促进了资本主义的产生和发展 (1分)
		推翻了封建君主专制，(1分) 确立了资本主义君主立宪制 (或资本主义制度)，为发展资本主义扫清了道路。(其它符合题意的也可酌情得分，1分)
法国资产阶级革命 (或法国大革命) (1分)		

(2) 步入近代 (或者资本主义制度开始确立) (其它符合题意的也可酌情得分，2分)

(2010·江苏泰州) 23. 今年是世界博览会在中国上海的举办之年,也是鸦片战争爆发 170 周年。鸦片战争使中国面临“千古未有的变局”,上海成为近现代中国与世界联系的桥头堡。阅读有关材料,回答问题。(8 分)

材料一 乾隆二十二年(1757 年)时,清政府自以为“天朝物产丰盈,无所不有,原不藉外夷货物以通有无”。并下令关闭沿海其他口岸,只留广州一个口岸对外通商,并以《防夷规条》限制外国人在华的活动。

(1) 根据材料一,鸦片战争前清王朝推行怎样的对外政策?鸦片战争后,上海是在哪一个不平等条约中被迫开放为通商口岸的?(2 分)

材料二 1851 年英国伦敦举办了第一届世界工业博览会,……引擎、水力印刷机、纺织机械向参观者展示了现代工业的发展和人类焕发出的无限想象力。天时、地利、人和催发了第一届世博会在英国的诞生。

(2) 根据材料二,结合当时英国的国情,试从经济(或科技)的角度说明英国能够成功举办第一届世博会最主要的原因。(2 分)

材料三




蒸汽机车



第一批国产“解放”牌汽车



长征系列运载火箭



多利

(3) 1992 年,为纪念一位航海家发现美洲 500 周年,西班牙政府在塞维利亚举办了世博会,把博览会的主题命名为“发现的时代”。请问这位航海家是谁?中国馆展出四大发明及一些最新的科技成就等,被评为“五星级展馆”。材料三中哪一展品最有可能在中国馆展出?(2 分)

材料四



发展中的上海浦东

(4) 结合材料四回答,20 世纪 90 年代,上海迎来了怎样的发展机遇?世博会在上海举办,你认为会对泰州带来什么积极的影响?(2 分)

23. (1) 闭关锁国;《南京条约》; (2) 经济:世界第一强国或者日不落帝国;科技:工业革命的完成。(3) 图片三;(4) 开发与开放浦东新区;只要有利于泰州经济、科技和文化等方面的影响即可。

(2010·山东滨州) 27. 2010 年上海世博会已于 5 月 1 日盛大开幕,为更全面地了解世博会,方明同学在互联网上查阅了下面的资料。结合所学知识,让我们一起来学习这些资料。

材料一 1851 年 5 月 1 日,世界上第一次博览会在英国召开。完成了工业革命的英国已经是世界上一流的强国,没有人怀疑英国的强大,因而强大而带来的巨大召唤力使英国举办

了世界上第一届世界博览会。

……这次世界博览会不仅是一次“眼花缭乱，丰富多彩”的陈列，而且开创了今后数十年自由贸易的先驱，向人类预示了工业化生产时代的到来。

材料二（2010年5月1日上海世博会开幕式上）国际展览局主席蓝峰在致词时，用不太熟练的普通话称赞中国：“中国是文明古国，中国城市近年来发生的巨大变化是史无前例的。”蓝峰表示，国际展览局代表其157个成员国，对以城市为主题的2010年世博会在上海举办，在中国这个人口最多，历史最悠久，文化底蕴最深厚，同时正在经历巨大和史无前例的城市革命的国家举办，感到无比高兴。

请回答：

- (1) 根据材料一和所学知识从政治、经济两方面说明，英国在当时成为一流强国的原因。
- (2) 下列工业产品最有可能陈列在第一届世界博览会展馆里的是（ ）


如图



A. 火车



B. 电灯



C. 飞机



D. 计算机

(3) 材料二中国际展览局主席蓝峰认为“中国城市近年来发生的巨大变化是史无前例的”。当代中国城市发生巨大变化开始于上个世纪_____年代，其原因是_____战略决策的实施。

(4) 2010年上海世博会的主题是“城市——让生活更美好。”方明同学搜集了一些关于古代城市情况的资料，请你判断他的理解是否正确。（在括号内打√可×）

① 费正清《中国：传统与变迁》记载“（中国）8世纪中期有26个超过10万户的大城市，到了12世纪初就发展到52个。”数据证明宋代城市的数量较前代有较大幅度增长，城市人口大量增加。（ ）

② 吴自牧《梦粱录》中记载“奇术异能，歌舞百戏，鳞鳞相切，乐声嘈杂十数里。”反映的是宋代城中元宵节的热闹景象（ ）

③ 欧洲谚语“城市的空气使人自由。”反映中古欧洲，农庄里的农奴只要居住在自由的城市就有可能取得自由的身份。（ ）

④ 一位意大利商人伦敦旅行见闻录（1497年）中记载，“全城到处可以看到很多手工艺人的作坊，从事各种各样的手工工艺，以致没有一条街不被一些店铺或类似的设施所点缀。”这段记载反映出，中古西欧城市是手工业和商业相对集中的地区。（ ）

27. (1) 政治上，进行了资产阶级革命（2分），经济方面完成了工业革命。（2分）
(2) A（2分）；(3) 80（1分）；改革开放（1分）；(4) ①√；②×；③√；④√。（4分）

（2010·湖北十堰）39.（10分）民主与法制是人类在近代化过程中追求的目标，某校历史兴趣小组拟就这一专题开展探究性学习活动，下面是他们收集到的有关材料：

材料一 伯里克利说：“我们的制度之所以被称为‘民主政治’，因为政权是在全体公民手中，而不是在少数人手中。”

材料二



图一



图二

请你也参与这次探究性学习活动，完成下面探究性学习任务。

- (1) 被历史学家视为“所有现代民主制度源头”的雅典民主政治的核心是什么？（1分）
- (2) 在近代追求民主政治的过程中，许多国家都爆发了轰轰烈烈的革命，图一和图二所反映的历史事件分别标志着法国大革命和中国辛亥革命的爆发，它们分别是什么事件？（2分）
- (3) 在材料二所反映的起义胜利后，法国和中国都颁发了纲领性的法律文件，文件的名称分别是什么？（2分）
- (4) 请从革命的性质和革命的结果两方面简要比较法国大革命和中国辛亥革命的同点和不同的。（5分）

39. (10分) (1) 雅典民主政治的核心是公民平等直接参政（1分）；(2) 它们分别是巴黎人民攻占巴士底狱和武昌起义（共2分，各1分）；(3) 法国：《人权宣言》、中国：《中华民国临时约法》（共2分，各1分）(4) 相同点：性质都是资产阶级民主革命；结果都推翻了封建君主统治（2分）；不同点：法国大革命建立了资产阶级统治，并为欧洲的民主制度奠定了基础（1分），辛亥革命建立了资产阶级共和国，但未能改变中国半殖民地半封建社会性质。（2分，相同点和不同点的比较中，不要求答案完全一致，学生言之有理即可酌情给分，每个要点为1分）。

(2010·湖北襄樊) 35. 【了解资产阶级革命和改革】（6分）

材料一：“当前南部与北部之间的斗争不是别的，而是两种社会制度……之间的斗争。”

——马克思

材料二：“诸位会深信，凡能够维护地主利益的措施，都一一地做到了。”

——亚历山大二世

请回答：

- (1) 材料一中所说的“两种社会制度”分别指的是什么？（2分）美国当时的社会矛盾最终导致了什么战争的爆发？（1分）
- (2) 亚历山大二世是在签署废除什么制度的法律后说的这段话（1分）？他的这段话反映了这次改革的局限性是什么？（1分）
- (3) 美国的战争和俄国的改革有什么相同的积极作用？（1分）

35. (1) 两种社会制度：资本主义制度、奴隶制（或答资本主义工业和种植园经济）。（2分）南北战争（或美国内战）。（1分）(2) 农奴制的法律。（1分）留下了大量封建残余。（1分）(3) 都有利于本国资本主义的发展。（1分）

(2010·山西) 19. 阅读下列材料：

19世纪中期后，世界各国才了新一波的资产阶级民主改革和革命浪潮：

1861年3月沙皇亚历山大二世签署了废除农奴制的法令。

1861年3月，林肯就任美国总统，不久美国南北战争爆发。

1868年起，日本明治政府实行了资产阶级性质的改革。

资本主义已越出少数几国范围而形成世界体系，资本主义制度的主导地位在世界范围内最终确立。古老的中国也受到冲击。

根据材料，结合所学知识回答问题。

(1) 请选择材料中任一历史事件，简述其基本史实。(提示：从原因、主要措施、作用等方面叙述)(4分)

(2) 19世纪下半期到20世纪初，中国近代化探索过程中发生了哪些重大事件?(4分)

(3) 归纳中国这些重大事件的共同作用，并加以说明。(2分)

(4) 这一时期中国和世界的资产阶级民主改革和革命，向世人昭示出哪些道理? (1分) 林肯等人的优秀品质对青少年有什么启迪? (1分)

19. (1) 示例一：俄国农奴制改革 原因：改革前俄国盛行农奴制；农奴暴动；克里米亚战争失败。(1分) 法令规定：农奴在法律上是“自由人”，地主不许买卖农奴；农奴获得“解放”时，可以得到一块份地，但必须出钱赎买这块份地。(2分) 作用：是俄国历史上的重大转折点；加快了俄国资本主义的发展；提供了必要的雇佣劳动力、国内市场、资金以及相对稳定的社会环境；缓和了国内社会矛盾，避免了革命的发生；保留了封建残余，俄国近代化步伐依然缓慢。(1分)

示例二：日本明治维新 原因：幕府统治腐朽；外国侵略势力入侵；中下级武士推翻幕府统治。(1分) 主要措施：废藩置县；允许土地买卖，引进西方技术；提倡“文明开化”；实行征兵制。(2分) 作用：是日本历史的重大转折点；使日本从一个闭关锁国的封建国家逐步转变成资本主义国家；摆脱了沦为殖民地半殖民地国家的命运。(1分)

示例三：美国南北战争 原因：两种经济制度水火不容。(1分) 《解放黑人奴隶宣言》主要内容：废除叛乱各州的奴隶制；允许奴隶作为自由人参加北方军队。(2分) 作用：维护了国家统一；扫清了资本主义发展的又一大障碍；为以后经济的迅速发展创造了条件；是美国历史上第二次资产阶级革命。(1分) (说明：所选史实的原因和作用，答出所列任何一点都可得分，各1分，措施答出任意两点得2分)

(2) 洋务运动；(1分) 戊戌变法；(1分) 辛亥革命；(1分) 新文化运动；(1分)

(3) 共同作用：都是近代化的探索；都是向西方学习，探索救国救民道路的历程；都有利于中国资本主义的发展。(1分) 说明：洋务运动学习西方先进科学技术，有利于中国资本主义的发展；戊戌变法在社会上起了思想启蒙的作用；辛亥革命推翻了两千年封建帝制，使民主共和观念深入人心；新文化运动提倡民主科学，掀起思想解放潮流。(1分)

(4) 道理：世界潮流浩浩荡荡，顺之者昌，逆之者亡；阻碍社会进步的落后制度必然被先进的制度所取代；资本主义是当时世界发展的主流；资产阶级民主改革和革命是新制度与旧制度的斗争；改革成功能推动社会进步。(1分) 启迪：青少年应具有爱国心、责任感、正义感。(1分) (说明：道理答出所列任何一点都可得分)

(2010·湖南长沙) 18. 阅读下列材料，回答问题：

材料一 世界博览套(WORLD EXPO，简称“世博会”)是由一个国家的政府主办，有多个国家或国际组织参加，展现人类在社会、经济、文化和科技领域取得成就的国际性大型展示会。自1851年英国伦敦举办第一届以来，世博会因其发展迅速而享有“经济、科技、文化领域内的奥林匹克盛会”的美誉。

材料二 2010年5.1—10.31世界博览会在中国上海举办，为期184天，主题是“城市，让生活更美”……参观中国馆时，许多游客被馆内长达100多米的巨型动画版《清明上河图》所吸引，体会到北宋宣和年间当时世界上最大城市汴京的繁盛与热闹。

材料三 1902年，梁启超就在其《中国未来记》一书中构想世博会在上海召开，他的艺术想象，集中体现了那一代人的强国梦。108年以后的今天，世博会正式在中国上海举办…

…

请回答：

(1) 从政治和经济两个方面分析，1851年英国为何能首先举办世博会？(4分)

(2) 世博会是科技的展台，科技成果深刻的影响着人们的生活，请分别列举第一、二次工业革命在交通领域内的重大发明各一项。(4分)

(3) 世博会也是文化艺术的展台，材料二中《清明上河图》的作者是谁？该作品属于哪类题材画？出现这类题材画的原因是什么？(4分)

(4) 梁启超为实现强国梦，曾经参与领导了哪次重大改革？在中国，世博会从一百多年前的梦想到今天的成功举办，其根本原因是什么？(3分)

18. (1) 政治：君主立宪制的资产阶级统治在英国确立；经济：英国率先完成工业革命，生产力得到巨大发展；(2) 第一次：火车(轮船)；第二次：汽车(飞机)；(3) 张择端；风俗画；城市经济的发展；(4) 戊戌变法；综合国力的日益增强。

(2010·河南) 24. (6分) 阅读材料，回答下列问题。

18世纪70年代到19世纪中期，面对殖民主义的暴行，殖民地人民进行了不屈的抗争，斗争结果虽然不尽相同，但都沉重打击了殖民统治，维护了民族尊严。这一时期殖民地人民的斗争一般有三种结果：一是民族独立并逐步强大；二是民族独立但社会发展缓慢；三是失败，殖民统治进一步加强。

(1) 请仿照示例，完成问题一和问题二。

示例：结果：民族独立但社会发展缓慢。

名称：拉丁美洲独立运动。

原因：西班牙、葡萄牙实行的封建统治，独立国家确立的社会制度落后。

问题一：结果：民族独立并逐步强大。(2分)

名称：

原因：

问题二：结果：失败，殖民统治进一步加强。(2分)

名称：

原因：

(2) 在这一时期反对殖民统治的斗争中，涌现出了大批杰出人物，你最敬佩的是谁？请说明理由。(2分)

24. (6分) (1) 问题一：名称：美国独立战争。(1分) 原因：独立后美国走上了资本主义的道路。(意思对即可，1分) 问题二：名称：印度反英民族大起义。(1分) 原因：英国殖民者的疯狂镇压；英国殖民者实行分化政策；印度王公贵族的妥协。(一条即可，其他符合题意也可，1分) (2) 如：华盛顿；领导美国人民经过艰苦斗争，取得民族独立。他开创了美国民主政治的先河。玻利瓦尔：他率领起义军英勇作战，解放了西班牙在南美洲的殖民地，建立了一系列独立国家，被誉为“南美的解放者”。章西女王：她是印度杰出的女英雄，她领导起义军英勇抗击英国军队，沉重打击了英国的殖民统治。(评价只要符合人物特征，一条即可，2分)

(2010·福建龙岩) 28. 阅读下列材料：

材料一 1851年，在英国伦敦举办了第一届世界展览会。期间展出了大约100万件展品，如蒸汽机、水力印刷机、纺织机械等。展览会成功地向世人展示了工业革命时代的辉煌成就。

——节选自人教版《世界历史》九年级上册

材料二



工人正在检查上海世博会使用的太阳能板

请问答：

- (1) 结合材料一，1785年以后，首先在纺织部门投入使用的蒸汽机是谁改进的？（3分）你认为当时英国展馆最有可能展出的新型陆上交通工具是什么？（3分）
- (2) 材料二反映出上海世博会采用了哪种清洁能源？（2分）它体现了什么设计理念？（2分）
- (3) 结合上述材料，谈谈这两届世博会带给我们哪些启示？请举一例。（2分）

28. (1) 瓦特。（3分）火车（火车机车）。（3分）(2) 太阳能。（2分）节能环保，可持续发展等。（意思相近，答一点即可得2分）(3) 科学技术是第一生产力。（能围绕科技、创新、环保等，且言之有理即可得2分）

(2010·广东) 27. 阅读材料：

材料一 我们的制度之所以被称为民主政治，是因为政权在全体公民手中，而不是在少数人手中。在解决私人争执的时候，每个人在法律上都是平等的。

——伯里克利

材料二 2010年5月12日，英国女王伊丽莎白二世任命保守党领袖卡梅伦为首相，并授权他组建新一届政府。……伊丽莎白二世虽然是英国国家的象征，却不掌握国家的最高权力，是统而不治的君主。

——摘自新华网

材料三 在权利方面，宣扬人们生来是而且始终是自由平等的；法律是公共意志的表现；各个公民都有言论著述和出版的自由。……财产权是神圣不可侵犯的权利。

——摘自《人权宣言》

请回答：

- (1) 根据材料一，说出实行这种“民主政治”的古代奴隶制城邦国家的名称。（2分）
- (2) 结合所学知识，判断材料二所反映的是英国什么政治制度？（1分）该政治制度是怎样在英国确立起来的？（3分）
- (3) 概括材料三所体现的法国资产阶级的理想追求。（2分）《人权宣言》的发表有何历史意义？（2分）
- (4) 结合上述材料，谈谈你对西方民主政治的认识。（2分）

27. (本小题共12分) (1) 国家：雅典（得2分）；(2) 政治制度：君主立宪制。（得1分）

确立：1640年英国资产阶级革命的爆发；1688年英国爆发光荣革命；1689年英国国会通过《权利法案》。（每点得1分，满分3分。意思相近，酌情给分）(3) 理想追求：天赋人权；法律面前人人平等；私有财产神圣不可侵犯等。（答任何2点可得满分2分，意思相近酌情给分）意义：体现了要求摧毁封建君主专制和等级制度的进步思想；有利于资产阶级民主、自由思想的传播或奠定了西方社会法律的基本准则等（答到以上任何1点可得满分2分，言之有理酌情给分）。(4) 认识：古代希腊是西方文明的摇篮；英法的民主政

治对后世影响深远；西方的民主政治是国家稳定发展的保证；民主政治有利于保护公民的基本权利、保证社会的公平等。（答到以上任何1点可得满分2分，言之有理酌情给分）

（2010·广东佛山）17．阅读下列材料：

《神曲》是人类历史上宝贵的精神遗产，它充满着对教会和封建贵族的谴责，对自由、理性和求知精神的歌颂。恩格斯把它的创作者称为“新时代的最初一位诗人”。

请回答：

（1）《神曲》的作者是谁？（2分）

（2）“新时代”的主题是什么？（2分）并谈谈你对“新时代”的理解。（3分）

17．（1）但丁。（2分）（2）主题：以人文主义为核心的思想解放；欧洲资本主义的兴起。（2分）理解：新时代是欧洲开始从中世纪向近代社会的过渡；新兴资产阶级对世俗的物质和精神追求；主张个性解放和思想自由。（3分）


（2010·广西河池市）12．阅读下列材料：

材料一


第一届世博会于1851年在英国伦敦举办，在展会期间，最受参观者瞩目的如下新产品：



图一



图二



图三

材料二 如图四，自由女神的右手高举着火炬，左手拿着一部文献《独立宣言》。



图四

材料三 经过漫长的航行后，他和同伴于1492年10月12日突然发现远处有陆地，于是高兴地前往，到了近处一看，原来是座海岛，这个岛就是现在美洲加勒比海上巴哈马群岛中的瓜纳哈尼岛。500多年前的这一大壮举打破了美洲大陆与世隔绝的状态，1992年为纪念发现美洲大陆500周年。

结合所学知识回答问题

（1）写出材料一1851年的世博会英国有可能展出的先进工业展品（一件即可，2分）

（2）材料二中“自由女神像”左手执的《独立宣言》对美国有什么意义？（2分）

（3）材料三中谈到“纪念发现美洲大陆500周年”是谁发现了美洲大陆？（2分）

（4）说说你对上海世博会的认识。（2分）

12．（1）蒸汽机、火车机车、珍妮纺纱机（2分）；（2）美国诞生（或标志着北美13个殖民地脱离英国独立。）。（2分）（3）哥伦布（2分）；（4）“城市，让生活更美好”（2分）（如答其它答案，只要言之有理也可酌情给分）

(2010·湖北荆州) 40. 阅读下列材料：

明治维新时期，日本推行“文明开化”政策。有人主张日本传统的衣食住行应该全部废除，提倡全部西化；认为日语不能表达文明思想，日本人应该统统学习英语。1872～1880年由政府出面倡导，发布断发、易服、食肉等行政命令，并发布了几十种文明开化的小册子，以改革封建时代的风俗习惯，把社会生活的“欧化”（西方化）推到极致。

回答：

(1) 明治维新运动为什么会成为日本近代历史的重大转折点？(2分)

(2) 结合材料和所学知识，谈谈你对日本在社会生活方面推行全部西化的认识。(从积极影响和消极影响两个方面回答) (3分)

(3) 近代日本通过明治维新从落后转为先进的历史留给我们什么主要启示？(2分，回答一点即可)

40. (1) 明治维新运动使日本从一个闭关锁国的封建国家，逐步转变为资本主义国家，摆脱了沦为半殖民地国家的命运，是日本历史的重大转折点。(2分) (2) 积极影响：推行文明开化政策，有利于日本学习西方先进文化；有利于改变日本的封建习俗。(2分) 消极影响：完全照搬西方的文化，不利于日本的发展。(1分) (只要用一分为二的方法从两个方面回答，答案言之有理符合题意即可) (3) 要学习外国先进的经验；注重发展教育；注重提高国民素质；学习外国先进经验要与本国实际相结合；走和平发展道路等。(2分，任答一点即可，其他答案言之有理符合题意亦可)

(2010·湖南衡阳) 28. (14分) 2010年4月30日晚8点10分，历史上最为宏大的第41届世界博览会在上海隆重开幕。阅读材料，结合所学知识，回答问题。

[交流盛会]

材料一 上海世博会成为世界文明的盛大交流平台，体现了当代中国外交的强大魅力。古代史上，中国坚持和平外交，待人以礼，持之以义，积极发展对外友好关系。与中国外交传统不同，近代西方的资本主义外交始于新航路开辟，它以追求利润为目的，实行武力外交，大搞殖民扩张。



(1) 右图为新航路开辟示意图，请写出图中D航线的开辟者？(2分)

[科技盛宴]

材料二 上海世博会向人们展示了大量低碳能源、资源回用、3D影像、机器人服务等技术，给参观者带来耳目一新的体验，显示了低碳、绿色、可持续发展的理念与科技的前沿发展和未来趋势。

(2) 古代史上，我国科技曾遥遥领先世界，有四大发明，请写出哪四大发明？进入近代，我国科技一度落后于西方，但我国科技工作者努力赶超世界先进水平，请写出詹天佑和侯德榜的科技成就。(6分)

[城市之光]

(3) 右图为中国古代著名城市唐都长安简图。观察右图，结合所学知识，说说唐都长安在城市布局和功能上的特点。(2分)



材料三 1858年夏天，伦敦非常热，降雨量不大，污水无法从泰晤士河排走，造成河流



味道恶劣到人们经过西敏桥时都要掩住口鼻。伦敦市民再也无法划船取乐，因为船桨会激起各式各样的恐怖污秽。泰晤士河的恶臭导致旁边国会大楼的议员无法工作。正如左图漫画《The Silent Highwayman' from Punch magazine, 1858》所示，一个骷髅人在泰晤士河上划船，河中还有死鱼、死乌龟和死牲畜的尸体漂流。

——陈伟壁《寂静的河道人》

(4) 材料三反映了近代西方大都市伦敦怎样的情况，并分析其形成原因。(3分)

材料四 上海世博会以“城市，让生活更美好”为主题，以城市多元化的融合、城市经济的繁荣、城市科技的创新、城市社区的重塑、城市和乡村的互动作为副主题，主要目标在于：提高公众对“城市时代”中各种挑战的忧患意识，并提供可能的解决方案，促进人们更加关注健康的城市发展，推广可持续的城市发展理念……

(5) 这次世博会首次以城市为主题，展示了世界名城上海多姿多彩的现代气派，并以新的理念和科技表达对未来城市生活的探索和憧憬。请你就“城市，让生活更美好”这一话题，提出一项建议？(1分)

28. (14分) (1) 哥伦布。(2分) (2) 四大发明：造纸术、印刷术、火药、指南针。

(4分) 詹天佑主持设计修筑的京张铁路为中国人自行设计和修建的第一条铁路；侯德榜发明了联合制碱法。(2分) (3) 城市布局严整；功能分区严格，分为住宅区和商业区(或城市功能综合化，既是政治中心，又是经济、文化中心；或是国际性大都市)。(2分) (4) 情况：污染十分严重，城市环境恶化。(1分) 成因：工业化和城市化推进；人们环保意识淡薄。(2分) (5) 答出发展低碳经济；注意资源回用；过低碳生活；美化城市环境；讲究卫生；加强环保宣传之中任意一方面或某方面一点具体建议皆可，如节约用电用水、不乱扔垃圾、多植树种草等。(1分)

(2010·山东莱芜) 23. 资本主义生产方式的发展是一个长期的历史过程，在这一过程中，工业革命的进行对东西方国家都产生了巨大影响。阅读材料，回答问题。(8分)

材料一 1306年—1308年，意大利的佛罗伦萨市区有手工工场300家，年生产呢绒十万匹，1343年佛罗伦萨市中有九万余人，从事呢绒生产约三万人，占全城居民的三分之一。

(1) 材料一中佛罗伦萨手工工场的兴旺说明这一时期欧洲出现了什么现象？中国何时最早出现了这一现象？(2分)

材料二 马克思说：“蒸汽和新的工具把工场手工业变成了现代化的大工业，从而把资产阶级社会的整个基础革命化了。工场手工业时代的迟缓的发展进程变成了生产中真正的狂飙时期。”

(2) 根据材料二，说出英国工业革命的标志性成就与工业革命后的主要生产方式。结合所学知识简述工业革命的影响。(4分)

(3) 为了开辟市场和掠夺原料，英国对中国发动了什么战争？由此中国的社会性质发生了什么变化？(2分)

23. (1) 资本主义萌芽。(1分) 明朝中期以后。(1分) (2) 瓦特改良蒸汽机；大机器生产。(2分) 影响：创造了巨大的生产力；确立了资本主义对世界的统治。(2分)

(3) 鸦片战争(或两次鸦片战争)；(1分) 中国开始沦为半殖民地半封建社会。(1分)

(2010·广西梧州) 34. 阅读下列材料：

材料一 回顾历史，17、18世纪英国先后两次引领人类历史发展的潮流。……为炫耀其强大国力，1851年，英国在伦敦举办了第一届世界博览会。主要内容是世界文化与工业科技，展现了工业革命后英国技冠群雄、傲视全球的辉煌成果。

材料二 170年前，英国隆隆的炮艇开到中国东南沿海，和中国进行了第一次交锋。这次交锋后，上海向世界打开了紧锁了几百年的大门。由此，上海经历了近代城市的产生、发

展到当今的国际大都市的历程，见证了我国近现代史一系列重大事件。

材料三 2002年12月3日在国际展览局第132次全体大会上，经过4轮投票，上海最终胜出，获得2010年世博会的主办权。……上海将向世界展示我国改革开放以来社会主义建设的辉煌成就。

——引自新浪网

阅后结合所学知识回答下列问题：

(1) 根据材料一和所学知识，从政治、经济、科技角度分析英国能成功举办第一届世界博览会的原因。(3分)

(2) 材料二中“英国和中国进行了第一次交锋”指的是什么事件？(1分) 试举出三件中国近代史期间发生在上海的重大事件。(3分)

(3) 你认为上海能获得2010年世博会的主办权说明了什么？(2分)

34. (1) 政治上，英国最早确立资本主义制度；经济上是当时最大的殖民国家，经济处于世界领先地位；科技上最早进行工业革命。(2) 第一次鸦片战争；第一次鸦片战争英国侵略军到达广东海面，封锁珠江口，鸦片战争开始；第二次鸦片战争英军从海上炮轰广州，再一次打开中国国门；甲午中日战争中的黄海海战。(3) 说明了中国国际地位提高，综合国力增强了。

(2010·广东深圳) 29. 阅读下列材料，回答问题(13分)

材料一 “世界文明的盛会”——走进中国2010年上海世博会。




图一 2010年上海世博会会徽
会徽以汉字“世”字书法图形，寓意三人相拥，表现了家庭的幸福和对美好生活的追求。



图二 上海世博会吉祥物“海宝”
“海宝”的设计以汉字“人”为创意，寓意“四海之宝”。

材料二 1851年，举办国为展示其工业成果，举办了“万国工业产品博览会”，这是公认的第一届世博会。



图三 首届世博会展品

材料三 举办过世博会的主要国家分布图

从而加强国家对资本主义工业的控制与调节。(2分) (2) 作用：通过新政措施的实施，美国经济缓慢地恢复过来，人民的生活得到改善；资本主义制度得到调整、巩固和发展；资本主义国家对经济的宏观调控得到加强；美国联邦政府的权力明显增强；新政在美国和世界资本主义发展史具有重要意义。(答出四点即可得4分)

(2010·湖北宜昌) 22. (15分) 阅读下列材料，完成相关任务。

材料一 “资本来到世间，从头到脚，每个毛孔都滴着血和肮脏的东西。”

——马克思

材料二 西欧封建社会时期，封建贵族内部形成了严格的等级制度，农奴等劳动者生活在社会的底层。教皇和教会不仅是最大的土地所有者，还是封建制度的精神支柱。在精神和文化领域，神权凌驾一切。

从17世纪上半叶到20世纪初，资产阶级通过革命或改革，相继在欧美主要国家和亚洲的日本取代了封建势力，获得了政治统治权，颁布了《权利法案》、《独立宣言》和《人权宣言》等资产阶级性质的法律文献，以法律形式初步确立了资产阶级自由、民主、博爱思想；通过第一次、第二次工业革命，社会生产力获得了迅猛发展，社会面貌发生了翻天覆地的变化，文学艺术空前繁荣。

——改编自人教版《世界历史》上册

请回答：

(1) 马克思说：“资本来到世间，从头到脚，每个毛孔都滴着血和肮脏的东西。”请用一段史实来印证马克思的论断。(5分)

(2) 请运用史实来说明资本主义制度与封建制度相比具有哪些进步性和优越性？(4分)

(3) 我们讲述了资本主义制度的野蛮性和贪婪性，也分析了资本主义制度的进步性和优越性，从中你学到了哪些看待历史事物的方法？(6分)

22. (1) 三角贸易使殖民者从中获得惊人的财富，而给殖民地，尤其是非洲人民带来了深重的灾难，有上亿黑人付出了生命的代价。评分说明：史实准确，可得2分。对史实进行了描述可得3分，满分5分。(2) 《权利法案》、《独立宣言》和《人权宣言》以法律形式确立了资产阶级自由、民主和博爱思想；资产阶级进行两次工业革命，使社会生产力获得迅猛发展；资本主义带来的先进生产方式和以自由平等思想为基础的先进思想都成为了今天社会的文明进步标志；资本主义为人类社会物质和精神文明都做出了巨大的贡献等等，都说明了资产阶级的进步性和优越性。评分说明：史实一则，可得2分。具体分析了资产阶级有哪些进步性和优越性的，可得2分。满分4分。(3) 对比的方法看历史事物；辩证的观点看历史事物；客观公正、实事求是、符合历史本来面目的看待历史事物；从历史价值、历史地位、对世界的影响等方面看历史事物等等。评分说明：能从两个方面归纳看待历史事物的方法，一方面3分，满分6分。

(2010·四川攀枝花) 55. (7分) 阅读下列材料，回答问题：

材料一：人民为自由而战，寻求真正的解放。女王的荣光，查理的断首，都镌刻着“王在议会，法为习惯”的字样。

材料二：独立和自由根植于美利坚灵魂深处，为此它不惜与母邦兵戎相见……南北对峙，国家面临分裂，一位伟大的总统将它从危机中拯救。

材料三：革命的烈焰将国王推上了断头台，巍峨的凯旋门见证了拿破仑创造的奇迹……这个民族从不畏惧硝烟和战火的洗礼，因为他们更爱自由和真理。

——均摘编自《图说天下》

请回答：

(1) 材料一中“查理的断首”是指哪件事情？“王在议会，法为习惯”体现了出该国确立了怎样的资产阶级统治？(2分)

(2) 材料二中涉及到“美利坚”的两次革命战争有什么共同影响？“伟大的总统”的功绩是什么？(3分)

(3) 什么事件点燃了材料三中“革命的烈焰”，从而揭开了这个国家革命的序幕？(1分)

(4) 上述材料中，三个国家人民共同追求的是什么？(1分)

55. (1) 查理一世被推上断头台；(1分)君主立宪制；(1分) (2) 共同影响：有利于资本主义的发展；(1分)功绩：解放了黑人奴隶(1分)，维护了国家统一。(1分) (3) 法国巴黎人民攻占巴士底监狱。(1分) (4) 自由、民主、平等。(1分)

(2010·重庆江津) 24. 阅读下列材料：


材料一 两百多年前，曾经发生过一场完全不同的革命。这场革命没有你死我活的拼杀，而是通过和平的变革，彻底改变了人们的生产和生活方式。

材料二 他是举世闻名的美国大发明家，一生共获得 1000 多项发明专利权，被称为“发明大王”。他的名言是：“天才是百分之二的灵感加上百分之九十八的汗水。”

材料三 观察下列图片



汽船



蒸汽机车

请回答：

(1) 材料一中的革命指的是什么？(1分)

(2) 材料二中的“发明大王”是谁？(1分) 请列举这一时期出现的新通讯工具两例(2分)

(3) 材料三中的发明直接促进了哪个行业的飞速发展？(1分) 给人们生活带来了什么变化？(1分)

(4) 材料一所指革命的最基本(或最显著)的特征是什么？(1分)

24. (1) 工业革命(1分)；(2) 爱迪生(1分)；电话(1分)；(无线)电报(1分)；(3) 交通运输业(或陆上运输业和水上运输业,1分)；方便了人们的出行；货物的运输更快捷(1分,答对一点即可。意思相近即可得分)；(4) 大机器生产取代工场手工业；大机器代替手工业生产(1分,答对一点即可。答到机器生产即可)。

(2010·福建泉州) 24. 阅读下列材料，回答问题。

材料一 19世纪中期，没有人会怀疑英国的强大：约1/4的全球人口都是大英帝国的子民，起领土面积是世界陆地总面积的20%，地球上的24个时区均有大英帝国的领土。而18世纪自英国开始工业革命，经过一个世纪的发展后，更让英国成为无可争辩的经济强权。这就是第一届世博会开幕时的英国。

——摘自世博网

(1) 根据材料一，归纳英国举办第一届世博会的条件有哪些？(不得照抄原文)(4分)

材料二 世界博览会是展示世界文明最新成果的盛会。1876年在美国费城举办的世博会上，中国首次派出代表参加，展品有丝绸、茶叶、瓷器等。

——摘自世博网

(2) 通过分析1876年世博会的中国展品，你获得了哪些信息？(4分)

材料三 1926年中国参加美国费城世博会。此后，因战乱连年，民不聊生，中国遂与世博会无缘。直到1982年，新中国首次参加美国举办的诺克斯雅尔世博会。

——摘自世博网

(3) 根据材料三，指出中国“遂与世博会无缘”的主要原因是什么？(2分) 你对我国“遂与世博会无缘”有何感想？(2分)

24. (1) 英国拥有广阔的殖民地；完成工业革命；成为世界经济强国。(4分) (2) 中国仍停留在农耕文明；近代中国工业落后；中国与世界先进国家的差距拉大；中国没有与时俱进。中国传统手工业技艺精湛。等等。(4分) (注：本问为开放性问题，学生回答言之成理，可酌情给分。) (3) 主要原因：战乱连年，民不聊生。(2分) 感想：国家要独立，社会要稳定；应重视经济建设，重视科技，对外开放。等等。(2分) (注：本问为开放性问题，学生回答符合题意，言之成理，可酌情给分。)

(2010·湖北咸宁) 39. 阅读下列材料：

材料一 1640年，议会重新召开，资产阶级和新贵族要求限制王权，掀开了英国资产阶级革命的序幕。

——《无敌初中历史年表》

材料二 1775年4月，一支企图突袭民兵军火库的英军在波士顿附近……同民兵交火。从此，北美殖民地人民争取独立的战争开始了。

——《世界历史》九年级上册

请回答：

(1) 根据材料一，结合所学知识，说说1649年英国成立了什么形式的国家政权？(1分)

为了限制国王的权利，1689年英国议会通过了什么法案？(1分)

(2) 根据材料二，结合所学知识，说说一支企图突袭民兵军火库的英军在波士顿附近的什么地方同民兵交火？(1分) 1776年7月4日大陆会议发表的什么宣言宣告北美13个殖民地脱离英国独立？(1分)

39. (1) 共和国。(1分) 《权利法案》。(1分) (2) 来克星顿。(1分) 《独立宣言》。(1分)

(2010·湖北咸宁) 42. 阅读下列材料：

材料一 1851年5月1日，伦敦。一座由钢铁和玻璃构筑的水晶宫，成为世博会的历史起点。……从埃菲尔铁塔到自由女神像，从蒸汽机到电话，从高铁到机器人……一个半世纪以来，无数奠基现代文明的建筑，无数改变人类进程的发明，从世博会走向世界。

——《引领人类文明的航程——世博会159年的历史节点》

材料二 展示中国发展新貌，荟萃世界文明精华。举世瞩目的中国2010年上海世界博览会开幕式30日晚在上海世博文化中心隆重举行，国家主席胡锦涛出席开幕式并宣布上海世博会开幕。

——新华网上海4月30日电

材料三 在世博会湖北馆，我市将通过45秒的宣传片和5秒的片花，集中式、全方位地宣传城市形象和旅游产业，以“三国赤壁故地·中国温泉之都”为主题，呈现我市城市建设面貌和……自然风光。

——《世博会，展示咸宁的又一次机遇》

探究下列问题：

(1) 根据材料一，结合所学知识，说说1785年以后瓦特改进的蒸汽机首先在哪一工业部门投入使用？(1分) 谁在1885年试制汽车成功？(1分)

(2) 根据材料二，结合所学知识，说说1984年我国开放广州、上海等14个沿海城市后，在上海设立了什么开发区？(1分) 2001年10月在上海举行了什么国际组织的领导人非正式会议及相关会议？(1分)

(3) 根据材料一、材料二和材料三，结合你所了解的课外知识，说出经过咸宁市所辖地域

的高速铁路的名称是什么？（1分）2010年上海世博会的主题是什么？（1分）

42. (1) 纺织部门。（1分）卡尔·本茨（或：本茨）。（1分）(2) 浦东开发区。（1分）亚太经合组织（或：APEC）。（1分）(3) 武广高速铁路。（1分）主题：城市，让生活更美好。（1分）

(2010·湖南湘潭) 31. 19世纪六七十年代，资本主义制度在全世界范围内确立。阅读下列材料，回答问题。

材料一 北方人看不惯南方人，南方人不服北方人。……当前南北之间的矛盾不是别的，而是两种社会制度之间的斗争。这个斗争之所以爆发，是因为这两种制度不能再在北美大陆上和平共处了。

——马克思《美国内战》

材料二：如果总的看一看 1861 年俄国国家全部结构的改变那就必然会承认，这种改变是封建君主制转变的道路上的一步。不仅从经济观点来看是正确的，而且从政治观点来看也是正确的。

——列宁《关于纪念日》

材料三 过去的西洋文明史是外国人引进的，从今以后我们日本人要用自己的手将西洋文明带入国内。

——1868年某日本官员语

请回答：

- (1) 分别写出材料一、二、三所反映的历史事件。(3分)
- (2) 材料一、二反映的历史事件对两国产生了什么共同影响？(2分)
- (3) 材料三中“我们日本人要用自己的手将西洋文明带入国内”的具体措施包括哪些？(4分)
- (4) 上述三国的崛起之路对我国现代化建设有什么启示？(1分)



日本赴美参观团出港

31. (1) 材料一：美国南北战争(美国内战或美国废除黑人奴隶制)；材料二：俄国废除农奴制改革(俄国 1861 年改革、俄国农奴制改革)；材料三：日本明治维新(每点 1 分，共 3 分)；(2) 都促进(推动)了资本主义发展。(2分)(3) 创办近代企业，引进西方技术；提倡文明开化，大力发展教育；改革封建军制，创建近代化军队。(答出两点即给 4 分)(4) 坚持改革开放，善于学习先进文明成果；重视教育和人才的培养；维护国家统一，为经济发展创造良好环境；对西方文明不能生搬硬套，应取其精华，去其糟粕；坚持民族团结、民族平等，共同繁荣原则等。(答出 1 点即给 1 分，其它答案言之有理亦可给分)

(2010·辽宁沈阳) 14. 17~19 世纪，英、法、美等国经过艰苦的斗争，铲除了封建专制主义，实现了政治民主化。请将下列文献前的序号与相关的历史事件前的字母符号连接，把连接结果填到答题卡的指定位置上。

① 在权利方面，人们生来是而且始终是自由平等的。……法律是公共意志的表现，所有公民有权参与法律的制定。

——《人权宣言》

② 这些联合殖民地从此成为、而且名正言顺地应当成为自由独立的合众国，它们解除对英王的一切隶属关系，而它们与大不列颠王国之间的一切政治联系也应从此完全废止。

——《独立宣言》

③ 议会内之演说自由、辩论自由或议事之自由，不应在议会以外的任何法院或任何地方，受到弹劾或讯问。

——《权利法案》

④ (在叛乱地区) 为人占有而做奴隶的人们都应在那时(指 1863 年元旦) 及以后永远获得自由，……合众国政府行政部门，包括陆海军当局，将承认交保障上述人等的自由。

- A. 美国独立战争 B. 英国资产阶级革命
C. 美国南北战争 D. 法国大革命

连接结果为：

14. ①——D；②——A；③——B；④——C。

(2010·辽宁沈阳) 19. 战争曾深刻地影响了人类的历史。阅读下列材料，回答问题。

材料一 一位德国军事历史学家说：“敌军在火炮的数量上占强大的优势，发射了数百万发炮弹，敌机机群完全控制了天空，当代不可战胜的战斗大象——坦克的出现，这一切，使作为德军核心力量的步兵受到极大的震动。”

一位驾驶坦克的士兵说：“坦克所发挥的威力，连我们自己也没料到。我驾着坦克孤零零地冲向一座村庄，只见德军在四散而逃。我围着村庄转了一圈，就像战神在地上划了一道禁圈一样，德国人全给吓懵了，全部乖乖投降，一共有 300 多人。”

——引自《世纪初的列强混战》

材料二 右图是电影《夏尔洛从军记》中的卓别林，该影片拍摄于 1918 年。卓别林在片中所扮演的士兵，被严格的训练累得筋疲力尽，倒地睡着了。他在前线被惊醒，装成一棵树，骗过了敌人，一开始先俘虏了德国的一个小分队，最后还抓到了德国皇帝。他把美国新兵在训练中遇到的困难拍的很滑稽，而德国人在片中则成了十足的傻瓜。德国人也很快意识到电影的价值，拍摄了喜剧、悲剧以及新闻短片，并且在部队和大众中间广泛地放映这些电影。



材料三 从 1916 年 2 月到 12 月，德法军队在凡尔登及其附近地区演出了一幕幕惊心动魄的进攻、反攻、摧毁、强击、破坏、占领、再占领，地面布满了密密麻麻的巨大弹坑，树林变成了枯木朽株混乱的堆积场，炮火翻腾过的泥土上暴露着人和马的尸体，随着天气逐渐转暖，尸体腐烂散发难以忍受的恶臭。这次战役双方伤亡人数总计 70 余万，因此被称为“凡尔登绞肉机”。在凡尔登战役激烈进行的同时，英国人正向索姆河西北地区发动一次强大的攻势。这种残杀一直持续到 11 月以前，英法的进攻最多向前推进了大约 7 英里，双方损伤超过百万。这次战役被称为“索姆河地狱”。

请回答：

- (1) 材料一说明了什么？(2 分)
- (2) 根据材料二回答，利用电影作战争宣传的优点是什么？(1 分)
- (3) 概括材料三你能得出怎样的结论？(2 分)
- (4) 上述三则材料反映的内容与哪场世界性战争有关？(1 分)

19. (1) 先进武器在战争中的作用。(2) 生动形象；具有覆盖面广的优势；(3) 战争是残酷的。(4) 第一次世界大战。

(2010·四川南充) 25. 阅读下列材料：

材料一 第一次世界大战期间，中国也参加了对德作战，作为战胜国也派代表参加了会议。中国代表向大会提出取消帝国主义在华的一切特权等要求。但会议被英、法、美等国操纵，拒绝了中国的正义要求，还无理地将大战前德国强占山东的特权交给日本。消息传到国内，国人震怒。

材料二 1919 年 5 月 4 日，北京游行示威学生提出要求：“外争主权，内除国贼”、“取消‘二十一条’”、“誓死力争，还我青岛”、“反对在对德‘和约’上签字”……6 月初，上海工人举行罢工，商人参加罢市，支持学生运动。

- ① 第一次世界大战爆发的直接原因是什么？它是一场什么性质的战争？
- ② 材料一中的“会议”具体指的是哪次国际会议？操纵这次会议的国家是哪些？

③ 材料二中的“运动”是中国历史上的哪场运动?该运动具有怎样的性质?请根据材料一说说该运动发生的原因是什么?

25. ①萨拉热窝事件发生;帝国主义战争。②巴黎和会;英、法、美。③五四爱国运动;彻底地反对帝国主义和封建主义的爱国运动;中国的正义要求遭到无理拒绝。(巴黎和会上中国外交失败。)

(2010·江苏无锡) 37. 阅读下列材料,回答问题 (3.5分)

材料一 美国崛起于19世纪末20世纪初,美利坚民族并不是北美大陆的首批开辟者,但经过100余年的开拓却构成了美洲领土最大的国家;虽然美利坚合众国不是第一个进行资产阶级革命的国家,但到了19世纪末工业总产值居世界第一。

(1)“美利坚民族并不是北美大陆的首批开辟者”,那么请问是谁率领船队成为美洲大陆的首批开辟者?(0.5分)

(2)美利坚合众国在18、19世纪通过两次资产阶级革命,为资本主义发展扫清的最大障碍分别是什么?(1分)

材料二 近现代历史中的日本,在19世纪和20世纪的中后期经历了两次重要的国家发展阶段,在危机中寻求出路,在较短的时间内脱颖而出、后来居上,寻事具备足以同世界强国抗衡的实力,令世界为之震惊,也值得世人认真思考和深入研究。

(3)日本在“在危机中寻求出路”,19世纪60年代,哪一历史事件使日本摆脱了危机,走上资本主义道路,成为历史上的重大转折点?(0.5分)

(4)20世纪80年代,日本实行什么政策促进了经济的发展?(0.5分)

材料三 《复兴之路》全景式追溯了中国近现代历史,理性且深情梳理了中华民族一百多年的伟大复兴道路……和其他大国的崛起不同,中国是从内忧外患的境地中一步步争取到独立自主和国家富强的。有着五千年辉煌灿烂历史的中华民族在那时候跌倒了,顽强的中国人民经过艰苦卓绝的斗争终于重新站起来了,中华大地焕发出了勃勃生机,中国人民富起来了。

(5)“中国是从内忧外患的境地中一步步争取到独立自主和国家富强的”,二十世纪中华民族“重新站起来了”的标志是指什么历史事件?(0.5分)

(6)十一届三中全会,党做了了了什么重大决策,使我国进入了社会主义现代化建设新时期,逐渐实现了国富民强?(0.5分)

37. (1) 哥伦布。(2) 英国的殖民统治和黑人奴隶制。(3) 明治维新。(4) “科技立国”政策。(5) 中华人民共和国的成立。(6) 改革开放。

(2010·江苏扬州) 33. 阅读下列材料:

材料一 拿破仑个人的影响诚然是可贵的,但是只有顺应正在推进欧洲文明的那些翻流,他的影响才能起作用。

——《拿破仑时代》

材料二 拿破仑说:“我真正的光荣并非打了40次胜仗,滑铁卢之战抹去了这一切的记忆。但有一样东西是不会被人忘却的,它将永垂不朽……”

——北师大版九上《历史》教材

材料三 一位意大利爱国者在1814年写到:“没有人比我更懂得湿润意大利土壤并使之恢复生气的每一滴慷慨的法国人鲜血的价值。但是,我必须说这样一句真实的话:看到法国人离开是一种巨大的、说不出的欢乐。”

——《全球通史》

请回答:

(1) 材料一中作者说的“潮流”指的是什么?(1分)

(2) 材料二中拿破仑自认为“永垂不朽”的是什么?(1分)

(3) 依据材料三指出拿破仑对外战争的性质。(2分)

(4) 综合上述材料并结合所学知识分析拿破仑活动的根本出发点。(1分)

33. (1) 巩固资产阶级政治制度和推动资本主义发展。(2) 《拿破仑法典》(3) 拿破仑的对外战争前期是正义的民族解放战争,后期是军事侵略战争。(4) 维护资产阶级的利益。

(2010·山东日照) 27. (12分) 相隔数百年,欧洲、中国都经历了一场思想文化运动。阅读材料,回答问题。

材料一 文艺复兴运动前,欧洲绘画雕塑中的圣母神态安详、神圣,少有人间之情。而文艺复兴时期米开朗琪罗的作品《哀悼基督》(见右图)中,圣母是一个容貌端庄、美丽的母亲,她的表情和美是生动的……



米开朗琪罗《哀悼基督》

(1) 材料一中的圣母形象反映了当时的什么思潮?请你举出一个文艺复兴时期与《哀悼基督》类似的作品。(4分)

材料二 要拥护那德先生,便不得不反对孔教、礼法、贞节、旧伦理……;要拥护那赛先生,便不得不反对旧艺术、旧宗教,……我们现在认定只有这两位先生可以救治中国政治上、道德上、学术上、思想上一切的黑暗。

——陈独秀

(2) 判断材料二中“德先生”和“赛先生”的含义,新文化运动的主要阵地是什么?(5分)

(3) 胡适曾经把新文化运动等同于文艺复兴运动,简要分析胡适这一观点的依据。(2分)

27. (1) 人文主义(2分);《最后的晚餐》、大卫像等;(符合题意即可得分)(2分) (2) “德先生”——民主(1分);“赛先生”——科学(1分);《新青年》。(3) 新文化运动和文艺复兴运动具有相似之处:第一,两者的实质内容类似。新文化运动提倡科学与民主,与文艺复兴的指导思想“人文主义”是相似的。第二,运动所起的作用相同。欧洲文艺复兴运动是资产阶级新文化运动,而新文化运动是辛亥革命在文化思想领域的延续,为五四运动做好了准备。(意思符合即可得2分)

(2010·山东日照) 28. (17分) 2010年我国在上海市首次举办世博会。阅读材料,回答问题。

材料一 1889年5月6日,巴黎再次承办世博会,……由于采用了电灯照明技术,这也成为第一次晚上也开放的世博会。……为迎接这次盛会,巴黎为埃菲尔铁塔安装了一部电梯,参观者可以直达顶层。


——摘自《世界博览会史话》

(1) 依据材料一,指出1889年巴黎世博会的突出特色,简要说明出现这一特色的原因。(5分)

材料二 上海见证了近代以来中国的沉沦、求索与新生。




图一 中英《南京条约》签订



图二 江南制造局机器房



图三 轮船招商局旧址



图四 中共一大会址

(2) 结合所学知识,指出与图一、图四与上海的关系。(4分)

(3) 图二、图三显示的是近代上海出现的两个著名企业,请问他们是在哪一场运动中创办的?简要分析这一运动对中国近代化产生的积极作用。(6分)

(4) 请用一句话概括上海世博会的成功举办将会对我国产生的积极影响。(2分)

28. (1) 采用了电灯照明技术;巴黎为埃菲尔铁塔安装了一部电梯(2分)。电力的广泛应用。(3分) (2) 上海是《南京条约》开放的五个通商口岸之一(2分);1921年中共一大在上海召开。(2分) (3) 洋务运动(2分);一、洋务运动促进了中国军队建设的近代化;二、洋务运动促进了中国资本主义的生产方式和近代化进程;三、洋务运动推动了中国文化教育的近代化进程;四、洋务运动推动了中国思想的近代化。(4分) (4) ①推动重大科技创新;②促进了我国经济的发展;③提升我国的国家形象;④促进世界多元文化的融合。(意思符合即可得分 2分)

(2010·福建宁德) 27. 阅读下列材料,回答问题。(8分)

材料一 贝多芬对拿破仑仰慕不已,把他当成建立伟大共和国的英雄人物,并为他谱写了一首交响曲,乐谱总谱上写着“题献给拿破仑·波拿巴”可是当拿破仑称帝的消息传来,贝多芬勃然大怒,叫喊着:“……现在他必会蹂躏所有的人权以满足野心,他将凌驾于其他人之上而成为暴君”。当这首交响曲出版时,贝多芬把标题改为“英雄交响曲——为纪念一位伟人而作”。

—— 岳麓版《历史》

材料二 我要扼住命运的咽喉,它决不能使我完全及服。

——贝多芬

请回答:

(1) 据材料一,结合所学切识,谈一谈贝多芬仰慕拿破仑的理由。(4分)

(2) 材料一中贝多芬听到拿破仑称帝的消息后为什么勃然大怒?(2分)

(3) 结合以上两则材料,说一说贝多芬身上体现了怎样的人性魅力?(2分)

27. (8分) (1) 理由:把他当成建立伟大共和国的英雄人物。(2分) 颁布《民法典》(或《拿破仑法典》;或《法典》);巩固资产阶级统治(或巩固法国大革命成果);他沉重打击了欧洲封建势力(或拿破仑使法国大革命的某些成果推广到欧洲国家)。(回答一点即可得2分)。(2) 为什么:贝多芬认为拿破仑称帝是一种历史的倒退(或称帝将可能使法国大革命已获得的民主权利成果被践踏;或他必会蹂躏所有的人权以满足野心,他将凌驾于其他人之上而成为暴君)。(2分) (3) 人性魅力:提倡民主,反对专制;追求自由、平等、博爱,维护人权。(1分) 直面挫折,意志顽强;富有创新精神。(1分)

(2010·福建宁德) 29. 在科学技术和经济发展史上,工业革命是人类社会历史的转折点,工业革命改变了整个世界。(15分)

材料一




图1 1851年伦敦世博会英国馆 图2 1900年举行的巴黎博览会大量使用了人类发明不久的电灯来照明

材料二 我们发觉自己处在这样一个世界中……充满了流线型汽车、有轨电车和飞机……这世界是有史以来唯一的一种经济统治——工业文明的统治——的一部分；它不但为西欧诸民族所分享，也为俄国人、美国人和日本人所分享，甚至还在某种程度上为中国人和印度人所分享。

—— 斯塔夫里阿诺斯《全球通史》

请问答：

(1) 据材料一，请你设想图1中英国馆会展出哪些先进科技产品？(至少写出三个)(3分)并写出图2中为电灯照明做出贡献的发明家。(2分)

(2) 据材料二，结合所学知识，说明第二次工业革命对人类生活与社会发展的作用。(4分)

(3) 工业革命以后，英法为首的西方列强加快向中国殖民扩张的步伐，简要分析西方列强的侵略对近代中国政治、经济方面产生的影响。(6分)

(时段要求：19世纪40年代至20世纪初)

29.(15分) (1) 蒸汽机、汽船、水力印刷机、纺织机械(纺纱机)、火车机车等。(答出三个即可得3分) 爱迪生。(2分) (2) ①进入“电气时代”；②提高了社会生产力，推动社会进步；③世界市场进一步扩大，促进物流发展；④交通业迅猛发展；⑤环境污染日益严重；⑥世界各地联系更加密切，扩大了人们活动范围，加强了人与人之间的交施；⑦改变了人们的生活方式，提高了生活质量。(答出两点即可得4分) (3) 政治上：19世纪中期开始，英、法等西方列强发动了一系列侵华战争(鸦片战争、甲午战争、八国联军侵华战争)，逼迫清政府签订了一系列不平等条约(《南京条约》《马关条约》《辛丑条约》)。中国主权独立和领土完整不断遭到破坏(英国割占香港岛、日本强占我国台湾、俄国割走约150万平方千米土地等)。中华民族危机日益深重，中国沦为半殖民地半封建社会(或西方列强进一步控制中国，清政府完全沦为西方列强统治中国的工具，变成了“洋人的朝廷”)。(2分) 中国人民奋起抗争，资产阶级维新派、革命派开始探索救国道路，进行了维新变法运动和辛亥革命运动，开创了近代民族民主革命。(2分) 经济上：自然经济逐渐解体，中国被卷入资本主义世界市场(或列强在中国掠夺原料，倾销产品)。中国开始了学习西方先进科学技术的洋务运动，客观上促进中国民族资本主义产生和发展。为中国近代化开辟了道路(或推动了中国近代化的进程)。(回答两点即可得2分)

(2010·福建漳州) 31. 小王暑假想去上海游览世博会，为更好了解世博会，找们一起帮他解答下面的问题：(10分)



图1 河南馆馆标 图2 中国船舶馆 图3 中国铁路馆 图4 石油馆的吉祥物

请回答：

(1) 图 1 上“豫”字的形象设计来源于秦朝的哪一种文字？(1 分) 河南馆中北宋名画《清明上河图》动态地展示了城市发达的手工业和繁荣的商业，请写出这座城市的名称。(1 分)

(2) 图 2 的中国船舶馆形似船的龙骨，展示中国民族工业坚强的精神。请问 19 世纪七十年代中国人创办的知名民用航运企业是哪家？(2 分)

(3) 图 3 中国铁路馆展示了铁路作为连接城市的纽带，对人类文明进步的积极影响。京张铁路是中国人自行设计的第一条铁路，它的设计者是谁？(2 分)

(4) “看，‘油宝宝（图 4）来了’。”小王想知道石油成为重要能源始于哪次工业革命（2 分）

(5) 中国民族工业从近代到现代经历了曲折的发展过程，你认为还可以设置哪些场馆展示我国民族工业的成就？（举两例）(2 分)

31. (1) 小篆 (1 分)；东京 (今开封) (1 分)；(2) 上海轮船招商局。(2 分)；(3) 詹天佑 (2 分)；(4) 第二次工业革命 (2 分)；(5) 洋务运动展、中国近代轻工业展、“一五”计划成就展等 (任意 2 点，即可得 2 分)

(2010·湖南株洲) 32. (10 分) 阅读下列材料，回答问题。

材料一 1870~1900 年间，科学与技术的关系，比以前任何时期都密切得多，19 世纪最后 30 年间，几乎没有什么工业部门未曾受到科学新发现的影响……1870 年以后，我们可以清楚看到 20 世纪科学工业的开端。新兴工业，诸如电气工业等这些完全是在科学发现中首创的工业，其面貌的改革当然要比那些早已建立的工业显著得多。

——《新编剑桥世界近代史》

材料二 19 世纪中后期至 20 世纪初有关电的部分重要发明简表

项目	发明者国籍	发明者
发电机	德国	西门子
电灯	美国	爱迪生
电影放映机	法国	路易斯·吕米埃尔兄弟
心电图扫描仪	荷兰	威廉艾因特霍芬
电动机	比利时	格拉姆

——岳麓书社《世界历史》(九年级上册)

材料三 自从全球涌现出发明和使用机器的热潮后，烟囱、厂房、机器轰鸣声，打破了恬静的田园生活，世界日益成为一个整体。电力以及石油大量使用使城市面貌、社会生活随之巨变，世界各地的联系更加紧密。

——摘自《中国新闻网》

请回答：

(1) 根据材料一和材料二概括第二次工业革命的特点。(4 分)

(2) 根据材料三分析科技革命的影响。(6 分)

32. (1) 科学和技术紧密结合，科学成为推动生产力发展的一个重要因素；第二次工业革命几乎同时在几个先进的资本主义国家发生。(2) 科技革命使城市日益扩大和繁荣，随之而来的是环境等问题；科技革命使世界日益成为一个整体世界，各地的联系更加紧密；科技革命人们的社会生活随之巨变。

(2010·贵州毕节) 26. 阅读下列材料：

材料一 《大国崛起》解说词中说到：“公元 1500 年前后的地理大发现，拉开了不同国家相互对话和相互竞争的历史大幕”。

材料二 比“地理大发现”早半个多世纪的中国明朝时期，郑和下西洋七次。郑和使团随从的

《郑和航海图》，记录了航行方向，停泊地点、航线的浅国以及罗盘针的使用方法等，为世界航海事业做出了贡献。

依据材料及所学知识回答：

- (1) 地理大发现是通过什么活动实现的？（1分）
- (2) 横渡茫茫无际的大海，历经艰难，用航海探险活动证明了地圆学说的是什么船队？（1分）
- (3) 郑和下西洋具体是在什么时间？当时中国国家状况如何？（2分）
- (4) 简单说说地理大发现活动与郑和下西洋主要有哪些不同？（4分）

26. (1) 新航路的开辟（1分）；(2) 麦哲伦舰队（1分）；(3) 1405~1433年（1分）；当时的明朝国力强盛，经济发达，科技领先。（1分）(4) ①目的不同：地理大发现主要求发财，而郑和下西洋则是宣扬国威。②方式不同：地理大发现是掠夺的方式，而郑和下西洋则是和平交流方式。③影响不同：地理大发现使世界连接成一个整体，促进了资本主义的产生和发展，郑和下西洋促进了中国和亚非各国的经济交流，加强了中国和亚非各国的友好关系。（答出两方面即可）

(2010·辽宁营口) 25. 阅读下列材料：

材料一 列宁说：“农民获得‘自由’的时候，已经被剥夺得一干二净。”

材料二 废藩置县；引进西方技术，置产兴业，鼓励发展近代工业。1870年设工部省，聘请大批外国专家和技师，引进先进设备和管理方法……；提倡文明开化，实行强制性义务教育；模仿西方国家，实行征兵制，建立常备军。

请回答：

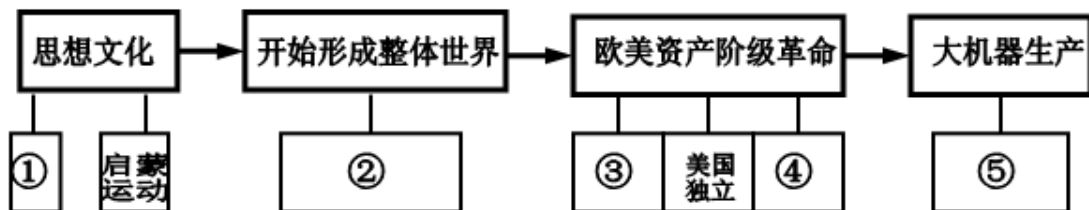
- (1) 根据两则材料内容，写出相关历史事件及两个历史事件的性质。（4分）
- (2) 根据材料二，写出最能体现该事件性质的措施。（2分）（不得完全照抄材料）
- (3) 结合所学知识简要评价两个历史事件及给你的启示。（3分）

25. (1) 材料一：俄国1861年农奴制改革（1分）；材料二：日本明治维新；（1分）性质：自上而下的资产阶级性质的改革。（2分）(2) 鼓励发展近代工业。（2分）(3) ①改革要适应历史发展潮流，符合历史发展规律。②改革要彻底（俄日改革都保留了大量封建残余，对其发展产生一定消极影响）。③改革过程中既要学习国外先进，又要保留传统文化的优秀之处，防止过分西化失去民族“自我”。（本题为开放性问题，意思符合言之有理即可得分3分）

探究题（问答题）

(2010·四川自贡) 49. 实现近代化（现代化）是近代以来世界各国发展的必由之路，在向近代化迈进的过程中，中国和西方各走了一条不同的道路。14世纪~20世纪初，那是一个群星璀璨、风起云涌的时期，“人文主义”、“民主、法制”、“大机器生产”等词汇的出现和使用就是最好的证明。请你按要求回答下列问题。（12分）

(1) 构建知识结构是我们学习历史的一项基本技能。下面是某同学根据14世纪~19世纪上半期西方世界所发生的重大历史事件所做的有关西方近代化历程的示意图，请你帮助他完成未填写的内容。（5分）




① _____ ② _____ ③ _____
④ _____ ⑤ _____

(2) 学会表述历史是我们学习历史的一项基本要求。①从纪念章中看出辛亥革命的指导思想是什么？②图中的世界潮流是指什么？③用最简短的一句话评价图中的历史人物。(3分)



纪念章



① _____ ② _____ ③ _____

(3) 联系比较法是我们学习历史的一种基本方法。史学界普遍认为，至 1919 年以前，中国近代化历程由学习西方军事器物，到学习西方的政治制度，再到学习西方的思想文化，经历了三个阶段。①与西方相比，中国的近代化道路有什么不同？(1分) ②在近代化过程中表现出怎样的民族精神？(2分)

① _____
② _____

(4) 学习历史最终目的之一是获取感悟，以启迪于今天。以中西方近代化为主题，另拟一篇历史小论文的标题。(要求：内容具体，有新意。)(1分)

49. (12分) (1) ①文艺复兴(1分)；②新航路开辟(1分)；③英国的新生(或英国资产阶级革命，1分)；④法国大革命(或法国资产阶级革命，1分)；⑤工业革命(1分)。(2) ①三民主义(1分)；②资本主义(1分)；③资产阶级民主革命的先行者。(1分)

(3) ①器物→制度→文化；(或顺序与西方相反，1分) ②探索救亡图存的精神；不屈不挠的民族精神；爱国主义精神；追求进步、追求民主的精神。(2分) 任答2点即可得分。(4) 言之成理即可得分。(1分) 如：抓住机遇；勇于创新等。

(2010·浙江温州) 26. 世博会的主题既体现了全球的共同兴趣，也涉及市民的日常生活以及他们最关注的领域。(13分)

材料一 1933 年美国芝加哥世博会第一次提出世博会主题——“一个世纪的进步”，科学的巨大力量贯穿着人类历史的进程，这个世纪的进步就是科学技术应用的结果。科技改变生活，科技改变世界。

(1) 请你列举一项工业革命期间给人们生活带来巨变的科技成就。(2分)

材料二 下表是几届世博会的主题。

时间	主题
1998 年	海洋——留给未来的遗产
2000 年	人类—自然—科技—发展
2005 年	自然、城市、和谐——生活的艺术

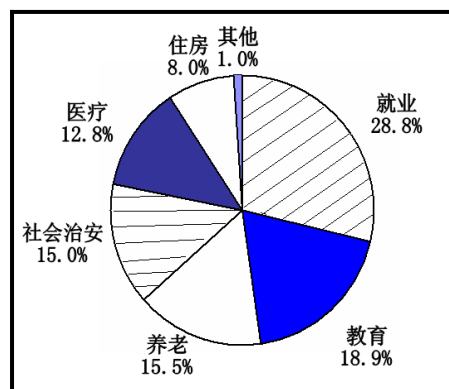
(2) 以上各届世博会的主题共同体现了人类在寻求怎样的发展道路？(3分)

材料三 2010年上海世博会的主题是“城市，让生活更美好”。结合这一主题，上海某调查组进行了一次调查，右图是其中一组数据。

(3) 从右图中可以看出，就业是公众最为关注的因素，请从我国人口特点的解毒来分析就业难的原因。

(4分)

(4) 从右图选择一个你关注的因素（除“就业”外），谈谈其存在的问题及解决对策。(4分)



26. (1) 举出一项工业革命期间的科技成果即可。
如：电灯。(2) 可持续发展之路。(3) 人口数量大、人口素质不高，给社会带来严峻的就业压力。(3) 选择一个因素，问题表述清楚，解决对策合理即可。
如：我关注的因素是“医疗”；其存在的问题是“就医难，看病贵”；解决对策是：政府要加大资金投入，加强社区医院建设、完善医疗保障制度。

(2010·江西) 14. (8分) 历史视角——从世博会透视世界。2010年上海世博会举办期间，某校九(1)班出了一期以世博会为主题的板报。试结合板报部分内容，探讨相关问题。

栏目一：世博大明星

经过全体同学投票，以下三项科技成果被评为“世博大明星”。

获选明星	首次展出的时间和地点	获选理由
大功率蒸汽机	1851年伦敦世博会	震撼了世界
爱迪生的白炽灯	1889年巴黎世博会	点亮了世界
电子计算机技术	1964年纽约世博会	丰富了世界

(1) 结合“获选理由”，说说蒸汽机在工业生产中主要发挥了怎样的作用？(2分) 从上述世博会发展历程中，你认识到人类社会进步的主要推动力是什么？(2分)

栏目二：世博大舞台

1876年，美国在费城举办了第一次世博会，通过世博会向世界展示了一个新兴工业国家的崛起。在展厅中的千百台机械轰鸣声中，美国向世界宣布：“我来了”！

(2) 联系19世纪中期以来美国的发展历程，说说1876年的美国作为一个新兴工业国家崛起的主要原因有哪些？(2分)

栏目三：世博大看点

2010年的上海世博会展出的太阳能飞机、碳纤维自行车、透明水泥、可发电地板、火山岩网球拍等高科技产品成为本届世博会的“大看点”。

(3) 栏目三所列出的这些展品，从一个侧面反映了当今世界关注的全球性问题有哪些？(2分)


14. (8分) (1) 为工业生产提供了强大动力；(或代替了人力、水力等2分)；科技进步。(2分) (2) 原因：美国内战，扫清了发展资本主义的内部障碍；(1分) 抢占第二次工业革命先机等。(1分) (3) 节能、低碳、环保、新材料的开发和应用等。(符合题意，任意两点即可，每点1分，共2分)

(2010·江西) 15. (8分) 历史视角——用历史眼光看人生。阅读材料，回答问题。

材料一 如右图。

(1) 右边旧照片上的人物是谁？(2分)

(2) “宁可少活二十年，拼命也要拿下大油田。北风当电扇，



大雪当炒面，天南地北来会战，誓夺头号大油田。干！干千！”从他的话中，你感悟到了怎样的时代精神？(2分)

材料二 在欧洲封建统治者眼里，拿破仑始终是一个扩散“1789年瘟疫”的“暴发户”。

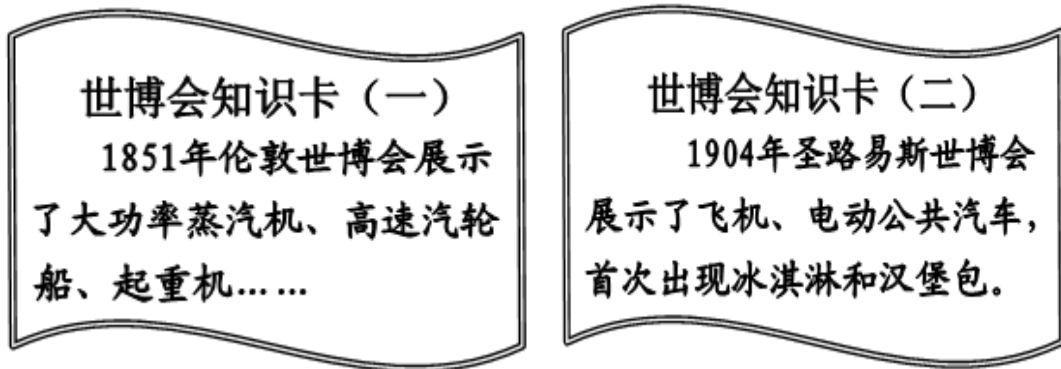
(3) 据材料二，说说拿破仑的主要历史功绩是什么？(2分)

(4) 拿破仑曾经说：“不想当元帅的士兵不是好士兵。”你同意他的观点吗？请说说你的理由。(2分)

15. (8分) (1) 王进喜。(2分) (2) 艰苦创业的精神等。(2分) (3) 功绩：传播了资产阶级革命思想。或者“打击了欧洲封建势力(反法同盟)”、“扩大了法国革命的影响”等均可得2分。如果只回答“巩固了法国资产阶级革命的成果”，可得1分。(4) 理由充分，且意思表达清晰完整，给2分；理由较充分，但意思表达不够清晰，只给1分；只写观点，不阐述理由，不给分。

(2010·福建福州) 29. (11分) 世博会被誉为经济、科技、文化界的奥林匹克盛会，世博会一百五十余年的历程一直与人类社会的快速发展相伴，2010年世博会来到中国上海……让我们了解世博，走进历史。结合所学知识，回答下列问题。

【精彩纷呈 享受科技】



(1) 写出卡片中蒸汽机的改进者和飞机的发明者。(2分) 结合卡片内容说说科技进步对人类生产、生活的影响。(2分)

【世纪回顾 永恒瞬间】

(2) 下列世博会举办是为了纪念重大历史事件，请将相关的事件连线搭配。(3分)

1876年费城博览会	哥伦布发现美洲大陆400周年
1889年巴黎世博会	美国独立100周年
1893年芝加哥世博会	法国大革命100周年

【百年上海 身边世博】

(3) 近代中国哪一不平等条约使上海被迫开放为通商口岸？(2分)


(4) 上海从屈辱开放到世博盛会，给我们的启示是什么？(2分)

29. (1) 瓦特、莱特兄弟。提高社会生产力，改变了人们的生活方式，扩大了人们的活动范围，加强了人与人之间的交流。人们生活质量提高了，食物品种增加了。(答案符合题意，言之有理即可) (2) 1876年费城博览会——美国独立100周年；1889年巴黎世博会——法国大革命100周年；1893年芝加哥世博会——哥伦布发现美洲大陆400周年。(3) 中英《南京条约》；(4) 经济发展，综合国力增强，国家强大，中国才能在国际舞台上展示自己的风采。(答案符合题意，言之有理，体现正确的情感态度与价值观，答出一点即可)


(2010·湖北武汉) 32. 浏览名人长廊，领悟文明进步。(5分)



华盛顿



马克思



爱迪生



孙中山



邓小平



邓稼先

(1) 先进思想推动人类文明进步。为建立理想社会，马克思创立了哪一科学理论？（1分）

(2) 追求政治文明是现代化探索的重要内容。2011年，我们将迎来辛亥革命百年庆典。在促进中国现代化方面，孙中山领导的辛亥革命，有怎样的深远影响？（2分）

(3) 杰出人物在人类文明发展进程中起到了重要作用。在上面人物图片中选择一位历史人物（除马克思、孙中山外），并说明他对人类文明进步作出的贡献。（2分）

人物：_____贡献：_____

32. (1) 科学社会主义或马克思主义；(2) 推翻了统治中国两千多年的君主专制制度，使民主共和思想深入人心。(3) 华盛顿：领导美国人民赢得国家独立。爱迪生：发明了电灯。邓小平：倡导改革开放，使中国经济得到了持续、稳定、快速的发展。邓稼先：为两弹成功研制作出了重要贡献。

(2010·福建龙岩) 30. 十七、十八世纪欧美经过几次重大的资产阶级革命战争，推翻了旧势力。十九世纪六十年代，美国、俄国、日本又先后发生了资产阶级革命或改革，它们汇合成一股巨大洪流，再次扫荡了欧美资产阶级革命后残留的奴隶制、封建制等落后制度。资本主义世界统治得到加强和巩固。请回答：

(1) 十七、十八世纪欧洲资产阶级革命为什么首先在大西洋沿岸爆发？（2分）

(2) 十九世纪六十年代，美国、俄国、日本先后发生了哪些资产阶级革命或改革？它们的共同作用是什么？（4分）

(3) 政治与经济总是密切相关。九年级历史兴趣小组的同学就此进行了探究。他们发现：①十九世纪六十年代的一系列变革与经济发展有密切关系，如经济决定政治。请你结合所学知识，说说对该观点的理解。（2分）

②十九世纪六十年代后，随着资产阶级统治的进一步巩固，欧美又掀起一场轰轰烈烈的“经济革命”。这个革命是指什么？这又说明了什么现象。（2分）

30. (1) 因为新航路开辟后，欧洲的商贸中心转移到大西洋沿岸。（2分）(2) 美国南北战争；俄国农奴制改革；日本明治维新。（3分）进一步扫除了资本主义发展的障碍。（1分）

(3) ①工业革命后，资本主义经济迅速发展并扩大，因此推动了一系列政治变革，

如美国南北战争、俄国农奴制改革、日本明治维新等。（能说明此观点的相关史实即可得2分）②第二次工业革命；（1分）这促进了政治反作用于经济，或符合潮流的政治改革也推动经济的发展。（能说明此观点的相关史实即可得1分）

（2010·湖南岳阳）35．19世纪中期，资产阶级统治在世界范围内得到进一步巩固与扩大。结合所学知识，回答下列问题：

- （1）美国南北战争主要从哪些方面巩固了美国资产阶级统治？（2分）
- （2）俄国通过什么历史事件走上了资本主义道路？（2分）
- （3）亚洲哪个国家最早确立资产阶级统治？它在确立资产阶级统治的过程中，经济方面的重大举措有哪些？（4分）
- （4）资本主义在亚、非、拉地区的殖民扩张带有野蛮性和掠夺性。请你举出这一时期发生在中国的一个典型事例。（2分）

35．（1）废除了黑人奴隶制度，实现了国家政治上的统一，为资本主义的迅速发展奠定了基础；（2）1861年改革；（3）日本创办近代企业，引进西方技术。允许土地买卖，承认土地私有。（4）英法联军火烧圆明园。

（2010·四川资阳）36．（12分）专题复习是历史复习的常用方法。王老师在复习“中外历史上的改革”这一专题时，组织学生开展相关的主题活动，请你参与这次活动。

甲同学上台简介日本明治维新，他说：“推翻天皇统治以后，日本政府实行了一系列改革。政治方面，废县置藩，加强中央集权；经济方面，允许土地自由买卖，引进西方先进技术，发展近代企业；社会生活方面，提倡‘文明开化’，向中国学习，努力发展教育。这次改革使日本走上资本主义道路，加快对外扩张，极大地增强了国力。”

（1）甲同学的这段话中有三处史实错误，请帮他找出并加以改正。（3分）

- ①_____应改为_____
- ②_____应改为_____
- ③_____应改为_____

（2）乙同学对日本明治维新和俄国农奴制改革进行了比较，请帮他填补完整，并指出还可从其它哪些方面进行比较。（5分）

背景：都是由于_____发展受阻，但日本面临严重的民族危机。

内容：都涉及_____问题，但日本改革内容更全面。

影响：都是各自社会的转折点，主要是由于_____发生了根本变化；都加紧对外扩张，都保留了_____残余。

其它方面：

（3）丙同学认为上海之所以能够成为2010年世博会的举办城市，改革开放政策的实施是其重要原因。你同意他的看法吗？请结合改革开放的史实说明理由。（4分）

36．（12分）（1）“天皇”改为“幕府”；“废县置藩”改为“废藩置县”；“中国”改为“欧美”（3分）（2）填补：资本主义；土地（或经济）；社会性质；封建（4分）；其它方面：性质，方式等（1分）（3）同意（1分）。理由：20世纪80年代开始的城市经济体制改革使上海焕发了活力；同时，上海又成为14个沿海开放城市之一，国家给予优惠的经济政策，吸引侨资、外资，引进先进科学技术和管理经验进行现代化建设，促进了上海的发展；后来又设立上海浦东开发区，使浦东发展成为国际化的经济中心和金融中心。（3分）

（2010·四川巴中）45．迄今为止，美国已有40多位总统宣誓就职，其中几位受命于危难之中并力挽狂澜，成为美国历史长河中耀眼的明星。请回答下列问题：

- （1）被称为“美国国父”的是谁？（1分）他就职时面临什么重大的政治任务？（1分）
- （2）林肯的主要贡献是什么？（2分）
- （3）罗斯福就职时，正值美国遭受经济危机的重创，他为此采取了什么措施？（2分）其

中最主要的反危机措施是什么？（1分）他的对策结果如何？（2分）

（4）2008年以来，又一场金融危机波及全球，你认为我国该如何应对？（2分）

45.（1）华盛顿。摆脱英国殖民统治而实现国家独立。（2）维护了国家统一和解放了黑人奴隶。（3）罗斯福新政。对工业的调整。美国经济缓慢恢复，人民的生活得到改善；资本主义制度得到调整、巩固与发展，资本主义国家对经济的宏观控制与管理得到加强；美国联邦政府的权力明显增强。（4）坚持改革开放，抓住机遇，积极发展；加大政府投资，扩大内需，加强基础设施建设；或积极的财政政策，适度宽松的货币政策。

（2010·山东泰安）34. 资本主义产生、发展，并逐步形成其世界体系是世界近代史的主要内容。据此，结合所学知识，完成下列问题。

（1）右图作品出现于为欧洲资本主义社会的产生奠定思想文化基础的一次重要运动中，请写出该运动名称及当时欧洲社会的主要思潮。（2分）



（2）17世纪~19世纪初，英法美等国先后爆发资产阶级革命，确立资本主义制度。下面是三次革命的比较表，请你帮忙完成。（5分）

国别	英国	美国	法国
时间	1640~1688年		1789~1794年
开始标志	长期关闭的议会重开	莱克星顿的枪声	
领导阶级		资产阶级和种植园主	资产阶级
代表人物	克伦威尔		罗伯斯庇尔
政权形式		联邦制	共和制

（3）19世纪六七十年代，主要资本主义国家通过各种方式和途径，最终使资本主义制度得以确立，资本主义世界体系初步形成。请写出此时期通过改革方式确立资本主义制度的两个国家及其改革的名称。（4分）

34.（1）文艺复兴；（1分）人文主义（1分）；（2）第二排为：1775~1783年；第三排为：巴黎人民攻占巴士底狱；第四排为：生产基金和新贵族；第五排为：华盛顿；第六排为：君主立宪制。（1空1分，共5分）（3）俄国，1861年改革（或亚历山大二世改革）；日本，明治维新（1个要点1分，共4分）

（2010·重庆江津）26. “1789年革命，并不是英国的革命和法国的革命，这是欧洲范围的革命。他们不是社会中某一阶级对旧制度的胜利，他们产生了欧洲新社会的政治制度……这两次革命不仅反映了他们本身发生的地区的要求，而且在更大的程度上反映了整个世界的要求。”

比较英法资产阶级革命回答下列问题：

- （1）两国资产阶级革命爆发的共同原因是什么？（1分）
- （2）两国都处死了国王。他们分别是谁？（2分）
- （3）两国都颁布了重要文件，分别是什么？（2分）
- （4）两国资产阶级革命有什么共同的结果？（1分）

26.（1）本国的封建专制统治阻碍了资本主义的发展（1分）；（2）（英国）查理一世（1分）；（法国）路易十六（1分）；（3）（英国）《权利法案》（1分）；（法国）《人权宣言》（1分）；（4）走上了资本主义道路；建立了资产阶级国家（政权）；有利于资本主义的发展。（1分，答对一点即可。意思相近即可得分）

（2010·福建泉州）27. 某班同学开展“新航路的开辟”主题探究学习，请你参与下列活动。

【读图说史】



世界上第一个地球仪（1492年）

(1) 上图反映的内容为新航路的开辟提供了什么条件？（3分）

[方法探究]

伴随着新航路的开辟，欧洲殖民者开始了持续数百年的殖民掠夺、殖民扩张和殖民侵略。对殖民主义的评价，李明和林红产生了分歧（见下图）。



(2) 全面、客观地评价殖民主义的方法是什么？（4分）

[学以致用]

新航路的开辟，世界开始连成一个整体。二战以来，世界经济全球化趋势不断加强。

(3) 举出清朝以来我国与世界联系的经验或教训的一个例子，验证我国实行对外开放的重要性。（3分）

27. (1) 地理知识。（3分）(2) 方法一：运用“建立在非正义基础上的客观进步性”进行评述。（4分）方法二：把历史事件放在特定的历史环境中，采用生产力标准和实践标准，一分为二地评价。（4分）（注：回答一种方法即可，本问最高得分4分。）(3) 经验：1978年以来，我国实行对外开放，引进外国先进技术，有力推动我国现代化建设进程，综合国力迅速提高。（13分）或教训：清朝实行闭关锁国政策，导致落后挨打。改革开放以前，我国与世界的经济联系较少，发展明显滞缓。（3分）（注：学生仅从经验或教训中举出一例回答即可。学生作答内容不在其中，但符合题意，可酌情给分。）

(2010·内蒙古呼和浩特) 23. 新文化运动和文艺复兴运动都是历史上的思想解放运动。新文化运动宣传的思想中，最主要的内容是什么？（2分）新文化运动在中国近代化过程中有何地位？（1分）文艺复兴的核心思潮是什么？（1分）新文化运动和文艺复兴运动有什么共同的革命精神？（1分）

23. 最主要的内容：科学、民主（2分）；新文化运动地位：开启了中国思想领域近代化的步伐（或是中国近代化思想领域的开端）（1分）；文艺复兴的核心思潮：人文主义（1分）

共同的革命精神：反封建（1分）。

(2010·四川成都) 36. (14分) 革命和改革是英、法、美、日四国走上资本主义发展道路的两种不同的方式，对推动其政治、经济的发展起到了重要的作用。依据所学内容，回答

下列问题。

(1) 指出英、法两国发生资产阶级革命相似的根本原因。与英、法两国相比较，北美独立战争爆发的根本原因有何特殊性？(4分)

(2) 法国大革命中颁布的《人权宣言》有何历史意义？(3分)

(3) 在美国南北战争中，林肯政府为扭转战局颁布了什么重要文献？(2分)

(4) 日本明治维新是在什么样的口号下进行的？这次改革对日本国家的发展起了怎样的作用？(5分)

36. (14分) (1) 根本原因：腐朽的封建统治严重阻碍了资本主义经济的发展；特殊性：英国的殖民统治阻碍了北美资本主义经济的发展。(4分) (2) 是法国资产阶级革命的纲领性文件，是反封建专制的旗帜，是引导法国走向近代资本主义社会的指针。(3分)

(3) 《解放黑奴宣言》；《宅地法》。(2分) (4) “富国强兵、殖产兴业、文明开化”。作用：这是一次自上而下的资产阶级改革，它使日本走上了资本主义道路，使日本逐渐强大起来。但是改革保留了大量的封建残余，“天皇制”被保留。(5分)

(2010·江苏无锡) 39. 历史学习包括史实的解读、确认、规律的提示等基本环节，根据要求和提示，完成下列探究性学习任务。

(1) 史实的解读

某同学看到以下两段材料，请你帮他解读下面的问题

材料一 1789年7月14日，愤怒的巴黎市民摧毁了巴士底狱，揭开了法国资产阶级大革命的序幕。之后资产阶级掌握了政权，颁布了重要文件，它宣称“人们生来是自由，权利平等，私有财产神圣不可侵犯”。

材料二 法国近代历史上有一位传奇人物。他曾叱咤风云，几乎横扫整个欧洲，有人说他是“欧洲雄狮”，也有人说他是“科西嘉的怪物”。

问题

① 材料一中，“它”是指什么文件？(0.5分)

② 材料二中的“传奇人物”是谁？(0.5分)

(2) 史实的确认

改革是推动社会发展的动力，“改革可以使封建农奴主渡过经济危机；也可以使一个国家在一段时间内摆脱资本主义经济危机的困扰……”请就此观点举出史实各一例加以确认(1分) (只要求写出历史事件的名称)

(3) 规律的揭示

在学习了近代科技、思想和文化知识后，李明同学认识到：爱因斯坦、达尔文和马克思等分别从不同领域提示了世界的客观规律，推动了社会进步。请分别写出爱因斯坦、达尔文和马克思的最主要研究成果。(1.5分)

39. (1) ①《人权宣言》；②拿破仑 (2) 俄国1861年改革、罗斯福新政。(3) 爱因斯坦——提出了相对论、达尔文——《物种起源》，提出了进化论思想、马克思——与恩格斯共同发表《共产党宣言》，创立了马克思主义。

(2010·湖南永州) 37. (10分) 西方历史哲学家柯林伍德指出：“一切历史都是思想史。”请认真思考下面的6个话题，阅读相关材料，进行综合探究完成相关题目。

话题：A. 百家争鸣 B. 八股取士 C. 文艺复兴
D. 启蒙运动 E. 马克思主义 F. 邓小平理论

(1) 上面6个话题，其中属于思想理论成果的话题是_____、_____。(2分，请在空白处填入英文字母)

(2) 请你从C、D、E三个话题中挑选1个话题，设计1个相关问题(4分，请参考示例，

要求问题简洁明了，指向性强)

示例：选择话题：邓小平理论

设计问题：邓小平理论在哪次大会上被确立为党的指导思想？

正确答案：中共“十五大”

推荐理由：邓小平理论，第一次系统的回答了中国社会主义现代化建设的一系列基本问题，是马克思主义在中国发展的新阶段。

回答：选择话题：

设计问题：

正确答案：

推荐理由：

(3) 历史学的基本要素是：史料、史料解释、历史叙述和历史评价。阅读下列材料并分别找出文中属于史料和历史评价的文字抄写在答题卡相应位置。(4分)

孟子，名柯，邹国人，是战国时期百家争鸣儒家的重要代表之一。他认为人生来就有仁、义、礼、智四端，即对他人苦难的同情，对不义之事的羞辱，礼让的心情及辨别是非的能力。他把孔子的“仁”发展为“仁政”，特别强调“民为贵，社稷次之，君为轻”，即主张民贵君轻；又说“君仁莫不仁，君义莫不义，君正莫不正”，认为社会上一切不仁不义不正行为的根源在于君主。这种带有民主色彩的见解，为后世儒家所不及，也为我们留下了珍贵的思想遗产。

史料：

历史评价：

37. (1) E、F；(2) 选择话题：马克思主义(1分)；设计问题：马克思主义诞生的标志是什么？(1分)；正确答案：《共产党宣言》的发表(1分)；推荐理由：1848年，马克思、恩格斯为国际无产阶级组织——共产主义者同盟起草的纲领《共产党宣言》发表。标志着马克思主义的诞生。从此，在科学理论的指导下，国际工人运动进入到一个新的历史时期。(1分)(答其它的话题，只要言之有理也可。)(3) 史料：孟子，名柯，邹国人，是战国时期百家争鸣儒家的重要代表之一。(2分) 历史评价：这种带有民主色彩的见解，为后世儒家所不及，也为我们留下了珍贵的思想遗产。(2分)

(2010·湖南株洲) 35. 【申办世博百年梦想】主办世博会是中国人的百年梦想，喊出这雄心壮志“第一声”的中国人是近代维新思想家郑观应，他当时提出“欲筹赛会(世博会)之区，必自上海始。”

【主办世博梦想成真】2002年12月3日，中国上海获得2010年世博会的主办权。2010年5月1日，上海世博会大幕开启。

【展示世博株洲元素】在上海世博会这个世界瞩目的大舞台上，株洲元素也在散发着光芒。以双“魔比思环”为创意建设的世博湖南馆，灵动大气，其主创人员就是株洲人鲁晓波。

(1) 7月25日，世博湖南馆将举办“株洲日”，请你推荐株洲的“入博”产品。(2分)

(2) 上海世博会吉祥物“海宝”的设计体现了以人为中心的理念。世界史上哪一历史事件开始冲破封建神学的束缚，强调人的价值和力量？(2分)

(3) 100多年前，中国主办世博会只能是一个梦想的原因是什么？(4分)中国主办世博会梦想成真说明了什么？(2分)

35. (1) 醴陵釉下五彩陶瓷；炎帝神农纪念品系列等。(2) 文艺复兴运动；(3) 半殖民地半封建社会的中国，经济上不能顺利发展，政治上没有独立主权，综合国力弱，国际地位低，清政府不重视科技，中国科技水平相对较低。我国在国际事务中发挥着越来越重要的作用；我国综合国力的提高；中国是和平合作负责的大国。(言之有理，即可得分)

(2010·广东梅州) 17. (6分) 回顾近代世界历史进程，我们可以看到，世界近代反封建

的斗争，经历了从思想解放到立法，再从立法到政治实践的过程。近代社会的特征之一是法制社会,法律在社会进步的过程中起了重要的作用。

请结合所学知识，探究回答下列相关问题：

(1) 从14世纪到18世纪末，世界上有哪两次对世界历史发展有重大影响的思想解放运动？(写出其名称)(2分)

(2) 17世纪中叶到19世纪初，反封建的民主思潮走向立法，请分别列举出英国、法国为确立资产阶级的统治，在资产阶级革命期间或革命后制定的重要法律文件。(2分)

(3) 法律是人民利益的可靠维护。美国内战中初期北方失利，林肯总统通过颁布哪两部法律文件激发了包括黑人在内的广大人民的积极性而扭转了战局？(2分)

17. (1) 文艺复兴 (1分)，启蒙运动 (1分)。(2) 英国：《权利法案》(1分)；法国：《人权宣言》(1分)。(3) 《宅地法》(1分)，《解放黑人奴隶宣言》(1分)。